

# 职业能力倾向测验（B类）试题

## 第一部分 常识判断

（共 25 题，参考时限 10 分钟）

根据题目要求，在四个选项中选出一个最恰当的答案。

1. 下列关于充分就业理解不正确的是（ ）。

- A. 在某一工资水平之下，所有愿意接受工作的人，都获得了就业机会，就是充分就业
- B. 实现充分就业是政府职能结构中的重要组成部分
- C. 实现充分就业是国家政府宏观调控的首选目标
- D. 充分就业就是零失业

2. 有农民自发在村务公开栏上写对联“财清账清村务清，风顺水顺民心顺”，横批为“村务公开好”。村务公开“好”在（ ）。

- A. 尊重和维护了农民的民主权利
- B. 使农民有了选举权和被选举权
- C. 实现了农民的国家主人翁地位
- D. 增强了基层政府依法行政的观念

3. 下列哪种情形是犯罪未遂？（ ）

- A. 甲原本想打伤乙，欲实施暴力时发现乙身上有巨额现金，便拿走了现金，扬长而去，甲的行为属于故意伤害未遂
- B. 王某因情场失意，遂决定杀掉情敌张某，于是持刀尾随张某，王某行为属于故意杀人未遂
- C. 赵某在强奸李某的时候，遭到李某的强烈反抗，反被李某制服，赵某属于强奸未遂
- D. 丙从行驶的大卡车上盗窃了一箱货物，随后抛在路边，而后返回抛货地点没有找到，丙的行为属于盗窃未遂

4. 下列行为中存在共同犯罪的是（ ）。

- A. 小张与其妻子于情人节当天在家中烛光晚餐，不慎引发火灾，造成自家与邻居家重大财产损失
- B. 于某杀害了与其素有仇怨的李某，于某父亲知晓后帮助于某逃跑至外地躲避公安机关的追捕
- C. 甲、乙两人商量后共同潜入某富豪的家中盗窃，在窃得财物后，甲出于仇富心理不听乙的劝阻杀害了该富豪

- D. 孙某预谋开车撞死自己的“情敌”，尚未实施，其“情敌”就被酒后驾车的钱某撞死
5. 刘某因工伤问题提出工伤认定申请，甲机关受理此申请，经核实认定刘某不属于工伤，后刘某向乙机关提出行政复议，乙机关经审查决定维持甲机关的行政行为。刘某不服，决定提起诉讼。则此案的被告是（ ）。
- A. 甲机关  
B. 乙机关  
C. 甲机关和乙机关  
D. 刘某的工作单位
6. A 和 B 订立的合同中内容约定不明确，按照合同有关条款内容不能确定，且他们又不能通过协商达成协议时，下列解决办法不符合法律规定的是（ ）。
- A. 质量要求不明确且没有国家质量标准，按照通常标准履行  
B. 履行期限不明确，在给了对方必要的准备时间的情况下，债务人可以随时向债权人履行义务，债权人也可以随时要求债务人履行义务  
C. 履行地点不明确，给付货币的，在接受货币一方所在地履行  
D. 价款约定不明确，一律按照国家规定的价格履行
7. 下列城市与其气候类型、气候特征对应错误的是（ ）。
- A. 北京——温带季风气候——冬季寒冷干燥，夏季高温多雨  
B. 利雅得——热带季风气候——全年高温并分为干、湿两季  
C. 珀斯——地中海气候——冬季温和湿润，夏季炎热干燥  
D. 伦敦——温带海洋性气候——全年温和常湿
8. 下列河流中流向大体一致的是（ ）。
- ①注入大西洋的亚马孙河  
②注入地中海的尼罗河  
③注入墨西哥湾的密西西比河  
④注入里海的乌拉尔河
- A. ①②  
B. ③④  
C. ①④  
D. ②③
9. 下列关于地理位置和城市之间的描述对应关系错误的是（ ）
- A. 北通汝洛，西带秦蜀，南遮湖广，东瞰吴越——襄阳  
B. 东压江淮，西挟关陇，北通幽燕，南系荆襄——南京  
C. 南抚百越，北望中洲，据五岭之要会，扼赣闽粤湘之要冲——赣州  
D. 居浙右之上游，控鄱阳之肘腋，制闽越之喉吭，通宣歙之声势——衢州

10. 下列说法正确的是 ( )
- A. 庐山在黄山以北、嵩山以南
  - B. 我国有 6 个省级行政区与邻国接壤
  - C. 在我国, 丹顶鹤的主要栖息地是东北
  - D. 新疆和青海的部分地区属于印度洋流域
11. 关于液体燃料, 下列说法错误的是 ( )
- A. 煤油易挥发, 且挥发后与空气混合, 会形成爆炸性的混合气
  - B. 生物柴油具有“老化”倾向, 宜避光、避免与空气接触保存
  - C. 柴油能量密度高, 燃油消耗率低, 但废气中所含有害成分较多
  - D. 汽油具有一定的腐蚀性, 在贮运过程中容易出现早期氧化变质
12. 以下做法中, 所运用的科学原理与其他三项不同的是 ( )
- A. 烹饪海鲜时加入柠檬汁以去除腥味
  - B. 服用小苏打可以治疗某些类型的胃痛
  - C. 在蜜蜂蛰后的伤口涂抹氨水以减轻疼痛
  - D. 在被污染的湖泊中培育水藻吸收过量的氮和磷
13. 《红楼梦》中林黛玉进贾府初次见到王熙凤时, 第一笔描述的是王熙凤的朗朗笑声, 可谓“未见其人, 先闻其声”。这在物理上可用以下哪种原理进行解释 ( )
- A. 声波的直线传播
  - B. 声波的衍射效应
  - C. 声波的反射效应
  - D. 声波的折射效应
14. 下列关于水生动物的说法错误的是 ( )
- A. 鲨鱼用鳃呼吸, 鲨鱼属于鱼类
  - B. 黄鳝的鳃严重退化, 无法用鳃呼吸, 黄鳝不属于鱼类
  - C. 蓝鲸没有鳃, 用肺进行呼吸, 蓝鲸属于哺乳动物
  - D. 海龟没有鳃, 用肺进行呼吸, 海龟不属于哺乳动物
15. 为确保血液质量和减少献血者在献血过程中的不良反应, 献血者在献血前一天和献血的当天, 需注意一些事项。据此, 下列不正确的一项是 ( )
- A. 要保持献血前一晚的良好睡眠, 献血前也不要空腹
  - B. 献血前不要吃高脂肪食物, 但要吃高蛋白食物

- C. 献血前两天如有感冒、发烧、咳嗽等应暂缓献血  
D. 应该阅读一些献血宣传资料，以减轻和解除思想负担
16. 下列选项中成语与所涉人物对应不正确的是（ ）
- A. 图穷匕见——荆轲  
B. 高山流水——伯牙  
C. 破釜沉舟——项羽  
D. 投笔从戎——岳飞
17. 在我国文化用语中经常出现“别称”或“代称”。下列关于“别称”和“代称”的表述错误的是（ ）
- A. 李清照词“人比黄花瘦”中的黄花是菊花  
B. 古人用“弄璋之喜”来祝贺他人升官  
C. 人们称妇女为“巾帼”是由于妇女戴的头巾叫巾帼  
D. “及笄之年”指古代女子年满十五岁，到了可结婚年龄
18. 下列四组诗句分别反映了中国古代四种传统节日习俗，其起源与佛教没有直接关联的是（ ）
- A. 谁家见月能闲坐，何处闻灯不看来  
B. 今朝佛粥交相馈，更觉江村节物新  
C. 风雨梨花寒食过，几家坟上子孙来  
D. 道场普渡妥幽魂，原有盂兰古意存
19. 下列教育家与其代表作对应不正确的是（ ）
- A. 韩愈——《师说》  
B. 颜元——《存学篇》  
C. 孟子——《劝学篇》  
D. 陶行知——《教学做合一》
20. 下列有关文学常识的表述，错误的一项是（ ）
- A. 韩愈、柳宗元是唐代古文运动的倡导者，他们主张废弃六朝以后华而不实的研文，而主张创作内容充实、形式自由的散文  
B. 调是诗歌的一种，最初是配合音乐来歌明的，根据字数多少，可分为个令、中调、长调。由于词的句子长短不一，所以也称为“长短句”  
C. 长篇小说《青春之歌》、《围城》分别塑造了不同类型的知识分子形象，从不同的侧

面反映了知识分子在革命斗争中成长的过程

D. 《钢铁是怎样炼成的》和《牛虻》分别是前苏联作家奥斯特洛夫斯基和爱尔兰作家伏尼契的作品

21. “我的家在东北松花江上，那里有森林煤矿·……”歌曲《松花江上》是以下列哪个事件为背景创作的（ ）

- A. “七七事变”
- B. “九一八事变”
- C. “西安事变”
- D. “虹桥事变”

22. 某外国友人十分仰慕中国的道家文化。假如他来到中国，下列地方不能让他感受道家文化的是（ ）

- A. 湖北武当山
- B. 四川青城山
- C. 山西五台山
- D. 江西龙虎山

23. 中国古典戏剧作品塑造了王昭君、李香君，杜丽娘和崔莺莺等经典女性形象，下列作品与上述人物对应关系正确的是（ ）

- A. 《西厢记》—《汉宫秋》—《桃花扇》—《牡丹亭》
- B. 《西厢记》—《桃花扇》—《汉宫秋》—《牡丹亭》
- C. 《汉宫秋》—《桃花扇》—《牡丹亭》—《西厢记》
- D. 《汉宫秋》—《牡丹亭》—《桃花扇》—《西厢记》

24. 下列诗句与其所描写对象对应错误的是（ ）

- A. 日暮苍山远，天寒白屋贫--雪
- B. 出时山眼白，高后海心明--月
- C. 沾衣欲湿杏花雨，吹面不寒杨柳风--风
- D. 嫩绿柔香远更浓，春来无处不茸茸--花

25. 某摄制组根据剧情布置了唐朝的街道，包含四样道具，其中符合历史事实的是（ ）

- ①《金刚经》 ②丝绸制品 ③青花瓷器 ④土豆
- A. ①③④ B. ①②③ C. ③④ D. ②④

## 第二部分 言语运用

(共 25 题, 参考时限 20 分钟)

本部分包括表达与理解两方面的内容。请根据题目要求, 在四个选项中选出一个最恰当的答案。

请开始答题:

26. 走好媒体融合之路, 激活主流媒体的生产力、创造力, 就可以迎来转型发展的新气象。媒体融合是动态持续的过程, 不可能毕其功于一役, 也不存在\_\_\_\_\_的固定模式。

填入划线部分最恰当的一项是 ( )

- A. 一劳永逸
- B. 突飞猛进
- C. 点石成金
- D. 釜底抽薪

27. 深化改革如果不“全面”, 某些领域\_\_\_\_\_走出很远, 其他领域\_\_\_\_\_没有动静, 不仅会让改革失衡、跛脚、事倍功半, 甚至会使得改革发生变异, 导致公平正义缺失、社会隔阂与对立加剧。

依次填入划线部分最恰当的一项是 ( )

- A. 遥遥领先 捷足先登
- B. 一马当先 坐而论道
- C. 望其项背 纸上谈兵
- D. 瞠乎其后 黄粱一梦

28. 让孩子了解外面的世界有必要, 但也得想明白选择游学是否出自攀比和从众, 弄清楚到此一游的“镀金”能给孩子带来多大改变, 看仔细各种机构是否会在项目设计中\_\_\_\_\_猫腻。教育投入多一些\_\_\_\_\_谋划, 就能少一些\_\_\_\_\_、无功而返。

依次填入划线部分最恰当的一项是 ( )

- A. 潜藏 深入 事半功倍
- B. 隐藏 创新 故步自封
- C. 暗藏 理性 事倍功半
- D. 埋藏 细腻 闭门造车

29. 精致是瑞士人的生活态度。瑞士人工作起来出了名的勤奋, \_\_\_\_\_、毫不含糊。其实瑞士的自然资源并不丰富, 国土小而山地多, 但瑞士的经济富裕程度却在全世界\_\_\_\_\_, 这完全是瑞士人民勤劳努力的结果。

填入画线部分最恰当的一项是 ( )

- A. 兢兢业业 首屈一指
- B. 循规蹈矩 遥遥领先
- C. 恪尽职守 名落孙山
- D. 墨守成规 独树一帜

30. 只有进一步\_\_\_\_居民消费升级趋势,努力增加高品质产品和服务供给,切实满足基本消费,持续提升传统消费,大力培育新兴消费,才能挖掘新的消费增长点,不断激发潜在消费。但有钱才能消费,有保障才敢消费,这依然是\_\_\_\_的道理。

依次填入划线部分最恰当的一项是 ( )

- A. 扩大 毋庸置疑                      B. 顺应 颠扑不破  
C. 加强 不容置疑                      D. 形成 牢不可破

31. 市场上类似研学旅行的项目种类\_\_\_\_\_,缺乏统一的标准规范。在一些机构的逐利冲动之下,研学游也有浮于表面的问题。比如说“学”与“游”的功能错位,一些研学游产品明显“游”大于“学”,部分教育机构打着“游学”的幌子,组织学生\_\_\_\_\_地到不同国家的知名学校体验感受,成为传统旅游的“变体”。

依次填入划线部分最恰当的一项是 ( )

- A. 复杂 一丝不苟                      B. 单一 左右逢源  
C. 重复 循规蹈矩                      D. 繁杂 走马观花

32. 要是换在其他地方,这家酒吧恐怕是没人敢来了,可这里从白天到晚上都\_\_\_\_\_。无论是布鲁塞尔本地人还是外国游客都喜欢到这里喝上几杯,因为 Delirium 酒吧号称是世界上供应啤酒种类最多的酒吧,这个纪录已经得到了吉尼斯认证。

填入划线部分最恰当的一项是 ( )

- A. 门可罗雀                              B. 络绎不绝  
C. 门庭冷落                              D. 门庭若市

33. 疫苗事关百姓生命健康,容不得半点\_\_\_\_\_,不能有半点闪失。公众关心,是因为现实问题揪心。面对社会关切,\_\_\_\_\_有关部门迅速发声,及时发布权威信息,有效解疑释惑,同时加大调查力度,用事实与真相\_\_\_\_\_人们的焦虑情绪。疫苗安全不仅关系着人民健康,也关系着人心聚散。

依次填入划线部分最恰当的一项是 ( )

- A. 马虎 急需 解答                      B. 偏差 要求 安抚  
C. 侥幸 亟待 疏解                      D. 偏颇 迫切 抚慰

34. 优雅是一种美丽,是“宠辱不惊,去留无意, ”的淡然;是“结庐在人境,而无车马喧”的\_\_\_\_\_.每当谈起优雅,眼前总会幻化出一位美丽的女子,明亮的双眸,脉脉含情,浅笑安然。举手投足间温柔可亲,似一株山间的幽兰,超脱红尘般清香淡雅、\_\_\_\_\_,使人百看不厌,喜爱非常。

依次填入划线部分最恰当的一项是 ( )

- A. 旷远 芬芳馥郁
- B. 遥远 芬芳馥郁
- C. 旷远 沁人心脾
- D. 遥远 沁人心脾

35. 在网络时代, 每个人都可能成为信息传播者。有个形象的比喻说, 每个人面前都有一个麦克风, 人们也因此称这个时代为“大众麦克风时代”。自媒体时代, 部分媒体因利益驱使, 以吸粉、增加关注率为主要目的, 以“老谣新炒”和“\_\_\_\_\_”为主要手段, 成为谣言\_\_\_\_\_、传播的“重灾区”。

依次填入划线部分最恰当的一项是 ( )

- A. 偷梁换柱 滋生
- B. 移花接木 滋生
- C. 暗渡陈仓 发生
- D. 移宫换羽 产生

36. “一体化发展首先是破除观念上的\_\_\_\_\_。”江苏省发改委基础产业处副处长罗伟光说。虽然三省一市的工作人员在合作办也会“吵架”, 但吵的过程也是弥合\_\_\_\_\_、达成共识的过程, “面对面”沟通让协调效率提升很多。

依次填入划线部分最恰当的一项是 ( )

- A. 壁垒 分歧
- B. 壁垒 差异
- C. 堡垒 差异
- D. 屏障 分歧

37. 央行票据互换工具可以增加持有银行永续债的金融机构的优质抵押品, \_\_\_\_\_银行永续债的市场流动性, 增强市场认购银行永续债的意愿, 从而支持银行发行永续债补充资本, 为加大金融对实体经济的支持力度创造有利条件, 也有利于\_\_\_\_\_货币政策传导机制, 和化解金融风险, 缓解小微企业、民营企业融资难问题。

依次填入划线部分最恰当的一项是 ( )

- A. 提高 沟通 防止
- B. 提升 疏通 防止
- C. 提升 沟通 防范
- D. 提高 疏通 防范

38. 和传统电网相比, 微电网的最大特点是可以对分布式能源进行就地消化、就地平衡, 同时也可以和大电网进行能量交换, 在多领域有\_\_\_\_\_的应用前景。但也有业内专家表示, 目前微电网研究\_\_\_\_\_, 特别是在作为产业基础的原材料、部件、元器件、系统软件网络等方面, 还有很多课题需要深入研究。

依次填入划线部分最恰当的一项是 ( )

- A. 广泛 方兴未艾
- B. 宽泛 欣欣向荣
- C. 广泛 欣欣向荣
- D. 广大 如火如荼



39. 防范化解风险，要善于运用底线思维，凡事从坏处准备，努力争取最好的结果，做到\_\_\_\_\_、\_\_\_\_\_，牢牢把握主动权。既要有防范风险的先手，也要有应对和化解风险挑战的高招；既要打好防范和抵御风险的有准备之战，也要打好化险为夷、转危为机的战略主动战。守住底线，盯住问题，奋发有为，才能做到“任凭风浪起，稳坐钓鱼船”。

依次填入划线部分最恰当的一项是（ ）

- A. 未雨绸缪 有备无患                      B. 亡羊补牢 来者可追  
C. 未雨绸缪 来者可追                      D. 亡羊补牢 有备无患

40. 中法建交 55 年来，两国坚持相互尊重、\_\_\_\_\_、互利共赢，不断扩大双方交往合作，给两国和两国人民带来了实实在在的福祉。当前，世界正面临百年未有之大变局，人类社会面临许多机遇和挑战。中法都是联合国安理会常任理事国，\_\_\_\_\_着特殊历史使命和责任。

依次填入划线部分最恰当的一项是（ ）

- A. 求同存异 担当                              B. 并行不悖 担负  
C. 求同存异 担负                              D. 并行不悖 担当

41. ①上世纪 60 年代以后，西方进入到消费社会，消费品极丰富，选择性增大，人们的消费不再停留于使用价值和炫耀财富，而是消费品代表的符号意义。

②直到第二次工业革命之后，因为生产力的发展，消费才开始被鼓励。

③人们通过展示消费品来影响别人对自己的看法，在特殊情境中甚至会加强这种个性表达，使得自己的行为像一种自我保护的安全毯。而当一个人要扮演新的或者不熟悉的角色时，消费定义自我的作用就显得很重要。

④资本主义发展初期，生产是排在第一位的，那时禁欲和节俭是主流的消费观。⑤这种探索生活方式的转向至关重要。在西方，消费观念经历了一个漫长的去道德化过程。

⑥当消费者以生活方式为依据寻求身份认同的时候，意味着他在购买商品和文化上有决策权，因为生活方式本身就是对自己的时间安排和金钱支配的消费模型。

将以上 6 个句子重新排列，语序正确的一项是（ ）

- A. ⑤④②①⑥③                              B. ③①④②⑤⑥  
C. ③⑤④②①⑥                              D. ⑤①④②⑥③

42. ①那么，今天的新教育家们带着内生说的理论“卷土重来”，是什么给了他们自信？

②这些学校在教学法上强调项目制学习、个性化教学，主张要调动起学生内在的创造力和学习欲望，而不是直接给他们知识。

③因为时代的条件变化了，这一轮教育改革的背景是科技在近年来的快速发展，人类的价值受到挑战，外部化的东西再无法依赖了，而只有人为之人的根本天性才有最大价值，这与内发说理论十分匹配。

④可以说，新教育家们都是“内发说”一派，无论在具体的学校运营形式、教学理念的实践上有什么区别。

⑤近十余年来，在世界各地，涌现出了一批所谓的“新教育学校”。

将以上句子重新排列，语序正确的是（ ）

A. ④①③⑤②

B. ⑤④③①②

C. ②④⑤③①

D. ⑤②④①③

43. ①其实，“儿童车厢”也并非不可行，就像公务舱和头等舱一样，是很常见的定制化服务，关键是设立“儿童车厢”的起点是什么？

②让一个孩子永远表现出乖巧听话，是成年人对儿童不切实际的幻想，孩子需要教育，也需要包容和理解。

③这样的孩子固然需要教导，家长也需要舆论提醒自己为人父母的义务。

④如果把“儿童车厢”理解成“熊孩子车厢”，出于隔离的目的，让其带有强制或半强制性的性质，是对社会理性的戕害。

⑤但是，因为“熊孩子”的出现，是否就要采取一种隔离性手段呢？这是当深思的。

⑥近年来，网络上“熊孩子”成为了一个热门话题。公共场合有些孩子大喊大叫、跑来跑去，确实让人苦恼。

将以上 6 个句子重新排列，语序正确的一项是（ ）

A. ④②①⑤⑥③

B. ⑥⑤①②③④

C. ⑥③⑤①④②

D. ④①②⑥⑤③

44. ①现代城市，交通方式的多样性与高密度的土地利用使得城市交通管理极具挑战和必要。

②衣食住行是我们每个人的基本需求，城市交通管理就是为了更好地满足人们的出行需求。

③但更困难的是：交通的主体是人，而不是交通工具，交通管理的本质在很大程度上是对

道路时空资源在不同人群间的分配，是针对不同社会群体进行的社会价值分配。

④在古代社会，由于较低的人口密度和出行方式的单一，并没有系统交通管理的需求。

⑤从技术上来说，交通流的网络化与动态性使其相比那些封闭静态优化问题更为困难。

将以上句子重新排列，语序正确的是：（ ）

A. ①④③⑤②

B. ⑤②③④①

C. ②①④③⑤

D. ②④①⑤③

45. ①从行星科学的角度来看，火星就如同地球的一个孪生兄弟。这两颗行星的形成时间、结构，乃至在形成初期的环境都极其相似。

②无论在人类心目中火星生命呈现出什么面貌，实际上这都是人类对于自己内心的展示。人类从幻想中的火星人身上看到的，其实是自身的孤独。

③正因为火星与地球有如此之多的相似之处，在人类对火星的认识逐渐加深的几百年里，难免对于火星有过各种浪漫的想象。

④火星是地球夜空中最为鲜明的天体之一，从几千年前开始，人类就试图通过观察它在天空中的移动和明暗变化来预测人世间的祸福。

⑤人类曾认为火星和地球一样，在表面上河道纵横，或许也有茂盛的植被、各种各样的生物，甚至可能有如同人类一样的智慧生命，组成一个个火星人的家庭，形成一个复杂的火星社会。

将以上句子重新排列，语序正确的是（ ）

A. ①③②④⑤

B. ④①③⑤②

C. ⑤②①④③

D. ④⑤③①②

46. 今天在大都会里看艺术，\_\_\_\_\_。几乎每个展馆、每一个策展人的头衔上都刻着赞助人的名字：J.P.摩根、本杰明·奥尔特曼、阿瑟·塞克勒等等，随便哪个名字拿过来查一查，都是富可敌国的商业大亨和慷慨的艺术赞助人。大都会博物馆的故事，是一个典型的美国故事，一个关于雄心、公民责任和慷慨付出的故事。

填入横线处最恰当的一项是（ ）

A. 艺术真正的力量在于启发人们以不同的方式思考这个世界

B. 仍然时时刻刻感受到金钱的力量

C. 会发现博物馆的真正使命得以实现

D. 你能感受到是美国商人创造的财富推动了大都会博物馆发展壮大

47. 新一轮教育改革的背景是科技在近年来的快速发展，尤其是对人工智能替代人工这

一可能性做出的回应。据麻省理工学院的一份报告，从 2003 年开始，美国的生产力就与就业率没有关系了，换句话说，\_\_\_\_\_，因为开始进入自动化时代，体力和重复性的脑力劳动甚至如金融、法律等行业的部分职位，都不再需要大量人工。

填入横线处最恰当的一句是（ ）

- A. 经济的发展已经不再需要雇佣更多的人口
- B. 人工智能时代人已经没有价值了
- C. 人将成为机器的奴隶
- D. 人类面临失业危机

48. 从中国经济来看，唯有民营经济从低谷中走出来，才有可能拉动中国经济摆脱困境，否则仅靠国有企业，中国经济的下行风险还会越来越大。这几年民营经济衰退的背景下，国有企业挑起中国经济的大梁，但从长期来看，这种局面也很难维持。国企这几年的利润大增，主要是依靠供给侧改革带来的上游原材料涨价，但是我国对上游原材料没有太大的定价权，依靠原材料涨价的增长模式很难持续，同时，还会给下游产业带来损害，甚至诱发通货膨胀，将中国经济拖入滞涨的泥潭。\_\_\_\_\_，才可能形成拉动中国经济走出低谷的合力。

填入横线处最恰当的一项是（ ）

- A. 必须发展民营经济
- B. 需加快民企深化改革
- C. 唯有民企和国企共同百花齐放
- D. 继续加大国企的投入

49. 研究发现，定期运动的骑行爱好者肌肉质量和力量并未因年龄增长而减小，体脂肪和胆固醇水平也没有随年龄的增长而增加。此外，男性骑行爱好者的雄激素分泌仍保持在较高水平，意味着他们或许可以避免经历明显的男性更年期。研究还发现，骑行爱好者的免疫系统似乎也没有衰老迹象，胸腺产生的“免疫武器” T 细胞数量与年轻人一样多。T 细胞是免疫系统与病毒和癌细胞等作战的主力。一般来说，随着年老体衰，胸腺功能会逐渐退化，产生的 T 细胞数量也随之下降。该研究结果表明，\_\_\_\_\_。

填入横线处最恰当的一项是（ ）

- A. 应鼓励人们去骑行
- B. 应鼓励人们终生定期锻炼
- C. 要防止胆固醇水平升高

D. 应增加 T 细胞数量

50. 在畅销书排行榜上, 劣书驱逐良书的案例屡见不鲜。在书店的书架上, 劣书驱逐良书的现象同样频频上演。\_\_\_\_\_。我们无法要求书店违背市场规律, 把那些滞销的书留在书架上, 等待它们的知音, 更不能篡改畅销榜, 把那些低销量的图书推上榜单。虽然很多书店具备公益机构的某些性质, 不少书店还主打文化情怀, 但归根结底, 无论网络书店还是实体书店, 都是一门生意, 首先需要通过买和卖来保证自身的生存。尊重消费者的选择, 无可厚非。

填入横线处最恰当的一项是 ( )

- A. 读书就应该读好书
- B. 消费者有选择的权利
- C. 这就体现了适者生存
- D. 这是市场的选择

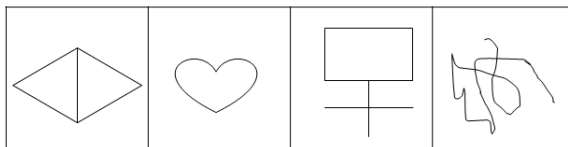
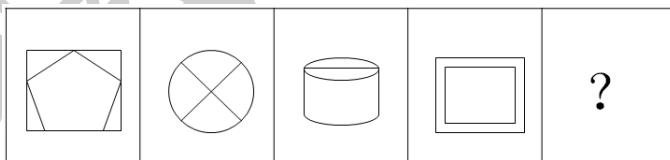
### 第三部分 判断推理

(共 25 题, 参考时限 25 分钟)

一、图形推理。请按每道题的答题要求作答。

请开始答题:

51. 从所给选项中, 选择最适合的一个填入问好处, 使之呈现一定的规律性 ( )。



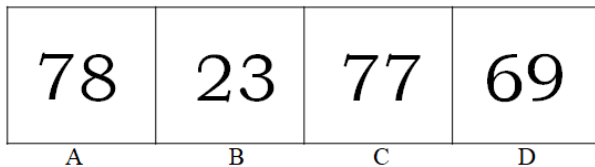
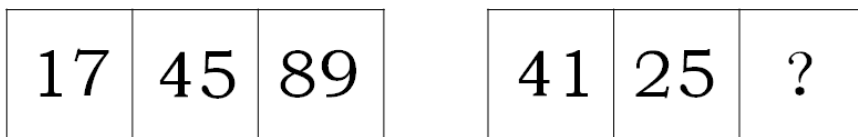
A

B

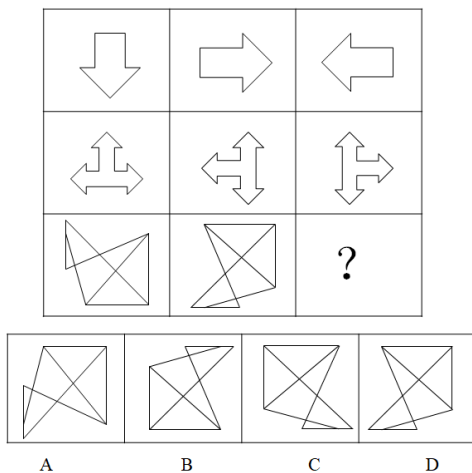
C

D


52. 从所给选项中, 选择最适合的一个填入问好处, 使之呈现一定的规律性 ( )。



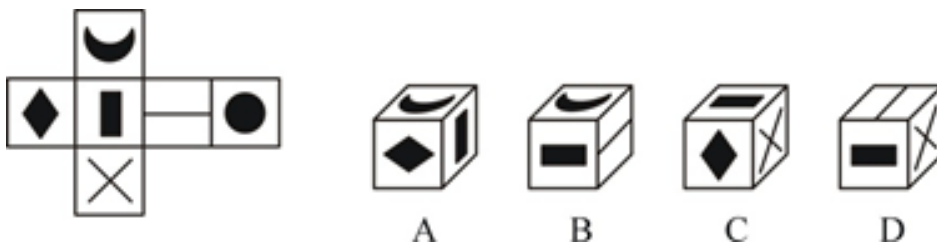
53. 从所给选项中, 选择最适合的一个填入问好处, 使之呈现一定的规律性 ( )。



54. 从所给选项中, 选择最适合的一个填入问好处, 使之呈现一定的规律性 ( )。



55. 左边给定的是正方体的外表面展开图, 下面哪一项能由它折叠而成? ( )



二、定义判断。每道题先给出定义，然后列出四情况，要求你严格依据定义，从中选出一个最符合或最不符合该定义的答案。注意：假设这个定义是正确的，不容置疑的。

请开始答题：

56. 非物质文化遗产指被各群体、团体、有时为个人所视为其文化遗产的各种以非物质形态存在的与群众生活密切相关、世代相承的传统文化表现形式，包括口头传统、传统表演艺术、民俗活动和礼仪与节庆、有关自然界和宇宙的民间传统知识和实践、传统手工艺技能等，具有突出贡献的历史、文化和科学价值，展现广大人民群众文化创造力的典型性、代表性。拥有在一定群体中世代传承、活态存在的特点，在当地有较大影响，现今慢慢濒临消失的遗产。

以下不属于非物质文化遗产的是（ ）。

- A. 革命老区红安县采用纯棉花为原料，经民间艺人采用传统工艺手工纺织防缩精致而成的红安大布
- B. 元宵佳节常见的装饰品，品种繁多，具有浓厚的地方特色的洛阳宫灯
- C. 汉绣以楚绣为基础，融汇南北诸家绣法之长，揉合出了富有鲜明地方特色的新绣法
- D. 方言在不同的人群中指代不同，实为“地方语言”又称“白话”指的是区别于标准语的某一地区的语言

57. 服装立体裁剪和平面结构设计是服装结构设计的两大手法，在制衣厂里，休闲服装一般较宽松，宽松，一般不用立体裁剪而用平面结构设计。立体裁剪是服装结构设计的方法之一，不受任何数字的束缚，把面料的坯布围在人模上来进行符合人体的裁剪。在一些高级时装厂里，服装着重于造型，款式以贴体，较贴体的服装需要立体剪裁。

下列属于立体剪裁的是（ ）。

- A. 小周身材和人体模特的尺寸相当，每次去定制服装，老板只需要在人台上进行裁剪
- B. 裁缝店老板每制作一件新的服装款式都需要自己亲自打版
- C. 服装工厂赶制一批新的羽绒服聘请多名高级车工进行缝制
- D. 小青平时喜欢给自己的 SD 娃娃做衣服

58. 所谓累犯，是指受过一定的刑罚处罚，刑罚执行完毕或者赦免以后，在法定期限内又犯被判处一定的刑罚之罪的罪犯。一般累犯成立条件如下：（1）前罪与后罪都必须是故意犯罪。（2）前罪被判处有期徒刑以上刑罚，后罪应当判处有期徒刑以上刑罚。（3）后罪发生的时间，必须在前罪所判处的刑罚执行完毕或者赦免后的 5 年之内。

下列属于累犯的是（ ）。

- A. 小敏故意伤人被处罚后在回家的路途中遭到抢劫
- B. 张某故意伤人释放后三年之内又故意杀人被抓
- C. 在步行街看见一对情侣打架
- D. 五年前李强犯罪被抓

59. 爱国是一个崇高而神圣的字眼，是世界各国永恒的主题，是文明社会不变的价值追求。爱国情怀始于心，“爱国之心，实为一国之命脉。”爱国情怀是一个民族存在的火种，是中华民族伟大民族精神。

下列诗句没有表达的是爱国情怀的是（ ）。

- A. 死去元知万事空，但悲不见九州同
- B. 一片丹心图报国，两行清泪为忠家
- C. 血沃中原肥劲草，寒凝大地发春华
- D. 十年生死两茫茫，不思量，自难忘

60. 外部效应又称外部不经济，是指未能在价格中得以反映的，对交易双方之外的第三者所带来的成本。它可能是好事，叫做“正面外部效应”例如行为人实施的行为对他人或公共的环境利益有溢出效应；但很多情况下它是坏事，叫做“负面外部效应”，行为人实施的行为对他人或公共的环境利益有减损的效应。

下列属于负面外部效应的是（ ）。

- A. 晚上凌晨楼上传来萨克斯声音
- B. 某餐厅的下午茶播放抒情版音乐
- C. 邻居家的花园里面种着各种各样的花，令人赏心悦目
- D. 张某单身时一个人在家没事干经常擦桌子

三、类比推理。每道题先给出一组相关的词，要求你在备选答案中找出一组与之在逻辑关系上最为贴近、相似或匹配的词。

请开始答题：

61. 盐：消毒

- A. 高脚杯：装饰
- B. 座机：沟通
- C. 碗：盘子
- D. 火龙果：香蕉

62. 中性笔：笔芯

- A. 手机：充电器
- B. 电脑：显示屏



- C. 铂金戒指：铂金  
D. 绿萝：水
63. 天罗地网：逃之夭夭  
A. 同仇敌忾：恍然大悟  
B. 脍炙人口：口碑载道  
C. 泪如雨下：泣不成声  
D. 防患未然：亡羊补牢
64. 刷牙：洗脸：睡觉  
A. 吃饭：切菜：洗菜  
B. 复习：考试：录取  
C. 总结：写报告：调研  
D. 闭眼：入睡：睁眼
65. 《千只鹤》 对于 ( ) 《半生缘》 对于 ( )  
A. 老舍：海子  
B. 曹雪芹：贾平凹  
C. 川端康成：张爱玲  
D. 鲁迅：冰心

四、逻辑判断。每道题给出一段描述，这段陈述被假设是正确的，不容置疑的。要求你根据这段描述，选择一个答案。

请开始答题：

66. 小康，小蔓，小潘，小杨商量出去看电影，但对看什么电影有争议，小康说：只有小蔓和小林去，我才去。小蔓说：如果我去，那么小潘和小杨至少有一个会去。小潘说：只有小杨去，我才去。小杨说：只有今天去看《神探狗笨吉》，我才去。电影院显示《神探狗笨吉》已下映。

根据以上文字，下列选项中可以推出的是：( )。

- A. 小潘和小蔓去看电影了，其余人没去  
B. 小康，小蔓，小潘去看电影了  
C. 小康，小蔓，小潘，小杨都没去看电影  
D. 小康没去看电影

67. 舞蹈考试结果即将公布，小馨，木木，钱六，阿呆，袁祥 5 人入围。从性别上看有 2 人为女生，3 名为男生，从身高上看 2 人 1.75 米，3 人为 1.7 米，已知，小馨，钱六，性别相同，阿呆，袁祥性别不同；木木，七七身高相同，阿呆，袁祥身高不同，最后只有一名女生身高 1.75 获得名次。

由此可以推出，获得名次的是谁 ( )。

- A. 小馨  
B. 木木  
C. 小钱  
D. 阿呆

68. 合成色素不仅广泛使用在食品行业，在化妆品行业，也同样有它的阴影。化妆品在人们日常生活中已成为一种增香添美的必需品，但是，化妆品中的一些物质常常给爱美者的健康带来一定的损害，这其中就包括色素。据一项统计显示，引起皮肤功能障碍的化妆品原料中最危险的是香料，其次就是色素和防腐杀菌剂，它们被称为化妆品的“三害”。造成伤害的比例分别为香料占 50.6%，色素占 43.9%，防腐杀菌剂占 4.9%。有研究人员指出，化妆品中的色素与人类皮肤的色素沉着有一定的关系。色素沉着是在正常皮肤上出现的褐色斑点，严重影响形象，与人类使用化妆品的用心背道而驰。研究人员说，化妆品中所含的色素也属焦油衍生物，长期使用会对光线发生敏感反应，从而导致色素沉着。化妆品引起的色素沉着多数还伴有皮肤潮红、丘疹等炎症现象。

由此可以推出：（ ）。

- A. 脸上长斑必定是用了含有色素和防腐剂等化妆品
- B. 色素可能会对皮肤造成一定的损害例如色素沉着
- C. 合成色素用在食物中没有危害
- D. 合成色素导致脸部皮肤红疹

69. 肾上腺皮质激素，是肾上腺皮质受脑垂体前叶分泌的促肾上腺皮质激素刺激所产生的一类激素，对维持生命有重大意义。近日研究人员做了一组实验，将其中一组小鼠每天正常的饮食，另外一组小鼠每天除了正常饮食，还每隔三天注射一次肾上腺皮质激素，三个月后发现，第一组的小鼠个头明显没有第二组的个头大，所以研究人员得出结论肾上腺皮质激素能够促进老鼠的身体发育。

下列哪项为真，最能削弱研究人员观点的是（ ）。

- A. 实验中第二组小鼠越长速度明显比第一组快
- B. 两组小鼠实验前个头大小不一
- C. 实验中第一组小鼠食材更好
- D. 第一组小鼠长大了两倍

70. 沙漠是指沙质荒漠化的土地。地球陆地的三分之一是沙漠。沙漠地域大多是沙滩或沙丘，沙下岩石也经常出现。土地沙漠化主要出现在干旱和半干旱区，形成沙漠的关键因素是气候，但是在沙漠的边缘地带，原生植被是草地，专家认为：是人为原因沙化了草地，这些人为了的因素主要有不合理的农垦，不合理的樵采等。

下列哪项为真，最能支持专家观点的是（ ）。

- A. 沙漠化除了气候原因和人为原因还有其他的因素

- B. 在牧区一经开垦，土地即行沙化致使草场沙化急剧发展。
- C. 沙漠化对人民生活造成不良影响
- D. 在沙漠气候的环境中，生活着一些适应干旱条件的动物

71. 心理疾病简称精神病是由于内、外致病因素作用于人而造成脑功能障碍，从而破坏了人脑功能的完整性和个体与外部环境的统一性所致。专家最近称如果没有原因突然出现明显的暴饮暴食，有可能患了一种名为“神经性贪食症”的心理疾病。神经性贪食症是指发作性的、不可抗拒的摄食欲望和行为，一餐可摄入大量食物，食后以呕吐、导泻、利尿、禁食或过度运动等方法来抵消体重增加的临床综合征。女性患病率为 1%~3%，男性患病率约为女性的 1/10，平均发病年龄 18~20 岁。神经性贪食症的贪食症状是一种危险的行为模式，可以出现神经内分泌调节紊乱和各器官功能的严重损害，可因消化道出血和其他并发症而死亡。

由此可以推出（ ）。

- A. 精神疾病最主要体现方式是暴饮暴食
- B. 突然性食量增大可能是患有心理疾病
- C. 食后呕吐、导泻、利尿、禁食或过度运动是心里疾病的表现症状
- D. 心里疾病很难医治

72. 小明在大学所学的是农林专业，老潘得知侄子所学的专业后讨教他怎样种植盆栽苹果，小明说：种出好的苹果树需要一个圆形口径的瓦盆，只有圆形口径的瓦盆，才能使苹果盆栽发芽，发芽是长成树苗的必要条件。最终老潘在市场上没有买到圆形口径的瓦盆。

由此推知：（ ）。

- A. 盆栽苹果可能长的不好
- B. 老潘种植盆栽苹果失败
- C. 盆栽苹果长的非常好
- D. 小明种植盆栽苹果失败

73. 聪聪，然然，茜茜分别为理发师，化妆师，教师，化妆师工龄比然然短，聪聪和化妆师工龄不同，茜茜比教师工龄长。

根据上述断定，可以推出：（ ）。

- A. 茜茜是教师，然然是理发师，聪聪是化妆师
- B. 聪聪是教师，茜茜是理发师，然然是化妆师
- C. 然然工龄比茜茜长，聪聪工龄比然然长

D. 茜茜工龄比聪聪长

74. 红宝石一直被人们所喜爱和追捧，此种宝石多呈玫瑰红色、鸽血红色、粉红色，市场上有着各种各样的宝石仿冒品，红宝石的鉴定方法有很多，可以根据不同产地来鉴别红宝石，最近专家表明可以用很简单的方法去识别，那就是肉眼观察，可以通过颜色光泽，二色性，切工有效的鉴别宝石。

以下哪项如果为真，最能削弱专家观点的是（ ）。

- A. 鉴定红宝石的最佳方法就是去鉴定机构
- B. 人们很难直接通过肉眼观察鉴定红宝石
- C. 专家的很多观点不一定正确
- D. 绿宝石肉眼很容易区分真假

75. 感光食物富含铜等金属元素，可直接或间接地增加与黑色素生成有关的物质的数量与活性，这类食物吃多了，会令肌肤更容易受到紫外线侵害而变黑或长斑。一般想皮肤变得白皙，应少吃感光食物，也可晚餐食用少许，食用后不宜在强光下活动，防止皮肤变黑。常见的感光食物有柠檬、胡萝卜、木瓜、芹菜、莴苣、土豆、香菜、苋菜、油菜等。

以下哪项如果为真，最能支持上面观点的是（ ）。

- A. 小明去泰国旅游全程没有擦防晒霜，还吃了当地有名的木瓜沙拉，黑了许多
- B. 很多人吃了柠檬后立即晒太阳发现变黑了
- C. 土豆切片用来做面膜美白效果很好
- D. 不感光食物吃多了不仅不会变白还可能起到相反的作用

## 第四部分 数量分析

（共 10 题，参考时限 10 分钟）

一、数学运算。在这部分试题中，每道题呈现一段表述数字关系的文字，要求你迅速、准确地计算出答案。

请开始答题：

76. 要修一条公路，阴天时甲单独要修 6 天才能完成，乙单独要修 7 天才能完成，现已知甲和乙晴天的效率和阴天的效率比为 1：2，问连续晴天中甲乙合作为多少？（ ）

- A. 1.5
- B. 2
- C. 2.5
- D. 3

77. 已知 AB 两地相距 2 公里, 甲乙两人从 A 地出发去 B 地, 甲走路去, 乙坐车去, 乙在到达 B 地后立即返回 A 地, 在 C 地与甲相遇, 正好出发了 30 分钟, 问乙的速度与甲的速度和多少? ( )

- A. 4km/h
- B. 6km/h
- C. 8km/h
- D. 10 km/h

78. 某单位举行羽毛球比赛, 共有 8 人报名参赛, 两两进行单循环比赛, 决出前四强, 再进行比赛决出冠亚季军, 问总共要比赛多少场? ( )

- A. 26
- B. 28
- C. 30
- D. 32

79. 已知一个个圆柱形水箱深 3 米, 加满水可以供 6 个人用水一天, 已知每个人一天用水量相同约为 30 立方米, 问面的半径为多少? ( )

- A.  $\sqrt{\frac{60}{\pi}}$
- B.  $\sqrt{\frac{90}{\pi}}$
- C.  $\sqrt{\frac{120}{\pi}}$
- D.  $\sqrt{\frac{180}{\pi}}$

80. 一批衣服的售价 550 元, 为了增加销售量, 要打八折出售再返 20 元, 仍然获利 20%, 此商品进价多少元? ( )

- A. 320
- B. 350
- C. 370
- D. 390

二、资料分析。所给出的综合性资料有若干个问题要你回答。你应根据资料提供的信息进行分析、比较、计算和判断处理。

请开始答题:

根据下列资料, 回答 81-85 题:

2018 年全年全国固定资产投资 (不含农户) 635636 亿元, 比上年增长 5.9%, 增速比前三季度加快 0.5 个百分点。其中, 民间投资 394051 亿元, 增长 8.7%, 比上年加快 2.7 个百分点。

分产业看, 第一产业投资 22413 亿元, 比上年增长 12.9%, 增速比 1-11 月份提高 0.7 个百分点; 第二产业投资 237899 亿元, 增长 6.2%, 增速与 1-11 月份持平; 第三产业投资 375324 亿元, 增长 5.5%, 增速回落 0.1 个百分点。

第二产业中,工业投资比上年增长 6.5%,增速比 1-11 月份提高 0.1 个百分点,比上年提高 2.9 个百分点;其中,采矿业投资增长 4.1%,增速比 1-11 月份回落 4.5 个百分点;制造业投资增长 9.5%,增速持平;电力、热力、燃气及水生产和供应业投资下降 6.7%,降幅收窄 2.1 个百分点。

第三产业中,基础设施投资(不含电力、热力、燃气及水生产和供应业)比上年增长 3.8%,增速比 1-11 月份提高 0.1 个百分点,比上年回落 15.2 个百分点。其中,水利管理业投资下降 4.9%,降幅比 1-11 月份扩大 0.5 个百分点;公共设施管理业投资增长 2.5%,增速提高 1.1 个百分点;道路运输业投资增长 8.2%,增速回落 0.3 个百分点;铁路运输业投资下降 5.1%,降幅扩大 0.6 个百分点。

2018 年房地产开发投资情况

房地产开发指标	1-12 月	
	绝对量	同比增长 (%)
房地产开发投资 (亿元)	120264	9.5
其中:住宅	85192	13.4
办公楼	5996	-11.3
商业营业用房	14177	-9.4
商品房销售面积 (万平方米)	171654	1.3
其中:住宅	147929	2.2
办公楼	4363	-8.3
商业营业用房	11971	-6.8
商品房销售额 (亿元)	149973	12.2
其中:住宅	126393	14.7
办公楼	6277	-2.6
商业营业用房	13349	0.7

81. 2018 年全国固定资产投资增长多少亿元? ( )
- A. 34413    B. 35413
- C. 36413    D. 37413
82. 与 2016 年相比,2018 年民间投资额增长了? ( )
- A. 6.0%    B. 11.6%
- C. 15.2%    D. 20.9%
83. 以下基础设施投资中全年增速相较于 1-11 月份,变化幅度最大的是 ( )
- A. 水利管理业                                        B. 公共设施管理业
- C. 道路运输业                                        D. 铁路运输业
84. 2018 年商品房销售平均单价同比增长率为多少? ( )

- A. 10.8%
- B. 12.2%
- C. 15.3%
- D. 18.7%

85. 以下选项正确的是 ( )

- A. 2018 年住宅投资占房地产开发投资超过四分之三
- B. 2017 年, 电力、热力、燃气及水生产和供应业投资降幅为 4.5%
- C. 2018 年第四季度全国固定资产投资同比增长超过 5.9%
- D. 2018 年房地产开发投资同比增量高于 1.1 万亿元

## 第五部分 综合分析

(共 15 道题, 参考时限 25 分钟)

所给出的文字资料均有若干问题要你回答。你应根据资料提供的信息进行分析、判断和处理。

请开始答题:

(一)

1 月 17 日, 世界最大石刻四川乐山大佛的头部, 经过检测和日常养护, 得到有效改善。

乐山大佛开凿于唐代开元元年 (713 年), 完成于贞元十九年 (803 年), 历时约 90 年。以完成后的时间来计, 这尊佛像距今 1215 年。在这 1215 年中, 大佛裸露在外的时间有 700 多年。

最初, 建筑者们修建了大像阁这一巨型建筑来保护大佛, 在南宋的《长江万里图》里, 可以看到以前大佛所在的宫殿。但是, 大像阁在宋元时期被毁。没有了遮风挡雨防光的保护, 大佛常年经受风吹雨打和植被侵蚀。

乐山大佛为何会花脸? 一个重要原因就是生物病害, 主要是由地衣、苔藓和其他生物藻类、霉菌所造成的。当地降水充沛, 植物生长的季节性明显。降水丰沛时, 地衣、苔藓会变成绿色, 温度降低后它们会进入休眠期或死亡, 这时大佛的头部就会发黑。尽管后人修葺时在大佛的头部和胸部设有保护层, 但经过风吹雨打, 保护层上还会附有极微量的泥土, 可即便是这样的毫米级泥土, 也足够苔藓类植物生存。

除花脸外, 乐山大佛还出现过闭眼和流泪, 分别是 1962 年、1963 年、1976 年、2000 年。对此, 民间有显灵等类似解释。但从科学角度解释, 大佛闭眼流泪的真实原因是空气污染形成酸雨的后果。由于化石燃料的大量使用和工业建设、大兴土木, 大气污染逐年加重,

而且四川盆地空气湿度较大，酸雨沉降更为严重。受到空气污染导致的严重酸雨腐蚀，人们就会看到大佛眼睛下面像泪一样的水痕。经过清洗，就可以解决这一现象。

乐山大佛高 71 米，坐镇三江汇流处，全身沿凌云山天然山体凿刻。不过，凌云山的土质结构并不完全相同，在不同砂岩层之间夹杂了 30-50 厘米厚的泥岩层，形成了渗水和排水的不一致。建造大佛的古代匠人在大佛的螺髻耳部、胸部修建有排水槽和排水廊道，但由于砂岩渗水性很强，泥岩渗水性较弱，积水在其中堆积后并不能穿透外壳排出，再加上温差、湿度差等因素影响，造成岩石鼓起或开裂。

因此，如何保护大佛成为环境保护和建筑学的一项重大科研课题。根据历史记载，可以考证的对大佛的修缮已有 14 次之多。但是，正如人的疾病防治一样，也应当对大佛采用预防为主，“治疗”为辅的方针。目前，我国有 30 多处世界遗产正遭受空气污染的损害，峨眉山、泰山、黄山、武夷山等，都处于酸雨和其他有害气体污染的包围之中。减少污染，不只是在保护我们自身，也是在保护中国的世界遗产。

86. 下列对乐山大佛相关描述符合文意的是（ ）
- A. 乐山大佛开凿于贞元十九年（803 年），历时约 90 年  
B. 保护乐山大佛的巨型建筑大像阁至今仍保存完好  
C. 保护乐山大佛的大像阁在宋元时期被毁  
D. 乐山大佛裸露在外的时间有 1215 年
87. 乐山大佛“花脸”的原因是（ ）
- A. 生物病害  
B. 酸雨侵害  
C. 温度过低  
D. 气候影响
88. 造成乐山大佛“闭眼流泪”的原因是（ ）
- A. 佛祖显灵  
B. 土壤侵害  
C. 酸雨腐蚀  
D. 生物病害
89. 作者认为合理保护大佛的方案是（ ）
- A. 定期进行修缮维护  
B. 控制大气污染物的排放  
C. 喷洒针对生物病害的药物  
D. 预防为主，“治疗”为辅
90. 最适合文段的标题是（ ）
- A. 乐山大佛为何会花脸流泪  
B. 乐山大佛成为旅游胜地  
C. 乐山大佛得到有效修缮  
D. 保护中国的世界遗产

(二)



储能技术，被认为是新能源发展的“最后一公里”。所谓储能，是通过化学或物理方法将二次能源存储起来，实现能量的时间和空间转移。专家表示，之所以要发展储能，是因为储能满足了人们生产生活中对设备便携、移动的需求。当前我国新能源发展势头非常迅猛，按照规划，2050年风电和光伏的装机容量都将达到10亿千瓦。但与新能源发展相伴，弃风弃光现象非常严重。究其原因，是因为新能源发电具有不稳定性和间歇性，大规模开发和利用将使供需矛盾更加突出。从某种意义上说，储能技术应用的程度将决定新能源的发展水平。

储能技术的发展，关键是电池技术的进步。中科院电工所储能技术研究组组长陈永翀认为，“可再生能源+储能”是新能源发展的必然选择，而储能应用场景的复杂性决定了储能电池技术的多元化发展方向。“未来针对电力调峰储能的大容量电池和电力调频储能的大功率电池，还有待技术的创新突破。”陈永翀说，储能电池包括六大技术内涵，其中，电池材料是基础，但并不是储能电池技术研究的全部。

他建议，以后基础探索类项目可以偏重于新材料的研究，而技术工程类项目则应注重其它非材料技术方面的立项突破。“在已有商业及示范储能电站的经验基础上，围绕‘低成本、长寿命、高安全、易回收’的总体目标，发展各类容量型峰谷储能电池、功率型调频储能电池和能量型复合储能电池，与其它类型储能技术配合，支撑储能产业的快速发展。”在陈永翀看来，储能的春天已经到来，产业开始萌芽、开花，但从促进可再生能源消纳，到降低可再生能源利用成本，或者说从产业萌芽的春天到蓬勃发展的夏天，。

按照国家发改委、国家能源局等部门的统计，我国储能2025年将达到24千兆瓦，尚有几十倍的发展空间。但中国南方电网有限公司科技部副主任说，目前虽然储能有很多方向，但除了峰谷套利，其他都是政策性支持不足，靠自身生存非常困难。

91. 下列对储能技术表述不正确的一项是（ ）

- A. 储能技术是通过化学或物理方法将二次能源存储起来的技术
- B. 储能技术可以满足人们生产生活中对设备便携、移动的需求
- C. 储能技术发展是新能源发展的第一环节
- D. 储能技术发展可以实现能量的时间和空间转移

92. 文段中“弃风弃光”现象的原因是（ ）

- A. 因为储能满足了人们生产生活中对设备便携、移动的需求。
- B. 风电和光伏的装机容量过大
- C. 储能技术应用的程度过低
- D. 新能源发电的不稳定性和间歇性导致的

93. 下列说法符合文章内容的一项是 ( )

- A. 储能技术基础探索类应注重新材料的研究
- B. 储能技术工程类项目应注重其他材料的研究
- C. 我国储能技术的春天即将到来
- D. 我国储能现将达到 20 余千兆瓦

94. 下列成语最适合填在横线处的一项是 ( )

- A. 负重致远
- B. 全力以赴
- C. 任重道远
- D. 深谋远虑

95. 适合作文段标题的一项是 ( )

- A. 储能的发展现状
- B. 储能发展关键在电池技术的进步
- C. 储能的发展前景
- D. 储能发展需政策性支持

(三)

①中国当代文学作品的对外翻译近几年出现了一种现象,即针对不同语种国家发行的文学作品很多是“一作多译”,也就是一部作品被译成多国语言,几乎同步在世界多地出版发行。一方面,不同语种的译本密集出版,效率高、影响大,可以造成群帆竞渡、八方呼应之势,对中国当代文学在所在国和地区的规模传播效应大有裨益。但另一方面,短时间内密集出版同一作品的不同译本,也容易出现“高产却不高质”的现象,导致“虚假繁荣”。长此以往,可能会影响中国当代文学译本走出去的整体协调性,甚至在一定程度上损害中国文学的海外形象。

②目前,中国当代文学走出去还属于“贸易逆差”阶段,不宜简单地追求数量,需要从追求数量走向追求质量。业界和相关机构及人士要清醒地认识到这个转变的阶段性和特点,逐步推动这一转变的实现,而不能仅仅满足于单纯的数量增加。

③事实上,当中国当代作家的作品被翻译到海外市场,呈现在国外读者面前的就不仅仅是作家的作品,而是中国文学的名片,甚至是中国的名片。这要求中国当代文学作品走出去必须坚持质量优先原则,否则会与走出去的初衷\_\_\_\_\_ ,增加国外读者对中国文学和中华文化的误读。

④不同国家和地区的读者有着不同的文化背景,文学作品的不同译本在封面设计、插图等方面要呈现所在国的美学趣味,或对文学主题做进一步阐释,但不能放低导向、定位和质

量要求，为打开或开拓市场去迎合低级趣味，而应该在坚持正确方向的基础上，做到精致、典雅、温和、脱俗。

⑤有关方面对此应高度重视并主动作为。作为助力文学作品走出去的创作人、推动方，中国当代作家应充分负起主体责任，主动、自觉地承担起传播和弘扬中华文化的历史使命。作家对本人海外出版的译本的内容、插图、封面设计等要尽可能全面掌握和了解，做到心中有数，对海外出版社提出的图书市场营销策略也要进行综合评估与判断，不能为吸引眼球而降低对译本的质量要求。

⑥另外，为提高和优化中国当代文学作品在“一带一路”沿线国家、地区的传播质量与效果，可建立严格的文学作品走出去质量监管体系，设计并确定科学的审核制度，保证中国文学作品海外译本的质量和出版规范，同时针对不同国家的出版发行政策和法规作出系统规划和差别化设计，以便对海外出版方也能有约束力和参考价值，为“一带一路”沿线国家和地区读者提供反映真实中国与时代特征的优秀当代文学作品译本。

⑦\_\_\_\_\_，在关注译本销量的同时，更要确保译本走出去行进在“质量第一、内容为王”的道路上。这是中国当代文学作品在海外市场可持续发展的动力源泉，也是在中外文学交流中持久性获得国际价值的根基。

96. 下列说法与原文不符的一项是（ ）

- A. “一作多译”可能会影响中国文学的海外形象
- B. 中国当代文学走出去现属于“贸易逆差”阶段
- C. 中国当代作家需要肩负起弘扬中国文化的使命
- D. “一带一路”沿线国家非常喜爱中国文学作品

97. 对待不同国家和地区的读者，中国当代文学作品应该（ ）

- A. 放低质量要求，不断开拓市场
- B. 加大作品输出的数量
- C. 坚持正确方向，展现他国美学趣味
- D. 我国的就是最好的，不用考虑其他国家

98. 在第③段划横线部分填入最恰当的一项是（ ）

- A. 并行不悖
- B. 背道而驰
- C. 相提并论
- D. 并驾齐驱

99. 在第⑦段划横线部分填入最恰当的一项是（ ）

- A. 文化内核决定着译本的寿命

- B. 中国文学作品要不断扩大海外市场
- C. 当代作家要积极发挥自己的能动作用
- D. 相关部门要联合发力，共建“一带一路”文化区

100. 请给上述文章拟定一个合适的标题（ ）

- A. 对“一作多译”现象要辩证看待
- B. 当代文学作品走出去应质量优先
- C. 中国文学要坚持自己的主体地位
- D. 中国当代文学作品的影响力扩大

华图教育西藏分校