


记谱法知识必做 30 题 (3)

闫冰

1. ${}^{\#}e-{}^{\#}f$ 属于 ()。
 - A. 自然半音
 - B. 自然全音
 - C. 变化半音
 - D. 变化全音
2. 下列哪个音与其它三个音不是等音关系 ()。
 - A. B
 - B. ${}^{\times}A$ C. bC D. ${}^{bb}D$
3. F 的等音是 ()。
 - A. ${}^{bb}A$
 - B. ${}^{\times}E$ C. ${}^{bb}G$
 - D. ${}^{\times}D$
4. 五线谱高音谱表上加二线的音是 ()。
 - A. c
 - B. c^1 C. c^2 D. c^3
5. 表示将基本音级升高两个半音的记号是 ()。
 - A. #
 - B. b
 - C. x
 - D. bb

6.  这一装饰音记号的实际演奏效果是 ()。







- A.
- B.
- C.
- D.

7. 下列音乐记号中表示回音的是 ()。

- A. 
- B. 
- C. 
- D. 

8. 技法  的奏法是 ()。

- A. 
- B. 
- C. 
- D. 

9. 下列选项中  的正确奏法是 ()。

- A. 
- B. 



10. 下列记法与实际奏法对应正确的是 ()。



解析

1. A【解析】由相邻音级构成的半/全音称为“自然半/全音”；由同一音级或隔开一个及以上音级构成的半/全音称为“变化半/全音”。故选 A。
2. D【解析】 bD 的等音有 *B 。
3. C【解析】等音即音高相同、记法不同的两个音。A 选项的等音为 G；B 选项的等音为 *F ；C 选项的等音为 F；D 选项的等音为 E。故选 C。
4. D【解析】五线谱高音谱表上加二线的音是小字三组的 c 音，即 c^3 。故选 D。
5. C【解析】A 项#为升高半音；B 项 b 为降低半音；C 项 x 为升高两个半音；D 项 bb 为降低两个半音。故选 C。
6. D
7. C【解析】A 项为颤音记号；B 项为波音（也称为顺波音）记号；C 项为回音记号；D 项为逆波音记号。故选 C。
8. D
9. B【解析】AC 项为干扰项；D 项为逆回音的奏法。题干中正为回音的形式，回音是一种由四个音或五个音组成的旋律型，有顺回音和逆回音两种。题干中为顺回音。故选 B。
10. C

感谢有你，有你真好！