

# 2019 年内蒙古赤峰事业单位考前模拟题（一）

## 一、单选

1. 11 月 5 日 01 时 43 分，我国在西昌卫星发射中心用长征三号乙运载火箭，成功发射第（ ）颗北斗导航卫星，标志着北斗三号系统 3 颗倾斜地球同步轨道卫星全部发射完毕。

A. 48

B. 49

C. 50

D. 51

2. 11 月 5 日，第二届中国国际进口博览会开幕式在（ ）举行，习近平发表主旨演讲。

A. 北京

B. 上海

C. 天津

D. 深圳

3. 第二届中国国际进口博览会于 2019 年 11 月 5 日开幕。国家主席习近平出席开幕式并发表题为（ ）的主旨演讲。

A. 《开放合作 命运共存》

B. 《开放合作 开放共享》

C. 《开放合作 命运与共》

D. 《开放合作 共建命运共同体》

4. 2019 年 11 月 6 日，国家主席习近平在人民大会堂同法国总统（ ）会谈。

A. 纳克罗

B. 马克乐

C. 马克龙

D. 马卡龙

5. 《中共中央国务院关于支持深圳建设中国特色社会主义先行示范区的意见》对深圳的定位不包括（ ）

A. 高质量发展高地

B. 法治城市示范

C. 城市文明典范

D. 开放发展的排头兵

6. 国务院新闻办公室 8 月 16 日发表的《新疆的职业技能教育培训工作》白皮书指出，（ ）是中国反恐、去极端化斗争的主战场。

A. 西藏

B. 青海

C. 新疆

D. 云南

7. 国务院办公厅日前印发《关于进一步激发文化和旅游消费潜力的意见》指出，到 2022 年，（ ）全面实行门票预约制度。

A. 全国所有景区

B. 5A 级国有景区

C. 4A 级以上景区

D. 全国重点文物保护单位

8. 第二届中国马文化节暨首届内蒙古国际马文化博览会 8 月 18 日在（ ）市开幕。

据了解，本次博览会集中活动为期 8 天，将举办赛事活动、展览展示等 8 大类 41 项活动。

A. 包头

B. 呼和浩特市

C. 赤峰

D. 阿拉善

9. 知廉明耻，是做人最基本的道德规范。“盖不廉则无所不取，不耻则无所不为”，这句古语蕴含的哲理是（ ）

A. 有什么样的世界观就有什么样的方法论

B. 联系是普遍的和无条件的

C. 先知后行重在知

D. 有什么样的社会存在就有什么样的社会意识

10. “春风不识兴亡意，草色年年满故城”这句话体现的哲学道理是（ ）

A. 物质是运动的，物质的运动具有客观性

B. 内因是变化的根源，外因是变化的条件，外因通过内因起作用

C. 世界上的所有事物都处在运动变化中

D. 必然性产生于事物内部的根本矛盾和本质性原因

11. 毛泽东对“实事求是”这句话作了科学解释的著作是（ ）

A. 《改造我们的学习》

B. 《论联合政府》

C. 《关于领导方法的若干问题》

D. 《论人民民主专政》

12. “文以载道”是中国文学的优秀传统，中国古代的诗词往往反映着当时的一些重大历史事件和历史现象。“文以载道”体现了（ ）

A. 物质决定意识

B. 意识能够正确反映客观事物

C. 意识是人脑特有的功能

D. 意识对社会发展具有反作用

13. 毛泽东对于民族资产阶级的两面性和利用地主买办阶级的可能性问题进行精辟分析的文章是（ ）

A. 《一二九运动的伟大意义》

B. 《论反对日本帝国主义的策略》

C. 《中国共产党在抗日时期的任务》

D. 《为争取千百万群众进入抗日民族统一战线而斗争》

14. 中国共产党的历史上有过两次重大的理论创新的飞跃，产生了两个重大的理论创新成果。第一次伟大的飞跃是中国共产党把马克思主义和中国当时的实践相结合，产生了指导中国革命走向胜利的理论创新成果——毛泽东思想。第一次伟大的飞跃发生在（ ）

A. 中国革命战争时期 B. 中国抗日战争时期

C. 中国解放战争时期 D. 北伐战争时期

15. 法律格言说：“法律不能使人人平等，但在法律面前人人是平等的。”关于该法律格言，下列哪一说法是正确的？（ ）

A. 每个人在法律面前事实上是平等的

B. 在任何时代和社会，法律面前人人平等都是一项基本法律原则

C. 法律可以解决现实中的一切不平等问题

D. 法律面前人人平等原则并不禁止在立法上作出合理区别的规定

16. 下列选项导致法律关系变更的是（ ）

A. 乙公司将债权转让给丙公司

B. 杨某窃得赵某手机

C. 甲公司履行买卖合同

D. 汤某因车祸死亡

17. 关于宪法效力的说法，下列选项正确的是（ ）

A. 宪法效力具有强制性

B. 宪法修正案的效力低于宪法

C. 宪法效力主要表现为对公民的行为约束上

D. 我国宪法不适用于定居在国外的中国公民

18. 我国的根本政治制度是（ ）

A. 民主集中制

B. 人民民主专政制度

C. 人民代表大会制度

D. 社会主义制度

19. 甲市 A 区工商行政管理机关对违规经营的某网吧进行了查封。关于本案中的查封，下列说法正确的是（ ）

A. 应在 3 日内向当事人交付查封决定书

B. 查封期限一般不得超过 30 日

C. 因查封发生的保管费用由当事人承担

D. 该工商行政管理机关不得委托第三人保管该网吧

20. 除法律、行政法规另有规定外，对于有数量限制的行政许可，两个或者两个以上申请人的申请均符合法定条件、标准的，行政机关作出准予行政许可的决定应当根据（ ）

A. 受理行政许可申请的先后顺序

B. 申请行政许可的先后顺序

C. 专家评审委员会的意见

D. 缴纳费用的多少

21. 李某因为缴纳税款数额的问题和税务机关发生争议，依据我国《行政复议法》和《行政诉讼法》的规定，李某可以寻求的解决途径是（ ）

A. 应该先进行行政复议，对复议结果不服才能提出行政诉讼

B. 只能选择行政复议，不可以提出行政诉讼

C. 只能提出行政诉讼，不可以选择行政复议

D. 选择行政复议后，不可以再提出行政诉讼

22. “以你所需换我所求”，秉承这个理念，时下换物网站日渐火爆起来，正为时尚白领所追捧。换物网站直接催生了“换客”这一群体，他们遵循“需求决定价值”的理念，在互联网上交换物品，并享受着交换乐趣。对此，以下说法正确的是（ ）

- ① “换客”交易方式属于商品交换
- ② “换客”交易方式属于商品流通
- ③ “需求决定价值”的理念说明消费需求决定商品的价值
- ④ “需求决定价值”的理念说明商品的使用价值影响其价值的实现

A. ①② B. ②③

C. ①④ D. ②④

23. 影响居民消费最重要的因素是（ ）

A. 当前可支配收入 B. 家庭财产

C. 价格水平 D. 利率

24. 税收是国家为实现其职能，凭借政治权力，依法无偿取得财政收入的基本形式。下列关于税收的说法不正确的是（ ）

A. 税收是组织财政收入的基本形式

B. 税收是国家实现经济监督的重要手段

C. 税收具有强制性、无偿性、广泛性三个基本特征

D. 税收是调节经济的重要杠杆

25. 假设同一时期，生产同样一件衣服，甲耗费了2小时，乙耗费了3小时，丙耗费了4小时。下列说法正确的是（ ）

A. 甲生产的衣服价值量最大 B. 乙生产的衣服价值量最大

C. 丙生产的衣服价值量最大 D. 三人生产的衣服价值量一样大

26. 在影响劳动力供给的诸多因素中，最为主要的因素是（ ）

A. 市场工资率 B. 非劳动收入

C. 家庭性因素 D. 个人偏好

27. 下列各组物品可称为替代品的是（ ）

A. 乒乓球和乒乓球拍 B. 长途汽车和火车

C. 大床和棉被 D. 台灯和灯泡

28. 边际效用递减意味着，随着对一种商品消费数量的增加，（ ）

A. 商品价格越来越高

B. 无差异曲线向右下方倾斜

C. 预算约束线的斜率越来越小

D. 消费者为增加一单位该商品支付的意愿减少

29. 个人收入主要包括两部分：一是劳动者报酬；二是非劳动收入。下列选项中属于劳动者报酬范畴的是（ ）

A. 股票利益 B. 房地产收入

C. 知识产权所得 D. 单位支付的五险一金

30. 多吃水果有利于人体健康。关于水果，下列说法错误的是（ ）

A. 陈皮有理气调中、燥湿化痰的功效，可以泡水饮用，但是鲜橘皮则不适合

B. 香蕉除了作为鲜果供食用外，还可以用于生产抗生素

C. 用西瓜果肉制成的“西瓜霜”，可治疗口舌生疮、咽喉肿痛等病症

D. 梨含有粗纤维、钙、磷、铁等矿物质和多种维生素，具有降低血压、养阴清热的功效

31. 下列生活常识的说法不正确的是（ ）

A. 毛巾用久了会变硬，是因为毛巾上有水垢沉积

B. 醉酒后，可以喝蜂蜜水解酒

C. 男子剃须时，不可以用牙膏代替肥皂

D. 面包与饼干不宜一起存放

32. 汉高祖刘邦曾问群臣：“吾何以得天下？”群臣回答皆不得要领。刘邦遂说：“我之所以有今天，得力于三个人。”这三个人被称为“汉初三杰”。下列属于“汉初三杰”的是（ ）

①卫青②韩信③张良④萧何⑤陈平⑥李广

A. ②③⑤ B. ③⑤⑥

C. ①④⑤ D. ②③④

33. 公元 200 年，曹操以少量兵力打败袁绍十多万的大军，这一经典战役是（ ）

A. 淝水之战 B. 官渡之战

C. 巨鹿之战 D. 赤壁之战

34. 标志着中国开始沦为半殖民地半封建社会的条约是（ ）

A. 《南京条约》 B. 《马关条约》

C. 《北京条约》 D. 《辛丑条约》

35. 下列关于春秋战国时期的历史常识的说法，正确的是（ ）

- A. 春秋战国时期又称西周时期
- B. 战国得名《战国策》，该书是一本编年体史书
- C. “春秋五霸”中，齐国的霸主是齐桓公重耳
- D. 春秋战国时期出现了“士”这一新的社会阶层

36. 下列历史事件中，最接近“朱门酒肉臭，路有冻死骨”所描述的时期的是（ ）

- A. 玄武门之变
- B. 永贞革新
- C. 安史之乱
- D. 黄巢起义

37. 下列有关中国古代天文历法说法错误的是（ ）

- A. 《尚书》记载了公元前 2137 年的一次日食，为人类最早的日食记录
- B. 商代甲骨文已经记载了日食、月食、并且出现了原始历法-----阴阳历
- C. 春秋战国之际，二十八宿体系已经建立
- D. 汉武帝时编制第一部完整历书-----《太阳历》

38. “态生两靥之愁，娇袭一身之病”描写的是（ ）

- A. 贾探春
- B. 薛宝钗
- C. 贾惜春
- D. 林黛玉

39. 唐代诗歌在我国古代文学史上占有重要地位。下列关于唐代诗人及其作品的对应，错误的是（ ）

- A. 杜甫----《茅屋为秋风所破歌》
- B. 刘禹锡----《酬乐天扬州初逢席上见赠》
- C. 王维----《过故人庄》
- D. 李白----《行路难》

40. “难关漫道真如铁，而今迈步从头越”中的“雄关”指的是（ ）

- A. 阳关
- B. 嘉峪关
- C. 娄山关
- D. 山海关

41. 当代著名作家王小波曾对一作品评价：“它讲了一个老渔夫的故事，但是在这个故事里却揭示了人类共同的命运。”王小波所说的作品及该作品的作家是（ ）

- A. 《渔夫和金鱼的故事》普希金
- B. 《我的叔叔于勒》莫泊桑

C. 《高老头》巴尔扎克

D. 《老人与海》海明威

42. 霜降是我国二十四节气之一，表示露水凝结成霜。下列关于霜降的说法正确的是：  
( )

A. “霜降”是冬季的第一个节气，有天气渐冷，初霜出现的意思

B. “霜降”养生首先要防秋燥，其次要重视保暖，运动量可适当减少

C. 在气象学上，一般把秋季出现的最后一次霜称为“晚霜”或“终霜”

D. 每年 10 月 23 日前后，太阳到达黄经 210 度时为霜降

43. 书法家怀素以擅长 ( ) 而闻名。

A. 行楷          B. 隶书          C. 狂草          D. 楷书

44. 中国四大名楼中不是位于长江以南的是 ( )

A. 岳阳楼          B. 鹳雀楼          C. 滕王阁          D. 黄鹤楼

45. ( ) 的耕地面积约占全国的 40%，而水资源只占全国的 6%左右。

A. 东北平原          B. 华北平原          C. 长江中下游          D. 关中平原

46. 中国大陆的东部与南部濒临四海，海域总面积 473 万平方千米。其中属于中国的内海的是 ( )

A. 黄海          B. 渤海          C. 东海          D. 南海

47. 中国申报的“二十四节气”列入联合国教科文组织人类非物质文化遗产代表作名录，以下关于二十四节气描述错误的是 ( )

A. 中国人将太阳周年运动轨迹划分为 24 等份，每一等份为一个“节气”

B. “二十四节气”形成于中国黄河流域

C. 中国人通过观察太阳周年运动而形成的时间知识体系及其实践

D. 二十四节气对于指导现代农业发展具有重要作用

48. 台湾自古就是我国领土，古称“琉球”“夷洲”，三国时孙权就曾派人开发，下列定义错误的是 ( )

A. 日月潭是台湾最大的天然湖泊，位于南投县，又称龙湖，以山水之胜闻名遐迩

B. 明末，台湾落入荷兰殖民者手中，后被民族英雄郑成功收复

C. 台湾正式建立行省实在中法战争之后，第一任巡抚是刘永福

D. 《开罗宣言》中明确规定，日本侵占的包括台湾在内的中国领土必须归还中国



49. 位于美国西南部山区的拉什莫尔国家纪念馆，由美国历史上四位功勋卓越的总统的头像组成。他们分别是（ ），代表着美国业绩的四大象征：创建国家、政治哲学、捍卫独立和扩张与保守。

- A. 华盛顿、奥巴马、尼克松、林肯    B. 华盛顿、罗斯福、林肯、特朗普  
C. 华盛顿、杰弗逊、罗斯福、林肯    D. 华盛顿、布什、罗斯福、亚当斯

50. “上联：八百里洞庭凭岳阳壮阔；下联：两千年赤壁览黄河风流”这一对联表示的省区分别是（ ）

- A. 江西 四川  
B. 湖南 四川  
C. 江西 湖北  
D. 湖南 湖北

51. 关于洋流，下列说法错误的是：（ ）

- A. 寒流对所流经的海岸有降温增湿的作用  
B. 从低纬度流向高纬度的洋流是暖流  
C. 寒暖流交汇是形成大型渔场的重要条件  
D. 洋流有助于海水净化，也会扩大污染范围

52. 我国面积最大，跨纬度最广，邻国最多的省级行政单位是（ ）

- A. 西藏自治区  
B. 新疆维吾尔自治区  
C. 内蒙古自治区  
D. 云南省

53. 下列食物同时食用不会相克的是（ ）

- A. 牛肉与栗子    B. 羊肉与萝卜  
C. 螃蟹与柿子    D. 兔肉与鸡蛋

54. 下列有关物质用途的叙述中，不正确的是（ ）

- A. 食盐作为一种调味品，有“百味之王”之称  
B. 氧气用于急救病人，吸氧也有助于美容养颜  
C. 氢氧化钠具有潮解性，可用于泡发鱿鱼等水产品  
D. 碳酸氢钠常被用作发酵剂和膨松剂

55. 牛奶是我们生活中最为常见的一种营养饮品，因含丰富的营养成分，而广为大众喜爱。下列关于牛奶的说法不正确的是（ ）

- A. 刚挤出的牛奶最好马上饮用
- B. 喝牛奶时不要食用酸酸的橘子
- C. 牛奶有降低胆固醇的功效
- D. 煮开的奶可去除衣服上的酒迹

56. USB 接口是计算机上的常用接口，其原意是（ ）

- A. 视频图形阵列
- B. 串行高级技术附件
- C. 电子集成驱动器
- D. 通用串行总线

57. 关于下列生活常识，说法正确的是（ ）

- A. 石油液化气里含有一氧化碳会使人中毒，因此使用时应注意通风
- B. 超市里卖的“美国大杏仁”是一种无毒的杏仁，可以放心吃
- C. 醋可以解酒，因此酒喝多的时候可以大量饮醋
- D. 烧水壶用久了会产生水垢，可以用食醋去除

58. 下列关于核酸的说法中不正确的是（ ）

- A. 核酸包括脱氧核糖核酸（DNA）和核糖核酸（RNA）两大类
- B. 核酸由 C、H、O、N 四种元素组成
- C. 绝大多数生物的遗传物质是 DNA
- D. 烟草花叶病毒、流感病毒、SARS 病毒的遗传物质是 RNA

59. 一个充满气的氢气球，把它放了，它将（ ）

- A. 一直向上升
- B. 升到一定高度后停止上升
- C. 一直升，最后爆炸
- D. 升到一定程度后下降

60. 下列关于生活中化学常识的表述中，正确的是（ ）

- A. 酸雨是大气污染的一种，它的主要成分是二氧化硫、二氧化碳
- B. 买来的铁丝，上面镀了一层“防腐”金属，此金属是铜
- C. 医院用“钡餐”造影法检查病人的胃，“钡餐”的主要物质是氯化钡
- D. 儿童患软骨病，是因为缺少钙元素

61. 下列各项中，说法不准确的是（ ）

- A. “人类非物质文化遗产代表作名录”中包括中医针灸
- B. 血液的四种组成成分中，血小板的主要作用是凝血和止血

- 
- C. 小肠是消化管中最长的部分，也是主要的吸收器官
- D. 若误服强酸弱碱性化学液体，则应立即给予患者清水及催吐急救
62. 人在发高烧时，食欲不振，其主要原因是（ ）
- A. 人发高烧时，胃不运动
- B. 胃中食糜不易排空
- C. 吃进的食物没有消化
- D. 体温较高，酶的催化作用较差
63. 激光打印机在运行过程中会电解空气中的氧气，产生有毒且有强氧化性的蓝色气体，它是（ ）
- A. 二氧化氮
- B. 一氧化碳
- C. 臭氧
- D. 氢气
64. 法定孳息是指根据法律的规定，由法律关系所产生的收益。以下案例中不属于法定孳息的是（ ）
- A. 甲出租房子所获得的租金
- B. 乙将现金存入银行所获得的存款利息
- C. 丙种的果树所结的果实
- D. 丁投资股票带来的升值
65. 下列属于法院准予离婚法定情形的是（ ）
- A. 夫妻因工作关系长期分居两地
- B. 夫妻感情已破裂，无修补完善的可能
- C. 夫妻结婚多年，一直未能圆公婆抱孙子的梦
- D. 夫妻已自行对财产做妥善处理
66. 甲欠乙 100 万元，乙欠丙 100 万元，如丙要求甲向自己支付 100 万元，根据我国合同法的规定，不需要的条件是（ ）
- A. 丙向法院起诉甲
- B. 甲对乙的欠款已经到还款期。
- C. 乙对丙的欠款已经到还款期。
- D. 乙的唯一财产是对甲的 100 万元债权

67. 某甲 6 岁，父母离异后由其母抚养。某日，某甲在幼儿园午餐时与小朋友某乙发生打斗，在场的带班教师某丙未及时制止。某甲将某乙推倒在地，造成某乙骨折，花去医疗费 4000 余元，对某乙的损失，下列说法错误的是（ ）

- A. 某甲之母应承担赔偿责任
- B. 如果某甲之母独立承担责任确有困难，某甲之父应承担赔偿责任
- C. 幼儿园应给予适当赔偿
- D. 某丙应承担连带赔偿责任

68. 下列表述错误的是（ ）

- A. 隧道里多用橙黄色灯光，因为橙黄色的光的波长比紫色、蓝色光的波长要长一些，也就照得更远
- B. 能源技术包括太阳能、风能、生物质能、潮汐、地热、水电、核电等新能源
- C. 铅笔上标注的“H”表示软度，“B”表示硬度
- D. 4G 是第四代移动通信及其技术的简称

69. 预警信号等级总体上分为 4 级，按照灾害的严重性和紧急程度，下列预警信号等级对应正确的是（ ）

- A. 绿色预警信号——严重
- B. 黄色预警信号——较重
- C. 蓝色预警信号——特别严重
- D. 橙色预警信号——一般

70. 公文标题中除法规，规章名称加书名号外，一般不用（ ）

- A. 逗号
- B. 引号
- C. 顿号
- D. 标点符号

71. 下列关于公文处理规定表述不正确的是（ ）

- A. 公文处理应当坚持实事求是、精简、实用的原则
- B. 各级行政机关的办公厅（室）是公文处理的管理机构
- C. 公文处理必须严格执行国家保密法律、法规和其他有关规定
- D. 公文处理指公文的办理、管理、整理（立卷）、归档等一系列相互关联，衔接有序的工作

72. 公文可根据行文方向分为不同的类别，向非同一组织系统的任何机关发送的公文属于（ ）

- A. 上行文
- B. 平行文
- C. 下行文

D. 泛行文

73. 以下注意事项为批办工作中特别强调的是 ( )

A. 认真研读公文, 弄清对方意图、问题的性质与实际情况

B. 不得越权批办公文

C. 批办公文的方式有多种, 如电话沟通、现场办公、面谈等

D. 要求加强协同, 努力协调各方面的关系

74. 公文各种作用是通过公文这个 ( ) 中的内容来实现的。

A. 载体

B. 规范

C. 记载

D. 纽带

75. 公文处理的基本原则不包括 ( )

A. 简化原则

B. 法制原则

C. 优先原则

D. 保密原则

76. 公文写作要正确用词, 其中要掌握一些特定词语, 这将大大提高公文的写作速度,

例如下列词语中的经办用语是 ( )

A. 根据 为了 目前

B. 当否 随着 为盼

C. 批转 拟请 妥否

D. 现将 责成 办理

77. 公文常用的表达方式之一是议论, 分为立论和驳论两种, 其中, 立论的基本方法有引证法、对比法、类比法、因果推论法和 ( )

A. 排比法

B. 对仗法

C. 例证法

D. 比喻法

78. 公文对于受文者, 在法定的时间和空间内具有强制性, 这是公文区别于其他文书的最大特点, 这个特点指的是 ( )

A. 具有传播知识性

B. 具有查备的价值性

C. 具有政治和政策性

D. 具有法定的权威性

79. 下列说法中符合实际的是 ( )

A. 受地磁场的作用, 静止的小磁针的 S 极总是指向地球的北方

B. 高层建筑物顶端装有避雷针

C. 行驶的汽车刹车时, 乘客会向后倾倒

D. 阳光下人们用近视眼镜取火

80. 人们的衣食住行蕴含着丰富的化学知识，下列说法错误的是（ ）

A. 暖宝宝是一种防寒用品，发热的原因是暖宝宝中的炭粉发生了缓慢氧化，进而放出热量

B. 米饭、苹果、蛋糕和馒头中，维生素含量最高的是苹果

C. 用食醋除去暖水瓶中污垢的过程会生成二氧化碳等新物质

D. 洛阳牡丹天下闻名，牡丹花可观赏，亦可食用，牡丹花中为人体提供的主要营养元素是维生素

81. 瓷器区别于陶器，是因为瓷器的主要原料是（ ）

A. 粘土      B. 高岭土      C. 稀土      D. 泥土

82. 下列关于生活常识的说法中错误的一项是（ ）

A. 暖水瓶的瓶胆，是由两层玻璃制成的，中间夹层里的空气被抽掉后，里面就形成了真空。由于真空不容易传热，里面盛的水就不容易变凉

B. 把馒头放笼屉上蒸，最下面的先熟

C. 夏天浇花，最好在清早或傍晚

D. 一个人如果长时期不吃盐，身体就会软弱无力，甚至生病

83. 用微波炉加热食物时不能用金属器皿盛装食物，是因为（ ）

A. 用金属器皿盛装食物加热食用后会使人金属中毒

B. 金属会反射微波

C. 金属器皿加热后会很烫

D. 用金属器皿盛装食物进行加热，食物容易糊

84. 下列关于生活中的常识应用不正确的是（ ）

A. 擦皮鞋时滴上醋可以使得皮鞋光亮持久

B. 鸡饲料中加入鸡蛋壳粉可使鸡不下软壳蛋

C. 用维生素 C 的溶液可以去除茶杯上的茶垢

D. 每天摄入大量不含盐分的水能使身体健康

85. 中医与京剧、国画并称为中国的三大国粹。以下有关中医的说法不正确的是（ ）

A. 东汉华佗采用“望闻问切”四诊法诊断疾病，后世尊为“脉学之宗”

B. 唐代孙思邈是中国乃至世界史上著名的医学家药物学家

C. 东汉张仲景的《伤寒杂病论》是中医临床的基本原则

D. 《黄帝内经》《难经》《伤寒杂病论》《神农本草经》并称医学四大经典著作

86. 下列生物知识正确的是 ( )

- A. 蜂鸟被称为“森林女神”“花冠”，红喉北蜂鸟是世界上已知的最小的鸟
- B. 蚯蚓是节肢动物，没有骨骼，雌雄同体，靠皮肤呼吸
- C. 鸵鸟是现存最大的鸟，也是世界上眼球最大的生物
- D. 鲸鱼是恒温动物，蓝鲸是地球上现存体型最大的动物

87. 2012年6月16日18时许，“神舟九号”飞船发射升空。下列有关其发射中心的描述，正确的一项是 ( )

- A. 该中心是我国三大载人航天发射场地之一
- B. 该中心所在省区享有“天府之国”的美誉
- C. 黄河支流汾河流经该中心所在市区
- D. 该中心所在省区是古“丝绸之路”的黄金路段

88. 下列不属于雾的形成条件的是 ( )

- A. 近地层的水汽较充足
- B. 空气中要有较多的凝结核
- C. 空气中的水汽要能够达到过饱和
- D. 空气中悬浮颗粒物的增加

89. 下列关于重力的说法不正确的是 ( )

- A. 重力等于地球对物体的引力
- B. 重力在物体上的作用点叫做重心
- C. 物体的各个部分都受重力的作用
- D. 质地均匀、外形规则的物体的重心，在它的几何中心上

90. 人造卫星有广泛的用途，以下不属于人造卫星的用途的是 ( )

- A. 调查资源，监测地球气候和污染
- B. 平衡地球自转，稳定地轴，控制潮汐
- C. 进行天文观测
- D. 转播广播、电视、数据通讯、电话等通讯讯号

91. 在下面一段话的空缺处依次填入词语，最恰当的一组是：

①从9月30日至10月3日，让人始料未及的楼市限购风潮，在全国各大城市间\_\_\_\_\_，9个地市先后发布楼市调控新政策，多地重启限购限贷。

②他因为家里开着茶社，从小就\_\_\_\_\_对茶艺颇有心得。

③家具市场产品\_\_\_\_\_的现象早已屡见不鲜，网购平台上售卖仿冒名品家具的卖家也越来越多，有关部门有必要展开一轮彻查严打的行动了。

A. 蔓延 耳熟能详 良莠不齐

B. 蔓延 耳濡目染 鱼目混珠

C. 蔓延 耳濡目染 鱼目混珠

D. 蔓延 耳熟能详 良莠不齐

92. 共产党执政就是领导和支持人民掌握管理国家的\_\_\_\_\_，实行民主选举、民主决策、民主管理和民主监督，保证人民依法享有广泛的\_\_\_\_\_和自由，尊重和保障人权。

A. 权力、权利

B. 权利、兴趣

C. 权利、义务

D. 权利、权力

93. 2018年12月18日，庆祝改革开放40周年大会在北京人民大会堂隆重举行。习近平总书记在大会上发表重要讲话。他强调，40年的实践充分证明，改革开放是党和人民大踏步赶上时代的重要法宝，是坚持和发展中国特色社会主义的必由之路，是决定当代中国命运的\_\_\_\_\_。

A. 重要步骤

B. 核心举措

C. 关键举措

D. 关键一招

94. 习近平总书记在全国生态环境保护大会上指出，生态文明建设正处于\_\_\_\_\_的关键期，已进入提供更多优质生态产品以满足人民日益增长的优美生态环境需要的攻坚期，也到了有条件有能力解决生态环境突出问题的窗口期。

A. 压力叠加、负重前行

B. 压力叠加、成效稳固

C. 压力叠加、根本转好

D. 充满机遇、负重前行

95. 欲知大道，必先知史。历史也是一位长者，在与它的对话切磋中，我们才能\_\_\_\_\_了思维，\_\_\_\_\_了思想，\_\_\_\_\_了精神，发现了新图景。

依次填入划横线部分最恰当的一项是：

A. 活跃 深邃 试炼

B. 活化 深化 锻炼



C. 活泼 深刻 锤炼

D. 活动 深入 炼化

96. 对比发现，不同于好莱坞制作团队中频频出现的科学顾问，我国影视制作团队中难觅科学顾问的身影。科学科幻电影是一种基于想象力的创作，最重要的基础是从科学出发与科学密切相关。科学内涵是科幻作品与神化、魔幻等作品最重要的差别，而国内科幻影视作品中的科学元素明显不足。在电影中，科学的价值不仅在于其中准确的科学知识，还在于制片人能否把科学作为一个创作手段，为作品增添精湛的视觉效果和扣人心弦的智力内容，从而增加影片可收获的潜在好评和票房，形成独特的良好口碑。这种口碑可以通过邀请科学顾问参与制作，并坚持科学真实性来实现。

下列说法中与原文内容不相符的是：

A. 我国影视制作团队中频频出现科学顾问的身影

B. 相对来说，我国科幻影视作品中的科学元素不是很充足

C. 科幻电影是一种建立在科学上的幻想性情景为背景的创作

D. 电影制作人能否把科学作为一个创作手段，为作品增添精湛的视觉效果和扣人心弦的智力内涵，对影片的票房产生一定影响

97. 好人主义以人情世故为第一选择，忘记了自己党员、党员领导干部的身份和所担职责，本质是个人主义、自由主义与实用主义、功利主义乃至有政治野心、个人政治仕途规划的复合体。以当“老好人”为乐事，把党性原则、立场、制度、纪律、规矩丢在一边，明知不对、视而不见、八面玲珑、遇事皆好，讲关系不讲原则，讲面子不讲规矩，讲人情不讲纪律，讲“人性”不讲党性，“好人”做了、“主义”丢了，为了成全自己，毁了党和人民的大业，危害极大。

这段文字主要说明：

A. 好人主义破坏党的集中统一，直接挑战党中央权威

B. 好人主义破坏党章、党纪、党规，直接挑战党的原则

C. 好人主义盛行的根源在于党性上弱化、思想上腐败

D. 好人主义完全等同于个人主义

98. 医生在进行 X 光拍片时，将能感光的底片放在人体下方。当 X 射线透过人体时，骨骼、牙齿等组织内含有的钙质会吸收部分的射线使到达底片的 X 射线减少，这样就能在底片上留下组织的影子了。这就像阳光下人的影子一样。人类第一幅 X 光片就是德国大科

学家伦琴为他夫人所拍的手骨特写。其实不光是骨骼，其他凡是能够吸收 X 射线的物体，都会在感光底片上留下身影。X 射线就是这样一种神奇的射线。

该段文字主要讲述的是：

- A. X 射线成像与物体吸收 X 射线密切相关
- B. X 射线只能用于医学人体成像
- C. X 射线可以透射任何物体并在感光底片上留下图像
- D. 物体都能够吸收 X 射线，只是程度不同

99. 社会发展到今天，学前教育的重要性应该被重新评估。一方面，专家研究认为，0 至 3 岁是大脑开发的最佳时期，3 至 6 岁是接受教育的最佳时期，一个人、一个群体教养、品格等的养成，应该从学前教育开始；另一方面，实施“全面二胎”政策，家庭照顾孩子的负担大大增加，甚至不堪重负，需要外部力量为其分忧。更重要的是经济社会发展到一定水平，公共财政有了更多民生投入的能力。相对于发达国家，我们的财政性教育经费占 GDP 的比重偏低，投入到学前教育的经费更是少之又少，这种尴尬现状急需改变。

这段文字强调的是：

- A. 目前，我国应进一步推动学前教育发展
- B. “全面二胎”政策增加了家庭的负担
- C. 我国学前教育的现状令人担忧
- D. 我国的学前教育的水平比发达国家低

100. ①上海海纳百川、兼容并蓄的特征也开始初露端倪

②历史上的上海，处于传统江南文化的边缘地位

③来自各地的商帮，如浙江的宁波帮、绍兴帮，湖南的洞庭商帮，广东潮州帮，福建泉州漳帮等活跃在上海

④从经济地理角度而言，上海距离素称“鱼米之乡”的苏杭尚有相当距离，在以农耕文明为主体的传统社会中自然不占突出位置

⑤在这样的历史条件下，作为政治、经济、文化三重边缘的上海，尚无法在以苏杭为代表的江南主流文化方面有什么建树

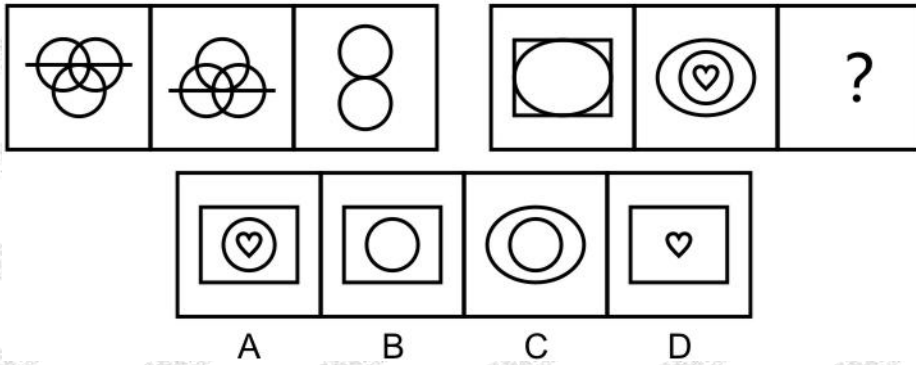
⑥虽然在文化上处于边缘地位，但由于优越的地理条件，上海在明清时期已经成为江南重要的商业市镇之一

将以上 6 个句子重新排列，语序正确的是：

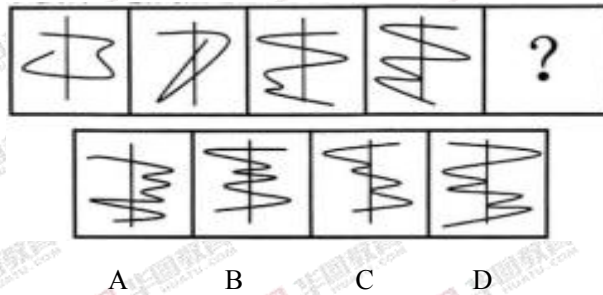
- A. ④②⑤⑥①③
- B. ①⑤④③②⑥

C. ⑥③②④⑤① D. ②④⑤⑥③①

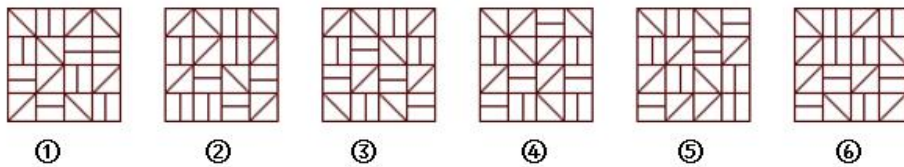
101. 从所给选项中，选择最适合的一个填入问号处，使之呈现一定的规律性：



102. 从所给的四个选项中，选择最合适的一个填入问号处，使之呈现一定的规律性：

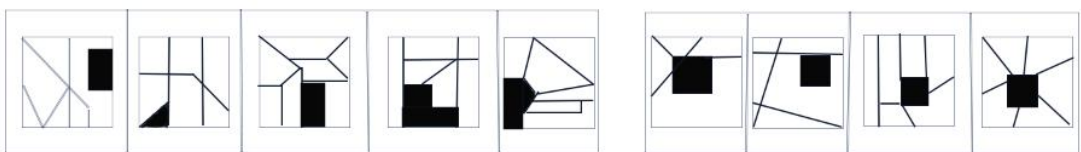


103. 把下面的六个图形分为两类，使每一类都有各自的共同特征或规律，分类正确的一项是：

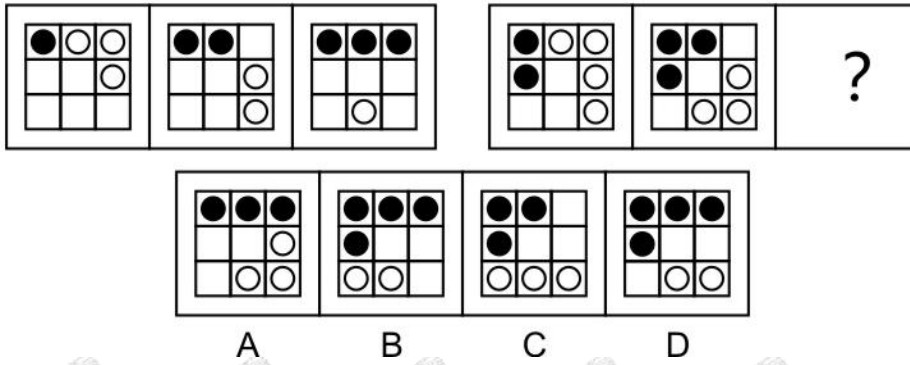


- A. ①③④，②⑤⑥
- B. ①③⑤，②④⑥
- C. ①②⑥，③④⑤
- D. ①④⑥，②③⑤

104. 从所给的四个选项中，选择最合适的一个填入问号处，使之呈现一定的规律性：



105. 从所给选项中，选择最适合的一个填入问号处，使之呈现一定的规律性：



106. 宋江：《水浒传》

A. 红娘：《白蛇传》

B. 姜子牙：《西游记》

C. 刘备：《三国演义》

D. 司马迁：《史记》

107. 作家：读者

A. 政府：官员

B. 窗户：玻璃

C. 江苏：园林

D. 售货员：顾客

108. 特仑苏：牛奶

A. 南瓜：瓜果

B. 海信：电视

C. 皮鞋：布鞋

D. 开水：热水

109. 地球：宇宙

A. 白云：大气

B. 树木：树枝

C. 桌椅：教室

D. 铅笔：钢笔

110. 计划经济：市场经济

A. 民主集中制：首长负责制

B. 社会主义：资本主义

- C. 宏观调控：自主经营
- D. 人民代表大会制度：议会制

111. 知觉恒常性，是指知觉系统能在一定范围内保持对客观事物的稳定的认识，而不随知觉的条件或感觉映像模式的改变而改变。

下列属于知觉恒常性的是：

A. 5岁的明明第一次坐飞机，在空中看到地面的人小得像蚂蚁，很是奇怪“人怎么变得那么小”

B. 同样的水，由大杯子倒进了小杯子，明明觉得水变多了

C. 明明坐车的时候，看到路两旁的树也在跑，感到很疑惑

D. 妈妈今天换了一身衣服，头发也染了颜色，但明明还是一眼就认出了妈妈

112. 偷税是指纳税人故意违反税收法规，采用欺骗、隐瞒等方式逃避纳税的违法行为。漏税是指纳税人因无意识发生的漏缴或少缴税款的违章行为。

根据上述定义，下列说法错误的是（ ）

A. 某饭店中午由于人多，老板来不及给客人提供发票，客人就自行离开，这属于漏税行为

B. 某明星将一部电影片酬合同通过拆分合同的方式少缴纳个人所得税618万元，这属于偷税行为

C. 某加油站经常以发票用完为借口，不给车主开发票，这属于偷税行为

D. 某服装店老板因外出未营业，于是就未到税务局缴纳税款，这属于漏税行为

113. 回避制度：是指与刑事案件有某种利害关系或其他特殊关系的司法工作人员，包括侦查人员、检察人员、审判人员、书记员、鉴定人、翻译人员等，不能参加该案件处理工作的一项诉讼制度。

在某一案件中，下列人员可以不回避的是：

A. 当事人妈妈，法院法医鉴定员

B. 当事人哥哥，负责法院同声翻译

C. 当事人的同学，邮递员，住在法院隔壁

D. 当事人的父亲，该县检察院副检察长，党组宣传委员

114. 文饰作用，是指人们在受挫折后会想出各种理由原谅自己或为自己的失败辩解的现象。

下列选项中不属于文饰作用的是：

- 
- A. 戈尔竞选美国总统失败后，抱怨美国司法制度不公正
  - B. 小张没评上先进分子，他认为是自己与当评委的领导关系不好
  - C. 小李生意失败，股票下跌，就吃安眠药自杀了
  - D. 老师说漏嘴了，便解释说自己路上太匆忙，打乱了思路

115. 后喻时代，指的是在当今高科技时代的某种条件下，晚辈(或学生)由于掌握了一定的新知识新技能，给先辈(或教师)传授知识和培养能力的时代。文化反哺是后喻时代的最基本特征。根据上述定义，下列不属于后喻时代表现的是：

- A. 学校引进了全新的多媒体技术，张老师没用过，班长小华非常热心地演示了一遍，张老师就学会了
- B. 梅梅在幼儿园学会了 50 种动物的英文说法，英语专业出身的妈妈有很多都不知道，梅梅得意地教妈妈怎么读写
- C. 韦斯是一名出色的脑科医生，从医十多年了，不过最近他碰到了一个非常棘手的手术，为了保证手术成功，他邀请了大学的博士生导师前来指导
- D. 建辉去日本留学期间，学到了一种新的基因技术，学成之后，他迫不及待地回国跟身为生物学院士的爷爷分享

116. 电视剧的创作，与经济体制、文化政策、民众需求等有着直接而紧密的关联。在社会转型的不同阶段，各种文化力量的共存与角力也激发出不同的文化景观，社会主导思潮和核心价值发生巨大变化，民众普遍的文化心态，审美心理，精神需求等也体现出不同的倾向。

由此可推知：

- A. 电视剧作品适应国家、市场等意识形态建构的需要
- B. 电视剧在当代社会发挥着巨大的价值导向作用
- C. 电视剧创作实现了对社会变迁的一种影像记录
- D. 电视剧的影响力超过了其他众多媒介艺术形式

117. 寻求带有普遍性的伦理法则是一个全球性的法理学课题。在我国，寻求于儒学者、借助于西学者、倾心于宗教者皆引经据典。而我们认为，解决这个问题必须着眼于宪法和法律。（ ）哪项为真最有可能支持以上结论。

- A. 重视精神文明建设，是中国自古以来的一大优良传统
- B. 宪法和法律集中体现了人民的根本意志和价值观念，具有权威性、普遍性、科学性等特点

C. 近十年中国经济的腾飞是依赖于社会物质财富有效的积累

D. 儒家学说既包含我国古老文化的优良传统，也有一些不适应时代的封建糟粕

118. 有学者认为：国家应当制定政策，用立法的方式规定成年子女陪伴年老父母的时间下限，这样可以减轻老年人的孤独感和寂寞感。因此，这样的法律也就能够使家庭幸福。

下列哪一项为真，最能够加强上述的推论：

A. 子女有义务供养年老父母的物质生活，这是社会对每一个公民的起码要求

B. 大部分的成年子女平常都能够与父母经常地在一起生活

C. 这项政策的目标是减轻老年人的孤独感和寂寞感

D. 精神赡养缺失是家庭幸福很大的障碍

119. 2015 年发生了自 1998 以来最强的厄尔尼诺气候事件，导致明显的气候异常。2015 年四季，我国北方地区温度明显偏高，空气污染扩散条件不利，空气污染状况加重，重污染过程频发，2016 年厄尔尼诺切换为拉尼娜状况，但仍延续了气候异常状况的影响。因此：

A. 2015、2016 两年，不利气象条件是北方地区重污染过程的主要原因之一

B. 重污染天气还将会持续较长一段时间

C. 单个城市采取应对措施难以达到治污控霾的效果

D. 冬季污染越高，空气污染发生的可能性越大

120. 通过对危地马拉寺的横梁进行再分析，1960 年曾对其进行首次放射性碳测定，科学家认为他显示了玛雅文明在一千年前坍塌，因为他们无法很好的适应气候变化。由此，科学家认为玛雅文明毁灭的真正原因是气候的变化。

下面哪句话最不利于上述论断？

A. 玛雅文明长时间处于雨季

B. 危地马拉寺不能代表整个玛雅文明

C. 除了碳元素法以外，科学家没有采用其他研究方法进行佐证

D. 历史上记载的气候变化所用的历法时间与现在的历法时间无法匹配

121. 在一次猜谜游戏中，共有 80 道谜题，每题猜对可得 1.25 分，猜错要扣 1.25 分。

某人连续猜完了所有谜题，最后得了 80 分，则他共猜对（ ）题。

A. 68

B. 70

C. 72

D. 74

122. 某公园招了 10 个人修围墙，修建 1000 米用了 10 天，修完后有 2 个工人因病停工，若保持工人效率不变，则剩下的工人再修建 2000 米的城墙还需要（ ）天。

- A. 20
- B. 25
- C. 30
- D. 40

123. 已知甲和乙拥有的书本数之比为 5:4，丙和丁拥有的书本数之比为 25:9，甲和丁拥有书本数之比为 10:3，若丙拥有的书本数是 50，那么甲拥有的书本数是（ ）

- A. 28
- B. 33
- C. 42
- D. 60

124. 妈妈要把 11.2 升的油分别装入 0.5 升和 0.8 升的瓶子中，已知每个瓶子全部装满共用了 17 个瓶子，那么其中 0.8 升的瓶子有（ ）个

- A. 8
- B. 9
- C. 10
- D. 11

125. 已知李明、李磊、李均、李斌四人具有血亲关系：李磊是李明的儿子，李均是李明的弟弟，李明是李斌的父亲，则李明、李磊、李均、李斌四人中年龄最大的是（ ）

- A. 李明
- B. 李磊
- C. 李均
- D. 李斌

126. 一个三位数，它的百位上的数字是个位上的数字的 3 倍，十位上的数字等于个位数字和百位上的数字之和，则这个三位数可能是（ ）

- A. 175
- B. 341
- C. 351
- D. 642



127. 小明要按顺序完成 30 道数学题，这些数学题先易后难，他每小时完成的题数是上一个小时完成题数的一半，最后他在第四小时做完了所有的题，那么他在第一小时完成了（ ）道题。

A. 20

B. 16

C. 12

D. 8

128. 陈某借了李某 3 万元，并承诺按照 5% 的月利率给予李某利息，假如陈某借了这笔钱 4 个月，那李某最终会拿到（ ）元。

A. 31000

B. 33000

C. 34000

D. 36000

129. 某部门开展技能比拼大赛，甲、乙两人一组，共加工了 170 个零件。比赛结束后经统计发现，甲加工零件个数的  $\frac{1}{3}$  比乙加工零件个数的  $\frac{1}{4}$  还多 10 个，则乙在比赛中加工了（ ）个零件。

A. 80

B. 85

C. 90

D. 95

130. 十年前，小明的爷爷 60 岁的时候，正好是小明当时年龄的 10 倍，小明在爸爸 25 岁的时候出生，则爸爸现在的年龄是（ ）岁。

A. 40

B. 41

C. 45

D. 48

#### 一、根据所给资料，回答下列问题

2018 年 1-11 月，广东规模以上工业企业累计完成增加值 28994.65 亿元，同比增长 6.2%。

1-11 月，全省规模以上国有控股企业累计完成增加值 5162.03 亿元，同比增长 8.1%，

增幅高于 1-10 月 0.2 个百分点，高于全省规模以上工业平均水平 1.9 个百分点，对全省规模以上工业增加值增速的贡献率为 22.4%，比 1-10 月提高 0.2 个百分点，拉动全省规模以上工业增长 1.4 个百分点，与 1-10 月持平；规模以上民营工业企业累计完成增加值 14459.59 亿元，增长 8.9%，增幅低于 1-10 月 0.1 个百分点，高于全省规模以上工业平均水平 2.7 个百分点，对全省规模以上工业增长的贡献率为 69.8%，拉动全省规模以上工业增长 4.3 个百分点；规模以上外商及港澳台商投资企业累计完成增加值 10761.31 亿元，增长 1.8%，增幅与 1-10 月持平，低于全省规模以上工业平均水平 4.4 个百分点。

1-11 月，全省规模以上制造业累计完成增加值 26324.75 亿元，同比增长 6.2%，增幅比 1-10 月提高 0.1 个百分点。三大支柱行业累计增速均比 1-10 月有所提高，其中：计算机、通信和其他电子设备制造业增长 10.2%，增幅比 1-10 月提高 0.1 个百分点；电气机械和器材制造业增长 6.7%，增幅比 1-10 月提高 0.2 个百分点；汽车制造业增长 8.7%，增幅比 1-10 月提高 0.1 个百分点。三大行业合计对全省规模以上工业增长的贡献率 61.1%，比 1-10 月提高 0.7 个百分点，合计拉动全省规模以上工业增长 3.8 个百分点，比 1-10 月累计提高 0.1 个百分点。

1-11 月，全省规模以上工业企业实现出口交货值 32172.95 亿元，同比增长 8.3%，增幅比 1-10 月提高 0.2 个百分点。

131. 2017 年 1-11 月，广东规模以上工业企业累计完成增加值约（ ）亿元。

A. 27301.93

B. 26301.25

C. 22095.33

D. 20105.41

132. 2018 年 1-10 月，全省规模以上国有控股企业累计完成增加值的同比增速为（ ）

A. 6.3%

B. 7.3%

C. 7.9%

D. 8.9%

133. 2018 年 1-11 月，规模以上民营工业企业累计完成增加值比规模以上外商及港澳台商投资企业（ ）

A. 多 2798.62 亿元

B. 少 2798.62 亿元

C. 多 3698.28 亿元

D. 少 3698.28 亿元

134. 2018 年 1-10 月，三大支柱产业增速最快的行业比最慢的行业高（ ）个百分点

A. 2.6

B. 2.1

C. 3.5

D. 3.6

135. 根据材料，下列相关说法不正确的是（ ）

A. 与上年相比，2018 年 1-11 月全省规模以上国有控股企业累计完成增加值占全省规模以上工业增加值的比重有所上升

B. 2018 年 1-11 月，全省规模以上制造业累计完成增加值的同比增量多于全省规模以上工业企业

C. 2017 年 1-11 月，全省规模以上工业企业实现出口交货值约为 29707.25 亿元

D. 2018 年 1-10 月，规模以上民营工业企业累计完成增加值同比增速为 9%

## 二、根据所给资料，回答下列问题

根据国家统计局发布的相关数据显示，2018 年 1-10 月份，社会消费品零售总额 309834 亿元，同比增长 9.2%。其中，限额以上单位消费品零售额 117177 亿元，增长 6.6%。按经营单位所在地分，10 月份，城镇消费品零售额 30601 亿元，同比增长 8.4%；乡村消费品零售额 4934 亿元，增长 9.7%。1-10 月份，城镇消费品零售额 265318 亿元，同比增长 9.0%；乡村消费品零售额 44516 亿元，增长 10.3%。

按消费类型分，10 月份，餐饮收入 4006 亿元，同比增长 8.8%；商品零售 31528 亿元，增长 8.5%。1-10 月份，餐饮收入 33769 亿元，同比增长 9.6%；商品零售 276064 亿元，增长 9.1%。

在商品零售中，10 月份，限额以上单位商品零售 11630 亿元，同比增长 3.6%。1-10 月份，限额以上单位商品零售 109637 亿元，同比增长 6.6%。2018 年 1-10 月份，全国网上零售额 70539 亿元，同比增长 25.5%。其中，实物商品网上零售额 54141 亿元，增长 26.7%，占社会消费品零售总额的比重为 17.5%；在实物商品网上零售额中，吃、穿和用类商品分别增长 36.1%、22.5%和 27.2%。

136. 2017 年 1-10 月份，我国社会消费品零售总额约为（ ）亿元。

A. 277578.8

B. 28145.3

C. 283730.8

D. 290211.3

137. 2018 年 10 月份，我国商品零售较餐饮收入（ ）亿元。

A. 多 27522

B. 少 27522

C. 多 27532

D. 少 27532

138. 2018 年 10 月份限额以上单位商品零售额约占同年 1-10 月份限额以上单位商品零售总额的（ ）

A. 6.1%

B. 7.2%

C. 8.5%

D. 10.6%

139. 2018 年 1-10 月份，我国城镇消费品零售额约为乡村消费品零售额的（ ）倍。

A. 4

B. 5

C. 6

D. 7

140. 根据材料，下列相关说法中不正确的一项是（ ）

A. 2018 年 1-10 月份，限额以上单位消费品零售额的同比增长速度较社会消费品零售总额的同比增长速度慢

B. 2018 年 10 月份的城镇消费品零售额的同比增长速度较其 1-10 月的同比增长速度慢

C. 2017 年 1-10 月份，我国餐饮收入约为 32811 亿元

D. 2018 年 1-10 月份，在实物商品网上零售额中，吃、穿和用类商品均有不同程度的增长

## 二、多选题

141. 下列对党的实事求是思想路线的表述，正确的有（ ）

- A. 理论联系实际是党的思想路线的前提和基础
- B. 一切从实际出发是党的思想路线的根本途径和方法
- C. 实事求是党的思想路线的核心和实质
- D. 在实践中检验真理和发展真理

142. 习近平指出，党的十一届三中全会冲破长期“左”的错误的严重束缚，批评“两个凡是”的错误方针，充分肯定必须完整、准确地掌握毛泽东思想的科学体系，高度评价关于真理标准问题的讨论，果断结束“以阶级斗争为纲”，重新确立马克思主义的（ ）

- A. 思想路线
- B. 政治路线
- C. 群众路线
- D. 组织路线

143. 以下关于 2018 年度国家科学技术奖的变化，说法正确的是（ ）

- A. 国家最高科学技术奖奖金额度从 500 万/人调整为 800 万/人
- B. 首次设计制作了国家最高科学技术奖章
- C. 取消了单位提名的名额限制
- D. 奖金全部由获奖者与其所在科研单位共同支配

144. 下列故事中出自《三国演义》的有（ ）

- A. 桃园结义
- B. 三顾茅庐
- C. 暗渡陈仓
- D. 草木皆兵

145. 公文文稿签发前，应当由发文机关办公厅（室）进行审核，其审核的重点包括：（ ）

- A. 文种是否正确，格式是否规范
- B. 行文是否流畅，修辞手法是否恰当
- C. 行文理由是否充分，行文依据是否准确
- D. 内容是否符合国家法律法规和党的路线方针政策

146. 张某是无民事行为能力的精神病人，那么下列人员可以担其监护人的有（ ）

- A. 其妻子
- B. 其母

C. 其成年女儿

D. 其哥哥

147. 甲在上班期间受领导指派给另外一个机关报送材料，其驾驶的机动车不小心把行人乙撞伤，下列说法正确的有（ ）

A. 甲的行为构成侵权行为

B. 甲给乙造成的损害应当由甲自己负责赔偿

C. 甲给乙造成的损害应当由甲所在单位负责赔偿

D. 甲为构成违约责任

148. 南水北调工程是国家的战略性工程共有东线，中线和西线三条调水线路，通过三条调水线路，与长江、黄河、淮河和海河四大江河联系。构成以四横三纵为主体的总体布局，以利于实现中国水资源南水北调，东西互济的合理配置格局。其中中线工程涉及的省、直辖市有（ ）

A. 湖北

B. 湖南

C. 河南

D. 山东

149. 下列有关我国旅游景点的表述正确的是（ ）

A. 万里长城是世界上最长的防御城墙，始建于明朝

B. 桂林山水主要指广西桂林至阳朔的漓江两岸风景区

C. 杭州西湖有风景名胜 40 余处，著名的有“苏堤春晓”“柳浪闻莺”“平湖秋月”“三潭印月”“花港观鱼”等

D. 北京故宫原为明、清两代皇宫，是世界现存规模最大、保存最完整的宫殿建筑群

150. 下列关于文学常识的表述，正确的有（ ）

A. 《诗经》是我国第一部诗歌总集

B. “词”在唐朝最为繁荣昌盛

C. 《左传》相传是春秋时期的左丘明所著

D. “史家之绝唱，无韵之离骚”说的是《史记》

### 三、判断题

151. 党中央对坚决打赢脱贫攻坚战提出的目标是，确保到 2035 年我国基本实现社会主义现代化时，我国现行标准下农村贫困人口实现脱贫，贫困县全部摘帽。（ ）

152. 增强党自我净化能力，根本靠强化党的自我监督和群众监督。（ ）

- 
153. 中央要求在全国范围内，到 2020 年基本实现城乡基本公共服务均等化。( )
154. 社会主义和谐社会的核心价值是公平正义。( )
155. 激光技术在医学应用方面的主要优点是不出血或少出血，其作用区域小。( )
156. 高新技术也叫尖端技术，它体现了人类的智慧集中度，是当代人类社会的最新科学成就。( )
157. 不锈钢是合金，属于金属材料。( )
158. 在世界时区图中，我们将通过英国伦敦格林尼治天文台的经线定为标准经线。( )
159. 交通信号灯、汽车尾灯常用红色是因为红色在可见光中波长最短，且最不容易被散射。( )
160. 爱因斯坦预测了引力波的存在，但现实中引力波并未被人类探测到。( )