

2019 年内蒙赤峰事业单位线上模拟题（三）

1. 2019 年 9 月 11 日，习近平在人民大会堂同托卡耶夫总统举行会谈，两国元首一致决定，双方将本着同舟共济、合作共赢的精神，发展（ ）

- A. 中哈建设性合作伙伴关系
- B. 中哈全天候战略合作伙伴关系
- C. 中哈永久全面战略伙伴关系
- D. 中哈新时代全面战略协作伙伴关系

2. 第十一届全国少数民族传统体育运动会 2019 年 9 月 8 日在河南郑州隆重开幕。汪洋指出，要促进各民族像石榴籽一样紧紧抱在一起，共同捧起（ ）的“最高奖杯”。

- A. 民族发展
- B. 民族团结
- C. 民族平等
- D. 民族自强

3. 2019 年女排世界杯 9 月 29 日在日本落幕，中国女排以（ ）连胜的骄人成绩夺得了冠军，成功卫冕，为祖国和人民赢得了荣誉。

- A. 九
- B. 十
- C. 十一
- D. 十二

4. 以下不属于 2019 年国庆阅兵首次亮相的方队的是（ ）

- A. 联勤保障部队方队
- B. 武警部队方队
- C. 文职人员方队
- D. 战略支援部队方队

5. 2019 年 10 月 1 日晚，庆祝中华人民共和国成立 70 周年联欢活动在北京天安门广场盛大举行。联欢活动的气氛达到最高潮时，广场“烟花树”上呈现出一幅寓意“欣欣向荣”的（ ）图案。

- A. 孔雀
- B. 凤凰

C. 雄狮

D. 翔龙

6. 中国共产党人的初心和使命，就是为中国人民（ ），为中华民族（ ）。这个初心和使命是激励中国共产党人不断前进的根本动力。

A. 谋幸福 谋未来

B. 谋生活 谋复兴

C. 谋幸福 谋复兴

D. 谋生活 谋未来

7. 下列选项中，不属于我国生态文明建设基本方针的是（ ）。

A. 节约优先

B. 开发利用适度

C. 保护优先

D. 自然恢复为主

8. 全面建成小康社会、加快推进社会主义现代化建设、实现中华民族伟大复兴的必由之路是（ ）。

A. “一带一路”

B. 改革开放

C. 坚持四项基本原则

D. 中国特色社会主义

9. 社会主义法治的基本原则是（ ）。

A. 司法独立

B. 法律面前人人平等

C. 树立和维护法律权威

D. 严格依法办事

10. 在我国实施乡村振兴战略，最重要的是解决好（ ）的问题。

A. 农业、农村、农民

B. 农业、农村现代化

C. 农村土地“三权”分置

D. 新型农业经营主体相融合

11. 物质和意识有无同一性，即人们的思维能否认识现实世界，思维能不能正确反映存

在的问题。对这方面问题的不同回答，是哲学上划分（ ）的标准。

- A. 唯物主义与唯心主义
- B. 辩证法和形而上学
- C. 可知论与不可知论
- D. 世界观和方法论

12. 心里装着全体人民、唯独没有他自己。焦裕禄同志之所以被誉为县委书记的好榜样、共产党员的光辉典范，之所以深受人民群众爱戴，根本原因在于他视人民群众为衣食父母、诚心诚意当人民公仆。以上材料表明（ ）。

- A. 事物之间相互影响、相互制约
- B. 英雄人物在社会历史发展中起决定作用
- C. 人民群众是历史的创造者，要坚持群众观点和群众路线
- D. 内因是事物发展变化的根据

13. 新的历史时期，在中国共产党领导下走中国特色社会主义道路，实现中华民族伟大复兴，是（ ）最深刻的时代内涵和最本质的时代要求。

- A. 爱国主义
- B. 共产主义
- C. 国际主义
- D. 集体主义

14. “奢靡之始，危亡之渐”出自《新唐书》，为褚遂良向唐太宗的谏言，这句话体现的哲学道理是（ ）。

- ①现象是本质的外部表现
- ②主要矛盾和次要矛盾相互转化
- ③量变是质变的必要准备
- ④质变是量变的必然结果

- A. ①④
- B. ①③
- C. ③④
- D. ①②

15. 在科学社会主义理论中，社会主义由空想发展为科学是由于马克思恩格斯创立了（ ）。

- A. 阶级斗争和暴力革命理论
- B. 劳动价值论和唯物史观
- C. 剩余价值学说和无产阶级革命理论
- D. 剩余价值学说和唯物史观学说

16. 1953 年底，周恩来总理在接见印度代表团时提出了和平共处五项原则，和平共处五项原则是我国对外关系的（ ）。

- A. 基本立场
- B. 基本目标
- C. 基本准则
- D. 宗旨

17. 根据《宪法》的规定，决定特赦是（ ）的职责。

- A. 最高人民法院
- B. 最高人民检察院
- C. 全国人民代表大会
- D. 全国人民代表大会常务委员会

18. 现代世界各国宪法均将人身自由的保护放在重要位置，下列选项中不属于公民人身自由权的是（ ）。

- A. 集会自由
- B. 住宅安全权
- C. 人格尊严
- D. 通信自由

19. 王某和张某签订了一份合同，约定同时履行，王某在自己还没有履行的情况下，请求张某履行，张某予以拒绝，这时张某所行使的权利是（ ）。

- A. 请求权
- B. 绝对权
- C. 形成权
- D. 抗辩权

20. 甲、乙、丙三人在单位顶层露台饮酒，酒醉后一起将空酒瓶往楼下扔，恰好其中一个瓶子砸伤路人丁，但无法查明是谁扔的酒瓶。丁应向谁请求赔偿（ ）。

- A. 只能向甲请求赔偿

- B. 只能向乙请求赔偿
- C. 只能向丙请求赔偿
- D. 有权请求甲、乙、丙承担连带责任

21. 下列情形中，终结诉讼的是（ ）。

- A. 一方当事人丧失诉讼行为能力，尚未确定法定代理人的
- B. 被告死亡，有遗产，没有应当承担义务的人的
- C. 追索抚育费案件的一方当事人死亡的
- D. 建立收养关系案件的一方当事人死亡的

22. 甲在公共汽车上扒窃乙的钱包，得手后向车门处走去，乙发现自己的钱包被甲所盗，随即追上去一把抓住甲，甲一拳击中乙的脸部，挣脱欲逃走，乙即随手拿起车上的摇把向甲砸去，正好砸中甲的头部，致甲死亡。乙的行为是（ ）。

- A. 正当防卫
- B. 防卫过当，构成过失致人死亡罪
- C. 防卫过当，构成故意杀人罪
- D. 事后防卫，构成故意杀人罪

23. 甲将一套邮票卖给乙，丙也想买，遂威胁甲。甲只好将该套邮票卖给丙。丙的行为违反的民法基本原则是（ ）。

- A. 自愿原则
- B. 平等原则
- C. 公平原则
- D. 诚信原则

24. 结婚登记属于（ ）。

- A. 行政许可
- B. 行政确认
- C. 行政审查
- D. 行政复议

25. 下列有关剩余价值的说法，正确的是（ ）。

- A. 绝对剩余价值指通过延长劳动时间而生产出来的剩余价值
- B. 绝对剩余价值指缩短必要劳动时间，同时延长整体劳动时间而产生的剩余价值
- C. 相对剩余价值指在劳动时间不变的情况下，提高劳动效率从而获取的剩余价值

D. 相对剩余价值指在工作日长度不变的条件下，缩短必要劳动时间、相应延长剩余劳动时间而产生的剩余价值

26. 在社会主义市场经济条件下，作为宏观经济管理与调控的组织，政府的主要职能不包括（ ）。

- A. 经济调节与市场监管
- B. 社会管理和公共服务
- C. 解决市场失灵
- D. 管理国有资产

27. 近年来我国西部省区打破条块分割，不断加强经济协作与联合，在对外经济活动中取得整体优势，取得整体效益。下列选项不能表明题干含义的是（ ）。

- A. 集体利益的巩固和发展，有利于促进局部利益的发展
- B. 集体主义原则在一定程度上能调节市场经济中出现的矛盾
- C. 集体主义是无产阶级价值观的核心
- D. 发挥集体主义精神，有利于克服地方保护主义

28. 国家财政政策的内容和力度取决于（ ）。

- A. 国际的经济形势
- B. 国家的宏观经济形势
- C. 企业的发展状况
- D. 市场的供求变化

29. 行政管理的过程是由诸多环节构成的，其首要环节是（ ）。

- A. 行政监督
- B. 行政计划
- C. 行政沟通
- D. 行政决策

30. 行政主体在实施行政行为时具有（ ），不必与行政相对方协商或征得其同意，即可依法自主作出。

- A. 裁量性
- B. 强制性
- C. 法律性
- D. 单方意志性

31. 一户居民装修到晚上十一点多，噪音干扰邻居，引起人们的不满，这从反面启示，我们要（ ）。

- A. 公民应先履行义务，后享受权利
- B. 权利和义务都不能放弃
- C. 公民具有相同的权利和义务
- D. 要把行使权利和自觉履行义务结合起来

32. 根据我国《宪法》规定，由（ ）决定战争和和平问题。

- A. 国家中央军事委员会
- B. 国务院
- C. 全国人民代表大会常务委员会
- D. 全国人民代表大会

33. 民事主体在法律允许的范围内有完整的意志自由，自主实施民事法律行为，参加民事法律关系，任何单位和个人都不得非法干预。这体现了（ ）。

- A. 诚实守信原则
- B. 民事活动自愿原则
- C. 民事活动公平原则
- D. 主体地位平等原则

34. 某市政公司为安装管道，在街道上挖掘坑道，并在坑道两侧设置了障碍物和夜间警示灯。某夜，司机许某酒后驾车，撞毁了障碍物和夜间警示灯后逃逸。随后骑自行车经过的秦某掉入坑道中，造成粉碎性腿骨骨折。秦某的损失应由（ ）。

- A. 许某承担
- B. 市政公司承担
- C. 秦某自己承担
- D. 市政公司和许某连带承担

35. 由中级人民法院管辖第一审民事案件的种类包括（ ）。

- ①重大涉外案件
- ②在本辖区有重大影响的案件
- ③最高人民法院确定由中级人民法院管辖的案件
- ④在全国有重大影响的案件

- A. ①②③④

B. ②③④

C. ①③④

D. ①②③

36. 下列行为中存在共同犯罪的是（ ）。

A. 小张与其妻子于情人节当天在家中进行烛光晚餐，不慎引发火灾，造成自家与邻居家重大财产损失。

B. 于某杀害了与其素有仇怨的李某，于某父亲知晓后帮助于某逃跑至外地躲避公安机关的追捕。

C. 甲、乙两人商量后共同潜入某富豪的家中盗窃，在窃得财物后，甲出于仇富心理不听乙的劝阻杀害了该富豪。

D. 孙某预谋开车撞死自己的“情敌”，尚未实施，其“情敌”就被酒后驾车的钱某撞死。

37. 自物权是物权中最完整、最充分的权利，包括四项权能，下列哪一项不属于这四项权能（ ）。

A. 所有权

B. 使用权

C. 收益权

D. 处分权

38. 梁某因吸毒被县公安局行政拘留，在行政拘留期间，梁某死亡。因未获得行政赔偿，梁某之父提起了行政赔偿诉讼。根据《行政诉讼法》，下列说法正确的是（ ）。

A. 本案代理诉讼的律师只能按照规定查阅而不能复制与本案有关材料。

B. 若县公安局认为梁某之父的起诉超期的，由梁某之父负责证明其起诉没有超期。

C. 县公安局应承担梁某死亡原因的举证责任。

D. 梁某之父提供的证明县公安局的行政行为不合法的证据不成立的，可以免除县公安局的举证责任。

39. 中央银行货币政策的目标是（ ）。

A. 稳定物价

B. 促进就业

C. 促进经济增长

D. 平衡国际收支

40. 税收为调节社会经济运行的一种重要经济杠杆，提高税率通常将（ ）。

- A. 提高政府的财政收入
- B. 增加出口
- C. 刺激消费
- D. 抑制投资，有利于防止经济过热

41. 综合国力，是一个国家所拥有的生存、发展以及对外部施加影响的各种力量和条件的总和。当今世界综合国力竞争的中心内容为（ ）。

- A. 经济的竞争
- B. 国际政治地位和在国际事务中的影响力
- C. 科技的创新和率先突破
- D. 人才和人的素质的竞争

42. 财政政策，是指政府根据既定目标，通过财政收支的变动以影响宏观经济水平的经济政策，当通货膨胀出现的时候，紧缩性财政政策能够发挥一定的作用。以下属于紧缩性财政政策的主要手段的是（ ）。

- A. 提高政府转移支付水平，增加社会福利费用
- B. 增加税收，以降低企业的投资能力和个人的投资热情，并抑制总需求的膨胀
- C. 发行公债以减少流通中的货币供应量
- D. 降低法定存款准备金率以增加流通中的货币供应量

43. 公平理论认为，一个人在做出了成绩并取得报酬后，他不仅关心自己所得报酬的绝对值，而且关心自己所得报酬的（ ）。

- A. 相对值
- B. 相对量
- C. 绝对值
- D. 绝对量

44. 强调在制订计划时要留有余地，不能满打满算的计划工作原理是（ ）。

- A. 限定因素原理
- B. 许诺原理
- C. 灵活性原理
- D. 改变航道原理

45. “润笔”原指使用毛笔时先用水把笔毛泡开、泡软，这样毛笔较容易吸收墨汁，写字时会感觉比较圆润。后来“润笔”被用来泛指（ ）。

A. 写文章、写字、作画的报酬

B. 优秀的作家、书法家或画家

C. “文房四宝”

D. 替别人研磨墨汁的书童

46. 中国现存最早的医书是（ ）。

A. 《黄帝内经》

B. 《齐民要术》

C. 《本草纲目》

D. 《伤寒杂病论》

47. 关于历史常识下列表述错误的是（ ）。

A. 辛亥革命是近代中国史上一次比较完全意义上的资产阶级民主革命

B. 日军在东北发动的“七七事变”标志着全面侵华战争的开始

C. 洋务运动开启了我国教育近代化之先河

D. 制定抗日民族统一战线的会议是瓦窑堡会议

48. 下列说法对应正确的是（ ）。

A. 长庆会盟——南诏与唐朝会盟，盟约云：“患难相恤，暴掠不作”

B. 文景之治——西汉文帝、景帝在位期间形成的我国封建社会的第一个治世

C. 开元盛世——唐太宗李世民统治时期，政治清明、经济空前繁荣，国家强盛

D. 百家争鸣——西周时期，儒、墨、道、法等学派盛行

49. 下列民族与其习俗对应正确的选项是（ ）。

A. 火把节——蒙古族

B. 芦笙节——傣族

C. 雪顿节——苗族

D. 歌婆节——壮族

50. 毛泽东同志在其诗词中描写过许多历史事件，下列诗句中涉及的事件，按时间先后排序正确的是（ ）。

① “雄关漫道真如铁，而今迈步从头越。”

② “钟山风雨起苍黄，百万雄师过大江。”

③ “秋收时节暮云愁，霹雳一声暴动。”

④ “十年丑史归尘土，一阵惊雷卷飓风。”

A. ①③②④

B. ③①④②

C. ①③④②

D. ③①②④

51. 《琵琶行》是唐代著名诗人白居易作于唐宪宗元和十一年（公元816年）秋的一篇叙事抒情诗。源于汉魏乐府，是其名曲之一。下列成语不是出自《琵琶行》的是（ ）。

A. 司马青衫

B. 千呼万唤

C. 弱不禁风

D. 门前冷落

52. 下列作品、作家、国别对应错误的是（ ）。

A. 《欧也妮·葛朗台》——巴尔扎克——法国

B. 《基督山伯爵》——大仲马——法国

C. 《死魂灵》——果戈理——英国

D. 《红字》——霍桑——美国

53. 下列关于古代科技的说法错误的是（ ）。

A. 我国古代使用的天体测量仪器主要有浑仪、简仪。

B. 我国古代印刷术的发展顺序是：雕版印刷—泥活字—转轮排字盘—金属活字。

C. 《九章算术》是汉代著名的科技著作。

D. 《营造法式》是北宋人李春编成的，是我国古代最完整的建筑技术书籍。

54. “嫦娥三号”是中国第一个月面软着陆探测器。下列属于“嫦娥三号”的任务的是（ ）。

①实现天体表面无人自动巡视

②首次实现月夜生存

③建立深空探测范围通信网

④自主开展月面科学探测

A. ①②③

B. ②③④

C. ①③④

D. ①②③④

55. 用微波炉加热食物时不能用金属器皿盛装食物，是因为（ ）。

- A. 用金属器皿盛装食物加热食用后会使人金属中毒
- B. 金属会反射微波
- C. 金属器皿加热后会很烫
- D. 用金属器皿盛装食物进行加热，食物容易糊

56. 为建设美丽中国和环境友好型社会，我国部分城市正在试行生活垃圾分类，下列选项中不属于可回收物的是（ ）。

- A. 塑料袋
- B. 易拉罐
- C. 卫生纸
- D. 碎玻璃

57. 多吃水果有利于人体健康。关于水果，下列说法错误的是（ ）。

- A. 陈皮有理气调中、燥湿化痰的功效，可以泡水饮用，但是鲜橘皮则不适合。
- B. 香蕉除了作为鲜果供食用外，还可以用于生产抗生素。
- C. 用西瓜果肉制成的“西瓜霜”，可治疗口舌生疮、咽喉肿痛等病症。
- D. 梨含有粗纤维、钙、磷、铁等矿物质和多种维生素，具有降低血压、养阴清热的功效。

58. 小明同学乘坐公交车去上学，他望向窗外，窗外的树木在迅速地往后退，这时他选择的参照物是（ ）。

- A. 公交车
- B. 地面
- C. 道路两旁的建筑物
- D. 车窗外的树木

59. 当建筑物发生火灾时，受困人员为避免吸入大量烟尘造成窒息，应采取的正确逃生方法是（ ）。

- A. 从窗口或阳台逃生
- B. 用湿毛巾捂住口鼻逃生
- C. 大声呼喊他人救援
- D. 乘坐电梯逃生

60. 下列关于军事科技的叙述，不正确的是（ ）。

- A. 导弹最初产生于美国
- B. 喷气式飞机早在二战时期就已经出现了
- C. 人们常说的“陆战之王”指的是坦克
- D. AIP 潜艇指的是使用不依赖空气推进发动机作为动力的潜艇

61. 2012 年 8 月 25 日，世界首位登上月球的宇航员、美国人尼尔·阿姆斯特朗逝世。

下列有关航天领域的说法错误的是（ ）。

- A. 第一个飞出太阳系的航天器是“阿波罗 11 号”
- B. 第一个撞击月球表面的航天器为苏联发射的“月球 2 号”探测器
- C. 首位进入太空的女性为苏联航天员瓦莲京娜·捷列什科娃
- D. 世界上第一架航天飞机“哥伦比亚号”由美国发射

62. 冰糖是人们生活中常备的食品之一，而大块的冰糖不便于直接食用，若将冰糖置于水中，下列方式不能加速冰糖融化的是（ ）。

- A. 加热
- B. 搅拌
- C. 捣碎
- D. 避光

63. 科学技术领域中，R&D 经费是指（ ）。

- A. 基础研究经费
- B. 应用研究经费
- C. 科学研究与试验发展经费
- D. 基础与应用研究经费

64. 胆固醇是动物组织细胞所不可缺少的重要物质，它不仅参与形成细胞膜，而且是合成胆汁酸、维生素 D 以及甾体激素的原料。下列对胆固醇的说法错误的是（ ）。

- A. 胆固醇主要来自人体自身的合成
- B. 小肠是合成胆固醇的主要场所
- C. 长期多食鸡蛋会导致胆固醇偏高
- D. 为了降低人体胆固醇的含量，在饮食上最好食用含膳食纤维丰富的食物

65. 一个充满气的氢气球，把它放了，它将（ ）。

- A. 一直向上升
- B. 升到一定高度后停止上升

- C. 一直升，最后爆炸
- D. 升到一定程度后下降

66. 万紫千红的奇花异卉，不仅美化着人们的生活环境，陶冶着人们的情操，而且还具有较高的药用价值。下列选项关于花卉药用价值的叙述，不正确的是（ ）。

- A. 菊花有疏风、明目、清热解毒的功效，常用于治疗头晕目眩、肝火旺盛等疾病
- B. 月季花有活血化淤、调经的作用，可用于月经不调、痛经及血瘀肿疼等症状
- C. 桂花有止咳化痰、芳香除秽的作用，可用于有痰咳喘、口臭、牙痛等病症的治疗
- D. 梅花主治感冒暑热、口渴、小便短赤及暑热泄泻等症

67. 位于青海省西北部，大部分为戈壁、沙漠，东部多沼泽、盐湖，并且为我国地势最高的典型的内陆高原盆地是（ ）。

- A. 四川盆地
- B. 塔里木盆地
- C. 准噶尔盆地
- D. 柴达木盆地

68. 我国目前已经在南极地区设立了（ ）个科学考察站。

- A. 2
- B. 3
- C. 4
- D. 1

69. 我国地势西高东低，大致呈阶梯状分布，通常情况下将地势分为三级阶梯。下列构成中国第二、三级阶梯分界线的选项是（ ）。

- A. 大兴安岭—太行山—阴山—武陵山
- B. 大兴安岭—太行山—巫山—昆仑山
- C. 大兴安岭—太行山—阴山—祁连山
- D. 大兴安岭—太行山—巫山—雪峰山

70. 下列诗句中，反映平原与山地气候差异的是（ ）。

- A. 东边日出西边雨，道是无晴却有晴。
- B. 羌笛何须怨杨柳，春风不度玉门关。
- C. 人间四月芳菲尽，山寺桃花始盛开。
- D. 城市尚余三伏热，秋光先到野人家。

71. 中国最大的平原——东北平原位于中国东北部，其主要组成部分包括（ ）。

- A. 三江平原、松嫩平原、辽河平原
- B. 江汉平原、松嫩平原、辽河平原
- C. 三江平原、江淮平原、辽河平原
- D. 三江平原、松嫩平原、江汉平原

72. 在罗布泊地区，有一种特殊的地貌形态，即在极干旱地区的干涸的湖底中，常因干缩裂开，风沿着这些裂隙吹蚀，裂隙愈来愈大，原来平坦的地面发育成许多不规则的背鳍形垄脊和宽浅沟槽。这种支离破碎的地貌是（ ）。

- A. 河谷地貌
- B. 雅丹地貌
- C. 风蚀地貌
- D. 岩溶地貌

73. 我国有关法律规定，机动车的设计最高时速在多少公里以下的车辆不允许进入高速公路行驶（ ）。

- A. 70
- B. 80
- C. 90
- D. 75

74. 预警信号等级总体上分为4级，按照灾害的严重性和紧急程度，下列预警信号等级对应正确的是（ ）。

- A. 绿色预警信号——严重
- B. 黄色预警信号——较重
- C. 蓝色预警信号——特别严重
- D. 橙色预警信号——一般

75. 下列生活常识的说法不正确的是（ ）。

- A. 毛巾用久了会变硬，是因为毛巾上有水垢沉积
- B. 醉酒后，可以喝蜂蜜水解酒
- C. 男子剃须时，不可以用牙膏代替肥皂
- D. 面包与饼干不宜一起存放

76. 下列有关台风的说法不正确的是（ ）。

- A. 台风是形成于热带或副热带海面温度在 26℃ 以上的广阔海面上的热带反气旋。
- B. 在北半球其气流绕着中心以逆时针方向旋转，在南半球则相反。
- C. 台风中心数十公里范围内会出现无风现象。
- D. 台风属于自然灾害的一种，但除了给登陆地区带来暴风雨等严重灾害外，也有一定的好处。

77. 家里的白炽灯用久了会发黑，这是因为（ ）。

- A. 灯泡变旧
- B. 钨丝烧断
- C. 钨蒸汽凝华
- D. 灰尘

78. B 市教育局为了切实改善中小学校车安全问题，制定了《B 市中小学校车安全条例》，现要将该条例传达给 B 市下属各中小学和有关单位周知并执行，应如何拟定公文标题（ ）。

- A. 《B 市教育局实行〈B 市中小学校车安全条例〉》
- B. 《关于实行 B 市中小学校车安全条例的通告》
- C. 《B 市教育局关于实行〈B 市中小学校车安全条例〉的通知》
- D. 《B 市教育局关于实行〈B 市中小学校车安全条例〉的公告》

79. 通告的适用范围是（ ）。

- A. 向国内外宣布重要事项或法定事项
- B. 对重要问题提出见解和处理办法
- C. 传达要求下级机关办理和需要有关单位周知或执行的事项
- D. 在一定范围内公布应当遵守或周知的事项

80. 下列选项中不必遵守“一文一事”原则的是（ ）。

- A. 请示
- B. 议案
- C. 意见
- D. 公告

81. 公文语言的主要特点是（ ）。

- A. 庄重、严谨
- B. 华丽、流畅
- C. 威严、有力

D. 古朴、典雅

82. 所有的公文种类中，() 最具权威性和强制性。

A. 决定

B. 命令(令)

C. 公告

D. 决议

83. 某大学拟发文处理在期末考试作弊的学生，应用() 行文。

A. 通报

B. 通知

C. 通告

D. 决定

84. 联合行文时，如需同时标注联署发文机关名称，一般应当将主办机关名称排列在前；

如有“文件”二字，应当置于发文机关名称()，以联署发文机关名称为准上下居中排布。

A. 左侧

B. 右侧

C. 上方

D. 下方

85. 关于信息文稿的标题，下列说法不正确的是()。

A. 标题要具有准确性。

B. 标题要具有生动性。

C. 通过标题，信息使用者能看出信息的最重要的内容。

D. 标题只要能交代清楚信息中的要素就行，不一定是一个完整的句子。

86. Powerpoint2000 允许设置幻灯片的方向，使用() 对话框完成此设置。

A. 选项

B. 页面设置

C. 自定义

D. 版式

87. 选择不连续的多张幻灯片，借助() 键。

A. Shift

B. Ctrl

C. Tab

D. ALT

88. () 是一种寄生在 Word 或 Excel 文档或者模板文件中，以 VBA 代码形式存放的病毒。

A. 脚本病毒

B. 蠕虫病毒

C. 引导型病毒

D. 宏病毒

89. 下列哪个选项是计算机存储容量的基本单位 ()。

A. 位

B. 字节

C. 字

D. 双字

90. 计算机软件系统应包括 ()。

A. 管理软件和连接程序

B. 数据库软件和编译软件

C. 程序和数据

D. 系统软件和应用软件

91. 机遇与每个人的未来_____，把握机遇，就能更好地把握未来。然而，机遇又像是一个美丽而性情古怪的天使，她偶尔降临在你身边，如果你稍有不慎，如果你不懂珍惜，她将翩然离去，不管你怎样_____。

依次填入划横线部分最恰当的一项是：

A. 休戚相关 捶胸顿足

B. 息息相关 扼腕叹息

C. 休戚与共 后悔莫及

D. 生死攸关 自怨自艾

92. 作为一个拥有五千年不间断文明史的古国，我国拥有十分丰富的非物质文化遗产。这些活态的文化不仅构成了中华民族深厚的文化底蕴，也承载着中华民族文化渊源的基因。但随着我国现代化建设的加速，文化标准化以及环境条件的变化，尚有不计其数的文化遗产正

处于濒危状态，它们犹如一个个影子随时都可能消亡。

对这段文字概括最准确的是：

- A. 文化遗产保护工作要有新思路
- B. 要重视现代化建设带来的新问题
- C. 新形势下亟须加强文化遗产保护
- D. 诸多因素威胁着文化遗产的生存状态

93. 意大利文艺复兴时期，科学技术和生产力的发展使人的自我意识开始觉醒，人们开始厌弃神权时代那种表现追慕上帝的峭拔的建筑风格，便想起了古希腊、罗马时代的建筑，于是人们拾回那种规整，稳重的“十字”平面造型原则和体现人体美的柱式的基本形制，以圆拱代替尖拱，吸收力学上的新成就以及绘画中的透视原理，强调秩序和比例，以均衡端庄，典雅精致为美学追求，从而创造出多种空间效果，来标示属于自己时代的崭新风格。

这段文字主要介绍：

- A. 古希腊与文艺复兴时期建筑的传承关系
- B. 文艺复兴时期的建筑风格及形成背景
- C. 西方人的思想意识在建筑领域的表现
- D. 意大利文艺复兴在建筑方面的主要成就

94. 很多人心中的理想工作状态应该近似于不劳而获——活少轻松赚钱多。但是，人类学家大卫·格雷伯指出“调研发现，如果你给一个人很高的工资却让他无所事事，那他很有可能感到焦虑疲惫……而一旦获得一份真正富有责任感的工作，这些负面症状就会消失”。

这段文字接下来可能描述的是：

- A. 轻松的工作为什么人获得幸福感
- B. 难度大的工作为什么比难度小的工作更受欢迎
- C. 有意义的工作带来的各种积极作用
- D. 当代年轻人的就业倾向

95. 元代的蒙古人从中国内蒙古一直走到欧洲，最后在波斯——今天的伊朗一带，发现了一种画在瓷器上的原料“苏麻离青”。中国自己土产的画在瓷器上的蓝色颜料比较灰暗，比苏麻离青效果差很多。其中的原因是中国原料里含锰比较多，而伊朗出土的原料含锰少，所以颜色烧制之后特别清亮。正是蒙古大军带去的中国瓷匠，和伊朗的陶工相遇之后，采用了当地的钴料，才终于烧制成如今流传于世的美丽的青花瓷。

下列哪项说法不能从这段文字推出：

- A. 钴原料是元青花成功的关键
- B. 伊朗是“苏麻离青”的原产国
- C. 青花瓷工艺在元代突飞猛进
- D. 锰含量会影响青花瓷的色泽

96. ①以体现一个国家经济形势的危机状况
②并不预示着一个国家马上就会改换门庭
③国家有别于企业的最显著特点是“国家主权神圣不可侵犯”
④“国家破产”更像是一个形容词
⑤而不是一个动词

将以上 5 个句子重新排序，语序正确的是：

- A. ④①⑤③②
- B. ④⑤①②③
- C. ③④①⑤②
- D. ③①②④⑤

97. ①就可能走向思维的误区
②这无疑是最好的强国路径
③对于经济增长和民众福利来说，更重要的是人均意义上的增长，而不是总量意义上的增长
④当然，也不能说总量意义上的经济增长没有意义，毕竟有很多事情是由“总体实力”决定的
⑤简单地通过增加劳动力供给的数量来推动总量意义上的增长
⑥如果人均意义上的增长快，却能够在提高民众福利的同时提高“总体实力”

将以上 6 个句子重新排列，语序正确的是：

- A. ③⑤①④⑥②
- B. ④⑥②③⑤①
- C. ⑤①⑥②③④
- D. ⑥②⑤①③④

98. 中国古代文明的繁荣，同政治思想中的人文精神和民主主义思想密切相关。注重苍生黎民的理念在一定程度上构成某种规范性力量，成为政权稳固、国家稳定的重要保障。一些有识之士能够怀有“保惠于庶民”、服务天下百姓的志向，以先天下之忧而忧、后天下之乐

而乐的境界，以苟利国家生死以、岂因祸福避趋之的勇气，献身于报国安民事业。这些价值理念，在当代中国已转化为为人民服务的思想文化资源，给中国制度坚持以人民为中心的价值理念提供了丰厚历史文化土壤。

这段话的主要观点是：

- A. 中国传统的以民为本的价值是当代中国制度的基础
- B. 中国古代和现代都有人文精神与民主主义思想
- C. 中国传统价值观念是当前中国的思想文化根源
- D. 当代中国依然坚持人民为中心的思想理念

99. 摒弃“棍棒教育”传统理念不代表不能对犯错孩子施加必要惩戒。在大力普及禁止体罚孩子教育理念的同时，也要探索如何科学的惩戒严重犯错的未成年人。这样方能做到教育与惩戒相结合，既培养未成年人养成底线、规则和责任意识，又避免其生活在棍棒的阴影之下。

对上文理解正确的一项是：

- A. 传统的“棍棒教育”理念不能摒弃
- B. 对犯错孩子施加科学惩戒是必要的
- C. 科学的惩戒可以替代教育的作用
- D. 要让孩子养成底线、规则和责任意识必须实施体罚

100. 社交平台的兴起创造了许多新事物，也形成了层出不穷的新话语体系和风格。一种自嘲，颓废，麻木的生活方式为特征的“丧文化”正是其中的一种，“什么都不想干”，“颓废到忧伤”，这些散漫的话语配上生动的“葛优瘫”“懒猫瘫”等表情包，成了一些聊天场景的流行“新宠”。

属于这段文字中提及的内容是：

- A. “丧文化”的主要流行群体
- B. “丧文化”流行的危害
- C. “丧文化”的一部分表现
- D. “丧文化”流行的根源

101. 1, 2, 6, 24, 120, ()

- A. 480
- B. 360
- C. 240

D. 720

102. 3, 4, 7, 11, 18, ()

A. 26

B. 27

C. 28

D. 29

103. 1, 4, 5, 6, 10, 15, ()

A. 16

B. 18

C. 20

D. 21

104. $\frac{1}{44}$, $\frac{1}{37}$, $\frac{1}{30}$, $\frac{1}{23}$, ()

A. $\frac{1}{14}$

B. $\frac{1}{15}$

C. $\frac{1}{16}$

D. $\frac{1}{17}$

105. 3, 2, 6, 5, 12, 8, ()

A. 12

B. 18

C. 24

D. 30

106. 小伟参加英语考试，共 50 道题，满分为 100 分，得 60 分算及格。试卷评分标准为做对一道加 2 分，做错一道倒扣 2 分，结果小伟做完了全部的试题但没及格。他发现，如果他少做错两道题就刚好及格了。问小伟做对了几道题 ()

A. 32

B. 34

C. 36

D. 38

107. 五名工人按甲—乙—丙—丁—戊的顺序轮流值夜班，每人值班 1 天休息 4 天。某日乙值夜班，问再过 789 天该谁值班 ()

- A. 甲
- B. 乙
- C. 丙
- D. 戊

108. 某钢铁厂生产一种特种钢材，由于原材料价格上涨，今年这种特种钢材的成本比去年上升 20%。为了推销该种钢材，钢铁厂仍然以去年的价格出售，这种钢材每吨的盈利下降 40%，不过销量比去年增加了 80%，那么今年生产该种钢材的总盈利比去年增加了多少（ ）

- A. 4%
- B. 8%
- C. 20%
- D. 54%

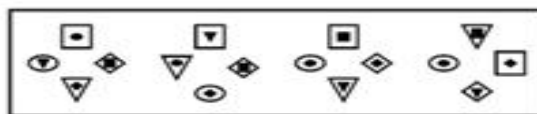
109. 数字 3、5 至少都出现一次的三位数有多少个（ ）

- A. 48
- B. 52
- C. 54
- D. 60

110. 在一杯清水中放入 10 克盐，然后再加入浓度为 5% 的盐水 200 克，这时配成了浓度为 2.5% 的盐水，问原来杯中有清水多少克（ ）

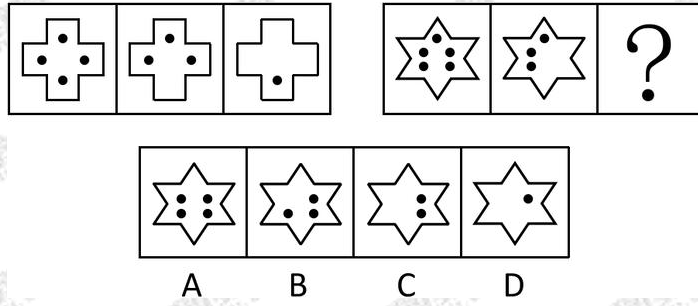
- A. 460 克
- B. 490 克
- C. 570 克
- D. 590 克

111. 从所给的四个选项中，选择最合适的一个填入问号处，使之呈现一定的规律性：

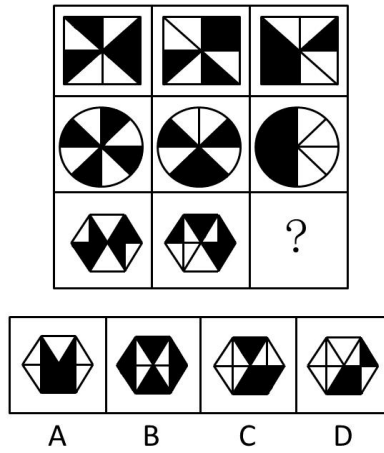


- A
- B
- C
- D


112. 从所给的四个选项中，选择最合适的一个填入问号处，使之呈现一定的规律性：



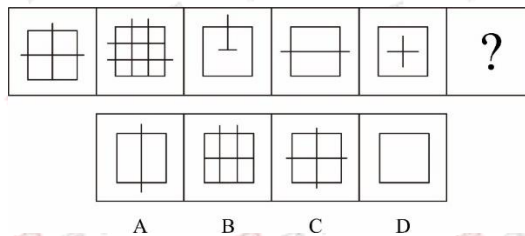
113. 从所给的四个选项中，选择最合适的一个填入问号处，使之呈现一定的规律性：



114. 从所给的四个选项中，选择最合适的一个填入问号处，使之呈现一定的规律性：



115. 从所给的四个选项中，选择最合适的一个填入问号处，使之呈现一定的规律性：



116. 书籍：课本

A. 有理数：整数

B. 定义：定理

C. 数学：计算

D. 辽宁：东北

117. 诗圣：杜甫

A. 药圣：张仲景

B. 兵圣：岳飞

C. 医圣：华佗

D. 和圣：柳下惠

118. 环保，约谈

A. 新闻：采访

B. 医疗：救助

C. 交通：处罚

D. 体育：竞争

119. 岑参；柳永

A. 苏轼；白居易

B. 王昌龄；秦观

C. 李白；杜牧

D. 高适；王翰

120. 护照；国籍

A. 法律；权利

B. 房产证；居住权

C. 钥匙；锁

D. 结婚证；配偶

121. 家用医疗器械是指在家庭中使用的，作用于人体体表或体内的对健康起到预防、诊断、监护和缓解作用的仪器、设备或器具。根据该定义，下列家用物品中不属于家用医疗器械的是：

A. 电子血压计

B. 按摩椅

C. 便携式心电监测仪

D. 跑步机

122. 服从是个体按照社会要求、团体规范或别人的意志而作出的行为，这种行为是来自外界的影响而被迫发生的。根据该定义，以下属于服从的是：

- A. 一位行人过马路，由于人行道对面有摄像头，他会等灯变绿了才通过，一旦在没有摄像头的路口，他看左右无车时就快速通过了
- B. 十字路口一群人正在闯红灯，小李看大家都在闯红灯，也就尾随其后跟了过去
- C. 这次外出实习，小张和小王两位同学被分到一组，其实小张一开始是不愿意的，只是老师这样安排了，他也没办法
- D. 一位科长当着主任的面表示一定会听从主任的安排开展工作，但实际上他总是我行我素

123. 错觉是指人在特定的条件下对客观事物产生的某种受到歪曲的知觉。下面不属于错觉的一项是：

- A. 杯弓蛇影
- B. 望洋兴叹
- C. 望梅止渴
- D. 画饼充饥

124. 边际效用递减规律是指消费者连续消费某商品的过程中，随着消费数量提高而逐渐降低对商品评价的现象。根据该定义，下列符合边际效用递减规律的是：

- A. 1年前，因为太饿了，小方一次性吃了5碗饺子，导致2天都没消化掉，现在他看到饺子就想吐
- B. 王阿姨去菜场买菜，老板说买1斤不打折，买2斤给打9折，买3斤给打8折
- C. 十多年前的液晶电视价格非常高，现在已经变得很便宜了
- D. 由于去年大蒜头的价格非常高，许多种植户大量种植大蒜，导致今年大蒜价格猛降了不少

125. 邻近性因素通常是指时空距离因素，距离越接近，交往越容易，交往的频率就可能高，就越容易建立和发展良好的人际关系，也就越能够提高人们相互之间的喜欢程度。

根据上述定义，下列体现邻近性因素的是：

- A. 君子和而不同，小人同而不和
- B. 物以类聚，人以群分
- C. 爱屋及鸟
- D. 远亲不如近邻

126. “他是演员或是导演。”不可能推出：

- A. 他既是演员，又是导演
- B. 他是演员，不是导演
- C. 他是导演，不是演员
- D. 他既不是演员，也不是导演

127. “不健康的人都不美”等同于：

- A. 有些美的人不是健康的
- B. 有些不美的人是健康的
- C. 有些不健康的人是美的
- D. 美的人都健康

128. 甲市环保部门抽样调查表明：2018年上半年，该市的河流污染情况有不断改善的趋势，河水中重点检测污染物含量比去年少了30%。由此可知，今年的河流水质好于去年。

最能质疑上述结论的一项是：

- A. 该市去年关闭了几家水污染严重的企业
- B. 该市今年开展了河流污染改造工程
- C. 该市河流严重污染时段一般在下半年
- D. 该市环保部门今年购买了新的检测设备

129. 班主任：我主张小红和小明两人中至少提拔一人当班长。

教导主任：我不同意。

以下哪项，最为准确地表述了教导主任实际上的意思？

- A. 小红和小明两人都不提拔
- B. 小红和小明两人都得提拔
- C. 如果提拔小红，则不提拔小明
- D. 如果提拔小明，则不提拔小红

130. 不少在小区居住的人都在想方设法降低住宅小区的物业管理费，但实际上，这种做法是欠缺考虑的。因为对于住户而言，少交1元的物业管理费，他们将要为应付物业管理质量下降而付出的费用可能达到4元、5元甚至更多。

以下哪项最可能是上述论证所做的假设？

- A. 目前许多小区的物业管理费用较高，超出了不少住户的承受能力
- B. 相对于现在的物业服务质量，目前许多小区的物业管理费用的标准是合理的

- C. 目前许多小区的物业管理质量是合格的
- D. 物业管理公司可能以降低服务质量来应对管理费的减小

一、根据所给资料，回答下列问题。

2017年上半年，S市接待游客总人数1.4亿人次，实现旅游总收入2458.5亿元，同比分别增长4.9%和9.2%，增幅比2016年分别提高0.3个和0.2个百分点。旅游业发展呈现以下特点：

国内旅游市场保持稳步增长。上半年，S市接待国内游客1.3亿人次，同比增长5.2%；实现国内旅游收入2302.7亿元，同比增长10.0%。从游客构成看，外省游客8307.0万人次，本市游客5149.0万人次，同比分别增长8.2%和0.6%。从收入构成看，外省游客花费2103.2亿元，本市游客花费199.5亿元，同比分别增长10.4%和5.9%。

景区旅游持续向好。上半年，全市A级及以上旅游景区共接待游客1.5亿人次，同比增长4.2%，实现收入36.9亿元，同比增长8.6%，增幅同比提高1.8个百分点。从景区类型看，博物馆、历史文化景点、自然风景区、休闲娱乐场所是市民主要的游玩兴趣点。其中，博物馆型景区上半年共接待游客1016.3万人次，实现收入1.5亿元，同比分别增长12.7%和1.0%；历史文化观光型景区上半年共接待游客5388.3万人次，实现收入11.5亿元，同比分别增长11.3%和1.8%；自然山水型景区上半年共接待游客1257.6万人次，实现收入7.4亿元，同比分别增长5.1%和23.8%；休闲娱乐型景区上半年共接待游客1216.8万人次，实现收入3.7亿元，同比分别增长3.9%和2.0%。

住宿业稳步发展。上半年，全市限额以上住宿业单位累计接待住宿者2008.1万人次，同比增长4.2%，其中接待国内住宿者1852.4万人次，同比增长4.9%；实现营业收入213.9亿元，同比增长0.4%，其中客房收入和商品销售收入分别增长2.9%和3.4%。限额以上住宿业平均房价497.7元每/间，同比上涨3.0%；平均出租率64.0%，同比提高2.8个百分点。

观光民俗旅游收益提高。上半年，观光园加大宣传力度，创新发展模式，民俗旅游发展不断规范，强化品牌建设，观光民俗旅游收入17.7亿元，同比增长4.9%。其中，观光园园均收入99.5万元，同比增长12.3%，民俗户户均收入3.7万元，同比增长3.4%。

131. 2016年，S市接待游客总人数同比增长（ ），实现旅游总收入同比增长（ ）

- A. 4.9% 9.2%
- B. 4.6% 9.0%
- C. 4.1% 8.9%
- D. 3.8% 8.7%

132. 2017 年上半年, S 市接待外省游客约比本市游客 () 万人次

- A. 多 3158.0
- B. 少 3158.0
- C. 多 3046.0
- D. 少 3046.0

133. 下列景区中, 2017 年上半年实现收入占 S 市 A 级及以上旅游景区实现收入比例最大的是 ()。

- A. 博物馆型景区
- B. 自然山水型景区
- C. 历史文化观光型景区
- D. 休闲娱乐型景区

134. 2017 年上半年, S 市接待国内住宿人次占全市限额以上住宿业单位累计接待住宿人次的比重约为 ()。

- A. 92%
- B. 86%
- C. 74%
- D. 79%

135. 根据上述资料, 下列说法正确的是 ()。

- A. 2017 年上半年, S 市限额以上住宿业平均房价比 2016 年上半年要低
- B. 2016 年上半年, S 市观光民俗旅游收入不足 15 亿元
- C. 2016 年上半年, S 市限额以上住宿业平均出租率为 61.2%
- D. 2017 年上半年, S 市历史文化观光型景区接待游客人次同比增幅大于博物馆型景区

二、根据所给资料, 回答下列问题。

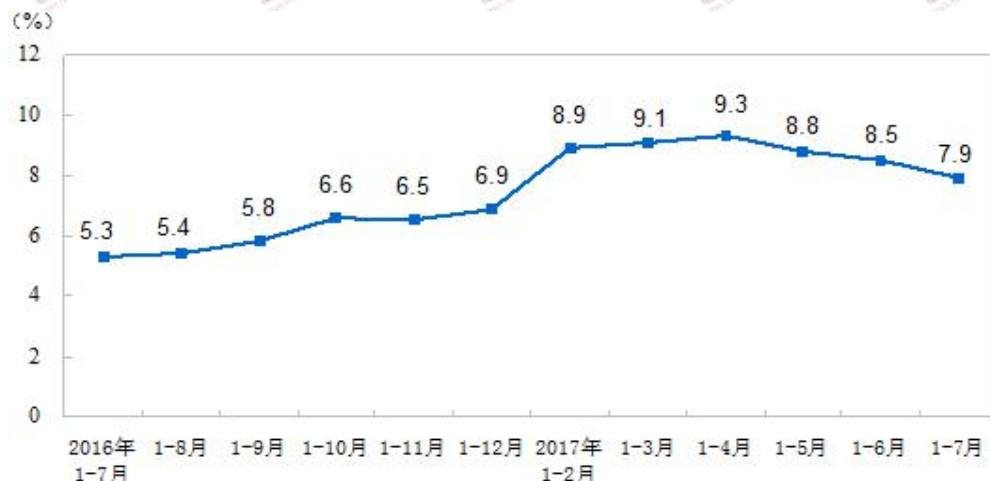
2017 年 1~7 月份, 全国房地产开发投资 59761 亿元, 同比名义增长 7.9%, 增速比 1~6 月份回落 0.6 个百分点。其中, 住宅投资 40683 亿元, 增长 10.0%, 增速回落 0.2 个百分点。住宅投资占房地产开发投资的比重为 68.1%。

1~7 月份, 东部地区房地产开发投资 32069 亿元, 同比增长 8.5%, 增速比 1~6 月份提高 0.1 个百分点; 中部地区投资 12612 亿元, 增长 13.8%, 增速回落 2.2 个百分点; 西部地区投资 12901 亿元, 增长 5.1%, 增速回落 1.7 个百分点; 东北地区投资 2179 亿元, 下降 11.3%, 降幅收窄 2.7 个百分点。

1~7 月份, 房地产开发企业房屋施工面积 707313 万平方米, 同比增长 3.2%, 增速比 1~6

月份回落 0.2 个百分点。其中，住宅施工面积 483145 万平方米，增长 2.8%。房屋新开工面积 100371 万平方米，增长 8.0%，增速回落 2.6 个百分点。其中，住宅新开工面积 71746 万平方米，增长 11.9%。房屋竣工面积 47021 万平方米，增长 2.4%，增速回落 2.6 个百分点。其中，住宅竣工面积 33543 万平方米，下降 0.7%。

1~7 月份，房地产开发企业土地购置面积 12410 万平方米，同比增长 11.1%，增速比 1~6 月份提高 2.3 个百分点；土地成交价款 5428 亿元，增长 41.0%，增速提高 2.5 个百分点。



2016~2017 全国房地产开发投资增速

136. 2017 年 1~6 月份，全国房地产开发投资增速为：

- A. 8.5%
- B. 7.3%
- C. 7.9%
- D. 0.6%

137. 2017 年 1~7 月份，东部地区房地产开发投资占全国房地产开发投资的比重为：

- A. 21.7%
- B. 42.2%
- C. 53.7%
- D. 58.3%

138. 2016 年 1~6 月，房地产开发企业每单位面积土地的成交价约为多少平方米/元？

- A. 4374
- B. 3446
- C. 2286
- D. 5732

139. 2017 年 1~7 月全国房地产开发投资相对于 2015 年 1~7 月增长了：

- A. 7.9%
- B. 5.3%

C. 13.2%

D. 13.6%

140. 下列说法中正确的是：

A. 2017 年 1~6 月，中部地区投资增长了 11.6%

B. 2017 年 1~7 月，住宅新开工面积占房屋新开工面积的比重约为 71.5%

C. 2016 年 1~6 月，东北地区投资大约为 1960 亿元

D. 2017 年 1~7 月，房屋竣工面积增长了 2147 万平方米

141. 中国特色社会主义民主制度是马克思主义基本原理同中国具体实际相结合的产物，有其独特优势，主要包括（ ）。

A. 坚持党的领导，人民当家作主，依法治国的有机统一。

B. 坚持国家一切权力属于人民。

C. 坚持民主内容和形式的统一。

D. 坚持以民主集中制为根本组织原则和生活方式。

142. GDP 是衡量一个国家和地区经济发展水平的重要指标。如果不坚持科学的发展观，以牺牲环境、资源为代价来拉动 GDP 的增长，那就不是“绿色 GDP”，而是“黑色 GDP”了。这说明（ ）。

A. 整体与部分之间存在着密切联系

B. 意识对事物发展起促进作用

C. 价值观的导向作用

D. 具体问题具体分析是解决矛盾的关键

143. 下列有关法律的特征的表述哪些是正确的（ ）

A. 历史上的一切法律的规定都是明确、肯定的。

B. 法律具有普遍性。

C. 法律具有排他性，即所有的行为都只能由法律来调整。

D. 法具有国家强制性的特征。

144. 单一的犯罪构成，是指刑法条文规定的犯罪构成的诸要件均属于单一的犯罪构成。

下列属于该定义范畴的有（ ）。

A. 故意杀人的，处死刑、无期徒刑或 10 年以上有期徒刑。

B. 故意伤害他人身体的，处 3 年以下有期徒刑、拘役或者管制。

C. 以暴力、胁迫或者其他手段强奸妇女的，处 3 年以上 10 年以下有期徒刑。

D. 非法搜查他人身体、住宅，或者非法侵入他人住宅的，处 3 年以下有期徒刑或者拘

役。

145. 税收负担转嫁是指纳税人把自己应缴纳的税款转移给别人负担的过程，下列属于税收负担转嫁手段的有（ ）。

- A. 某饮料生产商提高其所生产的饮料价格
- B. 某广告公司压低了部分基层员工的工资
- C. 某电子设备制造企业不断改进生产技术
- D. 某教育企业加大人力资本的投入

146. 从经济学角度来看，“薄利多销”和“谷贱伤农”这两个词的意思分别是（ ）。

- A. 提高价格一定能够增加收益
- B. 降低价格一定会减少收益
- C. 提高价格未必能增加收益
- D. 降低价格未必减少收益

147. 下列表述中属于事后管理的是（ ）。

- A. 食补往往强于药补
- B. 亡羊补牢，为时不晚
- C. 防范于未然，未雨绸缪
- D. 吃一堑长一智

148. 下列属于人工智能技术的应用的是（ ）。

- A. 与计算机下五子棋
- B. 上班录指纹
- C. 利用网络词典翻译英文材料
- D. GPS 导航仪

149. 下列有关信息技术的说法，正确的有（ ）。

- A. 用晶体管作为主要电子器件制造的计算机属于第三代
- B. 显示器是输出设备
- C. 世界第一台计算机诞生于 1946 年
- D. 信息只在特定的范围内是有效的

150. 下列关于公文格式的表述，不正确的是（ ）。

- A. 需会议讨论通过的公文，其成文日期以会议通过日期为准
- B. 发文机关必须用全称，不能用简称

C. 联合下发的公文，主办机关加盖公章即可

D. 公文如有附件，应在正文左下方标识

151. 创业是引领发展的第一动力，是建设现代化经济体系的战略支撑。()

152. 全面深化改革的总目标是完善和发展中国特色社会主义制度，推进国家治理体系和治理能力现代化。()

153. 国务院办公厅提出，要深入实施“5G 中国”战略，加快 5G 等新一代信息基础设施建设，进一步降低中小企业宽带平均资费水平。()

154. 法体现的是整个统治阶级的意志，即统治阶级每个成员个人意志的总和，这是由统治阶级所处社会的物质生活条件所决定的。()

155. 魏源著书《四洲志》，提出“师夷长技以制夷”，试图吸收西方先进技术，使中国富强起来，是洋务思潮和洋务运动的先驱。()

156. 有多个签发人的公文，其发文字号与第一个签发人姓名处在同行。()

157. 在归档文件整理过程中，将归档文件在全宗中的位置标识，并以归档章的形式在归档文件上注明称为编目。()

158. 华北平原位于中国东部偏北，由海河平原和黄淮平原组成，是我国最大的平原。()

159. 计算机病毒是一组能够影响计算机使用并且能自我复制的计算机指令或者程序代码。()

160. 家用节能灯中的气体是氮气，因为氮气性质稳定，不易发生化学反应。()