

## 2019 年内蒙赤峰事业单位线上模拟题（二）题目

### 一、单选题。

1. 10 月 15 日上午，2019 中国海洋经济博览会在深圳开幕。此次博览会的主题是（ ）

- A. 蓝色机遇、共创未来
- B. 抓住机遇、共创未来
- C. 保护海洋、共创未来
- D. 美丽海洋、共创未来

2. 2019 年 10 月 17 日是国家扶贫日，在第六个国家扶贫日到来之际，中共中央总书记、国家主席、中央军委主席习近平对脱贫攻坚工作作出重要指示强调，脱贫攻坚已到了（ ）的关键阶段。

- A. 冲刺决胜、全面收官
- B. 全面收官
- C. 决战决胜、全面收官
- D. 决战决胜

3. 为庆祝人民空军成立 70 周年，从 10 月 17 日起至 21 日空军在（ ）举办航空开放活动，包括空中展示和地面展示。今天上午，“八一”、“红鹰”等多支飞行表演队共舞蓝天，还有空军新型主力战机首次进行特技、战术飞行展示。

- A. 吉林长春
- B. 辽宁沈阳
- C. 首都北京
- D. 辽宁大连

4. 2019 年 10 月 14 日下午，国务院新闻办公室发表《中国的粮食安全》白皮书，这是继 1996 年后，中国政府发表的第（ ）部粮食白皮书。

- A. 二
- B. 三
- C. 四
- D. 五

5. 中国特色社会主义制度是党和人民在长期实践探索中形成的科学制度体系，我国国家治理一切工作和活动都依照中国特色社会主义制度展开。（ ）是中国特色社会主义制度及其执行能力的集中体现。

- A. 国家治理体系和治理能力
- B. 国家机构改革

C. “不忘初心，牢记使命”主题教育

D. “扫黑除恶”专项斗争

6. 中国共产党第十九届中央委员会第四次全体会议于2019年10月28日至31日在北京召开，会议听取和讨论了习近平受中央政治局委托作的工作报告，审议通过了（ ）。

A. 《中共中央关于推进国家治理体系和治理能力现代化若干重大问题的决定》

B. 《中共中央关于深化党和国家机构改革的决定》

C. 《中共中央关于建立不忘初心、牢记使命的制度的决定》

D. 《中共中央关于坚持和完善中国特色社会主义制度、推进国家治理体系和治理能力现代化若干重大问题的决定》

7. 2019年10月29日至10月31日，第二届世界顶尖科学家论坛在上海举办。习近平向第二届世界顶尖科学家论坛致贺信。本次论坛的主题是“（ ）”

A. 新时代，共享未来

B. 科技，为了人类共同命运

C. 新时代，为科技插上共享的翅膀

D. 汇聚天下英才 共创美好未来

8. 以下有关新实施的法律法规说法错误的是（ ）

A. 新修改的《商标法》规定，不以使用为目的的恶意商标注册申请，应当予以驳回

B. 《汽车客运站安全生产规范》规定，旅客未系安全带不许出站

C. 在祭祀用品、生活用品、票券上可以使用人民币图样

D. 恶意侵犯商标专用权的赔偿法定最高额为五百万

9. （ ）是迄今为止中国发现的年代最早的成熟文字系统，是汉字的源头和中华优秀传统文化的根脉

A. 金文

B. 石鼓文

C. 甲骨文

D. 铭文

10. 党的十九大报告指出，（ ）和（ ），是中国共产党人的精神支柱和政治灵魂，也是保持党的团结统一的思想基础。

A. 共产主义远大理想

新时代中国特色社会主义共同理想

B. 共产主义远大理想

中国特色社会主义共同理想

C. 共产主义崇高理想 新时代中国特色社会主义共同理想

D. 共产主义崇高理想 中国特色社会主义共同理想

11. 中国特色社会主义的总布局是（ ）。

A. 经济、政治、文化、社会建立“四位一体”

B. 实现社会主义现代化和中华民族伟大复兴

C. 社会主义初级阶段

D. 经济、政治、文化、社会、生态文明建设“五位一体”

12. 当前我国思想道德状况的主流是（ ）的，党中央大力推进思想道德建设的成效是十分显著的。

A. 复杂、多元、稳定

B. 正常、稳定、发展

C. 多层、正常、变化

D. 积极、健康、向上

13. 习近平提到，文艺创作要以（ ）为基础，在观念和手段结合上、内容和形式融合上进行深度创新，提高作品的精神高度、文化内涵、艺术价值。

A. 模仿为主，原创为辅

B. 学习理论，实践理论

C. 扎根本土，深植时代

D. 立足国外，积累经验

14. “春风不识兴亡意，草色年年满故城”，这句话体现的哲学道理是（ ）。

A. 物质是运动的，物质的运动具有客观性

B. 内因是变化的根源，外因是变化的条件，外因通过内因起作用

C. 世界上的所有事物都处在运动变化中

D. 必然性产生于事物内部的根本矛盾和本质性原因

15. 海绵城市建设中，先从一些小项目开始看手，由点及面、区域化推进，在城市各个角落构造了一个个“海绵宝宝”。这些“海绵宝宝”虽小，聚少成多，也能发挥大作用。其中体现的哲理是（ ）。

A. 量变的积累能够引起质变

B. 主观能动性的发挥受客观条件的制约

C. 事物的发展是前进性和曲折性的统一

D. 矛盾具有普遍性和特殊性

16. 马克思和恩格斯始终站在世界无产阶级革命的前沿，他们的一生都在为推翻旧世界，建立新世界而奋斗。马克思和恩格斯建立的第一个无产阶级政党是（ ）。

A. 共产主义者同盟

B. 正义者同盟

C. 工人国际

D. 共产国际

17. 改革开放以来，我们党对公有制认识上的一个重大突破，就是明确了公有制和公有制的实现形式是两个不同层次的问题。公有制的实现形式是指资产或资本的（ ）。

A. 组织形式和经营方式

B. 分配形式

C. 所有权归属

D. 占有形式

18. 马克思指出，判断一个变革时代不能以该时代的意识为依据，相反，这个意识必须从物质生活的矛盾中去解释。这里的“物质生活的矛盾”从根本上说是（ ）。

A. 社会生产力与生产关系的现存冲突

B. 经济基础与上层建筑的现存冲突

C. 人类社会与自然界的现存冲突

D. 社会存在与社会意识的现存冲突

19. 社会主义初级阶段基本经济制度，既包括作为社会主义经济基础的公有制经济，也包括不是社会主义经济基础的非公有制经济。把非公有制经济纳入到基本经济制度之中，是因为（ ）。

A. 它们也是社会主义性质的经济

B. 它们不是社会主义性质的经济

C. 它们也是为社会主义服务的

D. 它们不是为社会主义服务的

20. 总需求是指一国在一定时期内，社会对最终产品和劳务愿意购买并有支付能力的总需求量，在开放经济下，总需求等于（ ）。

A. 消费+投资

B. 投资+政府支出

- C. 消费+投资+政府支出
- D. 消费+投资+政府支出+出口

21. 近年来国际形势复杂多变，能源危机、粮食危机、金融危机等交替出现，世界饥饿人口快速增加，全球粮价上涨，全球粮食安全形势恶化，粮食安全问题再次成为全世界关注的焦点。由此可见（ ）。

- A. 世界各国面临的根本利益是一致的
- B. 经济全球化是当今世界的基本特征
- C. 世界和平与发展面临着严峻的挑战
- D. 全球发展最突出问题是粮食安全问题

22. 下列有关资本市场的表述中，错误的一项是（ ）。

- A. 资本市场虽风险大，但收益较高
- B. 资本市场的融资期限可长达几十年，甚至无到期日
- C. 按所有权性质，资本市场可分为债券市场和股票市场
- D. 在资本市场上，资金供应者包括储蓄银行、政府机构、信托投资公司等

23. 经济增长的标志是（ ）。

- A. 失业率的下降
- B. 先进技术的广泛运用
- C. 城市化速度加快
- D. GDP 的增加

24. 如何解决有效需求不足问题，使经济走出危机。对此凯恩斯主张（ ）。

- A. 建立宽泛的社会保障
- B. 采取赤字财政政策
- C. 全面降低个人所得税，削减财政预算支出
- D. 实行收支平衡的财政政策

25. 国家调控宏观经济时所运用的货币政策工具不包括（ ）。

- A. 调整法定存款准备金率
- B. 开展常备借贷便利的操作
- C. 公开国债的买卖
- D. 扩大基本建设投资规模

26. 目前，超市里各种品牌的洗涤用品琳琅满目，且为了使自身拥有更大的市场占有率，

它们之间经常大打“价格战”，则这种市场类型是（ ）。

- A. 完全竞争市场
- B. 完全垄断市场
- C. 垄断竞争市场
- D. 寡头垄断市场

27. 下列关于充分就业理解不正确的是（ ）。

- A. 在某一工资水平之下，所有愿意接受工作的人，都获得了就业机会，就是充分就业
- B. 实现充分就业是政府职能结构中的重要组成部分
- C. 实现充分就业是国家政府宏观调控的首选目标
- D. 充分就业就是零失业

28. 公共行政学研究的核心问题是（ ）。

- A. 政府职能
- B. 行政监督
- C. 行政决策
- D. 行政体制

29. 管理人员与一般工作人员的根本区别在于（ ）。

- A. 需要与他人配合完成组织目标
- B. 需要从事具体的文件签发审阅工作
- C. 需要对自己的工作成果负责
- D. 需要协调他人的努力以实现组织目标

30. 部门规章与地方政府规章之间对同一事项规定不一致时，由（ ）。

- A. 国务院提出意见
- B. 国务院裁决
- C. 全国人民代表大会常务委员会决定
- D. 部门与地方协商

31. 某地人大代表直接选举中，参加投票的选民人数为 2273 人，占全选区选民的 59%，根据《选举法》的规定，下列关于代表候选人宫某能否当选的说法正确的是（ ）。

- A. 宫某在候选人中得票最多，因此可以当选
- B. 只有宫某得票数量达到 1137 票以上才能当选
- C. 宫某获得 2073 票以上才能当选

D. 因为选举无效，所以宫某不能当选

32. 下列选项主人公不属于完全民事行为能力人的是（ ）。

A. 小李今年 17 周岁，自己在外打工，其收入作为主要生活来源

B. 19 岁的小张是大二学生，家里每月给他打生活费

C. 小王的外婆中风瘫痪在床，经常神志不清

D. 小刘已经 30 多岁了，但还是失业在家，整天游手好闲

33. 甲对乙新换的手机爱不释手，听丙说是进口高档手机，便主动以 4000 元购买。但事后确认该手机其实是国产普通手机，市场价仅 1000 元。若甲反悔，以下说法正确的是（ ）。

A. 是甲主动要求购买的，买卖合同有效

B. 乙欺骗了甲，买卖合同无效

C. 甲存在重大误解，买卖合同可以撤销

D. 丙欺骗了甲，买卖合同无效

34. 下列关于赠与合同的说法中，错误的是（ ）。

A. 赠与人在赠与财产的权利转移之前一般情况下可以撤销赠与

B. 赠与合同可以附加义务履行

C. 赠与人撤销权的除斥期间为 1 年

D. 赠与合同一旦生效且无任何撤销情形，则赠与合同必须履行

35. 经常居住地是指自然人离开住所地最后连续居住满（ ）。

A. 3 个月以上的地方

B. 6 个月以上的地方

C. 1 年以上的地方

D. 2 年以上的地方

36. 12 周岁女孩李某无故摔打 1 岁男婴，并将其从高楼扔下，造成小男婴生命垂危的严重后果。对此案件，应该如何处置（ ）。

A. 李某负完全刑事责任

B. 李某负相对刑事责任

C. 李某监护人代负刑事责任

D. 李某完全不负刑事责任

37. 由于实施了违法行为、违约行为或出现了不属违法、违约的某些法律事实而使责任

主体应当承担的不利的法律后果称为（ ）。

- A. 法律责任
- B. 法律义务
- C. 法律制裁
- D. 法律后果

38. 我国《行政处罚法》明确规定行政法规不得设定的处罚种类是（ ）。

- A. 没收非法财物
- B. 行政拘留
- C. 吊销许可证或执照
- D. 责令停产停业

39. 下列关于自然人的民事行为能力说法正确的是（ ）。

- A. 无民事行为能力人不能申请专利
- B. 限制民事行为能力人不能担任公司董事、监事和高管
- C. 无民事行为能力人不能成为公司股东
- D. 未成年人所作的证言均能单独作为认定案件事实的依据

40. 下列机构中不具有法人资格的是（ ）。

- A. 北京市人民政府
- B. 天津市人民医院
- C. 新华社
- D. 工商银行上海分行

41. 合同中的下列免责条款，有效的是（ ）。

- A. 在本合同履行过程中所致人身伤害，本公司概不负责
- B. 因意外事故致乙方不能履行或不能完全履行合同的，对因此所造成的财产损害，乙方不负赔偿责任
- C. 依本合同所进行的手术，全部风险由患者承担
- D. 因产品质量问题所致一切损害，仅由本公司承担该产品价格的价值损失

42. 李阿姨在小区散步时，被从楼上王大爷家掉下的鸟笼砸伤了头部。李阿姨要求王大爷赔偿医药费和精神损失费，但王大爷否认李阿姨的头部是鸟笼砸伤的。关于本案举证责任的承担，下列说法正确的是（ ）。

- A. 李阿姨应承担证明头部的伤系由鸟笼坠落造成的举证责任



- B. 王大爷应承担证明李阿姨头部的伤不是由鸟笼坠落造成的举证责任
- C. 李阿姨应承担证明王大爷对鸟笼坠落有过错的举证责任
- D. 王大爷应承担证明没有对李阿姨造成精神损害的举证责任

43. 我国刑法在溯及力问题上采取的原则是（ ）。

- A. 从旧原则
- B. 从新原则
- C. 从旧兼从轻原则
- D. 从新兼从轻原则

44. 甲的父亲在一次车祸中丧生，甲依法继承了其父亲的遗产。引起遗产继承这一法律关系发生的法律事实是（ ）。

- A. 车祸
- B. 甲的父亲死亡
- C. 甲未声明放弃继承权
- D. 甲与其父之间存在合法的父子关系

45. 根据《国家赔偿法》，下列说法错误的是（ ）。

- A. 侵犯公民人身自由的，每日赔偿金按照国家上年度职工日平均工资计算
- B. 财政部门应当自收到支付申请之日起 7 日内支付赔偿金
- C. 对赔偿请求人取得的赔偿金不予征税
- D. 赔偿费用列入各级财政预算

46. 儒家的管理思想贯穿着（ ）的伦理道德精神。

- A. 仁、义、礼、智、信
- B. 修身、齐家、治国、平天下
- C. 以和为贵
- D. 性恶论

47. 下列名句和作者对应正确的是（ ）。

- ①笔落惊风雨，诗成泣鬼神
- ②明月出天山，苍茫云海间
- ③奇文共欣赏，疑义相与析
- ④东边日出西边雨，道是无晴却有晴

- A. 王之涣、李白、杜牧、陶渊明

B. 杜甫、李白、陶渊明、刘禹锡

C. 陈子昂、杜甫、白居易、李商隐

D. 苏轼、辛弃疾、李清照、王勃

48. 下列诗句与季节对应不正确的是（ ）。

A. 天街小雨润如酥，草色遥看近却无——春季

B. 接天莲叶无穷碧，映日荷花别样红——夏季

C. 停车坐爱枫林晚，霜叶红于二月花——秋季

D. 塞下秋来风景异，衡阳雁去无留意——冬季

49. 下列历史事件按时间顺序排列正确的一组是（ ）。

A. 忽必烈建立元朝—马可·波罗来到大都—澎湖巡检司管辖台湾一带

B. 明成祖迁都北京—修建明长城—郑和七次下西洋

C. 张骞出使西藏—文景之治—司马迁撰写《史记》

D. 玄武门之变—安史之乱—黄巢起义

50. 下列历史事件：①日军炸毁南满铁路；②台儿庄战役；③平型关大捷；④飞夺泸定

桥。对其按发生时间先后排序正确的一项是（ ）。

A. ④②③①

B. ④①②③

C. ①③②④

D. ①④③②

51. 下列名言警句与哲学家对应正确的一项是（ ）。

A. 认识自己，方能认识人生——苏格拉底

B. 我爱我师，但我更爱真理——柏拉图

C. 良好的开端，等于成功的一半——培根

D. 知识就是力量——亚里士多德

52. 下列选项中不属于五代十国时期“十国”的是（ ）。

A. 南唐

B. 吴越

C. 北汉

D. 后汉

53. 汉阳兵工厂是晚清洋务运动的代表人物（ ）到湖北后主持创办的军工制造企业。

A. 曾国藩

B. 李鸿章

C. 张之洞

D. 左宗棠

54. 我国现存最高最古的一座木构塔式建筑是（ ）。

A. 悬空寺

B. 广州塔

C. 大雁塔

D. 释迦塔

55. 下列绘画作品属于元代的是（ ）。

A. 《步辇图》

B. 《江帆楼阁图》

C. 《牧马图》

D. 《富春山居图》

56. 信息高速公路简单地说，就是以多媒体为车，以（ ）为路，把用户连接起来，以交流方式快速传递数据、声音和图像等信息的信息网络。

A. 光纤

B. 电缆

C. 高频通道

D. 电磁波

57. 使用常用科技名词必须规范，在信息网络技术中，以下哪个科技名词是规范的（ ）。

A. 因特网

B. 国际互联网

C. 互联网

D. 信息网

58. 下列关于生活中的常识应用不正确的是（ ）。

A. 擦皮鞋时滴上醋可以使得皮鞋光亮持久

B. 鸡饲料中加入鸡蛋壳粉可使鸡不下软壳蛋

C. 用维生素 C 的溶液可以去除茶杯上的茶垢

D. 每天摄入大量不含盐分的水能使身体健康

59. 茶是一种著名的保健饮品，中国人自古就有饮茶的习惯。下列与其相关的说法中，正确的是（ ）。

A. 冬天天寒，可通过饮花茶来滋养阳气，增热添暖

B. 刚采摘的茶叶新鲜干净，宜马上饮用

C. 我国名茶洞庭碧螺春产于湖南岳阳洞庭湖附近

D. 茶马古道是当今世界上地势最高的贸易通道

60. 茶壶的壶盖上往往有个小孔，这种设计是为了（ ）。

A. 使茶香得以散发

B. 保持壶内外的气压平衡，便于更好的倒水

C. 便于观察壶内水面的高度

D. 透气散热，加快冷却

61. 蛋白质是构成人体组织器官的支架和主要物质，在人体生命活动中起着重要作用。

下列人体细胞中的蛋白质，有调节作用的是（ ）。

A. 生长激素

B. 载体蛋白

C. 血红蛋白

D. 蛋白酶

62. 下列城市与其气候类型、气候特征对应错误的是（ ）。

A. 北京——温带季风气候——冬季寒冷干燥，夏季高温多雨

B. 利雅得——热带季风气候——全年高温并分为干、湿两季

C. 珀斯——地中海气候——冬季温和湿润，夏季炎热干燥

D. 伦敦——温带海洋性气候——全年温和常湿

63. 一般而言，气温随着海拔的升高而降低，海拔每升高 1000 米，气温会下降（ ）。

A. 4℃

B. 6℃

C. 8℃

D. 10℃

64. 每年 8 月，当我国正处于盛夏时候，南半球的阿根廷正处于寒冷的冬天，造成这种气候差异的因素是（ ）。

A. 海陆分布

B. 大气环流

C. 地貌状况

D. 纬度位置

65. “十雾九晴”中雾的类型通常是指（ ）。

A. 平流雾

B. 辐射雾

C. 锋面雾

D. 蒸汽雾

66. 下列有关物质用途的叙述中，不正确的是（ ）。

A. 食盐作为一种调味品，有“百味之王”之称

B. 氧气用于急救病人，吸氧也有助于美容养颜

C. 氢氧化钠具有潮解性，可用于泡发鱿鱼等水产品

D. 碳酸氢钠常被用作发酵剂和膨松剂

67. 广播技术在日常生活中应用得非常广泛，下列关于广播表述不正确的是（ ）。

A. 我们通常所说的FM指调频制广播

B. 听众可通过调节频段来选择节目

C. 广播信号传播速度大于声波

D. 雷雨天对收听广播没有任何影响

68. 下列说法中符合实际的是（ ）。

A. 受地磁场的作用，静止的小磁针的S极总是指向地球的北方

B. 高层建筑物顶端装有避雷针

C. 行驶的汽车刹车时，乘客会向后倾倒

D. 阳光下人们用近视眼镜取火

69. 瓷器区别于陶器，是因为瓷器的主要原料是（ ）。

A. 粘土

B. 高岭土

C. 稀土

D. 泥土

70. 下列消防安全标志，解读不正确的是（ ）。



A. 禁止带火种



B. 禁止用水灭火



C. 禁止锁闭



D. 禁止放易燃物

71. 签发人应标注在文件的（ ）。

- A. 版头部分
- B. 主体部分
- C. 版记部分
- D. 附件部分

72. 下列不属于“通报”文种适用范围的是（ ）。

- A. 表彰先进
- B. 批评错误
- C. 人事任免
- D. 传达重要精神或情况

73. 在重大节日、喜庆仪式、隆重典礼、重大活动或对方取得成功或胜利时，用来表示祝贺的礼仪性文书是（ ）。

- A. 感谢信
- B. 贺词
- C. 慰问信
- D. 启事

74. 根据《党政机关公文处理工作条例》的相关规定，民族自治地方的公文，（ ）。

- A. 应使用汉字

B. 可以并用汉字和当地通用的少数民族文字

C. 应采用当地通用的少数民族文字，以体现尊重

D. 应以汉字或当地通用的少数民族文字中的一种为主

75. 根据《党政机关公文处理工作条例》的相关规定，联合行文时，成文日期为（ ）。

A. 签发机关负责人签发的日期

B. 会议通过的日期

C. 第一个签发机关负责人签发的日期

D. 最后签发机关负责人签发的日期

76. 批复正文的开头应首先（ ）。

A. 简述来文要求

B. 表明态度

C. 引述来文内容

D. 引述来文标题和发文字号

77. 行政公文作者是指（ ）。

A. 制发该公文的机关或机关的法定领导人

B. 草拟该公文的秘书人员

C. 参与该公文形成过程的有关处（科）室

D. 审核该公文的办公室负责人

78. 下列函的结束语中比较得体的是（ ）。

A. 以上所请妥否，请批复

B. 此致敬礼

C. 所请事项重大，不可延误，请务必于1月10日前答复

D. 以上意见，请予函复

79. ENIAC 是世界上第一台电子数字计算机。电子计算机的最早的应用领域是（ ）。

A. 信息处理

B. 科学计算

C. 过程控制

D. 人工智能

80. 组成计算机指令的两部分是（ ）。

A. 数据和字符

B. 操作码和地址码

C. 运算符和运算数

D. 运算符和运算结果

81. 计算机能直接识别的语言是 ( )。

A. 高级程序语言

B. 机器语言

C. 汇编语言

D. C++语言

82. 用高级程序设计语言编写的程序称为源程序, 它 ( )。

A. 只能在专门的机器上运行

B. 无需编译或解释, 可直接在机器上运行

C. 可读性不好

D. 具有良好的可读性和可移植性

83. 一个汉字的国标码需用 ( )。

A. 1 个字节

B. 2 个字节

C. 4 个字节

D. 8 个字节

84. 下列属于计算机病毒特征的是 ( )。

A. 模糊性

B. 高速性

C. 传染性

D. 危急性

85. 人口迁移对迁入地和迁出地以及环境都会产生较大的影响。下列关于人口迁移影响的说法, 错误的是 ( )。

A. 人口迁出加强了迁出地与外界社会的经济、科技、思想和文化的联系

B. 人口迁出在一定程度上会造成迁出地的人才流失

C. 人口迁入在一定程度上会加剧迁入地的生态环境问题

D. 人口迁移的消极影响大于积极影响

86. 地球上很多国家和地区闹水荒。对其原因的分析有误的是 ( )。



- A. 地球上水的总储蓄量不大，地球环境日益恶化，水污染严重
- B. 地球上的水 94%分布于海洋中，海水不能直接为人类生活、生产所利用
- C. 地球上淡水资源的地理分布极不平衡
- D. 世界工农业生产发展、城市数量及居民人口不断增加导致耗水量剧增

87. 冻雨是在初冬或冬末春初时节见到的一种灾害性天气。以下关于冻雨的说法不正确的是（ ）。

- A. 形成冻雨的雨滴温度低于  $0^{\circ}\text{C}$
- B. 形成冻雨的地区近地面空气温度低于  $0^{\circ}\text{C}$
- C. 冻雨是湿润的暖空气被抬升而形成的降雨
- D. 冻雨是湿润的冷空气带来的低温降雨

88. 某徒手登山运动员攀登海拔较高的山峰，当他在海拔 4000 米以上继续攀登时，尽管经过充足的休息后再爬，但越是往上爬，越感到乏力，其主要原因是（ ）。

- A. 山峰陡峭，人体能量消耗大
- B. 高处气温太低
- C. 高山上空气稀薄，气压偏低
- D. 该运动员体质太差，有晕高症

89. 下列成语及其反映的生物知识，对应不正确的是（ ）。

- A. 望梅止渴——生物的非条件反射
- B. 优胜劣汰——自然选择
- C. 飞蛾扑火——昆虫的趋光性
- D. 毛骨悚然——交感神经兴奋，皮肤立毛肌收缩，骨骼肌不由自主地颤栗

90. 下列关于生活中化学常识的表述中，正确的是（ ）。

- A. 酸雨是大气污染的一种，它的主要成分是二氧化硫、二氧化碳
- B. 买来的铁丝，上面镀了一层“防腐”金属，此金属是铜
- C. 医院用“钡餐”造影法检查病人的胃，“钡餐”的主要物质是氯化钡
- D. 儿童患软骨病，是因为缺少钙元素

91. 网络文学开启了大众写作的热潮，也在改变着当代文学创作的\_\_\_\_\_，特别是网络文学潜在的“对话性”，是区别传统文学的根本所在。有学者认为，互联网平台的在线性和\_\_\_\_\_，使得这样的对话更为便捷和真实，这是传统文学所不具备的。

依次填入划横线处最恰当的一项是：

A. 传统 交互性

B. 模式 直观性

C. 趋势 开放性

D. 版图 及时性

92. 咳嗽涉及病因众多，临床诊治咳嗽有时很困难，也是每个临床医生经常碰到的难题，但如果分清楚原因，对症下药，效果则\_\_\_\_\_。

依次填入划横线处最恰当的一项是：

A. 药到病除

B. 立竿见影

C. 不言自明

D. 事半功倍

93. 以鸟类迁徙为话题的纪录片《迁徙的鸟》向我们完美展示了一个自然界的奇迹。虽然大部分地表已被人类改造得\_\_\_\_\_，但在天空中，鸟儿仍是主角，无论雪鹅、野鸭还是云雀，都自有其尊严。“我们需要与自然界和平相处，因为人类不可能\_\_\_\_\_地生活在这个世界上。”

依次填入划横线处最恰当的一项是：

A. 面目全非 孤单

B. 支离破碎 傲慢

C. 元气大伤 自私

D. 体无完肤 麻木

94. 社会的和谐，是以人与人之间的爱即仁爱为\_\_\_\_\_基础的，也是以执政者怀抱民本思想执政为民，惠及民生为基础的。可以说，正是传统仁爱思想和民本思想的有力\_\_\_\_\_，才确保了中华民族 5000 年历史的\_\_\_\_\_。

依次填入划横线处最恰当的一项是：

A. 思想 维护 革故鼎新

B. 情感 维系 绵延不绝

C. 精神 维持 历久弥新

D. 理论 维稳 山高水长

95. 中国制造业超越美国指日可待，中国 GDP 超越美国也将在这一代中国人的有生之年变为现实。这两个超越凝聚了几代中国人的奋斗，当然意义巨大。但过分陶醉，就会变自

信自大，进而\_\_\_\_\_。毕竟，物质产出只是硬实力，历史上，船坚炮利的国家甚多，基业长青的却少有，\_\_\_\_\_更多在“软实力”而不在“硬实力”。

依次填入划横线处最恰当的一项是：

- A. 妄自尊大 关键
- B. 忘乎所以 秘密
- C. 目中无人 原因
- D. 趾高气扬 秘诀

96. 正是由于中国等亚洲国家对日本当时（麦克阿瑟统治期）比现在问题更严重的历史教科书\_\_\_\_\_，错过了\_\_\_\_\_影响的最佳时机，新一代日本人长成了，问题才更\_\_\_\_\_了。

依次填入划横线处最恰当的一项是：

- A. 熟视无睹 实行 复杂
- B. 沉默不语 实行 棘手
- C. 沉默不语 施加 棘手
- D. 熟视无睹 施加 复杂

97. 对于民俗文化，只要当地政府给予正确的扶持和引导，充分挖掘并赋予崭新的内容，民俗文化就能焕发出新的光彩，显示出强大的生命力。然而，一些地方在挖掘民俗文化的过程中，却将那些陈旧陋习“发扬光大”，这是与继承发扬民俗文化的理念相违背的。

下列表述最符合作者想表达的观点是：

- A. 民俗文化的光彩历久弥新
- B. 政府的正确领导是继承民俗文化的关键
- C. 传承民俗文化也应移风易俗
- D. 民俗文化中存在一些陈旧陋习

98. 技术开发与应用在人类历史发展中一直扮演着举足轻重的角色。蒸汽机的改良，发电机的出现，核技术的运用，电脑的发明无一不深刻改变了人类社会的存在方式。不过技术对社会的影响似乎从来就没有延伸到对人格的塑造上来，技术在绝大多数人看来，只能成为人的对象和工具，至少它不会直接改变人类之间关系的模式，但是麻省理工学院社会学教授雪莉·特克尔并不这么认为。

这段文字接下来最可能讨论：

- A. 雪莉·特克尔教授对技术发展持悲观态度
- B. 技术对人的影响如何延伸到改变人际关系

C. 回顾技术影响人类发展的演变历程

D. 被技术改变的人类该何去何从

99. 近日，科学家通过研究发现我们的宇宙可能是超流体，这说明我们可能生活在“水下”，新的研究显示时空可能是性质如同流体的质态，可以认为是一种超流体，该物质与其他物质不同，但可以为光子提供一个新的介质，就像声音在空气中传播一样，有研究人员认为如果这种可能“承载”光子运动的介质存在，那么其粘度应该为零，这将为我们开启一个新的理论，通过量子引力论来解释这奇怪的现象。

根据这段话，下列选项理解正确的是：

A. 时空是一种固体

B. 声音不可以在空气中传播

C. 我们可能生活在海洋之中

D. 可“承载”光子运动的介质可能存在

100. ①成为健身达人、追剧狂魔、手游玩家也是让人劳神的“小目标”

②手机、汽车减轻了沟通之苦，但网络社交、保养停放令人伤神

③所以，值得思考的是：如何忙的充实、忙的有效，让忙碌真正加快前进的步伐

④在现代社会，人们看似从重复劳动中被解放出来，但物质的丰富、生活的多彩令人目不暇接

⑤五颜六色的生活，是时代进步的馈赠，但某种意义上也是忙碌的源头

⑥稍不小心，朝着目标阔步而去的忙碌，就会变成无头苍蝇式的庸碌，甚至带来低效混沌的“拖延症”

将以上六个句子重新排列语序正确的是（ ）。

A. ②①⑤④⑥③

B. ④②①⑤⑥③

C. ②①④⑤③⑥

D. ④③⑤①⑥②

101. 某高校艺术学院分音乐系和美术系两个系别，已知学院男生人数占总人数的30%，且音乐系男女生人数之比为1:3，美术系男女生人数之比为2:3，问音乐系和美术系的总人数之比为多少（ ）

A. 5: 2

B. 5: 1

C. 3: 1

D. 2: 1

102. 有 6 种颜色的小球，数量分别为 4, 6, 8, 9, 11, 10，将它们放在一个盒子里，那么，拿到相同颜色的球最多需要的次数为（ ）

A. 6

B. 12

C. 11

D. 7

103. 有 135 人参加某单位的招聘，31 人有英语证书和普通话证书，37 人有英语证书和计算机证书，16 人有普通话证书和计算机证书，其中一部分人有三种证书，而一部分人则只有一种证书。该单位要求必须至少有两种上述证书的应聘者才有资格参加面试。问至少有多少人不能参加面试（ ）

A. 51

B. 50

C. 53

D. 52

104. 女儿今年的年龄是母亲年龄的  $\frac{1}{4}$ ，40 年后女儿的是母亲的  $\frac{2}{3}$ 。问当女儿年龄是母亲年龄的  $\frac{1}{2}$  时是公元多少年（假设今年是 2013 年）（ ）

A. 2021

B. 2022

C. 2026

D. 2029

105. 某单位有职工 15 人，其中业务人员 9 人，现要从整个单位选出 3 人参加培训，要求其中业务人员的人数不以少于非业务人员的人数。问有多少种不同的选人方法（ ）

A. 156

B. 216

C. 240

D. 300

106. 2016 年 5 月 1 日是星期日，请推算 2015 年 6 月 1 日是星期几？（ ）

A. 星期一

B. 星期二

C. 星期三

D. 星期四

107. 一项工作由师傅单独做要 10 天，由徒弟单独做要 12 天，现由两人共同做，中途师傅请假 1 天，则完成需要（ ）天

A. 6

B. 7

C. 8

D. 9

108. 甲、乙二人分别同时从 A、B 两地出发相向匀速而行，两人相遇之后，甲又经过了 2 个小时到达 B 地；乙又经过 4 个半小时到达 A 地，若他们到达后都立即调头，当他们再次相遇时，距他们第一次相遇经过了多少个小时？

A. 5

B. 5.5

C. 6

D. 6.5

109. 汽车以每小时 54 千米的速度笔直地开向峭壁，驾驶员按一声喇叭，6 秒后听到回声，已知声音的速度是每秒 340 米，问听到回声时，汽车离峭壁的距离是多少米？

A. 975

B. 1020

C. 1065

D. 1155

110. 车库中有 10 个相连的空车位，有 3 辆车开进车库并随机停在这 10 个车位上，问剩下的空位中正好只有 5 个相连空位的概率为（ ）

A. 小于 10%

B. 10%

C. 20%

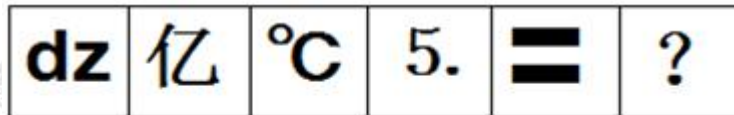
D. 大于 20%

111. 从所给的四个选项中，选择最合适的一个填入问号处，使之呈现一定的规律性：



A B C D

112. 从所给的四个选项中，选择最合适的一个填入问号处，使之呈现一定的规律性：




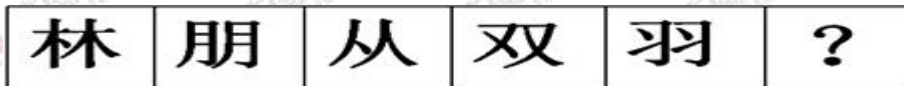
A B C D

113. 从所给的四个选项中，选择最合适的一个填入问号处，使之呈现一定的规律性：



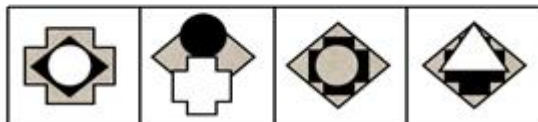
A B C D

114. 从所给的四个选项中，选择最合适的一个填入问号处，使之呈现一定的规律性：



A B C D

115. 从所给的四个选项中，选择最合适的一个填入问号处，使之呈现一定的规律性：



A B C D

116. 房子：窗户

- A. 权利：金钱
- B. 水果：萝卜
- C. 飞机：宇宙
- D. 汽车：轮胎

117. 浙江：杭州：安徽

- A. 湖北：武汉：北京
- B. 福建：厦门：上海
- C. 江苏：南昌：哈尔滨
- D. 吉林：长春：沈阳

118. 工人：农民

- A. 清香：浓郁
- B. 老师：学生
- C. 车间：工人
- D. 教师：医生

119. 汽油：去渍

- A. 盐：杀菌
- B. 双氧水：消毒
- C. 洗衣服：去渍
- D. 酱油：调味

120. 背水一战：韩信

- A. 宝刀未老：赵云
- B. 约法三章：刘邦
- C. 才高八斗：李白
- D. 一身是胆：黄忠

121. 酝酿效应是指当一个人长时间致力于解决某一个问题而又百思不得其解时，如果他暂时停下来去做别的事情，一段时间之后，他可能会忽然想到解决的办法。

根据上述定义，以下属于酝酿效应的是：

- A. 小李找某份文件一直没找到，过了两个小时后他发现了那份文件



- 
- B. 某修理人员在修理电视时查阅了大量线路图，终于修好了电视
- C. 王同学写毕业论文时遇到了困难，几天后他参加学术会议时得到很多相关的信息，并且理清了思路
- D. 某研究人员申请了一个项目迟迟没有得到相关部门的批复，他转而研究别的课题，几个月后该项目得到了批准

122. 共享经济指借助网络第三方平台，基于闲置资金使用权的暂时性转移，实现生产要素的社会化，提高存量资产的使用效率以创造更多价值，促进社会经济的可持续发展。

根据上述定义，下列经济活动不属于共享经济的有：

- A. 王某从某网络平台订车去飞机场，方便快捷
- B. 张某从某网络平台购买外卖美食，在家享受美味
- C. 李基从某网络平台贷款炒股，获得了预期收益
- D. 马某旅行前从某网络平台预订民宿，抵达后入住

123. 商品差价是指同一商品由于流通环节、质量、购销地区与季节不同而形成的价格差额。

根据该定义，下列属于商品差价的选项是：

- A. 猪肉加工成香肠后价格上升
- B. 五粮液酒和茅台酒的价格不同
- C. 在合肥买 2018 版高配昂科威汽车比在北京买要便宜
- D. 冬季的金针菇比夏季的平菇贵

124. 种群是指在一定空间和时间的同种生物个体的总和。下列不属于种群的一项是：

- A. 森林里的鸟
- B. 一片草原上的波尔山羊
- C. 一个蚁巢里的白蚁
- D. 一块地里的小麦

125. 皮格马利翁效应是指当某人获得他人信任和期望时，便会产生积极向上的动力，更加努力地实现他人对自己的期望。根据此定义，下列属于皮格马利翁效应的是：

- A. 小丽从小就想当歌唱家，在老师的严格要求和训练下，加之自身十分的努力，长大后终于实现了自己的梦想
- B. 平时总爱自暴自弃的小阳，在老师和父母的鼓励辅助下，最终考取了名牌大学
- C. 豫剧大师常香玉拥有一颗拳拳爱国之心，经过 180 多场义演，常香玉带领着剧社实

现了捐一架飞机的意愿

D. 张亮的事业心非常强，工作中总是兢兢业业、任劳任怨

126. 烟草业仍然是有利可图的。在中国，尽管今年吸烟者中成人人数减少，烟草生产商销售的烟草总量还是增加了。

以下哪项不能用来解释烟草销售量的增长和吸烟者中成人人数的减少：

A. 今年中，开始吸烟的妇女数量多于戒烟的男子数量。

B. 今年中，开始吸烟的少年数量多于同期戒烟的成人数量。

C. 今年，非吸烟者中咀嚼烟草及嗅鼻烟的人多于戒烟者。

D. 今年和往年相比，那些有长年吸烟史的人平均消费了更多的烟草。

127. 实践表明多媒体课件进行教学能够提高教学效果。即使课件做得过于简单，只是传统的板书的“搬家”，未能真正实现多媒体的功效，也可以起到节省时间的作用。以下哪一项陈述是上面的论证所依赖的假设？

A. 采用多媒体课件教学比使用传统的板书教学有明显的优势

B. 将板书的内容移入课件不会降低传统板书在教学中的功效

C. 有些教师使用的课件过于简单，不能真正发挥多媒体的功效

D. 用多媒体课件代替传统的板书可以节省写板书的时间

128. 有调查表明，四川人比广东人更喜欢吃辣椒，由此可推：

A. 爱吃辣椒的一定是四川人

B. 广东人不能吃辣椒

C. 四川人比广东人更适合吃辣椒

D. 四川人和广东人一样适合吃辣椒

129. 某珠宝店失窃，甲、乙、丙、丁四人涉嫌被拘审。四人的口供如下：

甲：案犯是丙。

乙：丁是罪犯。

丙：如果我作案，那么丁是主犯。

丁：作案的不是我。

四个口供中只有一个是假的，

如果上述断定为真，那么以下哪项是真的：

A. 说假话的是甲，作案的是乙。

B. 说假话的是丁，作案的是丙和丁。

C. 说假话的是乙，作案的是丙。

D. 说假话的是丙，作案的是丙。

130. 世界级的马拉松选手每天跑步都不超过 6 小时。一名选手每天跑步超过 6 小时，因此他不是一名世界级马拉松选手。

以下哪项与上文推理形式相同：

A. 跳远运动员每天早晨跑步。如果某人早晨跑步，那么他是跳远运动员

B. 如果每日只睡 4 小时，对身体不利。研究表明，最有价值的睡眠都发生在入睡后的第 5 个小时。

C. 家长和小孩做游戏时，小孩更高兴。因此，家长应该多作游戏。

D. 油漆三小时内都不会干。某涂料在三小时内干了，所以它不是油漆。

一、根据所给资料，回答下列问题。

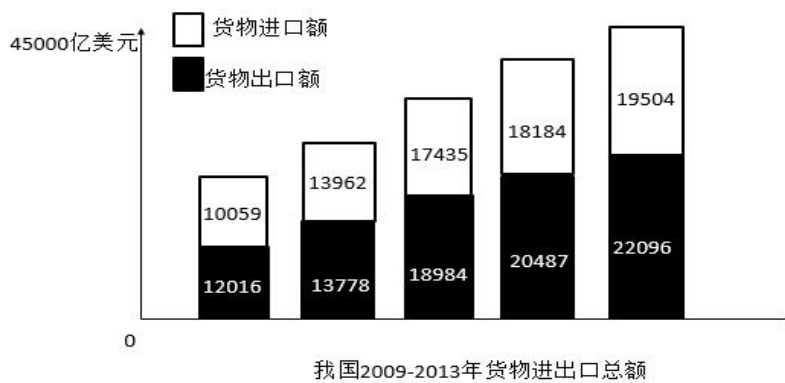


表 1 我国 2013 年货物进出口总额及其增长速度 (单位: 亿美元)

指标	绝对数	比上年增长%
货物进出口总额	41600	7.6
货物出口额	22096	7.9
其中：一般贸易	10875	10.1
加工贸易	8605	-0.3
其中：机电产品	2652	7.3
高新技术产品	6603	9.8
货物进口额	19504	7.3
其中：一般贸易	11099	8.6
加工贸易	4970	3.3
其中：机电产品	8400	7.3
高新技术产品	5582	10.1
进出口差额 (出口减进口)	2592	?

国家和地区	出口额	比上年增长%	进口额	比上年增长
欧盟	3390	1.1	2200	3.7
美国	3684	4.7	1525	14.8
东盟	2441	19.5	1996	1.9
中国香港	3848	19	162	-9.3
日本	1503	-0.9	1623	-8.7
韩国	912	4	1831	8.5
中国台湾	406	10.5	1566	18.5
俄罗斯	496	12.6	396	-10.2
印度	484	1.6	170	-9.6

131. 表1中的“?”为( )

- A. 12.5
- B. 67.3
- C. 112.5
- D. 167.3

132. 2013年,我国对俄罗斯的进口额比2012年减少了( )亿美元。

- A. 10.2
- B. 27.0
- C. 36.7
- D. 45.0

133. 根据上述资料,2013年进出口差额最小的是( )

- A. 一般贸易
- B. 加工贸易
- C. 机电产品
- D. 高新技术产品

134. 根据上述资料,下列说法正确的是( )

- A. 2012年,一般贸易、加工贸易的出口额都大于进口额
- B. 2012年,机电产品,高新技术产品出口额都大于进口额
- C. 2012年,我国对于日本的出口额大于进口额。
- D. 2012年,我国对东盟的出口额大于进口额

135. 根据上述资料,下列说法不正确的是( )

- A. 2009年-2013年,货物进口额逐年增长
- B. 2009年-2013年,货物出口额逐年增长
- C. 2009年-2013年,货物进出口差额逐年增长

D. 2009 年-2013 年，货物进出口总额逐年增长

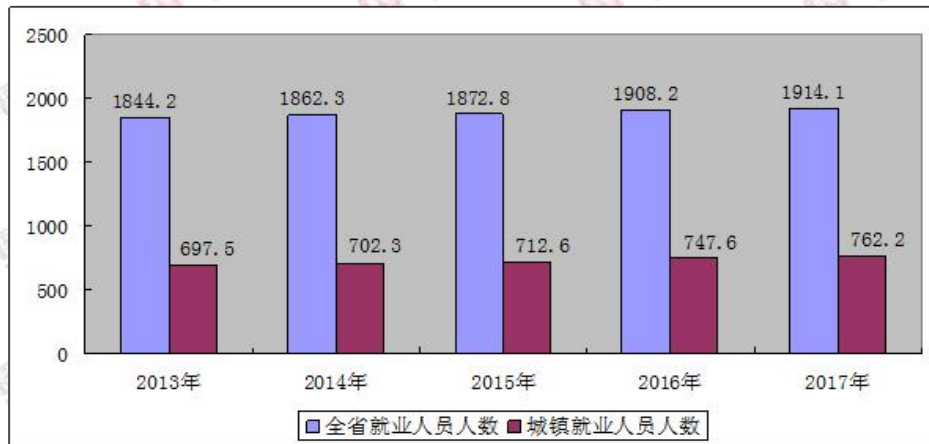
二、根据所给资料，回答下列问题。

截止 2017 年末全省就业人员 1914.1 万人，比上年末增加 5.9 万人；其中城镇就业人员 762.2 万人，比上年末增加 14.5 万人。全省就业人员中，第一产业就业人员占 35.0%；第二产业就业人员占 25.3%；第三产业就业人员占 39.7%。

2017 年全省农民工总量 517.7 万人，比上年增加 15.9 万人，其中外出农民工 182.1 万人。

图 1 近五年全省就业人员年末人数

单位：万人



全年城镇新增就业人数 51.80 万人，城镇失业人员再就业人数 17.18 万人，就业困难人员就业人数 4.76 万人。年末城镇登记失业人数为 26.53 万人，城镇登记失业率为 3.43%。全年全省共帮助 2100 户零就业家庭实现每户至少一人就业。组织 600 名高校毕业生到基层从事“三支一扶”服务。

图 2 近五年全省城镇新增就业人数

单位：万人

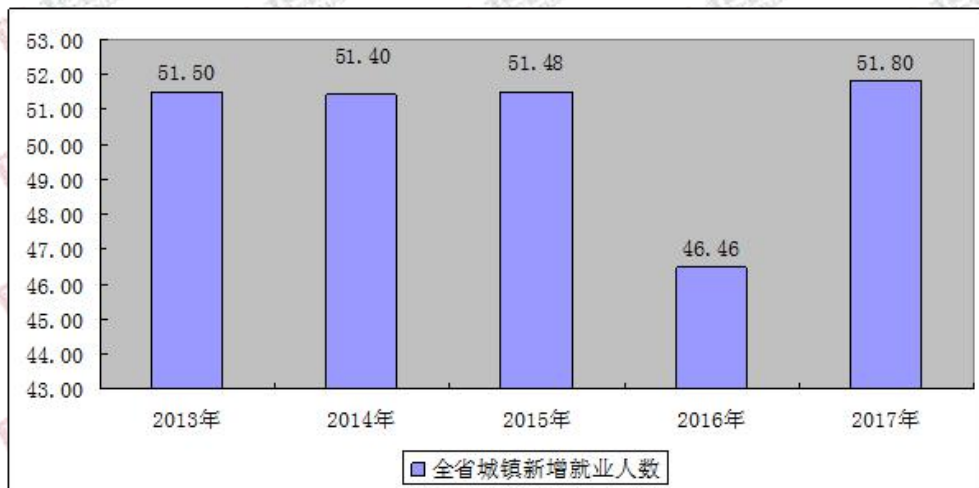
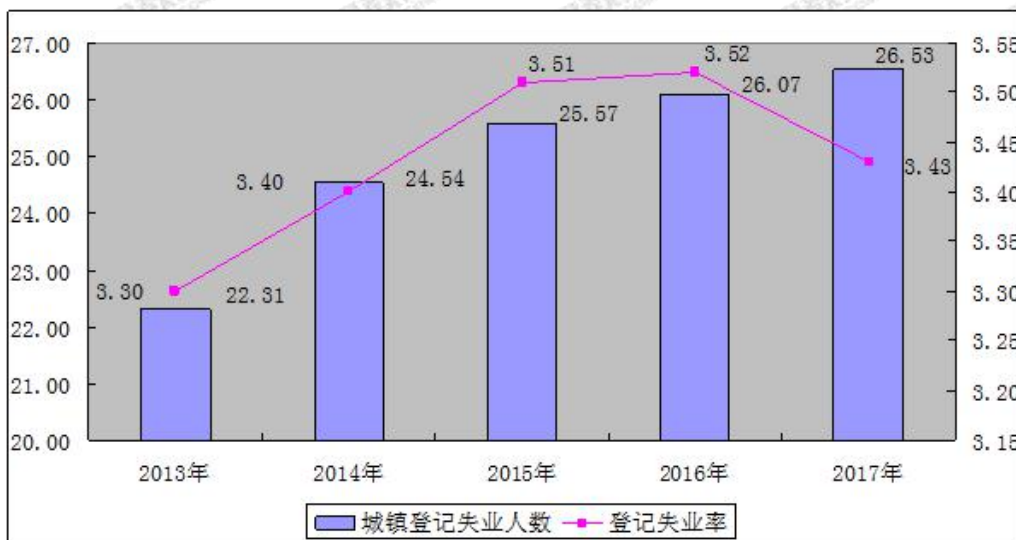


图3 近五年城镇登记失业人数及登记失业率

单位：万人，%



截至2017年底，全行业共有人力资源服务机构539家，从业人员5889人，实现营业收入38.76亿元。2017年，共为12.24万家次用人单位提供了人力资源服务，帮助77.99万劳动者实现了求职择业和流动服务。

136. 2017年末，全省就业人员比上年增加（ ）万人

- A. 5.9
- B. 5.4
- C. 4.3
- D. 4.6

137. 2017年全省在家农民工务工（ ）万人。

- A. 182.1

B. 335.6

C. 501.8

D. 198

138. 2017 年末城镇登记失业率为（ ）。

A. 3.43%

B. 3.51%

C. 3.52%

D. 4.11%

139. 下列说法错误的是（ ）

A. 截至 2017 年底，全行业共有人力资源服务机构 539 家，从业人员 5998 人。

B. 2017 年，共为 12.24 万家次用人单位提供了人力资源服务，帮助 77.99 万劳动者实现了求职择业和流动服务。

C. 2017 年全年全省共帮助 2100 户零就业家庭实现每户至少一人就业。组织 600 名高校毕业生到基层从事“三支一扶”服务。

D. 全省就业人员中，第一产业就业人员占 35.0%；第二产业就业人员占 25.3%；第三产业就业人员占 39.7%。

140. 全省就业人员中，（ ）产业人员占比最高

A. 第一产业

B. 第二产业

C. 第三产业

D. 第四产业

二、多选题

141. 《关于加强新时代人民政协党的建设工作的若干意见》中指出，人民政协是具有中国特色的制度安排，在中国共产党领导下，人民政协在（ ）的伟大实践中发挥了重要作用。

A. 建立新中国

B. 建设新中国

C. 探索改革路

D. 实现中国梦

142. 党的十九大报告指出，党政军民学，东西南北中，党是领导一切的。必须增强（ ），

自觉维护党中央权威和集中统一领导，自觉在思想上政治上行动上同党中央保持高度一致。

- A. 政治意识
- B. 大局意识
- C. 核心意识
- D. 看齐意识

143. 按照唯物辩证法的观点，在当下认识和处理包括儒家学说在内的传统文化，应该（ ）。

- A. 以全面肯定的态度保护和弘扬传统文化
- B. 以辩证否定的观点分析传统文化
- C. 在新的时代背景下把批判继承与创新结合起来
- D. 根据新时期的需要重新解读和构建传统文化

144. 诚实守信是中华民族的传统美德。在现实生活中，经常发生违背“诚实守信”的现象，如制假售假、坑蒙拐骗、走私骗汇等。对此，国家有关部门加大了打击力度，根据人民群众的举报，查出了一大批社会影响较大的案件，依法惩处了相关责任人，为国家挽回了重大损失。这体现了（ ）。

- A. 国家在行使专政职能
- B. 人民群众在行使监督权
- C. 公民在法律面前一律平等
- D. 公民有维护国家利益的义务

145. 我国刑法的基本原则是（ ）。

- A. 罪刑法定原则
- B. 法律面前人人平等原则
- C. 罪刑相适应原则
- D. 罪刑合理原则

146. 关于物价下降与通货紧缩的关系，下列说法错误的是（ ）。

- A. 通货紧缩就是物价下降
- B. 物价下降必然引起通货紧缩
- C. 通货紧缩时，物价必然下降
- D. 抑制住物价下降就能抑制住通货紧缩

147. 化石能源是一种碳氢化合物或其衍生物，它由古代生物的化石沉积而来，是一次



能源，化石能源所包含的天然资源有（ ）。

- A. 煤炭
- B. 石油
- C. 天然气
- D. 地热能

148. 物理学中理论和实验都是必不可少的组成部分，下列关于物理学家及其成就的表述错误的是（ ）。

- A. 焦耳提出能量守恒与转化定律，奠定了热力学第一定律的基础
- B. 伽利略发明了体温计和天文望远镜，是近代实验物理学的开拓者
- C. 欧姆提出了电磁理论中的欧姆定律，为纪念其重要贡献，人们将其名字作为电流单位
- D. 法拉第是英国著名的物理学家、化学家，在进行了一系列实验后，发现了电磁感应现象

149. 以下文种属于《党政机关公文处理工作条例》中规定文种的有（ ）。

- A. 决议
- B. 批复
- C. 通知
- D. 公报

150. 我国民间广为流传“瑞雪兆丰年”，意思是说冬天下几场大雪，这是来年庄稼获得丰收的预兆。下列能够解释这种现象的原因是（ ）。

- A. 下雪后对庄稼有保温作用
- B. 雪融化了能为庄稼积蓄足够的水
- C. 下雪后害虫被冻死
- D. 雪隔离了大气中污染物的侵害

### 三、判断题

151. 新时代中国特色社会主义思想，明确中国特色社会主义最本质的特征是中国共产党领导。（ ）

152. 我国实施科教兴国发展战略，应当借鉴诸多国家科技政策和发展战略的有益启示，应对“技术立国”、“教育立国”的模式进行重复或仿效。（ ）

153. 中国政府机构改革的动力仅限于经济体制改革的推动。（ ）

---

154. 邓小平在党的十一届三中全会上指出，社会主义的本质是解放生产力，发展生产力，消灭剥削，消除两极分化，最终达到共同富裕。( )

155. 某机关领导因受贿寻租遭民众实名举报，经上级部门和纪检部门核实证明受贿行为属实后，被人大部门罢免行政职务，在该案例中未涉及的问责形式是审计机关问责。( )

156. 税收政策主要用于实现稳定和发展经济，调节收入分配等目标。( )

157. “众里寻他千百度，蓦然回首，那人却在灯火阑珊处”这一词句的作者属于婉约词派的代表人物。( )

158. 欧洲启蒙运动是发生在 17、18 世纪的一场反封建、反教会的资产阶级思想文化解放运动，是欧洲近代第一次思想解放运动。( )

159. 苏东剧变首先开始于波兰，终于苏联解体。( )

160. 在古代文明的传播与融合中，架起东西方之间的桥梁，被誉为“东西方文化使者”的是日耳曼人。( )