

科目一公共基础知识

单项选择题(下列各题所给选项中只有一个是符合题意或最恰当的, 请选择与题卡相应位置涂黑。第 1-46 题, 每题 0.7 分, 满分 32.2 分。)

1 国家主席习近平和夫人彭丽媛 11 月 8 日偕同来华进国事访问的__参观故宫博物院, 他们在故宫宝蕴楼茶叙。共同参观故宫前三股, 观着文物修复牧艺展示和珍品文物展。并欣赏京剧表演, 习近平强调, 此次其访华意义重大, 不仅为两国高度关注, 也力世界各国所瞩目。相信在友方的共同努力下, 这次访问将取得重要成果。

- A. 俄罗斯总统普京
- B. 美国总统特朗普和夫人梅拉尼娅
- c 老挝人民革命党中央委员会总书记, 国家主席本扬
- D. 加拿大总理特鲁多

2. 10 月 31 日上午, 党的十九大闭幕仅一周, 中共中央总书记, 国家主席、中央军委主席习近平带领中共中央政治局常委李克强、栗战书, 汪洋、王沪宁, 赵乐际、韩正, 从北京乘专机前往上海和浙江嘉兴, 瞻仰__和浙江嘉兴南湖红船, 回顾建党历史, 重温入党誓词, 宣示新一届党中央领导集体的坚定政治信念。()

- A. 中共一大会址
- B. 中共五大会址
- C. 中共七届二中全会会址
- D. 中共八大会址

3. 十九大报告中提出, 我国社会主义现代化奋斗目标从“富强、民主, 文明、和谐”一步拓展为“_”, 增加以后, 经济、政治、文明、社会、生态文明建设“五位一体”总体布局与现代化建设目标有了更好的对接。()

- A. 富强、民主、文明、和谐、自信
- B. 富强、民主、文明、和谐、美丽
- C. 富强、民主、文明、和谐、自强
- D. 富强、民主、文明、和谐、绿色

4. 中共中央总书记、国家主席、中央军委主席习近平 10 月 26 日下午出席了在京召开的军队领导干部会议并发表重要讲话。习近平强调, 中国特色社会主义进入了新时代, 国防和军队建设也进入了新时代。人民军队要不忘初心, 牢记使命, 认真学习贯彻党的十九大精神, 深入学习贯彻新时代党的强军思想, 坚定不移走__ 全面推进国防和军队现代化, 为实现

党在新时代的强军目标、到本世纪中叶把人民军队全面建成世界一流军队、实现中华民族伟大复兴的中国梦而努力奋斗。（ ）

- A. 中国特色强军之路
- B. 绝对现代化强军之路
- C. 高科技强军之路
- D. 文化强军之路

5. 中国共产党第十九次全国代表大会的主题是__。（ ）

- A. 不忘初心，牢记使命，高举中国特色社会主义伟大旗帜，决胜全面建成小康社会，夺取新时代中国特色社会主义伟大胜利，为实现中华民族伟大复兴的中国梦不懈奋斗。
- B. 不忘初心，牢记使命，高举中国特色社会主义伟大旗帜
- C. 夺取新时代中国特色社会主义伟大胜利。
- D. 为实现中华民族伟大复兴的中国梦不懈奋斗

6. 习近平总书记到山西考察调研时要求：_，形成产业多元支撑的结构格局，是山西经济发展需要深入思考和突破的重大问题。（ ）

- A. 实现服务型地区经济转型发展
- B. 实现制造型地区经济转型发展
- C. 实现外留型地区经济转型发展
- D. 实现资源型地区经济转型发展

7. 习总书记指出，扶贫开发工作已进入“啃硬骨头、攻坚拔寨“的冲刺期。各级党委和政府必须增强紧迫感和主动性，在扶贫攻坚上进一步理清思路，强化责任，采取力度更大、针对性更强、作用更直接、效果更可持续的措施，特别要在____、____上下更大工夫。（ ）

- A. 精准扶贫、精准脱贫
- B. 分类指导，保障民生
- C. 扶贫攻坚、共建小康
- D. 精确帮扶，共享和谐

8. 党的执政能力，就是党提出和运用正确的理论、路线、方针、政策和策略，领导制定和实施宪法和法律，采取科学的领导制度和领导方式，动员和组织人民依法管理国家和社会事务、经济和文化事业，有效治党治国治军，建设社会主义现代化国家的本领，加强党的执政能力建设，必须坚持的核心是_____。（ ）

- A. 加强党的基层组织和党员队伍建设



B. 加强国防建设

C. 加强依法治国

D. 保持党同人民群众的血肉联系

9. 美国记者斯诺说：“每一场革命都有它自身的传奇，毛泽东率领数万工农红军所完成的战略转移，就是中国革命历史上的伟大传奇。”他所说的“伟大传奇”是指__。（ ）

A. 秋收起义

B. 二万五千里长征

C. 千里跃进大别山

D. 开辟敌后战场

10. 国民革命军第 129 师师长刘伯承在战士不情愿换掉已经穿戴了多年的红军装、五星帽，而要换上白日帽徽时说：“这帽徽是白的，可我们的心永远是红的！同志们，为了救中国，暂时和红军帽告别吧！”他这样说的主要目的是_____。（ ）

A. 倡导国共合作，进行国民大革命

B. 争取党内合作，保障抗战胜利

C. 促成统一战线，确保民族大解放

D. 开辟正面战场，彻底消灭日军

11. 美国硅谷企业竞争十分激烈，各公司都积极寻找自己的致命弱点。所有公司共同的生存之道是：拿出更好的产品来击败自己的原有产品。有人将这种行为戏称为“自吃幼崽”这体现的哲理是__。（ ）

A. 事物矛盾具有不平衡性

B. 辩证的否定是事物自我的否定

C. 真理是绝对的

D. 事物矛盾具有特殊性

12. 饮茶对健康有益，但茶叶中含有相当量的氟元素，氟元素超过安全量，就会引起氟魔牙和氟骨病的产生。这给我们的哲学启示是__。（ ）

A. 要坚持适度原则

B. 要善于把握事物的本质

D. 要坚持一切从实际出发

C. 要不失时机地促成质的飞跃

13. 邓小平强调：“没有一点‘闯’的精神，没有一点‘冒’的精神就干不出新事业。”



从哲学角度讲，主要告诉我们做事情要____。()

- A. 善用质变与量变的辩证关系，用创新的理念对待新事物
- B. 充分发挥主观能动性，准确判断、敢作敢为
- C. 善用联系的观点，发现发展的新态势、新思维
- D. 运用两点论、两分法，一分为二看待“阅”与“冒”的精神支撑

14、李大牛和张二虎因走路冲撞发生口角李冲动之下将张打死，为此，张的家人能继承张的财产，公安机关将李逮捕，准备移送检察机关提起公诉。这时，李抱病而亡，公安机关遂做出撤销案件的决定。导致公安机关撤销案件的是____。()

- A. 法律行为
- B. 违法行为
- C. 事实构成
- D. 自然事件

15、某市公安局经检察机关批准逮捕一个个体户许某(现已拘留5天)，认定其犯有制作、组织播放淫秽录像罪。公安机关在侦查过程中还扣押了许某的四台录像机，并擅自将这四台录像机作为公物四处借用，许某被羁押11个月后，检察机关查明其确无犯罪行为，决定撤销案件。公安机关归还了这四台录像机，但均已破目不堪，其中两台已无法使用。许某若提出赔偿要求，则下列说法正确的是____。()

- A. 本案的赔偿义务机关是公安机关
- B. 本案的赔偿义务机关是检察机关
- C. 许某只能就拘留、逮捕或录像机损坏中任选一项提出赔偿要求
- D. 许某可以同时提出两项赔偿要求，即赔偿因人身自由受到侵犯所遭受的损害以及赔偿被损坏录像机的价款

16、下列关于死刑的说法中，错误的是____()

- A. 死刑只适用于罪行极其严重的犯罪分子
- B. 犯罪时不满18岁的人和审判时怀孕的妇女不适用于死刑
- C. 死刑立即执行除由最高人民法院直接判决的外，依法都应当报最高人民法院核准
- D. 判处死刑缓期执行的，在死刑缓期执行期间如果没有故意犯罪，两年期满后应立即执行

17、甲因遭受丈夫乙的虐待而被迫离家独居。某日，甲的女儿丙(13岁)来看望甲，甲叫丙把家中的老鼠药放入乙喝的酒中。丙按甲的吩咐行事，致使乙死亡。对此案，下列说法正确的是____。

-
- A. 甲、丙构成共同犯罪
 - B. 甲构成投放危险物质罪
 - D. 甲单独构成故意杀人罪
 - C. 甲是故意教唆犯

18、对成年精神病人，其法定监护人的顺序是__（

- A. 配偶，父母，成年子女，其他近亲属
- B. 父母，配偶，成年子女，其他近亲属
- C. 成年子女，父母，配偶，其他近亲属
- D. 由被监护人在配偶，父母，成年子女三者之间自行选定

19, 甲手机专卖店门口立有一块木板，上书“假一罚十”四个醒目大字。乙从该店购买了一部手机，后经有关部门鉴定，该手机属于假冒产品，乙遂要求甲履行其“假一罚十”的承诺，关于本案，下列是正确的。（ ）

- A. “假一罚十”过分加重了甲的负担，属于无效的格式条款
- B. “假一罚十”没有被订入到合同之中，故对甲没有约束力
- C. “假一罚十”显失公平，甲有权请求法院予以变更或者撤销
- D. “假一罚十”是甲自愿作出的真实意思表示，应当认定为有效

20. 目前我国医药卫生市场秩序中仍然存在不规范与不和谐因素，制假售假、虚假广告、商标侵权、仿冒欺诈、商业贿赂等违法行为。这表明__。（ ）

- A. 市场调节具有私有性的弱点
- B. 市场经济具有平等性的特征
- C. 市场经济条件下，社会上会出现不正当的经济行为
- D. 市场经济是实现资源优化配置的有效形式

21、我国之所以要鼓励、支持和引导非公有制经济的发展，是因为非公有制经济__。（ ）

- A. 适应了我国不平衡、多层次的生产力状况
- B. 代表了我国经济发展的方向
- C. 是社会主义的根本经济特征
- D. 是公有制经济的有效实现形式

22、美国居民过感恩节时有食用完整火鸡的习惯。为满足这一需要，海尔研发并设计了500多升容积的法式对开门冰箱。而在日本，年轻用户公寓面积比较小，对此，海尔设计出一种体积很小的洗衣机，叫做“个人洗衣间”。由此可见__（ ）

B. 消费决定生产

A. 生产决定消费的方式

C. 生产为消费创造动力

D. 消费对生产的调整具有导向作用

23、下列行为属于公共政策诉求的是___()

B. 工人要求工厂增加工资

A. 员工要求公司老板发放交通费

C. 群众要求电视台报道生态恶化现象

D. 农民要求政府减轻负担

24、“骏马能历险，犁田不如牛；坚车能载重，渡河不如舟”，这句话启示我们在用人方面要坚持_____。()

A. 德才兼备原则

B. 适才适用原则

C. 法制管理原则

D. 任人唯贤原则

25、在公共资源中，能源、城市道路、路灯、桥梁、交通标志等属于___。()

A. 公共设施、产品

B. 公共信息资源

C. 人力资源

D. 自然资源

26. 下列几位历史人物，属于一朝开国国君的是_()

A. 汉武帝

B. 纣

C. 汤

D. 唐太宗

27、科举制具有的特点是___。()

①由士族控制

②采用分科考试

③不受门第限制



华图教育
HUATU.COM

④与九品中正制大同小异

- A. ①②
- B. ①③
- C. ②③
- D. ②④

28. 毛泽东同志总结中国近代历次运动失败时曾说：“没有农民办不成大事，光有农民办不好大事。”下列事件属于“光有农民办不好大事”的是___。（ ）

- A. 洋务运动
- B. 辛亥革命
- C. 戊戌变法
- D. 义和团运动

29. 宋代名人范仲淹《岳阳楼记》中，脍炙人口的话，那是___（ ）

- A. 落霞与孤鹜齐飞，秋水共长天一色
- B. 世事洞明皆学问，人情练达即文章
- C. 匹夫而为万世师，一言而为天下法
- D. 先天下之忧而忧，后天下之乐而乐

30. “**SINCE 2001**”提出“以崇尚科学为荣，以愚昧无知为耻”，下列历史事件___中也曾提出过类似思想主张。（ ）

- A. 洋务运动
- B. 维新变法运动
- C. 辛亥革命
- D. 新文化运动

31. “苟利国家生死以，岂因祸福避趋之”“子孙若如我，留钱做什么？贤而多财，则损其志；于孙不如我，留钱做什么？愚而多财，益增其过。”“海纳百川，有容乃大；壁立千仞，无欲则刚。”这三句话都是我国历史上著名的英雄_____的千古名句。（ ）

- A. 戚继光
- B. 文天祥
- C. 岳飞
- D. 林则徐

32. 下列诗句出自李白的是___（ ）

-
- A. 人生自古谁无死，留取丹心照汗青
 - B. 梧桐更兼细雨，到黄昏，点点滴滴
 - C. 长风破浪会有时，直挂云帆济沧海
 - D. 十年生死两茫茫，不思量，自难忘

33、下列现象中，其本质与其他三个现象的本质不同的现象是（ ）

- A 在水平操场上滚动的足球，最终要停下来
- B. 人走路被石头绊倒会向前倾倒
- C. 锤头松了把锤柄的一端在物体上撞击几下，锤头就能紧套在锤柄上
- D. 子弹从枪膛里射出后，虽然不再受到火药的推力，但是仍然向前运动

34、在北方，人们常用地窖来储存粮食和蔬菜，人们在进入地窖之前，要将地窖的通风口打开一段时间，这么做，最主要是因为（ ）

- A. 地窖内太冷了
- B. 地窖里有大量的二氧化氮
- C. 地窖里有大量的二氧化碳
- D. 地窖里有大量的氧气

35 色彩是一种物理光学现象，有光就有色。我们生活在缤纷的色彩世界，需要不断地了解色彩、恰当地应用色彩，使我们的生活更加丰富多彩。下列说法正确的是（ ）

- ①医院墙壁、桌椅选用蓝色或白色，使人心情平静
- ②快餐店选用鲜艳的橙色易引起顾客食欲
- ③中国人结婚用红色象征喜庆；交通标志用红色警示危险
- ④黑色只能用来表示衰败与死亡
- ⑤绿色象征着生命，和平

- A. ①②③
- B. ③④⑤
- C. ①②④⑤
- D. ①②③⑤

36. 小明站在游泳池里，岸上的人会发现小明的腿（ ）

- A. 不变
- B. 变长
- C. 变短

D. 时而长时而短

37、下列有关生活常识的说法中，正确的是（ ）

- A. 白炽灯用久了会发黑是因为钨蒸汽凝华
- B. 天然果汁中不含任何化学物质
- C. “绿色食品”是指颜色为绿色的食品
- D. “白色污染”是指白色粉尘造成的污染

38、下列省区全称、简称和行政中心连线正确的是（ ）

- A. 浙江—沪—杭州
- B. 山西—晋—太原
- C. 江西—赣—合肥
- D. 湖南—湘—武汉

39. 我国西部大部分地区特别是_____水土流失严重，土地荒漠化加快，是自然生态最脆弱、土地生产率最低的地区。（ ）

- A. 云贵高原
- B. 新疆
- C. 黄土高原
- D. 青藏高原



华图教育
HUATU.COM

40, “上联:八百里洞庭凭岳阳壮阔; 下联: 两千年赤壁览黄鹤风流”这一对联表示的省区分别是（ ）

- A. 江西、四川
- B. 湖南、四川
- C. 江西、湖北
- D. 湖南, 湖北

41、青年马克思在谈到职业理想和价值选择时曾经说过,“如果我们选择了最能为人类谋福利而劳动的职业,那么,重担就不能把我们压倒,因为这是为大家而献身”。这句话体现职业道德的基本要求是（ ）

- A 爱岗敬业
- B. 奉献社会
- C. 办事公道
- D. 服务群众

42、每个社会成员都应该爱护公共财物，如对花园里面的花木草地、马路上的井盖路标等加以保护，不损坏，不滥用，不私占。这属于（ ）

- A 职业道德的基本要求
- B. 社会公德的基本要求
- C. 家庭道德的基本要求
- D. 城市保护的基本要求

43. 勇攀高峰”属于（ ）的职业道德内容

- A. 新闻行业
- B. 体育行业
- C. 文艺行业
- D. 教师行业

44、从行文方向来看，____既可以下行，也可以上行和平行（ ）

- A 通知
- B 公告
- C 意见
- D 报告

45、公文处理的原则不包括_

- A. 实事求是原则
- B. 精简原则
- C. 高效的原则
- D 新颖的原则

46、根据会议的主导思想和会议记录，对会议的重要内容、决定事项进行整理、综合、摘要，提高而形成的一种具有纪实性的公文种类为（ ）

- A 决定
- B. 纪要
- C. 通告
- D. 决议

二、多项选择题

47、下列各项中，属于行政行为的有（ ）

- A. 某市政府为建办公楼与某建筑公司签订建筑承包合同



华图教育
HUATU.COM

-
- B. 某市政府为修建大型水利设施而对该地居民区实施的拆迁行为
- C. 商务部作出禁止某外国企业并购中国企业的决定
- D. 消防局向某企业发出火灾隐患整改通知书

48. 需求，是指在其他条件不变的情况下，消费者在一定时期内在各种可能的价格下愿意而且能够购买某种商品的数量。除了商品自身的价格外，需求的影响因素还有（ ）

- A. 消费者的偏好
- B. 替代品和互补品的数量和价格
- C. 消费者的收入状况
- D. 广告宣传

49. 下列选项中与清朝末年资产阶级维新运动有关的有

- A. “百日维新”
- B. “戊戌政变”
- C. 《资政新篇》
- D. “公车上书”

50. 被废弃不再使用的的电器和电子产品，比如废旧电脑、废旧手机，俗称“电子垃圾”。下列关于“电子垃圾”，说法正确的是_____。（ ）

- A、对有用的部分回收再利用
- B、电子垃圾可以进行焚烧处理
- C、电子垃圾不能填埋处理，这样会污染环境
- D、电子垃圾应该进行综合处理

51. 下列几种搭配能正确体现聚落的建筑风格与自然环境的关系的是_____。（ ）

- A、北极地区因纽特人——冰屋
- B、中国黄土高原——窑洞
- C、中国南方——平顶房屋
- D、东南亚地区——高架屋

52. 公文法定效力的大小取决于_____。（ ）

- A、制发机关地位的高低和职权范围的大小
- B、公文的失效
- C、公文内容的重要程度
- D、公文的体例格式

三、判断题（判断下列各题对错，请将答题卡相应位置涂黑，对的涂“A”，错的涂“B”。

第 53-62 题，每题 1 分，满分 10 分。）

53. 否定之否定是普遍存在的事物周期性发展过程。否定之否定的整个进程，是一个“循环往复”“原地踏步”的过程。

54. 货币是固定地充当一般等价物的商品。

55. 我党第一次独立自主解决党内重大问题的会议是遵义会议。

56、社会主义初级阶段的主要矛盾是人口、资源、环境和经济发展之间的矛盾。

57、《聊斋志异》是蒲松龄的作品。

58、中医中药是中华民族和世界文化的宝贵遗产，是几千年来中华民族同疾病斗争的伟大成就，李时珍的专著是《本草纲目》。

59、基层群众性自治组织属于国家机关的一部分，代表国家，具有强制力。

60、医生要救死扶伤，教师要为人师表，商人要童叟不欺，这些反映的是职业道德的多样性和具体性。

61、雪花在空中飘落连接在一起形成雪片。无论雪花怎样轻盈，怎样奇妙万千，它的晶体是有规律的七边形。

62、人体内对营养物质消化和吸收的主要场所是小肠。

科目二 职业能力测验

四、单项选择题（下列各题所给选项中只有一个最符合题意或最恰当的，请选出并将答题卡相应的位置涂黑。第 63-112 题，每题 0.7 分；第 113-118 题，每题 1 分；第 119-128 题，每题 0.9 分，满分 50 分。）

语言表达

63、扶老人的争议背后有深刻的社会道德因素，也_____了医保制度的不完善带来的养老之痛，老人们“摔不起”、“病不起”，一些老人及其亲属承担不了老人住院的后果，加剧了一些无责任人的“扶不起”_____。依次填入划横线部分最恰当的一项是_____。（）

A 影射 窘迫 B、揭露 尴尬 C、折射 窘境 D、暴露 困境

64、人生如梦、岁月无情、暮然回首，才发现人活着是一种心情，穷也好、富也好，得也好、失也好，一切都是_____。想想，不管昨天、今天、明天，能_____就是美好的一天。不管亲情、友情，能永远珍惜就是好心情。依次填入划横线部分最恰当的一项是_____（）

A、烟消云散 大彻大悟 B、风流云散 茅塞顿开
C、昙花一现 恍然大悟 D、过眼云烟 豁然开朗

65、从曾经的自行车王国，到今天的车轮上的国家，中国仅用了一代人的时间，就实现了欧美人几代人的梦想，让更多人能开上汽车，这是_____；让更多车主会遵守规则，这是_____。依次填入划横线部分最恰当的一项是_____。（）

A、趋势 前提 B、必然 进步 C、发展 文明 D、走向 基础

66、虽然在经营上收到诸多限制，唐代的酒肆业却极为繁盛。从繁华的城镇到乡村僻野，大大小小的酒肆____，呈现一片繁荣____，这是前代所不曾有的。依次填入划横线部分最恰当的一项是_____。（）

A、星罗棋布 景象 B、比比皆是 景况 C、不胜枚举 景观 D、层出不穷 景致

67、在下列各句中的横线处依次填入词语，最恰当的一组是_____。（）

①《四库全书》与《四库全书总目》____，构成了一个巨大的研究空间，潜藏着重大的学术价值。

②这个老头大冷天的还在早晨打折赤膊跑步，让人_____。

③一个时期以来，歌剧《图兰朵》的上演，成了许多人_____的话题。

A、珠联璧合 匪夷所思 津津乐道 B、交相辉映 不可思议 津津乐道

C、交相辉映 匪夷所思 口口相传 D、珠联璧合 不可思议 口口相传

68、公众对那种充满不信任的氛围深恶痛绝，_____于这种“互信而带来互利”佳话的无比赞叹中，忽略了对不合逻辑的内容的质疑，担心质疑破坏了这个动人的佳话，我们更愿意生活在一个大家共同编制的童话氛围中，而不愿意_____这个美丽却不合常识的童话。依次填入划横线部分最恰当的一项是_____。（）

A、沉浸 质疑 B、沉醉 戳穿 C、沉浸 戳破 D、沉醉 怀疑

69、______中外政治的发展，应该说，一个健全的政治文化通常会在创新与保守中保持_____，有保守而无创新，社会无法在需要改变时作出理性的改变；有创新而无保守，社会往往缺乏支点。缺乏赖以稳定的基础，严重时可能导致社会大规模的动荡与动乱。依次填入划横线部分最恰当的一项是_____。（）

A、反观 均衡 B、纵观 平衡 C、综合 和谐 D、放眼 和谐

70、人类，是一代人站在另一代人肩上持续地向前方展望。而我们今天的现实_____是失望，_____是教训：人类没有自己的形象，没有自己的目标。依次填入画横线部分最恰当的一项是_____。（）

A、与其说 不如说 B、不但 而且 C、既 又 D、首先 然后

71 他们认为，无处不在的汉堡包、可口可乐是经济全球化最鲜明的标志，它们就像一台威力巨大的压路机，碾碎了无数传统美食，留给人们的是_____的口味和_____的配方。依次填入划横线部分最恰当的一项是_____。（）

A、千篇一律 毫无二致 B、千差万别 形形色色

C、天差地别 琳琅满目 D、一式一样 如出一辙

72、一般而言，一幅大画不可能_____，艺术家应该有一段时间收集资料、深入实地、写生采风，进而精心_____、反复_____，甚至数易其稿，从而成就一件佳作。依次填入划横线部分最恰当的一项是_____。（）

- A、一蹴而就 准备 修改 B、一挥而就 构思 推敲
C、一气呵成 设计 研讨 D、唾手可得 筹划 揣摩

73、父亲像一座山，所以在很多时候，感受父爱就像爬山，山越高越雄伟，则越难爬到顶峰，越不容易看到他的____，越无法领悟他的_____。依次填入划横线部分最恰当的一项是_____。（）

- A、全部 真谛 B、壮丽 奥妙 C、广阔 精华 D、精妙 内涵

74、如果你的生活中没有伟大、高贵的人和有智慧的人怎么办？请不要变得麻木，不要_____，不要放弃向生活学习的机会。因为至少在你的周围还有树，特别是大树，它会教会你许多东西。一棵大树，就是人的亲人和老师，而且也可以毫不夸张的说，它就是伟大、高贵和有智慧的人。填入划横线部分最恰当的一项是_____。（）

- A、自以为是 B、自暴自弃 C、茫然失措 D、随波逐流

75、只有具备了高尚的艺术职业道德，只有对艺术全身心投入的敬业精神，才能使艺术家和演员在物质诱惑面前_____地选择自己所献身的艺术本身。填入划横线部分最恰当的一项是_____ **SINCE 2001**

- A、一往无前 B、呕心沥血 C、义无反顾 D、坚持不懈

76、构成我国沙尘暴的物质材料，多来自干旱、半干旱的草原区，在人为活动的干预下，特别是由于森林大量砍伐、土地过度开垦，工厂盲目建设，排放不加控制，结果造成生态巨变：原来有沙漠的地方沙漠扩大了；没有沙漠的地方沙漠产生了；内陆河流程缩短，水量减少，沼泽地消失；河流两岸的绿色走廊枯萎死亡。这样，来自大西北的沙尘暴，一路上还源源获得裸地上新的沙尘源的补充，而且混入了工矿企业排放的有害成分和来自草原上牲畜粪便中的病菌病毒。总之，在受到人为因素的干扰后，自然界的风蚀速度已远远大于土壤的生成速度，一连串灾害也就此产生。这段文字意在说明：_____。（）

- A、我国的沙尘暴灾害越来越严重 B、人类活动加剧了沙尘暴的危害
C、草原的沙化给沙尘暴提供了物质材料 D、生态环境的恶化致使我国沙尘暴频发

77、一方面，作为发展中国家，中国必须继续把发展当作首要任务，尽管发展不等同于简单的经济增长，但发展又必须以经济增长为基础。另一方面，中国的经济要可持续发展，又必须节约资源、保护环境。这两个方面之间的张力。引发了人们的一系列疑惑：过去 30

多年的高速增长是否值得？这种高速的经济发展可否持续？生态破坏和环境恶化的代价能够承受？经济增长方式能够转变，如何转变？对未来的中国而言，我们应当采取一条什么样的经济发展战略，“发展优先”还是“环保优先”，或者说“边环保，边发展”？以上文字最恰当的标题是：_____。（）

- A、发展是硬道理
- B、经济增长与生态平衡
- C、环保优先
- D、发展优先

78、新形势下，领导干部只有认真的学习，才能始终跟上时代进步的潮流，才能担当起领导的重任，可以说，领导干部的学习水平，很大程度上决定着工作水平和领导水平。重视加强领导干部的学习，是我们党保持和发展先进性，始终走在时代前列的重要保证，也是领导干部健康成长，提高素质，不断进步的重要途径。这段文字的主旨是_____。（）

- A、领导干部的学习水平在很大程度上决定着工作水平和领导水平
- B、加强领导干部的思想建设，对于加强干部自身建设和党的建设具有重要意义
- C、加强领导干部的学习，对于加强党的建设和干部自身建设具有重要意义
- D、领导干部只有加强学习，才能提高理论素养

79、中国古代一直以世界大国屹立于世界东方，可是让中国长期保持这种大国地位的背后支撑却是毫无发展潜力的自给自足的小农经济。中国古代的科技虽然辉煌，但是令人遗憾的却是这些辉煌的科学技术对中国古代社会的发展并没有起过明显的推动作用或者起的作用“微乎其微”，因此，不是先进的科技推动社会的发展，而是先进的农业文明孕育出了辉煌的科技。这段文字意在说明：_____。（）

- A、科学技术并非是推动国家经济发展的动力
- B、小农经济的局限性阻碍了中国古代社会发展
- C、中国古代持久辉煌源自自身农业文明的推进
- D、古代社会重农轻术的思想不利于社会的进步

80、人们常常说文化艺术“越是民族的，就越是世界的”。其实，这种说法是误区，容易导致懒惰和不作为，如果没有主动的、有效的跨文化传播，再优秀的民族艺术也不会成为世界的。文化，正是由于差异而精彩纷呈，每种文化都是世界文化大观园中的奇葩。不同文化间的相互交流、学习和借鉴，是让彼此相互理解、共同繁荣的重要过程。文化是活的生命，只有发展，才有持久的生命力，只有传播，才有影响力，同时在传播中也得到发展。这段文字主要谈论的是：_____。（）

- A、文化的生命力
- B、文化的开放性

C、文化的发展与传播 D、文化的差异与交流

81、“爱美之心，人皆有之”，通过整容可以立刻获得外在美，能满足人们对“美”的急切愿望，为走进人群加深交往带来自信，这无可厚非，也是事实。但如果一味强调“好看”，而忽略了人品、学识、实力等方面的积累，只有外在美，没有内在美，就可能适得其反，对全社会来说，一旦相貌成为评价一个人的主要标准，对美丽的欣赏就变成了对“脸蛋”的纵容。那么，我们据此创造的未来，很可能不那么“美丽”。对这段文字概括最恰当的一项是_____。（）

- A、整容导致许多人一味强调外在美
- B、整容能为人际交往带来良好自信
- C.通过整容获得外在美是一种欺骗
- D.美丽无罪但不应沉溺整容和外在

82、这些年来，医患冲突越来越频繁，越来越趋于极端化、暴力化。医患冲突，成了中国社会之痛。医生之于患者，天然有优势，但问题显然不只是牵涉医患双方的道德和利益那么简单。每一起医患冲突都有其特殊性。抽丝剥茧之后，那些医疗技术、那些执业态度，那些蛮不讲理、唯利是图等等，都只是冲突最后的引爆点，炸弹其实早已埋下，只待引爆一刻。那是社会之病。作者接下来最有可能介绍的是：（）

- A. 导致医患冲突的社会根源
- B. 医患冲突的根本解决措施
- C. 医患冲突频发对社会的影响
- D. 医患冲突特殊性的具体表现

83、中国音乐剧近些年确实很热闹，世界经典作品纷纷引进，原创音乐剧不时上演，中国排演外国名作的消息也不断传来，可以说，音乐剧这种艺术形式已经在中国生根，而且培育出了数量可观的固定观众。但是，当我们仔细回味中国音乐剧的现状后，不难发现，本土音乐剧的各类问题依旧存在。这段文字接下来最有可能论述的是：_（）

- A. 何谓音乐剧
- B. 中国音乐剧的繁荣状况
- C. 音乐剧在中国的发展历史
- D. 中国音乐剧存在的问题

阅读下列篇章，回答第 84-88 题。

继 19 世纪的报纸和 20 世纪的广播、电视之后，1993 年因特网向公众开放，1998 年 5

月联合国新闻委员会正式提出“第四媒体”的概念。在我国，1998年年底网民达210万，除传统媒体纷纷办电子版外，各网站的新闻也越来越足，第四媒体正在崛起。专家预言，10年到20年内第四媒体的影响力将可能超过传统媒体。理由是广播问世38年拥有5000万听众，电视则用了13年，因特网只用了4年。

因特网作为一种媒体，优势十分明显：跨越时空，全球一网，信息无限，时效更快；文图、动画、声音等多种媒体合为一体；每个人可选择自己所需要的内容，发表意见，每一个新闻机构甚至个人都可以随时向全世界发布新闻。对于21世纪的第四媒体，有的专家这样描述——这是一张个性化的电子报纸，它是一个带超薄型大平面显示版的移动式网络计算机，不仅有图文声情，甚至扩展到三维空间，它以我为中心，按照受众的需要进行信息项目自主选择，组织。有的专家称之为“我的报纸”。

现在，第四媒体还只是一个小弟弟。即使在美国，它也还不能提供比印刷版更多、更快的东西，多数公司只因为这是一个潮流才不得不坚持，一些小报已经停止电子版。调查表明，关于克林顿绯闻的“斯塔报告”，只有22%的人是在网上了解到的。这说明，因特网在现在的传播中并不占较大比例。有的专家认为，网络媒体现在所能做到的是为传统媒体争取远距离受众，提供交互式服务，满足共性前提下的个性要求。有的专家则认为第四媒体首先要做的，是为争取到生存所需的关键的受众而努力，

84、下列不符合文意的一项是。()

- A. 第四媒体的发展速度远远超过了以往任何一种媒体
- B. 在10-20年内，“我的报纸”将成为主导媒体
- C. 一些小报停止电子版的主要原因是，“受众”数目不足生存所需的关键数目
- D. 第四媒体尚不能实现赢利，就很难真正取得成功

85、1998年5月提出的“第四媒体”是指_____

- A. 多媒体
- B. 网络计算机
- C. “我的报纸”
- D. 网上报纸

86. 关于第三段理解不正确的一项是_____

- A. 大多数人不是通过网络了解克林顿案的
- B. 因特网在目前的传播中并不占大比例

-
- C. 因特网是在满足个性要求前提下提供交互式服务，以满足共性要求
- D. 第四媒体正在努力发展

87、“即使在美国，它也还不能提供比印刷版更多、更快的东西”，这句话的意思是，

- A. “第四媒体”概念的提出，只是一时的潮流而已
- B. 在美国的各种传媒中，“第四媒体”的地位下降了
- C. 因特网的使用者有限，传统媒体仍是信息传播主渠道
- D. 因特网实际没有“信息无限”和“时效更快”的优势

88、对于第二段所强调的意思概括恰当的是

- A. 第四媒体比传统媒体更能满足个性要求
- B. 第四媒体是 21 世纪起主导作用的传媒
- D. 因特网将全面影响 21 世纪的人类生活
- C. 因特网综合了传统媒体最主要的优点

89、下列句子中，没有歧义的一句是

- A. 他先后将该公司的 6 辆车分别送给副市长和其他领导干部的子女长期使用。
- B. 那天下午，数十位死难者的亲属聚集在矿主的家门口，要求讨个说法。
- C. 本人已八十高龄，体弱多病，目前头脑尚清醒，决定辞世后 X 楼 X 室产权归义女李小姐继承。特立此遗嘱。
- D. 孩子们非常喜欢张爷爷，一来到这儿就有说有笑，十分高兴。

90、下列词语中加点的字，读音全部正确的一组是：

- A. 商榷(que) 捐(qian) 掎(ji)角之势
- B. 悲怆(chuang) 哨卡(ka) 提纲挈(qia)领
- C. 拘泥(ni) 熟稔(ren) 面面相觑(xi)
- D. 作梗(geng) 粗糙(zao) 虚与委(wei)蛇

91、下列选项中没有语病的一句为

- A. 大家可能都比较清楚，免疫系统是身体的防御系统。
- B. 这对于纠正我们目前较为普遍的浮躁之风也是一个很好的推动。
- C. 经过刻苦努力，他这次考试 5 门功课平均都在 90 分以上。
- D. 过去我看书时，既不做读书笔记，又不写提纲和摘要。

92、1 大自然是个有机整体

2 只要其中一个要素发生变化，就会引起其他要素的相应变化

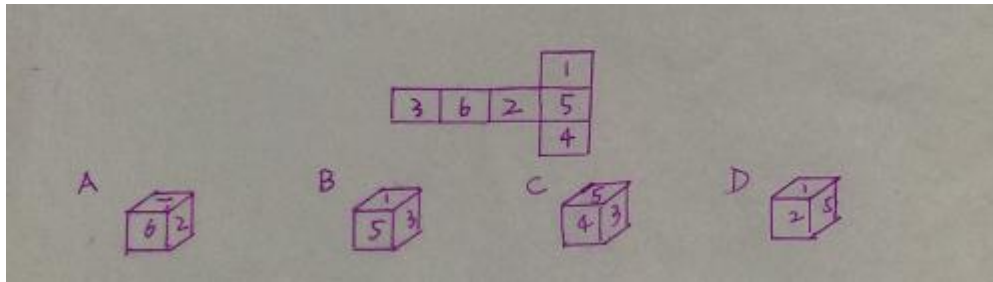
- 3 地理环境各个要素之间存在着相互联系、相互影响、相互渗透、相互制约的依存关系
- 4 一个环节紧扣着另一个环节，一个过程向着另一个过程转化
- 5 并直接或间接地影响到人类的生存和发展
- 6 最后必然会导致整个地理环境由量变发展到质变

将以上 6 个句子重新排列，语序正确的是：

- A. 132465
- B. 312654
- C. 231456
- D. 412653

判断推理

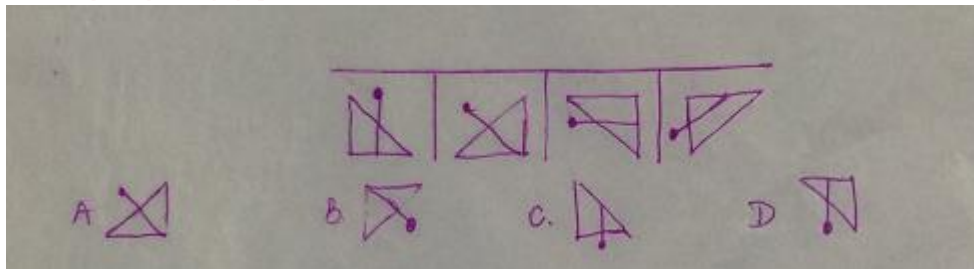
93. 在下面的 4 个图形中，只有一个不是由上面的纸板折叠而成的，这个图形是




94. 如图所示，接下来第五个图形应为

SINCE 2001



HUATU.COM



95. 从所给的四个选项中，选择最合适的一个填入问号处，使之呈现一定的规律性。这个图形是



96. 从所给的四个选项中，选择最合适的一个填入问号处，使之呈现一定的规律性。这个图形是



97. 淬火效应原意为金展工件加热到一定温度后，浸入冷却剂(油、火等)中，经过冷却处理，工件的性能更好、更稳定。引申到教育学中，对长期受表扬头脑有些发热的学生，不妨设置一点小小的障碍，施以“挫折教育”，几经锻炼，其心理会更趋成熟，心理承受能力会更强；对于麻烦事或者已经激化的矛盾，不妨采用“冷处理”，放一段时间，思考会更周全，办法会更稳妥。根据上述定义，下列体现了淬火效应的是：()

- A 班主任甲要求非常严厉，只要学生犯了一点小错，即使是尖子生，也会被批评
- B 乙对于一些屡教不改的学生已经失去了耐心，对他们的行为渐渐变得不予理睬
- C 当有学生发生争吵来找两评理时，两往往先不说话，等两人都冷静下来再处理
- D 某学生向教务投诉丁的课讲得不好，丁虽然心里委屈但并没有与该学生起冲突

98. 运营活动是指投入一定的资源，经过一系列多种形式的变换，使其价值增值，最后以某种形式的产出提供给社会的过程。根据上述定义，下列选项不属于运营活动的是 ()

- A 银行提供金融服务
- B 家庭主妇打扫家庭卫生
- C 咨询公司提供设计方案
- D 鞋厂生产鞋子

99. 学习有两种形式：同化是指个体在与外界互动中，以已有的知识体系和技能经验为基

础，形成对当前信息的认识； 烦应是指个体在与外界互动中，对自己原有体系和经验进行调整，以适应当前信息，从而不断完善。根据上述定义，以下最能体现同化这种学习形式的是（ ）

- A 触类旁通
- B 循序渐进
- C 集思广益
- D 融会贯通

100. 孵化器模式是一种企业文化模式，在这种模式中管理的目的是要消除常规任务对员工的束缚，以使他们能够全身心地投入创造性活动，保护和激发每名员工的创造力和积极性。

根据上述定义，下列符合孵化器模式管理方针的是：（ ）

- A 瑞典经理在年度评价中明确手下的工作目标并以此为依据对下属授权
- B 德国经理编写联务说明书以界定下属的职责范围进而明确其各自的权利
- C 美国经理允许员工拿出工作时间的 20% 进行个人感兴趣的项目以激发潜能
- D 日本经理为下属提供工作与生活上帮助，通过建立私人关系获得拥护

101. 道德恐慌是根据对特定个体或团体的误解发起大众运动，对于不了解或不合社会主流价值的个人或团体给予打压，通常经过媒体炒作。根据上述定义，下列属于道德恐慌的是：（ ）

- A 美国政府成功地使民众误认为伊拉克存有大规模杀伤性武器
- B 长期以来犹太群体因为信仰与基督教相冲突而被视为异类遭排挤
- C 某记录网瘾患者的节目播出后引发社会各界对网游玩家的歧视
- D 媒体对暴力抵制日货行为的报道令民众要求对闹事者严惩不贷

102. 服务是指为他人做事，并使他人从中受益的一种有偿或无偿的活动，不以或很少以实物形式而以提供活劳动的形式满足他人某种特殊需要。根据以上定义，以下不属于服务的（ ）

- A 小周的车出现故障去维修，汽车修理店更换了价值 2000 余元的零件
- B 为方便学生随时取款，某银行在校园里安装了一部自动取款机
- C 某医院派出医疗队深入农村，为农民上门诊断治疗
- D 某小区居民小王在小区网络论坛上发帖要求提高物业管理水平

103. 社会化是指个体与社会互动，逐渐养成独特的个性和人格，从生物人转变为社会人，并通过社会文化的内化和角色知识的学习，逐渐适应社会生活的过程。在此过程中，社会文化得以积累和延续，社会结构得以维持和发展，人的个性得以健全和完善。根据上述定义，

下列不属于个体社会化范畴的是（ ）

- A 张某进入游泳队三年后，从旱鸭子变成游泳冠军
- B 王某在读小学三年级，就能熟练背诵唐诗三百首
- C 李某一家三代都是执业医生，号称“医生世家”
- D 林某在一次意外受伤后突然拥有了心灵感应能力

104. 手术： 医生： 手术刀

- A 烹饪： 厨师： 餐具
- B 理发： 理发师： 梳子
- C 写生： 画家： 画布
- D 裁剪： 裁缝： 剪刀

105. 构思： 写作： 发表

- A 点火： 燃烧： 熄灭
- B 播种： 耕耘： 收获
- C 改革： 试验： 创新
- D 设计： 生产： 销售

106. 蚊香： 蚊帐

- A 电热毯： 热水袋
- B 手套： 太阳帽
- C 墨镜： 手电筒
- D 座椅： 书桌

107. 地球： 火星： 行星

- A 企业： 管理： 管理者



华图教育
HUATU.COM

-
- B 电灯： 光亮： 发明
C 陈景润： 华罗庚： 数学家
D 系： 学院： 大学

108. 应聘者： 招聘会： 招聘者

- A 原告： 判决书： 被告
B 医生： 挂号处： 病人
C 生产者： 销售者： 经营者
D 甲方： 签约仪式： 乙方

109. 围棋： 棋子： 棋盘

- A 二胡： 琴弦： 琴弓
B 窗帘： 帘子： 窗轨
C 书法： 毛笔： 宣纸
D 茶具： 茶壶： 茶

110. 见羊姐妹四人，甲、乙、丙、丁。甲说： 丁是最小的妹妹，乙说： 兄弟姐妹中只有哥哥一个男孩两说： 我是甲的姐姐。如果上述都为真。以下推断正确的是（ ）

- A 甲排行第二，是男孩； 乙排行第三，是女孩
B 乙排行第二，是女孩； 丙排行第一，是女孩
C 丙排行第二，是女孩； 丁排行最小，是女孩
D 甲排行第二，是女孩； 丙排行第一，是女孩

111. 统计数据显示，坚持常年打太极拳的人与从不打太极拳的人相比，平均寿命相同。由此可见，打太极拳并不能强身健体，延长寿命。如果以下陈述为真，哪一项能够最有力地削弱上述论证？（ ）

- A 有些运动员身体强健，但寿命却低于普通人
B 太极拳动作轻柔舒缓，常年坚持，能够舒筋活血，养气安神
C 坚持常年打太极拳的人中有很多体弱多病者
D 太极拳运动容易开展，对场地、运动者的身体素质没有什么要求

112. 每一个恶都有原因，但所有的恶都没有借口。不能因为恶来源于上方，我就有义务恶；不能因为别人都这么恶，我就有资格恶；甚至不能因为有人对自己恶，我就有权利对别人恶。所以，必须谴责每一个具体的恶。如果对生命的尊重必须具体到个位数，那么，对罪恶的谴责也必须具体到个位数。以下陈述都与上文所表达的观念相冲突，除了（ ）

- A 陈水总制造厦门公交车纵火案，虽理无可恕，但情有可原，他是社会的弱者，受到过很多不公正的对待
- B 某纳粹军官在集中营毒杀了数百名犹太人，他是在执行上级的命令，军令如山倒
- C 文革时期，读大学的黄晓萌批斗他们的大学教授，殴打其中一位致残。那时候整个中国都很疯狂，他只是被裹挟到这种疯在中，再说他当时太年轻
- D 没有一个生命可以无事受到伤害，哪怕你高举再正义的旗帜

数量关系

113. 植树节当天，初三年级 170 名学生去参加义务植树活动，如果平均每个男生 1 天能挖 3 个树坑，平均每个女生 1 天能种 7 棵树，1 天活动结束后发现正好每个树坑种上一棵树，则参加活动的男、女学生各有（ ）人。

- A 115, 55
- B 119, 51
- C 130, 40
- D 125, 45

114. 某次数学竞赛准备了 22 支铅笔作为一、二、三等奖的奖品，原计划一等奖每人发 6 支，二等奖每人发 3 支，三等奖每人发 2 支。后来又改为一等奖每人发 9 支，二等奖每人发 4 支，三等奖每人发 1 支，问有人获奖，（ ）

- A 5
- C 7
- B 6
- D 8

115. 甲、乙、丙、丁四人，其中每三个人的岁数之和分别是 55，58、62、65. 这四个人中年

龄最小的是（ ）

A 7 岁

B 10 岁

C 15 岁

D 18 岁

116. 一辆垃圾清运车往垃圾处理站送垃圾，晴天可以运 21 次，雨天可以运 15 次，这辆车一连运了 234 次，这些天中有（ ）天下雨。

A 2

B 3

C 5

D 7

117. 用 2、4、5、7 这四个不同数字可以组成 24 个互不相同的四位数，将它们从小到大排列，那么 7254 是第（ ）个数字。

A 19

B 20

C 18

D 15

118. 甲、乙两辆清洁车执行东、西城间的公路清扫任务。甲车单独清扫需要 6 小时，一车单独清扫需要 9 小时，辆车同时从东、西城想象开出，相遇时甲车比乙车多清扫 15 千米。问东、西两城相距（ ）千米。

A 75 千米

B 60 千米

C 90 千米

D 135 千米

资料分析

根据下列文字资料完成第 119-123 题。



华图教育
HUATU.COM

2008 年以来，世界经济增长速度全面放缓。2008 年美国前三季度 GDP 环比分别增长 0.9%、2.8%和下降 0.5%；欧元区第一季度 GDP 环比增长 0.7%，第二季度和第三季度均下降 0.2%；日本第一季度 GDP 环比增长 0.6%，第二季度和第三季度分别下降 1.0%和 0.5%；俄罗斯、韩国、马来西亚和泰国的第三季度 GDP 同比增长率分别从第一季度的 0.8%、5.8%、7.1%和 6%回落至 6.4%、3.9%、5.8%和 4%；中国台湾和新加坡第三季度 GDP 同比下降 1%和 0.6%，均为 2001 年以来首次出现增长，而一季度分别增长 6.2%和 6.9%。

119. 韩国在 2008 年第三季度的 GDP 同比增长速度为（ ）。

- A 5.8%
- B 7.1%
- C 3.9%
- D 4%

120. 新加坡在 2008 年第一季度的 GDP 同比增长速度为（ ）。

- A 6.2%
- B 6.9%
- C 1%
- D 0.6%



华图教育
HUATU.COM

121. 下列叙述正确的是（ ）。

- A 美国 2008 年第一、第二和第三季度 GDP 环比增长率均为大于零
- B 欧元区 2008 年第二季度和第三季度的 GDP 环比下降幅度不相同
- C 与 2008 年第一季度相比，泰国的第三季度 GDP 同比增长率回落 2 个百分点
- D 中国台湾 2008 年第一季度 GDP 同比出现负增长

122. 下列叙述不正确的是（ ）。

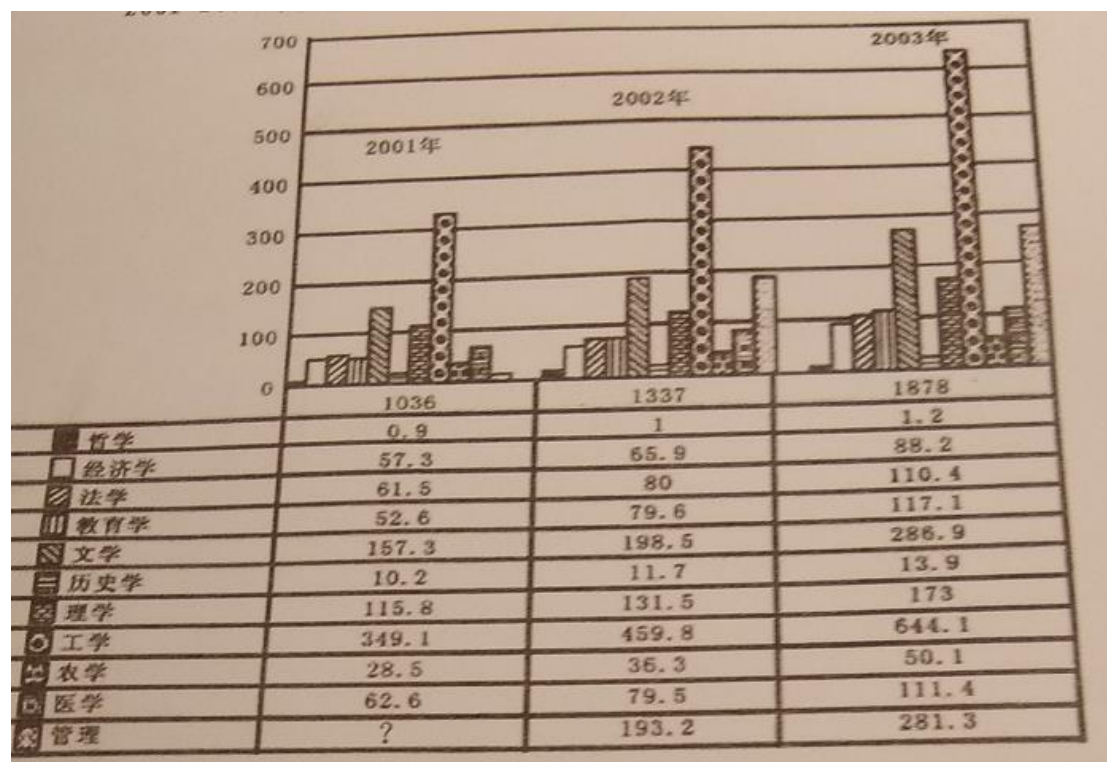
- A 欧元区 2008 年第一季度 GDP 环比为正增长
- B 日本 2008 年第三季度 GDP 环比为负增长
- C 俄罗斯 2008 年第三季度 GDP 同比为正增长
- D 马来西亚 2008 年第三季度 GDP 同比负增长

123. 以下国家 2008 年第三季度与 2008 年第一季度相比 GDP 同比增长率, 差值的绝对值最大的是 ()。

- A 俄罗斯
- B 韩国
- C 马来西亚
- D 泰国

请根据下图所提供的信息回答第 124-128 题。

2001-2003 年高校分学科毕业生人数统计图 (单位: 千人)



124. 从 2001 年到 2003 年, 每年毕业生最多的学科是

- D. 医学

C. 文学

B. 管理学

A. 工学

125, 从 2001 年到 2003 年, 三年累计毕业的大学生约有 (

D. 400 万人

C. 425 万人

B. 450 万人

A. 475 万人

126, 从 2001 年到 2003 年, 每年高校毕业生人数相差最大的两个学科分别是_

B. 文学和哲学

C. 工学和经济学

A. 工学和农学

D. 工学和哲学

127. 根据推断, 2001 年管理学毕业生人数约为

B. 14 万人

A. 12 万人

C. 16 万人

D. 18 万人

下列分析与预测, 正确的有项。(

128、

(1) 三年中哲学类毕业生约三千人

(2) 根据 2001 年至 203 年的走势, 预测工学类 200 年的毕业生将超过 70 万人

(3) 从图中知 2003 年毕业生约有 188 万人, 2004 年的毕业生将超过 200 万人

(4) 每年工学类毕业生约占毕业生总数三分之一

A. 一项

B. 二项

C. 三项

D. 四项



华图教育
HUATU.COM