

职业能力倾向测验易错 100 题

第一部分 常识判断

1. 部门规章与地方政府规章之间对同一事项规定不一致时，由（ ）。
- A. 国务院提出意见
B. 国务院裁决
C. 全国人民代表大会常务委员会决定
D. 部门与地方协商
2. 现代世界各国宪法均将人身自由的保护放在重要位置，下列选项中不属于公民人身自由权的是（ ）。
- A. 集会自由
B. 住宅安全权
C. 人格尊严
D. 通信自由
3. 《城市居民委员会组织法》赋予居民委员会协助政府工作的职能不包括（ ）。
- A. 社会治安
B. 优抚救济
C. 计划生育
D. 发展经济
4. 王某伙同曹某将位于某市主干道几个价值 500 元的窨井盖偷走。两天后，该市突降暴雨，女大学生小奚在赶路时不慎跌入未盖井盖的下水道身亡。下述表述正确的有（ ）。
- A. 王某、曹某构成盗窃罪
B. 小奚家人可向王某、曹某提出侵权赔偿之诉
C. 王某、曹某对小奚的死亡是故意的
D. 小奚家人可向该市市政管理部门提出行政赔偿请求
5. 在夫妻双方没有约定时，婚姻关系存续期间所得的下列财产中属于夫妻共同财产的是（ ）。
- A. 一方专用的生活用品
B. 一方的婚前财产
C. 一方身体受到伤害获得的医疗费
D. 一方的知识产权收益
6. “玉不琢，不成器；人不学，不知道”出自（ ）。
- A. 《学记》
B. 《大学》
C. 《论语》
D. 《师说》
7. 帝王谥号主要依据其生前行为而定。下列各项中属于谥号的是（ ）。
- A. 齐桓公
B. 宋太祖
C. 靖康
D. 康熙

8.我国历史上最早的一部兵书是指（ ）。

- A.《孙臆兵法》
- B.《孙子兵法》
- C.《老子》
- D.《易经》

9.《琵琶行》是唐代著名诗人白居易作于唐宪宗元和十一年（公元816年）秋的一篇叙事抒情诗。源于汉魏乐府，是其名曲之一。下列成语不是出自《琵琶行》的是（ ）。

- A.司马青衫
- B.千呼万唤
- C.弱不禁风
- D.门前冷落

10.新诗体楚辞的开创者是（ ）。

- A.宋玉
- B.东方朔
- C.屈原
- D.贾谊

11.下列抗日革命队伍中，中国共产党没有参与组织的是（ ）。

- A.抗日义勇军
- B.国民革命军八路军
- C.工农红军第四军
- D.抗日联军

12.以下电影中的情节，符合史实的是（ ）。

- A.秦始皇身穿黑色朝服，接见来自日本和高丽的友好使者
- B.卫青大破匈奴，武帝赐其华屋，卫青言：“匈奴未灭，无以家为也”
- C.张骞从西域返京后，给汉武帝带回核桃、苜蓿、大蒜等西域特产
- D.曹操写信给孙权，云：“孤承献帝圣命，奉辞伐罪。欲与将军共伐刘备……”

13.目前我国有34个省级行政区划单位，包括23个省、5个自治区、4个直辖市和2个特别行政区。下列关于省的说法错误的是（ ）。

- A.省作为我国的一级地方行政区划的名称正式出现在元朝
- B.元朝时称省为“行中书省”
- C.元朝时西藏地区并未设置行省
- D.明成祖时废除省，设立直属中央的三司

14.王安石变法的内容不包括以下哪一项？（ ）

- A.青苗法
- B.募役法
- C.一条鞭法
- D.方田均税法

15.一战期间，中国民族资本主义工商业出现了短暂的春天，下列关于中国民族资本主义工商业的说法，错误的是（ ）。

- A.以发展重工业为主，提倡“实业救国”

B.反帝爱国斗争推动了民族资本主义工商业的发展

C.民族资本力量薄弱，受帝国主义的控制

D.封建小农经济的绝对优势制约着民族资本主义工商业的发展

16.《民用建筑工程室内环境污染控制规范》中规定，五种室内环境污染物即甲醛、()、苯和总挥发性有机化合物的含量，在验收时必须进行检测。

A.氨、一氧化碳

B.氨、一氧化碳

C.氨、氡

D.一氧化碳、二氧化碳

17.茶是一种著名的保健饮品，中国人自古就有饮茶的习惯。下列与其相关的说法中，正确的是()。

A.冬天天寒，可通过饮花茶来滋养阳气，增热添暖

B.刚采摘的茶叶新鲜干净，宜马上饮用

C.我国名茶洞庭碧螺春产于湖南岳阳洞庭湖附近

D.茶马古道是当今世界上地势最高的贸易通道

18.家里的白炽灯用久了会发黑，这是因为()。

A.灯泡变旧

B.钨丝烧断

C.钨蒸汽凝华

D.灰尘

19.下列关于生活常识的说法中错误的一项是()。

A.暖水瓶的瓶胆，是由两层玻璃制成的，中间夹层里的空气被抽掉后，里面就形成了真空。由于真空不容易传热，里面盛的水就不容易变凉

B.把馒头放笼屉上蒸，最下面的先熟

C.夏天浇花，最好在清早或傍晚

D.一个人如果长时期不吃盐，身体就会软弱无力，甚至生病

20.对下列交通路标的解释正确的是()。



A. 两侧变窄



B. 渡口



C. 无人看守铁路道口



D. 驼峰桥

21. 下列旅游区标志中，表述不正确的是（ ）。



A. 游客自助服务区



B. 野营地



C. 冬季游览区



D. 游戏场

22. 用微波炉加热食物时不能用金属器皿盛装食物，是因为（ ）。

- A. 用金属器皿盛装食物加热食用后会使人金属中毒
- B. 金属会反射微波
- C. 金属器皿加热后会很烫
- D. 用金属器皿盛装食物进行加热，食物容易糊

23. 下列有关噪声及噪声污染的表述，错误的是（ ）。

A. 噪声污染，是指所产生的环境噪声超过国家规定的环境噪声排放标准，并干扰他人正常生活、工作和学习的现象

- B. 噪声污染不会对建筑物构成危害
- C. 噪声污染的危害程度主要取决于噪声的频率、强度及暴露时间
- D. 超过 110 分贝的噪声可能导致永久性听力损伤

24. 人们在游泳时发生小腿抽筋，如果应对失误，很容易危及生命安全。下列关于游泳时小腿抽筋的预防及自救措施的说法，不正确的是（ ）。

A. 下水前先用冷水拍打身体及四肢，让身体对水温有所适应，能够起到有效的预防作用

B. 在游泳前适量进食肉类、鸡蛋等食物，增加脂肪和蛋白质，避免在饥饿或者疲劳时游泳

C. 发生小腿抽筋时，先深吸一口气，把头潜入水中，使背部浮上水面，两手抓住脚尖，

用力向自身方向拉，同时双腿用力伸

D.发生抽筋时，如果位于深水区，可以迅速站立并用力蹬腿，并按摩小腿，待肌肉松弛后，慢慢游上岸

25.酿造酒是借着酵母作用，把含淀粉和糖质原料的物质进行发酵，产生酒精成分从而形成酒。下列属于酿造酒的是（ ）。

- A.伏特加
- B.山西汾酒
- C.青岛啤酒
- D.贵州茅台

第二部分 言语运用

26.一项研究结果_____了在梦中各种感官体验出现的频率，结果显示视觉体验居第一，听觉体验居第二，而触觉、嗅觉和味觉体验的出现频率相当低。视觉和听觉处理与大脑的关系要密切得多，多达三分之二的大脑皮层以某种方式参与视觉。因此，视觉如此频繁地在梦中出现_____。而嗅觉等几乎与大脑皮层无关。与其他感觉不同，嗅觉直接连接进入记忆和情感系统，这就是为什么某种气味能如此清晰地唤起某个记忆。

依次填入画横线部分最恰当的一项是：

- A. 考察 不足为奇
- B. 调查 比比皆是
- C. 观察 不值一提
- D. 考查 司空见惯

27.“药”是医病救人的，而“毒”是治病害命的。中药的毒性与药效到底是什么关系呢？专家认为是_____的，中药既有对人体不利的一面，也有治疗疾病的一面。

依次填入画横线部分最恰当的一项是：

- A. 相辅相成
- B. 对立统一
- C. 相生相克
- D. 相容并立

28.在量子理论产生之前，人类在宏观世界里从未观测到任何负能量的物质。把真空的能量定为零的经典物理学，无法_____一种比真空具有更少能量的物质，而在量子理论中，真空不再是_____，每时每刻都有大量的虚粒子对(一种永远不能直接检测到、但其存在确实具有可测量效应的粒子)产生和湮灭。

依次填入画横线部分最恰当的一项是：

- A. 理解 高高在上
- B. 相信 空空如也
- C. 认可 一尘不染
- D. 接受 一无所有

29.“心理弹性”的动力可能来自大脑激素反应，基因以及行为方式的共同作为，以保

证一种情绪上的_____状态。它不仅帮助我们在人生变故，创伤面前不至于崩溃，也让我们在好的经验上不至于沉溺，比如享受美餐、赢得球赛，受到表扬，都不会持续太久，这可能因为人是天生的_____动物，在愉快的经验中沉浸太久，会_____识别新危险的能力。

依次填入画横线部分最恰当的一项是：

- A. 平衡 忧患 钝化 B. 应激 危险 弱化
C. 积极 健忘 异化 D. 稳定 懒散 退化

30.语言在代代相传的过程中会发生改变。在人口众多的族群中，语言倾向于保持_____，原因很简单，因为有更多的人能记住上一辈说话的方式，然而在规模较小的族群中，语言有可能更快地发生变化，在世代交替中有些音素将会_____。

依次填入划横线部分最恰当的一项是：

- A. 稳定 流失 B. 传统 异化
C. 活力 消亡 D. 原貌 式微

31.声音由听觉加工，图像识别则由视觉分管。音乐和绘画是不同感官的艺术形式，应该没有相互_____的可能。不过，有人却能“看到”身边的音乐，并且将旋律凝固到画板上。许多研究机构也正在进行“声音视觉化”的尝试，在不久的将来，人们也许就能从真正意义上_____音乐的“色彩”。

填入划横线部分最恰当的一项是：

- A. 转化 表达 B. 代替 展现
C. 替换 感受 D. 转换 观赏

32.如今，改革进入深水区，无论简政放权还是调节收入，仍有部门、地方的利益_____，仍有保守、畏难的观念_____，方此之时，不能进一步解放思想、实事求是，就难以看清各种利益固化的症结，难以找准突破的方向和着力点。

依次填入划横线部分最恰当的一项是：

- A. 阻挠 藩篱 B. 诉求 限制
C. 掣肘 樊篱 D. 牵制 束缚

33.尼采曾把母鸡下蛋的啼叫和诗人的歌唱相提并论，说都是“痛苦使然”。这个家常而_____的比拟，也恰恰符合中国文艺传统里一个_____的观点：苦痛比快乐更能产生诗歌，好诗主要是不愉快，烦恼或“穷愁”的表现或发泄。在中国古代，这个观点不但是诗文理论里的常谈，而且成为写作实践里的套路。

填入划横线部分最恰当的一项是：

- A. 形象 主流 B. 通俗 主观
C. 尖刻 偏执 D. 生动 流行

34.像徜徉在夏天夜晚的星空下，为那壮丽的景色而_____，我真的是无限_____于我赖以思考和交往的中国文字，并_____于它的再生活力和奇特魅力。

填入划横线部分最恰当的一项是：

- A. 陶醉 偏爱 惊讶 B. 迷醉 钟情 震惊
C. 痴迷 倾心 震撼 D. 沉迷 垂青 惊叹

35. 怎样的事物才能真正的永存?阿房宫和华清池都已片瓦不留,李杜的名句和老庄的格言却一字不误地_____在每个华人的心里。世上延绵最久的还是非物质——思想与精神。能够_____地记忆思想的只有文字。所以说,文字是我们的生命。

填入划横线部分最恰当的一项是：

- A. 保存 永久 B. 铭刻 永恒
C. 保留 明确 D. 镌刻 准确

36. 中国旧时的店铺里,在店面是不陈列贵重的货物的,店主总是把它们收藏起来,只有遇到有钱又识货的人,才告诉他们好东西在里面,倘若随便将上等商品摆放在明面上,岂有贼不惦记之理。元末的朱元璋在攻占了南京之后,因为群雄对峙,为了避免因崭露头角而成为众矢之的,他采用了谋臣的建议,以“高筑墙,广积粮,缓称王”的策略赢得了各个击破的时间与力量,在众人的眼皮底下暗渡陈仓,最后一并群雄当上了大明皇帝。

对这段文字的主旨概括最准确的是：

- A. 做生意不能太张扬
B. 谦虚使人进步
C. 枪打出头鸟
D. 满招损,谦受益

37. “农餐对接”模式使餐饮企业与农业生产紧密联系起来,餐饮企业安全生产标准管理体系自然延伸到田间地头,直接参与农产品生产过程的安全监控和标准管理,从而在整条供应链条上确保农产品质量安全。同时,全程冷链管理和直达配送,避免了原材料在运输或在存储过程中二次污染,实现了农产品物流配送绿色化。另外,通过实施农产品标识制度,对产品生产都实行身份编码识别管理,实现农产品质量安全追溯,能准确及时追查农产品产地来源和生产者,使农产品全流程安全控制成为可能。

对上述文段的内容概括最为准确的一项是：

- A. “农餐对接”缓解了农产品销售难的问题
B. “农餐对接”模式有效保证了餐饮食品安全
C. “农餐对接”模式实现了农产品溯源管理
D. “农餐对接”对食客、农民、餐饮企业的影响

38. 对于个体和一个国家来说,人的生存是首先要解决的头等大事,虽然环境保护已越来越多地被提及和关注,但比起解决“吃饭”问题,始终要屈居第二的。这也是发展中国家为什么多重复走发达国家先污染后治理的老路的原因,并非看不到教训,而是谋求发展的艰巨任务使得各国不得不走捷径,优先选择煤炭这种低廉可靠、提高贫困人口生活水平还能促

进就业的发展型能源。

这段文字的主要意思是：

- A. 环境保护和经济发展同样重要
- B. 发展中国家为了生存和发展不得不先污染后治理
- C. 解决温饱问题比保护环境更重要
- D. 发展中国家谋求发展忽略了环境保护

39.当一种关注度热、期待性高、专业性强且被贴上全民利益标签的环境民事公益诉讼案件,日渐成为法院审判工作的新挑战之时,进行各种尝试及机制创新就成为应对复杂环境法治局面的必由之路,特别是如何逾越法官“隔行如隔山”的知识性短板实现裁判的准确高效,就是体制机制创新的核心。

这段文字告诉我们：

- A. 环境诉讼案件的审判需要更高的专业素养
- B. 法官必须不断完善其知识体系
- C. 司法部门体制创新效果显著
- D. 法院审判工作应通过创新应对挑战

40.在昆虫世界，通常会将蜜蜂与社会性行为联系起来。不过，根据一项最新研究，事实上真正离开同伴便活不了的是蚂蚁。美国科学媒体报道称，在仅仅隔离了6天后，蚂蚁就死掉了，而群居在一起的对照组蚂蚁活了66天。通常情况下，蚂蚁通过一种被称为嗉囊的内部结构将食物搬回巢穴，再将食物吐出来，和其他蚂蚁分离，蚂蚁在孤立状态下无法消化食物的现象，让科学家推测可能吐出食物的过程会改变食物成分，使其变得容易消化。或者说，这种社会互动改变了蚂蚁的肠道微生物，以某种方式促进了营养吸收。

这段文字主要说明了：

- A. 群居蚂蚁分享食物的行为
- B. 人们对蚂蚁存在的认知误区
- C. 蚂蚁与蜜蜂社会性行为的区别
- D. 蚂蚁社会性行为的生理基础

41.有科学家认为，迁徙动物都有独特的“助航设施”，它们通过海岸线等作为参照，利用特殊的嗅觉和听觉等获得方向。也有科学家认为，迁徙动物身体中存在磁受体，可以感应地球磁场，它们有自己的生物指南针。更有趣的是，又有科学家发现即使是室内饲养的从未接触过其他同伴的年轻乌鸦，也会沿着祖辈飞过的路线进行迁徙，也就是说，它们已经从上一代遗传了迁徙的方向，它们天生就知道去哪里寻找温暖的地方过冬。

这段文字主要表达的是：

- A. 迁徙动物都有独特的“助航设施”
- B. 迁徙动物身体中存在磁受体

- C. 乌鸦从上一代遗传了迁徙的方向
- D. 关于动物如何确定迁徙路线，科学家给出多种解释，但目前仍没有定论

42.现在一些国家的法律体系中之所以出现越来越多的“软法”，根本原因就在于，在一个多元化的社会，道德价值的多元化决定了人们在处理社会关系时很难达成一致意见，将一些普遍遵循的道德规范变成共同的行为准则，不仅可以避免多元化社会道德评判混乱的现象，同时也可以在一定程度上引导公民的行为，让他们时刻意识到自己行为的“合法性”。

这段文字的主要观点是：

- A. “软法”有利于凝聚共同价值观
- B. “软法”顺应了社会多元化发展
- C. “软法”对道德准则有强化作用
- D. “软法”可以判定行为的合法性

43.经典，是一定的时代、一定的阶级认为最重要的、有指导作用的著作。这就是说，我们必须调整自己的立场，才有可能在民间艺术中读出文化的经典之处。

这段话介绍了这样一个内容，即：

- A. 经典具有怎样的特点
- B. 怎样才能更准确更深刻地欣赏民间艺术
- C. 民间艺术中具有怎样的文化内涵
- D. 明确经典的含义对欣赏民间艺术具有怎样的意义

44.明清鼎革之际，商品经济发展迅速，商贸流通日益增强，徽州商帮成为中国商界翘楚，积累了丰厚的财资。商人们遵循传统，发家后便返乡大兴土木、广修宗祠，遍设书院。同时徽商“贾而好儒”的文化品质使他们追求生活的艺术品位，强调建筑的布局、结构、装饰要展现主人的涵养。此外，这一时期，徽州版画也颇为发达，对砖雕艺术具有深远影响。

上述材料旨在说明：

- A. 徽州商帮的理家方略
- B. 徽商商人的文化品质
- C. 徽商经营与绘画关系
- D. 徽州建筑发达的原因

45.汽车是对环境影响较大的商品，汽车厂商支持环保事业、进行环保宣传，似乎是理所应当的。环保应当是汽车企业在发展中必须认真考虑的因素，但要求汽车企业没有利润甚至亏损来做环保，显然是不现实的，而且也不会持久。汽车企业在发展的同时采取新的技术措施，尽量减少对环境的污染，符合社会发展大趋势，才是长久之策。

这段文字的核心观点是：

- A. 环保与实现企业利润存在矛盾
- B. 发展环保事业应该注重从实际出发

- C. 技术革新是解决汽车影响环境问题的关键
- D. 汽车企业应在发展的同时充分重视环境保护

46.我们总以为真理掌握在多数人手里，事实上是这样的吗？不是，多数人掌握的是舆论，当真理被发现之前，公众有谁会掌握呢？而一旦被有识之士发现了，又有几个人能很快接受呢？伽利略在比萨斜塔证明自由落体速度与质量无关前，谁又不是认为重的物体比轻的落得快呢？一旦大家接受了伽利略的观点，就形成了公众的舆论，所以，舆论包含有真理和谬论的双重成分。真理总是在不断地被少数有识之士发现，进而推广为公众舆论，从而掌握到多数人手里，因此，_____。

填入划横线地方最恰当的一句是：

- A. 公众舆论是真理生根发芽的土壤
- B. 真理演变为舆论的过程是曲折而又漫长的
- C. 社会公众只是真理的被动接受者和推广者
- D. “少数服从多数”的原则阻碍了真理的诞生

47.如果我们必须用一句话给免疫系统下个定义，答案一定是“识别非我的机制”。这是免疫系统最核心的部分，其余的东西，比如抗体的形成或者巨噬细胞消灭敌人的能力，都必须建立在这个机制之上。换句话说，只要生命体能够将敌人辨认出来，剩下的事情就好办了，目前医学界遇到的最难对付的几种疾病，比如艾滋病和自免疫疾病，_____。

填入划横线地方最恰当的一句是：

- A. 均因免疫器官受到损害
- B. 近阶段还难有突破性成果
- C. 其病理机制尚未研究清楚
- D. 关键问题都出在这一步上

48.①作为新兴的农村商业中心，市镇并不以政治中心为依托，而是基于商业和市场活动兴起，又以商品经济体的形式发展，因而具有鲜明的经济中心的特征

②就发展趋向而言，由于较少地受到政治因素的控制和干扰，市镇有着较州县城市更大的自主发展空间

③相对于传统州县城市的转型，两宋时期各种形式的市镇大量涌现，在某种程度上有着更值得关注的文明意义

④可以说，市镇的广泛兴起和发展，既是城市文明向广大农村扩散的反映，也是乡村社会自我调整与变革的结果

⑤从起初简单的商品交易和流通活动到较为完整的商品经济体系，从聚散不定的村落交易点到初具专业化的商贸聚合地，从形式单一的乡村聚落到结构复杂的商业社区，市镇立足于乡村社会而又逐渐超越乡村文明，成为一种正在形成中的新型经济都市形态

⑥据不完全统计，两宋时期各地先后兴起的市镇，迄今尚有史可考的就超过了 3600 处
将以上 6 个句子重新排列，语序正确的是：

- A. ③⑥①②⑤④ B. ①④②⑥③⑤
C. ⑤⑥①②④③ D. ④③⑤⑥①②

49.①它借鉴了话剧的“嘴巴”（说）和电影的“眼睛”（看）两种表现特征，但“看远方的图画”始终是它的第一特征

②与电影不同，电视剧的界限相对较为宽泛，可以涵盖众多形式，如戏曲、音乐甚至舞蹈

③正如达·芬奇的观点：被称为灵魂之窗的眼睛是理解力的主要工具，它使人能最充分地欣赏自然界中无限的创造；而耳朵则是次要的，因为它所以重要，是由于它能听到眼睛所看到的事物

④所以“看电视”就是强调视知觉特征

⑤电视剧没有向故事电影靠拢并非偶然，不论是艺术特征、拍摄手段还是服务对象，既不是戏剧的，又不是电影的，而是一门独立的、崭新的艺术

⑥它可以向戏剧借鉴以语言（台词）为特征的表现手法，也可以借鉴电影的语言表达方式，形成自己的艺术语言系统

将以上 6 个句子重新排列，语序正确的是：

- A. ②⑤⑥①④③ B. ⑤⑥②④③①
C. ②⑥①⑤③④ D. ⑤②③④⑥①

50.①随后发生的第二次世界大战、冷战和德国的分裂，无不与之有着或多或少的关系

②面对并不十分光彩的过去，德国人没有回避，更没有为自己开脱，而是选择勇敢地直面历史，在反省中重新前行

③第一次世界大战被视为 20 世纪人类灾难的原罪

④两次世界大战，都是德国在崛起过程中夺取欧洲甚至世界统治地位的后果

⑤尽管硝烟早已散尽，但是两次世界大战和近半个世纪的分裂之殇已然深深地烙在这个国度

⑥不仅给世界人民带来了巨大的灾难，也为日后德国的分裂埋下了伏笔

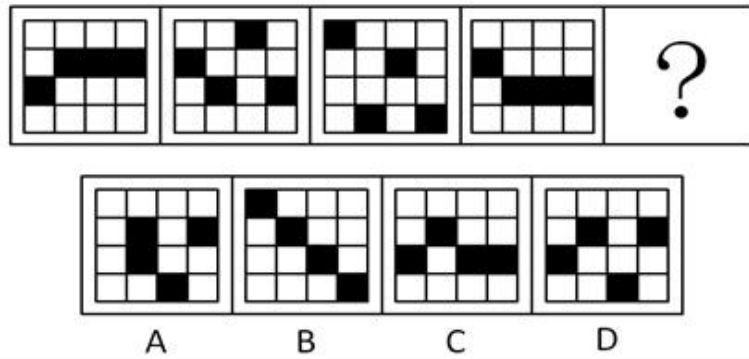
将以上 6 个句子重新排列，语序正确的是：

- A. ②④③①⑤⑥ B. ③①④⑥⑤②
C. ④③①②⑤⑥ D. ⑤⑥③①④②

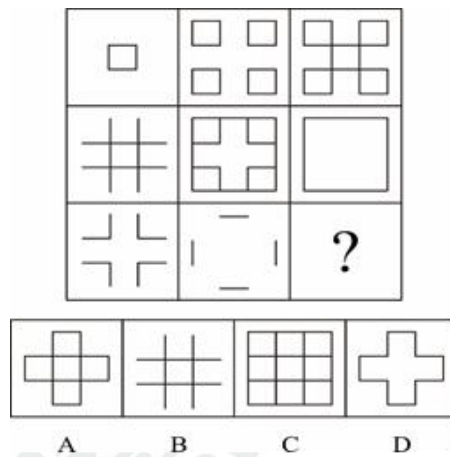
第三部分 判断推理

（共 25 题）

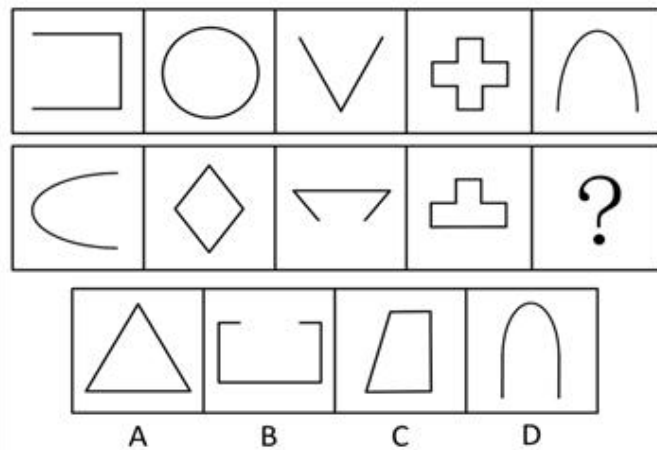
51. 请从所给的选项中，选择最合适的一个填入空白处，使之呈现一定的规律（ ）。



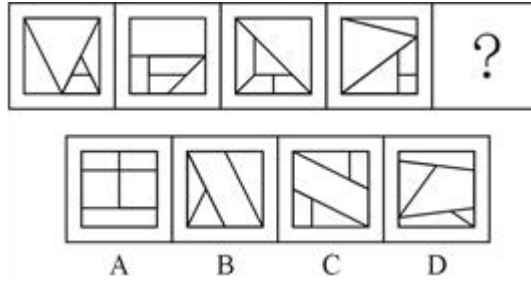
52. 请从所给的选项中，选择最合适的一个填入空白处，使之呈现一定的规律（ ）。



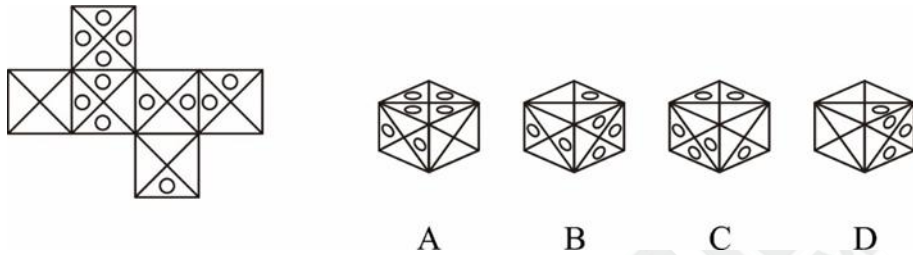
53. 请从所给的选项中，选择最合适的一个填入空白处，使之呈现一定的规律（ ）。



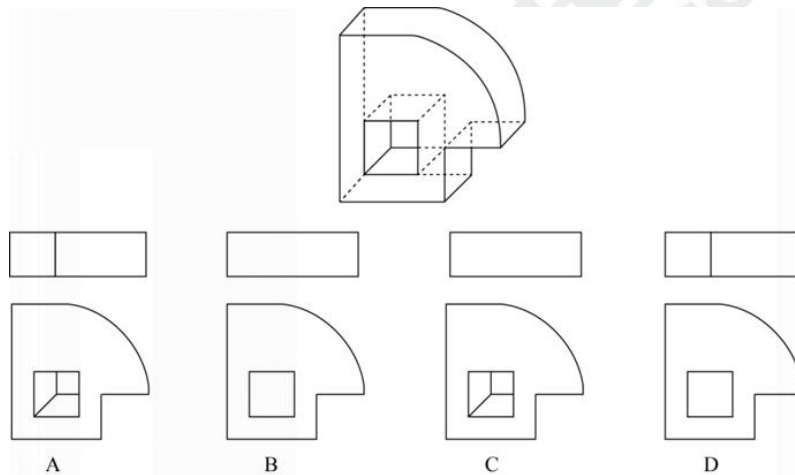
54. 请从所给的选项中，选择最合适的一个填入空白处，使之呈现一定的规律（ ）。



55. 左边给定的是纸盒的外表面展开图，下面的哪一项能由它折叠而成？（ ）



56. 下边为给定立体图形的俯视图和主视图的一组是：（ ）。



57. 分析型思维指的是把事物的各种属性、各个部分或方面分解开来一一加以考察，以此来认识事物的基础或本质的思维方法；综合型思维指的是把事物的各种属性、各个部分或方面联合成为整体进行考察的思维方法；比较型思维是把各种事物加以对比，以确定它们之间的相同点和不同点的思维方法。

根据上述定义，对于东西方均存在的犯罪问题，下列属于综合型思维的是：（ ）。

- A. 从社会发展的角度，探析犯罪行为与社会稳定之间的关系
- B. 分析有宗教信仰和无宗教信仰者的犯罪比例，研究宗教信仰和犯罪是否存在相关性
- C. 比较东西方的文化差异及犯罪的不同特点，考察其中的关联性
- D. 运用大数据，分析高科技犯罪分子在犯罪前的网络言论，探寻从其言论是否可以预判其犯罪行为

58. 次文化是指在某个族群中不占主导地位，拥有不同行为和信仰的较小文化，或只有

少数成员认同的价值观及所采取的行为方式，亦称为亚文化。

根据上述定义，下列选项在其所限定年代中属于次文化的是（ ）。

- A. 宋朝的儒家思想
- B. 元代的戏曲艺术
- C. 当代社会尊老爱幼的传统
- D. 2002年后网络兴起的火星文

59. 行政调解：是指在国家行政机关的主持下，以当事人双方自愿为基础。以国家法律、法规及政策为依据，以自愿为原则，通过对争议双方的说服与劝导，促使双方当事人互让互谅、平等协商、达成协议，以解决有关争议而达成和解协议的活动。

以下属于行政调解行为的是（ ）。

- A. 街道社居委对辖区内邻里纠纷进行调解
- B. 工商局所辖的消费者协会对消费纠纷进行调解
- C. 交警队对车辆碰撞事故进行责任认定，提出调处意见
- D. 某市经济仲裁委员会对企业之间的经济合同纠纷进行调解

60. 需求定律是指在其他因素（非价格因素）不变的条件下，商品的价格和需求量之间存在反向变动的关系，即价格越低，需求量越大；价格越高，需求量越小。

根据上述定义，下列涉及需求定律的是：（ ）。

- A. 某品牌服装为了提高销量，开展降价促销活动
- B. 某国土豆价格不断下降，但需求并未得到提高
- C. 某奢侈品的销量逐年增加，其销售也不断提高
- D. 股票市场上，涨幅大的股票会受到股民的追捧

61. 静脉产业指运用先进的技术，将生产和消费过程中产生的废物转化为可重新利用的资源和产品，实现各类废物的再利用和资源化的产业，如同人体血液循环中的静脉一样。

下列不属于静脉产业的是（ ）。

A. 某企业用“资源—产品—废弃物”的经济模式开采原生自然资源，并注重资源利用，关注经济系统对自然生态系统的影响

B. 德国的绿点公司负责社区黄色垃圾箱和垃圾袋中垃圾的收集、分类、回收和再利用，处理费用由获得“绿点”标志认证的企业或销售商支付

C. 某企业规定，生产者对其产品的整个生命周期负责，并明确废弃物的管理原则，避免产生—循环使用—最终处置

D. 当今，世界发展遇到两个共同难题：垃圾过剩和资源短缺。变废为宝是解决的有效途径，如某企业利用花生壳生产夹板作为建材，具有较好的抗震效果

62. 法律道德背反现象：许多人以为合乎道德的行为是不会违法的，但是现实社会中，某些符合一般道德原则的行为却被法律所禁止。

下列哪项不属于“法律道德背反现象”（ ）。

A. 某护士出于同情，应一晚期癌症患者本人要求帮助他实行安乐死，以解除其无法忍受的痛苦，后被控犯谋杀罪

B. 某甲花一万元从人贩子手上购买一男孩为子，视为己出，关爱有加，两年后民警来“解救”时，孩子不愿离开现“父母”

C. 某乙为解决农民工子女上学难，办了一所收费低廉的小学，被指非法办学而不得不停办，许多孩子因此再度失学

D. 某丙刑满释放回乡后扬言报复“仇人”，并准备了凶器，其父劝阻无效后为免其犯下血案将其捆绑关押在家长达三个月，该行为涉嫌非法拘禁

63. $X > 3$: $Y > 2$: $X + Y > 5$

A. $a > b$: $b = c$: $a < c$

B. 三角形: 等边: 等角三角形

C. 男女: 血缘关系: 父女

D. 冬天: 严寒: 下雪

64. 火车: 汽车: 飞机

A. 白菜: 苋菜: 空心菜

B. 冬瓜: 南瓜: 瓜子

C. 中医: 西药: 口服药

D. 空调: 冰箱: 家电

65. 蚕蛹: 飞蛾

A. 种子: 果实

B. 小鸭: 天鹅

C. 胎儿: 婴儿

D. 蝌蚪: 青蛙

66. 愚公移山: 郑人买履

A. 弄巧成拙: 囫囵吞枣

B. 杞人忧天: 庖丁解牛

C. 邯郸学步: 东施效颦

D. 凿壁偷光: 田忌赛马

67. 恒星 对于 () 相当于 () 对于 花丛

A. 月亮: 菊花

B. 宇宙: 花朵

C. 太阳: 草丛

D. 天体: 花海

68. 文学院有学生为优秀奖学金获得者。除非各学院有学生为优秀奖学金获得者，否则任何学院都不能从学校领取奖学金。计算机学院可以从学校领取奖学金。

由此可以推出（ ）。

- A. 文学院可以从学校领取奖学金
- B. 文学院有的学生不是优秀奖学金获得者
- C. 计算机学院有的学生是优秀奖学金获得者
- D. 计算机学院有的学生不是优秀奖学金获得者

69. 某机构决定从五位业务骨干中选派一人到国外学习，这五位骨干分别是赵、钱、孙、李、周。在决定选派人选之前有如下对话：

赵说：或者是我去，或者是孙去；

钱说：周不去；

孙说：如果不是李去，那么就是钱去；

李说：既不是我去，也不是钱去；

周说：既不是孙去，也不是赵去；

最终确定人选后发现以上对话中只有两个人说对了，那么被选中的是（ ）。

- A. 赵
- B. 钱
- C. 周
- D. 李

70. 在漫长的进化之路上，一些生物因为某几个基因突变，获得了较强的体温调控能力。以人体为例，当外界温度过低时，骨骼肌战栗产热，皮肤血管口径缩小，从而减少散热。如此一来，体温（不管是体表还是内部）就能维持在一个较为稳定的区间，减少外界环境对人类生存的制约。也就是说，恒温动物，正是为了对抗严寒才出现的。

以下哪项如果为真，最能支持上述结论？（ ）

- A. 恒温动物是在地球出现严寒天气后才进化出来的
- B. 在进化过程中，人类的毛发抵御严寒的功能越来越弱
- C. 生活在严寒地区的人类已经逐渐适应了严寒天气
- D. 人体器官经历了漫长的进化后才逐渐形成

71. 如果父母双方或有一方患精神分裂症，其孩子患该病的几率是那些父母没有精神分裂症的孩子的七倍，因此可以认为精神分裂症具有遗传倾向。

以下哪项如果为真，最能支持该结论（ ）。

- A. 亲生父母没有精神分裂症，被患该病的养父母养大的孩子比被亲生父母养大的孩子更容易患该病
- B. 亲生父母有精神分裂症，被没有该病的养父母养大的孩子比其他孩子更容易患该病

- C. 父母患精神分裂症之后，孩子的成长环境明显恶化，更容易患上相关的精神疾病
- D. 父母没有精神分裂症的孩子在出现相关症状时确诊率很低

72. 随着技术的进步，科学家可以通过对木料的检测来确定树木被砍伐的年份。因此，通过古建筑中幸存的木料，就可以确定古建筑的建造年份。

上述结论基于的假设是（ ）。

- A. 古建筑中的木料在使用前没有闲置很长时间
- B. 古建筑大量使用木料作为建筑材料
- C. 一栋古建筑的建造通常只使用一种木料
- D. 保存完好的古建筑是使用最耐久的木料建造的

73. “地球一小时”是世界自然基金会应对全球气候变化所提出的一项倡议，希望家庭及商户在每年3月的最后一个星期六20:30~21:30期间熄灯1小时。“地球一小时”能减少的用电量主要来自照明用电。据统计，照明用电量约占用电总量的12%，其中只有部分用户参与熄灯活动。因此，在活动中减少的电能消耗量是微乎其微的。有市民据此认为，“地球一小时”并没有取得什么实际的效果。

以下哪项如果为真，最能质疑上述市民的看法（ ）。

- A. 每年“地球一小时”活动所节省的用电量可供一个大型城市用电三天
- B. “地球一小时”造成短时间内用电骤减，给电网管理带来困难
- C. 尽管现在参与活动的人数有限，但是将来参与人员的比例会越来越大
- D. “地球一小时”的目的是呼吁人们节约能源，保护地球

74. 目前，是否应该提升水价成为人们热议的问题，有学者认为水价应该上涨，其原因有两个。一是提升水价有利于节约用水。价格提高了，人们自然会节约成本。二是有利于水质的提升，虽然价格上去了，但是如果水质相应提升，可以达到纯净水的水质，对于大家来说，相当于购买纯净水。水质提升是需要成本的，因此水价上涨是可以接受的。

以下哪项如果为真，不能反驳该学者的论证（ ）。

- A. 基础资源提价的最终结果只能是百姓受损和通货膨胀
- B. 节水观念深入人心才是实现节约用水的根本途径
- C. 在现有的涨价幅度内还无法使水达到纯净水的水质
- D. 提升的水价实际上只占人们生活支出的很小一部分

75. 最近上映了一部很受欢迎的电影，小刘购买了4张座位连在一起的电影票，邀请小马、小杨、小廖一同去观看。四人各自随机拿了一张电影票，此时他们分别猜了一下座位情

况：

小刘说：“我好像是坐在小马旁边。”

小马说：“我的左手边不是小刘就是小杨。”

小杨说：“我肯定是坐在小廖旁边。”

小廖说：“小刘应该是坐在我的左手边。”

假如他们四人都猜错了，那么他们面向银幕从左到右的正确座位可能是（ ）。

- A. 小廖、小马、小杨、小刘
- B. 小刘、小杨、小廖、小马
- C. 小马、小廖、小杨、小刘
- D. 小杨、小刘、小廖、小马

第四部分 数量与资料分析

（共 25 题）

76. 某班级准备在 7 月份对《中国共产党章程》按顺序进行系统的学习。学习内容为总纲和十一章共 12 部分。为了保证学习质量，每天最多学习一个部分且周末不学习，7 月的每个自然周（周一到周日算作一周）都要学习且至少学习 2 部分。已知 7 月 1 日是周四，问学习计划共有多少种方案？（ ）

- A. 7200
- B. 10800
- C. 60000
- D. 80000

77. 某蛋糕房销售 A、B 两种糕点，其单价均为 8 元，单个净利润分别为 3 元和 4 元，推广期两种糕点均六折出售，如某天出售 X 个糕点，问其中至少要有多少个 B 糕点才能保证不亏本？（ ）

- A. $0.2X$
- B. $0.25X$
- C. $0.75X$
- D. $0.8X$

78. 某车间有 50 名工人装配零件，男工每人装配 4 个，女工每人装配 2 个，最终男工

装配的零件数比女工多 20 个，车间准备从男工和女工中各任意选择 1 名参加技能比赛，问共有多少种不同的组合？（ ）

- A.400
- B.500
- C.600
- D.800

79. 9 个人参加知识竞赛，前五名和后五名平均相差 16 分，除第五名外其余 8 人的分数成等差数列，问前两名的分差为多少？（ ）

- A. 1
- B. 2
- C. 4
- D. 5

80. 一项工程，乙队单独完成所花的时间是甲队的 1.5 倍。若甲单独做 20 天后，两队合做还需要 60 天刚好完成；若甲队单独做 x 天后，由乙队单独再做 y 天也刚好完成。则下列关系正确的是？（ ）

- A. $2y = 3x$
- B. $3x = 4y$
- C. $x = 120 - 2y$
- D. $y = 180 - 1.5x$

81. 山顶上有棵桔子树,一只猴子偷吃桔子,第一天吃了 $\frac{1}{10}$, 第二天偷吃了当天树上的 $\frac{1}{9}$...第九天偷吃了当天树上的 $\frac{1}{2}$, 树上留下了 10 个桔子, ,问树上原有多少个桔子?（ ）

- A.90
- B.100
- C.102
- D.108

82. 小明家去年在教育方面支出 1300 元，饮食方面支出 2600 元，其他方面支出 9100 元，今年这三项的支出分别比去年增长了 30%、10%、20%，那么他家今年的总支出比去年的增长了多少？（ ）

- A. 19%
- B. 20%
- C. 23%
- D. 25%

83. 某中学原计划栽种杨树、柳树和梧桐树共 1500 颗，植树开始后，当栽种了杨树总数的 $\frac{3}{5}$ 和 30 颗柳树后，有运来 15 棵梧桐树，这时剩下的三种树的棵数恰好相等，问原计划栽种杨树多少棵？（ ）

- A. 785
- B. 825
- C. 850
- D. 875

84. 某一年的 5 月份中，有五个星期五，他们的日期数之和等于 80，那么这个月 1 日是：（ ）

- A. 周二
- B. 周三
- C. 周四
- D. 周五

85. 铁路旁有一条小路，一列长为 110 米的火车以每小时 30 千米的速度向南驶去，8 点时追上向南行走的一名军人，15 秒后离他而去，8 点 6 分迎面遇到一个向北行走的农民，12 秒后离开这个农民，问军人与农民何时相遇？（ ）

- A. 8:00
- B. 8:30
- C. 8:50
- D. 8:40

根据材料一，回答 86-90 题：

材料一：截至 2015 年，我国已经成为世界氯碱第一生产大国，主要产品如烧碱、聚氯乙烯的生产能力均居世界首位。全国烧碱企业 163 家，2015 年底总产能达到 3873 万吨/年。全国聚氯乙烯生产企业 81 家，2015 年底总产能为 2348 万吨/年。

2015年我国烧碱产能为3873万吨/年，首次下降37万吨/年。烧碱生产企业为163家，新增产能169万吨/年，退出产能206万吨/年，行业产能负增长。退出装置中，隔膜碱装置113万吨/年，离子膜碱93万吨/年。

2015年我国聚氯乙烯产能为2348万吨/年(含糊树脂)，较2014年下降41万吨/年。其中，新增产能78万吨/年，退出产能119万吨/年，在产企业数为81家，相比2014年减少7家，行业产能继续负增长。其产量为1609万吨，同比下降1.7%，表观消费量为1603万吨，2010-2015年其表观消费年均复合增长率（CAGR）为5.5%。

2010-2015年聚氯乙烯表观消费量规模



2015年国内烧碱产量为3028万吨，较2014年降低1.4%。2015年表观消费量为2852万吨，2010-2015年间其表观消费年均复合增长率为8%。

2015年国内烧碱表观消费量走势



86. 2014年我国国内烧碱产量约为多少吨？（ ）。

A.3836

B.2641

C.2307

D.3070

87. 2015 年我国聚氯乙烯总产能比去年下降约多少个百分点? ()

A.2015 年

B.2014 年

C.2013 年

D.2012 年

88. 2014 年 L 省规模以上工业，三大主导产业中占比最大的产业的比重约为 ()。

A.34.7%

B.45.8%

C.56.5%

D.67.6%

89. L 省“十二五”期末的全部工业增加值比 2011 年增长约 ()。

A.21.8%

B.32.4%

C.43%

D.53.8%

90. 根据所给资料，下列表述正确的是 ()。

A.2015 年 L 省规模以上工业的，38 个行业大类中有三个行业大类的增加值是减少的

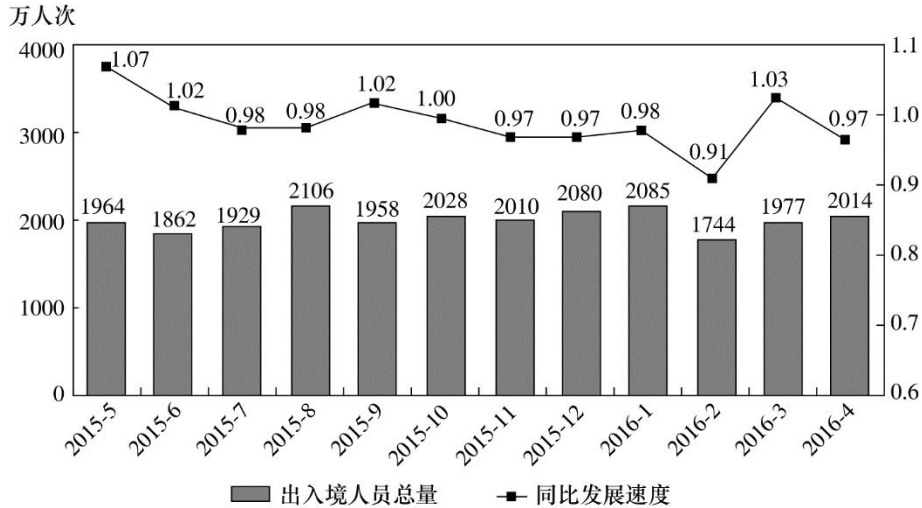
B.2014 年 L 省工业产品销量率为 96.24%

C.2015 年 L 省规模以上工业中私营企业的增长率低于国有企业的增长率

D.2014 年 L 省高新技术产业实现增加值超过 900 亿元

根据材料二，回答 91-95 题：

材料二：2016 年 S 市口岸通关情况为：4 月份口岸出入境车辆 131.2 万辆次，机场空港口岸出入境旅客 24 万人次；1~4 月，S 市口岸累计出入境车辆 495 万辆次，机场空港口岸出入境旅客累计 90.2 万人次。



2015年5月~2016年4月经S市口岸出入境人员月度统计

注：同比发展速度指当期数值与上年同期数值之比。

91. 2016年1季度，平均每天约有多少车辆经S市口岸出入境？（ ）
- A.1.0万辆次
B.1.5万辆次
C.4.0万辆次
D.5.5万辆次
92. 2014年9~12月间，哪个月经S市口岸出入境人次数最高？（ ）
- A.9月
B.10月
C.11月
D.12月
93. 2015年下半年，有几个月经S市口岸出入境人次数同时低于上月和上年同期水平？（ ）
- A.3
B.2
C.1
D.0
94. 2016年1季度，经S市口岸出入境总人次较上一季度约：（ ）
- A.增长了0.9%

B.增长了 1.7%

C.降低了 2.3%

D.降低了 5.1%

95. 下列关于 S 市的说法，能够从上述资料中推出的是：（ ）

A.2016 年 4 月机场空港口岸出入境旅客入次数约占当月全部经口岸出入境入次数的一成

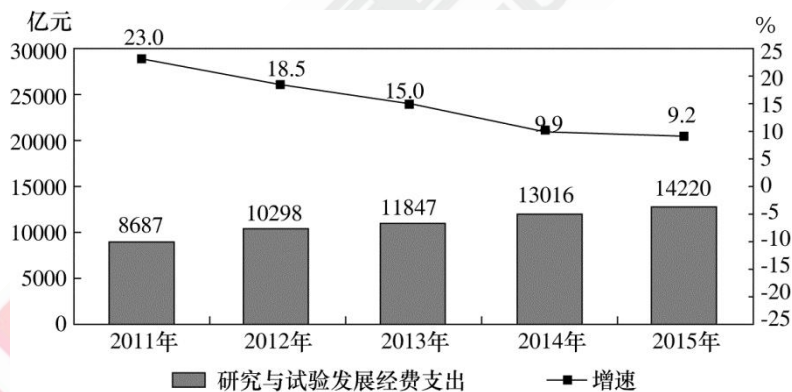
B.2015 年四季度经口岸出入境入次数低于上年同期水平

C.2014 年 7 月经口岸出入境入次数低于上月水平

D.图中经口岸出入境入次数最多和最少的月份在同一个自然年

根据材料三，回答 96-100 题：

材料三：2015 年，全国研究与试验发展经费支出 14220 亿元，与国内生产总值之比为 2.1 : 100，其中基础研究经费 671 亿元，截至年底，全国共拥有有效专利 547.8 万件，其中境内有效发明专利 87.2 万件，每万人口境内有效发明专利拥有量 6.3 件。



2011~2015 年研究与试验发展经费支出

2015 年专利申请受理、授权和有效专利情况

	数量 (万件)	增速 (%)
专利申请受理数	279.9	18.5
其中：境内专利申请受理	261.7	19.7
其中：发明专利申请受理	110.2	18.7
其中：境内发明专利申请受理	95.7	21.2
专利申请授权数	171.8	31.9
其中：境内专利授权	157.7	32.4

其中：发明专利授权	35.9	54.1
其中：境内发明专利授权	25.6	62.5

96. 2015 年全国每万人口有效专利拥有量最以下哪个数字？（ ）

- A.40 件
- B.45 件
- C.50 件
- D.55 件

97. “十二五”期间全国研究与试验发展经费支出总额约为：

- A.4.7万亿元
- B.5.1万亿元
- C.5.4万亿元
- D.5.8万亿元

98. 2015年境外发明专利申请授权数占当年专利总申请授权数的比重约为：

- A.3%
- B.6%
- C.9%
- D.12%

99. 2015年境外非发明专利申请受理量约为多少万件？

- A. 4
- B. 8
- C. 16
- D. 32

100. 能够从上述资料中推出的是：

- A. 2015年全国基础研究经费支出占国内生产总值比重在1%左右
- B. 2012~2015年研究与试验发展经费支出同比增量逐年递减
- C. 2015年授权的专利申请中，境外专利申请占比低于2014年水平
- D. 2014 年发明专利授权数超过 24 万件

职业能力倾向测验易错 100 题答案解析

第一部分 常识判断

1. B【解析】根据《中华人民共和国立法法（2015年修正）》第九十五条的规定，地方性法规、规章之间不一致时，由有关机关依照下列规定的权限作出裁决：（一）同一机关制定的新的一般规定与旧的特别规定不一致时，由制定机关裁决；（二）地方性法规与部门规章之间对同一事项的规定不一致，不能确定如何适用时，由国务院提出意见，国务院认为应当适用地方性法规的，应当决定在该地方适用地方性法规的规定；认为应当适用部门规章的，应当提请全国人民代表大会常务委员会裁决；（三）部门规章之间、部门规章与地方政府规章之间对同一事项的规定不一致时，由国务院裁决。根据授权制定的法规与法律规定不一致，不能确定如何适用时，由全国人民代表大会常务委员会裁决。故本题选 B。

2. A【解析】宪法中规定公民有人身自由。具体来说包括人身自由不受侵犯、人格尊严不受侵犯、住宅不受侵犯、通信自由和通信秘密受法律的保护。而集会自由属于政治权利和自由。故本题选 A。

3. D【解析】《城市居民委员会组织法》赋予居民委员会协助政府做好社会治安、优抚救济、公共卫生、计划生育和青少年教育等工作职能。故本题选 D。

4. D【解析】《刑法》第 117 条中对破坏交通设施罪作了这样的规定：破坏轨道、桥梁、隧道、公路、机场、航道、灯塔、标志或者进行其他破坏活动，足以使火车、汽车、电车、船只、航空器发生倾覆、毁坏危险，尚未造成严重后果的，处三年以上十年以下有期徒刑。本案中王某与曹某偷的是主干道的窨井盖，并且足以使在主干道上行驶的车辆等发生危险。故应成立破坏交通设施罪。故 A 项错误。在两天的时间里，市政管理部门都没有任何补救措施，导致了女大学生的死亡，市政管理部门应承担赔偿责任。故 B 项错误，D 项正确。王某与曹某对小溪的死亡是无法预知的，不是故意。故 C 项错误。故本题选 D。

5. D【解析】夫妻在婚姻关系存续期间所得的下列财产，归夫妻共同所有：（1）工资、奖金；（2）生产、经营的收益；（3）知识产权的收益；（4）继承或赠与所得的财产；（5）其他应当归共同所有的财产。夫妻对共同所有的财产，有平等的处理权。一方专用的生活用品、婚前财产为个人财产，故排除 A、B 项；根据《婚姻法》第 18 条的规定，一方因身体受到伤害获得的医疗费、残疾人生活补助费等费用为个人财产，故排除 C 项；婚姻存续期间实际取得的知识产权的收益为共同财产，故本题选 D。

6.A【解析】《礼记·学记》：“玉不琢，不成器；人不学，不知道。然玉之为物，有不变之常德，虽不琢以为器，而犹不害为玉也。人之性，因物则迁，不学，则舍君子而为小人，可不慎哉？”故本题选 A。

7.A【解析】谥号是帝王、诸侯与大臣等具有一定地位的人死去之后，朝廷根据他们的生平事迹与品德修养，所给予的带有褒贬性质的称号。大体上来说，唐代以前的殁世帝王一般简称谥号，如齐桓公、汉武帝、隋炀帝；唐以后则改称庙号，如唐太宗、宋太祖等。“靖康”“康熙”是年号。故本题选 A。

8.B【解析】《孙子兵法》是中国最古老、最杰出的一部兵书，是世界三大兵书之一。故本题选 B。

9.C【解析】A 项，“司马青衫”指司马的衣衫为泪水所湿，形容极度悲伤，出自白居易《琵琶行》“座中泣下谁最多，江州司马青衫湿”。B 项，“千呼万唤”比喻多次呼唤，再三催促，出自《琵琶行》“千呼万唤始出来，犹抱琵琶半遮面”。C 项，“弱不禁风”形容女子体态纤弱，出自杜甫的《江雨有怀郑典设诗》“乱波纷披已打岸，弱云狼藉不禁风”。D 项，“门前冷落”指人失势以后，前来交往的人很少，出自《琵琶行》“门前冷落鞍马稀，老大嫁作商人妇”。故本题选 C。

10.C【解析】“楚辞”的名称，始见于《史记·酷吏列传》。其本义是指楚地的言辞，后来逐渐固定为两种含义：一是诗歌的体裁，一是诗歌总集的名称。从诗歌体裁来说，它是战国后期以屈原为代表的诗人，在楚国民歌基础上开创的一种新诗体。从总集名称来说，它是西汉刘向在前人基础上辑录的一部“楚辞”体的诗歌总集，收入战国楚人屈原、宋玉的作品以及汉代贾谊、淮南小山、庄忌、东方朔、王褒、刘向诸人的仿骚作品。屈原是楚辞的开创者，宋玉略晚于屈原。故本题选 C。

11.A【解析】选项 A 中抗日义勇军是东北人民在国破家亡情况下自发组织的抗日武装的总称，组织名目不一，没有统一的领导；选项 B，“八一三”事变以后，根据国共两党协议，在西北的中国工农红军主力改编为国民革命军第八路军；选项 C，1928 年，朱德、陈毅率领南昌起义的部分军队和湘南的工农武装来到井冈山，与毛泽东领导的工农革命军会师，合编为中国工农红军第四军；选项 D，1936 年，中国共产党满洲省委将各路抗日武装组成抗日联军。故本题选 A。

12.C【解析】A 项，秦始皇时，日本和高丽均尚未建立；B 项，“匈奴未灭，无以家为也”是大将军霍去病的名言；D 项，在我国古代，统治者或有地位的人死后，给他另起的称号，为谥号，献帝即为谥号，曹操不可能在汉献帝刘协还在世时就称其为“献帝”。故本题选

C。

13.D【解析】元朝时始设立行省制度，称省为“行中书省”。行省制度便利了中央对地方的管理，加强了中央集权，巩固了多民族国家的统一。它的创立，是我国古代地方行政制度的重大变革，是我国省制的开端。故 A、B 两项说法正确。元朝时设宣政院管理西藏地区。故 C 项说法正确。1376 年，明太祖废除总揽地方军政大权的行中书省，设立布政司、都指挥使司和按察司，分管地方的行政、军政和监察事务，合称“三司”。故本题选 D。

14.C【解析】王安石变法是中国历史上针对北宋当时“积贫积弱”的社会现实，以富国强兵为目的的一场轰轰烈烈的改革，在理财措施方面，颁布了青苗法、募役法、农田水利法、均输法、市易法、方田均税法；在军事措施方面，推行保甲法和将兵法。一条鞭法是明代中叶为缓和阶级矛盾，以纳银代役和赋役征银的方式改革赋役制度的一次重大改革。故本题选 C。

15.A【解析】中国近代民族工业的发展主要集中在轻工业方面，重工业基础极为薄弱，没有形成独立完整的工业体系，故 A 项错误；辛亥革命前后，群众性反帝爱国斗争此起彼伏，掀起了抵制日货、提倡国货的运动，有力地推动了民族资本主义工商业的发展，故 B 项正确；一战时期，虽然中国民族资本主义取得了较大发展，但仍受帝国主义和封建主义的压迫，民族资本与外国资本相比力量十分薄弱，封建自给自足的自然经济仍占主导地位，束缚了民族资本主义工商业的发展，故 C、D 项正确。故本题选 A。

16.C【解析】房子装修后的污染，根据国家标准《民用建筑工程室内环境污染控制规范》的规定，须列出甲醛、苯、氨、氡、总挥发性有机化合物（TVOC）五个项目。故本题选 C。

17.D【解析】A 项错误，冬天宜饮红茶，春天应该饮花茶，以振奋精神，消除春困。B 项错误，新茶刚采摘回来，存放时间短，含有较多的未经氧化的多酚类、醛类及醇类等物质，会刺激胃肠黏膜，因此不宜马上饮用。C 项错误，洞庭碧螺春产于江苏省苏州市太湖洞庭山。D 项正确。故本题选 D。

18.C【解析】在白炽灯内发亮的是钨丝，钨丝可以在很高的温度下直接升华成气体，保持稳定而不会融化，等关灯后，温度下降，钨气又重新凝华成固体覆在灯泡内壁上，因为钨是黑色固体，所以白炽灯用久了以后，钨在灯内壁反复累积，灯泡就会变黑。故本题选 C。

19.B【解析】如果把馒头放笼屉上蒸，应该是最上边屉里的先熟。因为水开了以后，水变成热的水蒸气，水蒸气比空气轻，它就往最上面流动，馒头就是靠这些热的蒸气蒸熟的。最上一层屉的馒头最早接触水蒸气，时间也最长，所以，上边笼屉的馒头先熟。故 B 说法

有误。故本题选 B。

20.C【解析】A 项应为窄桥，B 项应为堤坝路，D 项应为路面不平。C 项正确。故本题选 C。

21.A【解析】A 项旅游区标志的意思是“问讯处”，其他三项表述均正确。故本题选 A。

22.B【解析】微波加热是通过微波激发食物内部的水分子自振，分子运动加剧而加热的。因此，加热过程中只有食物本身吸收微波并转换成热能。由于微波不能穿透金属物体，而会被反射回去，因此微波炉加热时不能使用金属器皿。故本题选 B。

23.B【解析】环境噪声污染，是指所产生的环境噪声超过国家规定的环境噪声排放标准，并干扰他人正常生活、工作和学习的现象。噪声污染对人、动物、仪器仪表以及建筑物均构成危害，其危害程度主要取决于噪声的频率、强度及暴露时间。根据美国言语听力协会的理论：长期在夜晚接受 50 分贝的噪音，容易导致心血管疾病；55 分贝，会对儿童学习产生负面影响；60 分贝，让人从睡梦中惊醒；70 分贝，心肌梗死的发病率增加 30%左右；超过 110 分贝，可能导致永久性听力损伤。B 项表述错误，故本题选 B。

24.D【解析】D 项是在浅水区发生小腿抽筋的自救措施，在深水区，应先吸一口气，然后潜在水里用手揉捏腿肚子，并且用力把脚掌向上翘，以牵引抽筋的肌肉，坚持一会儿，使收缩的肌肉获得松弛，然后再慢慢游到安全区域。故本题选 D。

25.C【解析】酿造酒是借着酵母作用，把含淀粉和糖质原料的物质进行发酵，产生酒精成分从而形成酒。其生产过程包括糖化、发酵、过滤、杀菌等。根据制酒的原料不同，酿造酒主要分为葡萄酒和谷物发酵酒，谷物发酵酒中包括啤酒、黄酒、清酒。A、B、D 三项均是蒸馏酒。故本题选 C。

第二部分 言语运用

26.A【解析】本题为逻辑填空题。第一空，“考查”指用一定的标准来查看评定，带有考核、检查的意思；“考察”着重指观察、调查、研究，目的是取得材料，研究事物；根据文段意思排除 D“考查”。第二空，“不足为奇”指某种事物或现象很平常，没有什么奇怪的。“比比皆是”指的是一个挨一个，到处都是，形容极其常见。“不值一提”指不值得提起。排除 BC。故本题正确答案为 A 项。

27.B【解析】本题为逻辑填空题。文段空格后的内容为解释说明，可知空中表示中药本身有好有坏，具有两面性，“对立统一”揭示的正是事物内在的矛盾性和两面性，对应 B 项。相辅相成指两件事物互相配合，互相辅助，没有提到对立，排除 A 项。C 项和 D 项形容的

是两个事物之间的关系，不能形容中药的两面性，均排除。故正确答案为 B。

28.D【解析】本题为逻辑填空题。本题从第二空入手，经典物理学将真空定为“零”，量子理论却认为真空中一直存在大量虚粒子对，即量子理论认为真空中并不是什么都没有，强调“无”。A项“高高在上”指地位高，脱离实际；C项“一尘不染”指不受坏习惯，坏风气的影响，也形容非常清洁干净。二者均语义不符，排除 A、C 两项。再看第一空，搭配“物质”，D项“接受”更为准确。如用“相信”应为“相信某种物质的存在”。故正确答案为 D。

29.A【解析】本题为逻辑填空题。第一空根据后文“不仅帮助我们……不至于崩溃，也让我们……不至于沉溺”可知，需要在“崩溃”与“沉溺”之间寻找一个恰当的点，因此是“保持情绪的‘平衡’或‘稳定’状态”。“应激”“积极”没有“恰当”之意，排除 B 项和 C 项。第二空前的“这”之后的内容是上一句子的原因，通过“享受美餐、赢得球赛、受到表扬，都不会持续太久”可知，该空应反映“人是具有忧患意识的动物，而不是懒散的动物”，排除 D 项。第三步，验证第三空，“钝化”指使迟钝，体现了“沉浸太久会使我们忽略识别危险的能力”。因此，选择 A 选项。

30.A【解析】本题为逻辑填空题。这是一道逻辑填空题的实词辨析题。文中有明显的转折关联词“然而”，所以文章前后表意应相反。然而之后内容是语言有可能更快地发生变化，那么然而之前应该是倾向于保持稳定。与后文的“更多人能记住上一辈说话方式”相照应。B 项中“传统”是相对于“现代”而言的，置于此处与语境不符；C 项中“活力”亦与语境不符。故排除 B、C 选项。第二空，D 项中“式微”原指天将黄昏，现指事物由兴盛而衰落，置于此处与“音素”搭配不当。第一空“稳定”符合语境信息。第二空，“音素”与“流失”搭配恰当，且符合上文语境。因此，本题答案为 A 选项。

31.D【解析】本题为逻辑填空题。根据第一空后的转折词“不过”和后文的“‘看到’音乐”“将音乐‘画在’画板上”“声音视觉化”可知，后文讲的是“音乐可以用绘画表达”，那么前文的意思是“音乐和绘画是无法交换的”。B 项“代替”指取代，文中没有“音乐可以取代绘画（反之亦是）”的含义，排除 B。第二空考察搭配，其搭配对象是“色彩”。A 项“表达”指表示（思想、感情等），搭配抽象概念的词，而“色彩”是看得见的具体概念，排除。C 项“感受”指接触外界事物得到的影响，文中未体现“人们受到‘色彩’影响”的含义，排除。D 项“观赏”观看欣赏，可以搭配“色彩”，且体现了对“音乐‘色彩’”的赞赏，符合文意。此外，也可根据“许多研究机构也正在进行‘声音视觉化’的尝试”可知使“声音能够看得见”，用“观赏”合适，因此答案为 D。

32.C【解析】本题为逻辑填空题。根据第一空，通过，“部门、地方”、“简政放权还是调节收入”以及没有“解放思想、实事求是”，可知，部门和地方没有彻底进行改革，即可以说是受到它们利益的掣肘和牵制；这里不能说诉求，词义与语境不符；不能选阻挠，阻挠词义过重，在改革中，在简政放权等方面部门、地方不会做与政策相反的事情，只能说受

客观因素的影响，部门和地方利益者可能会消极对待，但根据语境不能是阻挠。排除 AB。第二空，整体上作者对“部门、地方”的感情倾向消极，“樊篱”比喻对事物的限制，一般用于旧的思想、观念等的突破。束缚指捆绑，指约束限制。两者相比较，樊篱消极色彩比束缚重，更适合语境色彩，根据择优选项原则，故本题答案为 C。

33.D【解析】本题为逻辑填空题。第一空可排除 C 项，“尖刻”一词指说话尖酸，待人冷酷、苛求。显然与“母鸡下蛋”这个比喻，无逻辑关系可言。第二空，可首先排除 B 项，“主观”强调带有一定的个人色彩，文中观点的主观性并未体现。A、D 可通过提示语境最后一句话入手“这个观点不但是……而且成为……套路”，该句话证明这句话的观点，在很多领域都是适用的，“流行”正符合该意。“主流”强调事物发展的主要或本质方面，文段不是在强调它的重要性，而是在强调该观点的通俗性、普遍性。D 项符合。

34.B【解析】本题为逻辑填空题。第一空，从表达倾向来看，材料中“徜徉”、“壮丽的景色”表达积极色彩，因此第一空也应填积极倾向的词，而“沉迷”和“痴迷”具有消极倾向，排除 CD。再从第二空看，要与“于”搭配，而“偏爱”是及物动词，不能与“于”搭配，排除 A，第三个空格填入“震惊”一词很好的体现出了作者对于中国文字的喜爱。因此正确答案选 B。

35.D【解析】本题为逻辑填空题。突破口在第二空。该空强调用“文字”记忆“思想”，对应前文“名句”“格言”的“一字不误”，D 项“准确”与之照应，最符合文意。A 项“永久”和 B 项“永恒”侧重于时间久远；C 项“明确”侧重于清晰明白。三者均无法与“一字不误”照应，排除 A 项、B 项和 C 项。答案锁定 D 选项。验证第一空。“镌刻”强调郑重地刻写下来，可以与文字、诗文等搭配，符合文意。因此，选择 D 选项。保存：使事物、性质、意义、作风等继续存在，不受损失或不发生变化。铭刻：①在器物上铸刻文字或图案，也指刻在器物上的文字；②铭记。保留：①保存不变；②暂时留着不处理；③留下，不拿出来。

36.C【解析】本题为主旨概括题。文段列举两个例子，一个是中国旧时商铺不把好的东西放在明面上，为了防贼；一个是朱元璋为了避免崭露头角成为众矢之的，暗渡陈仓。文段并列是关系，总结两句话的共同点是做人做事要低调不张扬。对比选项，C 项是文段内容的概括。因此，选择 C 选项。A 项“做生意”只是文段一个方面。B 项强调“谦虚”，与文段强调的“低调不张扬”不符。D 项“满招损，谦受益”指自满招致损失，谦虚得到益处。与文段强调的“低调不张扬”不符。

37.B【解析】本题为主旨概括题。文段分别用“同时”“另外”引导了三个分句。文段主要讲了“农餐对接”模式对于保障餐饮食品安全起到的三个作用：一是可以保证农产品在生产过程中的安全，二是可以避免在运输或存储过程中的二次污染，三是在出了安全问题后能进行质量追溯。可见，“农餐对接”能从生产到运输、存储再到事后追溯三方面对食品安全进行全流程控制，能有效保证餐饮食品安全。故选 B。

38.B【解析】本题为主旨概括题。文段的第一句话提出生存比环境保护更重要，第二句话用一个代词“这”进行宏观指代，前后构成因果关系，提出结论：发展中国家实行先污染后治理是有原因的。选项B正是对原因和结论的全面概括。选项A表述有误，经济发展和环境保护不是同等重要的；选项C围绕原因展开，非文段重点；对于环境保护，发展中国家是将其排在第二位的，并没有忽略，故选项D表述有误。故本题选择B。

39.D【解析】本题为主旨概括题。文段结构为提出问题—解决问题。首先提出问题，环境民事公益诉讼案件成为法院审判工作的新挑战，之后提出解决问题的办法，即进行各种尝试和机制创新，并重点强调了需通过体制机制创新来跨越法官的知识性短板。A项并非文段强调的重点，排除。B项，文段重点说的是通过尝试和机制创新来应对新挑战，而并非让法官完善其知识体系，这并不是跨越法官的知识性短板的体制机制创新，故排除B项。C项“司法部门”范围过大，排除。D项为文段的主旨，故本题选D。

40.D【解析】本题为主旨概括题。文段通过转折关联词“不过”引出文段的主体“蚂蚁”，很容易排除C项。接下来强调蚂蚁具有社会性，接下来的内容进一步解释了蚂蚁具有社会性的生理基础，故D选项符合。A选项“分享食物的行为”是主旨句之后解释说明的分说，不是文段的重点，排除；B选项“认识的误区”文中并没有提到，排除；故答案为D。

41.C【解析】本题为主旨概括题。文段前三句，分别对迁徙动物方向列举了三种观点，通过“更有趣的是”这个递进关系，作者重点说明了轻乌鸦会沿着祖辈飞过的路线进行迁徙，最后三句“也就是说”进一步点出文段主旨句：乌鸦从上一代遗传了迁徙的方向，观察选项，只有C项出现递进后主旨句中的主体词“乌鸦”，故本题正确答案选C。

42.C【解析】本题为主旨概括题。文段通过“之所以……根本原因在于”的倒装句式，论述“软法”越来越多的根本原因，即“软法”是将普遍遵循的道德规范变成共同的行为准则，之后通过“不仅……同时也……”进一步解释其作用。文段属于因果倒置，重点在“根本原因在于”之后的“将普遍遵循的道德规范变成共同的行为准则”，即是对于道德的进一步强化。对比选项，只有C项是文段重点的替换。A项“凝聚共同价值观”的作用文段并未体现。B项“顺应社会多元化发展”并非“软法”的作用。D项文段强调“软法”对于“道德”的作用，而非判定行为是否合法。因此，选择C选项。

43.B【解析】本题为主旨概括题。第一句话是说“经典”的重要性，第二句中“必须”是必要条件词，引导一个“在民间艺术中读出文化的经典”的对策，即“必须调整自己的立场”也就是解决了怎样才能更准确更深刻地欣赏民间艺术这样的问题，对应B项。D项为易错项，要注意，文段是在告诉我们要怎么做才能欣赏文化的经典之处，而并没有说学会欣赏民间艺术有怎么样的好处和作用，故D项错误。

44.D【解析】本题为主旨概括题。文段为并列结构，提出徽州商帮在明清时期遵循传统，反向大兴土木，出现“同时”，“此外”表示并列关系的词语，分别从文化品质方面强调对建筑的要求以及从本土画作方面对砖雕艺术的影响。因此全面概括之后可知D选项为正确答

案。选项 A 无中生有，选项 B、C 表述片面，故排除。

45.C【解析】本题为主旨概括题。解决问题的语句就是文段的核心观点，即“汽车企业在发展的同时采取新的技术措施，尽量减少对环境的污染，符合社会发展大趋势，才是长久之策”，因此正确答案为 C 项。A 选项，“环保与实现企业利润存在矛盾”说法错误；B 选项过于宽泛，错误；D 项具有一定的迷惑性，但是 D 项只提到了汽车企业应该环保，但没有说明如何重视，因此不是正确答案。

46.C【解析】本题为语句衔接题。横线在文段的最后一句，横线前面出现了“因此”，说明是对整个文段的总结，前面的部分讲的是舆论如何转变为真理，A 的错误在于文段中说“真理总是在不断地被少数有识之士发现，进而推广为公众舆论”，先有真理，再有公众舆论，A 的逻辑关系刚好相反，说的是先用公众舆论，然后再有真理的，B 答案的错误在于“曲折和漫长”，文段中并没有体现真理变成公众舆论的过程艰难，D 答案说“阻碍了真理的诞生”，但是文段中明确提到真理推广为公众舆论，没有“阻碍”，因此答案是 C。

47.D【解析】本题为语句衔接题。由“比如”可知，文段提到“艾滋病和自免疫疾病”是在举例分析前文的观点“只要生命体能够将敌人辨认出来，剩下的事情就好办了”，目前的艾滋病和自免疫疾病都是因为生命体不能将敌人辨认出来，故本题答案为 D 选项。

48.A【解析】本题为语句排序题。看选项，四个选项的第一个序号都不一样，所以整体浏览所有的序号，通过观察可以发现③和⑥都围绕“两宋时期”这个话题，根据捆绑法，这两个序号要在一起，只有 A 选项符合。再从内容上进行验证，可以发现④中的“可以说”是表示总结的。故正确答案为 A。

49.A【解析】本题为语句排序题。首先分析首句。②是一个过渡，从话题“电影”转到“电视剧”。⑤的话题是“电视剧”，是过渡之后的话题。所以②更适合做首句。比较⑤和⑥，从逻辑上讲要先说“电视剧”既不是戏剧的，也不是电影的，然后再说电视剧可以借鉴戏剧，也可以借鉴电影。因此⑤应在⑥之前。因此，本题选择 A 选项。

50.B【解析】本题为语句排序题。通读 6 个句子，③①两句引出两次世界大战，④句是对两次世界大战的总述，故③①④三句应相连，排除 A、C 两项。⑥句讲的是战争之后的影响，显然应紧接③①④之后，排除 D 项。对 B 项进行连贯性验证，发现语句通顺，逻辑关系清晰。故本题答案为 B。

第三部分 判断推理

(共 25 题)

51.D【解析】每竖列小黑块向上或向下往返跑。从左边第一块看起来，第一块依次向上走一格，触顶往返，第二块依次向下走一格，触底往返，第三块依次向上走，触顶往返，第四块依次向下走触底往返，可得 D 项。因此，选择 D 选项。

52. A【解析】去同存异（横看第二行不符合规律，所以列看），每列前两幅图去同存异得到第三幅图，按此规律可得 A 项。因此，选择 A 选项。

53. A【解析】本题考查数量类规律。观察所给图形，①③⑤属于一笔画，②④⑥属于多笔画，因此，选择 A。解析二，①③⑤属于封闭图形，②④⑥属于不封闭图形。故本题答案为 A 选项。

54. C【解析】题干中每个图都有 5 个面，呈常数数列，B 项有 4 个面，排除；每个图都有一个较大的封闭空间，其面积恰好为外框正方形的一半，只有 C 项符合。因此，选择 C 选项。

55. D【解析】观察图形发现，图形组成元素相同，位置不同，考虑位置类。第一组图中规律是：第一行的黑球每次向右平移一步，第二行的黑球每次向左平移一步，第三行每次向右平移一步，第四行每次向左平移一步。第二组图中，第一行和第二行的黑球每次都向左平移一步，第三行的黑球每次向右平移一步，第四行的黑球每次向右平移一步。按此规律，可得 D 项。故本题答案为 D 选项。

56. B【解析】本题考查三视图。俯视图即从上往下看，因看不到立体图形内部，排除 A、D，主视图即从前往后看，因已知立体图形内部是一个挖空的正方体，只有 B 项符合。因此，选择 B 选项。

57. D【解析】关键信息：把事物的各种属性、各个部分或方面联合成为整体进行考察。A 项，从社会发展的角度来探析，属于把事物的各种属性、各个方面分解开来考察，应属于分析型思维，不符合定义；B 项，分析有宗教和无宗教信仰者的犯罪比例，属于把各种事物加以对比，应属于比较型思维，不符合定义；C 项，比较东西方的文化差异，应属于比较型思维，不符合定义；D 项，运用大数据，属于将事物各个方面联合为整体进行考察，符合定义。因此，选择 D 选项。

58. D【解析】次文化的定义要点是：不占主导地位，只有少数成员认同的价值观及所采取的行为方式。A 项宋朝时期儒家思想占主导，B 项元朝戏曲艺术不符合“较小文化”关键词，C 尊老爱幼是社会大多数成员认同的价值观，D 项火星文符合定义。因此，选择 D 选项。

59. C【解析】关键词强调“国家行政机关的主持”。A 项“街道社居委”、B 项“消费者协会”和 D 项“经济仲裁委员会”都不是国家行政机关，其行为不属于行政调解行为；C 项“交警大队”属于国家行政机关，符合定义，属于行政调解行为。因此，选择 C 选项。

60. A【解析】关键词：1.价格越低，需求量越大，2.价格越高，需求量越小，反向变动。

A项：降价促销，提高销量，即符合价格越低，需求量越大，符合定义。B项：价格下降需求并未提高，不符合定义。C项：售价提高需求量也高，不符合定义。D项：涨幅大并不代表价格，不明确价格变化，不符合定义。因此，选择A选项。

61. A【解析】定义的关键要件为：将生产和消费过程中产生的废物转化为可重新利用的资源和产品。在A项中，某企业用“资源—产品—废弃物”的这种经济模式，并不存在将废物转化为重新可以利用的资源和产品，所以不符合定义的关键要件。因此，选择A选项。

62. B【解析】关键词强调“符合一般道德原则”的行为被“法律禁止”。B项购买男孩为子明显不合乎道德，为违法行为，不属于法律道德背反现象。A、C、D项符合定义。因此，选择B选项。

63. B【解析】如果 $X > 3$ 且 $Y > 2$ ，那么 $X + Y > 5$ ，前两个条件是后一个的充分条件关系，二者为对应关系。A项，如果 $a > b$ 且 $b = c$ ，则 $a > c$ ，而不是 $a < c$ ，与题干逻辑关系不一致，排除；B项，如果一个图形是三角形且等边，那么该三角形是等角三角形，前两个条件是后一个的充分条件关系，二者为对应关系，符合；C项，如果是两个人是男女且具有血缘关系，不一定是父女关系，与题干逻辑关系不一致，排除；D项，如果是冬天且严寒，不一定会下雪，与题干逻辑关系不一致，排除。因此，选择B选项。

64. A【解析】火车、汽车、飞机都是交通工具，三者为并列关系。A项，白菜、苋菜、空心菜都是蔬菜，三者为并列关系，与题干逻辑关系一致，符合。B项，冬瓜和南瓜并列，瓜子是瓜的种子，是冬瓜和南瓜的组成部分，与题干逻辑关系不一致，排除。C项，中医和西药、口服药不是并列关系，西药和口服药为交叉关系，与题干逻辑关系不一致，排除；D项，空调和冰箱都属于家电，与题干逻辑关系不一致，排除。因此，选择A选项。

65. D【解析】蚕蛹是飞蛾变态发育过程中变态前的形态，蚕蛹长大了会变成飞蛾；而D选项蝌蚪是青蛙变态发育过程中变态前的形态，蝌蚪长大后的形态是青蛙，满足对应关系。因此，选择D选项。

66. B【解析】题干两词结构对应，愚公移山和郑人买履均为主谓宾结构，且主语都是人。A项两词均不是主谓宾结构；C项邯郸为地名；D项凿壁偷光，没有主语。三项均与题干逻辑关系不一致；与题干逻辑关系相同的只有B，杞人忧天和庖丁解牛均为主谓宾结构，且主语都是人。因此，选择B选项。

67. B【解析】分别将选项代入题干，确定逻辑关系。A项，“恒星”与“月亮”是全异关系，“菊花”可以是“花丛”中的一部分，前后逻辑关系不一致，排除；B项，“恒星”是“宇宙”中的

一个组成部分，“花朵”是“花丛”中的一个组成部分，前后逻辑关系一致；C项，“太阳”是“恒星”的一种，是种属关系，“草丛”和“花丛”无明显逻辑关系，排除；D项，“恒星”是“天体”的一种，“花海”是由许多个“花丛”组成，与前面逻辑关系不一致，排除。因此，选择B选项。

68. C【解析】翻译题干可得：领取奖学金→各学院有学生为优秀奖学金获得者；计算机学院可以从学校领取奖学金，肯前必肯后，可得C项正确；其它选项都不能必然推出；因此，选择C选项。

69. C【解析】题干中五个人的说法翻译一下，赵：赵或孙；钱：-周；孙：-李→钱；李：-李且-钱；周：-孙且-赵。这五个人的说法中有两对矛盾关系，分别是赵和周、孙和李。已知两个人的说法是对的，但是在矛盾关系中必有一真一假，所以两个真的就被锁定在两对矛盾关系中，那么其余也就是假的，那么钱的说法就是假的，所以周去。因此，选择C选项。

70. A【解析】本题属于加强论证题目。论点：恒温动物，正是为了对抗严寒才出现的。论据：一些生物因为某几个基因突变，获得了较强的体温调控能力。以人体为例，当外界温度过低时，骨骼肌战栗产热，皮肤血管口径缩小，从而减少散热。A项，严寒天气出现后，恒温动物才进化出来，说明恒温动物正是为了对抗严寒出现的，直接证明论点，可以加强；B项，人类的毛发抵御严寒的功能的减弱与恒温动物出现的原因无关，无法加强；C项，生活在严寒地区的人类对严寒天气的适应性与恒温动物出现的原因无关，无法加强；D项，人体器官的形成过程与恒温动物出现的原因无关，无法加强。因此，选择A选项。

71. B【解析】题干的结论是精神分裂症具有遗传倾向。B项，说明精神分裂症的产生与后天环境无关，加强了题干观点；A项，亲生父母没有精神分裂否定了遗传，无法加强；C项，从另有他因的角度削弱了题干观点；D项，为无关项。因此，选择B选项。

72. A【解析】题干中得出的结论是“通过木料可以判定古建筑的建造年代”，而题干中提到的论据是“木料可以确定砍伐年代”。所以A选项补充了一个前提，说明被砍下来的树木会立马用做古建筑的材料。B选项中的大量使用、C选项中提到木料的种类、D选项中提到的耐久度跟论点的成立都没有关系。因此，选择A选项。

73. A【解析】论点：“地球一小时”并没有取得什么实际效果。其余内容为论据。选项A指出，“地球一小时”活动节省的电量可供一个大型城市用电三天，说明效果显著，具有削弱作用；选项B指出，“地球一小时”活动给电网管理带来困难，具有加强作用；选项C指出，“将来”参加的人数会增多，属于“诉诸未来”的谬误，不具有削弱作用；选项D与论点话题不一致，无关选项。因此，选择A选项。

74. D【解析】该学者的论点是：水价上涨是可以接受的。论据是：节约用水和水质提

升。A项，基础资源提价会导致百姓受损和通货膨胀，直接削弱了论点，水价上涨是不能够被接受的。B项，节水观念深入人心才是实现节约用水的根本途径，即认为目前的单纯提价还无法达到节水目的，削弱了论据。C项，无法达到纯净水水质，削弱了论据。D项，提升水价对人们的生活影响很小，在使人们生活成本提升的同时却不会使人们无法接受，加强了节约用水这一论据。因此，选择D选项。

75. A【解析】分析推理题，已知四个人都猜错，由小杨的话得知小杨小廖不相邻，排除BC，由小廖的话得知小刘不在小廖的左手边，排除D。因此，选择A选项。

第四部分 数量与资料分析

(共 25 题)

76. D【解析】本题考查排列组合问题。已知7月1日是周四，则7月共有5个自然周：1-4号、5-11号、12-18号、19-25号、26-31号；由题意可知，每天最多学习1个部分，每个自然周至少学习2个部分，周末不学习；画一个简单的日历可知，第1个自然周只有2个学习日，只能学习2部分，第2-5个自然周都有5个学习日，剩余10部分分到这4个自然周，可分为(4, 2, 2, 4)或(3, 3, 2, 2)两种情况：(1)第一种情况，从4个自然周中选1周学习4部分(即5天中学4天)，其他自然周都学习2部分，有 C_4^1 种方案；(2)第二种情况，从4个自然周中选2周学习3部分，其他自然周都学习2部分，有 $C_4^2 \times C_5^3 \times C_5^2 \times C_5^2 = 60000$ 种方案。综上，共有 $20000+60000=80000$ 种方案。故本题答案为D选项。

77. C【解析】单价为8元，6折售价为4.8元，则A、B单个利润分别为-0.2元，0.8元。要想不亏本，可交叉如下：

-0.2	0.8
0	
0.8	0.2

因此A、B比例为0.8:0.2=4:1，因此每天出售X个糕点B至少为 $\frac{x}{4+1}=0.2x$ 。

选择A。

78. C【解析】男工每人比女工多装配2个，共多20个，则男工比女工多10人，则男

工为 30 人，女工为 20 人。男工、女工各任选 1 名的组合数为 $C_{20}^1 \times C_{30}^1 = 600$ 种。因此选择 C。

79. D 【解析】前五名和后五名总分相差 $5 \times 16 = 80$ 分，因为都包含第五名，所以前四名和后四名总分相差 80 分。8 个成等差数列的分数分别为 $a_1, a_2, a_3 \dots a_8$ ，则 $(a_1 - a_5) + (a_2 - a_6) + (a_3 - a_7) + (a_4 - a_8) = 4(a_1 - a_5) = 80$ ，得 $a_1 - a_5 = 20$ ，则公差 $d = 20 \div 4 = 5$ 。选择 D。

80. D 【解析】乙单独完成时间是甲队的 1.5 倍，本题可赋值甲队完成时间为 2 天，乙队完成时间为 3 天，由时间和效率成反比，可赋值甲的效率为 3，乙的效率为 2，甲做 20 天，两队合作 60 天完成工作，可得总量 $= 3 \times 20 + 2 \times 60 = 360$ ，甲工作 x 天，乙工作 y 天完成工作可得 $3x + 2y = 360$ ，化简可得 $y = 180 - 1.5x$ 。因此，选择 D 选项。

81. B 【解析】桔子树上的所有桔子看作“1”，第一天吃了总数的 $1/10$ ，剩下总数的 $(1 - 1/10)$ ；第二天吃了剩下橘子的 $1/9$ ，剩下 $(1 - 1/10) \times (1 - 1/9)$ ；第三天吃了剩下的 $1/8$ ，还剩下 $(1 - 1/10) \times (1 - 1/9) \times (1 - 1/8)$ ；……九天后剩下总数的 $(1 - 1/10) \times (1 - 1/9) \times (1 - 1/8) \times \dots \times (1 - 1/2) = 9/10 \times 8/9 \times 7/8 \times \dots \times 2/3 \times 1/2 = 1/10$ ， $1/10$ 对应 10 个，所以总共 100 个桔子。选择 B 选项。

82. A 【解析】今年的总支出比去年增长了 $1300 \times 30\% + 2600 \times 10\% + 9100 \times 20\% = 39 + 26 + 182 = 247$ 元， $247 \div (1300 + 2600 + 9100) = 19\%$ 。选择 A 选项。

83. D 【解析】方程问题。设原计划栽种杨树、柳树和梧桐树分别为 x, y, z ，① $x + y + z = 1500$ ，② $(1 - 3/5)x = y - 30 = z + 15$ ，可得 $x = 825, y = 360, z = 315$ 。选择 B 选项。

84. C 【解析】星期日期问题。设第一个星期五为 x 号，依题意得： $x + x + 7 + x + 14 + x + 21 + x + 28 = 80$ ，解得 $x = 2$ ，因此这个月第一个星期五是 2 号，那么 1 号则是星期四。选择 C 选项。

85. B 【解析】本题考相遇追及问题。火车速度为 $30 \times 1000 \div 60 = 500$ 米/分，15 秒 $= 1/4$ 分，12 秒 $= 1/5$ 分；“8 点时追上向南行走的一名军人，15 秒后离他而去”，追及距离为火车车身长 110m，追及时间为 $1/4$ 分， $(v_{\text{车}} - v_{\text{军}}) \times 1/4 = 110$ ，可得 $v_{\text{军}} = 60$ 米/分；“8 点 6 分迎面遇到一个向北行走的农民，12 秒后离开这个农民”，相遇距离为火车车身长 110m，相遇时间为 $1/5$ 分， $(v_{\text{车}} + v_{\text{农}}) \times 1/5 = 110$ ，可得 $v_{\text{农}} = 50$ 米/分。8 点 6 分时军人与农民相距 $500 \times 6 - 60 \times 6 = 2640$ (米)，两人相遇还需 $2640 \div (60 + 50) = 24$ 分，即 8 点 30 分两人相遇。

86. D【解析】基期量计算。基期量=现期量÷(1+增长率)，由题可知，2015年国内烧碱产量为3028万吨，增长率为-1.4%，则2014年国内烧碱产量=3028÷(1-1.4%)=3070万吨，选择D选项。

87. B【解析】增长率的计算。增长率=增长量÷基期量，2015年我国聚氯乙烯产能为2348万吨，增长量为-41万吨，则增长率=-41÷2389=-1.7%，选择B选项。

88. A【解析】增长率的计算与比较。增长率=(现期量-基期量)÷基期量，2011r=(2267-1934)÷1934=17.2%，2012r=(2492-2267)÷2267=9.9%，2013r=(2648-2492)÷2492=6.3%，2014r=(2980-2648)÷2648=12.5%，2015r=(2852-2980)÷2980=-4.3%，所以变化最大的为2011年，选择A选项。

89. B【解析】简单读数与比较。根据两个柱状图可知，聚氯乙烯与烧碱表观消费量差异最大的年份为2014年，差了1393万吨。选择B选项。

90. B【解析】综合分析。综合分析

A选项，未提及氯碱逐年变化情况，不能判断；

B选项，2015年聚氯乙烯产量为1609万吨，增长率-1.7%，则2014年聚氯乙烯产量为1637万吨，正确；

C选项，2015年聚氯乙烯较前一年增长率为-1.7%，产量下降，应该供大于求，错误；

D选项，聚氯乙烯2013年消费增速为10.5%，2011年消费增速为12.5%最快，错误。

选择B选项。

91. C【解析】平均数计算。2016年1季度平均每天经S市口岸出入境的车辆为

$$\frac{495-131.2}{31+29+31} = \frac{363.8}{91} \approx 4(\text{万辆次})。注意2016年2月份为29天。所以正确答案为C选项。$$

92. D【解析】基期量比较。2014年9-12月，经S市口岸出入境人次数分别为 $\frac{1958}{1.02}$ 、 $\frac{2028}{1.00}$ 、 $\frac{2010}{0.97}$ 、 $\frac{2080}{0.97}$ ，根据分数的性质，分子大且分母小，分数的值就大，可知最大的为12月。所以正确答案为D选项。

93. C【解析】直接读数比较。观察图可知2015年下半年(7月-12月)，经S市口岸出入境人次数同时低于上月和上年同期水平为11月。所以正确答案为C选项。

94. D【解析】增长率计算。2016年1季度，经S市口岸出入境总人次数为2085+1744+1977=5806(万人次)2015年四季度为2028+2010+2080=6118(万人次)，则2016

年1季度较上一季度的增长率为 $\frac{5806 - 6118}{6118} \approx -5.1\%$ 。故正确答案为D选项。

95. B【解析】本题考查基期比重计算。A选项，比重计算。2016年4月机场空港口岸出入境旅客入次数占当月全部经口岸出入境人数的比重为 $\frac{24}{2014} \approx 1.2\%$ ，选项中的“一成”为10%，所以A选项错误；B选项，发展速度考查。2015年10-12月经口岸出入境人数发展速度分别为1、0.97、0.97，故低于上年同期水平，所以B选项正确；C选项，基期量比较。2014年6月、7月经口岸出入境入次数分别为 $\frac{1862}{1.02}$ 、 $\frac{1929}{0.98}$ ，所以7月入次数高于6月，所以C选项错误；D选项，图中经口岸出入境入次数最多和最少的月份分别为2015年8月和2016年2月，不在同一个自然年，所以D选项错误。

故本题正确答案为B选项。

96. A【解析】本题考查平均数计算。根据公式：每万人口有效专利拥有量=有效专利拥有量/人口数；资料中“截至年底，全国共拥有有效专利547.8万件”；人口数量可根据“其中境内有效发明专利87.2万件，每万人口境内有效发明专利拥有量6.3件”计算出人口数 $=\frac{87.2 \times [10]^4}{6.3}$ 万人；所以：每万人口有效专利拥有量 $=\frac{547.8 \times [10]^4}{\frac{87.2 \times [10]^4}{6.3}} = \frac{547.8 \times [10]^4}{87.2 \times [10]^4} \times 6.3 \approx 6.3 \times 6.3 \approx 40$ 件，正确答案为A。

97. D【解析】本题为简单计算。根据图形资料可知“十二五”期间（2011年-2015年）全国研究与试验发展经费支出总额分别为8687、10298、11847、13016、14220亿元，费用总额为： $8687+10298+11847+13016+14220 \approx 0.87+1.03+1.18+1.30+1.42=5.80$ 万亿元。正确答案为D。

98. B【解析】本题考查比重计算。由题可知比重=境外发明专利申请授权数/专利总申请授权数；根据表格资料中“其中：发明专利授权数为35.9万件，其中：境内发明专利授权数为25.6万件”可算出2015年境外发明专利授权数 $=35.9-25.6=10.3$ 万件；根据表格资料中“2015年专利申请授权数171.8万件”，比重 $=\frac{10.3}{171.8} \times 100\% \approx 6\%$ ，正确答案为B。

99. A【解析】本题考查简单计算。根据表格资料“2015年专利申请受理数为279.9万件，其中：境内专利申请受理数为261.7万件”可算出境外专利申请受理数 $=279.9-261.7=18.2$ 万件；根据表格资料“其中：2015年发明专利申请受理数为110.2万件，其中：境内发明专利申请受理数为95.7万件”可算出境外发明专利申请受理数 $=110.2-95.7=14.5$ 万件；境外非发明专利申请受理数=境外专利申请受理数-境外发明专利申请受理数 $=18.2-14.5=3.7$ 万件。

结合选项，正确答案为 A。

100. C 【解析】 本题考查综合分析。

A 选项：根据文字资料“2015 年，全国研究与试验发展经费支出 14220 亿元，与国内生产总值之比为 2.1:100”可知 2015 年国内生产总值= $14220 \times 100 / 2.1 = 67.7 \times [10]^4$ 亿元，根据文字资料可知全国基础研究经费为 671 亿元，其比重为 $671 / (67.7 \times [10]^4) \approx 0.1\%$ ，

A 选项错误；

B 选项：根据图形资料可算出 2012、2013、2014、2015 年的研究与试验发展经费支出的同比增量分别为 1611 亿元、1549 亿元、1169 亿元、1204 亿元。先下降后上升。B 选项错误；

C 选项：由表格资料“专利申请授权数的增速为 31.9%，其中：境内专利授权的增速为 32.4%”，根据比重变化的结论可知境内专利申请的占比高于 2014 年水平，所以境内专利申请占比低于 2014 年水平；C 选项正确；

D 选项：根据表格资料可知“2015 年发明专利授权数为 35.9 万件，增长率为 54.1%”，2014 年发明专利授权数= $35.9 / (1 + 54.1\%) \approx 23.3$ 万件，D 选项错误。

因此，本题答案为 C。