

职业能力倾向测验（B类）必做100题

第一部分 常识判断

- 下列选项中不属于我国国家监督体系的是（ ）
 - 中国人民政治协商会议对我国法律实施的监督
 - 国家审计机关对国家的财政金融机构和企业事业组织财务收支的监督
 - 全国人民代表大会对不符合宪法的法律和行政法规、地方性法规的撤销
 - 各级人民法院对行政机关的监督
- 关于《宪法》，下列说法错误的一项是（ ）
 - 农村和城市郊区的土地，除由法律规定属于国家所有的以外，属于集体所有
 - 任何公民，必须经由人民检察院批准才可逮捕
 - 一般情况下，全国人民代表大会任期届满的两个月以前，全国人民代表大会常务委
员会必须完成下届全国人民代表大会代表的选举
 - 全国人民代表大会批准省、自治区和直辖市的建置
- 下列属于效力待定民事法律行为的是（ ）
 - 甲某基于重大误解而与乙某订立的买卖合同
 - 12岁小学生与某电脑城签订的购买一台价值9000元电脑的合同
 - 张某以欺诈手段与王某订立的买卖合同
 - 9岁小学生与某公司签订的接受5000元赠与合同
- 中国共产党在革命和建设过程中先后建立了四次统一战线，按时间先后排序正确的
是（ ）
 - 爱国统一战线，抗日民族统一战线，革命统一战线，人民民主统一战线
 - 人民民主统一战线，抗日民族统一战线，革命统一战线，爱国统一战线
 - 革命统一战线，抗日民族统一战线，爱国统一战线，人民民主统一战线
 - 革命统一战线，抗日民族统一战线，人民民主统一战线，爱国统一战线
- 下列典籍与下令编纂的皇帝对应错误的是（ ）
 - 《永乐大典》—明成祖
 - 《四库全书》—乾隆

- C. 《晋书》—唐太宗
- D. 《资治通鉴》—宋太祖
6. 下列关于中国民俗文化的表述，正确的是（ ）
- A. 火把节、开斋节和泼水节都是傣族的重大节日
- B. 布依族服饰色彩艳丽，少女头戴银饰以大以重为美
- C. 徽派建筑的马头墙不仅有造型之美，也有防火的功能
- D. 古代汉族婚姻礼仪中的纳采、纳吉在问名之前
7. 假如某人生活在 19 世纪，他不可能做到的是（ ）
- A. 在电灯下阅读《关税及贸易总协定》
- B. 学习达尔文的《物种起源》
- C. 乘坐汽船横渡大西洋
- D. 驾驶汽车外出旅行
8. 下列关于琵琶曲《十面埋伏》的说法正确的是：（ ）
- ①琵琶和瑟是两种不同的乐器
- ②描写了楚汉战争垓下决战的情形
- ③该乐曲最初创作于西汉
- ④该曲是中国十大古曲之一
- A. ①②
- B. ①③
- C. ②④
- D. ③④
9. 曹操《短歌行》：“月明星稀，乌鹊南飞。绕树三匝，何枝可依？山不厌高，海不厌深。周公吐哺，天下归心。”此诗借用“周公吐哺”的典故意在表达（ ）
- A. 求贤若渴的心情
- B. 礼贤下士的做法
- C. 贤才云集的兴奋
- D. 求贤不得的苦闷
10. 下列中国古典戏剧作品，历史时期、作者和作品对应正确的是（ ）
- A. 清—关汉卿—《窦娥冤》
- B. 明—王实甫—《西厢记》

C. 清一孔尚任一《桃花扇》

D. 明一马致远一《牡丹亭》

11. 下列生活常识叙述正确的是（ ）

A. 衣服染上墨水可用牛奶清洗 B. 早上蜘蛛网上有水珠表示要下雨

C. 火灾中如果身上着火要马上拍打 D. 水果榨汁喝更容易吸收维生素 C

12. 金星在中国古代又被称为“启明星”。下列关于金星的说法正确的是（ ）

A. 自身可以发光发热

B. 位于地球和土星之间

C. 表面平均温度比木星低

D. 自转方向为自东向西

13. 下列关于近代人类的重大成就，按时间排序正确的是（ ）

①美国的莱特兄弟发明飞机 ②世界上第一颗人造卫星发射成功

③第一台普通用途计算机诞生 ④克隆羊“多利”诞生

A. ①③②④ B. ③①②④

C. ①③④② D. ③②①④

14. 高原气候，是指高原条件下形成的气候。下列关于高原气候的说法不正确的一项是（ ）

A. 太阳辐射强而辐射差额小

B. 温度日较差不明显

C. 大气层厚度、空气密度比平原地区相应减少

D. 降水量受地形因素影响严重

15. 下列有关绘画艺术的表述，正确的一项是（ ）

A. 《洛神赋图》是东晋画家顾恺之根据曹植的《洛神赋》而作的

B. 《步辇图》为隋代人物画，由著名画家阎立本所绘

C. 《清明上河图》描绘的自然风光和繁荣景象在今河南洛阳

D. 《富春山居图》以江西的富春江为背景而作，被称为“中国十大传世名画”之一

16. 我国古代的许多人为民族融合与发展作出了杰出贡献。下列各人物与其功绩对应有误的一项是（ ）

A. 东汉班超出使西域，帮助西域各族摆脱了匈奴的束缚和奴役

B. 唐朝僧人玄奘西游印度，促进了中印文化交流

- C. 文成公主奉命和亲，使纺织、造纸、酿酒等工艺传入突厥
- D. 北魏孝文帝实行一系列汉化改革，促进了北方民族大融合

17. 中国的传统节日形式多样，内容丰富，其中包括春节、清明节、端午节、中秋节。

关于这四个节日下列说法不正确的是（ ）

A. 春节即农历新年，俗称过大年，一般指除夕和正月初一，是中国民间最热闹、最隆重的一个传统节日

B. 清明节在农历四月初五前后，是中国最重要的祭祀节日

C. 端午节为农历五月初五，民间有吃粽子、赛龙舟的习俗

D. 中秋节为农历八月十五，因处于秋季之中和八月之中，故民间称为中秋，民间有吃月饼的习俗

18. 下列文学常识的说法不正确的是（ ）

A. 赤壁赋中“羽扇纶巾，谈笑间，檣櫓灰飞烟灭”描述的人物是诸葛亮

B. “心比天高，身为下贱”是红楼梦中对晴雯的判词

C. “冬天来了，春天还会远吗”这句话是雪莱说的

D. 历史上的“约法三章”是由刘邦先提出来的

19. 下列有关文学家及其作品的说法不正确的是（ ）

A. 《过秦论》是西汉贾谊政论散文的代表作

B. 《雷雨》是我国剧作家曹禺的代表作

C. 《装在套子里的人》是俄国批判现实主义作家别里科夫的著名小说之一

D. 《堂·吉珂德》是西班牙剧作家塞万提斯的代表作

20. 下列有关文学常识的表述，正确的是（ ）

A. 宋词分豪放、婉约两大流派，前者以苏轼为代表，后者以柳永为代表。辛弃疾的词以沉雄豪放见长，但他的《清平乐·茅檐低小》却很清新活泼

B. 《琵琶行》里“座中泣下谁最多，江州司马青衫湿”的“江州司马”指的是杜牧

C. 吴沃尧是清末著名作家，长篇小说《官场现形记》是他的代表作品

D. 关汉卿是元代著名戏剧家，他的作品《长生殿》是元杂剧的名作

21. 下列说法错误的是（ ）

A. 奥运会的发祥地是希腊首都雅典西南的奥林匹亚

B. 近代奥林匹克运动创始人顾拜旦被称为“奥林匹克之父”

C. 奥运会会旗是五环旗，颜色自左向右依次为蓝、黄、黑、绿、粉

- D. 国际奥委会总部是瑞士洛桑
22. 下列关于人文常识的说法，不正确的有（ ）
- A. 四书指的是《大学》、《中庸》、《论语》、《孟子》
- B. 五经指的是《诗》《书》《礼》《易》《春秋》
- C. 六艺是指礼、乐、射、御、书、数，其中射指的是箭，御指的是骑马
- D. 隋唐时期，在中央实行三省六部制，“三省”指的是中书省、门下省、尚书省
23. 下列关于文化艺术的表述不正确的是（ ）
- A. 芭蕾舞起源于意大利，兴盛于法国
- B. 印象派绘画的代表人物有莫奈、马奈、梵高等
- C. 北宋时期的文人画多以山水、花鸟为主要内容
- D. 中国传统的弹拨乐器有古筝、扬琴、琵琶、马头琴等
24. 下列写梅的诗句中，其作者与其他三句的作者不是出自同一朝代的是（ ）
- A. 疏影横斜水清浅，暗香浮动月黄昏 B. 无意苦争春，一任群芳妒
- C. 遥知不是雪，为有暗香来 D. 不知春色早，疑是弄珠人
25. 下列文学常识的叙述，不正确的是（ ）
- A. “老骥伏枥，志在千里，烈士暮年，壮心不已”是曹操《龟虽寿》中的名句，表现了英雄人物老当益壮的胸怀
- B. “在天愿作比翼鸟，在地愿为连理枝”出自白居易的《长恨歌》，这一句成为爱情誓言
- C. “己所不欲，勿施于人”是《孟子·尽心上》中的名言，意思是自己不愿做的事，不应该让别人去做
- D. “金玉其外，败絮其中”，是刘基散文《卖柑者言》中的名句。作者通过卖柑者的口，揭露那些表里不一、名不副实的人和现象

第二部分 言语运用

26. 对于中国人来说，古诗词已经_____地浸润于日常生活之中，很多中国人的居家生活，往往以诗词为心，以对联与书法为用，因此很多中国古诗词语言和意象的美感，中国人可以“秒懂”，外国人却可能会_____。

填入划线部分最恰当的一项是：

- A. 循序渐进 一头雾水
- B. 润物无声 目瞪口呆
- C. 自然而然 望而生畏
- D. 潜移默化 不明就里

27. 文化，是一个国家的命脉、形象和_____的精神标识，在全球化浪潮使一切物质生活，社会生活趋于同化的今天，文化及其内含的哲学、伦理已经成为不同国家民族间_____自身身份的基础，成为国家竞争力的核心内容和深层标准。

填入划线部分最恰当的一项是：

- A. 独一无二 确认
- B. 独树一帜 认知
- C. 历久弥新 认识
- D. 亘古不变 明确

28. 小说《白鹿原》_____了中国近百年来乡土社会文化的消解和现代理性构建的艰难反复，勾画出百年变迁中传统社会的肌理，被当代文学界誉为是“一部展现民族灵魂的大作品”。电视剧《白鹿原》既背负着原著独特的艺术想像力和巨大的声名，也承载着观众的期待和_____，改编成电视剧，是一道再创作的巨大难题。

填入划线部分最恰当的一项是：

- A. 描绘 诘问
- B. 再现 指摘
- C. 重塑 质疑
- D. 反映 谴责

29. 长期以来，中国文学被人为地分成古代、现代两大板块，这固然可以使文学研究更加专门化，但却造成了现代文学和古代文学研究的_____。在大多数学者眼里，中国现代文学是以现代性追求呈现出新的文学特质，与西方文学的因缘更密切，而对中国古代文学却_____得少。

填入划线部分最恰当的一项是：

- A. 脱节 反思
- B. 隔阂 沿袭
- C. 壁垒 关注
- D. 割裂 继承

30. 在法国，哲学课的地位与法语、数学和物理这样的主课_____。法国普通中学的学生升入高中后，哲学都是必修课。而法国学生上哲学课的目的，是让学生发现自我价值，学会从周围_____的现象中发现问题，并在未来的实际工作中养成创造性的思考习惯，

填入划线部分最恰当的一项是：

- A. 息息相关 屡见不鲜
- B. 平起平坐 形形色色
- C. 不相上下 司空见惯
- D. 相差无几 人云亦云

31. 在娱乐方式多元化的今天，“_____”是不少人特别是中青年群体对待戏曲的态度，这里面固然存在先入为主的偏见、难以静下心来欣赏戏曲之美等因素，却也绕不开另一个原因：戏曲本是广大群众_____的大众艺术形式，但一些戏曲虽然与观众之间没有荧屏、银幕之隔，却用艺术化的表演讲述着与观众距离较远的生活。

填入划线部分最恰当的一项是：

- A. 爱屋及乌 津津乐道
- B. 不屑一顾 耳熟能评
- C. 敬而远之 喜闻乐见
- D. 心猿意马 信手拈来

32. 在中国电影成为世界第二大票仓的当下，这个本该充满智慧的艺术却____空前的智慧危机与信誉危机——制作水准参差不齐，偶有_____掀起热潮，却更像是国产电影持久萎靡的报复性反弹，这是电影制作方的智慧缺失。

填入划线部分最恰当的一项是：

- A. 遭遇 上乘之作
- B. 导致 点睛之笔
- C. 陷入 后起之秀
- D. 掀起 他山之石

33. 在我们的印象中，大人物_____，指挥千军万马，气吞山河，建功立业，似乎历史是由他们决定和书写的。但实际上，很多时候我们翻开史书却发现，历史在无意中，被很多小人物不经意的举动或想法_____了本来的走向，成为了我们今天看到的存在。

填入划线部分最恰当的一项是：

- A. 纵横捭阖 颠覆
- B. 举足轻重 改写
- C. 名垂青史 影响
- D. 叱咤风云 逆转

34. 历史是历史学家跟事实之间相互作用的连续不断的过程，是现在跟过去之间_____的问答交谈。历史学家在不停地选择，一般的历史事件变成了档案馆里的文献，就是一种选择过程。所以，即使是原始文献，也是_____因素渗透其中选择的结果。

填入划线部分最恰当的一项是：

- A. 深入浅出 综合

- B. 无所不在 外部
- C. 永无止境 主观
- D. 针锋相对 偶然

35. 再写实的绘画也不可能像照相机那样如实地还原景象。诚然，拍摄者对拍摄对象会有所取舍，观看者则根据自己的_____从中获得自以为有趣的信息，观看者对于信息的关注与选择，往往与拍摄者的愿望大异其趣，有时摄影者作为画面的主体呈现给人的，观看者却_____，反而是画面里那些毫不起眼的事物引发了他的思绪。

填入划线部分最恰当的一项是：

- A. 判断 浮想联翩
- B. 偏好 熟视无睹
- C. 经历 走马观花
- D. 习惯 无动于衷

36. 中国传统文献学的核心功能在于“辨章学术，考镜源流”。在具体的实践过程中，过分突出理论，会使文献学研究成为_____；过于偏重考证，则易使文献学研究流于_____。因此，如何将传统文献学理论与实践有效地结合在一起，是当下中国古典文献学界学者面临的重大挑战。

填入划线部分最恰当的一项是：

- A. 高文雅典 浅薄
- B. 空中楼阁 琐碎
- C. 海市蜃楼 艰涩
- D. 阳春白雪 平庸

37. 科普也算是为科学“打广告”，科学传播有必要_____市场营销的做法进行科学“营销”，不仅要销售产品、普及知识，更多的是体现产品的价值和服务—让更多的人树立科学精神、建立科学的生活方式。同时，我们也要培养传播媒介的科学素养，毕竟就科学传播来说，通过可信赖的渠道获得可信赖的信息，往往_____。

填入划线部分最恰当的一项是：

- A. 结合 一举两得
- B. 效仿 事半功倍
- C. 借鉴 十拿九稳
- D. 复制 易如反掌

38. 虽然数字是年报中最_____的部分，但年报其实远不止是_____的数字堆砌，投资者通过年报判断公司的投资价值，监管机构通过监控年报发现并规避系统风险，可以说，年报是一个舞台，台上光怪陆离，台下看客云集。

填入划线部分最恰当的一项是：

- A. 眼花缭乱 随意
- B. 一成不变 简单
- C. 惊心动魄 枯燥
- D. 扑朔迷离 机械

39. 移动终端快餐化、碎片化阅读受到大学生的推崇,但松散的阅读习惯很难使人构建____的思想体系。在浮躁的社会环境中,经典著作虽然能够对人有潜移默化的影响,但却不能像实用书籍那样_____这也是部分读者远离经典的原因。

填入划线部分最恰当的一项是:

- A. 完整 立竿见影
- B. 深刻 行之有效
- C. 系统 屡试不爽
- D. 宏大 学以致用

40. 管理者往往对直观信息熟视无睹、对数字情有独钟,结果,他们就可能____一些关键线索,不能真正了解到对方的优势和劣势,由此导致的结果,要么是“_____”,要么是“交友不慎”

填入划线部分最恰当的一项是:

- A. 遗漏 铤而走险
- C. 丢失 误入歧途
- B. 轻视 畏首畏尾
- D. 忽略 坐失良机

41. ①所以各种不同的文化、社会制度都是人类为适应各种不同的客观世界和环境所创造的

②有了这样的理论,我们就可以比较广泛地认识各种各样人类社会的不同现象

③既然如此,我们就认为在相同的环境里,人类会有相同或类似的表现

④社会科学有个基本的认识,人类虽然分为各种各样的人群、民族,但人类的本性和对生活的追求是相近的

⑤我们把各种不同环境中人类相应的表现总结出来。就是人类社会普遍性的规律和理论

⑥如婚姻家庭,社会分层等,都是把人在不同场景、地位下的表现做规律性总结,这种总结就是相关问题的理论

将以上 6 个句子重新排列,语序正确的是:

- A. ④①③⑤②⑥
- B. ④②⑥①⑤③
- C. ⑤②④③⑥①
- D. ⑤⑥②④①③

42. ①通过手写方式记录信息的人能够更好地记住枯燥的信息
②通过手写方式做笔记的人对资料的理解更加到位，记忆也更牢固
③不但如此，当人们重新拿起纸和笔的时候，就会发现，这些“老伙计”有另外一些朴素的优势
④人们在完成某些任务时，似乎重新喜欢上了纸张和笔带来的简单、灵活和伸手可及的触感
⑤最新研究发现，在回答概念问题时，用笔记本电脑做笔记的学生，其表现不如使用传统笔记本的学生

⑥比如，一个带有皮革封面的笔记本永远不会没电，也不会在工作进行到半时突然死机
将以上6个句子重新排列，语序正确的是：

- A. ①②④⑤③⑥
B. ⑤⑧②①④③
C. ④⑥①③⑤②
D. ⑤②①③⑥④

43. ①因而，用汉语进行创作的青藏高原各民族作家大都具有双重或多重文化背景
②生活在青藏高原多元文化背景中的各民族作家，除了一小部分用本民族的语言进行创作之外，大多数作家都用汉语或双语进行创作
③他们既熟稔于本民族的传统文化，又了解熟悉汉民族或其他民族的文化
④青藏高原多民族文学的多元性首先表现在文学语言的表现方式上
⑤一位作家掌握何种语言，实际上就意味着他掌握了何种文化
⑥这为他们的文学创作提供了广阔的文化视野

将以上6个句子重新排列，语序正确的是：

- A. ④②⑤①③⑥
B. ⑤④①③⑥②
C. ②⑤④①⑥③
D. ④③②⑥⑤①

44. ①信息泄露导致的垃圾短信、骚扰电话、精准诈骗日益威胁着人们的隐私、财产甚至生命安全

②伴随着电子商务的普及，消费者成为个人信息泄露的主要受害群体

③同时，消费者个人信息泄露还容易破坏市场秩序、制约经济发展，滋长各类犯罪、危害社会稳定，甚至引发公共安全及国家安全危机

④具体而言，个人信息对自然人具有社会交往价值，对公权力主体具有管理价值，对企业具有商业价值

⑤然而，在信息商业化过程中，信息失控已成为不争的事实

③个人信息被誉为“21 世纪最有价值的资源”

将以上 6 个句子重新排列, 语序正确的是:

- A. ②⑥③④⑤①
- B. ④②⑥①③⑤
- C. ①⑤②⑥③④
- D. ⑥④⑤②①③

45. ①因此有人认为, 宇宙半径约为 138 亿光年

②而且在宇宙大爆炸之后的 37.8 万年中, 宇宙只是带电的粒子场, 是高温高密度的电浆云, 光子在这团电浆云里跑不远

③如果要计算宇宙大小, 光速是一个很好的指标

④但真实情况并非如此, 因为物理学家们已经反复证明, 宇宙在加速膨胀

⑤之后发生了名为重组的事件, 粒子最终冷却到足够低的温度, 首批原子形成, 光才能自由移动

⑥现有理论认为, 宇宙产生于约 138 亿年前的一次大爆炸

将以上 6 个句子重新排列, 语序正确的是:

- A. ③④⑥⑤②①
- B. ③⑥①④②⑤
- C. ⑥⑤①④③②
- D. ⑥④③⑤①②

46. 中国的茶、饮茶方式、斗茶风气、茶具等传入日本后, 逐渐与日本本土文化相结合, 到了 16 世纪, 形成了日本独特的茶文化——茶道。_____。不过, 日本茶道实际上是中日文化交流的结晶, 如果没有中国茶树及茶文化的引入, 茶道这个日本的国粹也就无从谈起了。

填入画横线部分最恰当的一句是:

- A. 日本原先既无茶树, 也没有饮茶的习惯
- B. 现代日本茶道中所用的抹茶, 最初就是从中国引入的
- C. 日本茶道数百年来持续发展, 已经成为日本文化的一个象征
- D. 唐代, 大批日本使节来到中国学习, 并把中国文化带回日本

47. 目前中国农村最需要的与其说是乡贤文化, 不如说是_____。随着城市生活的日益拥挤、嘈杂、污染, 已经有部分城里人开始产生返回乡间生活的需求。而如果这些需求能够得到满足, 则随着人口向乡村的倒流, 将是资金等一系列公共资源的回流。

填入画横线部分最恰当的一句是:

- A. 推进乡村的城镇化建设
- B. 打通城乡之间的壁垒

- C. 加快城市反哺农村进程
- D. 打破城乡土地二元结构

48. 翻阅过往报道，用手机、iPad“哄孩子”的家长大有人在。一方面，家长应主动提供更加多元化的媒介组合，以此扩大孩子获取知识、拓宽视野的渠道；另一方面，成年人特别是家长首先应该将自己从被手机“奴役”的沉迷中解脱出来，用更多时间去陪伴孩子的成长、关注孩子的需求。换句话说，_____，更应该以自己的存在来替代手机等互联网工具以满足孩子的需求。

填入画横线部分最恰当的一句是：

- A. 成年人不仅要知道应该呈现给孩子什么样的虚拟世界
- B. 我们不仅需要媒介素养课来教导孩子们如何使用媒介
- C. 家长不仅要学会通过互动交流引导孩子更好地使用各种媒介
- D. 父母不应只关心孩子对新兴电子设备的兴趣与需求

49. _____。新闻媒体只有牢牢把握正确导向，把那些巨匠大师和无名英雄从幕后推到台前，用他们书写的绚丽篇章去感动社会、影响社会，使之成为人人景仰的明星，才不辱成风化人、凝心聚力的职责和使命。

填入画横线部分最恰当的一句是：

- A. 文章千古事，得失寸心知
- B. 文章本天成，妙手偶得之
- C. 骨气秋江月，文章春苑花
- D. 铁肩担道义，妙手著文章

50. 目前学界整理石刻基本上是按拓片录文，即使是海外整理的中国石刻文献，其录文方法亦如此。按拓片录文是有风险的，因为拓工的主观原因会出现错拓现象，一碑拓成两碑，或两碑拓成一碑，拓得不清，甚至有拓漏的情况，其准确性不能保证。如宋真宗天禧二年刊的《俞献可、燕肃等三人七星岩题记》，原摩崖底端有“朱瑞刊”三字，然而拓片上却无此三字。因此在整理石刻文献时，不能只坐在书房内靠拓片做文字录入工作，而应_____。

填入画横线部分最恰当的一句是：

- A. 设法保证石刻文献整理的全面性
- B. 依据拓片来源来断定石刻出处
- C. 本着精益求精的态度去遍访原碑
- D. 详细整理以甄别文稿的真伪

综合分析

所给出的文字资料均有若干问题要你回答。你应根据资料提供的信息进行分析、判断

和处理。

请开始答题：

(一)

①2007年12月31日，国家有关部门正式发布通知：从2008年6月1日起，在全国范围内禁止生产、销售、使用厚度小于0.025毫米的塑料购物袋。该举措的主要试点为超市、集市以及农贸市场等消费集中地。“限塑令”实施的主要手段是购物袋收费，消费者对此褒贬不一，但这一举措在推动“限塑令”有效实施方面却起到不容忽视的作用。2014年5月，为更好地了解公众对“限塑令”的态度与看法，本课题组展开调查，结果分析如下：

②第一，市民对“限塑令”的认知与态度。调查数据显示，84%的市民表示知道“限塑令”的实施是为了限制和减少塑料袋的使用，遏制“白色污染”；12.5%的市民听说过“限塑令”，但不知道具体内容和意义；其余3.5%则完全不了解“限塑令”。另一方面，83%的市民对“限塑令”持肯定态度，7.5%的市民持否定态度，另有9.5%认为“限塑令”实施与否无所谓。根据市民对以上问题的回答情况我们可以看出，市民对“限塑令”的认知已达到相对较高的水平，支持程度也比较乐观，但仍有将近20%的市民对“限塑令”的颁布实施表示不理解。

③第二，“限塑令”对公众行为的影响。为了更好地研究“限塑令”颁布后市民行为的改变，课题组采用了问卷调查与实地观察相结合的方法。其中问卷结果显示，大多数人认为实施“限塑令”以后确实减少了塑料袋的使用，但效果并不明显。然而，在实地观察中发现，在农村集市、小商店等地方，商家仍然为顾客免费提供塑料袋；相反，在城市，大超市基本上是有偿提供塑料袋的。数据显示，“限塑令”在超市中取得了较好的效果，各大小超市塑料袋的使用率不到30%，环保布袋的使用率却超过30%。

④第三，通过“限塑令”执行看市民环保意识。从访谈中得知，市民在超市不用塑料袋的主要原因是塑料袋有偿提供，这说明“限塑令”对提高人们的环保意识作用不大。人们减少塑料袋使用仅仅因为收费，而不是因为了解塑料袋危害环境才主动减少使用。问卷调查中“您了解塑料袋对环境造成的危害吗？”一题的分析结果显示，对塑料袋给环境造成的危害一点也不了解的仅占1%；大部分市民对塑料袋危害的了解仅停留在表面，如影响市容市貌、不易分解等，但是当问及更具体的危害时，则纷纷表示不知道。实际上，塑料袋不仅浪费了大量的不可再生资源，而且会给人、生物、大气及土壤环境带来不可估量的影响。由此可见，目前对“限塑令”的执行应重在加强对市民的环保宣传，进一步提高市民的环保意识。

⑤第四，公众对“限塑令”未来的展望。针对由商家赚取塑料袋销售利润这一问题，课题

组随机采访了一些市民，90.5%的市民认为对于这笔费用应成立专门的基金应对塑料袋污染问题。我国目前在对待环保问题时，主要是政府财政在提供资金，缺少相应的非政府组织的参与。若把塑料袋收入作为专项资金用于发展环保事业、成立环保基金，将其返还到环保事业上来，无疑会带来更大的效益。同时，对于是否应该扩大限塑范围这一问题，47%的市民表示赞同且认为时机已经成熟。调查中还听到一些不同的声音，反映出新政策在执行中面临的困难。以医院为例，“限塑令”的实施可能会给就诊者造成诸多不便另外，12%的市民表示目前尚不适合扩大限塑范围。在他们看来，“限塑令”实施以来，执行效果并不明显，甚至还有7.5%的市民希望可以恢复以前免费使用塑料袋的制度。

⑥此外，调查结果显示，77%的市民认为政府应加强对“限塑令”的执行与监管力度。这从一定程度上反映了当前市民的环保意识已得到相应的提高；同时，政府应加强监管，巩固前期政策的成果并取得更大成就。

51. 下面这段文字最可能位于哪两段之间？

通过比较还可看出，“限塑令”实施以来，农村居民与城市居民在执行程度上存在一定差距，其中农村居民出门不自备购物袋的比例占到了35.5%，明显高于城市居民22%的比例。就总体来看，出门自备购物袋的居民比例仅为25%，大多数人还未养成良好的环保习惯。

- A. ②与③之间
- B. ③与④之间
- C. ④与⑤之间
- D. ⑤与⑥之间

52. 文中课题组未使用的调查方法是：

- A. 问卷调查法
- B. 随机访谈法
- C. 实地观察法
- D. 实验调查法

53. 下列哪一说法与原文不符？

- A. 大多数市民对“限塑令”持肯定的态度
- B. “限塑令”在超市中取得了良好的效果
- C. 环保意识提高使人们减少使用塑料袋
- D. 某些特定场合限塑可能给人带来不便

54. 关于“限塑令”，下列哪项不是调查组给出的建议？

- A. 扩大限塑范围
- B. 设立专项基金
- C. 加大宣传力度
- D. 政府加强监管

55. 最适合做这段文字标题的是：

- A. 城乡“限塑令”实施状况比较
- B. 市民环保意识调查
- C. “限塑令”实施情况调查
- D. 市民眼中的“限塑令”

(二)

近来一系列关于社交网络的研究表明，虚拟社交并不能真的扩大交际圈，相反，人越多地使用网络社交，越可能感到孤独。

心理学专栏作者玛利亚称，互联网具有使人疏远的天然属性。1988年，学者罗伯特发现，在人们最初使用网络的1到2年间，快乐感和社会连接感会持续下降，其对家庭关系影响最大，网络使用者和家人的联系与交流明显减少；此外，随着社交圈缩小，抑郁和孤独感也会增加。

澳大利亚的一项研究分析了社交网络使用和人格之间的关系，结果发现，与那些不使用Facebook的人相比，使用者整体自恋水平更高，社交中的孤独感更强。

此外，社交网络使用过多，还会降低亲密关系的满意度，原因在于它会催生嫉妒和怀疑。研究者认为，这是由于社交网络暴露的信息更多，更有可能暴露出自己伴侣过去的经历以及与他人交流的信息；社交网络信息的模糊性，还会引起更多的猜测和想象。当人们将更多的时间花在线上，还会减少现实中与伴侣的相处时间。

卡内基梅隆大学的莫尔·伯克对1200名Facebook使用者进行了纵向研究，针对用户在Facebook上的一系列行为（比如点赞、私信、评论等），分析了这些行为和幸福感、连接感的关系，结论是：社交网络本身并不会使人感到不幸福和孤独，但它的某些功能和特性容易对人造成不良影响。

莫尔讲社交网络上的行为分为三类：“点赞式交流”（没有实际内容，只是机械点赞或发送泛泛的赞美和祝福）、“广播式交流”（比如浏览朋友圈中的最新动态）和“创作式交流”（沟通内容是个性化的，通常是一对一的，也是更发自内心的交流）。他还将社交网络上与

沟通对象的关系分为两类：强关系（指与比较亲密的朋友的关系，通常他们在线下也认识）和弱关系（指与不认识或不太熟悉的人的关系）。

用这两个维度分析社交网络上不同的关系和沟通方式对人的社会连接感、幸福感造成影响时，他发现：从总体上来说，社交网络的使用频率与人的孤独感、幸福感并不直接相关。接收到来自“强关系”的交流则对幸福感没有影响；接收到“创作式交流”，会明显提高人的幸福感与连接感，而“点赞式交流”“广播式交流”则对二者没有影响。因此，当人们在社交网络上沟通时，只有接收私人层面的沟通内容，才会有助于孤独感的减轻和幸福感的提升。

此外，社交网络上的“被动消费”（指没有目的、不经意间接收到的信息）会降低连接感和幸福感。莫尔发现，看别人的社交页面会让人产生更多的抑郁情绪，这与人们在社交网络上过于在意自我展示有关。社交网络是一个展现自我的渠道，人在社交网络中展现的形象，已经成为个人品牌的象征，这也使得人们格外在意社交网络中的个人形象维护。

计算机和虚拟现实技术专家兰尼尔说，社交应用使人们有机会将自己塑造为“虚拟模范”，因为我们不必经历在表现自我时可能会遇到的尴尬，比如说话卡壳、发挥失常、仪态不佳等。我们可以精心修饰每一张照片，编辑每一段文字，展现一个完美的自己。但正是这种对于塑造完美自我的需求，使得人们被“囚禁”在自我表现的监牢中。

于此同时，人们也越来越多地看到他人精心设计的形象，被动消费了这些形象后，下意识的“社会比较”会在无形中使其更加无法安于自己的生活，变得更为焦虑。


56. 根据莫尔·伯克的界定，下列哪组对应可能是错误的？
- A. 点赞式交流：在 QQ 空间看到朋友生日，为其送上祝福表情
 - B. 强关系：去海外留学的中学同学，经常视频聊天
 - C. 弱关系：通过线上活动认识的校友，并未见过面
 - D. 创作式交流：针对网络上的一篇报道，跟帖进行评论
57. 根据莫尔·伯克的研究，可以得出以下哪一结论？
- A. 强关系的“点赞式交流”有助于提高幸福感
 - B. 获得一个不太认识的人的点赞会使人快乐
 - C. 强关系的“创作式交流”会使幸福感显著增加
 - D. 经常浏览朋友圈能够增进朋友间的相互了解
58. 下列哪项可能属于文中提到的“被动消费”？

- A. 小张通过公司微信群发送会议通知
 - B. 小王临睡前总是习惯性地刷朋友圈
 - C. 小李喜欢在朋友圈分享自己的生活照
 - D. 小赵在自己的公众号上分享读书心得
59. 最适合做这段文字标题的是：
- A. 社交网络中孤独的现代人
 - B. 社交网络：自我展示的舞台
 - C. 亲密又陌生：社交网络中的人际关系
 - D. 如何增进人在社交网络中的幸福感
60. 本文接下来最可能讲的是：
- A. 社交网络依然是我们的基本需要
 - B. 我们真正需要的社交方式是什么
 - C. 人为什么会不自觉地美化自己
 - D. 社交网络信息为何具有模糊性

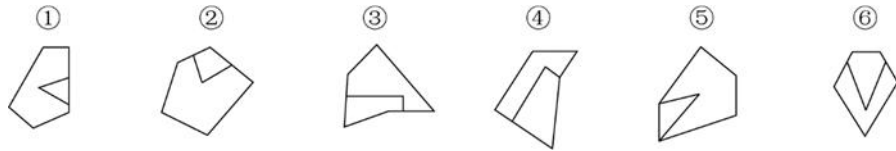
第三部分 判断推理

(共 20 题)

61. 请从所给的选项中，选择最合适的一个填入空白处，使之呈现一定的规律 ()。

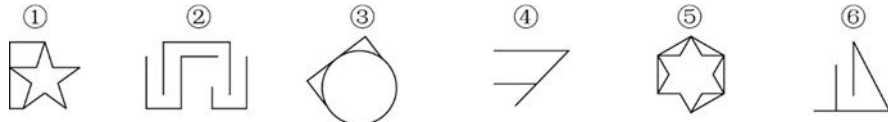


62. 把下面的六个图形分成两类，使每一类图形都有各自的共同特征或规律，分类正确的一项是：()。



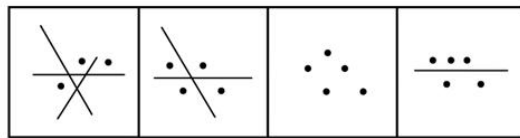
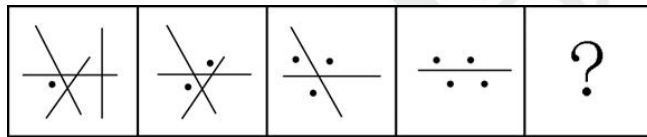
- A. ①②③, ④⑤⑥ B. ①⑤⑥, ②③④
C. ①④⑥, ②③⑤ D. ①③⑥, ②④⑤

63. 把下面的六个图形分成两类，使每一类图形都有各自的共同特征或规律，分类正确的一项是：（ ）。



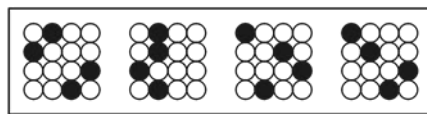
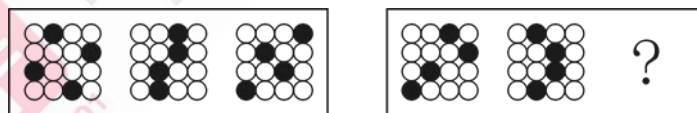
- A. ①③⑤, ②④⑥ B. ①④⑤, ②③⑥
C. ①④⑥, ②③⑤ D. ①②③, ④⑤⑥

64. 请从所给的选项中，选择最合适的一个填入空白处，使之呈现一定的规律（ ）。



A B C D

65. 请从所给的选项中，选择最合适的一个填入空白处，使之呈现一定的规律（ ）。



A B C D

66. 群体决策冒险是指群体比个体更富于冒险精神，相对于个人决策而言，群体倾向于选择获利大但成功率小的行为，当人们集合在一起时，比他们单独活动更富于冒险性。

根据上述定义，下列属于群体决策冒险的是：（ ）。

A. 在选择容易考但名气小，不审难考但名气大的学校的问题上，小赵犹豫不决。家庭会议讨论后，大家选择了后者

B. 老王遭遇车祸，重伤昏迷，医生集体会诊，商讨出手术救治方案，并进行了全力抢

救

C. 某国国会经投票表决后，正式出台了失业救济法案，该法案遭到在野党的强烈反对

D. 在一份创业时是否应当具有冒险精神的调查问卷上，80%以上的被调查者选择了“是”

67. 逆向思维是对司空见惯的似乎已成定论的事物或观点反过来进行思考的一种思维方式，逆向思维敢于“反其道而思之”，让思维向对立面的方向发展，从问题的相反面深入地进行探索。

根据上述定义，以下哪项中没有使用逆向思维？（ ）

A. 一富翁发现母鸡生蛋后总是咯咯地叫，于是他经常模仿母鸡咯咯地叫，希望母鸡多下蛋

B. 袜子的跟部往往最容易破，一厂家生产了无跟袜，投放市场后大受欢迎

C. 一位母亲整天愁眉苦脸，雨天，怕大儿子染的布没法晒干；晴天，又怕小儿子做的伞没有人买，一位邻居开导她，叫她反过来想；雨天，小儿子的伞生意做得红火；晴天，大儿子染的布很快就能晒干，结果，这位老母亲整天眉开眼笑

D. 一个准备进城的小八路从护城河边的桥下钻出来，故意朝着城外走去，结果被卫兵喝止，顺利地进了城

68. 趋势适应是指亲缘关系很远甚至完全不同的类群，长期生活在相似的环境中，在外貌形态、内部结构、生活特点、生理特征及发育等多方面表现出相似性，具有相同或相近的形态。

根据上述定义，下列属于趋同适应的是：（ ）。

A. 豆科牧草根瘤能与固氮根瘤菌共生，将大气中的氮气合成含氧化合物，具有生物固氮功能，因此能改良草原土壤

B. 青蛙、鳄鱼和河马的鼻孔和眼睛都生长在头部上方的同一个水平，这使它们可以将鼻、眼露出水面，便于呼吸和观察水面情况

C. 黑核桃树的树皮和果实含有氢化核桃酮，当这种物质被雨水冲到土中，即被氧化成核桃酮，这会导致黑核桃树下几乎没有草本植物

D. 生长在河洼地的牧草鸭茅，植株表现出高大、叶厚、色绿的特征，而生长于碎石堆的牧草鸭茅，植株表现出矮小、叶薄、色淡的特征

69. 界限侵犯属于心理咨询伦理问题，指在咨询中咨询师为了自己的性、情绪或经济方面的获益做出不符合专业标准的行为，也包括不当地利用咨询师和来访者的权力差异。界限

侵犯通常不是咨询师对抑制不住的欲望的自然反应，而是一种为了满足自己的需要所做出的故意的、有计划的行为。

根据上述定义，下列符合界限侵犯的是：（ ）。

A. 咨询师在咨询中详细询问职业为投资顾问的来访者对当前经济状况的看法，并针对自己持有的股票询问建议

B. 咨询师听来访者小杰讲述如何在学校里努力改善和同学的关系，颇受感动，咨询结束时轻轻拥抱小杰，对他说：“你真棒，加油！”

C. 咨询结束时，男性咨询师应女性来访者要求，拥抱了来访者。而后咨询师意识到自己这样做是因为他被来访者的女性特质所吸引

D. 咨询师向来访者介绍自己改善亲子关系的方法，来访者认为咨询师的方法不适合自己

70. 黑匣子：飞机

A. 防护栏：工厂 B. 集装箱：货轮

C. 记录仪：汽车 D. 超新星：太空

71. 血缘：亲属：关系

A. 子女：夫妻：家庭 B. 雇佣：企业：员工

C. 公民：政府：国家 D. 地域：民族：共同体

72. 起诉：应诉：审判

A. 违章：罚款：扣分 B. 签约：招标：投标

C. 构思：写作：投稿 D. 阐述：反驳：评判

73. 指南针 对于 （ ） 相当于 （ ） 对于 计时

A. 磁针 农历 B. 沙漏 方位

C. 航海 钟表 D. 磁场 星相

74. 有研究诸者认为，儿童缺钙会导致脾气暴躁，因此对于脾气暴躁的儿童应当补钙。但是，有反者认为，儿童焦虑不安是导致脾气暴躁的原因。家长的溺爱、家庭的教育缺乏一致性、父母对孩子要求过于严格以及遗传等因素都会导致儿童焦虑不安。因此心理因素者导致儿童脾气暴躁的原因。

以下哪项如果为真，最能削弱反对者的观点？（ ）

A. 有些脾气暴躁的儿童经检查并不缺钙

B. 儿童缺钙会导致焦虑不安等心理现象

- C. 家长对孩子溺爱或要求过严是社会普遍现象
- D. 有些先天缺钙的儿童并没有表现出脾气暴躁

75. 人的寿命长短与心率之间有很大关系。研究发现在正常范围内，心率越慢人越长寿。而高血压患者往往忽视对心率的监测。当高血压患者心率大于每分 84 次时，会比心率低于每分钟 65 次的患者增加一倍罹患冠心病的风险；而心率每分钟大于 79 次的高血压患者其死亡风险相对于小于这个数值的患者而言会增加 89%。因此，高血压患者控制血压的同时，也要做到心率控制。

由此可以推出：（ ）。

- A. 高血压患者往往只注意到了从血糖、血脂等方面全面管理血压，却忽视了对心率的管理
- B. 正常范围内心率较快的高血压患者，继发其他疾病的风险更高
- C. 对于高血压患者来说，当静息心率大于每分钟 84 次时就应该进行心率管理了
- D. 同时患高血压和冠心病的患者其对目标心率的要求会比单方面的高血压患者更高

76. 在一项实验中，研究人员要求 12 名男性志愿者每晚只睡 4 小时，持续两周。研究者检测了志愿者血液内的饥饿激素的含量，结果发现该激素的水平跃升了 28%。与此同时，另一种叫瘦素的激素则减少了 18%。瘦素的作用是向大脑发出不需要进食的信号从而抑制饥饿。研究者发现志愿者的饥饿程度平均提高了 23%。研究人员认为，睡眠不足可能会导致肥胖。

以下哪项如果为真，最能支持上述结论？（ ）

- A. 6~9 岁儿童每晚睡眠时间少于 10 小时，肥胖可能性会提高 1.5~2 倍
- B. 研究表明，肥胖的人群平均睡眠时间比体重正常的人群要高出许多
- C. 这 12 名男性志愿者在实验期间食欲没有表现出明显的变化
- D. 12 名志愿者在实验之前的若干天睡眠质量都不太好

77. 甲说：高学历能让人找到好工作赚大钱。乙说：谁说的？比尔·盖茨没拿到大学毕业证就出来工作，结果成了世界首富。

乙的反驳实际上是质疑下列哪项断定？（ ）

- A. 如果没有高学历，那么不会找到好工作赚大钱
- B. 并非只有高学历才能找到好工作赚大钱
- C. 如果谁有高学历，那么他就能找到好工作赚大钱
- D. 不管有没有高学历，都可以找到好工作赚大钱

78. 一般而言，猫的平均寿命比狗长3年，达15年。有研究认为，猫的“长寿之道”可能与它们独居的习性有关。

以下哪项如果为真，最能支持上述研究观点？（ ）

- A. 猫喜欢独自生活，从而减少了感染疾病的可能性
- B. 猫较少遭受掠食者攻击，因为它们具有很好的防御手段
- C. 无论是休息还是活动，猫比狗都要警觉，反应也更为敏捷
- D. 狗和人类一起生活时，其寿命会因为各种奇特的饲养方式而缩短

79. 甲：本来想去京华大学办点事。可未曾想到，去京华观光的人竟然如此之多。我就奇怪了，难道去看看京华就能考上京华吗？

乙：京华毕竟是世界名校，大家都羡慕京华，说明了国民对教育的重视。

以下哪项是对话中甲论述所需的前提？（ ）

- A. 学生们都希望到世界名校就读
- B. 除甲之外进入京华的人都是去观光的
- C. 去京华观光的都希望能考上京华
- D. 能不能上京华取决于其高考成绩

80. 某市举办民间文化艺术展演活动，小李、小张、大王和老许将作为剪纸、苏绣、白局和昆曲的传承人进行现场展演，每人各展演一项，展演按序一一进行。主办方还有如下安排：

- (1) 老许的展演要排在剪纸和苏绣的后面；
- (2) 白局、昆曲展演时，小李只能观看；
- (3) 大王的展演要排在剪纸前面；
- (4) 小张的展演要排在昆曲和老许展演前面。

根据上述安排，可以得出以下哪项？（ ）

- A. 小李展演剪纸，排在第1位
- B. 大王展演苏绣，排在第2位
- C. 小张展演昆曲，排在第3位
- D. 老许展演白局，排在第4位

第四部分 数量与资料分析

(共20题)

81. 小王上山每分钟走50米，下山每分钟走80米。他从山脚出发到达山顶后立刻原路

下山，出发 30 分钟内一共走了 1680 米。问他走到山脚还要多少分钟？

- A.8
- B.9
- C.10
- D.12

82. 某理财产品按365天计算的年化收益率为7.3%，今天购买、后天兑付即可获得1天收益，以此类推。小王2016年6月30日购买此理财产品15万元，2017年7月兑付时获得11190元收益。问他是哪一天兑付的？

- A. 495
- B. 496
- C. 540
- D. 541

83. 一个密码由 4 位不相同的数字组成，已知由这四个数字按次序组成的阿拉伯数字小于 2000，且第二位数比第四位数大 7。问满足这一条件的密码一共有多少个？（ ）

- A.28
- B.36
- C.60
- D.120

84. 某一本书的总页数为偶数，在页码的数字中“2”出现了 17 次，问这本书的页码之和最多为：（ ）。

- A.953
- B.2346
- C.2485
- D.3240

85. 有一项工程，甲、乙、丙合作一天完成了工程的 $\frac{5}{6}$ ，已知甲、乙、丙单独完成这项工程所用时间均为整数天数，且甲单独完成这项工程所用天数大于乙，乙所用天数大于丙，问甲、乙合作完成整个工程需要几天？（ ）

- A.3
- B.4
- C.5

D.6

86. 某电脑销售商销售某品牌的台式机和笔记本电脑。台式机和笔记本电脑的进价分别为每台 2000 元和 3500 元，销售价分别为每台 3000 元和 4800 元。已知该销售商恰好花费 80000 元购进了一批该品牌的台式机和笔记本电脑（每种均不少于 5 台），则其最大利润是多少元？

A.36400

B.36800

C.38600

D.40000

87. 某公司市场部有五个业务小组，分别有 6 人、7 人、8 人、11 人、14 人，一次拓展活动中计划设置抽奖环节，规则为每人最多只能抽到 1 份奖品。为保证每个小组都至少有两入抽到奖品，最少应准备多少份奖品？（ ）

A.10

B.23

C.34

D.42

88. 超市采购两种不同口味的散装巧克力共 X 斤，售价分别为 30 元/斤和 50 元/斤，预计总收入为 y 元。如将其混合后以 40 元/斤的价格销售，总收入将为 1.25y 元。问采购了 30 元/斤的巧克力多少斤？（ ）

A. 0.9X

B. 0.95X

C. 0.75X

D. 0.8X

89. 某单位组织职工到敬老院做义工，共有 47 名职工报名，女性职工比男性多 19 人。报名的职工中，党员人数是团员人数的 2 倍，既不是党员又不是团员的男性有 2 人，女性团员和男性党员一样多。在报名职工中不存在既是党员又是团员的情况，问既不是党员又不是团员的女性有几人？（ ）

A. 2

B. 3

C. 5

D. 9

90. 某生产企业有甲、乙两个车间,生产同样一种产品、在相同的时间内,甲车间生产 100 件产品,乙车间只能生产 90 件产品,现甲车间效率提高 5%,乙车间效率提高 10%,两车间在同一段时间内共同完成一个 5100 件产品的订单,问甲车间比乙车间多生产多少件? ()

A. 150

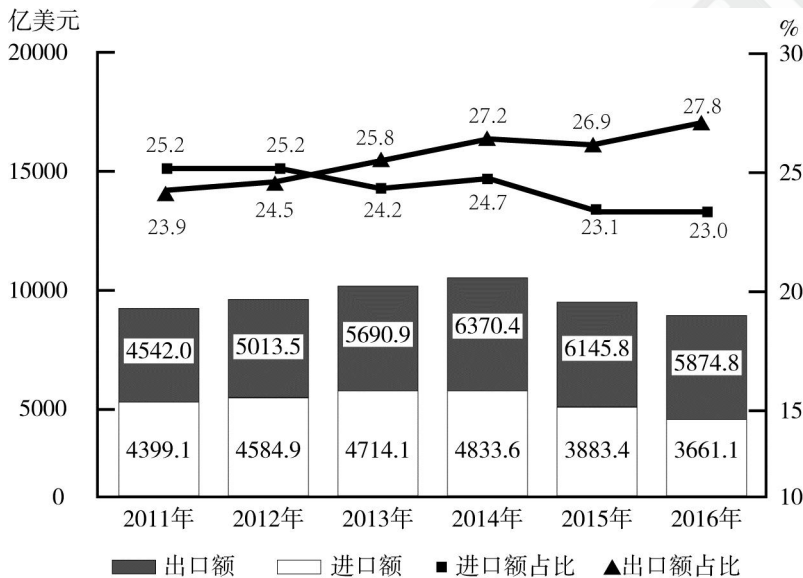
B. 255

C. 306

D. 510

请根据材料一，回答 91-95 题：

材料一



2011~2016 年中国与“一带一路”沿线国家贸易情况

注：“进口额”指中国自“一带一路”沿线国家进口额，“出口额”指中国对“一带一路”沿线国家出口额；“进口额占比”指上述进口额占全国进口总额的比重，“出口额占比”指上述出口额占全国出口总额的比重。

91. “十二五”(2011~2015 年)期间，中国与“一带一路”沿线国家贸易总额约为多少万亿美元？

A.3.4

B.4.2

C.5.0

D.6.0

92. 2011~2016 年间，中国对“一带一路”沿线国家贸易顺差超过 1000 亿美元的年份有几个？

- A.2
- B.3
- C.4
- D.5

93. 2016 年，中国与“一带一路”沿线国家进出口贸易总额比上年下降了约：

- A.5%
- B.10%
- C.15%
- D.20%

94. 2015 年，中国与“一带一路”沿线国家进出口贸易总额占当年中国进出口贸易总额的比重约为：

- A.22.8%
- B.24.7%
- C.25.3%
- D.27.2%

95. 能够从上述资料中推出的是：

- A.2012 年中国进口贸易额比上年增长了 10%以上
- B.2011~2016 年中国对“一带一路”沿线国家出口额占出口总额比重逐年上升
- C.2011 年中国出口贸易额超过 2 万亿美元

D.2011~2016 年间中国与“一带一路”沿线国家进口额和出口额最高的年份是同一年

请根据材料二，回答 96-100 题：

材料二：

2016 年 1~12 月，国有企业营业总收入 458978 亿元，同比增长 2.6%。其中，中央企业 276783.6 亿元，同比增长 2%；地方国有企业 182194.4 亿元，同比增长 3.5%。

1~12 月，国有企业营业总成本 449885 亿元，同比增长 2.5%，其中销售费用、管理费用和财务费用同比分别增长 5.9%、增长 6.7%和下降 3.7%。其中，中央企业 268039.9 亿元，同比增长 2.2%，其中销售费用、管理费用和财务费用同比分别增长 5.8%、增长 7.3%和下降 5.8%；地方国有企业 181845.1 亿元，同比增长 3%，其中销售费用、管理费用和财务费用同

比分别增长 6.3%、增长 5.7%和下降 1.5%。

1~12 月，国有企业利润总额 23157.8 亿元，同比增长 1.7%。其中，中央企业 15259.1 亿元，同比下降 4.7%；地方国有企业 7898.7 亿元，同比增长 16.9%。

1~12 月，国有企业应交税金 38076.1 亿元，同比下降 0.7%。其中，中央企业 29153 亿元，同比下降 2.5%；地方国有企业 8923.1 亿元，同比增长 6%。

12 月末，国有企业资产总额 1317174.5 亿元，同比增长 9.7%；负债总额 870377.3 亿元，同比增长 10%。其中，中央企业资产总额 694788.7 亿元，同比增长 7.7%；负债总额 476526 亿元，同比增长 8.2%；地方国有企业资产总额 622385.8 亿元，同比增长 12%；负债总额 393851.3 亿元，同比增长 12.1%。

96. 2016年1~12月，国有企业营业总成本比上年增长了约多少万亿元？

- A.0.9
- B.1.1
- C.1.3
- D.1.5

97. 如按利润/总收入的方式计算利润率，则2016年1~12月利润率高于上年水平的是：

- A.仅地方国有企业
- B.仅中央企业
- C.中央企业和国有企业总体
- D.地方国有企业和国有企业总体

98. 2016年1~12月，中央企业的应交税金占利税总额（利润与应交税金之和）比重比地方国有企业约

- A.高13个百分点
- B.高21个百分点
- C.低13个百分点
- D.低21个百分点

99. 所有者权益的计算方式为资产总额-负债总额。2016年末国有企业所有者权益中，中央企业所有者权益约占

- A.58% B. 54% C.49% D.42%

100. 关于2016年国有企业经营状况 能够从上述材料中推出的是：

- A.地方国有企业营业收入占国有企业营业总收入的一半以上
- B.管理费用和财务费用占总成本比重均高于上年水平
- C.中央企业应交税金占总收入的比重高于上年水平
- D.地方国有企业资产总额同比增量高于其负债总额同比增量



职业能力倾向测验（B类）必做100题答案解析

第一部分 常识判断

1. 【答案】A

【解析】我国的法律监督分为两类：国家机关的监督、社会监督。国家机关的监督包括：国家权力机关的监督、行政机关的监督、司法机关的监督。社会监督包括：各政党的监督、社会组织的监督、社会舆论的监督、人民群众的监督。A项政协是一个爱国统一战线组织，属于社会组织的监督；B项为行政机关的监督；C项为权力机关的监督；D项为司法机关的监督。因此B、C、D三项均属于国家监督体系，而A项则属于社会监督体系，故本题选A。

2. 【答案】B

【解析】B项说法错误，其他三项说法正确。《宪法》第十条第二款规定：“农村和城市郊区的土地，除由法律规定属于国家所有的以外，属于集体所有；宅基地和自留地、自留山，也属于集体所有。”该法第三十七条第二款规定：“任何公民，非经人民检察院批准或者决定或者人民法院决定，并由公安机关执行，不受逮捕。”该法第六十条第二款规定：“全国人民代表大会任期届满的两个月以前，全国人民代表大会常务委员会必须完成下届全国人民代表大会代表的选举。如果遇到不能进行选举的非常情况，由全国人民代表大会常务委员会以全体组成人员的三分之二以上的多数通过，可以推迟选举，延长本届全国人民代表大会的任期。在非常情况结束后一年内，必须完成下届全国人民代表大会代表的选举。”根据该法第六十条第十二项的规定，全国人民代表大会行使批准省、自治区和直辖市的建置的职权。故本题选B。

3. 【答案】B

【解析】根据《民法总则》第十九条规定：“八周岁以上的未成年人为限制民事行为能力人，实施民事法律行为由其法定代理人代理或者经其法定代理人同意、追认，但是可以独立实施纯获利益的民事法律行为或者与其年龄、智力相适应的民事法律行为。”第二十条规定：“不满八周岁的未成年人为无民事行为能力人，由其法定代理人代理实施民事法律行为。”所以B项中的12岁小学生属于限制民事行为能力人，其所实施的行为是效力待定的。而A项重大误解、C项欺诈行为属于可撤销民事法律行为，D项9岁小学生也是限制民事行为能力人，但是是赠与行为，属于纯获利益，故是有效的民事法律行为。故本题选B。

4. 【答案】D

【解析】本题考查统一战线。

统一战线是中国共产党领导革命和建设胜利的三大法宝之一。中国共产党在革命和建设过程中先后建立了四次统一战线：革命统一战线（国民大革命时期，由广大工人、农民、城市小资产阶级参加的反帝反封建的民族统一战线）、抗日民族统一战线（是抗日战争时期国共第二次合作，包括了工人阶级、农民阶级、小资产阶级和民族资产阶级，蒋介石为首的国民党英美派）、人民民主统一战线（解放战争时期，包括各民族、各民主阶级、各民主党派、各人民团体、广大华侨、各界民主人士及其他爱国分子和国民党统治集团中的一部分地方实力派）和爱国统一战线（社会主义时期，它是工人阶级领导的、工农联盟为基础的全体社会主义劳动者、拥护社会主义的爱国者和拥护祖国统一的爱国者的联盟，是最广泛的爱国统一战线）。ABC项表述错误，与题意不符，排除；D项表述正确，与题意相符，当选。

故本题选择D。

5. 【答案】D

【解析】本题考查我国古代大型典籍的修订。

A项，《永乐大典》编撰于明朝永乐年间，明成祖朱棣命解缙、姚广孝、王景、邹辑等人纂修大型类书，是中华民族珍贵的文化遗产。《不列颠百科全书》在“百科全书”条目中称中国明代类书《永乐大典》为“世界有史以来最大的百科全书”。但与题意不符，排除；

B项，《四库全书》全称《钦定四库全书》。是在乾隆皇帝的主持下，由纪昀等360多位高官、学者编撰，3800多人抄写，耗时十三年编成的丛书，分经、史、子、集四部，故名四库。但与题意不符，排除；

C项，《晋书》，中国的二十四史之一，唐房玄龄等人合著，作者共二十一人。中国自唐太宗时开始设馆修史；修成六部正史；《晋书》便是其中的第一部。但与题意不符，排除；

D项，《资治通鉴》由北宋司马光主编的一部多卷本编年体史书，共294卷，历时19年完成。《资治通鉴》在宋英宗时开始，得到宋英宗的支持。宋神宗即位后，将自己的二千多册存书送给司马光，让他继续编写，宋神宗认为此书“鉴于往事，有资于治道”，即以历史的得失作为鉴戒来加强统治，并起名《资治通鉴》。并非宋太祖下令编纂，说法错误，但与题意相符，当选。

故本题选择D。

6. 【答案】C

【解析】本题考查中国民俗文化。

A项，火把节是彝族、白族、纳西族、基诺族、拉祜族等民族的古老传统节日，被称为

“东方的狂欢节”，大多是在农历的六月二十四。开斋节，时间在伊斯兰教历10月1日。穆斯林在莱麦丹（第9月）全月斋戒，斋月最后一日寻看新月，见月次日开斋，即为开斋节。泼水节是傣族以及泰语民族和东南亚地区的传统节日，是傣族的新年，相当于公历的四月中旬，一般持续3至7天。2006年5月20日，该民俗经国务院批准列入第一批国家级非物质文化遗产名录。与题意不符，排除；

B项，布依族服饰大体上都保留着古老的特点，男女多喜欢穿蓝、青、黑、白等色布衣服。妇女的服饰各地不一，有的穿蓝黑色百褶长裙，有的喜欢在衣服上绣花，有的喜欢用白毛巾包头，带银质手镯、耳环、项圈等饰物。布依族服饰整体色调淡雅朴素，与自然保持着天然的和谐。而服饰色彩艳丽，少女头戴银饰以大以重为美一般是苗族的服饰特点。与题意不符，排除；

C项，青瓦、白墙是徽派建筑的突出印象。错落有致的马头墙不仅有造型之美，更重要的是它有防火，阻断火灾蔓延的实用功能。与题意相符，当选；

D项，古代的婚姻礼仪，指从议婚至完婚过程中的六种礼节，即：纳采、问名、纳吉、纳征、请期、亲迎。这一娶亲程式，周代即已确立，最早见于《礼记·昏义》。清末后，六礼演变纷繁，也就逐渐衰落了。先后顺序错误，排除。

故本题选择C。

7. 【答案】A

【解析】本题考查十九世纪的科技成就。

A项，第二次科技革命（电力革命）发生于19世纪70年代--19世纪末20世纪初，爱迪生发明电灯。关税及贸易总协定是一个政府间缔结的有关关税和贸易规则的多边国际协定，简称关贸总协定。关贸总协定于1947年10月30日在日内瓦签订，并于1948年1月1日开始临时适用。二者不属于同一世纪，说法错误，但与题意相符，当选；

B项，《物种起源》出版于1859年11月24日，作者达尔文（1809 - 1882），主要内容论述了生物进化的论断。说法正确但与题意不符，排除；

C项，第一次工业革命发生于18世纪60年代--19世纪上半期，1830年富尔顿发明汽船。说法正确，但与题意不符，排除；

D项，第二次科技革命（电力革命）发生于19世纪70年代--19世纪末20初，1886年卡尔本茨发明以汽油内燃机为动力的汽车。说法正确，但与题意不符，排除。

故本题选择A。

8. 【答案】C

【解析】本题考查古代乐曲知识。

①琵琶，是弹拨乐器首座，拨弦类弦鸣乐器。最早被称为“琵琶”的乐器大约在中国秦朝出现。其名“琵”、“琶”是根据演奏这些乐器的右手技法而来的。也就是说琵和琶原是两种弹奏手法的名称，琵是右手向前弹，琶是右手向后挑。说法错误，排除。

②琵琶曲《十面埋伏》描写了楚汉战争垓下决战的情形，是汉高帝五年（公元前202年）十二月，在楚汉战争中，楚汉两军在垓下进行的一场战略决战。说法正确，当选。

③关于乐曲的创作年代迄今无一定论。1819年曲谱最早见于《华秋频琵琶谱》。说法错误，排除。

④《十面埋伏》是一首历史题材的大型琵琶曲，它是中国十大古曲之一。正确，当选。

因此，C项表述正确，与题意相符，当选；ABD项表述错误，与题意不符，排除。

故本题选择C。

9. 【答案】A

【解析】本题考查古代成语典故。

题目中“月明星稀，乌鹊南飞。绕树三匝，何枝可依？山不厌高，海不厌深。周公吐哺，天下归心。”是指，月光明亮星光稀疏，一群寻巢乌鹊向南飞去。绕树飞了三周却没敛翅，哪里才有它们栖身之所？高山不辞土石才见巍峨，大海不弃涓流才见壮阔。我愿如周公一般礼贤下士，愿天下的英杰真心归顺与我。这首《短歌行》曹操希望有大量人才来为自己所用，大力强调“唯才是举”，而《短歌行》实际上就是一曲“求贤歌”。借用“周公吐哺”的典故就是要表达曹操会像周公那样礼贤下士，招揽人才，体现出其求贤若渴的心情。因此，A项符合题意，当选。

B项，曹操借周公的典故，意在表达其求贤之心情，还没有具体去做，如果当贤才来，自当礼贤下士。因此，这表达是曹操的希冀，而不是真是的做法。排除。

故本体的正确答案是A项。

10. 【答案】C

【解析】本题考查古代戏曲作品。

A项，《窦娥冤》是元代戏曲家关汉卿的杂剧代表作，也是元杂剧悲剧的典范。而不是清代，说法错误，排除；

B项，王实甫撰写的《西厢记》全名《崔莺莺待月西厢记》，又称“北西厢”，元代中国戏曲剧本。不是明代，说法错误，排除；

C项，《桃花扇》是中国清代著名的传奇剧本，作者孔尚任经历十余年三易其稿而完成

的。说法正确，当选；

D项，《牡丹亭》是明代剧作家汤显祖的代表作。不是马致远的代表作，马致远代表作品《天净沙·秋思》，被称为秋思之祖，还有《汉宫秋》。因此，说法错误，排除。

故本题选择C。

11. 【答案】A

【解析】牛奶和墨水可以发生胶体聚沉反应，使墨水从衣服上分离，A选项正确；早上蜘蛛网上有水表示晴天，因为天气晴朗时，早上温度低，空气中的水蒸气会凝结成小水珠，B选项错误；火灾中身上着火不能拍打，因为拍打会形成风势，补充氧气，火会更旺，C选项错误；水果榨汁后维生素会流失，因此不利于身体吸收维生素C，D选项错误。故本题选A。

12. 【答案】D

【解析】本题考查太阳系八大行星中金星的相关知识。

A项，金星，是太阳系中八大行星之一。行星通常指自身不发光，环绕着恒星的天体。因此，金星是不会自身可以发光发热的。说法错误，排除。

B项，太阳系八大行星，按照离太阳的距离从近到远，它们依次为水星、金星、地球、火星、木星、土星、天王星、海王星。金星位于水星和地球之间，地球与土星之间有火星和木星。因此，说法错误，排除。

C项，金星其表面温度：最低温度465℃，平均温度475℃，最高温度485℃。而木星的表层温度：表面有效温度值为-168℃，而地球观测值为-139℃。因此，金星表面温度远远高于木星，说法错误，排除。

D项，金星自转方向跟天王星一样与其它行星相反，是自东向西。因此，在金星上看，太阳是西升东落。其公转周期约为224.70天。但其自转周期却为243日，即金星的自转恒星日一天比一年还长。说法正确，当选。

故本题的正确答案是D项。

13. 【答案】A

【解析】美国的莱特兄弟发明飞机是在1903年；1957年10月，前苏联成功发射了世界上第一颗人造卫星；1946年2月，第一台普通用途计算机诞生；1997年2月，克隆羊“多利”诞生。故本题选A。

14. 【答案】B

【解析】高原气候的主要特点是：（1）太阳辐射强而辐射差额小。由于高原的海拔高度

大，大气层厚度、空气密度、水汽含量和大气气溶胶含量相应减少。所以，高原地区的太阳直接辐射强度大，其中紫外线辐射强度尤为显著。同时，高原有效辐射大，故辐射差额小。

(2) 温度日较差显著，年变化小。(3) 降水明显受地形影响。一般迎湿润气流的高原边缘是一个多雨带，而背湿润气流一侧和高原内部雨量较少。因此，B项错误。故本题选B。

15. 【答案】A

【解析】B项，《步辇图》为唐代人物画，而非隋代；C项，《清明上河图》描绘的是北宋都城汴京，即今河南开封的自然风光和繁荣景象；D项，富春江位于浙江省中部，而非江西。故本题选A。

16. 【答案】C

【解析】文成公主奉唐太宗之命和亲吐蕃，吐蕃是7—9世纪时古代藏族建立的政权。所以C项应为“使纺织、造纸、酿酒等工艺传入吐蕃”，而非“突厥”。故本题选C。

17. 【答案】B

【解析】清明节是中国民间重要传统节日，是重要的“八节”（上元、清明、立夏、端午、中元、中秋、冬至和除夕）之一。一般是在公历的四月五日，清明节的起源，据传始于古代帝王将相“墓祭”之礼，后来民间亦相仿效，于此日祭祖扫墓，历代沿袭而成为中华民族一种固定的风俗。故本题选B。

18. 【答案】A

【解析】“羽扇纶巾，谈笑间檣櫓灰飞烟灭”出自宋朝诗人苏轼的古诗作品《念奴娇·赤壁怀古》。三国时期，士人均以峨冠博带、羽扇纶巾为时尚，羽扇，即用鸟羽制成的扇子。纶巾，古时的一种头巾名，以丝带编成，一般为青色。“遥想公瑾当年，小乔初嫁了，雄姿英发。羽扇纶巾，谈笑间，檣櫓灰飞烟灭”，联系上下文可知，词中说的是周瑜，只是《三国演义》中诸葛亮形象深入人心，才容易被误会为诸葛亮。A项说法错误。B项“霁月难逢，彩云易散。心比天高，身为下贱，风流灵巧招人怨。寿夭多因毁谤生，多情公子空牵念”是《红楼梦》中晴雯的判词，它概括地写出了晴雯的出身、为人和命运。C项“冬天来了，春天还会远吗”出自英国著名浪漫主义诗人雪莱的《西风颂》。D项中“约法三章”出自《史记·高祖本纪》，是秦末农民战争中，汉高祖刘邦进入关中后的政策，赢得百姓民心。故本题选A。

19. 【答案】C

【解析】《装在套子里的人》是俄国批判现实主义作家契诃夫的著名小说之一，别里科夫是小说里的人物。故本题选C。

20. 【答案】A

【解析】B项“江州司马”指的是《琵琶行》的作者白居易。C项《官场现形记》的作者是李宝嘉。D项《长生殿》的作者是清代的洪昇。故本题选A。

21. 【答案】C

【解析】奥运会会旗的颜色自左向右依次为蓝、黄、黑、绿、红，依次代表欧洲、亚洲、非洲、大洋洲和美洲。其余选项均正确。故本题选C。

22. 【答案】C

【解析】六艺中“御”指的是驾车，而不是骑马，C说法错误。故本题选C。

23. 【答案】D

【解析】芭蕾舞孕育于意大利文艺复兴时期，十七世纪后半叶开始在法国发展流行并逐渐职业化。印象派绘画诞生于法国19世纪后期，是西方绘画史上一个划时代的艺术流派，代表人物有：雷诺阿、莫奈、马奈、梵高等。文人画是中国画的一种，泛指中国封建社会中文人、士大夫所作之画，文人画多取材于山水、花鸟、梅兰竹菊和木石等。马头琴属于拉弦乐器，不属于弹拨乐器。故本题选D。

24. 【答案】D

【解析】A项出自宋代林逋的《山园小梅》；B项出自宋代陆游的《卜算子·咏梅》；C项出自宋代王安石的《梅》；D项出自唐代王适的《江上梅》。故本题选D。

25. 【答案】C

【解析】“己所不欲，勿施于人”是《论语》中的名言，意思是自己不愿做的事，不应该让别人去做。故本题选C。

第二部分 言语运用

26. 【答案】D

【解析】本题为逻辑填空题。第一空，由空格后“浸润于日常生活之中”及“居家生活，往往以诗词为心，以对联与书法为用”可知，诗词对中国人来说很常见、平常，因此所填成语应能体现在日常生活中常常接触的含义。A项“循序渐进”指按照一定的次序与步骤逐渐推进，文段并未体现“逐渐推进”的意思，故排除A项。第二空，空格前出现转折词“却”，

因此空格所在句子与转折之前表义相反。前文提到中国人“秒懂”即很容易理解，因此空格处所填成语应表示不理解。D项“不明就里”指不明白其中含义，符合文段语义，故D项当选。B项“目瞪口呆”形容吃惊或受气以致神情痴呆的样子，侧重强调吃惊的样子，而非“不理解”，与文段语义不符，故排除B项。C项“望而生畏”形容人态度威严或事务艰难令人畏惧，不能体现“不理解”的意思，故排除C项。故本题答案为D选项。

27. 【答案】A

【解析】本题为逻辑填空题。第一空，由后文“在……一切……趋于同化的今天，文化及其内含的哲学、伦理已经成为……”可知，文段表达的是文化已经成为了区别不同国家民族的基础，即文化具有独特性、辨识度，因此空格处所填成语应能体现独特性。C项“历久弥新”指经历长久的时间而更加鲜活，更加有活力，更显价值，不能体现独特性，与文段语义不符，故排除C项。D项“亘古不变”指从古至今永远也不会改变，不能体现独特性，故排除D项。第二空，有文段语境可知，空格处所填词语应包含与其他国家民族进行区分的含义。A项“确认”指明确辨认，符合文段语义，故A项当选。B项“认知”指认识、思维或知觉的自身发展，包括理解和推理的意识官能或过程，靠它获得关于感觉或理念的知识，不能体现与其他相区分的含义，与文段语义不符，故排除B项。故本题答案为A选项。

28. 【答案】B

【解析】本题为逻辑填空题。第一空，由后文“勾画出百年变迁中传统社会的肌理”可知，空格所在句子应表示小说《白鹿原》描绘了中国近百年来社会变迁，空格处所填词语应体现“描写”“体现”的含义。C项“重塑”指重新塑造，与文段语义不符，故排除C项。第二空，由空格前“承载着观众的期待和……”可知，空格在句子应表示观众的不同反应。B项“指摘”指指出错误的地方，符合文段语境，故B项当选。A项“诘问”指质问、盘问，语义程度过重，故排除A项。D项“谴责”指斥责、责备，语义程度过重，故排除D项。故本题答案为B选项。

29. 【答案】D

【解析】本题为逻辑填空题。第一空，由“被人为地分为古代、现代两大板块”可知，现代文学与古代文学研究是分开进行的，因此所填词语应表示分开、分离的意思。B项“隔阂”指情意不相通，侧重强调思想，与现代文学与古代文学的研究搭配不当，故排除B项。C项“壁垒”泛指防御、戒备的工事，现在常指互相对立的事物或界限，泛指防御、戒备的工事，现代文学与古代文学的研究并非对立的，语义程度过重，故排除C项。第二空，空格前出现转折词“却”，转折前后语义相反，前文提到“与西方文学的因缘更密切”，因此转折

后应该表示现代文学与中国古代文学的联系少、关系不紧密，因此空格处所填词语应能体现关系或联系。D项“继承”指继续做前人未完成的事业或按照法律或遵照遗嘱接受死者的财产、职务、头衔、地位等，符合文段语义，故D项当选。A项“反思”指自我检讨、反省，不能体现有关系的含义，故排除A项。故本题答案为D选项。

30 【答案】C

【解析】本题为逻辑填空题。第一空，由后文“法国普通中学的学生升入高中以后，哲学都是必修课”可知，空格所在句子应表示哲学课和法语、数学之类的课程一样是主课，因此空格处所填成语应表示同样重要。A项“息息相关”比喻关系极为密切或彼此契合无间，侧重强调关系密切，而文段强调同等重要，与文段语义不符，故排除A项。B项“平起平坐”比喻地位或权力相当，前文已经出现了“地位”一词，B项置于此处语义重复，故排除B项。第二空，所填成语搭配“现象”。C项“司空见惯”指见得多了就不觉得奇怪，与“现象”搭配恰当且符合文段语境，故C项当选。D项“人云亦云”形容没有独立的见解，只会盲从跟随，通常搭配“人”，与“现象”搭配不当，故排除D项。故本题答案为C选项。

31. 【答案】C

【解析】本题为逻辑填空题。第一空，由后文“先入为主的偏见、难以静下心来欣赏戏曲之美”可知，中青年群体不喜爱戏曲。A项“爱屋及乌”比喻喜爱一个人而连带地喜爱和他有关的人和物，与文段语义不符，故排除A项。D项“心猿意马”比喻心思不专，变化不定，侧重强调不专心，文段并无这层含义，故排除D项。第二空，所填成语用于形容“大众艺术形式”。C项“喜闻乐见”比喻非常受欢迎，搭配恰当且符合文段语义，故C项当选。B项“耳熟能详”指耳朵听得多了，以致能详尽地说出来，与“大众艺术形式”搭配不当，故排除B项。故本题答案为C选项。

32. 【答案】A

【解析】本题为逻辑填空题。空格后面说“空前的智慧危机与信任危机”，可知空格处填入词应与危机实现搭配。掀起危机，搭配不当，所以D项排除，“这个本该充满智慧的艺术却”遭遇危机或者陷入危机可以搭配。B项导致危机，意味着是因果关系，实际上文段艺术和危机之间并不是因果关系，所以B项排除。“后起之秀，指后来出现的或新成长起来的优秀人物”，文段并没有在优秀人物的出现时间上给出先后的对比性提示，文段说的是艺术作品。所以C选项不合文段语境，故排除C项。A项，“上乘之作，指境界高妙的境界或上品”，填入到文段中符合文意。故本题答案为A选项。

33. 【答案】D

【解析】本题为逻辑填空题。第一个空格前面说“大人物”，可知B项举足轻重不合适，举足轻重作定语修饰大人物，应该是举足轻重的大人物。所以B项排除，第二个空格后面“本来的走向”，颠覆有倾覆，推翻的意思。走向与之不搭。故A项排除，影响与逆转相比较程度较轻，文段中“很多小人物不经意的举动或想法用逆转更能形成鲜明对比，所以选择程度较重的逆转。故排除C项。故本题答案为D选项。

34. 【答案】C

【解析】本题为逻辑填空题。第一个空格前面说“是连续不断地过程”空格后面说“是现在跟过去之间”由此可以判断文段填入的词和时间有关系，比较四个选项，“深入浅出”指讲话或文章的内容深刻，语言文字却浅显易懂或形容内容或道理很深刻，但表达得浅显通俗。没有体现出时间上的特点，故A项排除。B项，“无所不在形容到处都在，到处都有”，和空间有关系，没体现出时间上的特点，所以不合文段语境，故排除B项。D项，“针锋相对”比喻双方在策略、论点及行动方式等方面尖锐对立。”文段并没有体现过去与现在是一种对立的状态。过去与现在也不是双方的关系。故排除D项。C项永无止境“永远没有到尽头的时候”。是形容时间上的一种不断延续。故本题答案为C选项。

35. 【答案】B

【解析】本题为逻辑填空题。第一个空格后面“从中获得自以为有趣的”自以为实际上是个人的一种喜好、判断、经历、习惯实际上不能突出自以为有趣的特征。所以排除ACD三项，第二空格前面的却表转折，前面说的是摄影者很重视的画面，转折之后的观看者就应该是不重视的态度，能够形成鲜明对比的，综合比较四组成语。熟视无睹“看惯了却像没看见一样。形容对事物漫不经心或不重视。”与文段当中的观看者以及画面形成呼应。所以选择B选项。浮想联翩“比喻双方在策略、论点及行动方式等方面尖锐对立。”走马观花“原形容事情如意，心境愉快。后多指粗略的观察一下。”无动于衷“心里一点儿也没有触动。指对应该关心、注意的事情毫不关心，置之不理。”故本题答案为B选项。

36. 【答案】B

【解析】本题为逻辑填空题。空格前面说“过分突出理论”，通过过分一词可以看出，过分强调会有不好的后果。其中高文典雅和阳春白雪都是褒义词，显然不合适，所以排除A和D，过于偏重考证，不会使文献研究流于艰涩。考证的多会使文献更清晰，但是过分追究细节会流于琐碎，排除C。故本题答案为B选项。

37. 【答案】B

【解析】本题为逻辑填空题。文段中想表达的意思是科学传播要学习市场营销的方式方

法，这种学习并不是让其与市场营销结合，也不是完全的复制，毕竟是不同领域，达到这两种程度都是有难度的，所以排除 A 和 D。“十拿九稳”指很有把握。“事半功倍”形容力小而收获大。通过可信赖的渠道获得可信赖的信息这种十拿九稳的状态，相比较于通过可信赖的渠道获得可信赖的信息事半功倍的效果，事半功倍的效果才是我们愿意追求的，所以事半功倍比十拿九稳更能突出可信赖渠道的重要性。所以排除 C。故本题答案为 B 选项。

38. 【答案】C

【解析】本题为逻辑填空题。第一空，句子主语是“数字”，A 项，“眼花缭乱”形容眼睛看见复杂纷繁的东西而感到迷乱，比喻事物复杂，无法辨清。一般说“令人眼花缭乱”，置于此处，搭配不当，故排除 A 项。B 项，“一成不变”指一经形成，不再改变，根据后文“台上光怪陆离”，可知年报里的数据离奇多变，故排除 B 项。第二空，根据后文可知，通过年报投资者可以判断公司价值，监管机构可以发现风险，意味着年报里的数据有包含着非常丰富的信息。横线前有“远不止”表示否定，所填词语应该体现年报数据没有什么可用信息之意。C 项，“枯燥”指干枯，干燥；单调，无趣味，没意思亦或者无聊，形容一点劲头也没有，符合语意，当选。D 项，“机械”比喻拘泥于成规，刻板，与文意无关，故排除 D 项。故本题答案为 C 选项。

39. 【答案】A

【解析】本题为逻辑填空题。第一空，所填词语照应文段“快餐化、碎片化阅读”“松散”的阅读习惯”，可知文段所说的阅读方式是比较零散的，不成完整体系，横线前有“很难构建”表示否定，所填词语须体现“完整体系”之意，A、C 两项，“完整”与“系统”都可体现思想体系完整，均可保留。B 项，“深刻”指透彻、深入，或苛刻、严峻，与“肤浅”相对，与前文所说的“松散”无关，故排除 B 项。D 项，“宏大”比喻事物的气势宏伟，巨大，同样与“松散”无法照应，故排除 D 项。第二空，“虽然”与“但是”引导的两个分句构成转折关系，前后表意相反。前文说经典著作产生的影响是潜移默化的，也就是是在不知不觉中产生了作用，与之相对的是实用书籍，可以直截了当显示出自己的作用。所填词语要体现实用书籍作用明显之意。A 项，“立竿见影”比喻迅速收到成效，符合文意，当选。C 项，“屡试不爽”指每次使用都有效；多次试验都不错，与前文“潜移默化”不构成转折，故排除 C 项。故本题答案为 A 选项。

40. 【答案】D

【解析】本题为逻辑填空题。第一空，照应前文“对直观信息熟视无睹”，也就是对直观信息不重视，横线处是由此会引发的结果。且后文解释说明，提到不能了解对方的优势和

劣势，也就意味着对一些关键信息没有掌握。结合上下文语境，所填词语要体现没有把握住“关键线索”。A项，“遗漏”意为应该处理却因疏忽而没有处理；B项，“轻视”指不认真看待；D项，“忽略”指疏忽、不在意。三个词语均符合文意，保留。C项，“丢失”并非“熟视无睹”的结果，故排除C项。第二空，所填词语是没有了解竞争对手的优势和劣势所引发而结果，会导致在于对手的竞争中失去机会，D项，“坐失良机”指不主动及时行动而失去好机会，与前文可以构成因果关系，当选。A项，“铤而走险”是指无路可走时采取冒险行为，文段没有“无路可走”的语境，而且“冒险行为”与前文无因果关系，故排除A项。B项，“畏首畏尾”意思是前也怕，后也怕，形容胆子小，疑虑重重，侧重于胆小畏惧，同样与前文无因果关系，故排除B项。故本题答案为D选项。

41. 【答案】A

【解析】本题为语句排序题。首句不好确定，直接寻找捆绑。⑤句论述的是通过对人类行为的总结，得出“人类社会普遍性的规律和理论”，②句开头“这样的理论”，所指代的就是⑤句中所得出的理论，故⑤②捆绑。故排除B、D两项。⑥句中“如”引导了一系列实例，是对②句中所说的“各种各样”“不同现象”的具体解释，故⑥句应紧接在②句之后，故排除C项。将A项带入验证，表义连贯，逻辑通顺，当选。故本题答案为A选项。

42. 【答案】D

【解析】本题为语句排序题。首句不好确定，从捆绑入手。⑤句指出一项研究结果，提到用笔记本记笔记表现比笔记本电脑记笔记，②句就详细解释了“手写方式做笔记”的好处，⑤②捆绑，故排除A、B两项。③句提到纸和笔的“朴素优势”，⑥句中的不会没电、不会死机，就是对“朴素优势”的解释说明，③⑥应当捆绑，故排除C项。将D项带入验证，逻辑通顺。故本题答案为D选项。

43. 【答案】A

【解析】本题为语句排序题。观察选项确定首句，④句是从宏观上提出青藏高原多民族文学与语言表现形式的关系，引出了“语言表现形式”的话题，②句提到青藏高原的各民族文化作家会用到汉语或双语创作作品，这是对“语言表现形式”的具体论述，按照认知逻辑，应当先整体认识再具体解释，②句不适合做首句，其②句与④句话题一致，应当捆绑，答案锁定A项，将A项带入验证，文段先提到青藏高原文学的多元性体现在语言表现形式并具体解释，⑤句则引出了作家和文化的关系，接着①句说这些作家有双重或多重文化背景，③句用“既...又...”具体解释了他们的双重文化背景，最后⑥句进行总结，多重文化背景为他们提供了广阔文化视野，文段逻辑通顺。故本题答案为A选项。

44. 【答案】D

【解析】本题为语句排序题。观察选项确定首句，①句阐述信息泄露导致的危害，②句阐述个人信息泄露的主要受害群体，④句讲个人信息的价值，⑥句引出个人信息这一话题，故四句相比，⑥句为引出话题的句子，更适合做首句，D项当选，故排除A、B、C三项。将D项代入验证，符合文意和逻辑。故本题答案为D选项。

45. 【答案】B

【解析】本题为语句排序题。首句排他性不强，需寻找捆绑关系。④句出现“但真实情况并非如此”，后面阐述了宇宙在加速膨胀，故④句之前要阐述宇宙的大小是固定这一话题，观察选项发现，只有①句提到了“宇宙半径为138亿光年”，阐述的话题跟④句转折之后的相反，故①应该在④之前，B项正确，故排除A、C、D三项。将B项代入验证，符合文意和逻辑。故本题答案为B选项。

46. 【答案】C

【解析】本题为语句衔接题。横线位于文段中间，需要结合前后文来分析。观察横线前面的内容可知，其阐述了日本独特的茶文化——茶道的来源，后面的内容则具体解释了茶道和中国文化的关系，故横线处所填内容也应该围绕“茶道”这一话题展开阐述，对应选项，C项当选。A、B、D三项都未出现关于“茶道”的描述，与文段话题不符，故排除A、B、D三项。故本题答案为C选项。

47. 【答案】B

【解析】本题为语句衔接题。横线位于文段的首句，一般为对于下文内容的概括。根据文段后面的内容，其首先阐述了一种现象，即部分城里人产生返回乡间生活的需求，后面则阐述了这种现象带来的影响，即人口向乡村回流会导致一系列公共资源的回流，故文段后面内容主要讲的就是城市和乡村之间人口流动及其影响。对应选项，B项“打通城乡之间的壁垒”与文段所阐述的话题相符，所谓“打通壁垒”指的就是人口和资源可以在城乡之间自由流动，B项当选。A项，“推进乡村的城镇化建设”无中生有，与文段话题不相符，故排除A项。C项，“加快反哺农村进程”无中生有，文段并未提及，故排除C项。D项，“打破土地二元结构”无中生有，文段的话题是城乡之间人口和公共资源的流动，并非土地流动，故排除D项。故本题答案为B选项。

48. 【答案】C

【解析】本题为语句衔接题。横线前出现“换句话说”，表明后面的内容是对前文的概括总结，根据横线前的内容可知，其主要阐述了家长应该如何“哄”孩子，一是应主动提

供更加多元化的媒介组合，二是要花更多的时间去陪伴孩子，关注孩子的需求。而根据横线后“更应该以自己的存在……满足孩子的需求”可知，其是对前面第二点对策的概括，故横线处所填内容需要体现前面的第一点对策，观察选项，C项“通过互动交流引导孩子使用媒介”对应到了前面提到的“主动提供多元化的媒介组合”，C项当选。A项，未提到“主动提供多元化媒介组合”这一内容，故排除A项。B项，“需要媒介素养课”无中生有，故排除B项。D项，“孩子对新兴电子设备的兴趣与需求”无中生有，故排除D项。故本题答案为C选项。

49. 【答案】D

【解析】本题为语句衔接题。横线位于文段首句，一般为对后面内容的概括总结。根据文段后面的内容可知，其用表示必要条件关系的关联词“只有……才”引导出了新闻媒体应该如何去做的对策，即“要牢牢把握正确导向，用大师和英雄的事迹去感动社会、影响社会”，也就是要承担起教化公众，宣传正能量和英雄事迹的责任。对应选项，D项“铁肩担道义，妙手著文章”中的“担道义”对应了文段所强调的新闻媒体要承担责任，D项当选。A项，“文章千古事，得失寸心知”指的是文章是可以流传千古的大事，文章写得好，还是写得不好，作者本人的理解感知最为准确，与文段中心无关，故排除A项。B项，“文章本天成，妙手偶得之”强调的是文学素养很深的人，出于灵感，可偶然间得到妙语佳作，与文段中心无关，故排除B项。C项，“骨气秋江月，文章春苑花”是用来形容一个人有傲骨，善写文章，与文段中心无关，故排除C项。故本题答案为D选项。

50. 【答案】C

【解析】本题为语句衔接题。横线位于文段尾句，一般为根据前面内容所得出的结论，分析前面的文段可知，其首先阐述了目前学界整理石刻的基本方法即按拓片录文，接着阐述了这种方法的不足，即由于存在拓工主观上的错误，会出现错拓、漏拓的情况，故无法保证准确性，然后举了具体的例子进行说明，文段尾句借“因此”这一表示结论的词引出正确的整理石刻文献的做法，既然拓片存在着拓工主观上的错误，我们若想避免它就应该不能只依靠拓工给的拓片，而应该自己亲自对原文献进行研究。对应选项，C项“本着精益求精的态度去遍访原碑”是基于文段阐述的原因所得的正确对策，C项当选。A项，“设法保证石刻文献整理的全面性”与文段阐述的原因不符，文段阐述的目前存在的问题是其具有主观性，而非不全面，故排除A项。B项，话题跑偏，文段尾句阐述的是整理石刻文献的方法，而非如何判定石刻出处，故排除B项。D项，非基于文段原因所得的正确对策，故排除D项。故本题答案为C选项。

51. 【答案】B

【解析】本题为语句衔接题。原文中，②是在讲述市民对“限塑令”的认知和态度，③是在说明“限塑令”对于公民行为的影响，④在讲通过“限塑令”执行看居民环保意识，⑤在讲公众对“限塑令”未来的展望。题目中给出的文段是比较了农村和城市居民在“限塑令”的执行程度上的差异，围绕论述的话题是“限塑令”的执行。原文中论述到“限塑令”执行的是③和④两段，根据话题一致原则，本文段应在③和④之间。故本题答案为B选项。

52. 【答案】D

【解析】本题为细节查找题。③段提到了“课题组采用了问卷调查与实地观察相结合的方法”，可以排除A项和C项；④段提到了“从访谈中得知”，⑤段提到了“课题组随机采访了一些市民”，可知“随机访谈法”有涉及到，排除B项。故本题答案为D选项。

53. 【答案】C

【解析】本题为细节理解题。②段提到了“83%的市民对‘限塑令’持肯定态度”可知A选项表述正确；③段提到了“‘限塑令’在超市中取得了较好的效果”可知B选项表述正确；⑤段中提到了“限塑令”的实施会给就诊者造成诸多不便可知D选项表述正确。④段中提到人们减少使用塑料袋的原因是“收费”，而不是“环保意识”，C选项表述错误。故本题答案为C选项。

54. 【答案】A

【解析】本题为细节查找题。在文段中有提到，部分市民认为目前不适合扩大限塑范围，这不是课题组给出的建议。⑤段提到了如果把塑料袋收入用作专项基金会有好的效果可知B是建议之一；④段最后一句提到“重在加强对市民的环保宣传”可知C选项是建议之一；⑥段最后提到“政府应加强监管”可知D选项是建议之一。故本题答案为A选项。

55. 【答案】C

【解析】本题为标题添加题。本文第一段就说明了这是一个关于“限塑令”的调查报告，后文通过四个方面具体论述，最后进行总结。B选项没有涉及到主体词“限塑令”故排除；A选项是③段中的内容，D选项涉及到②和⑤的相关内容，表述均不全面，故排除。故本题答案为C选项。

56. 【答案】D

【解析】本题为细节理解题。根据“点赞式交流”是指“没有实际内容，只是机械点赞或发送泛泛的赞美和祝福”可知A项正确。根据“强关系”指与“比较亲密的朋友的关系，通常他们线下也认识”可知B正确。根据“弱关系”指“与不认识或不太熟悉的人的关系”

可知C正确。根据“创作式交流”是指“沟通内容是个性化的，通常是一对一，也是更发自内心的交流”可知，D项“跟帖评论”不是一对一的沟通，不符合“莫尔·伯克”的界定。故本题答案为D选项。

57. 【答案】C

【解析】本题为细节理解题。莫尔·伯克说，“强关系”的交流会使幸福感提高，“创作式交流”会明显提高人的幸福感与连接感，由此可以得出C项正确。故本题答案为C选项。

58. 【答案】B

【解析】本题为词句理解题。文中定义“被动消费”是没有目的、不经意间接收到的信息。A项小张“发送会议通知”是发送信息而非接收到信息，不属于被动消费。B项“刷朋友圈”即没有目的性，也是不经意间接收信息，符合“被动消费”的定义。C项“分享自己生活照片”和D项“分校读书心得”是发送信息，而非接收信息，排除。”故本题答案为B选项。

59. 【答案】A

【解析】本题为标题添加题。通读文章可知，文章首段点明了观点，即虚拟社交并不能真的扩大交际圈，相反，人越多地使用网络社交，越困难感到孤独。后文通过一系列学者、专家的研究结果来证明首段的观点，文章是“总分”结构。文章标题应能概括文段的核心观点，对比选项，A项符合是首段的观点。故本题答案为A选项。

60. 【答案】B

【解析】本题为下文推断题。文章首段先提出观点，然后从不同方面论证观点，文章是“总分”结构，所以本文的话题落脚在首段，即“网络社交使用越多，越让人感到孤独”。根据话题一致和行文脉络可推知，接下来最有可能讲的是“其它更好的、更适合人们的社交方式”。对比选项，B项符合这一话题。A项“依然需要社交网络”与文段表达倾向性相悖，排除。C项和D项与文段落脚话题不一致，排除。故本题答案为B选项。

第三部分 判断推理

(共20题)

61. B 【解析】本题考查数量类。观察所给图形，组成元素凌乱，优先考虑数量类规律。九宫格先横向观察，第一行图形封闭面的数量分别为：3、4、5；第二行图形封闭面的数量为：3、4、5；第三行图形封闭面的数量为：3、4、(?)，问号处图形应为5个封闭面的图

形，排除 C 项；然后，第一行三角形的数量分别为：1、1、1；第二行三角形的数量分别为：2、2、2；第三行三角形的数量分别为：3、3、(?)，问号处图形应有 3 个三角形，因此，选择 B。

62. B 【解析】观察所给图形，①⑤⑥图形中两条线的夹角为锐角，②③④图形中两条线的夹角为直角。因此，选择 B。

63. A 【解析】本题考查数量类规律。观察所给图形，①③⑤属于一笔画，②④⑥属于多笔画，因此，选择 A。解析二，①③⑤属于封闭图形，②④⑥属于不封闭图形。故本题答案为 A 选项。

64. C 【解析】观察前两幅图，发现第一幅图去掉一根直线，并且增加一个黑点，就得到第二幅图。第二幅图去掉一根直线，增加一个黑点，就得到第三幅图。第三幅图去掉一根直线，增加一个黑点，就得到第四幅图。所以，第四幅图去掉一根直线，增加一个黑点得到只有五个点的图形。对比四个选项之后，发现 C 符合。故本题答案为 C 选项。

65. D 【解析】观察图形发现，图形组成元素相同，位置不同，考虑位置类。第一组图中规律是：第一行的黑球每次向右平移一步，第二行的黑球每次向左平移一步，第三行每次向右平移一步，第四行每次向左平移一步。第二组图中，第一行和第二行的黑球每次都向左平移一步，第三行的黑球每次向右平移一步，第四行的黑球每次向右平移一步。按此规律，可得 D 项。故本题答案为 D 选项。

66. A 【解析】本题属于单定义判断，拈连的关键词为“群体比个体更富有冒险精神”“群体倾向于获利大但成功率小的行为”“集合在一起做决策”。A 项在择校问题上，经过家庭的群体讨论，选择了难考但名气大的学校，符合群体倾向于获利大但成功率小的行为，当选；B 项医生集体会诊后决定全力抢救，不符合群体倾向于获利大但成功率小的行为，排除；C 项中在野党强烈反对失业救济法案，没有体现群体倾向于获利大但成功率小的行为，排除；D 项 80% 以上的被调查者的选择属于大部分人倾向于应当具有冒险精神，并不是群体集合在一起，排除。故本题选择 A 选项。

67. A 【解析】此题为选非题，关键词为“对已成定论的事物或观点反过来思考”。A 选项母鸡生蛋后总咯咯叫，富翁通过模仿咯咯叫来使母鸡下蛋，并不是让思维向对立的方向发展，咯咯叫并不能导致下蛋，不符合定义；B 选项袜子的跟容易破，司空见惯的做法是让跟不破，但一厂家从问题的相反面探索，生产无跟袜，大受欢迎，符合定义，排除；C 选项邻居开导母亲从相反的观点反过来进行思考，晴天对大儿子有利，雨天对小儿子有利，只看有利的一面，符合定义，排除；D 选项中小八路没有按照常规的观点“如果朝城内走，肯定会被卫兵

喝止赶到城外”，而是从相反面进行思索，故意往城外走，结果被赶到了城内，符合定义。故本题选择 A 选项。

68. B 【解析】此题选择属于趋同适应的选项，关键词为“亲缘关系很远甚至完全不同”、“相似环境”、“在多方面表现出相似性”。A 选项豆根牧草与固氮根瘤菌属于共生关系，共同合成含氮化合物，而不是这两种生物在某些方面如外貌形态、内部结构等表现出相似性，不符合定义，排除；B 选项中青蛙、鳄鱼、河马属于不同的类群，因生活环境相似，都是生活在水中，从而表现出相同的生理特征“鼻孔和眼睛都生长在头部上方”，符合定义；C 选项中黑核桃树会导致树下几乎没有草本植物，不符合与其他类群在多方面表现出相似性，排除；D 选项河洼地的牧草鸭茅与碎石堆的牧草鸭茅表现出不同的特征，是同种生物在不同环境中的表现，不符合定义，排除。故本题选择 B 选项。

69. A 【解析】定义强调：为了自己的性、情绪或经济方面的获益做出不符合专业标准的行为，是一种为了满足自己的需要所做出的故意的、有计划的行为。A 项中，咨询师让作为投资顾问的来访者给自己持有的股票询问建议，属于为了自己经济方面的获益做出的不符合专业标准的行为，符合定义；B 项中，咨询师倾听小杰的讲述，并鼓励小杰，是符合专业标准的行为，不符合定义；C 项中，咨询师是应来访者的要求才拥抱了她，不属于故意的、有计划的行为，不符合定义；D 项中，咨询师向来访者介绍自己改善亲子关系的方法，没有体现“故意的、有计划的行为”，不符合定义。故本题答案为 A 选项。

70. C 【解析】题干中黑匣子是飞机记录飞机运行状况的一种电子仪器，是组成飞机的一种重要电子设备。A 项中防护栏并不是工厂组成部分，不选；B 项集装箱是货轮的一种运输方式，还有散装的运输方式，而且集装箱并不是货轮本身的组成部分，不选；C 项记录仪是纪录汽车运行的一种电子设备，是汽车的组成部分，符合题干逻辑关系，正确选项；D 项超新星是太空中一种特殊的天体，太空的组成部分，但是它不是电子设备，不选。所以，综上所述，此题正确答案是 C。

71. D 【解析】本题考查词语之间的逻辑关系。题干的逻辑关系为：亲属是一种关系，二者是种属关系，血缘是形成亲属关系的原因之一。A 项中，子女和夫妻是并列关系，都属于人与人之间的关系的种类，子女和夫妻都是组成家庭的成员，与题干逻辑关系不一致，排除；B 项中，企业雇用员工，与题干逻辑关系不一致，排除；C 项中，公民和政府都是一个国家的组成部分，与题干逻辑关系不一致，排除；D 项中，民族是一种共同体，二者是种属关系，地域是形成民族的原因之一，与题干逻辑关系一致，当选。因此，选择 D。

72. D 【解析】本题考查词语之间的逻辑关系。题干的逻辑关系为：一般情况下，原告

起诉，被告应诉，法官审判，三个行为主体不同。A项中，违章之后，罚款和扣分都是由交警执行，与题干逻辑关系不一致，排除；B项中，招标和投标的主体不同，但是与签约的主体相同，前后顺序与题干不一致，排除；C项中，构思、写作和投稿的主体相同，排除；D项中，阐述、反驳和评判的主体都不相同，与题干逻辑关系一致，当选。因此，选择D。

73. C【解析】带括号的类比推理，要将四个选项逐一代入，判断前后两部分的逻辑关系。A项代入后，指南针是磁针做成的，农历可以用来计时，前后逻辑关系不一致；B项代入后，指南针和沙漏是并列关系，方位和计时没有直接逻辑关系，前后逻辑关系不一致；C项代入后，指南针可用于航海，钟表可以用来计时，前后逻辑关系一致；D项代入后，指南针在磁场作用下能指示方向，星象和计时没有直接逻辑关系，前后逻辑关系不一致。故本题答案为C选项。

74. B【解析】题干反对者论点为：心理因素才是导致儿童脾气暴躁的原因。A项是削弱研究者的观点，属于无关项。B项说明儿童缺钙会导致焦虑不安等心理现象，也就是说支持了研究者的观点，从而削弱了反对者的观点。C项为无关项，D项是削弱研究人员的观点，属于无关项。故正确答案为B项。

75. A【解析】本题为归纳推理题。题干中前半部分主要是讨论心率快慢与人的寿命长短的关系，因此得出结论高血压患者控制血压的同时，也要做到心率控制。这一结论从侧面揭示了高血压患者在生活中忽视对心率的控制，观察ABCD选项，A项的结论可以合理推出；B项中出现了敏感词汇“更”，正常范围内心率较快的高血压患者，激发其他疾病的风险更高，题干中没有比较心率较快和心率不快的高血压患者在激发其他疾病中的风险高低，故排除；C项中“当心率大于每分钟84次时就应该进行心率管理了”，而题干中仅仅是“心率大于每分钟84次会比心率低于每分钟65次的患者增加一份罹患冠心病的风险”，没有提及在什么情况下就应该进行心率管理的问题，故排除；D项中也出现了敏感词汇“更”，而题干中也没有比较，故排除。所以本题的正确答案应选A。

76. A【解析】本题为加强类论证。题干论点是“睡眠不足可能导致肥胖”。A项中提及6~9岁儿童睡眠时间少，肥胖的可能性提高，题干中是男性志愿者，A项增加了论据，可以加强；B项中肥胖人睡眠时间更长明显是削弱论点，排除；C项中这12名男性在试验期间食欲没有明显变化，而题干中睡眠不足的被试者瘦素会减少，会产生需要进食的欲望，食欲会增加，C项明显削弱了题干的表述，排除；D项中讨论的是“睡眠质量”的问题，与题干讨论话题无关，排除。故本题正确答案为A。

77. A【解析】削弱论证，乙举的例子进行反驳表达的意思可以翻译为：没有高学历且

赚大钱，最能表达乙质疑反驳的就是这个“且”命题的矛盾命题，而“且”命题的矛盾命题是：没有高学历→不会赚大钱。A项可以翻译为：没有高学历→不会赚大钱，正确选项；B项—（赚大钱→高学历），根据德摩根定理，得到：赚大钱且不用高学历；C项为高学历→赚大钱；D项也能削弱论点，但没有直接反驳论点力度大。因此，此题答案是A。

78. A【解析】本题的论点是：猫的“长寿之道”可能与它们独居的习性有关。A项直接论证了论点，猫的独居生活习性延长了它们的寿命，正确答案；B项、C项、D项都没有涉及到猫的独居特性，不能加强论点。因此，此题答案选择A。

79. C【解析】A项，讨论学生想要去什么样的大学就读，无关。B项，否定B选项，京华里还有其他人不是去观光的，论点依旧成立，所以此选项并非前提。C项，甲发现去京华大学的人如此之多，提出“难道去看看京华就能考上京华吗”这样的观点，要想得出此项结论，默认去京华观光的人都是希望能考上京华的，所以C项是前提。D项，讨论的是如何才能考上京华，无关排除。因此，此题选C。

80. D【解析】分析推理题，由（3）知剪纸不排在第1位，排除A；由（4）知小张不展演昆曲，排除C；由（4）知小张和老许都不展演昆曲，由（2）知小李不展演昆曲，则大王展演昆曲，排除B。因此，选择D选项。

第四部分 数量与资料分析

（共20题）

81. B【解析】第一步：根据行程问题核心公式，有 $S=VT$ 。假设小王上山花费时间为 t 分钟。根据题意应该有： $1680-50t=80(30-t)$ ，解得 $t=24$ 。第二步：计算下山时间 $(24 \times 50 - 80 \times 6) \div 80 = 9$ 。故本题答案为B选项。

82. C【解析】时间问题。一年365天的年变化率为7.3%，则15万元一年可收益 $150000 \times 7.3\% = 10950$ （元），每天收益 $10950 \div 365 = 30$ （元），实际收益11190元，则共收益 $11190 \div 30 = 373$ （天），兑付规则为今天买，后天收益，则兑付时间为 $373 + 2 = 375$ （天），从2016年6月30日计算，经过375天为2017年7月9日。因此，选择C选项。

83. A【解析】本题考查排列组合问题。4位数小于2000，第一位只能为0，1，分情况讨论，如下表：

第一位	第二位	第三位	第四位
0	8	除0、8、1外的7个数选一个	1

	9	除 0、2、9 外的 7 个数选一个	2
1	7	除 0、1、7 外的 7 个数选一个	0
	9	除 1、2、9 外的 7 个数选一个	2

则共有 $7+7+7+7=28$ 种情况。故本题答案为 A 选项。

84. C【解析】数列问题。2 出现次数分别是：1-10 出现 1 次（2）；11-20 出现 2 次（12、20）；21-30 出现 10 次（21、22、23、24、25、26、27、28、29）；31-40 出现 1 次（32）；41-50 出现 1 次（42），51-60 出现 1 次（52）；61-70 出现一次（62），此时最大偶数值为 70，页码之和为 。故本题答案为 C 选项。

85. A【解析】本题考查工程问题。甲乙丙合作一天完成了工程的 $\frac{5}{6}$ ，赋值工程总量为 12，则甲乙丙的效率之和为 10，由甲单独完成所需的天数大于乙，乙所需天数大于丙，可知甲的效率为 1、乙的效率为 3、丙的效率为 6，甲乙合作效率和为 4，完成整个工程需要 $12 \div 4=3$ 天。故本题答案为 A 选项。

86. A【解析】经济利润问题。设台式机销售 x 台，笔记本销售 y 台，由题意知 $2000x + 3500y = 80000$ ，化简得 $4x + 7y = 160$ ①，而利润为 $(3000 - 2000)x + (4800 - 3500)y = 1000x + 1300y$ ②，将①式化简为 $4x = 160 - 7y$ ，代入②可得总利润为 $40000 - 450y$ ，当 y 最小时，利润最大，由①式知 y 最小为 8，代入得最大利润为 $40000 - 450 \times 8 = 36400$ 。因此，选择 A 选项。

87. D【解析】本题考查最值问题、最不利构造。最不利构造问题的答案=最不利情况数+1，共五个业务小组，最不利情况为：人数最多的四个小组每人都中奖且人数最少的小组仅 1 人中奖，故最不利情况数= $14+11+8+7+1=41$ ，此时若再有人中奖即可满足题意，答案= $41+1=42$ 。故本题答案为 D 选项。

88. A【解析】本题考查基础方程。设采购了 30 元/斤的巧克力 z 斤，列方程： $30z + 50(x - z) = y$ ， $40x = 1.25y$ ，解得： $z = 0.9x$ 。故本题答案为 A 选项。

89. D【解析】本题考查两集合容斥。根据题意可得，女性职工 33 人，男性职工 14 人，设女性团员为 x 人，则男性党员为 x 人，设既不是党员又不是团员的女性有 y 人，则女性党员为 $33 - x - y$ ，男性团员为 $14 - x - 2$ ，列方程： $33 - x - y + x = 2 \times (x + 14 - x - 2)$ ，解得 $y = 9$ 。故本题答案为 D 选项。

90. A【解析】本题考查基础方程。甲、乙车间效率提高后分别为 105、99，设生产时间为 t ，列方程： $105t + 99t = 5100$ ，解得 $t = 25$ ，所以甲比乙多生产 $(105 - 99) \times 25 = 150$ 件。故

本题答案为 A 选项。

91. C 【解析】 本题考查简单计算。贸易总额是进口总额与出口总额的和。因选项差距较大，对数据四舍五入保留两位有效数字估算即可。 $(45+44)+(50+46)+(57+47)+(64+48)+(61+39)=501$ ，“十二五”期间“一带一路”沿线国家贸易总额约为 5.01 万亿美元。故本题答案为 C 选项。

92. B 【解析】 本题考查简单计算。贸易顺差=出口额-进口额，2011~2016 年间贸易顺差分别约为：4542-4399.1<1000；5013.5-4584.9<1000；5690.9-4714.1<1000；6370.4-4833.6>1000；6145.8-3883.4>1000；5874.8-3661.1>1000，超过 1000 亿美元的年份为 2014、2015、2016 共三年。故本题答案为 B 选项。

93. A 【解析】 本题考查增长率计算。2016 年进出口贸易总额为 $5874.8+3661.1\approx 9500$ ，2015 年进出口贸易总额 $6145.8+3883.4\approx 10000$ ，2016 年进出口贸易总额增长率约 $\frac{9500-10000}{10000}=-5\%$ ，即下降约 5%。故本题答案为 A 选项。

94. C 【解析】 本题考查比重计算。解法一：2015 年进口额的占比为 23.1%，出口额的占比为 26.9%，贸易总额的比重根据混合比重的结论可知必然大于 23.1%且小于 26.9%，排除 A、D 两项；又因其偏向于值较大的一方，即出口额 26.9%。结合选项只有 25.3%满足。故本题答案为 C 选项。解法二：根据图形材料可知：2015 年中国与“一带一路”沿线国家进口、出口贸易总额分别为 3883.4、6145.8 亿美元，占比分别为 23.1%、26.9%，则 2015 年中国与“一带一路”沿线国家进出口贸易总额占中国进出口贸易总额的比重为 $(3883.4+6145.8)/(3883.4/23.1\%+6145.8/26.9\%)\approx 25.3\%$ 。故本题答案为 C 选项。

95. D 【解析】 本题考查综合分析。

A 项，增长率计算，增长率=（现期量-基期量）/基期量，由图可知中国进口额=中国自“一带一路”沿线国家进口额/进口额占比，且 2011 与 2012 年中国自“一带一路”沿线国家进口额占全国总进口额比重一致，均为 25.2%，则仅需计算中国自“一带一路”沿线国家进口额增长率，其增长率= $(4584.9-4399.1)/4399.1\approx 4.2\%<10\%$ ，A 选项错误；

B 项，简单计算，根据图可知，2015 年相比于 2016 年中国对“一带一路”沿线国家出口额占出口总额比重下降，与“2011~2016 年逐年上升”矛盾，B 选项错误；

C 项，比重计算，出口贸易总额=中国对“一带一路”沿线国家出口额/出口额占比，与 2012 年相比，根据图可知，2011 年中国对“一带一路”沿线国家出口额为 4542 亿美元，出口

额占比为 23.9%，因此 2011 年中国出口贸易总额=4542÷23.9%<20000，因此 2011 年中国出口贸易额不足 2 万亿美元，C 选项错误；

D 项，简单计算，根据图中数据，中国与“一带一路”沿线国家出口额最高的是 2014 年，为 6370 亿美元，其进口额最高也是 2014 年，为 4833.6 亿美元，最高年份为同一年，D 选项正确。

故本题答案为 D 选项。

96. B【解析】本题考查增长量计算。文字材料第二段，国有企业营业总成本 449885 亿元，同比增长 2.5%。增长率 $2.5\% = \frac{1}{40}$ ，根据增长量特殊值公式
 增长量= $\frac{\text{现期值}}{1+n} = \frac{449885}{1+40} \approx 1.1$ 亿元。故本题答案为 B 选项。

97. A【解析】本题考查比值变化。根据两期比值比较结论，分子的增长率大于分母的增长率时，比值变大。今年的利润率高于去年，即利润的增长率大于总收入的增长率。结合文字材料可知：地方国有企业利润增长率 16.9%>总收入增长率 3.5%；中央企业利润增长率 -4.7%<总收入增长率 2%；国有企业总体利润增长率 1.7%<总收入增长率 2.6%，只有地方国有企业满足。故本题答案为 A 选项。

98. A【解析】本题考查比重计算。中央企业应交税金占利税总额的比重为 $\frac{29153}{29153+15259.1} \approx 66\%$ ，地方国有企业为 $\frac{8923.1}{8923.1+7898.7} \approx 53\%$ ，两者差为 66%-53%=13 百分点。故本题答案为 A 选项。

99. C【解析】本题考查比重计算。中央企业所有者权益占国有企业所有者权益的比重为 $\frac{69478.7-476526}{1317174.5-870377.3} \approx \frac{218262.7}{447000} \approx 49\%$ （或略小于 1/2），故本题答案为 C 选项。

100. D【解析】本题考查综合分析。

A 项，比重计算，定位第二段地方国有企业营业收入为 182194.4 亿元，国有企业营业总收入为 458978 亿元， $182194.4/458978 < 1/2$ ，A 选项错误；

B 项，比重变化，根据两期比重比较技巧，管理费用的增速（6.7%）大于国有企业总成本的增速（2.5%），比重上升；但财务费用的增速（-3.7%）小于总成本的增速（2.5%），比重下降，B 选项错误；

C 项，比重变化，根据两期比重比较技巧，中央企业应交税金的增速（-2.5%）小于国

有企业总收入的增速（2.6%），比重下降，C选项错误；

D项，增长量大小比较，利用增长量大小比较技巧，地方国有企业资产总额的现期值（622385.8）远大于其负债总额的（393851.3），而两者增长率近似相等，故地方国有企业资产总额的增长量更大，D选项正确。

故本题答案为D选项。

