

# 2019 年武义事业单位公开招聘

华图帮您笔试再加 10 分

 华图事业单位  
SYDW.HUATU.COM  
♥ 考前预测卷 ♥



(添加华图小姐姐微信领取答案)

预祝考生考的都会，蒙的都对！咱面试见。。。。。

## 2019年武义事业单位考试职测考前预测卷

### 第一部分 常识

(共 15 题，参考时间 10 分钟)

根据题目要求，从以下选项中选择一个最合适的作答。

- 下列选项中，与“野火烧不尽，春风吹又生”所蕴含的哲理一致的是（ ）
  - 蝉噪林逾静，鸟鸣山更幽
  - 不积跬步，无以至千里
  - 挽弓当挽强，用箭当用长
  - 芳林新叶催陈叶，流水前波让后波
- 下列关于世界地理之最的表述错误的是（ ）
  - 欧洲是世界上海拔最低的洲
  - 尼罗河是世界上最长的河流
  - 死海是世界上最大的咸水湖
  - 印度孟加拉湾是世界上最大海湾
- 下列有关变法的说法正确的是（ ）
  - 春秋时期，吴起变法使齐国称霸中原
  - 北魏孝文帝改革，缓解了民族矛盾，促进了民族融合
  - 张居正改革维护了豪门贵族的利益，加深了明朝政治的昏暗
  - 王安石变法受到了各方拥护，改变了北宋积贫积弱的局面
- 王某与甲花店约定，于其女友李某 6 月 1 日生日时，由花店将 99 朵玫瑰花送至女友李某处。花店的玫瑰花系从乙公司购得，由于乙公司送货迟延，导致甲花店未能按期履行合同，王某因此提出解除合同。对于此案，下列表述正确的是（ ）
  - 王某无权解除合同，因为花店对于迟延履行无过错
  - 王某无权解除合同，因为王某未给花店履约宽限期
  - 王某有权解除合同，因为花店未告知鲜花供应商
  - 王某有权解除合同，因为花店迟延履行使合同目的不能实现
- 古人归纳总结出许多观天象识天气的谚语。下列与天气变化无关的谚语是（ ）
  - 朝霞不出门，晚霞行千里
  - 天上鱼鳞云，地下雨淋淋
  - 东风是个精，不下也要阴
  - 百日连阴雨，总有一日晴



- D. 桂花飘香是分子不停地做无规则运动
12. 下列关于中国地理的说法正确的是（ ）
- A. 中国稀土的储量和产量均居世界首位
- B. 准噶尔盆地位于新疆天山以北，是中国最大的盆地
- C. 海南省有“东方夏威夷”的美称，简称“琼”，省会是三亚
- D. 以北京、天津、唐山为中心的京津唐地区是中国最大的综合性工业基地
13. “可燃冰”是一种洁净的新能源，以下关于可燃冰说法不正确的是（ ）
- A. “可燃冰”的主要成分是甲烷分子与水分子
- B. “可燃冰”的形成与海底石油、天然气的形成过程相仿
- C. “可燃冰”可以看成是高度压缩的固态天然气
- D. 由于“可燃冰”的开采较为便利，未来几十年中将成为世界的主要能源种类
14. 下列言行体现公民没有自觉履行法定义务的是（ ）
- ① “听说你养母病了？”“与我无关，我是被收养的。”
- ② “听说你生父病了？”“与我无关，我已经被叔叔收养了。”
- ③ “爸，大学催缴学杂费了。”“你都成年了，自己挣钱交去。”
- ④ “爸，小学催缴生活费了。”“我与你妈都离婚了，找她要去。”
- A. ①③          B. ①④          C. ②③          D. ②④
15. 关于受伤后的紧急处理措施错误的是（ ）
- A. 被铁钉、针等扎伤后应立即压迫止血并应用无菌纱布包扎
- B. 轻微烫伤、烧伤后用冷水冲洗，切忌涂抹牙膏等
- C. 脚踝扭伤后应尽快冰敷，缓解疼痛，避免水肿
- D. 皮肤表面擦伤应使用清水冲洗后涂抹碘伏，切忌使用酒精

## 第二部分 言语理解与表达

（共 30 题，参考时间 25 分钟）

本部分主要考查考生对语言文字的理解和驾驭能力。这种能力包括对词、句子、短文一般意思和特定意思的理解；对比较复杂的概念和观点的准确理解，根据上下文，合理推断句子隐含的内容，准确地辨明句义。

16. 从十九大到二十大，是“两个一百年”奋斗目标的历史交汇期。我们既要全面建成小康社会、实现第一个百年奋斗目标，又要\_\_\_\_\_开启全面建设社会主义现代化国家新征程，向第二个百年奋斗目标进军。

填入画线部分最恰当的一项是（ ）。

- A. 乘势而上            B. 迎难而上            C. 一鼓作气            D. 中流击水

17. 应该承认，好读书这个习惯的养成是很重要的。\_\_\_\_\_根本不读书或者不喜欢读书，\_\_\_\_\_，说什么求甚解\_\_\_\_\_不求甚解都毫无意义了。\_\_\_\_\_不读书就不了解什么知识，不喜欢读也就不能用心去了解书中的道理。

填入横线最恰当的一项是（ ）。

- A. 然而 尽管 和 因为            B. 要是 那么 和 如果  
C. 但是 尽管 或 如果            D. 如果 那么 或 因为

18. 现在，全球工业产业和农产品的成本逐年下降，而中国工业产品和农业产品的成本逐年上升，我们要格外加强往来交流，引进更先进的技术和管理，\_\_\_\_\_这个态势。

填入横线最恰当的一项是（ ）。

- A. 转变            B. 扭转            C. 改变            D. 挽回

19. 在现今国际竞争格局中，一个国家的综合竞争力也取决于是否有若干个综合经济实力强大的\_\_\_\_\_或城市群，它们是一国国民经济的\_\_\_\_\_，代表国家参与国际竞争\_\_\_\_\_周边乃至全国经济的增长。

填入画线部分最恰当的一项是（ ）。

- A. 地区 晴雨表 推动            B. 地域 风向标 撬动  
C. 区域 制高点 带动            D. 区位 领头羊 启动

20. 高考是多年求学的检验，也是人生的一个起点，这些\_\_\_\_\_的“状元”能否成为栋梁之才，靠的是此后不懈的努力。但只要育人机制与用人机制之间的衔接通道没有彻底建立起来，这种众声喧哗的乱象还是会存在。

填入画线部分最恰当的一项是（ ）。

- A. 凤毛麟角            B. 形形色色  
C. 屈指可数            D. 不一而足

21. 昆曲是国粹、是文化遗产，对大多数人而言，不过是“阳春白雪”，很多人没有品尝过\_\_\_\_\_的昆曲，但是由昆曲演化而来的京剧，倒是\_\_\_\_\_。

填入画线部分最恰当的一项是（ ）。

- A. 原汁原味 家喻户晓                      B. 古色古香 众所周知  
C. 唱作俱佳 耳熟能详                      D. 别具一格 屡见不鲜

22. 持续走热的中国留学市场对任何一个留学目的国而言都是巨大的诱惑，这从每次教育发展的参展国家和院校数量就\_\_\_\_\_。

填入划横线部分最恰当的一项是（ ）。

- A. 管窥蠡测                                      B. 一孔之见  
C. 可见一斑                                      D. 管中窥豹

23. 在积贫积弱的旧中国，中国人的“强国梦”成为一种\_\_\_\_\_的集体意识，无数追梦人为之抛头洒血。新中国的成立，终于使“强国梦”有了实现的坚实基础，使个体梦想找到了归属和\_\_\_\_\_。

填入划横线部分最恰当的一项是（ ）。

- A. 自发 寄托                                      B. 悲壮 依托  
C. 崇高 庇护                                      D. 朴素 慰藉

24. 情人不仅是情人，还是“神探福尔摩斯”：对方一有任何出轨的\_\_\_\_\_，一定会暗暗留心，或者当面\_\_\_\_\_。怪不得现在的爱情类书籍中，都有这样一条“忠告”：在女朋友或者妻子面前，切不可称赞其他的女人，在男朋友或者丈夫面前，切不可赞扬其他的男人！

填入划横线部分最恰当的一项是（ ）。

- A. 现象 询问                                      B. 表象 疑问  
C. 迹象 质问                                      D. 现象 质问

25. 大脑是体内最依赖葡萄糖的器官，在大部分时间里，大脑选择使用葡萄糖为其\_\_\_\_\_能量。

填入划横线部分最恰当的一项是（ ）。

- A. 增加    B. 分解  
C. 转变    D. 提供

26. 近些年来，各种先进隐形飞机和隐形战舰争奇斗艳。反隐形技术也水涨船高，何为反隐形技术？如果隐形武器是通过改进设计和使用隐形材料以免被敌方发现，出其不意的攻击并取得最大战果，那么反隐形技术就是破除其隐形功能的克星，可使美国 F-22、欧洲神经元及隐形战舰无处藏身。

这段文字旨在说明（ ）。

- A. 隐形技术的发展促进了反隐形技术的进步
- B. 近年来反隐形技术发展十分迅速
- C. 反隐形技术能取得出其不意的效果
- D. 什么是反隐形技术

27. 史前农业的发展使一部分劳动力可以脱离农业生产，专门从事手工业生产，促进了手工业发展。农业和手工业剩余产品的出现使不同氏族部落之间的产品交换成为可能，于是出现了最早的贸易，贸易的发展又促进了文化的交流。史前农业的发展导致剩余产品增加，使一部分成员可以脱离农业劳动，专门从事祭祀活动等事务，促进了社会分工的出现。社会分工又进一步导致了阶层分化和贫富分化，推动人类社会向新的社会形态演化。

这段话主要说明了（ ）。

- A. 史前农业发展在文明形成中的作用
- B. 史前农业发展的状况
- C. 史前农业发展对手工业、贸易发展的影响
- D. 史前农业发展推动人类社会向新的社会形态演化

28. 一方面，构建社会主义核心价值体系是对中国传统优秀文化的继承与升华；另一方面，中国传统文化与社会主义核心价值观是“源”和“流”的关系，中国传统文化蕴涵的独特价值体系是社会主义核心价值观的重要思想资源。

这段文字主要说明了（ ）。

- A. 社会主义核心价值体系是对中国传统优秀文化的继承与升华
- B. 中国传统文化与社会主义核心价值观是“源”和“流”的关系
- C. 中国传统文化与社会主义核心价值观是一种双向的互动融通
- D. 中国传统文化是社会主义核心价值观的思想资源

29. “万物互联的世界，一切似乎都可化为连线、计算、识别码、无线射频技术和分布式网络，主客体的关系和边界在悄然发生变化，当丢失的物品可以自主呼叫主人，窗户能感知风暴而自行关闭，厨房里的食物拥有可追踪的识别码，冰箱可以发出续订牛奶的订单……一个人与物彼此嵌入的世界，更需要高扬‘人’的主体地位，避免哲学家警示的机器的生命化和生命的机器化”，让人工智能符合人类价值观，服务于人类，服务于人类社会和经济的发展。



上述文字意在强调（ ）。

- A. “智慧社会”需要构建人机协同的新型人机关系和人机伦理
- B. 企业应不断拓宽人工智能的应用领域，让人工智能更好服务美好生活
- C. “智慧社会”需要建立健全保障人工智能健康发展的法律法规、制度体系
- D. 在人工智能的研发和应用中、需要把持住以人类价值观为导向的方法论

30. 唐代开元盛世，玄宗却丧失进取心，骄傲怠惰、沉溺享乐，终至“安史之乱”；清朝康乾盛世，朝野却扬扬得意于文治武功，奢靡腐化、放松吏治，转而走向嘉道中落。一个国家，一个社会、一个组织，生存和发展最主要的威胁，往往不是突如其来的重大灾难与变故，而恰恰是那些不易察觉、缓慢积累起来的倦怠与松懈。

这段文字意在强调（ ）。

- A. “安史之乱”的历史原因
- B. “嘉道中落”的历史原因
- C. 重大的灾难与变故不会成胁国家、社会、组织的生存与发展
- D. 国家、社会、组织的生存和发展应防范倦怠与松懈

31. 为了推进党的建设伟大工程，建党初期极力革除党内思想组织作风不纯的问题，土地革命时期极力祛除党内“左”右两方面错误思想的干扰，延安时期极力消除主观主义，宗派主义与党八股的消极影响，新中国成立后毛泽东要求全党继续保持“过去革命战争时期的那么一股劲，那么一股革命热情，那么一种拼命精神，把革命工作做到底”。

这段文字意在说明（ ）。

- A. 迫切需要进一步推进党的建设伟大工程
- B. 党的历史就是勇于自我革命从严管党治党的历史
- C. 勇于自我革命从严管党治党具有重要的历史和现实意义
- D. 坚持从严治党必须要勇于自我革命

32. \_\_\_\_\_。今天，我国扶贫事业取得了历史性的成就，但也要看到，越往后遇到的越是难啃的硬骨头，任务十分艰巨。

填入横线部分最恰当的一项是（ ）

- A. 山雨欲来风满楼
- B. 行百里者半九十
- C. 小不忍则乱大谋
- D. 近水楼台先得月

33. ①许多人希望能延缓机器人普及的过程，以减少失去工作机会的可能性。



②盖茨的欧洲同行们却没有这么大气，他们以征税将阻碍创新为由，游说欧洲议会拒绝了对机器人立法征税。

③他主张对使用机器人的公司征税，用这些税收来帮助因机器人失去工作的人们获得新工作。

④盖茨颇有一点自我革命的勇气，因为地球人都知道他一手创建的微软公司正是引领全球人工智能研发的少数几家大公司之一。

⑤比尔·盖茨就是其中一员。

⑥在生产领域，机器人确实带来了更高的生产率，但也抢走了不少人的饭碗。

将上述 6 个句子重新排序，语序正确的是（ ）

A. ③⑥①⑤④②

B. ⑥⑤③①②④

C. ⑤③⑥②①④

D. ⑥①⑤③④②

34. ①每每我从树下踩着脱落的花瓣，总忍不住会抬头仰望刺桐树

②刺桐树的枝桠参差，苍劲有力，把风轻云淡的天空分割得支离破碎

③刺桐花开的时候，它的叶子就落得精光，满树枝的尽是一簇簇的花骨朵

④你不能不相信，每一株刺桐树，在深邃的湛蓝中，都是一首撩拨人心的诗

⑤火一样的刺桐花俏立枝头，妩媚地燃烧，让我在一个个感伤的季节里，总能体会到一种熨贴的温暖

将以上 5 个句子重新排列，语序正确的一项是（ ）

A. ①②⑤③④

B. ③①②④⑤

C. ②④①⑤③

D. ⑤③④①②

35. 导盲犬是盲人出行、参与社会生活的重要工具。导盲犬对于盲人，相当于眼睛对于正常人，它可以快速、安全地引领主人躲避障碍物，根据指令完成动作及寻找目的地。可见，导盲犬为盲人引路的重要性不言而喻。然而，绝大多数时候，许多公共场合是不会接纳导盲犬的，盲人携导盲犬出行，屡屡遭遇上车难、住店难等尴尬。

这段文字接下来最有可能讲述的是（ ）。

A. 如何更有效地训练导盲犬

B. 导盲犬对于盲人的重要意义

C. 导盲犬引发的卫生及安全问题

D. 如何破除盲人携导盲犬出行的障碍

36. 群众的眼睛是雪亮的，但如果缺乏足够的引导和约束，这种“雪亮”有可能变成一种偏执，一种没有方向的自负。而建立在“多数人”压过“少数人”基础上的制度安排，很可能走进片面和偏狭的陷阱中。“上级”评议，官员面对的是“一个人”，“公众”评议，官员面对的是“一群人”，只有在“顶天”的压力和“立地”的责任互相补充下才能真正起到足够的监督作用。自上而下与自下而上的监督力量有机地结合，才可能在博弈中避免“一个人”的片面和“一群人”的片面。

这段文字旨在说明（ ）。

- A. 质疑群众评议的合理性
- B. 如何对官员进行有效的监督
- B. 群众的意志要得到合理的引导和约束
- D. 怎样在群众和上级间达到平衡

37. 第一次产业革命以来，世界技术和经济中心从英国转移到德国，再转移到北美，无不是依靠技术创新实现技术跨越的结果。第二次世界大战之后，日本大量吸收西方先进技术，并实施反向工程，向国际市场推出有竞争力的产品，从而实现了针对欧美的技术和经济赶超。到了20世纪80年代后期，日本在不少技术领域赶上或超过了美国，并成为世界第二经济大国。

这段话主要论述的是（ ）。

- A. 历史证明技术跨越是后进国家追赶先进国家的必由之路
- B. 日本依靠吸收西方的先进技术成为世界第二经济大国
- C. 技术跨越策略已经越来越受到国际机构的重视
- D. 先进国家需要开展自主创新来实现技术的发展以确立其强国地位

38. 人们通过展示消费品来影响别人对自己的看法，在特殊情境中甚至会加强这种个性表达，使得自己的行为像一种自我保护的安全毯。比如，1976年有实验结果表明，那些根据自己的喜好精心装点宿舍的学生，辍学的可能性更小。这个消费过程能够保护自我不被陌生环境影响。

这段文字意在说明（ ）。

- A. 消费品展示容易让人们获得满足感
- B. 消费品展示容易让人们获得安全感
- C. 消费品展示容易让人们获得自我认同感

D. 消费品展示容易让人们获得成就感

39. 根据美国科技博客 VentureBeat 报道，谷歌的聊天机器人分析平台 Chatbase 在 I/O 大会上安静地登场后，该公司宣布现在向所有人开放。谷歌并不是机器人分析领域的唯一一家，他的竞争对手包括 Dashbot, Botanalytics, BotMetrics, Manner 等。但谷歌的优势之一在于 GoogleAnalytics，它是移动和网站开发人员的顶级分析工具之一。Chatbase 的团队负责人 Ronen 说，除了可以跟踪大量事物之外，Chatbot 的机器学习功能还可以在竞争中发挥作用，聚集“类似有问题的用户消息”。他说，举例来说，就是寻找和解决“错失”，或者是开发者最初不期望的行动替代措施。

这段文字主要告诉我们（ ）。

- A. 谷歌的聊天机器人分析平台 Chatbase 的竞争对手很强大
- B. GoogleAnalytics 是移动和网站开发人员的顶级分析工具
- C. 谷歌的聊天机器人分析平台 Chatbase 的竞争优势和特点
- D. 谷歌的聊天机器人分析平台 Chatbase 能寻找和解决“错失”

40. 寺庙有名或无名，一般是以香客的多寡，香火的旺衰来判断。但寒山寺因诗出名，照例说应该保持清幽的诗意，寺庙中经年只有几个和尚，在闭扫落叶，清煮茗茶。可现实中的寒山寺，由于城市的扩建，已不再地处郊外，早与闹市杂合了。慕名而来的芸芸众生，不远千里赶来，把大把大把的檀香投入香炉，以求升官发财，福泽世代。殊不知寒山寺仅仅是失意文人参悟浮世苦味之地，前来寒山寺应该是乞求解脱功利，皈依清苦，而不是现在的这样啊！

对这段文字的主旨概括最准确的是（ ）。

- A. 原来的寒山寺与现在的寒山寺的差异
- B. 现在的寒山寺已成为众生祈求升官发财和福泽世代的方
- C. 揭露寒山寺曾经的功用——失意文人参悟浮世苦味之地
- D. 作者由寒山寺地理位置、功用的变化而引发的喟叹

**阅读以下材料，回答 41-45 题。**

翻阅我国传统的典籍可以发现，“法治”一词很早就出现了。从这些古代典籍对“法”的论断中，可以看出，我国从法产生的初始阶段，提到法，即与“刑”“罚”相关，注重的就是法的约束和惩治作用，而非侧重于它的保障和促进作用。

历史上的法家，基于对这样的“法”的认识，基于对人性恶的认识，提出的“法治”

的一整套国家治理方式，终究是君王统治约束臣民的工具。这样的“法治”，虽也有“刑过不避大臣，赏善不遗匹夫”（韩非子），“同功者，同赏；同罪者，同罚”（管仲），“王子犯法与庶民同罪”（商鞅）的公平与正义，但仍不入人心。

一向推崇忠恕与仁爱的中华民族，对法治是心存避讳的。百姓在内心深处仍然寄希望于“青天大老爷”主持公道，而不是依赖于统治阶层所颁布的法律。“青天大老爷”折射出的传统文化心理，也正是贤人政治的典型体现。也正因如此，我国的“法治”常被“人治”所代替，也因此多受诟病。

中国当前守法现状，仍处在源于功利主义和恐惧惩戒的阶段，还远未达到更高层级的法治信仰。提到“法”，多的是内心的畏惧，少的是信仰上的遵从。很多人面对规则制度首先想到的不是去遵守而是去突破。在中国这样一个由“礼不下庶人、刑不上大夫”的封建等级社会一步步走来的国度，能够实现由“人治”向“法治”的转变，还有漫长的路。

法律的权威源自人民内心拥护和真诚信仰。人民权益要靠法律保障，法律权威要靠人民维护。必须弘扬社会主义法治精神，建设社会主义法治文化，增强全社会厉行法治的积极性和主动性，形成守法光荣、违法可耻社会氛围，使全体人民都成为社会主义法治的忠实崇尚者、自觉遵守者、坚定捍卫者。

这是直接从中国民众思想最深处切入，是对中国传统法治思想进行精准号脉之后开出的药方。让法治成为信仰，这是从最根本上行法治的途径。这一美好愿景的实现，固然需要国家机器的体系化运行，更需要每个公民思想深处对法治进行深度思索。对于当代中国来说，社会主义法治化的实现，将是一个“换了人间”的新气象。

先秦法家集大成者韩非子曾有过这样的论断：“国无常强，无常弱。奉法者强，则国强；奉法者弱，则国弱。”其本意就是，一个国家的强弱富贫不是\_\_\_\_\_的。如果奉行法治，国家就会富强；如果背弃法治，国家就会贫弱。坚持法治，是我们实现强国之梦的重要保障。

41. 下列表述，不符合文意的一项是（ ）

- A. 历史上的法家很早就提出了“法治”的主张，但却一直难入人心
- B. 法家认为人性本恶，法的作用应该是对种种恶行进行约束和惩治
- C. 中华文化讲究忠恕与仁爱，相比“法治”，中国人更崇尚贤人政治
- D. 中国古代的法治并非为保证公平和正义，百姓也不相信它能替自己主持公道

42. 下列对文章内容的理解，不正确的一项是（ ）



A.90      B.96      C.102      D.120

48. 1, 8, 20, 42, 79, ( )

A.126      B.128      C.132      D.136

49. 1, 4, 14, 31, 55, ( )。

A.83      B.84      C.85      D.86

50. 9, 10, 65, 26, 217, ( )

A.289      B.89      C.64      D.50

51. 11, 8, -1, -28, ( )

A. 54      B. -84      C. -102      D. -109

52. 3.2, 8.6, 15.12, 24.20, 35.30 ( )

A. 42.42      B. 48.42      C. 42.56      D. 48.56

53. 1, 2, 6, 24, ( )

A. 56      B. 120      C. 96      D. 72

54. 2 13 4 17 6 ( )

A. 8      B. 10      C. 19      D. 12

55. 11, 12, 15, 20, 27, ( )

A. 32      B. 34      C. 36      D. 38

二、数学运算。在这部分试题中，每道题呈现一段表述数字关系的文字，要求你迅速、准确的计算出答案。

56. 某老年大学共有学员 47 人，其中 37 人学习围棋，35 人学习写作，43 人学习唱歌，39 人学习跳舞，问大学里至少有多少人同时学习以上四项课程？ ( )

A. 11      B. 12      C. 13      D. 14

57. 两个车站有若干个站台，两两之间采用不同的票，后来又增加几个站台，增加了 26 种票，问两个车站之间一共有几个站台？ ( )

A. 8      B. 7      C. 6      D. 4

58. 已知篮球、足球、排球平均每个 36 元。篮球比排球每个多 10 元，足球比排球每个多 8 元，每个足球为 ( ) 元。

A. 48      B. 40      C. 38      D. 30

59. 有一队伍以 1.4 米/秒的速度行军，末尾有一通讯员因事要通知排头，于是以 2.6 米



/秒的速度从末尾赶到排头并立即返回排尾，共用了 10 分 50 秒。问队伍有（ ）米？

A. 400 B. 500 C. 600 D. 700

60. 一个水池，当水池满时，打开 A 排水管，10 小时可以排空；打开 B 排水管，12 小时可以排空，打开 C 排水管，可以 6 小时排空；那么同时打开 B、C 两管，将水池排空需要（ ）小时。

A. 4 B. 5 C. 6 D. 7

61. 某果农售卖 40 筐水果，卖出一筐将盈利 600 元，滞销一筐将损失 200 元，最后果农共获利 20000 元，则果农共卖出（ ）筐水果。

A. 19 B. 35 C. 28 D. 21

62. 有 2、3、4、5、6 五个数字，用这五个数字组成不同的五位数，要求相邻两位数字的乘积必须是偶数，那么符合条件的有多少个数？（ ）

A. 36 B. 48 C. 72 D. 120

63. 现有 83 个包裹要分给 5 个快递员派送，如果每名快递员需配送的包裹数量都不相同，那么派送包裹最多的人至少可以得到多少包裹？（ ）

A. 16 B. 17 C. 18 D. 19

64. 用  $n$  个半径为 1 的圆形纸片平铺到一边长为 6 的正方形桌面上，纸片之间不得有重叠覆盖，如果被覆盖的面积达到最大值，则未被覆盖的面积最小为多少？（ ）

A. 9 B.  $36-8\pi$  C. 13 D.  $36-9\pi$

65. 甲乙丙丁四个辩论赛队伍，参加辩论赛，要求每两个队伍都需要比赛一场，已知甲已经比赛了三场，乙已经比赛了两场，丙比赛了一场。问丁比赛了几场？（ ）

A. 1 B. 2 C. 3 D. 4

## 第四部分 判断推理

（共 20 题，参考时限 20 分钟）

一、类比推理。先给出一对相关的词。要求你在备选答案中找出一对与之逻辑关系最为贴切或相似的词。

66. 熟能：生巧

A. 积少：成多 B. 峰回：路转

C. 异想：天开 D. 安然：无恙



67. 秋裤：棉袄

- A. 内衣：袜子    B. 衬衣：领带  
C. 内裤：羽绒服    D. 皮鞋：棉裤

68. 笔墨纸砚：琴棋书画

- A. 喜怒哀乐：海市蜃楼    B. 滔滔不绝：青红皂白  
C. 亭台楼阁：花鸟虫鱼    D. 抑扬顿挫：袖手旁观

69. 东西：南北

- A. 春夏：秋冬    B. 古今：中外  
C. 长短：高低    D. 黑白：明暗

70. 少先队员：中小學生

- A. 内蒙古：东北地区    B. 黑色：彩色  
C. 蜜蜂：昆虫    D. 书籍：课本

71. 事业：顺利

- A. 墙壁：依靠    B. 电脑：方便  
C. 梦想：美好    D. 家人：陪伴

72. 商场：购物

- A. 邮局：邮票    B. 学校：清扫  
C. 马路：铺设    D. 教室：学习

73. 干净：一尘不染

- A. 紧急：迫在眉睫    B. 了解：不求甚解  
C. 小气：吹毛求疵    D. 美丽：空谷幽兰

74. 啼笑皆非：哭笑不得

- A. 差强人意：非常满意    B. 一石二鸟：敲锣打鼓  
C. 摩肩接踵：门可罗雀    D. 家徒四壁：一贫如洗

75. 冰箱 对于 ( ) 相当于化妆 对于 ( )

- A. 制冷 修眉    B. 空调 护肤品  
C. 储存 美丽    D. 地窖 卸妆

二、演绎推理题，每道题给出一段陈述，这段陈述被假设是正确的，不容置疑的，要求你根据这段陈述，选择一个答案。注意，正确的答案应与所绘的陈述相符合，不需要任

何附加说明即可从陈述中直接推出。

76. 随着越来越多“零排放”汽车走向市场，未来空气中源于汽车尾气的污染将逐渐减少，但科研人员担心另一种污染依然没有减轻的迹象，那就是汽车刹车时因摩擦而产生的金属微粒在空气中造成的污染。车辆在刹车时，因刹车片、轮胎等部位的摩擦，会产生铜、铁和锰等金属微粒，这些金属微粒会与空气中的酸性硫酸盐反应，从而更易对身体造成危害。

下列哪项如果为真，最能质疑以上观点（ ）。

- A. 这些金属微粒不易溶于水，难以进入机体组织内部
- B. 汽车只有速度较快时刹车才会产生金属颗粒
- C. 汽车尾气的污染减少对人体造成的危害减小
- D. 这些金属微粒和汽车尾气都能对人体造成危害

77. 网购因其商品丰富性、购买便捷性等属性，已经成为时下最为流行的购物方式，占据消费市场的比重逐年上升。但一些消费者认为网购商品的质量难以得到直观的观察从而得不到有效保障，因而不怎么在网上购买商品。

以下各项如果为真，最能质疑上述消费者观点的是（ ）。

- A. 网购商品的实物和商品介绍的图片并无太大差异
- B. 网上商家销售的商品都符合国家的质量要求和规定
- C. 网上购物可以节省一系列费用，可以购买到物美价廉的商品
- D. 可以通过查看购买评价获取商家的产品质量信息

78. 人的思维和行动包含着某种创造性，而马戏团的动物大多数行为都是由人事先训练好的，因此大多数马戏团的动物不可能拥有人所具有的创造性。

补充（ ），将会最强有力地支持题干中的推理。

- A. 人能够训练出模拟人创造性的动物
- B. 马戏团的动物能够像人一样具有学习功能
- C. 若经过长期训练，马戏团的动物是否会变得比人聪明，是很难说的一件事
- D. 马戏团的动物不能模拟人的创造性

79. 如果小李考试及格并且大周考试不及格，则小娜考试一定不及格。如果以上命题是真的，那么再加上下面哪个前提，可以得出结论：大周考试及格了？（ ）

- A. 小李考试及格而小娜考试不及格

- B. 小李和小娜考试都不及格
- C. 小李考试不及格而小娜考试及格
- D. 小李与小娜考试都及格了

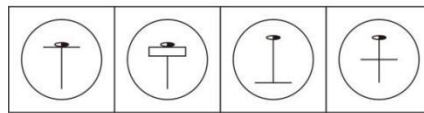
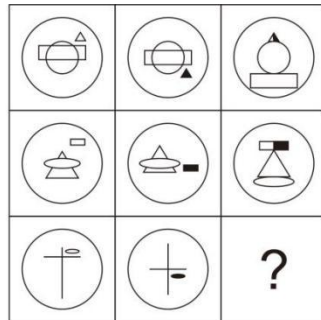
80. 雾霾天气的多发与程度的加重，对人的身体健康产生了十分不利的影响，特别是对儿童和老人。因此一些环保人士提议学校和养老院应该安装空气净化装置，确保空气质量。但有些机构提出反对，认为学校和养老院可能不太适合安装空气净化装置。

以下各项如果为真，最能支持机构观点的是（ ）。

- A. 人多、空间较大的场所安装设备后并无太大效果
- B. 空气净化装置目前还没有统一的生产标准
- C. 安装设备会极大地增加能源消耗从而不利于节能减排
- D. 安装设备后仍然需要进行定期的室内通风

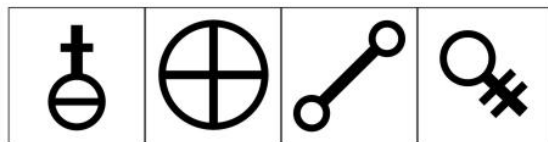
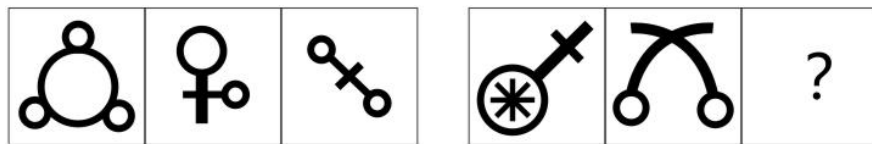
三、图形推理。请按照每道题的答题要求作答。

81. 从所给选项中，选择最适合的一个填入问好处，使之呈现一定的规律性（ ）。



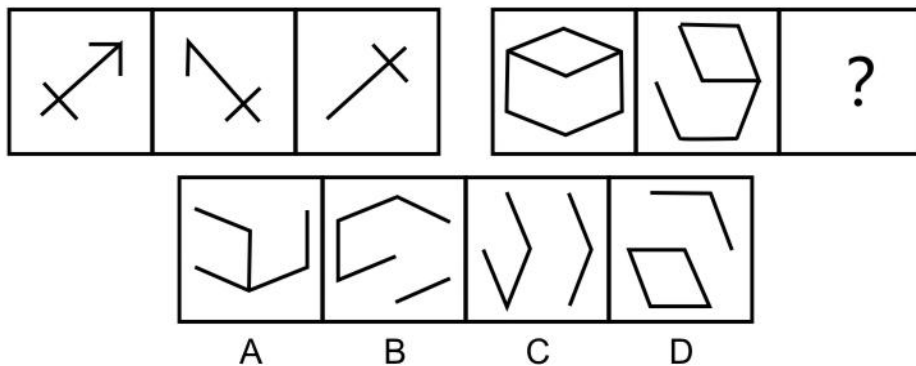
A B C D

82. 从所给选项中，选择最适合的一个填入问好处，使之呈现一定的规律性（ ）。

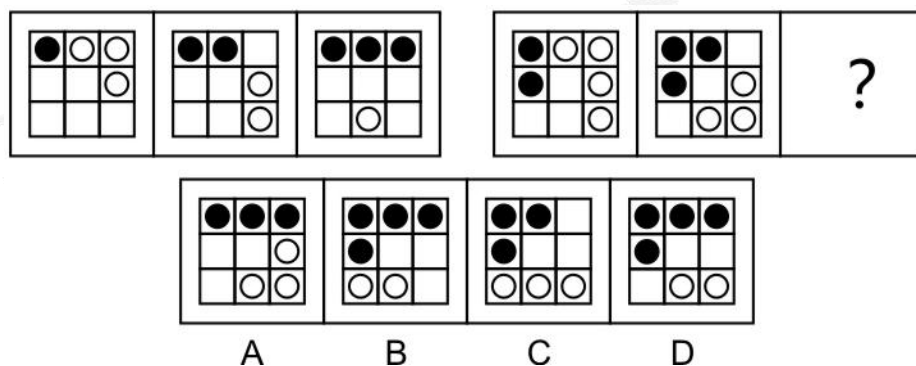


A B C D

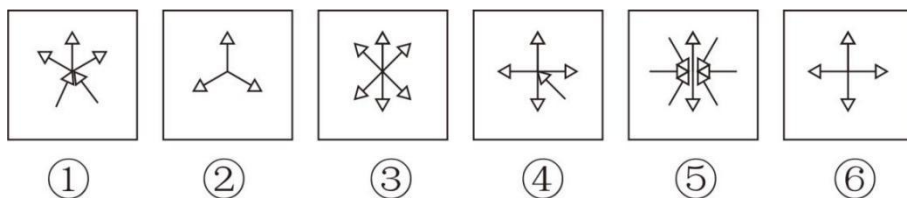
83. 从所给选项中，选择最适合的一个填入问好处，使之呈现一定的规律性（ ）。



84. 从所给选项中，选择最适合的一个填入问好处，使之呈现一定的规律性（ ）。



85. 把下面的六个图形分为两类，使每一类图形都有各自的共同特征或规律，分类正确的一项是：（ ）。



- A. ①②③, ④⑤⑥    B. ①③⑥, ②④⑤  
C. ①②⑥, ③④⑤    D. ①④⑤, ②③⑥

## 第五部分 资料分析

(共 15 题，参考时限 15 分钟)

所给出的图、表、文字或综合性资料均有若干个问题要求你回答，你应根据资料提供的信息进行分析、比较、计算和判断处理，在四个选项中选择出一个正确的答案。

一、根据下列资料，回答 86-90 题。

2018 年 1-2 月，A 市经济运行态势平稳，具体情况如下：

一、工业生产情况

1-2月，规模以上工业增加值比上年同期增长8.1%。按轻重工业分，轻工业增长16.7%；重工业增长3.3%。国有及国有控股企业增长7.9%。八大特色优势产业增长7.2%，其中汽车产业下降7.5%，电子信息产业增长4.2%。

## 二、固定资产投资情况

1-2月，固定资产投资完成879.9亿元，同口径同比增长10.5%。其中，房地产开发投资完成291.4亿元，比上年同期下降11.8%。天府新区项目投资（天府新区成都）216.1亿元，同口径同比增长8.5%。从经济类型看，国有经济投资227.4亿元，同口径同比增长37.6%；非国有经济投资652.5亿元，同口径同比增长3.5%，其中民间投资完成47亿元，同口径同比下降2.9%。

## 三、消费品市场情况

1-2月，社会消费品零售总额实现1080.8亿元，比上年同期增长11.9%。按经营单位所在地分，城镇消费品零售额1048.5亿元，比上年同期增长11.8%；乡村消费品零售额32.3亿元，比上年同期增长12.9%。按消费形态分，餐饮收入实现126.4亿元，比上年同期增长12.3%；商品零售实现954.5亿元，比上年同期增长11.8%。居民消费价格总指数为101.5。

## 四、财政、金融情况

1-2月，一般公共预算收入完成253.4亿元，比上年同期增长15.9%。其中，税收收入完成200.2亿元，增长20.2%；一般公共预算支出完成171.4亿元，比上年同期增长12.1%。截止2月底，金融机构人民币存款余额为35021亿元，比上年同期增长3.7%。其中，住户存款余额12592亿元，增长6.9%。金融机构人民币贷款余额为29053亿元，比上年同期增长11.0%，其中，个人住房贷款余额5521亿元，增长14.2%。

86. 2017年1-2月，A市固定资产投资约完成（ ）亿元。

A. 818 B. 803 C. 796 D. 972

87. 2018年1-2月，A市城镇消费品零售额同比增速较乡村（ ）。

A. 低1.1个百分点 B. 高1.1个百分点  
C. 低0.5个百分点 D. 高0.5个百分点

88. 按当前同比增速计算，A市2020年1-2月一般公共预算中税收收入将达到约（ ）亿元。

A. 167 B. 240 C. 280 D. 290

89. 2018年1-2月，A市外贸总体情况表现为（ ）。

- A. 顺差                  B. 逆差                  C. 国际收支平衡                  D. 不能确定

90. 根据上述资料，得知以下说法正确的有( )个。

- (1) 2018年1到2月，A市规模以上工业增加值重工业低于轻工业  
 (2) 2018年1到2月，A市非国有经济投资同比增速下降  
 (3) 2018年1到2月，A市金融机构人民币贷款余额高于存款余额

- A. 0                  B. 1                  C. 2                  D. 3

二、根据下列材料回答 91-95 题。

2017年7~12月某公司A产品销售数据统计表

月份	销售数量(件)	销售金额(元)	销量同比(%)	金额同比(%)
7月	72	2594	20.4	40.1
8月	56	2005	18.3	19.5
9月	98	3421	-21.2	26.9
10月	101	3560	12.8	22.4
11月	98	3269	5.0	7.2
12月	91	2935	1.8	-3.8

91. 2017年下半年，该公司A产品月均销售金额为( )元。

- A. 2713                  B. 2964                  C. 2717                  D. 2968

92. 2016年11月，该公司A产品的平均销售价格约为( )。

- A. 25元/件                  B. 30元/件                  C. 33元/件                  D. 47元/件

93. 2017年下半年，该公司A产品销售金额同比变化幅度最小的月份是( )。

- A. 12月                  B. 11月                  C. 10月                  D. 9月

94. 2017年下半年，该公司A产品销售数量较去年同期增长不到15%的月份有( )。

- A. 2个                  B. 3个                  C. 4个                  D. 5个

95. 2017年10月，该公司A产品销售金额较同年7月多( )。

- A. 25.1%                  B. 29.4%                  C. 32.8%                  D. 37.2%

三、根据下列材料回答 96-100 题。

2016年某省种植业结构继续调整，粮食作物的种植面积占农作物种植总面积比例由上年的60.2%调整为58.4%，全年粮食作物种植面积147.11万公顷，比去年减少9.0万公顷，

粮食总产量 713.16 万吨。与去年相比，春粮减产 5.31 万吨，夏粮减产 2.37 万吨，秋粮减产 42.38 万吨，总产量下降 50.06 万吨。非粮食作物中，油料、蔬菜、药材种植面积分别增长 1.3%、3.0%和 15.9%；烟叶和甘蔗种植面积分别减少 8.7%和 1.1%；蔬菜、瓜果、油料、甘蔗等产量均有不同程度的增长。

96. 2016 年，非粮食作物种植面积增长率最大的是（ ）。

A. 油料            B. 蔬菜            C. 药材            D. 烟叶

97. 2016 年，非粮食作物种植面积占农作物种植总面积比重为（ ）。

A. 41.6%            B. 58.4%            C. 42.6%            D. 43.6%

98. 2015 年非粮食作物的种植总面积约为（ ）。

A. 62 万公顷            B. 156 万公顷            C. 138 万公顷            D. 103 万公顷

99. 2015 年，粮食亩产量约为（ ）。

A. 4.85 万吨            B. 4.89 万吨            C. 4.91 万吨            D. 4.98 万吨

100. 利用以上图文提供的信息，通过计算可以得出的有（ ）个。

- ①2015 年粮食作物的亩产量
- ②2015 年烟叶和甘蔗的种植面积
- ③2016 年春、夏、秋粮的实际产量
- ④2016 年油料、蔬菜、药材的产量增长的百分比

A. 1            B. 2            C. 3            D. 0



(添加华图小姐姐微信领取答案)