

2019 年闻喜事业单位笔试【公基+行测】

公共基础知识

1. 中国银联发布最新春节消费数据, 2019 年春节假日期间(2 月 4 日至 2 月 10 日, 除夕至初六), 银联网络交易再创春节长假历史新高, 交易总金额____突破万亿级, 达 1.16 万亿元, 较去年同期(除夕至初六)增长 71.4%。()

- A. 第四次 B. 第三次 C. 第二次 D. 首次

【答案】D

【解析】略

2. 数据显示, 截至 2015 年底, 山西省煤层气累计探明地质储量约占全国 88%。去年, 山西省全年煤层气地面抽采量占到全国____以上。()

- A. 90% B. 95% C. 98% D. 80%

【答案】A

【解析】略

3. 不久前, 研究人员发现, 把健康成年小鼠置于黑暗中一周后, 它们辨别音高的能力也可显著提高。此前, 科学界通常认为这种变化主要发生在幼年阶段, 且需要更长的时间。

这表明____()

- ①科学的价值在于造福社会 ②认识与实践的统一是具体的历史的
③真理具有反复性和相对性 ④认识的真理性的需要不断经受实践的检验

- A. ①② B. ③④ C. ①③ D. ②④

【答案】D

【解析】②④选项观点正确且符合题意, 研究人员通过试验证明以前科学界通常认为的观点是错误的, 说明认识与实践的统一是具体的历史的, 同时说明认识的真理性的需要不断经受实践的检验, 故入选。①选项观点与题意不符, 题中没有涉及科学的价值在于造福社会, 而是强调通过实践获得真理性的认识, 故排除。③选项观点错误, 认识具有反复性, 真理不具有反复性, 真理具有具体性, 没有相对性, 故排除。

4. 古语云: 善不积不足以成名, 恶不积不足以灭身。这句话蕴涵的道理有____()

- ①善与恶相互对立 ②善与恶在一定条件下相互转化

上岸地址: 盐湖区中银大道福瑞特超市对面华图教育 7 层

上岸热线: 0359-2625261

③成名、灭身各有相应的量变前提 ④善、恶的积累必导致相应的质变

A. ①② B. ③④ C. ①③ D. ②④

【答案】C

【解析】①③选项观点正确且符合题意，题中善与恶是一对矛盾，二者相互对立，同时题中强调善与恶的积累到一定程度都会发生质变，说明成名、灭身各有相应的量变前提，故入选。②选项观点与题意不符，题中强调善恶的积累都会最终导致质变的发生，而没有强调善恶在一定条件下相互转化，故排除。④选项观点错误，量变是质变的必要准备，质变是量变的必然结果，但不是有量的积累，必然有质变，故排除。

5. 从甲骨、金属直到数字化屏幕，每一次汉字载体的学科网变革都带来书写和阅读的巨大变化。这表明_____ ()

①读写技术的发展是波浪式前进的过程 ②物质资料的生产方式决定着社会的性质和面貌

③文字载体的变化对认识活动产生重要影响 ④知识的传播方式受制于生产力发展水平

A. ①② B. ③④ C. ②③ D. ①④

【答案】B

【解析】③④选项观点正确且符合题意，题中每一次汉字载体的变革都带来书写和阅读的巨大变化，说明文字载体的变化对认识活动产生重要影响，同时说明知识的传播方式受制于生产力发展水平，故入选。①②选项观点与题意不符，题中没有涉及事物发展波浪式前进的过程，也没有涉及物质资料生产方式决定社会的性质和面貌，故排除。

6. 习近平新时代中国特色社会主义经济思想，要求我们以最大的力度、更实的措施全面深化改革，扩大对外开放，贯彻新发展理念，推动经济高质量发展，建设现代化经济体系，不断增强我国经济实力、科技实力、综合国力，让社会主义市场经济的活力更加充分地展示出来。当前和今后一个时期确定发展思路、制定经济政策、实施宏观调控的根本要求是_____ ()

A. 推动高质量发展 B. 发展实体经济 C. 处置“僵尸企业” D. 发展共享经济

【答案】A

【解析】中央经济工作会议指出，推动高质量发展是当前和今后一个时期确定发展思路、制定经济政策、实施宏观调控的根本要求。

上岸地址：盐湖区中银大道福瑞特超市对面华图教育7层

上岸热线：0359-2625261

7. 习近平新时代中国特色社会主义思想内涵十分丰富，其中最重要、最核心的内容就是党的十九大报告概括的“八个明确”，其中明确中国特色社会主义制度的最大优势、中国特色社会主义最本质的特征是_____（ ）

- A. 共同富裕 B. 改革开放 C. 创新 D. 中国共产党领导

【答案】A

【解析】略

8. 习近平总书记在党的十九大报告中明确要求“打造共建共享的社会治理格局”。下列不属于社会治理措施的是_____（ ）

- A. 加强平安中国建设 B. 加强社区治理体系建设
C. 加强国家安全体系建设 D. 加强预防和化解社会矛盾机制建设

【答案】C

【解析】党的十九大报告指出：“健全国家安全体系，加强国家安全法治保障，提高防范和抵御安全风险能力。”加强国家安全体系建设属于维护国家安全的措施，而不是社会治理的措施。

9. 贯彻新发展理念，建设现代化经济体系，必须坚持质量第一，效益优先，推动经济发展质量变革，效率变革，动力变革，提高全要素生产率，其主线是_____（ ）

- A. 实施乡村振兴战略 B. 供给侧结构性改革 C. 实施创新驱动发展战略 D. 发展实体经济

【答案】B

【解析】习近平强调，我国经济已由高速增长阶段转向高质量发展阶段，正处在转变发展方式、优化经济结构、转换增长动力的攻关期，建设现代化经济体系是跨越关口的迫切要求和我国发展的战略目标。必须坚持质量第一、效益优先，以供给侧结构性改革为主线，推动经济发展质量变革、效率变革、动力变革，提高全要素生产率，着力加快建设实体经济、科技创新、现代金融、人力资源协同发展的产业体系，着力构建市场机制有效、微观主体有活力、宏观调控有度的经济体制，不断增强我国经济创新力和竞争力。

10. 中国特色社会主义进入新时代，在中华人民共和国发展史上、中华民族发展史上具有重大意义，在世界社会主义发展史上，人类社会发展史上也具有重大意义，中国特色社会主义进入新时代，意味着中国特色社会主义道路、理论、制度、文化不断发展，拓展了发展中国家走向现代化的途径，给世界上那些既希望加快发展又希望保持

上岸地址：盐湖区中银大道福瑞特超市对面华图教育7层

上岸热线：0359-2625261

自身独立性的国家和民族提供了全新选择,为解决人类问题贡献了中国智慧和中方方案,这主要是____ ()

- A. 从中华民族复兴的历史进程看 B. 从科学社会主义发展进程看
C. 从人类文明进程看 D. 从西方发达资本主义发展进程看

【答案】

【解析】

11. 邓小平指出,一个国家“要摆脱贫困,在经济政策和对外政策上都要立足于自己的实际,不要给自己设置障碍,不要孤立于世界之外,根据中国的经验,把自己孤立于世界之外是不利的”,这句话强调的是____ ()

- A. 改革是社会主义中国的强国之路 B. 对外开放是我国必须长期坚持的基本国策
C. 四项基本原则是立国之本 D. 社会主义建设必须以经济建设为中心

【答案】B

【解析】

12. “但愿苍生俱饱暖,不辞辛苦出山林”“些小吾曹州县吏,一枝一叶总关情”“但得众生皆得饱,不辞羸病卧残阳”这些名言体现古人的为官之道,中国共产党群众观点中与之相近的是____ ()

- A. 一切为了人民群众 B. 向人民群众学习 C. 一切依靠人民群众 D. 向人民群众负责

【答案】

【解析】

13. ____是由中国发起和主导建立的政府间性质的亚洲区域多边开发机构,成立宗旨是为了促进亚洲区域的建设互联互通化和经济一体化的进程,并且加强中国及其他亚洲国家和地区的合作。____ ()

- A. 亚太经合组织 B. 亚洲基础设施投资银行 C. 金砖国家 D. 东盟

【答案】B

【解析】略

14. 租客小赵经房东老张的同意,将自己所租的房子(租金 2000 元/月)其中的一个卧室以 800 元/月的价格租给小刘,小刘在租住期间,擅自拆除门窗造成了价值 10000 元的房屋损毁。据此,下列说法正确的是____ ()

- A. 小刘应向老张赔偿全部损失,但可向小赵追偿

- B. 小赵应向老张赔偿全部损失, 但可向小刘追偿
C. 小赵、小刘应分别赔偿老张 6000 元、4000 元
D. 小赵在支付 6000 元赔偿后, 可向小刘追偿

【答案】B

【解析】根据题干可知, 房东老张与小赵之间形成房屋租赁关系。经老张同意, 小赵将房屋转租给小刘。老张是出租人, 小赵是承租人, 小刘为第三人。根据《合同法》第二百二十四条的规定, 承租人经出租人同意, 可以将租赁物转租给第三人。承租人转租的, 承租人与出租人之间的租赁合同继续有效, 第三人对租赁物造成损失的, 承租人应当赔偿损失。题目中, 小刘在租住期间致使房屋毁损。因此, 承租人小赵应当向出租人老张承担赔偿责任。

因小刘也负有保管租赁物的义务, 并且是小刘的行为导致房屋损毁, 故小赵向老张赔偿全部损失后, 可以向小刘追偿。因此, 选择 B 选项。

15. 刘某偷得同事一张信用卡和身份证, 向女朋友黄某谎称在路上捡到的。刘某、黄某根据身份证号码试出信用卡密码, 持卡消费 5000 元, 关于刘某、黄某的行为, 下列说法正确的是____ ()

- A. 刘某和黄某均构成盗窃罪
B. 刘某和黄某均构成信用卡诈骗罪
C. 刘某构成盗窃罪, 黄某构成信用卡诈骗罪
D. 刘某构成信用卡诈骗罪, 黄某不构成犯罪

【答案】C

【解析】

16. 下列言行体现公民没有自觉履行法定义务的是____ ()

- ① “听说你养母病了?” “与我无关, 我是被收养的。”
② “听说你生父病了?” “与我无关, 我已经被叔叔收养了。”
③ “爸, 大学催缴学杂费了。” “你都成年了, 自己挣钱去。”
④ “爸, 小学催缴生活费了。” “我与你妈离婚了, 找她要去。”
A. ①③ B. ①④ C. ②③ D. ②④

【答案】B

【解析】本题侧重于民法内容的考察, ①项中我国收养法第二十三条规定: 自收养关系成立之日起, 养父母与养子女间的权利义务关系, 适用法律关于父母子女关系的规定, 子女成年后对于养父母同样具有赡养义务, 因此表述错误; ②项同样来自于收

养法第二十三条，养子女与生父母及其他近亲属间的权利义务关系，因收养关系的成立而消除；③项中根据我国民法规定，年满十八周岁的成年人属于完全民事行为能力人，父母可以不用支付继续教育费用；④项中小学阶段的未成年人属于无民事行为能力或者限制民事行为能力人，父母是有责任支付相应学费和生活费用的。因此本题不正确的应为①④，选 B 选项。

17. 张某为了要男孩，将妻子刚生下的生重病的女婴扔进河里淹死。张某应被定为犯有_____（ ）

- A. 过失杀人罪 B. 故意杀人罪 C. 遗弃罪 D. 虐待罪

【答案】B

【解析】遗弃罪和故意杀人罪的区别是：遗弃罪的行为人并不希望或者放任被害人死亡，只是不愿意履行扶养义务；而故意杀人罪的行为人则是希望或者放任被害人死亡。遗弃行为并不立即导致被害人死亡：而故意杀人行为则立即导致被害人死亡。本题中张某将生重病的女婴扔进河里淹死则是放任女婴死亡的行为，所以应当构成故意杀人罪。

18. 根据我国现有法律规定，下列最有可能被判处有期徒刑（实刑）的是_____（ ）

- A. 19 岁的周某持刀抢劫他人现金 10 元
B. 林某受人胁迫，首次偷窃就盗取了价值 400 元的食物
C. 王某精神病发作，在神志不清时赤手空拳地打伤无辜的路人
D. 张某为朋友担保，向他人无息借款 5 万元，在朋友无法偿还后也未还款

【答案】A

【解析】A 项正确。A 项中按照我国刑法第 263 条规定以暴力、胁迫或者其他方法抢劫公私财物的，处 3 年以上 10 年以下有期徒刑，并处罚金。周某已满 18 周岁，持刀抢劫，有可能被判处有期徒刑。

B 项中林某受人胁迫，首次盗窃盗取价值 400 元的食物。按照我国刑法第 28 规定：对于被胁迫参加犯罪的，应当按照他的犯罪情节减轻处罚或者免除处罚，林某有可能被免除处罚。

C 项王某精神病发作，在神志不清时赤手空拳打伤无辜的路人，按照我国刑法第 18 条第 1 款规定：精神病人在不能辨认或者控制自己行为的时候造成危害结果，经法定程序鉴定确定的，不负刑事责任。王某不负刑事责任。

D 项中张某涉及的是债务纠纷，不属于刑法调整的范围。

19. 下列行为构成盗窃罪的是____ ()。

- A. 张某无意间将李某埋藏在屋外树下的 10 万元现金挖出并占为己有, 拒不交出
- B. 胡某在任邮政局营业员期间, 盗取储户的存折密码, 然后冒充储户在存款凭单上签字, 盗取现金 40 余万元
- C. 张某在给客户维修网络的过程中, 获知该客户的网游账号和密码, 后张某和其朋友利用账号和密码在网吧玩游戏, 共消费 3000 余元
- D. 赵某意欲窃走丁某的手提包, 在其刚拿到手提包准备离开时, 被丁某发现, 丁某当即抓住她, 但因力气比较小, 最终手提包还是被赵某夺走

【答案】C

【解析】

20. 下列行为属于公民正确行使法定权利的是____ ()。

- ① 陈某向有关部门举报公交站旁的诈骗团伙
- ② 陈某将朋友送给他的手表又送给他的弟弟
- ③ 陈某在妻子中止妊娠后第四个月起诉离婚
- ④ 陈某应聘时因受到用人单位性别歧视而起诉至法院

A. ①②③ B. ①②④ C. ②③④ D. ①③④

【答案】B

【解析】根据我国婚姻法的相关规定, 女方在怀孕期间、分娩后 1 年内或中止妊娠后 6 个月内, 男方不得提出离婚。下列情形除外:

- ① 女方提出离婚;
- ② 人民法院认为确有必要受理男方离婚请求的。而张某在妻子中止妊娠 4 个月后提出, 则违反《婚姻法》此项规定, 故排除, 所以本题的正确选项为 B 选项。

21. 小明在图书馆大声说话, 有读者制止他时, 他却说: “这是我的权利和自由, 别人无权干涉” 关于上述观点的评价正确的是____ ()。

- ① 正确, 宪法规定公民有言论自由
- ② 错误, 公民的自由是在法律范围内的自由
- ③ 错误, 未经他人许可, 公民不得擅自行使权利
- ④ 错误, 世界上从来没有“绝对”的权利和自由

A. ①② B. ①③ C. ②③ D. ②④

【答案】D

【解析】本题考查宪法的相关知识，主要考查权利和自由。①错误，我国《宪法》第三十五条规定：“中华人民共和国公民有言论、出版、集会、结社、游行、示威的自由。”有言论自由并不等于不分场所的随意行使自己的权利，图书馆属于公共场所，禁止大声喧哗。选项表述正确，但不符合题意。②正确，我国公民言论、出版、集会、结社、游行、示威的自由，都必须在国家法律、法规规定的范围内行使，自由是相对的，而不是绝对的，自由要受法律的制约，自由和法律是统一的，法律是自由的体现和保证，自由要受法律的制约。③错误，公民有行使自己权利的自由，不需要经过任何人同意，但是，前提是行使自己的权利不得触犯法律，不得损害他人利益。图书馆内禁止大声喧哗，小明在行使自己权利时损害了他人的利益。④正确，没有绝对的权利和自由，任何权利和自由都是有条件的，都是受到一定限制的。任何权利和自由都是在法律许可的范围内行使，否则就会受到法律的制裁。行使权利和自由不得损害他人的合法权益。小明在图书馆大声喧哗，损害了他人的利益。因此，世界上不存在“绝对”的权利和自由。①③错误，②④正确。

22. 下列关于我国金融常识的说法正确的是____（ ）

- A. 国债、股票、公司债券的投资风险依次递增
- B. 理财产品合同中的预期收益率是理财产品实际到期收益率
- C. 公众兑换票面残缺的人民币，要到中国人民银行指定的商业银行网点
- D. 自然人之间借款如未约定利息，出借人欲主张支付利息，法院不予支持

【答案】D

【解析】本题主要考查金融常识。A项错误，债券投资的风险是指债券预期收益变动的可能性及变动幅度。国债的发行主体是国家，其具有最高的信用度，被认为是最安全的投资工具；公司债券的发债主体为按照《中华人民共和国公司法》设立的公司法人，在实践中，其发行主体为上市公司，投资风险性次之；而股票作为股份公司发行的所有权凭证，流通性强、收益高，投资风险最大。因此应为国债、公司债券、股票的投资风险依次递增。

B项错误，预期收益率也称为期望收益率，是指在不确定的条件下，预测的某资产未来可实现的收益率。因此理财产品合同中的预期收益率是指理想中理财产品的收益率，而不是实际到期收益率。

C项错误，根据《中国人民银行残缺污损人民币兑换办法》第三条规定：“凡办理人民币存取款业务的金融机构应无偿为公众兑换残缺、污损人民币，不得拒绝兑换。”

上岸地址：盐湖区中银大道福瑞特超市对面华图教育7层

上岸热线：0359-2625261

因此，公众兑换票面残缺的人民币可以到任一办理存取款业务的金融机构。

D 项正确，根据《合同法》第二百一十一条规定：“自然人之间的借款合同对支付利息没有约定或者约定不明确的，视为不支付利息。”《最高人民法院关于审理民间借贷案件适用法律若干问题的规定》第二十五条规定：“借贷双方没有约定利息，出借人主张支付借期内利息的，人民法院不予支持。”故正确答案为 D。

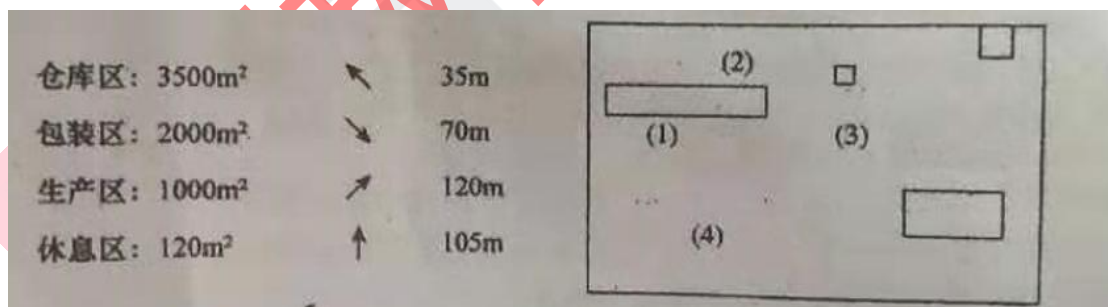
23. 下列选项中错误的是_____（ ）

- A. 汽车价格下降，其互补品汽油需求量将增加
- B. 货币供给既定，市场利息率提高，货币投机需求则相应减少
- C. 在企业成本核算中，补偿机器设备无形损耗的折旧费属于可变成本
- D. 与汽车，飞机制造业相比，日用小商品制造业最接近于完全竞争模式

【答案】C

【解析】可变成本，指的是厂商在短期生产中生产一定数量的产品对可变生产要素支付的成本，如原料、劳动、燃料成本。不变成本，又称固定成本，是指总成本中（短期内）不随产量变动而变动的那些项目，如固定资产折旧，车间经费，企业管理费等，这些项目在产量增大或降低时都不会随之变化，故称不变成本或固定成本，对应的要素称为不变要素。机器设备的无形损耗属于不变成本，故正确答案为 C。

24. 图左边为某工业园区区域指示牌内容，右边框内四个长方形为园区内各功能区域面积大小及分布大致示意，据此，指示牌所在位置最可能是_____（ ）。



- A. (1) B. (2) C. (3) D. (4)

【答案】C

【解析】因为(3)所处的位置正上方为面积最小区域为休息区，其方向也为正上方。左上方为面积最大的长方形为仓库区，其方位从(3)出发，也为左上。右上方为生产区，面积为第三小，其方位从(3)出发也为右上。右下方为包装区，从(3)所以答案为 C。

25. 近年来，汉式婚礼渐成时尚的婚礼形态。下列关于汉式婚礼相关寓意的理解，解
上岸地址：盐湖区中银大道福瑞特超市对面华图教育7层
上岸热线：0359-2625261

释错误的是____（ ）

- A. 男须送女一贄见礼物，多为大雁，寓意不离不弃
- B. 夫妇各剪一缕青丝以红缨结起来，寓意水结同好
- C. 夫妇共饮一匏酒后将匏一剖为二，寓意阴阳相生
- D. 夫妇共食一鼎所盛装的一牲之肉，寓意尊卑相同

【答案】C

【解析】C项解释错误，古代汉人结婚时，会将匏（葫芦）一分为二变成两瓢，再用红线将两柄连住，新郎新娘各执半匏酒，一起喝下，象征夫妻二人结为一体。同时又因为匏瓜味苦，用来盛酒，酒带苦味，夫妻共饮，寓意今后同甘共苦，患难与共。因此，汉式婚礼中，夫妇共饮一匏酒的寓意是合二为一，而非阴阳相生。A、B、D三项的解释均正确。本题为选非题，故正确答案为C。

26. 汉代太学有如现在的国立大学，这里面的学生毕业考试分两等，当时称“科”。甲科出身的为郎，乙科出身的为吏；遇地方政府需要人才就从这里挑选。材料表明汉代太学毕业考试的突出特点是其成绩。____（ ）

- A. 与官员选拔挂钩
- B. 与平时操行考核结合
- C. 体现教考分离制
- D. 以“科”来划分等级

【答案】

【解析】

27. “请名人代言”是提高广告说服力的好方法。下列四则广告标题，如单就文字意义，寻找背景相契合的古代名人来代言，则最不恰当的组合是____（ ）

- A. 请庄子代言“自然就是美”
- B. 请司马光、王安石代言“好东西要和好朋友分享”
- C. 请苏秦、张仪代言“做个不可思议的沟通高手”
- D. 请子路代言“心动不如马上行动”

【答案】B

【解析】A选项中的庄子是战国时期著名哲学家，是道家学派的代表人物。庄子的思想包含着朴素辩证法因素。在庄子看来，真正的生活是自然而然的，不需要去教导什么，规定什么。因此，从这里可以看出，请庄子代言“自然就是美”再合适不过了。

D选项中的子路是孔子得意门生，为人伉直鲁莽，好勇力。他的伉直鲁莽决定了他不会遮遮掩掩、畏手畏脚，如果看到好东西，自然会“心动不如马上行动”，所以由子

上岸地址：盐湖区中银大道福瑞特超市对面华图教育7层

上岸热线：0359-2625261

路来代言是很合适的。C项正确，苏秦和张仪是战国时期著名的纵横家，经常游说各国；而B选项中的司马光是保守派、王安石是变革派。在熙宁变法中，司马光与主持变法的王安石发生严重分歧，所以如果由他俩来代言“好东西要和好朋友分享”是不恰当的。

28. 郭德纲在谈到京剧怎么才能“火”时曾直言：“京剧和相声是一个道理，台上是艺人，台下是商人，把京剧当买卖做才能“火”，不能老跟观众对着干。”郭德纲观点的合理性在于他看到了_____（ ）

- ①经济效益在文艺创作与演出中居于首要地位 ②文艺工作者必须关注人民群众的精神需求
③社会主义市场经济对文艺发展的促进作用 ④群众需要的文化都是先进的、健康的文化

A. ①④ B. ③④ C. ①② D. ②③

【答案】D

【解析】文艺创作和演出要立足于社会实践，满足人民群众的精神需求；同时，还要发挥先进文化对经济发展的促进作用；①说法太绝对，文艺创作和演出不一定要把经济效益放在首位；④在材料中没有体现。

29. “云母屏风烛影深，长河渐落晓星沉”描写的是一天之中的哪一时段_____（ ）

A. 黄昏 B. 夜半 C. 黎明 D. 午后

【答案】C

【解析】“云母屏风烛影深，长河渐落晓星沉”是唐朝诗人李商隐的《嫦娥》中名句，全诗描写的就是主人公在长夜独坐中黯然的心境，讲的是作者独自熬夜到天明的伤感之情，蜡烛即将燃尽，星辰也将暗淡无光，描绘的就是黎明到来前的景象，因此本题选C。

30. 剪纸是我国古老的民间艺术。围绕“国是家、勤为本、俭养德、孝为先”等主题创作的剪纸画(如图)，是传统文化与当代价值有机融合的生动体现。这一艺术创作形式_____（ ）



- A. 决定着中华文化发展方向 B. 扩大了中华文化国际影响
C. 打破了传统文化的稳定性 D. 推动了文化在实践中变迁

【答案】D

【解析】题中剪纸这一艺术创作形式对中华文化发展方向产生影响，但决定中华文化发展方向的是生产力和生产关系的矛盾运动，A 不符合题意；B 观点与题意不符，题中并没有涉及国际领域，并没有扩大中华文化国际影响；C 选项观点与题意不符，传统文化具有相对稳定性，既保留其基本特征，又因时而变，并没有打破传统文化的稳定性；题中剪纸这一艺术创作形式推动了文化在实践中变迁，D 项观点正确且符合题意。

31. 下列建筑中，位于北京南北向中轴线上的是____（ ）

- A. 天坛祈年殿 B. 中华世纪坛 C. 人民英雄纪念碑 D. 东便门城楼

【答案】C

【解析】本题考查城市地理知识。北京市中轴线为正阳门、景山、天安门、紫禁城、全城报时中心钟、鼓楼等。新中国成立以后，又陆续扩建了天安门广场、人民英雄纪念碑、毛主席纪念堂。A 天坛祈年殿位于北京中轴线东侧；B 中华世纪坛位于天安门正西；D 东便门位于明清北京城内外城交界，位于中轴线以东。故本题答案选 C。

32. 三十六计中，以制造假象来迷惑敌人的计策是____（ ）

- A. 树上开花 B. 隔岸观火 C. 顺手牵羊 D. 围魏救赵

【答案】A

【解析】“树上开花”之计，是指树上本来没有花，但可以借用假花点缀在上面，让人真假难辨。此计用在军事上，是指当自己的力量薄弱时，可以借别人的势力或某种因素，使自己看起来强大，以此虚张声势，慑服敌人。故本题答案选 A。

33. 1900 年 9 月，英法德意四国侵略军以“未按职分保护外国人”等罪名在保定处斩三位清政府官员，对此，清政府抗议道：“即使中国官员有办理不善之处，应交中国自行处分，何得侵我自主之权？”对此，以下解读正确的是____（ ）

- A. 清政府已失去对地方政府的控制 B. 清政府的司法裁判权受到破坏
C. 中国完全沦为半殖民地半封建社会 D. 侵略军这一行为依据是《辛丑条约》

【答案】C

【解析】A 选项题中没有提及；列强入侵与民族危机，B 选项不正确；1900 年的时候，辛丑条约还没签订，因此 D 不对，况且辛丑条约中没有提到要对国外人员进行保

护的条款。所以选 C。

34. 傅吾康曾说:“抗日战争开始时,一种抵抗敌人到底的民族感和决心的浪潮弥漫了全中国。统一战线的口号首先克服了一切中国国内的纠纷。抗日战争被认为是 1927 年中断的革命战争的复活。中国人对进犯的敌人所作的抵抗超出了日本人最初的一切预料。”对此材料理解正确的是____ ()

- A. 抗日战争与国民大革命有着相同的目标
- B. 中国军民团结抗战贯穿了抗战的全过程
- C. 抗日民族统一战线的建立解决了国内的党派矛盾
- D. 抗战初期的坚决抵抗粉碎了日本速战速决的企图

【答案】D

【解析】

35. 历史学家田玄认为:“辛亥革命走向没有从南方推进到北方,没有从长江流域推进到全国。形成革命运动沿海、沿江城市先进,内地和边疆城市落后;南方城市先进,北方城市落后(的状况)这种“状态”说明____ ()

- A. 近代中国政治经济发展不平衡
- B. 南方人比北方人更具有斗争精神
- C. 辛亥革命的领导人多为南方人
- D. 北方比南方的社会矛盾较为缓和

【答案】A

【解析】

36. 整个中国历史的角度看,西周作为短暂的一瞬消失了,但创始于斯的宗法组织和宗法结构并没有随之在政治制度上一起消失。自秦以后的中国封建社会,承袭了宗法观念和宗法传统,使中国封建政治呈现出诸多特征,这些特征又都具有浓厚深刻的宗法色彩。材料主要说明了____ ()

- A. 宗法制存在于整个封建社会
- B. 宗法制有效地维护了西周的统治
- C. 宗法制深刻影响了封建统治
- D. 宗法制保证了封建统治的稳定性

【答案】C

【解析】本题主要考察的是对材料的理解分析能力。从“整个中国历史的角度自以后的中国封建社承袭了法观之和宗活传统……都有浓厚深刻的蒙法色彩”可知材料强调的是中国封建政治呈现厚的宗法色彩,根据所学我们知道宗法制对后世的重要影响主要表现为:封建社会中位继承的嫡长子制原则;“家国”的统治理念等,对社会习中尊崇敬宗归祖望亲情的传统观之,传统伦理范式的“忠”“孝”观念,重视家庭建设,

上岸地址:盐湖区中银大道福瑞特超市对面华图教育 7 层

上岸热线: 0359-2625261

尊老爱幼，夫妻相敬兄弟相亲和睦相处等社会德，男尊女卑：等级贵贱，过分强调家庭本位人唯亲等社会象等等亦有影响而宗法制随着封建君主专制制度的结策而消失，所以 A 项错误；项与材料信息西周作为短暂的瞬消失”相悖 D 项表述在材料中没有体现。故正确答案应该 C。

37. 下面是 1650—1850 年的世界人口变化（单位：百万）对导致这一时期世界人口变化的主要因素解读错误的是_____（ ）

	1650 年	1750 年	1850 年
欧洲	100	140	266
非洲	100	95	95
亚洲	330	476	749

- A. 城市化进程的加快推动了欧亚人口的增长 B. 欧洲人口的增加得益于工业革命的开展
C. 农耕经济的繁荣促进了亚洲人口的增长 D. 非洲人口的下降与罪恶的黑奴贸易有关

【答案】A

【解析】本题考查获取和解读材料信息的能力，1750—1850 年的欧洲处于工业革命时期，工业革命提高了社会生产力，有利于人口增加，故 A 项解读正确；这一时期欧洲殖民者进行的黑奴贸易使非洲丧失大量精壮劳动力，人口下降，故 B 项解读正确；这一时期，欧洲国家城市化进程加快，但是亚洲国家依然属于农耕文明，谈不上城市化进程加快，故 C 项解读错误，D 项解读正确；因此答案为 A 项。

38. 1938 年 5 月至 6 月间，毛泽东发表的《论持久战》的演讲，总结抗战 10 个月来的经验，集中全党智慧，系统地阐明了持久战的总方针，毛泽东科学地预测了抗日战争的发展进程，其中中国抗日战争取得最后胜利的最关键的阶段是_____（ ）

- A. 战略防御阶段 B. 战略相持阶段 C. 战略反攻阶段 D. 战略决战阶段

【答案】B

【解析】毛泽东科学地预测了抗日战争的发展进程，即抗日战争将经过战略防御、战略相持、战略反攻三个阶段。其中，战略相持阶段，是中国抗日战争取得最后胜利的最关键的阶段。

39. 抗日战争期间，为了抗日民族统一战线的坚持，扩大和巩固，中国共产党制定了“发展进步势力，争取中间势力，孤立顽固势力”的策略总方针，中间势力主要是指
上岸地址：盐湖区中银大道福瑞特超市对面华图教育 7 层
上岸热线：0359-2625261

民族资产阶级，开明绅士和地方实力派，争取中间势力要一定的条件，下列选项中不属于这些条件的是____（ ）

- A. 共产党要有充足的力量
- B. 尊重他们的利益
- C. 要同顽固派作坚决的斗争，并能一步一步地取得胜利
- D. 对动摇的中间势力作坚决的打击

【答案】D

【解析】中间势力主要是指民族资产阶级、开明绅士和地方实力派。争取中间势力需要三方面条件：一是共产党要有充足的力量；二是尊重他们的利益；三是要同顽固派作坚决的斗争，并能一步一步地取得胜利。

40. 日常生活中有许多省电的技巧，以下做法不能省电的是____（ ）

- A. 经常清洗空调进风口处的过滤网
- B. 用同等亮度的LED灯代替节能灯
- C. 把新、旧电池接在一起使用
- D. 冰箱内放物品放到八分满

【答案】C

【解析】A项的做法可以保证空调的通风效果，有利于节能省电。B项中LED灯最大的优点就是节能环保。LED灯的发光效率达到100流明/瓦以上，节能灯也就70流明/瓦左右。所以，用同等亮度的LED灯代替节能灯更省电。C项没电的旧电池的电阻会升高，电池组的内阻升高，在一定程度上由供能的电源转变为耗能的电阻，所以费电。D项由于每台冰箱都有其特定的额定温度，所以冰箱里面的食物储存过少时，热容量会因此变小。冰箱门打开时，冷气加快释放，增加压缩机启动次数，从而增大用电量；储存食品如果过满则不利于冷空气循环，冰箱内容易结冰，从而增加压缩机运行时间，消耗不必要的电能。所以，冰箱内部存放食物占容积80%才能最省电。故选C。

41. 教练给某学员的便条上写道：今天你表现不错，跑位积极，速度达到每秒7米，全场跑动距离达到1.3千米，但是更要注意与队友们的配合，毕竟60分钟的比赛不是你一个人的战斗。据此可知，该教练最可能从事的运动是____（ ）

- A. 足球
- B. 马拉松
- C. 篮球
- D. 橄榄球

【答案】D

【解析】D选项橄榄球比赛分为4节，每节15分钟，共计60分钟，与题干相符，且橄榄球在比赛过程中也要求跑位、速度，因此本题选D。A选项足球比赛时长为90分

钟，与题干不符；B选项马拉松跑动距离约为42公里，不可能是1.3千米；C选项篮球的比赛时长，国际比赛规则为40分钟，CBA、NBA为48分钟。

42. 变色龙的体色随环境变化而变化，这是生物与环境相适应的一种现象，下列现象与此不相类似的是____（ ）

- A. 枯叶蝶停留在树上像枯叶 B. 蚯蚓活动使土壤松弛
C. 仙人掌的叶退化成针形 D. 竹叶虫外形酷似竹节

【答案】B

【解析】B项蚯蚓活动使土壤松弛，有利于植物根的呼吸、生长，同时还能保持土壤肥沃，这种现象反映了生物对环境的影响，与题干所述现象不相似。A项“枯叶蝶停在树上像枯叶”和D项“竹节虫外形酷似竹节”，都是为了不易被敌害发现而生存下来，是枯叶蝶和竹节虫对环境的适应；C项“仙人掌的叶退化成针形”是为了减少水分的散失，利于在沙漠中生存，是对干旱环境的适应。本题为选非题，故正确答案为B。

43. 雷雨天躲在室内，有时也容易遭到雷击，下列关于室内预防雷击的说法，错误的是____（ ）

- A. 关闭门窗可以阻止球形雷电进入 B. 靠墙壁的位置比房间中央更安全
C. 不宜靠近电器设备以及使用电器 D. 不适用淋浴冲凉或不触摸金属管道

【答案】B

【解析】雷电是常见的暴雨灾害天气，室内预防雷击要做到“三不宜”：不宜敞开门窗（关闭门窗可以阻止球形雷的进入）；不宜使用淋浴冲凉或触摸金属管道；不宜靠近建筑物外墙、电器设备以及使用电器。A、C、D三项表述正确，B项表述错误，打雷时不宜靠近建筑物外墙，房间中央的位置比靠墙位置安全。本题为选非题，故正确答案为B。

44. 近几年，无需火电的即热型快餐备受人们欢迎，这即热型快餐一般由两层铝箔（锡箔）制包装构成，内层用于盛放需加热的食物，外层用于盛放加热材料。据此，下列最可能成为这种快餐加热材料的是____（ ）

- A. 浓硫酸和水 B. 食盐和水 C. 石灰石和水 D. 生石灰和水

【答案】D

【解析】

45. 下列关于生活医学常识的说法错误的是____（ ）

上岸地址：盐湖区中银大道福瑞特超市对面华图教育7层
上岸热线：0359-2625261

- A. 生理盐水的浓度是 9%
- B. 医用消毒酒精的浓度是 75%
- C. 儿童缺锌会导致生长发育迟缓，抵抗力差
- D. 剧烈运动后感觉全身酸痛的因为肌肉中产生了乳酸

【答案】A

【解析】本题考查生物常识，主要涉及医学常识的相关内容。

A 项错误，生理盐水，是指生理学实验或临床上常用的渗透压与动物或人体血浆的渗透压基本相等的氯化钠溶液。浓度：用于两栖类动物时是 0.67-0.70%，用于哺乳类动物和人体时是 0.85-0.90%。人们平常点滴用的氯化钠注射液浓度是 0.9%，可以当成生理盐水来使用。故浓度 9% 错误。

B 项正确，日常生活中，常见一些人用医用酒精来擦洗伤口，以达到灭菌消毒的目的。值得注意的是，在药店买到的酒精有 75% 和 95% 两种浓度，这两种浓度的酒精用途是不一样的：95% 的酒精常用于擦拭紫外线灯；75% 的酒精用于消毒。

C 项正确，锌是人体内必需的微量元素之一，缺锌将直接造成儿童免疫力低下，影响孩子的成长发育，导致身材矮小或智力发育不良等严重后果。

D 项正确，人体剧烈运动时，会进行无氧呼吸。而无氧呼吸产生大量乳酸等中间代谢产物，不能通过呼吸排除，就形成了乳酸堆积，造成全身肌肉酸痛。本题为选非题，故正确答案是 A。

46. 下列选项中，没有体现生命现象的是____（ ）

- A. 梅雨季节，门环惹铜绿
- B. 遭遇污染，汪洋变赤潮
- C. 只待时日，化蛹成彩蝶
- D. 水沁石板，青苔绘碧痕

【答案】A

【解析】本题考查生物常识。生命现象最本质的是新陈代谢，生殖和遗传也是重要的特征。A 项错误：“门环惹铜绿”是门环中的铜、水、空气中的氧气、二氧化碳，四种物质一起发生了化合反应生成了绿色的碱式碳酸铜，俗称“铜锈”，是化学变化，没有体现生命现象。B 项正确：赤潮是在特定的环境条件下，海水中某些浮游植物、原生动物或细菌爆发性增殖或高度聚集而引起水体变色的一种有害生态现象，其中植物动物有生命现象。C 项正确：“化蛹成彩蝶”是完全变形昆虫在幼虫和成虫之间的一个发育阶段。化蛹时，幼虫结构解体，成虫结构形成，初次出现翅，蛹皮裂开，咬开一条出路而蜕出，有生命现象。D 项正确：青苔是水生苔藓植物，色翠绿，生长在上岸地址：盐湖区中银大道福瑞特超市对面华图教育 7 层

上岸热线：0359-2625261

水中或陆地阴湿处，有生命现象。

47. 农业生产中若长期使用某种杀虫剂，会导致害虫的抗药性增强。杀虫效果减弱，其最主要的原因是_____（ ）

- A. 害虫体内积累的杀虫剂增强了自身的抗药性
- B. 杀虫剂造成害虫基因突变，产生了抗药性基因
- C. 抗药性强的害虫所产生的后代一定具有很强的抗药性
- D. 杀虫剂对害虫有选择作用，使抗药性强的害虫被保留下来

【答案】D

【解析】此题考查的知识点是害虫抗药性增强，杀虫效果减弱的原因。解答时可以从自然选择和抗药性形成的过程方面来切入。达尔文把在生存斗争中，适者生存、不适者被淘汰的过程叫做自然选择。遗传变异是生物进化的基础，首先害虫的抗药性存在着变异。有的抗药性强，有的抗药性弱。使用农药时，把抗药性弱的害虫杀死，这叫不适者被淘汰；抗药性强的害虫活下来，这叫适者生存。活下来的抗药性强的害虫，繁殖的后代有的抗药性强，有的抗药性弱，在使用农药时，又把抗药性弱的害虫杀死，抗药性强的害虫活下来。这样经过若干代的反复选择，最终活下来的害虫大多是抗药性强的害虫。在使用同等剂量的农药时，就不能起到很好的杀虫作用，导致农药的灭虫的效果越来越差。因此农业生产中长期使用某种杀虫剂后，害虫的抗药性增强，杀虫效果减弱的原因是杀虫剂对害虫有选择作用，使抗药性强的害虫被保留了下来。

48. 下列场景不符合我国医药常识的是_____（ ）

- A. 婴儿患吸入式肺炎，医疗人员在对其的治疗中使用了抗生素药物
- B. 小红需要大量输血，但医生拒绝了她的直系血亲输血给她的要求
- C. 医生严正拒绝向孕妇家属透露腹中胎儿的性别信息
- D. 医生抽取了小张 100 立方厘米的血液用于常规体检

【答案】D

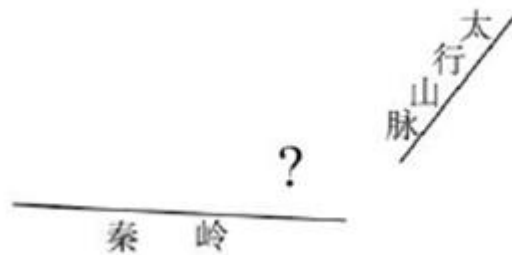
【解析】A 项正确，婴儿吸入性肺炎是指婴儿意外吸入酸性物质，如食物、胃内容物以及其他刺激性液体等，引起的化学性肺炎，严重者可发生呼吸衰竭或呼吸窘迫综合征。治疗给予对症治疗，吸氧，取出异物等，出现继发细菌感染给予抗生素治疗。

B 项正确，根据输血原则，直系亲属间输血有时会发生一种严重的输血反应，称为输血相关移植物抗宿主病 (GVHD)，这种输血反应虽然发病率低，但死亡率极高。医生的做法是正确的。

C 项正确,《中华人民共和国母婴保健法》(简称《母婴保健法》)在第三十二条明确规定:“严禁采用技术手段对胎儿进行性别鉴定。”

D 项错误,常规体检血常规抽取的血量是 10-15ml,选项中 100 立方厘米是 100ml,不符合医学常识。本题为选非题,故正确答案为 D。

49. 下列的简易示意图中,问号处最可能是____ ()



- A. 华山 B. 玉山 C. 恒山 D. 五台山

【答案】A

【解析】A 项正确,华山古称“西岳”,为中国著名的五岳之一,位于陕西省渭南市华阴市,南接秦岭,北瞰黄渭,且位于太行山脉的西边。因此,符合题干图片位置。

B 项错误,玉山,通常指玉山主峰,位于中国东部地区台湾省中部,是中国东部最高峰。与题干图片位置不符。

C 项错误,恒山位于山西省大同市浑源县城南。北岳恒山位于太行山系的西北端。与题干图片位置不符。

D 项错误,五台山属太行山系的北端,同样位于太行山脉的西北端,略南于恒山。因此,与题干图片位置不符。故正确答案为 A。

50. 下列可能出现次生盐渍化的地区是____ ()

- A. 水土流失严重地区 B. 地下水位很高的湿润区
C. 蒸发量较大的旱作漫灌区 D. 大量抽取地下水致地面下沉的地区

【答案】C

【解析】

51. 公共场所中常有各种各样的提示语,下列选项中,提示语使用最恰当的是____ ()

- A. 盘山公路转弯处:亲爱的司机朋友们,为了您和家人的幸福,请将车速控制在每小时 20 千米,前方为本段公路转弯处,是本路段的事故高发点

上岸地址:盐湖区中银大道福瑞特超市对面华图教育 7 层

上岸热线: 0359-2625261

- B. 公共绿地: 你我垃圾乱扔, 谁来掩埋填坑? 爱护环境靠大家, 想想后代子孙
- C. 超市: 内有监控, 小偷自重, 一经确认, 偷一罚十
- D. 餐厅: 无烟场所, 请勿吸烟; 面阻不雅, 利己利他

【答案】D

【解析】A 选项错误, 标语地点在拐弯处不合适, 同时标语过长无法起到警示作用; B 选项错误, 标语为乱扔垃圾, 而公共绿地不仅需要大家不乱扔垃圾, 同时还需要提示大家爱护绿地的花草; C 选项错误, 超市无权偷一罚十, 标语内容不合法; D 选项正确。

52. 公共物品的申请表需要有_____签字才效 ()

- A. 使用人、领取人、发放人 B. 使用人、批准人、发放人
- C. 使用人、领取人、批准人 D. 领取人、批准人、发放人

【答案】D

【解析】办公物品的申请表需要有领取人、批准人、发放人签字才有效。使用人签字是无效的。故选 D。

53. 下列属于党政公文必备要素的是_____ ()

- A. 附注 B. 附件 C. 签发人姓名 D. 成文日期

【答案】C

【解析】附件、附注不属于行政公文格式必备要素。签发人姓名才为必备要素。正确选项为 C。

54. 现在省人民政府办公厅欲通知各市县、各地区加强农村电影发行放映工作, 并具体交待相关事项, 应使用_____ ()

- A. 发布性通知 B. 指示性通知 C. 一般性通知 D. 知照性通知

【答案】B

【解析】发布性通知一般在国家机关发布 (或废止) 有关法规和条例、规定、办法、实施细则等规章和发布有关重要文件时使用指示性通知通常是在上级机关对下级布置任务、指示和安排时使用。一般性通知是关于一般事项的通知, 通常由基层单位发布, 内容比较单一、具体。向有关单位告知某件事件, 交代有关事项, 不需要力理或执行时, 使用知照性通知。答案为 B

55. 市商业局向市规划局申请征用土地建立食品购销站, 使用的公文文种应该是_____ ()

A. 通报 B. 议案 C. 请示 D. 函

【答案】D

【解析】《国家行政机关公文处理办法》规定国家行政机关的公文中：通报适用于表彰先进，批评错误，传达重要精神或者情况；议案适用于各级人民政府按照法律程序向同级人民代表大会或人民代表大会常务委员会提请审议事项；请示适用于向上级机关请求指示、批准；函适用于不相隶属机关之间商洽工作，询问和答复问题，请求批准和答复审批事项。由此可见，应选用函。故选 D。

二、多项选择题

56. 1859 年一位英格兰农场主来到了澳大利亚，放养了从欧洲带来的 24 只兔子以供打猎。由于澳洲大陆自然环境适宜。又无鹰、狐狸等天敌，兔子大量繁殖扩散，导致生态环境严重破坏，农业和畜牧业受了巨大损失，澳大利亚人先后使用猎杀、布网、堵洞、修篱笆等方法控制兔灾，但效果有限，20 世纪 50 年代，澳大利亚政府采纳生物学家建议，用生物方法控制兔灾，取得了显著效果。澳大利亚人控制兔灾实践的哲学启示是____（ ）

- A. 改造自然事件的成功取决于人的主观能动性的发挥
- B. 人与自然矛盾的解决依赖于人的实践能力和水平
- C. 人与自然的矛盾来源于人对自然认识的局限性
- D. 认识的发展水平制约着解决人与自然矛盾的水平

【答案】

【解析】

57. 资源优化配置指的是能够带来高效率的资源使用，其标准主要是重资源的使用是否带来了生产的高效能和经济效益的提高，下列体现了资源优化的有____（ ）

- A. 目前一般农产品大量充斥市场，而消费者喜爱的绿色产品却供不应求
- B. 经济发达地区大学生就业面临严重困难，而经济落后地区还存在人才缺口
- C. 某企业引进大量高技术专业人才，改进生产工艺，为企业带来更多收益
- D. 某企业购进先进设备，用同样数量原材料生产出更多的产品

【答案】CD

【解析】资源优化配置指的是能够带来高效率的资源使用。其标准主要是看资源使用是否带来了生产的高效能和经济效益的提高。C 属于资源使用带来的高效能和高效率，D 属于资源使用带来的高效益。AB 是资源配置失当所带来的低效率。所以选

上岸地址：盐湖区中银大道福瑞特超市对面华图教育 7 层

上岸热线：0359-2625261

CD。

58. 改革开放, 包括对发达国家的开放, 也包括对发展中国家的开放, 是对世界所有国家的开放, 它不仅是经济领域的开放, 还包括科技、教育、文化等领域的开放。实行对外开放要正确对待资本主义社会创造的现代文明成果, 对此, 下列说法中正确的有____ ()

- A. 资本主义社会经过几百年发展积累了丰富的丰富经验, 取得了许多历史性的文明成果
- B. 社会主义作为后起的崭新的社会制度, 必须大胆借鉴、吸收人类社会包括资本主义社会创造出来的文明成果
- C. 我们可以照搬西方发达国家的发展模式
- D. 对于资本主义社会创造出来的文明成果, 要结合新的实践进行新的创造, 为我所用

【答案】

【解析】

59. 党的十九大明确指出, 我国社会主要矛盾已经转化为人民日益增长的美好生活需要和不平衡不充分的发展之间的矛盾。我国社会主要矛盾的变化是关系全局的历史变化, 对党和国家工作提出了许多新要求。我们要在继续推动发展的基础上____ ()

- A. 着力解决好发展不平衡不充分的问题
- B. 大力提升发展质量和效益
- C. 更好地满足人民在经济、政治、文化、社会、生态等方面日益增长的需要
- D. 更好地推动人的全面发展、社会全面进步

【答案】A

【解析】我国社会主要矛盾的变化是关系全局的历史性变化, 对党和国家工作提出了许多新要求。我们要在继续推动发展的基础上, 着力解决好发展不平衡不充分问题, 大力提升发展质量和效益, 更好满足人民在经济、政治、文化、社会、生态等方面日益增长的需要, 更好推动人的全面发展、社会全面进步。

60. 从某种意义上说, 中国近代史开始于南京, 也基本结束于南京。下列史实中, 最能反映“中国近代史“始于南京”和“基本结束于南京”的是 ()

- A. 1911 年中华民国南京临时政府成立
- B. 1842 年第一个不平等条约《南京条约》签订
- C. 1937 年日军占领南京
- D. 1949 年人民解放军占领南京

上岸地址: 盐湖区中银大道福瑞特超市对面华图教育 7 层

上岸热线: 0359-2625261

【答案】D

【解析】中国近代史是从 1840 年鸦片战争战争开始，鸦片战争后中国第一个不平等条约就是在南京签订的；中国近代史结束于 1949 年解放战争的胜利，1949 年 4 月渡江战役中人民解放军解放战争，标志着南京国民政府统治的结束。

三、判断题

61. 明朝初期，钓鱼诸岛就已明确为中国领土，明、清两朝均将钓鱼诸岛划为我国海防管辖范围之内，并非“无主地”。（ ）

【答案】√

【解析】《钓鱼岛是中国的固有领土》白皮书中提到，目前所见最早记载钓鱼岛、赤尾屿等地名的史籍，是成书于 1403 年(明永乐元年)的《顺风相送》。这表明，早在十四、十五世纪中国就已经发现并命名了钓鱼岛。早在明朝初期，为防御东南沿海的倭寇，中国就将钓鱼岛列入防区。清朝不仅沿袭了明朝的做法，继续将钓鱼岛等岛屿列入中国海防范围内，而且明确将其置于台湾地方政府的行政管辖之下。

62. 某市政府决定对本市一酒厂减免地方税以提供财政支持的行为，违反了《反不正当竞争法》的规定。（ ）

【答案】×

【解析】根据《反不正当竞争法》第 7 条的规定，政府及其所属部门不得滥用行政权力，限定他人购买其指定的经营者的商品，限制其他经营者正当的经营活动。政府及其所属部门不得滥用行政权力，限制外地商品进入本地市场，或者本地商品流向外地市场。该条是对政府及其所属部门不得滥用行政权力，限制竞争行为的禁止性规定。题干中政府的财政支持行为不违反《反不正当竞争法》。

63. 北大、清华、南开等大学南迁期间，冯友兰先生有一首诗说：“二贤祠里拜朱张，一会千秋嘉会堂。公所可游南岳耳，江山半壁太凄凉。”这首诗的写作背景是抗日战争。（ ）

【答案】

【解析】

64. 财产保全的措施通常为查封、扣押、冻结。人民法院冻结财产后，应当立即通知被冻结财产的人。（ ）

【答案】√

【解析】财产保全可采取查封、扣押、冻结或者法律规定的其他方法。人民法院冻结

上岸地址：盐湖区中银大道福瑞特超市对面华图教育 7 层

上岸热线：0359-2625261

财产后，应当立即通知被冻结财产的人。财产已被查封、冻结的，不得重复查封、冻结。

65. 每个政府机构都有自己所承担的职能范围，只对自己所管辖的事务负责。（ ）

【答案】√

【解析】政府职能是完整统一的体系。每个政府机构都有自己所承担的职能范围，只对自己所管辖的事务负责。同时，它们所承担的职能都是政府总体职能的一部分，是政府总体职能的分解和细化。它们共同形成一个完整的体系。

综合能力测试

四、单项选择题

言语理解与表达

66. 生态好转，意味着我们能遏制库木塔格大沙漠_____的脚步，让沙漠明珠——月牙泉依然_____在戈壁中，让弥足珍贵的莫高窟不会再受到伤害，依次填入画横线部分最恰当的一项是_____（ ）

A. 侵蚀 摇曳 B. 侵吞 流淌 C. 吞并 闪烁 D. 吞噬 镶嵌

【答案】D

【解析】本题从第二空入手，文中将月牙泉比作沙漠明珠，横线处词语是对明珠的修饰，D项“镶嵌”是以物嵌入，作为装饰，体现出月牙泉这一明珠为戈壁点缀，当选；A项“摇曳”形容东西在风中轻轻摆动的样子，与明珠搭配不当，排除；B项“流淌”形容液体流动，也与明珠搭配不当，排除；C项“闪烁”是指光亮晃动不定、忽明忽暗，文中并非搭配光亮，排除；第一空代入验证，“吞噬”比喻吞并湮灭，体现了沙漠扩大的特点，符合文意。故正确答案为D。

67. 近些年，作为文化政策、资本扶植发展的重心，国产动画被寄予了极大期望。然而，动漫的土壤并不是随便撒些空壳烂籽就可以_____的。填入划横线部分最恰当的一项是_____（ ）

A. 守株待兔 B. 坐享其成 C. 不劳而获 D. 以逸待劳

【答案】B

【解析】第一步，阅读文段可知作者要表达的意思是，在“动漫的土壤”上，不是做些“随便撒些空壳烂籽”这种简单粗糙工作就能得到好结果的，空处填入成语要表达“得到好的结果”之意。第二步，选项辨析。“以逸待劳”指作战时采取守势，养精

蓄锐，让敌人来攻，然后乘其疲劳，战而胜之。不符合语境，排除 D 选项；“守株待兔”比喻希图不经过努力而得到成功的侥幸心理；“不劳而获”指自己不劳动却占有别人的劳动成果。二者重点强调不努力、不劳动。“坐享其成”指自己不出力而享受别人取得的成果，重点强调享受别人的成果。故“坐享其成”更符合语境。因此，选择 B 选项。

68. 家风是具有鲜明特征的家庭文化，良好家风是一个家庭最宝贵的精神财富，也是每个家庭成员形成正确世界观、人生观、价值观的_____。家庭是人生的第一所学校，良好家风是人生幸福生活的“第一组密码”。“积善之家，必有余庆；积不善之家，必有余殃。”只有守住和_____好温暖的家庭，才能有人生的成功。依次填入划横线部分最恰当的一项是_____（ ）

A. 基点 庇护 B. 基准 保护 C. 基础 爱护 D. 基石 呵护

【答案】D

【解析】第一空，根据文意可知，横线处需体现出良好家风是家庭成员形成世界观、人生观、价值观的基本条件，A 项“基点”可指事物发展的根本、基础，C 项“基础”意为事物发展的根本或起点，D 项“基石”比喻基础或中坚力量，均能体现“基本”之意，保留。B 项“基准”指标准，体现不出“基本”之意，排除。

第二空，横线处搭配“家庭”，D 项“呵护”指对某人、某物很在意，用心照顾、保护，常搭配朋友、家人、家庭，当选。A 项“庇护”意为袒护、包庇，感情色彩偏消极，和“家庭”搭配不当，排除；C 项“爱护”指爱惜并保护，常用作爱护公物、爱护花草，一般不与“家庭”搭配，排除。故正确答案为 D。

69. 哲人说：“你的心态就是你真正的主人。”乐观向上，心态阳光，即便一时身陷困境，仍有“竹杖芒鞋轻胜马”的_____，在茫茫暗夜中亦能读出星星指引的方向，相反，悲观低沉，心态消极，_____也能够感受“夕阳西下，断肠人在天涯”的悲情，在一杯愁绪中迷失自我，依次填入画横线部分最恰当的一项是_____（ ）

A. 坚韧 沧海一粟 B. 旷达 杯水风波 C. 狂喜 瓜田李下 D. 纯真 一叶知秋

【答案】B

【解析】根据“相反”一词可知前后构成反对关系，要填的词和“悲观”构成反义，排除 A 和 D，第二空根据“一杯愁绪中迷失自我”，所以是 B。瓜田李下的意思是易引起嫌疑的地方。不符合文义。

70. 共享经济再以全新的形式——调动微小力量，分享闲置资源的形式，快速_____着大众的生活方式，以低价高质的形式为大众带来更多便利，就是这样一种全新经济模式，在近几年来呈现告诉狂飙的_____。依次填入画横线部分最恰当的一项是_____（ ）

- A. 重塑 走势 B. 构建 形式 C. 重构 态势 D. 影响 趋势

【答案】C

【解析】第一空，搭配「生活方式」，根据破折号可知，横线所填语句是对全新的方式进行解释说明，表示重新建立生活方式，A项「重塑」、C项「重构」均符合语境。B项「构建」体现不出重新建立的语义，与「全新的方式」无法形成对应，排除。D项「影响」，语义程度过轻，排除。

第二空，搭配「呈现」，表示当前的状态，「态势」指事物发展的形势和状态，用在此处搭配恰当，符合文意。「走势」指事物或局势发展的动向，强调的是动态的过程，而文段强调的是当前的状态，且「走势」与「呈现」搭配不当，排除。故正确答案为C。

71. 良好的生态环境，是最公平的公共产品，是最_____的民生福祉，当前，我国资源约束_____，环境污染严重，生态系统退化的问题十分严峻，人民群众对新鲜空气、干净饮水、安全食品、优美环境的要求越来越强烈，依次填入画横线部分最恰当的一项是_____（ ）

- A. 普遍 不力 B. 重要 紧张 C. 普惠 趋紧 D. 关键 不够

【答案】C

【解析】第一空，根据文意可知横线处表达生态环境对于民生福祉有好处，A项「普遍」仅强调全面、范围广，体现不出有好处之意，排除。B项「重要」、C项「关键」、D项「普惠」填入文段均可。

第二空，搭配「资源约束」，「资源约束」指资源不足对于人们活动的限制，「资源约束趋紧」为固定搭配，表达资源对于人们活动的限制程度越来越高，D项当选。B项「紧张」与「约束」搭配不当，排除；C项「不够」填入横线指资源对人们活动的限制还不够还需要继续限制，与文意相悖，文段强调资源约束越来越严重，排除。故正确答案为D。

72. 世界上没有完美无缺的医疗体系，无论是免费医疗还是市场化的医疗体系，都各有弊端，但从生存权和人的尊严角度看，对个人免费或少量收费的医疗实乃_____。填

入横线部分最恰当的一项是（ ）

- A. 大势所趋 B. 当务之急 C. 未雨绸缪 D. 万全之策

【答案】A

【解析】由转折词“但”及其后的内容可知作者支持的是免费医疗体系，对其持肯定态度。A项“大势所趋”指符合整个局势发展的趋向，符合作者对免费医疗所持的观点。B项“当务之急”指当前任务中最急切要办的事，急切在文中无从体现。C项“未雨绸缪”指事先做好准备工作，不能体现作者对免费医疗和市场化医疗两者的倾向性。D项“万全之策”与“各有弊端”这一表述相矛盾。因此A项当选。

73. 网络主权概念的提出，意味着国家行使主权去维护网络安全，但网络空间的特殊性决定了政府作用有限，政府决策者应关注如何在维护网络主权的同时____互联网行业的健康发展，并且在维护网络主权与行业发展之间寻求恰当的____。依次填入划横线部分最恰当的一项是（ ）

- A. 保证 平衡 B. 保护 转换 C. 保障 立场 D. 保持 时机

【答案】A

【解析】第二空，由“应关注如何在维护网络主权的同时互联网行业的健康发展”可知，维护网络主权和行业健康发展之间存在矛盾，决策者应二者兼顾，即寻找恰当的“平衡”。因此A项正确。

74. 道德不能解决问题的时候，法律就不能____了。何况，我国首部刑法典颁布至今已近30年，今日的“未成年人”，与数十年前的“未成年人”已然不是一个概念。有____称，青少年发育比20年前至少提前了2至3年，心智成熟程度明显提高。再以14周岁作为最低刑事责任年龄，不啻于为低龄刑事犯罪提供了庇护所。（ ）

- A. 冷眼旁观 估算 B. 事不关己 计算 C. 隔岸观火 粗算 D. 袖手旁观 测算

【答案】D

【解析】

75. 历史反复昭示我们，向海而兴，背海而衰，是一条____的铁律。中华民族要实现伟大复兴，必须____地走向海洋、经略海淹，坚定不移地走以海富国、以海强国的和平发展之路。依次填入划横线部分最恰当的一项是（ ）

- A. 原封不动 理直气壮 B. 颠扑不破 昂道阔步
C. 亘古不变 义无反顾 D. 一成不变 勇往直前

【答案】C

【解析】第一空对应前文“历史”，可知C亘古不变最佳。D一成不变和A原封不动偏贬义，不恰当。第二空与后文“坚定不移”形成同意对应最佳的成语即为C义无反顾，本句并没有强调勇气、理由和气势，所以D勇往直前、A理直气壮和B昂首阔步均不恰当。故正确答案为C。

76. 当下，“网红食品”让一些美食爱好者____。然而，朋友圈里的美食宣传往往真假莫辨。“网红食品”利用朋友圈熟人关系、口碑传播的社交特性推销产品，甚至____营销公众号为其背书。

依次填入划横线部分最恰当的一项是（ ）

- A. 接踵而来 鼓动 B. 蜂拥而至 发起 C. 亦步亦趋 策动 D. 趋之若鹜 发动

【答案】D

【解析】根据语境，横线处是表达“网红食品”受到了一些美食爱好者的欢迎、含有“追捧”之意，且搭配对象是“网红食品”为具体事物而非地点，通过转折词“然而”后的表述，可以判定作者对于“网红食品”持怀疑、否定的态度，所以“趋之若鹜”符合文意。

77. 宜居带是指一颗恒星周围一定距离的范围，在这一范围内水可以以液态形式存在。由于液态水被科学家认为是生命生存____的元素，因此如果一颗行星恰好落在这一范围内，那么它就被认为有更大的____拥有生命或至少拥有生命可以生存的环境。依次填入划横线部分最恰当的一项是（ ）

- A. 缺一不可 范围 B. 举足轻重 条件 C. 至关重要 优势 D. 必不可少 机会

【答案】D

【解析】第一空，由文意可知，所填词语要表达“液态水”对于“生命生存”有非常重要的作用，观察选项，BCD项均可表达此意，而A选项“缺一不可”意为少一样也不行，主语常搭配多个事物，但是文段此处主语只有“液态水”一种元素，故排除A项。

第二空，文段意为“行星”恰好处在有液态水的范围，拥有生命的可能性更大，D选项“机会”符合语义语境；而B选项“条件”，通常与“好坏”搭配，而不用“大小”，排除；C选项“优势”，是需要有对比中显现的，而文段并没有与其他行星对比之意，排除。

78. 古人行文简略，优秀的作品常常“字不虚设”，阅读者决定不予深究的地方，有可能正是作者用心良苦之所在。因此我们阅读时不宜有所偏，应该像作家写作这些文章

时那样“_____”。

填入划横线部分最恰当的一项是（ ）

- A. 孜孜不倦 B. 精益求精 C. 心无旁骛 D. 字斟句酌

【答案】D

【解析】由“字不虚设”、“阅读者决定不深究的地方有可能是作者用心良苦之所在”、“阅读时不宜有所偏”可知，作家写作对细节之处十分重视，字字珠玑，那阅读者对待这些文字的状态就应该是D选项“字斟句酌”，即对每一字、每一句都仔细斟酌、推敲，符合文意。A选项“孜孜不倦”侧重勤奋，B选项“精益求精”侧重好上加好追求更完美，C选项“心无旁骛”形容心无杂念、专心致志，三项均不能体现出对细节、在每个字上狠下功夫的特点，排除。

79. 虽然翻拍要比重新创作或“另起灶炉”显得容易些，但也不能因为翻拍就忽略了剧本的质量，胡编乱造更是行不通。创作是第一要务，是翻拍成败的基础，翻拍要是失败了，失掉的不仅是观众，还会带来对原来成功形象的瓦解和品牌贬值。上述文字，意在强调翻拍_____（ ）

- A. 并不一定比“新拍”容易 B. 不能胡编乱造，颠覆经典
C. 也需要进一步挖掘和创新 D. 如果失败会反噬原有口碑

【答案】C

【解析】文段开篇指出“翻拍”相较于“重新创作”容易，随后通过转折关联词“但”指出在“翻拍”过程中不要忽略剧本质量，不能胡编乱造。后文通过程度词“第一要务”强调“创作”的重要性，强调“创作”是基础，并通过反面论证进一步强调“创作”对于“翻拍成败”的重要作用。故文段旨在强调在“翻拍”过程中需要进一步创作，对应C项。

- A项，“并不一定比‘新拍’容易”与文段“翻拍……显得容易些”相悖，排除；
B项，“不能胡编乱造”对比C项表述不明确，且“颠覆经典”无中生有，排除；
D项，对应文段尾句反面论证内容，非重点，排除。故正确答案为C。

80. 一只老钟对一只小钟说：“你一年要摆31536000下。”小钟吓坏了：“哇，这么多，这怎么可能？我怎么能完成那么多下呢！”另一只老钟笑着说：“不用怕，并不难啊，只要坚持每秒摆一下就可以了，试试看吧。”果然，小钟很轻松地就摆了一下，不知不觉一年过去了，小钟已经摆了31536000下！下列选项最符合作者写作意图的是_____（ ）

- A. 坚持下去，就可胜利 B. 化整为零，圆梦更易
C. 不忘初心，方得始终 D. 千里之行，始于足下

【答案】B

【解析】根据文段中问题“这么多，这怎么可能”和答案“只要坚持每秒摆一下就可以了”可知，作者的意图是化整为零，圆梦更易。

81. 此刻，我们经历的时光，将来都会变成从前。时光如落花，盛开时我们忽略它的美，反而在它凋落之时嗅到它的余香。不只是爱情，所有的事，都是如此。我们拥有的时候，往往是漠然的，等到一切成为从前，才恍然觉得珍贵。对这段文字概括最恰当的是_____（ ）

- A. 旧事物，总是被诗化 B. 因为失去，所有珍惜
C. 偏是人间留不住，只恨当时作寻常 D. 逝水流年，拥有不如怀念

【答案】C

【解析】文段都在探讨时光最终会变为从前，拥有的时候是漠然的，成为从前的时候才觉得珍贵，体现了一种对时光匆匆而过的惋惜之情，C选项的内容和原文表达的意思一致，故答案为C。

82. 超过一半的人要求将有意义和创意的网络词汇收入词典，代表的是对网络词汇的肯定与重视。但在今天，重视网络词汇，是否非得要通过将之纳入词典的方式来表现？毕竟，相较于传统词汇的变化速度和路径，网络词汇已有很大的不同。比如，不少网络词汇可能火过一阵就开始被遗忘；比如传统汉语中的新词一般是通过入选词典而被加以确认，从而逐渐被推广、使用，但网络词汇却无需词典这类官方力量的“加冕”，而更多源自自发式生长。这段文字意在说明_____（ ）

- A. 我们对网络词汇需要有开放的态度 B. 网络词汇相较于传统词汇没有生命力
C. 将某些词汇纳入词典，确有必要 D. 网络词汇是否纳入词典，无关紧要

【答案】D

【解析】第一句话援引他人的观点，认为网络词汇应该收入字典，后面出现转折词，表明作者是不认同前面的观点的，所以作者认为网络词汇没有必要收入字典，最后一句话“但网络词汇却无需词典这类官方力量的“加冕”，而更多源自自发式生长。也是体现了相同的观点，答案选D。

83. 当炫耀式旅游成了目的，扎堆往知名景点挤，也就在意料之中。其实旅游作为一种现代的生活方式，可以有多样化的功能。如果是为了教育，可以带孩子去看看名山

大川、古城遗迹，帮助他们了解国家的历史和文化传统；如果是为了休闲放松，可以去海边、深山、或者就近选择市郊的农家小院。能短暂逃避尘世喧嚣就好。理性面对旅游目的，寻找合适的度假所在，才是健康的旅游观念，才能更好的享受旅游的快乐。旅游观念转型升级，旅游市场分化，人满为患的现象才可能消失，旅行中的快乐亦会更加醇厚。根据这段文字，旅游观念的“转型升级”指的是_____（ ）

- A. 实现多样化的功能 B. 赋予旅游实际意义 C. 理性面对旅游目的 D. 享受旅行中的快乐

【答案】C

【解析】首先定位原文，转型升级为旅游观念的变化。

文段首先介绍当今一些旅游以炫耀为目的，随后指出旅游可以有多样化的功能，并以教育、休闲放松为例解释说明，最后一句强调以理性面对旅游目的才能达到好的结果，故作者意在倡导由炫耀的想法转变为理性的看待，对应选项为C。

A项，实现多样化的功能，是指观念转型升级后产生的良好结果，并非观念的变化，排除；B项，赋予旅游实际意义，无法体现观念的转变，排除；D项，享受旅行中的快乐，仅为多样化功能中的一个方面，表述片面，且不属于观念的转变，排除。

84. 自从1958年第一个永久起搏器被植入人体后，可植入医疗设备的制造商就在不断研究为其产品提供电能的各种方法。不可充电的锂电池目前较为普遍，在心脏病和神经源性疾病的移植设备中，不可充电的锂电池一般能够使用7年到10年，已经属于比较“长寿”的了。研究者认为，除非在生物电池领域取得突破性进展，否则植入式设备始终无法真正永久、可靠地工作。这段文字意在说明_____（ ）

- A. 可植入设备目前主要用于医疗领域 B. 神经源性疾病的治疗需引入新技术
C. 供电能力目前是可植入设备的瓶颈 D. 可植入医疗设备的发展前景较广阔

【答案】C

【解析】文段首先介绍自1958年以来，可植入设备提供电能的方法不断被研究，之后提到不可充电的锂电池寿命也只有7~10年，最后强调了如果供电问题无法解决，可植入设备就无法永久工作。文段的中心强调供电能力一直以来都是可植入设备需要解决的问题，对应到C项的“瓶颈”。A、B两项文段并未及，均排除。D项，表述的感情色彩过于乐观，文段说的是还有问题没有解决，无法知道前景是否广阔，排除。因此C项当选。

85. 我们已经目睹，那些科幻小说中原本只存在于想象之中的未来科技逐一实现，并

上岸地址：盐湖区中银大道福瑞特超市对面华图教育7层

上岸热线：0359-2625261

且改变了真实的世界。也许有一天，科幻小说不再思索和模拟技术的实际作用，而把全部注意力放在叙事者的主题，人类宿命甚至宇宙命运之上，我们仍要感谢它们帮助我们幻想过未来世界。只是，但愿永远可以有人像儒勒·凡尔纳在一百多年前那样由衷地发问：难道人们真的不可能用更短的时间环游地球吗？

根据这段文字可以知道，作者希望科幻作品_____（ ）

- A. 能够继续激励和启发未来科技的创新
- B. 尽可能想象科技发展对人类的影响
- C. 更加关注科幻故事情节本身的发展
- D. 应努力探讨未来科技应用的具体表现

【答案】A

【解析】文段首先肯定了科幻小说中想象科技的实现及其对真实世界的改变，然后假设科幻小说有一天即使注意力从思索变成了叙事，我们还是要感谢它们帮助我们幻想过未来。最后一个“只是”表转折，后边是文段的重点，即期望科幻小说始终能够引导人们去思考和创新，对应C项。A项，文段的意思不是“想象”，而是科技实际对我们的影响。B与文段中心相悖，文段突出强调的是科幻作品对现实世界的影响。D项表述的是科幻作品的内容，不是文段重点意思。因此C项当选

86. 如果能够做好南极生态环境的承受力评估，并严格执行有关规定，南极旅游造成的生态影响就可以得到有效控制。因为与南极大陆极为广袤的地域相比，游客活动的地域仅为面积的3%左右，而如何管理好长期设在南极的科考站，是更为棘手的问题尤其是一些被废弃的科考站，已对南极生态环境造成了新的威胁。这段文字意在强调_____（ ）

- A. 南极生态环境评估的意义
- B. 南极生态旅游的发展前景
- C. 南极生态环境管理机制的必要性
- D. 南极科考站对当地生态环境的影响

【答案】C

【解析】本题考查意图推断。文段包含两层意思：一是做好南极生态环境的承受力评估并严格执行相关规定，南极旅游造成的生态影响可得到有效控制，也就是说对南极生态环境而言南极旅游需要管理好；二是管理好设在南极的科考站，也就是说对于南极生态环境造成新威胁的“南极科考站”要管理好。综合两方面的内容，即南极生态环境管理工作要做好。与此相符的为C项。故正确答案为C。

87. “微创新”。这个概念正在成为中国企业尝试的新方向。今天的技术革新在很多时候已经不再是颠覆性的更新换代。任何针对用户体验的微小改变，都可能引爆整个市场。微博是在博客基础上的微创新，用140个字拉低了用户门槛，迅速引发了全民微

博对于习惯了模仿的企业来说.如何不让微创新成“山寨”的代名词,是问题的关键。特别是在互联网领域,像团购这样的一窝蜂现象屡见不鲜,然而其中很难看到“微创新”在发挥作用这段文字用“团购来说明____()

- A. 盲目从众的现象 B. 更新换代的趋势 C. 复制与模仿的做法 D. 集体相约采购的行为

【答案】C

【解析】本题考查主旨概括。由“像团购这样的一窝蜂现象屡见不鲜”可知,这是举例,举例一般针对的是其证明对象。这里具体分析,团购形容的是“一窝蜂现象”。“一窝蜂”形容很多人同时说话或行动,与前文“对于习惯了模仿的企业”相呼应,可知“团购”是为了说明复制与模仿的做法,本题答案为C。

88. 精神上的贫困.往往比物质上的贫困更可怕,有些贫困地区和贫困村多年来扶而不起,帮而不富.助而不强.与缺乏穷则思变.穷则思勤的奋斗精神有一定关系。有些地方主动“返贫”.乐当贫困县,不愿摘穷帽子.有的贫困户发展农副产业不积极争当低保户却很积极.从中都能发现“思想贫困”“志气贫困”的影子,“苦干不如苦熬”“等着别人送小康”.类似思想可以说都是脱贫攻坚路上的拦路虎、绊脚石。扶贫扶志,首先就要对准这些观念和心态定点滴灌、靶向治疗。最适合做以上文字标题的一项是____()

- A. 广义的扶贫扶志 B. 打好脱贫攻坚战 C. 可怕的精神贫困 D. 扶贫路上的拦路虎

【答案】C

【解析】此题属于标题添加。根据标题添加的做题思路,首先要确定文段核心话题和主旨。第一句话说明精神贫困相较于物质贫困更可怕。第二句和第三句进行具体的论证,第四句阐明精神贫困的危害,是脱贫的拦路虎和绊脚石,第五句说明需要解决这类精神贫困的问题。文段通过分析属于总分文段,强调精神贫困是可怕的。所以标题中要体现出主题词精神贫困。观察选项只有C是符合要求的。“扶贫扶志”不是文段的核心话题,故排除A;B项过于笼统,没有突出精神扶贫,故排除;D项这个标题虽然很形象也很有吸引力,但是缺少“精神贫困”的话题,且,只是文段部分内容,故排除。很多同学一看到D项,觉得很有标题的“气质”,毫不犹豫就选了D,就落入了形式主义的圈套,犯了“先入为主”的错误。

阅读下列文段.回答第89-93题

上岸地址:盐湖区中银大道福瑞特超市对面华图教育7层
上岸热线:0359-2625261

地震发生时,最基本的现象是地面的连续振动,主要是明显的晃动。极震区的人在感到大的晃动之前,有时首先感到上下跳动。这是因为地震波从地内向地面传来,纵波首先到达的缘故。横波接着产生大振幅的水平方向的晃动,是造成地震灾害的主要原因。1960年智利大地震时,最大的晃动持续了3分钟。地震造成的灾害首先是破坏房屋和构筑物,如1976年中国河北唐山地震中,70%~80%的建筑物倒塌,人员伤亡惨重。地震对自然界景观也有很大影响。最主要的后果是地面出现断层和地裂缝。大地震的地表断层常绵延几十至几百千米,往往具有较明显的垂直错距和水平错距,能反映出震源处的构造变动特征。但并不是所有的地表断裂都直接与震源的运动相联系,它们也可能是由于地震波造成的次生影响。特别是地表沉积层较厚的地区,坡地边缘、河岸和道路两旁常出现地裂缝,这往往是由于地形因素,在一侧没有依托的条件下晃动使表土松垮和崩裂。地震的晃动使表土下沉,浅层的地下水受挤压会沿地裂缝上升至地表,形成喷沙冒水现象。大地震能使局部地形改观,或隆起,或沉降,使城乡道路圯裂、铁轨扭曲、桥梁折断。在现代化城市中,由于地下管道破裂和电缆被切断造成停水、停电和通讯受阻,煤气、有毒气体和放射性物质泄漏可导致火灾和毒物、放射性污染等次生灾害。在山区,地震还能引起山崩和滑坡,常造成掩埋村镇的惨剧。崩塌的山石堵塞江河,在上游形成地震湖。

89. 文中提到“唐山地震中,70%~80%的建筑物倒塌,人员伤亡惨重”,旨在说明____()

- A. 地震的表现即地面的破坏 B. 地震首先破坏地面建筑物
C. 地震灾害后的主要表现 D. 地震带给人类巨大的伤害

【答案】B

【解析】此题属于语句理解题。注意第一自然段最后一句所举得例子“唐山地震中,70%~80%的建筑物倒塌,人员伤亡惨重”,这句话的主要作用就是说明之前出现的观点,也就是该句的前一句“地震造成的灾害首先是破坏房屋和构筑物”一句,B项表述正确。A、C、D都与题意不符,故正确答案为B。

90. 属于地震“次生灾害”的是____()

- A. 桥梁断裂 B. 管道破裂 C. 山体滑坡 D. 通讯中断

【答案】

【解析】

91. 下列说法不符合文意的是____()

- A. 地震中道路旁出现的地裂缝直接与震源的运动相关
- B. 造成地震灾害的主要原因是横波产生的大振幅晃动
- C. 地震中发生的火灾很可能是地震波造成的次生影响
- D. 地震中喷沙冒水的现象也是地震晃动产生的结果

【答案】

【解析】

92. 下列说法符合文意的是____ ()

- A. 地震极震区的人首先必定感受到上下跳动
- B. 山区发生地震就会造成掩埋村镇的惨剧
- C. 地震造成地形的改变既有隆起也有下降
- D. 地震崩塌的山石往往在山下形成地震湖

【答案】

【解析】

93. 本文主要讨论的问题是____ ()

- A. 地震产生的原因
- B. 地震的次生灾害
- C. 地震的各种现象
- D. 地震造成的危害

【答案】

【解析】

94. 虽然现在用户对于不明来历的电子邮件普遍存在戒心，但是黑客____，如今，诱人产生好奇心的诱饵已经出现在网络、社交软件、移动设备上，而且已经不限于色情、惊奇的信息，而是包括诸如“工资单”“对账单”等。填入画横线部分最恰当的一句是____ ()

- A. 已经把重点放在其他媒介上
- B. 正在不断地开新的战场
- C. 更善于抓住人们的兴趣点
- D. 绝对不会就此偃旗息鼓

【答案】B

【解析】此空位于文段中部，作用为承上启下。文段后半部分强调了两个点：①黑客活动媒介不断增多；②诱饵内容不断更新，更贴近于使用者的兴趣点。对此信息概括最全面、准确的为B项。A项与C项只对应了其中一方面的信息，表述片面，排除。D项不会偃旗息鼓意思指向性不明确，并不能直接、准确地反映黑客行为在媒介、内容上的新做法，故排除。

95. 一位科学家用玻璃板把大鲨鱼和小鱼隔开，大鲨鱼欲捕食小鱼但展及推到玻璃隔板一段时间后悄悄移开隔板，大鲨鱼却不再攻击小鱼了，这段文字接下来最可能讲述的是_____（ ）

- A. 不同种族之间完全可以和谐相处 B. 因循守旧者，只会一再品味失败
C. 固化的经验对我们的思维影响不大 D. 适应新环境，把握新机遇需要新思维

【答案】D

【解析】由文段可知，开始大鲨鱼屡屡撞到玻璃板，后来随着撤掉隔板，情境发生变化，但是大鲨鱼因为形成已有的思维定势，不会因势而变，最后不再攻击小鱼。故下文应围绕该故事所蕴含的哲理继续论述，即对于新环境应尽快适应，打破固化经验的束缚展开论述。D项最为合适。

A项，内容流于故事表面偏离核心观点，而且“和谐相处”与文段讨论话题无关，排除。

B项，“因循守旧者，只会一再品味失败”其实是第二个分句表述的内容，后文不会再论，排除。

C项，“对我们的思维影响不大”与文段寓意不符，“大鲨鱼却不再攻击小鱼”所蕴含的观点正是思维容易受到固化经验的影响，排除。

96. 在文字还不普及的时代，民间故事承担了培养人生观、道德观、伦理观的职能，听故事是人们学习传统文化、自然知识、人生哲学等的重要渠道。然而，飞速发展的现代科技正在深刻改变着人们的生活方式，也极大地影响着人们的接受习惯和审美趣味。当下的年轻人对传统文化的感知和了解，更多的是通过影视作品、网络小说、电子游戏等途径，年轻人对传统民间故事中的一些经典形象越来越陌生，不少专家学者表示，打捞“失落”的民间故事刻不容缓。接下来最可能讲的是_____（ ）

- A. 民间故事与传统文化之间的关系 B. 年轻一代对民间故事的了解状况
C. 现代科技对民间故事传播的冲击 D. 让民间故事为现代人接受的途径

【答案】D

【解析】文段尾句提出对策，指出对民间故事进行打捞刻不容缓。按照正常逻辑可知，下文应阐述如何让民间故事为现代人所接受的具体措施，对应D项。A项“民间故事与传统文化之间的关系”并非尾句谈论的重点，排除。B项“年轻一代对民间故事的了解状况”和C项“现代科技对民间故事传播的冲击”为前文已经提过的内容，均排除。因此A项当选。

97. ①各国对于发动机的制造工艺是严格保密的, 甚至对一些顶级的发动机严格控制出口

②发动机可以说是工业的心脏

③因此, 自主研发成为治愈中国工业“心脏病”最为现实的选择

④发动机制造水平上不去, 是中国工业的“心脏病”

⑤这使得进口高级发动机的生产线成为奢望

⑥从轮船、汽车、飞机到火箭, 都离不开发动机

将以上 6 个句子重新排列, 语序正确的是_____ ()

- A. ②⑥④①⑤③ B. ⑥④②⑤①③ C. ①③⑤④⑥② D. ④②⑥③①⑤

【答案】A

【解析】本题考查语句排序。本题可以由关键词进行解答。发动机出现频率太高, 我们找出出现频率中等的, 很明显可以看到②在说“是工业的心脏”; ③说的是“治愈工业心脏病”; ④说“是工业的心脏病”, 很明显, 要有心脏, 才能有心脏病, 才能治愈心脏病, 那么②在④前面, ④在③前面, 符合题意的只有 A 选项。故正确答案为 A。

98. ①这不仅表明了工业社会对于文化生产的接管、改造和重新规划, 而且, 技术的意义开始占据前所未有的份额

②电影的诞生是技术介入艺术的里程碑事件

③技术始终是文化生产的组成部分

④尽管如此, 技术从未扮演艺术的主角

⑤庄子、杜甫、苏东坡, 《窦娥冤》《红楼梦》, 这些经典令人敬重的原因是深刻的思想和洞察力, 而不是由于书写于竹简, 上演于舞台, 或者印刷在书本里

⑥从青铜铸鼎、笔墨纸砚到瓦舍勾栏的兴盛、印刷时代的降临, 艺术符号的制作及其传播从来没有离开技术的支持

将上述 6 个句子重新排列, 语序正确的是_____ ()

- A. ③⑤④⑥②① B. ⑥⑤④②①③ C. ③⑥④⑤②① D. ⑥④⑤③②①

【答案】C

【解析】第一步, 分析选项, 判断首句。观察选项, 首句锁定在③和⑥两句当中, ③句提出观点, 引出“技术”话题, ⑥句通过具体事例论对观点加以论证, 因此, 应该是③句在前, ⑥句在后的排序, 故而③句更适合做首句, 排除 B 项和 D 项。

上岸地址: 盐湖区中银大道福瑞特超市对面华图教育 7 层

上岸热线: 0359-2625261

第二步，验证选项，观察A项和C项，发现③句后面分别跟了⑤句或⑥句，在第一步判定首句时已经证明⑥句是对③句的进一步补充，且根据话题一致原则，两句应衔接紧密，故③⑥是可以放在一起的，锁定答案C。反观③和⑤发现，⑤句在讲经典令人敬重的原因，而③句的话题是技术，话题衔接不够紧密，故排除A项。因此，选择C选项。

定义判断

99. 伦理信用是指人们交往中由一定的预先约定、契约、承诺、誓言等引发的一种伦理关系，其蕴涵的合理秩序则凝结为遵守诺言、履行约定的道德准则，人们基于对信用伦理关系合理秩序的理解和规则的践行便形成了相应的道德品行。根据上述定义，下列涉及伦理信用的是_____（ ）

- A. 赵某答应了丈夫的临终请求，在丈夫去世后，对丈夫前妻留下的两个孩子视如己出，将他们抚养成人
- B. 陈某看到一群人在围殴邻居的孩子，他一边报警，一边跑上前去大声喝止
- C. 王某父亲曾借给张某 10 万元，王父去世后，王某要求张某还钱
- D. 李某家乡发生洪涝灾害，不少农民颗粒无收，父亲要求他发动其公司员工和微信圈朋友捐钱捐物

【答案】A

【解析】A 项：赵某答应了丈夫的临终请求，属于“预先约定、契约、承诺、誓言”，对丈夫前妻留下的两个孩子视如己出，抚养成人，属于“遵守诺言、履行约定”，符合定义，当选；

B 项：陈某喝止围殴孩子的人，不属于“预先约定、契约、承诺、誓言”，也不属于“遵守诺言、履行约定的道德准则”，不符合定义，排除；

C 项：王某要求张某还钱，没有涉及道德准则，不符合定义，排除；

D 项：父亲要求李某发动其公司员工和微信圈朋友给灾民捐钱捐物，不属于“预先约定、契约、承诺、誓言”，也不属于“遵守诺言、履行约定的道德准则”，并且选项并未明确说到李某是否这样做了，不符合定义，排除。

100. 木椅子效应是指将成绩相等的两组学生分别安排坐在舒适的沙发椅和很不舒服的木椅子上学习，不久之后，坐木椅子的学生学习成绩要比坐沙发椅的学生成绩高出很多。原因是坐木椅子的学生因为不舒服而不断调整坐姿，表面看来好像不安而好动，实质却因此给脑部供应了更多的血液和营养；而坐沙发椅的学生，由于舒适而一动不动

上岸地址：盐湖区中银大道福瑞特超市对面华图教育7层

上岸热线：0359-2625261

动，致使血液循环相对减慢，脑部得到的血液和营养相对减少，学习效果因此就差一些。根据上述定义，下列选项最能体现木椅子效应的是_____（ ）

- A. 某学生从小到大饱受责罚，学习成绩一直不理想
- B. 小刚每天步行上学和回家，风雨无阻却学得很好
- C. 某家长为鼓励孩子暑天学习，每天为其提供冷饮
- D. 搬入新书房一个月后，小明的成绩名次一路攀升

【答案】B

【解析】本题定义没有关键点提取，经过概括归纳为：不舒服的状态反而学习好。A项中，学生从小到大饱受责罚，体现了不舒服的状态，但是学习不好，不符合定义，排除。B项中小刚每天步行上学和回家，风雨天也是如此，体现了不舒服的状态，并且学得很好，符合定义。C项中家长每天鼓励孩子并为其提供冷饮，并未体现不舒服的状态，不符合定义，排除。D项中搬入新书房不明确是否是不舒服的状态，不符合定义，排除。因此答案是B。

101. 语句的示意功能是指通过语句表达某种通知、告诫、命令或请求，目的在于要求别人按照语句表达的思想，做出或不做出某种行为。根据上述定义，下列没有反映语句的示意功能的是（ ）

- A. 全体学生请到操场集合
- B. 请您务必不要践踏草坪
- C. 禁止生产假冒伪劣产品
- D. 销售部现在应该在开会

【答案】D

【解析】A项：全体学生请到操场集合，属于方式中「通过请求」这一方式，目的也是希望全体同学到操场集合，符合定义，选非排除；

B项：请您务必不要践踏草坪，属于方式中「通过请求」这一方式，目的也是希望不要践踏草坪，符合定义，选非排除；

C项：禁止生产假冒伪劣产品，属于方式中「通过命令」这一方式，目的也是为了禁止生产假冒产品，符合定义，选非排除；

D项：销售部现在应该在开会，并没有体现出题干中的方式和目的，不符合定义，选非当选。

102. 土壤是岩石在风化作用下破碎，物理化学性质改变后形成结构疏松的风化壳，风化壳在气候与生物的作用下，经历很长时间形成的地表物质。与土壤自然形成过程无关的外来物质被称为土壤侵入体。根据上述定义，下列属于土壤侵入体的是_____

()

- A. 戈壁滩中大量的沙砾 B. 河床上存在的大量鹅卵石
C. 考古发掘中挖出的砖瓦 D. 岩缝中生长的野草

【答案】C

【解析】“岩石在风化作用下破碎”、“气候与生物的作用下”、“与土壤自然形成过程无关的外来物质”。A项：戈壁滩中的沙砾满足“岩石在风化作用下破碎”，是自然过程，不符合定义，排除；B项：鹅卵石本身是岩石的一种，属于土壤形成过程中的一部分，不符合定义，排除；C项：考古发掘出的砖瓦显然属于人造物，并非土壤自然形成过程，符合定义，当选；D项：岩缝中生长的野草满足关键词“气候与生物的作用下”，不符合土壤侵入体定义，排除。

103. 垂直绿化指的是利用攀援植物向空中生长进行纵向绿化的一种方式，以期达到在有限面积内最大限度地利用空气和阳光来提高绿化的效率。根据上述定义，下列涉及垂直绿化的是____ ()

- A. 爬山虎爬满了墙头和屋顶
B. 松树林从山脚一直延伸到山顶
C. 利用巴根草匍匐攀援的特性，人们在沙漠中逐渐开拓出一片绿洲
D. 在丘陵地区，人们常使用飞机从空中播种的方式对山地进行绿化

【答案】A

【解析】本题考查生态学定义。垂直绿化的定义要点是：①利用攀援植物向空中生长进行纵向绿化；②在有限面积内最大限度的提高绿化的效率。符合这两项定义的只有A项，BCD均不符合定义①②，故答案为A。

104. 矩阵对策是指处于利益竞争的两个关系主体，各自可选的策略有限，且在一局对策中双方得失和为零的现象，即要不成功、要不失败。对策中，一方真正成功的措施应该是，针对对方所采取的行动相应地制定有利于自己的应对策略，各方选择的策略必定是自己对对方策略预测的最佳反应。根据上述定义，下列属于矩阵对策的是____

()

- A. 在进入奥运女子排球决赛后，某国家队重新安排队员阵容和出场顺序
B. 齐王和田忌按原条件重新赛马，并约定每局比赛须用同等级的马参赛
C. 劳资双方进行薪资谈判，经过反复的讨价还价，最终双方都作出让步
D. 丈夫要去踢球，妻子要去看电影，儿子要去游乐园，最后三人去郊游

上岸地址：盐湖区中银大道福瑞特超市对面华图教育7层

上岸热线：0359-2625261

【答案】A

【解析】关键词1 主体：处于利益竞争的两个关系主体；关键词2 结果：针对对方所采取的行动相应地制定有利于自己的应对策略，是对对方策略的最佳反应。B项不符合对对方策略预测作出最佳反应；C项劳资双方不属于处于利益竞争关系的主体，主体不对；A项在进入奥运女子排球决赛后，某国家队重新安排队员阵容和出场顺序，符合对对方策略预测的最佳反应且必有胜负；D项一家三口不属于处于利益竞争的两个关系主体，主体不对。

105. 垂直搜索引擎是针对某一行业的专业搜索引擎，是对网页资源中的某类专门的信息进行一次整合，定向分字段抽取出需要的数据进行处理后再以某种形式返回用户。根据上述定义，下列应用与垂直搜索引擎关系最为密切的是（ ）

- A. 在某个购物网站上在线购买鞋子 B. 登陆央视网站查询某个城市天气
C. 用百度音乐搜索自己爱听的歌曲 D. 在图书馆网站上查询该馆的藏书

【答案】C

【解析】垂直搜索引擎的定义要点是：①针对某一个行业；②网页资源；③整合。A项，某个购物网站是在其网站内部进行资源整合，不是一个行业，不符合①；B项，是网站内部某个信息的查询，不符合①③；D项，也是网站内部进行搜索，不是一个行业，并且整合的是图书实体资源，不符合①②；C项，符合定义要点。

106. 红旗原则是指如果侵犯著作权的事实是显而易见的，网络服务商就不能装作看不见，或以不知道侵权的理由来推脱责任。根据上述定义，下列适用红旗原则的情形是（ ）

- A. 未经用户许可，某客户端软件就能够自动扫描、获取用户个人数据
B. 甲某利用网络服务商提供的免费存储空间，非法经营盗版影视作品
C. 乙某上传正在首播的某热门电视剧，并被网站编辑推荐到下载首页
D. 丙某通过第三方在有下载功能的互联网电视上获取未经授权的节目

【答案】B

【解析】根据定义，适用红旗原则应当满足以下条件：（1）网络服务使用者侵犯著作权；（2）侵权事实显而易见；（3）网络服务商有责任。A项，该客户端软件获取用户数据侵犯的并非著作权，不符合（1），排除。C项仅是一个客观陈述，单从表述中无法判断乙某上传该电视剧是否经过授权（时下不少电视剧已实现电视台与网络同步播出），也就无法认定侵权，不符合（1）和（2），排除。D项，是第三方“向

用户提供未经授权节目的下载服务”这一行为侵犯了著作权，而非网络服务使用者丙某侵犯著作权，不符合（1），排除。B项，甲某作为网络服务使用者，非法经营盗版影视作品，是侵犯著作权的行为，既已认定“非法”、“盗版”，则满足“显而易见”的条件，适用红旗原则。

107. 行政不作为是行政机关对于公民、法人和其他组织的符合条件的申请依法应该实施某种行为或履行某种法定职责却无正当理由拒绝履行或拖延履行的行政违法行为。根据上述定义，下列选项中行政机关行为不属于行政不作为的是_____（ ）

- A. 王某要求所在地交通局告知有关汽车养路费收费标准，三个月未答复
- B. 陈某在某市建设局工作多年，符合职称评定申请，申请职称评定被拒绝
- C. 林某投诉某市医药公司贩卖假药，某市药监局以不属于主管范围而拒绝
- D. 何某因制止违章建筑施工被打伤，公安机关以违章建筑无权处理不理睬

【答案】B

【解析】行政不作为的定义要点为：①行政机关对公民、法人和其他组织的符合条件的申请；②依法应该实施某种行为或履行某种法定职责；③无正当理由拒绝履行或拖延履行的行政违法行为。A、C、D三项都符合定义，B项是行政机关内部人员的申请，不符合定义要点①。故答案选 B。

逻辑判断

108. 在某公司中李明帮助了王刚，而王刚帮助了赵贤，李明纳税比赵贤多。由此可以推出_____（ ）

- A. 王刚纳税比赵贤多
- B. 李明纳税和王刚一样多
- C. 有人帮助了一个纳税比他多的人
- D. 有人帮助了一个纳税比他少的人

【答案】D

【解析】由题干可知：①李明→（帮助）王刚，而王刚→（帮助）赵贤，李明→（帮助）赵贤。②李明纳税比赵贤多，因此只能推出 D 项，有人帮助了一个纳税比他少的人。A、B、C 三项都不能确切推出，只有 D 项有存在的可能，当选。

109. 大学毕业的张、王、李、赵 4 人应聘到了同一家大型公司，每人负责一项工作其中一人做行政管理，一人做销售，一人做研发，另一人做安保。已知：

- ①张不做行政管理，也不做安保；②如果张没有做研发，那么赵也没有做行政管理
- ③王不做行政管理，也不做研发；④李不做行政管理，也不做安保；
- ⑤赵不做研发，也不做安保。

由此可以推出_____ ()

- A. 张做销售. 李做研发 B. 赵做研发. 李做销售
C. 李做销售. 张做研发 D. 李做研发. 赵做安保

【答案】C

【解析】首先从关联项行政管理入手，张不做行政管理，王不做行政管理，李不做行政管理可以直接得知赵做行政管理，据此可以排除 BD 两项。再根据如果张没有做研发，那么赵也没有做行政管理，而且赵做了行政管理，可以得知张做了研发，排除 A 项，选择 C。

类比推理

110. 词典：词语 ()

- A. 地图：地点 B. 盲文：阅读 C. 电影：台词 D. 电脑：游戏

【答案】A

【解析】本题考查逻辑关系中的对应关系，词典是对词语进行查询的工具，A 选项中地图是对地点进行查询的工具；B 选项中盲文与阅读属于动宾关系；C 选项中电影与台词或然关系，电影可能需要台词；D 选项电脑是玩游戏的一种工具，因此该题只有 A 选项与题干逻辑最为贴近。

111. 报纸：新闻：时效 ()

- A. 饭店：食物：口感 B. 电视：广告：效果 C. 车站：汽车：速度 D. 展会：照片：像素

【答案】B

【解析】本题考查对应关系与属性关系，报纸是新闻传播的载体，同时新闻具有时效性。A 选项饭店加工食物的地点，食物具有口感的特性；B 选项电视是广告传播的载体，同时广告具有时效性；C 选项车站是汽车停靠的地点，速度是衡量汽车运动时的快慢情况，速度并非汽车的属性；D 选项展会是照片展览的地点，像素是衡量照片清晰的指标，像素并非照片的属性，因此该题 B 选项与题干逻辑最为贴近。

112. 爸爸：叔父：兄弟 ()

- A. 哥哥：婶婶：夫妻 B. 妈妈：嫂子；婆媳 C. 姨妈：伯伯：兄妹 D. 奶奶；姑姑：子女

【答案】B

【解析】本题考查身份角色的对应关系，爸爸与叔父是兄弟关系。A 选项中哥哥与哥

上岸地址：盐湖区中银大道福瑞特超市对面华图教育 7 层

上岸热线：0359-2625261

哥的妻子可以称为夫妻, 婶婶是叔叔的妻子; B 选项中妈妈与嫂子为婆媳关系; C 选项中姨妈为母亲的姐妹, 伯伯为父亲的兄长, 其非兄妹关系; D 选项中奶奶和姑姑是母女关系, 排除, 因此该题 B 选项与题干逻辑最为贴近。

113. 春夏秋冬: 四季 ()

A. 喜怒哀乐: 情绪 B. 赤橙黄绿: 颜色 C. 早中晚: 一天 D. 东南西北: 四方

【答案】D

【解析】题干中左边“春夏秋冬”属于“四季”, 而且另外一个更主要的特点是“四季”也属于“春夏秋冬”, 也就是说他们其实是全同关系, 那么分析到这一点, 答案只能是 D. 做题时一定要细心, 否则很容易出错。

114. 鸳鸯: 凤凰: 雌雄 ()

A. 翡翠: 珊瑚: 红绿 B. 经纬: 阡陌: 纵横 C. 满月: 弦月: 盈缺 D. 锱铢: 分毫: 长短

【答案】B

【解析】鸳鸯凤凰都有雌雄之分, 经纬阡陌都有纵横之分, 故答案为 B。

115. 创新: 僵化 ()

A. 发展: 前进 B. 开放: 闭塞 C. 计划: 秩序 D. 革新: 失败

【答案】B

【解析】本题考查反义词。创新和僵化为一对反义词, 选项中只有开放和闭塞为反义词。A 中发展与前进是近义词, 都为向前进步的意思; C 中计划是对于未来的规划, 秩序是状态描述词, 没有必然关系; D 革新为更新之意, 失败的反义词为成功, 没有必然关系。故答案为 B。

116. 某服装店购进衬衫和背心总共 24 件, 总进价为 400 元。已知衬衫和背心每件的价格分别为 90 元和 10 元。问衬衫总进价比背心总进价____ ()

A. 低 40 元 B. 高 40 元 C. 低 120 元 D. 高 120 元

【答案】A

【解析】这是一道变形的鸡兔同笼问题。假设都进的背心, 则需要花 240 元, 比现在要少花 160 元; 衬衫和背心差价为 80 元, 所以衬衫进了 2 件。由此衬衫总进价比背心总进价低 $10 \times 22 - 90 \times 2 = 40$ 。

117. 某法院的职工到郊外种树。其中有男职工, 也有女职工, 并且有一半的职工各带一个小孩参加, 一共种了 99 棵树。男职工每人种 13 棵树, 女职工每人种 10 棵

上岸地址: 盐湖区中银大道福瑞特超市对面华图教育 7 层

上岸热线: 0359-2625261

树, 每个孩子种 4 棵树, 则男职工有____人。()

A. 1 B. 3 C. 5 D. 7

【答案】A

【解析】设有男职工 x 人, 女职工 y 人, 则孩子有 $\frac{x+y}{2}$ 人, 根据题意可得方程:

$$13x+10y+4\times\frac{x+y}{2}=99,$$

方程可以整理为: $15x+12y=99$

118. 食堂买来 5 只羊, 每次取出两只合称重量。得到 10 种不同重量(单位: 千克)

47. 50. 51. 52. 53. 54. 55. 57. 58. 59. 最重的一只是多少千克? ____ ()

A. 25 B. 28 C. 30 D. 32

【答案】C

【解析】五只羊重量和是: $(47+50+51+52+53+54+55+57+58+59)\div 4=134$ (千克), 根据题意得出两只最轻的羊的重量和 47 千克, 两只最重的 59 千克

所以中间那只羊的重量: $134-47-59=28$ (千克),

重量为 50 的那次是最轻与中间的和, 所以最轻的是: $50-28=22$ (千克)

所以第二轻: $47-22=25$ (千克)

同理可得, 最重: $58-28=30$ (千克),

第二重: $59-30=29$ (千克),

所以五只羊分别重 22 千克、25 千克、28 千克、29 千克、30 千克。

故答案为: 22, 25, 28, 29, 30.

所以最重的一只羊是 30 千克。

119. 4 个班不算甲班有 131 人, 不算丁班有 134 人。乙、丙两班总人数比甲、丁两班少 1 人。求 4 个班的总人数是____人。()

A. 177 B. 76 C. 257 D. 256

【答案】A

【解析】由题意可得: 乙+丙+丁=131① 甲+乙+丙=134② 甲+丁-(乙+丙)=1③

①+②-③可得: $(乙+丙)\times 3=131+134-1$, 故乙+丙=88, 从而甲+丁=88+1=89, 于是 4 个班的总人数为: $88+89=177$ (人)

120. 一个箱子中有若干个玩具, 每次拿出其中的一半再放回去一个玩具, 这样共拿了

5 次，箱子里还有 5 个玩具。箱子原有玩具的个数为____（ ）

- A. 76 B. 98 C. 100 D. 120

【答案】B

【解析】此题从正面入手可考虑用方程式解，计算量较大，比较耗时间，如果考虑从反面入手则快捷许多。箱子里最后一次剩 5 个玩具，那么第四次以后还剩个，同理，第三次以后还剩个，第二次以后还剩个，第一次以后还剩个，那么最初有个，答案选 B。

121. 四个房间，每个房间里不少于 2 人。任何三个房间里的人数不少于 8 人。这四个房间至少有____人（ ）

- A. 9 B. 11 C. 10 D. 12

【答案】B

【解析】由“每个房间里不少于 2 人”和“任何三个房间里的人数不少于 8 人”，为了使四个房间人数最少，则任何三个房间中，有两个房间有 3 个人，一个房间有 2 个人，这样四个房间最少一共有 $2 \times 3 + 2 \times 2 = 10$ 个人。但是当有两个房间有 2 个人时，再取一个房间，则它至少应该有 $8 - 2 \times 2 = 4$ 个人，这样四个房间一共有 $2 \times 2 + 2 \times 4 = 12$ 人。我们可以进行一下调整，把 2 个人的房间之一增加一个人，则其他房间有 $8 - 2 - 3 = 3$ 个人即可，这样四个房间一共有 $2 + 3 \times 3 = 11$ 个人，满足题目要求。

资料分析

阅读下列材料，回答第 122-126 题。

北方某地区粮食作物产量统计图表(万斤/单位)

| 小麦 | 水稻 | 谷子 | 高粱 | 黑豆 | 绿豆 | 黄豆 | 红豆 | 花豆 |
|---------|---------|---------|--------|---------|--------|--------|--------|--------|
| 1200.35 | 548.109 | 230.131 | 82.519 | 360.203 | 179.54 | 83.023 | 54.234 | 26.891 |

注：夏粮：小麦

秋粮：水稻、谷子、高粱、黑豆、绿豆、黄豆、红豆、花豆

豆类：黑豆、绿豆、黄豆、红豆、花豆

非豆类：小麦、水稻、谷子、高粱

高杆作物：高粱

122. 小麦的产量占粮食作物总产量的百分之多少？____（ ）

- A. 41.5% B. 43.5% C. 45.1% D. 46.3%

【答案】A

上岸地址：盐湖区中银大道福瑞特超市对面华图教育 7 层

上岸热线：0359-2625261

【解析】略

123. 豆类作物产量占粮食作物总产量的比例比夏粮作物产量占粮食作物总产量的比例少多少? ____ ()

- A. 21 个百分点 B. 20 个百分点 C. 19 个百分点 D. 18 个百分点

【答案】A

【解析】略

124. 秋粮作物中产量最大的是产量最小的几倍? ____ ()

- A. 45 倍 B. 35 倍 C. 20 倍 D. 18 倍

【答案】A

【解析】略

125. 豆类作物中产量排第二位的占非豆类作物中产量排第二位的百分比是多少? ____ ()

- A. 19.82% B. 28.35% C. 32.76% D. 46.14%

【答案】B

【解析】略

126. 粮食作物中的高杆作物产量占秋粮作物产量的百分之多少? ____ ()

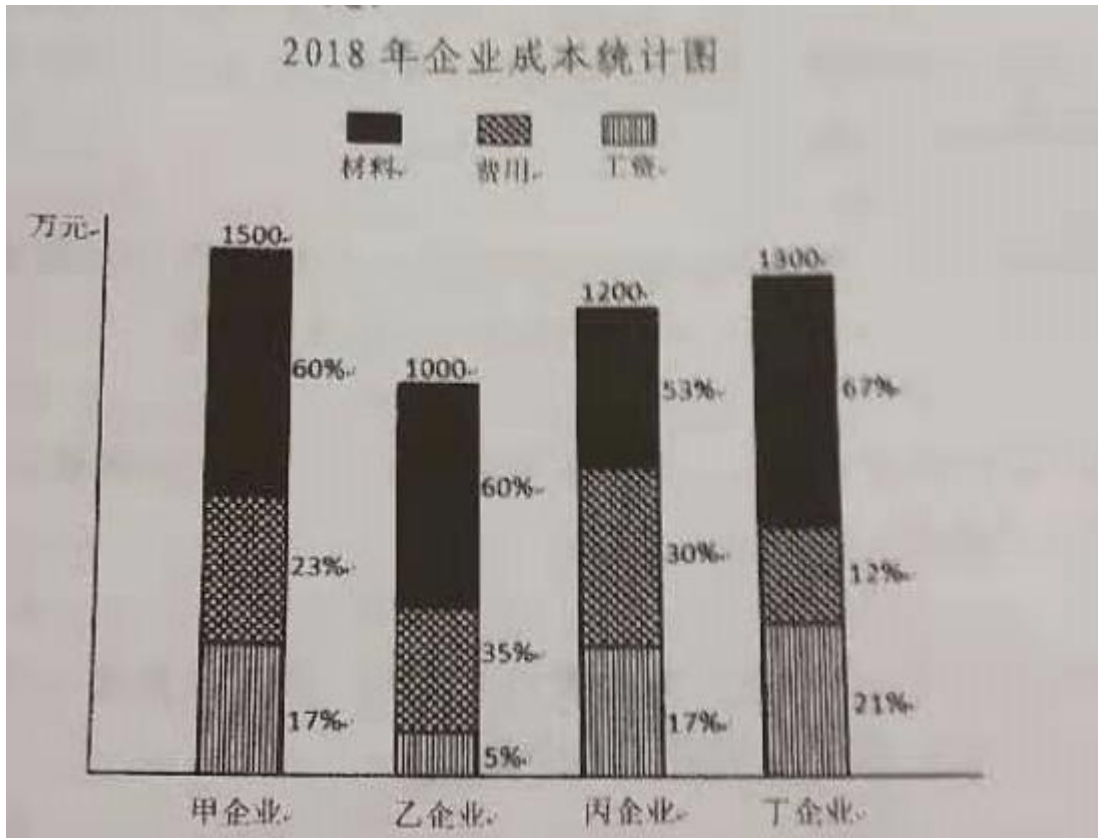
- A. 8.5% B. 5.3% C. 6.4% D. 10.8%

【答案】B

【解析】略

阅读下列材料, 回答第 127-131 题。

2018 年企业成本统计图



127. 费用支出最高的企业是____ ()

- A. 甲企业 B. 乙企业 C. 丙企业 D. 丁企业

【答案】C

【解析】甲企业的费用成本是 $1500 \times 23\%$ 乙企业的费用成本是 $1000 \times 35\%$ 丙企业的费用成本是 $1200 \times 30\%$ 丁企业的费用成本是 $1300 \times 12\%$

128. 材料成本最高的企业是____ ()

- A. 甲企业 B. 乙企业 C. 丙企业 D. 丁企业

【答案】A

【解析】甲企业的材料成本是 $1500 \times 60\%$ 乙企业的材料成本是 $1000 \times 60\%$ 丙企业的材料成本是 $1200 \times 53\%$ 丁企业的材料成本是 $1300 \times 67\%$

129. 支付工资最少的企业是____ ()

- A. 甲企业 B. 乙企业 C. 丙企业 D. 丁企业

【答案】B

【解析】甲企业的支付工资是 $1500 \times 17\%$ 乙企业的支付工资是 $1000 \times 5\%$ 丙企业的支付工资是 $1200 \times 17\%$ 丁企业的支付工资是 $1300 \times 21\%$

130. 成本最大的企业是____ ()

A. 甲企业 B. 乙企业 C. 丙企业 D. 丁企业

【答案】A

【解析】根据三个图可直接观察得到成本最大的是甲企业。

131. 利润排前两位的是____（ ）

A. 甲企业和乙企业 B. 乙企业和丁企业 C. 丙企业和甲企业 D. 无法判断

【答案】D

【解析】题干给出的图是企业各项支出，并不能得到各企业的利润对比情况，故无法判断。



添加老师免费领取运城地区历年真题



华图教育
HUATU.COM

微信: 15525705530/18535971610

华图教育 不过全退

上岸地址: 盐湖区中银大道福瑞特超市对面华图教育 7 层
上岸热线: 0359-2625261