

阳泉行测真题

第一部分 言语理解与表达
(共 40 题)

请根据题目要求，在四个选项中选出一个最恰当的答案。

1.我们创造样东西，____ 只意识到我们以为的那种价值。()，价值是由接受和使用它的人决定的。

划横线处依次填入正确的是()。

A.因为 所以 B.不仅 其实 C.往往 其实 D.不仅 同时

2.真正会沟通的人，____ 你自己说的话特别有意思。()你说的话，让对方很容易接的下去。

划横线处依次填入正确的是()。

A.不但 而且 B.既是 也是 C.不仅 而且 D.不是 而是

3.有一句话说，人生需要四种人。前三个分别是:名师_ 贵人、亲人,还有第四个呢?是“小人刺激”。划横线处依次填入正确的是()。

A.指路 相助 支持 B.支持 相助 指路 C.相助 指路 支持 D.教导 支持 相助

4.有人问台湾诗人余光中:“李敖天天找你茬，骂你，你却从不回应，这是为什么呢?”余光中的回答很妙，他说，“李敖天天骂我，C 他的生活不能没有我:而我不搭理他，____ 我的生活可以没有他。”

划横线处依次填入正确的是()。

A.不是 却是 B.因为 所以 C.证明 说明 D.说明 证明

5.十九大报告强调“我们坚决维护国家主权和领土完整，绝不容忍国家分裂的历史悲剧重演。切分裂祖国 的活动都必将遭到全体中国人坚决反对。我们有_____的意志、_ 的信心、

____的能力挫败任何形式的‘台独’ 分裂图谋。”划横线处依次填入正确的是()。

A.坚定 充分 足够 B.顽强 足够 充分 C.坚强 坚定 坚毅 D.坚牢 坚定 坚韧

6.未来会有一种人，叫“工作提供者”。 就是你有一些爱好，比如说做木匠活儿。

你在做木匠活儿的过程中，能体验到极好的感受。但是你做木匠活的能力，未来肯定比不上机器啊。所以，没有人花钱雇你去干啊。那怎么办？就有一种人，给你提供做木匠活儿的工具、场所、同事和销售渠道。但是请注意，不是他给你发工资，而是你给他交钱。

支持以下观点的是（ ）

- A. 这是小儿科的想象
- B. 你勤奋地干自己想干的事，然后为这件工作买单，
- C. 人类的生活目标，是不想干活
- D. 越勤奋工作越赔本

7. 创业者的思维方式跟一般人不一样，最核心的区别就是，在一般人眼里的社会缺陷，在他们眼里全是机会，举个例子，今年围绕家庭、孩子，爆发的很多恶性事件，什么保姆纵火，幼儿园欺负孩子等。有个创业者说，这些事确实可恨，但也是预示着下一轮的机会

这段文字想要表达的观点是（ ）

- A 创业者的思维是冷酷的，
- B 真正的创业者不能完成社会分工
- C 创业者通过创业有机会解决某些领域的缺陷
- D 家庭服务和早期教育能根本解决很多恶性事件

8. 服务业的品质提升可以举个例子说明：有家餐馆在你点完菜之后，服务员会手放脚样说一段话——我们郑重承诺，所有菜品不合口味可退可换，25分钟内上齐所有菜品。然后拿一个25分钟的沙漏放在客人桌上。

你能从以上一段文字中总结出的服务品质是（ ）

- A. 亲切程度、速度
- B. 郑重程度、速度
- C. 郑重程度、速度、亲切程度
- D. 亲切程度、郑重程度

8. 你发现一个现象没有了？一个人自己是咯吱不了自己的。为啥，因为当你的手伸过来的时候，你的大脑就已经预测到了自己的行动，以及自己身体的感觉。有时，别人也将咯吱不了你，比如，你抓着别人的手咯吱自己，也不会痒。有些事一旦过度控制，就没有了未知的乐趣。

这段文字主要说明了什么（ ）

- A. 这个人的自我控制.
- B 乐趣来自于未知控制就会失去乐趣
- C 别人咯吱你就会有乐概
- D 只要提前预防就一定能不被咯吱

10 一时期的风气经过长时间的保持，没有根本的变动，那就是传统，传统犹钝性，不可变，而事物的演化又使他不得不变，因此规律，习惯不断的**相机破咧**，实际上做出种种妥协，来迁就事物的演变。

文中加点词在文段中的意思是（ ）

- A. 把握时机，委曲求全
- B. 等待时机，破除习惯
- C. 顺应形势，改变常规
- D. 因势利导，不拘一格

11. 下面诗句排列顺序正确的是

①莫道你手巧，更有巧手人 ②莫道君起早，更有早起人⑧辛勤环卫工 ④美在园林工

⑥非夜秋风叶满街，君行街上叶已净⑧剪裁城市满眼春，行人疑在画图中

A. ①⑥④⑤②⑧ B. ②①⑤③⑧④ C. ⑤②③⑥①④D. ②⑥⑧①⑥④

12. 设计问卷调查题时，“你喜欢教师这一受人尊敬的职业吗？”“医生认为吸烟对人体有害，你同意吗？”这类问题，或带有倾向性，或带有诱导性，因此容易使被调查者在趋同心理的支配下，做出与本人真实想法相反的回答。作者想表达的观点是（ ）

A. 设计问卷调查题时，要有倾向性 B. 设计问卷调查题时，要会诱导
C 设计问卷调查题时，要避免趋同心理 D. 设计问卷调查题时，提问方式要中性

13. 微信群里有人说：现在的女孩子，不是女汉子就是女神经，怪不得我找不到女朋友。有人留言就讽刺他说：任何女孩子，只要你没在她身上看到温柔的那面原因很简单，就是因为她没有爱上你。

这段话的观点启示我们（ ）

A. 凡事要到外界去找原因
B. 别人对你呈现的样子，是你自己的责任
C. 女孩呈现出温柔的样子，一定是爱上了你
D. 女孩没有爱上你，99%是自己的问题，1%是她的问题

14. 听老人说当年过集体生活的时候，物资匮乏，吃食堂有一个经验，就是饭上来之后，第一就饭只能盛半碗，因为刚上来的饭很烫，盛半碗散热快，很快吃完，就可以去盛第二碗。第二碗饭不那么烫了，可以狼吞虎咽。但也是平平碗就可以了，目的是有机会抢盛第三碗。第三碗就要能盛多少是多少，所以要溜尖。

如果给本段文字加个标题，你认为最恰当的是（ ）

A. 集体生活的方法 B. 食堂吃饭的体会
C, 集体生活，吃饭为哈讲究“半，二平。三滴尖”
D 物资匮乏的应对策略

15. 依次填入下文横线处的句子，最恰当的项是（ ）>

在先秦，主要有五种人格理想：墨子的苦行快人格： ↓ 杨朱的贵我人格：
孟子的大丈夫人格： ；荀子的君子式人格： ___ :再一种便是庄子式人格了：独
来独往，不去面，若重天之云，悠悠往来聚散，在一种远离的姿态中是出格外
的美丽与洒脱。①锋芒毕露，正义在胸 ②赴汤蹈火，摩顶放踵，利天下而为之③
平和公正，循规跟矩 ④绝对自我，拔一毛而利天下，不为也

A. ②①③④ B. ②④①③ C. ③④①② D. ②③①④

16. 坚信一首诗的沉默比所有的扩音器加起来更清晰，比机枪的口才野炮的雄辩更持久，坚信文字的冰库能冷藏最烫的激情最新鲜的想象。时间，你带得走歌者带不走歌。

最接近上文意旨的是（ ）

- A. 笔落惊风雨，诗成泣鬼神。 B. 不惜歌者哭，但伤知音稀。
C. 岳平词赋悬日月，楚王台榭空山丘。 D. 诗可以兴，可以观，可以群，可以怨。

17. 阅读文字回答问题

黄蓉道：“做这篇文章的范文正公，当年威震西夏，文才武略，可说得上并世无双。”郭靖央她将范仲淹的事迹说了一些，听她说到他幼年家贫、父亲早死、母亲改嫁种种苦况，富贵后简朴异常，处处为百姓着想，不禁油然起敬，在饭碗中满满斟了一碗酒，仰脖子一饮而尽，说道“_____，大英雄大豪杰固当如此胸怀！”

黄蓉道：“当面撒谎！你有这许多女人陪你，还寂寞么？”欧阳克张开折扇，扇了两扇，双眼凝视着她，微笑吟道：“_____”黄蓉向他做个鬼脸，笑道：“我不用你讨好，更加不用你思念。”

依次填入上文横线处的句子，最恰当的一项是（ ）。

①心旷神怡，宠辱偕忘②先天下之忧而忧，后天下之乐而乐③悠悠我心，岂无他人？唯君之故，沉吟至今④日暮长江里，相邀归渡头。落花如有意，来去逐船流

- A. ①③ B. ②③ C. ②④ D. ①④

18. 下列用来比喻“无缴为力，莫可奈何”词语的是（ ）。

- A. 形同笔路 B. 妄自菲薄 C. 望洋兴叹 D. 不可理喻

19. “城中好高髻，四方高一尺；城中好广眉，四方且半额；城中好大袖，四方全匹帛”是一首次代流行的歌谣，下列文句，与其意义最接近的是（ ）。

A. 风行草偃，变本加厉 B. 入乡问禁，入境随俗

B. 人弃我取，人取我予 D. 追求时髦，风尚互异

20. 下列句子中没有效义的一句是（ ）

A. 每年进入劳动年龄的人口数很大，安排城镇青年劳动力就业是一项相当繁重的任务

B. 有偿新闻应当受到严肃批评，这是极其错误的

C. 身残志坚的老孙的儿子，受到大家的称赞

D. 天黑路滑，重重地摔了一跤，没办法，我只好扶着他走。

21. 在全校大学生花样篮球技能比赛中，耀妹技高一筹，以出色的成绩夺得全校第一。

替换划横线处词语最恰当的一项是（ ）。

- A. 技艺高超 B. 技术娴熟 C. 技压群芳 D. 技艺精湛

22. 因为腰上，一脸痛苦的开哥不得不中止了比赛，退出计算机系组织的篮球对抗赛，他离去的背影让班里加油鼓励的 50 位女粉怅然若失。

替换划线处词语最恰当的一项是（ ）。

- A. 愁眉苦脸 B. 心灰意冷 C. 引以为憾 D. 目瞪口呆

23. 根据多年对我校大学生的跟踪调查，男大学生每月的伙食费大约需要 500 元。

替换划线处词语最恰当的一项是（ ）

- A. 大多 B. 大至 C. 几乎 D. 大致

24. 下列成语中没有错别字的一项是（ ）

- A. 嘎然而止 B. 大名顶顶 C. 技带就班 D. 不足挂齿

25. 下列句子中有错别字的项是（ ）

- A. 素有“天下第一行书”美誉的《兰亭序》是学习行书的首选字帖。
B. 夜晚，弃风沉醉，和平安样，这是一幅多么让人心驰神往的画面啊，
C. 太原市晋祠公园下 10 月 1 日重新开园，经过近半年的整修，面目烧然新
D. 快意同舒适像是一对率生兄弟，时而相傍相依，时而南辕北城。

26. 下列字形相同的字读音都正确的项是（ ）。

- A. ①你得提(ti)防颈椎病
②班长这个问题提(ti)得好，所以很受女生的欢迎
B. ①比花倒还中(zhong) 看些
②从生活中(zhong) 提炼诗情
C. ①踏进成年行(hang) 列的北极熊有较强的生存能力
②论起行(hang) 辈来，他年龄虽小辈分却高
D. ①参加职后培训的工人师傅们年龄参(can) 差不齐
②郭利明参(can) 加了 50 米体侧，却摔出去有 8 米远

27. 下列各句中，划线的成语使用恰当的一项是（ ）。

- A. 在飞速的高速列车上，人们津津乐道地谈论着乘坐高铁出行带来的快捷与方便。
B. 日本文部省别具匠心地一再修改历史教科书，掩盖其侵华战争的历史罪行。
C. 中国古典家具曾经非常受消费者青睐，后来很长一段时间市场上却没有了踪影，球崇古风气盛行的今天，它又渐入佳境了。
D. 最后几年，由于市场竞争加剧，小家电生产企业加速整合，目前只剩下五六家分庭抗礼，占据了全省 60% 的市场份额。

28. 下列句子中没有语病的一项是（ ）

- A. 这条隧道已使用多年，里面相继出现了顶部渗漏、路面坑陷、道路泥泞等
B. 中国政府提出的“一带一路”发展战略将惠及沿线国家，促进这些国家的经济发展

- C. 目前，有些国家和地区出现了动荡局势，难道这对世界和平有影响吗？
- D. 在今年的女排亚锦赛上，中国女排辉煌地取得了八战全胜的战绩，荣获冠军
29. 下列句子中，语意不明确的是（ ）。

- A. 学院的通知说，让薛书记本月 7 日前去汇报
- B. 据现场消防人员介绍，起火房内已经从卧室门口烧到卫生间，屋内一片狼藉，墙壁都熏黑，不过没有人员受伤
- C. 在美国家庭中，汉语已成为继英语和西班牙语之后又一种得到广泛使用的语言
- D. 一切幸运都并非没有烦恼，而一切厄运也决非没有希望

30. 下列句子中有歧义的一项是（ ）

- A. 没有人愿意说出这个秘密
- B. 这本书凡我读了会动情的地方，哥哥读了也要流泪。我们的心灵是想通的
- C. 利用合同进行犯罪是一种常见的诈骗犯罪
- D. 要根除垃圾短信这个毒瘤，不能只限于查处垃圾短信的发布者，关键是必须先管住短信服务提供者，做到标本兼治

阅读短文，回答 31-38 题。

段誉道：“夫人既不信，也只好由得你。”指着楼前一株五色斑斓的茶花，说道：“这一株，想来你是当作至宝了，嗯，这花旁的玉栏杆，乃是真正的和阗美玉，很美，很美。”他啧啧称赞花旁的栏杆，于花朵本身却不置一问，就如品旁人书法，一味称赞墨色乌黑、纸张名贵一般。

这株茶花有红有白，有紫有黄，花色极是繁富华丽，王夫人向来视作珍品，这时见段誉颇有不屑之意，登时眉头蹙起，眼中露出了杀气。段誉道：“请问夫人，此花在江南叫作什么名字？”王夫人气忿忿的道：“我们也没什么特别名称，就叫它五色茶花。”段誉微笑道：“我们大理人倒有一个名字，叫它作‘落第秀才’。”

王夫人“呸”的一声，道：“这般难听，多半是你捏造出来的。这株花富丽堂皇，哪里像个落第秀才了？”段誉道：“夫人你倒数一数看，这株花的花朵共有几种颜色。”王夫人道：“我早数过了，至少也有十五六种。”段誉道：“一共是十七种颜色。大理有一种名种茶花，叫作‘十八学士’，那是天下的极品，一株上共开十八朵花，朵朵颜色不同，红的就是全红，紫的便是全紫，决无半分混杂。而且十八朵花形状朵朵不同，各有各的妙处，开时齐开，谢时齐谢，夫人可曾见过？”王夫人怔怔的听着，摇头道：“天下竟有这种茶花！我听也没听过。”

段誉道：“比之‘十八学士’次一等的，‘十三太保’是十三朵不同颜色的花生于一株，‘八仙过海’是八朵异色同株，‘七仙女’是七朵，‘风尘三侠’是三朵，‘二乔’是一红一白的两朵。这些茶花必须纯色，若是红中夹白，白中带紫，便是下品了。”王夫人不由得悠然神往，抬起了头，轻轻自言自语：“怎么他从来不跟我说。”

段誉又道：“‘八仙过海’中必须有深紫色和淡红的花各一朵，那是铁拐李和何仙姑，要是少了这两种颜色，虽然八花异色，也不能算‘八仙过海’，那叫作‘八宝妆’，也算是名种，但比‘八仙过海’差了一级。”王夫人道：“原来如此。”

段誉又道：“再说‘风尘三侠’，也有正品和副品之分。凡是正品，三朵花中必须紫色者最大，那是虬髯客，白色者次之，那是李靖，红色者最娇艳而最小，那是红拂女。如果红花大过了紫花、白花，便属副品，身分就差得多了。”有言道是“如数家珍”，这些名种茶花原是段誉家中珍品，他说起来自是熟悉不过。王夫人听得津津有味，叹道：“我连副品也没见过，还说什么正品。”

段誉指着那株五色茶花道：“这一种茶花，论颜色，比十八学士少了一色，偏又是驳而不纯，开起来或迟或早，花朵又有大有小。它处处东施效颦，学那十八学士，却总是不像，那不是个半瓶醋的酸丁么？因此我们叫它作‘落第秀才’。”王夫人不由得噗哧一声，笑了出来，道：“这名字起得忒也尖酸刻薄，多半是你们读书人想出来的。”

段誉道：“那本大白花而能有隐隐票斑的，才叫作‘满月’，那些黑班，使是月中的桂枝。那本白娜上有两个橄榄核儿累斑的，却叫作‘眼儿媚’。”王夫人喜道：“这名字取得好。”

段誉又道：“白娜而满红斑的，叫作‘红妆素裹’。白舞而有一抹绿晕、一丝红条的，叫作‘抓破美人脸’，但如红丝多了，却又不是‘抓破美人脸’了，那叫作‘倚栏娇’。夫人请想，凡是美人，自当娴静温雅，脸上偶尔抓破一条血丝，总不会自己梳装时粗鲁弄损，也不会给人抓破，只有调弄鹦鹉之时，给鸟儿抓破一条血丝，却也是情理之常。因此花姆这抹绿晕，是非有不可的，那就是绿毛鹦哥。倘若满脸都抓破了，这美人老是与人打架，还有什么美之可言？”

31. 下面最适合作本文标题的是()。

4. 博学段誉 B. 品茶花 C. 正品和副品茶花 D. 段誉智斗王夫人

32. 正品茶花“风尘三侠”是三朵，这三朵花的颜色()。

- A. 都是红色 3. 都是白色
C. 紫色、白色、红色 D. 红中夹白，白中带紫

33. 下列文意理解错误的是()。

- A. “八仙过海”中深紫色代表铁拐李，淡红色代表何仙姑
B. “十八学士”是茶花中的天下极品
C. “抓破美人脸”有一抹绿晕、一丝红条。绿晕是指绿毛鹦鹞，红条是指血丝
D. 王夫人称之为“五色茶花”的共有五种花色

34. “他啧啧称赞赏花旁的栏杆，于花朵本身却不置一词”作者所要表达的真实意思是()

- A. 花旁的栏杆，乃是真正的和阗美玉，很美，很美

- B. 五色斑斓的茶花是至宝
- C. 讥讽王夫人喜欢茶花却不懂茶花
- D. “落第秀才”不如和阆美玉名贵

35. “倘若满脸都抓破了，这美人老是与人打架，还有什么美之可言？”对这句话理解正确的是（ ）

- A. 鹦鹉与主人之间的矛盾升级 B. 鹦鹉抓破美人的脸是锦上添花
- C. 段誉认为凡是美人，自当娴静文雅 D. 美人打架也是情理之常

36. 对本文中提到的花名理解正确的是（ ）

- A. 茶花名称都是段誉为了讥讽王夫人杜撰出来的
- B. 有的花名有趣有的花名很俗
- C. 这些花名都寓意丰富
- D. 曼陀山庄茶花的名贵

37. 王夫人不自得然神往，拍起了头，轻轻自商直话：“怎么他从来不跟我说。”这里的“他”最有可能是谁？（ ）

- A. 王夫人喜欢的人 B. 段誉
- C. 种养茶花的师傅 D. 大理一位有名的读书人

38. 对茶花“满月”与“眼儿媚”理解正确的是（ ）

- A. 茶花“满月”花瓣有一些隐隐黑斑，不同于“眼儿媚”里的黑斑
- B. 茶花“满月”堪比十五的月亮那样亮白，“眼儿媚”却像极了人的双眼
- C. 王夫人认为“满月”花名俗，“眼儿媚”才好听
- D. “满月”是茶花中的副品，“眼儿媚”是正品

39. 对联“大下口，天上口，志在吞吴，人中王，人边王，意在全任”。从形体上分析，上联由“天口”二字可合成“吞”或“灵”字，下联由“人、王”二字合成了“全”或“任”字，这就构成了饶有趣味的汉字修辞，这段文字主要是（ ）。

- A. 从汉字的独特形体特点来理解汉字修辞
- B. 从汉字的独特形体特点来理解表音汉字
- C. 从汉字的独特形体特点来理解汉字语义
- D. 从汉字的独特形体特点来理解汉语逻辑

40. 最好的领导力只有一种，持续带领团队打胜仗。胜仗打多了，团队对领导的信心自然就建立起来了。

对这句话理解正确的是()

- A. 最好的领导力，就是要给成员打鸡血、满鸡汤，情绪性慰、出队建设
- B. 领导力不是什么具体的技巧，领导力是靠一次次胜积累出来的结果
- C. 外力的作用对领导力有很大的帮助
- D. 最好的领导力就是要有个不怕打败仗的团队

第二部分数量关系

(共 15 题)

本部分包括两种题型：

(一)数字推理:共 5 题. 给你一个数列, 但其中缺少一项, 要求你仔细观察其排列规律, 然后从四个选项中选择你认为最合理的一项来填补空缺项, 使之符合原有的排列规律。

41. $\sqrt[3]{27}$, $\sqrt{3}$, $\sqrt[3]{64}$, $\sqrt{24}$, ()

A. $\sqrt{125}$ B. $\sqrt{124}$ C. $\sqrt[3]{125}$ D. $\sqrt[8]{125}$

42. $4/9$, B. $4/3$, (), 12, 36

A. 2 B. 3 C. 4 D. 5

43. 19, 76, 28., 112., 36, ()

A. 114 B. 124 C. 134 D. 144

44. $\frac{19}{13}$, 1, $\frac{13}{19}$, $\frac{10}{22}$, ()

A. $\frac{7}{24}$, B. $\frac{7}{25}$ C. $\frac{5}{26}$ D. $\frac{7}{26}$

45. $\sqrt{7}$, $\sqrt{63}$, (), $\sqrt{511}$

- A. $\sqrt[3]{216}$ B. $\sqrt[3]{215}$ C. $\sqrt[3]{189}$ D. $\sqrt[3]{217}$

(二)数学运算:共 10 题。在这部分试题中,每道试题呈现道算术式,或是表述数字关系的一段文字,要求你迅速、准确地计算出答案。你可以在草稿纸上运算。遇到难题,可以跳过暂时不做,待你有时间再返回解决它。

46. 某数的百分之一等于 0.003. 那么该数的 10 倍是多少 ()
A. 0.003 B. 0.03 C. 0.3 D. 3
47. 分数 $\frac{4}{9}$ 、 $\frac{17}{35}$ 、 $\frac{3}{7}$ 、 $\frac{151}{301}$ 中最大的一个是 ()
A. $\frac{4}{9}$ B. $\frac{17}{35}$ C. $\frac{3}{7}$ D. $\frac{101}{203}$
48. 设 $\frac{2}{3} = \frac{a}{b}$, 那么 $\frac{a+3b}{3a+b}$ 的值是 ()
A. $\frac{10}{9}$ B. $\frac{11}{9}$ C. $\frac{7}{9}$ D. $\frac{5}{7}$
49. 甲、乙、丙三人的平均年龄为 17 岁, 而甲、乙两人的平均年龄为 15 岁, 则丙的年龄为 ()
A. 17 岁 B. 20 岁 C. 21 岁 D. 18 岁
50. 小黄家的时钟每小时慢 6 分钟, 每天, 小黄起床后早上六点按电台报时将钟与标准时间对准, 下午他回到家里, 钟正好敲 3 点, 这是的标准时间应该是几点钟 ()。
A. 3 B. 4 C. 5 D. 6
51. 小李经常会把零钱放入存钱罐中, 一段时间后, 他打开存钱罐统计有 1 角, 5 角, 1 元的共计 80 张, 问这些零钱可能为 () 角。
A. 80 B. 400 C. 800 D. 880
52. 一科研院所引进 4 名博士之后, 拥有博士学位的员工在职工中的比重从原来的 50%, 提升至 56.25%, 则该单位在引进博士后有多少名职工 ()。
A. 14 B. 28 C. 32 D. 44
53. 星期天小明骑车去姥姥家, 小明家与姥姥家相隔一个山坡, 从小明家上坡再下坡即到姥姥家, 已知下坡所花时间是上坡时间的 $\frac{1}{4}$, 下坡速度是上坡速度的 2 倍, 若返回的上下坡速度仍保持不变, 则小明从家到姥姥家与姥姥家到自己家花费时间之比为 ()。
A. 3:2 B. 2:3 C. 4:5 D. 5:4
54. 某房产交易公司三年前在某市买入一套房产市价上涨了 50%, 为了尽快出手, 该公司将房产按市价的八折出售, 扣除成交价 5% 的交易费用后, 发现与买进时相比赚了 7 万元, 则设公司买进该房产时花了 () 万元。
A. 84 B. 42 C. 100 D. 50
55. 甲、乙两人分别从 A、B 两地同时出发, 相向而行。甲的速度为 10km/h, 乙的速度为 6km/h, 甲乙两人相遇时, 甲比乙多走了 2km, 则当甲到达 B 地后, 乙还需多长时间才能到达 A 地?()
A. 64 分钟 B. 32 分钟 C. 22 分钟 D. 16 分钟

(共40题)

本部分包括五种原型:

(一)定义判断:共10题.每道题先给出定义,依据定义,从中选出一个最符合或最不符合该定义的答案,注意这个定义是正确的,不容置疑的。

56. 技术创新:在经济发展理论中,指新技术、新发明在生产中的首次应用,是在生产体系中建立新的生产函数或供应函数,引起一种生产要素和生产条件的新组合,经济学强调技术创新具有非独占性、不确定性、市场性和系统性等特点。根据以上定义。下面哪种行为属于经济学范畴的技术创新()

- A. 美国的航天技术极其发达和先进, 航天飞机在太空自由翱翔
- B. 日本某食品制造厂引进国外先进生产技术。提高了产品质量
- C. 海尔集团经过不断探索,生产出适合各类人口需要的家用电器。取得极大的市场回报
- C. 微软公司的技术可以查到任何一台使用微软软件的计算机的内容

57. 犯罪未遂:是已经着手实行犯罪,由于犯罪分子意志以外的原因而未得逞的。根据以上定义。下列哪种情况属于犯罪未遂? ()

- A. 一小流氓跟踪一 放学回家的女同学,意图强奸。在他将该女生按倒在地正要施行强暴时正好有一人路过,听到呼救声赶了过来。怕被人抓住,小流氓起身溜走了
- B. 一个银行的会计,掌管了保险柜的钥匙。他打开保险柜,取走现金,制造了假盗窃现场。回家后,由于担心发现后会坐牢,于是连夜趁尚未被人发现的时候又返回将钱款放回原处
- C. 三个打工仔由于长期受到老板的残酷对待,合谋准备在晚上将老板杀死。但到了晚上,三个人谁也不敢动手,相互推诿,最后只好解微了
- D. 某公共汽车上发生抢劫案,该公车司机挺身而出,要制服这些歹徒,可惜身单力簿,满车乘客无人出手相助,最后不幸身亡

58. 继承权的丧失:是指继承人因为对被继承人或者其他继承人犯有某种罪行或其他违法行为,而被依法取消继承遗产的资格。

根据上述定义,下列行为不会导致继承权丧失的是()。

- A. 为了早日能够独掌家庭企业,小李下毒药暗杀了自己的继父
- B. 为了独占遗产,谢强对自己的兄弟姐妹进行威胁侮辱,强迫他们放弃了自己的继承权
- C. 在叔叔临死之际,徐某偷偷修改了其叔父刚刚立下的遗嘱

《职业能力倾向测验》试题第11页共20页

D. 在平时的闲聊中,小张曾提到自己并不愿意继承其父留下来的那些财产

59. 劳动争议:又称劳动纠纷,是指劳动者与用人单位之间因执行劳动法律,法规

或履行劳动合同集体合同发生的争执。

根据上述定义，下列行为属于劳动纠纷的是（ ）。

- A. 劳动者内部因为分工而发生的争执
- B. 两家用人单位因为工资存在差别而发生纠纷
- C. 工人因反对延长劳动时间而与用人单位发生的争执
- D. 劳动者与用人单位因为解决问题的方法问题而发生争执

60. 行政处理：市行政主体为了实现相应法律，法规和规章制度确定的行政管理目标和任务，政府对人申请或依职权处理及特定行政相对人特定权利义务事项的具体行政行为，政府对人是指在行政或法律关系中与行政主体相对应的另一方当事人。

根据上述定义下列行为属于行政处理的是（ ）。

- A. 中央作出开发西部的战略规划
- B. 全国人大提出修改(婚法)
- C. 行政机关主持的对特定纠纷进行的诉讼外调解
- D. 公安机关逮捕犯罪人员

61. 酝酿效应：是指当一个人长时间致力于解决某一个问题而又百思不得其解时，如果他暂时停下来去做别的事情，一段时间后，他可能会忽然想到的解决方法。

根据上述定义，下列属于酝酿效应的是（ ）。

- A. 某工程师经过反复思考和推算终于解决工程中遇到的难题
- B. 某研究生在写硕士论文中遇到困难，反复思考没有思路，几天后在一次学术交流中得到启发并理清了思路
- C. 小李去多家单位应聘工作未果，几天后他在一家公司获得工作机会
- D. 某研究人员申请了一个项目迟迟没有得到有关部门的批发，他转而研究别的课题几个月后，该项目得到了批准

62. 商品差价：指同一商品因为流通环节、购销地区、购销季节以及质量不同形成的价格差额

下列不看作商品差价的是（ ）。

- A. 同一本书，刚出版时和两年后的价值不同
- B. 早市萝卜一块一斤，下午则是五角一斤
- C. 富康轿车和大众轿车的价值不同
- D. 甲地的盐比乙地的便宜，因为甲地产盐

63. 强迫障碍：是指反复以强迫观念为基本特征的一类神经性障碍。强迫观念是以刻板

形式反复进入患者意识领域的思想、表象或意向。这些思想、表象或意向对患者

来说，是没有现实意义的、不必要的或多余的；患者意识到这些都是他自己的思想，很想摆脱，但又无能为力，因而感到十分苦恼。

根据定义，以下可能属于“强迫障碍”的是（）。

- A. 明明工作已经做好了，小王还是不敢心检查了好几回
- B. 老赵锁上门后又打开进去检查遍再锁门如此情环不四次才放心离开
- C. 李奶奶老是一个劲地念明着，我儿子就要回来了
- D. 试质量检查了三遍，张某还是忍不住又检查了一次

64. 暗示是指用含蓄地、间接地方式，对别人的心期和行为产生影响，其作用往往会使别人不自觉地按照定的方式行动， 现者不加批到地接受某种京见减或情念。

根据上述定义，下列属于暗示的是（）

- A. 老师告诉小张，做完作业才能回家
- B. B.投票选举时，他投了小张一票
- C. 小李让人转告小赵，希望他不要放弃比赛
- D. 在优秀学生评比之前，老师多次提到小王最近取得的成绩

65. 劳动报酬是指劳动者因提供劳动而获得的所有报酬的总和，它等于工资和福利之和。根据以上定义，下面哪种组合构成劳动报酬? ()

- A. 小王超额完成计件任务500件，按单价10元计，公司付给他5000元人民币
- B. 小王超额完成任务，公司除发一定数目的工资外，给了他两周的带薪假期
- C. 小王把公司发的5000元用来购买股票，获得了2000元的收益
- D. 小王完成任务后又加班工作了4小时，公司付给他400元的加班费

(二)事件排序:共5题。每道题给出五个事件，每个事件是以简短语句表述的，接着给出四种假定发生顺序的数字序列，请你选择其中最合乎逻辑的种事件顺序。注意要以最少的假设来联系和安排这五个事件的发生顺序。

66. (1)点火(2)倒计时(3)腾空而起(4)准备就绪(5)进入预定轨道

- A. 2-1-5-4-3
- B. 5-4-3-2-1
- C. 4-2-1-3-5
- D. 1-2-4-3-5

67. (1)依法查处(2)牟取暴利(3) 建筑物倒塌(4)判刑入狱(5)偷工减料

- A. 5--2-3-14
- B. 2--3-1-4-5
- C. 2---5-3-1
- D. 1-4--3-2-5

68. (1)洗脸刷牙(2)吃早饭(3)起床(4)做早饭(5)出门上班

- A. 3--4-2-1-5
- B. 3--4-1-2--5
- C. 5--4--3-2-1
- D. 3--1-2-4-5

69. (1)面试(2) 岗前培训(3) 上岗工作(4)通知录取(5)申请工作

- A. 5-1-4--2-3
- B. 5--1-4--3--2
- C. 1--2--3-5--4
- D. 1-3-2-4-5

《职业能力倾向测验》 试题第13页共20页

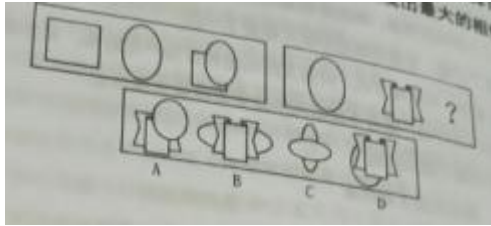
70 (1) 效益提高 (2) 政企分开 (3) 国力增强 (4) 上缴利税增多 (5) 企业活力增

强

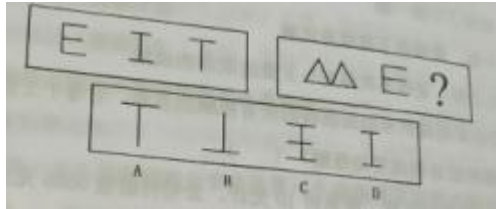
- A. 1-5-3--4--2 B. 3-4-1-5-2
C. 4--3-5-2--1 D. 2-6-1-4-3

(三) 图形推理:共5题。每道题包含两套图形和可供选择的4个图形,这两种图形具有某种相似性,也存在某种差异。要求你从四个选项中选择你认为最合适的一个来取代问号。正确的答案应不仅使两套图形表现出最大的相似性,而且第二套图形也表现出自己的特征。

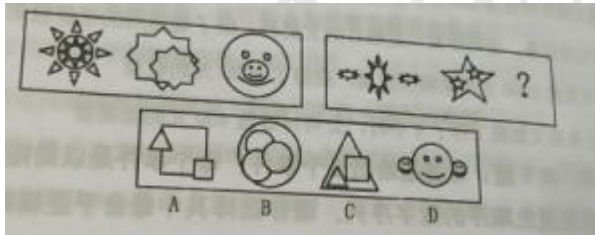
71. ()



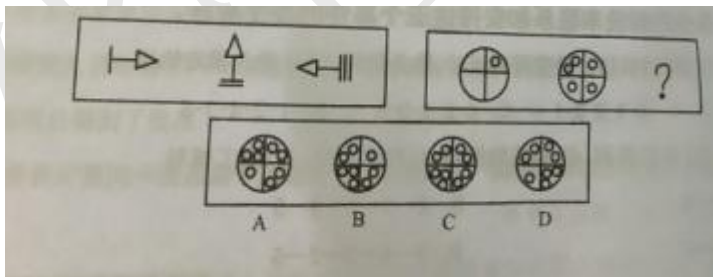
72. ()



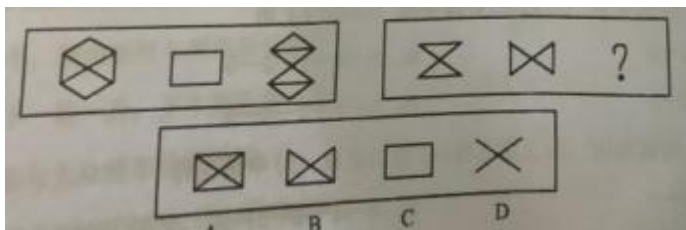
73. ()



74. ()



75. ()



76书本:封面

A. 动物:老虎 B. 汽车:方向盘

B. 地球:北极 D. 海底:山谷

77. 北京故言:珍妃井 ()

A. 山西五台山 B. 拖拉机:轮胎

C. 海洋:鱼虾 D. 班马:牦牛

78 .刮风:空气流动快()

A. 天阴:下雨 B. 跑步:健身

C. 下雨:路滑 D. 登高:望远

79 勺子:菜刀()

A. 房屋:窗户 B. 党员:教师

D. 童星:明星 D. 水星:金星

80 鸟兽鱼虫:江河湖海()

E. A. 金戈铁马:刀枪不入 C 牛鬼蛇神:水清无鱼

C. 车水马龙:单枪匹马 D. 经史子集:琴棋书画

81 , 无风:不起浪()

A. 知不足:然后学 C. 刻舟:求剑

B. 画饼充饥 D. 失之毫厘:谬以千里

82. 月季花:兰花:菊花()

A. 好感:喜欢:热爱 B. 太原市:西安市:合肥市

C. 战斗:战争:空战 D. 理想:空想:幻想

83电子琴对于()相当于存折对于()

A. 乐符 储户 B. 二胡 存款 C. 吉他 银行卡 D 歌曲虚拟

84 生花木:盆景()

A. 显示器:电脑 B. 石头:假山 C. 公路:运输 D 树木:森林

85. 收入:开支 ()

A. 承诺:谎言 B. 借钱:还钱 C. 适应:淘汰 D. 进价:售价

(五)逻辑判断:共10题。每道题给出一段陈述,这段陈述假设是正确的,不容1疑的。要求你根据这段陈述,选择一个答案。

86. 有些爱玩的同学不爱学习:有些男同学不爱学习。以下哪项能保证上述推理正确? ()

A. 有些男同学爱玩

B. 所有男同学都不爱学习

C. 所有爱玩的同学也都爱学习

D. 所有男同学都爱玩

87. 校园平安的建设,必须有学校的有效管理。只有学校各部门齐抓共管相互协调配合,才能确保学校进行有效的管理。但是,没有健全的监督制约机制,是不可能实现各部门之间协调

《职业能力倾向测验》试题第 15 页共 20 页

配合的,由此可推断()。

A 有了学校各门之间齐抓共管协调配合,就能实现校园平安

B要健全监督制约机制，学校各部门之间必须齐抓共管协调配合

C没有健全监督制约机制，不可能实现校园平安

D 学校的有效管理就能健全监督制约机制

88如果小王不去学校的有打羽毛球，那么小李也不去打羽毛球，只有小王陪伴，小张才能去踢足球，此可推断（ ）。

A 小王去踢足球，则小李没去打羽毛球

B 小王去踢足球，则小张也去踢足球

C小王打羽毛球，则小张去踢足球

D 小张没去踢足球，则小李去打羽毛球

89有关研究表明，手机比电脑更伤人，因为手机屏幕小，玩手机时注意力更投入，目不转睛，因此更伤眼。使用电脑时，人们的肢体还能活动活动，可是“手机控”往往很少活动，这对身心健康更为不利。 如果以下各项为真，最能削弱上述论断的是：

A. 电脑在使用过程中，显示屏会发出电磁、电离辐射

B. 电脑背景光比手机更容易引起使用者视力下降和头痛

C. 科学研究表明使用手机与脑瘤和癌症的发病率无关

D. 长期使用电脑人群容易患鼠标手、颈椎病等“电脑病”

90. 某珠宝店失窃一串项链，警察抓到三名嫌犯甲、乙、丙，三名嫌犯供述如下：

A甲说：不是自己偷的

B 乙说：不是自己偷的

C丙说：是乙偷的

其中甲，乙，丙只有一人说的是真话，由此推断项链是谁偷得（ ）

A. 甲 B. 乙 C. 丙 D不确定

91. 某高校的职工的情况是：并非所有的教授都不是研究生，所有的教授都是男性，根据以上陈述得出结论是（ ）

A 有的男性不是教授 B 有的男研究生不是教授

C 有的研究生是男性 D 有的研究生是女性

92. 现如今提倡“挫折教育”，常言道：“不经历挫折，怎能取得成功。”

下面哪一个选项不是上面这句话的逻辑推理（ ）

A只有经历挫折，才能取得成功

B若经历挫折，则能取得成功

C 出发经历挫折， 否则很难取得成功

D凡是取得成功的都应该是经历挫折的

93. 解剖中国科技创新结构，可以看出，在中国并不缺乏研究型大学、国家实验室，最缺乏的是企业参与的研究基地、研究型企业以及企业资助、共建、独资创

立的科研机构。由此可以推出()。

- A. 企业的资助、共建、独资创立的科研机构是提高企业效益的关键
- B. 在新一轮的经济战场上，经济增长将主要依靠科技进步
- C. 加强企业参与的研究基地建设是中国经济腾飞的必经之路
- D. 企业在科技创新中的作用举足轻重

94人们发现，科学实践中提出一个新问题往往比解决这个问题更有意义更显得重要。这是因为，解决问题也许只是种方法成者是项转能的这更有意义，更是得重要。这是项技能的应用而已，一个人具有定的想像力和创造力，而且还标志着人类科学的真正进步。由此我们可知()。

- A. 那些善于提出问题的人更善于解决问题
- B. 缺乏想像力和创造力的人是不善于提出问题的
- C. 提出问题比解决问题的难度更大
- D. 只有提出问题才标志着科学的进步

95甲，乙，丙，丁四人同时参加一个外资企业的面试招聘会，他们清测谁能顺利通过面试. 对这四个人的面试结果有下面四种判断：

甲：如果乙能被录用，那么丙也能被录用

乙：四人都不会被录用

丙：乙会被录用

丁：有人不会不被录用

事后证明，四人中只有一人的猜测不对，则可推出以下哪项结论？()

- A. 甲猜测错误，丙能被录用
- B. 乙猜测错误，乙不会被录用
- B. C. 丙猜测错误，丙不会被录用
- D. 乙猜测错误，丙能被录用

第四部分资料分析 (共20题)

一、根据下列文字材料回答96~100题。

目前，重庆市60岁以上的老年人口已达188万，占总人口的14.6%。据预测，到2025年，全市老年人口将达到416万，占总人口的30%。目前全市养老床位达3万张(据2000年统计资料)。

96 2000年重庆市的总人口为()。

- A. 188万
- B. 1287.7万
- C. 1175.4万
- D. 1346.7万

97. 到 2050 年老年人口估计为(),
 A. 604 万 B. 228 万 C. 644 万 D. 832 万
98. 2025 年全市总人口将达到()。
 A. 416 万 B. 1386.7 万 C. 1345.7 万 D. 228 万
99. 到 2025 年增加的总人口比增加的老年人口少()。
 A. 129 万 B. 23 万 C. 93 万 D. 175 万
100. 2000 年全市养老床位占老年人口的比重是()。
 A. 1.6% B. 0.7% C. 5.2% D. 3.1%

二、根据下列材料回答 101~105 题。

2016 年从中国对“一带一路”沿线各国的贸易额看，越南、马来西亚、泰国、新加坡、印度、俄罗斯是主要合作伙伴。

从出口看，中国向东南亚出口额最大，达 2591.6 亿美元，占比为 44.1%，但出口额较 2015 年下降 6.6%；其次为西亚北非，出口额为 1259.1 亿美元，占比为 21.45%，下降 11.5%；向南亚出口位列第三位，达 966.6 亿美元，增长 2.6%；向东欧出口 867.8 亿美元，增长 6.8%，是增速最快的地区；向中亚出口达 179.7 亿美元，增长 2.3%；向东亚(蒙古)出口的降幅最大。

从进口看，中国自东南亚进口额最大，达 1962.8 亿美元，占比为 53.6%，进口额较 2015 年上升 0.9%；其次为西亚北非，进口额为 892.9 亿美元，占比为 24.4%，下降 15.7%；自东欧进口 500.4 亿美元，下降 3.6%；其次为南亚、中亚、东亚，进口额分别为 148.3 亿美元、120.7 亿美元、36.0 亿美元，均呈现下降趋势。

101. 从资料不难看出，中国在沿线国家中最大的贸易伙伴是()。
 A. 俄罗斯 B. 印度 C. 新加坡 D. 越南
102. 6 个资料中提到中国时“一路”省桃名国贸易出口家 216 下降的地区有()。
 A. 2 个 B. 5 个 C. 4 个 D. 3 个
103. 中国向东南亚进口额比出口额()
 A. 多 628.3 亿美元 B. 少 628.8 亿美元 C. 少 95 个百分点 D. 以上均错
104. 中国向东南亚，西亚北非，东欧，南亚，东亚的进口额为()
 A. 254 亿美元 B. 3661.1 亿美元 C. 5864.8 亿美元 D. 78%
105. 从资料可得出的结论错误的是()。
 A. 东欧是中国最大的透出口地他是唯一进口额增的地区

B 东欧出口增速最快

C 中国内向亚北非，东欧、南亚、中业、东亚等地进口额都呈下降趋势

D上结论均不对

三. 根据下面材料和统计图回答106~110题。

2015年中国电子商务市场交易规模16.4万亿元，增长22.7%。其中网络购物增长36.2%，在线旅游增长39.9%，本地生活服务O2O增长38.3%。2015年中国移动网购市场交易规模达2.1万亿元，同比增长123.8%



106. 2014 年网络购物交易规模约为() 万亿元。
A. 2.79 B. 3.62 C. 8.89 D. 无法得出
107. 2015 年网络购物交易规模约是本地生活服务的多少倍? ()
A. 45.6 B. 10.5 C. 0.1 D. 以上均不正确
108. 2017 年中国移动网络购物市场交易规模占网络购物比重约为()。
A. 53% B. 54% C. 55% D. 无法计算
109. 2015 年在线旅游市场交易规模为() 万亿元。
A. 0.12 B. 0.22 C. 0.33 D. 0.43

《职业能力倾向测验》试题第19页共20页

110. 能够从上述材料中推出的是()。
A. 2012~2015年电子商务市场交易规模增长率均高于网络购物市场
B. 2015 年在线旅游市场交易规模增长率低于本地生活服务O2O市场
C. 本地生活服务O2O市场2015年交易规模增长率低于网络购物市场
D. 2018年中国电子商务市场交易规

模将超过2017年约1.2倍

四、根据下面统计表回答111~115题。

	能源品种	计量单位	2015年	2017年	2020年	2030年
实物量	原煤	万吨	32010	32000	32000	34000
	原油	万吨	3600	3800	4200	4200
	天然气	亿立方米	270	350	450	700
	区外来电	亿千瓦时	1125	1500	2250	2500
	核电	亿千瓦时	280	280	700	1000
	可再生能源发电	亿千瓦时	195	310	360	460
比重	原煤	%	68.0	63.2	57.1	52.8
	原油	%	15.3	15.0	15.0	13.0
	天然气	%	10.5	13.8	16.1	21.8
	区外来电	%	4.1	5.1	6.8	6.5
	核电	%	1.0	0.9	2.1	2.6
	可再生能源发电	%	0.7	1.0	1.1	1.2

111 能源消费预测数据表明，天然气2030年是2015年（ ）。

A. 1倍 B. 1.6倍 C. 2倍 D. 2.6倍

112从未来发展看。消费水平比重呈下降态势的能源品种有（ ）

A. 原煤与天然气 D. 原油与核电 C. 原煤与原油 D以上均正确

113预测结果显示，2020年可再生能源发电的消费水平所占比重比2015年增长了（ ）。

A. 0.1个百分点 B. 0.4个百分点 C. 0.5个百分点 D. 0.2个百分点

114从未来发展看，消费结构中上升最显著的能源品种是（ ）

A核电 B. 区外来电 C 天然气 D可再生能源发电

115. 预测数据表明（ ）。

A 2030年与2015年相比，各种能源消费比重的顺序发生了变化

B 原煤的消费绝对比量和比重均呈上升趋势

C 天然气的消费绝对量和比重发展方向相反

D 2030年消费量最大的能源品种依然是原油