

一. 言语理解与表达（下列每道题包含一段文字或一个句子，后面是一个不完整的陈述，要求你从四个选项中选出一个来完成陈述，共 40 题，每题 0.9 分，满分 36 分）

1. 最近辞职很火，“世界那么大，我想去看看”，如此文艺的理由。当然，也有柴米气更重的理由，“回家炒股”，乍一听就有膝盖中箭的感觉，言简意骇，让人无力反驳。我倒是觉得，如果把这两个理由_____一下，瞬间就高大上了。“世界那么大，我要去炒股”，文艺范十足，又接地气，就像是一部金融大咖浪迹天涯得公路电影，气质浪漫又不缺纸醉金迷。

填入划横线部分最恰当的一项是（ ）

- A. 糅合
- B. 融合
- C. 结合
- D. 混合

2. 当整容作为一种生活方式能被人们普遍接受时，可能也是人的演化得一种选择，以貌取人的社会当然是世俗的，但未必就是需要_____得，因为，演化得力量或推动力，就是要让人们一代比一代更漂亮，这既是生存竞争的需求，也是遗传的必然。

填入划横线部分最恰当的一项是（ ）

- A. 斥责
- B. 质问
- C. 责难
- D. 指责

3. 选择用简单粗暴的方式来处理，从小处说是着眼点和格局太小，从大处说，显然是一种_____而非简政的思路，他们并不知道，“他们的简单化处理”，恰恰是违背总理“简政放权”初衷的。而这些具体而形象的故事，比抽象的说教和宣传更有杀伤力。

填入划横线部分最恰当的一项是（ ）

- A. 暴政
- B. 弊政
- C. 懒政
- D. 俭政

4. 在该声明中，江南还表示该项目的相关开法会在诉讼期间暂停，“无论昔日还是今日，都一如既往的尊重金庸先生个人和作品，并未有侵权的想法；但在司法层面上，无论诉讼结果如何，我都非常非常的抱歉于在我 22 岁那年的_____和唐突，因这些事情给金庸先生造成的

困扰令我非常的自责。”

填入划横线部分最恰当的一项是（ ）

- A. 无知
- B. 懵懂
- C. 轻率
- D. 孟浪

5. 科技的力量是强大的，创新的事物是美好的。我们还当牢记，只有在科技与人文的互渗中，在安全与效率的平衡中，这创新，才会有更坚固的支点和更恒久的生命；只有在人类文明与幸福的价值追求中，在主体地位与尊严的权益保障中，这美好，才能释放更深厚的蕴涵，_____更璀璨的光芒。

填入划横线部分最恰当的一项是（ ）

- A. 流溢
- B. 流露
- C. 发射
- D. 盛开

6. 这一百年来，日本女生的制服演变可谓是_____。上世纪 30 年代的日本，就有教育专家预测了未来制服的走向：“既发挥个性又不违背学校的规定。”“制服是实现着装自由的一种途径，在洋服普及后应将之淘汰。”

填入划横线部分最恰当的一项是（ ）

- A. 艰巨性
- B. 社会性
- C. 戏剧性
- D. 创造性

7. 城镇住房制度改革以来，我国房地产业快速发展，对改善城镇居民的住房条件、促进经济增长发挥了重要的作用，在这当中房地产企业也发挥了应有的作用，但是必须清醒的看到，近年来房地产开发企业、房地产中介机构各类违法违规的行为依然_____。

填入划横线部分最恰当的一项是（ ）

- A. 死灰复燃
- B. 屡禁不止
- C. 如火如荼

D. 祸国殃民

8. 郑念在“文革”期间被抄家、软禁，1966年9月被视为英国间谍入狱，有漫长的六年半被单独监禁，受到轮番审讯、拷打、无人交流的孤寂，对女儿的担忧，精神和肉体难以承受的《上海生死劫》，最_____的，却不是她饱尝的万般磨难，而是她在苦难中呈现的倔强与尊严，她不屈服于强权的勇气和固执，以及她反抗迫害时的机敏、智慧。

填入划横线部分最恰当的一项是（ ）

- A. 触目惊心
- B. 惊心动魄
- C. 难以忘怀
- D. 记忆犹新

9. 一个作家躺在过去所谓的成绩上_____，在一个平面上不断地往前滑行，只为了增加作品的数量和版税的数量而写作，那就宁愿不写，这也是我作品越来越少的原因。过去写作的冲动现在是受到了自己的克制，就是希望能多想一想，拖得时间长一点。写出来第一是无愧于自己，第二是无愧于读者。

填入划横线部分最恰当的一项是（ ）

- A. 洋洋得意
- B. 沾沾自喜
- C. 一蹶不振
- D. 一言不发

10. 近年铁路路网的建设如火如荼，运力提高的也很快，只是总体数量仍然无法满足每年春节规模巨大的人口流动，面对铁路运能的巨大缺口，如何解决大多数人买票难的问题，考验着相关部门的智慧。年年春运年年难，何时春运不再难？对于春运难题，谁也不能_____。

填入划横线部分最恰当的一项是（ ）

- A. 一笑置之
- B. 一笑而过
- C. 置之不理
- D. 独善其身

11. 此前出版的《富爸爸点石成金》一书中，特朗普阐述过包装和炒作自己的秘诀。特朗普非常清楚社会心理、大众传媒、互联网舆论的定律，出位言论，挑战的是潜规则，不仅可以形成更为鲜明的个人标签，让那些游移不定的竞争对手_____，而且还可以迫使对手按照自

己的节奏和话题内容进行评论，《富爸爸点石成金》书中写的清清楚楚，（特朗普）在任何情景下的表达、都尽可能事先进行周密筹备，从不寄望于临时发挥。

填入划横线部分最恰当的一项是（）

- A. 黯然失色
- B. 甘拜下风
- C. 寡不敌众
- D. 落荒而逃

12. 豁达的姑娘，会把生活中无意义的参照物降到最少，不再轻易羡慕别人。羡慕本身就是一种不太有价值的情绪，距离“嫉妒”很近，距离“改善”很远，把人的脚_____在心却飘远_____的远方，徒增烦恼。

填入划横线部分最恰当的一项是（）

- A. 按 遥远
- B. 捋 无垠
- C. 摠 苍茫
- D. 束 迷茫

13. 在经济学研究中，一般来说，经济的发展和市场支持机制的健全程度应该是相关的。从这个角度来说，中国经济的发展虽然成绩_____，却又有一些奇特难解的特点。其他快速发展的经济体一样，中国的经济增长是否具有_____，目前还是一个未知数。

填入划横线部分最恰当的一项是（）

- A. 快捷 成长性
- B. 喜人 科学性
- C. 斐然 规范性
- D. 骄人 可持续性

14. 一个标新立异的设计，虽然非常创新，但未必是最容易被大众所接受的，给企业提升销量。从另一个层面来讲，一味地_____中庸，而在车型设计中没有_____也不是好的设计，源于艺术，但也要学会“控制”艺术。

依次填入划横线部分最恰当的一项是（）

- A. 重复 新奇
- B. 迎合 主张
- C. 复制 特色

D. 机械 创新

15. 我们从小事所受到的_____教育就是对敌人的温情就是对人民的残忍,这种伦理观一直主导着我们的社会生活,被共产党人奉为金科玉律的英雄格言_____我们对通知要像春天般温暖,对敌人则要像秋风扫落叶一样无情。

依次填入划横线部分最恰当的一项是 ()

A. 政治 要求

B. 哲学 倡导

C. 经济 建议

D. 道德 号召

16. 《南通县图志》说,1920年,唐闸人口已近万户,人数接近5W,通扬运河沿岸工厂林立,商业繁荣,有人看到过当年国外发行的世界地图,中国许多大城市都没有标出,却在南通方位,_____印着“唐家闸”三个字。一个_____小镇,进入世界视野,这不仅在当时的中国是唯一的,世界范围内之前也 只有美国的黄石公园。

依次填入划横线部分最恰当的一项是 ()

A. 醒然 巴掌

B. 显然 弹丸

B. 赫然 弹丸

D. 悄然 巴掌

17. 进入新世纪后,民办养老院如_____以市场化的手段来与公办养老机构竞争,拼服务,拼管理,公办养老院_____护工进入国家编制,工作态度懈怠。

依次填入划横线部分最恰当的一项是 ()

A. 后起之秀 我行我素

B. 后来居上 得过且过

C. 雨后春笋 按部就班

D. 青出于蓝 人云亦云

18. 历史上奥斯维辛这样的恐怖时刻并不多见,但是现实中像“斯坦福试验”中那样的“微纳粹”时刻却_____——警察的刑讯逼供,强拆中的打手,打人的城管……有多少,普通人在完成角色转换之后可以_____地作恶?游行中打砸抢烧,文革中的学生打老师,网络世界的语言暴力,又有多少人在集体的遮蔽下施暴?当一个人脱下作为个体的自我,穿上他者的身份,并影身与集体的庇护,作恶行就变得轻松自如。

依次填入划横线部分最恰当的一项是（ ）

- A. 俯拾即是 相安无事
- B. 比比皆是 若无其事
- C. 触目皆是 安之若素
- D. 由来已久 不动声色

19. _____，在中国传统文化中，相貌和才华都是分离的，中国文化更注重的是“贤才，德，礼”古往今来的经典著作，鲜有对一个人的相貌与才华作对等的判断_____就会遭到笑。

依次填入划横线部分最恰当的一项是（ ）

- A. 因此 那么
- B. 其实 否则
- C. 因此 不然
- D. 其实 那么

20. 好在随着大象越长越大，它被戳破的可能性也随之加大——_____随着大象越来越大，遮盖这只大象所花费的成本也会越来越高，_____目击者的增多也意味着出现“叛徒”的可能性在增大，_____，孩子小声的一句嘟囔“皇帝没穿衣服”，就可能使这只总重启大象迅速的瘪下去。

依次填入划横线部分最恰当的一项是（ ）

- A. 如果 那么 所以
- B. 因为 并且 最终
- C. 只要 那么 因此
- D. 因为 那么 因此

21. 理想是你在黑暗中指路的_____，理想是你在迷失方向时的_____，理想还是你焦急于渴时沁人心脾的_____，理想是我们人生重要的部分，而人生不断前进的动力是为了实现理想，为了雕琢心中的天使，使天使成型，使理想成型。

依次填入划横线部分最恰当的一向是（ ）

- A. 明灯 指南针 清泉
- B. 路灯 做标 清茶
- C. 光亮 参照 牛奶
- D. 灯塔 目标 饮品

22. 什么是好太太呢，若以传统的贤妻良母的标准，张幼仪无疑相当合格，问题是徐志摩对

她无动于衷，要一个人动心或者不动心，真是没有办法的事，好比林威陆小曼各有各的彩调和风情，追求起来却也有各有各的障碍，险阻，但他甘愿那么神魂颠倒，奋不顾身，有时候，一言之_____，一举之_____，一愍之_____，都可能滋生爱恋，“情不知所起，一往而深”。

依次填入划横线部分最恰当的一项是（ ）

- A. 投合 妩媚 心动
- B. 投机 妥帖 倾心
- C. 投契 熨帖 心动
- D. 契合 得当 心动

23. 依次填入下列各句横线处的成语恰当的一组是（ ）

①“灿鸿”过后，杭州西湖迎来纯净的落日和透明的夜晚，苏堤，白堤，保叔塔雷峰塔，沐浴在梅丽的黄昏和迷离的夜色中，“人间天堂”果然_____！

②广大党员干部，既严以修身，严以用权，严以律己，又谋事要实，创业要实，做人要实，才能成为_____的人民公仆。

③安徽宁国籍小伙官东此次当选“中国好人”，_____。在“东方之星”号客轮翻沉事件救援中，海军工程大学潜水员官东无私无畏让出自己的装备，把生还的机会给予遇难者。

- A. 名副其实 实至名归 名不虚传
- B. 名不虚传 名副其实 实至名归
- C. 名不虚传 实至名归 名副其实
- D. 实至名归 名副其实 名不虚传

24. 将以下 5 个句子重新排列，语序正确的是（ ）

①好像说，这里的花朵是勇士，是起码而来的军人

②无论在哪一个方向看，远处都是雪山，或者是没下雪但被白雾包裹的山峰。

③金银花密密麻麻，像在保护这片大地，花朵也会保护大地嘛？

④花朵的边缘是青草，河流或树林

⑤在这里，花朵像石头一样坚硬厚重，搬都搬不动。

- A. ④②①③⑤
- B. ⑤④②③①
- C. ②④⑤③①
- D. ④②⑤③①

25. 将以下 6 个句子重新排列，语序正确的是（ ）

- ①初始条件一个微小的变化，都会对结果造成巨大影响
- ②弹球初始位置细微的差别以及每次你在拉动弹簧时的力量差异
- ③弹球游戏就是利用了混动型
- ④如果某个系统具有混动型，那么该系统就对改初始条件具有敏感的依赖性
- ⑤都会成为改变弹球在桌面弹跳方向的重要原因
- ⑥你射出的每一个球都会沿着不同的路径前进

- A. ①③⑥②④⑤
- B. ②⑥⑤④①③
- C. ③⑤②④⑥①
- D. ④①③⑥⑤②

26. 下列各句中，加点的词语使用恰当的一句是（ ）

- A. 他说，酒是他进行创作的催化剂，有时搜索枯肠不得其法，略饮几杯，马上笔下生花，不过，他强调喝酒要小醉，不要大醉。
- B. 农民科学种田，工人不断创新，科技工作者效力于科研，各行各业都在为实现中华民族的伟大复兴，成就中国梦添枝加叶。
- C. 在成熟的市场经济下，做生意应讲诚信，像那种“人活一张嘴，树活一张皮”的来骗取顾客钱财的做法是愚蠢的。
- D. 该公司曾蝉联年度销售冠军，而今失去了冠军宝座，显然最近一个月的销售数据还没有出来，但即使他能反戈一击，也不再是市场的旗帜了。

27. 下列名句中，没有语病的一句是（ ）

- A. 未来中国的影视产业对包括作家的文学作品在内的本民族文化资源的开发利用给予足够的重视，将会最终决定其在世界影视产业中是否具有竞争力与话语权。
- B. 昨日 10 时开始，北京自西向东出现强降雨，截止今天早晨 6 时止，北京大部分地区出现大暴雨特大暴雨，北京全市平均降雨量 170 毫米，其中城区平均降雨量 215 毫米。
- C. 针对西安市近期预测出现的恶狗伤人事件出台规定，携带犬只出门时，主人与犬只的距离不得超过两米，如果违反规定造成他人伤亡，狗主人将要承担相应的法律责任。
- D. 日前颁布的《国务院关于促进民航业发展的若干意见》明确把民航业定位战略性产业，把发展民航业提升为国家战略，这将对中国民航的发展起到巨大的推动作用

28. 下列各句子中加横线的俗语使用不正确的一项是（ ）

- A. 徐竹影听出了她话中带刺，有些恼火，不等他说完，遍反唇相讥：“为当然比不上你，我

又不会花言巧语地讨好别人！”

B. 要向读者说明的是，我们责任编辑只能对书籍的文字部分负责，至于其他问题如纸张的优劣、书价的高低等就望尘莫及了。

C. 你别光呆在上面发愁，应该深入到战士中去，把问题提出来、发动他们想办法、出主意——众人拾柴火焰高。

D. 改革开放后，市场经济打破了过去那种高度集中的、吃大锅饭的经济体制、人们不再是躺在国家财政上过日子了。

29. 有位企业主管说的好，在一个企业中，优秀的人只占 20%，能力普通的人占 70%，根本就是混日子的占 10%，最会抱怨“哎，我就是能者多劳啦”的人，其实都是能力普通的人，他从未听到任何优秀人才感叹自己“能者多劳”，而露出疲惫不堪的样子。

这段文字中我们可以看出（）

- A. 能者多劳
- B. 能者不多劳
- C. 能者不觉多劳
- D. 非能者多劳动

30. 荒木经惟讲述他拍摄这些照片的奖励，也将自己的审美观和对艺术的要求展现了出来，对女人的脸，他有相当一意孤行的看法，这些看法同事在颠覆常识，也在破除不必要的偏见，比如荒木经惟在谈到女人的“素颜”时说，“‘女人素面最好’。人常说，我不这么想，素颜虽然不错，但素面和素颜不是一码事，因为，化妆和发型不同，不是让别人给你的，二十自己亲手化的妆，所以是本人的自我表现啊，就是说想让别人看到这样的自己”。这是态度的展现，不是对与错的交锋，大概只有真的豁达和形成自己的艺术的人，才会如此开放和不遮掩地吐露自己的心声吧。

从这段文字我们可以看出（）

- A. 女人素面最好
- B. 发型是本人的自我表现
- C. 女人的素面不同于“素颜”
- D. 素面朝天也是中格外的美

31. 埃及文化部的颁奖词说“刘震云以深邃的思想和幽默的方式，呈现了人类共同的情感和被人们忽略的灵魂对话，为表彰其作品的独创性及在埃及和阿拉伯语世界产生的巨大影响，特授此奖。”

根据这段文字，埃及文化部授予刘震云奖项的根本目的是（）

- A. 深邃的思想和幽默的方式
- B. 刘震云是华文文学的杰出作家
- C. 其作品的独创性在阿拉伯语世界产生的巨大影响
- D. 呈现了人类共通的情感和被人们忽略的灵魂对话

32. 词语的内涵是非常丰富复杂的，有些词语还有褒贬和感情色彩的细微差异。并且，词语在静态条件下，一般具有多义性，一个词语，除本义外，往往有不少引申义，有的词语还有比喻义，双关义等临时性的意义，但词语在使用中又具有单义性，即在特定的语境中其含义是唯一而确定的。

这段文字意在强调（）

- A. 词语的内涵非常丰富复杂
- B. 词语一般具有多义性
- C. 词语在使用中具有单义性
- D. 要在特定语境中理解词语的含义

33. 如果设一道问答题，内容是：古代文学、艺术作品中的鸳鸯象征什么，相信绝大多数人毫不犹豫作答：“象征夫妻相亲相爱、白头偕老。乍一看，这答案似乎是正确的，但如果从“历史”的角度来考察这一问题，就会发现不能如此简单回答。实际上，鸳鸯的象征意义是多方面的，不能在“鸳鸯”与“夫妻”之间画等号，在不同的历史时期，鸳鸯有着不同的含义，有时比喻恩爱夫妻，有事代表兄弟手足之情，有时象征君子，贤者，有时甚至是艳妓的代称，魏晋以后，鸳鸯的象征意义才逐渐趋向单一，基本定格在“夫妻爱情”上。

这段对话的主旨概括最准确的是（）

- A. 鸳鸯象征夫妻相亲相爱，白头偕老
- B. 鸳鸯象征夫妻相亲相爱，白头偕老这答案是正确的
- C. 实际上，鸳鸯象征意义是因人而异的
- D. 在不同的历史时期，鸳鸯有着不同的含义

34. 人的失败、失意、失恋、失分有许多原因，但有一个很常见的原因则是说话不注意自己的身份和对方的身份，常常造成隔阂、造成误会、造成不良效果，令人十分后悔与不安，于是，有的人干脆下定决心、准备戒口、守嘴，免得祸从口出，有的人被搞的神经紧张，一紧张编不知如何表达，往往词不达意，张冠李戴。

对这段文字意在说明（）

- A. 说话不当很不好但不能因此不说话
- B. 说话不注意分寸危害很大
- C. 祸从口出告诉我们要少说话多做事
- D. 不成功有很多原因

35. 很多时候，我们都希望有一个独立的空间，在那个空间里随心所欲，忘记所有让自己烦恼的事情，可是你若真拥有了这么一个空间，身处之中的时间久了，你智慧觉得空虚和寂寞。这是因为没有了平凡生活中的冲突，你便会失去感知情绪的能力，变的百无聊赖、无所适从。

这段文字认为“独立的空间”_____。（）

- A. 是一个让人感到无趣的所在
- B. 只能用来放松，但不适宜久住
- C. 是一个逃避现实的好地方
- D. 是一种理想状态，不要去追求

36. 《下游老人》作者藤田孝典在书中提出，抱着这样想法的大多数人都有沦为“下游”的危险。有着平均、稳定收入的工薪阶层和所谓的“白领”劳动者们，也不能例外。在岗位上即便是平均年收入在 400 万日元（合计约 24 万元人民币）左右的人群，也有相当大的危险在晚年堕入“下游”、突发重大疾病或事故，子女啃老，中老年离婚；养老机构价格高昂等都成为老年人从“普通”沉沦到“下游”因素。

根据这段文字，下列不属于使老人沉沦到“下游”因素是（）。

- A. 重大变故
- B. 罹患老年痴呆症
- C. 中老年离婚
- D. 养老机构价格高昂

37. （），基层不稳，天下也会难安。而基层治理的清明，不仅关乎每一个个体的福祉，也是转型期经济社会健康有序发展的必要条件。有鉴于此，当下的当务之急，既要严厉查处一个个体的案例，务求在每一个个案中都让民众感受到公平公正；也要立足长效机制，强化制度的建设与落实，特别是要防范基层组织的“内卷化”，使其真正成为服务民众、分担压力的开放式自治组织。

填入括号部分最恰当的是（）。

- A. 基层组织的“内卷化”日益固化

- B. 以上案例反映出基层公权力救济的缺失
- C. 基层社会是中国现代化进程中的蓄水池与稳定器
- D. 当下中国的基层治理确实出现了一些矛盾与问题

38. 给一篇文章点赞前，你真的仔细读明白了吗？分享一条捐款链接之前，你真的搞清楚钱捐给谁和怎么花了吗？就某个话题大发宏论之前，你真的了解这件事的来龙去脉吗？在参与热火朝天的网络骂战之前，你真的抱着开放、理性的心态，为理解对立面的观点而做出真诚的努力了吗？可惜，对一部分网络行动而言，以上答案都是否定的。

这段文字暗示的信息是（）。

- A. 网络行动的动因要经得起推敲
- B. 在匿名的网络社区，参与网络行动的动机更加多样
- C. 在匿名的网络社区，网民在某种程度上可为所欲为
- D. 在互联网空间，网络行动本身具有了自我标榜的意义

39. 什么是暗物质？暗物质粒子探测卫星首席科学家、紫金山天文台研究院常进这样解释：

“宇宙中，我们能看见的物质，都因为带有电子而能发光；我们能触碰一张桌子、一面墙，感觉到它们的存在，是因为有电磁场的相互作用。而暗物质是不带电荷的，也没有电磁场的相互作用，能像幽灵一样穿透障碍物，不着痕迹地从身边飞走。因此尽管我们周围极可能存在暗物质，例如平均 1 立方厘米的空气中可能就有上千颗暗物质粒子，但不能为我们所看到或感觉到。”

根据这段文字，下列说法不正确的是（）。

- A. 我们周围可能存在暗物质，但是数量不多
- B. 对暗物质的理解是超越常规的
- C. 暗物质不会发光
- D. 暗物质看不见摸不着

40. 国学原指国家学府，如太学、国子监。国学指学问一说，产生于西学东渐、文化转型的历史时期。它兴起于 20 世纪初，1920 年代始盛，随后中华传统文化学术的空间逐步扩大至今。一般来说，国学以学科分，应分为哲学、史学、宗教学、文学、礼俗学、考据学、伦理学、版本学等，其中以儒家哲学为主流；以思想分，应分为先秦诸子、儒道释三家等，儒家贯穿并主导中国思想史；以《四库全书》分，应分为经、史、子、集四部，但以经、子部为重，尤倾向于经部。

根据这段文字，下列说法正确的是（）。

- A. 国学的定义纷繁复杂，尚未统一
- B. 国学的范畴包罗万象，几乎涉及了所有的学问领域
- C. 国学基于西学的发展而兴盛，西学促进了国学的繁荣
- D. 国学有诸多分类方法，每个类别中都有其侧重点

二、数量关系（在这部分试题中，每道试题呈现一段表述数字关系的文字，要求你迅速、准确地计算出答案。下列每题备选答案中，均只有一项最符合题意。共 15 题，每题 0.8 分，满分 12 分。）

41. 3, 4, 8, 17, 33, ____。（）

- A. 53
- B. 58
- C. 62
- D. 87

42. -1, 2, 11, 38, ____。（）

- A. 119
- B. 81
- C. 114
- D. 50

43. 小宁今年比小芸大 10 岁，10 年前两人岁数之比为 1:2，小宁今年____。（）

- A. 10 岁
- B. 15 岁
- C. 20 岁
- D. 30 岁

44. 食堂为就餐人员分发苹果。如果每人分 2 个，还剩下 39 个，如果其他人每人分 3 个，则李妍虽然能分到苹果但比別人少。那么，该食堂就餐人员一共有____人。（）

- A. 40
- B. 41
- C. 40 或 41
- D. 不确定

45. 小明和小华在操场的环形跑道跑步，背向而行，N 秒后两人第一次相遇，后小明加速 10%，小华降速 10%，30 秒后两人再次相遇，N 可能是____。（）

A. 26

B. 30

C. 35

D. 39

46. XX 学院文科大一年级有三个专业，男女生人数之比为 1:2，期末该学院通过考试让学生在三个专业中重新选择，之后三个专业的男女生人数比为 1:6、1:1、1:2，其中有两个专业的人数为 45 和 35。问三个专业女生总人数为_____人。()

A. 50

B. 60

C. 70

D. 80

47. 加工一批材料，甲车间单独完成需要 20 小时，乙车间需要 30 小时。两个车间共同工作一段时间后发现，加工总数正好是总量的一半，此时甲车间比乙车间多加工 4 吨。问这批材料总共有_____。_____

A. 40 吨

B. 60 吨

C. 70 吨

D. 80 吨

48. 小红要赶四匹马过一座桥，这四匹马分别所用的时间是 7 分钟，9 分钟，11 分钟，13 分钟，可是这座桥在同一时间内只能承受两匹马，请问至少要用_____分钟把四匹马都赶过桥。()

A. 18

B. 20

C. 24

D. 40

49. 某种商品的标价为 200 元，为了吸引顾客，按 9 折出售，这时仍可赢利 20%，则这种商品的进价是_____元。()

A. 140

B. 150

C. 160

D. 170

50. 将一根绳对半剪开，再取其中的一段对半剪开，这样剪了 4 次，剩下的正好是 1 米，则这条绳子原来长_____米。()

A. 8

B. 16

C. 24

D. 32

51. $32*125*1234*75=$ _____。()

A. 12340000

B. 37020000

C. 123400000

D. 370200000

52. 某人将银行卡六位数字密码忘记，只知道六个数字不重复且和为 21，并按由小到大的顺序排列，则此人最多尝试_____可以输入正确密码。()

A. 五次

B. 八次

C. 十次

D. 十二次

53. 某书店发行一套数字辅导书，定价每套 20 元，为促销，该书店规定：购买不超过 50 套，按定价付款，购买 51 至 100 套，按定价的 9 折付款，购买 100 套以上，按定价的 8 折付款，现有现金 1800 元，则买书的套数最多为_____套。()

A. 120

B. 112

C. 100

D. 94

54. 三种洗发水原价为等差数列，现在按价格从高到低分别降价 10%，20%，50%，总价降 25%，问最贵和最便宜的两种洗发水原价之比为_____。()

A. 2:1

B. 6:5

C. 9:7

D. 11:10

55. 某连队的战士列队，每列人数一定，如果排成 5 列则剩 5 人，如果排成 6 列则少 2 人，请问该连队共有（ ）名战士。

A. 35

B. 40


C. 42

D. 45

三、判断推理（下列每题备选答案中，均只有一项最符合题意。共 40 题，每题 0.8 分，满分 32 分。）

（一）图形推理：认真观察找出图形排列的规律，从所给的四个选项中，选择最符合规律的一项。

56. 请根据第一组图形的规律，判断第二组图形中缺少的一项是（ ）



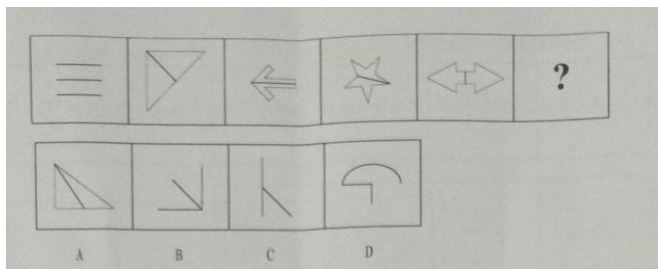
A. J

B. K

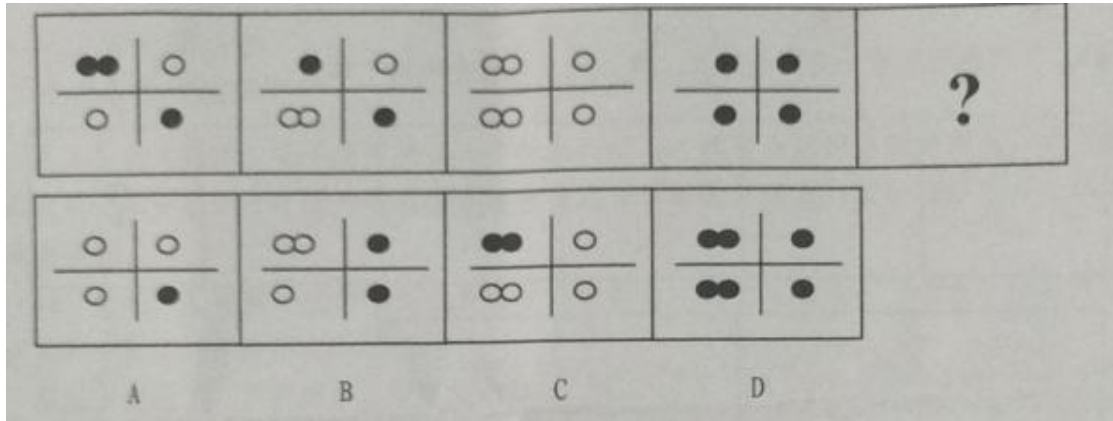
C. L

D. P

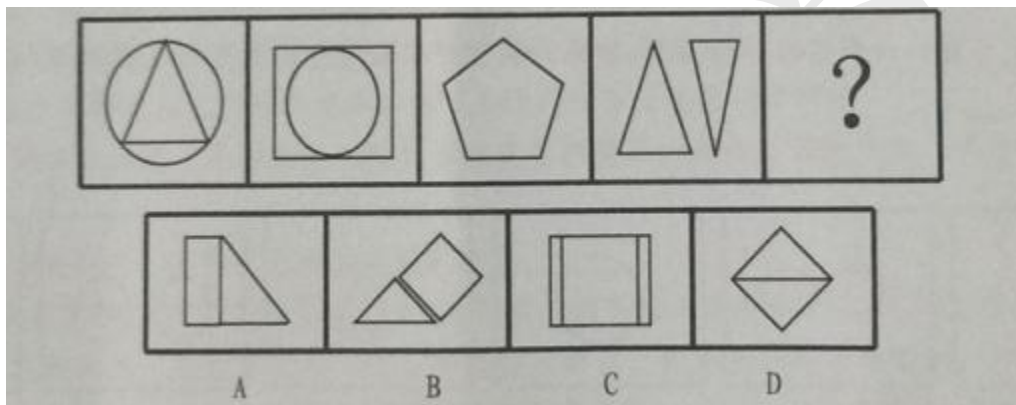
57. 下列图形呈现一定的规律性，填入问号处最合适的一项是（ ）



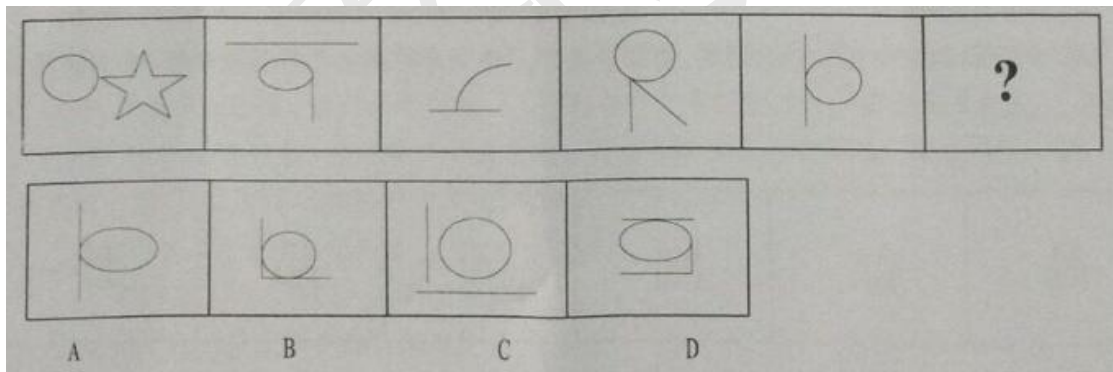
58. 下列图形呈现一定的规律性，填入问号处最合适的一项是（ ）




59. 下列图形呈现一定的规律性，填入问号处最合适的一项是 ()



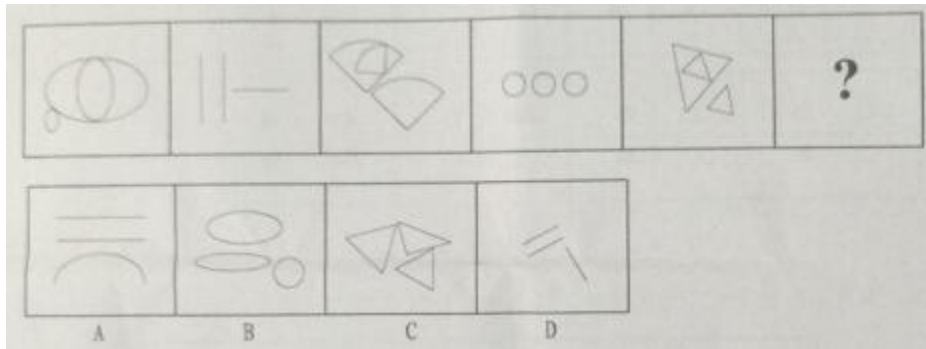
60. 下列图形呈现一定的规律性，填入问号处最合适的一项是 ()



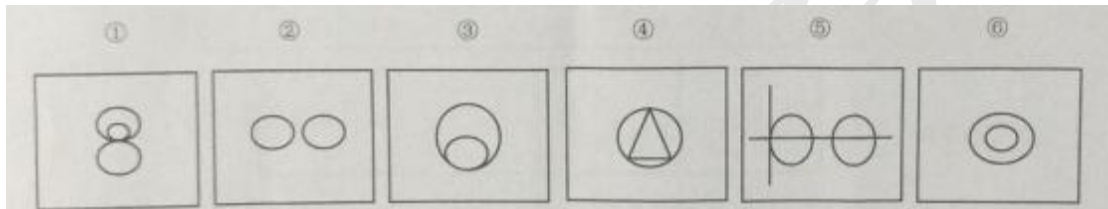
61. 下列图形呈现一定得规律性，填入问号处最合适的一项是 ()。



62. 下列图形呈现一定的规律性，填入问号处最合适的一项是（ ）。

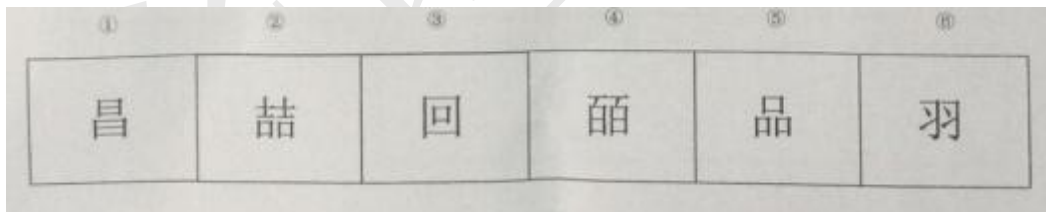


63. 把下面的六个图形分为两类，使每一类图形都有各自的共同特征或规律，分类正确的一项是（ ）。




- A. ①③⑥，②④⑤
- B. ①②③，④⑤⑥
- C. ①③④，②⑤⑥
- D. ①②④，③⑤⑥

64. 把下面的六个图形分为两类，使每一类图形都有各自的共同特征或规律，分类正确的一项是（ ）。



- A. ①④⑥，②③⑤
- B. ①③⑥，②④⑤
- C. ①③⑤，②④⑥
- D. ①②③，④⑤⑥

65. 请把以下图形分为两类，使得每一类图形都有各自的共同特征或规律、分类正确的一项是（ ）。



- A. ①④⑥, ②③⑤
 B. ①④⑤, ②③⑥
 C. ①③⑤, ②④⑥
 D. ①②③, ④⑤⑥

(二) 定义判断: 每道题先给出一个概念的定义, 然后分别列出四种情况, 要求你严格依据定义, 从中选出一个最符合或最不符合该定义的答案, 注意: 假设这个定义是正确的, 不容置疑的。

66. 瓶颈: 是指整个流程中制约发展的各种因素, 对个人来说, “瓶颈” 一般用来形容事业发展中遇到的停滞不前的状态。

根据上述定义, 下列属于瓶颈现象的是 ()。

- A. 张军不努力学习, 成绩总没进步
 B. 这个高中的高考成绩一直保持全省前列
 C. 公司无法在短期内研发新技术, 市场份额无法扩大
 D. 这个学校的学生很容易就业, 是因为他们的专业优势非常明显

67. 跳读是浏览: 是指根据一定得目的或某种需要, 舍弃一部分不读, 只快速阅读相关的部分。

根据上述定义, 下列属于跳读式阅读的是 ()

- A. 审阅文件
 B. 批改作业
 C. 按目录概要选择阅读章
 D. 心不在焉地看书

68. 托物起兴: 是指在文章中先不直接揭示题旨, 而是从别的事物起笔, 然后引出主要事物, 借以激发读者的想象与思考, 逐步领会全文主题。

根据上述定义, 下列属于托物起兴的是 ()

- A. 红豆生南国, 春来发几枝
 B. 盼望着, 盼望着, 东风来了, 春天的脚步近了

- C. 学而不思则罔，思而不学则殆
- D. 书中自有颜如玉，书中自有黄金屋

69. 非评比性文化，也可称作中性文化，是指在文化比较中没有明显的优劣、高下之分的文化，这类文化多与人们的行为方式、习惯，习俗相联系。

下列涉及非评比性文化的是（）

- A. 每年春节时，中国人总要团聚庆贺
- B. 乐于助人是中华民族的传统美德
- C. 老师批评小明随地吐痰的坏习惯，他不以为然地说这叫不拘小节
- D. 闲暇时，有些人喜欢看书充实自我，有些人则喜欢三五成群赌博为乐

70. 知觉恒常性：当客观条件在一定范围内改变时，我们的知觉映像是相当程度上却保持着他的稳定性。

根据以上定义，下列属于知觉恒常性的是____。（）

- A. 我们看的越远，就感觉事物越小
- B. 虽然十年未见，模样有了改变，但他还是认出了她
- C. 他改变了他的脾气，别人觉得他更难以相处了
- D. 我们常常觉得大酒店的消费太贵，所以宁可到小饭店聚餐

71. 定义：

- ①怜悯：指对他人的不幸表示关切、同情
- ②思念：即想念，指情人、家人或朋友分离一段时间后产生的情愫或牵挂之感
- ③孤傲：孤僻高傲，超然，指对他人的情感、意见或利益的冷漠

典型特征：

- (1)老骥伏枥、志在千里
- (2)安得广厦千万间，大庇天下寒士俱欢颜
- (3)烽火连三月，家书抵万金

上述典型例证与定义存在对应关系的数目有____。（）

- A. 3 个
- B. 2 个
- C. 1 个
- D. 0 个

72. 概率：又称或然率、机会率或几率、可能性，是数学概率论的基本概念，是对随机事件

发生的可能性的度量。

根据上述定义，下列数据表示概率的是_____。（）

- A. 银行下个月将把存款利率调整为 3.5%
- B. 这笔投资会有 20%的收益率
- C. 由于突降冰雹，田里面的菜有 1/3 都被打坏了
- D. 小霏借了 100 元给朋友，估计这个朋友有一半的可能不会还了

73. 口红效应：是指每当经济不景气，人们的消费就会转向购买廉价商品，廉价商品的销量反而会因经济不景气而上升。

根据上述定义，下列属于口红效应的是_____。（）

- A. 失业人员减少奢侈品消费
- B. 豪华餐厅推出平价套餐吸引消费者
- C. 春节后，各大品牌服装加大了折扣力度
- D. 由于经济状况不佳，价格优惠的家庭旅馆生意迎来了春天

74. 书证：是指以其内容来证明待证实的有关情况的文字材料。凡是以文字来记载人的思想和行为以及采用各种符号、图案来表达人的思想、其内容对待证事实有证明作用的物品都是书证。

根据上述定义，下列不属于“书证”的是_____。（）

- A. 选举后出现质疑，拿出重新计算的选票
- B. 出现债务纠纷时，第三人的口头证言
- C. 作为税务减免凭证的环保认证书
- D. 对交通违规处罚不服，有关部门出具了电子监控拍摄的闯红灯照片

75. 荣誉激励法：就是领导者根据人们希望得到社会和集体尊重的心理需要，对于那些为社会做出贡献的人给予相应荣誉的一种激励方法。

根据上述定义，下列不属于荣誉激励法运用条件的一项是_____。（）

- A. 必须是领导者个人欣赏认可
- B. 荣誉应有一定的社会感召力和影响力
- C. 人有得到社会和集体尊重的心理需要
- D. 被用荣誉激励法激励的行为必须对社会或集体组织有较大贡献

（三）类比推理：先给出一组或多组先关的词，要求你在备选答案中找出一组与之在逻辑关系上最为贴近、相似或匹配的词。

76. 演讲：语言（ ）

A. 舞蹈：动作

B. 运动：兴趣

C. 电视：广告

D. 金枪：银行

77. 学生：明星

A. 教师：民主人士

B. 局长：领导

C. 同事：同行

D. 银行：金融

78. 公共部门：财政局

A. 高层次人才：人才

B. 企业：跨国公司

C. 岗位：职业

D. 电影：演员

79. 豆浆：黄豆

A. 牛奶：糖

B. 面膜：黄瓜

C. 面包：果酱

D. 番茄酱：西红柿

80. 阅览：阅读：审阅

A. 要求：命令：建议

B. 尊重：尊敬：尊崇

C. 道理：理论：理据

D. 局长：市长：领导

81. 泰山：山东：济南

A. 安徽：黄山：合肥

B. 陕西：华山：西安

C. 君山：湖北：武汉

D. 衡山：湖南：长沙

82. 基金：股票：蓝筹股

A. 企业：商业银行：网上银行

B. 学历：学位：研究生

C. 金领：蓝领：企业操作工

D. 明星：演员：女演员

83. 可圈可点：伐善可陈：漏洞百出

A. 海纳百川：有容乃大：气吞山河

B. 富可敌国：富甲一方：多文为富

C. 秀色可餐：其貌不扬：貌似无盐

D. 目不暇接：应接不暇：寥寥无几

84. 工作：收入：消费

A. 交易：利润：购买

B. 学习：事业：创业

C. 科技：科学：商业

D. 学习：教师：授课

85. 造纸术对于（ ）相当于端砚对于（ ）

A. 印刷术 司南

B. 火药 印章

C. 指南针 湖笔

D. 造纸 宣纸

86. 在某国总统竞选中，统计发现，有人支持所有的候选人。

如果上述断定为真，则以下 _____ 必定为真（ ）

A. 所有的候选人都有人支持

B. 有的候选人得到所有人的支持

C. 有人不支持所有的候选人

D. 所有人都不支持有的候选人

87. 如果俄罗斯参加该集团，那么美国和英国会抵制该集团；如果美国和英国有一国抵制该集团，那么该集团就不能继续存在。事实上是该集团还将继续存在

如果上述断定为真，那么以下 _____ 一定为真（ ）

A. 美国没有参加该集团

- B. 俄罗斯没有参加该集团
- C. 美国和英国至少有一国没有参加该集团
- D. 美国参加了该集团

88. 如果一个人不能爱国，那么他不可能得到国人的爱戴

以下各项都可以从上述条件中推出，除了 _____ ()

- A. 台湾某教授为台独颠倒是非，指太平岛为礁石，收到国人的谴责
- B. 某导演在新片中使用了台独艺人和辱华艺人，收到了国人的抵制与谴责
- C. 某企业家很爱国，他得到了国人的爱戴和拥护
- D. 某学生出国后拿到 A 国绿卡后就焚烧中国护照，辱骂中国人，受到了国人的一致谴责

89. 脸部肌肉直接和大脑的情绪控制区相连，所以面部表情是心情的窗口。通过近距离观察面部表情、肢体语言和说话声调，任何人都可以识别出说谎者的谎言痕迹

以下_____如果为真，能够质疑上述观点 ()

- A. 即便最告科技的谎言识别器都无法识破所有谎言
- B. 极少数的人能够下意识地控制他们的整个面部表情
- C. 真实的情绪和不真实的情绪通过不同的方式进入大脑
- D. 如果有人说他很伤心，但他的眉毛内侧没有上拉，那么他的悲伤很可能是假的

90. S 和 T 公司给职工发年终福利，S 公司是按照每位职工工资的 13% 发放，T 公司是按照每位职工工资的 11% 发放。所以，S 公司给每位职工的平均福利多于 T 工资给每位职工的平均福利。

以下_____为真，最能加强上述论证 ()

- A. S 公司的职工多于 T 公司的职工
- B. T 公司的职工多于 S 公司的职工
- C. T 公司职工的平均工资低于 S 公司职工的平均工资
- D. S 公司职工的最高工资与最低工资分别低于 T 公司职工的最高工资和最低工资

91. 据可靠机构调查，美国离婚率约为 50%，同时，非裔公民组成的婚姻数量远远多于亚裔公民组成的婚姻数量。在除非裔和亚裔的其他美国公民中，离婚率约为 55%，由此可见 ()

- A. 非裔未离婚的公民多于亚裔离婚的公民
- B. 非裔离婚的公民对于亚裔未离婚的公民
- C. 非裔离婚的公民多于亚裔离婚的公民

D. 非裔未离婚的公民多于亚裔未离婚的公民

92. 如果小李出差，那么小王和小高也会出差

如果上述断定为真，则以下 ____ 一定为真 ()

A. 如果小李不出差，那么小王和小高也都不出差

B. 只有小李出差，那么小王和小高才会出差

C. 如果小王不出差，那么小李一定不出差

D. 如果小王和小高出差，那么小李一定出差

93. G 城发生了一次偷窃案，警方通过侦查锁定了甲、乙、丙、丁四个嫌疑人，通过对四个人的询问，他们的回答如下：

甲：不是我做的案

乙：如果是甲做的，那么丙肯定参与了

丙：是甲做的，我没有参与

丁：是丙做的

如果四个人的话只有一句话是真话，那么 ____ 是罪犯 ()

A. 甲

B. 乙

C. 丙

D. 丁

94. 一粒骰子的六面分别是 1、2、3、4、5、6 点。如果满足：(1) 1 的对面是 5，(2) 4 好 6 相邻，(3) 2 和 4 相邻这三个条件，那么下面结论错误的是 ____ ()

A. 1 与 4 相邻

B. 4 的对面是 3

C. 2 与 6 相邻

D. 5 与 3 相邻

95. 在某国选举前的民意测试中，民意排名前三的候选人甲、乙、丙三人分别归属民主党、共和党与工党三个党派。现已知：

(1) 民主党候选人排名在共和党候选人之前

(2) 工党候选人的排名在丙之前

(3) 工党候选人的排名在乙之后

如果上述条件都为真，那么以下 ____ 一定为真 ()

- A. 甲、乙、丙分别是工党、共和党和民主党的候选人
- B. 民意测试前三从高到低分别为工党、民主党和共和党的候选人
- C. 甲、乙、丙依次为工党、民主党和共和党的候选人
- D. 民意测试前三从高到低分别为民主党、共和党和工党的候选人

四、资料分析（针对下列文字、图表回答问题，你应根据资料提供的信息进行分析、比较、计算、处理。每题备选答案中，均只有一项最符合题意。共 20 题，每题 1 分，满分 20 分。）

（一）根据以下资料，回答 96-100 题。

2016 年，江苏省启动实施民生保障、公共服务等五大领域 55 个专项 200 个补短板项目，重点支持棚户区改造、铁路、农村电网改造、环境生态等短板领域项目建设，薄弱环节建设得到加强、补短板投资成效明显。

据统计，2016 年，全省固定资产投资中，铁路运输业完成投资 93.8 亿元，比上年增长 323.2%，增幅同比增长 15 个百分点；航空运输业完成投资 20 亿元，比上年增长 132.0%，增幅同比回落 3.5 个百分点；环境治理业完成投资 112.6 亿元，比上年增长 22.8%，增幅同比增长 4.3 个百分点；文化体育和娱乐业完成投资 642.2 亿元，比上年增长 14.7%，增幅同比回落 1.2 个百分点；广播、电视、电影和影视录音制作完成投资 55.8 亿元，比上年增长 13.9%；教育特别是初等教育完成投资 156.8 亿元，同比增长 18.9%。

96. 2014 年铁路运输业完成投资约 ____ 亿元。（ ）

- A. 5.435
- B. 6.354
- C. 8.6213
- D. 10.2488

97. 2016 年航空运输业完成投资比上年增长了 ____ 。（ ）

- A. 10.83
- B. 11.38
- C. 12.67
- D. 13.54

98. 2016 年航空运输业完成投资比广播、电视、电影和影视录音制作完成投资多 ____ 亿元。

（ ）

- A. 56.82
- B. 56.8

C. 46.8

D. 57.6

99. 下列增长率由小到大排列正确的一项是 ____。()

A. 2015 年环境治理业完成投资增长率<2016 教育投资增长率<2016 年广播、电视、电影和影视录音制作完成投资增长率<2015 年文化体育和娱乐业完成投资增长率

B. 2015 年文化体育和娱乐业完成投资增长率<2016 年广播、电视、电影和影视录音制作完成投资增长率< 2015 年环境治理业完成投资增长率<2016 教育投资增长率

C. 2016 年广播、电视、电影和影视录音制作完成投资增长率<2015 年文化体育和娱乐业完成投资增长率< 2015 年环境治理业完成投资增长率<2016 教育投资增长率

D. 2015 年文化体育和娱乐业完成投资增长率<2016 年广播、电视、电影和影视录音制作完成投资增长率<2016 教育投资增长率<2015 年环境治理业完成投资增长率

100. 由以上资料得出正确的一项是 ____。()

A. 2015 年、2016 年两年度航空运输业完成投资都比上年呈增长趋势

B. 2015 年、2016 年文化体育和娱乐业完成投资增长率分别低于 2015 年、2016 年环境治理业完成投资增长率

C. 2015 年投资增长率最低的是广播、电视、电影和影视录音制作业

D. 2016 年，江苏省在民生保障、公共服务等五大领域固定资产投资中、文化体育和娱乐业位列第二

(二)根据以下材料，回答 101-105 题。

2013 年、2014 年我国多晶硅进口情况一览表

(单位：吨、美元/千克)

	总计		韩国		美国		德国		三国合计
	数量	单价	数量	单价	数量	单价	数量	单价	数量
2013 年全年	80653	18.75	21631	18.76	21313	13.83	26122	21.70	70065
2014 年 1 月	7471	20.60	1698	19.83	1678	20.40	2689	20.80	6066
2014 年 2 月	5601	20.50	1275	21.29	2067	18.34	1401	20.99	4743

2014 年 3 月	8402	21.98	2341	21.87	1895	18.68	3148	23.27	7384
2014 年 4 月	7943	22.51	2466	21.21	1280	21.97	2703	22.24	6449
2014 年 5 月	6949	22.37	2580	21.44	1175	18.94	1833	22.31	5587
2014 年 6 月	9566	22.26	3416	21.07	1936	19.27	3218	24.22	8570
2014 年 7 月	8936	22.73	3345	20.89	1316	20.27	2900	25.71	7561
2014 年 8 月	8373	22.10	3095	21.15	1761	20.87	2175	25.81	7031
2014 年 9 月	9942	20.97	4046	20.95	1888	16.10	2839	24.90	8773
2014 年 10 月	8070	21.04	3873	20.73	1324	19.47	1584	23.20	6781
2014 年 11 月	11729	19.76	4017	20.43	3976	15.97	2448	23.24	10440
2014 年 12 月	9206	21.35	3891	20.47	838	18.25	3298	22.38	7727
2014 年全年	102188	21.51	36043	20.95	21134	19.04	30236	23.26	87112

101. 我国 2014 年 12 个月中，进口多晶硅总量环比降幅最大的月份是____。()

- A. 2 月
- B. 10 月
- C. 12 月

D. 无法判定

102. 我国 2014 年从韩美德三国进口的多晶硅数量占总进口量的比重与 2013 年相比_____。

()

A. 降低了 3.25%

B. 增加了 3.25%

C. 降低了 1.62%

D. 增加了 1.62%

103. 2014 年中, 从韩国进口的多晶硅总金额最大的月份比从美国进口的多晶硅总金额最小的月份多进口约_____。()

A. 7 亿美元

B. 9101 万美元

C. 6947 万美元

D. 5100 万美元

104. 2014 年中国进口的多晶硅总金额同比增长约_____。()

A. 美国

B. 韩国

C. 德国

D. 无法判定

105. 韩美德三国中, 2014 年全年出口中国的多晶硅单价相比 2013 年全年涨幅最大的是_____。

()

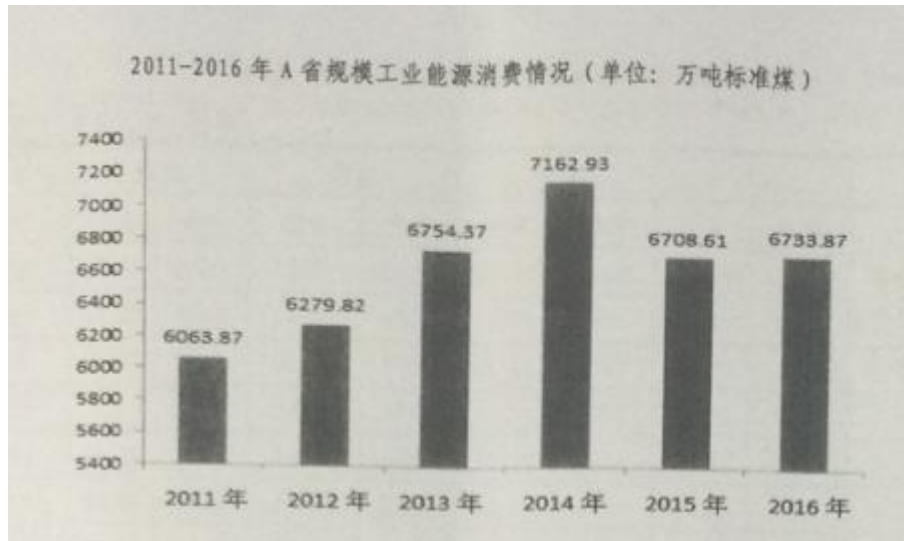
A. 美国

B. 韩国

C. 德国

D. 无法判定

(三) 根据下列资料, 回答 106-110 题。



106. 该省 2011-2013 年规模工业能源消费之和为后三年消费之和的___。()
- A. 90%
- B. 93%
- C. 95%
- D. 99%
107. 2014 年该省规模工业能源消费同比增长率与 2013 年相比___。()
- A. 增加 10.5%
- B. 减少 10.5%
- C. 增加 1.5%
- D. 减少 1.5%
108. 2012-2016 年, 该省规模工业能源消费同比增长率最低的是___。()
- A. 2013 年
- B. 2014 年
- C. 2015 年
- D. 2016 年
109. 2011-2014 年, 该省规模工业能源消费同比增长量最多的一年是___。()
- A. 2011 年
- B. 2012 年
- C. 2013 年
- D. 不确定

110. 2011-2016年，该省规模工业能源消费年增长率为___。()

- A. 21.1%
- B. 12.1%
- C. 10.1%
- D. 2.1%

(四) 根据所给图表资料，回答 111-115 题。

A省本月金融机构存款贷款		
指标名称	本月(亿元)	比去年初增减(亿元)
金融机构人民币存款余额	119919.39	12046.4
境内存款	119629.8	12021
住户存款	43313.71	2750.7
非金融企业存款	45047.05	6113.7
广义政府存款	23861.36	3118.2
非银行业金融机构存款	7407.67	38.6
境外存款	289.6	25.3
金融机构人民币贷款余额	87478.2	8608.8
境内贷款	87414.56	8634
住户贷款	24279.75	4079.6
短期贷款	4877.97	70.3
中长期贷款	19401.78	4009.3
非金融企业及机关团体贷款	63131.64	4554.1
短期贷款	25706.37	-207.1
中长期贷款	31120.97	3809
票据融资	5537.55	762
融资租赁	625.85	128.1
各项垫款	140.89	8.1
非银行业金融机构存款	3.17	0.3
境外贷款	63.64	-25.2

111. 该省年初金融机构人民币贷款余额占存款余额的比重约为___。()

- A. 73.1%
- B. 80.5%
- C. 90.3%
- D. 95.1%

112. 该省本月金融机构人民币存款贷款的下列项目中，余额比年初增加量最少的是___。()

- A. 境内存款中的非金融企业存款
- B. 境内住户贷款中的短期贷款
- C. 非金融企业及机关团体贷款中的各项垫款
- D. 金融机构人民币贷款

113. 该省本月金融机构人民币存款金额的下列项目中，相比年初增加比重最小的是_____。

()

- A. 境内存款
- B. 住户存款
- C. 非金融企业存款
- D. 广义政府存款

114. 该省本月金融机构人民币境内住户存贷款之差相比年初的_____。()

- A. 减少了 1329 亿元
- B. 增加了 1329 亿元
- C. 减少了 1903 亿元
- D. 增加了 1903 亿元

115. 该省本月非银行金融机构贷款余额同比增长_____。()

- A. 10.5%
- B. 10.0%
- C. 9.5%
- D. 不知道