

## 2019年玉溪市事业单位第二批及市直事业单位公开招聘选调课程

注意：以下课程时间均为预排，开课前3天根据报名人数再确定是否开课

上课时间：09:00-12:00, 14:00-17:00, 19:00-21:00

市直选调78人，第二批招录107人

网络报名时间：9月2日-4日，考试时间：9月21日9:00-11:00，考试内容：职业能力测验

### 优惠政策：

1、优惠1：老学员优惠1000元

2、优惠2：三人团报优惠1000元

优惠说明：协议班优惠1、2可叠加，退费同减；单班优惠选其一

### 全程集训营

班次班别	科目	课时	上课时间	学费
全程集训营（笔面协议）	职业能力测试+面试	18天+面试	详询玉溪华图	14800元，笔试不过退10000元，面试不过全退
全程集训营（笔试协议）	职业能力测试	18天	详询玉溪华图	12800元，笔试不过退8000元
全程集训营（笔试非协议）			9月2日-9月19日	6800元

### 系统集训营

班次班别	科目	课时	上课时间	学费
系统集训全程营（笔面协议）	职业能力测试+面试	12天+面试	详询玉溪华图	11800元，笔试不过退8000元，面试不过全退
系统集训营（笔试协议）	职业能力测试	12天	详询玉溪华图	9800元，笔试不过退6000元
系统集训营（笔试非协议）	职业能力测试	12天	9月2日-9月13日	4580元
系统集训营（笔试非协议）	职业能力测试	7天7晚	9月7日-9月13日	4580元

### 考前点睛班

班次班别	科目	课时	上课时间	学费
考前点睛笔面一体协议班（笔面协议）	职业能力测试+面试	6天+面试	详询玉溪华图	7800元，笔试不过退5000元，面试不过全退
考前点睛班（笔试非协议）	职业能力测试	6天	9月14日-9月19日	3980元

### 在职无忧班

班次班别	科目	课时	上课时间	学费
在职无忧全程营（笔面协议）	职业能力测试+面试	6天6晚+面试	详询玉溪华图	7800元，笔试不过退6000元，面试不过全退
在职无忧（笔试协议）	职业能力测试	6天6晚		5800元，笔试不过退4000元
在职无忧班（笔试非协议）	职业能力测试	6天6晚（3个周末）	8月31日-9月15日	2980元

咨询热线：玉溪 0877-2050159；15334489902/13108778064（微信同号）

江川 0877-8331999 19987775569（微信同号）

新平 0877-7776466；13308776605（微信同号）

联系地址：玉溪 红塔区东风南路40号5楼（玉溪市国税局对面）

新平 新平县河滨路55号新瑞酒店二楼

江川 江川区龙旺湖城商业广场16栋3-3号商铺



玉溪华图教育微信公众号

定期分享各类招考信息，备考技巧，考试真题，公益讲座安排等诸多优质内容！

扫一扫，轻松关注！

# 职业能力倾向测验必做 100 题

## 第一部分 常识判断

(共 25 题)

1. 在中共中央政治局第二十次集体学习时，习近平指出“辩证唯物主义是中国共产党人的世界观和方法论，必须不断接受马克思主义哲学智慧的滋养，更加自觉地坚持和运用辩证唯物主义世界观和方法论。”下列不属于辩证法三大规律的是（ ）

- A. 对立统一规律
- B. 量变质变规律
- C. 联系与发展规律
- D. 否定之否定规律

2. 党的十九大报告提出，我国经济已由高速增长阶段转向高质量发展阶段。未来的中国特征不包括下列那个选项？（ ）

- A. 制造大国
- B. 创新型国家
- C. 乡村振兴
- D. 区域协调发展

3. 宪法规定，“一切国家机关（ ），实行工作人员的培训和考核制度，不断提高工作质量和工作效率，反对官僚主义。”

- A. 实行公开的原则，实行首长负责制
- B. 实行精简的原则，实行岗位责任制
- C. 实行公开的原则，实行行政追责任制
- D. 实行精简的原则，实行工作责任制

4. 根据我国民事诉讼法及其相关的法律规定，以下不属于回避人员范围的是（ ）

- A. 人民陪审员
- B. 证人
- C. 翻译人员
- D. 鉴定人

5. 在我国司法体系中，负责对刑事案件提起公诉的机关是（ ）

- A. 人民法院
- B. 公安机关
- C. 人民政府
- D. 人民检察院

6. 王某见一名男子喝得酩酊大醉，神志模糊，躺在马路边，旁边放一只皮包。王某对周围的人谎称该男子为其朋友，将该男子扶到偏僻无人之处，悄悄拿其皮包（内有现金 3500 余元）。王某的行为构成（ ）

- A. 诈骗罪
- B. 盗窃罪
- C. 抢劫罪
- D. 抢夺罪

7. 下列言行体现公民没有自觉履行法定义务的是（ ）

- ① “听说你养母病了？” “与我无关，我是被收养的。”
- ② “听说你生父病了？” “与我无关，我已经被叔叔收养了。”
- ③ “爸，大学催缴学杂费了。” “你都成年了，自己挣钱交去。”
- ④ “爸，小学催缴生活费了。” “我与你妈都离婚了，找她要去。”

- A. ①③
- B. ①④
- C. ②③
- D. ②④

8. 小张驾驶汽车前往车站接家人，途中，由于骑自行车的老梁逆行且突然变道，小张避让不及撞伤老梁，经交警认定，老梁对此次事故负全部责任。老梁不服，向法院提起损害赔偿。则本案为（ ）

- A. 刑事诉讼案件
- B. 行政诉讼案件
- C. 国际诉讼案件
- D. 民事诉讼案件

9. “朝辞白帝彩云间，千里江陵一日还。”李白在诗句里描述自己的行程是从现在的（ ）到（ ）

- A. 重庆 湖北

B. 湖南 四川

C. 重庆 江苏

D. 湖南 江苏

10. 琵琶曲《十面埋伏》描绘的是哪次战役的情景？（ ）

A. 赤壁之战

B. 垓下之战

C. 巨鹿之战

D. 官渡之战

11. 下列说法错误的是（ ）

A. 我国第一部纪传体通史是《史记》

B. 我国第一部词典是《说文解字》

C. 我国第一部神话集是《山海经》

D. 我国第一部断代史是《汉书》

12. 下列各项所描写的人物中，与其它三项不处于同一时代的是（ ）

A. 功盖三分国，名成八阵图

B. 治世之能臣，乱世之奸雄

C. 千万雄兵莫敢当，单刀匹马斩颜良

D. 江东子弟多才俊，卷土重来未可知

13. 古人用“父母教，须敬听；父母责，须顺承”来劝喻人们要尊敬父母，这句话出自（ ）

A. 弟子规

B. 三字经

C. 千字文

D. 百家姓

14. 价格变动会引起需求变动，在日常生活中，价格变动对需求影响较小的一组商品是（ ）

A. 蔬菜、米面、水果

B. 电视机、食用油、冰箱

C. 金银首饰，家用摄像机

D. 电脑、轿车、新鲜海产品

15. 假如地球重力加速度减为现在的一半，下列数值不会发生变化的是（ ）。

- A. 鱼在相同水深下受到的压强
- B. 船在水中的吃水深度
- C. 人在体重计上的称量结果
- D. 人可以举起的石块的最大质量

16. 将豆腐冰冻一段时间再解冻，豆腐内部会出现非常多的小孔。这一变化的原因是：  
( )

- A. 豆腐内的水分聚集凝结成冰晶，体积增大，挤出了这些小孔
- B. 豆腐在低温下组织纤维变硬，体积膨大，漏出了空隙
- C. 温度骤然变化导致豆腐的组织纤维热胀冷缩，漏出了空隙
- D. 豆腐中的某些成分在低温环境下释放出大量气体，挤出了这些小孔

17. 硬水由于水中含有钾镁等离子比较多，下列关于硬水说法错误的是（ ）

- A. 将水煮沸可以降低水的硬度
- B. 肥皂水可以检验水的硬度
- C. 水中加入石灰可以检测水的硬度
- D. 生活中可以采用不同的方法将硬水软化，如离子交换法

18. 下列民间俗语与其蕴含的启示对应错误的是（ ）

- A. “戒烟，少喝酒，心胸开阔少发愁”——保持健康的生活习惯，对身心健康有利
- B. “冬吃萝卜夏吃姜，饭前喝汤胜药方”——适当的调节，有助于身体血压平衡
- C. “大步走，小步跑，一天万步比较好”——适当的运动，对人的身体有益
- D. “早上要吃好，中午要吃饱，晚上要吃少”——不同时段，人体对营养的需求不同

19. 下列关于中国地理常识的说法，正确的是（ ）

- A. 中国稀土的储量和产量均居世界首位
- B. 准噶尔盆地位于新疆境内，在天山以北，是中国最大的盆地
- C. 海南省有“东方夏威夷”的美称，简称“琼”，省会是三亚
- D. 以北京、天津、唐山为中心的京津唐地区是中国最大的综合性工业基地

20. 关于下列地区的说法错误的是（ ）

- A. 欧洲北海：既是著名产油区，又是著名渔场
- B. 波斯湾地区：既是著名产油区，又是古文明发祥地
- C. 湄公河流域：既是小麦主产区，又是佛教圣地

D. 五大湖区：既有世界上面积最大的淡水湖，又跨美加两国边境线

21. 对于企业问题的公示曝光比罚款杀伤力大的主要原因是（ ）

- A. 罚款力度小，不能使企业的问题有根本性的解决
- B. 媒体曝光对存在的问题可以对企业有警示作用
- C. 媒体曝光对企业形象的根本损害也是对企业竞争力的挫伤
- D. 媒体曝光可以使企业处于舆论之下运营

22. 下列历史人物与其著名言论对应错误的是（ ）

- A. 梁启超：国家之主人是谁？即一国之民是也
- B. 孟子：民为贵，社稷次之，君为轻
- C. 曾国藩：天变不足畏，祖宗不足法，人言不足恤
- D. 林则徐：苟利国家生死以，岂因祸福避趋之

23. 大雁在飞翔时的队形，有时是“一”字形，有时是“人”字形。影响它们飞翔时队形变化的主要因素是（ ）。

- A. 大雁数量
- B. 飞行方向
- C. 地磁线角度
- D. 风向的变化

24. 现代人由于饮食等生活习惯问题，多数会有胃病，很多人在检查胃的时候医生会建议其做“钡餐检查”，钡餐的主要成分是（ ）

- A. 硫酸钡
- B. 氯化钡
- C. 氧化钡
- D. 氢氧化钡

25. 法律援助是法律服务的一项法律保障制度，在我国下列人员属于法律援助对象的是（ ）

- A. 在中国违反《治安管理处罚法》的外国人
- B. 所有的孕妇，精神病人和 75 周岁以上的老年人
- C. 身体残疾的犯罪嫌疑人
- D. 没有委托辩护律师的未成年刑事被告人

## 第二部分 言语理解与表达

(共 25 题)

1. 在很长的一个时期内, 南极洲对人们来说是一个\_\_\_\_\_的地方, 古代和中世纪的地理学家, 往往把南极周围画成一片无边无际的海洋, 或者画成一个环形的海岛。从 16 世纪起, 在几乎所有的地图上都画着南极的土地, 但地理学家都是凭着自己的\_\_\_\_\_画出来的, 因为谁也没有见过这块土地。

依次填入划横线部分最恰当的一项是 ( )

- A. 广阔无垠 经验 B. 神秘莫测 理解  
C. 人迹罕至 推理 D. 一无所知 想象

2. 跟纸质出版界相比, 网络文章发表之前无须经过身份验证、资格审查和学术评议等程序, 这样就难免造成\_\_\_\_\_、\_\_\_\_\_的局面。

依次在空格处选填最恰当的字是 ( )

- A. 鱼目混珠 杂乱无章 B. 鱼龙混杂 杂乱无章  
C. 鱼龙混杂 泥沙俱下 D. 鱼目混珠 泥沙俱下

3. 以和为贵、\_\_\_\_\_的精神, 贯穿中华民族发展的全部历史, 渗透在社会生活的方方面面, 使我们不同族群、不同地域的不同文化, 不断相互吸取、相互融合, 形成了\_\_\_\_\_、丰富多彩的中华文化。

依次填入划横线处最恰当的一项是 ( )

- A. 和睦相处 无与伦比 B. 谦顺礼让 不绝如缕  
C. 和而不同 博大精深 D. 守望相助 兼收并蓄

4. 创新型人才的一个突出特点, 就是不简单\_\_\_\_\_既成事实, 不\_\_\_\_\_于固定的想法, 具有求异思维和批判精神。

依次在空格处选填最恰当的字是 ( )

- A. 认同 拘泥 B. 认同 局限  
C. 认可 拘泥 D. 认可 局限

5. 自文艺复兴以来, 特别是第一次世界大战期间, 因为民族主义和阶级斗争等意识形态作祟产生了一系列伤亡惨重的战争。其中, 许多的知识分子起到了\_\_\_\_\_的作用, 他们或打扮成青年导师和精神领袖, \_\_\_\_\_种族差异、民族至上和阶级对立, 或投笔从戎, 直接参与战争。对这一现象, 哲学家班达不以为然, 认为知识分子假借种族主义、民族主义和

阶级斗争\_\_\_\_\_了知识分子的价值理想。

依次填入划横线部分最恰当的一项是（ ）

- A. 助纣为虐 膜拜 击碎 B. 中流砥柱 批判 展现  
C. 推波助澜 鼓吹 背叛 D. 力挽狂澜 抨击 彰显

6. 幸福有没有标准？我认为，现实生活离不开比较，但是幸福的比拼，本身就是比较\_\_\_\_\_的事情。幸福耐不住人家打扰，经不起科学研究，当幸福成为指数、成为概念、成为一批标准时，也就变得\_\_\_\_\_了。

依次填入划横线部分最恰当的一项是

- A. 混乱 一文不值 B. 私密 可有可无  
C. 模糊 无足轻重 D. 荒诞 遥不可及

7. 对大多数人来说，糖尿病并不陌生。然而，很多人对它的了解仅仅是\_\_\_\_\_。并非\_\_\_\_\_，就发病率而言，糖尿病可谓疾病之王。按照 2013 年的数据，中国 18 岁以上成年人的糖尿病发病率已经高达 11.6%，患者绝对人数已经过亿。

依次填入划横线部分最恰当的一项是（ ）

- A. 略知一二 空穴来风 B. 冰山一角 危言耸听  
C. 道听途说 杞人忧天 D. 管中窥豹 故弄玄虚

8. 古人提倡“吾日三省吾身”，\_\_\_\_\_，而今天有些人则不然，总是\_\_\_\_\_，对比之下，实在不应该。

依次填入划横线部分最恰当的一项是（ ）

- A. 修身养性 瑕不掩瑜 B. 兢兢业业 好大喜功  
C. 闻过则喜 讳疾忌医 D. 博采众长 刚愎自用

9. 电话营销是销售的一种重要途径，许多商家依赖短信、电邮、电话等电子推销手段销售产品和服务，但消费者往往\_\_\_\_\_。香港与内地一样，人们天天遭遇电子促销的疲劳轰炸，希望政府规管，以求耳根清净。这些年香港通过立法和执行，基本管住了垃圾短信、电子邮件促销，但人对人的促销电话，仍让这个现代化大都市\_\_\_\_\_。

填入划横线部分最恰当的一项是（ ）

- A. 不堪入目 一筹莫展 B. 忍无可忍 手足无措  
C. 不胜其烦 束手无策 D. 不厌其烦 望洋兴叹

10. 机遇与每个人的未来\_\_\_\_\_，把握机遇，就能更好地把握未来。然而，机遇又像是一个美丽而性情古怪的天使，她偶尔降临在你身边，如果你稍有不慎，如果你不懂珍惜，



她将翩然离去，不管你怎样\_\_\_\_\_。

依次填入划横线部分最恰当的一项是（ ）

- A. 休戚相关 捶胸顿足
- B. 息息相关 扼腕叹息
- C. 休戚与共 后悔莫及
- D. 生死攸关 自怨自艾

11. 分享经济作为一种新的经济形态，面临的挑战和问题不少，行业、社会、监管等也在逐渐调整和适应。但是不能因此采取一种压制态度，而应创造更好的环境，使其规范健康地发展。

这段文字主要表达的意思是（ ）

- A. 要以包容的态度，营造分享经济发展的良好环境
- B. 相关法规的调整和监管手段都跟不上分享经济的步伐
- C. 分享经济是新生事物，本身仍有许多需要完善的地方
- D. 不能压制新生事物的发展，否则就无法跟上新时代的发展

12. 有关发展的早期文献几乎都认定，发展中国家由于贫穷无力建立社会保障制度。这一论断，在很大程度上成为众多发展中国家在普及社会医疗保险方面无所作为的理由。时至今日，在绝大多数发展中国家，占人口大多数的非正规就业者及其家庭成员一般都被排斥在保险计划之外。然而事实证明，即使是最穷的国家，也能通过对本国人口中的脆弱群体提供公共支持而创造出丰富多样的社会保障形式来。

这段文字的主旨是（ ）

- A. 社会保障制度与经济社会发展阶段有关
- B. 发展中国家的社会保障制度很不健全
- C. 弱势群体应是发展中国家社会保障制度关注的重点
- D. 贫穷不能成为发展中国家对社会保障无所作为的理由

13. 在中国古代，盖天、浑天之说，圭表、浑仪等器，以及天文历法之操作规则，都是为着一个实用的目的，即服务于王权。然而赋予这个致用目的以神秘、庄严、威严之感，以致人人相信其有效的，是古代深入人心的“天人合一”思想。这里的“天”是指整个自然界，在古代中国人心目中，是一个有意志、有感情、无法彻底认识、只能顺应其道、与之和睦共处的庞大而神秘的活物。

这段文字主要介绍了（ ）

- A. 中国古人心目中“天”的含义
- B. 中国古代天学的实用目的及其背后的思想

- C. 大自然在中国古代天学中的权威地位
- D. 中国古代天学与近代科学的区别

14. 中国是个太阳能资源非常丰富的国家，96%的地区有可利用的太阳能资源，绿色、节能的太阳能热水器深受不同地域消费者的青睐。然而，一项对24个省市太阳能热水器使用状况的调查，却显示出不容乐观的结果，40.87%的太阳能热水器一到冬天就无法使用，66.62%的消费者希望太阳能热水器进一步改善性能，在冬天更好用。

这段文字意在表明（ ）

- A. 中国的太阳能资源尚未得到充分利用
- B. 太阳能热水器因绿色节能而受到青睐
- C. 太阳能热水器的市场前景欠佳
- D. 太阳能热水器使用状况不容乐观

15. 在大数据时代之前，人们做出决策和构建制度，大多建立在匮乏的数据基础上。简单地说，在过去网络还不甚普及的时候，人们在做出一些决策行为和数据分析的过程中，更多的是凭借个人经验和直觉。而现在，大数据时代的来临，为人们提供了一种全新的思路，通过大量的数据分析得出的结果将更加现实和准确。但是，值得注意的是，过去，我们手头上仅有的一些数据都是相对准确的，有参考价值的。而大数据由于信息量更多更大，信息品质参差不齐，并非所有数据都有参考价值，相对过去来说，这些数据更加杂乱。

这段文字意在强调（ ）

- A. 大数据使得科学研究更加便捷和准确
- B. 大数据时代人们的决策过程更加科学
- C. 不同时期数据的准确性存在着巨大差别
- D. 应注意信息品质对数据分析结果的影响

16. 其实，正如新文化运动不可能完全动摇儒学在中国文化中的牢固地位一样，时下的“注水”文章与满天飞的概念也不会将清代朴学的实证精神彻底扼杀。好大喜功、虚无缥缈，跟在西方的脚后跟搬弄几个名词，只会产生出一堆文字垃圾，既不能长久立足，也会为西方的学术界所不齿。相反，如果我们不丢弃自己的学术传统，扎扎实实做学问，反而可以在西方人面前建立一个强有力的对立面。

通过这段文字，作者想要表达的主要观点是（ ）

- A. 坚守我国学术传统方能大有可为
- B. 虚浮的学术氛围使我国学术难有成就

C. 我国的传统学术研究可与西方并驾齐驱

D. 当下，做学术应强化清代朴学的实证精神

17. 在现代社会中，虽然以有经济保障和物质享受为前提的婚姻数量迅速减少，但是“金钱决定一切”、“拜金论”仍然在一些人心中根深蒂固。在恋爱婚姻自由的现代社会里，依然存在家长极力干涉子女婚姻的情形，家庭背景、教育背景和工作条件仍然是主要的参考因素。我们不禁思考：金钱能决定一切吗？当然不是。

通过这段文字最有可能作出的结论是（ ）

A. 纯粹建立在美貌和激情基础上的婚姻将会是失败和不幸的婚姻

B. 婚姻中感情是最重要的因素，经济保障和物质享受均无需考虑

C. 现代社会中女性需要通过婚姻中的财富和地位提高自身的身份

D. 为了美好的婚姻，我们要有正确的婚姻观和对待婚姻的态度

18. 婚姻，就是为了和一个人相濡以沫、共度终生，任何以钱财为目的的爱情和婚姻，都是不正确的。诚然，爱情也是要有块地方来承载的，而婚姻显然也要有个房子来遮风挡雨的，尤其是作为家庭最大财富的房子，还在不断增值的情况下。但是，现在不少人总是抱着某种目的去找对象，而忽视了感情本身。毕竟，婚姻的目的不是为了结束单身生活，而是为了创造一个属于自己的家庭，享受承担责任、被人需要的快乐。

下列最适合做这段文字标题的是（ ）

A. 蜗居年代：寻找婚姻的避风港

B. 悲剧：今天结婚，明天离婚

C. 裸婚时代：我们拿什么去结婚

D. 婚姻：算房产账，更算感情账

19. 现收藏于陕西省博物馆的八棱金杯，是唐代比较有代表性的作品，1970年发掘出土。此杯为国家一级文物，高6.4厘米，侈口八角，圈足。八个面之间以连珠式图案相分割，分别装饰有拍板、吹箫、弹奏琵琶等人物浮雕图案，人物形象高鼻深目，明显是当时的西域胡人形象。此外，还有忍冬纹、卷草纹，以及山石、飞鸟、蝴蝶等装饰图案。这件文物对研究唐代金属工艺、造型艺术、文化交流、歌舞音乐以及服装穿戴等社会现象都有极大帮助。

下列说法与原文不相符的是（ ）

A. 唐代时已有箫、琵琶等音乐器具

B. 当时西域与唐王朝有一定文化交流

C. 八棱金杯是唐王朝赠送给西域的礼品

D. 金杯的八个面之间以连珠式图案相分割

20. 作为石油的伴侣，天然气的生成条件要比石油更为多样化，石油要达到一定的埋藏深度才能大量生成，而天然气则从浅到深都可，浅的也许只有几百米，深的则有上万米。就物质来源说，石油以水中浮游的动植物有机质为主，而天然气还可以有高等植物等有机质。对于成因，目前地质科学界绝大多数的专家都赞成有机说，认为石油和天然气就是由远古时代死去的各种生物体转化而成。

不能从这段文字中得知的是（ ）

- A. 石油比天然气埋藏深
- B. 石油大多由水生生物转化而成
- C. 石油和天然气都是由各种生物体转化的
- D. 水中浮游的动植物有机质也是天然气的来源

21. ①笑是一种复杂的神经反射作用，当外界的一种笑料变成信号，通过感官传入大脑皮层，大脑皮层接到信号，就会立刻指挥肌肉动作起来

②小则嫣然一笑，笑容可掬，这不过是一种轻微的肌肉动作

③笑，是心情愉快的表现，对于健康是有益的

④捧腹大笑，手舞足蹈，甚至全身肌肉、骨骼都动员起来了

⑤一般的微笑，就是这样

⑥大则是爽朗的笑，放声的笑，不仅脸部肌肉在动作，就是发声器官也动作起来

将以上 6 个句子重新排列，语序正确的是（ ）

- A. ①⑤②⑥④③ B. ③①②⑤⑥④
- C. ①③②⑤④⑥ D. ③①⑤②④⑥

22. ①进行良好的时间管理，同样需要这些品质

②把握好间隔和规律正是时间管理的内容

③当鸡蛋越来越多，情况越来越糟的时候，你要有能力控制局面

④进行时间管理，就好像抛鸡蛋

⑤要做好抛鸡蛋的动作，需要耐心、毅力、练习和计划

⑥你要不停地把手中的一只鸡蛋换成另一只，还要保持所有的鸡蛋都不落到地上

将以上 6 个句子重新排列，语序正确的是（ ）

- A. ②④③⑥⑤① B. ⑤①⑥④③②
- C. ②④⑤⑥①③ D. ④⑥⑤①③②

23. ①连残荷也将消逝得无影无踪  
 ②池塘里的荷叶虽然仍然是绿油油一片  
 ③好像是一下子从夏天转入秋天  
 ④但是看来变成残荷之日也不会太远了  
 ⑤再过一两个月，池水一结冰  
 ⑥连日来，天气突然变寒

对上述语句排序正确的一项是（ ）

- A. ⑤①②⑥③④ B. ⑥③②④⑤①  
 C. ②⑥③④⑤① D. ⑥⑤①③②④

24. ①大约 10 年前，科学家对生物炭产生了兴趣

②但这项技术渐渐被人遗忘，其他地方的农民则没有使用生物炭的习惯

③现在，虽然这个想法已经渐渐淡出人们的视野，但土壤学家却开始探索将生物炭用于农业以治理污染

④尽管农民们最近才开始接触生物炭，但实际上生物炭有着悠久的历史

⑤千百年前，生活在亚马逊河流域的人们就通过加热有机物制造出了生物炭，并用它造就了被称为“亚马逊黑土”的肥沃土壤

⑥当时，人们开始关注全球变暖问题，一部分人期望可以用生物炭将大量碳元素封存在地下

将以上 6 个句子重新排列，语序正确的是（ ）

- A. ④⑤②①⑥③ B. ④③①⑤⑥②  
 C. ⑤①⑥④③② D. ⑤⑥②①③④

25. ①旧大陆的大西洋沿岸，漂浮的低气压风暴穿越墨西哥洋流的温暖水域，在西欧形成了比较湿润和温暖的气候

②接着，这又为原始人类和其他大型食肉动物提供了丰富的食物来源

③因此，植物生长茂盛，维持了北极圈以南地区大量食草动物的生存，比如猛犸象、驯鹿、野牛等

④大约 3 万年前，欧洲、亚洲北部和美洲的冰川开始融化

⑤触发人类历史的生态变化都与北半球大陆冰川最后一次消退有关

⑥在光秃秃的地表上，冻原和稀疏的森林首次生长出来

将以上 6 个句子重新排列，语序正确的是（ ）

- A. ①②⑤④⑥③ B. ④⑥①②③⑤  
C. ⑤④⑥①③② D. ⑥①③⑤④②

### 第三部分 数量资料

(共 25 题)

1. 某校庆晚会上, 对 6 个不同的节目排演出顺序。若节目甲只能排在最前, 节目乙不能排在最后, 共有多少种不同的排法? ( )

- A. 120  
B. 96  
C. 78  
D. 24

2. 某市实验小学在全校开展“最美少先队员”民主推选活动, 全校师生在 10 名候选人中选择 2 名进行投票。投票结束后发现, 没有任何一种候选人的组合得到了超过 12 票, 问该校参与投票的师生最多有多少人? ( )

- A. 495  
B. 496  
C. 540  
D. 541

3. 已知 2000 年 1 月 1 日是星期六, 那么 2015 年 5 月 1 日是星期几? ( )

- A. 一  
B. 三  
C. 五  
D. 日

4. 某洗衣机按 40% 的利润定价, 然后按 8.5 折卖出, 共获得利润 190 元, 则该洗衣机的售价是多少元? ( )

- A. 1000  
B. 6000

C. 4300

D. 760

5. 某办公用品店举办促销活动，打八五折出售某款耗材，活动第一天销量是未打折时的3倍，利润是未打折时的1.2倍。活动第二天打九折出售，问销量要是未打折时的多少倍，两天活动的平均利润才能与平时相当？（ ）

A.  $\frac{4}{3}$

B. 1.5

C.  $\frac{5}{3}$

D. 2

6. 专卖店销售两种不同配置的电脑，低配版每台售价5500元；高配版每台售价9500元。教师节举办促销活动，规定教师购买电脑打八折。当天销售这两种电脑共10台，其中有3台是教师购买的，总销售额为66900元。问当天销售的低配版电脑中，有多少台不是教师购买的？（ ）

A. 1

B. 2

C. 3

D. 4

7. 85名学生参加了英语和语文考试，其中英语得100分的28人，语文得100分的37人，两门都没有得100分的有45人，两门都得100分的有多少人？（ ）

A. 40

B. 25

C. 12

D. 3

8. 1至999中所有不能被5和6整除的自然数有（ ）

A. 332

B. 365

C. 634

D. 667

9. 某单位45名职工利用假期重读马克思主义著作，其中60%的人阅读《资本论》，阅读《共产党宣言》的人比阅读《政治经济学批判》的多5人，但少于阅读《资本论》的人。

已知所有人都阅读过这三本著作中的至少一本，最多有（ ）人这三本著作都阅读了。

- A. 12
- B. 13
- C. 14
- D. 15

10. 在匀速由下往上运行的自动扶梯上，甲每秒向上走 1 梯级，乙每 3 秒向上走 2 梯级，甲到达楼上用了 50 秒，乙用了 60 秒，那么该扶梯共有（ ）级。

- A. 84
- B. 100
- C. 118
- D. 130

11. 一列客车完全经过路边的一根电线杆用时 15 秒，完全超过一列速度为其一半的货车用时 75 秒。已知货车的长度为 900 米，问客车的速度为多少米/秒？（ ）

- A. 20
- B. 30
- C. 40
- D. 50

12. 小张骑自行车上坡、下坡、平路的速度分别为 10 千米/小时、20 千米/小时和 15 千米/小时。他骑自行车从甲地出发前往乙地，先上坡一段距离再骑一段距离的平路到两地中点然后直接下坡，全程平均速度为 15 千米/小时。如小张 10:00 出发，12:00 达到乙地，则他在平路上骑行多少千米？（ ）

- A. 6.0
- B. 7.5
- C. 9.0
- D. 12.0

13. 某草地上的草可供 40 头羊吃 6 年或 30 头羊吃 10 年，若要保证该草地不会荒芜（假设草的生长速度是稳定的），最多可供多少头羊一直吃？（ ）

- A. 10
- B. 15
- C. 20



D. 25

14. 有 960 件产品需要加工，若甲工厂单独加工这批产品比乙工厂要多用 20 天，甲工厂每天加工的数量是乙工厂每天加工数量的  $\frac{2}{3}$ ，若甲、乙两厂合作完成这项工作，共需要多少天时间？（ ）

A. 65

B. 40

C. 32

D. 24

15. 工厂生产某种商品，每天的产量和销量均相同，库存维持在库房容量的 50%。现用 20 天时间改造生产线，每天的产量减半，改造完成时库存只有库房容量的 10%。改造完成后生产线效率是改造前的 2 倍，问销量至少要是之前的多少倍，才能保证在 30 天内库存不会超过库房容量？（ ）

A. 1.25

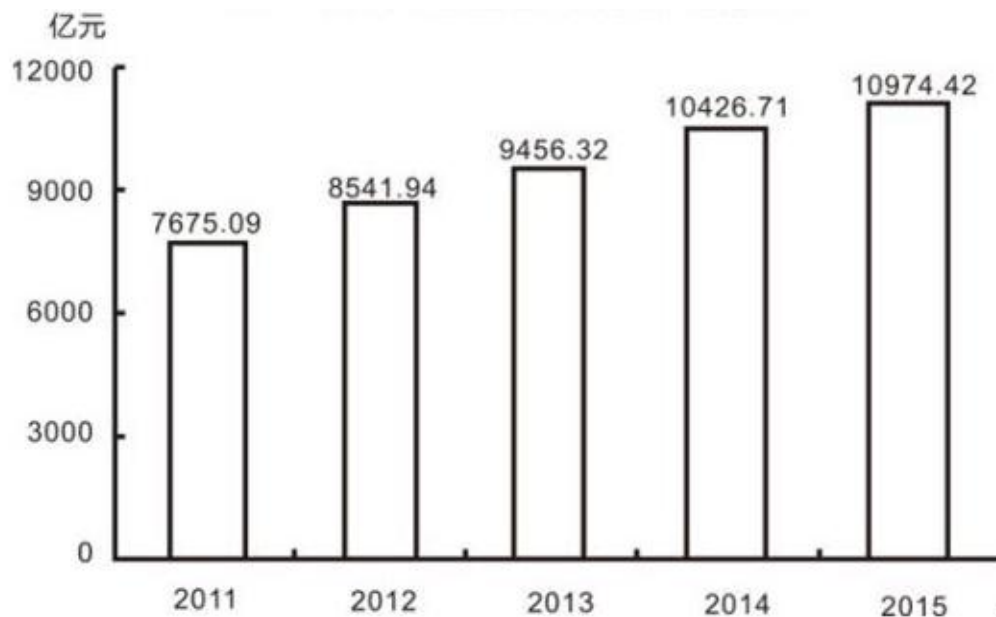
B. 1.5

C. 1.75

D. 2

**材料一：**2015年，L省全年全部工业增加值为10974.42亿元，比上年增长8.5%，规模以上工业增加值增长8.7%，在规模以上工业中，分经济类型看，国有企业增长9.5%，集体企业增长8.4%，股份制企业增长11.2%，外商及港澳台商投资企业增长4.6%，私营企业增长11.1%；分轻重类型看，轻工业增长8.9%，重工业增长8.6%；分门类看，采矿业增长8.6%，制造业增长9.3%，电力、热力、燃气及水生产和供应业增长0.8%，工业产品销量率96.74%，比上年下降0.5个百分点。

#### 2011—2015年 L省全部工业增加值



规模以上工业的 38 个行业大类中，有 19 个增加值增速为两位数。其中，石油下降 3.2%，废弃资源综合利用业增长 15.3%，有色金属冶炼和压延加工业增加 28%，燃气生产和供应业下降 5.4%，化学纤维制造业增长 22.8%，黑色金属冶炼和压延加工业下降 0.7%。规模以上工业中，三大主导产业实现增加值 3546.77 亿元，增长 10.1%；其中机械装备产业实现增加值 1606.90 亿元，增长 9%；电子信息产业实现增加值 728.91 亿元，增长 10.8%；石油化工产业实现增加值 1210.96 亿元，增长 10.7%；高新技术产业实现增加值 1003.02 亿元，比上年增长 12.5%。

16. 2014 年，L 省全年全部工业增加值约为（ ）。

- A.10115 亿元
- B.10346 亿元
- C.10871 元
- D.12286 亿元

17. 2012 到 2015 年，L 省哪一年的全部工业增加值的增速最慢？（ ）

- A.2015 年
- B.2014 年
- C.2013 年
- D.2012 年

18. 2014 年 L 省规模以上工业，三大主导产业中占比最大的产业的比重约为（ ）。

- A.34.7%

B.45.8%

C.56.5%

D.67.6%

19. L省“十二五”期末的全部工业增加值比2011年增长约( )。

A.21.8%

B.32.4%

C.43%

D.53.8%

20. 根据所给资料, 下列表述正确的是( )。

A.2015年L省规模以上工业的, 38个行业大类中有三个行业大类的增加值是减少的

B.2014年L省工业产品销量率为96.24%

C.2015年L省规模以上工业中私营企业的增长率低于国有企业的增长率

D.2014年L省高新技术产业实现增加值超过900亿元

**材料二:** 2017年, B省共有农业产业化龙头经营组织2575个, 比上年增加46个。其中, 龙头企业2303个, 增加91个。

2017年, 全省农业产业化龙头企业实现销售收入3858.0亿元, 比上年增长6.2%。从产业类型看, 销售收入前三位是粮食类, 奶类和饲料类龙头企业, 销售收入分别为602.7亿元, 323.9亿元和287.2亿元。中草药生产(加工)龙头企业发展较快, 销售收入达到67.1亿元, 增长53.7%。

2017年, 全省农业产业化龙头企业经营组织固定资产净值达到1502.0亿元, 比上年增长13.8%; 共实现销售收入4299.4亿元, 增长7.0%; 共实现利润489.0亿元, 比上年增长5.0%; 上交税金98.1亿元, 增长8.5%; 从业人员53.5万人, 增长0.3%; 带动农户1821.9万户, 增长10.1%。2017年, 全省农业产业化龙头企业固定资产净值达到1422.6亿元, 比上年增长16.5%; 从业人员42.1万人, 增长1.2%; 带动农户1560.5万户, 增长12.2%。

**2017年B省农业产业化生产(加工)基地经营状况**

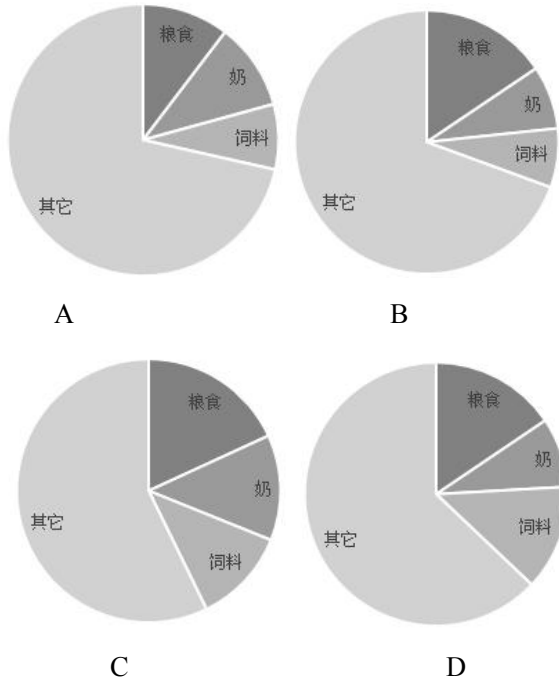
	数量(个)	数量同比增加 (个)	销售产值(亿 元)	产值同比增长 (%)
种植业产业基地	413	16	1772.7	1.8

养殖业产业基地	296	2	1155.0	2.4
农产品加工基地	33	0	688.8	5.1

21. 2016年B省农业产业化龙头经营组织中，非企业组织有多少个？（ ）

- A. 135
- B. 227
- C. 272
- D. 317

22. 以下饼图中，能准确反映2017年B省粮食类、奶类、饲料类和其他龙头企业销售收入占该省农业产业化龙头企业总收入比重关系的是：（ ）



23. 2017年，B省农业产业化龙头经营组织平均每名从业人员创造的利润余额比上年同期增长了：（ ）

- A. 4.7%
- B. 9.2%
- C. 13.5%
- D. 15.1%

24. 2017年，B省平均每个农业产业化生产(加工)基地创造的销售产值约为多少亿元？

( )

- A. 3.9

- B. 4.9
- C. 8.9
- D. 20.9


25. 能够从上述资料中推出的 ( )

- A. 2017 年, B 省中草药生产(加工)龙头企业销售收入占农业产业化龙头企业的比重比上年提高 2 个百分点以上
- B. 2017 年, B 省农业产业化龙头企业平均每万元固定资产净值实现的销售收入高于上年水平
- C. 2017 年, B 省农业产业化龙头经营组织从业人员中, 在非企业组织就业的比重高于两成
- D. 2017 年, B 省平均每家种植业生产基地创造的销售产值高于上年水平

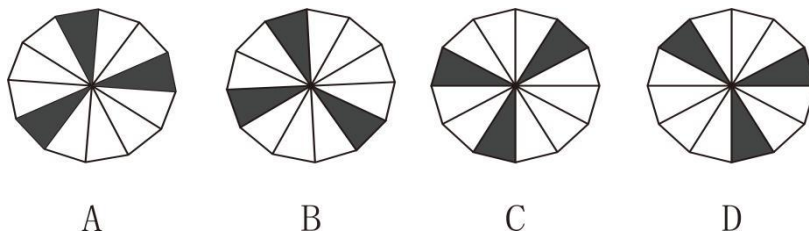
### 第四部分 判断推理

(共 25 题)

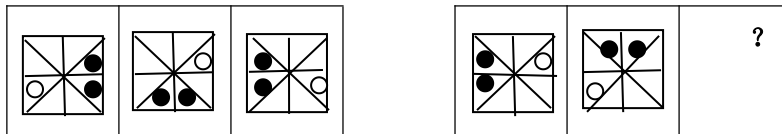
1. 请从所给的四个选项中, 选择最合适的一个填入空白处, 使之呈现一定的规律( )。

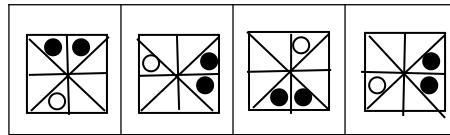


2. 下列与其他图形不一样的是 ( )。



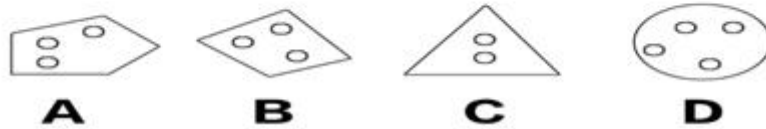
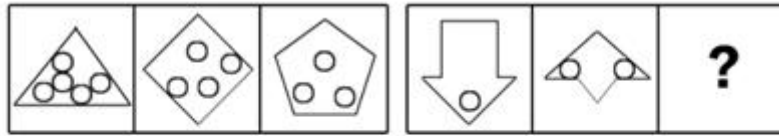
3. 从所给的四个选项中, 选择最合适的一个填入问号处, 使之呈现一定的规律性。( )



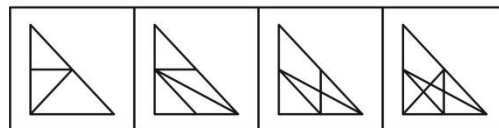
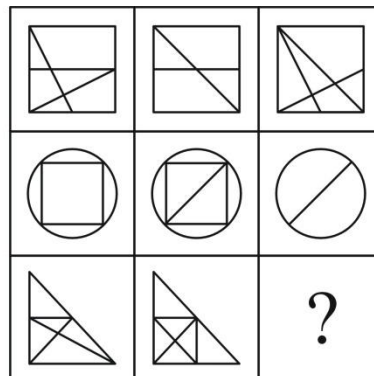


A B C D

4. 从所给的四个选项中，选择最合适的一个，使之呈现一定的规律性（ ）。



5. 从所给选项中，选择最合适的一个填入问号处，使之呈现一定的规律性（ ）。



A B C D

6. 抢劫罪，是以非法占有为目的，对财物的所有人、保管人当场使用暴力、胁迫或其他方法，强行将公私财物抢走的行为。

下列各项中，属于抢劫罪的一项是（ ）。

A. 李某潜入王某家中行窃，被发现后携所窃赃物逃跑，王某紧追不舍。李某见杂货店旁有一辆未熄火摩托车，车主正在车旁吸烟，便骑上摩托车逃跑

B. 郑某骑摩托车见田某提着精致皮包行走，从背后用力拉皮包带，试图将皮包抢走。田某拽住皮包带不放，见此情景，郑某突然对摩托车加速，并用力猛拉皮包带抢走皮包，田某当即被摔成重伤

C. 某晚，在大街上见赵某一人行走，即起歹意，将其奸污，并将显示其身份的皮包等

物带走

D. 林某潜入胡某家中盗窃贵重物品，被主人发现后逃走，躲在农民的草垛里睡了一夜，第二天村长高某路过时，发现林某行踪诡异，林某以为高某发现了自己昨晚的盗窃行为，对高某进行打击，致其重伤

7. 太空垃圾，即空间碎片，是人类空间活动的产物，包括完成任务的火箭箭体和卫星本体，火箭的喷射物，执行航天任务过程中的抛弃物、空间物体间碰撞产生的碎块等，是空间环境的主要污染源。

下列情形中属于太空垃圾的是（ ）。

- A. 航天器脱落的油漆颗粒
- B. “挑战者”号航天飞机升空 72 秒后发生爆炸形成的尘埃
- C. 银河系最年轻的超新星“仙后座—α”爆炸后的残留物形成的尘埃
- D. 航天飞机升空后落入大气层的火箭助推器

8. 热对流，是指热靠液体或者气体的流动来传递的现象。

下列现象中，属于热对流现象的是（ ）

- A. 冬天在室外用手摸大小差不多的铁棒和木棒，觉得铁棒比木棒凉
- B. 冬天雪覆盖大地，越冬小麦反而不易冻死
- C. 炎热的夏天，人们喜欢穿浅色的衣服
- D. 将纸质的小风车放在台灯灯罩的上沿，小风车会旋转起来

9. 伪造货币罪，是指仿照国家货币的页面、颜色、形状，采用各种方法制作假币，冒充真币的行为。

下列选项中，属于伪造货币罪的是（ ）

A. 胡某将 100 张 100 元的人民币揭层加工，变成 200 张 100 元的人民币，并多次用于购物

B. 苏某在路边以 850 元的价格购买了假人民币 5000 元，并用于购物

C. 王某为炫耀本人画技，精心绘制了一张逼真的百元人民币，将其带到办公室向他人展示

D. 李某利用在印刷厂的亲戚关系印刷了大量缅币，并用其在边境上购得货物

10. 紧急避险，是指为了使国家、公共利益、本人或者他人的人身、财产和其他权利免受正在发生的危险，不得已而采取的损害另一较小合法权益的行为。

下列情况，属于紧急避险的是（ ）

- A. 杜某在街上被一疯狗追咬，情急之下将路边刘某的房门踹开，冲进屋内
- B. 某县消防大队消防员李某在扑救村民某家火灾时，因房屋有倒塌危险，未进屋营救李某儿子，致其烧伤
- C. 王某在下班途中，搭救一被强奸姑娘，遭到歹徒反击，王某一拳打在歹徒头上，致其当场死亡
- D. 仓库保管员遭到歹徒威胁，打开仓库门锁，让歹徒抢走厂里 4000 余元的货物

11. 欢天喜地：兴高采烈

- A. 天造地设：鬼斧神工
- B. 和颜悦色：百依百顺
- C. 七零八落：七上八下
- D. 生龙活虎：虎背熊腰

12. 坚持不懈：半途而废

- A. 异口同声：众说纷纭
- B. 春风拂面：寒风凛冽
- C. 提纲挈领：优柔寡断
- D. 万象更新：因循守旧

13. 拍卖会：拍卖师：艺术品

- A. 果园：农民：水果
- B. 奥运会：运动员：跑道
- C. 商场：售货员：商品
- D. 山峰：登山者：帐篷

14. 欲盖弥彰：此地无银三百两

- A. 弄巧成拙：偷鸡不成蚀把米
- B. 背道而驰：牛不喝水强按头
- C. 自顾不暇：拆东墙补西墙
- D. 妄自尊大：王婆卖瓜自卖自夸

15. 金风送爽：橙黄桔绿

- A. 春华秋实：冬日夏云
- B. 山寒水冷：集萤映雪
- C. 秋收冬藏：雪兆丰年
- D. 满园春色：花红柳绿

16. 创业者应该具备沟通说服的能力，这是一项成功创业必不可少的能力。创业的目的，就是让社会大众认同并购买你的产品和服务。所以，沟通说服的能力，与执行力同样重要。

根据上述观点，不能得出以下哪项结论？（ ）

- A. 既具备沟通说服能力又具备执行力的人是成功的创业者
- B. 执行力也是成功创业必不可少的能力
- C. 如果不具备沟通说服的能力，就不可能成功创业
- D. 刘畅是个成功的创业者，他一定有很强的沟通说服能力

17. 日常生活中，有些人在服药时为省事，将药片放入口中后，不喝水或仅喝一口水，再用力一咽，就算是服完药了。有些人认为这种服药方式是不可取的。



以下哪项如果为真，最能支持这些人的观点？（ ）

- A. 服药时增加饮水量会降低药物的浓度
- B. 服药时大量饮水，可加快药物通过咽、食管进入胃的速度
- C. 有些药物，由于代谢产物溶解度低，容易在泌尿道中析出，引起其他症状，因此病人在服药期间每天至少要饮水 1500 毫升
- D. 服药时，饮水过少会使药片滞留在食管中时间较长，甚至产生副作用

18. 甲、乙、丙 3 人中一位是护士，一位是教师，一位是秘书，现在知道：丙比秘书大；甲和教师不同岁；教师比乙年龄小。那么，谁是护士，谁是教师，谁是秘书？

- A. 甲是护士，乙是秘书，丙是教师
- B. 甲是秘书，乙是护士，丙是教师
- C. 甲是秘书，乙是教师，丙是护士
- D. 甲是教师，乙是护士，丙是秘书

19. 每年中秋节前夕各商家都会展开“月饼大战”。有关专家指出，月饼大战不仅不利于大众消费者的经济利益，甚至成了中秋佳节的“甜蜜负担”。月饼市场要想回归平实，必须从工艺和配料方面进行改良。否则，就算包装和赠品再华丽，也不能满足正当的消费需求。

据此题干，不能推出以下哪项结论？（ ）

- A. 只有改良月饼工艺和配料，才是满足消费者正当需求的关键
- B. 只要从月饼工艺和配料方面进行改良，就算包装和赠品华丽些，也满足正当需求
- C. 如果月饼市场满足了正当的消费需求，就说明一定是在工艺和配料方面得到了改良
- D. 若不从工艺和配料方面进行改良，就不能满足消费者的正当需求

20. 要是不学习二胡演奏，徐平就做不了民乐理论研究。如果他喜欢民族乐器，那么他会选择学习二胡演奏作为专业。如果他不喜欢民族乐器，他就会做民乐理论研究。

由此可推出徐平将（ ）。

- A. 研究民乐理论
- B. 学习二胡演奏
- C. 不学二胡演奏
- D. 不研究民乐理论

21. 类胡萝卜素被人体吸收后具有较强的抗癌功能。研究表明，蔬菜被煮过后，植物的细胞膜会软化，这使得其中的类胡萝卜素更易于被人体吸收。生食蔬菜，人体只能吸收 3% 至 4% 的类胡萝卜素，而对煮过的蔬菜中的类胡萝卜素，人体对其吸收率可增加 45%。

由此可见（ ）。

- A. 食用煮过的蔬菜比食用生蔬菜更有助于抗癌

- B. 经常吃胡萝卜的人不可能患癌症
- C. 蔬菜被煮过后，其类胡萝卜素的含量会增加
- D. 凡癌症患者平时都不爱吃蔬菜

22. 甲、乙、丙三人各自举着红旗、绿旗和黄旗，分别从东面、南面和西面三个方向朝山顶攀登。甲不举红旗，也不从东面上山；举红旗的人从西面上山；乙举着绿旗。

由此可以推出（ ）。

- A. 举绿旗者从南面上山
- B. 丙从东面上山
- C. 举黄旗的不是甲
- D. 乙不从南面上山

23. A市规定：在室内公共场所吸烟属于违规吸烟，将对吸烟者进行罚款。该规定出台后，A市的违规吸烟现象仍然屡禁不止。对此，有关专家表示，如果不对违规吸烟者罚款，而是将违规吸烟记录纳入其诚信档案，就会有效消除大部分违规吸烟现象。

下列最不可能是上述论证前提假设的是：（ ）。

- A. 仅凭现有的罚款制度无法遏制违规吸烟现象的发生
- B. A市很多吸烟者认为只要交了罚款就可以违规吸烟
- C. 违规吸烟者认为诚信档案的违规记录比罚款更重要
- D. A市的公共场所都装有摄像头可有效监控违规吸烟

24. 有些女性喜欢刺绣，因此喜欢刺绣的女性是行政文员，为了使这一推理成立，需要补充（ ）作为前提条件。

- A. 所有女性都是行政文员
- B. 所有行政文员都性格温柔
- C. 部分行政文员都是女性
- D. 有些女性不从事行政工作

25. 近年来，人工智能行业迅猛发展，很多人对于未来人类的工作将会被人工智所取代的论断感到担忧。对此，一位专家发表了他的看法：人工智能永远只能肤浅的模仿人类的精神，无论人工智能显得多么“聪明”，只证明了它的创造者——人类——的智慧在更高的层次上，所以人类的工作是不可能被人工智能取代的。

如果上述专家论述为真，则必须以下列哪项为前提？（ ）

- A. 人类与人工智能合作的工作效率比人工智能单独工作时高
- B. 人类的智慧可能会被人工智能完全模仿，但人类的精神不可能被完全模仿
- C. 只有在人工智能拥有比人类更高的智慧时人类的工作才会被取代
- D. 人工智能行业的发展速度会被控制在正常的范围内