

2019 贵州公共基础知识模拟卷

第一部分 客观题部分

一、单项选择题

（共 60 小题，每小题 1 分。下列各小题的备选项中，只有一项最符合题意，不选、多选、错选均不得分）

1. 2018 年 9 月 23 日是（ ），我国迎来第一个中国农民丰收节。9 月 21 日，在中共中央政治局就实施乡村振兴战略进行第八次集体学习时，习近平代表党中央，向全国亿万农民致以节日的问候和良好的祝愿。

- A. 立秋
- B. 秋分
- C. 白露
- D. 寒露

2. 经中央军委批准，增加“献身国防科技事业杰出科学家”（ ）、“逐梦海天的强军先锋”张超为全军挂像英模。近期将陆续下发至全军连级以上单位。

- A. 邓稼先
- B. 林俊德
- C. 钱学森
- D. 郭永怀

3. 十三届全国人大常委会第五次会议 8 月 31 日表决通过全国人大常委会关于修改个人所得税法的决定。根据新法，个税起征点由现行 3500 元/月提高至（ ）。

- A. 3500 元/月
- B. 4000 元/月
- C. 5000 元/月
- D. 5500 元/月

4. 十九大报告中指出，全党同志一定要永远与人民同呼吸、共命运、心连心，永远把（ ）作为奋斗目标。

- A. 实现共产主义
B. 实现最广大人民的利益
C. 为中国人民谋幸福、为中华民族谋复兴
D. 人民对美好生活的向往
5. 2019年3月5日，国家总理李克强在政府工作报告中提到，（ ）是民生之本、财富之源。
- A. 人才
B. 发展
C. 创新
D. 就业
6. 2019年3月5日，国家总理李克强在政府工作报告中提到，要继续坚持以供给侧结构性改革为主线，在“（ ）”八个字上下功夫。
- A. 巩固、增强、创新、畅通
B. 巩固、发展、提升、流通
C. 巩固、增强、提升、畅通
D. 合理、增强、创新、畅通
7. （ ）是引领发展的第一动力，是建设现代化经济体系的战略支撑。
- A. 创新
B. 创业
C. 智能化
D. 制造业
8. 杜甫诗云“江碧鸟愈白，山青花欲燃”，下列与该诗句体现的哲学道理相同的是（ ）。
- A. 人间四月芳菲尽，山寺桃花始盛开
B. 蝉噪林逾静，鸟鸣山更幽
C. 挽弓当挽强，用箭当用长
D. 年年岁岁花相似，岁岁年年人不同
9. 下列有关毛泽东著作的说法正确的是（ ）。
- A. 《反对本本主义》孕育了实事求是、群众路线、独立自主三个方面的思想
B. 《〈共产党人〉发刊词》论证了土地革命、武装斗争、根据地建设三者的关系
C. 《中国红色政权为什么能够存在？》提出了实现马克思主义中国化的历史任务

D. 《井冈山的斗争》阐述了马克思主义与中国实际相结合的原则

10. 作为喀斯特地貌发育最典型、类型最完备的地区之一，贵州 92.5% 的面积为山地和丘陵，山地是贵州旅游业发展的宝贵资源，而且贵州山地旅游资源也并不是单一存在的，而是多种旅游资源共同交织、复合而成。贵州的旅游景区，常常是自然景观同民族风情结合在一起，民族风情同名胜古迹结合在一起。“贵州明确建设山地公园省的新定位即立足于自身优势，又凸显了与其他地区的差异。”这一观点（ ）。

- ①强调贵州绿色崛起是以发挥了独特的资源优势为基础的
- ②主张根据规律发生作用的特点来利用规律
- ③倡导适用于我国各地生态文明建设的普通模式
- ④认为工作中心应由经济建设转向生态文明建设

- A. ①②
- B. ①④
- C. ②③
- D. ③④

11. 安顺文化底蕴深厚，是贵州历史上开发最早的区域，是贵州历史文化名城，下列关于历史文化的说法错误的是（ ）。

- A. 中国古代八大神秘文字之一的关岭“红崖天书”世称“千古之谜”
- B. 普定穿洞古人类文化遗址被誉为“亚洲文明之灯”
- C. 安顺地戏被称为“中国戏剧活化石”
- D. 1946 年 4 月 8 日，在由重庆返回延安途中，因飞机失事，安顺籍革命家黄齐生不幸遇难

12. 兴义府考试院是贵州省现存的唯一一座保护完整的科学考试院，位于安龙县老城区南面的桅峰山下，清道光年间由兴义知府张镛主持建成，由大堂、议事亭、小憩楼等组成，为清代一段时间盘江流域诸县学子考取（ ）之地，在黔、滇、桂交界地区享有盛名，1999 年被公布为省级文物保护单位，是贵州省仅存的一座保存完整的科学考试院。

- A. 秀才
- B. 举人
- C. 进士
- D. 探花

13. 很多人认为贵州省的旅游可以归纳为：一栋房子（遵义），一个瓶子（茅台酒），一棵树子（黄果树）。你认为贵州省这栋房子之所以能够成为旅游景点主要是因为这里（ ）。

- A. 打响了武装反抗国民党反动统治第一枪
- B. 党的历史上生死攸关的转折点
- C. 召开了中国共产党第一次代表大会
- D. 宣告两万五千里长征胜利结束

14. 在两种互补品之间，其中一种商品价格上升，会使另一种商品的需求量（ ）。

- A. 上升
- B. 下降
- C. 不变
- D. 不确定

15. 中华人民共和国宪法修正案已由中华人民共和国第十三届全国人民代表大会第一次会议于2018年3月11日通过，以下关于该次宪法修正案的说法中，正确的是（ ）。

- A. 增加“国家工作人员就职时应当依照法律规定公开进行宪法宣誓”
- B. 爱国统一战线中增加了“社会主义事业的建设者”
- C. 增加“坚持和平崛起道路，坚持互惠双赢开放战略”
- D. 指导思想在原来“马克思列宁主义、毛泽东思想、邓小平理论、‘三个代表’重要思想、科学发展观”的基础上增加了“习近平新时代中国特色社会主义思想”

16. 2018年最新的宪法修正案指出，我国社会主义民族关系为（ ）。

- A. 平等团结友爱互助
- B. 平等和谐互助团结
- C. 平等团结互助和谐
- D. 平等团结互助友好

17. 2018年最新宪法修正案表决通过，其中新设监察委员会作为国家最高监察机关，关于监察委员会，下列说法错误的是（ ）。

- A. 监察委员会由主任、副主任若干人、委员若干人组成
- B. 上级监察委员会领导下级监察委员会的工作
- C. 国家监察委员会主任、副主任连续任职不得超过两届
- D. 监察机关行使职权应与审判机关、检察机关等互相配合、互相制约

18. 对于外来子女上学的问题，各地都设置了很多_____。比如说，有的要求父母必须有社保，有的要求父母必须有固定居住地点。而有些显然是难以让人_____的：他们要求外

来人员子女入学，父母至少是大专毕业。这种规定是奇葩的。奇葩的规定背后暴露出的是诸多问题。如其说，这是为了给外来人员子女上学一次机会，倒不如说是故意刁难外来人员。

依次填入划横线部分最恰当的一项是（ ）。

- A. 障碍 接纳
- B. 标杆 接收
- C. 壁垒 接手
- D. 门槛 接受

19. 并不是说媒介上没有批判的声音，恰恰相反，现代传媒尤其是电子传媒有着比传统纸质传媒更宽广的_____，容纳更多批判的意识和更多的异端。无数专家、学者针对各种社会现象接受访谈，甚至不乏一针见血或惊世骇俗的声音。数量之多、分析之深、论证之严密、言论之犀利，传统媒体均无法_____。

依次填入划横线部分最恰当的一项是（ ）。

- A. 胸襟 举案齐眉
- B. 胸怀 望尘莫及
- C. 尺度 望其项背
- D. 气度 相提并论

20. 高速公路收费标准几何，国家并无统一规定，由各省物价部门确定。如此，不仅各省高速公路收费标准有_____，即使在一省之内，不同高速公路的收费标准也可能有所不同。至于收费标准是高是低，则往往_____：车主大多觉得偏高，尤其是货车司机更是满腹牢骚；公路经营方则大喊亏本，不时要求提高标准、延长收费；地方政府则夹在中间，左右为难。

依次填入划横线部分最恰当的一项是（ ）。

- A. 差别 各执一词
- B. 区别 不知所措
- C. 差异 莫衷一是
- D. 偏差 众说纷纭

21. 父母是孩子的第一任老师，一言一行都在_____中影响着孩子，对孩子的成长成才有着重要作用。然而，为了让孩子不再吵闹，父母主动把孩子交给“电子保姆”屡见不鲜，让“低头族”向低龄孩子_____。适度使用手机，多与孩子玩耍、沟通，既了解孩子的思想动向，知晓孩子在学校的状况，又能加深与他们的感情，何乐而不为？

依次填入划横线部分最恰当的一项是（ ）。

- A. 言传身教 延伸
- B. 潜移默化 蔓延
- C. 耳濡目染 漫延
- D. 耳闻目睹 延展

22. 苏、杭、扬等传统工商业城市由于多种原因而走向衰落，失去运河得天独厚的交通条件是三城衰落的原因之一。邻近的上海在五口通商后取代了苏、杭、扬的原有地位，向前发展。在战争、政治、交通条件等一系列因素的共同作用下，两者开始了迅速的_____。

依次填入划横线部分最恰当的一项是（ ）。

- A. 此消彼长
- B. 削峰填谷
- C. 声东击西
- D. 此起彼伏

23. “带薪休假维权零举报”_____出带薪休假还没有深入人心、成为劳动者有效的权利共识。这种权利意识还有待唤醒，但怎么才能唤醒并不是一件简单的事。这需要制度和公权力为其做出_____。在这一方面，为劳动者撑腰的力度还很薄弱。

依次填入划横线部分最恰当的一项是（ ）。

- A. 反应 尝试
- B. 折射 支撑
- C. 激发 改进
- D. 反映 表率

24. 在某些公务员眼中，或许住宅楼里一条污水渠的堵塞、一个半夜施工工地的噪音、居民楼下一个小食店的油烟……都是一些_____的小事，不关乎国计民生。但对于一个个体来说，这些却是关系其切身利益的大事。事大事小，_____。

依次填入划横线部分最恰当的一项是（ ）。

- A. 事不关己 一视同仁
- B. 微不足道 因人而异
- C. 不值一提 因势利导
- D. 大而化之 见仁见智

25. “海绵城市”建设是个系统工程，其旨在综合采取“渗、滞、蓄、净、用、排”等措施，将降雨就地消纳和利用，这也契合城市排涝减灾之需。让城市特别是重点内涝区域地表尽早“海绵”起来，已_____。

填入划横线部分最恰当的一项是（ ）。

- A. 提上日程
- B. 迫在眉睫
- C. 千钧一发
- D. 燃眉之急

26. 中国几千年封建社会有着强大的_____，在国门被打开后几十年，传统势力依然很强大，接受新生事物总有很大难度，尤其是在有着辉煌历史的地方。一般说来，越是经济曾经发达的地区在社会转型的过程中越容易_____，苏、杭、扬等城市的传统精英阶层在近代以来普遍都趋于思想观念保守，从而对经济发展和社会变革起着严重的_____作用。

依次填入划横线部分最恰当的一项是（ ）。

- A. 势力 墨守成规 束缚
- B. 惯性 因循守旧 制约
- C. 根基 亦步亦趋 限制
- D. 魅力 固步自封 抑制

27. 《小说选刊》数字出版部的目的只有一个，就是把纸质杂志上那些厚重的严肃文学作品，推到网络上去。数字出版部是去年成立的，今年便_____，在网上已经可以用各种方式读到《小说选刊》了。这显然是《小说选刊》向网上的青年人_____之举。网络及多媒体传播是信息化时代的产物，是_____。

依次填入划横线部分最恰当的一项是（ ）。

- A. 立竿见影 示好 大势所趋
- B. 初见成效 靠拢 势在必行
- C. 如火如荼 靠近 势不可挡
- D. 大张旗鼓 介绍 势如破竹

28. 几年前，盗版资源满天飞让初创之时的互联网企业及“懵懂期”的中国网民们尝到了“免费午餐”的甜头。但随着中国经济社会及互联网的发展，当无孔不入的盗版将创造者所提供的内容价值，在网络上归零之时。人们才开始意识到，这样的甜头只是逞一时之快，

其背后损害的是创造者的创作激情及行业长远发展的可能。为了维护互联网的健康有序发展，中国政府近年来加大了对网络侵权盗版的打击力度。

这段文字意在强调（ ）。

- A. 盗版损害了创造者的创作激情和互联网的发展
- B. 互联网行业随着经济社会发展经历了巨大变化
- C. 打击网络侵权盗版对互联网的健康发展很重要
- D. 网络侵权盗版对中国互联网行业发展的利与弊

29. 荷兰莱顿大学科研职员以 3500 名 90 岁至 100 岁的老人及其家庭为研究对象展开研究，发现他们体内脱氧核糖核酸（DNA）中存在一些特定基因的几率高于一般人。研究职员以《圣经》中记载的长寿者玛士撒拉为这些基因命名。他们以为，“玛士撒拉”基因可以使人幸免受到吸烟、糟糕饮食等带来的负面影响，且能将罹患癌症、心脏病等疾病的时间推迟较长 30 年。研究项目负责人埃琳·什拉格博姆以为，长寿者的长寿秘诀并非是他们体内的致病或衰老基因比凡人少，“而是他们拥有其他基因能制止这些基因启动。长寿是遗传的”。

下列说法与文段相符的一项是（ ）。

- A. 研究表明多数长寿者体内的致病或衰老基因比凡人少
- B. “玛士撒拉”基因可以使人避免罹患癌症、心脏病
- C. 荷兰莱顿大学负责人以“玛士撒拉”为长寿基因命名
- D. 长寿者体内通常存在能够制止致病基因启动的其他基因

30. 校园暴力涉及社会、家庭、学校等多重环境因素，而社会因素过于宏观，社会氛围难以在一时间得以改善，家庭相对封闭，外力通常难以进入。从可操作性上来讲，改变校园欺凌的校园环境，由学校承担整治校园暴力的主要职责，也就成了众望所归。学校应具有一定的惩罚权、评价权，建立起包括负面后果模式在内的行为规范，让学生从小就养成底线意识、规则意识、责任意识，明白哪些行为将产生不利后果，自己需要为这些行为付出什么样的代价。

对这段文字概括最准确的一项是（ ）。

- A. 解决校园暴力问题学校应有所作为
- B. 应建立行为规范养成学生的底线意识
- C. 整治校园暴力需多管齐下方能有效
- D. 学校应具有对学生的惩罚评价权

31. ①明白哪些信息不能碰，这是最基本的底线
②这就需要政府制定相关的基本规则，企业和个人都需要遵守这个规则
③这些信息怎么样不过度暴露隐私，需要把握基本的原则
④关键在于对于个人隐私的挖掘，是不是有一个度
⑤商家为了更好地服务客户，需要获取客户的相关信息
⑥个人隐私是一直存在的，并不是大数据之后才有了隐私泄露的问题
将以上6个句子重新排列，语序正确的是（ ）。

- A. ①④⑤②③⑥
B. ⑥④⑤③②①
C. ①⑥③②⑤④
D. ⑥③②①④⑤

32. 现有甲、乙两种不同浓度的酒精溶液。若从甲中取1500克、乙中取500克，则混合而成的酒精溶液的浓度为7.5%；若从甲中取700克、乙中取2800克，则混合而成的酒精溶液的浓度为6.4%。则甲、乙两种酒精溶液的浓度分别为（ ）。

- A. 10%、8%
B. 7%、4%
C. 8%、6%
D. 6.4%、5.6%

33. 某公司进行A、B、C三项业务能力考核。已知A项考核为优秀的员工占总人数的65%，B项考核为优秀的员工占总人数的78%，C项考核为优秀的员工占总人数的85%，三项考核均为优秀的员工才能通过考核，则该公司未通过考核的员工占比最多为（ ）。

- A. 35%
B. 72%
C. 77%
D. 85%

34. 蓄水池有甲、乙两个进水管，单开甲管需12个小时注满，单开乙管需18个小时。现在要求10个小时注满水池，问甲、乙两管至少要合开多少小时？（ ）

- A. 7.2
B. 5.33

C. 4

D. 3

35. 小赵参加了语文、数学、外语、物理四门考试,成绩出来后小赵发现自己四门课的成绩为互不相同的整数且均不低于 90 分,其中语文、数学、外语三门的平均分为 95 分,数学、外语、物理的平均分为 94 分,数学成绩为 96 分且是四门中第二高的得分。则四门中的最低分可能为 ()。

A. 94 分

B. 93 分

C. 92 分

D. 90 分

36. 甲、乙两人在椭圆形跑道上跑步,两人同时同地沿跑道反向而行,如两人的速度比为 5:3,甲、乙二人第一次相遇地点与第二次相遇地点之间的较短的跑道长度是 150 米。那么椭圆形跑道的周长是 ()。

A. 400 米

B. 300 米

C. 500 米

D. 200 米

37. 某高中高三理科学生共有 112 名,据年级主任统计,寒假期间将有 52 名学生补习英语,54 名学生补习数学,38 名学生补习理综,其中补习三类课程的学生有 11 名,则至少有多少名学生在寒假期间补习两类课程? ()

A. 5

B. 10

C. 14

D. 15

38. A、B、C、D 四人合伙投资某项目,已知 A、B 两人投资金额之和等于 D 投资金额,B 投资金额是 A、C 投资金额之和的 $\frac{5}{7}$,C 投资金额是其他三人的 $\frac{1}{4}$,B 比 A 多投资 10 万元,最终该项目收益率为 50%。若四人按投资比例分配收益,则 C 分得的收益比 A 多 () 万元。

A. 5

- B. 4.5
- C. 3
- D. 2.5

39. 大雪后的一天,果果和小花从同一点出发沿同一方向分别步测一个圆形花圃的周长,果果每步长 54 厘米,小花每步长 72 厘米,两人都是恰好回到起点的脚印处,由于两个人的脚印有重合,所以雪地上只留下 60 个脚印。问这个花圃的周长是多少米? ()

- A. 18.6
- B. 21.6
- C. 24.2
- D. 26.9

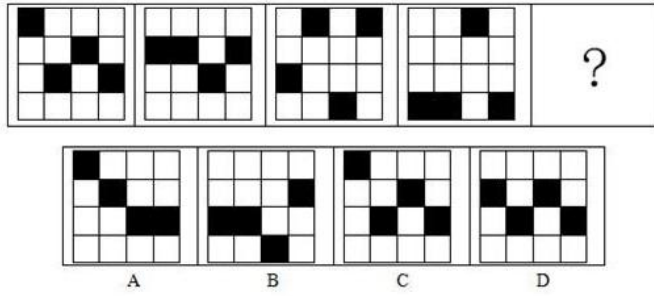
40. 牧羊人用 15 段每段长 2 米的篱笆,一面靠墙(墙面足够长)围成一个长方形或正方形羊圈,则羊圈的最大面积是 () 平方米。

- A. 100
- B. 108
- C. 112
- D. 122

41. 将一个棱长为 n 厘米的正方体 (n 为大于 2 的正整数) 的外表面全部涂成黑色,然后切割成棱长为 1 厘米的小正方体。现随机从切割成的小正方体中选出 1 块,其恰好未被涂色的概率为 ()。

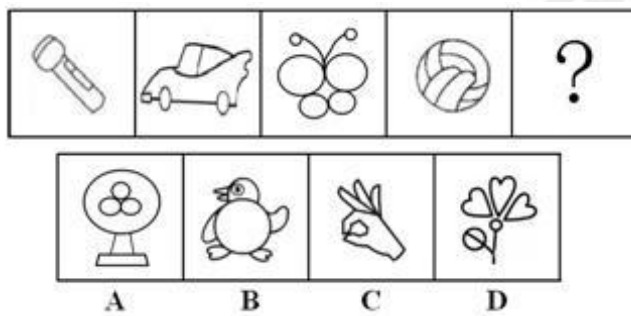
- A. $\frac{(n-1)^3}{n^3}$
- B. $(1-\frac{2}{n})^3$
- C. $\frac{1}{n^3}$
- D. 无法确定

42. 从所给的四个选项中,选择最合适的一个填入问号处,使之呈现一定的规律性 ()。



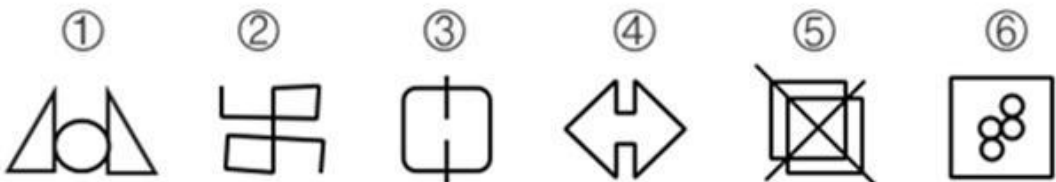
- A. 如上图所示
- B. 如上图所示
- C. 如上图所示
- D. 如上图所示

43. 从所给的四个选项中，选择最合适的一个填入问号处，使之呈现一定的规律性（ ）。



- A. 如上图所示
- B. 如上图所示
- C. 如上图所示
- D. 如上图所示

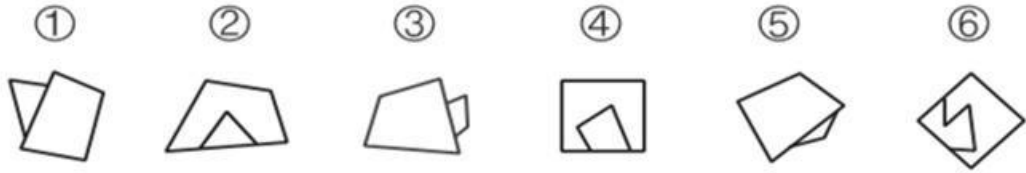
44. 把下面的六个图形分为两类，使每一类图形都有各自的共同特征或规律，分类正确的一项是（ ）。



- A. ①②⑥，③④⑤
- B. ①②④，③⑤⑥
- C. ①④⑤，②③⑥

D. ①②③，④⑤⑥

45. 把下面的六个图形分为两类，使每一类图形都有各自的共同特征或规律，分类正确的一项是（ ）。



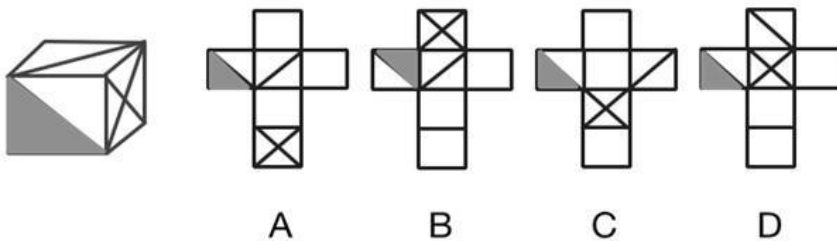
A. ①③④，②⑤⑥

B. ①③⑤，②④⑥

C. ①②⑤，③④⑥

D. ①②④，③⑤⑥

46. 左边立体图展开后可得到右边的哪一平面图（ ）。



A. 如上图所示

B. 如上图所示

C. 如上图所示

D. 如上图所示

47. 词汇可以分为语言词汇和言语词汇，前者一般指一种语言或方言词的总汇，后者则指某人或某一特殊领域所用的词语的汇集。

根据上述定义，下列涉及言语词汇的是（ ）。

A. 《儒林外史》中家族成员的叫法别具地方特色，如称儿子、女儿为“儿花女花”

B. 《红楼梦》中贾母向黛玉介绍王熙凤时称其为“我们这里有名的‘泼皮破落户儿’”

C. 《围城》中方鸿渐的父亲常使用文言词，以此刻画其自矜、偏狭、保守和迂腐的特点

D. 媒体争相报道美国航空航天局探测到了引力波，很多网友在社交网站上留言表示“不明觉厉”

48. 不胜任陷阱指在一个等级制度中，每个职工趋向于上升到他所不能胜任的地位。每

一个职工由于在原有职位上工作成绩表现好（胜任），就将被提升到更高一级职位；其后，如果继续胜任则将进一步被提升，直至到达他所不能胜任的职位。

根据上述定义，下列措施无法避免不胜任陷阱的是（ ）。

- A. 甲公司不再沿用单纯的“根据贡献决定晋升”的员工晋升机制
- B. 乙公司不断地发展知识的创新、加工、传播和应用
- C. 丙公司不再把岗位晋升当成对员工的主要奖励方式
- D. 丁公司认为不能因某人在某一岗位级别干的出色就推断此人能胜任更高职务

49. 边际效应是指其他投入固定不变时，连续地增加某一种投入，所新增的产出或收益反而会逐渐减少。也就是说，当增加的投入超过某一水平之后，新增的每一个单位投入换来的产出量会下降。

根据上述定义，下列可以用边际效应解释的是（ ）。

- A. 锦上添花
- B. 春晚规模越办越大，但是收视率却逐年下降
- C. 嗜酒如命的人，越喝越高兴
- D. 集邮爱好者终于收集到了十二生肖套票的最后一张

50. 循环论证指以所主张的观点本身为根据来证明这种观点为真的谬误论证。循环论证的直接形式是：因为A，所以A；循环论证的相对形式是：因为A，所以B，因为B，所以A。

根据上述定义，不属于循环论证的是（ ）。

- A. 铁之所以能压延，是因为铁有压延性
- B. 圣经说神存在，因为圣经是神的话语，故圣经必然正确无误，所以神是存在的。
- C. 过去的太阳都从东方升起，所以明天的太阳也会从东方升起
- D. 吸鸦片之所以会令人昏睡，是因为鸦片有令人昏睡的作用

51. 周期性失业又称为总需求不足的失业，是由于整体经济的支出和产出水平下降。即总需求不足而引起的短期失业，它一般出现在经济周期的萧条阶段。

根据上述定义，下列属于周期性失业的是（ ）。

- A. 某厂商考虑到经济前景黯淡压缩生产导致大量员工失业
- B. 每年冬天会有大量的采藕人在洞庭湖工作，结束后这批人处于失业状态
- C. 很多应届毕业生因为缺乏工作经验很难找到工作而失业
- D. 工厂因引进更为先进的流水线而辞退了一部分富余劳动力

52. 达尔文《进化论》中，有一种有趣的现象叫做“岛屿效应”：在被隔离的岛屿上，

小的生物会变得越来越大，大的生物会变得越来越小。

根据上述定义，以下哪项不符合岛屿效应的是？（ ）

A. 一种叫欧罗巴龙的恐龙长期生活在欧洲的岛屿上，身体越进化越小，虽然是蜥脚类恐龙，却跟马差不多大小，甚至比马还要小

B. 住在马来西亚的婆罗洲侏儒象，由于长期在岛上生活，身体越来越小，现在侏儒象的身高只有 2 米左右

C. 在大陆地区，龟都是小型的爬行动物，唯独在岛屿上，其体形变得巨大无比，整个 18、19 世纪，岛屿上的龟被人疯狂猎杀

D. 世界奇岛——蛇岛，具有奇特的生态系统和丰富的蛇毒资源，共有 1.4 万条干山蝮蛇，体长可达 73~102cm

53. 在教育学中，所谓“冷处理”就是当学生做出不良行为时，不予理睬，使他得不到关注，久而久之这种不良行为就可能消退；对于麻烦事或者已经激化的矛盾，不妨采用“冷处理”，放一段时间，思考会更周全，办法会更稳妥。

根据上述定义，以下属于冷处理的是？（ ）

A. 学生之间发生冲突时不少教师所采取的处理方法是对冲突双方各打五十大板

B. 孩子取得了进步时，家长、老师要及时给予表扬和肯定

C. “只看得见自己的孩子好，生怕自己孩子吃亏”，其实是很坏的家风

D. 在耐心教育多次未达到效果时，先对学生表面疏远一段时间后，再施以教育会事半功倍

54. 在司法审判中，肯定性误判是指把无罪者判为有罪，就是所谓的错判；否定性误判是指把有罪判为无罪，就是所谓的错放。司法公正的根本原则是“不放过一个坏人，不冤枉一个好人”。

根据上述定义，以下哪项属于否定性误判？（ ）

A. 李四原为警察，因一起入室杀人案被捕入狱，被判处死刑缓期两年执行；后一抢劫杀人犯在被执行死刑前供认李四涉案的入室杀人案为自己所为

B. 王五因宅基地纠纷与邻居发生冲突，泄愤将其杀死，后因缺少直接证据而免于起诉

C. 赵六因故意杀人罪被判处死刑，缓刑两年，8年后“被害人”回到村中

D. 张三因涉嫌杀人被起诉，后因证据不足，法院判决张三无罪

55. 通感又叫“移觉”，指在描述客观事物时，用形象的语言使感觉转移，将人的听觉、

视觉、嗅觉、味觉、触觉等不同感觉互相沟通、交错，彼此挪移转换，将本来表示甲感觉的词语移用来表示乙感觉，使意象更为活泼、新奇的一种修辞方式。

根据上述定义，下列涉及通感的是（ ）。

- A. 日出江花红胜火，春来江水绿如蓝
- B. 羌笛何须怨杨柳，春风不度玉门关
- C. 两个黄鹂鸣翠柳，一行白鹭上青天
- D. 天阶夜色凉如水，坐看牵牛织女星

56. 休假式治疗是指很多人因为工作强度大、连续时间长、精神长期高度紧张会导致失眠、神经性紊乱、身体机理分泌失调等亚健康状态甚至引发多种心脑血管病症，而治疗方案往往要改变其工作作息状态，使其在一段时间内处于无工作的放松状态，辅助以药物来调整其身体正常代谢的治疗手段。

下列各项属于休假式治疗的是（ ）。

- A. 张某最近与妻子关系紧张，夫妻双方常常一见面就吵架，张某决定去外地的朋友家呆一段时间使双方都有一段冷静的时期
- B. 马某作为某培训机构的培训师，在培训高峰期时连续工作 42 天，夜晚失眠在加之身体多种不适，晕倒在讲台上，马某毅然决定休息半年，调养身体
- C. 王某坐飞机度假，飞机刚刚起飞没多久就发生事故，王某过度惊吓导致昏迷
- D. 岳某为某煤矿的矿工，最近任务量吃紧，岳某带领本组成员在地下连续工作 36 小时，由于长期不见光，岳某突然失明，单位为他各地寻求名医

57. 芝士：奶酪

- A. 热狗：香肠
- B. 薯条：土豆
- C. 拷贝：复制
- D. 马达：引擎

58. 外卖：餐饮业

- A. 快件：运输业
- B. 网店：旗舰店
- C. 网银：银行业
- D. 机器：劳动者

59. 众说纷纭：莫衷一是

- A. 举步维艰：一帆风顺
- B. 缘木求鱼：升山采珠
- C. 水到渠成：左右逢源
- D. 众口铄金：不负众望

60. 钢笔：墨水

- A. 汽油：汽车
- B. 衣服：衣架
- C. 电视机：遥控器
- D. 枪：子弹

二、多项选择题

（共 10 小题，每小题 2 分。下列各小题备选项中，至少有两个选项符合题意，错选不得分；少选、且选择正确的，每个题选项得 0.5 分）

61. 党的十九大报告指出，我们的工作还存在许多不足，也面临不少的困难和挑战。这些困难和不足包括（ ）

- A. 发展不平衡不充分的一些突出问题尚未解决
- B. 民生领域还有不少短板
- C. 城乡区域发展和收入分配差距依然较大
- D. 意识形态领域斗争依然复杂

62. 中共七大的时候，毛泽东同志就指出中国共产党区别于其他政党的显著标志就在于三大作风，即（ ）

- A. 实事求是
- B. 理论联系实际
- C. 密切联系群众
- D. 批评与自我批评

63. 习近平总书记强调，法律是准绳，任何时候都必须遵循；道德是基石，任何时候都不可忽视。下面关于法律和道德的论述正确的是（ ）

- A. 法律是成文的道德，道德是内心的法律
- B. 法律和道德都具有规范社会行为、调节社会关系，维护社会秩序的作用
- C. 法律有效实施有赖于道德支持，道德践行也离不开法律约束
- D. 国家治理需要法律和道德协同发力
64. 合同生效的主要条件是（ ）
- A. 当事人具有相应的民事行为能力
- B. 意思表示真实
- C. 价款符合市场水平
- D. 合同的内容合法，不违反法律或者社会公共利益
65. 改革开放以来，中国取得一切成绩和进步的根本原因，归结起来就是（ ）
- A. 开辟了中国特色社会主义道路
- B. 形成了中国特色社会主义理论体系
- C. 确定了中国特色社会主义制度
- D. 坚持了独立自主的和平外交政策
66. 全国人民代表大会在整个国家机关体系中居首要的、至高无上的地位，这主要表现在以下方面，即（ ）
- A. 其他一切国家机关由全国人民代表大会产生
- B. 他制定的法律、做出的决议和决定等，其他国家机关必须遵守
- C. 其他国家机关对他负责、受它监督
- D. 其他国家机关必须服从全国人大
67. 根据宪法规定，下列选项中，在我国依法享有选举权的是（ ）
- A. 赵某，25岁，中国公民，去年因诽谤罪被依法剥夺政治权利
- B. 钱某，19岁，中国公民，现就读于香港中文大学
- C. 孙某，40岁，美籍华人，现居住在上海两年
- D. 李某，30岁，中国公民，前年因交通肇事罪被依法判处有期徒刑3年缓刑3年
68. 下列财产中可以成为公民个人合法财产的有（ ）
- A. 房屋、储蓄和生活用品
- B. 森林等自然资源
- C. 法律允许的生产资料

D. 林木、文物、图书等

69. 为迎接 2018 年宁夏回族自治区 60 周年大庆，自治区住建厅计划将全区范围内主要道路、广场、桥梁等城市道路的照明设施进行更换，相关工作由小马负责。经查询相关文件，进行城市道路照明设施更换需要将实施规划和建设计划报同级人民政府后具体实施，在经过招标后，还需要向财政部门申请经费，之后才能进行更换。在这一工作中，涉及到的行政机关公文文种有（ ）。

A. 通知

B. 函

C. 请示

D. 通告

70. 2018 年 3 月 11 日，第十三届全国人民代表大会第一次会议经投票表决，通过了第五部《中华人民共和国宪法修正案》，结合最新的宪法修正案规定，下列哪些国家机关组成人员的连续任职没有限制？（ ）

A. 国家副主席

B. 全国人大常委会副委员长

C. 最高人民法院副院长

D. 国务院副总理

三、综合分析题

（共 10 小题，每小题 2 分，阅读下面材料，分别作答相关问题，下列各题只有一项是正确选项）

（一）根据以下资料，回答问题。

2017 年上半年，服务业增加值 206516 亿元，同比增长 7.7%，增速较上年同期提高 0.2 个百分点，比国内生产总值和第二产业增加值分别高出 0.8 和 1.3 个百分点。

2017 年上半年，服务业增加值占全国 GDP 比重为 54.1%，比上年同期高出 0.1 个百分点，比第二产业高出 14.0 个百分点。服务业增长对国民经济增长的贡献率为 59.1%，比第二产业高出 21.3 个百分点。

2017 年上半年，全国规模以上服务业企业从业人数同比增长 5.6%，增速高于第二产业 4.9 个百分点。在全部规模以上企业同比新增的就业人员中，服务业新增加的就业人员占

73.7%，高于第二产业 47.5 个百分点。

2017 年上半年，服务业税收收入达 4.9 万亿，同比增长 10.4%，比一季度高出 2.4 个百分点；服务业税收收入占全部税收收入比重为 57.6%，比一季度高出 1.9 个百分点，比第二产业高出 15.3 个百分点。

2017 年上半年，服务业固定资产投资 166104 亿元，同比增长 11.3%，增速高出第二产业 7.3 个百分点；占全部固定资产投资比重达到 59.2%，较上年同期提高 1.5 个百分点，比第二产业高出 21.5 个百分点。

2017 年上半年，服务业实际使用外资 3099.9 亿元，占全部利用外资总量的 70.2%，其中，高技术服务业实际使用外资 647.2 亿元，同比增长 20.4%。其中，信息技术服务、研发与设计服务、科技成果转化服务实际使用外资同比分别增长 35.6%、13.9%和 46.3%。

71. 2015 年上半年，我国服务业增加值约为多少万亿元？（ ）

- A. 8.6
- B. 12.9
- C. 17.8
- D. 19.1

72. 2017 年上半年，我国国民经济同比增长约多少亿元？（ ）

- A. 20000
- B. 25000
- C. 30000
- D. 35000

73. 2017 年上半年，服务业新增就业人员大约是第二产业新增就业人员的多少倍？（ ）

- A. 1.6
- B. 1.9
- C. 2.8
- D. 3.0

74. 若 2016 年前两个季度服务业税收收入相同，则 2017 年第二季度服务业税收收入同比增速约为（ ）。

- A. 9.1%

- B. 12.4%
- C. 5.7%
- D. 12.8%

75. 根据材料，以下说法中无法推出的是（ ）。

- A. 2017年上半年，第二产业增加值占国内生产总值的比重与上年同期相比有所下降
- B. 2017年上半年，服务业固定资产投资同比增长了1万多亿元
- C. 2017年上半年，高技术服务业实际使用外资占全部利用外资总量的比重不到两成
- D. 与上年同期相比，2017年上半年信息技术服务实际使用外资比研发与设计服务增长更多

(二) 根据以下资料，回答问题。

2017年1季度，全国规模以上文化及相关产业实现营业收入19926亿元，比上年同期增长1975亿元。

分区域看，东部地区规模以上文化及相关产业企业实现营业收入14831亿元，占全国比重相对于去年同期提高0.66个百分点，中部、西部和东北地区分别为3333亿元、1531亿元和232亿元，同比增长率分别为7.8%、12.2%、-11.5%，占全国比重分别为16.7%、7.7%和1.2%。

2017年1季度全国规模以上文化及相关产业分行业营业收入情况

	绝对额（亿元）	比上年同期增长（%）
新闻出版发行服务	681	4.8
广播电视电影服务	323	-4.0
文化艺术服务	76	15.8
文化信息传输服务	1606	29.4
文化创意和设计服务	2187	12.8
文化休闲娱乐服务	276	16.8
工艺美术品的生产	3976	9.2
文化产品生产的辅助生产	2039	-2.1
文化用品的生产	7733	13.0
文化专用设备的生产	1028	5.7

76. 2017年1季度，全国规模以上文化及相关产业实现营业收入同比增长率为（ ）。

- A. 10%
- B. 11%
- C. 12%
- D. 13%

77. 2016年1季度,全国规模以上文化及相关产业营业收入前三名的行业是()。

- A. 文化用品的生产、工艺美术品的生产、文化创意和设计服务
- B. 文化创意和设计服务、文化产品生产的辅助生产、文化专用设备的生产
- C. 文化用品的生产、工艺美术品的生产、文化产品生产的辅助生产
- D. 文化创意和设计服务、工艺美术品的生产、文化产品生产的辅助生产

78. 2017年1季度,全国规模以上文化及相关产业企业营业收入同比增长超过300亿元的行业有()个。

- A. 1
- B. 2
- C. 3
- D. 4

79. 2017年1季度,东部地区规模以上文化及相关产业企业实现营业收入同比增长率为()。

- A. 12.0%
- B. 13.1%
- C. 14.2%
- D. 15.7%

80. 以下选项中的说法与资料相符的是()?

- A. 2017年1季度,文化信息传输服务行业是全国规模以上文化及相关产业营业收入中同比增长最多的
- B. 2016年1季度,文化专用设备的生产营业收入超过1000亿元
- C. 2016年1季度,中部地区规模以上文化及相关产业企业实现营业收入占全国比重低于16.7%
- D. 如果2018年1季度全国规模以上文化及相关产业实现营业收入增速保持2017年1季度同比增速不变,则2018年1季度该营业收入会超过22000亿元

故本题答案为 D 选项。

第一部分结束 请继续做第二部分

第二部分 主观题部分

给定资料：

材料一

在城里公立小学开学的 9 月 1 日，张老师的打工子弟学校也开学了，在垃圾场边的平房里，18 名学生走进了简陋的教室。同是小学教师出身的李某夫妇创办的“行知打工子弟学校”，则在一片荒芜的菜地里迎来了求学的孩子们。最早的一批打工子弟学校就这样在有志之士的努力下艰难地生存了下来。这样的学校数量有限，仍有众多的外来务工人员子女不知道哪里有学上。

在某民办大学做管理工作的孙某为了让从农村接出来的孩子有学上，在郊区找了五六家公立小学。但是，校方要收取 1 万元到 10 万元不等的借读费和赞助费，这些高昂的费用让孙某感到发懵。因为公办学校门槛高，在城乡结合部，条件简陋、收费较低的民办农民工子弟学校如雨后春笋破土而出。然而，这样的学校绝大部分都戴着“非法”的帽子——没有办学许可证，很难逃脱被关停的命运。已有 3 年“办学经验”的秦老师说：“要拿办学许可证，必须有房屋产权证。可由于经费紧张，学校只能租用别人的场地及房屋。别说我们拿不出房屋产权证，就连房东也拿不出，因为房东也是租村里的地。”一度拥有 1500 多名学生规模的私立金星小学就是因为校舍所在地被拆迁，从此销声匿迹了。“没有政府的支持，我们也不敢在硬件设备上加大投资。”办学人代某说，“艰难办学，最希望的是能有合法的地位，学生可以放心读书，老师也可以安心工作。”实际上这类学校的教师队伍很不稳定，往往春节一过，教师走掉一半是常事。许多年轻教师都把私立学校当做跳板，一旦找到合适工作，立马就跳槽走人。

开学已经好几天了，因为交不起 300 多元的学费，12 岁的陈某迟迟没有报到。和陈某一样，由于家庭生活困难，不少农民工子女不得不放弃求学。树人学校也是一所农民工子弟学校。开学已经一周，还有 100 来名学生没来报到。校长既失落又无奈：“反正每到开学，总得少那么百八十人。有的回老家了，有的转

学了。至于有没有人辍学，那就没办法统计了。”

春节过后，8岁的乡村女孩儿张某在B市郊区的一所公办小学里迎来了新学期，但更多“漂泊”在市郊的农民工子女难有这样的待遇。“我也想去公办学校上学，至少那里有好的食堂，但学费实在太高。”一想起夏天早上带的饭菜到中午有点变味发馊，一位小学四年级学生心里就有点发酸。

“B市的公办学校，用的都是B市地方实验教材。将来考大学，因为没有户口，孩子还得回去考，怎么办？”从山西来B市打工的张某愁苦地问。考虑到这个因素，许多家长不得不把孩子送到使用全国统编教材的民办农民工子弟学校。

“我妈妈很少给我零花钱，我也没有什么新文具，总觉得在班里抬不起头。”这是一个“有幸”到公办学校就读的农民工的孩子所遇到的尴尬。记者在采访中发现，有不少乡下来的孩子，在大部分是城市孩子的公办学校里，都有孤独、自卑的感觉。对此，中国社会科学院一研究员表示，要警惕农民工子女心理“边缘化”倾向。他说，农民工子女本身就在经济条件等方面处于弱势地位，好不容易能与城里孩子坐在同一个教室里接受质量较高的教育，却又要承受来自各方面的不理解。生活上的困难没有让他们退缩，可这种心灵的创伤却难以抚平。

2010年8月颁布的《国家中长期教育改革和发展规划纲要（2010-2020年）》中明确指出：“坚持以输入地政府管理为主、以全日制公办中小学为主，确保进城务工人员随迁子女平等接受义务教育，研究制定进城务工人员随迁子女接受义务教育后在当地参加升学考试的办法。”

“同在蓝天下，共同成长进步”，这是温家宝总理在考察北京玉泉路打工子弟小学时，在学校黑板上写下的题词。广大人民群众都希望并相信，在实施《纲要》的过程中，这美好的愿景会变成现实。

材料二

新华社、《中国青年报》记者联合进行了一项问卷调查。这一调查历时7天，在北京、上海、广东、浙江、江苏、山东等地，向农民工发放调查问卷131份，其中有效问卷125份。73名受访者表示，最大的愿望是自己的孩子能“和城里孩子享有同样的待遇”，43名受访者最希望能“降低收费标准”，17人希望能“有供农民工子女就读的专门学校”。调查同时显示，78位受访农民工表示，通过“朋友介绍”为孩子在城里联系学校，16人表示“从媒体报刊获悉”

有关学校信息，5人表示“向城市教育部门咨询”，2人表示由“家乡教育部门推荐”，1人表示“学校主动上门”。

调查表明，有46名农民工子女，曾经因为父母务工地点的变化而被迫转学。其中转学1次的有10人，转学2次的有12人，转学3次或3次以上的有24人。

在回答子女在城里求学遇到的最大困难时，54位受访者表示是“费用太高”，占受访总数的43.2%；46人表示是“没有城市户籍”，占受访者的36.8%。选择“住处附近没有学校”“受城里人的歧视”“毕业后拿不到毕业证”的受访者比例依次为16.8%、6.4%和4.8%。“我本来准备把小孩送到公立学校，但因为不是本地户口，我找的一所学校每学期竟然要8000元的赞助费，另外还要交这费交那费，最终还是没去。”在N市打工的罗某告诉记者。

调查同时显示，有20名农民工表示孩子在上学时曾“遭受到拒绝”，7人表示“做了很多努力学校才接受”；有19位受访者表示孩子在学校“有过不公平待遇，但不严重”，3人表示孩子在学校“有过不公平待遇，情况比较严重”。调查还显示，77.6%的受访农民工表示，孩子“学习成绩一般”或“成绩不好”。88名受访者表示，“从来没有”或“不一定”有时间辅导孩子学习，占受访总数的70.4%。“小孩只要听话，知道尊老爱幼就行了。我整天忙，没时间想太多，学校的质量也就不管了。”今年33岁的王某来自南方某县，以帮酒店洗台布为生，谈起孩子的教育，他无奈地说。

材料三

近年来，在发展边境少数民族地区教育的过程中，地处西南边境的L县坚持“调整一些不合理校点布局，逐步推进寄宿制办学”的工作思路，特别是结合国家在L县实施的“西部地区农村寄宿制学校建设工程”，对本县的学校布局进行调整。通过该工程的实施，L县各乡镇学校布局更加合理，办学条件进一步改善，办学效益得到了明显提高。L县在将教育资源的合理配置作为中心工作来抓的同时，注意发动社会各界共同关心和支持，努力把寄宿制学校办成群众满意，家长放心，学生“进得来、留得住、学得好”的学校。

撤并教学点，意味着自己的子女要去更远的地方读书，来回的交通又不方便，难免会让家长心存疑虑。L县充分利用报纸、广播、电视等宣传媒体，开辟“创建”专栏，还利用挂横额、张贴标语、出板报等形式大力宣传创建寄宿制学校的

重要意义，营造良好的舆论氛围，动员社会各方面的力量都来关心、支持创建工作。县教育局、乡镇政府干部牵头，带领教师和村干部分头走访学生家长，认真听取群众意见，并做好摸底工作。通过宣传发动，提高广大群众的思想认识，形成全社会关心、支持、参与创建工作的良好氛围。

L县把创建寄宿制学校作为改变农村教育现状的重点工作来抓，有效利用各方面条件，努力提高办学效益和质量，积极为农村教育的发展创造条件。一是充分利用“义教工程”、边境建设大会战教育建设项目、中小学危房改造工程等项目的资金投入，完善了学校的各项设施。几年来，共投入资金4379万元，建设了教学用房56幢，学生宿舍楼89幢，学生食堂79幢，学生厕所73间。二是推进教育资源配置方式的改革，统筹规划学校布局。针对农村校点多、规模小、难以实现有限资源优化配置的情况，L县从各地的实际出发，按照人口自然分布、统筹规划学校布点的原则，把办学的规模效益作为工作的立足点和重要目标。

L县的学校布局调整工作坚持因地制宜、科学规划、先易后难、逐步实施、规模办学，提高了效益，盘活了教育资源。在着力于调整中小学布局、撤并教学点工作进程中，根据当前政府财力和群众承受能力，重点建设一些试点学校，形成了富有特色的实践模式。其一，联村办寄宿制学校。随着人口出生率越来越低，学校生源减少，村村办学校的现象将成为历史，联村办学势在必行。如响水镇棉江、四清、高峰、红阳等村由于靠近设施完善、教学质量好的鸣凤中心小学，L县便利用“义教工程”43万元资金，在鸣凤中心小学建起了学生宿舍楼、教学综合楼和学生饭堂，扩大学校规模，将其建成寄宿制学校。其二，创办民族寄宿制学校。L县武德、金龙、水口等3个乡镇同属边境乡镇，部分村屯由于地处边远山区，交通不便，许多适龄儿童不能按时入学读书。为了解决他们的入学难问题，L县在武德乡中心小学创建了寄宿制学校，招收武德、金龙、水口等3个乡镇部分村小学四、五年级的学生，国家给予一定的生活补助，学生统一到校寄宿就读，实行封闭式管理。目前，该校有在校生752人，寄宿生532人，近十年来共培养了1000多名少数民族学生。其三，创建边境形象学校。L县抓住边境大会战教育项目建设工程实施的机会，积极筹措经费，重点建设一批国门学校，进一步改善了办学条件。现在水口镇罗回中心小学、彬桥中心小学在校生均在500人以上，寄宿生达150多人；水口中学、彬桥中学的寄宿生均超过400人。

材料四

越是上学难，有些农民却越把希望寄托在下一代上学受教育上。如F村各家相互攀比“不惜血本供孩子读书”，以至出现了忍饥挨饿、倾家荡产供孩子读书的“英雄”。教育的成本越来越高，有社会学家计算过，一个大学生4年学费大约相当于一个农村居民20年的纯收入。不用说西部贫困地区，连基本脱贫的东部地区的农民孩子的“大学梦也越来越远了”。实际上，新世纪以来，农村孩子在大学生源中的比例与上世纪80年代相比，几乎下降了一半，这就意味着“通过高考，农村孩子向上流动的渠道”正在“缩窄”。贫困家庭用于教育的支出占其收入的比例仍相当大，也就是说，农民倾其全力支持了教育的发展；而现在一旦出现了大学生就业危机，贫困农民家庭所受的损失将是巨大的。

在当下中国农村出现了必须引起社会高度关注的现象：H省的一个调查表明，个别地区的农村贫困生的失学率高达30.4%，辍学的学生基本上都是20世纪90年代出生的那一代，他们的父母有的过去还能读到高中毕业，而他们之中有数量可观的人初中还没有读完，由此导致的劳动者文化素质的下降，对未来中国发展的影响，确实令人担忧。有社会学家指出，“在一些地方已经出现明显的因教致贫、因教返贫的现象”，“G省的抽样调查显示，由于教育因素返贫的农户，占返贫总数的50%”。农民寄希望于教育使他们的子女另寻出路的想法靠不住了，于是“辍学”之风抬头，用一著名作家的话来说，就是用辍学来“保护人心，保护土地，阻止下一代向充满着蔑视、冷漠以及焦灼不宁的惨淡日子滑落”。但也如这一作家所说，这样的选择既显得“荒唐”，又有些无奈。而且也还有许多农民几乎是孤注一掷地仍然将孩子的教育放在生活中的第一位，这样的“知其不可为而为之”的努力确实给人以悲壮感。一位下乡支教的大学生说，这是“困境中的不绝希望”。如果不对农民寄以希望的教育（包括农村教育及城市教育）进行新的反思与改造，如果不从根本上解决教育资源的合理分配与农民子弟就业难的问题，恐怕很难实现他们可以看到并应享受的教育，即广大农民寄以希望的教育。

材料五

乡村文化的衰落，引起了许多学者的担忧和焦虑。这些学者有不少出身于农村，他们有着自己的乡村记忆，和对现实乡村的直接观察和体验。因此，他们的

忧虑就特别值得注意。故乡的传统生活方式正在消亡与崩溃。这里既有传统的以民间节日、宗教仪式、戏曲为中心的地方文化生活的淡出、空洞化，也包括曾经相当活跃的，与集体生产相伴随的农村公共生活形式（如夜校、识字班、电影放映队、青年演出队）的消逝，更有在纯净的大自然中劳作和以家庭、家族、邻里亲密接触，和睦相处为特点的农村日常生活形态解体的征兆和趋向。生态环境的恶化，家庭邻里关系的淡漠和紧张，社会安全感的丧失，使乡村生活已逐渐失去了自己独到的文化精神内涵。赌博、暴力犯罪，这在很大程度上都是乡村社会文化精神缺失的表征。于是，有研究者产生了更深层面的焦虑：“传统乡间伦理价值秩序早已解体，法律根本难以进入村民日常生活，新的合理的价值秩序又远没有建立，剩下的就只能是金钱与利益。”一些农民对自我价值的认知完全趋于利益化，钱成了衡量自我价值的唯一标准，消费文化已经成为农村社会的主宰性的意识形态，它对生活以及人生意义の設定已经主宰了许多农民尤其是农村里的年轻人的头脑，由此带来的问题自然是十分严重的。于是就有了“作为文化——生命内涵的乡村已经终结”的这一根本性的忧虑。而乡村作为文化存在的虚化，直接导致乡村少年成长中本土资源的缺失，如今的乡村少年，他们生活在乡村，却根本无法对乡村文化产生亲和力、归依感，然而，城市文化对他们又是那样遥远，这样，他们生命存在的根基就极易发生动摇，成了在文化精神上无根的存在——乡村文化的危机和乡村教育的危机，就是这样相互纠缠着。

这一切，对那些曾经感悟，至今仍依恋乡村文化的知识分子产生了巨大的冲击力。有位知识分子说，“我已经无家可归”，“我在城市是寓公，在家乡成了异客”。这样，无论在乡村少年身上，还是在农民工那里，以及这些出身农村的知识分子的群落里，我们都发现了“失根”的危机。乡村文化的衰落，乡村教育的文化缺失，对我们究竟意味着什么？这是我们应当思考和追问的。

作答要求

第一题：L 县政府拟进一步宣传寄宿制学校的办学模式，以期更好地提高办学效益和质量。请根据“给定资料 3”，以县教育局的名义草拟《给各村中小学生家长的一封信》。（20 分）

- 要求：（1）内容具体，符合实际；
（2）用语得体，通俗易懂；

(3) 不超过 400 字。

第二题：“给定资料 5”的划线部分写道：“有位知识分子说，‘我已经无家可归’，‘我在城市是寓公，在家乡成了异客’。这样，无论在乡村少年身上，还是在农民工那里，以及这些出身农村的知识分子的群落里，我们都发现了‘失根’的危机。”请结合你对这段话的思考，参考“给定资料”，自拟题目，写一篇文章。（30 分）

要求：（1）自选角度，立意明确；

（2）联系实际，不拘泥于“给定资料”；

（3）语言流畅；（4）总字数 800—1000 字。

华图前台咨询地址

贵阳：贵州省贵阳市花果园 J 区一栋国际商务港 5 号 13 楼

客服热线：13368506443/13368502041/18684176807

遵义：遵义市汇川区高桥汇川二路原遵义市委党校内三楼（凤凰路 154 号）

客服热线：0851-28820443/13628526007

六盘水：六盘水凤凰山青峰路广大生活超市 2 楼（南海云天酒店旁）

客服热线：0858-8690565 /15329940565

安顺：安顺市西秀区黄果树大街 265 号桂龙国际 10 楼

客服热线：0851-33598095/18085377730

毕节：毕节市七星关区百里杜鹃路国贸中心综合写字楼 6 楼（区政府旁）

客服热线：0857-8986990/18188177997

铜仁：铜仁市碧江区西外环八号西城御都 12 楼（人社局旁）

客服热线：0856-5232002/18085625591

兴义：兴义市桔山大道兴义商城 A 座 6 楼 614-615

客服热线：0859-3116855/15585956855

都匀：都匀市剑江南路 79 号附 1 号尚城财富中心 8 栋 1 单元 23 楼

客服热线：0854-8236608/18198664608

凯里：凯里市北京西路国贸大厦 2 栋 21 层华图教育

客服热线：0855-8236463/18985297095