

职测暑假作业 21 天

第 1 天

1. 下列关于我国法治建设的事件，按时间先后排序正确的是：（ ）

- ①把国家尊重和保障人权载入宪法
- ②提出依法治国的基本治国方略
- ③形成中国特色社会主义法律体系
- ④提出走中国特色社会主义法治道路的命题

- A. ①②③④
- B. ②①③④
- C. ③①④②
- D. ④②①③

2. 下列有关法律文化的说法错误的是：（ ）

- A. 《汉谟拉比法典》是迄今最早最完整的成文法典
- B. 《拿破仑法典》是资产阶级国家第一部民法典
- C. 《查士丁尼法典》是罗马法集大成者
- D. 《大宪章》是美国的根本大法

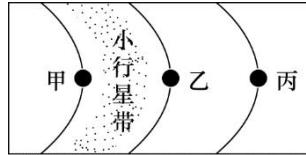
3. 关于刻板印象，下列说法正确的是：（ ）

- A. 全部都是负面的
- B. 总是一成不变的
- C. 完全忽视个体区别
- D. 和歧视无关

4. 下列情形不可能发生在明朝的是：（ ）

- A. 王阳明讲解“致良知”学说
- B. 汤显祖的《牡丹亭》广泛演出
- C. 《四库全书》编纂完成
- D. 章回体小说《西游记》成书

5. 关于太阳系局部图，下列说法错误的是：（ ）



- A. 甲行星是“好奇号”探测器的目的地
- B. 乙行星拥有的卫星数量最多
- C. 丙行星有光环
- D. 启明星位于丙行星的外围
6. 关于地质景观，下列说法正确的是：（ ）
- A. 丹霞地貌是由火山喷发形成的
- B. 黄山山体主要由碳酸盐岩构成
- C. 桂林山水是著名的喀斯特景观
- D. 金华双龙洞的成因是风蚀作用
7. 下列哪一个 IP 地址是不可能存在的？（ ）
- A. 198. 163. 0. 2
- B. 256. 134. 7. 8
- C. 201. 202. 34. 9
- D. 136. 64. 17. 5
8. 关于我国公民的基本权利和义务，下列说法错误的是（ ）
- A. 劳动是我国公民的基本权利和义务
- B. 公民住宅不受侵犯属于人身自由权
- C. 公民不履行宪法规定的义务会构成违宪
- D. 我国公民有受教育的权利和义务
9. 关于我国土地制度，说法错误的是：（ ）
- A. 农村的土地归农民集体所有
- B. 用来建设经济用房的行政拨用地的土地使用期限不确定
- C. 现阶段严守 18 亿亩耕地的红线
- D. 农村农民一户只能拥有一处宅基地
10. 根据我国刑法，下列情形构成犯罪的：（ ）
- A. 甲将 1 岁多的女儿放到公园，被冻死了
- B. 乙收留了孤儿未办理收养手续，将其抚养成人

C. 路人丙看到发生火灾不报警，火灾中 3 人死亡

D. 丁因工作中发生矛盾说要打同事，同事害怕而逃跑，在跑的过程中不小心死了

11. 除藏书外，藏书楼的另一个重要功能，就是作为藏书家及文人学者校勘书籍、读书研究的主要场所，为了使藏书内容准确，没有舛误，他们将多种刊本进行比对，通过勘订，改正原书中的错处，以免_____。

A. 以讹传讹

B. 误人子弟

C. 谬以千里

D. 混淆是非

12. 胡适和鲁迅都属于中国第一代现代知识分子，新文化运动的发起者，坚定的西化论者，“五四”之后，两人却_____，各自深深地卷入现实政斗争，无论是思想还是性格，他们都形成鲜明对照，在后人眼里，一个被视作自由知识分子的代表，一个被视作激进知识分子的作表。

A. 分庭抗礼

B. 各行其是

C. 不欢而散

D. 分道扬镳

13. 从符号化到数字化，信息在人类进化和文明发展中的重要性毋庸置疑。如果说符号化产生了知识的“宝库”，那么作为数字化的产物，大数据将成为人类的“超级矿藏”，其资源性、基础性与战略性的价值已经_____。为应对大数据时代的到来，国际竞争正在悄然展开。

A. 略胜一筹

B. 初露峥嵘

C. 不可胜数

D. 今非昔比

14. 在今天的全球化浪潮中，中国社会的对外开放程度与对外交流密度前所未有，与此同时，互联网及数字化媒介的普及，使知识与信息进一步覆盖到更广大的群体，阅读的_____进一步降低。一块块移动电子屏，让书籍_____极大地拓展了阅读的时间与空间。

A. 标杆 俯拾即是

B. 条件 一目了然

C. 成本 改头换面

D. 门槛 触手可及

15. 农产品市场几乎每隔几年就人来个“姜你军”“蒜你狠”，媒体似乎也_____地年年跟时，说法也经年不变，无非是有人像炒房一样“炒菜”哄抬物价，但每次都是_____，带大家云里雾里走一趟了事。

A. 追根究底 含糊其辞

B. 乐此不疲 语焉不详

C. 趋之若鹜 浅尝辄止

D. 连篇累牍 轻描淡写

16. 在一些英语国家，人们长期以来存在语言优越感，其外语能力并不能令人满意，比如，在第二次世界大战后，因为英语地位优越，美国人一直很自负，不重视外语人才的培养，结果在伊拉克战争中吃了亏。类似的经验教训启示我们，不应只把眼睛盯在英语等少数几种使用范围广泛，使用人数众多的语言上，国家在制定语言人才培养政策时，要有统筹规划的意识，应充分考虑各国、各民族的语言和文化，像保护濒危动物和生物多样性那样保护濒危语言、保护文化多样性。

这段文字意在强调：

A. 应以尊重、谦虚的态度面对语言的多样性

B. 国家的语言政策应当与时俱进、不断调整

C. 保护濒危语言是语言政策制定的重要目标

D. 制定语言人才培养计划应有更全面的考虑

17. 科举是一种文化现象。然而，在现代中国人对传统事物的看法中，科举大概也是被误解最深的制度。我们不应忽略科举制的历史性，试想在传统社会，能构想出其他更好的选才制度来吗？古代的中国统治者和许多文化巨人并不是没有看到科举制的局限和弊端，也不都是因循守旧之辈。但经过反复比较，最后还是选择了科举制，这实际上是一种择善而从。古代一些学者批评科举取士并不等于反对科举制度。从古代到近代的学者对科举制的批判主要是对应度现象、对考试内容和形式的批判，特别是对八股取士的批判，很少有人否定科举制本身。

这段文字意在强调：

A. 古代学者对科举制的肯定多过否定

B. 科举制的弊端并非来自其制度本身

C.科举制是当时历史条件下的理性选择

D.应从现实情况出发多角度评价科举制

18.过去的营销是漏斗效应，传统媒体上的广告让受众从很宽的漏斗口进入，买单的到了漏斗的底端。网红的营销则是涟漪效应，每个波纹和波纹之间会有碰撞，影响面更宽，影响的深度更深，网红通过树立个人品牌、贯彻自我的生活方式吸引粉丝，粉丝可能对传统广告是排斥的，但是乐于模仿偶像而消费。在社交平台上，粉丝之间的沟通渠道打通了，他们甚至不仅仅购物，而且乐于把自己的喜好传播给别人，每一次点赞、评论、转发，涟漪就扩散一次。

这段文字主要介绍：

A.网红营销影响巨大的原因

B.粉丝在网络时代的消费特征

C.传统营销与网络营销模式的区别

D.社交平台中网红与粉丝的互动模式

19.书法既然是艺术活动，当然不能缺少技艺，但是由于大众的参与，书法最强调的不是技艺而是修养。对修养的强调，实际上是强调人格在内部的提升。书法由此而成为伦理与审美融合在一起的活动。中国文化中“游于艺”的思想，其目的是通过艺事让人格臻于完善。在“游于艺”的机制中，书法成为理想的手段。

这段文字主要说的是：

A.“游于艺”的思想强调内在人格的提升

B.书法是将伦理与审美合为一体的活动

C.书法艺术强调人格修养与技艺的共同提升

D.书法作为一种艺术活动意在提高人的修养

20.市场会不断创造诱惑让你花钱，每一个橱窗、货架都是大量市场实验的最优方案。很常见的例子，为何鸡蛋牛奶被放到超市的深处？因为这是人们最普遍的需求，你不得不穿过一排又一排货架，不知不觉买了很多计划外的东西。

下列哪种做法能作为本文观点的佐证？

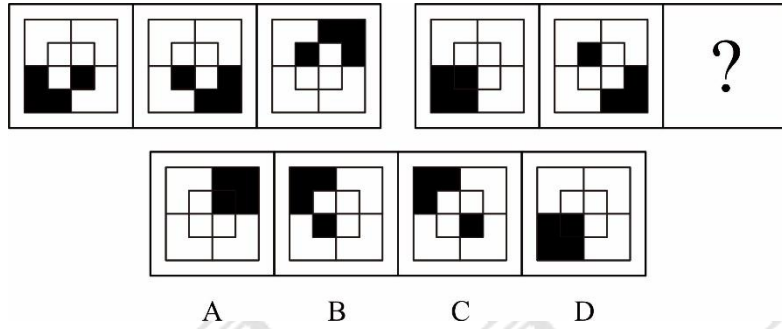
A.售楼员安排多位顾客同时看房而制造紧迫感，使其匆忙做出决定

B.当消费者浏览网页时，他的喜好已被电商悄悄记录

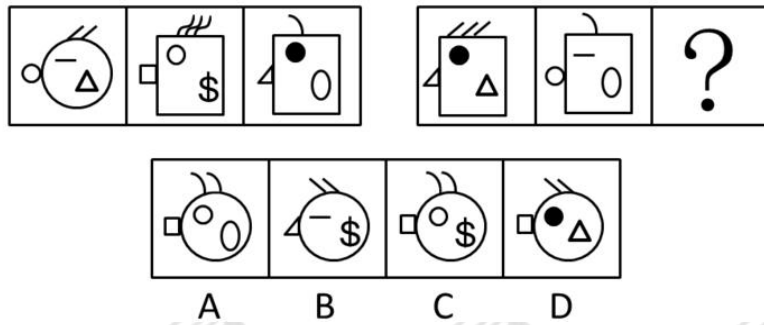
C.商场为吸引顾客而精心营造舒适优雅的购物环境

D.商家制造一个又一个节日来鼓动消费者购物

21. 从所给选项中，选择最合适的一个填入问号处，使之呈现一定的规律性（ ）。



22. 从所给选项中，选择最合适的一个填入问号处，使之呈现一定的规律性（ ）。



23. 如果月球表面曾经是岩浆海洋，那么许多元素的分布就应该是连续的。岩浆海洋掌握着解开月球诞生之谜的钥匙，如果岩浆海洋的存在得到确认，那么“巨型冲击假说”将成为最有力的月亮起源说。

由此可以推出（ ）。

- A. 如果月球表面不曾是岩浆海洋，那么月球表面的元素分布就不是连续的
- B. 如果“巨型冲击假说”没有成为最有力的月亮起源说，那么表明月球表面的元素分布都不是连续的
- C. 如果月球表面的元素分布不是连续的，那么月球表面不曾是岩浆海洋
- D. 如果月球表面的元素分布是连续的，那么“巨型冲击假说”将成为最有力的月亮起源说

24. 某中学的甲、乙、丙、丁四位老师在高考前对该中学的毕业班的前景进行推测。

甲说：“如果李宁能考上北大，那么王路也能考上北大。”

乙说：“我看这个班没有人能考上北大。”

丙说：“不管王路能否考上北大，李宁都考不上北大。”

丁说：“我看王路考不上北大，但李宁能考上北大。”

高考结果表明，四位老师中只有一人说对了。

据此我们可以认为（ ）。

- A. 李宁考上了北大 B. 李宁没有考上北大
C. 王路考上了北大 D. 王路没有考上北大

25. 六朝时的清谈名家刘惔话很多，但他也欣赏不说话的人。他见江权不常开口，非常欢喜，说：“江权不会说话，而能够不说，真叫人佩服。”江权知道自己不善言谈，但他懂得藏拙。不是每个人都知道自己的缺点在什么地方，好为人师夸夸其谈者不计其数。能说话而爱说，情有可原；很多人明明不大会说话，偏偏说个不停，自暴其短，往往令人生厌。因此可以说，江权这样做，其实是一种极难得的聪明。

以下哪项如果为真，最能支持上述结论（ ）。

- A. 能言而能不言是一种极难得的聪明
B. 不能言而能不言是一种自知的聪明
C. 不能言而言其实是一种浮夸之举
D. 不能言而不言其实是一种无奈之举

26. 美国科学家的最新研究表明，某类陨石中含有糖类化合物，这表明产生地球上原始生命的一部分基本材料可能来自星际空间。

以下选项最能削弱上述观点的是（ ）。

- A. 研究排除了陨石这些糖类物质来自地球的可能
B. 科学家已经从陨石中找到了构成生命必需的多种有机物，例如氨基酸和羧基酸，但最近才确认其中含有糖类物质
C. 陨石中找到的糖类物质是由陨石降落到地面后被地球上的物质污染所致
D. 糖类物质是构成 DNA 和 RNA 分子的基本骨架，为生命活动提供能量

27. 山芋：红薯

- A. 番茄：西红柿 B. 菜籽：油菜
C. 才华：才干 D. 烟斗：香烟

28. 伊妹儿：电子邮件

- A. 算账：结账 B. 引擎：发动机
C. 炒鱿鱼：解雇 D. 可可：巧克力

29. 行政调解：是指在国家行政机关的主持下，以当事人双方自愿为基础。以国家法律、法规及政策为依据，以自愿为原则，通过对争议双方的说服与劝导，促使双方当事人互让互谅、平等协商、达成协议，以解决有关争议而达成和解协议的活动。

以下属于行政调解行为的是（ ）。

- A. 街道社居委对辖区内邻里纠纷进行调解
- B. 工商局所辖的消费者协会对消费纠纷进行调解
- C. 交警队对车辆碰撞事故进行责任认定，提出调处意见
- D. 某市经济仲裁委员会对企业之间的经济合同纠纷进行调解

30. 医疗法律关系是指医务人员受患者委托或其他原因，对患者实施诊断、治疗等医疗行为所形成的法律关系。

根据上述定义，下列不属于医疗法律关系的是（ ）。

- A. 小明患感冒到某医院挂号就诊，医生经诊断后给小明开出处方，小明取药后按医嘱在医院输液
- B. 老张过马路时被一辆飞驰而来的汽车撞成重伤，路边的群众将昏迷的老张送到市医院，医院立刻对其进行抢救
- C. 非典时期，小王在火车上恰巧与一位非典疑似病人有过接触，回京后，小王因患感冒到某医院就诊，被该医院强行留在医院进行治疗和观察
- D. 小肖带着女儿到区卫生防疫站后，防疫站的工作人员按照规定给小肖的女儿打了一针百白破疫苗，并留下观察了半小时

31. 一本书的上下册共 735 页，小刚看上册，每天看 45 页；小强看下册，每天看 30 页。5 天后他们各自未看的页数相等，此时小强下册还剩下（ ）页没看。

- A. 180
- B. 200
- C. 210
- D. 240

32. 有两箱数量相同的文件需要整理。小张单独整理好一箱文件要用 4.5 小时，小钱要用 9 小时，小周要用 3 小时。小周和小张一起整理第一箱文件，小钱同时开始整理第二箱文件。一段时间后，小周又转去和小钱一起整理第二箱文件，最后两箱文件同时整理完毕。则小周和小张、小钱一起整理文件的时间分别是（ ）。

- A. 1 小时，2 小时
- B. 1.5 小时，1.5 小时
- C. 2 小时，1 小时
- D. 1.2 小时，1.8 小时

33. 一辆汽车运一批货从甲城到乙城，又从乙城运一批货返回甲城，往返共用了 13.5 小时。去时用的时间是回来时用的时间的 1.25 倍，去的速度比返回时的速度每小时慢 6 千米。

A、B 两地之间距离为多少？（ ）

- A. 150
- B. 160
- C. 170
- D. 180

34.某单位要从 8 名职员中选派 4 人去总公司参加培训,其中甲和乙两人不能同时参加。问有多少种选派方法? ()

- A. 40
- B. 45
- C. 55
- D. 60

35.在一幅比例尺为 1:200 的地图上标注有一个长方形的鱼塘,该鱼塘的长与宽之比为 3:2.在地图上量得的周长为 30 厘米。则该鱼塘的实际面积是 () 平方米。

- A. 216
- B. 432
- C. 864
- D. 900

2013 年 12 月下旬,教育部、国家统计局、财政部发布 2012 年全国教育经费执行情况统计公告。数据显示,2012 年国家财政性教育经费 22236.23 亿元,占 GDP 比例为 4.28%,比上年的 3.93%增加了 0.35 个百分点,实现了教育规划纲要提出的 4%目标。

另外,公告还显示,2012 年全国普通小学生均公共财政预算教育事业费增长 23.42%,其中农村增长 26.30%,增长最快的是贵州省(47.35%)。经费上,农村增速超过全国增速,且增速最快的省份全部为中西部省份。

然而,在实现 4%目标的同时,2013 年 5 月 6 日湖北省洪湖市,12 月 28 日黄冈市罗田县先后发生老师罢课,要求提高工资待遇,暴露出教育经费达标后深层次的问题。

2003-2012 年全国财政性教育经费情况

年份	国家财政性教育经费(亿元)	占 GDP 比重(%)
2003	3850.62	2.84
2004	4465.86	2.79
2005	5161.08	2.79
2006	6348.36	2.93
2007	8280.21	3.12
2008	10449.63	3.33
2009	12231.09	3.59
2010	14670.07	3.65
2011	18586.70	3.93
2012	22236.23	4.28

36.2004-2012 年间,国家财政性教育经费及其占 GDP 比重 ()。

- A. 前者不断增加、后者不断上升
- B. 前者不断减少、后者不断上升
- C. 前者不断增加、后者不断降低
- D. 前者不断减少、后者不断降低

37.资料显示，全国实现教育规划纲要提出的目标是在（ ）。

- A. 2003 年
- B. 2012 年
- C. 2009 年
- D. 2011 年

38.2012 年与 2003 年相比，国家财政性教育经费增长了（ ）。

- A. 5.8 倍
- B. 6.8 倍
- C. 7.8 倍
- D. 4.8 倍

39.2012 年，国家财政性教育经费增速最快的省份全部为（ ）。

- A. 中东部省份
- B. 东北部省份
- C. 中西部省份
- D. 东中省份

40.资料数据表明（ ）。

- A. 2012 年全国普通小学生均公共财政预算教育事业费增速农村快于全国
- B. 2007 年国家财政性教育经费首次突破万亿元
- C. 2012 年全国普通小学生均公共财政预算教育事业费增长最快的是广东省
- D. 2012 年湖北省教师罢课暴露出教育经费达标后浅层次的问题

第 2 天

1. 下列与“十三五”规划纲要有关的说法不正确的是：（ ）

- A. 首次提出供给侧结构性改革
- B. 首度将加强生态文明建设纳入任务目标
- C. 贯穿创新、协调、绿色、开放、共享五大发展理念
- D. 2020 年国内生产总值和城乡居民人均收入要比 2010 年翻一番

2. 刘某拾得一部手机。关于该手机的所有权，下列说法符合法律规定的是：（ ）

- A. 失主赵某知道手机在张某手中三年后，仍然有权向张某追回手机
- B. 若张某明知手机系刘某拾得，但支付了合理付款，便可取得手机所有权
- C. 若张某通过拍卖购得该手机，失主赵某为追回手机应向张某支付费用
- D. 若张某获得手机系刘某无偿赠与，但因其误以为手机系刘某购买所得故而张某可以

取得手机所有权

3. 根据民事诉讼法的规定，人民法院可以裁定先予执行的案件不包括：（ ）

- A. 郑大山诉王贵索要劳动报酬一案

- B. 赵大妈诉其子李四索要赡养费一案
- C. 牛小亮诉其父牛二索要抚养费一案
- D. 周小东诉张三索要精神损害赔偿一案
4. 关于我国古代货币，下列说法错误的是：（ ）
- A. 宋代铸造货币的机构称为钱监
- B. 西汉曾经允许民间私人铸造货币
- C. 唐代以前的货币文字不可能采用“瘦金体”
- D. 我国古代各类政权铸币的文字均采用汉文
5. 关于洋流，下列说法错误的是：（ ）
- A. 寒流对所流经的海岸有降温增湿的作用
- B. 从低纬度流向高纬度的洋流是暖流
- C. 寒暖流交汇是形成大型渔场的重要条件
- D. 洋流有助于海水净化，也会扩大污染范围
6. 硬水是指含有较多钙、镁、铁、锰等的可溶性盐类的水，关于硬水，下列说法正确的是：（ ）
- A. 活性炭或石英砂可以软化硬水
- B. 用硬水洗衣服会增强洗涤效果
- C. 硬水的 pH 值一般小于 6
- D. 井水、泉水一般属于硬水
7. 县级以上各级人民代表大会是县级以上地方国家权力机关，其职权不包括：（ ）
- A. 改变或撤销本级人大常委不适当的决定
- B. 选举并有权罢免本级人民法院院长
- C. 批准本行政区域内的预算执行情况报告
- D. 决定并宣布下一级行政区域进入紧急状态
8. 下列哪个主体不能担任精神病的监护人：（ ）
- A. 所在单位
- B. 住所的居民委员会
- C. 精神病医院
- D. 民政部门
9. 对应不正确的是：（ ）

- A. 萧规曹随——执政方式
- B. 颜筋柳骨——按摩手法
- C. 颠张醉素——书法特点
- D. 魏紫姚黄——牡丹名品

10. 战争按时间顺序排列错误的是：()

- A. 牧野之战——官渡之战——淝水之战
- B. 拿破仑战争——普法战争——美国南北战争
- C. 抗美援朝战争——中苏珍宝岛战争——伊拉克战争
- D. 以上所有

11. 声音由听觉加工，图像识别则由视觉分管。音乐和绘画是不同感官的艺术形式，应该没有相互____的可能。不过，有人却能“看到”身边的音乐，并且将旋律凝固到画板上。许多研究机构也正在进行“声音视觉化”的尝试，在不久的将来，人们也许就能从真正意义上____音乐的“色彩”。

- A. 转化 表达
- B. 代替 展现
- C. 替换 感受
- D. 转换 观赏

12. 新诗发展的一个重要艺术趋势，是作者越来越追求复杂和多元的表达方式，这使得读者对诗歌的阅读与接受，也越来越多了一些____的障碍。就这一类表现方法复杂的新诗而言，诗的创造者与接受者在理解上出现了____。

- A. 隔膜 鸿沟
- B. 阻力 分歧
- C. 迷惑 误会
- D. 干扰 偏见

13. 人工智能听起来很遥远，其实已经____到我们的日常工作和生活中了。人工智能的应用，让生活更便捷、更有乐趣，节约时间、解放体力，甚至未来机器将____人类进行一些基础性的劳作，这个场景令人憧憬。

- A. 渗透 替代
- B. 融入 协助
- C. 深入 取代

D. 运用 辅助

14. 台风形成于赤道地区的温暖水域。当潮湿、温暖的空气开始上升的时候，会产生一个低压区，进而_____周围更多的暖湿空气。温暖的空气在上升的过程中开始旋转，温度开始_____，冷凝生成云团，释放出热量，进一步_____上升运动。在这种正反馈机理的促进下，气旋不断加强，最终形成巨大的台风。

A. 释放 变化 促进

B. 吸引 下降 加快

C. 凝聚 稳定 抑制

D. 汇集 提升 配合

15. 近代科学的成功表现于，它不仅把意图完全从自然现象中剥离，而且明智地意识到，意图是_____的，剥离了意图的自然现象有一种方法可以刻画：数学语言。从此以后，经典科学一路高歌猛进，而以意识、意图为研究对象的心理学则_____。多亏了磁共振扫描技术，大脑活动才可以被记录下来，于是对思维的研究可以成为一门_____学科。

A. 模棱两可 踟蹰不前 基础性

B. 变幻无常 如履薄冰 实验性

C. 捉摸不定 步履蹒跚 实证性

D. 高深莫测 抱残守缺 理论性

16. ①18 世纪，人们在哥伦比亚玛雅文明遗产中发现了一个极像现代飞机的黄金制品

②航空专家认真辨认和研究，得出了完全不同于前人的结论

③在 900 年前，玛雅文明突然神秘消失，为后人留下了许多未解之谜

④当时的考古学家认为，这是一种以鸟或鱼为原型制作的饰物，并没有给予其更多的关注

⑤他们认为，那是一种飞机模型，与现代飞机模型极为相似

⑥到了 20 世纪末，人们在厄瓜多尔南部的一个地下隧道中，又先后发现了两个用黄金制成的类似物品

将以上 6 个句子重新排列，语序正确的是：

A. ①⑤⑥④②③

B. ③⑥⑤①②④

C. ③①④⑥②③

D. ①④③②⑤⑥

17.①所以，现在除了传统哲学，教育、法律等学科也纷纷从哲学层面进行研究思考，显示了哲学揭示本质、认识规律的巨大魅力

②无论什么事物，一经哲学思维的过滤，就能呈现出本质性和深刻性

③哲学总是从历史和现实两个视角不断拷问事物的必然性和合理性，其对事物的肯定理解中总是包含否理解，包含对事物必然灭亡的理解

④这种反思和批判让哲学披上了一件永不生锈的铠甲，哲学也因此具有前瞻性和生机勃勃的魅力

⑤哲学发端于人类对事物本质永不停歇的探求和追问，既不满足于表象的感知，也不停留在经验层面，总是追问现象之后的本质、偶然之中的必然

⑥哲学魅力还表现在它的反思和批判功能上

将以上 6 个句子重新排列，语序正确的是：

A. ⑤②①⑥③④

B. ⑤③⑥④②①

C. ②⑤③①⑥④

D. ②③⑤⑥④①

18.古老的问答文化中间与答的形式和寻问、拷问、追问，都孕育着我们今天的谜语这种文化形式的各种要素。在神话思维的追问下，远古的先人们一点点地积累起关于世界的解答，这也成为后来人类思维与意识的模式和底层文件。当先人们要将这些知识传授给他们的下一代时，儿童游戏中的谜语形式便诞生了。后人又把先人们的文化问答通过新颖、曲折、变形的游戏问答加以传授和衔接，谜语便应运而生了。设问与回答是后世猜谜活动的本体，一切谜语文化都是从这里出发的。

这段文字主要说的是：

A. 人类思维模式深受问答文化的影响

B. 谜语传承了先人对世界的认识和解答

C. 谜语文化源于古老的问答文化

D. 儿童游戏是古代知识传授的重要方式

19.宝石颜色有三个影响要素，即光源、宝石和观察者。不同的光源具有不同的光谱能量分布，因而照射到宝石上会使宝石呈现出不同的颜色；宝石由于自身内部的致色离子对光源光波的选择性吸收、反射、透射而呈现出不同的颜色；对于观察者而言，虽然人眼具有对可见光的灵敏分辨力，但对具体波长可见光的感知是因人而异的。也就是说，对同一宝石品

种与观察者来说，_____。

填入画横线部分最恰当的一句是：

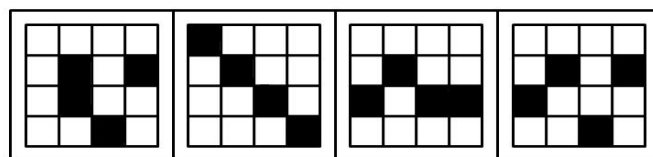
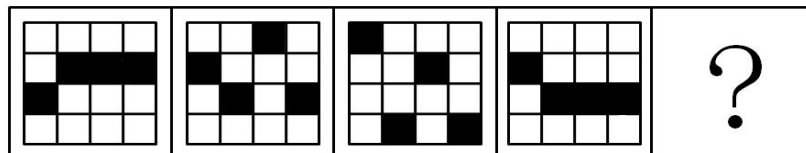
- A. 宝石颜色会随照明光源的不同而发生改变
- B. 标准光源的选定对宝石颜色评价尤为关键
- C. 提高观察者可对可见光的灵敏分辨力十分必要
- D. 选择透光性好的宝石能获得更高的市场利润

20. 在古代琳琅满目的冷兵器家族中，剑历来有“百兵之君”的美誉，尤其在春秋群雄并起的历史时期，曾经出现了几把极具传奇色彩的稀世宝剑，它们中既有用来刺杀君主的鱼肠剑，也有导致两国战争的湛泸剑，而古籍《越绝书》中所记载的泰阿宝剑更是有神剑一挥、三军破败的传奇故事。巧合的是，这些传说的神兵利器都是出自一个叫龙泉的地方。

这段文字接下来最有可能谈论的是：

- A. 龙泉出宝剑的原因
- B. 鱼肠剑的真实性
- C. 龙泉宝剑在当代的价值
- D. 为什么宝剑有“百兵之君”的美誉

21. 从所给选项中，选择最合适的一个填入问号处，使之呈现一定的规律性（ ）。



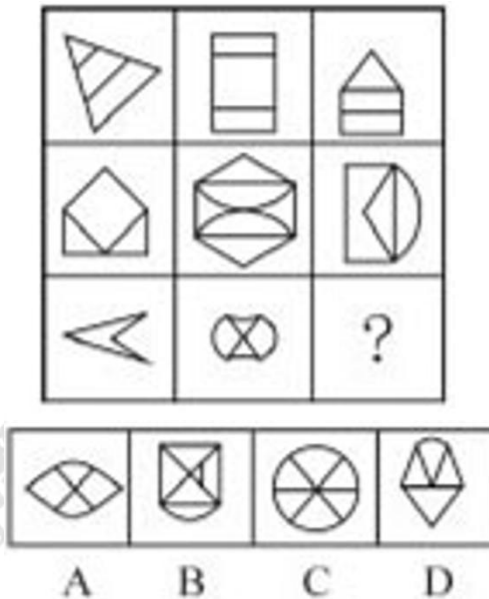
A

B

C

D

22. 从所给选项中，选择最合适的一个填入问号处，使之呈现一定的规律性（ ）。



23. 下列推理正确的一项是 ()。

- A. 只有启动电源开关，日光灯才亮，这盏日光灯不亮，所以没有启动电源开关
- B. 只有意思表示真实的行为才属民事法律行为。张、王二人的借贷行为是意思表示真实的行为，所以它们之间的借贷行为属于民事法律行为
- C. 如果黄某是本案的作案人，那么他就具有作案工具。黄某不具有作案工具，所以黄某不是本案的作案人
- D. 作案人是熟悉现场情况的人。这个公司的人是熟悉现场情况的人，所以这个公司的人是作案人

24. 在一次对全市中学假期加课情况的检查后，甲、乙、丙三人有如下结论：

甲：有学校不存在加课问题

乙：一中和二中不存在暑期加课情况

丙：有学校存在加课问题

如果上述三个结论中只有一个正确，则以下哪项一定为真 ()。

- A. 一中和二中都存在暑期加课情况
- B. 一中和二中都不存在暑期加课情况
- C. 一中存在加课情况，但二中不存在
- D. 一中不存在加课情况，但二中存在

25. 一般而言，猫的平均寿命比狗长 3 年，达 15 年。有研究认为，猫的“长寿之道”可能与它们独居的习性有关。

以下哪项如果为真，最能支持上述研究观点 ()。

- A. 猫喜欢独自生活，从而减少了感染疾病的可能性
- B. 猫较少遭受掠食者攻击，因为它们具有很好的防御手段
- C. 无论是休息还是活动，猫比狗都要警觉，反应也更为敏捷
- D. 狗和人类一起生活时，其寿命会因为各种奇特的饲养方式而缩短

26. 耐甲氧西林金黄色葡萄球菌（MRSA）、克雷伯氏菌能引起多种疾病和感染，同时各种抗生素往往又对它们无可奈何，这些令人色变的细菌因而被称为超级细菌，近年来，研究人员通过微生物的全基因组测序技术不仅能追踪 MRSA 的源头，而且能追踪到其他耐药细菌的源头，因此，全基因组测序技术可以解决 MRSA 等超级细菌给人类带来的疾病困扰。

下列哪些为真，最能削弱上述论证（ ）。

- A. 超级细菌会随着环境的变化而变异
- B. 进行全基因组测序的费用比较高
- C. 全基因组测序技术可为寻找抑制超级细菌的药物提供线索
- D. 全基因组测序技术无法杀灭超级细菌

27. 白丁：布衣：百姓

- A. 冠军：亚军：季军
- B. 须眉：手足：男子
- C. 总角：垂髫：小孩
- D. 学士：硕士：博士

28. （ ） 对于 蓝牙耳机 相当于 电话 对于 （ ）

- A. 手机；无线电话
- B. 喇叭；移动电话
- C. 耳机；手摇电话
- D. 听筒；电话话筒

29. 报复陷害罪，是指国家机关工作人员滥用职权，假公济私，对控告人、申诉人、批评人、举报人实行报复陷害的行为。

根据上述定义，下列属于报复陷害罪的是（ ）。

- A. 市委办公室主任李某被下属举报贪污受贿，怀恨在心，雇佣打手对其进行报复
- B. 校董事会主席张小川怀疑某学院院长举报自己学术造假，便利用董事会力量将该院长撤职
- C. 警察王某的家人曾被黑社会成员孙某威胁过，王某成功抓捕孙某之后对其实施殴打
- D. 安全局干事小李举报王主任徇私舞弊之后，王主任制造伪证，导致小李因泄密罪被捕

30. 不规则需求是指某些物品或者服务的市场需求在不同季节，或一周不同日子，甚至一天不同时间上下波动很大的一种需求状况。

根据上述定义，下列哪项属于不规则需求（ ）。

- A. 早晚高峰期出租车供不应求
- B. 某品牌牙刷分为软、硬、中三种以面向不同消费者
- C. 某电商店庆打折，活动当天点击量剧增
- D. 某博物馆引进一批梵高画作巡展，游客蜂拥而至

31.某市针对虚假促销的专项检查中，发现某商场将一套茶具加价4成再以8折出售，实际售价比原价还高24元。问这套茶具的原价是多少元？（ ）

- A. 100
- B. 150
- C. 200
- D. 250

32.运动会上100名运动员排成一列，从左向右依次编号为1—100，选出编号为3的倍数的运动员参加开幕式队列，而编号为5的倍数的运动员参加闭幕式队列。问题不参加开幕式又不参加闭幕式队列的运动员有多少人？（ ）

- A. 46
- B. 47
- C. 53
- D. 54

33.箱子里有大小相同的3种颜色玻璃珠各若干颗，每次从中摸出3颗为一组，问至少要摸出多少组，才能保证至少有2组玻璃珠的颜色组合是一样的？（ ）

- A. 11
- B. 15
- C. 18
- D. 21

34.根据国务院办公厅部分节假日安排的通知，某年8月份有22个工作日，那么当年的8月1日可能是：（ ）

- A. 周一或周三
- B. 周三或周日
- C. 周一或周四
- D. 周四或周日

35.师徒两人生产一种产品，每套产品由甲乙配件各1个组成。师傅每天生产150个甲配件或75个乙配件；徒弟每天生产60个甲配件或24个乙配件，师徒决定合作生产，并进行合理分工，则他们工作15天后最多能生产该种产品的套数为（ ）。

- A. 900
- B. 950
- C. 1000
- D. 1050

2013年12月26日，中国社科院和社会科学文献出版社共同发布的《社会蓝皮书》显示，2012年，我国城镇居民人均可支配收入达24565元，是1978年的11.5倍，年均增长

7.4%，农村居民人均纯收入达到 7917 元，是 1978 年的 11.8 倍，年均增长 7.5%，二者均为剔除价格因素影响后的数据。2013 年上半年，我国城镇居民人均可支配收入达到 13649.1 元；农村居民人均纯收入达到 4817.5 元。

从各地城镇居民人均可支配收入，农村居民人均纯收入看，2012 年，城镇居民和农村居民收入最高的均为上海，分别达到 40188 元和 17804 元，北京排名第二，城镇居民人均可支配收入为 36469 元，农村人均纯收入 16476 元。

从收入高低对比来看，2012 年，我国城乡居民高收入家庭(最高 20%收入家庭)人均收入为 43797.5 元；低收入家庭人均收入只有 1587.7 元。

根据城乡居民对 2014 年物价水平变化的调查数据显示，认为物价水平会有大幅度上涨的人数比重为 35.5%；认为物价会平稳上涨的人数比重为 48.3%；其他观点的人数比重为 16.2%。

36.2012 年，上海市城镇居民人均可支配收入与全国平均水平相差（ ）。

- A. 15633 元
- B. 15623 元
- C. 15613 元
- D. 15643 元

37.资料数据表明，2012 年北京城乡收入比为（ ）。

- A. 2.21: 1
- B. 1: 3.21
- C. 1: 2.21
- D. 3.21: 1

38.2012 年我国城乡居民高收入家庭人均年收入是低收入家庭的（ ）。

- A. 29.6 倍
- B. 28.6 倍
- C. 27.6 倍
- D. 30.6 倍

39.对 2014 年物价水平变化的调查数据显示，接近一半的居民认为（ ）。

- A. 物价会平稳上涨
- B. 物价会大幅度上涨
- C. 物价不会上涨
- D. 物价会涨跌起伏变化

40.下列说法正确的是（ ）。

- A. 从各地城乡居民人均收入来看，北京高于上海，在全国排名第一
- B. 1978-2012 年间，我国城乡居民人均收入年均增长低于 7%
- C. 大部分居民认为 2014 年物价保持不变
- D. 2012 年我国城乡居民高收入家庭人均年收入与低收入家庭相差 42209.8 元

第3天

- 关于离婚案件，下列说法错误的是：（ ）
 - 离婚案件的当事人可以委托诉讼代理人进行诉讼，本人非必要的情况下无需出庭
 - 判决不准离婚和调解和好的离婚案件，没有新情况、新理由的，原告六个月内又起诉的，不予受理
 - 当事人对已发生法律效力解除婚姻关系的判决、调解书，不得申请再审
 - 对调解和好的离婚案件，人民法院可以不制作调解书
- 民事诉讼法规定了人民法院许可，证人可以通过书面证言、视听传输技术或者视听资料等方式作证的若干情形，下列不属于这些情形的是：（ ）
 - 因健康原因不能出庭的
 - 因路途遥远、交通不便不能出庭的
 - 因经济困难不方便出庭的
 - 因自然灾害不能出庭的
- 下列有关艺术的说法错误的是：（ ）
 - 歌剧《图兰朵》中使用了中国民歌《茉莉花》的旋律
 - 古代“七音”是在“五音”基础上增加变宫、变徵
 - 《念奴娇·赤壁怀古》的作者是著名书法家
 - 顾恺之、吴道子和郑板桥都以人物画著称
- 下列历史事件与发生朝代对应错误的是：（ ）
 - 澶渊之盟——北宋
 - 马邑之谋——西汉
 - 白登之围——唐朝
 - 土木之变——明朝
- 下列观点与所属流派对应正确的是：（ ）
 - 不患寡而患不均，不患贫而患不安——儒家
 - 得道者多助，失道者寡助——兵家
 - 窃钩者诛，窃国者为诸侯——法家
 - 明主之国，无书简之文，以法为教；王先五之语，以吏为师——墨家
- 关于我国著名水系，下列说法正确的是：（ ）

- A. 黄河最终注入黄海
- B. 长江流经安徽和江西
- C. 澜沧江为东西走向
- D. 珠江发源于青藏高原

7. 下列关于运动的说法错误的是：（ ）

- A. 蝶泳在所有泳姿中最能锻炼腿部肌肉
- B. 杠铃卧推训练到的部位包括胸大肌
- C. 俯卧撑能锻炼到腰部及腹部肌肉
- D. 游泳对膝关节的损伤比长跑小

8. 对清朝边疆的管理不正确的是：（ ）

- A. 在西藏实行政教合一制度
- B. 在新疆设置伊犁将军
- C. 台湾在建省前归浙江省管
- D. 在内蒙古族聚居区实行盟旗制度

9. 关于水资源，错误的是：（ ）

- A. 地球上淡水资源的主体是冰川
- B. 水圈循环能够调节气温
- C. 水圈循环的主要动力是月球引力
- D. 湿地净水源具有“排毒”功能

10. 关于月相说法错误的是：（ ）

- A. 上弦月——七夕
- B. 新月——露似真珠月似弓
- C. 渐亏凸月——重阳节
- D. 满月——但愿人长久，千里共婵娟

11. 我国目前 600 多座城市中，有 2/3 的城市缺水。有的城市由于过度使用地下水，已出现城区部分地段塌陷的严重后果。这些城市的可持续发展形势已十分严峻，提高城市水利利用率已_____

- A. 迫在眉睫
- B. 时不我待
- C. 十万火急

D.千钧一发

12. 目前,不少大城市属于超载状态,“城市病”严重,而人口不断_____,许多小城市发展慢,甚至出现_____

A.增加 空置

B.迁移 停滞

C.涌入 萎缩

D.流动 退化

13 电子化阅读具有携带方便、容量较大、可选择范围广等优势,但是不少专家指出,利用(_____)间进行的阅读,获得的是碎片化信息,令读者进行_____思考。容易形成思维“惰性”。

A.短暂 冷静

B.闲暇 独立

C.业余 深入

D.零散 严谨

14. 当一个湮没个性、缺少选择的社会开始转向一个价值多元、选择多样的社会时,如果不能根据客观情况对法律法规进行适时地调整,只会将其推入_____之境,语言文字领域亦复如此,所以,此次异体、生僻字的“转正”值得_____

A. 被动 斟酌

B. 两难 珍视

C. 矛盾 反思

D. 尴尬 喝彩

15. 形式而方,引注被历史地赋予两种功能,即索引工具和道德标尺。引注以其标记技术直接显示所引内容的存在处所,方便人们_____,同时也有利于人们全面地把握所引内容的准确意义。另外,引注直观地表明作者对事实和前人劳动的_____,展示自己的道德人格。

A.搜索 认同

B.核实 尊重

C.理解 敬畏

D.查阅 关注

16. 目前社会上求职者众多,但大多不具备企业所需要的技能。很多地区和行业的人才

缺口仍非常大，对既有专业技能又有较强综合素质的人才需求量很大，这从一个侧面反映了目前人才培养模式单一，千人一面的现实。要破解这一困局，最佳的途径是，大学应适应时代的发展和要求，走个性化发展之路。

这段文字中的画线词“困局”指的是（）。

- A. 专业技能培养和综合能力培养无法兼顾的现实
- B. 大学专业设置的趋同化倾向
- C. 人才短缺与人力过剩并存的悖论
- D. 部分大学攀高、求大、求全的发展倾向

17. 大约在 5000 年以前，美索不达米亚平原上的人们已经命名了 20 多个星座。之后，古巴比伦人继续划分天空的区域，不断提出新的星座。公元前 1000 年左右，古巴比伦人提出了 30 个星座。后来，他们的星座划分方法传到古希腊人那里，又得到了进一步的发展和补充。公元 2 世纪的时候，古希腊天文学家托勒密总结当时的天文学成就，提出了 48 个星座，并编制了古希腊星座表。根据星座内的主要亮星位置，托勒密用假想的线条将它们连接起来。然后赋予其不同的人物或者动物形象。这些形象大都取材于古希腊的神话故事，这便是现在星座名称的由来。

这段文字主要是说明星座（）。

- A. 理念的传播路径
- B. 命名的主要依据
- C. 数量变化的过程
- D. 划分的发展过程

18. 开眼看世界，是中国在外来侵略压力下的被动反应，旨在了解西方，自立自强。但社会科学方面的知识，在政治上并非中性的。近代以来，西方在全球权力格局中的优越地位是以其经济军事实力和以全世界为研究对象而生产出来的知识体系共同支撑的。将这样的知识移植到中国来，并不等同于“开眼看世界”，因为其中描绘的世界图景是他人的眼睛观察的结果。现在，我们必须摆脱西方固有的模式，真正走出去，把全世界当作研究对象，真正用中国人的研究去看，去观察，去分析，从而生产出有中国主体性的知识。

这段文字意在强调（）。

- A. 近代中国放眼世界是无奈之举
- B. 保持立场的客观性关于国运
- C. 国人看世界应保持自身的主体性

D. 社会科学与政治权力密不可分

19. 当前，随着信息技术的发展和新的商业模式的出现，整个社会的交易成本不断降低，这一趋势深刻改变了社会的分工结构和生产组织形式，即使在较为封闭的汽车产业，整车企业、发动机企业也都在努力提高零部件的外部采购比例。从这个角度来看，乔布斯的伟大成就还在于创造了一个社会化分工程度很高、但交易成本极其低廉的商业模式。在这个商业模式中，几十万个中小企业作为独立的决策单位在苹果商店中销售数字产品，这些中小企业既保持了创新活力和生产效率，同时又为提高苹果产品的应用体验和竞争力作出了贡献。

下列说法与原文相符的是（ ）。

- A. 中小企业已经成为现代商业模式的主体
- B. 信息技术降低了中小企业参与社会分工的成本
- C. 现代生产技术激发了大型企业的创新能力
- D. 传统产业能够较快适应更为细化的社会分工

20. ①而在直接融资领域，改革的真正难题则在于这个市场的定位

②但受金融管制特别是利率管制的大环境影响，新主体的生存都成问题

③实际上，主体的多元化必须和利率市场化相配套才能达到效果

④目前，改革的重心主要放在了主体多元化上


⑤对于间接融资领域金融改革的目标而言，利率市场化和主体多元化是改革方向

⑥即以民营银行或者互联网银行的崛起来倒逼原有银行体系的改革

将以上 6 个句子重新排列，语序正确的是（ ）。

- A. ⑤④⑥②③①
- B. ⑤①③④⑥②
- C. ④⑥③⑤②①
- D. ④⑥②③⑤①

21. 从所给选项中，选择最合适的一个填入问号处，使之呈现一定的规律性（ ）。



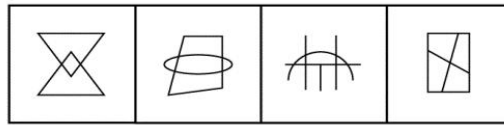
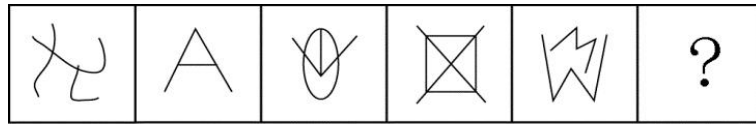
A

B

C

D

22. 从所给选项中，选择最合适的一个填入问号处，使之呈现一定的规律性（ ）。



A B C D

23. 只有当我能够做出其他选择时，我对我的行为才负有道德责任。一个人若无力避免某行为，就不应被认为对该行为负有道德责任。

因此，可以推断（ ）。

- A. 如果我对我的行为负有道德责任，那么我做出的行为是可以选择的
- B. 只要我能够做出其他选择，我就对我的行为负有道德责任
- C. 一个人如果能避免某种行为，那么，就应该认为他对该行为负有道德责任
- D. 一个人如果能做出行为选择，那么，某种行为就是他能避免的

24. 旅行社刚刚为三位旅客预定了飞机票。这三位旅客是荷兰人菲比、加拿大人艾托和英国人丹佛。他们三个人一个去荷兰、一个去加拿大、一个去英国。据悉菲比不打算去荷兰，丹佛不打算去英国，艾托既不去加拿大，也不去英国。

所以（ ）。

- A. 艾托去荷兰，丹佛去英国，菲比去加拿大
- B. 艾托去荷兰，丹佛去加拿大，菲比去去英国
- C. 艾托去英国，丹佛去荷兰，菲比去加拿大
- D. 艾托去加拿大，丹佛去英国，菲比去荷兰

25. 办张健身卡，请一名私人教练，这不再仅是成年人的时尚。“儿童健身”训练在南京悄然兴起。时尚的爸妈为孩子请个“私人健身教练”，量身定制健身方案。但是儿童私人健身教练并没有专业从业资格，大都从成人教练“转岗”，教学内容没有统一标准。有些教练使用不成熟的教学方法，反而使儿童的健康受到威胁，所以为儿童请私人教练弊大于利。

以下哪一项事例最能支持上述论证（ ）。

- A. 小红的父母为孩子选择了一对一的私人教练小正，这使得小红心理压力过大，对运动产生了恐惧
- B. 3~6 岁的孩子不适合做力量训练，所以教练小李选择了更适合儿童的柔韧性、灵敏性的训练

C. 教练小张向孩子解释萝卜跳是直腿跳，兔子跳是屈腿跳，引导孩子顺利完成了下肢爆发力的训练

D. 教练小强使用成人的健康理念和方法去训练儿童，超强运动量使得儿童健康受到影响

26. 有调查显示，国产品牌奶粉在一线城市的市场占有率仅有 2%，而洋奶粉占 98%。在退守二、三线市场的同时，很多国产奶粉欲海外贴牌自救，即国内企业海外注册品牌，实际将国产奶粉销回国内，给国产奶粉披上洋奶粉的外衣，不少企业认为，海外贴牌有可能为国产奶粉生存提供一线生机。

以下各项如果为真，最能反驳上述观点的是（ ）。

- A. 海外贴牌奶粉走高端路线，会与本土奶粉拉开价格距离
- B. 贴牌“洋奶粉”的外衣被揭穿之后会引发更大的信任危机
- C. 国产奶粉海外贴牌之后一线城市市场占有率可达 5%
- D. 海外贴牌之后奶粉制作工艺和质量并未改变

27. 家父：父亲

- A. 老妪：老伴
- B. 鼻祖：祖宗
- C. 作者：笔者
- D. 鄙人：自己

28. 食品业 对于（ ）相当于 赤潮 对于（ ）

- A. 重工业；气象
- B. 纺织业；自然灾害
- C. 小麦；海藻
- D. 轻工业；海洋灾害

29. 国际贸易按商品形式的不同，可分为有形贸易和无形贸易，有形贸易指的是买卖那些看得见，摸得着的物质性商品的活动；无形贸易指的是因劳务或其他非实物商品进出口而发生的收入与支出。

根据上述定义，以下哪项一定属于有形贸易（ ）。

- A. 2011 年，中国某国际货运集团营业收入 1031.13 亿元
- B. 2014 年上半年，中国液化天然气进口量 992.56 万吨，同比增长 19.06%
- C. 据统计，2014 年我国出境游破 1 亿人次，逆差超千亿美元
- D. 某公司《2010 年年度报告》显示，2010 年实现海外投资净利润 515.6 亿美元，全年全球投资收益率达到 11.7%

30. 侵权行为之债，是指行为人不法侵害他人财产权利或人身权利而使他人遭受损害时，行为人依法应对受害人承担责任，构成侵权行为之债。其构成要件包括：(1) 行为的违法性。

(2) 有损害事实的存在。(3) 侵权行为与损害事实之间有因果关系。(4) 行为人有过错。

根据上述定义, 下列行为可以产生侵权行为之债的是 ()。

A. 甲在乙银行自动取款机取款时, 自动取款机发生故障, 多给付 2000 元钱, 甲将这 2000 元据为己有

B. 甲将超过保质期的食品销售给乙, 致使乙食用后中毒住院

C. 甲见乙外出三天, 家中饲养的狗无人喂食, 于是给狗喂食了食品, 不料狗食用后过敏死亡

D. 甲有一件仿真青花瓷瓷器, 乙误以为是真品, 以高价向甲购得

31. 某单位实行无纸化办公, 本月比上个月少买了 5 包 A4 纸和 6 包 B5 纸, 共节省了 197 元。已知每包 A4 纸的价格比 B5 纸的贵 2 元, 并且本月用于购买 A4 纸和 B5 纸的费用相同 (大于 0 元)。那么该单位本月用于购买纸张的费用至少多少元? ()

A. 646

B. 520

C. 323

D. 197

32. 有一项工程, 甲, 乙, 丙分别用 10 天, 15 天, 12 天可独立完成。现三人合作, 在工作过程中, 乙休息了 5 天, 丙休息了 2 天, 甲一直坚持到工程结束, 则最后完成的天数是 ()。

A. 6

B. 9

C. 7

D. 8

33. 中午 12 点, 甲驾驶汽车从 A 地到 B 地办事, 行驶 1 小时, 走了总路程的 15%。此后甲的速度增加了 15 公里/小时, 又行驶了 30 分钟后, 距离 B 地还有 $\frac{3}{4}$ 的路程。此后甲的速度如果再增加 15 公里/小时, 问几点能到 B 地? ()

A. 16: 00

B. 16: 30

C. 17: 00

D. 17: 30

34. 有 8 人要在某学术报告会上作报告, 其中张和李希望被安排在前三个作报告, 王希望最后一个作报告, 赵不希望在前三个作报告, 其余 4 人没有要求。如果安排作报告顺序时要满足所有人的要求, 则共有多少种可能的报告序列? ()

A. 441

B. 484

C. 529

D. 576

35. 两个半径不同的圆柱形玻璃杯内盛有一定量的水, 甲杯的水位比乙杯高 5 厘米。甲杯底部沉着石块, 当石块被取出并放进乙杯沉没后, 乙杯的水位上来了 5 厘米, 并且

40.以下说法不正确的一项是（ ）。

- A. 2013年1-10月，轿车进口数量比出口数量略多
- B. 2013年1-10月，摩托车出口的平均单价同比有所下降
- C. 2013年1-10月，汽车整车的进出口数量同比都有所下降
- D. 2013年1-10月，摩托车累计出口数量比上年同期约增加了22万辆

第4天

1. 地球的北极上空经常出现极光，下列关于极光成因的正确说法是（ ）？

- A. 来自太阳的高能粒子在地磁作用下聚集到南北两极，并且与大气层中的粒子相撞产生了极光
- B. 在地球南北两极磁场活动异常活跃，磁场与大气层中的气体发生作用形成了色彩艳丽的极光
- C. 南北两极大气层比其他地区厚，折射太阳光线的能力很强，照射到南北极区的光线大部分被折射回去，形成了极光
- D. 地球南北两极气流活动活跃，气流与太阳光交互作用，摩擦放电形成了极光

2. “人的智力是按照人如何学会改造自然界而发展的。”这句话说明（ ）？

- A. 实践是认识的来源
- B. 实践是认识发展的动力
- C. 实践是认识的目的
- D. 实践是检验认识正确与否的标准

3. “从群众中来，到群众中去”的认识论依据是（ ）？【☆☆】

- A. 矛盾普遍性和特殊性的辩证统一原理
- B. 实践和认识的辩证统一原理
- C. 认识是在不断深化和发展的原理
- D. 感性认识和理性认识的辩证统一原理

4. 企业在市场竞争中，采用价格竞争是一种常用的手段。不过，近年来，不少企业不再单纯依靠价格竞争，而是注重通过提高产品质量和服务质量来进行市场竞争，这是因为（ ）？

- A. 价格因素对市场的影响逐渐减小
- B. 高质量的产品和服务可以给企业带来更高的效益
- C. 高质量的商品和服务是消费者购物的最佳选择

D. 价格竞争具有盲目性、自发性的弱点

5. 下列对循环经济理论理解错误的是（ ）？

A. 循环经济节约了资源，但制约着国内生产总值的提高

B. 发展循环经济有利于实现人的全面发展和社会的全面进步

C. 循环经济是转变经济增长方式的有效途径

D. 发展循环经济需要国家的宏观调控

6. 在中国历史上有一个雄才大略的皇帝，被称为“千古一帝”：（1）善于用人，不计较个人恩怨；（2）从谏如流，鼓励大臣犯颜直谏；（3）以历史为鉴，提出“以铜为镜，可以正衣冠；以古为镜，可以知兴替；以人为镜，可以明得失。”（4）知治国之本，把君民关系比喻为舟与水的关系，并且注重发展民族关系。他是（ ）？

A. 汉高祖刘邦

B. 唐太宗李世民

C. 宋太祖赵匡胤

D. 清圣祖康熙

7. “不以物喜，不以己悲”出自（ ）？【☆☆】

A. 《长恨歌》

B. 《水调歌头》

C. 《茅屋为秋风所破歌》

D. 《岳阳楼记》

8. 下列（ ）不是全国人民代表大会的职权（ ）？

A. 修改宪法

B. 解释宪法

C. 监督宪法的实施

D. 修改刑法

9. 宪法规定，宪法的修改由全国人民代表大会常务委员会或者五分之一以上的全国人民代表大会代表提议，并由全国人民代表大会以全体代表的（ ）以上的多数通过？

A. 三分之二

B. 二分之一

C. 三分之一

D. 五分之一

10. 在沙漠中生长的植物有些会长出针状叶，它的主要作用是（ ）？

A. 加速水分的蒸发

B. 减少水分的蒸发

C. 吸取地下水

D. 储存水分

11. 先驱者们深厚的学养和科学的态度，对_____当下学界弥漫着的浮泛学风，有着深刻的现实意义。他们严谨扎实的作风和科学求实的态度，永远也不会过时，仍然是当代比较文学研究者应当继承和学习的。但这绝不意味着，我们要重复前人的劳动，_____地重走

前人已经走过的道路。

- A.改正 按部就班
- B.矫正 如法炮制
- C.纠正 心安理得
- D.匡正 亦步亦趋

12. 中国人口占世界首位，但是大数据只是日本的 60%、北美的 7%，而且存下来的数据很多未得到保护。部门间的数据很难共享，导致数据不_____，重复投资。另外，我们缺乏可控的大数据分析，要在保护隐私的前提下，保证大数据能够共享，而不是对其进行_____。

- A.真实 改造
- B.全面 封锁
- C.完备 曝光
- D.准确 掩盖

13. 在我国逻辑哲学的研究刚刚起步时，人们致力于引进、学习西方逻辑哲学理论。因此，部分学者产生一种_____，似乎西方逻辑学的理论就是逻辑哲学的唯一真理。他们对待西方逻辑哲学理论不是采取批判的态度，去其糟粕，取其精华，并以之作为构建我国逻辑哲学的素材，而是全盘照搬，_____。

- A. 错觉 奉为圭臬
- B. 误解 肃然起敬
- C. 倾向 人云亦云
- D. 认识 顶礼膜拜

14.皮影戏是我国民间工艺美术与戏曲巧妙结合的独特艺术品种，某种程度上可以说是我国动画最早的表现形态。有人说，对于现在的孩子，皮影戏这门古老的艺术已经太_____。其实，皮影戏并没有因为历史的久远而_____，相反，皮影戏的幽默诙谐、简约古朴完全可以转换为颇具时尚气息的中国是卡通形象。

- A. 幼稚 不适时宜
- B. 晦涩 一成不变
- C. 遥远 老气横秋
- D. 落伍 每况愈下

15. 时尚快捷的三维（3D）打印技术余热未尽，更加让人的_____思维（4D）打印又

即将出现。除了拥有 3D 打印的“长宽高”立体三维结构，4D 打印还新增加了一个维度，叫做“时间”。这意味着，4D 打印出来的东西，不再只能以_____的形态存在，而是可以根据设定时间，在一定条件的触发下，自动发生形状的改变。不过，4D 打印技术非常复杂，目前仍处在_____期，主要的应用场景还是在实验室里。

- A.期待 稳定 探索
- B.惊叹 固定 概念
- C.折服 相同 开发
- D.意外 单一 构想

16.①但在浸满水的土壤或湖底沉积物中，氧气是稀缺的，在这种情况下有机物发生厌氧分解，并释放甲烷

②就和我们打开冰箱门一段时间后，食物解冻并且开始变质的过程一样

③湖下的甲烷分子随着水中气泡的逸出，冲破湖面，进入大气

④氧气促进细菌和真菌耗氧分解有机物，产生二氧化碳

⑤但当冰层融化，以前被固定起来的碳在微生物的作用下迅速分解，产生气体

⑥占地球陆地面积 20%的冻土带在地表下几十米内储存了约 9500 亿吨碳，这种由动植物遗骸经过上万年形成的碳，冻结在冰层下的众多冰湖之中，与空气隔绝

将以上 6 个句子重新排列，语序正确的是（）。

- A.②④①③⑥⑤
- B.③④⑤②⑥①
- C.④①⑥②③⑤
- D.⑥⑤②④①③

17.在所有的灵长类动物中，人类的智力无疑高居榜首，但在所有的灵长类动物中，也只有人类会为阿尔茨海默症所困。上海的研究小组日前发表论文指出，这两者可能密不可分。他们分析了 90 名祖先来自非洲、亚洲或欧洲的志愿者的基因组后发现，大约在距今 20 万到 5 万年间，与人类大脑发育相关的 6 个基因发生显著改变。这会增加神经元的连接性，令现代人演变得更聪明。然而，也正是这 6 个变异的基因，令阿尔茨海默症变得更复杂难解。

这段文字主要介绍（）。

- A.人类与其他灵长类动物的差别
- B.人类大脑发育的关键阶段
- C.现代人变聪明的原因

D.阿尔茨海默症与基因变异的关系

18.戏曲在宋代形成之后,许多类型都以“杂剧”命名,如宋杂剧、元杂剧等,它们虽然是纯粹的戏剧,但是表现手法依然是“杂”的。戏曲可以让观众听到悦耳的歌声、诙谐滑稽的笑话、声情并茂的说白,看到让人欣怡的舞蹈身段、高难度的武打杂技和神似于生活动作的表演,只不过是多种表演形式高度融合在一起罢了。由此可见, _____,可以说,这是戏曲发展的重要规律。

填入画横线部分最恰当的一句是()。

- A.戏曲一定要是民族的、传统的、多元的
- B.戏曲在形成和发展过程中融合了众多表演技艺的精华
- C.对待戏曲艺术,最好的态度就是允许其以多元化形态存在
- D.要使戏曲跟上历史前进的步伐,必须使之保持特性

19.与传统出版时代一样,出版社在数字出版时代依然是一个产品提供商、服务提供商的角色。但数字出版时代读者的需求日益个性化,出版社要想生存,就必须对读者的需求进行更细致的分析,出版更能满足读者需求的图书,提供更多样的产品。

这段文字意在强调()。

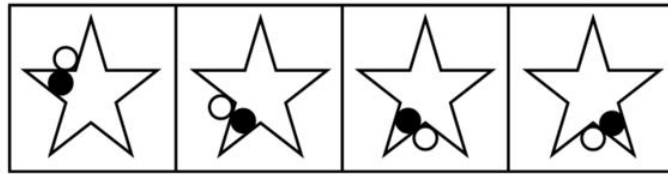
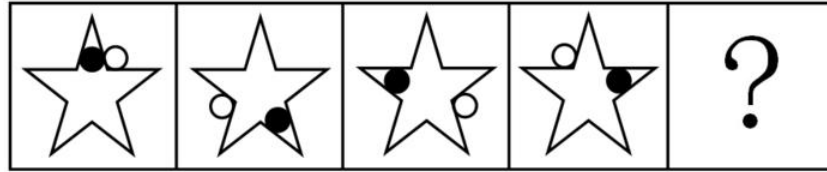
- A.出版社在数字出版时代的角色并未发生根本性改变
- B.适应读者需求开发多样化产品是出版社的生存之道
- C.图书数字化使得出版社的生存空间更为有限
- D.读者需求日益个性化是出版社面临的新挑战

20.我们不得不承认,今天是一个影像主导传播的时代。人们获取信息的渠道主要是四块屏幕——电脑、电视、电影和手机,它们主导了我们这个时代的感观系统,甚至决定着我们对这个世界的认知。如果我们不能利用视觉媒介有效地传播文化,还只停留在文字的地界内,也许就会被这个由视觉符号覆盖的时代所淘汰。

这段文字意在说明()。

- A.新媒体时代是由视觉符号覆盖的时代
- B.影像内容比文字更容易为人们所接受
- C.当代应更多地利用影像媒介传播文化
- D.当今人们获取信息的渠道更加多元化

21.从所给选项中,选择最合适的一个填入问号处,使之呈现一定的规律性()。



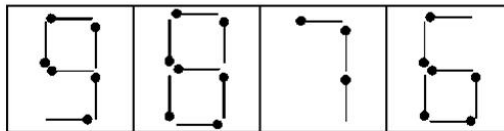
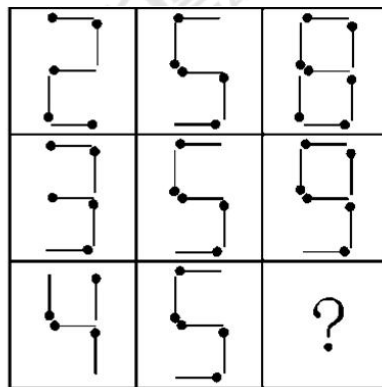
A

B

C

D

22. 从所给选项中，选择最合适的一个填入问号处，使之呈现一定的规律性（ ）。



A

B

C

D

23. 除非提升非洲国家的公共卫生能力，否则会严重的影响其社会稳定。只有社会稳定，非洲国家人民才能过上幸福安定的生活。

由此可以推出（ ）。

- A. 如果提升了公共卫生能力，那么非洲国家人民就会过上幸福安定的生活
- B. 只有不影响其社会稳定，非洲国家的公共卫生能力才能提升
- C. 如果非洲国家人民过上了幸福安定的生活，那么说明其社会稳定
- D. 如果社会稳定，那么一定能获得幸福安定的生活

24. 李老师、王老师、张老师在同一所大学教语文、数学和外语，按规定每人只担任其中一门课。而且：

- ①李老师上课全部用汉语。
- ②外语老师是该校一个学生的舅舅。

③张老师是女教师，她的女儿考大学之前，经常向数学老师请教。

请判定他们各自上的课程是（ ）。

- A. 李老师上语文，王老师上外语，张老师上数学
- B. 王老师上语文，李老师上外语，张老师上数学
- C. 张老师上语文，王老师上外语，李老师上数学
- D. 王老师上语文，张老师上外语，李老师上数学

25. 在一项实验中，研究人员要求 12 名男性志愿者每晚只睡 4 小时，持续两周。研究者检测了志愿者血液内的饥饿激素的含量，结果发现该激素的水平跃升了 28%。与此同时，另一种叫瘦素的激素则减少了 18%。瘦素的作用是向大脑发出不需要进食的信号从而抑制饥饿。研究者发现志愿者的饥饿程度平均提高了 23%。研究人员认为，睡眠不足可能会导致肥胖。

以下哪项如果为真，最能支持上述结论（ ）。

- A. 6~9 岁儿童每晚睡眠时间少于 10 小时，肥胖可能性会提高 1.5~2 倍
- B. 研究表明，肥胖的人群平均睡眠时间比体重正常的人群要高出许多
- C. 这 12 名男性志愿者在实验期间食欲没有表现出明显的变化
- D. 12 名志愿者在实验之前的若干天睡眠质量都不太好

26. 多年来，科学家通常认为，近视在很大程度上是源于基因。然而，最近一项针对视力正常的 8-9 岁儿童的追踪研究显示，5 年之后，唯一和儿童患近视呈显著相关的环境因素是儿童在户外待的时间，在户外待的时间较少的儿童患上近视的风险较高。由此研究者提出：在室内待的时间太长会增加儿童患近视的风险，多在室外活动有助于预防近视。

以下各项如果为真，哪项最能驳斥研究者的观点（ ）。

A. 在室内，眼球要努力将近距离图像聚焦在视网膜上，长期室内活动会影响眼球的生长，户外更远的视觉距离会防止近视的发生

B. 动物实验表明，和正常的室内光线相比，与户外光线相当的高照明度使实验导致的近视发生率减少了约 60%

- C. 人们的估算通常无法与儿童在户外待的时间准确匹配
- D. 随着年龄增长，儿童花在读书、学习或盯着电脑屏幕上的时间越来越多

27. 奏折：公文：官吏

- A. 里弄：胡同：街道 B. 学堂：书院：教授
- C. 绝句：诗歌：诗人 D. 庙宇：住宅：僧人

28. 蜥蜴：爬行类：爬行

- A. 翠鸟：飞翔：鸟类 B. 鲨鱼：鱼类：游动
C. 奔跑：羚羊：哺乳纲 D. 青蛙：两栖类：行走

29. 外观设计也被称为工业品外观设计，或者简称为工业设计。它是指关于产品的形状、图案、色彩或者其结合所提出的富有美感并适用于工业上应用的新设计。它具有以下几个特点：(1) 外观设计必须以具体的产品为依托。(2) 外观设计以产品的形状、图案和色彩等为要素，以美感目的为核心，而不去追求实用目的。(3) 外观设计必须适用于工业应用，这里所谓的工业应用就是指该外观设计可以通过工业手段大量复制。

根据上述定义，下列各项中属于外观设计的是（ ）。

- A. 设计师专为某世界知名品牌的珠宝设计的绿色三叶草形包装盒
B. 由某位画家手工绘制的花鸟图案的 T 恤衫
C. 5 名大学生设计的能同时供多人使用的乒乓球自动发球机
D. 某乐器制造厂设计并生产的以熊猫为造型的中国传统吹奏乐器——埙

30. 科技恐惧症又名技术恐慌，是指人们恐惧科学技术对社会和环境造成不良影响，认为某项或总体的科学技术是可怕的、不可控或反自然的，会带来巨大的污染、破坏美好生活、摧毁人际关系甚至毁灭全人类，应予以限制或者禁止。

根据上述定义，下列不属于“科技恐惧症”的是（ ）。

- A. 科学的发展如果没有伦理的控制和监督，可能带来破坏性的后果
B. 科学的发展会给自然环境带来巨大的破坏
C. 科学的发展具有不可控性，其中蕴含着很大的风险
D. 新的技术都具有一定的风险，应用失当就会危及人类的生存

31. 小伟参加英语考试，共 50 道题，满分为 100 分，得 60 分算及格。试卷评分标准为做对一道加 2 分。做错一道倒扣 2 分，结果小伟做完了全部试题但没及格。他发现，如果他少做错两道题就刚好及格了。问小伟做对了几道题？（ ）

- A. 32 B. 34
C. 36 D. 38

32. 2014 年某种中药材的价格是 17.3 元/公斤，2015 年药农老黄的该种药材预计产量比上年增加 25%，总收入预计能比上年增加 50%，老黄决定将药材存放到 2016 年再销售，如 2016 年该种中药材的价格涨幅与 2015 年相同，那么预计老黄销售这批药材的收入能比 2014 年中销售该种药材的收入增加：（ ）

A. 60% B. 80%

C. 100% D. 120%

33.商场里某商品成本上涨了 20%，售价只上涨了 10%，毛利率（利润/进货价）比以前的下降了 10 个百分点。问原来的毛利率是多少？（ ）

A. 10%

B. 20%

C. 30%

D. 40%

34.政府购买了 50 台收割机，欲分给 6 个村庄。一个村庄先拿走了总台数的 20%，另外一个村庄又拿走了剩下的 30%。问剩下的四个村庄中，每个村庄得到的台数不同，则分的最多的村庄可以得到多少台收割机？（ ）

A. 16

B. 18

C. 20

D. 22

35.小王在每周的周一和周三值夜班，某月他共值夜班 10 次，则下月他第一次值夜班可能是几号？（ ）

A. 2

B. 3

C. 4

D. 5

2013 年，某省工业企业全年实现主营业务收入 37864 亿元、税金 1680 亿元，利润 2080 亿元，分别增长 19.1%、19.4%、26.4%，分别高出全国 7.9、8.4、14.2 个百分点。该省工业企业主营业务收入占全国工业的 3.7%，比上年提高 0.3 个百分点。百户重点企业主营业务收入、税金、利润分别增长 10.2%、11.1%、20.8%，分别占全省工业的 29.5%、51%、27.6%。

2013 年，汽车行业实现主营业务收入 4538 亿元，增长 23.1%；实现利润 416.6 亿元，增长 19.9%；税金 225.3 亿元，增长 50%。销售利润率（利润占主营业务收入的比重）攀升至 9.2%。

食品（含烟草）实现主营业务收入 6359 亿元，增长 20.8%，增速同比放缓 9.2 个百分点，实现利润 398 亿元，增长 34.5%；工业税金 506.2 亿元，增长 11.4%。

钢铁行业实现主营业务收入 3510 亿元，增长 1.8%，利润总额 34.6 亿元，增长 18.8%，行业销售利润率仅 1%。

石化行业主营业务收入 5138 亿元，增长 18.8%；实现利润 204.2 亿元，增长 38.1%。子行业中，石油加工业净亏损 0.2 亿元，同比减亏 13.6 亿元；化工行业全年利润增长 31.6%，扭转上半年利润下降局面；石油开采业净亏损 8.6 亿元，橡胶塑料行业利润增长 29.1%。

建材行业实现主营业务收入 2412 亿元，增长 27.1%；实现利润 167.2 亿元，增长 51.6%。

机械行业实现主营业务收入 3886 亿元，增长 26.6%；实现利润 191.6 亿元，增长 23.8%。

其中，电气机械(家电)利润增长 38.5%，专用设备利润增长 22.1%，船舶行业利润增长 18.9%。

36.2013 年全国工业企业主营业务收入约为多少万亿元？（ ）

- A. 84
- B. 90
- C. 97
- D. 102

37.2013 年全国工业企业的税金增速比利润增速（ ）。

- A. 低 1.2 个百分点
- B. 低 5.8 个百分点
- C. 高 7.0 个百分点
- D. 高 8.4 个百分点

38.2013 年该省工业企业的哪项信息，能够从上述资料中直接推出？（ ）

- A. 工业企业利润占全国工业企业利润总额的比重
- B. 船舶行业主营业务收入占机械行业的比重
- C. 橡胶塑料行业工业企业实现利润额
- D. 百户重点企业的总体销售利润率

39.2013 年该省以下行业利润增速从高到低排序正确的是（ ）。

- A. 石化行业，建材行业，机械行业
- B. 建材行业，石化行业，机械行业
- C. 汽车行业，食品（含烟草）行业，钢铁行业
- D. 食品（含烟草）行业，钢铁行业，汽车行业

40.能够从上述资料中推出的是（ ）。

- A. 2012 年该省食品（含烟草）行业主营业务收入同比增速 11.6%
- B. 2012 年该省工业企业税金总额中，汽车行业所占比重超过 15%
- C. 2013 年该省建材行业的销售利润率高于 2012 年水平
- D. 2012 年该省石油加工业净亏损 13.4 亿元

第 5 天

1. 伊通满族自治县位于吉林省（ ）？

- A. 西部
- B. 南部

- C. 北部
D. 东部
2. 哲学是（ ）？
- A. 系统化和理论化的世界观
B. 自然界的知识体系
C. 社会和人的精神世界在内的世界观
D. 自发的世界观
3. 实践作为检验真理的标准，既是确定的又是不确定的，其不确定性是因为（ ）？
- A. 有些真理无需经过实践来检验
B. 任何实践检验都需要一定的逻辑证明为补充手段
C. 作为检验真理标准的社会实践总要受到历史条件的限制
D. 不同的人、不同的阶级各有不同的实践标准
4. “地球不是我们从父辈那里继承来的，而是我们从后代那儿借来的”，这句话体现的辩证法原理是（ ）？
- A. 要用联系和发展的观点分析和处理问题
B. 要重视量变，积极促成质变
C. 要充分发挥认识对实践的指导作用
D. 要坚持矛盾普遍性和特殊性的统一
5. 以下称其为低碳经济的做法是（ ）？
- A. 秸秆粉碎沤沼+沼渣肥田+反哺农田作物
B. 发电厂对煤炭燃烧后产生的气体进行脱硫
C. 许多废弃物不填埋或焚烧，而是回收利用
D. 采用空气源热能或者地下水循环调节室温
6. 上海世博会门票基准价为 160 元人民币，为了平衡参观人流量，票价根据不同的时间、不同的人群以基准价为基础上下浮动，其中最便宜的票价仅为 90 元人民币。这里所说的“160 元人民币”是（ ）？
- A. 流通手段
B. 价值尺度
C. 支付手段
D. 一般等价物
7. “四书五经”中的“四书”是指（ ）？
- A. 大学、中庸、论语、孟子
B. 大学、中庸、论语、史记
C. 大学、论语、孟子、史记
D. 论语、孟子、中庸、史记
8. “路漫漫其修远兮，吾将上下而求索”，这一诗句表达了伟大诗人屈原（ ）？
- A. 坚定执著的探求精神
B. 对国家、人民命运的关心

C. 遭受冤屈后的愤怒之情 D. 两次被流放的痛苦之情

9. 消费者的合法权益因虚假广告而受到损害的, 在()情况下, 广告的经营者的应当承担赔偿责任()?

- A. 广告的经营者的发布虚假广告的
- B. 广告的经营者的明知广告存在虚假成分仍予以发布的
- C. 广告的经营者的不能提供经营者的真实名称、地址的
- D. 广告的经营者的向虚假广告的经营者的收取广告费用的

10. 根据相关法律, 在我国下列不具有民事权利能力的是()? 【☆☆】

- A. 胎儿
- B. 精神病人
- C. 未成年人
- D. 服刑人员

11. 和谐和秩序是宇宙的美, 也是人生美的基础。达到这种“美”的道路, 在亚里士多德看来就是“执中”、“中庸”。但是中庸之道并不是庸俗一流, 并不是依违两可、苟且的折中, 乃是一种不偏不倚的毅力、综合的意志, 力求取法乎上、圆满地实现个性中的一切而得和谐。所以中庸是“善的极锋”, 而不是善与恶的中间物。

对这段文字主旨概括最准确的是()

- A. 中庸是和谐与秩序的宇宙之美
- B. 不偏不倚的综合才能通向中庸之境
- C. 中庸追求“善”, 是实现和谐之手段
- D. 中庸要取法乎上, 实现个性中的一切

12. 在大萧条时期, 黄金散发着安全投资品的迷人光芒, 但随着近年来全球经济的整体提升, 黄金的迷人气质已消散得无影无踪。在 2008 年金融危机之前黄金在市场上的实际表现一直比危机期间和危机之后更好。危机期间, 各国央行纷纷采取宽松的货币政策, 导致流动性泛滥, 黄金本该吸引到更多的避险资金, 但实际上, 黄金价格增长幅度和速度远不如危机之前。

对这段文字主旨概括最准确的是()

- A. 黄金是经济不景气时期的保值产品
- B. 黄金市场的冷热与好坏无关
- C. 投资黄金的有利时期未必是经济萧条期
- D. 黄金最佳安全投资品的地位有待商榷

13. 作为美国的传统战略对手, 俄罗斯虽然 77% 的领土都在亚洲, 但俄罗斯在亚太地区并未获得与其大国地位相称的身份和作用。如果美国在亚太一家独大, 势必全方位挤压俄罗

斯在该区域的影响力和发言权。作为未来的世界中心地带，一旦俄罗斯在亚太遭遇边缘化命运，将给其复兴计划带来无可估量的损失。俄罗斯正借举办 APEC 会议趁机带动远东地区的经济发展，并将俄罗斯的战略中心转移至亚太。

对这段文字主旨概括最准确的是（ ）

- A. 美国在亚太的势力挤压俄罗斯在该地区的影响
- B. 俄罗斯在亚太地区会遭到边缘化的命运
- C. APEC 会议的举办将实现俄大国复兴计划
- D. 俄罗斯欲借 APEC 会议实现其战略中心的转移

14. 有专家指出，传统社会里，人际交往主要在血缘与地缘的基础上展开，其特征为熟人信任，人们彼此信任的保障机制主要是熟人关系加上人品和声望等。随着传统社会向现代社会转型，工业化进程和城镇化脚步加快，人际交往范围进一步扩展，人们更多的是面对陌生人世界，传统社会信任机制所依赖的关系、声誉等因素，已经无法支撑现代社会的信任保障机制。于是，传统的信任保障模式逐渐失效，而现代的信任保障模式尚未完全建立，在此交汇期间，当代社会的信任保障机制呈现出相对薄弱的状态。

这段文字主要讨论的是（ ）

- A. 传统社会与现代社会的不同
- B. 当前社会出现信任危机的原因
- C. 建立社会信任保障机制的思路
- D. 现代社会信任保障机制的特点

15. 阅读能够让我们看到一个更加立体的世界。正如美国文化人类学者哈维兰所说：“好的阅读对于心灵就像优质的眼镜对于眼睛一样，它可以使你看到生活的细微之处”。我们看到的世界总是受到许多因素的制约，阅读，就是帮助我们看世界的眼镜，也是帮助我们看自己的镜子。读基辛格的新著，我们就理解了为什么世界秩序“永远需要克制、力量和合法性三者间的微妙平衡”。读弗洛伊德的著作，我们就发现了人其实有三个“我”：本我、自我与超我。走进伟大的著作，如与大师面对面，借他们的慧眼更好地发现世界的奥妙，这正是阅读的魅力所在。

这段文字主要表达的是（ ）

- A. 阅读让我们更加了解世界
- B. 我们要多阅读才能更加了解自己
- C. 阅读是帮助我们看清世界的优质眼镜

D.阅读的魅力在于拥有许多伟大的著作

16.互联网时代的到来，给人类社会带来了前所未有的变化。这些变化看似纷繁复杂，但其现象背后的内在关联却相对清晰。最近，据国外媒体报道，作为纸媒巨头的纽报集团首席执行官马克·汤普森正在向作为互联网公司代表的 Netflix 学习，以试图使得纽约时报集团这家传统的纸媒发行商转型成为一家互联网公司。一石激起千层浪，传统内容提供者向新兴内容提供者的转型，预示着新兴传播形态的强势影响正在逐步固化。

作者通过这段文字意在强调（ ）

- A.互联网时代给人类带来了前所未有的变化
- B.传统纸媒向新兴内容提供者转型是大势所趋
- C.纽约时报正试图成为一家互联网公司
- D.互联网时代冲击下各种现象背后是内在关联的

17.“奥赛罗”的故事是一个简单的英雄与爱情的故事，莎士比亚用近乎白描的笔法，将它写成了一出具有典型意义的社会悲剧，一个意大利题材反映英国社会现实的悲剧，威尔第创作的歌剧《奥赛罗》，则放在了更广阔的领域，华幕背后，种族、性别、爱情、婚姻、时代，已褪色为旧日的暗影，人性的冲突则从历史的纠缠中浮现出来，升腾出天地的英气和张力。

这段文字意在说明（ ）

- A.“奥赛罗”的故事是一个简单的英雄与爱情的故事
- B.莎士比亚用白描手法写作“奥赛罗”这个社会悲剧
- C.莎士比亚和威尔第创作“奥赛罗”方法各不相同
- D.人性的冲突是威尔第创作《奥赛罗》突出的重点

18.在我们这个时代，连载小说早已让位给电视连续剧了。回想起来，连载小说是在古典的戏曲时代与晚近的电视剧时代之间，争得了一段小说的黄金时代；从更广阔的背景上说，则是报纸在古典的口头传播与晚近的视觉传播之间，争得了一段报业的黄金时代。连载小说的黄金时代，已随着报纸的黄金时代一同随风而逝了。

这段文字意在说明（ ）

- A.电视连续剧如今已经取代连载小说的地位
- B.连载小说曾经争得过一段小说的黄金时代
- C.连载小说随着报纸黄金时代的过去而没落
- D.报纸曾经有过一段很辉煌的报业黄金时代

19.目前俄罗斯与西方关系的改善已经十分明显，而中俄关系却继续着单纯依靠高层战略来维系的状态。虽然在普京最近这次访华期间中俄达成一系列大项目合作，使得两国可以弥补经贸和投资短板，但由于这种合作的基础仍是高层战略维系而非更加坚实的民间经贸和投资往来，所以它能在多大程度上夯实中俄关系，仍有待观察。

上述文字，作者意在表明（ ）

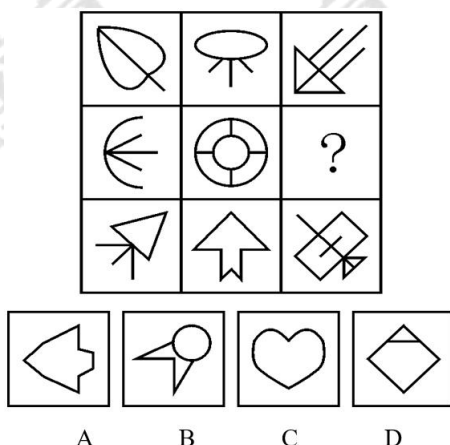
- A.俄罗斯与西方国家关系改善十分明显
- B.普京访华达成的大项目合作表明中俄关系密切
- C.民间经贸和投资往来才是中俄关系的根基所在
- D.中俄关系发展势头不如俄罗斯和西方关系发展

20.陆游的七律是第一流的，甚至有人誉为“古今七律第一”，但他的诗作存世的几近万首，有人批评他自我重复的成分较多。其实，试读任何一位大诗人的全集，就能感觉到不论李白或杜甫，不论苏轼或黄庭坚，即便自我重复不多但精彩绝伦的杰作仍是少数，多数作品也不过“泯然众人”而已。

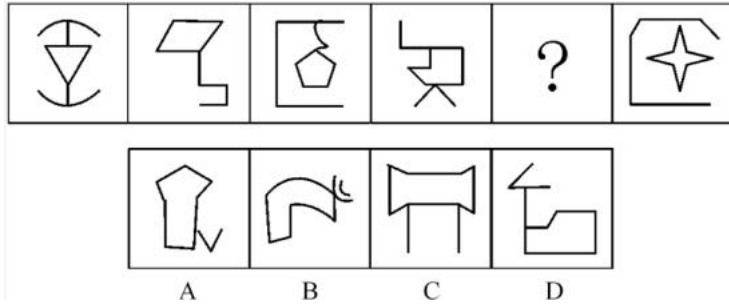
根据这段话，我们可以得出的结论是（ ）

- A.文学大师的作品都有瑕疵之处
- B.文学大师的作品自我重复的多
- C.文学大师的作品未必都是杰作
- D.文学大师传世之作都非常的多

21. 从所给选项中，选择最合适的一个填入问号处，使之呈现一定的规律性（ ）。



22. 从所给选项中，选择最合适的一个填入问号处，使之呈现一定的规律性（ ）。



23. 某机构决定从五位业务骨干中选派一人到国外学习，这五位骨干分别是赵、钱、孙、李、周。在决定选派人选之前有如下对话：

赵说：或者是我去，或者是孙去；

钱说：周不去；

孙说：如果不是李去，那么就是钱去；

李说：既不是我去，也不是钱去；

周说：既不是孙去，也不是赵去；

最终确定人选后发现以上对话中只有两个人说对了，那么被选中的是（ ）。

- A. 赵 B. 钱
C. 周 D. 李

24. 最近上映了一部很受欢迎的电影，小刘购买了4张座位连在一起的电影票，邀请小马、小杨、小廖一同去观看。四人各自随机拿了一张电影票，此时他们分别猜了一下座位情况：

小刘说：“我好像是坐在小马旁边。”

小马说：“我的左手边不是小刘就是小杨。”

小杨说：“我肯定是坐在小廖旁边。”

小廖说：“小刘应该是坐在我的左手边。”

假如他们四人都猜错了，那么他们面向银幕从左到右的正确座位可能是（ ）。

- A. 小廖、小马、小杨、小刘
B. 小刘、小杨、小廖、小马
C. 小马、小廖、小杨、小刘
D. 小杨、小刘、小廖、小马

25. 研究证明，吸烟所产生烟雾中的主要成分丙烯醛，是眼睛健康的“慢性杀手”，而橄榄油提取物羟基酪醇，能有效减缓这个“慢性杀手”给眼睛带来的伤害。由此得出结论，常吃

橄榄油能够让吸烟者眼睛远离伤害。

以下如果为真，最能支持上述论证的是（ ）。

- A. 羟基酪醇易于被人体吸收
- B. 橄榄油含有其他有益于人体的物质
- C. 常吃橄榄油的人视力优于不经常吃的人
- D. 烟雾中还含有其他对视力有伤害的物质

26. “地球一小时”是世界自然基金会应对全球气候变化所提出的一项倡议，希望家庭及商户在每年3月的最后一个星期六20:30~21:30期间熄灯1小时。“地球一小时”能减少的用电量主要来自照明用电。据统计，照明用电量约占用电总量的12%，其中只有部分用户参与熄灯活动。因此，在活动中减少的电能消耗量是微乎其微的。有市民据此认为，“地球一小时”并没有取得什么实际的效果。

以下哪项如果为真，最能质疑上述市民的看法（ ）。

- A. 每年“地球一小时”活动所节省的用电量可供一个大型城市用电三天
- B. “地球一小时”造成短时间内用电骤减，给电网管理带来困难
- C. 尽管现在参与活动的人数有限，但是将来参与人员的比例会越来越大
- D. “地球一小时”的目的是呼吁人们节约能源，保护地球

27. () 对于 句子 相当于 纸张 对于 ()

- A. 推理；书柜
- B. 判断；书评
- C. 词语；书本
- D. 概念；书稿

28. 黑匣子：飞机

- A. 防护栏：工厂
- B. 集装箱：货轮
- C. 超新星：太空
- D. 记录仪：汽车

29. 拈连是一种修辞手法，是指在叙述甲、乙两个关联的事物时，把适用于甲事物的词语临时用于乙事物的一种修辞格。它使语言生动形象、寓意深刻、富于表现力，同时又巧妙地连接上下文，完成语义跳跃，具有简洁、明快、使语句连贯的功效。

根据上述定义，下列**使用了**拈连这一修辞手法的是（ ）。

- A. 赶超，关键是时间，时间就是生命，时间就是速度，时间就是力量
- B. 春风杨柳万千条，六亿神州尽舜尧
- C. 你别看我耳朵聋，可我的心不聋
- D. 花白胡子坐在墙角里吸旱烟

30. 静脉产业指运用先进的技术，将生产和消费过程中产生的废物转化为可重新利用的资源和产品，实现各类废物的再利用和资源化的产业，如同人体血液循环中的静脉一样。

下列**不属于**静脉产业的是（ ）。

A. 某企业用“资源—产品—废弃物”的经济模式开采原生自然资源，并注重资源利用，关注经济系统对自然生态系统的影响

B. 德国的绿点公司负责社区黄色垃圾箱和垃圾袋中垃圾的收集、分类、回收和再利用，处理费用由获得“绿点”标志认证的企业或销售商支付

C. 某企业规定，生产者对其产品的整个生命周期负责，并明确废弃物的管理原则，避免产生—循环使用—最终处置

D. 当今，世界发展遇到两个共同难题：垃圾过剩和资源短缺。变废为宝是解决的有效途径，如某企业利用花生壳生产夹板作为建材，具有较好的抗震效果

31.某地区的邮政编码可用 AABCCD 表示，已知这六个数字的和是 11，A 与 D 的和乘以 A 等于 B，D 是最小自然数。这个邮政编码是多少？（ ）

A. 334001

B. 326000

C. 226001

D. 236000

32.某委员会有成员 465 人，对 2 个提案进行表决，要求必须对 2 个提案分别提出赞成或反对意见。其中赞成第一个提案的有 364 人，赞成第二个提案的有 392 人，两个提案都反对的有 17 人。问赞成第一个提案且反对第二个提案的有几人？（ ）

A. 56 人 B. 67 人

C. 83 人 D. 84 人

33.用直线切割一个有限平面，后一条直线与此前每条直线都要产生新的交点，第 1 条直线将平面分成 2 块，第 2 条直线将平面分成 4 块。第 3 条直线将平面分成 7 块，按此规律将平面分为 22 块需（ ）。

A. 7 条直线

B. 8 条直线

C. 9 条直线

D. 6 条直线

34.一个人骑车去工厂上班。他从家出发，用 30 分钟骑行一半的路程后，他加快了速度，以每分钟比原来快 50 米的速度，又骑行了 10 分钟，这时发现距离工厂还有 2 千米。那么他从家到工厂之间的距离为（ ）千米。

A. 6

B. 7.5

C. 8

D. 8.5

35.某城市的机动车车牌号由大写英文字母和 0-9 十个数字组成，共五位，若交通局规定第一位必须是字母，其余位均为数字，请你计算尾号是 0 的机动车车牌号有多少个？

()

A. 3120

B. 25480

C. 26000

D. 131040

2014 年 1-5 月，我国软件和信息技术服务业实现软件业务收入约 13254 亿元，同比增长 20.9%，比去年同期回落 3.3 个百分点。其中，软件产品完成收入 4141 亿元，信息系统集成服务完成收入 2649.3 亿元，信息技术咨询服务完成收入 1399.2 亿元，数据处理和运营服务完成收入 2429.5 亿元，嵌入式系统软件完成收入 2230.3 亿元，IC 设计完成收入 405.1 亿元。

2014 年 1-5 月副省级城市软件和信息技术服务业部分软件业务收入情况（单位：亿元）

城市名称	信息技术咨询服务收入		数据处理和运营服务收入		嵌入式系统软件收入		IC 设计收入	
	本期累计	同比增长 (%)	本期累计	同比增长 (%)	本期累计	同比增长 (%)	本期累计	同比增长 (%)
大连	130.51	22.2	133.48	24.7	52.20	16.2	2.37	19.0
宁波	2.97	20.5	11.78	28.8	29.94	16.0	2.25	21.7
厦门	53.35	28.3	35.82	29.2	38.60	18.9	8.56	41.8
青岛	63.26	39.5	56.44	41.0	166.03	38.7	9.51	43.3
深圳	24.40	27.3	206.84	28.3	472.19	17.4	6.95	11.6
沈阳	73.03	19.9	83.73	2.2	84.42	24.4	10.20	17.2
长春	0.89	20.1	2.70	21.7	10.15	21.4	0.03	20.7
哈尔滨	3.02	10.1	2.09	21.8	3.36	16.2	0.19	17.0
南京	100.30	21.8	130.90	37.5	154.50	14.9	12.30	3.3
杭州	13.09	35.7	258.28	53.3	164.78	17.5	8.06	10.6
济南	112.54	20.3	74.01	33.3	28.08	11.9	0.10	34.9
武汉	36.68	33.1	60.34	34.2	45.93	32.1	1.20	20.4
广州	178.67	18.1	209.64	16.1	14.05	21.3	13.74	22.1
成都	59.62	28.5	190.57	8.4	3.60	8.7	18.87	12.9
西安	84.22	32.7	14.37	33.3	32.28	26.0	14.25	26.5
合计	936.56	24.2	1470.98	28.0	1300.11	20.5	108.60	19.1

36.2014 年 1~5 月，表中四项软件业务收入之和最高的东北地区副省级城市是 ()。

A. 大连

B. 长春

4. 理论与实践相结合，是做好各项工作的基本原则。下列正确体现这个原则的选项有（ ）？

- A. 埋头实践，认为学习理论是不务实
- B. 专心读书，认为实践会干扰对理论的正确理解
- C. 在重视理论学习、书本学习的同时，又积极参加实践，用理论解决实际问题
- D. 读书是读书，实践是实践，所学理论与具体实践相脱节

5. 下列经济指标当中，用来综合考察居民内部收入分配差异状况的是（ ）？

- A. 恩格尔系数
- B. 基尼系数
- C. 勒纳指数
- D. 纳斯达克指数

6. 下列属于积极货币政策的是（ ）？

- A. 提高存款准备金率
- B. 提高法定利率
- C. 提高税率
- D. 降低存款准备金率

7. 目前，世界并列的三大盛会（ ）？

- A. 世界博览会、奥林匹克运动会和世界杯足球赛
- B. 世界图书博览会、世界园艺博览会和世界杯足球赛
- C. 冬季奥林匹克运动会、世界博览会、联合国大会
- D. 联合国大会、奥林匹克运动会、世界博览会

8. 甲患有梦游症，一天夜里在梦游时将其同宿舍的室友乙杀死，早上醒来后见状大惊，随即报案，此案中，甲的行为（ ）？

- A. 构成故意杀人罪
- B. 构成过失杀人罪
- C. 是睡梦中的无意行为不负刑事责任
- D. 是受到精神强制下的行为不负刑事责任

9. 胡某于某日晚潜入本厂财务科办公室行窃，当他将事先配好的保险柜钥匙接触保险柜时，慑于法律的威力，他离开了现场，其实他所要打开的保险柜没有任何物品，胡某的行为（ ）？

- A. 不认为是犯罪
- B. 属于犯罪中止
- C. 属于犯罪未遂
- D. 属于犯罪预备

10. 3D 是 Three-dimensional 的缩写，意为三维。3D 电视利用某一原理，把左右眼看到的影像分离，从而使观看者看到三维立体影像。这一原理是（ ）？

- A. 人双眼观察物体的角度相同，因此能够辨别物体远近，产生立体视觉
- B. 人双眼观察物体的角度略有差异，因此能够辨别物体远近，产生立体视觉
- C. 人双眼观察物体的角度差异很大，因此能够辨别物体远近，产生立体视觉
- D. 人双眼观察物体的角度相反，因此能够辨别物体远近，产生立体视觉

11. 随着时代的发展，当前我们的家庭结构正逐步发生着由双职工家庭向全职主妇制的转变。探究背后的原因，一方面，在大城市乃至特大城市，保姆服务的价格正逐年水涨船高。国内消费传统人口红利的时代已经过去，一旦妈妈们的收入低于或者比雇佣保姆的花费多不了多少，很多人难免选择离开职场，回归家庭，成为全职妈妈。再说，与其花高价请来阿姨，还要提心吊胆地担心其是否靠谱，还不如辞职在家自己带娃。另一方面，则是隔代抚养模式正发生着转变。许多高知群体家庭并不能接受隔代抚养的模式。与此同时，如今很多老人也想拥有自己的晚年生活，旅旅游、散散心，不愿“退而不休”，才退休下岗又要带孩子“上岗”。

这段文字主要谈论的是（ ）

- A. 双职工家庭结构衰落的表现
- B. 隔代抚养模式存在诸多弊端
- C. 保姆服务费用过高对家庭结构的影响
- D. 全职主妇制家庭结构的形成原因

12. 我们每个人都应该有这样的生活态度：如果你赋予了工作意义，不论工作轻重，你都会感到快乐，自我设定的成绩不论高低，都会使人对工作产生乐趣。如果你不喜欢做的话，任何简单的事都会变得困难、无趣，当你叫喊着这个工作很累人时，即使你不卖力气，你也会感到精疲力竭，反之就大不相同。如果你视工作作为一种乐趣，人生就是天堂；如果你视工作作为一种负担，人生就是地狱。

对这段文字概括最恰当的一项是（ ）

- A. 人们应该选择做自己感兴趣的工作
- B. 在工作中找到乐趣会让生活变得美好
- C. 在工作时设定奋斗目标会使工作变得有趣
- D. 人在做自怀不喜欢的工作时很容易疲劳和厌烦

13.私募的“钱途”在于退出。私募基金有一个好退路，才能安分守己。眼下，中国本土有 130 亿私募等待退出。一般情况下，IPO（公开募股）是私募退出的最佳选择。由于上市退出回报率最高，私募自然会将 IPO 奉为神灵。从政府角度，可以通过适当降低上市标准，改审核制为注册制等方式降低 IPO 门槛。还可以通过大力培育和发展产权交易市场，实现私募资金的退出。

这段文字旨在说明（ ）

- A.政府应完善私募基金的退出机制
- B.私募基金的退出是当前亟待解决的问题
- C.IPO（公开募股）是私募退出的首要选择
- D.大力培育和发展产权交易市场是私募退出的途径

14.常常被感动而充满激情的人是有福的。我或许属于其中之一。故我想，感动是由于我深爱着世上一切美好的事物，甚至比别人更留意也更钟情于它们。而这些美好的事物也仿佛是我的朋友和亲人。也同样爱着、留意着、钟情着我。每次小小的感动都会洗净我灵魂中某个小小的斑点和污渍，每一次深深的感动都有可能斩断我性情中某一段深深的劣根。日复一日，年复一年，感动使我的内心变得清洁、明亮，丰富而又宽敞，使我面对每一轮崭新的日出都能赢得一个全新的自我。

这段文字主要告诉我们（ ）

- A.人应该有不断完善自我的意识
- B.充满爱的人才有可能获得幸福
- C.提升人格境界需要持之以恒
- D.人应该对美好事物充满感情

15.对“什么是优良的政治生活？”以及“如何实现优良的政治生活？”这两个问题作出鲜明的回答是政治哲学得以存在的合法性依据。作为西方早期马克思主义的代表，在“是”的向度上，葛兰西的回答尊奉了马克思的基本路径，即只有实现了人的全面而自由解放了的政治生活才是最优良的政治生活；而在“如何”的向度上，葛兰西从西欧的实际情况出发，提出了文化霸权的路径。

对这段文字概括最恰当的是（ ）

- A.葛兰西政治哲学的基本内容
- B.葛兰西政治哲学是早期马克思主义的代表
- C.葛兰西政治哲学对马克思主义传承、丰富和发展

D.政治哲学不仅要有好的规划，还要有实现的方法

16.西方国家有关幸福的研究往往深度不够，而且所开出的药方也没有什么效果。相反，中国的古老哲学和智慧，所指出的方法其实很有效。两千多年前的老子在他的《道德经》当中就告诉我们，“人法地、地法天，道法自然。”一个人最幸福的人生源泉或者说基础是要尊重大自然的规律，也要尊重人的生理、心理的必然规律。

这段文字意在说明（ ）

- A.西方国家的幸福观不及中国
- B.中国的哲学和智慧比西方高明
- C.幸福需要人们尊重自然的规律
- D.《道德经》对幸福的认识水平

17.罗伯特是德国著名的医生。有一天，他为国王看病，国王说：“你给我看病，不能像看别的人一样！”罗伯特非常平静地回答说：“请原谅，陛下，在我眼里，所有的病人都和您一样。”

对医生的言外之意理解最准确的是（ ）

- A.在我眼中你是国王和平民是一样的
- B.你在我这里不是国王只是个病人
- C.你是国王，也是病人
- D.病人都是我的“国王”，我看病一视同仁

18.医疗资源配置不均衡，大医院“排队一整宿、看病一分钟”，基层医院医疗人才缺乏，医患之间信任度低等问题，不仅严重影响人民群众的就医需求，甚至还加剧了资源矛盾。究其原因，就在于医患之间信息高度不对称。患者在就诊时得不到有效指导，只能往最好的医院挤、挑最贵的药品买。如果患者在就医前能够得到有效的指导，能够有效地分流就医人群，相信能使各级医院更好地发挥职能，同时也使患者得到更有针对性的医疗服务。

这段文字意在表明（ ）

- A.医疗资源分布不均导致“看病难”现象愈演愈烈
- B.解决医患矛盾的关键在于保证医患间的信息对称
- C.医患关系紧张的原因在于医患间的信息不对称
- D.患者盲目就医是因为得不到正确有效的指导

19.“高考经济”是市场经济的产物。有需求自然有供给，而且其背后有巨大的市场需求。但凡经济尚可的中国家长，到了一定年龄，很多人生活围着子女转。为了孩子接受尽可能好

的教育，花重金购学区房在所不惜，到了高考临门一脚的时候，为临场发挥做好最后的后勤保障完全可以理解。但过度的“高考经济”，只会让高考对孩子失去额外锻炼价值，甚至制造不必要的不和谐社会情绪。

这段文字意在表明（ ）

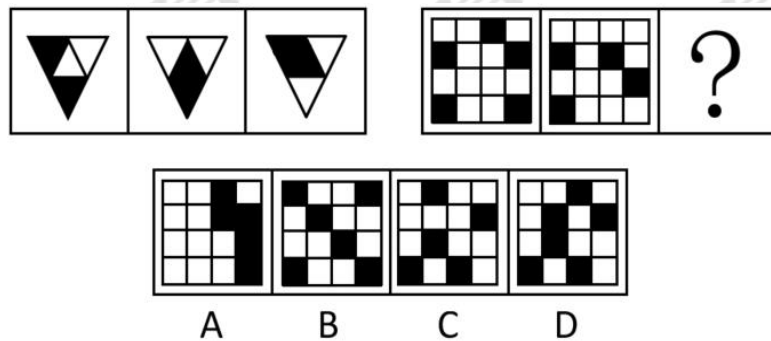
- A.“高考经济”是市场经济的合理产物
- B.中国家长为孩子高考的付出值得称赞
- C.“高考经济”对孩子和社会无益
- D.“高考经济”合情合理但不可过度

20.那些文采斐然、炳炳烺烺的诗歌流传至今，固然是古代文人墨客的智慧结晶，但我们不能因为只看到绚烂夺目的金字塔尖，就忽略历史中已被风化埋葬的金字塔底的大量作品。从某种角度看，那些在历史长河中淘洗沉淀无痕的平庸之作，何尝不体现了诗歌所拥有的广泛群众基础？事实上，当吟诗作赋成为普通人的生活方式，而不是文人特定的炫耀手段，文化创作才能具有活力，涌现佳作。

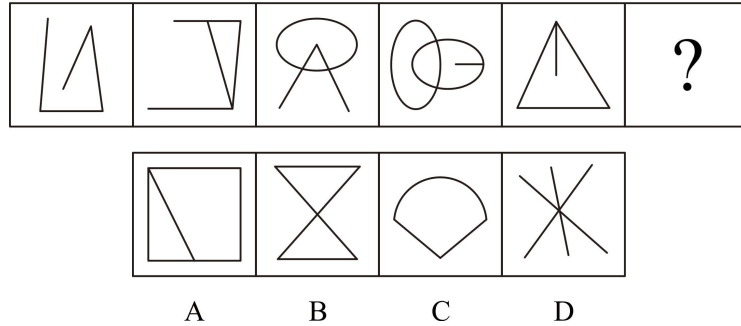
这段文字意在说明（ ）

- A.诗歌绚烂夺目却孤芳自赏
- B.经典的诗歌是诗人的智慧结晶
- C.普通大众是诗歌的创作主体
- D.回归群众才能使诗歌更具活力

21. 从所给选项中，选择最合适的一个填入问号处，使之呈现一定的规律性（ ）。



22. 从所给选项中，选择最合适的一个填入问号处，使之呈现一定的规律性（ ）。



23. 文学院有学生为优秀奖学金获得者。除非各学院有学生为优秀奖学金获得者，否则任何学院都不能从学校领取奖学金。计算机学院可以从学校领取奖学金。

由此可以推出（ ）。

- A. 文学院可以从学校领取奖学金
- B. 文学院有的学生不是优秀奖学金获得者
- C. 计算机学院有的学生是优秀奖学金获得者
- D. 计算机学院有的学生不是优秀奖学金获得者

24. 如果危机发生时，公司能够采取非常有效的办法来消除危机，实际上能够增加公司的声誉。一个非常好的声誉，可能因为一个事件，转眼间就被破坏；而一个不好的声誉，往往需要很长时间的才能消除它。

如果以上陈述为真，由此可以推出（ ）。

- A. 破坏一个好声誉比消除一个不好的声誉更容易
- B. 如果声誉的风险不算风险的话，就不存在风险了
- C. 维持公司的声誉是董事会最重要的职责
- D. 消除一个不好的声誉比赢得一个好声誉还难

25. 在某私营公司的一次董事会上，大家就研发部门展开了讨论。副董事长说：我们是私营企业，就应该以盈利为目的。为了节约开支，我建议撤销研发部门，因为公司为研发而支付的费用太高。总经理对此反驳说：我不同意这样做。研发部门集中了我公司最好的技术人员，他们可以研发出高质量的新产品。

以下哪项如果为真，最能支持总经理的观点（ ）。

- A. 高收益的公司都有自己的研发部门
- B. 优秀的技术人才是公司盈利的根本保证
- C. 高质量的新产品可以很快占领市场
- D. 高质量的新产品可以使公司获得高额回报

26. 某市为了发展文化强市战略，在 2008 年、2010 年先后建成了两个图书馆，2008 年底共办理市民借书证 7 万余个，到 2010 年底共办理市民借书证 13 万个。2011 年该市又在新区建立了第三个图书馆，于 2012 年初落成开放。截止 2012 年底，全市共计办理市民借书证 20 余万个。市政府由此认为，该项举措是有实效的，因为在短短的 4 年间，光顾图书馆的市民增加了近两倍。

以下哪项如果为真，最能削弱上述结论（ ）。

- A. 图书馆要不断购置新书，维护成本也很高，这会影响该市其他文化设施建设
- B. 该市有两所高等学校，许多在校生也办理了这 3 个图书馆的借书证
- C. 很多办理了第一个图书馆借书证的市民又办理了另外两个图书馆的借书证
- D. 该市新区建设发展迅速，4 年间很多外来人口大量涌入新区

27. 葡萄酒：名酒：酒精

- A. 火箭炮：火箭：战斗力
- B. 敞篷车：跑车：发动机
- C. 宇航员：人员：驾驶员
- D. 玫瑰花：鲜花：牡丹花

28. 军人：教授

- A. 音乐：歌曲
- B. 农村：城市
- C. 江河：湖泊
- D. 商人：江苏人

29. 大气污染物分为一次污染物和二次污染物。从污染源排放到大气后，直接污染空气称一次污染物，主要有二氧化硫、一氧化碳、氮氧化物、二氧化氮、颗粒物（飘尘、降尘、油烟等）、氮气及含氧、氮、氯、硫有机化合物以及放射性物质等。二次污染物是由于阳光照射污染物、排入环境中的一次污染物在物理、化学因素或生物的作用下发生变化，或与环境中的其他物质发生反应所形成的物理、化学性状与一次污染物不同的新污染物。

根据上述定义，下列**没有提及**二次污染物的是（ ）。

- A. 火山爆发喷出的二氧化硫与大气中的氧结合会形成硫酸雾或硫酸盐气溶胶，引起环境酸化，后者还会通过直接或间接辐射强迫作用影响气候变化
- B. 颗粒物质是漂浮在大气中的固体和液体微粒，颗粒物质能散射和吸收阳光，使可见度降低，影响交通，增加汽车与航空事故
- C. 工业生产排放出的氮氧化物和乙醛会发生光化学反应生成过氧乙酰硫酸酯，该物质强烈刺激眼睛，会引起呼吸困难、心功能障碍和肺功能衰竭等一系列症状
- D. 汽车发动机排放的污染物中的氮氧化物和碳氢化合物，经阳光照射，在大气中形成光化学烟雾，对人类呼吸系统产生极大危害

30. 蔡戈尼克效应指的是人们有一种办事有始有终的驱动力，人们之所以会忘记已完成的工作，是因为欲完成的动机已经得到满足；如果工作尚未完成，这同一动机便使他对此留下深刻印象。

根据上述定义，下列**反映**“蔡戈尼克效应”的是（ ）。

A. 一个实验中将被试分为甲乙两组进行速算，实验者让甲组演算完毕，而让乙组在中间停止，之后让两组分别回忆演算过的题目，甲组明显优于乙组

B. 小李在给家人写信，信写到一半笔芯用完了，他去找笔芯，还没找到笔芯接到朋友电话约他打球，他就不再找了

C. 小宇这几天一直在看一本间谍小说，今晚他已经看到了1点，早上还要上班，他想睡但是睡不着，还是忍不住起来把小说看完了

D. 小宋在用餐时遇到大雨，服务员借给他店里的伞，他想着明早还，结果早上临时有事没有还，他晚上一处理完事情立即就赶来还伞

31. 某建筑工地招聘力工和瓦工共计75名，力工日工资100元，瓦工日工资200元，要求瓦工人数不能少于力工人数的2倍；则力工和瓦工各聘多少人才能使日付工资最少？

()

A. 24、51

B. 22、53

C. 20、55

D. 25、50

32. 某高速公路收费站对过往车辆的收费标准是：大型车30元/辆、中型车15元/辆、小型车10元/辆。某天，通过收费站的大型车与中型车的数量比是5:6，中型车与小型车的数量比是4:11，小型车的通行费总数比大型车的多270元，这天的收费总额是（ ）。

A. 7280元

B. 7290元

C. 7300元

D. 7350元

33. 甲乙两个水池大小形状完全相同但排水口径不同，将两个装满水的水池内的水匀速排空分别需要2小时和3小时。早晨5点半，两个装满水的水池同时开始排水，到什么时候乙水池中剩余的水量正好是甲水池剩余水量的2倍？（ ）

A. 7点

B. 7点半

C. 8点

D. 6点半

34. 某件商品如果打九折销售，利润是原价销售时的 $\frac{2}{3}$ ；如果打八折后再降价50元销售，利润是原价销售时的 $\frac{1}{4}$ 。该商品如果打八折销售，利润是多少元？（ ）

A. 240

B. 300

C. 360

D. 480

35.夏天干旱，甲、乙两家请人来挖井。阴天时，甲家挖井需要8天，乙家需要10天；晴天时，甲家工作效率下降40%，乙家工作效率下降20%。两家同时开工并同时挖好井，问甲家挖了几个晴天？（ ）

A. 2天

B. 8天

C. 10天

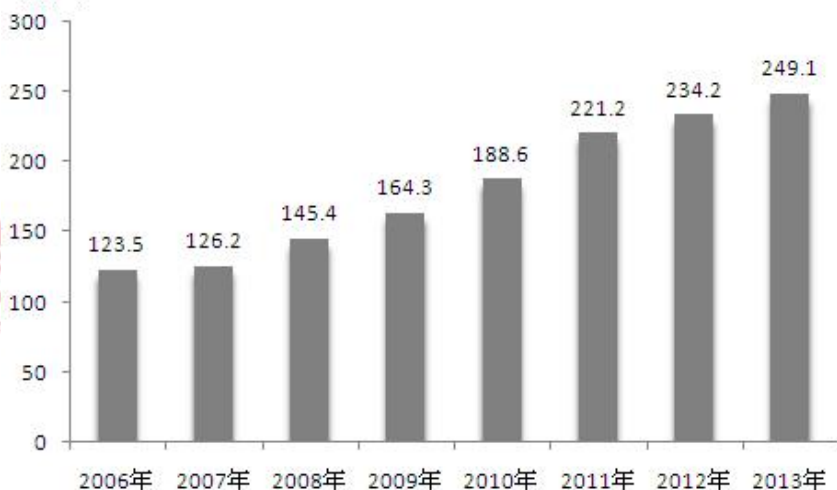
D. 12天

2013年末全国共有群众文化机构44260个，比上年末增加384个，其中乡镇文化站34343个，增加242个。年末群众文化机构从业人员164355人，比上年末增加8127人。群众文化机构实际使用房屋建筑面积3389.4万平方米，比上年末增长6.9%。年末群众文化机构共有馆办文艺团体6022个，演出15.13万场，观众6569万人次。

2013年全国群众文化机构开展活动情况

项目	活动次数 (万次)	增速 (%)	参加人数 (万人次)	增速 (%)
展览	13.82	20.4	9245	3.2
文艺活动	74.06	7.6	31379	-1.8
公益性讲座	2.36	13.5	441	20.5
训练班	39.08	0.9	3105	12.9
总计	129.32	6.8	44170	0.3

平方米



2006—2013年全国平均每万人群众文化设施建筑面积

36.2013年末全国群众文化机构数量同比约增长了（ ）。

A. 8%

B. 3%

C. 0.9% D. 0.4%

37.2013 年每个馆办文艺团体平均每月演出约多少场? ()

A. 12 B. 25

C. 2 D. 5

38.2013 年群众文化机构开展的活动中, 平均每次活动参加人数最多的是 ()。

A. 展览 B. 文艺活动

C. 公益性讲座 D. 训练班

39.2007—2013 年间, 平均每万人群众文化设施建筑面积同比增速高于 10%的年份有几个? ()

A. 5 B. 4

C. 3 D. 2

40.能够从上述资料中推出的是 ()。

A. 2012 年末全国群众文化机构共有从业人员 16 万多人

B. 2013 年文艺活动的参加人数约是公益性讲座的 50 倍

C. 2013 年全国人均群众文化设施建筑面积比 2006 年翻了一番

D. 2013 年乡镇文化站占群众文化机构总数的比重高于上年水平

第 7 天

1. 在我国, 河南嵩山、山东泰山、陕西华山、湖南衡山、山西恒山, 并称五岳, 五岳中海拔最高的是 () ?

A. 泰山 B. 华山

C. 嵩山 D. 衡山

2. 最初人们把文盲定义为“不识字的人”; 后来又把文盲确定为“看不懂现代信息符号、图表的人”; 而现在联合国把文盲确定为“不能用计算机交流的人”。从哲学上看, 这表明 () ?

A. 人的认识是由片面到全面的过程

B. 人的认识是由感性认识到理性认识的过程

C. 人的认识是不断深化的过程

D. 人在确定事物的标准上起主导作用

3. 随着经济的发展和人口的增长, 自然资源的消耗急剧上升, 环境污染日益严重。从哲学上看, 这种情况表明 () ?

- A. 经济发展同人口、资源、环境之间有着不可分割的联系
- B. 要控制人口并放慢经济发展的步伐
- C. 人口增长是影响可持续发展的主要原因
- D. 意识对物质有反作用

4. 以下政策能控制通货膨胀的是 () ?

- A. 降低存款准备金率 B. 降低存款利率
- C. 缩减财政支出 D. 增加社会总需求

5. 关于恩格尔系数, 以下说法错误的是 () ?

- A. 是表示生活水平高低的一个指标
- B. 甲国恩格尔系数是 18%, 乙国的恩格尔系数是 60%, 一般来说, 这说明了乙国比甲

国生活水平高

- C. 加快经济发展, 增加广大城乡居民收入水平, 是降低恩格尔系数的最重要手段
- D. 揭示了居民收入和食品支出之间的相关关系

6. 中华文化由衰落走向重振的转折点是 () ?

- A. 辛亥革命推翻了封建帝制 B. 新文化运动的兴起
- C. 中国选择了马克思主义 D. 中国共产党的成立

7. 我国最早的中医院专著是 (), 该书奠定了中医理论基础?

- A. 《伤寒论》 B. 《金匱要略》
- C. 《黄帝内经》 D. 《温病条辨》

8. 根据《行政诉讼法》规定, 确认发明专利案件、海关处理的案件的管辖法院是 () ?

- A. 基层人民法院 B. 中级人民法院
- C. 高级人民法院 D. 最高人民法院

9. 属于国务院业务机构的是 () ?

- A. 国务院研究室 B. 国务院办公厅 C. 国土资源部 D. 国家环保总局

10. 改革开放以来, 我国在一批前沿技术领域取得重要突破, 这主要包括 () ?

- A. 超级杂交水稻、高性能计算机、超大规模集成电路、第三代移动通信
- B. 人工合成牛胰岛素结晶、载人航天与探月工程的实施、超级杂交水稻
- C. 反西格玛负超子、陆相生油理论、古生物考古、青藏铁路等工程建设

D. 高温超导、纳米材料、量子通讯、古生物考古、生命科学、三峡工程

11. 在乡土题材写作方面，陈忠实是最具文化厚重感的作家。有的作家是凭借苦功、与时间作战，写出惊世之作；有的作家依赖才华，调动观察能力就可以_____好故事。而陈忠实是少有的把两者结合在一起的写作者，他的作品里，有耗尽心血写作所带来的那种苦涩感，但更多的却是作家的灵魂在土地上奔跑时，所_____的那种惊心动魄感。

填入划横线部分最恰当的一项是（ ）

- A. 创造 酿造
- B. 编造 创造
- C. 塑造 营造
- D. 制造 营建

12. 上世纪 90 年代以降，商品经济大潮席卷神州，国人的偶像也发生了巨大的变化。与先前偶像形象的_____不同，如今的偶像多数只能“各领风骚三五年”，层出不穷的偶像令人_____。这是为什么呢？德国哲学家本雅明曾用“光晕”的消失来描述技术进步后艺术品价值的消解。其实，在商品化、利润化的资本市场面前，偶像的精神价值也会逐渐消弭，尤其在网络时代，原来的偶像形象被大量复制、传播，高不可攀的形象逐渐步入寻常。

填入划横线部分最恰当的一项是（ ）

- A. 单一性 目不暇接
- B. 机械性 应接不暇
- C. 长期性 扑朔迷离
- D. 稳定性 眼花缭乱

13. 在荷兰待久了，也见惯了各种场合里各式各样的跪姿，就慢慢_____出来了，同样是跪，但中外真是_____。对于一些中国人来说，膝盖骨那叫一个灵活自如，所谓奴颜婢膝便是最好的诠释，在中国沉淀了上千年的下跪文化里，跪是一种很庄重或很屈辱的身体语言，其中蕴含了太多不可言表的内涵，但无论如何，不到万不得已，那断然是不能随便下跪的。

填入划横线部分最恰当的一项是（ ）

- A. 研究 大同小异
- B. 捉摸 天差地别
- C. 琢磨 天地之别

D.体会 南辕北辙

14.公立医院的医患问题_____。老百姓看病难、看病贵，是医患关系紧张的_____。病人家属，在病人进入医院之前，就不知道会面对多少挑战。一般的医院，把看病的收入，当成业绩最重要的指标，而没有把如何尽量减少病人痛苦和家属的开支，作为主要的事情来抓。所以，许多病人一进医院，总体上都要先被吓唬一下。这样一来，病人就愿意乖乖掏钱。

填入划横线部分最恰当的一项是（ ）

A.滔滔不绝 关键

B.源源不断 诱因

C.屡见不鲜 前提

D.层出不穷 基础

15.当然，也有些年轻人积极通过网络手段_____、整理和分析政治信息，对国家运营给予高度关注，但那毕竟只是很少一部分。从现状判断，仍有绝大多数的年轻人对政治_____。每每想到这里，我都迫切地期待年轻人能更加清醒地认识自己所处的社会位置，一旦意识到有所不公，应主动做出改善的努力。

填入划横线部分最恰当的一项是（ ）

A.搜集 充耳不闻

B.收集 漠不关心

C.汇集 置若罔闻

D.聚集 麻木不仁

16.有偿新闻是新闻界的丑恶现象，无论在中国还是其他国家、地区，都是公认违反新闻专业规范的现象。我国的《关于新闻采编人员从业管理的规定（试行）》《报社记者站管理办法》《新闻记者证管理办法》等，都明确反对有偿新闻。有偿新闻严重地扭曲记者独立报道的立场，使之变成吹鼓手，严重违背新闻报道“客观、真实、公正、全面”的要求，使报道变成广告，甚至虚假新闻。这会对社会造成不同程度的危害。

这段文字主要（ ）

A.探讨我国对有偿新闻的有效管理

B.谈论有偿新闻产生的危害

C.呼吁对有偿新闻的抵制

D.揭露新闻界的丑恶现象

17.俗话说，关爱今天的老人，就是关爱明天的自己。对于个人来讲，我们应摒弃“老人

无用”的偏执观念，尊重、接纳老年人，应看到老年人在化解社会矛盾、传帮带年轻人等方面的优势经验，使他们感受到人生的“第二个春天”。同时，“老吾老以及人之老”，应对老龄社会是全社会的事情，社会资本在办养老服务时，应该满足各个层次老年人的需求。当前社会养老机构很多，但多不等于强，社会资本在创办养老机构时应该做到协调可持续布局，使老龄事业链环环相扣，做到老有所养、老有所住。

这段文字主要表达的是（ ）

- A.当前社会养老机构仍存在诸多问题
- B.我们要尊重老年人来保障他们的晚年生活
- C.应对老龄社会需要个人与社会的共同努力
- D.社会资本对养老服务起着举足轻重的作用

18.美国人对航天员的敬重，不只反映在对成功者的景仰上，更体现在对他们牺牲精神的感怀。得克萨斯州约翰逊航天中心的橡树纪念园中，每一棵橡树代表一位倒下的宇航员；在佛罗里达州肯尼迪航天中心有一面“太空镜”，黑色花岗岩上刻着 24 位殉职宇航员的名字；华盛顿阿灵顿国家公墓则建有阿波罗号、哥伦比亚号和挑战者号宇航员们的纪念碑。

这段文字主要表达的是（ ）

- A.美国人对航天员非常敬仰
- B.华盛顿的宇航员纪念碑体现对航天员的景仰
- C.美国人感怀航天员的牺牲精神
- D.美国人对航天员的各种纪念形式

19.修身立德，少年养成。“青少年处在价值观形成和确立的时期，抓好这一时期的价值观养成十分重要。这就像穿衣服扣扣子一样，如果第一粒扣子扣错了，剩余的扣子都会扣错。”特别是当下，思想交汇、观念交织、文化交融日益频繁而活跃，在青少年中大力弘扬中华优秀传统文化，对于培育和践行社会主义核心价值观，培养和造就中国特色社会主义事业的合格建设者和可靠接班人，至为关键，尤为紧要。

这段文字主要表达的是（ ）

- A.道德的培养要从青少年抓起
- B.青少年要扣好第一颗扣子
- C.青少年应大力弘扬传统文化
- D.传统文化对道德培养很重要

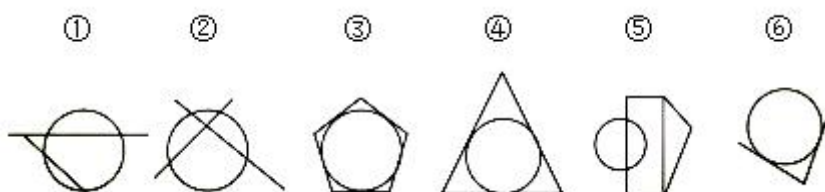
20.李商隐说“美酒成都堪送老”，雍陶说“自到成都烧酒熟，不思身更入长安”，点名直夸

成都酒好。客观来看，成都也确实深受酒神的青睐：独有的弱酸性黄粘土，粘性强、保水性好，含铁、钙等金属离子少，是酿酒筑窖的最佳土壤。地下水和冰川融水形成的优质水源，浸润了美酒的灵魂。而盆地中湿润的气候，格外有利于酒窖里微生物的繁衍，为酿酒提供了得天独厚的外部环境。悠长历史，堆叠的不仅是酒窖的深、酒糟的浓、酒浆的冽，也是酿酒、沽酒、饮酒之人悠然享受生活的心态，这才使成都的酒，酝酿出至醇的香和韵。

对这段文字概括最恰当的一项是（ ）

- A. 成都美酒从唐朝开始就已经闻名天下
- B. 独特的地理文化条件造就了成都美酒
- C. 产地的生活哲学塑造了酒文化的灵魂
- D. 气候形成了成都市井文化中慢的物质

21. 把下面的六个图形分为两类，使每一类图形都有各自的共同特征或规律，分类正确的一项是（ ）。



- A. ①②④, ③⑤⑥
- B. ①③⑥, ②④⑤
- C. ①②⑤, ③④⑥
- D. ①③④, ②⑤⑥

22. 从所给选项中，选择最合适的一个填入问号处，使之呈现一定的规律性（ ）。

句	回	可	问	?
---	---	---	---	---

司	同	向	启
---	---	---	---

A B C D

23. 为了保持苗条的身材，爱美的女性一定要控制饮食。这些女性为了控制饮食，就大量减少食物的摄取量。

据此可知（ ）。

- A. 如果爱美的女性不能大量减少食物的摄取量，就不能保持苗条的身材
- B. 如果爱美的女性大量减少食物的摄取量，就可以保持苗条的身材

C. 即使爱美的女性不能大量减少食物的摄取量，也能保持苗条的身材

D. 若是爱美的女性能够习惯性的控制饮食，就能保持苗条的身材

24. 一个旅行者要去火车站，早上从旅馆出发，到达一个十字路口，十字路口分别通向东南西北四个方向，四个方向上分别有饭店、旅馆、书店和火车站，书店在饭店的东北方，饭店在火车站的西北方。

该旅行者要去火车站，应当往哪个方向走（ ）。

A. 东 B. 南

C. 西 D. 北

25. 近日，某国宇航局的火星车在对火星进行探索时，发现了类似丹麦海岸上的圆形鹅卵石。研究者认为这将是第一个能够证明火星上曾出现水流的证据，这一发现也进一步支持了“火星曾出现宜居环境”这一理论。

要得到上述结论，最需要补充的前提条件是（ ）。

A. 只有被水冲刷才会形成圆形鹅卵石

B. 这些鹅卵石已有 20 多亿年历史，可能是在火星形成 20 亿年后出现的

C. 从火星车挖掘的鹅卵石粉末样本进行分析，发现火星在远古时期的环境状况是适宜微生物生存的

D. 火星车在登陆区附近发现了一个冲积扇，冲积扇可能因为水流的沉积物而形成

26. 研究人员将某种植物乳酸菌混入实验鼠的饲料，在实验鼠食用这种饲料 4 周后，又持续两周给其施加足以引起睡眠障碍的精神压力，然后让实验鼠在夜间活动时间段蹬转轮，测试其活动量。结果显示，摄取过该乳酸菌的实验鼠活动量下降趋势得到遏制，而没有食用含该乳酸菌饲料的对照组实验鼠白天入睡困难，睡眠不足，导致其夜晚活动量明显下降。因此，研究人员认为摄取乳酸菌能改善由精神压力引起的睡眠障碍。

以下哪项如果为真，最能质疑上述结论（ ）。

A. 实验鼠一般都是白天睡觉，夜间时段出来活动

B. 摄取乳酸菌的实验鼠体内，一种与睡眠障碍有关的基因表达量得到抑制

C. 该植物乳酸菌与大部分乳酸菌成分不一致

D. 除了蹬转轮，实验鼠晚间没有其他活动

27. 男性：女性

A. 东：西 B. 生：死

C. 青年：老年 D. 红布：蓝布

28. 春：秋：春秋

A. 铁：锈：铁锈 B. 绿：地：绿地

C. 江：湖：江湖 D. 明：月：明月

29. 内部控制是指经济单位和各个组织在经济活动中建立的一种相互制约的业务组织形式和职责分工制度，其通过在单位内部采取的自我调整、约束、规划、评价和控制的一系列方法来实现经营目标，从而保护资产的完全完整，保证会计信息资料的正确可靠，确保经营方针的贯彻执行，保证经营活动的经济性、效率性和效果性。

根据上述定义，下列做法**不属于**内部控制的是（ ）。

A. 某大型企业在进行产品发布会之后，会要求各相关部门将本部门在发布会之后的资金变动情况反馈到资金管理部门

B. 某公司信息安全部门对涉及到保密信息的相关人员进行培训，并规定他们的职责范围和工作权限

C. 随着业务的发展，某公司发现原有部门划分已经不能适应现状。因此，决定重新确立部门职能

D. 某市政府通过电子政务公开实现信息透明化。并通过接受市民的建议、批评、检举等方式来改进服务

30. 非注意盲视是一种心理现象，是指当人们专注于某一个事物时，往往会忽视另一个显而易见的事物。

根据上述定义，下列各项中**不符合**非注意盲视的是（ ）。

A. 拥挤的人群中，小偷利用报纸的遮挡盗窃，而不易被察觉

B. 一边走路一边使用手机的人，容易发生交通事故

C. 魔术师用左手的动作吸引观察的注意，而用右手快速转移了魔术道具

D. 露天田径比赛的现场，人们被激烈的赛事吸引，而忽略了赛场上鼓劲加油的啦啦队

31. 一辆卡车车厢底面为 4.8 平方米，运送一种长方形包装箱，包装箱的棱长分别为 0.5 米，0.4 米，0.3 米。如果放三层，这辆卡车最多可装（ ）包装箱。

A. 100 B. 120

C. 150 D. 200

32. 某项工程，甲工程队单独施工需要 30 天完成，乙施工队单独施工需要 25 天完成，甲队单独施工了 4 天后改由两队一起施工，期间甲队休息了若干天，最后整个工程共耗时 19 天完成，问甲队中途休息了几天？（ ）

3. 2013年3月17日上午，国务院总理李克强在会见采访十二届全国人大一次会议的中外记者谈到改革时说：“改革喊破嗓子不如甩开膀子。”这说明（ ）？

- A. 实践对认识具有决定作用
- B. 人能够能动地改造主观世界
- C. 改变命运取决于人的努力
- D. 意识是客观存在的主观映像

4. 通货紧缩是指因货币的供给量小于货币的实际需求所引起的物价总水平在较长时间内持续下降的一种经济现象，它与通货膨胀现象正好相反。通货紧缩的实质是（ ）？

- A. 物价很快的上涨，使货币失去价值
- B. 社会总需求大于社会总供给
- C. 货币供给量大于需求量
- D. 社会总需求小于社会总供给

5. 汇率变动会对一国对外经济活动产生影响，假如某国货币贬值，则下列表述正确的是（ ）？

- A. 有利于出口贸易
- B. 有利于公民出境旅游
- C. 会导致热钱流入
- D. 有利于消除贸易逆差

6. 西汉“罢黜百家，独尊儒术”与秦朝“焚书坑儒”的根本着眼点是（ ）？

- A. 压制知识分子
- B. 加强君主专制统治
- C. 完善法律机制
- D. 区别对待古代文化

7. 李某因打架斗殴被当地派出所罚款50元。这种处罚属于（ ）？

- A. 刑事制裁
- B. 行政制裁
- C. 民事制裁
- D. 司法制裁

8. 承担行政责任的主体是行政主体和（ ）？

- A. 国家行政机关
- B. 法律法规授权的机构
- C. 行政相对人
- D. 公务员

9. 第一次技术革命是指（ ）？

- A. 蒸汽机的发明
- B. 由工场手工业到大机器生产的转变
- C. 信息技术的出现
- D. 工业无产阶级的出现

10. 下大雨的时候，闪电一过，接着就要打雷，这种现象的解释是（ ）？

- A. 雷声是在闪电后产生的
- B. 雷声是闪电的附属物
- C. 闪电和雷声同时产生，但闪电比雷声快

D. 打雷自然而然跟着闪电

11. 中国消费者的这种“高级化”是由诸多因素促成的，收入只是其中之一。一系列_____的食品和药物丑闻使中国人对低端品牌格外警觉。对产品质量的担忧和对伪劣商品生产厂家问责制的缺失都对这个趋势起到了_____的作用。

填入划横线部分最恰当的一项是（ ）

- A. 博人眼球 如虎添翼
- B. 引人入胜 火上浇油
- C. 骇人听闻 揠苗助长
- D. 引人注目 推波助澜

12. 电话营销是销售的一种重要途径，许多商家依赖短信、电邮、电话等电子推销手段销售产品和服务，但消费者往往_____。香港与内地一样，人们天天遭遇电子促销的疲劳轰炸，希望政府规管，以求耳根清净。这些年香港通过立法和执行，基本管住了垃圾短信、电子邮件促销，但人对人的促销电话，仍让这个现代化大都市_____。

填入划横线部分最恰当的一项是（ ）

- A. 不堪入目 一筹莫展
- B. 忍无可忍 手足无措
- C. 不胜其烦 束手无策
- D. 不厌其烦 望洋兴叹

13. 据媒体报道，当下中国清明节祭品花样上的翻新“与时俱进”，纸糊的名包、香车、别墅继续受追捧的同时，号称无限透支的信用卡、女仆人和男管家、护照乃至 iPhone、iPad 等样式的纸祭品_____令人_____的是，商家还会非常“贴心”地提醒别忘了买数据线。这些带有明显摆谱比阔的祭品，投射出的是活人世界里的_____倾向。

填入划横线部分最恰当的一项是（ ）

- A. 俯拾皆是 瞠目结舌 鄙俗化
- B. 层出不穷 啼笑皆非 低俗化
- C. 比比皆是 大惊小怪 庸俗化
- D. 屡见不鲜 哭笑不得 通俗化

14. “说有易，说无难”是实证主义研究共同遵守的“祖宗家法”之一，意思就是“证实容易，证伪难”。在复杂的语言事实面前，任何人都难免有“_____”的认知局限，因此，时刻牢记这一“家法”，有利于保持清晰的学术头脑和不断探索的求真心态。只有从事过实地田野调

查的人，才会对这个“家法”的_____有深刻的认识和切身的感受，才会对语言系统的规则和规律保持几分_____，唯此才会有后辈接力传承的使命和发展创新的空间。

填入划横线部分最恰当的一项是（ ）

- A.管中窥豹 作用 警觉
- B.井底之蛙 延伸 怀疑
- C.盲人摸象 内涵 敬畏
- D.一叶知秋 教训 尊重

15.新闻采访要求采访者具有新闻敏感、应变能力和采访技巧，即能够在纵横交错的客观事物中敏锐地发现新闻，在_____的机遇中迅速地捕捉新闻，在各种困难的条件下巧妙地_____新闻。新闻采访除突发事件的采访外，新闻记者在平时还从事主动的、有目的的采访，这种采访事先有明确的报道思想，有充分的资料准备，有_____的采访计划。

填入划横线部分最恰当的一项是（ ）

- A.变幻莫测 探索 完备
- B.波谲云诡 创造 详细
- C.稍纵即逝 挖掘 周密
- D.风起云涌 激发 严谨

16.人们看到别人处于紧急状态情境中，而不去救援，不是由于人性的丧失，而是由于其他人在场，使其责任意识降低，从而抑制了人们的援助动机。这种责任分散心理，又称作旁观者效应。个人所承担的责任变得不明确，从而责任感淡化，事情最终以谁都以为不会发生的方式发生。由于“责任扩散”，因而见义勇为、见死不救所产生的罪恶感、内疚感也同样会扩散到其他人身上，某一个人所要承担的道德评价风险大大减小，他所感受到的道德谴责也的力度也大大降低，从而在下次类似情境下完全可能采取同样的态度与行为。

这段文字主要介绍了（ ）

- A.避免道德冷漠的措施
- B.造成道德冷漠的原因
- C.旁观者效应发生的心理机制
- D.旁观者效应出现的背景环境

17.在中国传统观念中，雕塑一直未被看作是与绘画同等的艺术形式；在中国传统学术中，也只有“画学”而没有“雕塑学”。历史上的这种不重视，造成 19 世纪末 20 世纪初，大量具有极高史料研究价值的石雕作品流失海外。而今天，新兴收藏家们的目光也只停留在艺术

品的财富表象上，因此使得元、明、清三代的铜鎏金佛像价格一路飞涨，而面对那些真正体现中国雕塑文化及历史风貌的高古石雕时，他们表现得却有些畏畏缩缩、举棋不定，这难免让人觉得遗憾。

这段文字主要谈论的是（ ）

- A.观念上重视雕塑艺术的意义
- B.高古石雕在中国不受重视的原因
- C.目前雕塑收藏家不成熟的心态
- D.雕塑收藏品价格与价值背离的状况

18.几乎每个人的内心深处，都有着对乌托邦和理想社会的向往。反乌托邦主题则是将其逻辑进行推演，最终会发现理想（主要是对制度和技术的崇拜）往往会导致种种无法控制的弊端：极权统治、非人性社会、精神压抑等。与乌托邦批判“旧”或允诺“新”的热度相比，反乌托邦的语汇更加冷峻，也更尊重人性的真实。大多数反乌托邦作品都充满想象力和黑色幽默，其辛辣的讽刺让我们哭笑不得，然后冷汗涔涔。

对这段文字概括最准确的是（ ）

- A.揭示乌托邦理想的弊端
- B.介绍反乌托邦作品的特点
- C.描述理想与现实之间的鸿沟
- D.指出乌托邦与反乌托邦作品的差异

19.英国有着高福利的传统，1601年英国引入世界首部《济贫法》，1948年依据《贝弗里奇计划》，宣布建成世界上第一个福利国家，承诺提供“从摇篮到坟墓”全天候福利保障制度服务。但随着经济不景气、尤其是老龄化的日趋严重，英国65岁以上老年人口目前已达16%，养老金严重入不敷出，目前养老金缺口已达GDP的26%。养老金改革合情合理，但这无疑触动了国民养老费用的奶酪，遭至强烈反抗也在情理之中。显然，福利制度的刚性特征使得由简入奢易，由奢入简难。

对这段文字概括最准确的是（ ）

- A.描述英国养老金改革计划举步维艰的状况
- B.揭示人口老龄化对英国政府提出的新要求
- C.反思英国实行全天候福利保障制度的弊端
- D.分析英国高福利传统难以为继的客观原因

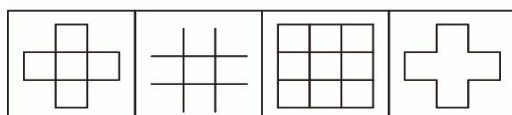

20.有人说，传统小说是依赖经验的写作，而网络小说是依赖想象的写作。看来，这两

种写作需要找到一个结合点，依赖经验的写作需要吸纳网络小说的想象，而依赖想象的写作则需要糅入传统小说中丰厚充实的经验。因此，当今的文学要从原创力日益萎缩的窘境中走出来，作家们增加生活经验的积累应该是一个非常关键的举措。但这还只是由经验通往原创力的第一步，接下来必须在体验上进行认真的修炼，使生活经验转化为心灵体验，使客观的经验世界转化为作家主观的心灵世界。

这段文字重点强调的是（ ）

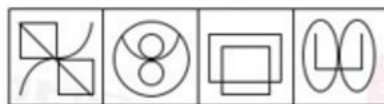
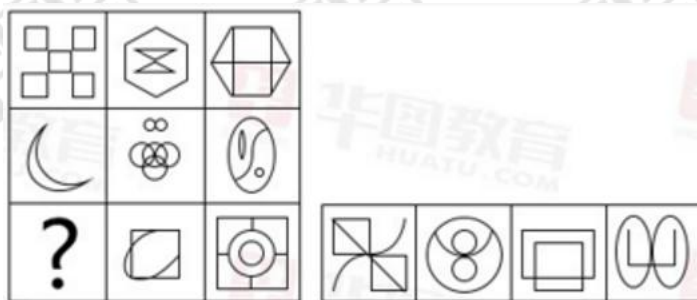
- A. 如何转化经验吸纳想象
- B. 怎样找到传统和网络小说的结合点
- C. 作家应该如何不断地积累生活经验
- D. 如何提高文学的原创力

21. 从所给选项中，选择最合适的一个填入问号处，使之呈现一定的规律性（ ）。



A B C D

22. 从所给选项中，选择最合适的一个填入问号处，使之呈现一定的规律性（ ）。



A B C D

23. 五位同学对毕业去向进行讨论。小张说：“小王去了百度，小李去了顺丰。”小王说：“小李去了阿里，小赵去了浦发。”小李说：“小赵去了顺丰，小周去了浦发。”小赵说：“小周去了腾讯，小李去了阿里。”小周说：“小张去了阿里，小李去了腾讯。”已知每个人所去

的单位不同，而且每个人的去向都有人说对。

那么，每个人的毕业去向为（ ）。

- A. 小李去了阿里，小赵去了百度，小张去了腾讯，小王去了顺丰，小周去了浦发
- B. 小周去了阿里，小王去了百度，小赵去了腾讯，小张去了顺丰，小李去了浦发
- C. 小张去了阿里，小王去了百度，小李去了腾讯，小赵去了顺丰，小周去了浦发
- D. 小赵去了阿里，小李去了百度，小周去了腾讯，小张去了顺丰，小王去了浦发

24. 以保健品名义出现的核酸等“基因食品”对人体健康并无多大帮助。从科学角度看，所谓人体需要补充外源核酸的说法不能成立。人体缺的是营养，而核酸不可或缺。某些广告说人老了或得了病，制造基因的能力会减弱，更是无稽之谈。

由此可以推出（ ）。

- A. 所有关于保健品的广告都缺乏科学依据
- B. 人体内的核酸会随年龄的增长而减少
- C. 人生病都是营养不良的结果
- D. 食用保健品未必能增进身体健康

25. 西双版纳傣族的竹楼都用方形柱子将房子架空来防止潮湿及蚊虫骚扰。之所以用方形柱子而不是圆形柱子，是为了防止蛇攀爬进入竹楼。

下列哪些最有可能是上述陈述的假设（ ）。

- A. 傣族人喜欢把东西做成方形的
- B. 蛇喜欢攀爬圆形的柱子
- C. 西双版纳热带雨林中有很多蛇
- D. 蛇不能缠绕着方形的柱子爬行

26. 今年1月至6月，某品牌轿车在全国的销售量为1万台，仅占去年全年该品牌国内销售量的40%。由此可预测，今年该品牌轿车全年的销售量一定少于去年。

以下哪项如果为真，最能削弱上述结论（ ）。

- A. 该品牌轿车今年的售价低于去年
- B. 该品牌轿车去年销售量的70%是在上半年完成的
- C. 通常来说，轿车全年销售量的70%是在9月至12月之中完成的
- D. 该品牌轿车去年的销售量比前年要少

27. 昼：夜

- A. 男：女
- B. 分：秒

C. 老：少 D. 矛：盾

28. 上午：下午：夜晚

A. 秒：分：时 B. 有理数：无理数：实数

C. 青年：中年：老年 D. 正常：非正常：状态

29. 趋同适应是指亲缘关系很远甚至完全不同的类群，长期生活在相似的环境中，在外貌形态、内部结构、生活特点、生理特征及发育等多方面表现出相似性，具有相同或相近的形态。

根据上述定义，下列属于趋同适应的是（ ）。

A. 豆科牧草根能与固氮根瘤菌共生，将大气中的氮气合成含氮化合物，具有生物固氮功能，因此能改良草原土壤

B. 青蛙、鳄鱼和河马的鼻孔和眼睛都生长在头部上方的同一个水平，这使它们可以将鼻、眼露出水面，便于呼吸和观察水面情况

C. 黑核桃树的树皮和果实含有氢化核桃酮，当这种物质被雨水冲到土中，即被氧化成核桃酮，这会导致黑核桃树下几乎没有草本植物

D. 生长在河洼地的牧草鸭茅，植株表现出高大、叶厚、色绿的特征，而生长于碎石堆的牧草鸭茅，植株表现出矮小、叶薄、色淡的特征

30. π 型人才指至少拥有两种专业技能，并能将多门知识融会贯通的高级复合型人才。

π 下面的两竖指两种专业技能，上面的一横指能将多门知识融会应用。

根据上述定义，以下属于 π 型人才的是（ ）。

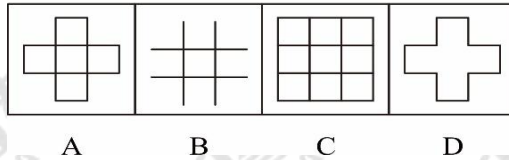

A. 小王是气象专业毕业生，但他也会开车、做饭、唱京戏，也是单位的文艺骨干

B. 张大夫是一名皮肤科医生，同时被某美容院聘为美容顾问，讲授皮肤保养知识

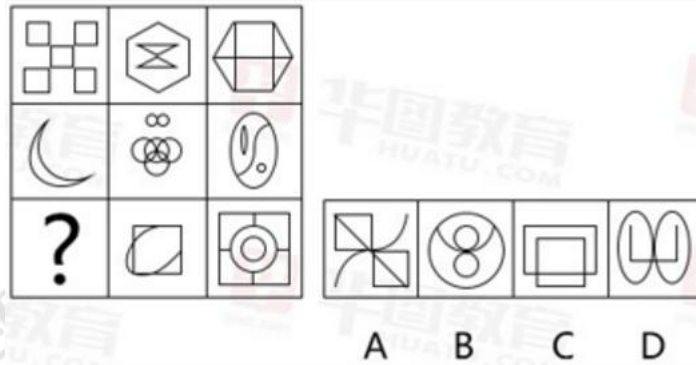
C. 李总名牌大学经济系本科毕业，后来又读了管理学硕士和法学博士。毕业后，他将自己多方面知识融进公司管理中，取得了突出的成就

D. 牛厨师是一位多面手，多年勤学苦练，练就一套真功夫，既会红案，又会白案，做的菜总让人赞不绝口，众多饭店争相聘请他

21. 从所给选项中，选择最合适的一个填入问号处，使之呈现一定的规律性（ ）。



22. 从所给选项中，选择最合适的一个填入问号处，使之呈现一定的规律性（ ）。



23. 五位同学对毕业去向进行讨论。小张说：“小王去了百度，小李去了顺丰。”小王说：“小李去了阿里，小赵去了浦发。”小李说：“小赵去了顺丰，小周去了浦发。”小赵说：“小周去了腾讯，小李去了阿里。”小周说：“小张去了阿里，小李去了腾讯。”已知每个人所去的单位不同，而且每个人的去向都有人说对。

那么，每个人的毕业去向为（ ）。

- A. 小李去了阿里，小赵去了百度，小张去了腾讯，小王去了顺丰，小周去了浦发
- B. 小周去了阿里，小王去了百度，小赵去了腾讯，小张去了顺丰，小李去了浦发
- C. 小张去了阿里，小王去了百度，小李去了腾讯，小赵去了顺丰，小周去了浦发
- D. 小赵去了阿里，小李去了百度，小周去了腾讯，小张去了顺丰，小王去了浦发

24. 以保健品名义出现的核酸等“基因食品”对人体健康并无多大帮助。从科学角度看，所谓人体需要补充外源核酸的说法不能成立。人体缺的是营养，而核酸不可或缺。某些广告说人老了或得了病，制造基因的能力会减弱，更是无稽之谈。

由此可以推出（ ）。

- A. 所有关于保健品的广告都缺乏科学依据

- B. 人体内的核酸会随年龄的增长而减少
- C. 人生病都是营养不良的结果
- D. 食用保健品未必能增进身体健康

25. 西双版纳傣族的竹楼都用方形柱子将房子架空来防止潮湿及蚊虫骚扰。之所以用方形柱子而不是圆形柱子，是为了防止蛇攀爬进入竹楼。

下列哪些最有可能是上述陈述的假设（ ）。

- A. 傣族人喜欢把东西做成方形的
- B. 蛇喜欢攀爬圆形的柱子
- C. 西双版纳热带雨林中有很多蛇
- D. 蛇不能缠绕着方形的柱子爬行

26. 今年1月至6月，某品牌轿车在全国的销售量为1万台，仅占去年全年该品牌国内销售量的40%。由此可预测，今年该品牌轿车全年的销售量一定少于去年。

以下哪项如果为真，最能削弱上述结论（ ）。

- A. 该品牌轿车今年的售价低于去年
- B. 该品牌轿车去年销售量的70%是在上半年完成的
- C. 通常来说，轿车全年销售量的70%是在9月至12月之中完成的
- D. 该品牌轿车去年的销售量比前年要少

27. 昼：夜

- A. 男：女 B. 分：秒
- C. 老：少 D. 矛：盾

28. 上午：下午：夜晚

- A. 秒：分：时 B. 有理数：无理数：实数
- C. 青年：中年：老年 D. 正常：非正常：状态

29. 趋同适应是指亲缘关系很远甚至完全不同的类群，长期生活在相似的环境中，在外貌形态、内部结构、生活特点、生理特征及发育等多方面表现出相似性，具有相同或相近的形态。

根据上述定义，下列属于趋同适应的是（ ）。

- A. 豆科牧草根能与固氮根瘤菌共生，将大气中的氮气合成含氧化合物，具有生物固氮功能，因此能改良草原土壤
- B. 青蛙、鳄鱼和河马的鼻孔和眼睛都生长在头部上方的同一个水平，这使它们可以将

鼻、眼露出水面，便于呼吸和观察水面情况

C. 黑核桃树的树皮和果实含有氢化核桃酮，当这种物质被雨水冲到土中，即被氧化成核桃酮，这会导致黑核桃树下几乎没有草本植物

D. 生长在河洼地的牧草鸭茅，植株表现出高大、叶厚、色绿的特征，而生长于碎石堆的牧草鸭茅，植株表现出矮小、叶薄、色淡的特征

30. π 型人才指至少拥有两种专业技能，并能将多门知识融会贯通的高级复合型人才。

π 下面的两竖指两种专业技能，上面的一横指能将多门知识融会应用。

根据上述定义，以下属于 π 型人才的是 ()。

A. 小王是气象专业毕业生，但他也会开车、做饭、唱京戏，也是单位的文艺骨干

B. 张大夫是一名皮肤科医生，同时被某美容院聘为美容顾问，讲授皮肤保养知识

C. 李总名牌大学经济系本科毕业，后来又读了管理学硕士和法学博士。毕业后，他将自己多方面知识融进公司管理中，取得了突出的成就

D. 牛厨师是一位多面手，多年勤学苦练，练就一套真功夫，既会红案，又会白案，做的菜总让人赞不绝口，众多饭店争相聘请他

31. 某中学初二年级共有 620 名学生参加期中考试，其中语文及格的有 580 名，数学及格的有 575 名，英语及格的有 604 名，以上三门功课都及格的至少有多少名同学？ ()

A. 575

B. 558

C. 532

D. 519

32. 从 2000 到 6000 的自然数中，不含数字 5 的自然数有多少个？ ()

A. 2188 个

B. 2187 个

C. 1814 个

D. 1813 个

33. 张家和李家都使用 90 米的篱笆围成了长方形的菜园，已知李家的长方形菜园的长边比张家短 5 米，但是菜园面积却比张家大 50 平方米，则李家的长方形菜园面积为 ()。

A. 550 平方米

B. 500 平方米

C. 450 平方米

D. 400 平方米

34. 两台大型收割机和四台小型收割机在一天内可收完全部小麦 $\frac{3}{10}$ ，8 台大型收割机和 10 台小型收割机在一天内可收完全部小麦。如果单独用大型收割机和单独用小型收割机进行比较，要在一天内收完小麦，小型收割机要比大型收割机多用多少台？ ()

A. 8

B. 10

C. 18

D. 20

35.农民刘大伯在某处工作约定一年的报酬是 8600 元现金和一头牛。他从 1 月干到 8 月底因故离开时获得报酬 3800 元现金和一头牛，则这头牛的价格是（ ）。

- A. 4600 元
- B. 5800 元
- C. 6000 元
- D. 6500 元

截至 2011 年 4 月 21 日 22 时，沪深两市已有 534 家上市公司公布第一季度财报。这 534 家公司实现营业总收入 4572.78 亿元，同比增长 30.74%；实现净利润 336.7 亿元，同比增长 30.52%。不过，一季度销售收入和净利润环节比例有所下降，其中营业总收入环比下降 12%，净利润环比下降 25%，这 534 家公司 2011 年一季度存货 6167.68 亿元，较上年年末增长 10%。

已公布第一季报的创业板公司有 71 家，实现营业收入 80.08 亿元，同比增长 73.60%；实现净利润 13.16 亿元，同比增长 80%。已公布第一季报的中小企业板公司有 202 家，实现营业收入 789.97 亿元，同比增长 36%；实现净利润 73.25 亿元，同比增长 25%。

25 家已公布第一季报的房地产公司第一季度实现营业收入 193.68 亿元，同比增长 9%；实现净利润 29.97 亿元，同比增长 31%；存货 2892.18 亿元，同比增长 10%。

已公布第一季报的 6 家钢铁板块公司一季度存货为 322 亿元，实现营业收入 493.39 亿元，同比略有降低，环比下降 20%；实现净利润 12.65 亿元，同比增长 62%，环比表现更好，这 6 家公司 2010 年四季度净亏损 3.77 亿元。

建筑机械类公司持续了之前的景气度，有 4 家公司公布一季报，实现营业总收入 15.90 亿元，同比增长 39%；实现净利润 1.18 亿元，同比增长 47.5%。

36.已公布第一季报的 534 家公司，平均每家在 2010 年第四季度实现营业收入约多少亿元（ ）。

- A. 0.63
- B. 7.54
- C. 8.56
- D. 9.73

37.这 534 家公司中，平均每家中小企业板公司在 2011 年第一季度的净利润约是创业板公司的（ ）。

- A. 2 倍
- B. 3 倍
- C. 4 倍
- D. 5 倍

38.已公布 2011 第一季报的房地产公司中，平均每家的存货比上年同期增长了约多少亿元（ ）。

- A. 5
- B. 11

C. 51

D. 105

39.已经公布第一季报的钢铁板块公司 2010 年第四季度的净利率（净利润比营业收入）约为（ ）。

A. 2.57%

B. 1.80%

C. -0.96%

D. -0.61%

40.关于这 534 家公司在 2011 年第一季度营业状况的描述与资料相符的是（ ）。

A. 所有公司净利润之和比 2010 年第四季度有所上升

B. 超过 1/4 的净利润来自中下企业板公司

C. 平均每家钢铁板块公司的存货高于 534 家公司的平均水平

D. 平均每家建筑机械类公司的营业收入高于 534 家公司的平均水平

第 9 天

1. 世界上许多著名的建筑已经成为一个国家或者一个城市的象征。下列选项中，建筑不属于同一个洲的是（ ）？

A. 长城、泰姬陵

B. 帕特农神庙、比萨斜塔

C. 帝国大厦、威斯敏斯特大教堂

D. 卢浮宫、白金汉宫

2. 坚持全面协调可持续基本要求，必须坚持（ ）文明发展道路？

A. 生产发展 生活富裕 生态良好

B. 经济发达 生活富裕 生态良好

C. 经济发达 生活幸福 环境良好

D. 生产发展 生活幸福 环境良好

3. 《中共中央关于构建社会主义和谐社会若干重大问题的决定》指出，中国特色社会主义的本质属性是（ ）？ 3

A. 立党为公、执政为民

B. 社会和谐

C. 公平正义

D. 社会主义核心价值体系

4. 自由贸易区是指在贸易和投资等方面比世贸组织有关规定更加优惠的贸易安排；在主权国家或地区的关境以外，划出特定的区域，准许外国商品豁免关税自由进出。关于我国自贸区的说法不正确的是（ ）？

A. 2013 年 9 月，我国大陆境内的第一个自贸区——上海自由贸易试验区正式挂牌成立，许多跨国公司总部纷纷落户，吸引跨国公司总部落户上海自贸区的最主要因素是上海便利的交通和先进的技术。

B. 2015 年自贸区继续扩容，又新增了广东、天津、福建自由贸易试验区(自贸区)，中国自贸区的数量增加到 4 个，自北至南，贯穿整个中国东部沿海线。

C. 中国对 4 个自贸区减少限制，鼓励更多外商投资，即为外商投资提供更加统一、友好的商业环境。

D. 4 个自贸试验区并行，各有不同定位。其中广东自贸试验区立足推动内地与港澳经济深度合作，天津自贸试验区立足于京津冀协同发展，福建自贸试验区立足于深化两岸经济合作。

5. 国家统计局最新公布的季报报告显示，当前经济运行基本面没有变，稳中有进和稳中向好的态势没有变，但增速略有回落，经济下行压力仍然很大，亟需我们在坚定发展信心的同时增强忧患意识，更加重视稳增长增效益，着力巩固向好趋势，有效对冲下行因素，确保完成全年经济发展主要目标任务。下列不属于拉动我国经济增长的三驾马车的是（ ）？

- A. 投资
- B. 信贷
- C. 进口
- D. 消费

6. 在我国古代，“大夫”指的是（ ）？

- A. 官职
- B. 乡绅
- C. 医生
- D. 丈夫

7. 我国医学在古代取得了很高的成就，下列说法不正确的是（ ）？

- A. 《黄帝内经》编制于战国时期，是我国医学宝库中现存最早的医学专著
- B. 《神农本草经》是我国第一部完整的药物学著作
- C. 孙思邈是世界上第一位使用全身麻醉技术进行外科手术的人
- D. 《伤寒杂病论》为张仲景所著

8. A 公司经过甲介绍成功地向 B 公司销售了一批货物。下列属于不正当竞争行为的是（ ）？

- A. A 公司给甲 1000 元佣金
- B. A 公司给 B 公司 10000 元折扣
- C. B 公司给甲 1000 元佣金
- D. A 公司给 B 公司经理 10000 元回扣

9. 一些用人单位拖欠和克扣农民工工资，这种行为侵犯了农民工的（ ）？

- A. 人身权利
- B. 取得劳动报酬的权利
- C. 劳动权利
- D. 劳动安全和卫生保护权利

10. 下列有关地沟油说法正确的有（ ）？

- ①地沟油会破坏人们的白细胞和消化道粘膜

②长期食用地沟油会引起食物中毒，甚至致癌的严重后果

③地沟油一无是处，应该彻底销毁

④地沟油的主要成分是甘油三酯

A. ①④

B. ②③

C. ①③④

D. ①②④

11.相关部门统计数字显示，我国的自然村十年前有 360 万个，现在则只剩 270 万个，一天时间消失的自然村大概有 80 个到 100 个。传统村落就像是一本厚重的古书，很多还来不及翻阅，就已经消亡了，保护传统村落成了_____的事情。

填入划横线部分最恰当的一项是（ ）

A.首当其冲

B.责无旁贷

C.一触即发

D.迫在眉睫

12.我们需要转变经济增长方式，调整经济结构，但绝不能把产业分成优劣，把人类生存必需的中低端消费品生产视为_____产业。离开了中低端消费品，我国产业几乎没有_____可言。

填入划横线部分最恰当的一项是（ ）

A.保守 前景

B.低级 动力

C.落后 优势

D.基础 突破

13.人眼的光学系统跟传统照相机是十分类似的。照相机只是把外界景物的图像映在照相软片上，人眼却并不是把投射到视网膜上的图像_____地传给大脑，而是先对图像进行信息加工，抽取线段、角度、弧度、色度和阴暗对比等包含重要信息的简单特征，并把它们_____成神经信号，再传给大脑。

填入划横线部分最恰当的一项是（ ）

A.滴水不漏 翻译

B.原封不动 转换

C.纤毫毕见 组合

D.完整无缺 换算

14.无论以信息和议论发布为核心的微博，还是类似以“圈子”交流为中心的社交网络，都是以一种_____的人际关系为中心的网络形态。它们引发了传播方式以及议题和议程设置方式的深刻转移，原来以传统媒体为中心的自上而下的传播，已经转变为多中心的、_____式的传播形态，原来往往由纸媒或电子媒体引发议题并引导议程的状况发生改变，常常出现微博引发一个议题，之后电子媒体跟进的现象。

填入划横线部分最恰当的一项是（ ）

- A.交互 集约
- B.动态 互动
- C.模拟 传导
- D.虚拟 发散

15.大多数人都是围绕要做的事情而非身体的自然节奏来安排自己的时间。每天的工作任务、上下班的交通、社交活动和孩子的日程安排经常_____了我们，我们的时间安排不可避免地与人体的生物钟发生_____。

填入划横线部分最恰当的一项是（ ）

- A.支配 冲突
- B.干扰 矛盾
- C.影响 混淆
- D.主宰 混乱

16.“谁污染谁买单”制度并不需要苦心孤诣的原创性设计，国际上已有先例可循。从上个世纪七八十年代开始，德国就开始建立“污染者买单”的法律框架，对各类型企业产生的垃圾、废水、废气以及各种可能发生的环境损害，制定了严格、规范的收费政策，并形成了流畅的回收再利用流程。生产废物一律不能直接丢弃，必须由专门照牌的公司回收处理，企业要按量支付高额的处理费用。这既刺激了各种与工业污染有关的环境技术的蓬勃发展，又倒逼企业不断吸纳环保技术、持续优化产业结构，还使得社会投资自动趋向高新环保产业。这种绿色循环经济模式已经为多个国家跟进，并为后发者提供了成熟的范本。

这段文字意在说明（ ）

- A.国外已有成熟的绿色循环经济模式可供借鉴
- B.“谁污染谁买单”制度需完备的法律框架
- C.高额的污染成本能刺激环保技术的发展
- D.高新环保产业是社会投资的必然趋势

17.东西方文学的区别体现在语言上，体现在风格上，也体现在小说赖以生存的文化背景上。但好的文学既有个性，也有共性。就像桑顿所说，创伤无处不在，每个国家每个民族每个人都有自己的创伤。无论是桑顿笔下受过创伤的网球教练，还是中国作家的“伤痕文学”，都有打动人心的地方。

这段文字意在说明（ ）

- A.作家应对东西方文学的精髓兼收并蓄
- B.好的文学作品都能够打动人心
- C.创伤是东西方文学的一个共同主题
- D.文化背景是形成东西方文学差别的主要原因

18.中国综合实力的增强，是中国模式创造的世界奇迹。而中国模式又是中国传统文化的产物，是中国传统文化智慧在当今中国的升华。2008年金融危机后，世界各领域的“中国元素”在不断增多，并不断被越来越多的各国民众所接纳。虽然这种“中国元素”在相当程度上是通过中国经济实力在发挥作用，但是支撑中国经济发展的却是传统文化因素。传统的人文精神，使“中国元素”在更广阔的领域内逐渐展现出更加令人瞩目的价值。

这段文字意在说明（ ）

- A.不断创新中国模式才能推动中国综合实力的逐步提高
- B.应充分发挥国内雄厚的文化资源优势以打造文化强国
- C.“中国元素”的广泛传播有助于中国国家形象的提升
- D.文化软实力对提高中国在世界的影响力不可或缺

19.想知道人如何感受、思考、判断，但又无法看到大脑怎样作业，大脑就成了一个无法打开的黑箱。给这个黑箱输入一个刺激，通过分析输出的变化来推测其内部工作的过程，这便是利用黑箱方法从事研究的基本逻辑。它至今在心理和行为研究中占统治性地位，其应用的极端形式是把人脑和计算机进行对比。其实，通过“输入——输出”的变化来解释大脑的研究方法是不得已之举。大凡对输入到输出的变化有合理化解释的模型，便可以被认为是真。这类解释与大脑真实活动吻合的程度是难以充分证明的。

这段文字意在（ ）

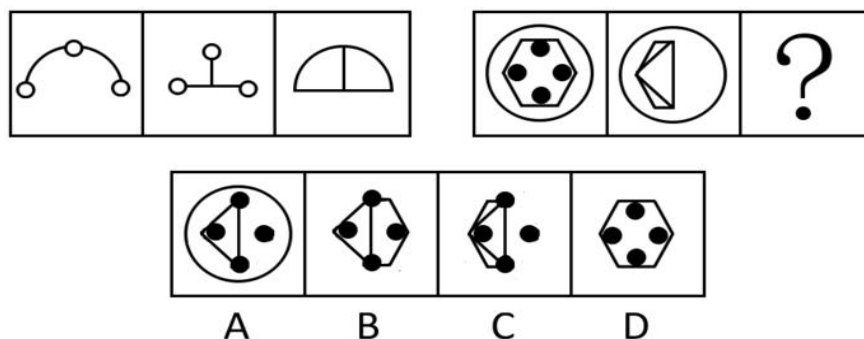
- A.介绍黑箱方法的基本逻辑和原理
- B.呼吁大脑研究应引进新的技术和方法
- C.说明使用黑箱方法进行大脑研究是有先天缺陷的
- D.批评将人脑和计算机对比的方法过于机械、牵强

20.在高考这个没有硝烟的战场上，慷慨激昂甚至惨烈悲壮的誓师标语并不鲜见，更触目惊心的是，类似的标语挂满了整栋教学楼——密密麻麻的标语不仅书写着高考的残酷，而且也书写着学生时代的艰难，不知这些禁锢的青春，何时才能自由地绽放？不知道从何时起，高考标语渐渐远离了曾经的励志模板，取而代之的是一些暴力气息：“只要学不死，就往死里学”“提高一分，干掉千人”“不苦不累，高三无味；不拼不搏，高三白活”……在“一切为了高考”“高考就是一切”的目标指引下，高考成绩俨然是任何学校的重中之重，学校任何不近人情的管理，都会理直气壮戴上“为学生未来着想”的温情帽子，所不同的，也许只是方式和程度的不同。某些“铁血”名校的成功，更是令很多中学看到了容易复制的模板，学生的空间因此被大大压缩。

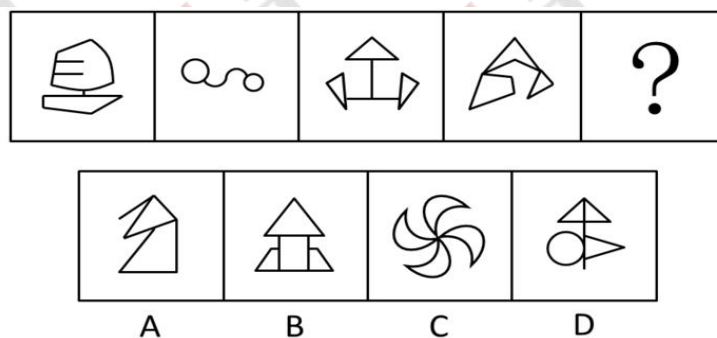
这段文字意在说明（ ）

- A.慷慨激昂的高考标语禁锢了学生的心灵
- B.高考标语的暴力气息无可厚非
- C.高考标语不必过于语出惊人
- D.我们应理解学校的高考“温情”行为

21. 从所给选项中，选择最合适的一个填入问号处，使之呈现一定的规律性（ ）。



22. 从所给选项中，选择最合适的一个填入问号处，使之呈现一定的规律性（ ）。



23. 如果赵川参加宴会，那么钱华、孙旭和李元将一起参加宴会。

如果上述断定是真的，那么，以下哪项也是真的（ ）。

- A. 如果赵川没参加宴会，那么钱、孙、李三人中至少有一人没参加宴会
- B. 如果赵川没参加宴会，那么钱、孙、李三人都没参加宴会
- C. 如果钱、孙、李都参加宴会，那么赵川参加宴会
- D. 如果孙旭没参加宴会，那么赵川和李元不会都参加宴会

24. 在一次考试中，试卷上画了五大洲的图形，每个图形都编了号，要求填出其中任意两个洲名，分别有五名学生填了如下编号。甲：3 是欧洲，4 是大洋洲；乙：4 是非洲，2 是大洋洲；丙：1 是亚洲，5 是美洲；丁：5 是非洲，3 是欧洲；戊：2 是非洲，5 是美洲；结果他们每人只填对一半。

请根据以上条件判断下列正确的选项是（ ）。

- A. 1 是亚洲，5 是非洲 B. 1 是大洋洲，2 是美洲
- C. 3 是欧洲，4 是非洲 D. 4 是美洲，5 是非洲

25. 以往研究表明，喝咖啡会增加患骨质疏松症的风险，而一项最新的更为可靠的研究得出的结论为：咖啡与骨质疏松的发病无关，估计这项研究成果公布之后，咖啡的消费量会显著上升。

上述推论基于以下哪项假设（ ）。

- A. 老年人易患骨质疏松，而老年人并不爱喝咖啡
- B. 爱喝咖啡的年轻人很少患有骨质疏松症
- C. 咖啡搭配牛奶会大大减少骨质疏松症的患病风险
- D. 许多人不喝咖啡是因为他们相信咖啡会导致骨质疏松

26. 在一次考古发掘中，考古人员在一座唐代古墓中发现多片先秦时期的夔文（音 kuí，一种变体的龙文）陶片。对此，专家解释说，由于雨水冲刷等原因，这些先秦时期的陶片后来被冲至唐代的墓穴中。

以下哪项如果为真，最能质疑上述专家的观点（ ）。

- A. 在这座唐代古墓中还发现多件西汉时期的文物
- B. 这座唐代古墓保存完好，没有漏水、毁塌迹象
- C. 并非只有先秦时期才使用夔文，唐代文人以书写夔文为能事
- D. 唐代的墓葬风俗是将墓主生前喜爱的物品随同墓主一同下葬

27. 盐：咸

- A. 花：香 B. 丝：棉
- C. 光：亮 D. 墨：臭

人。那么参加该次运动会的总人数为（ ）。

- A. 75
- B. 82
- C. 88
- D. 95

34.甲每工作 5 天休息周六周日 2 天，法定节假日如非周六周日也要加班。已知甲某年休息了 106 天，那么他下一年 12 月的第一个休息日是（ ）。

- A. 12 月 1 日
- B. 12 月 2 日
- C. 12 月 3 日
- D. 12 月 4 日

35.一个学校某年级共有学生 1000 名，其中选修英语课的学生有 480 名，选修数学课的学生有 600 名，那么至少有（ ）名学生两门课都上。

- A. 60
- B. 80
- C. 100
- D. 120

2011 年全国农民工总量达到 25278 万人，比上年增加 1055 万人，增长 4.4%。农民工从业仍以制造业、建筑业和服务业为主，从事建筑业的比重明显提高。从农民工的就业地区来看，2011 年在东部地区务工的农民工 16537 万人，比上年增加 324 万人；在中部地区务工的农民工 4438 万人，比上年增加 334 万人，增长 8.1%；在西部地区务工的农民工 4215 万人，比上年增加 370 万人，增长 9.6%。

2008~2011 年农民工从事的主要行为分布 （单位：%）

	2008 年	2009 年	2010 年	2011 年
制造业	37.2	36.1	36.7	36.0
建筑业	13.8	15.2	16.1	17.7
交通运输、仓储和邮政业	6.4	6.8	6.9	6.6
批发零售业	9.0	10.0	10.0	10.1
住宿餐饮业	5.5	6.0	6.0	5.3
居民服务和其他服务业	12.2	12.7	12.7	12.2

2011 年农民工在不同地区从事的主要行业分布 （单位：%）

	全国	东部地区	中部地区	西部地区
制造业	36.0	44.8	23.0	15.4
建筑业	17.7	13.4	24.7	27.4
交通运输、仓储和邮政业	6.6	5.5	8.1	9.3
批发零售业	10.1	8.7	13.1	12.5

2. 某公司业务员李某最近收到某客户长期拖欠的货款 10 万元整。他认为没人知道，就没有存入公司账户，而是直接把钱买了股票。其妻发现后，对他极力规劝，李某悔悟，第二天卖掉股票，将钱还给公司。李某的行为属于（ ）？

- A. 犯罪中止
- B. 犯罪未遂
- C. 犯罪既遂
- D. 不构成犯罪

3. 下列诗句与涉及人物对应不正确的是：（ ）

- A. 天子呼来不上船，自称臣是酒中仙——张旭
- B. 举世皆浊我独清，众人皆醉我独醒——屈原
- C. 醉里挑灯看剑，梦回吹角连营——辛弃疾
- D. 对酒当歌，人生几何，譬如朝露，去日苦多——曹操

4. 关于我国境内原始人，说法错误的是：（ ）

- A. 元谋人是我国最早的人类
- B. 北京人已经能够使用天然火
- C. 河姆渡居民能种植水稻
- D. 半坡居民是父系氏族部落

5. 关于铁下列说法错误的是：（ ）

- A. 铁的导电性比铜弱
- B. 铁器的表面锈可减缓其内部的锈蚀速度
- C. 战国时期已使用铁器农具
- D. 铁可以从硫酸铜溶液中置换出单质铜

6. 下列成语对应错误的是：（ ）

- A. 三下五除二——珠算
- B. 丢车保帅——象棋
- C. 丝丝入扣——纺织
- D. 严丝合缝——刺绣

7. 关于天文学下列说法错误的是：（ ）

- A. “七月流火”指火星
- B. 北斗七星位于大熊座
- C. 哈雷彗星环绕太阳一周需要 76 年
- D. 太阳除了自转，还绕着银河系的中心运动

8. “水往低处流”，但我们也可以引水上山，使“水往高处流”。这说明（ ）？

- A. 规律可以被创造，也可以被消灭
- B. 规律是客观的
- C. 规律是主观的
- D. 人们可以创造条件，改变规律起作用的具体形式，利用规律为人类造福

9. 《中共中央关于推进农村改革发展若干重大问题的决定》指出，目前，我国农村正在发生新变革具备许多有利条件，也面对不少困难和抗战，各级党委和政府要居安思危，坚持因地制宜，分类指导，创造性地开展工作。这说明（ ）？

- A. 条件是可以改变的
- B. 条件是可以任意改变的
- C. 条件是不可以改变的
- D. 并非任何事物都是有条件的

10. 根据《婚姻法》相关规定，下列婚姻不属于无效婚姻的是（ ）？

- A. 甲在老家已与一女领结婚证，后出来打工，又与别人结婚
- B. 乙无意中撞见了某女的秘密，便威胁她和其结婚，否则便将秘密宣传出去，该女被迫与其结婚
- C. 丙与姨家表妹青梅竹马，无奈家人不同意，两人便远走他乡，秘密结了婚
- D. 丁今年 20 岁，其与同龄的某女自小定亲，经算命今年是旺年，便结了婚

11. 非物质文化遗产的形式、内容、表现手法乃至传统技艺，都必须尽量原汁原味，随便地“_____”就失去了本来的文化意义了。就好像京剧，加入西洋器乐或其他剧种的表演技法、剧目等，只能算是移植、开发新艺术形式，而不是保护和传承了。再如国画加油彩，茶道添歌舞，梆子、越剧或黄梅戏塞进街舞等等，岂非_____。

填入划横线部分最恰当的一项是（ ）

- A. 添枝加叶 不伦不类
- B. 洋为中用 买椟还珠
- C. 照猫画虎 得不偿失
- D. 改头换面 邯郸学步

12. 在研发过程中，科研机构不仅需要大型仪器设备，也需要文献、数据、实验动物及其组织样本库等资源。一个调研课题的统计表明，各方对科技文献和数据的需求居于首位。目前这些重要资源大量沉淀在高校和科研院所，需要使用它们的单位(尤其是企业)无法_____。这些资源都是用财政科技资金_____的，使用率低意味着科技投入的低效。

填入划横线部分最恰当的一项是（ ）

- A.介入 置备
- B.分担 置办
- C.共享 购置
- D.获取 添置

13.理想的学术状态应该是这样的：所有学者都_____于自己的研究，一旦出现抄袭现象，就无可避免地_____指责，最终付出相当的代价。

填入划横线部分最恰当的一项是（ ）

- A.投身 引发
- B.潜心 招致
- C.醉心 遭受
- D.专注 承受

14.大凡经典名著，都以艺术的形式演绎着时代变迁的故事、_____着社会前行的力量；名垂青史的艺术大师，都把为时代立传、为人民放歌作为艺术追求，相比_____的宫廷文献，文艺作品应以其特有的艺术旨趣、审美价值和情感功能，去赢得更广大的受众群，去获得更广泛的关注度，从而具有更持久的生命力、更深远的影响力、更强大的感召力。

填入划横线部分最恰当的一项是（ ）

- A.昭示 艰深晦涩
- B.积蓄 照本宣科
- C.凝聚 循规蹈矩
- D.引领 曲高和寡

15.每到社会转型期，变革的大潮汹涌澎湃，有的人随波逐流，趋利忘义；有的人蒿目时艰，慷慨激愤；有的人则脚踏实地，_____，不以物喜，不以己悲，为国家、民族的兴旺发达做出了贡献。趋利者必将被浪潮所吞没，鼓噪者必将为现实所折服，唯有身体力行者有所成。古人云，不积跬步，无以致千里；不积小流，无以成江海。大浪淘沙，结局_____。

填入划横线部分最恰当的一项是（ ）

- A.呕心沥血 水到渠成
- B.兢兢业业 迥然不同
- C.废寝忘食 天渊之别
- D.宠辱不惊 毫无二致

16.知识分子固然更爱发言，但公共发言并非知识分子的“特权”。言论自由和监督政府是《中华人民共和国宪法》所赋予人民的基本权利。作为公民，不管是知识分子，还是其他人，均有权利对任何一项政府政策提出不同意见，这也是一个民主法治社会正常运转的基本要求。一个充分尊重和保障公民权利的社会，不必特别给知识分子颁发“赦免状”，更不必特别提防知识分子。

这段文字意在说明（ ）

- A.并非只有知识分子才能进行公共发言
- B.社会应当保障所有公民的言论自由
- C.社会应正确看待并充分尊重知识分子
- D.公民有义务对政府进行舆论监督

17.在经济社会发展繁荣、民族文化高度自觉自信的当下，国家戏曲扶持政策的及时出台，为戏曲新一轮振兴加油助力。但是，戏曲人才的培养是最为迫切的问题，倘若戏曲人自己不进取，不培养接班人、后继者，不注重梯队建设，只是一味“啃老”，戏剧人才就会断档，传承与弘扬戏曲将无从谈起。

这段文字意在说明（ ）

- A.人才问题是目前戏曲文化传承的瓶颈
- B.只有培养戏曲人才才能弘扬戏曲文化
- C.目前戏曲艺术界的“啃老”现象严重
- D.要出台戏曲扶持政策来拯救戏曲文化

18.语言文字功底扎实，大致意思是要求学者能较好地掌握研读经典和撰写论文所需要的语言文字。这一点具有普适性，而对于研究传统文化或西方文化、印度文化的学者来说尤其重要。没有扎实的古文字功底，不熟练掌握英语、梵文等外语，仅从白话本、汉译本这些第二手资料入手来做学问，固然也可以取得一定的学术成果，但不大可能成为学术大家。

这段文字意在说明（ ）

- A.掌握古文字和外语是搞好学术研究的前提
- B.占有第一手资料才能取得突出的学术成果
- C.正确解读语言文字是文化研究的关键所在
- D.语言文字功底影响学术研究的深度与水平

19.城墙是古代城市的标志，也是研究城市发展的独特角度，对中国城墙的描述，自古以来就大量出现在正史、方志、文学作品或绘画中，并且是都城学、规划学、军事学等多门

学科的重要研究对象，这说明城墙并非一堵“墙”那么简单，可以说，每一座古城墙，都是一本厚重的大书，每一块城砖、每一座城门、每一段护城河，都是这本大书中的一行一页，面对如此厚重的中国城墙，我们当心存敬畏。

这段文字意在说明（ ）

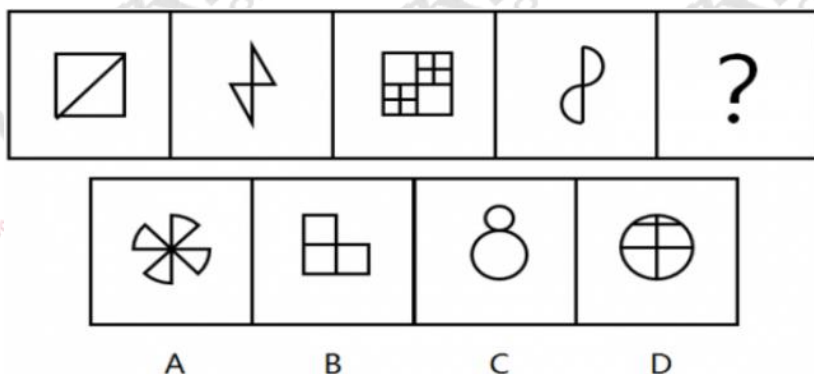
- A.应对古城墙的文化遗产价值予以重视
- B.古城墙的文化价值远高于其商业价值
- C.亟须对现存的古城墙开展保护和研究
- D.城墙为研究城市发展提供了独特视角

20.长期以来，政府对公共事务的处理处于相对垄断状态。随着社会转型加剧，社会治理遇到的挑战越来越多，政府已无力也没有必要去处理诸多繁杂的社会性事务。这一局面的出现，迫切要求厘清政府与社会的关系，社会能处理的交给社会，政府只是进行宏观调控和监督等必须由政府自身完成的事务，也就是从全能型政府转变为服务型政府。政府购买公共服务，有助于剥离政府的一部分职能，扩大社会自我服务的空间，使社会有能力进行自我管理和自我服务，最终促进社会整体效率的提高。

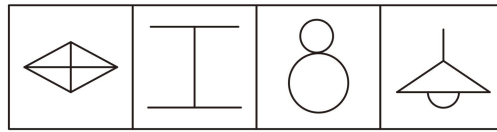
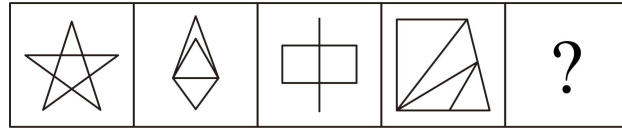
这段文字意在强调（ ）

- A.政府对公共事务的垄断阻碍了社会效率的提高
- B.政府职能向服务型转变是社会转型的内在要求
- C.社会转型弱化了政府在处理公共事务中的作用
- D.购买公共服务是今后政府提高效率的首要方式

21. 从所给选项中，选择最合适的一个填入问号处，使之呈现一定的规律性（ ）。



22. 从所给选项中，选择最合适的一个填入问号处，使之呈现一定的规律性（ ）。



A B C D

23. 如果小李乘坐火车或飞机去云南旅行，小张就会跟他一起去，只要小李不乘坐火车去云南，小王就会跟他一起旅行。实际上，小张最近一直躲在江南某小镇写作，闭门不出也不想外出。

根据以上陈述，可以得出以下哪项（ ）。

- A. 小李跟小张一起旅行 B. 小李跟小王一起旅行
C. 小李乘坐火车去云南 D. 小李乘坐飞机去云南

24. 人的寿命长短与心率之间有很大关系。研究发现在正常范围内，心率越慢人越长寿。而高血压患者往往忽视对心率的监测。当高血压患者心率大于每分 84 次时，会比心率低于每分钟 65 次的患者增加一倍罹患冠心病的风险；而心率每分钟大于 79 次的高血压患者其死亡风险相对于小于这个数值的患者而言会增加 89%。因此，高血压患者控制血压的同时，也要做到心率控制。

由此可以推出：

A. 高血压患者往往只注意到了从血糖、血脂等方面全面管理血压，却忽视了对心率的管理

B. 正常范围内心率较快的高血压患者，继发其他疾病的风险更高

C. 对于高血压患者来说，当静息心率大于每分钟 84 次时就应该进行心率管理了

D. 同时患高血压和冠心病的患者其对目标心率的要求会比单方面的高血压患者更高

25. 有人认为，S 国政府对社会科学研究的经费投入不见得有利于科研水平的提高，近十年间，S 国政府对社会科学研究的经费投入年增长超过 20%。但是这十年间 S 国社会科学领域发表的论文数量却没有显著增长。

上述结论的成立必须补充以下哪一项前提（ ）。

A. 论文发表数量是衡量社会科学研究水平的重要指标

B. 近十年间 S 国社会科学领域的研究人员数量显著增长

C. 近十年间 S 国物价水平逐年增长

D. 近十年间 S 国社会科学领域的研究人员在国外发表的论文数量没有显著增长

26. “东胡林人”遗址是新石器时代早期的人类文化遗址，在遗址中发现的人骨化石经鉴定属两个成年男性个体和一个少年女性个体。在少女遗骸的颈部位置有用小螺壳串制的项链，腕部佩戴有牛肋骨制成的骨镯。这说明在新石器时代早期，人类的审美意识已开始萌动。

以下哪项如果为真，最能削弱上述论断（ ）。

- A. 新石器时代的饰品通常是石器
- B. 出土的项链和骨镯都十分粗糙
- C. 项链和骨镯的作用主要是表示社会地位
- D. 两个成年男性遗骸的颈部有更大的项链

27. 鹅：羽毛球

- A. 大象：象牙 B. 鸡：鸡尾酒
- C. 狐狸：皮草 D. 狼：狼图腾

28. 臭氧层：气候变暖

- A. 盗猎：物种灭绝 B. 森林：水土流失
- C. 干旱：土地沙化 D. 酸雨：水源污染

29. 排污交易权是指在一定区域内，在污染物排放总量不超过允许排放量的前提下，内部各污染源之间通过货币交换的方式相互调剂排污量，就是建立合法的污染物排放权，允许这种权利像商品那样被买入或卖出，从而达到污染物的排放控制。

根据上述定义，下列哪项属于排污交易（ ）。

A. 包装厂今年二氧化碳的排放量预计为 1600 吨，超过了规定的 1300 吨，该厂向同区域的电厂购买了其剩余的 300 吨排放量

B. 造纸厂 2005 年规定排出二氧化碳的上限为 1000 吨，而实际上每年排出的总量不超过 800 吨，于是将剩余的 200 吨二氧化碳的排放量送给了旁边的炼铁厂

C. 印刷厂今年排放二氧化碳的总量为 1300 吨，超过了规定的 1000 吨，但该厂只向污水处理厂购买了区域内仅剩的 200 吨二氧化碳的排放量

D. 按照规定，轮船厂今年二氧化碳的排放总量是 1500 吨，而由于业务拓展，实际排放量要达到 2000 吨，于是打算购买 500 吨该厂明年的二氧化碳排放量

30. 村务公开：农村基层自治组织，采取适当的措施，依法将本村公共事务的信息向村民公布，接受群众监督的行为。

下列不属于村务公开的行为是（ ）。

- A. 春节前，村委会主任通过村广播通报政府救灾款物已到的信息
- B. 村头公告栏每季度按时公布村委会办公招待费使用情况
- C. 乡党委下派干部就村党支部换届选举问题征求党员意见
- D. 村委会文书给外出务工农民一一打电话，通报他们资助兴建的村办幼儿园工程进展情况

31.甲、乙、丙 3 个施工队，乙的工效与甲、丙两队合作的工效相等，丙的工效是甲、乙两队合作工效的四分之一。现有一项工程，据测算，三队合作 30 个工作日可完成。如果由甲队单独来做，需要多少个工作日？（ ）

- A. 60
- B. 96
- C. 100
- D. 150

32.从 A 市到 B 市的航班每周一、二、三、五各发一班。某年 2 月最后一天是星期三。问当年从 A 市到 B 市的最后一次航班是星期几出发的？（ ）

- A. 星期一
- B. 星期二
- C. 星期三
- D. 星期五

33.甲、乙、丙三人的月收入分别为 6000 元、3000 元、1000 元。如果保持三人月收入比值不变且使平均月收入达到 5000 元，则丙的月收入增加了（ ）

- A. 600 元
- B. 500 元
- C. 400 元
- D. 300 元

34.某班级共有 50 名学生，某次考试后发现，所考的三门课程得分优秀率分别为 10%、20%和 16%，三门不及格率分别为 12%、18%和 10%，问如果在该班任选一名学生，至少有一门课程得分优秀且至少有一门课程不及格的最大概率为多少？（ ）

- A. 20%
- B. 16%
- C. 46%
- D. 40%

35.在 400 米的环形跑道上每隔 16 米插一面彩旗。现在要增加一些彩旗，并且保持每两面相邻彩旗的距离相等，起点的一面彩旗不动，重新插完后发现共有 5 面彩旗没有移动，则现在彩旗间的间隔最大可达到（ ）米。

- A. 15
- B. 12
- C. 10
- D. 5

2010 年，某省广电实际总收入为 145.83 亿元，同比增长 32.07%。其中，广告收入为 67.08 亿元，同比增长 25.88%；有线网络收入为 45.38 亿元，同比增长 26.35%；其他收入为

33.37 亿元，同比增长 57.3%。

2010 年，该省广电收入中，省级收入为 65.32 亿元，上年增加 15.5 亿元；地市级收入为 41.61 亿元，比上年增加 13.39 亿元；县级收入为 38.90 亿元，比上年增加 6.52 亿元。

2010 年该省各市、县广电收入的区域分布如下：

东部地区 50.06 亿元，同比增长 32.48%，占市县收入份额的 62.18%，该地的市均收入为 10.01 亿元，上年同期为 7.56 亿元。中部地区 17.78 亿元，同比增长 40.70%，该地区的市均收入为 5.93 亿元，上年同期为 4.21 亿元。西部地区 12.67 亿元，同比增长 80.86%，该地区的市均收入为 2.53 亿元，上年同期为 1.4 亿元。

截止 2010 年底，该省有线电视用户数为 1885.88 万户，比上年末净增 161.7 万户。其中有线数字电视用户为 1007.8 万户，比上年末净增 277.58 万户。

36. 2009 年，该省的有线网络收入约为多少亿元？（ ）

- A. 21
- B. 36
- C. 57
- D. 110

37. 2009 年，该省广告收入占广电总收入的比重约为（ ）。

- A. 23%
- B. 26%
- C. 31%
- D. 48%

38. 2010 年，该省地级市广电收入的同比增速约为（ ）。

- A. 15%
- B. 20%
- C. 32%
- D. 47%

39. 2010 年，该省有线电视用户平均每月的有线网络费用约为多少元？（ ）

- A. 20
- B. 36
- C. 180
- D. 240

40. 关于该省广电收入的情况，下列说法正确的是（ ）。

- A. 2010 年，省级广电收入同比增长金额低于县级
- B. 2010 年，东部地区广电收入超过中部地区的 3 倍
- C. 2009 年，中部地区市均广电收入约是西部地区的 3 倍
- D. 2010 年，有线电视用户中有线数字电视用户的比重不足一半

1. 下列省份中，既临海又与外国接壤，又属于长江以南的省份有（ ）？

- A. 广东
- B. 辽宁
- C. 广西
- D. 福建

2. 世界上长度最长的河流是（ ）？

- A. 尼罗河
- B. 密西西比河
- C. 亚马孙河
- D. 长江

3. 虎求百兽而食之，得狐。狐曰：“子无敢食我也，天帝使我长百兽，今子食我是逆天帝命也，子以我为不信，吾为子先行，子随我后，观百兽之见我而敢不走乎”虎以为然，故道守之行，兽见之皆走，虎不知兽畏己而走也，以为畏狐也，虎之所以犯这种错误在于割裂了（ ）？

- A. 本质与现象之间的关系
- B. 内容和形式之间的关系
- C. 必须片偶然之间的关系
- D. 可能与现实之间的关系

4. 意识产生的决定性环节是（ ）？

- A. 语言
- B. 人脑的进化
- C. 劳动
- D. 动物的性理

5. 下列哪个行为，不属于“拉动经济的三驾马车”中的内容（ ）？

- A. 国家加大对小型企业的扶持力度保护
- B. 国家增设端午节等法定节假日
- C. 政府创造有利于企业扩大外贸出口的政治环境
- D. 国家新建 1000 套廉租房

6. 近来，人民币汇率屡创新高。众所周知，汇率变动会对我国对外经济活动产生影响，面对人民币不断升值，下列表述不正确的是（ ）？

- A. 利于中国经济长远发展
- B. 利于航空旅游行业发展
- C. 出口产品竞争力下降
- D. 人民币购买力增强

7. 明末清初三大学问家指的是（ ）？

- A. 朱熹、王守仁、顾炎武
- B. 戴震、王夫之、魏源
- C. 董仲舒、黄宗羲、王夫之
- D. 黄宗羲、顾炎武、王夫之

8. 根据我国国防动员法的有关规定，在国家的主权、统一、领土完整和安全遭受威胁时，决定全国总动员或局部动员和发布动员令的分别是（ ）？

- A. 全国人民代表大会、国务院总理

- B. 国家主席、国务院总理
- C. 全国人民代表大会常务委员会、国家主席
- D. 全国人民代表大会常务委员会委员长、国家主席

9. 根据《宪法》规定，有权修改宪法的国家机关是（ ）？

- A. 国务院
- B. 全国政协
- C. 全国人大
- D. 全国人大常委会

10. 我国航天技术在多方面达到了世界先进水平，成为仅次于俄罗斯、美国的航天大国。

目前我国的航天技术不包括（ ）？

- A. 卫星回收技术
- B. 载人航天技术
- C. 多级火箭分离技术
- D. 航天飞机发射技术

11. 想象一家服装店，他们可以模拟你穿上不同衣服的照片，生成的图像可以通过模糊面部实现匿名立即被放到一家特殊的网站上，那里的用户可以提出自己的观点，告诉你哪件衣服让你显得更瘦。几秒钟内，你就会从毫无任何偏见的陌生人那里得到_____的、可靠的反馈。既然你能免费获得答案，为什么还要依赖由佣金_____的销售员呢？

填入划横线部分最恰当的一项是（ ）

- A. 多元 驱使
- B. 主观 推动
- C. 客观 驱动
- D. 公正 指使

12. 在手机终端参数逐步_____，外观设计越来越难以超越的情况下，手机品牌的_____因素，品牌的故事魅力，也许在未来就会成为消费者选择手机的重要因素。这与汽车产业走过的路是一样的，每个人买的车绝不仅仅是一台车，而是一种身份与生活的认同感，是一种情怀的归属感。

填入划横线部分最恰当的一项是（ ）

- A. 吻合 感性
- B. 趋同 情感
- C. 接近 价格
- D. 异化 文化

13. 从账面数据来看，此时还略有_____，但钢铁行业下滑的趋势已开始_____——2015年上半年，全国粗钢产量同比出现近20年来首次下降。由于传统用钢行

业增长动力不足，钢材需求持续下降，而市场供大于求的结果，就是钢材价格持续下跌。

填入划横线部分最恰当的一项是（ ）

- A. 营利 凸显
- B. 盈利 显现
- C. 赢利 明显
- D. 获利 突现

14. 写作好比一场_____，读书便是补充给养。所谓“带甲十万，千里馈粮”，没有源源不断的_____，写作将变成自我重复，言说将变成唠叨。与一般的写作者不同，评论人在长征过程中还要持续短促突击。“每役必与”是_____的，有时一场战役要参战若干次，比如天津爆炸、长江沉船这样的重大事件。

填入划横线部分最恰当的一项是（ ）

- A. 旅行 粮食 通用
- B. 比赛 供养 必备
- C. 远足 供给 日常
- D. 远征 补给 基本

15. 当今是改革开放、包容融合的时代，中小学教材需要更多地从人类文明共同的优秀成果中_____营养，一定要在教材内容中分清楚哪些是外国的，哪些是中国的，一定要判定外国内容占比多大就构成“严重西化”，这种简单机械的思维和粗暴生硬的做法早该_____了。

填入划横线部分最恰当的一项是（ ）

- A. 吸取 摒弃
- B. 汲取 扬弃
- C. 吸纳 抛弃
- D. 获取 唾弃

16. 地震短期、临震预报仍是世界性难题，目前，精确预测地震的震级和时间还无法做到。国外地震学家普遍认为，地壳下层的塑性岩石或蛇纹岩被挤进地壳上层的裂缝中时，就会引发地震。这些容易滑动的蛇纹岩是由富含铁、镁的矿物与水作用而生成的，在此过程中会产生氢气，一旦该层发生断裂，氢气就经由断层的裂隙冒出，致使正常空气中的氢气浓度剧增。

这段文字的主旨是（ ）

- A.说明地震并非不可预测
- B.描述地震发生的大致过程
- C.介绍一种地震预测的方法
- D.揭示地震与地层断裂的关系

17.文物价值观具有相对的稳定性和持久性，但也会随着社会环境、个人人生观、世界观的改变而发生变化。由于社会地位、文化差异、利益关系等原因，使得人们的文物价值观在不同的时间、地点、场合都会表现出很大的不同。政府的文物价值观可能取决于决策人员——文物工作者的文物价值观，通常会表现出相对的先进性、积极性和稳定性，一般民众的文物价值观则依赖于国家政策、社会舆论导向、个人文化素质等因素。

这段文字主要谈论的是（ ）

- A.文物价值观变迁的原因
- B.不同文物价值观的优缺点
- C.文物价值观差异性的表现形式
- D.文物价值观存在差异的原因

18.古人写诗“二句三年得，一吟双泪流”；写小说，动辄“闭门谢客，披阅十载”。现在许多作家每年出好几部长篇，几十万字，个把月就写成了。没有对生活的日积月累，没有对人生的深思熟虑，没有对写作的精心布局，没有对文字的字斟句酌，反复修改，怎么会有精品？又怎能抵抗时间的淘汰？“创作”如果说不同于别的工作，就在于一个“创”字；如果说有难度，也在于一个“创”字，既不同于前人，又不同于自己。

这段文字主要表明（ ）

- A.生活是创作的源泉
- B.时间是艺术作品的试金石
- C.今人的创作态度不如古人严肃
- D.长期潜心创作，才会出高质量的作品

19.设计美术馆向来是建筑师莫大的机遇，他们会因此得到可以尽情施展最炫目华彩技法的舞台。而在凡·高美术馆，从最初设计草图的里特维尔德，到负责设计配楼的黑川纪章，再加上为他们拾遗补缺的凡·古尔，都不约而同地采取了非常低调内敛的姿态，绝无半分喧宾夺主的企图。是不是该猜测，他们面对着如此特殊的对象，都明了自己的使命就是不要用华丽去玷污了凡·高？就把绚丽全都留给画笔下那如焰火般旋转的星空吧！

对这段文字的主旨概括最准确的是（ ）


- A.说明凡·高具有璀璨的艺术成就
- B.探讨凡·高美术馆风格朴素的缘由
- C.点评三位建筑师独特的设计风格
- D.分析凡·高美术馆统一风格形成的背景

20.近年来,全球纸价持续上涨,据分析,纸浆的价格会越来越高,而出于环保的原因,全球的纸浆生产能力却在减弱。油价的上涨会让问题变得更糟糕,而据预测,这一上涨趋势并不会在短期内逆转。当纸价上涨到一定程度,必然反映到书价上,即使不考虑买书人会因为额外支出而减少购买,增加的占用资金也会令书店的经营风险增加。

对这段文字的主旨概括最准确的是 ()

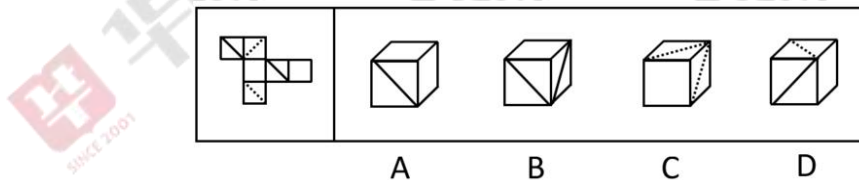
- A.说明书价必然上涨的诸多原因
- B.分析未来图书零售业的发展趋势
- C.揭示能源问题与图书行业的关系
- D.预测图书零售业将面临经营困境

21.把下面的六个图形分为两类,使每一类图形都有各自的共同特征或规律,分类正确的一项是 ()。



- A. ①③⑤, ②④⑥
- B. ①④⑤, ②③⑥
- C. ①③④, ②⑤⑥
- D. ①②⑤, ③④⑥

22.左边给定的是纸盒的外表面,下列哪一项能由它折叠而成 ()。



23.如果今年的旱情仍在持续且人们抗旱不力,那么今年的农作物就会减产,并且农民的收入会降低。但是,多项证据表明,今年农民的收入不仅不会降低,反而会有所提高。

据此,可以推出 ()。

- A.今年的旱情仍在持续,且人们抗旱不力
- B.今年的旱情仍在持续,或人们抗旱不力

- C. 今年的旱情没有持续，或人们抗旱有力
- D. 今年的旱情没有持续，且人们抗旱不力

24. 张老师将文房四宝装在一个有四层抽屉的柜子里，让学生猜笔、墨、纸、砚分别在每一层。按照笔、墨、纸、砚的顺序，小李猜测四宝依次装在第一、二、三、四层，小王猜测四宝依次装在第一、第三、第四和第二层，小赵猜测四宝依次装在第四、第三、第一和第二层，而小杨猜测四宝依次装在第四、第二、第三和第一层。张老师说，小赵一个都没有猜对，小李和小王各猜对了一个，而小杨猜对了两个。

由此可以推测（ ）。

- A. 第一层抽屉里装的是墨 B. 第二层抽屉里装的是纸
- C. 第三层抽屉里装的不是笔 D. 第四层抽屉里装的不是砚

25. 通常情况下，人们都会觉得日照久了会有头晕目眩的感觉，会让机体血压升高，身体感觉不适，但最新研究发现，阳光中的紫外线其实有着不为人知的作用，不仅不会升高血压，还有助于降低血压。

以下哪项如果为真，不能支持上述结论（ ）。

- A. 紫外线照射可以将人体中积存的氮释放到血液中去，这会引发皮肤细胞释放出一氧化氮，而这种化合物有助于舒缓血管
- B. 持续日照时人们会感觉体温升高，心跳加快，如果没有适当补充水分，血压就会升高
- C. 实验发现，不同波长的紫外线，对血压的影响差异极大，一般而言长波紫外线有益于降压，而短波则没有效果
- D. 志愿者晒太阳 20 分钟后血压均有小幅下降，而未晒太阳的对照组志愿者血压没有明显变化

26. 目前，是否应该提升水价成为人们热议的问题，有学者认为水价应该上涨，其原因有两个。一是提升水价有利于节约用水。价格提高了，人们自然会节约成本。二是有利于水质的提升，虽然价格上去了，但是如果水质相应提升，可以达到纯净水的水质，对于大家来说，相当于购买纯净水。水质提升是需要成本的，因此水价上涨是可以接受的。

以下哪项如果为真，不能反驳该学者的论证（ ）。

- A. 基础资源提价的最终结果只能是百姓受损和通货膨胀
- B. 节水观念深入人心才是实现节约用水的根本途径
- C. 在现有的涨价幅度内还无法使水达到纯净水的水质

D. 提升的水价实际上只占人们生活支出的很小一部分

27. 沸腾：沸点

A. 航行：动力 B. 取暖：点火

C. 加热：融化 D. 联络：书信

28. 西游记：孙悟空：吴承恩

A. 三国志：曹操：刘备 B. 红与黑：于连：司汤达

C. 竞选州长：黑人小孩：马克·吐温 D. 希腊神话：宙斯：荷马

29. 高峰体验：人在追求自我实现过程中，经过基本需求的追求并获得满足之后，在追求自我实现时体现到的一种臻于顶峰而又超越时空和自我的心理满足感和成就感。

下列不属于高峰体验的是（ ）。

A. 运动员经过奋力拼搏终于登上冠军领奖台时的激动心情

B. 电视机前的观众看到中国制造的火箭遨游太空时的豪迈心情

C. 科学家排除困难，解决重大科研难题后的畅快心情

D. “十年寒窗苦读，今日金榜题名”时的愉悦心情

30. 法律道德背反现象：许多人以为合乎道德的行为是不会违法的，但是现实社会中，某些符合一般道德原则的行为却被法律所禁止。

下列哪项不属于“法律道德背反现象”（ ）。

A. 某护士出于同情，应一晚期癌症患者本人要求帮助他实行安乐死，以解除其无法忍受的痛苦，后被控犯谋杀罪

B. 某甲花一万元从人贩子手上购买一男孩为子，视为己出，关爱有加，两年后民警来“解救”时，孩子不愿离开现“父母”

C. 某乙为解决农民工子女上学难，办了一所收费低廉的小学，被指非法办学而不得不停办，许多孩子因此再度失学

D. 某丙刑满释放回乡后扬言报复“仇人”，并准备了凶器，其父劝阻无效后为免其犯下血案将其捆绑关押在家长达三个月，该行为涉嫌非法拘禁

31. 地铁 10 号线全线共有 28 站，如果地铁从一站到下一站平均要用 2 分钟，在每个站停靠时间为 1 分钟，那么地铁 10 号线从起点出发，到达终点站共用（ ）分钟。

A. 78

B. 79

C. 80

D. 81

32. 三个工程队完成一项工程，每天两队工作、一队轮休，最后耗时 13 天整完成了这项

进出口贸易额	36.6	35.3	25.3	28.4	14.3	38.3	34.7
--------	------	------	------	------	------	------	------

1.三大经济圈中，2010年三个产业增长速度均超过全国平均水平的有几个？（ ）

- A. 0
B. 1
C. 2
D. 3

37.2010年，珠三角地区第二产业产值占国内生产总值的比重为（ ）。

- A. 3.72%
B. 5.76%
C. 4.74%
D. 6.78%

38.2010年地方财政收入占地区生产总值比重低于全国平均水平的经济圈是（ ）。

- A. 长三角
B. 珠三角
C. 京津冀
D. 以上皆非

39.2010年，京津冀经济圈的哪一经济指标值居三大经济圈之首？（ ）

- A. 实际利用外资占全国比重
B. 进出口贸易额占全国比重
C. 固定资产投资增长速度
D. 第一产业值增长速度

40.能够出上述资料中推出的是（ ）。

- A. 产业结构越向第三产业倾斜的经济圈，进出口贸易额增长越迅速
B. 地区生产总值越高的经济圈，其地区生产总值增长速度越低
C. 社会消费品零售额越高的经济圈，进出口贸易额越高
D. 固定资产投资越高的经济圈，实际利用外资额越低

第 12 天

1. 根据我国宪法规定，决定战争与和平问题的职权由（ ）？

- A. 全国人民代表大会常务委员会行使
B. 全国人民代表大会行使
C. 国家中央军事委员会行使
D. 中国共产党中央军事委员会行使

2. 依照我国宪法规定，下列哪项领导人由全国人民代表大会选举产生（ ）？

- A. 国家副主席
B. 中央军委副主席
C. 国务院副总理
D. 最高人民检察院副检察长

3. 把黄河分为上中下游的两个城市是（ ）？

- A. 宜昌和湖口
B. 河口和旧孟津
C. 三门峡和开封
D. 兰州和济南

4. 塑造桂林山水的主要外力作用是 () ?

- A. 流水侵蚀
B. 风力侵蚀
C. 冰川侵蚀
D. 波浪侵蚀

5. 1958 年, 我们认为麻雀吃粮食, 于是把它列为“四害”之一, 加以消灭, 后来我们认识到麻雀在消灭害虫方面贡献很大, 便把它从四害中解放出来, 并列为保护动物。1958 年, 我们消灭麻雀的错误, 从哲学上看是没有做到 () ?

- A. 用全面的观点看问题
B. 用发展的观点看问题
C. 用实践的观点看问题
D. 用量变质变的观点看问题

6. 农村村民的宅基地属于 () ?

- A. 国家所有
B. 集体和村民共同所有
C. 村民所有
D. 集体所有

7. 年底经常是各大商家打折促销的黄金时期, 某市大商场的年终促销, 以往要在 12 月底才大规模展开, 近两年来却经常在年中提前上演, 而且力度比往年大, 各种优惠活动层出不穷, 颇有点与网店抢人气的意味。这一现象体现了市场经济具有 () ?

- A. 调节性
B. 开放性
C. 竞争性
D. 垄断性

8. 网络购物方便快捷而且相对便宜, 当前网络购物大受欢迎, 许多人都选择通过网络来购物, 小李曾在网上看中了标价为 5 欧元的一件小饰品, 那时的汇率为 1 欧元=10 元人民币。几个月后, 欧元因欧债危机贬值了 5%。此时, 如该饰品价格不变, 用人民币购买这件饰品要比一个月前 () ?

- A. 多支付人民币 0.5 元
B. 少支付人民币 0.5 元
C. 少支付人民币 2.5 元
D. 多支付人民币 2.5 元

9. 确定美元在国际经济体地位的是 () ?

- A. 维也纳体系
B. 布雷顿森林体系
C. 雅尔塔体系
D. 华盛顿体系

10. 使中国完全沦为半殖民地半封建社会的是 () 签订?

- A. 马关条约
B. 北京条约
C. 辛丑条约
D. 瑷珲条约

11. 我们不能以论文_____了论文制造工厂、论文造假工厂而否定写论文这一要求与

做法，这完全是_____。如果我们下大力气去惩处论文造假，如果都能像美国的高校那般“杀无赦”，有几个人敢这样做？论文工厂又怎么会如此泛滥？

填入划横线部分最恰当的一项是（ ）

- A.滋生 饮鸩止渴
- B.促进 因噎废食
- C.导致 竭泽而渔
- D.催生 本末倒置

12.台湾大学的 25 名学生日前为了登山培养“领导能力”，在网络上发起募款 50 万元新台币的活动，他们在企划书中自称“未来将扮演台湾社会中影响力重大的角色，请投资我们”。这一做法遭到网友恶评，有人_____活动本身没有公益性，“伸手要钱跟乞丐有什么区别”。但也有人称，只要不违法，这种做法也_____。

填入划横线部分最恰当的一项是（ ）

- A.质疑 无可厚非
- B.质问 可圈可点
- C.怀疑 无可非议
- D.置疑 情有可原

13.透支作为一种信贷方式，是造成社会经济生活中信用膨胀、货币金融市场混乱的直接原因之一。如果银行是依靠其原来吸收的各种存款和储蓄来_____透支，即不改变信用资金来源的数额而靠原来的贷款来实现透支，这种透支是有物质基础的，不会给货币市场造成太大的影响。实际上，透支往往引起银行信用资金的紧张，不得不靠_____货币发行来实现透支款项，这时的透支信贷就可能_____原有的信贷平衡，造成信用膨胀。

填入划横线部分最恰当的一项是（ ）

- A.扩大 加强 打破
- B.减少 消减 干预
- C.吸纳 紧缩 扰乱
- D.压缩 增加 破坏

14.虽然人们总是假定，只要不断_____人类的理性水平，并使信息透明化，就能_____谣言产生的土壤，但迄今为止这一直只是_____，而且很可能永远无法实现。

填入划横线部分最恰当的一项是（ ）

- A.提升 消弭 理想

- B.提高 消除 噱头
- C.增强 避免 前提
- D.强化 逃离 假设

15.东汉末期，紫檀被作为一种香料由外邦进贡给皇室，但是直至唐代，才开始在宫廷器玩中_____。到了元代，它成为皇宫中建筑以及家具制作的重要材料。清朝中期，南洋地区的优质木材流入境内，为家具制作提供了_____的原材料，同时，清初手工艺技术突飞猛进的发展和统治者的推崇，对紫檀家具的发展也起到了_____作用。

填入划横线部分最恰当的一项是（ ）

- A.大放异彩 优良 锦上添花
- B.引人注目 丰富 画龙点睛
- C.崭露头角 充足 推波助澜
- D.风生水起 珍贵 一锤定音

16.文学走进互联网，获得了一个崭新的平民化开放视野；网络上自由、兼容和共享的虚拟空间，打破了精英写作对文学话语权的垄断，为愿意上网创作的网民提供了“人人都能当作家”的机会。这种“新民间文学”，标志着文学话语权向民间回归。尽管如此，网络写作仍然不能与“人民写作”相提并论，因为文学的“人民写作”并不取决于传媒的公共性和参与的广泛性，而取决于这种文学的人民性价值取向和为广大民众喜闻乐见的审美品格。

这段文字主要说的是（ ）

- A.大众化是未来文学发展的趋势
- B.文学创作应坚持人民性的价值取向
- C.网络写作为普通人提供了平等的话语权
- D.平民化的网络文学不能等同于“人民写作”

17.据报道，某收视的亲子节目核心观众群女性观众占比近 2/3。可以想象这样的场景：晚上，年轻的母亲独自带着年幼的孩子，在家看电视上的“爸爸带孩子”，而年轻的爸爸也许还在加班、在应酬，也许只是待在卧室里打游戏、玩电脑——他们的孩子依然延续着没有父亲陪伴的故事，事实上，这种现象同样发生在母亲身上，在不少现代家庭，养育孩子的职责主要推到上一代老人身上。

这段文字旨在强调（ ）

- A.在现实生活中亲子教育的主体缺位
- B.现实生活中父母与子女间缺少交流

C.父母亲情教育缺席现代的家庭生活

D.当下亲子节目赢得共鸣的真正原因

18.在人类社会，对人类合作的基本模式与决定性因素的理解，以及对社会秩序的维持的理解，是一个跨学科的挑战。对于利他主义惩罚的存在以及与之相对的缺失而言，现在有关于高水平合作与维持的经验证据都系统性地忽视了人类社会内在的竞争制度。当惩罚与无惩罚的制度相竞争时，惩罚型制度是无可争议的赢家。

对这段文字概括最恰当的是（ ）

A.利他主义惩罚的存在使得整个社会的秩序更加井然有序

B.惩罚型制度能够强烈地促进合作并有利于维持社会秩序

C.人类合作与秩序的经验表明惩罚制度更加适合当今社会

D.我们要通过对于人类合作和社会秩序的正确理解来制定管理制度

19.今后，技术的交叉与融合会越来越明显。新一轮科技和产业革命的方向不会仅仅依赖于两类学科或某种单一技术，而是多学科、多技术领域的高度交叉和深度融合。技术融合趋势决定了战略性新兴产业不可能也不应该孤立地发展，而是既要有利于推动传统产业的创新，又要有利于未来新兴产业的崛起。而且，战略性新兴产业与其他产业之间、战略性新兴产业内部之间的融合也是大势所趋，这将使得行业间的界限越来越模糊，综合竞争力越来越强。

这段文字主要说的是（ ）

A.战略性新兴产业的发展需要顺应技术融合的新趋势

B.未来行业的界限会变模糊但综合竞争力会增强

C.提高综合竞争力将是未来产业发展的主要目标

D.战略性新兴产业是促进新一轮科技和产业革命的主力军

20.交往和独处原是人在世上生活的两种方式，对于每个人来说，这两种方式都是必不可少的，只是比例不太相同罢了。由于性格的差异，有的人更爱交往，有的人更喜独处。人们往往把交往看作一种能力，却忽略了独处也是一种能力，并且在一定意义上是比交往更为重要的一种能力。反过来说，不擅交际固然是一种遗憾，不耐孤独也未尝不是一种很严重的缺陷。

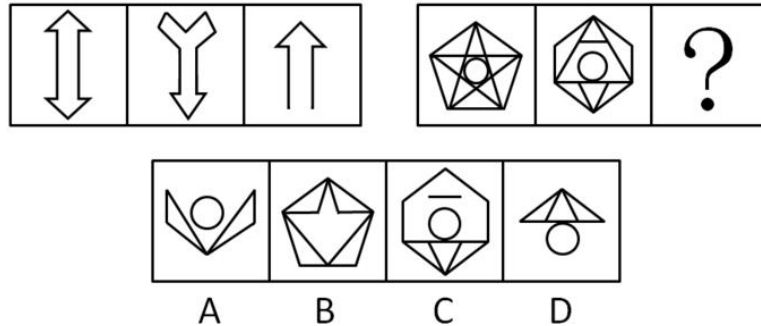
这段文字主要说明（ ）

A.每个人对交往和独处的喜爱程度不同

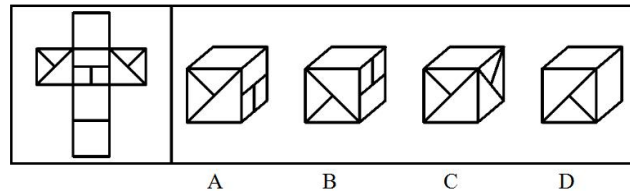
B.喜欢交往的人往往害怕独处

- C.享受孤独是一种很高的人生境界
D.生活中既要擅于交际又要能耐孤独

21. 从所给选项中，选择最合适的一个填入问号处，使之呈现一定的规律性（ ）。



22. 左边给定的是纸盒的外表面，下面哪一项不能由它折叠而成（ ）。



23. 现在的家长都爱给自己的孩子报各种培训班，有个小女孩对她的妈妈说：

- ①如果培训班的英语老师是男的，那么我就不想报英语的培训班；
- ②或者选英语，或者选舞蹈，两个必须选择一个；
- ③如果选择学舞蹈，那就不学钢琴了；
- ④钢琴和心算可以一起学。

下列哪项如果为真，可得出“培训班的英语老师是女的”的结论？（ ）

- A. 选择了学舞蹈 B. 没有选学心算
- C. 选择了学钢琴 D. 选择了学心算

24. 航天局认为优秀宇航员应具备三个条件：第一，丰富的知识；第二，熟练的技术；第三，坚强的意志。现有至少符合条件之一的甲、乙、丙、丁四位优秀飞行员报名参选，已知：①甲、乙意志坚强程度相同；②乙、丙知识水平相当；③丙、丁并非都是知识丰富；④四人中三人知识丰富、两人意志坚强、一人技术熟练。

航天局经过考查，发现其中只有一人完全符合优秀宇航员的全部条件。他是（ ）。

- A. 甲 B. 乙
- C. 丙 D. 丁

25. 具有大型天窗的百货商场的经验表明，商场内射入的阳光可增加销售额。该百货商

场的大天窗可使商场的一半地方都有阳光射入，这样可以降低人工照明需要，商场的另一半地方只有人工照明。从该商场两年前开张开始，天窗一边的各部门的销售量要远高于其他各部门的销售量。

如果正确，最能支持上面论述的一项是（ ）。

- A. 除了天窗，商场两部分的建筑之间还有一些明显的差别
- B. 在某些阴天里，商场中天窗下面的部分需要更多的人工灯光来照明
- C. 在商场夜间开放的时间里，位于商场中天窗下面部分的各部门的销售额不比其他部门高
- D. 位于商场天窗下面部分的各部门，在该商场的其它一些连锁店中也是销售额最高的部门

26. 有科学家声称，弓形虫的感染会导致精神障碍，并提出以下论据支持自己的观点：论据之一，让大鼠感染弓形虫之后，大鼠行为发生明显的变化，如变得过分焦躁等，给予抗精神病药物和杀虫药治疗之后，大鼠行为恢复正常。论据之二，弓形虫感染率高的国家，国民自杀率也较高。

以下哪项如果为真，不能质疑科学家的观点（ ）。

- A. 自杀的人并未被证实受到弓形虫感染
- B. 弓形虫对大鼠大脑的作用跟对人脑的作用不同
- C. 倾向于自杀的人常常是由于患有抑郁症
- D. 弓形虫感染会导致细胞激素水平升高，后者跟沮丧等情绪有关

27. 棕熊 对于 （ ） 相当于 （ ） 对于 迁徙

- A. 本能；鸟类
- B. 繁殖；鱼类
- C. 动物；习性
- D. 冬眠；候鸟

28. 翠竹：高洁

- A. 牡丹：华贵
- B. 青松：高山
- C. 金属：金银
- D. 青草：植物

29. 两人以上合作的作品是合作作品。合作作品应同时具备以下三个条件：（1）合作作者之间应有共同创作某一作品的意思表示；（2）在创作过程中合作作者之间始终贯彻合作创作的意图，有意识地调整各自的创作风格和习惯；（3）合作作者所各自完成的作品，应是作品整体构成的有机部分。

根据上述定义，说法**正确**的是（ ）。

A. 澳门回归晚会上演唱的《七子之歌》，其歌词改编自闻一多先生于 1925 年创作的一组诗，1999 年在澳门回归前由今人谱曲，则这首歌属于合作作品

B. 作家王某去世后，他的学生继续完成他未完成的作品，则该部作品属于合作作品

C. 1938 年武汉沦陷后，著名诗人光未然写成长诗《黄河吟》，后来由冼星海谱曲，是为《黄河大合唱》，作品完成后光未然参与了作品的修改和试唱，则《黄河大合唱》为合作作品

D. 青年学者张某近年来专注于农村市场化的研究，并完成了 40 万字的专著，他邀请著名学者为其专著做序，而后出版，则该作品属于合作作品

30. 自限性疾病，就是疾病在发生发展到一定程度后能自动停止，并逐渐恢复痊愈，并不需特殊治疗，只需对症治疗或不治疗，靠自身免疫就可痊愈的疾病。

根据上述定义，下列不属于自限性疾病的是（ ）。

A. 小方感染病毒，经妈妈精心照顾后痊愈

B. 小李得了急性肠胃炎，遵医嘱卧床、补充液体后好转

C. 小张的季节性过敏症状在夏季来临时自动好转了

D. 小刘得了感冒，虽然大量饮水，还是咳嗽两周才好

31. 某火车站有一、二、三号三个售票窗口，某天一号以外的窗口卖出了 746 张票，二号以外的窗口卖出了 726 张票，三号以外的窗口卖出了 700 张票。问当天该站共售车票多少张？（ ）

A. 1086

B. 988

C. 986

D. 980

32. 甲、乙、丙 3 个施工队，乙的工效与甲、丙两队合作的工效相等，丙的工效是甲、乙两队合作工效的四分之一。现有一项工程，据测算，三队合作 30 个工作日可完成。如果由甲队单独来做，需要多少个工作日？（ ）

A. 60

B. 96

C. 100

D. 150

33. 某论坛邀请了六位嘉宾，安排其中三人进行单独演讲，另三人参加圆桌对话节目。如每位嘉宾都可以参加演讲或圆桌对话，演讲顺序分先后且圆桌对话必须安排在任意两场演讲之间，问一共有多少种不同的安排方式？（ ）

A. 120

B. 240

C. 480

D. 1440

尼泊尔内政部3日公布的最新数据显示,该国4月25日发生的强烈地震已造成7056人死亡,14123人受伤。造成60余座印度教神殿倒塌,另有200多座神殿遭到部分毁坏,对尼泊尔的文化旅游业将造成严重影响。中国地震局高度重视并启动应急响应,中国地震应急搜救中心立即进入应急处置状态。对于地震下列说法正确的是()?

4. 尼泊尔多发地震是因为它处在地中海-喜马拉雅地震带上。

B. 世界上第一台地震仪是由张衡发明的,不可预报地震,但目前人类已经可以准确的预报地震。

C. 大部分地震的发生与地质构造有关,地震发生时,破坏最严重的地方是震源。

D. 地震无论大小都有一定的破坏性,因此要及时加强地震预警工作。

5. 邓小平理论作为一个独立科学体系,具有其特殊的性质它实质上是()?

A. 马克思主义与我国新民主主义革命和社会主义现代化建设相结合的产物

B. 马克思主义与当代中国实际形势相结合的产物

C. 马克思主义与当代中国实际和现代特征相结合的产物

D. 马克思主义与社会主义现代化建设相结合的产物

6. 下列关于“解放生产力,发展生产力”的描述不正确的是()?

A. 它是每一个新的社会制度固有的根本任务

B. 它是不体现社会制度属性的范畴

C. 它是每一个新的社会制度固有的历史使命

D. 它是社会主义的本质需求

7. 在经济生活中,往往会有一些产品之间是互相影响的,往往会有一种产品价格的变化,直接影响了另外一种产品需求的变化,下列产品属于互补品的是()?

A. 隐形眼镜与眼镜柜

B. 羽毛球与羽毛球拍

C. 猪肉与牛肉

D. 汽车与自行车

8. 面临复杂的经济形势,中国人民银行决定,自2015年4月20日起下调各类存款类金融机构人民币存款准备金率1个百分点。其中,对农村金融机构额外再降低1个百分点。机构分析称,此次降准可能释放1.5万亿流动性。这是央行在一年内第二次降准。请问下列经济手段与降准效果不一致的是()?

A. 降低银行的存贷款利率

B. 降低税率

C. 卖出有价证券

D. 降低再贴现率

9. 下列对应关系正确的一组是 () ?

A. 陕西—五台山—佛教名山

B. 安徽—九华山—道教名山

C. 湖北—武当山—道教名山

D. 四川—青城山—佛教名山

10. 计算机的数值运算是运用 () ?

A. 千进制制

B. 百进制制

C. 十进制制

D. 二进制制

11. 层层关卡, 没有堵住问题洋奶粉流向市场, 这暴露出我国食品安全监管的缺位和割裂。专家认为, 食品安全生产和监督都容不得一丁点的侥幸心理。企业、监管部门都应该有“守门”意识, 出了问题捂着、掖着, 中会带来市场信任和政府公信力的丧失。

这段文字中的“守门”主要是指企业和监管部门应把好什么关? ()

A. 品牌关

B. 国门关

C. 良心关

D. 质量关

12. 扶人案件在现实中的情形远比我们想象的复杂, 很多同类事件的经过可谓一波三折。事件的复杂性也导致了问题解决的困难。有人曾试图设置“委屈奖”, 对做好事遭讹者进行奖励; 也有一些地方曾承诺, 市民因搀扶摔倒老人被讹, 费用将由爱心专项基金承担。这些举措出发点是好的, 但没有找准问题的核心和本质, 不仅不能解决问题, 反而可能使问题更复杂。

文段中的“委屈奖”指的是 ()

A. 一些地方承诺, 市民因搀扶摔倒老人被讹, 费用将由爱心专项基金承担

B. 扶人事件一波三折的复杂性让人做好事的好心人感到委屈

C. 对人案件中做了好事扶起他人但反遭讹诈的好心人进行奖励

D. 不仅解决做好事反遭讹诈的问题, 还可能使问题更复杂

13. 近年来, 我国的发展速度很快, 每年新增的产能很大, 新增加的排放也很多, 而我们的环境容量是个定数, 环境承载力有一个边界, 现在可以说不少地区环境容量已经逼近临界点, 甚至污染超过了环境承载能力。超过了就会不断出现雾霾天气、严重的水污染事件等等, 现在每个人对此都有切身感受。这就直接体现出经济社会发展与环境之间的关系, 已经由相对宽松演变为越来越紧张了。

最适合做这段文字的标题的是 ()

A. 环境治理 刻不容缓

- B.经济要发展 环境要跟上
- C.污染与环境承载力警示
- D.切身感受身边污染

14.人们普遍认为高薪才能留住人才，但有些公司薪酬并不很高，麾下却有不少人才，可见，金钱并不是唯一的。留住优秀员工的关键并不是高薪，而在于有没有自己独特的美景。这既包括优美的自然环境，也包括独特的人文环境；催人奋进的企业精神，员工与老板之间的和睦相处；能满足员工的各种层次心理需求；帮助员工成长以及实现自我价值，获得成就感，提高幸福感。

最适合做这段文字标题的是（ ）

- A.适合的才是最好的
- B.金钱不是万能的
- C.靠什么留住人才
- D.如何打造企业文化

15.①建立一些新的交通网和新的管理制度，都是为了把若干互相冲突的地区，重新放在一个系统之内

②朝代刚兴盛的时候，新秩序产生，各个地区可以重新调节，彼此形成互补的关系

③自古以来有一句话：分久必合，合久必分。朝代由盛转衰是一定的，开国时必定兴盛太平，结束时必是内忧外患接踵而至

④我国地域广阔，各个地区天然条件不同，合在一起成为一个共同体，必须是各区域间能够互补而无冲突

⑤这并不是一个必然的历史规律，却恰好描述了一个政权是如何逐渐失去自我调节能力而走向衰败的

⑥在各地区之间协调与重新分配资源，也正是新政权的重要任务

将以上 6 个句子重新排列，语序正确的是()。

- A.③②④⑤①⑥
- B.④⑥⑤③②①
- C.④③②①⑥⑤
- D.③⑤④②⑥①

16.①这些被污染的鱼虾通过食物链又进入了动物和人类的体内

②汞具有食物链富集放大的作用

③甲基汞通过鱼虾进入人体，被肠胃吸收，侵害脑部和身体其他部位，尤以中枢神经系统损害最严重

④水俣湾地区由于常年的工业废水排放而被严重污染，水俣湾里的鱼虾也由此被污染了

⑤自然界中汞是普遍存在的，含量非常低

⑥但在水体里面，微量汞和甲基汞通过食物链逐渐富集，浓度提高到原来的几千倍或者上万倍

将以上 6 个句子重新排列，语序正确的是()

A.②⑤⑥④①③

B.④③⑤②⑥①

C.⑤②⑥③④①

D.④⑤⑥②①③

17.随着债务置换计划的实施，地方债到期不能偿付的风险基本消弭，刚性兑付再一次得到确保。但地方债管理要真正走向规范化，还有许多技术问题有待解决，其中最为突出的就是地方政府的信用评级问题。信用评级是债券定价的基础，直接关乎发行方的融资成本。但由于信用评级标准不明确，东部发达地区和西部欠发达地区的政府信用评级一样，地方政府信用和国家信用评级一样，甚至还出现地方债利率低于国债利率的情形，这在理论上显然是说不通的，也完全不能反映“市场在资源配置中起决定性作用”的要求。

这段文字意在强调 ()

A.地方债务管理风险仍需引起重视

B.地方政府信用评级制度亟待完善

C.债务利率的确定应当符合市场规律

D.解决地方债务问题应考虑地域差异

18.在现代军事中，战略威慑的地位越来越重要。战略威慑的实力，由常备军和后备力量两个部分组成，要确保这两支力量正常运转和发展，除了国民经济动员外，还需要一种无形力量的支持。这正是信息化战争中，新闻舆论战所承担的战略任务。因为没有媒体的宣传，别人就不可能全面感受到你的“强大”，其威慑作用也会大打折扣。从海湾战争到伊拉克战争，美国都是借助媒体挥舞“威慑大棒”，战前就发动大规模的舆论攻势，使对方先失一局。可见，通过舆论战抢占话语权，先发制敌，形成对已有利的战争环境，有助于实现战略目标。

这段文字意在说明 ()

A.新闻舆论战对战略威慑至关重要

- B.舆论战成为打赢信息化战争的重要手段
- C.大规模舆论攻势成为现代战争的前哨战
- D.媒体宣传是联结常备军与后备力量的纽带

19.我们已经目睹，那些科幻小说中原本只存在于想象之中的未来科技逐一实现，并且改变了真实的世界。也许有一天，科幻小说不再思索和模拟技术的实际作用，而把全部注意力放在叙事者的主题、人类宿命甚至宇宙命运之上，我们仍要感谢它们帮助我们幻想过未来世界。只是，但愿永远可以有人像儒勒·凡尔纳在一百多年前那样由衷地发问：“难道人们真的不可能用更短的时间环游地球吗？”

根据这段文字可以知道，作者希望科幻作品（ ）

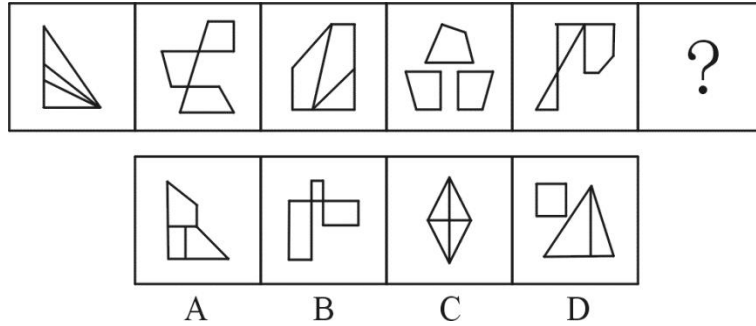
- A.尽可能想象科技发展对人类的影响
- B.更加关注科幻故事情节本身的发展
- C.能够继续激励和启发未来科技的创新
- D.应努力探讨未来科技应用的具体表现

20.回溯整条产业链，中国奶粉业的困境是上游小农经济的困境，中国处于人口出生高峰期，所需奶粉量与出产之间存在巨大的缺口，高质量的奶源是稀缺产品，尤其是草场退化，奶农自养为主的今天，传统的畜牧模式已经成为中国奶粉发展最大的掣肘。我国的奶源无法满足暴涨的市场需求，如果要保障有质量的奶源，需要将目前的小农式散养模式，转变为工业牧场式养殖模式，而这需要土地流转、农业人口分流、原始资本大量投入等诸多根本性改革，难度比恢复奶粉信用还高。

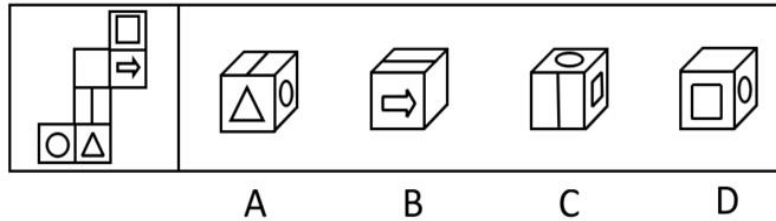
这段文字意在说明中国奶粉业（ ）

- A.产业链布局上存在先天不足
- B.从生产模式上变革困难重重
- C.短时间内难以摆脱进口依赖
- D.恢复自身行业信用尚待时日

21. 从所给选项中，选择最合适的一个填入问号处，使之呈现一定的规律性（ ）。



22. 左边给定的是纸盒的外表面，下列哪一项能由它折叠而成（ ）。



23. 某所高中调查学生参加社团的情况，发现在象棋社社员中，只要是高二（3）班学生，则其一定也是校篮球队的队员。

由此可以推出（ ）。

- A. 甲是象棋社社员，且甲是篮球队员，则甲是高二（3）班学生
- B. 乙是高二（3）班学生，且乙是篮球队员，则乙是象棋社社员
- C. 丙是象棋社社员，且丙不是篮球队员，则丙不是高二（3）班学生
- D. 丁不是象棋社社员，且丁也不是篮球队员，则丁不是高二（3）班学生

24. 提出一个问题往往比解决问题更重要，因为解决问题也许是一个数学上或试验上的技能而已。而提出新问题，则需要有创造性和想象力，而且标志着科学的真正进步。

据此可知（ ）。

- A. 提出问题比解决问题更难
- B. 善于提出问题的人更善于解决问题
- C. 只有提出问题才标志科学的进步
- D. 缺乏创造性和想象力的人不善于提出问题

25. 一项研究认为，海洋在类地行星演化以及气候调节中发挥着重要作用。研究人员表示，我们知道许多太阳系外行星都无法居住，它们轨道或者太靠近恒星，或者距离恒星非常遥远，只有适当的轨道半径才有能形成稳定的液态水。全球性海洋的存在对行星气候有较大帮助，它使得行星表面温度的确变化缓慢，这对生命的诞生有着积极意义。同时海洋还可以将热量导向行星上的各区域，使得该行星有一个较大面积的可居住区域，适合生命演化。

以下哪项如果为真，最能支持研究人员的上述论证（ ）。

- A. 不同行星的自转速率会影响该行星上的海洋环流模式，从而影响全球性的热传输
- B. 火星距太阳轨道半径适中，但是火星上没海洋，其表面温度变化范围较大，没有生命存在
- C. 土卫六是太阳系中除地球外，唯一表面拥有稳定液态物质的天体，土卫六上的液体是甲烷和乙烷等碳氢化合物，可以作为生命起源的基础
- D. 地球上的生命需要水并不代表其他行星上的生命也需要水才能生存

26. 很多医学专家提出过量饮用咖啡对健康有害。为验证过量饮用咖啡对心脏的影响，研究人员选取了两组被试者。第一组被试者每天饮用 5 杯或 5 杯以上咖啡，第二组被试者从不饮用咖啡。一段时间后发现，第一组被试者中患心脏病的比例明显高于第二组被试者。因此，研究人员得出结论，过量饮用咖啡会增加患心脏病的风险。

以下哪项如果为真，最能质疑上述论证（ ）。

- A. 研究发现，每日饮用 2 杯咖啡的人心脏功能未受影响
- B. 在研究期间，第一组被试者每日的运动量大大小于第二组被试者
- C. 除影响心脏功能外，咖啡中所含的咖啡因还易引发焦虑症
- D. 第一组被试者中部分人每日饮用 10 杯咖啡

27. “天门中断楚江开，碧水东流至此回。”：长江

- A. “万古齐州烟九点，五更沧海日三竿。”：泰山
- B. “姑苏城外寒山寺，夜半钟声到客船。”：南京
- C. “劝君更尽一杯酒，西出阳关无故人。”：山海关
- D. “两岸猿声啼不住，轻舟已过万重山。”：黄河

28. 明镜：公正

- A. 蚍蜉：自不量力 B. 麒麟：祥瑞
- C. 木马：病毒 D. 貔貅：军队

29. 和谐经济学，是指以社会经济系统的结构和功能为研究对象，以提高这一系统的功能——生产力为目的，看到的是人与自然之间的协调与可持续发展。

根据上述定义，下列属于发展和谐经济行为的是（ ）。

A. 某国家级贫困县决定建矿开采一种稀有金属。其理由是：虽然必须砍掉 200 多亩树林，一个山涧小水库也要废掉，并因此影响 1000 多人饮水和 2000 多亩土地灌溉。但该矿建成后，对发展该县经济具有重要意义

B. 某企业为在规定时间内完成客户定单，连续五天要求工人每天加班 5 至 6 个小时，工人虽然很疲劳但对加班费还是满意的

C. 某市大小采金矿有 100 多个，虽然大多企业设备老化、选矿技术落后，但是该市还是决定继续发展金矿业，因为该市财政收入主要来源于金矿

D. 某市在审查外资投资时发现，一家大型化工企业设备陈旧、能耗高，废水处理系统也很落后，于是断然决定停止引进该企业

30. 逆向激励是指政策设计初衷与实际执行效果呈现“事与愿违”的现象，逆向激励效应一旦被激发，不仅会导致现状恶化，损害政策制定者的信用，还将进一步强化相关负面后果，最终造成恶性循环。

根据上述定义，下列不属于逆向激励的是（ ）。

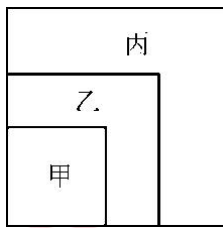
A. 为了扭转治安问题，上世纪美国颁布了禁酒令，然而酒的销量不跌反升，而且由此又引发了新的犯罪问题

B. 宋神宗为了整肃吏治、严明司法审判，下令凡是能找到错判事实的官员官升一级，结果这项举措却成了新旧官员相互攻讦的武器

C. 为了更有利孩子成长而提供优裕的物质条件，然而却让其养成了好逸恶劳的恶习

D. 老师在课堂上通过有意对害羞学生提问而帮助其克服容易紧张的问题

31. 如下图所示，在一个正方形内画中，小两个正方形，使三个正方形具有公共顶点，这样大正方形被分割成了正方形区域甲和 L 形区域乙、丙。已知三块区域甲、乙、丙的周长之比为 4:5:7，并且区域丙的面积为 48，求大正方形的面积？（ ）



A. 96

B. 98

C. 200

D. 102

32. 一项工程有甲，乙，丙三个工程队共同完成需要 22 天，甲队工作效率是乙队的二分之三倍，乙队 3 天的工作量是丙对 2 天工作量的三分之二，三队同时开工，2 天后，丙队被调往另一工地，那么甲，乙再干多少天才能完成该工程？（ ）

A. 20

B. 28

C. 38

D. 42

33.工厂组织工人参加技能培训，参加车工培训的有 17 人，参加钳工培训的有 16 人，参加铸工培训的有 14 人，参加两项及以上培训的人占参加培训总人数的 $\frac{2}{3}$ ，三项培训都参加的有 2 人，问总共有多少人参加了培训？（ ）

- A. 24
B. 27
C. 30
D. 33

34.一队伍要到距驻地 90 公里处的地方执行任务，坐机动车的速度为 60 公里/小时，步行的速度为 15 公里/小时，开始全体人员坐机动车前进，但中途机动车故障，不能继续运输，全体人员改步行，到达目的地，共用时 2 小时 15 分钟，则步行的距离为多少公里？（ ）

- A. 10
B. 15
C. 20
D. 25

35.甲、乙二人分别从 A、B 两地驾车同时出发，匀速相向而行，甲车的速度是乙车的 $\frac{2}{3}$ ，两车开出 6 小时后相遇，相遇后以原速继续前进。问甲比乙晚几个小时到达目的地？（ ）

- A. 2
B. 3
C. 4
D. 5

据海关统计，2011 年 1—9 月，某省实现进出口总额 293.8 亿美元，比上年同期增长 59.4%，增速比上年同期提升 5.5 个百分点，高出全国进口增速 34.8 个百分点。其中，出口 150.5 亿美元，增长 28.8%，高出全国出口增速 6.1 个百分点。进口 143.3 亿美元，增长 1.1 倍，高出全国进口增速 85.8 个百分点。

1—9 月，全省超亿美元贸易伙伴达 36 个，比上年同期增加 6 个，其中，德国、印度等国后来居上，超过日本、韩国成为全省主要贸易伙伴。对美国实现进出口 30.3 亿美元，增长 93.1%，位居次席。对韩国、马来西亚和日本分别实现进出口 7.0 亿美元、6.0 亿美元和 5.4 亿美元，分别增长 41.5%、2.9%和 7.4%，分列五、六、七位。

受上年基数较大影响，全省对东盟双边贸易进出口呈现下降趋势。1—9 月，全省对东盟实现进出口 15.1 亿美元，下降 24.9%。

36.2009 年 1—9 月，该省进出口总额约为多少亿美元？（ ）

- A. 100
B. 120
C. 150
D. 180

37.2010 年 1—9 月，该省对美国进出口贸易额是对韩国进出口贸易额的多少倍？（ ）

A. 4.3

B. 3.8

C. 3.2

D. 2.5

38.2011年1—9月, 该省进出口贸易状况为()。

A. 顺差 7.2 亿美元

B. 逆差 7.2 亿美元

C. 顺差 8.2 亿美元

D. 逆差 8.2 亿美元

39.将 2011 年 1—9 月间该省贸易伙伴按进出口总额从高到低排序不正确的是()。

A. 韩国, 日本

B. 美国, 东盟

C. 东盟, 韩国

D. 马来西亚, 德国

40.能够从上述资料中推出的是()。

A. 2011 年 1—9 月, 该省对日贸易占全省对外贸易比重同比上升

B. 2011 年 1—9 月, 该省进口额占同期全国进口额比重同比上升

C. 2011 年 1—9 月, 全国进出口贸易同比增速超过三成

D. 2010 年 1—9 月, 该省对东盟贸易额不足 20 亿美元

第 14 天

1. 根据《立法法》的规定, 我国的法律解释权属于()?

A. 人民代表大会制度 B. 全国人民代表大会常务委员会

C. 全国人民代表大会法律委员会 D. 国务院

2. 下列由全国人民代表大会常务委员会行使职权的有()?

A. 修改宪法

B. 选举中华人民共和国主席、副主席

C. 制定和修改刑事、民事、国家机构和其他基本法律

D. 解释宪法和监督宪法实施

3. 历史上推行“罢黜百家, 独尊儒术”的皇帝是()?

A. 秦始皇

B. 汉高祖

C. 汉文帝

D. 汉武帝

4. “花甲重逢还长三七岁月 古稀双庆更多一度春秋”隐含的年龄()?

A. 121

B. 131

5. 中国人民银行决定,自2014年11月22日起下调金融机构人民币贷款和存款基准利率。金融机构一年期贷款基准利率下调0.4个百分点至5.6%;一年期存款基准利率下调0.25个百分点至2.75%,同时结合推进利率市场化改革,将金融机构存款利率浮动区间的上限由存款基准利率的1.1倍调整为1.2倍;其他各档次贷款和存款基准利率相应调整,并对基准利率期限档次作适当简并。请问央行下调存贷款利率的目的是()?

- A. 抑制通货膨胀
- B. 刺激经济,防止经济萎缩
- C. 减少居民消费,扩大投资力度
- D. 抑制经济过热,降低物价

6. CPI是居民消费价格指数(consumer price index)的简称。居民消费价格指数,是一个反映居民家庭一般所购买的消费商品和服务价格水平变动情况的宏观经济指标。它是度量一组代表性消费商品及服务项目的价格水平随时间而变动的相对数,是用来反映居民家庭购买消费商品及服务的价格水平的变动情况。下列关于CPI说法错误的是()?

- A. 它既可以反映通货膨胀,也可以反映通货紧缩
- B. 当CPI大于5%的时候,我们就把其看做严重的通货膨胀
- C. 一般来说,CPI的上涨和下跌与股市是呈现出正相关关系的
- D. CPI是一个前瞻性数据,它可以作为政府调整经济政策的指标

7. 科学的目的是追求真理。科学精神首要的和基本的内容就是()?

- A. 实事求是
- B. 追求真理
- C. 提倡创新
- D. 怀疑一切

8. 我国政府高度重视少数民族地区的经济社会发展,不断加大扶持力度,完善支持少数民族地区发展的政策的措施,使各少数民族分享国家现代化建设带来的发展成果。其依据是()?

- A. 我国坚持民族平等原则,各民族平等地享有各方面权利
- B. 民族区域自治制度规定少数民族地区享有经济发展自主权
- C. 我国已形成平等团结互助和谐的社会主义民族关系
- D. 民族平等和民族团结是实现各民族共同繁荣的前提条件

9. 热带雨林气候又称“赤道多雨气候”。主要分布在赤道两侧南北纬10°之间(赤道附近)。

终年高温多雨，各月平均气温在 25~28°C 之间，年降水量可达 2000 毫米以上。季节分配均匀，无干早期。下列哪个地区热带雨林气候的成因与其他三项不同（ ）？

- A. 马达加斯加东部
- B. 刚果盆地
- C. 亚马逊平原
- D. 加里曼丹岛

10. 艾滋病的主要传播途径不包括（ ）？

- A. 性行为感染
- B. 血、血制品、静脉吸毒感染
- C. 母婴垂直感染
- D. 日常生活接触及昆虫叮咬

11. 当今世界，科学技术已经成为一个国家的强国之基，而原创性基础理论和核心技术则是科学技术中最重要的部分。在一系列国际竞争中，掌握相关的核心技术是制胜的关键。所谓核心技术，是指支撑产品生产的关键技术和工艺。核心技术是不可复制的，因而具有独特的市场价值和竞争优势。

根据上述文字，关于“核心技术”的理解有误的是（ ）

- A. 在国际竞争中，掌握核心技术是关键
- B. 核心技术无法模仿复制
- C. 核心技术有特殊的市场价值和竞争优势
- D. 科技中，唯一最重要的部分是核心技术

12. 这么说并不意味着阅读危机不存在，而是说它需要被更清晰地表达。当我们说自己不读书时，意思常常是没有读书的时间或心情，而不是说无书可读，这背后是一种时间焦虑。我们说一个人“有书卷气”，表达的其实是“沉静专注”的意思，这需要时间来涵养，阅读也并非唯一的形式，琴棋书画都有这种功能。而中国社会在上世纪 90 年代中期以后，就逐渐进入了一个加速奔跑的时代，时间成了稀缺资源。

上述文段中划横线的“这”是指（ ）

- A. 沉静专注
- B. 阅读危机
- C. 时间焦虑
- D. 有书卷气

13. 据英国媒体 10 月 12 日报道，科学家发出警告，由于南极冰川融化速度日益加快，到 2100 年整块南极大陆的稳定性将处于危险之中。大范围内的冰架坍塌会使漂浮的冰川融入海中，最终将导致海平面急剧上升。最新研究预测，2050 年南极冰架表面融化速度会加倍；至本世纪末，融化速度会超过冰架的坍塌速度。一旦发生这样的情况，就相当于失去了

天然屏障阻止冰川流动和陆地覆盖冰架融入海洋。

最适合做上述新闻拟标题的是（ ）

- A. 南极冰川融化将导致海平面急剧上升
- B. 冰川融化速度加快南极大陆本世纪末或面临瓦解
- C. 2050 年南极冰架表面融化速度会加倍
- D. 保护南极冰川需加强环境治理

14. 有这么多人不愿“亲近”博物馆，想必不会只是自身的原因。尽管这种原因确实存在，比如，长期缺乏利用博物馆的教育，使得我们很难马上认识到“走进博物馆”的意义与价值；在必然与或然之间，人们往往也会犹疑，乃至裹足不前。博物馆就在那里，可很多时候我们却视而不见，及至因缘巧合，闯进去了才会感慨，来得太晚了。人们疏远博物馆，从根本上讲，在于当下不少博物馆缺乏应有的亲和力，甚至板着脸孔不讨人喜欢。这已成为国内很多博物馆的通病，有必要引起注意。

下面适合做这段文字标题的是（ ）

- A. 当下不少的博物馆缺乏应有的亲和力
- B. 走进博物馆的意义和价值
- C. 博物馆也可以不板着脸孔
- D. 很多人不愿意走进博物馆

15. ①朝贡体系存在了上千年，直到西方帝国主义入侵才衰落

②现在亚洲国家所面临的地缘政治，是近代以来西方列强塑造出来的

③在西方帝国主义到达亚洲之前，亚洲国家之间形成了一种自然的区域国际秩序

④这些看法都是非历史的，要不就是从今天的眼光来看待过去，要不就是从西方的文化来看待中国文化

⑤这就是以本区域最大国家中国为中心的“朝贡体系”

⑥近代以来，朝贡体系被中国人自己、也被其他国家“妖魔化”，被视为是中华帝国主义和大国沙文主义的体现

将以上 6 个句子重新排列，语序正确的是()。

- A. ①⑥④③②⑤
- B. ②③⑤①⑥④
- C. ③①②⑤⑥④
- D. ⑥①③②④⑤

16.①随着越来越多的腐败案件由身份证迷局牵出，以此反思其中的腐败“密码”，已然到了必须引起重视的地步

②这其中更受人关注的是，多个身份证的主人，无一例外都是公职人员

③在这一背景下，一个市级公安局长遭遇有 8 个身份证的举报

④也因为此，在公众心中，多个身份证亦正在建立起越来越稳固的腐败联想

⑤似乎从“房嫂”开始，“一人多个身份证”的案例正以加速递增的步伐突破人们的某种想象

⑥这能否成为又一起腐败案件的缘起，或仍待观察

将以上 6 个句子重新排列，语序正确的是()

A.①③⑤④②⑥

B.②④⑤③⑥①

C.③①⑤②④⑥

D.⑤②④③⑥①

17.通过遥感探测发现，每年 10 月到次年 3 月期间，每 2~3 天在 2 公里以上的高空就有一股从西风带吹来的浮尘，当它抵达华北平原空后，由于地势降低，风速下降以后浮尘便会往下与污染物相混合，遭遇水汽后细粒子个体便迅速增大，造成大范围高强度的污染现象，如果遇上南边气流比较强，会形成华北地区持续多天的重污染天气。

这段文字意在说明华北地区空气污染现象的()

A.形成过程

B.发生时间

C.形成原因

D.覆盖范围

18.在西方，足球曾经是卑贱，粗野的代名词。那时的足球活动没有什么规则，更谈不上什么礼仪，和打群架滑什么区别，弄出人命是常有的事。种游戏特别血腥，特别刺激，特别有吸引力，虽屡屡遭禁，却每每“春风吹又生”。为了使得这个人们又爱又恨的游戏益于身心，也为了改变“下贱的踢球人”的形象，人们创造了足球规则，增加了足球礼仪。

这段文字意在强调()

A.足球运动曾有遭人唾弃的历史

B.足球在西方一直颇受大众欢迎

C.规则和礼仪对足球运动很重要

D.足球运动面貌经历了巨大变化

19.解决科技与经济结合的问题始终是科技体制改革的核心。以往的改革从技术商品化、科技运行机制、组织结构、人事制度等方面采取了一系列措施，主要着力在微观组织层面。改革进程发展到今天，需要更多地从宏观管理层面思考问题。换句话说，改革已经改到了推动科技体制改革的政府管理者自己头上。政府科技资源配置的理念需不需要转变?对科技活动管理的模式需不需要改变?管理科技活动的组织机构需不需要调整?回答了这三个问题，才有可能解决科技、经济“两张皮”的问题。

这段文字意在说明 ()

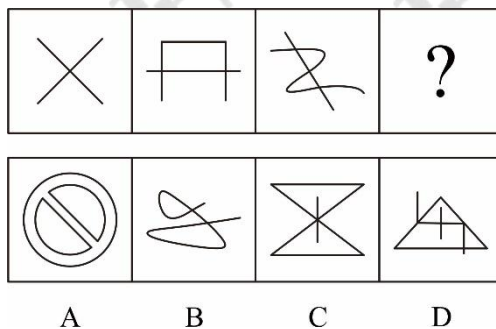
- A.应从政府管理角度思考科技体制改革问题
- B.进行国家科技体制的深层次改革迫在眉睫
- C.明确政府职责是科技体制改革的重要前提
- D.科技与经济相脱节是我国科技体制的弊端

20.在讨论科学与宗教作为认知方式的差异和优劣时，常常有人提出“科学不是万能的，科学也会出错”的观点。这显然很正确，但在那种讨论中，在没有人声称“科学永远正确”的情况下，主动插入这种观点，却明显是在用“所有认知方式都非完美无缺”这一事实，来故意混淆不同的认知方式。这是极具误导性的。

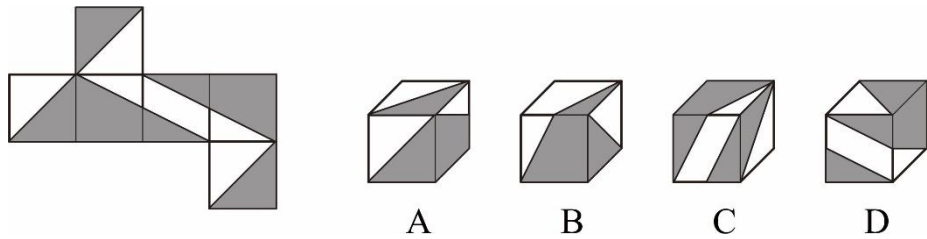
根据这段文字可以知道，作者想说的是 ()

- A.在关于认识方式的讨论中不应偏离议题
- B.任何一种认识方式都不会是完美无缺的
- C.生搬“科学会出错”的观点有时会混淆视听
- D.科学和宗教这两种认知方式并没有优劣之分

21. 从所给选项中，选择最合适的一个填入问号处，使之呈现一定的规律性 ()。



22. 左边给定的是正方体的表面展开图，以下哪项可以由它折叠而成? ()



23. 要使一个团队能跻身世界强队之列，至少必须解决两个关键问题：一是提高队员基本技能，二是讲究科学训练。不切实解决这两点，即使临战时拼搏精神发挥得再好，也不可能取得突破性的成绩。

以下哪一项推理没有表达上述议论的观点？（ ）

- A. 除非提高队员的基本技能和讲究科学训练，否则不能取得突破性成绩
- B. 只要提高了队员的基本技能和讲究了科学训练，就一定能取得突破性成绩
- C. 如果取得了突破性成绩，说明一定提高了队员的基本技能并且讲究了科学训练
- D. 如果不能提高队员的基本技能，即使讲究了科学训练，也不可能取得突破性成绩

24. 世界杯足球赛“中哥之战”在韩国光州体育场举行，某排座位上坐有三名球迷。已经知道：

- ①哥斯达黎加球迷右边的两人中至少有一名是中国球迷；
- ②中国球迷左边的两人中也有一名是中国球迷；
- ③身穿白色上衣球迷左边的两人中至少有一名是穿红色上衣的球迷；
- ④红色上衣球迷右边的两人中也有一名是穿红色上衣的球迷。

由此，可以得到三位球迷从左向右的排列是（ ）。

- A. 白色上衣哥斯达黎加球迷、白色上衣中国球迷、红色上衣中国球迷
- B. 红色上衣哥斯达黎加球迷、红色上衣中国球迷、红色上衣中国球迷
- C. 白色上衣哥斯达黎加球迷、白色上衣中国球迷、白色上衣中国球迷
- D. 红色上衣哥斯达黎加球迷、红色上衣中国球迷、白色上衣中国球迷

25. 有研究认为，赤潮是近岸海水受到有机物污染所致，当含有大量有机物的生活污水、工业废水和农业废水流入海洋后，赤潮生物便会急剧繁殖起来，从而形成赤潮。因此有人认为，只要限制有机物污染海水，就可以有效减少赤潮。

以下哪项如果为真，最能削弱上述论证？（ ）

- A. 某些地区的海水从未出现过赤潮
- B. 全球气候变暖也是引发赤潮的原因
- C. 赤潮生物在海水中的密度呈动态变化

D. 有机物是生命产生的物质基础，所有生命体都含有有机化合物

26. 有个矮个子的人住在第 20 层楼。他每天早晨乘电梯到底层去上班，晚上再乘电梯回到第 20 层楼。可是，当电梯里只有他一个人时，他就只乘到第 10 层楼，然后再走到第 20 层楼。

下列哪项为真，最能够解释这个人只乘到第 10 层楼（ ）。

A. 此人为了锻炼身体 B. 此人有朋友住在第 10 层

C. 第 11 层的楼梯损坏了 D. 此人最多只能到第 10 层的电梯按钮

27. 驾驶 对于 （ ）相当于 讲课 对于 （ ）

A. 司机；教师 B. 网络；教室

C. 汽车；学生 D. 麦克风；导航仪

28. 莫等闲，白了少年头，空悲切：岳飞

A. 离离原上草，一岁一枯荣：李白

B. 举头望明月，低头思故乡：杜牧

C. 问君能有几多愁，恰似一江春水向东流：李煜

D. 同是天涯沦落人，相逢何必曾相识：杜甫

29. 适应是指同一刺激物持续作用于感觉器官，引起该感觉器官对这种刺激的感觉能力发生改变。

根据上述定义，下列情形中不符合适应的概念的是（ ）。

A. 把手放在热水中，起初觉得很热，不久热的感觉就会减弱了

B. 身体某一部分疼痛时，咬紧嘴唇或握紧拳头，会感到疼痛减轻一些

C. 在伸手不见五指的房间里，站一会儿就可以看见周围的实物

D. 走进一座花园，花香扑鼻，可很快就没什么感觉了

30. 连续犯是指行为人基于同一的或者概括的犯罪故意，连续实施数个独立的犯罪行为，触犯同一罪名的情况，概括的犯罪故意是指行为人对于认识的具体内容并不明确，但明知自己的行为会发生危害社会的结果，而希望或者放任这种结果发生的心理态度，包括对行为本身、行为对象和行为结果认识不明确三种。

根据上述定义，下列各项中属于连续犯的是（ ）。

A. 乙欠甲一笔巨款拒不偿还，甲为讨要欠款，将乙非法拘禁半年之久

B. 甲为杀死乙而不被人察觉，将毒药分三次给乙服食，最终导致乙死亡

C. 甲多次入室盗窃，当发现屋内没有可以拿走的值钱财物时，就毁坏室内家具、门窗

以泄愤

D. 出纳员甲一次偶然发现单位的财务制度存在疏漏之处，认为有机可乘，遂将 8000 元公款贪污，此后甲分 7 次共贪污公款 60000 余元

31. 一个长方体的箱子，长 96 厘米，宽 80 厘米，高 72 厘米，现在需要把若干个大小相同的小正方体装进去，不许有剩余。问装满后，最少可装多少个这样的正方体？（ ）

- A. 810
- B. 1080
- C. 1350
- D. 1620

32. 甲、乙两工厂接到一批成衣订单，如一起生产，需要 20 天时间完成任务，如乙工厂单独生产，需要 50 天时间才能完成任务。已知甲工厂比乙工厂每天多生产 100 件成衣，则订单总量是多少件成衣？（ ）

- A. 8000
- B. 10000
- C. 12000
- D. 15000

33. 某班有 50 名学生，参加语文竞赛的有 28 人，参加数学竞赛的有 23 人，参加英语竞赛的有 20 人，每人至多参加两科，那么参加两科的最多有：（ ）

- A. 32
- B. 33
- C. 34
- D. 35

34. 某商场出售甲乙两种不同价格的笔记本电脑，其中甲电脑连续两次提价 10%，乙电脑连续两次降价 10%，最后两种电脑均以 9801 元售出各一台，与价格不升不降相比，则商场的盈亏情况是（ ）。

- A. 不亏不赚
- B. 少赚 598 元
- C. 多赚 980.1 元
- D. 多赚 490.05 元

35. 某班有学生 50 人，其中参加篮球队的有 38 人，参加足球队的有 34 人，参加排球队的有 32 人，篮球、足球都参加的有 28 人，足球、排球都参加的有 24 人，篮球、排球都参加的有 26 人，三项都参加的有 20 人。只参加一项的人比三项都没参加的人多几个？（ ）

- A. 2
- B. 3
- C. 4
- D. 5

2012 年，A 省完成港口货物吞吐量 13.3 亿吨，同比增长 14.2%，其中外贸货物吞吐量 2.0 亿吨，增长 24.5%。港口货物吞吐量中，集装箱吞吐量达 878.0 万标准集装箱，增长 3.1%。

2012 年末，全省公路里程 14.2 万公里，新增 1071.1 公里。年末高速公路里程 3755 公

里。铁路营业里程 1642.1 公里，铁路正线延展长度 2381.8 公里。

2012 年末，全省民用汽车保有量 458.1 万辆，净增 84.9 万辆，分别增长 22.8%和 97.5%。年末私人汽车保有量 338.2 万辆，净增 74.9 万辆，分别增长 28.5%和 106%。其中私人轿车保有量 216.5 万辆，净增 56.4 万辆，分别增长 35.2%和 59.3%。

各种运输方式完成运输量

	货物周转量		货运量		旅客周转量		客运量	
	绝对数 (亿吨公里)	比上年增长 (%)	绝对数 (万吨)	比上年增长 (%)	绝对数 (亿人公里)	比上年增长 (%)	绝对数 (万人次)	比上年增长 (%)
总计	5154.5	8.5	160966.8	9.2	1423.3	8.1	201262.9	9.5
铁路	323.9	-6.2	6137.4	19.9	311.3	-2.4	9167.2	3.6
公路	971.1	9.7	104002.0	8.8	1058.0	11.2	191001.0	9.8
水路	3372.1	10.1	42016.0	9.1	1.4	85.6	686.5	9.7
民航	0.6	-3.6	4.4	-5.1	52.7	15.4	408.2	16.3
管道	486.8	6.4	8807.0	8.8				

36.2011 年，A 省完成港口货物吞吐量约为多少亿吨？（ ）

- A. 10.8
- B. 11.6
- C. 13.3
- D. 15.5

37.2011 年末，该省除私人轿车之外的私人汽车保有量为多少万辆？（ ）

- A. 103.2
- B. 109.9
- C. 121.7
- D. 140.2

38.2012 年，A 省下列各项同比增长最快的是（ ）。

- A. 铁路货运量
- B. 公路货物周转量
- C. 水路货运量
- D. 民航货物周转量

39.表中的 4 种客运方式中，2012 年平均每人次运输距离高于 2011 年水平的有几种？

（ ）

- A. 1
- B. 2
- C. 3
- D. 4

40.关于该省交通运输状况，能够从上述资料中推出的是（ ）。

- A. 2012 年末，高速公路里程占全省公路总里程比重超过 3%

- B. 2012 年该省客运平均每人次运输距离超过 100 公里
- C. 2012 年管道货物周转量超过货物周转总量的一成
- D. 2010 年末，全省民用汽车保有量超过 300 万吨

第 15 天

1. 知识产权是基于人的（ ）而产生的权利？
 - A. 智力创造活动
 - B. 体力创造活动
 - C. 作品
 - D. 著作初稿
2. 我国《专利法》规定，（ ）专利权的保护期限是 20 年？
 - A. 发明
 - B. 实用新型
 - C. 外观设计
 - D. 智力活动的技巧
3. 关于世界之最，下列叙述正确的是（ ）？
 - A. 流经国家最多的河流是尼罗河
 - B. 最长的内流河是亚马逊河
 - C. 最大的淡水湖贝加尔湖
 - D. 最大的内海是地中海
4. 下列关于中国地理说法错误的是（ ）？
 - A. 我国领海是从领海基线向海上延伸 12 海里的海域，渤海和琼州海峡是我国的内海
 - B. 大陆海岸线长 1.8 万多千米，岛屿海岸线长 1.4 万千米，8 个海上邻国是朝、日、韩、越、菲、文莱、马来西亚、印尼
 - C. 与邻国接壤的省级行政区有 9 个，新疆是接壤国最多的省级行政区
 - D. 陆上国界线 2 万多千米，陆上邻国 14 个，是朝、俄、蒙、哈、吉、塔、阿、巴、尼、不丹、印、缅、老、越
5. 爱因斯坦说：“人只有献身于社会，才能找到那些实际上短暂而有风险的生命意义。”这句话深刻地揭示出（ ）？
 - A. 加强伦理道德是科技人才队伍建设的首要任务
 - B. 科学的价值与意义就在于它的社会性和政治性
 - C. 正确的价值观和人生观是实践新的科技发展观的基础

D. 运用科学也要讲宣传技巧

6. 构建和谐社会最根本的保证是（ ）？

A. 党的领导和社会主义制度

B. 较为坚实的物质基础

C. 全体人民的根本利益一致

D. 马克思主义在全社会的指导地位

7. 社会主义和谐社会的核心价值是（ ）？

A. 以人为本

B. 以民为本

C. 社会公平

D. 公平和正义

8. 经济学中有一些专用名词被作为衡量不同的指标。下列说法错误的是（ ）？

A. GDP 用来衡量经济状况

B. CPI 用来衡量收入分配差异状况

C. 恩格尔系数用来衡量富裕程度

D. 基尼系数用来衡量收入分配差异状况

9. 春秋战国时期的成语故事与故事中的主人公对应有误的一项（ ）？

A. 立木取信——商鞅

B. 卧薪尝胆——勾践

B. 围魏救赵——孙武

D. 图穷匕见——荆轲

10. 下列关于计算机通讯技术的表述不正确的是（ ）？

A. Web2.0 的用户既是网站内容的浏览者，也是网站内容的制造者

B. 3G 相对于 2G 的优势在于传输声音和数据的速度更快

C. 物联网是在互联网的基础上，实现人与物品之间的信息交换

D. 进入纳米时代，新材料研究成为计算机芯片发展的关键

11. 大肠杆菌能把植物糖分转变成脂肪酸衍生物，一种与肥皂类似的化学物质，是一种行得通的燃料的好前体。但是科学家还不确定这种细菌是否具有可供大规模生产的足够的化学“能力”。斯坦福大学的研究人员进行了相关研究，他们想看一看大肠杆菌在把糖转变成脂肪酸衍生物方面是否存在理论上的“限制”，例如这种细菌是否有能力将常规植物转变为“燃料”。相关研究报告称，这个问题的答案显然是肯定的。研究人员表示：“好消息是大肠杆菌制造脂肪酸衍生物具有令人难以置信的超强能力，它能以极高的速度把糖转变成燃料。”

文段中划线部分“这个问题”指的是（ ）

- A.大肠杆菌是否具有制造脂肪酸衍生物的超强能力
- B.大肠杆菌能否以极高的速度把糖转变成燃料
- C.大肠杆菌能否将常规植物转变成燃料
- D.大肠杆菌把糖转变成脂肪酸衍生物在理论上是否可行

12.在人类与细菌间展开的旷日持久的“军备竞赛”中,形成“生薄膜”的能力——一种嵌入粘性矩阵的大型微生物聚集体——是有机体用于攻击免疫系统、抗生素和其它威胁的重要武器之一。但是,最近科学家们已经确认了生物膜在细菌抵制抗生素作用过程中所扮演的角色,因此,人类在击败细菌的道路上或许进入收尾阶段。

对文中“军备竞赛”的理解正确的是（ ）

- A.有机体用于攻击免疫系统、抗生素和其他威胁所做的相应准备
- B.人类击败细菌的能力
- C.生物膜在细菌抵制抗生素作用过程中所扮演的角色
- D.人类与细菌开展的武器准备比赛

13.公车改革初期,那些与公务需求完全无关的“特权式”私用,是引起社会普遍不满的突出现象,一些网友用“随手拍”的形式记录下身边的公车私用,就是公众不满的集中表现。如今,人们在一些高档消费场所、饭店、会所门口,已经很难觅到公车的踪影。然而,要祛除“特权式”私用,不仅要治标,更要治本。前者比如抓作风,比如严格管理,从根本上说动的只是一些人的不当利益。但治本,比如取消一般公务用车,因为改的是“存量”,势必会动很多人的既得利益。这也正是一些人表示“不理解”“不情愿”的原因所在,因为谁也不愿意曾经的“福利”被取消。

最适合当这段文字标题是（ ）。

- A.网友“随手拍”的好处
- B.“公车私用”现象治标更要治本
- C.人们对“特权式”公车的理解
- D.“特权式”公车难再觅

14.远方层峦叠嶂,近处山郭炊烟,这些都是骑行途中可以拥揽入怀的好景致。畅行在林木丰盛、溪水潺潺的山水之间,久困于噪音雾霾与工作压力之中,那一刻犹如逃脱樊笼的鸟儿般,自由、愉悦。顺手拍上几张照片,记录下美妙的风光,也为自己留下一段生动的回忆。经过长途骑行,若是再遇见陡坡和崎岖蜿蜒的山路,便是体力和毅力之间的胶着与较量。

汗水湿透衣背时，一座座远山已在身后，心中暗生着喜悦，那是一份挑战自我的快意与乐趣。

以下最适合做上文题目的一项是（ ）

- A.不一样的旅行
- B.“骑”乐无穷
- C.人生处处是风景
- D.心动不如行动

15.①世界许多国家均为多民族国家，而在日益开放的社会中，如何对待不同民族和不同文化，是各国面临的一个新的巨大挑战

②世界各国的经验证明，武力和暴力不可能从根本上解决民族问题

③当今国际社会达成的共识是：唯有通过教育，才能寻求理想和尊重人类差异

④从亚洲到非洲，从欧洲到美洲，今日之民族、宗教、文化差异巨大而又共存相关，成为全球化发展中的一种现实

⑤学校中进行的跨文化教育，才是真正走向民族互尊共存与民族和谐融合的有效途径

⑥实施同化政策，也不能真正做到民族融合

将以上 6 个句子重新排列，语序正确的是()。

- A.①②④③⑥⑤
- B.②⑥④③⑤①
- C.③⑤④②⑥①
- D.④①②⑥③⑤

16.①越是“强势”的导师，其学生留校的可能性就越大，其留校的学生就越多

②这也表明，学术特权是“近亲繁殖”的一个发展源头，更是“近亲繁殖”加重化、复杂化的一个重要推手

③为了拥有其他多数人都不能有的学术特权，突出自己的比较优势，单打独斗的力量肯定不够，就要拉圈子，而要组成圈子，网罗一帮“近亲者”一定是必不可少

④在这个圈子中，有着很强自我繁衍倾向的“强势教授”们如果得不到有效制衡，就必定演变成实际上的学术特权，甚至是赤裸裸的学术霸权

⑤因为“近亲者”最听话，用着也最顺手，也最容易为自己拉抬声势

⑥如每年毕业研究生是否能够留校，往往并不单纯由学生的个人素质决定，而由其导师是否“强势”决定

将以上 6 个句子重新排列，语序正确的是（ ）

A.③④⑤②①⑥

B.③⑤④②⑥①

C.①③⑤④②⑥

D.④②③⑤⑥①

17.如何养老已成为刻不容缓需要解决的社会问题。养老问题可以通过社会化方式解决,敬老院、托老所等社会机构承担了部分养老职能。然而,由于历史文化传统的影响,机构养老并非多数老年人的首选。同时,我国机构养老发展时间不长,软硬件设施尚不完善,与社会需求相比还存在不小差距,因而家庭养老的功能仍然不可替代。促进家庭养老,弘扬尊老、爱老,养老的传统孝文化无疑具有重要意义。

这段文字意在说明()

A.传统孝文化可以助推家庭养老

B.养老问题可用社会化方式解决

C.有老年人选择了机构养老方式

D.传统孝文化可以解决养老问题

18.唐卡是极富藏族文化特色的一种绘画形式,自吐蕃王朝兴起至今已有 1300 多年的历史,是雪域高原的文化瑰宝。它的题材除宗教外,还有历史和民俗内容,故又被称为了解西藏的“百科全书”。所以,想要了解西藏的历史,除了正襟危坐地阅读严谨但略显呆板的史书外,你还可以选择一种惬意和愉悦的方式——欣赏唐卡,与众多的古人对话,想象曾经的历史事件,体味藏族人丰富的精神世界,了解独特的藏族民俗,这是一个让历史变得立体可感的过程。

这段文字意在说明()

A.唐卡可以给大家提供一种惬意轻松的了解西藏的方式

B.唐卡中记录了独特的藏族民俗和曾经的历史事件

C.唐卡是了解西藏文化和历史的“百科全书”式的绘画形式

D.唐卡是极富藏族文化特色且历史悠久的一种绘画形式

19.相对于政府公关,民间外交更具柔性,传播内容和载体更易于被接受,更能达到“润物细无声”的效果。当前,越来越多外国民众来华参观访问,中国越来越多的公民走出国门,网络媒体的发展也使普通公众更易影响舆论。因此要因势利导,通过新闻媒体、社区组织、民间社团等渠道,引导国内公众主动配合公共外交,积极传播中国的文化传统和价值理念,维护国家形象。

这段文字意在强调 ()

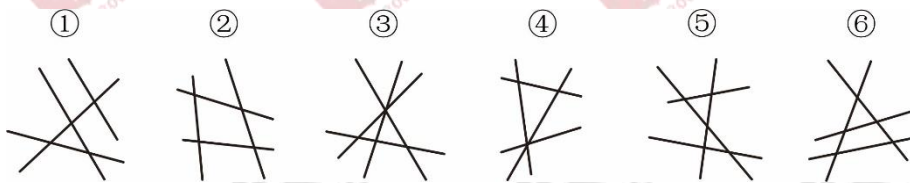
- A.民间外交与政府公关的差别
- B.民间外交在国际交往中的意义
- C.应引导民间外交积极作用
- D.媒体应在国际交往中正确引导公众

20.将“幸福”传感器放在人体表面或植入人体。通过各项指标可测出人们每一刻的幸福指数。没有一个“幸福”传感器会是完美无缺的,而且也不需要,温度计被发明出来时也很不精确,但随着时间推移,温度计的设计日渐精致,现已是不可或缺的日用品,科学家们相信,“幸福”传感器也将遵循类似进化进程,虽然它们在评估人们心理状态时总会有一定程度的不确定性,可穿戴传感器却比衡量幸福的传统工具来得更为低调,更加易用。

这段文字意在强调 ()

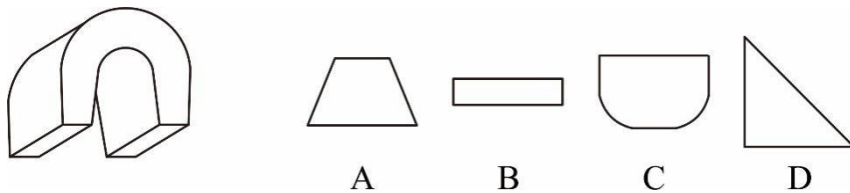
- A.任何“幸福”传感器都不可能完美无缺
- B.“幸福”传感器会向着高精度的方向发展
- C.“幸福”传感器将成为不可或缺的日用品
- D.人类并不需要完美无缺的“幸福”传感器

21.把下面的六个图形分为两类,使每一类图形都有各自的共同特征或规律,分类正确的一项是 ()。



- A. ①③④, ②⑤⑥
- B. ①②④, ③⑤⑥
- C. ①④⑤, ②③⑥
- D. ①⑤⑥, ②③④

22.左图是给定的立体图形,将其从任一面对剖开,下列哪一项可能是该立体的截面? ()



23.“万夫一力,天下无敌”说的就是团结。团结出凝聚力,出生产力,出战斗力,团结可以战胜艰难险阻,创造人间奇迹。一个组织的成员只有团结一致,这个组织才能高效率

的运作；一个组织的成员如果能团结一致，也就一定能产生超出各个体之和的整体效益。

由此可以推出（ ）。

- A. 只有团结一致，才能战胜各种艰难险阻
- B. 一个高效率运作的组织其成员之间一定是团结一致的
- C. 一个组织的成员若不团结一致，就会相互内耗，影响整体效益
- D. 一个组织只有高效率的运作，才能产生超出各个体之和的整体效益

24. 甲、乙、丙三人各自举着红旗、绿旗和黄旗，分别从东面、南面和西面三个方向朝山顶攀登。甲不举红旗，也不从东面上山；举红旗的人从西面上山；乙举着绿旗。

由此可以推出（ ）。

- A. 举绿旗者从南面上山 B. 丙从东面上山
- C. 举黄旗的不是甲 D. 乙不从南面上山

25. 教师：有学生最近经常生病，是因为他们长期处于紧张状态。

家长：这和紧张无关，是学生们抵抗病菌侵袭的能力低造成的。

以下哪项如果为真，最能对家长的观点提出质疑？（ ）

- A. 抵抗病菌侵袭的能力低易使人情绪紧张
- B. 长期处于紧张状态的人，抵抗病菌侵袭的能力低
- C. 抵抗病菌侵袭的能力低易使人患上感冒等疾病
- D. 每到期末考试前，因生病而请假的学生就会增多

26. 只有巧干加实干，才能创造出惊人的业绩。某公司的业务经理取得了非凡的业绩，可见该业务经理实践了巧干加实干。

下列哪个推理结构与上述形式上是相同的（ ）。

A. 如果一个人犯了罪，那么他就会受到刑事处罚，张某受到了刑事处罚，可见张某犯了罪

B. 这种植物只有开花，才能结出果实，今年这种植物没有开花，所以不会结出果实

C. 只有通过全国统一司法考试的人才能从事律师职业。小李从事律师职业，所以小李已通过全国统一司法考试

D. 只有在特定的土质和气候条件下，这种葡萄才能获得好收成。现在这种葡萄没有获得好收成，说明这里没有这种特质的土质和气候条件

27. 梅：孤傲：品质

- A. 火：热情：性格 B. 月饼：团圆：食品

C. 鸽子：和平：象征 D. 红灯：禁行：信息

28. 手链 之于 () 相当于 工资 之于 ()

A. 精美；工作 B. 手镯；工人

C. 饰品；收入 D. 手腕；津贴

29. 人工智能是指由人工制造出来的系统所表现出来的智能。人工智能的核心问题包括推理、知识、规划、学习、交流、感知、移动和操作物体的能力等。

下列论述中所描述的各项技术突破，无关人工智能的是 ()。

A. 科学家利用数学定理证明程序，证明了“数学原理”一书第二章的 38 个定理

B. 中国象棋程序在人机对弈时，能够根据以往的棋局，学习到新的战术，从而避免因类似的错误而失败

C. 小张家里新买的最新款电视机，能够根据电视机周围的环境光线强弱，自动地调整屏幕的亮度

D. 有种名为 siri 的手机软件，采用自然语言处理技术，使用户能用自然的对话与手机进行互动

30. 深度阅读是一种以提升学识修养、理论思维、工作能力等为目的，提高知识源覆盖面，深入理解和思考，增强知识点之间关联性的阅读形式。

根据上述定义，下列不属于深度阅读的是 ()。

A. 王强上网查阅很多相关资料以制订公司创意项目计划

B. 张力每天花大量时间研究网上股票信息以把握股市发展动向

C. 世界杯期间大学生林枫每天浏览大量体育新闻以了解相关赛事信息

D. 李丽到图书馆阅读文献以完成研究生论文综述的撰写

31. 某社区图书馆清点图书库存，发现拥有人文社科类图书数量是自然科学类图书的 2 倍，比儿童图书多 15 册，拥有的儿童图书是生活应用类图书的 $\frac{1}{3}$ ，其他类图书 76 册，占所有图书的 $\frac{1}{6}$ 。问该社区图书馆拥有自然科学图书多少册？ ()

A. 32

B. 36

C. 40

D. 48

32. 小王收购了一台旧电视机，然后转手卖出，赚取了 30% 的利润，1 个月后，客户要求退货，小王和客户达成协议，以当时交易价格的 90% 回收了这台电视机，后来小王又以最初的收购价将其卖出。问小王在这台电视机交易中的利润率为 ()。

A. 13%

B. 17%

C. 20%

D. 27%

33.有甲乙两个水池，其中甲水池中一直有水注入，如果分别安排 8 台抽水机去抽空甲和乙水池，则分别需要 16 小时和 4 小时，如给甲水池加 5 台，则可以提前 10 小时抽空。若共安排 20 台抽水机，则为了保证两个小池能同时抽空，在甲水池工作的抽水机应该比乙水池多多少台？（ ）

A. 4

B. 6

C. 8

D. 10

34.某旅行团共有 48 名游客，都报名参观了三个景点中的至少一个。其中，只参观了一个景点的人数与至少参观了两个景点的人数相同，是参观了三个景点的人数的 4 倍。则需要为这些游客购买多少张景点门票？（ ）

A. 48

B. 72

C. 78

D. 84

35.小李某月请了连续 5 天的年假，这 5 天的日期数字相乘为 7893600，问他最后一天年假的日期是（ ）

A. 25 日

B. 26 日

C. 27 日

D. 28 日

中国汽车工业协会发布的 2009 年 4 月份中国汽车产销数据显示，在其他国家汽车销售进一步疲软的情况下，国内乘用车销量却持续上升，当月销售已达 83.1 万辆，比 3 月份增长 7.59%，同比增长 37.37%。

乘用车细分为基本型乘用车（轿车）、多功能车（MPV）、运动型多用途车（SUV）和交叉乘用车。其中，轿车销量比 3 月份增长 8.3%，同比增长 33.04%；MPV 销量比 3 月份下降 3.54%，同比下降 4.05%；SUV 销量比 3 月份增长 19.27%，同比增长 22.55%；交叉型乘用车销量比 3 月份增长 3.62%，同比增长 70.66%。轿车、MPV、SUV 和交叉型乘用车销量占 4 月份乘用车总销量的比重分别为 71%、2%、6%和 21%。

36.与上年同期相比，2009 年 4 月份乘用车销量约增长了多少万辆？（ ）

A. 13.2

B. 22.6

C. 31.1

D. 40.4

37.2009 年 3 月份轿车销量约为多少万辆？（ ）

A. 50

B. 54

C. 59

D. 64

38.2008年4月，SUV销量比MPV销量约（ ）。

A. 少3.4万辆

B. 少2.3万辆

C. 多3.4万辆

D. 多2.3万辆

39.关于2009年3月份各种车型销量在总销量中所占比重的描述，以下正确的是（ ）。

A. MPV超过2%

B. 交叉型乘用车低于21%

C. SUV超过6%

D. 轿车超过71%

40.关于2009年4月乘用车销量的描述不正确的是（ ）。

A. MPV车型当时不受市场追捧

B. 轿车销量比上年同期增加了20万辆以上

C. 同比增长率最高的是交叉型乘用车

D. SUV以外车型销量占乘用车总销量比重比上月有所下降

第16天

1. 我国的房地产市场是（ ）？

A. 土地使用权的出让市场

B. 土地所有权的转让市场

C. 土地使用权和所有权同时转让

D. 土地所有权的出让市场

2. 在我国，下列所得中，经批准可减征所得税的是（ ）？

A. 军人的转业费、复员费

B. 保险赔款

C. 加班工资

D. 残疾人所得收入

3. 根据《劳动合同法》的规定，技术性工作岗位的试用期不得超过（ ）个月？

A. 2

B. 3

C. 6

D. 12

4. 下列音乐作品与创作者对应正确的是（ ）？

A. 《义勇军进行曲》——郭沫若

B. 《我的祖国》——聂耳

C. 《天鹅湖》——莫扎特

D. 《黄河大合唱》——冼星海

5. “天行健，君子以自强不息”和“地势坤，君子以厚德载物”均出自（ ）？

A. 老子

B. 论语

C. 易经

D. 孟子

6. “一候东风解冻，二候蜚虫始振，三候鱼陟负冰”描绘的是（ ）节气的现象？

- A. 立春
B. 立夏
C. 立秋
D. 立冬

7. 关于我国第三次全国经济普查，下列表述不正确的是（ ）？

A. 普查对象：是在我国境内从事第一产业、第二产业和第三产业的全部法人单位、产业活动单位和个体经营户。

B. 普查主要内容：包括单位基本属性、从业人员、财务状况、生产经营情况、生产能力、原材料和能源及主要资源消耗、科技活动情况等。

C. 普查所需经费：由中央和地方各级人民政府共同负担。

D. 现场登记阶段：普查人员将佩戴统一的普查员证，使用手持电子采集设备（PDA），对所有普查对象进行入户登记、单位空间定位和基本信息核实。

8. 下列产业中属于虚拟经济的是（ ）？

①房地产业 ②旅游业 ③电信产业 ④收藏业

- A. ①③
B. ②③
C. ①②③
D. ①④

9. 连接大西洋和地中海的海峡是（ ）？

- A. 霍尔木兹海峡
B. 直布罗陀海峡
C. 马六甲海峡
D. 波斯普鲁斯海峡

10. 电池上通常标有 R55、R5 等符号，R 代表（ ）？

- A. 电池的形状
B. 电池的含电量
C. 电池的尺寸大小
D. 酸性或碱性电池的标志

11.人口的激增，让地球的粮食供应面临严峻的考验，有科学家预计，到 2050 年，需要增加 70%的耕地，人类才能养活自己。但地球上根本没有这么多可增加的耕地。于是，科学家转向海洋求助：在远离海岸的开阔海域中养鱼，可以给人类提供足够的营养。我们可以大胆地预计，人类食物的蓝色革命即将拉开序幕。

根据这段文字，“人类食物的蓝色革命”是指（ ）

- A.对海洋产品进行深加工，提高其利用率
B.海水养殖业将逐渐取代传统农业的主导地位
C.加大深海养殖的力度，弥补近海养殖的不足
D.海洋鱼类资源将在人类食物结构中占较大比重

12.五四研究已成为打通历史、哲学、文学等多学科的显学。相关的著作已有很多很多，今后还会印出更多。政府拨给“社会科学”的“科研”经费又增加了，即使出版费随成本指数的提高而涨价，也不会影响更多“成果”问世。

对“成果”理解最准确的是（ ）

- A.讽刺五四研究所得出的各种观点
- B.讽刺功利的、低质量的五四研究文章和著作
- C.研究五四的著作和论文
- D.五四研究的新结果

13.一个寒冷的冬天，纽约一条繁华的大街上，有一个双目失明的乞丐。那乞丐的脖子上挂一块牌子，上面写着：“自幼失明”。有一天，一个诗人走近他身旁，他便向诗人乞讨。诗人说：“我也很穷，不过我给你点别的吧。”说完，他便随手在乞丐的牌子上写了一句话，那一天，乞丐得到很多人的同情和施舍。后来，他又碰到那诗人，很奇怪地问：“你给我写了什么呢？”那诗人笑笑，念那牌子上他所写的句子道：“春天就要来了，可我不能见到它。”

最适合这段文字标题的是（ ）

- A.幸运的乞丐
- B.温暖的冬天
- C.春天的收获
- D.诗歌的妙用

14.“微公益”将众多素不相识的人聚在一起，共同为生活中的弱者尽心尽力；“网络水军”却为了蝇头小利造谣生事、众口铄金。“豆瓣”“果壳”以传播知识为己任，热心为网友解疑释惑；“网络黄牛”却趁火打劫唯利是图，专找不会抢票的菜鸟下手……在超越时空的信息传递、符号表达、情感沟通、利益碰撞背后，网络共同体既包含对价值的形塑、责任的培养，也潜藏诱惑、风险与不确定。漂泊于“大互联时代”的汪洋大海，无论你我出于何种因素相聚相守，都需要时刻保持一份理性的自警自觉，共同确立并维护这种集体生活的规则与底线，以公共理性弘扬核心价值，守卫网络文明。

最适合本段文字的标题是（ ）

- A.守卫网络文明你我有责
- B.网络共同体
- C.“大互联时代”需保持理性
- D.守住网络集体底线

15.①各国对于发动机的制造工艺是严格保密的，甚至对一些顶级的发动机严格控制出口

②发动机可以说是工业的心脏

③因此，自主研发成为治愈中国工业“心脏病”最为现实的选择

④发动机制造水平上不去，是中国工业的“心脏病”

⑤这使得进口高级发动机的生产线成为奢望

⑥从轮船、汽车、飞机到火箭，都离不开发动机

将以上 6 个句子重新排列，语序正确的是（ ）

A.①③⑤④⑥②

B.④②⑥③①⑤

C.②⑥④①⑤③

D.⑥④②⑤①③

16.①经过理论与实践的积累，再生建筑学也逐步成为了一门独立而完整的技术科学

②到第一次世界大战爆发时，欧洲众多城市已经完成改造，向现代生活方式过渡

③在保持原有建筑基本架构的基础上，通过改变局部结构和装修，大幅改变建筑的使用功能，这就是“再生建筑”

④以阿姆斯特丹等港口为发端，欧洲各主要城市先后开始漫长的建筑再生运动

⑤它起源于 19 世纪 40 年代的欧洲，当时西欧各国逐步完成工业革命对产业和城市的升级改造

⑥城市中传统的以居住为主的封闭社区和街区，开始让位于交流、娱乐、购物等现代商业的空间需求

将以上 6 个句子重新排列，语序正确的是()

A.③⑤⑥④②①

B.①③②④⑤⑥

C.⑥①⑤③④②

D.④③⑤⑥①②

17.经济学家丹尼尔·麦克法登曾深入地分析了人们的决策过程。在他的研究中，人们的每一次选择都可以看作是在有限种可能重做出选择。每一个人都有一个效用函数，目的就是使得效用最大。比如上班时不行，骑车还是坐车，就是一个涉及多个特征的最优化问题，它包括的特征有：实际开支、行车时间、等待时间、舒适程度等，人们可以根据自己的偏好对

不同的特征进行权衡比较，最后确定最佳方式。

这段文字意在说明（ ）

- A.效用最大的原理影响了人们的每一个抉择
- B.解决问题的最佳方式往往由个人喜好决定
- C.人们的决策过程不但是线性而且是多维的
- D.不同的人在不同条件下做的决策并不相同

18.在使用繁体字的香港和台湾，如今越来越多年轻人的生活方式正日渐西方化；而大陆青少年接触港台的电脑游戏、流行歌曲等现代时尚元素，看到的也多是繁体字，但并未得到传统文化的熏陶。与此相反，不少天天使用简体字的人，照样深得传统文化的熏陶。如果分别阅读用简体字和繁体字书写的同一篇古文、同一首唐诗，文字形式对读者解读作品文化意蕴的影响微乎其微。传统文化也可以电影、电视等多种方式植根民间思想观念与生活方式当中，不一定要借助繁体字作为媒介。

这段文字意在说明（ ）

- A.简体字不会削弱传统文化的意蕴
- B.简体字代替繁体字确实利无弊小
- C.传统文化未必需要借助繁体字
- D.应将传统文化融入现代时尚元素中

19.偶然性在心理学中扮演的角色时常被外行人士甚至临床心理从业者忽略。人们很难意识到，行为的变化有一部分是随机因素引起的，因此心理学家不应自诩能够预测每一个案的行为。心理学的预测应该是概率性的，表示自己可以在个体层上进行心理预测，是临床心理学家常犯的错误。

这段文字意在说明（ ）

- A.临床心理学家更擅长对个体进行心理预测
- B.目前对人类行为预测的准确性还不高
- C.心理学的预测是对行为的总体预测
- D.人的行为发展变化具有偶然性

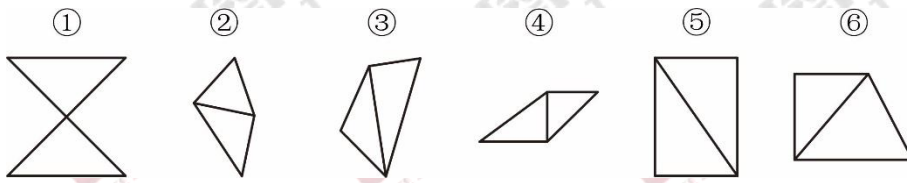
20.在当前社会，人与人之间的激烈竞争在所难免，但不少人因为得失心较重，做事时不惜违反公德伦理和规则秩序，最后不仅很难占到便宜，有时反而会害了自己。随着制度越来越健全，太重得失而逾规的行为只能是搬走石头砸自己的脚。比如，运动员们每日辛苦训练就是为了在比赛中获得奖牌。当他们盼望已久的比赛来临时，有些运动员会特别紧张，甚

至有意无意地去做一些违规的事情。

这段文字意在说明（ ）

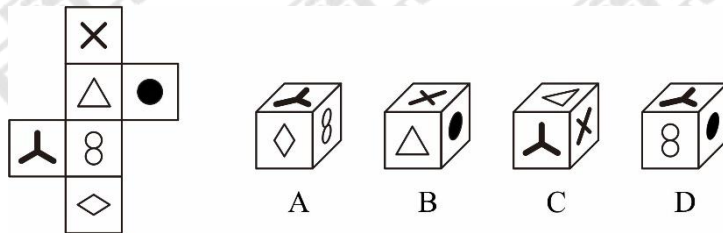
- A. 不能因为太重得失而做违规的事
- B. 健全的比赛规则有助于公平竞争
- C. 保持良好心态才可能取得好成绩
- D. 运动员应该树立正确的竞争观念

21. 把下面的六个图形分为两类，使每一类图形都有各自的共同特征或规律，分类正确的一项是（ ）。



- A. ①⑤⑥, ②③④
- B. ①④⑤, ②③⑥
- C. ①③⑥, ②④⑤
- D. ①②③, ④⑤⑥

22. 左边给定的是正方体的表面展开图，以下哪项可以由它折叠而成？（ ）



23. 《冷山》、《海底总动员》和《十面埋伏》不可能都获得奥斯卡奖。

由此可见（ ）。

- A. 如果《冷山》得奖，那么《十面埋伏》就没有得奖
- B. 如果《海底总动员》和《十面埋伏》没有得奖，那么《冷山》就得奖
- C. 如果《冷山》没得奖，那么《海底总动员》《十面埋伏》至少有一个得奖
- D. 如果《冷山》、《十面埋伏》得奖，那么《海底总动员》就没得奖

24. 甲、乙、丙、丁、戊分别住在同一个小区的1、2、3、4、5号房子内。现已知：①甲与乙不是邻居；②乙的房号比丁小；③丙住的房号是双数；④甲的房号比戊大3号。

根据上述条件，丁所住的房号是（ ）。

- A. 2号
- B. 3号
- C. 4号
- D. 5号

25. 某国连续四年的统计表明，在夏令时改变的时间里比其他时间的车祸高 4%。这些统计结果说明，时间的改变严重影响了某国司机的注意力。

得到这一结论的前提条件是（ ）。

- A. 该国的司机和其他国家的司机有相同的驾驶习惯
- B. 被观察到的事故率的增加几乎都是归因于小事故数量的增加
- C. 关于交通事故发生率的研究，至少需要五年的观察
- D. 没有其他的诸如学校假期和节假日导致车祸增加的因素

26. 低密度脂蛋白胆固醇，属于胆固醇的一种。研究发现，冠心病、心肌梗死等心脏病患者的体内低密度脂蛋白胆固醇的含量比正常人高。因此，研究人员认为，人体内低密度脂蛋白胆固醇含量升高是导致冠心病、心肌梗死等心脏疾病的原因。

以下哪项如果为真，最能削弱上述论证（ ）。

- A. 低密度脂蛋白胆固醇实际是人体在心脏病发作后应激产生用以抵御伤害的物质
- B. 身体虚弱和经常参加体育锻炼的人体内也会含有过高的低密度脂蛋白胆固醇
- C. 所有人体内部含有低密度脂蛋白胆固醇，它是人体新陈代谢所必需的
- D. 人体内低密度脂蛋白胆固醇升高易导致糖尿病

27. 剧本 对于（ ） 相当于（ ） 对于 正文

- A. 台词；信函
- B. 影片；原著
- C. 人物；公文
- D. 剧情；标题

28. 愚公移山：郑人买履

- A. 弄巧成拙：囫囵吞枣
- B. 杞人忧天：庖丁解牛
- C. 邯郸学步：东施效颦
- D. 凿壁偷光：田忌赛马

29. 睡眠效应是指在信息来源可信性下的传播效果会随时间的推移而发生变化的现象，即传播结束一段时间后，高可信性信息源带来的正效果在下降，而低可信性信息源带来的负效果却向正效果转化。其中可信性包括两个因素：传播者的信誉和专业权威性，一般说来，信息源的可信度越高，其说服效果越大，可信度越低，说服效果越小。

根据上述定义，下列选项中不属于睡眠效应的是（ ）。

A. 饮品公司选用有吸引力的代言人，刚开始反响不错，商品热卖，但之后受众逐渐出现“审美疲劳”，名人效应越来越不明显

B. 学校礼堂定期举办讲座，发现演讲者越是有名，听众越多，而请普通讲师进行科普讲座时却来者寥寥

C. 某个普通厂商的保健品广告发布后，因为广告平庸的创意受到指责，甚至令消费者反感，但隔了一些时日后，产品的销量却每个月都在稳步上升

D. 士兵观看了一部战争宣传片，看完初期反应并不好，士气没有高涨，但过了一段时间发现士兵对影片的一些场面印象深刻，士气慢慢上涨了

30. 微表情是指人们通过做一些表情把内心感受表达给对方看，在人们做的不同表情之间，或是某个表情里，脸部会“泄露”出其它的信息。微表情最短可持续 1/25 秒，尽管一个下意识的表情可能只持续一瞬间，但它很容易暴露情绪。当面部在做某个表情时，这些持续时间极短的表情会突然一闪而过，而且有时表达相反的情绪。

根据上述定义，下列哪项属于微表情（ ）。

- A. 售货员面对衣着寒酸的顾客，笑脸相迎中可能闪过一丝轻蔑的嗤笑
- B. 间谍通过眨眼向同伙传递信息
- C. 小王受到惊吓后，脸部不断地抽搐着
- D. 迎着刺骨寒风行走，小李的上下牙齿不断抖动相撞

31. 小张购买了 2 个苹果、3 根香蕉、4 个面包和 5 块蛋糕，共消费 58 元。如果四种商品的单价都是正整数且各不相同，则每块蛋糕的价格最高可能为多少元？（ ）

- A. 5
- B. 6
- C. 7
- D. 8

32. 某学校组织一次教工接力比赛，共准备了 25 件奖品分发给获得一、二、三等奖的职工，为设计获得各级奖励的人数，制定两种方案：若一等奖每人发 5 件，二等奖每人发 3 件，三等奖每人发 2 件，刚好发完奖品；若一等奖每人发 6 件，二等奖每人发 3 件，三等奖每人发 1 件，也刚好发完奖品。则获得二等奖的教工有多少人？（ ）

- A. 4
- B. 5
- C. 6
- D. 3

33. 两根同样长的蜡烛，点完粗蜡烛要 3 小时，点完细蜡烛要 1 小时。同时点燃两根蜡烛，一段时间后，同时熄灭，发现粗蜡烛的长度是细蜡烛的 3 倍。问两根蜡烛燃烧了多长时间？（ ）

- A. 30 分钟
- B. 35 分钟
- C. 40 分钟
- D. 45 分钟

34. 某公司针对 A、B、C 三种岗位招聘了 35 人，其中只能胜任 B 岗位的人数等于只能胜任 C 岗位人数的 2 倍，而只能胜任 A 岗位的人数比能兼职别的岗位的人多 1 人，在只能

C. 快递-汇票-函件

D. 函件-汇票-包裹

38.2008年1-5月,移动电话长途通话时长约是固定传统长途电话通话时长的多少倍?

()

A. 3.4

B. 2.5

C. 1.9

D. 0.5

39.假如平均每条移动短信业务费用为0.1元,则2009年5月移动短信业务总量占电信总量的比重约为()。

A. 2.8%

B. 3.0%

C. 3.2%

D. 6.4%

40.能够从上述资料中推出的是()。

A. 2009年5月,各项电信业务与去年同期相比均有所增长

B. 2009年5月,各项邮政业务营业状况均好于1-4月平均水平

C. 2009年5月,移动电话长途通话占移动电话通话总时长的10%以上

D. 2009年1-5月,电信业务同比增长率高于邮政业务

第17天

1.《物权法》规定,除法律另有规定外,()代表国家行使国有财产的所有权?

A. 全国人大

B. 全国人大常委会

C. 国家主席

D. 国务院

2.孙某(卖方)与刘某(买方)自愿签订《房屋买卖合同》,刘某依约支付定金人民币10万元,孙某见房价飞涨,不履行交房义务。孙某应当返还刘某人民币()?

A. 10万元

B. 15万元

C. 20万元

D. 25万元

3.下列关于历史事件的叙述,最可能出现的是()?

A. 华佗给弟子讲解《本草纲目》

B. 李世民津津有味地与大臣们谈论《西游记》

C. 曹操在纸上写命令传递给在前方作战的将领

D. 管仲用木牛流马运输粮食保障征战将士的粮食需求

4.提出“究天人之际,通古今之变”的治史思想的史学家是()?

- A. 司马迁
B. 司马相如
C. 班固
D. 司马光

5. “一国两制”的战略构想基本前提是（ ）？

- A. 为现代化建设创造条件
B. 实现中华民族的伟大复兴
C. 港澳台地区实行高度自制
D. 国家主权统一于中华人民共和国

6. 以江泽民同志为核心的党中央领导集体 13 年来最重要的经验就是（ ）？

- A. 坚持改革开放，紧紧扭住经济建设这个中心
B. 坚持以邓小平理论为指导，不断推进理论创新
C. 坚持四项基本原则，推进社会主义现代化建设
D. 坚持物质文明和精神文明两手抓

7. 中东或中东地区是指地中海东部与南部区域，从地中海东部到波斯湾的大片地区，“中东”地理上也是亚洲西部与非洲东北部的地区。进入 2015 年以来，中东仍然处于混乱局面，ISIS 横行肆虐，并出现大量难民潮，对世界安全都造成了严重的威胁。下列对中东地区的地理国情说法不正确的是（ ）？

- A. 中东地区热带沙漠气候分布最广
B. 中东自古以来是东西方交通枢纽，战略位置极其重要，被称作“两洋三洲五海”之地
C. “中东”不属于正式的地理术语，但一般泛指西亚地区
D. 该地区曾经爆发过四次中东战争

8. 随着经济的发展，旅游已经成为越来越热门的话题，下列旅游景点说法正确的是（ ）？

A. 九寨沟位于湖南省境内，其是以地质遗迹钙化湖泊、滩流、瀑布景观、岩溶水系统和森林生态系统为主要保护对象的国家地质公园

B. 九华山位于安徽青阳县，属于中国佛教四大名山，是地藏王菩萨道场

C. 黄鹤楼位于湖北省武汉市，“欲穷千里目，更上一层楼”就是描写黄鹤楼的诗句

D. 大雁塔位于陕西法门寺内，是为保存玄奘由天竺经丝绸之路带回长安的经卷佛像主持修建的

9. 下列关于水污染的叙述正确的是（ ）？

- A. 当前对水体危害较大的是自然污染而不是人为污染
B. 水污染的三大污染源是工业污染源、农业污染源和生活污染源
C. 我国水资源质量不断下降，但不会对人们的生活和生产造成太大影响

D. 随着经济的发展，工业的废水排放量不断增加，这些废水不能被再利用

10. 下列属于计算机存储设备的是（ ）？

- A. U 盘
- B. 显示器
- C. 鼠标
- D. 键盘

11. 政府决定全面推开中小学教师职称制度改革。这被媒体誉为国务院给全国中小学教师的一份“大礼包”。“大礼包”里面有哪些“干货”？最核心的是“建立统一的中小学教师职称制度”。改革后，原本分设的中学、小学教师职称(职务)系列被统一为初、中、高级，并设置正高级职称，打破了基层的中小教师的职业“天花板”，让小学老师也有机会评上“教授级”职称，从而拓展中小教师的职业发展空间，提升他们的职业地位等。

对文中“大礼包”理解正确的一项是（ ）

- A. 建立统一的中小学教师职称制度
- B. 全面推开中小学教师职称制度改革
- C. 基层中小学教师统一职称的建立
- D. 拓展中小教师的职业发展空间

12. 在社会与生活步伐加快的今天，人们难得闲暇去仔细翻阅报刊来捕捉当下集体意识的火花、把握社会想象的脉搏。互联网上的搜索引擎为难以脱身的人们提供了方便，它已成为人们获取信息的重要手段。网民只需手指一点，即可了解社会当天所发生的事情和最受关注的热点。然而网络搜索以及与此相关的讨论，会因网络信息的不断更新而很快成为“历史”。探讨如何把这些作为社会发展轨迹的“暂时性”保留下来，以便现在和将来把它作为了解社会的独特窗口，将是一件富有创意的工作。

这段文字中加点的“它”指代的是（ ）

- A. 网络信息不断更新
- B. 当前网络上流行的各种搜索引擎
- C. 网民用搜索引擎代替翻阅报刊获取资讯的行为
- D. 保留下来的网络搜索以及与此相关的讨论

13. 近年来的舌尖安全问题不得不让人们反思，究其原因有多方面：企业大打“价格战”，为降低成本非法使用劣质、有毒原料，为求利润丧失道德良心，而违法成本过低使企业以身试法；法律不健全，监管不到位，各监管部门职能交叠，监管边界模糊，易出现监管盲区；消费者维权意识薄弱，某些错误观念反而间接引导制假售假行为，间接助长企业违法生产经营。当务之急是如何从根源上改善食品安全环境，这不仅需要政府的监管、法律的规定、企

业的良心，更需要的是我们每一个消费者意识的觉醒、行动的捍卫。

最适合做这段文字标题的是（ ）

- A.舌尖安全 道德至上
- B.舌尖安全 企业良心
- C.舌尖安全 隐患频发
- D.舌尖安全 人人有责

14.木桶的容易由最短的那块木板决定，义务教育公平程度、群众对教育的满意程度，也由教育资源中的短板决定。推进均衡发展，不能截长以补短，应努力补短来追长，因而教育发展的思路，应该是把工作重点放在补足短板上，强化弱势学校，努力缩小地区、城乡和校际差距。

最适合做这段文字标题的是（ ）

- A.取长补短，促进教育公平
- B.教育均衡，更需重视补短
- C.善于截长，平衡名校资源
- D.克服短板，缩小校际差距

15.①说到底，书名是比拼文化，唯有内涵丰富的书名，才是“正品”

②书名事虽小，却不可小觑

③书名之长短与书之滞销和畅销，并无必然联系

④尤其不能容忍的是，一个好作家的一本好书，明明可以品相纯正地出版，却被文化操守低下的出版人阉割得面目全非，尤其是书名，恶俗不堪，等同于“地摊货”

⑤这样的“糟蹋例子”不胜枚举

⑥《白鹿原》很“土”，《文化苦旅》很“雅”，《长恨歌》很“古”，《繁花》很“莫名其妙”……

简洁中蕴藏无限寓意，反而是“勾魂”之招

将以上 6 个句子重新排列，语序正确的是（ ）

- A.⑤⑥③②①④
- B.⑥③⑤①②④
- C.②④⑤⑥③①
- D.③⑥①④⑤②

16.①著名诗人余光中在《听听那冷雨》中对此大加赞叹：“杏花，春雨，江南。六个方块字，或许那片土就在那里面。而无论赤县也好神州也好中国也好，变来变去，只要仓颉的灵感不灭，

美丽的中文不老,那形象磁石般的向心力当必然长在”

②它蕴含了五千年的中华文化

③从学字开始,我们就明白,汉字决不仅是一种信息符号和交流工具

④汉字书写机会越来越少,提笔忘字的事则越来越多

⑤“横平竖直写字,方方正正做人”

⑥但随着手机、电脑的日渐普及,汉字书写脱离日常生活正在成为一种趋势,青少年汉字书写水平下降已成为一个不争的事实

将以上 6 个句子重新排列, 语序正确的是 ()

A.⑥⑤③①②④

B.⑤③②①⑥④

C.②⑤③①⑥④

D.①③②⑥④⑤

17. 多年以前,德国就要求在每一个销售的鸡蛋上都印有一串字母和数字组成的标识码,用来标明该鸡蛋是什么时间,以哪种方式,在哪个国家、哪个农场甚至哪个鸡舍生产的。以前有人认为这是多此一举,而现在根据标识码,不仅有关部门可以迅速查封受污染的鸡蛋,普通消费者也可以上网查询自己买的鸡蛋是否属于被污染范畴,进而保证大多数鸡蛋可安全食用,而不至于在民众中引起过度的恐慌。

这段文字意在说明 ()

A.德国鸡蛋均有安全标识码

B.食品安全标识码的重要性

C.食品安全标识码能保证食品安全

D.食品安全标识码有助污染源查找

18. 外企将其机器人总部设在上海,看中的就是上海立足长三角辐射全国的优势。同时上海人均 GDP 较高,城市居民收入水平在全国居于前列,消费能力较强,并且上海市民对于高科技和新鲜事物具有较高的接纳兴趣,在生活消费领域是中国的领先市场,可以为服务机器人的应用和普及提供市场。而目前在服务机器人领域,市场开拓恰是最重要的。上海本地的产业应用可以为工业机器人的应用提供市场资源,上海的工程机械、汽车、大飞机、轮船、电子制造等优势产业都是良好的产业应用环境。

这段文字意在说明 ()

A.上海率先形成机器人产业应用环境

- B.上海发展机器人产业的优势和资源
- C.上海已经形成良好的机器人产业局面
- D.上海机器人产业对全国形成强大辐射

19.由于智能手机的便携性和简便性，手机病毒与恶意软件带来的风险甚至高于电脑之间的病毒传播。从手机病毒的传播方式来看，主要是利用蓝牙设备、网页浏览、下载软件、短信彩信和电脑连接等多种途径。从智能手机的技术性能来看，它的移动存储功能和近距离无线传输技术，实现了网络到手机、手机与手机之间数据的频繁交换，增大了病毒的传播概率。

这段文字主要想表达的是（ ）

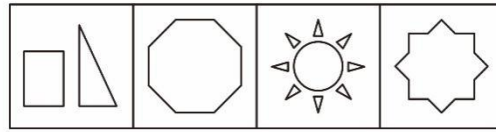
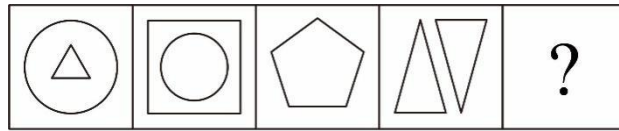
- A.智能手机的性能还有待提升
- B.手机病毒的传播方式有多种
- C.智能手机有传播病毒的风险
- D.无线技术发展所带来的弊端

20.超过半米长的碳纳米管的问世，使其朝应用方向踏出了重要一步，碳纳米管最重要的应用句式制造“又强又韧又轻又便宜”的材料。在天然材料中蛛丝最强韧，而碳纳米管纤维的韧性超过了蛛丝，这样的材料在航空航天领域极其重要。除此之外，碳纳米管还有独特的结构和导电性，可以用来做纳米尺度的电子器件，会比传统的电子器件更小，更灵敏。但是一般的碳纳米管长度不一，结构类型和导电性不同，很难用来规模化地生产结构和性能一致的器件。然而现在的超长碳纳米管克服了这一难题，成为一项巨大突破。

这段文字意在说明碳纳米管的（ ）

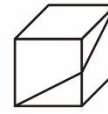
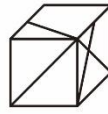
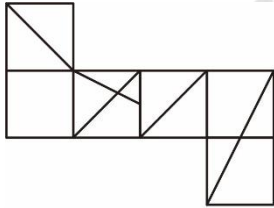
- A.应用前景
- B.物理特征
- C.结构性能
- D.研究突破

21. 从所给选项中，选择最合适的一个填入问号处，使之呈现一定的规律性（ ）。



A B C D

22. 左边给定的是正方体的表面展开图，以下哪项可以由它折叠而成？（ ）



A B C D

23. 今年中国南方地区出现“民工荒”。究其原因，或者是由于民工在家乡已找到工作；或者是由于南方地区民工工资太低，不再具有吸引力；或者是由于新农村建设进展加快，农民在农村既能增收，又能过上稳定的家庭生活。今年中国新农村建设确实进展加快，农民在农村既能增收又能过上稳定的家庭生活。

据此，可以推出今年南方地区出现“民工荒”的原因（ ）。

- A. 是由于民工在家乡已找到工作
- B. 可能是由于民工在家乡已找到工作
- C. 不是由于民工在家乡已找到工作
- D. 是由于南方地区民工工资太低，不再具有吸引力

24. 在元旦3天假期中，市卫生部门分别安排人民医院、脑科医院、市中医院和妇幼保健院进行义诊，要求每天安排2家医院；人民医院不能安排在第一天；脑科医院和人民医院同时义诊，市中医院和妇幼保健院同时义诊；如果市中医院没有安排在第二天，那么脑科医院就安排在第一天。

据此，可以推出（ ）。

- A. 人民医院一定在第二天义诊
- B. 脑科医院一定在第三天义诊
- C. 市中医院不会在第一天义诊
- D. 妇幼保健院不会在第二天义诊

25. 生活中有一些人会去反复检查门窗确保安全，反复洗手以保持干净等。他们明知这

是不合理的，但不得不做，重复这种无意义的动作并为此耗费大量时间，这种病症被称为强迫症。晓晓每天反复洗手的次数是一般人的 30 倍，可据此认为，晓晓患了强迫症。

以下哪项如果为真，最能质疑上述结论（ ）。

- A. 晓晓的工作决定她需要保持双手清洁
- B. 晓晓家人的洗手次数多于普通人
- C. 晓晓洗手时并没有感到痛苦烦恼
- D. 晓晓曾经忘记检查门窗，结果家中被盗

26. 某保险公司近来的一项研究表明：那些在舒适工作环境里工作的人比在不舒适工作环境里工作的人的生产效率要高 25%。这表明，日益改善的工作环境可以提高工人的生产率。

以下哪个假设是对以上因果联系最严重的挑战（ ）。

- A. 平均来说，生产率低的员工每天在工作场所的时间比生产效率高的员工要少
- B. 舒适的环境比不舒适的环境更能激励员工努力工作
- C. 舒适的工作环境通常是对生产率高的员工的酬劳
- D. 在拥挤、不舒适的环境中，同事的压力妨碍员工的工作

27. 银河落九天

- A. 举头望明月 B. 长江天际流
- C. 众鸟高飞尽 D. 瀑布挂前川

28. 教师：教学

- A. 作家：作文 B. 农民：农活
- C. 商人：商量 D. 工人：工作

29. 伦理学是哲学的一门分支学科，研究与道德相关的问题，包括道德的产生、发展、本质、评价、作用以及道德教育、道德修养规律等。

根据上述定义，下列不属于伦理学研究内容的是（ ）。

- A. 安乐死 B. 高薪养廉
- B. 学术造假 D. 保险条款

30. 教育均衡，是指通过法律法规确保给公民或未来公民以同等的受教育权利和义务，通过政策制定与调整及资源调配而提供相对均等的教育机会和条件，以客观公正的态度和科学有效的方法实现教育效果和成功机会的相对均衡。

根据上述定义，下列不属于实施教育均衡的行为是（ ）。

A. 某市教育局规定，市郊和市中心城区的中小学教师、优秀骨干教师和一般教师实行常态化的轮流调岗

B. 某校要求，所有老师每年必须发表一篇论文，否则，下一年度考核视为不合格，学校将不予聘任

C. 某市决定，不再实行经费拨付的“扶优扶强”政策，而是对硬件条件较差的学校倾斜，力争三年内使本市所有学校办学硬件条件基本平衡

D. 某市发文通知，从本学期起，取消重点中小学差别，所有学生就近入学

31. 一项工程，甲单独做需要 5 天完成。乙单独做需要 8 天完成。如果按照甲、乙、甲、乙……的顺序交替工作。每次 1 天，此项工程共需要（ ）天可以完成。

A. 8

B. $49/6$

C. 6

D. $49/8$

32. 某公司推出的新产品预计每天销售 5 万件，每件定价为 40 元，利润为产品定价的 30%。公司为了打开市场推出九折促销活动，并且以每天 10 万元的费用为产品和促销活动做广告宣传。问销量至少要达到预计销量的多少倍以上，每天的盈利才能超过促销活动之前？（ ）

A. 1.75

B. 2.25

C. 2.75

D. 3.25

33. 在直径 10 米的圆形小广场上放置了 7 根旗杆，将距离最近的两根旗杆用绳子连起来，问绳子的长度最长可能为多少米？（ ）

A. $\sqrt{5}$

B. $\sqrt{10}$

C. 5

D. $5\sqrt{2}$

34. 25 名同学中有 14 人喜爱数学，有 12 人喜爱英语，有 6 人喜爱数学和英语，5 人喜爱数学和语文，还有 2 人喜爱这三门课，而 6 人喜爱语文的人都喜爱另外一门课，则不喜欢这三门课的人数为（ ）个。

A. 5

B. 6

C. 7

D. 8

35. 由水果糖和巧克力糖混合成一堆糖，增加 10 颗水果糖后，巧克力糖占总数的 60%。再增加 30 颗巧克力糖后，巧克力糖占总数的 75%，那么原混合糖中有巧克力糖多少颗？（ ）

A. 20

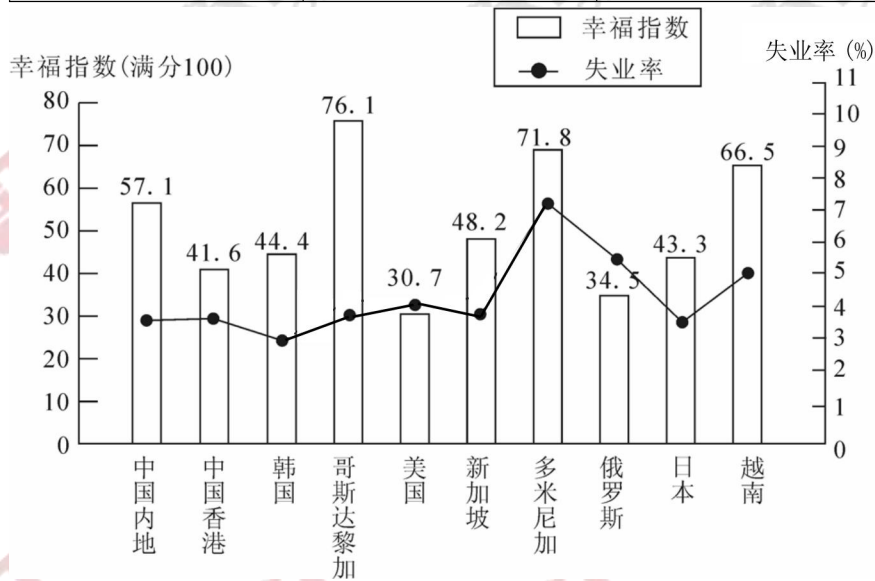
B. 30

C. 35

D. 40

2007年部分国家（地区）国民生产总值

国家（地区）	人均国民生产总值 （美元）	国民生产总值 （亿美元）
中国内地	2360	32801
中国香港	31610	2067
韩国	19690	9698
哥斯达黎加	5560	252
美国	46040	138112
新加坡	32470	1613
多米尼加	3550	367
俄罗斯	7560	12910
日本	37670	43767
越南	790	712



2007年部分国家（地区）的幸福指数和失业率

36.2007年，下列国家（地区）中人口最少的是（ ）。

A. 中国香港

B. 哥斯达黎加

C. 新加坡

D. 多米尼加

37.资料中失业率最高与最低的国家（地区），其幸福指数相差（ ）。

A. 27.4

B. 22.1

C. 31.4

D. 28.5

38.资料中人均国民生产总值和幸福指数均排名前五的国家(地区)有几个?()

- A. 4
- B. 3
- C. 2
- D. 1

39.能够从上述资料中推出的是()。

- A. 美国的失业人口少于俄罗斯
- B. 资料中人均国民生产总值越高的国家(地区),其失业率越低
- C. 人均国民生产总值排名第二的国家(地区),幸福指数排名第八
- D. 资料中只有一个亚洲国家(地区)的失业率高于美国

40.下列说法与资料相符的有几个?()

- ①国民生产总值小于1000亿美元的国家(地区),幸福指数均高于其他国家(地区)
 - ②人口过亿的国家(地区),失业率越低,幸福指数越高
 - ③比中国内地失业率低的国家(地区),幸福指数均低于中国内地
 - ④人均国民生产总值超过2万美元的国家(地区),幸福指数均低于其他国家(地区)
- A. 3
 - B. 2
 - C. 1
 - D. 0

第18天

1.下列歌词中,不是创作于改革开放之后的是()。

- A. 我们的未来,在希望的田野上
- B. 有一位老人在中国的南海边画了一个圈
- C. 总想对你表白我的心情是多么豪迈
- D. 我们走在大路上,意气风发斗志昂扬

2.正如中央经济工作会议的判断,“稳中有变、变中有忧,外部环境严峻复杂”,如何顶住经济下行压力,稳妥化解各种风险矛盾挑战,是摆在我们面前的一道现实考题。对此,下列说法,不正确的是()。

- A. 牢牢扭住高质量这个“根本要求”
- B. 高质量发展是长期、曲折、艰苦的任务
- C. 亟待化解风险、排除隐患,不能反复试错
- D. 高质量发展是一场持久战

3.简政放权是全面深化改革的“先手棋”和转变政府职能的“当头炮”。下列措施中,未完全体现“简政放权”精神的是()。

- A. 各级政务部门开放共享数据,保留独立的数据查询通道

B. 通过购买企业服务等方式，推进智慧城市、智慧政府建设

C. 加快对涉及信息共享急需的相关法规规章立改废

D. 涉及国家安全、个人隐私等数据信息要确保安全

4. 下列行为中，属于具体行政行为的是（ ）。

A. 某政府部门在核算一笔征迁补偿款时，误用了不相关的法律条文

B. 某工商部门在对无证经营的某个体工商户做出行政处罚

C. 某地市级人民政府制定规范性文件

D. 某公安机关在对张某做出罚款的行政处罚决定书上未加盖公章

5. 某朝官员王锴通过贿赂企图兼任宰相。皇帝同意了王锴的请求，并下诏“锴可兼宰相”。

时任给事中的李藩行使职权，驳回诏书。由此推断，给事中隶属于（ ）

A 唐朝的门下省

B 宋朝的枢密院

C 明朝的内阁

D 清朝的军机处

6. 河南尹田歆的外甥王湛，以知人出名，田歆对他说：“如今应推举六名孝廉，多有贵戚书信相命，又不好违背，我想自己选一名名士以报效国家，你助我求之。”这体现了（ ）

A. 地方无选举权

B. 选拔官吏以品评为主

C. 察举制的弊端

D. 自上而下的选官方式

7. 李釜源撰《地图综要》（研究明代历史地理的重要资料）内卷：“楚故泽国，耕稔甚饶。一岁再获柴桑，吴越多仰给焉。”据此准确反映的是（ ）

A. “苏湖熟，天下足”逐渐演变为“湖广熟，天下足”

B. 江浙农村转种棉花等，粮食不能自给，需要湖广输入

C. 湖广地区在明代成为全国粮食重要产区

D. 经济重心转移湖广地区超过吴越

8. 元代《富春山居图》残卷分藏于海峡两岸。2010年初，两岸均有意联合展出该作品。

下列作品与《富春山居图》同属于一个朝代的是（ ）

A. 王希孟《千里江山图》

B. 吴镇《嘉禾八景图》

C. 顾恺之《洛神赋图》

D. 吴道子《送子天王图》

9. 《吕氏春秋·上农》在描述农耕之利时不无夸张地说，一个农夫耕种肥沃的土地可以养活九口人，耕种一般的土地也能养活五口人。战国时期农业收益的增加（ ）

A. 促进了个体小农经济的形成

- B. 抑制了手工业和商业的发展
- C. 导致畜力与铁制农具的使用
- D. 阻碍了大土地所有制的成长

10. 女孩甲（8岁）与小男孩乙（12岁）放学后常结伴回家。一日，甲对乙讲：“听说我们回家途中的王家昨日买了一条狗，我们能否绕道回家？”乙答：“不要怕！被狗咬了我负责。”后甲和乙路经王家同时被狗咬伤住院。该案赔偿责任应如何承担？（ ）

- A. 甲和乙明知有恶犬而不绕道，应自行承担赔偿责任
- B. 乙自行承担赔偿责任，乙的家长和王家共同赔偿甲的损失
- C. 王家承担全部赔偿责任
- D. 甲、乙和王家均有过错，共同分担责任

11. 油价的暴跌，更让人看到市场经济的残酷：两年前还是 100 多美元的天价石油，让出口国财大气粗，消费国叫苦不迭，但一年后则不到 30 美元的地板价，则让出口国_____，消费国心中窃喜。

填入划横线部分最恰当的一项是（ ）

- A. 黯然神伤
- B. 喜忧参半
- C. 苦不堪言
- D. 不胜其烦

12. 中国指数研究院近日发布的百城房价指数显示，环比持续上涨了 12 个月的百城房价，已经出现一定程度的回落。这种房价环比回落的主要原因，在于某些一线城市的房价在限购政策作用下，一定程度上得到了_____。此外，尽管某些一线城市的房价溢出效应开始_____到周边城市，但是周边城市不仅住房销售量远不如一线城市，且房价的涨幅也要更低，这自然会拉低百城房价。

填入划横线部分最恰当的一项是（ ）

- A. 控制 波及
- B. 遏制 蔓延
- C. 遏止 影响
- D. 抑制 滋生

13. 我们正因为有梦，所以对生活充满了热爱与希望。我们正因为崇尚劳动，所以在梦想的道路上大步向前。匠心_____能量，劳动成就梦想，在实现中国梦的伟大进程中，让劳动的光和热不断_____。

填入划横线部分最恰当的一项是（ ）

- A. 汇聚 挥发
- B. 积聚 绽放
- C. 凝聚 迸发
- D. 集聚 释放

14. 闲置的办公大楼，其实就是一种_____的提示，在默默地告诉大家，曾经有公权力在_____，曾经有官员在搞铺张浪费。因此，相关部门应该立即出手，全面排查所有政府机关修建的闲置“楼堂馆所”，而后，依据市场状况，拿出一套行之有效的处置方式迅速处置。

填入划横线部分最恰当的一项是（ ）

- A. 无言 胡作非为
- B. 由衷 肆意妄为
- C. 无声 无所不为
- D. 高调 为所欲为

15. 正是对页岩油这种“游戏改变者”的恐惧，沙特迟迟不愿意_____产量，甚至还加大了供给，试图将高成本的页岩油挤出市场；因为乌克兰的危机，西方更希望通过低油价_____俄罗斯的经济实力。

填入划横线部分最恰当的一项是（ ）

- A. 缩短 减弱
- B. 降低 消灭
- C. 减少 增强
- D. 削减 削弱

16. 辩论是现代社会最受欢迎的达成共识的途径，“真理越辨越明”。但如果辩论双方心怀强烈的爱憎情感，往往就会听不进对方的意见，反而沿着偏见的道路越走越远，这时双方的辩论就不是在追求真理，而是在千方百计地保护自己的权利。在公共政策的辩论中，有效避免双方越说越僵的机制就是_____，如果公众能以理性、客观和冷静的第三方身份来进行仲裁，而不是以情绪化的狂热偏袒一方，将有可能使公共政策的决策更加接近所辩论的事务的事理。舆论对辩论双方明晰、细化和修正自己的方案是一种积极的“压力”，谁在争论中出口伤人或刻意隐瞒，不管他说得多么头头是道，都已经先在公众的眼里成了不值得尊敬和信任的人。

填入划横线部分最恰当的一句是（ ）

- A.引入公众舆论
- B.让公众参与辩论
- C.塑造多元化监督格局
- D.辩论过程透明化

17.对于大多数中国人而言，印度是一个充满着巨大反差、令人困惑不解的国家；宽容与非暴力的理念从这里走向世界，妇女儿童却在暴乱中被活活烧死；走在亚洲最早西化城市街头的人们，却有着百年前的卫生陋习；接受英语教育的印度年轻人在硅谷成为创新发动机，他们母国的城市里却有数不清的贫民窟和乞丐.....。当我们去探究印度之所以为印度的同时，答案就在历史和政治中。

填入划横线部分最恰当的一句是（ ）

- A.印度实现了政治平等，却存在着社会上的巨大不平等
- B.这可能是导致很多中国人对印度印象不佳的主要原因
- C.人们对异域的印象和认识，往往源自并不深入的观察
- D.谈及政治，印度有一句玩笑是“政党会变，国家不变”

18.世界各国普遍把新能源产业作为战略性新兴产业加以扶持和保护。从新能源发展规模上看，我国已与发达国家处在同一阵营。我国光伏电池和组件 95%以上用于出口，供应量占全球市场份额 50%以上，受欧洲下调光伏补贴及市场竞争的影响，世界光伏产品价格大幅度下降，很多生产厂商面临利润下降的危机，美国和欧洲一些光伏企业相继倒闭破产。我国外向型的新能源发展模式，几乎同时遭到欧美发达国家的“围攻”。风能设备，光伏产品遭到了欧美国家反补贴、反倾调查或被征收高额反补贴、反销税，严重打压了我国光伏产业发展势头，成为一些企业效益大幅下滑甚至破产的重要原因。

根据以上文字，以下哪项说法正确（ ）

- A.新能源产业技术已经达到了世界先进水平
- B.欧洲的新能源市场困境对中国企业的发展没有影响
- C.外国政府的保护政策是造成中国新能源企业发展困难的原因之一
- D.反补贴政策是我国光伏企业效益下滑和破产的重要原因

19.秦用商鞅变法，富国强兵，兼并六国，改分封而立郡县，在领土范围和制度形式上奠定所谓封建时代中国的基本格局，是为周秦之变。如果说王道是社会和政府统一的预设中以社会文化价值作为政治的运作之原则的话，那么霸道就是在政府和社会对立的预设中无视

社会文化价值，对政治运作期待“以法为教，以吏为师”。这或许有削弱六国社会根基，强化新的帝国认同以稳定其统治的考量，但激烈方式引起的反弹终于使得秦二世而亡。

根据这段文字，以下说法符合作者原意的是（ ）

- A.周秦之变就指的是秦的商鞅变法
- B.社会要长久运行必须施王道，弃霸道
- C.霸道是一种错误的统治方式
- D.施行霸道是秦二世而亡的根本原因

20.①它可以将人们带到宇宙中遥远的角落

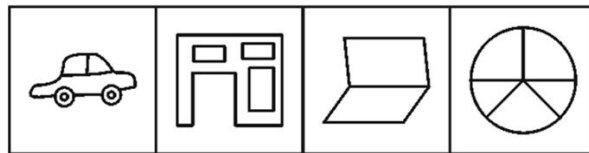
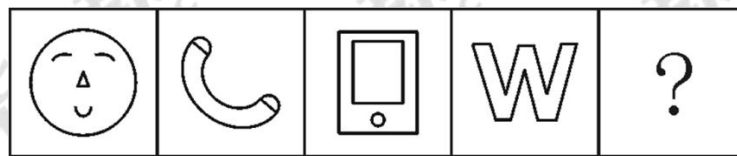
②1994年，科幻小说《环》中有过这样描写，因为空间中的任何物体都有旋转的倾向，如果奇点的旋转速度够快的话，它就不是一个点

- ③在科幻小说中，黑洞往往被描写成通往另一个世界的大门
- ④因此，黑洞可能就是虫洞，是一个连接不同时空的大门
- ⑤或带人前往一个全新的宇宙
- ⑥而会形成一个环状，环状奇点就成为通往其他宇宙的大门

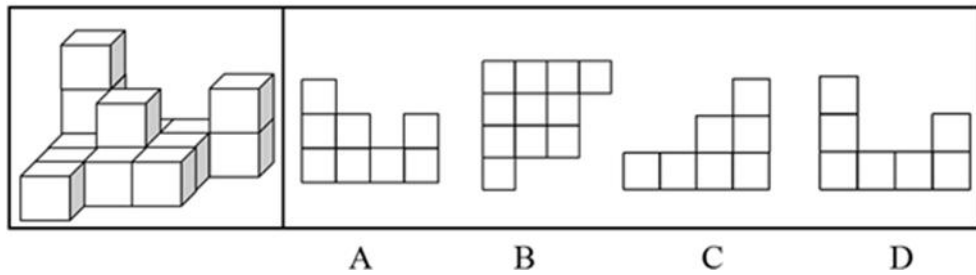
将以上6个句子重新排列，语序正确的是（ ）

- A.①⑤②⑥③④
- B.③①⑤②⑥④
- C.②⑥①⑤③④
- D.③①⑤④②⑥

21. 从所给选项中，选择最合适的一个填入问号处，使之呈现一定的规律性（ ）。



22. 下面所给的四个选项中，不属于左侧所给立体图形的三视图的选项是（ ）。



23. 只有在湿度高且光线昏暗的山林里才会有野生灵芝生长。紫金山林区没有野生灵芝生长。

若以上判断为真，可推出以下哪项结论（ ）。

- I、紫金山林区湿度不高并且光线不昏暗。
- II、如果紫金山林区光线昏暗，则肯定湿度不高。
- III、如果紫金山林区湿度高，则肯定光线不昏暗。

- A. 仅 I B. 仅 II
- C. 仅 II 和 III D. I、II 和 III 都推不出

24. 某刑事人类学家在对 260 名杀人犯的外貌进行了考察后，发现他们具有一些共同的生理特征，于是得出“杀人犯具有广颧、颧骨突出、头发黑而短特征”的结论。

以下哪项与上述推理方式相同（ ）。

- A. 24~28 之间没有质数
- B. 八月十五云遮月，正月十五雪打灯
- C. 植物种子经超声波处理后可增产，所以玉米种子经超声波处理后也可以增产
- D. 某高校在对全校学生进行调查后，得出“我校同学学习态度普遍较好”的结论

25. 近年来，人们对网络高等教育的品质信任度越来越高。据一项民意调查显示，某国 37% 的公民称他们同意网络高等教育能提供高质量的教育。相比 2012 年的 33% 和 2011 年的 30%，这个数字有所提高。这表明，攻读大学学位的方式将出现一波新的重大变化。

以下哪项如果为真，最能反驳上述结论？（ ）

- A. 该国近一半的商界领袖说他们会雇佣在网络高等教育获得学位的人到自己的公司工作
- B. 私营企业对网络高等教育的毕业生的信任度越来越高
- C. 目前，网络高等教育注册人数的增长速度比以往有所放缓
- D. 该国 77% 的公民称传统高等教育能提供最高质量的教育

26. 在某私营公司的一次董事会上，大家就研发部门展开了讨论。

副董事长说：我们是私营企业，就应该以盈利为目的。为了节约开支，我建议撤销研发部门，因为公司为研发而支付的费用太高。

总经理对此反驳说：我不同意这样做。研发部门集中了我公司最好的技术人员，他们可以研发出高质量的新产品。

以下哪项如果为真，最能质疑总经理的观点？（ ）

- A. 研发部门已经开发的产品没有受到市场的欢迎
- B. 研发新产品需要较多的前期投入
- C. 好的技术人员可以为公司树立人才济济的形象
- D. 私营公司既要考虑经济效益，也要考虑社会效益

27. 骨骼 对于 （ ） 相当于 （ ） 对于 房屋

- A. 人体；梁柱
- B. 上肢；窗户
- C. 关节；钢筋
- D. 肌肉；电梯

28. 唐诗：七律

- A. 曲艺：越剧
- B. 瓷器：茶杯
- C. 哺乳动物：老虎
- D. 自行车：汽车

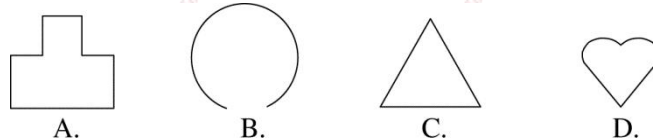
29. 座右铭，本来指写出来放在座位边上用来激励、警戒、约束自己行为的格言警句，后来把一个人铭记在心或经常自我提醒的一句或少数几句格言警句也叫做座右铭。

根据以上定义，下列语句中不适合用作座右铭的是（ ）。

- A. 天若有情天亦老，人间正道是沧桑
- B. 先天下之忧而忧，后天下之乐而乐
- C. 良言一句三冬暖，恶语伤人六月寒
- D. 横眉冷对千夫指，俯首甘为孺子牛

30. 凸图形指的是图形内部任意两点连线均处于图形内部的封闭图形。

根据上述定义，以下哪项属于凸图形？（ ）。



31. 甲、乙两地相距 210 公里，a、b 两辆汽车分别从甲、乙两地同时相向出发并连续往返于两地，从甲地出发的 a 汽车的速度为 90 公里/小时，从乙地出发的 b 汽车的速度为 120 公里/小时。问 a 汽车第二次从甲地出发后与 b 汽车相遇时，b 汽车共行驶了多少公里？（ ）

- A. 560 公里
B. 600 公里
C. 620 公里
D. 630 公里

32.甲、乙两个班级共购买练习本 480 本，如果甲班再多买 $\frac{3}{4}$ ，乙班再多买 $\frac{1}{4}$ ，则两班练习本数量相等。那么，甲班购买的练习本数量为（ ）本。

- A. 120
B. 160
C. 200
D. 240

33.某高校大学生数学建模竞赛协会共有 240 名会员，今欲调查参加过国家级竞赛和省级竞赛的会员人数，发现每个会员至少参加过一个级别的竞赛。调查结果显示：有 $\frac{7}{12}$ 的会员参加过国家级竞赛，有 $\frac{1}{4}$ 的会员两个级别的竞赛都参加过。问参加过省级竞赛的会员人数是？（ ）

- A. 160
B. 120
C. 100
D. 140

34.由于汛期暴雨某路段发生塌陷，要进行抢修，需在规定日期内完成，如果由甲工程队修，恰好按期完成；如果由乙工程队修，则要超过规定日期 3 天。如果两个工程队合作了 2 天，余下的部分由乙工程队单独做，正好在规定日期内完成。则规定日期的天数是（ ）。

- A. 4
B. 5
C. 6
D. 7

35.货车 A 由甲城开往乙城，货车 B 由乙城开往甲城，它们同时出发并以各自恒定的速度行驶，在途中第一次相遇时，它们离甲城为 35 千米。相遇后两车继续以原来的速度行驶至目的地城市后立即折返，途中再一次相遇，这时它们离乙城为 25 千米。则甲乙两城相距（ ）千米。

- A. 80
B. 85
C. 90
D. 95

2012 年，某市参加生育保险人数达 51.52 万人，占应参保人数的比重由上年的 85.4% 上升到 90.9%。该市参加基本养老保险人数 69.80 万人，比上年增长 9.6%，其中女性 30.59 万人，比上年增长 7.5%，占到参加基本养老保险总人数的 44.1%；参加基本医疗保险人数为 102.12 万人，比上年增长 6.8%，其中女性 28.38 万人，比上年增长 29.6%，占到参加基本医疗保险人数的 27.8%；参加失业保险人数为 74 万人，比上年增长 1.4%，其中女性 33.3 万人，

比上年增长 1.4%，占到参加失业保险总人数的 45.0%，且女性参加失业保险增加人数占到参加失业保险增加总人数的 45%；参加工伤保险人数 46.43 万人，比上年增长 16.9%。其中女性 15.3 万人，比上年增长 58.7%，占到参加工伤保险总人数的 32.91%，且女性参加工伤保险增加人数占到参加工伤保险增加总人数的 84.1%。

36.2012 年该市应参加生育保险的人数约为多少万人？（ ）

- A. 51.5
- B. 56.7
- C. 60.3
- D. 65.4

37.在除生育保险之外的 4 类保险中，2012 年该市女性参保人数占总体比重明显高于上年的有几个？（ ）

- A. 3
- B. 4
- C. 1
- D. 2

38.2012 年参加基本医疗保险的男性人数约是参加工伤保险的男性人数的多少倍？

（ ）

- A. 2.4
- B. 2.1
- C. 1.9
- D. 1.6

39.将各种社会保险按该市 2012 年参保人数同比增速从高到低排列正确的是（ ）。

- A. 基本医疗保险—基本养老保险—失业保险
- B. 工伤保险—失业保险—基本医疗保险
- C. 基本医疗保险—工伤保险—基本养老保险
- D. 基本养老保险—基本医疗保险—失业保险

40.以下关于该市 2012 年社会保险参保情况的描述，能够从资料中推出的是（ ）。

- A. 女性参加工伤保险的人数比上年增加了 7 万多人
- B. 基本养老保险的参保人数比上年增加了 9 万多人
- C. 基本医疗保险参保者中女性的比重低于工伤保险
- D. 参加失业保险的男性人数与上年持平

第 19 天

1.对世界经济影响最大的三大区域集团不包括（ ）。

- A. 欧洲联盟
- B. 北美自由贸易区

C. 亚太经济合作组织

D. 金砖国家

2. 马克思说：“无论哪一种社会形态，在它所能容纳的全部生产力发挥出来以前，是决不会灭亡的；而新的更高的生产关系，在它存在的物质条件在旧社会的胞胎里成熟以前，是决不会出现的。”以下说法不符合此观点的是（ ）。

A. 新生产关系的出现需要一定的物质条件

B. 生产力的发展是社会形态更替的决定因素

C. 社会形态的存在有其阶段的必然性

D. 生产关系决定了生产力的发展

3. 下列措施中能够拉动内需的是（ ）。

A. 提高准备金率

B. 提高利率

C. 降低汇率

D. 降低贴现率

4. 揭示历史事件之间的因果联系，是历史学习的重要方法。下列因果搭配，不正确的是（ ）。

A. 北魏孝文帝改革——加快了北方各民族融合的步伐

B. 郑和下西洋——促进了中国与亚非国家的交流

C. 启蒙运动——创立了科学社会主义理论

D. 北约和华约两大集团的出现——形成了东西方对峙格局

5. 有学者在评价某不平等条约时说：“这完全是……以慈禧太后为首的清王朝为维护自己的统治地位而向帝国主义列强立下的一纸卖身契。”从此，清政府完全沦为帝国主义统治中国的工具。这一条约指的是（ ）。

A. 《南京条约》

B. 《北京条约》

C. 《马关条约》

D. 《辛丑条约》

6. 某城市素有“十三朝古都、八代陪都”之说，是我国建都时间最长，建都朝代较多的千年帝都。这座城市是（ ）。

A. 开封

B. 杭州

C. 西安

D. 洛阳

7. 改革开放 40 年来，在党中央的正确领导下，中国发生了翻天覆地的变化，下列能体现这一深刻变化的是（ ）

- ①成为世界上制造业第一大国、货物贸易第一大国
- ②已经形成世界上最大的社会保障体系
- ③扶贫工作成效显著，已经解决相对贫困问题
- ④拥有全球规模最大、最具成长性的中等收入群体

- A. ①②③④
- B. ①②④
- C. ①③④
- D. ①②③

8. 防范化解重大风险，是党中央为决胜全面建成小康社会所要求重点抓好的三大攻坚战之一，下列对防范化解重大风险认识正确的是（ ）

- ①防范化解重大风险的任务艰巨，包括防范化解政治、意识形态、经济、科技、社会、外部环境、党的建设等领域重大风险
- ②精神懈怠危险、能力不足危险、脱离群众危险、消极腐败危险，属于政治领域的风险
- ③防范化解重大风险，需要提高战略思维、历史思维、辩证思维、创新思维、法治思维、底线思维能力
- ④防范化解重大风险，需要建立健全风险研判机制、决策风险评估机制、风险防控协同机制、风险防控责任机制

- A. ①②③④
- B. ①②③
- C. ①②④
- D. ①③④

9. 2019 年是澳门回归祖国 20 周年，澳门 20 年的社会发展成就是“一国两制”伟大方针取得巨大成功的生动体现，下列关于澳门特别行政区的说法正确的是（ ）

- A. 中央人民政府有权任免澳门特别行政区行政长官、政府主要官员、检察长和法官
- B. 澳门特别行政区行政长官由年满四十五周岁且在澳门通常居住连续满二十年的澳门特别行政区永久性居民中的中国公民担任
- C. 澳门特别行政区设立基层法院、中级法院和高级法院。
- D. 澳门特别行政区财政收入全部由澳门特别行政区自行支配，无需上缴中央政府

10. 下列关于民事赔偿的有关说法，正确的是（ ）

- A. 小张因需要长期出国留学不能照顾自己养的宠物狗，遂将其遗弃，后这只狗将邻居李某咬伤，小张可不负赔偿责任
- B. 黄某因工作不顺遂产生报复社会心理，用刀乱砍某幼儿园的小朋友，幼儿园保安人员虽全力保护但仍造成儿童损伤，幼儿园应承担相应赔偿责任
- C. 小刘正在用自己的无人机进行公司的航拍任务，10岁的小学生胡某因为好奇用的弹弓将无人机击落，无人机将胡某砸伤，小刘不承担赔偿责任

D. 孙某将自己已报废的轿车略加改装后卖给了金某，后来金某开车发生交通事故，只由金某负责赔偿责任

11.“当网红”的理想之所以不被家长认可，主要是因为当下社会中网红群体形象不容乐观。网红的快速成名，或是靠秀颜值、秀身材，或是凭搞怪的行为、推手的_____，而真正依靠能力与才华获得认可的网红_____。因此，在孩子“想当网红”的背后，通过“歪门邪道”而一夜成名的扭曲价值观，才是家长们真正担忧的。

填入划横线部分最恰当的一项是（ ）

- A.操作 门可罗雀
- B.提倡 凤毛麟角
- C.操纵 屈指可数
- D.炒作 层出不穷

12.教育应该由浅入深、由简入繁、由易到难，阅读也要_____。可以将粗读和精读结合起来。有些书粗读就可以，有些很好的书要精读、复读、再读。对儿童来说，“丑小鸭”这样的书就要精读，推敲个中细节。为什么要这么写？安徒生怎么会写出这么美的乡村？要鼓励孩子认真_____。

填入划横线部分最恰当的一项是（ ）

- A.按部就班 捉摸
- B.循序渐进 琢磨
- C.深入浅出 思考
- D.登堂入室 推敲

13.90后超前、个性的消费观念在中国当下或许还很_____，但从经济社会发展趋势看，在世界上已并不稀奇，甚至早已成为一种_____。舆论对于90后消费观念的_____，毋宁说是在社会剧烈变迁中，对于这种新消费观念的担忧与恐慌情绪的反应。

填入划横线部分最恰当的一项是（ ）

- A.另类 时尚 置疑
- B.少见 趋势 批评
- C.稚嫩 常态 质疑
- D.新鲜 潮流 批判

14.找准方向、强化特色，更需要大学具备相当的定力，具备沉潜之心，不_____。一所好大学，并不是要完全不在乎社会各方的评价，但不能被各种指标、排名和利益诱惑、

束缚甚至_____，更不能持“短期功利”之心，一味追求增加“博士点”数量，追求学校升级、升格。

填入划横线部分最恰当的一项是（ ）

- A.优柔寡断 约束
- B.同流合污 禁锢
- C.随波逐流 绑架
- D.犹豫不决 桎梏

15.真正要结束互联网领域的野蛮成长，政府相关部门，就应_____其必须尽责的互联网公共外部性的监管责任，对从事商事服务的主体发布的互联网信息，及市场无法解决的公共外部性问题等，进行监管和规范。当然，单凭政府公权他律规范互联网往往_____，因为监管资源有半径效应，因此需要培育互联网领域的市场自律自治体系。

填入划横线部分最恰当的一项是（ ）

- A.执行 一劳永逸
- B.践行 立竿见影
- C.履行 事倍功半
- D.施行 得不偿失

16.影响公共政策操作效果最重要的是政策的明晰性，一项不明晰的公共政策，有可能导致政策执行的南辕北辙而有失公平和公正，甚至根本无法执行和操作。然而，_____，尽管现实中常常会遇到种种不确定性和多变因素，但制定政策时，对适用对象、执行主体、执行程序、执行条件等，也应尽可能做出明确规定。

填入划横线部分最恰当的一句是（ ）

- A.出台一项不明晰、不可操作的公共政策，往往比没有公共政策更糟
- B.一些政府只有模糊的规定，并没有明确这是长期政策还是权宜之计
- C.很多公共政策出台之后，往往会引发较大的争议和疑惑
- D.在我们的政策制定中，公共政策的明晰性依然是个软肋

17.收藏黄金的人，念念不忘的是金子的货币价值。1816年，英国开始实行金本位，多数资本主义国家也于19世纪70年代后相继实行。问题是，_____？工业革命中黄金战胜其他贵金属成为货币，或许恰恰和它的产量有关，19世纪之前的数千年中，人类总共生产的黄金不到1万吨，19世纪产金则达到了1.15万吨。黄金以度量衡的面目出现，刚好和工业革命后资本主义经济创造出的大量财富对应。白银则没有这么幸运，白银的大量

开采是 19 世纪之前的事，开采的白银多被运到了我国，充实到银本位体系中。

填入划横线部分最恰当的一句是（ ）

- A.历史上黄金的一枝独秀难道不是一个巧合
- B.黄金如何实现其金属属性下的保值与升值
- C.投资者能否依赖黄金这一“最后的避风港”
- D.黄金能否延续其曾经作为财富象征的传统

18.世界茶叶生产的基本规律是“南红北绿”，即：较低纬度地区（如印度、肯尼亚）只能生产优质红茶，相对较高纬度地区（北纬 25 度—30 度）最适宜生产优质绿茶。国际茶价历年绿茶高于红茶。茶叶主产国印度、印尼、斯里兰卡的绿茶品质都不高，以上三国从上个世纪 70 年代开始“红改绿”，企图占领国际绿茶市场，均以失败告终。我国名优绿茶主要分布在山区，拥有丰富的农村劳动力资源和较低的劳动力成本，发展绿茶产业有明显的比较优势。

下列说法与原文相符的是（ ）

- A.目前国际市场上红茶供过于求
- B.印度绿茶价格高于国际绿茶均价
- C.中国绿茶在国际市场上较有竞争实力
- D.国际茶叶市场上出现“红改绿”的趋势

19.陆游的七律是第一流的，甚至有人誉为“古今七律第一”，但他的诗作存世的几近万首，有人批评他自我重复的成分较多。其实，试读任何一位大诗人的全集，就能感觉到不论李白或杜甫，不论苏轼或黄庭坚，即便自我重复不多但精彩绝伦的杰作仍是少数，多数作品也不过“泯然众人”而已。

根据这段话，我们可以得出的结论是（ ）

- A.文学大师的作品都有瑕疵之处
- B.文学大师的作品自我重复的多
- C.文学大师的作品未必都是杰作
- D.文学大师传世之作都非常的多

20.①这些细节都告诉我们阅读与一个民族的伟大息息相关

②犹太民族诞生了许多影响人类文明进程的人，贝多芬、马克思、卓别林、毕加索、爱因斯坦……一个人口不多的民族，为什么会取得如此成就？

③因为在他们看来，这是褻瀆，书柜只能放在床头的位置

④小孩刚懂事时，父母就将《圣经》涂蜂蜜让小孩去舔，让孩子意识到书本是“甜”的，从出生起培养对书的亲近感

⑤除了勤劳之外，一个重要的原因就是阅读

⑥犹太人已将阅读神圣化。他们不会把书柜放在床的尾部，不能让脚对着它

将以上 6 个句子重新排列，语序正确的是（ ）

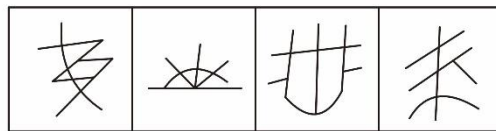
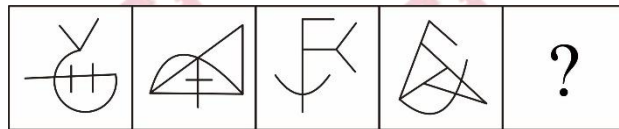
A. ①⑥③④②⑤

B. ④⑥⑤②③①

C. ②⑤⑥③④①

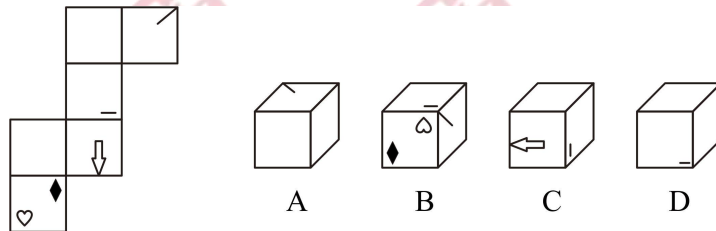
D. ⑥③①②⑤④

21. 从所给选项中，选择最合适的一个填入问号处，使之呈现一定的规律性（ ）。




A B C D

22. 左边给定的是纸盒的外表面，下列哪一项能由它折叠而成（ ）。



23. 以下 4 张卡片均为一面是图案，另一面是阿拉伯数字，现在断定：如果一面是梅花，那么另一面是 6。

如果要检验该断定正确与否，且只允许翻动以上两张卡片，正确的选择是（ ）。



A. 翻动第一张和第三张 B. 翻动第二张和第三张

C. 翻动第一张和第四张 D. 翻动第二张和第四张

24. 甲：“有的鱼类资源枯竭的地方正是环境遭到破坏的地方。”

乙：“如果某地领导不重视环境保护的话，该地环境就遭到破坏。”

丙：“不存在鱼类资源枯竭的地方，也不存在环境遭到破坏的地方。”

丁：“凡鱼类资源枯竭的地方都不是环境遭到破坏的地方。”

如果甲、乙、丙、丁四人中只有一人说错了，那么下面哪句话是真的？（ ）

- A. 有的地方的鱼类资源枯竭了 B. 某地环境遭到破坏
- C. 某地领导不重视环境保护 D. 某地领导重视环境保护

25. 蚊子可传播多种疾病，如疟疾、丝虫病、乙型脑炎等。有人担心由于蚊子叮咬了 HIV 感染的人而在叮咬下一位时会存在蚊子体内的 HIV 在人际间传播。但研究人员指出这样的担心大可不必。

如果以下各项为真，最能支持研究人员观点的是（ ）。

- A. HIV 感染的人血流中并不总是拥有高水平的 HIV 病毒
- B. 蚊子叮咬 HIV 感染的人后不一定立即去叮咬下一个人
- C. 蚊子通过食管吸入血液，这种血液的吸入总是单向的
- D. 孩子容易被蚊子叮咬，但他们身上极少发生 HIV 感染

26. 适当运动能减少过早死亡的风险，而空气污染则会增加这种风险。有数据显示，在空气污染较重的地区，经常运动者比不运动者的过早死亡率低 20%。因而研究得出结论认为，运动对身体的有益效应大于空气污染对身体的不利效应。

以下哪项如果为真，最能质疑上述结论（ ）。

- A. 空气污染较重地区的室内均会安装空气净化器，可有效过滤空气中的有害物质
- B. 规律运动会增强机体免疫系统功能，可有效对抗空气中有害物质的消极影响
- C. 该地区过早死亡的人口中，那些不运动者大多数死于意外事故
- D. 运动加大了空气吸入量和空气污染物在肺中的累积，使得污染颗粒的害处增加

27. 巡洋舰 对于（ ） 相当于（ ） 对于 侦察

- A. 军舰；指挥 B. 护航；潜艇
- C. 军事；卫星 D. 海战；海军

28. 正义：非正义

- A. 有理数：无理数 B. 早晨：今晚
- C. 植物：动物 D. 宽恕：怨恨

29. 知识产权是权利人通过创造性劳动形成的、或者合法取得的具有知识性、精神性价值和实际经济利益的财产权利。知识产权保护是个人或组织，依法对具有实际经济利益的知识产权进行保护。维护知识产权人合法权益的行为。

根据上述定义，以下不属于知识产权保护行为的是（ ）。

- A. 民营科技企业与涉密员工订立商业秘密保护协议
- B. 轻工学院赵老师长期从事技术研发工作，取得了多项发明专利
- C. 模特大赛冠军李艳认为赞助商未经本人同意，擅自使用其照片用于化妆品广告宣传，构成侵权行为，已经起诉到法院
- D. 个体工商户李某精心研究，制作“一招鲜”调味品，深受消费者欢迎，准备申请注册商标

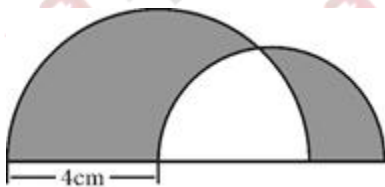
30. 跨媒体制作是指将近期具有一定程度经济效益的作品通过不同传播媒体制作出数种副产品而展开的商业行为。

根据上述定义，下列属于跨媒体制作的是（ ）。

- A. 电视剧《三国演义》改编自罗贯中的小说
- B. 奥运会开幕式同时采用了动态空中焰火组图、地面 LED 系统等技术
- C. 拍摄《黄飞鸿》系列电影
- D. 《喜洋洋与灰太狼》电视剧很受欢迎，出现了同名电影

31. 将半径分别为 4 厘米和 3 厘米的两个半圆如图放置，则阴影部分的周长是多少？

()



- A. 21.98 厘米
- B. 27.98 厘米
- C. 25.98 厘米
- D. 31.98 厘米

32. 某钢铁厂生产一种特种钢材，由于原材料价格上涨，今年这种特种钢材的成本比去年上升了 20%。为了推销该种钢材，钢铁厂仍然以去年的价格出售，这种钢材每吨的盈利下降 40%，不过销售量比去年增加了 80%，那么今年生产该种钢材的总盈利比去年增加了多少？（ ）

- A. 4%
- B. 8%
- C. 20%
- D. 54%

33. 某工作组有 12 名外国人，其中 6 人会英语，5 人会说法语，5 人会西班牙语；有 3 人既会英语又会说法语，有 2 人既会说法语又会说西班牙语，有 2 人既会说西班牙语

C. 7% D. 12.1%

37.2013 年 1~3 月规模以上工业企业主营业务收入利润率约为 ()。

A. 4.98% B. 5.28%

C. 11.9% D. 12.1%

38.2013 年 1~3 月规模以上工业企业中利润率最高的是 ()。

A. 集体企业 B. 私营企业

C. 国有及国有控股企业 D. 股份制企业

39.2013 年 1~3 月,外商及港澳台投资规模以上工业企业主营业务收入同比约增加了多少亿元? ()

A. 3965 B. 4005

C. 4135 D. 4325

40.关于 2013 年 1~3 月规模以上工业企业收入和利润情况,能够从上述资料中推出的是 ()。

A. 只有私营企业的收入同比增速高于整体水平

B. 股份制企业贡献了不到总量一半的利润额

C. 主营业务收入利润率高于上年同期水平

D. 月均实现利润额超过 4000 亿元

第 20 天

1.以下关于 2018 年度国家科学技术奖的变化,说法不正确的是 ()

A. 国家最高科学技术奖奖金额度从 500 万/人调整为 800 万/人

B. 首次设计制作了国家最高科学技术奖章

C. 取消了单位提名的名额限制

D. 奖金全部由获奖者与其所在科研单位共同支配

2.2019 年 1 月 11 日,中国共产党第十九届中央纪律检查委员会第三次全体会议在北京召开,习近平发表重要讲话,强调 () 是我们党区别于其他政党最显著的标志,也是我们党不断从胜利走向新的胜利的关键所在。

A. 在进行社会革命的同时不断进行自我革命

B. 保持中国共产党的领导

C. 始终保持中国共产党的先进性

D. 党管干部

3.2019年1月, () 批复同意山东省调整济南市莱芜市行政区划, 撤销莱芜市, 将其所辖区域划归济南市管辖。调整后, 济南市辖10区2县。

A. 山东省政府

B. 山东省人大

C. 国务院

D. 行政区划部

4.中共中央近日印发了《中国共产党农村基层组织工作条例》, 把党的农村基层组织建设摆在更加突出的位置来抓。以下关于《中国共产党农村基层组织工作条例》说法不正确的是 ()

A. 乡镇党的委员会和村党组织是党在农村的基层组织, 是党在农村全部工作和战斗力的基础

B. 有正式党员5人以上的村, 应当成立党支部

C. 乡镇党委每届任期5年

D. 村级重大事项决策实行“四议两公开”

5.2018年10月15日上午, 中国商飞公司与天骄航空在北京签署 () 飞机购机协议, 这标志着首个国产喷气客机机队即将落户内蒙古, 天骄航空将成为首家国产喷气客机机队运营平台。

A. C919

B. ARJ21

C. 运20

D. C929

6.2018年10月9日, 交通运输部公布了 (), 明确规定了寄递企业有关操作规范, 并强化了对用户身份信息的保护。明确如果寄件人拒绝出示有效身份证件, 寄递企业不得收寄邮快件。

A. 《邮件快件实名收寄管理办法》

B. 《邮件快件业暂行管理办法》

C. 《物流行业实名收寄管理办法》

D. 《邮件快件实名邮寄管理办法》

7.习近平2018年7月6日主持召开中央全面深化改革委员会第三次会议强调, 要把更多精力聚焦到重点难点问题上来, 集中力量打 (), 激发制度活力, 激活基层经验, 激

励干部作为。

- A. 游击战
- B. 运动战
- C. 攻坚战
- D. 阵地战

8.2018年是()实施的开局之年,夏粮喜获丰收,我国粮食产量已经连续5年保持在2万亿斤以上。

- A. 精准扶贫战略
- B. 乡村振兴战略
- C. 美丽中国战略
- D. 深化改革战略

9.全国生态环境保护大会2018年5月18日至19日在北京召开。国家主席习近平指出,()是构建高质量现代化经济体系的必然要求,是解决污染问题的根本之策。

- A. 绿色发展
- B. 科技创新
- C. 新旧动能转换
- D. 植树造林

10.习近平在中国科学院第十九次院士大会、中国工程院第十四次院士大会上发表重要讲话中提到,()是创新的第一资源。

- A. 人才
- B. 科技
- C. 改革
- D. 发展

11.有了国内外巨大的价差,石油企业更愿意将成品油销往海外。同时,国际石油投机商也迅速抓住了这个机会,以来料加工为_____,将低价成品油大量出口到境外大赚一笔,这样的情况又造成国内成品油供应紧张,_____了国内油品市场。

填入划横线部分最恰当的一项是()

- A.手段 影响
- B.掩护 扭曲
- C.名义 抑制

D.幌子 牺牲

12.上世纪 60 年代,赞助商的美元滚滚而来,赛车水平和速度_____般地飞跃,同时飞跃的还有车手的_____性。从此,规则制定者的头号任务就是让赛车慢下来。

填入划横线部分最恰当的一项是()

A.奇迹 技术

B.闪电 危险

C.魔术 冒险

D.戏剧 重要

13.由于古人视彗星出现为不祥,_____对其非常重视,几乎每一次出现都有比较_____的记录

填入划横线部分最恰当的一项是()

A.因此 隐晦

B.加之 准确

C.故而 详细

D.反而 迷信

14.企业到底是不是适合开展连锁经营?能不能开展连锁经营?面对这两个问题,一些企业往往_____,_____发展时机。

填入划横线部分最恰当的一项是()

A.无所适从 贻误

B.一筹莫展 痛失

C.举棋不定 耽误

D.优柔寡断 错过

15.疯狂扩散的蓝藻起初并没有使人们感到_____。往年正常情况下,它顶多影响太湖的一些景观,不会带来什么骚乱。雨季一来,这些小生物会被大量的雨水冲刷稀释,人们会渐渐_____它,直到第二年的来临。还有一些农民把它们捞起来当肥料,_____地称之为“海油”。

填入划横线部分最恰当的一项是()

A.焦虑 淡忘 亲切

B.担忧 漠视 形象

C.异样 适应 生动

D.奇怪 习惯 幽默

16.大概是拜梅尔·吉布森极具煽动性的电影《勇敢的心》所赐，世人印象中的苏格兰总是有些憎恨英格兰的排外色彩。然而，苏格兰独立公投前，统独双方在苏格兰地区的竞争虽然日趋白热化，却没有引发成规模的动荡与骚乱。_____？这个问题看似有些无稽，但从全球角度来看，仍有着相当的参考意义。毕竟，在地缘政治冲突越发激烈的2014年，当世界一些其他地方的人们还在为分离或统一而兵戎相向时，苏格兰与英国能以大体温和包容的态度解决事关国家主权的重大问题，并就此展开热烈而和平的对话与讨论，堪称难能可贵。

填入划横线部分最恰当的一句是（ ）

- A.对于苏格兰的独立诉求英国何以能够宽容大度地受理
- B.为什么苏格兰谋求独立时，对立的双方没有动武
- C.当年苏格兰与英格兰这两个独立王国为何“走到一起”
- D.这种和睦的“苏格兰模式”背后隐藏着怎样的历史

17.当前，面对记者采访，相对配合、开放、积极的官员越来越多，_____。有的玩“猫鼠游戏”，喜欢踢皮球；有的牢记“拖”字诀，时间紧迫的采访到了他那里全都要等一等，发了采访提纲也要放一放；有的则套话连篇、敷衍推脱，从“高度重视”“正在研究”到“无可奉告”，以不变应万变；更没脑子的则会隐瞒、欺骗，“话到嘴边留三分”，甚至气急败坏、破坏器材……

填入横线处最恰当的一句是（ ）

- A.而抗拒、封闭、漠视的官员越来越少
- B.甚至把媒体舆论监督放在工作首位
- C.并且越来越重视媒体对政府工作的作用
- D.但躲避、拖延、抗拒的也仍大有人在

18.人若常行善事，且不求回报，就是阴德。心灵就像福田，种善因行善果，即使没有现实世界的福报，也会在行善过程中得到平安喜乐。“有心为善，福虽未至，祸已远离”。不论福祸，行善之乐溢于言表，所过之处如春风化雨，祥和欣悦。

对上文的理解有错误的一项是（ ）

- A.行善便是积德
- B.行善会有福报
- C.行善可以避祸

D.行善使人愉悦

19.奥地利作家托马斯·贝雷·阿尔德里奇有一句广为人捧的名言：抚平心灵皱纹，等于青春永驻。40岁后，这句话荣登我日记本扉页，我以最真诚的态度和最醒目的标示，指引自己尽可能抚平心绪的波澜，压缩身躯的欲望，自感“受益匪浅”。因之，我时常以“智慧”和“经验”，嘲笑那些付出昂贵代价从美容院买来曲线、仰仗冬虫夏草或羊胎素养出满面红光的“青春崇拜者”，视他们为“迷途羔羊”。每天，我打开日记本，总是虔诚地告诉自己：要放下全部忧思，战胜消逝的光阴，注入不老的信念。

上文中作者告诉我们要做到青春永驻，必须做到（ ）

- A.多读名人名言，指引人生方向
- B.多去美容院化妆，延长青春时光
- C.常写日记，少反思，坚定信念
- D.放下心中忧思，压缩人生欲望

20.①而是“这是一本好书吗？值得花费几个小时甚至几天的时间去读吗？”

②但其中真正能够浸润心灵、开启心智的图书数量仍然有限

③一个重要原因是出版变得容易了，书不像以往那么金贵了

④面对琳琅满目的新书进行挑选时，人们往往首先感受到的既不是对知识的敬意，也不是“开卷有益”的喜悦

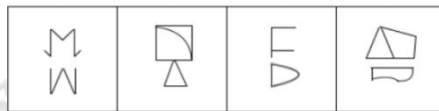

⑤中国老百姓过去有敬惜字纸的传统，进入现代社会，文字或者阅读的这种神圣感正在逐渐消解

⑥中国现在每年出版40多万种纸质图书，规模空前

将以上6个句子重新排列，语序正确的是（ ）

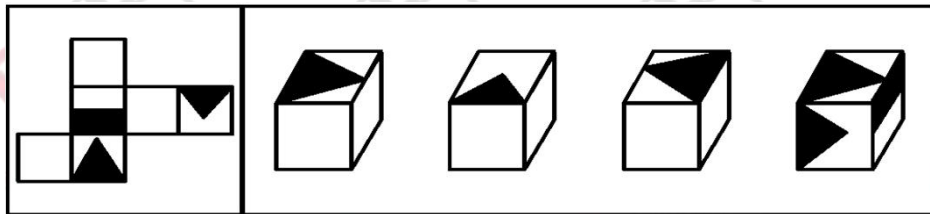
- A.④①⑤⑥②③
- B.⑥②④⑤③①
- C.⑤③⑥②④①
- D.①⑤③⑥②④

21. 从所给选项中，选择最合适的一个填入问号处，使之呈现一定的规律性（ ）。



A B C D

22. 左边给定的是纸盒的外表面，下列哪一项能由它折叠而成（ ）。



A B C D

23. 从世界经济的发展历程来看，如果一国或者地区的经济保持着稳定的增长速度，大多数商品和服务的价格必然会随之上涨，只要这种涨幅始终在一个较小的区间内就不会对经济造成负面影响。

由此可以推出，在一定时期内（ ）。

- A. 如果大多数商品价格上涨，说明该国经济在稳定增长
- B. 如果大多数商品价格涨幅过大，对该国经济必然有负面影响
- C. 如果大多数商品价格不上涨，说明该国经济没有保持稳定增长
- D. 如果经济发展水平下降，该国的大多数商品价格也会下降

24. 某班有三个小组，赵、钱、孙三人分属不同的小组。这次语文考试成绩公布，情况如下：赵和三人中的第 3 小组那位不一样，孙比三人中第 1 小组的那位的成绩低，三人中第 3 小组的那位比钱分数高。

若赵、钱、孙三人按语文成绩由高到低排列，正确的是（ ）。

- A. 赵、钱、孙
- B. 赵、孙、钱
- C. 钱、赵、孙
- D. 孙、赵、钱

25. 如果父母双方或有一方患精神分裂症，其孩子患该病的几率是那些父母没有精神分裂症的孩子的七倍，因此可以认为精神分裂症具有遗传倾向。

以下哪项如果为真，最能支持该结论（ ）。

A. 亲生父母没有精神分裂症，被患该病的养父母养大的孩子比被亲生父母养大的孩子更容易患该病

B. 亲生父母有精神分裂症，被没有该病的养父母养大的孩子比其他孩子更容易患该病

C. 父母患精神分裂症之后，孩子的成长环境明显恶化，更容易患上相关的精神疾病

D. 父母没有精神分裂症的孩子在出现相关症状时确诊率很低

26. 相比那些不踢足球的大学生，经常踢足球的大学生的身体普遍健康些。由此可见，足球运动能锻炼身体，增进身体健康。

以下哪项为真，最能削弱上述论断（ ）。

A. 大学生踢足球是出于兴趣爱好，不是为了锻炼身体

B. 身体不太好的大学生一般不参加激烈的足球运动

C. 足球运动有一定的危险性，容易使人受伤

D. 研究表明，长跑比踢足球更能达到锻炼身体的目的

27. 番茄 之于 （ ） 相当于 （ ） 之于 蹴鞠

A. 美洲 中国 B. 炒饭 健身

C. 植物 人类 D. 白菜 篮球

28. 钡餐：硫酸钡： $BaSO_4$

A. 干冰：二氧化硫： SO_2 B. 纯碱：碳酸钠： $NaCO_3$

C. 石膏：碳酸钙： $CaCO_3$ D. 小苏打：碳酸氢钠： $NaHCO_3$

29. 生物集群灭绝是指在一个相对短暂的地质时段中，在一个以上地理区域范围内，数量众多的生物突然死亡，从而造成生物物种数量短时间突然大幅下降。

根据上述定义，下列属于生物集群灭绝的是（ ）。

A. 1987年6月6日，最后一只黑海雀死去后，这种南美洲特有的雀科鸣鸟在地球上永远消失了

B. 在过去的40年中，英国本土的鸟类种类减少了54%，本土的野生植物种类减少了28%，而本土蝴蝶的种类更是惊人地减少了71%

C. 有研究显示，巴西中西部热带草原地区的163种树木中将有70%以上的树种灭绝

D. 距今约2.5亿年前的二叠纪末期，地球上有96%的物种灭绝，其中90%的海洋生物和70%的陆地脊椎动物灭绝

30. 概念是人脑对客观事物的本质特征的认识，事物的本质特征是决定事物的性质，并

使一事物区别于其他事物的特征。根据概念所包含的属性的抽象与概括程度，概念可分为具体概念和抽象概念。按事物的指认属性形成的概念称为具体概念，按事物的内在、本质属性形成的概念称为抽象概念。

下列哪项是抽象概念？（ ）

- A. 香蕉和木棒都是长形的，而球和西瓜都是网形的
- B. 香蕉和西瓜都是水果，白菜和土豆都是蔬菜
- C. 巧克力和土地都是棕色的，雪和面粉都是白色的
- D. 冰和雪都是冷的，火和血液都是热的

31. 股市融资具有资金放大效应，也有赔本的可能，一股民融资 10 万元，本钱 10 万元，全部用于购买股票，融资利息率是 6%，卖掉股票得到 22 万元，则实际盈利利率为：（ ）

- A. 7%
- B. 6%
- C. 5%
- D. 8%

32. 某商店以每件 800 元的价格购进 50 件桌椅，并以每套 1200 元的价格销售了 40 件，要想总的利润率为 45%，剩下的桌椅最多可以降价：（ ）

- A. 150 元
- B. 160 元
- C. 180 元
- D. 200 元

33. 某委员会有成员 465 人，对 2 个提案进行表决，要求必须对 2 个提案分别提出赞成或反对意见。其中赞成第一个提案的有 364 人，赞成第二个提案的有 392 人，两个提案都反对的有 17 人。问赞成第一个提案且反对第二个提案的有几人？（ ）

- A. 56 人
- B. 67 人
- C. 83 人
- D. 84 人

34. 往返 A 市和 B 市的长途汽车以同样的发车间隔从两个城市分别发车，以每小时 40 公里的速度前往目标城市。上午 9 点多，李先生以每小时 50 公里的速度开车从 A 市长途汽车站前往 B 市长途汽车站，路途中总共追上了 3 辆从 A 市开往 B 市的长途汽车。问他在路途中最多能迎面遇到多少辆从 B 市开往 A 市的长途汽车？（ ）

- A. 27
- B. 25
- C. 36
- D. 34

35. 有两个三口之家一起出行去旅游，他们被安排坐在两排相对的座位上，每排有 3 个座位，小孩只能安排在靠窗或过道的位置，一共有多少种坐法？（ ）

- A. 16
- B. 32

C. 19.3%

D. 21.4%

40.关于 2013 年 3 月末贷款余额情况,能够从上述资料中推出的是 ()

- A. 全部企业贷款余额同比增长了 14.7%
- B. 农村贷款余额比上年同期增长了 3 万多亿元
- C. 个人购房贷款余额同比增速快于保障性住房开发贷款余额
- D. 服务业中长期贷款余额同比增量超过工业中长期贷款余额的 3 倍

第 21 天

1.《洞穴奇案》中描述了这样一个案件:一群探险队员在一个山洞里遭遇崩塌,在抢救队伍挖通生命通道前,这些人即将饿死。经过抽签抓阄,抽到“死签”者被吃掉,其他人最终获救。根据我国法律规定,存活下来的探险队员 ()。

- A. 因自愿抽签、自愿选择,所以不承担任何责任
- B. 构成故意杀人罪,但可酌情减轻处罚
- C. 按生存权优先,属于紧急避险
- D. 不承担刑事责任,但应承担民事赔偿责任

2.2018 年 12 月份全国居民消费价格指数同比上涨 1.9%,工业生产者出厂价格指数同比上涨 0.9%。下列关于通货膨胀的说法,正确的是 ()

- A. 物价上涨,货币贬值
- B. 物价持续下跌,伴随经济衰退
- C. 提高人民的生活水平
- D. 社会总供给大于社会总需求

3.下列俗语谚语所蕴含经济学原理与之对应错误的一项是 ()

- A. 有得必有失——机会成本
- B. 三个和尚没水吃——搭便车
- C. 萝卜白菜各有所爱——偏好影响需求
- D. 谷贱伤农——需求富有弹性

4.下列名言与出处,对应正确的是 ()

- A.《管子》:学而时习之,不亦说乎
- B.《老子》:四海之内皆兄弟
- C.《论语》:天行健,君子以自强不息
- D.《庄子》:吾生也有涯,而知也无涯

5.下列有关算盘的说法错误的是 ()

- A. 古今中外的各式算盘大致可以分为沙盘类、算板类、穿珠算盘类三类。

- B. 沙盘是在桌面、石板等平板上，铺上细沙，人们用木棍等在细沙上写字、画图和计算。
C. 算板是在板上刻上若干垂直的线纹，上面放置小石子（称为“算子”）来记数和计算。
D. 穿珠算盘指中国算盘、日本算盘和俄罗斯算盘。日本算盘叫“十露盘”。

6. 下列人文常识说法错误的一项是（ ）

- A. 屈原是我国古代第一个伟大的爱国诗人
B. 曹植是建安时期最负盛名的作家
C. 陶渊明是中国文学史上第一人以自己的田园生活为内容进行诗歌创作
D. 鲍照是南朝刘宋时期成就最高的诗人，其文赋对唐代诗人有很大影响

7. 下列诗句与其对应人物错误的一项是（ ）

- A. 妾自吴宫还越国，素衣千载无人识。当时心比金石坚，今日为君坚不得——西施
B. 生乏黄金枉图画，死留青冢使人嗟——王昭君
C. 回眸一笑百媚生，六宫粉黛无颜色——杨贵妃
D. 云霞出没群峰外，鸥鸟浮沈一水间——貂蝉

8. 在改革开放四十周年大会的讲话中，习总书记提出了五四运动以来我国发生的三大历史性事件，也是实现中华民族伟大复兴的三大里程碑，以下哪项不属于三大里程碑（ ）。

- A. 中国共产党的建立
B. 中华人民共和国的成立
C. 推进改革开放和中国特色社会主义事业
D. 社会主义改造的完成

9. 遵义会议是中国共产党从幼稚走向成熟的标志，主要是指（ ）。

- A. 工作重心从城市转向农村
B. 从克服右倾错误到克服“左”倾错误
C. 中国革命由此转危为安
D. 从受共产国际支配到独立解决党内问题

10. 中共“八大”和中共十一届三中全会（ ）。

- ①都体现了实事求是的精神
②都明确了经济建设这个中心任务
③都提出要实行改革开放
④这两个会议有一定的继承性

- A. ①②④
B. ①②③
C. ②③④
D. ①③④

11. 避免“教师去职”，大家_____的办法无非三个：“待遇留人、感情留人、事业留人”。

待遇留人最好解决，老板（政府）一句话的事，属于态度问题而非能力问题。但没有感情和

事业扶持，光靠待遇留人，既不具有可持续性，在真正的高端人才那里也不一定奏效。而感情留人则需要校长们的人文情怀及御人艺术来支持，比起待遇留人要难得多。并不是投入了感情就一定能让别人心生感激，有时候还可能会_____。

填入划横线部分最恰当的一项是（ ）

- A.耳闻则诵 南辕北辙
- B.众所周知 雪上加霜
- C.家喻户晓 事与愿违
- D.耳熟能详 适得其反

12.为了解决占座难题，南京大学也是_____，推出新政策：读者要先关注“我去图书馆”微信公众号，然后预约借阅览室。学校的出发点是好的，想通过“微信选座”的方式规范图书馆座位秩序，养成学生良好的行为习惯，让想上自习的同学有座位坐，不必起早排队等座位、抢座位，更高效地利用图书馆资源。如此善解人意的举动，本该收获“掌声一片”，但实际上并非如此。这种“微信选座”这种方式备受_____。

填入划横线部分最恰当的一项是（ ）

- A.处心积虑 争议
- B.挖空心思 非议
- C.费尽心思 置疑
- D.煞费苦心 质疑

13.学校相对于学生，居于绝对的优势和强势地位，在剥夺学生的受教育权利时，要经得起法律考验，也要经得起教育良心的_____。教育是个无止境的工作，伸缩的空间很大，比如，针对同一个学生，教育一次还是教育十次，都可以说尽到了教育义务；再如，不论声色俱厉的教育，还是_____的教育，也都可算是尽到了教育职责。

填入划横线部分最恰当的一项是（ ）

- A.拷问 和风细雨
- B.谴责 循循善诱
- C.质问 推心置腹
- D.质疑 温文尔雅

14.经典著作是人类智慧的_____，阅读经典是提升阅读质量的_____。《隋书·经籍志》说，经典是“机神之妙旨，圣哲之能事”，可以“经天地，纬阴阳，正纪纲，弘道德，显仁足以利物，藏用足以独善”。对于个体而言，阅读经典未必一定能有如此立竿见影的效

果，但作为一个_____的过程，经过一代又一代人的传承，“经天地，纬阴阳，正纪纲，弘道德”的愿景终将成为现实。

填入划横线部分最恰当的一项是（ ）

- A.沉淀 近路 短暂
- B.积淀 捷径 滋润
- C.积累 诀窍 渗透
- D.结晶 良药 浸润

15.曾几何时，季羨林、启功、李小文等大师大家在校园里安贫乐道、潜心钻研，开一代师德风范，令人高山仰止；未名湖、珞珈山、岳麓书院曾让多少象牙塔外的人士_____；从《送别》到《让我们荡起双桨》，从《同桌的你》再到《南山南》，又有多少学生在草坪围坐，忘情吟唱到熄灯……这些风花雪月成为大学的特殊符号、_____景致，它_____着大学文化的基因、承载着人们对大学的美好期许。

填入划横线部分最恰当的一项是（ ）

- A.爱不释手 特别 蕴涵
- B.恋恋不舍 美好 包含
- C.意犹未尽 独特 蕴藏
- D.流连忘返 别样 蕴含

16.人类的平均寿命越来越长，但是人类所观察到的癌症发生率也越来越高。在分析这种趋势的时候，很多人会把它归结为现代食物的品质越来越差。于是时不时有人发出“某某食物致癌”的言论，总能吸引一堆眼球；如果指出这种“致癌的食物”跟现代技术有关，_____。

填入划横线部分最恰当的一句是（ ）

- A.那就更容易得到公众的普遍认同
- B.那就应该分析其关联性到底有多大
- C.那也不能作为反对现代技术的理由
- D.那么据此得出的结论就往往只是初步的

17.通过社会的认可获得对自身价值的实现，这原本无可厚非。但在一个浮躁的时代里，过多的一夜成名被认为最快捷的成功方式，现实的浮躁在某种程度上也纵容了一些年轻人的冒险心理。对于还没有来得及面对生离死别的年轻人来说，还很难真正理解生命的责任。但一个生命的产生和消失，对于一个家庭的意义却十分深远，所以说_____。

填入划线部分最恰当的一项是（ ）

- A.年轻人不能无所顾忌地外冒险
- B.没有家庭的团圆就没有社会的安定
- C.珍惜生命是对社会应尽的责任和义务
- D.没有人可以随意将生命置之无谓的牺牲

18.进入 21 世纪，中国的媒体事件频发，媒体对事件的关注程度和方式决定了公众的态度和事件的发展。人们所看到的已经不是事件本身，而是经过媒体把关后的媒体事件。随着网络的兴起，媒体事件更是集中地以网络事件的形式表现。在网络事件中，网民是网络舆论和网络监督主体。他们的触角遍布社会各个角落，时时处处监督着政府和官员的一举一动。

下列说法与这段文字不符的是（ ）

- A.网络监督呈现出广泛性和普遍性
- B.网络对社会舆论有重大影响
- C.媒体事件可能不是事件本身
- D.网络监督比传统手段更有效率

19.有科学实验表明，大多数人并没有同时处理多项任务的能力。只要一上网，人们的工作记忆就会严重超载，导致大脑额叶难以聚精会神地关注任何一件小事。同时，由于神经网络具有可塑性，上网越多，对大脑适应精力分散状态的训练就越多。这也是为什么习惯上网的人，只要离开互联网，就会感到无所适从。大脑的全面发展要求我们既能迅速解析各种信息，又能无拘无束的沉思冥想；既要能在互联网数字又要能隐退到田园中静思遐想。今天的问题在于状态之间保持平衡的能力。

下列说法与这段文字相符的是（ ）

- A.网络限制了人类大脑的全面发展能力
- B.网络使人们处理多项任务的能力衰退
- C.上网会使人的记忆力下降，精力分散
- D.人类原本具备自由转换思想状态的能力

20.①水书是水族的古文字、水族书籍的通称

②它是一种类似于甲骨文和金文的古老文字符号，是世界上除东巴文之外又一存活的象形文字，也是水族历史文化的重要组成部分

③为保护水书，三都水族自治县采取了包括征集、翻译水书，为“水书先生”录音，水书文化进校园等多项措施加以传承保护

④2006年，水书被列为首批国家级非物质文化遗产名录

⑤在中国56个民族中，有17个民族有自己传统的文字，水书即为其中一种

⑥水书记载了水族古代天文、民俗、伦理、哲学、美学、法学等文化信息，被誉为象形文字的“活化石”

将以上6个句子重新排列，语序正确的是（ ）

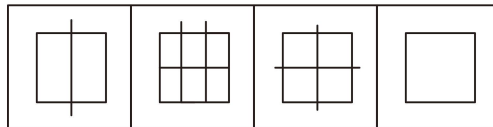
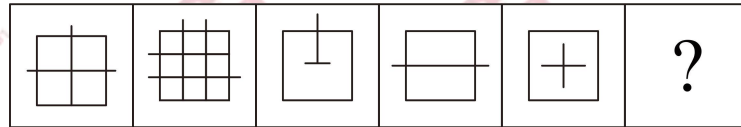
A ①⑤②⑥④③

B ⑤①②⑥④③

C ④⑥①②⑤③

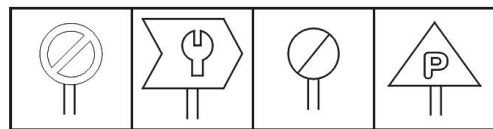
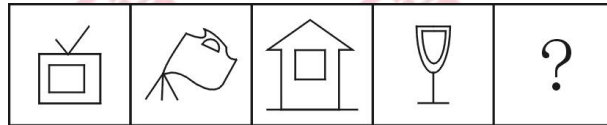
D ⑤①②④③⑥

21. 从所给选项中，选择最合适的一个填入问号处，使之呈现一定的规律性（ ）。



A B C D

22. 从所给选项中，选择最合适的一个填入问号处，使之呈现一定的规律性（ ）。



A B C D

23. 在某届奥运会期间，人们对乒乓球比赛的结果进行了预测：(1) 冠军将不在 A、B、C、D 四个队中产生；(2) E、F 和 G 队中将有进入决赛的；(3) 冠军将在 A、B、D 产生；(4) E、F 和 G 队将有不进入决赛的。

赛后发现，只有一个预测是正确的，由此可见，冠军是（ ）。

A. G 队 B. F 队

C. C 队 D. E 队

24. 美国的一位动物学家在黑猩猩的笼子前放了一面大镜子，观察他们的反应。它们能够从镜子中认出自己，经常久久地对着镜子寻找自己身上平时看不到的部位。作为黑猩猩近

亲的大猩猩却不具备这种能力。

由此可以推出（ ）。

- A. 黑猩猩在某些方面的能力更高于大猩猩
- B. 黑猩猩和大猩猩虽然亲缘较近，但还是黑猩猩的智力更胜一筹
- C. 黑猩猩的这种能力和它所生活的环境有关
- D. 动物界还有其他动物具备这种能力

25. 研究人员对平均年龄为 66 岁的 648 名痴呆症患者进行研究，发现掌握两种语言的患者罹患痴呆的时间比只掌握一种语言的患者晚大约四年半，研究人员因此认为掌握两种语言可以延缓痴呆的发生。

以下哪项如果为真，最能质疑上述结论（ ）。

- A. 很多人患上痴呆之后大脑的言语功能均出现显著下降
- B. 大脑认知功能好的人才说双语，认知功能好可延缓痴呆
- C. 相当多的人只掌握一种语言，有一生都未出现痴呆的症状
- D. 掌握三种或以上语言的人，痴呆发生时间比掌握两种语言的稍晚

26. 随着技术的进步，科学家可以通过对木料的检测来确定树木被砍伐的年份。因此，通过古建筑中幸存的木料，就可以确定古建筑的建造年份。

上述结论基于的假设是（ ）。

- A. 古建筑中的木料在使用前没有闲置很长时间
- B. 古建筑大量使用木料作为建筑材料
- C. 一栋古建筑的建造通常只使用一种木料
- D. 保存完好的古建筑是使用最耐久的木料建造的

27. 植物：裸子植物：红杉

- A. 学校：中学：小学
- B. 国家：民族：公司
- C. 科学：物理学：力学
- D. 星系：星座：太阳

28. 发烧：体温计：摄氏度

- A. 卫星：探测器：光年
- B. 胃病：胃镜：活检
- C. 运动会：秒表：成绩
- D. 高血压：血压计：毫米汞柱

29. 包庇罪是指明知是犯罪的人而为其提供隐藏处所、财物，或者帮助其逃匿，或者作假证明包庇的行为。但事前通谋的，以共同犯罪论处。

根据上述定义，下列可能构成包庇罪的是（ ）。

A. 李某与黄某等人商定，由黄某等人抢劫金店，由李某负责藏匿抢劫所得赃物。黄某等人抢劫得手后，李某将赃物藏于自家的仓库内

B. 张某盗窃了博物馆的一幅名画，将其藏于床下，被母亲发现，母亲询问张某，得知为盗窃所得，遂将该幅名画烧毁

C. 赵某被王某绑架，公安机关迅速侦破此案并成功解救赵某。后赵某接受王某亲属 20 万元，推翻了之前对王某不利的陈述，谎称是自愿和王某走的

D. 侯某是涉嫌杀人罪的犯罪嫌疑人于某的辩护律师，为获得高额的代理费用，侯某伪造了大量证据，成功帮助于某脱罪

30. 一个自然数的因数是指能够整除该数的自然数。超完满数指的是一个数的所有因数之和超过自身两倍的数。

根据上述定义，以下哪项中的数是超完满数（ ）。

A. 6 B. 12

C. 16 D. 28

31. 某乡镇举行运动会，共有长跑、跳远和短跑三个项目。参加长跑的有 49 人，参加跳远的有 36 人，参加短跑的有 28 人，只参加其中两个项目的有 13 人，参加全部项目的有 9 人。那么参加该次运动会的总人数为（ ）。

A. 75

B. 82

C. 88

D. 95

32. 某条道路的一侧种植了 25 棵杨树，其中道路两端各种有一棵，且所有相邻的树距离相等。现在需要增种 10 棵树，且通过移动一部分树(不含首尾两棵)使所有相邻的树距离相等，则这 25 棵树中有多少棵不需要移动位置？（ ）

A. 3

B. 4

C. 5

D. 6

33. 某公交车停车场内停着 10 辆公交车，上午 7 点整有一辆公交车进入停车场，同时有一辆公交车离开停车场，以后每隔 12 分钟都有一辆公交车驶入停车场，每隔 10 分钟有一辆公交车离开停车场，则到当天下午什么时候停车场里的公交车全都开出？（ ）

A. 4:30

B. 4:50

C. 5:00

D. 4:10

34. 将 7 个大小相同的桔子分给 4 个小朋友，要求每个小朋友至少得到 1 个桔子，一共有几种分配方法？（ ）

A. 14

B. 18

C. 20

D. 22

35.某网上服装店进行促销活动，提供两种“满减”优惠券：满 200 元减 50 元，但 500 元 100 元，另外，在使用了满 500 减 100 元优惠券后还能再打九折，但一次购物只能使用其中一张优惠券。小王使用了优惠券后，在此网上服装店购物一共花费了 350 元，则他购买了原价为（ ）元的商品。

A. 550

B. 520

C. 400

D. 390

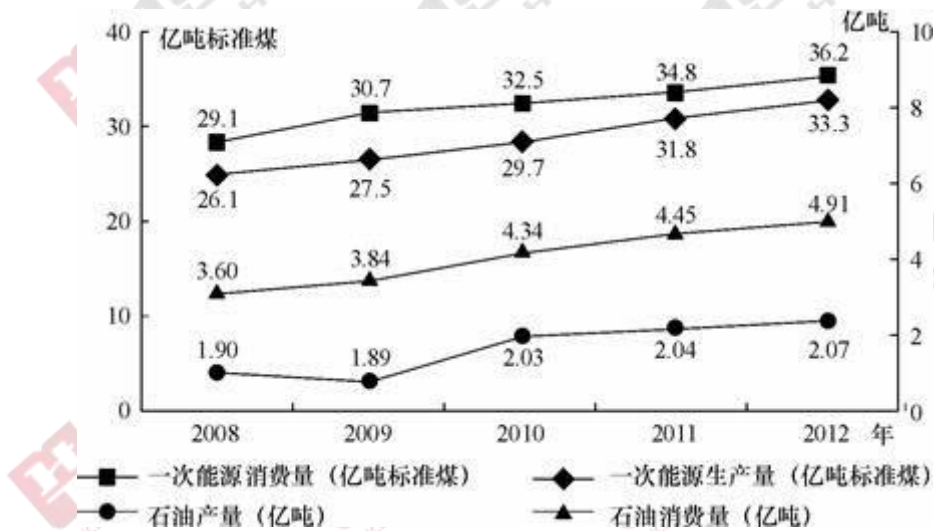


图 1 2008-2012 年全国一次能源、石油生产量与消费量的情况

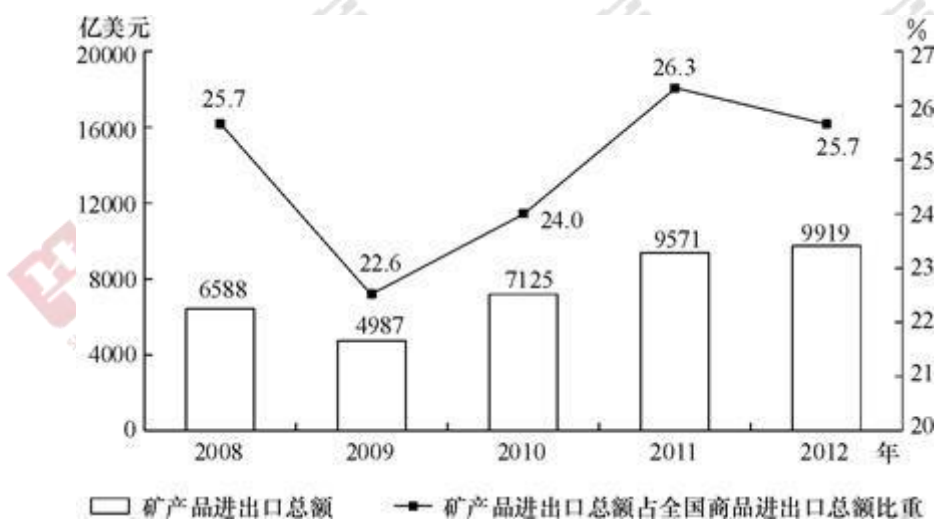


图 2 2008-2012 年全国矿产品进出口情况

36.2009~2012 年间一次能源生产量增速最快的一年是（ ）

- A. 2009 年
B. 2010 年
C. 2011 年
D. 2012 年

37.图中一次能源消费量与生产量差值最大的一年，该差值为多少亿吨标准煤？（ ）

- A. 2.9
B. 3.0
C. 3.1
D. 3.2

38.2009 年—2012 年间全国商品进出口总额最高年份，矿产品进出口总额比上年（ ）

- A. 上升了 348 亿美元
B. 下降了 1601 亿美元
C. 上升了 2138 亿美元
D. 上升了 2446 亿美元

39.2008—2012 年间，全国石油消费量超过全国石油产量 2 倍的年份有几个？（ ）

- A. 2
B. 3
C. 4
D. 5

40.关于 2009—2012 年全国矿产品贸易和能源生产、消费，能够从上述资料中推出的是（ ）

- A. 石油产量年均增速超过一次能源生产量
B. 矿产品进出口总额占全国商品进出口总额比重逐年递增
C. 矿产品进出口总额最低的年份，一次能源消费同比增量也最低
D. 平均每年一次能源生产量超过 30 亿吨标准煤