

吉林华图微信公众号



吉林华图微博



客服：小小图



目 录

第一部分 常识判断.....	3
必会考点一、2019 年政府工作报告.....	3
必会考点二、周年大事件.....	3
必会考点三、人文常识.....	4
必会考点四、光学常识.....	5
必会考点五、古诗中的科学知识.....	5
必会考点六、地理知识.....	5
【终极预测】.....	6
第二部分 言语理解与表达.....	8
必会点一、巧辨题型.....	8
必会点二、攻破重点.....	8
第三部分 判断推理.....	14
必会点一、论证.....	14
必会点二、翻译推理.....	16
必会点三、类比推理.....	17
必会点四、定义判断.....	19
必会点五、图形推理.....	20
第四部分 数量关系与资料分析.....	21
必会点一、数字推理.....	21
必会点二、数学运算.....	22
(一) 必会公式:	22
(二) 必会方法.....	24
(三) 必会题型.....	25
必会点三、资料分析.....	26
(一) 必会公式.....	26
(二) 必会术语.....	27
(三) 必会题型.....	28
第五部分 申论.....	34
必会考点一、题型要点.....	34
(一) 概括题.....	34
(二) 综合分析题.....	35
(三) 对策题.....	36
(四) 应用文写作.....	37
必会考点二、热点预测.....	38
热点预测 1: 文化记忆.....	38
热点预测 2: 中等收入陷阱.....	41
热点预测 3: 伪精致主义.....	44

2019 年吉林省考前终极预测

第一部分 常识判断

必会考点一、2019 年政府工作报告

一、2018 年成就

国内生产总值增长 6.6%，总量突破 90 万亿元。城镇新增就业 1361 万人，农村贫困人口减少 1386 万。为企业和个人减税降费约 1.3 万亿元。关税总水平由 9.8% 降至 7.5%。17 种抗癌药大幅降价并纳入国家医保目录。

还要保持清醒：外部输入性风险上升。国内经济下行压力加大。实体经济困难较多。金融等领域风险隐患依然不少。

二、2019 年目标

国内生产总值增长 6%-6.5%。城镇新增就业 1100 万人以上，调查失业率 5.5% 左右，登记失业率 4.5% 以内。**居民消费价格涨幅 3% 左右。**农村贫困人口减少 1000 万以上。单位国内生产总值能耗下降 3% 左右。

三、2019 年重点工作

减税降费：将制造业等行业现行 16% 的增值税税率降至 13%。全年减轻企业税收和社保缴费负担近 2 万亿元。

就业：首次将就业优先政策置于宏观政策层面。

消费：继续执行新能源汽车购置优惠政策。

投资：完成铁路投资 8000 亿元、公路水运投资 1.8 万亿元。

金融：设立科创板并试点注册制。促进多层次资本市场健康稳定发展。

精准脱贫：加大“三区三州”等深度贫困地区脱贫攻坚力度。

污染防治：二氧化硫、氮氧化物排放量下降 3%，化学需氧量、氨氮排放量下降 2%。

教育：中央财政教育支出安排超过 1 万亿元。

医疗：降低并统一大病保险起付线，报销比例由 50% 提高到 60%。

提速降费：移动网络流量平均资费再降低 20% 以上，在全国实行“携号转网”。

开放：缩减外资准入负面清单。增设上海自贸试验区新片区。继续推动中美经贸磋商。

协调发展：长三角区域一体化发展上升为国家战略。

必会考点二、周年大事件

时间	年份	具体内容
英国《权利法案》	1689 年	标志着君主立宪制开始在英国建立
美国首任总统	1789 年	华盛顿当选为美国首任总统
法国大革命爆发	1789 年	1789 年 7 月 14 日爆发革命，旧的观念逐渐被全新的天赋人权、三权分立等的民主思想所取代。
林则徐领导虎门销烟	1839 年	“苟利国家生死以，岂因祸福避趋之。”林则徐组织魏源翻译了《四国志》，被称为“开眼看世界第一人”
五四运动	1919 年	巴黎和会外交失败，新旧民主主义革命的分水岭

古田会议	1929年	提出建设新型军队，提出“思想上建党、政治上建军”的原则
美国经济危机	1929年	1929年10月美国爆发经济大危机，形成世界性的经济大危机
解放战争胜利	1949	1949年1月三大战役结束，4月渡江战役，解放南京
七届二中全会	1949年3月	工作重心由农村转移到城市；关于在新形势下加强党的建设的问题。“两个务必”也即西柏坡精神。
建国70周年	1949年	9月中国人民政治协商会议召开，10月新中国成立。
《告台湾同胞书》	1979年	1979年全国人大常委会发表《告台湾同胞书》，宣布采用和平方式统一祖国的方针
中美正式建立外交关系	1979年	1971年乒乓外交；1972年，尼克松总统访华，标志着中美相互隔绝的局面终于打破。1979年1月1日建立正式外交关系。
亚太经济合作组织	1989年	1989年11月亚太经济合作组织的成立。1991年11月中国加入亚太经合组织。2001年10月，APEC会议在中国上海举办。这是APEC会议首次在中国举行。
澳门回归祖国	1999年	1999年12月20日，葡萄牙结束对澳门的统治，政权移交中华人民共和国，澳门回归祖国。

必会考点三、人文常识

一、古代选官制度

军功授爵——秦朝时期	察举制——两汉时期
九品中正制——魏晋南北朝	科举制——隋唐创立完善

二、中国历代名画

东晋-顾恺之-《洛神赋图》	唐-阎立本-《步辇图》
唐-张萱、周昉-《唐宫仕女图》	唐-韩滉-《五牛图》
五代-顾闳中-《韩熙载夜宴图》	北宋-王希孟-《千里江山图》
北宋-张择端-《清明上河图》	元-黄公望-《富春山居图》（两地博物馆保存）
明-仇英-《汉宫春晓图》	清-郎世宁-《百骏图》

三、四大名楼

名称	地点	诗句	出处
滕王阁	江西南昌	落霞与孤鹜齐飞，秋水共长天一色	唐代王勃《滕王阁序》
黄鹤楼	湖北武汉	黄鹤一去不复返，白云千载空悠悠	唐代崔颢《黄鹤楼》
岳阳楼	湖南岳阳	先天下之忧而忧，后天下之乐而乐	北宋范仲淹《岳阳楼记》
鹳雀楼	山西永济	欲穷千里目，更上一层楼	唐代王之涣《登鹳雀楼》

黄鹤楼有“天下江山第一楼”之称。滕王阁、黄鹤楼和岳阳楼均位于长江以南，合称“江南三大名楼”。只有鹳雀楼位于黄河流域。

四、四大名园

名称	地点	具体内容
拙政园	江苏苏州	四大名园之首；是苏州现存最大的古典园林，是江南古典园林的代表作品。
留园	江苏苏州	以园内建筑布置精巧、奇石众多而知名，有“不出城郭而获山林之趣”。
颐和园	北京市	中国清朝时期皇家园林，是保存最完整的一座皇家行宫御苑，被誉为“皇

		“家园林博物馆”
避暑山庄	河北承德	历经康熙乾隆三朝建设完成，是中国现存最大的古典皇家园林，享有“中国地理形貌之缩影”和“中国古典园林之最高范例”的盛誉。

必会考点四、光学常识

光的直射	射击瞄准镜、小孔成像、日食	
光的反射	镜面反射	平面镜：倒影、潜望镜、平面镜
		凸面镜：发散光线；机动车后视镜，街头反光镜 凹面镜：会聚光线；手电筒反射面、天文望远镜、台灯、雷达
	漫反射	自行车尾灯、交警衣服的反光条
光的折射	筷子变弯，池水变浅，海市蜃楼	
	凹透镜：发散光线；猫眼、矫正近视（近视镜）	
	凸透镜：会聚光线；照相机、投影仪、放大镜、矫正远视（远视镜）	
光的色散	介质对不同波长的光有不同的折射率，各色光因所形成的折射角不同而彼此分离。彩虹、叶子呈绿色	

必会考点五、古诗中的科学知识

古诗词	知识
有麝自然香，何须迎风扬	分子扩散现象
千锤万凿出深山，烈火焚烧若等闲	石灰石烧制石灰的过程，石灰石化学成分为碳酸钙
潭清疑水浅，池水映明月	光的折射和反射
皓月千里，静影沉璧	光的反射，平面镜成像
峰多巧障目，江远欲浮天	光沿直线传播
人间巧艺夺天工，炼药燃灯清昼同 柳絮飞残铺地白，桃花落尽满街红	焰色反应，某些金属及其化合物在火焰上灼烧时呈现出特殊颜色的化学现象。
落红不是无情物，化作春泥更护花	微生物的分解作用及物质循环
停车坐爱枫林晚，霜叶红于二月花	温度对叶绿体色素及花青素的影响
春色满园关不住，一枝红杏出墙来	植物的向光性
儿童急走追黄蝶，飞入菜花无处寻	动物的保护色

必会考点六、地理知识

一、重要河流

河流	流向与流入海域	特征	城市与文明
尼罗河	南→北，注入地中海	世界最长河流	埃及的开罗（古埃及文明）
亚马孙河	西→东注入大西洋	世界水量最大河流	亚马孙河
长江	发源于唐古拉山，注入东海	世界第三长河	干流流经青海、西藏、四川、云南、重庆、湖北、湖南、江西、安徽、江苏、上海 11 个省、自治区、直辖市
密西西比河—密苏里河	北→南，注入墨西哥海湾	发源于落基山脉，第四长河	流经美国国境
黄河	发源于巴颜喀拉山，注入渤海	世界第五长河；中下游形成“悬河”	自西向东分别流经青海、四川、甘肃、宁夏、内蒙古、陕西、山

			西、河南及山东 9 个省(自治区)
伏尔加河	东北→东南→南→东南，注入里海	欧洲最长河流，世界最长的内流河，俄罗斯的母亲河	伏尔加格勒
恒河	北→西北→东南，注入孟加拉湾	位于印度北部，印度视为圣河	新德里，加尔各答（恒河文明）

二、古诗中的地理现象

羌笛何须怨杨柳，春风不度玉门关——我国夏季风不能到达西北地区
东边日出西边雨，道是无晴却有晴——对流雨降水强度大、范围小、历时短
南枝向暖北枝寒，一样春风有两般——山坡两侧向阳坡与背阳坡的光照及热量的差
忽如一夜春风来，千树万树梨花开——冷锋过境时先刮风、后降雪的天气
人间四月芳菲尽，山寺桃花始盛开——山下的气温比山上高
百川东到海，何时复西归？——中国地势西高东低
坐地日行八万里，巡天遥看一千河——赤道地区因地球自转而产生的地理现象
天无三日晴，地无三尺平——贵州地区雨天多晴天少，同时反映喀斯特地貌
青莲出水，碧莲玉笋世界——描绘我国广西的桂林山水喀斯特地貌
姑苏城外寒山寺，夜半钟声到客船——“寒山寺”位于我国的江苏省苏州市

【终极预测】

1. 下列关于“生物识别技术”的说法不正确的一项是（ ）

- A. 生物识别技术是个人身份认证的一种技术，可以通过行为特征如笔迹、声音、步态等进行个人身份的鉴定
- B. 生物识别技术利用人类生物特征来识别身份，例如静脉、人脸、虹膜、指纹等
- C. 在一起案件侦破中证人听了嫌疑人的数码电话录音后，确定了他就是当时的袭击者，利用了生物识别技术
- D. 生物识别技术需计算机、传感器等硬件支持

【答案】C 【解析】生物识别技术，即通过计算机与光学、声学、生物传感器和生物学原理等高科技手段密切结合，利用人体固有的生理特征(如指静脉、人脸、虹膜、指纹等)和行为特征(如笔迹、声音、步态等)来进行个人身份的鉴定。根据上述定义，ABD 均正确，受害者在旁听了嫌疑人的数码电话录音后，确定了他就是当时的袭击者，没有利用生物识别技术，故正确答案为 C。

2. 下列关于宪法的说法正确的是（ ）。

- A. 人民代表大会制度是我国的根本制度
- B. 根据宪法规定，宪法修正案需要由全国人大全体代表 2/3 以上多数通过
- C. 建国以来我国宪法共颁布了 4 部，现行宪法是 2004 年制定的，经历了 5 次修订
- D. “尊重及保护人权”在 2018 年被写进宪法修正案

【答案】B 【解析】A 不正确，人民代表大会制度是我国根本政治制度；B 正确，宪法修正案的通过，根据宪法规定由全国人大全体代表 2/3 以上多数通过，正确。C 错误，建国以来共颁

布了4部，5次修订。中华人民共和国成立后，曾于1954年9月20日、1975年1月17日、1978年3月5日和1982年12月4日通过四个宪法。现行宪法为1982年宪法，并历经1988年、1993年、1999年、2004年、2018年五次修订。D不正确，“尊重及保护人权”2004被写进宪法修正案。因此，本题答案为B。

3.2018年我国多项高科技含量的国之重器和重大工程纷纷登台亮相，利国利民，是多年创新积累后结出的甜美硕果。下列关于科技成就的说法错误的是（ ）。

- A.我国在国际上首次实现了非人灵长类动物的体细胞克隆
- B.桥界“珠峰”港珠澳大桥通车
- C.“北斗”三号完成星座部署，导航服务从亚太走向全球
- D.“嫦娥三号”又奔月，目标是月球背面

【答案】D【解析】A正确，我国在国际上首次实现了非人灵长类动物的体细胞克隆。1月25日，国际顶尖科学期刊《细胞》在线发表了中国科学家的重大成果——世界上第一个体细胞克隆猴“中中”和第二个体细胞克隆猴“华华”，已在中科院神经科学研究所诞生。此前，科学家一直未能实现非人灵长类动物的体细胞克隆，也就难以建立模拟人类疾病的动物模型。中国解决了这个世界难题，率先开启了以猕猴作为实验动物模型的时代。B正确，10月24日，港珠澳大桥通车，总长约55公里的大桥工程让珠江入海口两岸的3个城市只需30分钟便可以互通。2009年底正式开工建设的港珠澳大桥被英国《卫报》称为“现代世界七大奇迹之一”，因建设周期史上最长、投资最多、施工难度最大而被誉为桥梁界的“珠穆朗玛峰”。C正确，11月19日，随着两颗全球组网卫星顺利升空，我国成功完成北斗三号基本系统星座部署。北斗三号基本系统于2018年底正式开通运行，向“一带一路”国家和地区提供基本导航服务，迈出从区域走向全球的“关键一步”。D错误，12月8日嫦娥四号探测器成功发射，开启了月球探测的新旅程，她的目标是实现人类首次月球背面软着陆，开展月球背面就位探测及巡视探测，并通过已在使命轨道运行的“鹊桥”中继星，实现月球背面与地球之间的中继通信。ABC正确，答案为D。

4.二十四节气被誉为“中国的第五大发明”，2016年11月30日，被正式列入联合国教科文组织人类非物质文化遗产代表作名录。下列关于古诗词与节气的对应错误的是（ ）

- A.微雨众卉新，一雷惊蛰始——物候变化
- B.昼晷已云极，宵漏自此长——一年中夜最短、昼最长的一天
- C.处暑无三日，新凉直万金——一年中气温最高
- D.可怜九月初三夜，露似珍珠月似弓——气温开始下降，天气变凉

【答案】C【解析】A描写的是惊蛰，蛰是藏的意思。惊蛰是指春雷乍动，惊醒了蛰伏在土中冬眠的动物，正确；B描写的是夏至，北半球一年中昼最长夜最短，正确；C是处暑，处是终止、躲藏的意思。处暑是表示炎热的暑天结束，不是气温最高，错误；D描写的是白露，天气转凉，露凝而白，正确。因此，答案为C。

5.“我想要带你去浪漫的土耳其，然后一起去东京和巴黎……”一首《带你去旅行》响彻大街小巷，关于歌词中出现的三个地域说法不正确的是（ ）。

- A.土耳其、东京和巴黎分别使用的货币为里拉、日元、法郎
- B.土耳其横跨欧亚两洲，西临爱琴海，旅游资源丰富

C.巴黎的主要景点有卢浮宫、埃菲尔铁塔、凯旋门等,巴黎圣母院是典型的哥特式建筑

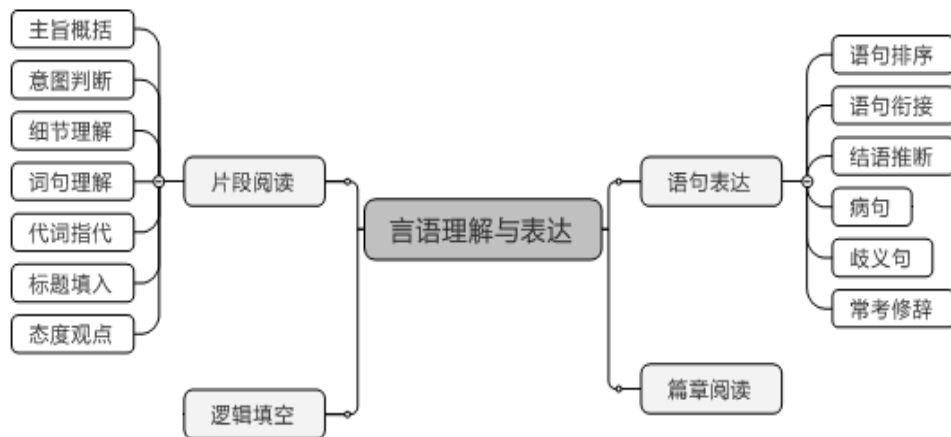
D.东京是日本首都,属于亚热带季风气候,夏季受东南季风影响,降水较多

【答案】A【解析】A 错误,1999 年 1 月 1 日,法国和其他 11 个欧洲国家共同参与使用欧元,并在 2002 年初正式开始使用欧元硬币和纸币,完全取代之前的法国法郎。其他均正确,因此本题答案为 A。

第二部分 言语理解与表达

必会点一、巧辨题型

言语理解与表达的题目形式很多,例如:题型 1:语句表达。主要考察考生对于词语、语气、词序、语法结构等在语言表达中的作用的程度。题型 2:阅读理解。阅读理解着重考察考生对语言文字的综合、分析、理解能力。所给的文字材料较长,主要是对词和句子一般意思和特定意义的理解;对比较复杂的概念和观点的准确理解;对语句隐含信息的合理推断;在干扰因素较多的情况下,能比较准确地辨明句义,筛选信息。此外,言语理解与表达题型还包括:选词填空、词语替换、寓意理解、篇章阅读等题型。



必会点二、攻破重点

(一) 主旨概括

➤ 【题型介绍】

主旨概括:阅读一段文字进行概括归纳或者把握中心主旨。

➤ 【解题思路】

找主题句

有明确主题句:同义替换、精简压缩

无明确主题句:概括归纳、全面总结

主题句的特征:解决问题的对策句、表达作者核心观点的观点句

原则:优选忠于原文的选项

【例】在传统饮食文化中,“如何吃”的仪式和流程比“吃什么”还重要。寻常百姓,至少要做到孔子说的“食不言,寝不语”,招待客人,也要严格按照地位、辈分、官位等主次有序落座。吃个饭还这么累,现代青年人玩不起也玩不转这繁琐的饮食套路。外卖,把“怎么吃”的繁文缛节全部去掉了,直接回归了“吃什么”的本质。从品类来说,外卖的口味相当丰富,不输食

堂。

这段文字的主旨概括最准确的是（ ）。

- A.重视进餐仪式满足了审美与礼节的需求
- B.外卖已成为都市年轻人主流的饮食方式
- C.“点外卖”正在改变中国传统饮食文化
- D.传统烹饪的精华无法在外卖中得到体现

【答案】C【解析】 第一步，本题考查主旨概括，并选择正确项。

第二步，文段前文讲述传统饮食文化注重仪式和流程，之后用现代青年人进行对比，突出“外卖”将以前的繁文缛节全部去掉，回归了“吃什么”的本质，即正在改变传统的饮食文化。因此，选择C选项。A项：“重视进餐仪式”符合传统的饮食文化，非重点内容，文段强调的是现代。B项：“都市年轻人”未体现，“主流的饮食方式”未体现。D项：文段重点强调的是现在的饮食方式，非传统饮食方式，且“烹饪”只是饮食方式的一种，片面。

➤ 【技巧点拨】



(二) 意图判断

➤ 【题型介绍】

关键词语：“意在”、“想要”、“推出”等

➤ 【解题思路】

社会现象类：把握文段重点 —— 判断作者的意图和意图

1.文段重点基础上稍加引申

2.把握文段重点即可

故事寓言类：1、找寓意、道理；2、正确答案与故事寓意关联；3、对比

【例】最近，一家英国公司用人工智能（AI）算法自动编写了《哈利·波特》续集——《哈利·波特》与看起来像一坨灰竭的肖像。该公司表示，他们是想用 AI 与人类智慧结合的新手段制造出一些单凭人类或者电脑都无法实现的作品。虽然目前的《哈利·波特》续集有些四不像，但说不定在未来的文艺体系中，人机结合的作品真的能自成一派。

这段文字意在表明（ ）。

- A.AI 小说引起世界各大主流媒体的关注
- B.人机结合可能会成为创作的一种方式
- C.AI 小说，充分体现了英国人的游戏精神
- D.人机结合的作品只能让读者啼笑皆非

【答案】B【解析】第一步，本题考查意图判断题。

第二步，首先找主旨句，前文先论述目前英国公司利用人工智能写小说的现状，最后一句话转折之后是重点，引出主旨，在未来的文艺体系中，人机结合自成一派，意在说明人机结合在未来应用的可能性。

因此，选择 B 选项。

- A 项：各大主流媒体无中生有。
- C 项：“游戏精神”无从体现。
- D 项：和作者的感情倾向不符。

【例】日前，我认真拜读了一位老领导的回忆录，为他认真做事的态度而深深感动。他曾是一位县委书记，后来担任了市长。可他的第一份工作却是生产队的计分员。所谓计分员，就是负责记录队员每日工作情况的农民。这个在旁人看来不起眼的工作，他却十分喜爱，干得起劲儿。记分，一丝不苟，不偏不漏，客观公正，做到了，让队长满意，让群众满意。因此，六年后被提拔为公社干部。他在回忆录中写道，基层六年，为我以后四十多年的工作打下了坚实基础。

这段话对做好机关工作，最主要的启示是（ ）。

- A.要认真做好“不起眼”的小事
- B.要从最基层的工作做起
- C.要尽量把每一件事都做好
- D.要以客观公正为准则做事

【答案】A【解析】第一步，本题为故事类意图判断题。

第二步，文段中故事的结果是 6 年后记分员被提拔为公社干部，最后担任了市长。而他的成就的取得主要是因为对工作认真的态度。

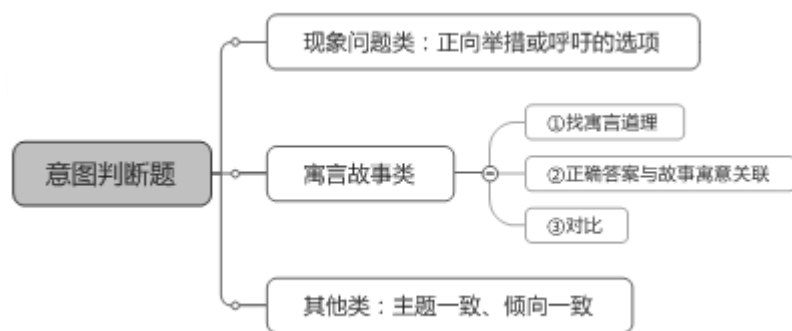
因此，选择 A 选项。

B 项：文段虽然提到“基层工作”，但最主要的启示在于工作一丝不苟的态度，即做“不起眼”的小事。

C项：“要尽量把每一件事都做好”，文段强调做好基层工作，没提到主体词。

D项：“要以客观公正为准则做事”是文中具体的事例当中总结出来的道理，且没提到“主体词”基层工作。

➤ 【技巧点拨】



(三) 细节理解

➤ 【题型介绍】

关键词语：“正确（不正确）”“可以推出（不能得出）”“符合（不符合）”等

➤ 【解题思路】

- 1.从选项入手
- 2.与文段一一对应
- 3.排除干扰

【例】阅读推广是向公众提供的一项重要阅读服务。每个社会成员，既是阅读推广的对象，也是阅读推广的触角。实践已经证明，让每个社会成员养成阅读的自觉和习惯。把阅读当作日常生活不可或缺的内容，是阅读推广中最难的事情，其难度远远超过阅读氛围的营造。而这件难事，也恰恰最有价值。社会成员若无自觉和习惯。全民阅读可能就只停滞于想象层面，这显然不利于书香社会的建设。

根据文意作者认为阅读推广最难的事是（ ）。

- A.阅读氛围的营造
- B.阅读价值的创造
- C.阅读服务的提升
- D.阅读习惯的养成

【答案】D【解析】第一步，本题考查细节理解题，且是变型的细节理解。

第二步，变型的细节理解题首先要明确针对的问题问的是什么，本题问的是作者认为阅读推广最难的事，所以回到文段，第二句话，“让每个社会成员养成阅读的自觉和习惯，把阅读当作日常生活不可或缺的内容，是阅读推广中最难的事情……”，对应D项。

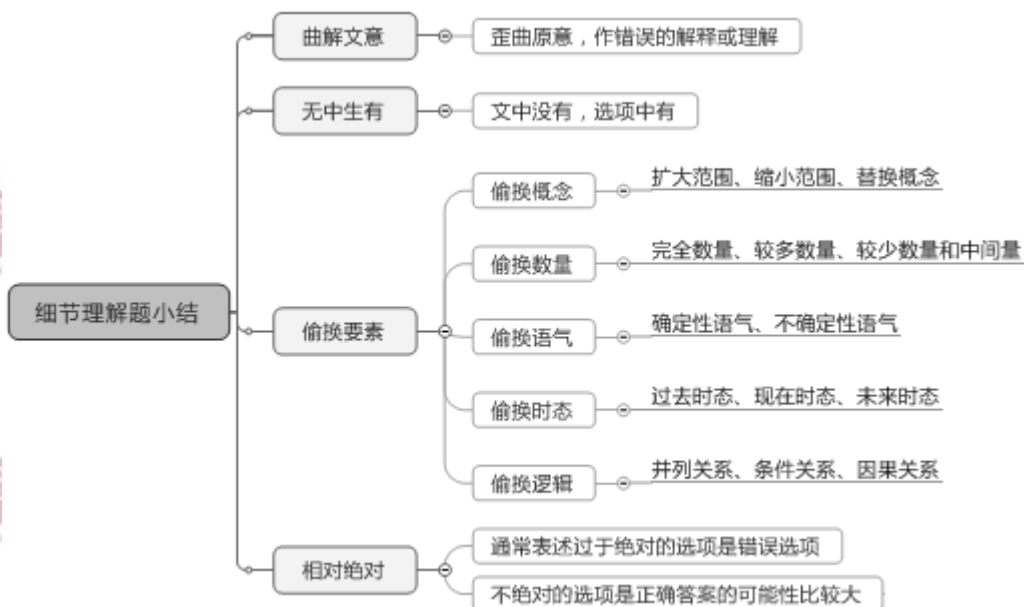
因此选择D选项。

A项：根据文段表述“难度远远超过阅读氛围的营造”可知错。

B项：根据文段表述“而这件难事，也恰恰最有价值”可知错。

C 项：阅读服务无中生有。

➤ 【技巧点拨】



(四) 语句表达

➤ 【题型介绍】

语句排序题是要求考生将若干个句子按照一定的逻辑规律或者是行文顺序加以重新组合,所以我们重点要提高逻辑思维能力和语言表达能力。

➤ 【解题思路】

1. 初定选项
2. 验证选项

【例】①雨水刚刚过去,春的气息便扑面而来

②“好雨知时节,当春乃发生。”

③窗外淅沥的春雨,正映衬着杜甫的诗句,原来这春,已经来了

④也是,季节交替总是不经意悄悄地进行着,当你感觉到了时其实早已浸润了大地

⑤那春的讯息最先是在冬时就已经吐露花蕊的梅,所以才会有梅是专门来报春之说

将以上 5 个句子重新排列,语序正确的是 ()。

- A. ②①③⑤④
- B. ③②①④⑤
- C. ⑤③④①②
- D. ①②③⑤④

【答案】A 【解析】 第一步, 本题考查语句排序, 并选择正确项。

第二步, 根据首句原则, 可以排除⑤, 因为该句出现了代词“那”, ②引出杜甫的诗句, ③对杜甫的诗句的诠释, 所以, ③应该在②之后, 之后再比较①和②, ②为援引观点, 更适合放在首句, 且①正好为②的解释。

因此，选择 A 选项。

B 项：③放在②的前面了，所以排除。

C 项：⑤出现了代词，无明确的指代对象，不适合做首句。

D 项：①与②相比，②更适合做首句，且①是对②的解释，所以排除。

➤ 【技巧点拨】



(五) 逻辑填空

➤ 【题型介绍】

逻辑填空从题型分类上可以分为三种题型：实词辨析、成语辨析和实词、成语的混搭。实词辨析指的是四个选项都是由实词组成，成语辨析的四个选项都是由成语组成，实词、成语的混搭指的是选项里既有实词又有成语。

➤ 【解题思路】

1. 语境分析

2. 词语辨析

【例】填入划横线部分最恰当的一项是（ ）。

“愤怒”，是对德国作家格拉斯个人风格的准确概括。然而，在他的盖棺之作《万物归一》里，这种“愤怒”似乎已经不那么_____了。

A. 引人注目

B. 显而易见

C. 司空见惯

D. 锋芒毕露

【答案】D 【解析】第一步，本题考查成语辨析。

第二步，文段前半部分讲“愤怒”是对格拉斯个人风格的概括，后面用“然而”转折，转折后的意思应是《万物归一》里“愤怒”不那么明显的意思，所以横线处所填词是显露出来的意思。锋芒毕露指锐气和才华全都显露出来。多指人好表现自己。符合文意。

因此，选择 D 选项。

A 项：引人注目，指吸引人注意。文段没有体现要吸引人注意的意思。

B 项：显而易见，形容事情或道理很明显，极容易看清楚。文段没有体现是否容易看清的意

思。

C项：司空见惯，指某事常见，不足为奇。文段和常见没有关系。

➤ 【技巧点拨】



第三部分 判断推理

必会点一、论证

1. 加强论证

(1) 非因果类（强度依次减弱）

搭桥=隐含前提有效 > 加强论据 > 加强论点

(2) 因果类（不分强弱）

① 别无他因：除了 A 没有其它原因导致 B

② 对比试验：有 A 有 B，无 A 无 B

2. 削弱论证

(1) 非因果类（强度依次减弱）

削弱论点 > 拆桥=隐含前提无效 > 削弱论据

(2) 因果类（强度依次减弱）

因果倒置 > 对比试验（有 A 有 B，无 A 有 B / 有 A 有 B，有 A 无 B） > 另有他因

【例 1】近日，某国的科学家们正在尝试用粒子加速器治疗癌症。他们将包括脑胶质瘤细胞在内的几种肿瘤细胞培养物放置在模拟人类头部的有机玻璃器皿中。再把这个“人头”放在粒子加速器的作用范围内。科学家们首次在肿瘤细胞内聚集足够量的硼—10，然后再用中子束照射肿瘤部位，使肿瘤细胞内部发生核反应，肿瘤细胞随之死亡。

以下哪项如果为真，最能支持实验的成功？（ ）

- A. 中子束对肿瘤细胞的作用，有别于健康细胞
- B. 脑胶质瘤类癌症用其他方式无法治愈
- C. 只有肿瘤细胞会在中子束的作用之下死亡

D.中子束能摧毁包括脑细胞在内的人体细胞

【答案】C【解析】第一步，确定题型。

根据提问方式中的“最能支持”，确定为加强论证。

第二步，找论点和论据。

论点：用粒子加速器发射中子束照射肿瘤细胞可治疗癌症。

论据：无。

第三步，辨析选项。

A项，不明确选项。“有别于”只是说明中子束对健康细胞和肿瘤细胞作用有区别，但没有具体指出对二者是利是害，排除；

B项，无关选项。脑胶质肿瘤类癌症用其他方式无法治愈，并不代表粒子加速器能够治疗癌症，排除；

C项，增加新论据。该项说明中子束在杀死肿瘤细胞的同时不会杀死其他细胞，可以支持了实验的成功，具有加强作用；

D项，增加反向论据。该项说明中子束会摧毁包括脑细胞在内的人体细胞，在这种情况下，用粒子加速器治疗癌症的实验将会失败，具有削弱作用。

因此，选择C选项。

【例2】酵素是一种无需消化就能被人体吸收的小分子营养品，其营养物质由原材料中的微生物转化和增殖产生。此外，这些微生物利用蔬果里的维生素，氨基酸等物质进行代谢转化也能产生营养物质。酵素里还含有微量的酶，其中以糖化酶和蛋白酶为主，这些酶可以将糖转化为细胞可用的物质。近年来，酵素产品被商家大肆宣传，声称酵素有减肥功效，使得一些爱美的消费者对其趋之若鹜。

以下哪项如果为真，最能反驳上述商家的观点？（ ）

A.服用某些含有益生菌及多种微生物的酵素类产品，具有一定的瘦身效果

B.在一定条件下，酵素类产品中的益生菌和微生物有促进肠道蠕动的作用

C.酵素进入人体后，其中的酶会被消化系统降解，无法发挥生物催化作用

D.市场上不合格的酵素类产品，可能会对服用者的身体造成巨大伤害

【答案】C【解析】第一步，确定题型。

根据提问方式中的“最能反驳”，确定为削弱论证。

第二步，找论点和论据。

论点：酵素有减肥功效

论据：酵素里还含有微量的酶，其中以糖化酶和蛋白酶为主，这些酶可以将糖转化为细胞可用的物质。

第三步，辨析选项。

A项，增加新论据。该项举例说明有一些酵素有减肥的功效，具有加强作用；

B项，不明确选项。酵素类产品中的益生菌和微生物可以促进肠道蠕动，但无法确定肠道蠕动是否降低体重，因此无法确定酵素是否具有减肥效果，排除；

C项，否定前提。该项说明酶进入人体后不再存在，更不能发挥转化糖的作用，否定了酵素

可以减肥的前提，具有削弱作用；

D项，无关选项。题干讨论的是酵素类产品，而该项讨论的是不合格的酵素类产品，论题不一致，排除。

因此，选择C选项。

必会点二、翻译推理

1.翻译推理解题技巧

(1) 充分条件命题：前推后	(2) 必要条件命题：后推前
如果 A，那么 B； 只要 A，就 B； 任何 A，都 B 凡是 A，都 B； 若 A，则 B； A 必须 B； A 离不开 B； 为了 A，一定 B； A 是 B 的充分条件	只有 A，才 B； 不 A，不 B； 除非 A，否则不 B； A 是 B 必不可少的/必要条件； A 是 B 的/前提/假设/基础/保障
(3) 逆否命题推理：肯前必肯后，否后必否前，否前肯后推不出确定性结论	
(4) 递推公式： $A \rightarrow B, B \rightarrow C$ 可以得到 $A \rightarrow C$	
(5) 联言命题：全真为真，一假为假	
(6) 选言命题：全假为假，一真为真	
(7) 摩根定律：去括号，填负号，且变或，或变且	
(8) 否定肯定式：选言命题为真时，否定一项，肯定另一项	

2.翻译推理常用公式

逆否等价公式 $A \rightarrow B = \neg B \rightarrow \neg A$

递推推理公式 $A \rightarrow B, B \rightarrow C$ ，所以 $A \rightarrow C$

摩根等价定律 $\neg(A \text{ 且 } B) = \neg A \text{ 或 } \neg B$ ， $\neg(A \text{ 或 } B) = \neg A \text{ 且 } \neg B$

否定肯定公式 $A \text{ 或 } B = \neg A \rightarrow B$

二难推理公式 $A \rightarrow B, \neg A \rightarrow B$ ，所以 B 恒成立

归谬推理公式 $A \rightarrow B, A \rightarrow \neg B$ ，所以 $\neg A$ 恒成立

【例 1】巫马子对墨子说：我不能兼爱。我爱我的家人比爱我家乡的人深，爱我的双亲比爱我的家人深，爱我自己胜过爱我双亲，这是因为切近我的缘故。打我，我会痛，打别人，不会痛在我身上，所以我只会杀他人以利于我。墨子问道：你的这种义会告诉别人吗？巫马子答道：我为什么要隐藏，我会告诉别人。墨子说：既然你这样，如果有人喜欢你的主张，那么这个人就要杀你以利于自己。如果有人不喜欢你的主张，那他也要杀你，因为他认为你是散布不祥之言的人。

由上文可推知（ ）

- A.巫马子只能远走他乡
- B.巫马子必须承认自己的观点是错的
- C.巫马子一定要改变自己原来的观点

D.巫马子一定会被人杀死

【答案】D【解析】第一步，确定题型。

根据题干关联词“如果……那么……”，确定为翻译推理。

第二步，翻译题干。

①支持巫马子→杀巫马子；

②-支持巫马子→杀巫马子。

第三步，进行推理。

由二难推理得出：无论支不支持巫马子，巫马子必死。

因此，选择D选项。

【例2】党的十八届四中全会审议通过的《中共中央关于全面推进依法治国若干重大问题的决定》指出：“法律是治国之重器，良法是善治之前提。”这是在我们党的文件中首次将法治与善治联系起来，其依据的正是法治与善治的内在必然联系，法治是善治的基础，善治必须建立在法治之上，没有法治就没有善治，法治本身也是构成善治的基本要素。

由此可得哪项结论（ ）

A.有善治就有法治

B.没有善治就没有法治

C.有法治就有善治

D.有善治不一定有法治

【答案】A【解析】翻译题干“...是...的基础”，翻译为后推前即“善治→法治”；A项，“有善治”属于肯前，根据“肯前必肯后”，可得“有法治”，可以推出。B项，“没有善治”属于否前，根据“否前推不出必然性结论”，不必然得到“没有法治”，排除；C项，“有法治”属于肯后，根据“肯后推不出必然性结论”，不必然得到“有善治”，排除；D项，“有善治”属于肯前，根据“肯前必肯后”，可得“一定有法治”，“不一定”是不确定表达，排除。因此，选择A选项。

必会点三、类比推理

（一）常考关系

1.集合和逻辑关系

(1) 全同关系（古今中外，自他雅俗）

(2) 交叉关系

(3) 并列关系（矛盾关系、反对关系）

(4) 包含关系（组成关系、种属关系）

(5) 属性关系（必然性、或然性）

(6) 对应关系

(7) 条件关系（充分条件、必要条件）

2.语义关系

(1) 近/反义词

(2) 感情色彩（褒义词、中性词、贬义词）

- (3) 象征意义
- (4) 修辞关系
- (5) 抽象词和具体词

3.语法关系

- (1) 主谓关系；(2) 谓宾关系；(3) 主宾关系；(4) 偏正结构

(二) 解题技巧

1.择优原则

题目要求中“最为贴近、相似或匹配”说明了类比推理并非必然性推理，做题应遵循择优思路。

2.造句为先，逻辑为主

题目要求中明确考查的是词与词之间的逻辑关系时，考生一般会优先采用“造句”的思路进行答题，较为简单的题目能直接得出答案。

【例1】漫画：推理漫画：连环漫画（ ）

- A.可见光：红光：紫光
- B.文物：馆藏文物：史前文物
- C.大气：对流层：中间层
- D.离子：阳离子：阴离子

【答案】B【解析】

第一步，本题考查包含关系中种属关系以及交叉关系。

第二步，漫画包含推理漫画和连环漫画，推理漫画和连环漫画是漫画的一种。推理漫画和连环漫画是交叉关系，有的推理漫画是连环画，有的连环漫画是推理漫画。

A项：可见光是电磁波谱中人眼可以感知的部分，波长不同的电磁波，引起人眼的颜色感觉不同，颜色包括红、橙、黄、绿、蓝、靛紫等，各种颜色属于反对关系不是交叉关系。

B项：文物包含馆藏文物和史前文物，馆藏文物和史前文物是交叉关系，有的馆藏文物是史前人物，有的史前人物是馆藏文物。

C项：整个地球大气层按其成分、温度、密度等物理性质在垂直方向上的变化，世界气象组织把它分为五层，自下而上依次是：对流层、平流层、中间层、暖层和散逸层。因此，属于组成关系。

D项：离子包括阳离子和阴离子，阴离子和阳离子为矛盾关系。

因此，选择B选项。

【例2】夏至 对于（ ） 相当于（ ） 对于 古筝

- A.节气 乐器
- B.6月22日 高山流水
- C.冬至 钢琴
- D.立夏 梧桐木

【答案】C【解析】

分别将选项代入题干，确定逻辑关系。

A项，“夏至”是“节气”的一种，二者属于种属关系，“古筝”是“乐器”的一种，二者属于种属关系，但词语前后顺序相反，排除；

B项，“夏至”是每年公历的6月20或21或22日，与“6月22日”属于时间对应关系，“高山流水”是一首由“古筝”弹奏的曲目，二者不属于时间对应关系，前后逻辑关系不一致，排除；

C项，“夏至”和“冬至”都是节气，二者属于并列关系，“钢琴”和“古筝”都是乐器，二者属于并列关系，前后逻辑关系一致，符合；

D项，“夏至”和“立夏”都是节气，二者属于并列关系，“梧桐木”是制成“古筝”的原材料，二者属于原材料对应关系，前后逻辑关系不一致，排除。

因此，选择C选项。

必会点四、定义判断

1.关键词法

(1) 主语；(2) 谓语；(3) 宾语；(4) 定语；(5) 状语；(6) 属性；

2.且关系和或关系

(1) 合取定义：各个要件之间“合而取之，缺一不可”

(2) 择取定义：各个要件之间“选而取之，数者择一”

【例1】机械表演，是指对作品的表演使用机械设备予以公开播放的行为，不包括公开放映电影和通过广播传播作品的行为。

根据上述定义，下列行为属于机械表演行为的是（ ）

- A.甲超市使用电视机公开播放存在电脑里的歌曲
- B.丙美术馆公开展览一大批书法作品和摄影作品
- C.丁商场通过幻灯机公开再现存在电脑里的电影
- D.乙电台在广播节目播出同时，在网上同步播出

【答案】A

【解析】第一步，看提问方式，本题属于选是题。

第二步，找关键信息。

- 1.使用机械设备予以公开播放的行为；
- 2.不包括公开放映电影和通过广播传播作品的行为。

第三步，辨析选项。

A项，超市使用电视机公开播放歌曲，属于“使用机械设备公开播放的行为”，且播放的不是电影，符合定义；

B项，美术馆公开展览书法和摄影作品，不属于“使用机械设备公开播放的行为”，不符合定义；

C项，商场公开播放的是电影，与“不包括公开放映电影”相违背，不符合定义；

D项，电台用广播播出节目，与“不包括通过广播传播作品”相违背，不符合定义。

因此，选择A选项。

【例2】文饰，是指无意识地通过似乎有理而实际上站不住脚的理由来为自己难以接受的情感、行为或动机辩护，以使其可以接受。不属于文饰的是哪一项？（ ）

- A.对于自己得不到的东西，就说它一定是不好的
- B.当得不到葡萄而只有柠檬时，就说柠檬是甜的

- C.将个人高考的失败，完全归于家庭环境的影响
D.把自己恋爱的成功，简单归因于自己长得帅气

【答案】D

【解析】第一步，看提问方式,本题属于选非题。

第二步，找关键信息。

- 1.无意识地通过似乎有理而实际上站不住脚的理由；
- 2.为自己难以接受的情感、行为或动机辩护；
- 3.使其可以接受。

第三步，辨析选项。

A项，得不到的东西却想要，属于“难以接受的动机”，说它一定是不好的以掩饰自己的动机，属于“通过似乎有理而实际上站不住脚的理由来为自己辩护”，符合定义；

B项，得不到葡萄而只能得到柠檬，属于“难以接受的行为”，说柠檬是甜的以掩饰自己只能得到柠檬的行为，属于“通过似乎有理而实际上站不住脚的理由来为自己辩护”，符合定义；

C项，高考的失败，属于“难以接受的情感”，将其完全归于家庭环境的影响，属于“通过似乎有理而实际上站不住脚的理由来为自己辩护”，符合定义；

D项，恋爱的成功，不属于“难以接受的情感、行为或动机”，不符合定义。

因此，选择D选项。

必会点五、图形推理

1.图形-数量类

- (1) 点：交点、切点、端点、实心点（圆点）
- (2) 线：直线、曲线、文字笔画、图形一笔画和多笔画
- (3) 角：角的个数、角的度数
- (4) 面：封闭区域的个数、面积
- (5) 素：个数、种类、部分

数字规律：增加、减少、恒定、对称、奇偶、运算、乱序

2.图形-位置类

- (1) 平移：方向、步数、路径（循环走、反弹走）
- (2) 旋转：方向（顺/逆）、度数
- (3) 翻转：方向（上下、左右、对角线）
- (4) 静态位置：相邻、相隔、相离、相切、相交、内含

3.图形-样式类

- (1) 遍历：缺啥补啥
- (2) 运算：相加、相减、去同存异、去异存同、整体求同、相邻求同

3.图形-属性类

- (1) 对称性；
- (2) 曲直性；
- (3) 封闭性；
- (4) 连接性：点连接与线连接

4.图形-立体类

- (1) 特征面；
- (2) 相对面；
- (3) 相邻面（时针法、箭头法、找点看线、移面法）

第四部分 数量关系与资料分析

必会点一、数字推理

数字推理需要掌握两点：第一：完成数字推理题目时的逻辑思路；第二：每一种题型所对应的具体方法和技巧。

图一表述的是做数字推理题目时的逻辑思路；图二是针对每种题型所对应的方法帮助大家梳理的思路。



图一 数字推理逻辑思路



图二 数字推理题型及方法梳理

必会点二、数学运算

(一) 必会公式:

1. 整除判断法

常见特殊数的整除判断:

2 (5) 整除: 观察数字的末一位数字能否被 2 (5) 整除。

4 (25) 整除: 观察数字的末两位数能否被 4 (25) 整除。

8 (125) 整除: 观察数字的末三位数能否被 8 (125) 整除。

3 (9) 整除: 观察各位数字之和能否被 3 (9) 整除。

2. 比例倍数形式:

若 $a:b=m:n$ ($m、n$ 互质)，则 a 是 m 的倍数， b 是 n 的倍数； $a+b$ 是 $m+n$ 的倍数， $a-b$ 是 $m-n$ 的倍数。

3. 奇偶特性法

奇数 \pm 奇数=偶数，偶数 \pm 偶数=偶数；

奇数 \pm 偶数=奇数，偶数 \pm 奇数=奇数；

奇数 \times 奇数=奇数，奇数 \times 偶数=偶数，偶数 \times 偶数=偶数。

两个数字的和或差为奇数，说明这两个数一奇一偶；

若和或差为偶数，则这两个数奇偶性相同，都为奇数或都为偶数；

任意两个数的和如果是奇数，那么差也是奇数；如果和是偶数，那么差也是偶数；

4. 尾数法

① 选项尾数不同，且运算法则为加、减、乘、乘方运算，优先使用尾数进行判定；

② 所需计算数据多，计算复杂时考虑尾数判断快速得到答案。

5. 裂项相消公式：
$$\frac{b}{m(m+a)} = \left(\frac{1}{m} - \frac{1}{m+a}\right) \times \frac{b}{a}$$

6. 分母有理化：
$$\frac{1}{\sqrt{a} \pm \sqrt{b}} = \frac{(\sqrt{a} \mp \sqrt{b})}{(\sqrt{a} \pm \sqrt{b})(\sqrt{a} \mp \sqrt{b})} = \frac{(\sqrt{a} \mp \sqrt{b})}{a-b}$$

7. 等差数列相关公式：

和=平均数 \times 项数=中位数 \times 项数；项数=(末项-首项) \div 公差+1

8. 几何边端问题相关公式：

① 单边线型植树公式(两端植树)：棵数=总长 \div 间隔+1，总长=(棵数-1) \times 间隔

② 单边环型植树公式(环型植树)：棵数=总长 \div 间隔，总长=棵数 \times 间隔

③ 单边楼间植树公式(两端不植)：棵数=总长 \div 间隔-1，总长=(棵数+1) \times 间隔

④ 方阵问题：最外层总人数=4 \times (N-1)，相邻两层人数相差8人

9. 火车过桥核心公式：路程=桥长+车长

10. 相遇追及问题公式：相遇距离=(速度1+速度2) \times 相遇时间

追及距离=(速度1-速度2) \times 追及时间

11. 队伍行进问题公式：

队首 \rightarrow 队尾：队伍长度=(人速+队伍速度) \times 时间

队尾 \rightarrow 队首：队伍长度=(人速-队伍速度) \times 时间

12. 沿途数车公式：发车时间间隔 $T = \frac{2t_1t_2}{t_1+t_2}$ ； $\frac{v_{车}}{v_{人}} = \frac{t_2+t_1}{t_2-t_1}$ (其中 t_1 和 t_2 分别代表迎面来

一辆车所需时间和从身后超过一辆车所需时间)

13. 流水行船问题公式：顺流速度=船速+水速，逆流速度=船速-水速，船速=(顺流速度+逆流速度) \div 2，水速=(顺流速度-逆流速度) \div 2

14. 等距离平均速度公式： v_1 与 v_2 所经历的路程相同，求全程平均速度： $\bar{v} = \frac{2v_1v_2}{v_1+v_2}$

15. 经济利润问题常用公式

第二步：将丙倒入乙杯，溶质为 $\frac{1.5}{8} \times 4$ ，浓度不变依然为 $\frac{1.5}{8}$ ；第三步：剩下的溶质 $\frac{1.5}{8} \times 4$ 倒入

丁杯，溶度为 $\frac{\frac{1.5}{8} \times 4}{10}$ 。最终乙浓度与丁浓度的比值为 2.5，因此，答案选择 B。

(三) 必会题型

1. 不定方程(组)

方法：代入排除法、尾数法、整体解方程

【例】装某种产品的盒子有大、小两种，大盒每盒能装 11 个，小盒每盒能装 8 个，要把 89 个产品装入盒内，要求每个盒子都恰好装满，需要大、小盒子各多少个（ ）。

A.3, 7

B.4, 6

C.5, 4

D.6, 3

【答案】A【解析】假设需要大盒子 x 个，小盒子 y 个，列方程得： $11x+8y=89$ ，为不定方程，代入选项只有 3、7 满足方程。因此，本题选项为 A。

2. 溶液问题

要点：浓度=溶质÷溶液；方法：十字交叉法；赋值法；方程法

【例】现有含盐 20% 的盐水 500 克，要把它变成含盐 15% 的盐水，应加入 5% 的盐水多少克？

A.200

B.250

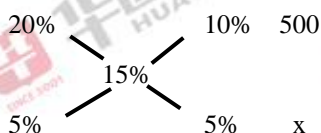
C.350

D.500

【答案】B【解析】法一：所有量都发生变化，可以采用方程来解决。

$$\frac{500 \times 20\% + 5\%x}{500 + x} = \frac{15}{100} \Rightarrow x = 250, \text{ 答案选择 B 选项。}$$

法二：涉及到部分与整体的关系，所以可以采用十字交叉法解决。



这样得到比例 $\frac{10\%}{5\%} = \frac{500}{x} \Rightarrow x = 250$ ，答案选择 B 选项。

3. 经济利润问题

要点：利润=售价-成本；方法：直接计算或者方程法

【例】某市针对虚假促销的专项检查中，发现某商场将一套茶具加价 4 成再以 8 折出售，实际售价比原价还高 24 元。问这套茶具的原价是（ ）元。

A.100

B.150

C.200

D.250

【答案】C【解析】加价 4 成再打 8 折意味着售价是原价的 $1.4 \times 0.8 = 1.12$ 倍，所以原价是 $24 \div (1.12 - 1) = 200$ 元。因此，本题选项为 C。

4. 排列组合问题

要点：两个原理（加法原理——分类；乘法原理——分步）

两个方法（排列——有顺序；组合——无顺序）

【例】为加强机关文化建设，某市直机关在系统内举办演讲比赛，3个部门分别派出3、2、4名选手参加比赛，要求每个部门的参赛选手比赛顺序必须相连，问不同参赛顺序的种数在以下哪个范围之内？（ ）

- A. 大于 20000
- B. 5001~20000
- C. 1000~5000
- D. 小于 1000

【答案】C 【解析】将3个部门分别看成一个整体，进行排序，有 $A_3^3=6$ 种；3个部门内部各自排序，依次有 $A_3^3=6$ 、 $A_2^2=2$ 、 $A_4^4=24$ 种；因此共计 $6 \times 6 \times 2 \times 24=1728$ 种。因此，选择C选项。

5. 概率问题

要点：概率与排列组合是一致的，分类概率相加，分步概率相乘。

【例】某高校从E、F和G三家公司购买同一设备的比例分别为20%，40%和40%，E、F和G三家公司所生产设备的合格率分别为98%，98%和99%，现随机购买到一台次品设备的概率是：（ ）

- A. 0.013
- B. 0.015
- C. 0.016
- D. 0.01

【答案】C 【解析】次品可能是从E、F、G三家公司购买到的，这时候只要把三者的概率加起来即可： $20\% \times 2\% + 40\% \times 2\% + 40\% \times 1\% = 0.016$ ，因此，本题选项为C。

6. 几何问题

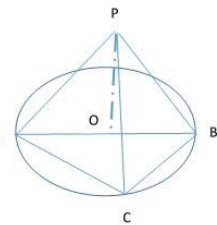
特征：出现“规则或者不规则的几何图形”，“几何相关的模型”

方法：公式法；数形结合法

【例】某次军事演习中，一架无人机停在空中对三个地面目标点进行侦察。已知三个目标点在地面上的连线为直角三角形，两个点之间的最远距离为600米。问无人机与三个点同时保持500米距离时，其飞行高度为多少米？（ ）

- A. 500
- B. 600
- C. 300
- D. 400

【答案】D 【解析】根据“与三个点同时保持500米”得到右图，飞机P的投影点O与三个顶点A、B、C的距离也相同。根据任意直角三角形中，斜边中点距离三个顶点距离相同，所以投影点为斜边中点，所以OC长度为最远两点AB（600米）的一半，即 $OC=300$ 。在直角三角形POC中， $PO = \sqrt{PC^2 - OC^2} = \sqrt{500^2 - 300^2} = 400$ （米）。因此，选择D选项。



必会点三、资料分析

（一）必会公式

1. 基期量的计算：

$$\text{基期量} = \text{现期量} - \text{增长量}; \quad \text{基期量} = \frac{\text{现期量}}{1 + \text{增长率}}$$

2. 现期量的计算:

$$\text{现期量} = \text{基期量} + \text{增长量}; \quad \text{现期量} = \text{基期量} \times (1 + \text{增长率})$$

3. 增长率的计算:

$$\text{增长率} = \frac{\text{增长量}}{\text{基期量}}; \quad \text{增长率} = \frac{\text{现期量}}{\text{基期量}} - 1; \quad \text{增长率} = \frac{\text{增长量}}{\text{现期量} - \text{增长量}}$$

4. 增长量的计算:

$$\text{增长量} = \text{现期量} - \text{基期量}; \quad \text{增长量} = \text{基期量} \times \text{增长率}$$

$$\text{增长量} = \frac{\text{现期量}}{1 + \text{增长率}} \times \text{增长率}; \quad \text{增长量} = \text{现期量} - \frac{\text{现期量}}{1 + \text{增长率}}$$

5. 比重的计算:

$$\text{现期比重} = \frac{\text{现期部分}}{\text{现期整体}}; \quad \text{基期比重} = \frac{\text{现期部分}}{\text{现期整体}} \times \frac{1 + \text{整体增长率}}{1 + \text{部分增长率}}$$

6. 平均增长的相关计算:

$$\text{年均增长量} = \frac{\text{现期量} - \text{基期量}}{N} \quad (N \text{ 指的是间隔的年份数值})$$

$$\text{现期量} = \text{基期量} \times (1 + \text{年均增长率})^N \quad (N \text{ 指的是间隔的年份数值})$$

7. 其他概念增长率:

$$\text{拉动增长率} = \frac{\text{部分增长量}}{\text{整体基期量}}; \quad \text{贡献增长率} = \frac{\text{部分增长量}}{\text{整体增长量}}$$

两期混合增长率: $r = r_1 + r_2 + r_1 r_2$ 。第一期与第二期之间的增长率为 r_1 , 第二期与第三期之间的增长率为 r_2 , 第一期与第三期之间的增长率为 r 。

8. 平均数与平均数增长率:

$$\text{平均数} = \frac{\text{总数}}{\text{总个数}}; \quad \text{平均数增长率} = \frac{\text{分子的增长率} - \text{分母的增长率}}{1 + \text{分母的增长率}}$$

9. 对外贸易: 顺差额 = 出口额 - 进口额; 逆差额 = 进口额 - 出口额

10. 成数与翻番: 几成相当于百分之几十; 翻 n 番相当于原来的 2^n 倍。

(二) 必会术语

1. **顺差:** 在一个时期内, 一个国家(或地区)的出口商品额大于进口商品额, 叫做对外贸易顺差(又称净出口额、出超)。

2. **逆差:** 在一个时期内, 一个国家(或地区)的出口商品额小于进口商品额, 叫做对外贸易逆差(又称净进口额、入超)。

3. **同比:** 与历史同期相比较。

4. **环比:** 与紧紧相邻的上个统计周期相比较。包括日环比、月环比、年环比等。

5. 百分数：用一百做分母的分数，也叫百分率或者百分比。在数学中用“%”来表示，在文章中一般都写作“百分之多少”。

6. 百分点：不同时期以百分数形式表示的相对指标（如：增速、指数、构成等）的变动幅度。

7. GDP 是英文（GrossDomesticProduct）的缩写，即国内生产总值。它是指一个国家（或地区）所有常住单位在一定时期内生产的最终产品和服务价值的总和，常被公认为衡量国家经济状况的最佳指标。国内生产总值由第一产业、第二产业、第三产业增加值构成，一个国家的国内生产总值就是三大产业的增加值之和。

8. 三大产业划分：

第一产业：农、林、牧、渔业。

第二产业：工业、建筑业。工业包括采矿业（不含开采辅助活动），制造业（不含金属制品、机械和设备修理业），电力、热力、燃气及水生产和供应业。

第三产业：除第一、二产业以外的其他行业。

9. “五年计划”是中国国民经济计划的一部分，主要是对全国重大建设项目、生产力分布和国民经济重要比例关系等作出规划，为国民经济发展远景规定目标和方向。

“五年计划” 执行时间

第一个五年计划 1953~1957	第二个五年计划 1958~1962	第三个五年计划 1966~1970	第四个五年计划 1971~1975
第五个五年计划 1976~1980	第六个五年计划 1981~1985	第七个五年计划 1986~1990	第八个五年计划 1991~1995
第九个五年计划 1996~2000	第十个五年计划 2001~2005	第十一个五年规划 2006~2010	第十二个五年规划 2011~2015
第十三个五年规划 2016~2020			

（三）必会题型

1. 简单计算

题型 1：读数后直接选择→直接根据问题定位信息即可。

题型 2：读数后简单计算→读数后一般涉及简单的加减计算。包括百分数计算、顺逆差计算、倍数计算、比例计算等。

题型 3：读数后比较排序→读数后需要根据问题需要比较大小或者排列顺序。

【例 1】分地区看，2014 年粗钢产量增速排名前五的分别宁夏、浙江、江苏、陕西和辽宁，增速分别为 17.3%、8.8%、7.6%、6.4%和 5%；黑龙江、重庆、云南、北京和山西等 14 个省产量同比有所回落，其中，黑龙江、重庆、云南分别回落 37.6%、11.6%、10.4%

2014 年，各省份粗钢产量同比增速由高到低排列的是（ ）。

A.黑龙江、重庆、云南

B.黑龙江、浙江、云南

C.宁夏、北京、辽宁

D.江苏、陕西、辽宁

【答案】D【解析】根据材料“产量增速排名前五的分别宁夏、浙江、江苏、陕西和辽宁，增速分别为17.3%、8.8%、7.6%、6.4%和5%”，因此，本题选项为D。

【例2】2013年，某省工业企业全年实现主营业务收入37864亿元、税金1680亿元，利润2080亿元，分别增长19.1%、19.4%、26.4%，分别高出全国7.9、8.4、14.2个百分点。

2013年全国工业企业的税金增速比利润增速（ ）。

A.低1.2个百分点

B.低5.8个百分点

C.高7.0个百分点

D.高8.4个百分点

【答案】A【解析】根据“2013年，某省工业企业全年实现主营业务收入37864亿元、税金1680亿元，利润2080亿元，分别增长19.1%、19.4%、26.4%，分别高出全国7.9、8.4、14.2个百分点”，则全国工业企业的税金增速为19.4%—8.4%=11%，全国工业企业的利润增速为26.4%—14.2%=12.2%，则全国工业企业税金增速与利润增速的差值为11%—12.2%=—1.2%，即低1.2个百分点。因此，本题选项为A。

2. 基期量相关

题目特征：已知现在.....求过去（具体数值）.....

基本公式： $\text{基期量} = \frac{\text{现期量}}{1 + \text{增长率}}$

基期量计算时若增长率<5%，化除为乘用公式法进行速算；若增长率较大，则考虑直接进直除或将增长率换成特殊分数。

【例1】2014年全国居民人均可支配收入为20167元，比上年增长10.1%，按常住地分，城镇居民人均可支配收入为28844元，比上年增长9.0%；城镇居民按户人均可支配收入的中位数为26635元，增长10.3%；农村居民人均可支配收入为10489元，比上年增长11.2%；农村居民按户人均可支配收入的中位数为9497元，增长12.7%。全国居民人均消费支出14491元，比上年增长10.6%。

2013年全国居民人均可支配收入与人均消费支出分别为（ ）。

A.22177元、17222元

B.18317元、13222元

C.16367元、11491元

D.20167元、14491元

【答案】B【解析】2014年全国居民人均可支配收入为20167元，比上年增长10.1%，全国居民人均消费支出14491元，比上年增长10.6%。那么，2013年全国居民人均可支配收入为 $\frac{20167}{1+10.1\%}$

$= \frac{20167}{1.1} \approx 18000$ ，同样方法计算人均消费支出为 $\frac{14491}{1+10.6\%} \approx \frac{14491}{1.1} \approx 13000$ ，因此，本题选项为B。

【例2】

2014年1-5月A区农村居民人均生活消费支出情况

	1-5月（元）	同比增长（%）
生活消费支出	5081	9.9
1.食品消费支出	2250	4.8

2.衣着	472	8.6
3.居住	695	18.0
4.家庭设备、用品及服务	314	1.1
5.交通和通讯	491	22.9
6.文化娱乐用品及服务	305	4.5
7.医疗保健	416	22.3
8.其他商品和服务	138	21.9

2013年1-5月A区农村居民8类生活消费支出中，人均支出最多的三类是（ ）。

- A.家庭设备用品及服务、文化体育娱乐用品及服务、其他商品和服务
 B.交通和通讯、居住、食品消费
 C.交通和通讯、医疗保健、其他商品和服务
 D.食品消费、衣着、居住

【答案】D【解析】基期量比较，现期量大增长率小则基期量大，食品消费的基期量一定较大，所以排除没有食品消费的选项A和C，在B、D选项之间做出选择，B和D选项都有食品消费和居住，也就是只比较交通和通讯、衣着即可：

	食品消费	居住	衣着	交通和通讯
现期量	2250	695	472	491
增长率	4.8%	18%	8.6%	22.9%
基期量	最大	$695/1.18=600-$	$472/1.08=400+$	$491/1.23=400-$

所以最大的三项是：食品消费、居住、衣着。因此，本题选项为D。

3. 增长量相关

题目特征：（现在）……比（过去）……增长（下降）（具体值）

基本公式： $\text{增长量} = \frac{\text{现期量}}{1 + \text{增长率}} \times \text{增长率}$

秒杀技巧：计算： 公式 $\frac{A}{1+r\%} \times r\%$ 比较复杂难度比较高，最简单的方法为特殊分数法。

若 $r\% = \frac{1}{n}$ ，则 $\frac{A}{1+r\%} \times r\% = \frac{A}{1+n}$ 。

比较：大大则大（若量A的现期量和增长率均大于量B，则量A的增长量也应大于量B。）

【例1】2012年，某省规模以上工业增加值10875亿元，比上年增长7.1%，月度增速从1~2月的2.9%回升到10~12月的10%以上。

与2011年相比，2012年该省规模以上工业增加值约增加了（ ）亿元？

- A.600
 B.720
 C.840
 D.960

【答案】B【解析】增长量计算。2012年该省规模以上工业增加值的增长量约为

$$\frac{10875}{1+7.1\%} \times 7.1\% \approx \frac{10875}{1+\frac{7.1}{100}} \times \frac{7.1}{100} \approx \frac{10875}{14} \times \frac{7.1}{15}, \text{直除首位上7。因此, 本题选项为B。}$$

【例2】2015年1-7月,我国机电产品出口额44359.4亿元,同比增长1.2%,占出口总额的57.2%。其中,机械设备出口12865.6亿元,同比下降6.6%;服装出口5709.9亿元,同比下降6.4%;钢材出口2319.5亿元,同比下降2.6%;汽车出口411.0亿元,出口额同比下降4.5%。

2015年1-7月,我国下列商品出口额同比下降最多的是()。

- A.机械设备
B.服装
C.钢材
D.汽车

【答案】A【解析】增长量比较口诀:大大则大。因此现期量大,减少率大,则减少量大。机械设备出口12865.6亿元,同比下降6.6%,服装出口5709.9亿元,同比下降6.4%,钢材出口额2319.5亿元,同比下降2.6%;汽车出口额411.0亿元,出口额同比下降4.5%。显然机械设备的现期量是最大的,而且减少率是最大的,那么减少量一定是最多的,因此,本题选项为A。

4. 增长率相关

题目特征: (现在).....比(过去).....增长(下降).....%

基本公式: $\text{增长率} = \frac{\text{增长量}}{\text{基期量}}$

速算技巧:

1. 增长率的计算就是两个数相除的过程,最常用的方法是估算法、直除法;
2. 如果是增长率的比较问题,可以先计算出增长率的大小然后比较,也可以直接比较

$\frac{\text{现期量}}{\text{基期量}}$ 或者 $\frac{\text{增长量}}{\text{基期量}}$ 的大小,一般用直除、化同和差分法进行比较。

【例1】2013年末,吉林省共有从事第二产业和第三产业活动的法人单位130914个,比2008年(2008年是第二次全国经济普查年份,下同)增加6487个,增长5.2%;产业活动单位157542个,增加5490个;个体经营户972280个,减少12861个。

2013年末与2008年比较,吉林省产业活动单位大约增加()。

- A.1.04%
B.7.6%
C.3.6%
D.1.3%

【答案】C【解析】由材料可得:“产业活动单位157542个,增加5490个”;因此根据增长率公式 $= \frac{5490}{157542-5490} \approx \frac{5490}{15200} \approx 3.6\%$,因此,本题选项为C。

【例2】

三产业资产总计的比重约为 $\frac{65441.9-27113.9}{65441.9} \approx \frac{654-271}{654} \approx \frac{383}{654} > 0.5^+$ ，因此，本题选项为 D。

【例 2】2014 年 1 月份，债券市场发行债券 4041.7 亿元，同比减少 24.8%，环比减少 27.1%。其中，银行间债券市场发行债券 3927.9 亿元，环比减少 19.6%。

2013 年 12 月份银行间债券市场发行债券占债券市场发行总额的比重约为（ ）。

- A.97% B.99%
C.62% D.88%

【答案 D】【解析】基期比重计算。根据材料可知，2013 年 12 月比重为

$$\frac{3927.9}{1-19.6\%} \div \frac{4041.7}{1-27.1\%} = \frac{3927.9}{1-19.6\%} \times \frac{1-27.1\%}{4041.7} \approx \frac{4000}{0.8} \times \frac{0.7}{4000} \approx 0.88。因此，本题选项为 D。$$

【例 3】2014 年上半年，北京市接待国内游客 1.14 亿人次，比上年同期增长 6.2%，实现国内旅游总收入 1774.1 亿元，增长 9.5%。其中，外地来京旅客 6891.1 万人次，同比增长 4.9%，旅游总消费 1607.6 亿元，增长 8.7%，北京居民在京游 4543.9 万人次，同比增长 8.1%，旅游总消费 166.5 亿元，增长 17.1%。

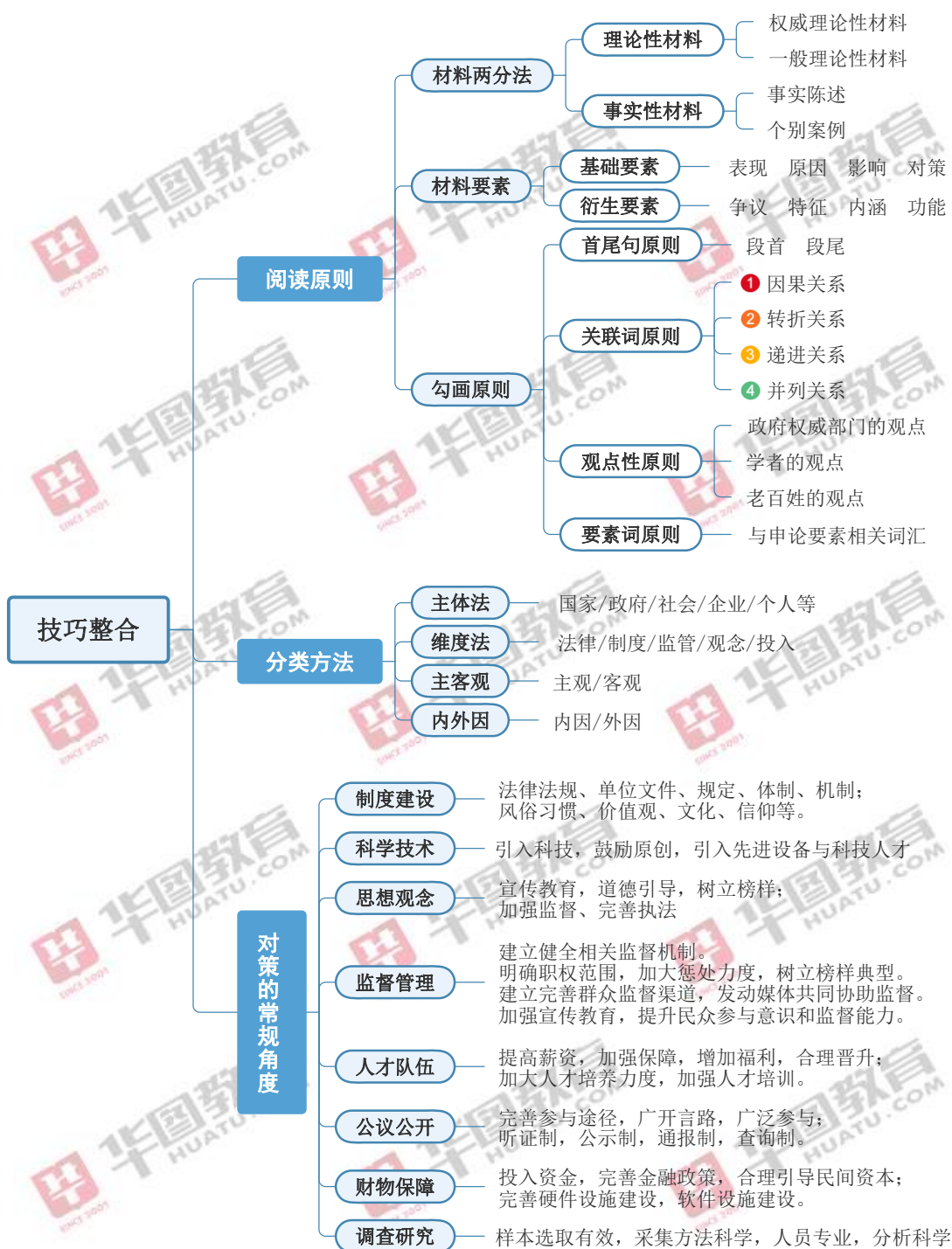
与上年同期相比，2014 年上半年北京市接待外地来京游客占接待国内游客数量的比重（ ）。

- A.下降了不到 1 个百分点 B.下降了超过 1 个百分点
C.上升了不到 1 个百分点 D.上升了超过 1 个百分点

【答案】A【解析】两期比重差值计算。首先判定升降，部分增长率为 4.9%，整体增长率为 6.2%，部分增长率 < 整体增长率，因此 2014 年上半年北京市接待外地来京游客占接待国内游

客数量的比重与上年同期的比重下降，排除 C、D 选项；二者差值 = $\frac{A}{B} \times \frac{r_1-r_2}{1+r_1} = \frac{6891.1}{11400} \times \frac{4.9\%-6.2\%}{1+4.9\%} \approx \frac{69}{114} \times \frac{-1.3\%}{1.05} = -1.3\% \times \frac{69}{114 \times 1.05}$ ，数值在 1% 以下，因此，本题选项为 A。

第五部分 申论



必会考点一、题型要点

(一) 概括题

1. 题型特征

概括类题是指提炼材料中的主体要素如问题、影响、原因、对策等的要点来揭示材料本质的一类题目。题干中多会出现“概括、概述、简述、归纳、整理”等相关字样，同时要求中多会出现“准确、全面、简明、有条理”等相关字样。吉林省考中，概括题多出现在第一题的题目位置。

2.题型分类及解题技巧

单一式概括

- (1) 出现条理，分类，归纳字眼分类
- (2) 按照主体、维度、主客观、内外因、题干问法等方法分类

综合式概括

- (1) 四大要素，分点作答。（按表现、影响、原因、对策罗列）
- (2) 通过材料的阅读技巧，直接摘抄或简单概括作答要素。
- (3) 汇报材料及情况综述与公文形式相同；主要内容不加标题，分条作答。

3.注意事项

- (1) 注意语言表达的简洁性，做到“要点很丰满，语言很骨感。”
- (2) 注意要点内部及要点之间的逻辑性，做到条理清晰。

4.答题示范

根据给定资料，概括目前我国到基层工作人才增多的原因。要求：内容全面，语言准确，条理清晰，字数不超过 250 字。

答：个人方面：1.基层培养人才，理论联系实际，实现人生和自我价值；2.以群众满意为价值导向，学习宝贵基层工作经验，扩大交际范围，提升自身素质和思想活跃度，成为人生宝贵财富。

社会方面：1.现代城市病爆发，城市居民回归自然、乡土愿望强烈。2.转变村民思维观念，重新发现乡村价值，认识到农村农业的重要性，帮助农村发展。2.小城市生活安居、创业成本低，工作竞争压力小，创业空间大，可以陪伴家人。

政府方面：1.国家政策向基层倾斜，创业同时实现自身发展实现有序流动。2.扩大基层工作渠道，制定晋升系统，提高基层待遇。

(二) 综合分析题

1.题型特征

在申论考试中，综合分析题根据其题型特征可分成两大类：

要素明确类：阅读题干就能够直接明确的分辨出作答要素的题目称为要素明确类题目，比如分析问题、分析原因、分析影响、分析启示等。

要素不明确类：阅读题干不能够直接明确的分辨出作答要素。

- (1)理解类：要求考生解释具有特定内涵的词句。
- (2)评价类：要求考生针对一个社会现象或观点，谈谈自己的看法。
- (3)比较类：要求考生围绕一个或者多个事实或观点之间的共性与差异展开分析。

2.答题技巧

要素明确类：题目问什么，直接分析什么答什么即可。其本质是概括能力的一种延伸，是在概括的基础上进行适当分析与推导。

要素不明确

(1) 理解类：①指出表层含义，即对词语、短语或句子的字面含义进行解释。②指出深层次含义，即要揭示出词语、短语或句子的引申含义，具体所答的要素根据给定材料的内容进行取舍，一般包括表现、原因、影响、对策。

(2) 评价类：①认识环节：明确观点+重点词解释+简单解释；②分析环节：佐证观点；③解决环节：简要提出对策。

(3) 比较类：①明确比较的要素，一般包括主体、方式、对象、效果、利弊、标准等。②逐个要素进行分析比较，分别得出小结论。③总体比较，得出大结论。

3. 注意事项

(1) 要素明确类分析题，一般需要对材料原文进行适度扩展。

(2) 理解类题型答深层含义时，一定要基于材料内容，而不能基于自身想象，材料没有暗示，答得再有道理也不给分。这一点与面试不同，申论理解类题考查的是考生阅读完材料后得出的理解。

(3) 评价类题目为吉林省高频考点，在近五年考试中几乎年年出现。

4. 例题示范

根据给定资料 3，对“微领队”这一新兴职业进行评价（15 分）要求：观点明确，分析透彻，逻辑清晰，字数不超过 200 字。

答：“微领队”指配备提供咨询服务的在线领队，该导游就是“微领队”，应客观全面看待。

一方面旅游消费升级，满足消费者对旅游产品和服务的个性化需求，游客的出游问题可在群里问询、经验交流，并提供应急帮助和救援，提高游客满意度。另一方面旅游线路不固定，人才匮乏，工作琐碎，劳动强度大，传统导游转行不适应，沟通易产生误解。

所以微领队需要有知识积累，提升应急帮助救援的能力，提高沟通的技巧，将自己体验传递给游客。

（三）对策题

1. 题型特征

提对策类题是以解决问题为主的题目，常见的提对策类题目有提出对策、建议、措施、方案等。题干要求中也经常出现“可行性、可操作性、针对性、具体可行”等相关字样。启示、经验、教训类题目为对策题的变形，本质上所答内容也为具体相关对策语句。

2. 答题思路

解决问题类：（1）作答结构：主体+对象+具体的操作方式方法+目标效果；（2）当题干中明确要求回答问题或原因再提出对策时需答问题或原因加对策。没有明确要求时只回答对策。

可从八个维度结合经验思考对策：(1)制度建设；(2)思想观念；(3)人才队伍；(4)财物保障；(5)科学技术；(6)监督管理；(7)公议公开；(8)调查研究

启示类：（1）照抄对策化为己用；（2）注意表述细节处理，分类处理。

3.注意事项

(1) 解决问题类题目一定要审清作答要求，通常不止一问。

(2) 书写过程中注意题干给予考生的相关模拟身份，答题时应将所提对策建议与模拟身份的有关权责角度有机结合。

(3) 启示类题目对应材料多为案例类材料，注意语言的组织与书写。

4.例题示范

根据给定资料6，假如你是S区政府一名工作人员，请分析S区基层留人难的原因，并就“如何让公务员扎根基层”的问题提出自己的建议，供上级部门参考。(25分)要求：分析合理，建议可行，条理清楚，字数不超过350字。

答：原因：1.基层工作地点偏远，“同城异地”问题突出，不便于照顾家人。2.工作和生活互相渗透，工作劳累，缺少个人生活空间。3.工作强度与报酬不对等，工作单调琐碎，长期“低薪高压”状态。4.缺少晋升渠道，乡镇职级上升空间小。5.基层工作环境艰苦，缺少娱乐活动，生活单调乏味。

建议：1.树立基层观念，鼓励干部到基层服务，在基层安家置业。2.提高服务意识，实施人性化管理，合理分配工作，营造和谐工作氛围。3.完善基层配套政策，提高干部薪酬待遇，加大财政补贴。明确基层工作人员的工作职责，降低工作强度。4.完善公务员职级晋升机制和激励机制，调动工作积极性。5.完善基层文化建设，丰富基层干部业余文化生活。6.树立基层服务典型，加强对基层人员的思想教育，定期给予关怀，增强归属感。

(四)应用文写作

1.精准审题

审题包括明确作答任务，明确作答范围，明确作答身份，明确作答细节，明确写作目的。

①文种：即写什么，重点明确文种。

②范围：作答范围可能来自于一则、几则或全篇材料，也可能需要结合自身经验作答。

③身份：身份决定职能，作答身份往往会限制作答内容。

④对象：重点关注作答对象，即文章针对何人或何群体发出。

⑤目的：通过明确写作目的进而明确写作重点，写作重点可能在于是什么方面或为什么方面或怎么办方面或以上的两个方面。

2.写作构成

一般而言，应用文的写作内容主要由开头、主体、结尾三个部分构成。

开头：①是什么(发文背景)：内涵、本质、历史发展过程等。

主体：②为什么(发文目的)：原因、意义(重要性)、危害、紧迫性、必要性、可行性。

③怎么办(相关办法)：具体对策。

结尾：进行简单的总结或呼吁号召。

3.答题框架

法定公文	事务性文书
(发文机关)关于 XX(事由)的 XX(文种) XX(主送机关):(背景+目的+文种承启语) 1.(分条列点) 2..... 3.....(文种结语) XXX X年X月X日	标题(关于XX的XX/另起标题) XX(称呼):(背景+目的意义)(正文)(是什么)(为什么)(怎么办) XXX X年X月X日

必会考点二、热点预测

热点预测 1: 文化记忆

【关键词】

城市文化 文化遗失 文化淡化 文化异化

【热点背景】

1900年2月10日,梁启超写下了激扬一代中国人的巨作《少年中国说》,“少年强则国强,少年富则国富。”而今天,梁启超曾寄望的少年具有的希望、进取、日新、破格、好行乐、盛气、豪壮、造世界、“常思将来”、“常觉一切事无不可为”的气质都在这一代身上依稀地看见。可是,代价是他们身上的中国传统日趋稀薄,他们身上的特质与个体不复存在,中国味淡不可闻。到哪里才能找回我们丢失的传统?怎么样才能写出一篇《新少年中国》,而不仅仅是《少年全球化》?

何为忠孝仁义?何为信礼智勇?现在只有在台北的大街看路牌才能见到它们了。“君君臣臣父父子子”之道要维护的那个秩序不再回来,也切断了我们与“忠孝仁义”的关联。“信礼智勇”好歹还是一个各社会通用的生存哲学和基本要求,但我们嫁接了西方的价值理念,在儒家的词语外壳下,内涵不再。古人曾把道德修养视为人生的终极追求,现在的教育还有多少是关于道德的东西。正如中央民族大学历史文化学院副教授蒙曼所言,“我们可以从中华优秀传统文化中汲取的东西太多,比如审美情趣、传统智慧等,但我个人认为从中要汲取的最重要的内容还是道德。”

1912年1月19日,当国民政府第一任教育总长下令“小学堂读经一律废止”的时候,这是一个解放思想的壮举;作为后果,近一个世纪后,已经没有人回答得出来什么是四书五经了。现在孩子对以《大学》、《中庸》、《论语》、《孟子》;《易经》、《尚书》、《诗经》、《礼记》、《左传》为代表的古代中国的支柱思想体系了解甚少。《大学》开篇就说“古之欲明明德于天下者”在今天成为镜花水月,顾炎武的“国家兴亡,匹夫有责”在和平时期更像是一句空谈。于是,我们坚持不长大,看日本漫画,听Twins,玩PUPA或HelloKitty,穿满身口袋的阔脚裤,口号是“我喜欢,有什么不可以”……咄咄逼人的自由泛滥,让责任感处处失守。

一个从小就被“涉江采芙蓉”、“袅情丝吹来闲庭院”、“醉里挑灯看剑”这样的情韵滋养着的孩子，他们长大以后，心灵或许不至于那么麻木、冷漠。现在，年轻有为的形象是年少多金，高学历、高收入、高消费，懂得如何赚钱还要懂得如何花钱，再也不是纳兰容若那种精通琴棋书画的浊世佳公子了。成人的价值取向在下一代人身上复制，甚至强化。

模拟试题：请根据给定资料，概括我国文化遗失的表现有哪些？**要求：**全面准确，简明扼要，语言流畅，不超过 200 字。

【参考解析】

1. 汉语言书写能力降低。
2. 淡化异化、文化内涵被遗忘、过节形式单一、文化商业化明显。
3. 文化自尊缺失，对本国文化戏谑。
4. 文化自信缺失，外国文化市场的入侵、崇洋媚外。
5. 物质文化遗产缺少保护。
6. 非物质文化遗产面临失传的危。
7. 文化缺失，道德水准下降。

模拟试题：请结合给定资料，分析我国文化遗失的原因并指出发扬传统文化的重要性。**要求：**分析全面，思路清晰，语言流畅，字数不超过 200 字。

【参考解析】

一、原因：

1. 信息技术的兴起产生提笔忘字现象。
2. 历史因素，使文化出现断层。
3. 企业的盈利筹码。
4. 教育上缺少对传统文化的重视。
5. 外来文化冲击，国家软实力不足。
6. 部分地方政府却少对传统文化的保护意识。

二、重要性：

1. 文化能够传承民族精神。
2. 文化是嫁接历史的桥梁。
3. 文化能传承都市的历史记忆。
4. 发展文化能够提升中国文化软实力，扩大影响力，营造良好的中国印象。
5. 优秀的文化能够丰富人们的精神世界，促进人的全面发展。

模拟试题：请根据给定资料谈谈保护文化的思路有哪些？**要求：**紧扣给定资料，分条作答，不超过 200 字。

【参考解析】

一、个人：树立保护文化的意识。

二、学校：重视传统文化教育，转变课程设置，增加传统文化相关的教育活动。

三、企业：避免传统文化商业化。

四、政府方面：高度重视传统文化的保护与传承。创新文化发展机制；积极推进文化的交流

和外交，增加文化的吸引力和辐射力，从国外借鉴经验。

五、社会：推动创意产业发展，例如发展动漫、印象、广播影视、音乐产业等。

四、热点范文评析

让文化热情涵养更多经典

近几年我国话剧市场爆款频频，但“爆点”不一。去年《窝头会馆》的抢票热潮，热在明星大腕齐聚一堂；《哈姆雷特》因文学名著的号召力而票房飘红；而不少知名团体保持较高上座率，则归功于积年累月的品牌塑造。作为北京人民艺术剧院的“镇院之宝”，今年《茶馆》开票的场景火爆非常：提前16小时排队，数百米购票长龙，各种露营器材齐上阵……话剧《茶馆》为何常演常火？豪华阵容、文学经典、品牌力量，多重效应共同撩拨起观众的心弦。

“排队”现象是观察公众文化生活的有趣切面，而那些被争相抢购的文化产品，最能折射时代的需求。1956年在南京，观众为了一睹梅兰芳的风采，带着铺盖卷买票；1986年在北京，歌迷排队花半个月工资只为听一场摇滚演唱会。而今天，娱乐方式更加多元，资源获取更为便利，但人们对高质量文化产品的热情始终如一。从“故宫跑”到“通宵等”，从“大英博物馆百物展”开启夜场到“妇好墓展”预约全满，为文化排队日益成为常态。

化解一票难求的尴尬，一味增加场次并不现实。毕竟，观看者数不胜数，而老戏骨精力有限，经典数目也有限。长远来看，戏台上不能只有《茶馆》和《雷雨》，音乐会不能只听莫扎特和贝多芬，用匠心浇灌更多的重量级作品，是文艺工作者的使命。与工业品不同，文化产品的供给侧改革不能毕其功于一朝一夕。经典化的过程、演员的成长，与喝茶一样得慢慢“泡”。这就需要观众多一份耐心，多一份理解，不放过佳作的成熟老到，也不妨看看新作的崭露头角，说不定你我当下相遇的，就是未来的经典。

另一方面，经典作品已是难得的文化名片，也可以进行多侧面的开掘，既丰富经典的表达，也丰富公众的生活。一部《茶馆》，焦菊隐导演版珠玉在前，曲剧版唱出了抑扬顿挫的京味儿，四川话版则别有一番“摆龙门阵”的江湖烟火，虽然都是茶馆掌柜王利发，不同的演绎调和出不同的滋味，也挖掘出作品的深度。而与之相关的回忆著作、纪念商品层出不穷，就连剧中一碗烂肉面，也被商家复原出来作为招牌。它们共同打开了作品的广度。而观众爱屋及乌，关注剧中演员的其他作品，不也算是一部戏带动起来的“周边产品”吗？

在过去，人们休憩消遣的方式比较单一。而当下，“生书熟戏，听不腻的曲艺”，文艺活动获得了更多样态与空间。据统计，2017年全国艺术表演团体有15752个，全年演出293.77万场，是10年前的3倍，看演出不再是一种稀缺品。但也要看到，一些作品因套路化、娱乐化而缺乏生命力，一些表演盲目追求声光电、大场面而脱离艺术本体，将艺术“改革”搞成“改行”……在文化供给持续发力而居民文化消费潜力依然巨大的今天，文艺作品“保量提质”同样很重要。

文化产品也需新陈代谢，与其坐等市场大浪淘沙，不如自觉提高创作品质。一位老艺术家在排演话剧《龙须沟》时，特意在排练厅门口备一堆泥，表演前在泥上踩踩，因为，这样可以找到人物的感觉。其实，对所有文艺工作者而言，踩在泥巴上、扎进现实中，“追随人民脚步，走出方寸天地，阅尽大千世界，让自己的心永远随着人民的心而跳动”，不正是最大的创作秘诀吗？

来源：人民网

热点预测 2：中等收入陷阱

【关键词】

中等收入 中收入 困境 措施

【热点背景】

1. 时间去哪儿了？这个诗意的问題，终于有了具象的答案。1月25日，国家统计局发布《2018年全国时间利用调查公报》。调查显示，中等收入群体就业工作时间最长。2018年，中等收入群体就业工作时间为7小时51分钟，比低收入群体多34分钟，比较高收入群体多9分钟，比高收入群体多27分钟。收入群体的划分标准是这样的：低收入群体是指调查对象月收入在2000元以下的群体；中收入群体是指月收入在2000-5000元；较高收入群体是指月收入在5000-10000元；高收入群体是指月收入在1万元以上。

拿着三五千的月薪，日子过得比谁都拼。

当然，所谓“中等收入群体”终究是个口径上的说法，大概与民众认知里的“中等收入群体”并非同一个概念。

但不管怎么说，这部分人是最努力、亦是最辛苦的。而统计数据揭示的另一面最叫人感喟：低收入群体用于照料孩子时间最多，为55分钟，中等收入群体用于照料孩子时间最少，为34分钟，较高收入群体和高收入群体照料孩子时间分别为41分钟和44分钟。如果用一句话为“中等收入群体”画像，大概就是——干活很拼命，陪娃很犯难。一生的时间，多在岗位上。

要让最拼的“中等收入群体”过得更好一些，这是人民对美好生活向往中的“高分值题”。去年，国家发改委召开了促进“中间群体”增收专题座谈会。《关于完善促进消费体制机制进一步激发居民消费潜力的若干意见》则明确提出，要完善有利于提高居民消费能力的收入分配制度，增加低收入群体收入，扩大中等收入群体。结合眼下的“时间公报”，眼下大概仍须在两个维度努力：一是增加劳动性收入。2000-5000元月收入的“中等收入群体”，估计很难在资本、土地、技术等要素分配上“逆袭”。要让他们过上好日子，让他们对未来有更多梦想与指望，唯有将低估的劳动力价值校准回公平的价格体系上去。

二是让休息休假权与合法劳动权益落到实处。道理虽然不甚新鲜，却是保障“中等收入群体”能多陪陪爱人和孩子的关键。人世间的时间总是个定量，朝三暮四、此消彼长，较低的收入状态与较大的生存压力，往往是倒逼劳动者在工作时间上饮鸩止渴的关键。当杭州有公司为女员工春节放“相亲假”的时候，当“二孩红利”成为爆款社会议题的时候，我们确实有必要让2000-5000元月收入的“中等收入群体”的生活节奏稍微缓一缓。让他们有时间谈场恋爱、让他们有心情多要个孩子，让他们尽量能心平气和又和颜悦色做好岗位上的事——这是他们的幸福，更是我们的幸运。

在奋斗的时代，亦当容得下每颗心里“小猪佩奇”般的温暖梦想。愿最拼的“中收入群体”过得更好一些，愿我们此生的时间少被形式负累、少被压力绑架，张弛有度，疾缓由心。

2. “中收入群体”与“中等收入群体”不只是一字之差，“中收入群体”是一群还需要下大力气、用更多的努力才能进入“中等收入群体”的劳动者。

“中收入群体”不等于“中等收入群体”

事实上，就在不久前国新办举办的新闻发布会上，国家统计局局长宁吉喆明确指出了我国“中

等收入群体”的标准是“三口之家年收入 10 万元-50 万元”，而且达到该标准的家庭已经有 1.4 亿户、总人数超过了 4 亿人，该群体有购车、购房、闲暇旅游的能力。

由于目前我国典型的三口之家一般包括两个大人和一个小孩，那么以此推算，两个大人的平均年收入每人至少在 5 万以上、月收入则超过 4000 元。这基本上接近统计意义上的“中收入群体”标准的上限。

然而，该“中收入群体”与“中等收入群体”的差异不仅仅只是一字之差。打通向“中等收入群体”过渡的渠道。少一个“等”字，实际上就意味着尚未达到小康生活标准，许多人没有多少足够的钱去购车、购房、闲暇旅游。该群体的主体大多是城乡地区的普通劳动者和工作不稳定者。

3. 七月二十四日，世界银行行长金墉接受本报记者专访。前哈佛医学院系主任、世界级结核病专家、常春藤名校历史上第一位亚裔校长、世界银行行长……金墉头上的光环让人眼花缭乱，又觉得不可思议。7 月 24 日，记者在成都专访了这位来参加 G20 财长和央行行长会的世界银行行长，从与四川的合作，谈到对中国的预期，他用了几个数字来表达。

与四川的合作，30 年交往和 33 亿美金投入

记者：今天讲了很多包容性发展，世行和四川会通过哪些合作来推进区域的包容性发展？

金墉：从四川和世界银行合作开始，我们之间已有长达 30 年的友谊，目前合作项目达到 52 个，涉及 33 亿元美金。比如，灾后重建项目，2012 年我第一次来四川就去了汶川，参观了重建项目，惊讶于那里的恢复程度。不仅合作项目多，四川在推进这些项目时做得很好，项目很成功。

所以，我们非常乐意在四川开展项目，当然这是中央、地方政府还有世行共同商讨决定的事。但我可以说即便已经开展了这么多项目，下一步我们还是会和四川有新的合作。

记者：您不仅是世行行长，还是一名出众的医生。在中国，我们需要兼顾有效性和可负担性的医疗，如何做到这一点？

金墉：我这次来中国，有个重要目的就是考察医疗改革。世行在中国推行医疗改革有一段时间了，目前正在安徽和福建两个省试点。我们刚刚发布了详细报告，其中明确，要通过 8 种方式提高中国医疗能力，比如，以病人为中心的医疗改革，让每个人都有自己的医生，整合每一级的医疗资源等。我们相信，通过这些改革，可以降低医疗服务成本，同时改善医疗服务质量。

记者：四川是人口大省，也需要这样的改革。

金墉：我可以向你透露，四川在我们下一批医疗改革的名单上。

记者：G20 公报发布了，您如何看待它对世界经济的影响，以及中国作为主席国的角色？

金墉：今年 G20，中国展现出极强的领导力。如果你看了公报就知道，我们讨论了太多问题，并在很多领域有了实质性进展。更重要的其实是一个沟通的机会。举例来说，来成都之前，我在北京参加了李克强总理同主要国际经济金融机构负责人举行的“1+6”圆桌对话会。这是一个非常好的会议，李克强总理向我们细致地解释了中国和世界其他部分的关系。我们也有机会向他解释我们的理念、在做的事情，以及我们看世界和中国的视角。

记者：中国公布了上半年 GDP 增速，6.7%。在世界主要经济组织中，世界银行是唯一准确预测这一数字的。而且即使下调了对世界经济预期的预期，也保持了对中国的预期。站在现在的时间点，您对中国未来的经济如何判断？

金墉：我们看到这个数字备受鼓舞。中国正在做一些非常难的事情，方方面面都在发生深刻的变革，包括增长模式，从大量集中在投资、出口领域，向消费和服务业领域转变。

记者：您认为中国能否避开中等收入陷阱？

金墉：我当然希望可以跨过去，也认为可以跨过去。因为中国对老百姓的投入比较多，比如我提到过的医疗，再比如教育，现在连英国都在学习上海的数学教育方法，很能说明问题。

模拟试题：根据给定资料，请概述“中收入群体”的主要内涵。

要求：全面，准确，有条理，不超过200字。

【参考解析】

首先，“中收入群体”不等于“中等收入群体”，“中收入群体”是指月收入在2000-5000元的群体，而“中等收入群体”的标准是“三口之家年收入10万元-50万元”，该群体有购车、购房、闲暇旅游的能力。该群体的主体大多是城乡地区的普通劳动者和工作不稳定者。其次，相当一部分人工资收入水平不高，工作不稳定，就业工作时间还最长，而且欠薪问题时有发生。

模拟试题：结合给定资料，请就如何打通从“中收入群体”向“中等收入群体”过渡的渠道提出具体建议。

要求：准确，简明；分析合理；建议可行；不超过200字。

【参考解析】

打通“中收入群体”向“中等收入群体”过渡的渠道，是扩大中等收入群体的必经之路。

1. 采取财政、金融、教育、培训等政策，努力提高劳动者收入水平，大力缩小收入分配差距。提高劳动者收入水平，尽快改善时间分配，实现劳动者工作生活两方面的平衡；2. 加大与世界银行的合作，推进区域包容性发展；3. 推行医疗改革，建设试点工程；4. 转变增长模式，从大量集中在投资、出口领域，向消费和服务业领域转变。

模拟试题：结合给定资料，以跨越“中等收入陷阱”为主题，联系自己的经验或感受，自拟题目，写一篇文章。

要求：

1. 自选角度，立意明确，有思想性；
2. 参考“给定资料”，但不拘泥于“给定资料”；
3. 语言流畅；
4. 总字数1000字左右。

【参考范文】

在新常态下跨越“中等收入陷阱”

我国经济发展进入新常态，GDP增长率由2010年的10.4%下行到目前的7.0%左右。在这种情况下，唱衰中国、中国落入“中等收入陷阱”几率增大等声音又起。那么，步入新常态后，我国能否以及如何实现对“中等收入陷阱”的成功跨越？对这个问题，需要从理论与实践的结合上作出符合发展规律的研判。

减速不失速是跨越“中等收入陷阱”的基本方略。容忍减速，如前所述，只要经济增速保持在5.4%以上，也即保持中方案的增速，各项目标的达成就不成问题；不容忍失速，是因为一定的经济增速除了为保就业和跨越“中等收入陷阱”所必需，还是转方式、调结构、惠民生的必要

条件。固然，转方式、调结构、惠民生需要将过高的经济增速降下来，如同汽车转弯时需要踩刹车减速；但是，如果减速变成失速，转方式、调结构、惠民生就会失去基础和动力，如同飞机失速就要酿成失事。自2008年国际金融危机爆发以来，发达经济体经济集体失速，至今难以摆脱困境；亚洲、拉丁美洲许多发展中国家经济长期陷入停滞，挣扎在“中等收入陷阱”之中，都是经济失速的恶果。容忍减速而不容忍失速，争取高方案、守住中方案，是经济新常态下跨越“中等收入陷阱”的要义和基本方略。

以速度换效益是跨越“中等收入陷阱”的关键。社会扩大再生产有增加劳动量和提高劳动生产率两条途径。问题与解决问题的手段总是相伴而生的。既然速度与效益不对称由速度偏好而起，那么，解决问题就要从去除速度偏好开始，以牺牲一点儿速度换取效益的有效提升。应当说，中央很早就关注到效益问题。20世纪80年代初提出到2000年工农业总产值翻两番时，前面就冠有“在不断提高经济效益的前提下”。可惜，这个前提常常被忽略或遗忘，只讲翻番不谈效益，这才使速度与效益不对称日益加深。党的十八届五中全会再次强调“以提高发展质量和效益为中心”，特别是提出创新发展等五大发展理念，具有很强的现实针对性，是跨越“中等收入陷阱”的重要法宝。

当然，提出以速度换效益，并不是速度越低越好，更不是不要速度，而是要符合客观实际的速度，不要不顾效益的速度。发展是硬道理，发展自然是具有一定速度的发展。前面提出的高方案至中方案的经济增速，就是适宜的、可以达到的跨越“中等收入陷阱”的速度。利用由高速到中高速增长腾出的空间，针对目前经济运行中的突出矛盾和问题，推进旨在提高经济效益的改革，加快转变经济发展方式，逐步实现向低投入、高产出和低消耗、高效益转变；调整经济结构，完成向现代产业结构、现代经济技术结构转型；加速由要素驱动向创新驱动转变，提高发展的质量和效益；坚持节约资源、保护环境基本国策，加快提高生态环境效益等的改革，就能逐步解决速度与效益不对称的矛盾，成功跨越“中等收入陷阱”。

源自人民日报、光明网、新京报、四川日报

热点预测3：伪精致主义

【关键词】

伪精致 仪式感 实干

【热点背景】

1. 不知何时，“精致”和“仪式感”成了一些人的生活标准。越来越多的女孩，都在期待成为别人口中“精致”的人。前几日，几名研究生就因此走红网络。为了追求仪式感，她们花了近万元改造寝室。羽毛，串灯，纱帘，这都是改造后“仙女寝室”里的物件。然而“打脸”来得很快。没过多久，中国消防微博账号指出该寝室改造有消防隐患，勒令其核查处理。随后，寝室装修被悉数拆除。但在安全问题被指出前，网上铺天盖地宣传的，是几个女生花了昂贵的价钱，制造仪式感，打造出了“仙女寝室”。

这种对“精致”感的追求，一时间成为被吹捧的焦点。光鲜表象下，是把物质和外表变成了生活好坏的标尺。“伪精致”，正变成摆在年轻人眼前的陷阱。

“能买吸尘器就不用扫帚；吃完牛油果又要吃藜麦；100块钱一张的面膜用起来也不心疼；

口红两三只不够，要集齐全套；租房得独立厨卫，还要带落地窗。”

追求美好的生活本没有错，但所谓的“美好”，却可能只是表象。

“伪精致”背后是消费主义陷阱。以物质为衡量标准的“伪精致”大行其道，背后不止是人们对于“物”的追求。在《消费社会》一书中，让·鲍德里亚（Jean Baudrillard）指出，人们购买物品不止是“当作工具来使用”，同时也是“当作舒适和优越等要素来耍弄”。

在朋友圈晒出刚买的大牌口红，想传达的不是“我买了一个商品”，而是“我有消费名牌口红的经济实力”。即使买这支口红攒了很久的钱，抑或分期购入，都不重要。

据某消费贷款产品发布的《2017 年轻人消费生活报告》显示，中国每 4 个 90 后中，就有 1 个正在使用网贷产品。如果说通过物质得到满足感，是“伪精致”盛行的内在原因。那商家、媒体传达的“物质至上”概念，就是那个推波助澜的“帮凶”。

文化研究者弗雷德里克·詹姆逊（Fredric Jameson）认为，大众传媒和消费主义文化，正在当下相互利用。电视上铺天盖地的广告、影视剧，都在告诉大众，“女人就该对自己好一点”，“做男人要舍得花钱”。一个精致的女人，该用什么护肤品，背什么包，佩戴什么首饰……早就被广告做成了模板。奢侈品因此不断被吹捧和追逐，且逐渐低龄化。

心灵富足，才是好生活的真正底气。这个世界上，永远有人比你更富有、更漂亮、更优秀……人人都不想落后，但以物质和外在作为标准，不会有尽头。一个人最美的时候，是开始真正成为自己。放下外在的物质焦虑，真正的精致，取决于你由内而外的努力。

2. 近日，一篇题为《“伪精致”正在掏空年轻人的钱包和内心!》的文章热传，直言“伪精致”正变成年轻人眼前的消费主义陷阱。文中提出的青年一代的“伪精致”消费倾向值得深思。

什么叫“伪精致”？最直观的特点大概就是，外在雅致、表象光鲜，可这其实是为了看着精致而扮得精致。精致的表象下，是有些人私人生活中很少拿来示人的邋遢、做作和欠债。

追求有质感的生活本无可厚非，实现跨越式的消费升级也是个人权利，将生活品质的追求跟“精致”的标准对标，他人似乎也不应指责。问题是，如果所谓的精致只是“社交软件”裹挟下的假面表演，那难免因“装”而伪。装得再像，也只能是在虚拟现实里假装过得很好，既改变不了现实里的“糙”，还会被“装精致”付出的高昂成本拉低生活品质。

有句话说，“面具戴久了，就会忘记真实的自己”。年轻人，如果沉浸于“伪精致”带来的虚妄满足感，很容易陷入其中、迷失自我。

如果对精致的认知止于外部的光鲜，将“精致”肤浅地定义为晒风景照、晒咖啡馆、晒奢侈品、晒时尚穿着……晒晒晒，那只会坠入“伪精致”的囚笼，非但失去自我认知的坐标，还会为其所累、受其所害。

拒绝“伪精致”，不被物欲俘获，不为取悦而“装”，人格独立而坚韧，内心平静但强大，“精致”就不会只是拼命够却够不着的外在标签，而是自内而外散发的气质画像。

模拟试题：结合给定资料，请对当前流行的“仪式感”现象谈谈你的看法。

要求：分析合理，准确，全面，有条理，不超过 200 字。

【参考解析】

“仪式感”一种习惯把金钱等同于自我价值，为了凸显自己的价值，伪装过得很好的社会现象。其实质是“伪精致”，背后反应的是消费主义陷阱和某种舒适和优越感的体现。其产生的原

因，一方面是商家、媒体传达的“物质至上”概念的大肆宣传，另一方面是消费主义盛行，并且两者相互作用。为此，应该明确自我定位，正确认识自己，树立正确的金钱观和价值观。

模拟试题：结合给定资料，以“实干”为话题，联系自己的经验或感受，自拟题目，写一篇文章。

要求：

1. 自选角度，立意明确，有思想性；
2. 参考“给定资料”，但不拘泥于“给定资料”；
3. 语言流畅；
4. 总字数 1000-1200 字。

【参考范文 1】

时代呼唤改革“实干家”

“一个投资项目从立项到审批，要跑 20 个厅局、53 个处室，盖上百个章，需要 799 个审批工作日。”在“伟大的变革——庆祝改革开放 40 周年大型展览”上，一幅改革前的行政审批流程图引人注目。如今，随着“放管服”改革深入推进，“最多跑一次”“立等可取”等新风扑面，让群众感叹办事方便、更有效率了。改革何以能释放如此效能？

从根本上说，落实的程度，直接决定着改革的力度和效果。大道至简，实干为要。回望改革开放 40 年，我们难忘“时间就是金钱，效率就是生命”的“蛇口春雷”，感怀“三天一层楼”的“深圳速度”，感慨中国桥从“争气桥”到“圆梦桥”“复兴桥”的历史跨越，激荡推进各项改革落实“逢山开路、遇水架桥”的务实精神。可以说，实干是贯穿 40 年改革开放的基本脉络，是当代改革者精气神的鲜明底色。

实，体现在敢于直面问题的魄力。“有什么问题就解决什么问题”“没有问题就是最大的问题”，正是改革者有强烈的问题意识，以重大问题为导向，抓住关键问题深入研究、深入思考、切实解决，才使改革发展所面临的问题不断被发现和破解。党的十八大以来，正是这种敢于直面问题的魄力，才使我们解决了许多长期想解决而没有解决的难题。

实，体现在敢于突破利益固化藩篱的勇气。改革的一大难点，就是“触动利益比触动灵魂还难”。今天，改革者面临的利益固化问题都是现实的、具体的，改革的背后往往就是利益的调整，是要动别人的奶酪的。有的是个人利益，有的是部门利益，有的是眼前利益、局部利益。取消一项审批，就可能导导致一些人的奖金没了；调整一个机构，就可能让一些人面临重新择业。只有以壮士断腕的勇气，勇于自我革命，才能打通改革征程上的各种壁垒。我们强调“比认识更重要的是决心”，其意义正在于要下决心去动真碰硬，而不是嘴上喊推进改革很重要，一碰到利益问题就退缩不前了。

实，体现在敢于攻坚克难的担当。改革进入攻坚期、深水区，所求解的往往是极为复杂的“方程”。有些“硬骨头”不好啃，往往需要耗费大量的心力，却不见得有成果。有些难题牵涉甚广，短期内很难有大的突破，却又必须破题、解题。要避免改革“打滑空转”，就必须攻克难点，破除顽瘴痼疾。我们说，改革者要有担当精神，就在于要敢于攻坚克难，“不破楼兰终不还”，而又不计较名利得失。在这个意义上，无论是开辟改革“最先一公里”，还是打通改革“中梗阻”，抑或是铺就改革“最后一公里”，都需要以百姓之心为心，有“功成不必在我”的境界和“功成

必定有我”的担当，拿出一批硬招实招，让各项改革举措真正落地生根、次第开花。

一位经济学家在被问及对中国未来的判断时，不假思索地写了一个字：“行”。这既是对中国经济的未来保有信心，也是在强调“知者行之始，行者知之成”的辩证法。人人争当实干家，不弃微末、不舍寸功，勇攀改革新高峰、书写开放新篇章，我们必将汇聚起更加磅礴的力量，中华民族伟大复兴必将在改革开放的进程中得以实现。

源自人民日报

