

2019年天津市公务员考试模拟试卷

《行政职业能力测验》

第一部分 常识判断

(共 20 题, 参考时限 15 分钟)

常识判断部分主要考查考生的基本常识和基本经验。根据题目的要求, 在四个选项中选出一个正确的答案。

请开始答题:

1. 习近平在 2017 年亚太经合组织工商领导人峰会上发表主旨演讲, 世界正处在()的历史进程之中, 世界经济正在发生()的变化。

- A. 稳中求进、更高水平
- B. 更深层次、更高领域
- C. 快速变化、更深层次
- D. 急剧变化、更高层次

2. 十九届中央全面深化改革领导小组第一次会议 11 月 20 日召开, 会议强调, 加强贫困村驻村工作队选派管理工作, 要把()作为重中之重, 从()入手。

- A. 深度贫困地区贫困村和脱贫难度大的贫困村、健全体制机制
- B. 深度贫困地区贫困山区和脱贫攻坚的边远地区、创新协调发展
- C. 深度贫困地区贫困村和偏远山区、创新协调机制
- D. 深度贫困地区贫困山村和困难山区、完善体制机制

3. 《互联网域名管理办法》, 要求注册域名应向服务商提供域名持有者真实、准确、完整的()等域名注册信息。

- A. 身份信息
- B. 单位信息
- C. 个人信息
- D. 有效信息

4. 《国歌法》于 2017 年 10 月 1 日起施行, 在公共场合, 故意篡改国歌歌词、曲谱, 以歪曲、贬损方式奏唱国歌, 或者以其他方式侮辱国歌的, 由公安机关处以()或者()以下拘留; 构成犯罪的, 依法追究刑事责任。

- A. 警告、十五日
- B. 罚款、十日
- C. 罚款、十五日
- D. 警告、十日

5. 下列说法不符合《社会保险法》的规定的是()。

A.监督主体是人大常委会、社会行政部门、政府财政部门和审计机关，以及社会保险监督委员会

B.失业人员应当缴纳的基本医疗保险从失业保险金中支付，个人不缴纳基本医疗保险

C.达到法定退休年龄时累计缴费不足十五年的，可以缴费至满十五年，按月领取基本养老金

D.以欺诈、伪造证明材料骗取社会保险待遇的，责令退回社会保险金，处骗取金额三倍以上十倍以下罚款

6.十九大报告中指出，坚定不移全面从严治党，不断提高党的执政能力和领导水平，加强基层组织建设，要以提升（ ）为重点，突出（ ），把企业、农村、机关、学校、科研院所、街道社区、社会组织等基层党组织建设成为宣传党的主张、贯彻党的决定、领导基层治理、团结动员群众、推动改革发展的坚强战斗堡垒。

A.凝聚力、思想功能

B.领导力、政治功能

C.战斗力、思想功能

D.组织力、政治功能

7.计算机的存储系统由（ ）组成。

A.ROM 和 RAM

B.内存和外存

C.硬盘和软盘

D.磁带机和光盘

8.下列生活常识，说法正确的是（ ）。

A.水在 5 摄氏度时密度最大

B.最早的温度计里装的是水银

C.中国古代，勺最初是用来舀汤的

D.阳光透过茂密的树叶射在地上的光斑是圆形

9.金代文学家元好问评价陶渊明的田园诗时说：“一语天然万古新，豪华落尽见真淳”，是指陶渊明诗的语言特点为（ ）。

A.朴实自然，不讲究艺术工巧

B.不是未经锤炼，只是不露痕迹，显得平静自然

C.喜欢故作平易淡然

D.表面华丽实则淳朴

10.下列文学常识说法正确的一项是（ ）。

A.中国当代先锋派代表作家有洪峰、马原、苏童、格非等，其中格非的代表作有《江南三部曲》《迷舟》等

B.以短篇小说闻名全球，入选美国《时代周刊》世界 100 名最有影响力人物的英国女作家门罗，于 2013 年获诺贝尔文学奖

C.中国作家莫言是 2012 年诺贝尔文学奖得主，代表作有《红高粱家族》、《蛙》、《丰乳

肥臀》和《秦腔》等

D.方苞、姚鼐是桐城派代表人物，而“三袁”（袁宗道、袁宏道、袁中道）属唐宋派

11.中国现存规模最大、保存最完整的城垣是（ ）。

- A.平遥城墙
- B.北京城墙
- C.西安城墙
- D.荆州城墙

12.地球东西半球的实际分界线是（ ）。

- A.0度经线和180度经线
- B.西经20度和东经160度
- C.东经20度和西经160度
- D.东经90度和西经90度

13.《孙子兵法》云：“故用兵之法，无恃其不来，恃吾有以待也；无恃其不攻，恃物有所不可攻也。”这段话体现了（ ）的军事战略思想。

- A.擒贼擒王
- B.随机应变
- C.有备无患
- D.欲擒故纵

14.对我国历史的认定有误的是（ ）。

- A.自秦汉以来，中国就是一个统一的多民族国家
- B.自秦朝以来，新疆纳入中央王朝的管辖治理之下
- C.公元前50年，新疆为我国多民族的一个组成部分
- D.1884年，清政府在新疆建省

15.以下不属于国家基本产业政策的是（ ）。

- A.产业结构政策
- B.产业技术政策
- C.产业组织政策
- D.产业发展政策

16.最高限价是政府制定的（ ）市场均衡价格的限制价格。如在饥荒时，政府会为生活必需品制定最高限价。

- A.低于
- B.等于或低于
- C.等于
- D.等于或高于

17.一般来说，通货膨胀对（ ）有利。

- A.企业在职人员
- B.债务人

- C.债权人
- D.企业离退休人员

18.1978年关于真理标准大讨论是一场新的思想解放运动。实践之所以成为检验真理的唯一标准，是由（ ）。

- A.真理的主观性和实践的客观性所要求的
- B.真理的相对性和实践的绝对性所预设的
- C.真理的本性和实践的特点所决定的
- D.真理的属性和实践的功能所规定的

19.“少年安能长少年，海波尚变为桑田”和“少小离家老大回，乡音无改鬓毛衰”这两句诗包含的共同哲理是（ ）。

- A.运动中有静止，静止中也有运动
- B.运动是物质的唯一特性
- C.世界上存在无物质的运动
- D.运动是物质的根本属性和存在方式

20.应当怎样认识生产发展，生活富裕，生态良好之间的辩证关系（ ）？

A.生产发展是社会发展的物质基础，生活富裕是生产发展的结果，生态良好决定着生产发展中人民生活的可持续发展的程度

- B.生态良好是基础，只有生态好了，才可能有生产发展和生活富裕
- C.生活富裕是基础，生产发展和生态良好是目的

D.由于我国经济增长的资源代价过大，国家应当把主要精力从发展生产转移到提高人民生活水平和保护生态环境上来

※※※ 第一部分结束，请继续做第二部分！ ※※※

第二部分 言语理解与表达

(共 35 题, 参考时限 30 分钟)

本部分包括三种类型的试题:

一、选词填空: 共 10 题。请根据题意, 从所给的词语中选出最恰当的词语填入空格内, 从而使句子的意思表达的最准确。

请开始答题:

21. (1) 绿色, 有洗净凡尘间浮躁不安内心的魔力, 它给予世人以希望, 让阳光照耀进内心的_____面, 涂染心底如黑夜般墨色的低迷。

(2) 中国驻澳大利亚大使馆发言人 6 日发表谈话, _____近期澳大利亚一些媒体的涉华言论不实, 称这些言论“不负责任”。

- A. 阴暗 评价
B. 昏暗 批评
C. 阴暗 批评
D. 昏暗 评价

22. (1) 明年到底会不会加息呢? 近期, 央行就_____了两大重磅信号, 这意味着加息也许不远了。

(2) 总有人喜欢拿无知当个性, 拿没文化当真性情, 自己没学历没成功就算了, 还吹捧着“读书不重要、学历不重要”, 想拉更多人下水。可惜的是, 真有人_____。

(3) 水质平衡问题: 游泳池的水质偏向水质平衡中的结垢方向, 也就是说, 池水中有过多的碳酸钙颗粒, 造成_____。

- A. 发展 深信不疑 混浊
B. 释放 深信不疑 混浊
C. 释放 坚定不移 浑浊
D. 发展 坚定不移 浑浊

23. 很多时候我们需要的是一些不一样的东西, 可以让自己在这种一成不变的生活里得到一些改变, 或许因为这种改变可以更多的改变, 然后可以过自己想过的生活。改变其实很简单, 但是在改变的过程中, 能够保持_____, 坚持本心, _____不被世俗所渲染, 这种与众不同的蜕变, 是多少人能坚持, 亦或是多少人能改变的呢?

填入横线上的词语最恰当的是 ()。

- A. 初志 卓尔不群
B. 初衷 独善其身
C. 初心 独步天下
D. 初交 孤独求败

24. 有专家指出, 相对于我国电子商务 14 万亿元的年销售额, 乡村电商仍是一片尚待开发的“蓝海”。“蓝海”, 当有洛阳乡村电商乘风破浪的一席之地。更何况, 从国家到省、市, 针对乡村电商的一系列优惠、扶持政策正在_____出台。引领乡村“双创”, 期待电商_____。

填入横线上的词语最恰当的是 ()。

- A. 源源不断 快马加鞭
B. 接踵而至 快马加鞭
C. 接踵而至 一马当先
D. 源源不断 一马当先

25. 业内人士认为, 虐童案频发_____了我国未成年人监护制度的_____, 受害儿童的监护人未能履行应尽义务, 甚至侵害未成年人的合法权益, 即使不构成犯罪, 也会给未成年人的心灵造成创伤。

在空格处选填最恰当的字是 ()。

- A. 显示 隐患
B. 凸显 软肋
C. 揭示 顽疾
D. 呈现 漏洞

26.为了更好地完成这项改制，司法部将公正改革列为全年司法行政改革重点督查任务，建立_____制度，并派出督查组赴全国一半以上省份实施指导_____公证改革工作。

填入划横线部分最恰当的一项是（ ）。

- A.通告 催促
B.报告 督促
C.通报 督促
D.通知 催促

27.王云五，果然_____，上任伊始就进行内部_____，使“商务”各项事业蒸蒸日上，取得有目共睹的成效。

填入划横线部分最恰当的一项是（ ）。

- A.不负众望 整合
B.不负众望 整治
C.不孚众望 整饬
D.不孚众望 整顿

28.这世界并没有_____的事情，我们都要做好长跑的准备，让自己去享受和体会过程带来的成长。每天只跟昨天的自己赛跑，为每天自己的进步而_____，哪怕只是一点点。

填入划横线部分最恰当的一项是（ ）。

- A.顺其自然 大喜过望
B.轻而易举 沾沾自喜
C.一挥而就 兴奋不已
D.一蹴而就 欢呼雀跃

29.梁羽生多秀文隽语，古龙多格言警句，要从他们的作品中摘编几本《梁羽生豪语》、《古龙妙语》，真可以说是_____，俯拾皆是。可偏偏轮到金庸，想编一本《金庸侠语》，竟是_____。

填入划横线部分最恰当的一项是（ ）。

- A.来之不易 难上加难
B.举手之劳 百般刁难
C.信手拈来 难乎其难
D.易如反掌 难分难舍

30.当今世界，和平与发展仍是时代主题，但面临的不稳定不确定性_____，世界经济复苏进程仍不稳固，地区热点问题此起彼伏，恐怖主义等非传统安全威胁持续蔓延。在此背景下，东亚和平稳定的局面来之不易，应倍加_____。

填入划横线部分最恰当的一项是（ ）。

- A.突出 珍惜
B.凸出 关怀
C.突出 关注
D.凸出 关心

二、阅读理解：共 20 题。请根据题目要求，在四个选项中选出一个最恰当的答案。

请开始答题：

31.港闸是南通市生产性服务业持续发力的一个缩影。2016 年，全市物流业实现增加值 366 亿元，南通供销产业发展有限公司成为南通市第 2 家 5A 级物流企业；金融业增加值占比达到 12.8%，储蓄存款增量继续在全省稳居第一；新增科技服务机构 46 家，科研和技术服务业应税销售增幅达 59.6%，居服务业各行业之首。与此同时，南通市新兴服务业发展迅速，生活性服务业加快提升。2016 年 7 月，全球领先的企业数据、分析和软件服务商——安客诚宣布以 3.1 亿美元收购 LiveRamp 公司，助力线上线下用户数据实现更精准匹配、更优化连结、更快速识别。完成收购后，安客诚位于南通市的全球服务中心借助本地的优势资源，成为安客诚在中国及全球数据外包服务的重要支撑。

与这段文字相符的一项是（ ）。

- A.南通供销产业发展有限公司在南通 5A 级物流企业排名第二
B.南通市物流业增加值达两成以上
C.南通市生产性服务业持续发力，相关行业迅速发展
D.安客城是南通市最大的数据收集公司

32.近年来，西安、上海等多地曝出排队摇号入园问题。有的一个小区住户近千，配套的幼儿园却只有每学期几十人的招生名额；有的两三个小区只配建一个幼儿园，僧多粥少让不少孩子面临“无园可上”的窘境。不仅公共服务设施严重不足，而且服务能力和水平也较低，入园“摇号”、入学“大班”、就医“扎堆”等现象普遍。新城越建越大，居民越来越多，公共服务配套建设却成“短腿”。公共服务存在软肋，凸显一些城市管理者规划理念重“面子”轻“里子”，对教育、医疗等合理民生需求重视不够。

这段文字意在说明（ ）。

- A.入园难成为了让大家措手不及的问题
- B.我国的公共服务还存在很多漏洞需要填补
- C.我国的公共服务处于起步阶段，存在问题是在所难免的
- D.城市管理者应该重视规划理念的内涵，重视民生需求

33.“你好”的影响力不断提升，也是中国国际地位和汉语传播活动的必然结果，仅仅是十几年前我在德国工作时，走在大街上时不常会有人朝你说一句“こんにちは，几乎从来没听到过“你好”，而现在已经是“你好”的天下了，在经济实力作为后盾的大前提下，我们的人民，我们的人民币，以及我们的汉语，都浩浩荡荡走出了国门，如今不是有种说法吗？外国上流社会的孩子们流行什么？学汉语！英国的王子，西班牙的王储公主都加入进来了。至于普通老百姓，那也是激荡在世界潮流中了。不管是餐厅服务员，商店售货员还是海关公务员，看见东亚面孔的第一反应，估计就是祭出他们的“你好”这个法宝。

这段文字的主旨是（ ）。

- A.汉语在国际上的影响力不断上升
- B.国外掀起了学习汉语的狂潮
- C.中国国际地位的提升主要是受到汉语学习热的影响
- D.汉语已经赶超日语等语种，成为通用语

34.互联网不仅催生了新业态、新模式，还让众多传统产业再现生机活力。各行各业都在发挥信息化对全要素生产率的提升作用，推动互联网和实体经济深度融合。一大批具有创新活力的互联网企业纷纷涌现，阿里巴巴、腾讯、百度、华为等一批网信企业的国际影响力日益提升，摩拜正在为全球超2亿用户提供互联网绿色出行服务。2016年，在全球互联网企业市值前20强中，我国企业占据了7席。第三十九次《中国互联网络发展状况统计报告》显示，截至2016年12月底，我国境内外互联网上市企业数量达到91家，总体市值为5.4万亿元人民币。同时，互联网为国家扶贫帮困发挥重要作用。2016年10月，中央网信办等部门联合印发《网络扶贫行动计划》，提出实施“网络覆盖工程、农村电商工程、网络扶智工程、信息服务工程、网络公益工程”五大工程，使脱贫攻坚事业更广泛、得更强劲、更迅捷地推进。

与文段内容不相符的是（ ）。

- A.互联网促进了传统产业的再发展
- B.摩拜在我国拥有2亿用户
- C.互联网有助于国家开展扶贫帮困工作
- D.《网络扶贫行动计划》提出的五大工程推动了脱贫工作的开展

35.家长们都试图主动去建立一道道防线，去抵挡外界对孩子们的伤害。但事实上，生活中有太多常人难以想象的“漏洞”存在，让风险不只是来自于外界，更有可能存在于家中。尤其是在随着互联网、技术的发展，越来越多的儿童玩具也跟上了潮流，能够通过各种形式联网，并美其名曰“让孩子提早接触高科技产品”。不过据外媒报道，这些联网玩具极有可

能被黑客、骗子入侵，进而造成一定的风险。成为骗子入侵下一个窗口的联网玩具，是时候反思下一步应该怎么走了。

这段文字的意图是（ ）。

- A. 联网玩具需要重新思考未来的发展方向
- B. 联网玩具是骗子行骗的新工具
- C. 家长不应该借口让孩子接触高科技而给孩子买联网玩具
- D. 生活中的安全漏洞太多，让人防不胜防

36. 停车场是门好生意吗？也许在很多人看来，停车场无非是出租场地的简单交易，同时伴随近年来停车费的不断高涨与停车需求的激增，作为停车场经营方似乎“躺着就能收钱”。其实不然。现实中不少停车场盈利艰难甚至面临亏损，总结下来，由于技术、设备和管理局限，不少停车场存在着财务管理、设备稳定、数据保护三个方面的安全隐患，不仅增加了运营管理的难度，更带来实际的金钱损失和纠纷，使得管理者颇为头痛。

这段文字的主要内容是（ ）。

- A. 停车场是否是门好生意仁见智
- B. 停车场因多个因素的制约并不是一门好生意
- C. 停车场运营管理方面存在很多难题
- D. 停车场生意应该形成产业化

37. 下列各句中，有语病的一句是（ ）。

A. 本届民族运动会选择在广州举办，不仅在该赛事的办赛途径和方向上体现了新意，而且在促进不同地区的相互交流学习上起到积极作用。

B. 人类文化史上的大浩劫——秦始皇的焚书、中世纪的精神桎梏、各个王朝的文字狱、法西斯对文化的杀戮——并不曾使任何一个时代、任何一个民族的文化真正中断、灭亡。

C. 滥用外来语所造成的支离破碎的语境，既破坏了汉语文字的严谨与和谐，影响了汉语表意功能的发挥，也消解了中国文化精深而丰富的内涵。

D. 摄影家们把自己对山川、草木、城市、乡野的感受与作家不同，没有倾注于笔下，而是直接聚焦于镜头。

38. 下列各句没有歧义的一项是（ ）。

- A. 游击队对敌人的袭击有充分的准备
- B. 本市市长、市委书记和其他市领导同志出席了揭幕仪式。
- C. 孩子们很喜欢离休干部王大伯，一来到这里就有说有笑，十分高兴。
- D. 三所学校的校长参加座谈。

39. 下列各句所用的修辞手法判断有误的一项是（ ）。

- A. 横眉冷对千夫指，俯首甘为孺子牛（对偶）
- B. 他发现是我，头摇得像拨浪鼓似的（比喻）
- C. 兴安岭多么会打扮自己呀：青松作衫，白桦为裙，还穿着绣花鞋。（拟物）
- D. 山朗润起来了，水涨起来了，太阳的脸红起来了。（排比）

40. 任何时候，广告都不能成为表演虚假疗效的舞台。一则医药广告，疗效内容归国家食药监部门负责，播出审查归国家广电部门，广告营销交由工商部门监管。九龙治水的监管，会不会纵容打“擦边球”的行为？重宣传、轻研发，药企能否真将患者安康挂心间？“疾病有成千上万种，但健康只有一种。”其实，对医药公司而言，祛除病痛、护卫健康不仅是对患者的承诺，也是安身立命之本。因为无论如何，比营销更重要的是疗效，比利润更难得的是口碑。

这段文字重在说明（ ）。

- A.医药公司应该以重研发、保护群众健康为立身之本
- B.九龙治水的监管不利于医药公司的发展
- C.虚假广告是医药公司发展的最大瓶颈
- D.医药代表应该提升自身素养

41.今年“双11”期间，商家赚得盆满钵满，天猫成交1600多亿，京东1200多亿，消费者也玩的不亦乐乎，可这数千亿的网购大潮之后，大量快递包装正制造巨量垃圾，由此带来的生态问题不容小视。据统计，在2015年，中国消耗了99.22亿个包装箱，169.85亿米胶带以及82.68亿个塑料袋，其中胶带的长度可绕地球赤道数百圈，如果按照每个包装箱0.2公积估算，这些快递就会产生包装垃圾400多万吨。如果快递不尽快使用绿色包装，将会使地球的生态问题变得更加严重。

这段文字的主旨是（ ）。

- A.“双11”期间电商成绩喜人
- B.快递需要使用绿色的包装
- C.“双11”疯狂后，中国正面临一场生态灾难
- D.对地球的伤害终究会回到人类自己身上

42.多元主体参与治理的困境、动力、结构、机制为我们认识我国公共体育服务参与治理逻辑和制度安排提供了极好的视角。事实上，这一过程是现代全球步入治理时代的长波进程和本土社会转型的特殊脉动两股力量交织扭结的现实结果，因此考察作为“制度框架”的中国多元主体参与公共体育服务协同治理机制时，也同时要关照全球特别是发达国家的治理制度嬗变逻辑与国内治理模式的嬗变事实两个维度。

这段文字想告诉我们的是（ ）。

- A.长波进程是本土社会转型的结果
- B.治理困境、动力、结构、机制是认识我国公共体育服务参与治理逻辑
- C.中国多元主体参与公共体育服务协同治理机制要关照国际国内两个维度
- D.全球特别是发达国家的治理制度嬗变逻辑有助于公共体育服务参与治理

43.多元主体参与治理的困境、动力、结构、机制为我们认识我国公共体育服务参与治理逻辑和制度安排提供了极好的视角。事实上，这一过程是现代全球步入治理时代的长波进程和本土社会转型的特殊脉动两股力量交织扭结的现实结果，因此考察作为“制度框架”的中国多元主体参与公共体育服务协同治理机制时，也同时要关照全球特别是发达国家的治理制度嬗变逻辑与国内治理模式的嬗变事实两个维度。

这段文字想告诉我们的是（ ）。

- A.长波进程是本土社会转型的结果
- B.治理困境、动力、结构、机制是认识我国公共体育服务参与治理逻辑
- C.中国多元主体参与公共体育服务协同治理机制要关照国际国内两个维度
- D.全球特别是发达国家的治理制度嬗变逻辑有助于公共体育服务参与治理

44.怎么理解自黑的行为？平时在看电视报道或是各种书籍的时候，我们总是乐于看见对于别人的赞美，似乎很多人都是只有优点没有缺点的。但是，也有一种人，他们不会每次都展现自己好的一面，也乐意分享自己的不好面给别人。这种情况我们就称为“自黑”。而心理健康专家解释，乐于自黑的人，心胸是真的豁达。并且喜欢自黑的人，往往比较幽默，有内涵。不是有人说过，敢于直面自己的不足，用自己的不足为别人增添笑料的人，才是最勇敢的人。

下列说法与原文不相符的是（ ）。

- A.自黑的人乐于分享自己的不足
- B.幽默往往是喜欢自黑的人的特点
- C.喜欢自黑的人并非没有优点
- D.喜欢自黑的人不会展现自己好的一面

45.经过多年的发展，我国主题公园自主品牌开始崛起，多家机构预测我国主题公园市场未来将超过美国成为全球最大市场，不过，也有一类声音说，我国主题公园对中华优秀传统文化的挖掘和融合能力仍然较弱，具有高质量规划和有长远发展能力的主题公园仍然凤毛麟角，同质化、低文化、少规划等问题成为多数主题公园的普遍现象，借机炒作现象突出。专家建议，制定中长期发展规划，及时规范行业发展，突出文化主题，加强与传媒、影视、动画、游戏等产业的融合。

下列表述符合原意的是（ ）。

- A.我国的主题公园热衷于炒作
- B.想要在全球主题公园行业做到领先，我们还有很多问题需要解决
- C.我国主题公园市场超过美国成为最大市场
- D.只要加强产业融合，主题公园行业便可良性发展

46.如今，很多城市的商场和医院等场所都陆续设置了女性专属停车位，这种车位会比普通车位更宽、更长，旁边无障碍物。“女性专属停车位”一出现，很快就让很多人联想到“马路杀手”“女司机”这一类带有偏见色彩的标签，他们认为这是一种性别歧视。但我认为，“女性专属停车位”更加宽敞，并且在车位难找的当下为女性提供了专项便利，这无疑关照而不是歧视。

作者对于设置“女性专属停车位”的观点是（ ）。

- A.有性别歧视的倾向
- B.马路杀手不应该上路
- C.是关照不是歧视
- D.技术不好的女司机才需要专属停车位

47.现在中国的父母在教育孩子上都很焦虑，总想给他们最好的，买学区房，买贵的手机，书包，送他们去学琴、学书法、奥数、英语……但这样培养出来的孩子反而容易“白眼狼”，也可能并不优秀，还会厌学。著名作家梁晓声日前参加一个书展接受采访时谈到，其实千种万种方法，不如让孩子爱上阅读，最好的家风一定是有读书传统的家风，书架是一个家庭最好的不动产。

最适合做这个文段标题的是（ ）。

- A.读书是最好的家风
- B.中国式教育理念
- C.专访梁晓声
- D.中国式父母会导致孩子厌学

48.近日，住房和城乡建设部负责人王蒙徽表示，到2020年，各城市全面推行垃圾分类制度，基本建立相应的法律法规和标准体系，公共机构普遍实行垃圾分类，作为先行先试的46个城市要初步建成垃圾分类处理系统。“要把垃圾分类工作作为党委、政府的一项重要任务，狠抓落实。”王蒙徽在厦门举行的全国城市生活垃圾分类工作现场会上说，各地区、各部门要加强领导、广泛动员、群策群力，用综合的、全局的思维来系统谋划、统筹协调，加快垃圾分类工作。到2035年，各城市全面建立垃圾分类制度。

最适合做上面一段新闻标题的是（ ）。

- A.到 2020 年我国各城市将全面推行垃圾分类制度
- B.住房和城乡建设部负责人王蒙徽发表重要讲话
- C.厦门举行的全国城市生活垃圾分类工作现场会
- D.各地区全面加快垃圾分类工作

49.音乐是一种神奇的艺术语言，它具有奇迹般的感召性。美好的音乐其实并无年龄的界限，特别是西方音乐史历时近千年积淀下来的伟大经典，应当是每个人一生中都要有所涉猎并热爱的珍宝。就孩子的耐力和接受程度而言，也许还不容易快速消化这种篇幅较大的带有一定思想性、宗教性和文学性的作品。但这些具有一定深度、似乎成人才有“资格”欣赏的作品，本质其实是直达人心。它的目标是终极的，情感也尤其纯粹，孩子洁白无暇的心灵反而往往能真实无碍地感受到，并产生直观的共鸣。

这段文字划线部分的“它”指代的是（ ）。

- A.神奇的艺术语言
- B.不容易快速消化的音乐作品
- C.孩子能产生的直观共鸣
- D.人生中所热爱的珍宝

50.①研究发现，B 族维生素缺乏会导致黏膜损伤，进而引发口腔溃疡

②维生素 B12 对口腔溃疡有一点的治疗效果，可以缓解疼痛，缩短病程，降低复发率

③营养学会理事长说，没有充分的证据表明，服用或涂抹维生素 C 能治疗口腔溃疡

④口腔溃疡反复发作该怎么办呢？

⑤口腔溃疡原因复杂，通常是遗传、免疫、精神、激素水平、药物及食物代谢、微量元素缺乏、口腔菌群失调等多种因素综合作用的结果

⑥网上流传一种说法：“服用维生素 C 或将粉末贴于患处，可治疗口腔溃疡。”这个办法可行吗？

将以上 6 个句子重新排列，语序正确的是（ ）。

- A.④⑥①②⑤③
- B.⑤④⑥③②①
- C.④⑥③⑤①②
- D.⑥①④⑤③②

阅读文章，回答 51-55 题

请开始答题：

《演员的诞生》甫一开播，就成功吸引了人们的眼球，因为“终于有节目说说演技这回事儿了”。从人们的感慨中，我们不难看出，观众对于能看到关于演技的探讨、知道怎样才是好的演技、怎样才能拥有好的演技，是多么的期待。尤其是在“抠图”“念数字”“大用替身”等关于演员表演的负面话题不断出现、一些新生代演员的表演总是备受质疑的今天，认真严肃的讨论演技，不仅是满足观众的期待，也是为演员这个职业正名。

有一本传说中的书，因为周星驰的电影《喜剧之王》而被大家所熟知，但读过的人可能却是寥寥。是的，这就是俄国导演、演员斯坦尼斯拉夫斯基探讨表演的理论著作《演员的自我修养》。其实，翻翻这本书的目录就可以知道，演戏真的是一门学问、是一种艺术。比如，第八章“真实感与信念”，比如第十三章“心理生活动力意向的线”，这背后有复杂的人类心理、艺术理论、自我意识等方面的问题。老话也说，“台上一分钟，台下十年功”，对于表演，思考这些问题，可能就是荧幕背后的基本功。

对于演员而言，认真而深入思考演技的问题，可能也才谈得上严肃地对待表演这件事。毕竟，绝非靠吼就能输出演技，也绝非靠脸就能写入表演史。那些活到老、演到老的演员，

在某种程度上是让人羡慕的，他们不仅有更长的艺术生命，而且也打开了更多的职业可能性。说到底，以什么态度对待自己职业的问题，也决定了在多大程度上能够“可持续发展”的问题。而且，以工匠精神做好表演，不也是对观众负责吗？

这并非是“装”。今天，观众的观影需求日益多样化，在娱乐的需求之外，还有文化的需求，艺术的需求等；在纯粹为偶像买单的粉丝之外，大部分观众越来越关注演员的演技是否到位，剧本是否扎实，制作是否精良。近期一些高口碑的影视作品，无论是一再打破收视纪录的《人民的名义》，还是在网络上收获大批拥趸的《白夜追凶》，都是靠着精湛的演技、跌宕的剧情等让人津津乐道、念念不忘。在表演领域，演技固然可以是生产力、粉丝固然可以成为经济，但不可否认的是，打动人心的永远是那些走心的表演——哪怕一时之间没有那么红。

从这个角度看，《演员的诞生》让“演技”成为一个热词，这就是个好事。但正如一位演员所说，“好演员是一个需要时间和生活阅历锤炼的事情，一个合格的演员必须要有自己的气质和涵养，而不是通过一档节目，炫几个技巧，就能‘诞生’”。的确，一档综艺节目或许能让参与者找回一些作演员的初心，但真正要继续前行，还需要涵养更多的责任意识、工匠精神。而在观众观影需求不断提升的今天，演员们也是时候好好思考思考，如何更纯粹地对待表演，更敬畏地对待事业？

如果将《演员的诞生》也看作一部戏的话，我们希望的还是戏剧本身的内容更丰富一些，戏外乱七八糟的戏份更少一些，让节目真正回归到演技的视角，让演员能在舞台上真正激活表演的细胞。这恰恰是节目本身的定位，也是人们对所有影视剧创作的一种期待。

这正是：演员回归表演，影视方有春天

51.《演员的诞生》吸引受众的原因是（ ）。

- A.嘉宾均是一线明星
- B.认真严肃讨论演技
- C.节目形式耳目一新
- D.演员颜值和素养高

52.好演员是怎样诞生的（ ）。

- A.保持自己的形象
- B.参加综艺节目找回自己的初心
- C.活到老演到老
- D.培养责任感和工匠精神

53.本文主要谈论的是（ ）。

- A.《演员的诞生》吸引观众的原因
- B.观众的观影需求日益多样
- C.演员应如何对待表演
- D.综艺节目如何创新

54.作者认为《演员的诞生》这档节目（ ）。

- A.聚焦演技，能为演员证名
- B.充满争议
- C.关注演技否认演员的颜值
- D.捧红了一批年轻演员

55.以下适合作为本文标题的一项是（ ）。

- A.用匠心赞美生命

-
- B.演员的诞生，要颜值更要“演值”
 - C.演戏是一种艺术
 - D.不忘初心，方得始终

*** 第二部分结束，请继续做第三部分！***



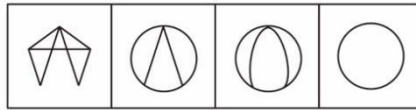
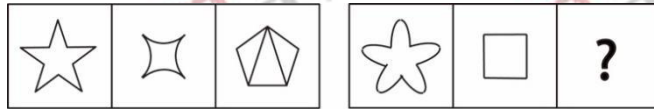
第三部分 判断推理

(共 30 题, 参考时限 25 分钟)

一、图形推理: 共 5 题。请按每道题的答题要求作答。

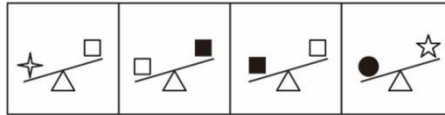
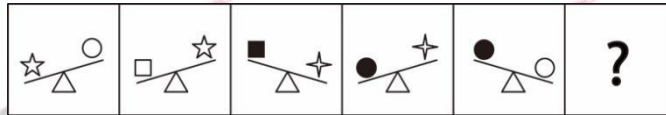
请开始答题:

56. 从所给出的四个选项中, 选择最合适的一项填入问号, 使之呈现一定的规律性()。



A B C D

57. 从所给出的四个选项中, 选择最合适的一项填入问号, 使之呈现一定的规律性()。

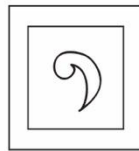


A B C D


58. 把下面的六个图分成两类, 使每一类图形都有各自的共同特征或规律, 分类正确的一项是()。



①



②



③



④



⑤



⑥

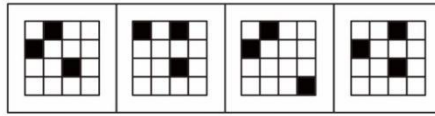
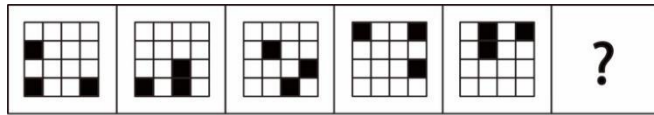
A. ①④⑤, ②③⑥

B. ①③⑥, ②④⑤

C. ①②⑤, ③④⑥

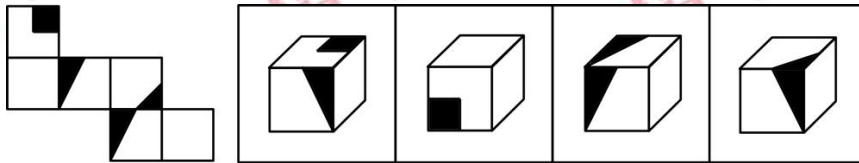
D. ①③⑤, ②④⑥

59. 从所给出的四个选项中, 选择最合适的一项填入问号, 使之呈现一定的规律性()。



A B C D

60. 左边给定的是纸盒的外表面，下面哪一项能由它折叠而成（ ）。



A B C D

二、类比推理：共 5 题。每道题先给出一组相关的词，要求你在备选答案中找出一组与之在逻辑关系上最为贴近、相似或匹配的词。

请开始答题：

61. 隐姓埋名：抛头露面（ ）

- A. 人往高处：人生追求
- B. 袅袅烟云：山崩地裂
- C. 乐此不疲：心猿意马
- D. 方兴未艾：如日中天

62. 沙画：彩沙：艺术品（ ）

- A. 书桌：座椅：家具
- B. 电脑：电源：工具
- C. 素描：单色：作品
- D. 奶油：牛奶：食品

63. 明：明月：失明（ ）

- A. 肥：肥肉：减肥
- B. 学：学习：讲学
- C. 暮：暮天：暮雨
- D. 画：画本：画押

64. 宇航员：太空飞行（ ）

- A. 科学家：细胞实验
- B. 设计师：设计手册
- C. 救生员：水上救援
- D. 理发师：洗发护肤

65. 甜言：蜜语（ ）

- A. 陈词：滥调
- B. 螳螂：捕蝉
- C. 群芳：争艳
- D. 凿壁：借光

三、定义判断：共 10 题。每道题先给出定义，然后列出四种情况，要求你严格依据题目要求作答。注意：假设这个定义是正确的，不容置疑的。

请开始答题：

66. 空间恐惧症是指对相对密闭空间（如电梯、浴室、储物间）产生的紧张感（特别严重者可昏厥），产生的原因是密闭空间使病人焦虑或紧张，从而导致病人会对狭窄的空间产生莫名的恐惧，也将其称为“狭窄空间恐惧症”或是“幽闭恐惧症”。

根据上述定义，下列哪一项属于空间恐惧症（ ）。

A. 小李在高档写字楼上班，由于每天早上电梯里人满为患，他就莫名的感觉喘不过气，心情变得很焦虑。

B. 每次出差在宾馆住，他都会对浴室格外的挑剔，总要尽量选择宽敞明亮而且干净的，最好是有窗户的。

C.在选择工作时，楼层成了他不得不考虑的因素之一，因为乘坐电梯的而产生的不舒适感会让他一上午的工作都受到影响。

D.搬进的新家有一个储藏室，但是他不是很满意，因为没有窗户，打扫时总感觉空气不流通，屋子里面莫名的一股霉味。

67.绿潮是在特定的环境条件下，海水中某些大型绿藻爆发性增殖或高度聚集而引起的一种有害的生态现象，也被视作和赤潮一样的海洋灾害。赤潮是指在特定的环境条件下，海水中某些浮游植物、原生动物或细菌爆发性增殖或高度聚集而引起水体变色的一种有害生态现象。

根据上述定义，下列哪一项属于绿潮（ ）。

A.位于三江交汇的宁波，最近城市中水体富营养化严重，出现了大量绿色藻类漂浮于水面之上。

B.我国某沿海城市引进新的微生物加工工厂不久之后，沿海海水莫名变为绿色并散发出阵阵难闻的味道。

C.青岛栈桥景区大量浒苔随海浪进抵青岛近岸，在栈桥海水浴场大面积堆积，已造成浴场被迫暂时关闭。

D.为了缓解水体污染，某市政府投入大量资金在水体中种植绿色净水植物。

68.安泰效应是指一旦脱离相应条件就失去某种能力的现象。要学会依靠大家、依靠集体。寓意是没有群众的支持，任何支持都是软弱无力的；水失鱼，犹为水；鱼无水，不成鱼。

根据上述定义，下列哪一项不属于安泰效应（ ）。

A.一人拾柴火不旺，众人拾柴火焰高。

B.水能载舟，亦能覆舟。

C.轻霜冻死单根草，狂风难毁万木林。

D.一个和尚有水喝，两个和尚挑水喝。

69.纳什均衡，又称为非合作博弈均衡，是博弈论的一个重要术语，以约翰·纳什命名。在一个博弈过程中，无论对方的策略选择如何，当事人一方都会选择某个确定的策略，则该策略被称作支配性策略。如果两个博弈的当事人的策略组合分别构成各自的支配性策略，那么这个组合就被定义为纳什均衡。

根据上述定义，下列哪一项不属于纳什均衡（ ）。

A.两个囚犯共同作案，警方分别审讯，并分别告知若自己招供而对方不招供，则自己会判刑三个月，对方判刑十年之久；都不招供，则同时判刑一年；若都招供，则同时判刑五年；结果二人均招供。

B.某电视品牌经销商与另一品牌网络播放平台强强联手，共同打造电视销售媒体资源一体化服务，分别取得电视品牌和网络资源平台的绝对优势。

C.一农户在杀鸡前的晚上喂鸡，不经意地说：快吃吧，这是你最后一顿！第二日，见鸡已躺倒并留遗书：爷已吃老鼠药，你们别想吃爷了，爷他妈的也不是好惹的。

D.某女装品牌厂家，率先提出要在价格上作出调整，这打破了女装产品的平衡，各家纷纷作出回应，保持与其价格基本持平。

70.习得性无助是指人或动物接连不断地受到挫折，便会感到自己对于一切都无能为力，丧失信心的心理状态。当一个人发现无论他如何努力，无论他干什么，都以失败而告终时，他就会觉得自己控制不了整个局面，于是，他的精神支柱就会瓦解。斗志也随之丧失。最终就会放弃所有努力，真的陷入绝望。

根据上述定义，下列哪一项属于习得性无助（ ）。

- A. 小李每个月努力工作，可工资仍未见有所起色，最终小明换了一份工作。
- B. 小明因为妈妈不给他买玩具而哭闹，屡试不成，后来在碰到类似的情况不再哭闹了。
- C. 小红上课经常打瞌睡，后来实在坚持不住了，趴在桌子上睡着了。
- D. 小王找工作过程中，屡遭失败，最后她选择逃避现实，不再寻找工作，安心在家成为啃老一组。

71. 责任分散效应也称为旁观者效应，是指对某一件事来说，如果是单个个体被要求单独完成任务，责任感就会很强，会作出积极的反应。但如果是要求一个群体共同完成任务，群体中的每个个体的责任感就会很弱，面对困难或遇到责任往往会退缩。

根据上述定义，下列哪一项属于责任分散效应（ ）。

- A. 司马光砸缸
- B. 当局者迷，旁观者清
- C. 墙倒众人推
- D. 三个和尚没水喝

72. “霍桑效应”就是当人们在意识到自己正在被关注或者观察的时候，会刻意去改变一些行为或者是言语表达的效应。比如让员工将自己心中的不满发泄出来，由于受到额外的关注而引起绩效或努力上升等。

根据上述定义，下列哪一项属于霍桑效应（ ）。

- A. 一班同学考试的过程中，有监考老师和没监考老师一样井然有序。
- B. 王总在大家面前表扬了小李后，在后半年的工作中，效力的业绩明显比上半年还好。
- C. 在这次的总结报告会上，陈总讲话时，台下员工议论纷纷，但他依然保持原计划完成了自己的讲话。
- D. 杨某作为在模特界经验丰富的老模特，这次拍国际杂志样片时，即使众人围观，依然从容淡定。

73. 蘑菇定律是指初入世者常常会被置于阴暗的角落，不受重视或打杂跑腿，就象蘑菇培育一样，接受各种无端的批评、指责、代人受过，得不到必要的指导和提携，处于自生自灭过程中。蘑菇生长必须经历这样一个过程，人的成长也肯定会经历这样一个过程。这就是蘑菇定律，或叫萌发定律。

根据上述定义，下列哪一项属于蘑菇定律（ ）。

- A. 小 A 刚来到新的环境，总认为别人在欺负她，因此自暴自弃，没多久就选择了离职。
- B. 小 B 换了工作之后，如鱼得水，他自己也暗自庆幸，终于有可以大展拳脚的新天地。
- C. 小 C 在某企业工作多年，却一直都不被重视，领导总是把跑腿的活交给他，同事也总是尖酸刻薄的对他。
- D. 小 D 换的新工作并不顺心，同事总是把自己的工作推脱给他，领导也总是把琐碎打杂的工作交给他做，完不成总是受无端的批评。

74. 混合农业是种植业和畜牧业相互结合、兼而有之的综合性农业。即个别地区和个别农场，生产农作物和牲畜两种产品。该农业类型由来已久，是在经历了植物培育和动物驯化后开始出现的。在工业化带动下的农业大发展时期，发达国家开始专门种植饲草料，使种植业和畜牧业愈益向专业化方向发展。

根据上述定义，下列哪一项不属于混合农业（ ）。

- A. 澳大利亚多为家庭农场，规模大，机械化水平高。种植玉米只需一两个人便可完成，同时农场中剪羊毛所需人力也很少，且只需一两天便可完成。

B.中国南方很多农户在自家水稻田中养鱼,鱼可以吃掉稻田中的害虫和杂草,排泄粪肥,翻动泥土促进肥料分解,为水稻生长创造良好条件。

C.北方有些农户在自己家稻田中养鸭,提高水稻有机化程度,减少化肥、农药的公害,以期实现水稻纯绿色生产。

D.我国南方丘陵地区种植粮食作物的农田大多分布于平地 and 缓坡上,葡萄园和油橄榄、无花果多种植在丘陵地。

75. 所谓归纳推理,就是根据一类事物的部分对象具有某种性质,推出这类事物的所有对象都具有这种性质的推理,叫做归纳推理。归纳是从特殊到一般的过程,它属于合情推理。

根据上述定义,下列哪一项不属于归纳推理()。

A.月晕而风,础润而雨

B.天上鱼鳞斑,晒谷不用翻

C. $3+2>3$

D.好人有好报

四、逻辑推理:共10道。每道题给出一段陈述,这段陈述被假设是正确的,不容置疑的。要求你根据这段陈述选择一个答案。注意:正确的答案应与所给的陈述相符合,不需要任何附加说明,即可从陈述中直接推出。请开始答题:

76.某拳击俱乐部为了一次比赛进行一次封闭的魔鬼训练,为了检测训练效果,该俱乐部进行一次内部对抗赛,几位教练对进入决赛的人选进行预测,安教练说:“我看甲和乙能进入决赛”。白教练说:“我看丙能”。菜教练说:“丙训练时间短,底子还弱,我看不行”比赛结束后发现只有一个教练猜错了,由此下列哪项为假。()

A.甲没进入决赛。

B.安教练预测正确。

C.无法确定那位教练预测错误。

D.甲和乙都进入决赛。

77.某知名企业为了增加员工的业务能力,决定让部分入职在两年以内所有员工都参加在星期天举办的少数民族语言培训。由于年底各部门主管领导同意本周周末举行聚餐活动。所有参加少数民族语言培训的员工都反对在本周举行聚餐。由此可以得出:()

A.各部门主管都是入职两年以上。

B.有的部门主管是入职两年以内。

C.所有参加少数民族语言培训的都是入职两年以内的。

D.有些入职两年以内的不是部门主管。

78.农村想要致富就必须要把交通条件提高,想要提高交通条件就必须修路,修路需要大量的资金,农村不可能有大量资金,想要有资金就只有靠政府的大力支持。由此可以得出:()

A.只要政府大力支持,农村就能致富。

B.如果政府不支持,农村就不能致富。

C.如果有大量资金,农村就能致富。

D.农村没有成功致富,一定是政府不支持。

79.小梅是刚刚拿到驾照的新手,一次违法停车被警察抓到后,警察对她说对于你要么扣分,要么罚款。同时小梅也知道现在她的驾驶证只剩一分了,如果再扣分就要重新学习。

而小梅身上的钱也不够缴纳罚款的，想要缴纳罚款就要去银行取钱。最后小梅没有重新学习驾驶。由此可以得出：（ ）

- A.小梅选择了扣分。
- B.警察既没有扣小妹分，也没有罚款。
- C.小梅去银行取钱交了罚款。
- D.警察扣了分也罚款了。

80.并非所有女司机开车都一定是危险的。据此我们可以得出（ ）

- A.有的女司机开车可能是不危险的。
- B.所有女司机开车都是不危险的。
- C.必然有的女司机开车是危险的。
- D.有的女司机开车是危险的。

81.随着人们生活水平的提高，健身成为了提高生活质量的又一新途径。深蹲在健身中是不可或缺的一部分，深蹲可以提高腿部力量，降低腿部脂肪，起到增肌减肥的作用，同时也是加强身体核心肌肉的主要方式。具有简单，方便，不受地点和器械限制等优点。同时也有反对者认为深蹲对于技术要求较高，错误的深蹲姿势对身体损伤大。除下列哪项外，均能支持反对者的观点。（ ）

- A.根据研究结果表明不正确的深蹲姿势可能会对运动者的半月板造成永久性的不可逆转的损伤。
- B.有不少人表示在坚持深蹲后腿部变得越来越粗，而且很难再瘦下来。
- C.研究表明：错误的深蹲方式会严重影响深蹲的效果，并且有很大的副作用。
- D.深蹲的动作很简单，但是正确的深蹲姿势很难快速学会，很多人都是使用错误的深蹲姿势。

82.某企业所有的销售部员工都参加了运动会。因此有的男生不是销售部门。为使上述论证成立，关于该中学高中部学生的断定必须假设的是（ ）。

- A.所有销售部的都不是男生。
- B.参加运动会的员工都是销售部
- C.所有男生都参加了运动会。
- D.有些男生没参加运动会。

83.研究表明酒类中的主要成分乙醇，乙醇是肝脏的慢性杀手。而西红柿中富含的维生素B可以减少酒精在代谢过程中对肝脏的损伤。因此有人认为常吃西红柿能让酗酒人的肝脏远离酒精的损害。以下如果为真，最能支持上述论证的是（ ）

- A.维生素B易于被人体吸收。
- B.西红柿含有其他有益于人体的物质。
- C.常吃西红柿的人比不常吃西红柿的人肝功能好，
- D.酒精在代谢过程中还会生其他对身体有害的物质。

84.面对能源危机，一些国家开始寻找替代能源，电能是目前国际上公认的优质能源。在吉林省西北部风力资源丰富，所以很多专家指出，在吉林省西北部可以大力发展风力发电。下列哪项如果为真，不能削弱上述结论？（ ）

- A.风力发电产生的电量不稳定，容易损坏用电器。
- B.风力发电的主要部件风车会破坏当地环境。
- C.风力发电设备需要高昂的成本。
- D.用于风力发电的风车会占据大量的耕地，造成耕地的浪费。

85.今年夏天松原市地震频发，松原市也是吉林省著名的是石油产地，很多人认为松原地震频发是过渡开采石油所导致的。下列哪项如果为真，不能削弱上述结论？（ ）

A.松原地区属于浅层油田，一般油田深度在低下 3000 米左右，而震源深度在 12000 米左右。

B.松原地区处于太平洋地震带的延展带上，近几年该地区的板块相对活跃，这是松原地震的主要原因。

C.在开采石油时会向地下注水，会降低板块之间的摩擦力，加速板块运动。

D.目前科学调查显示，石油开采与当地的地震无关。

*** 第三部分结束，请继续做第四部分！***

第四部分 数量关系与资料分析

(共 20 题, 参考时限 20 分钟)

本部分包括四种类型的试题:

一、数量关系: 共 10 题。请你仔细观察数字规律及文字表达, 从四个选项中选出你认为最合理的一项来填补空缺, 或者充分利用所给条件, 寻找解决问题的捷径。

请开始答题:

86.3, 12, 130, 56, 740, ()

A.126

B.134

C.840

D.856

87.2, 4, 18, 66, 252, ()

A.845

B.718

C.954

D.982

88.127, 220, 349, 520, ()

A.739

B.750

C.810

D.900

89.322, 525, 830, 1338, 2151, ()

A.3469

B.3286

C.3472

D.3675

90.-2, 0, 5, 16, ()

A.24

B.28

C.32

D.39

91. 一个小朋友用积木摆成金字塔, 每层比它的上一层多一个, 从最上面开始数, 每层都从左边向右数, 积木的颜色分别是赤橙黄绿青蓝紫赤橙黄绿……已知该塔有 9 层, 且第一层只有一个, 问最底层右边数第二个是什么颜色? ()

A.赤

B.橙

C.黄

D.绿

92. 今年 (2015 年) 爸爸的年龄是女儿的 7 倍, 一家三口的年龄和为 70, 且爸爸的年龄是妈妈现在的年龄的时候, 女儿刚好出生。已知爸爸出生于 80 年代, 问, 妈妈出生于哪一年? ()

A.1982

B.1983

C.1984

D.1985

93. 由于科技的高速发展, 火车都进行改造, 减少硬座, 增加卧铺。现有一列火车, 其硬座价为 175 元, 卧铺为 280 元, 但是每改成一个卧铺就会产生 10 元的成本费。现在把一个具有 108 座的硬座车厢改成 72 铺的卧铺车厢, 问修改后第一次运行增加了多少收益? ()

- A.360
C.540
- B.450
D.640

94.甲乙两个仓库共有货物 120 吨, 如果从甲仓库调出 20 吨到乙仓库, 那么此时乙仓库是甲仓库的 3 倍。甲仓库原有货物多少吨? ()

- A.40
C.60
- B.50
D.70

95.双十一商场进行折扣活动。满 100 元省 10 元, 满 200 元省 30 元, 满 300 元省 60 元。买的商品大于 400 的消费, 折算成 400 元以下各个优惠去处理。一个顾客买了一件裤子付了 180 元, 现在如果他买价格相同的三件商品应该付多少钱? ()

- A.450 元或 510 元
C.450 元或 500 元
- B.480 元或 510 元
D.480 元或 520 元

二、资料分析: 共 10 题。你应根据资料提供的信息进行分析、比较、计算、处理。

请开始答题:

根据下面资料回答 96-100 题。

2015 年, 全国文化及相关产业增加值 27235 亿元, 比上年增长 11%, 比同期 GDP 增速高 4.6 个百分点, 在 2014 年增长 12.2% 的基础上继续保持两位数增长, 同时增速远高于同期 GDP 增长, 呈快速增长态势; 对 GDP 增量的贡献达 6.5%, 比上年提高 1 个百分点, 文化产业发展活力突显, 已成为当前经济增长的亮点之一; 2015 年文化产业增加值占 GDP 的比重为 3.97%, 比上年提高 0.16 个百分点, 达到历史新高, 近年来呈稳步提升态势, 在推动经济发展、优化产业结构中发挥着越来越重要的作用。

2015 年, 代表文化内容的“文化产品的生产”创造的增加值为 17071 亿元、占 62.7%, 而“文化相关产品的生产”创造的增加值为 10165 亿元、占 37.3%; 且“文化产品的生产”作为我国文化产业的主体, 增速达 13.4%, 远高于“文化相关产品”的 7.1% 增速。从产业类型看, 文化制造业增加值 11053 亿元, 比上年增长 8.4%, 占 40.6%; 文化批发零售业增加值 2542 亿元, 增长 6.6%, 占 9.3%; 文化服务业增加值 13640 亿元, 增长 14.1%, 占 50.1%, 文化服务业的较快发展, 使其占比得到提高, 目前已超过一半。

96.2014 年文化产业增加值占 GDP 的比重为 ()。

- A.4.13%
C.3.81%
- B.3.97%
D.3.24%

97.2015 年全国 GDP 增长量约为 () 百亿元。

- A.384
C.483
- B.415
D.512

98.与 2014 年相比, 2015 年文化服务业增加值占全国 GDP 的比重 ()。

- A.上升了
C.持平
- B.下降了
D.无法判断

99.2015 年, 文化制造业增加值与文化批发零售业增加值之和约为文化服务业增加值的 () 倍。

- A.1
C.2
- B.1.5
D.2.5

100.2015 年, 下列选项中增幅最大的一项是 ()。

- A.文化产品的生产增加值
B.文化相关产品增加值

C.文化制造业增加值

D.文化服务业增加值

根据下面资料回答 101-105 题:

2016 年 10 月份社会消费品零售总额主要数据

指 标	10 月		1-10 月	
	绝对量 (亿元)	同比增长 (%)	绝对量 (亿元)	同比增长 (%)
社会消费品零售总额	31119	10.0	269601	10.3
其中: 限额以上单位消费品零售额	13508	7.5	122312	7.8
其中: 实物商品网上零售额	-	-	31740	24.9
按经营地分				
城镇	26893	10.0	231833	10.2
乡村	4226	10.3	37768	10.9
按消费类型分				
餐饮收入	3492	10.0	29105	10.9
其中: 限额以上单位餐饮收入	855	4.7	7409	6.0
商品零售	27628	10.1	240496	10.3
其中: 限额以上单位商品零售	12653	7.7	114903	7.9
粮油、食品类	1324	9.1	12046	11.4
饮料类	190	8.9	1745	10.7
烟酒类	364	7.9	3432	9.0
服装鞋帽、针纺织品	1302	7.5	11310	7.2
化妆品	186	4.0	1780	8.0
金银珠宝	255	2.5	2425	-0.9
日用品	468	9.5	4324	11.2
家用电器和音像器材	793	7.6	7083	7.9
中西药品	701	11.6	6806	12.4
文化办公用品	293	12.7	2564	10.0
家具	262	11.0	2213	13.5
通讯器材	333	3.8	3100	11.7
石油及制品	1649	4.7	15192	0.1
汽车	3453	8.7	31554	9.1
建筑及装潢材料	317	12.3	2633	15.1

101.2016 年 10 月社会消费品零售总额增长了 () 亿元。

A.2530

B.2829

C.3015

D.3110

102.2015 年 1-10 月, 限额以上单位餐饮收入占餐饮总收入的比重为 ()。

A.23.4%

B.15.7%

C.34.5%

D.26.6%

103.下列选项中, 2016 年 10 月份同比增长金额最多的是 ()。

A.汽车

B.家具

C.石油及制品

D.化妆品

104.2015 年 1-10 月实物商品网上零售额约为（ ）亿元。

- A.20534
B.31740
C.25412
D.33564

105.2016 年 1-9 月，日用品零售额同比增幅（ ）。

- A.大于 10%
B.等于 10%
C.小于 10%
D.无法判断

※※※全部测验到此结束! ※※※

