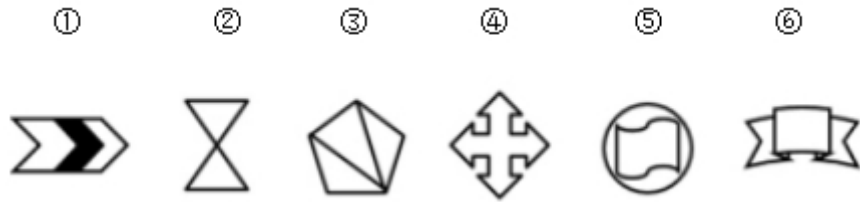
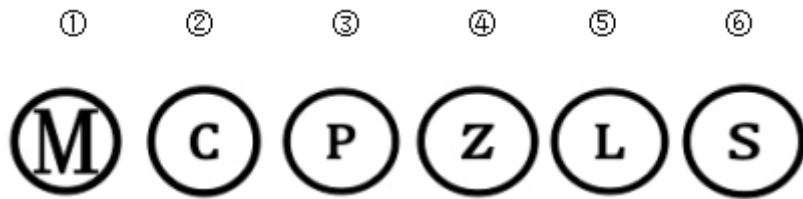


1. 把下面的六个图形分为两类，使每一类图形都有各自的共同特征或规律，分类正确的一项是：




- A. ①③⑥, ②④⑤      B. ①③⑤, ②④⑥  
C. ①②③, ④⑤⑥      D. ①④⑤, ②③⑥

2. 把下面的六个图形分为两类，使每一类图形都有各自的共同特征或规律，分类正确的一项是：



- A. ①②③, ④⑤⑥      B. ①③⑥, ②④⑤  
C. ①④⑤, ②③⑥      D. ①②⑥, ③④⑤

3. 把下面六个图形分为两类，使每一类图形都有各自的共同特征或规律，分类正确的一项是：

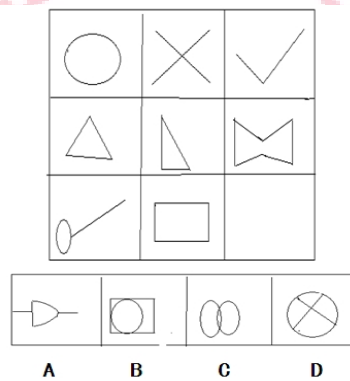


- A. ①②③, ④⑤⑥      B. ①③⑤, ②④⑥

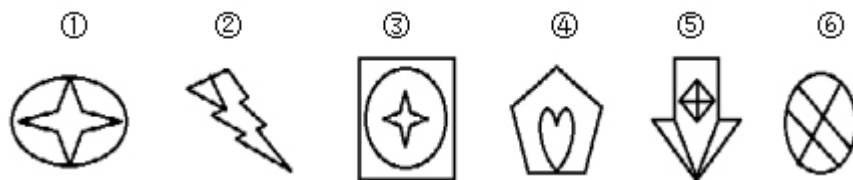
C. ①③⑥, ②④⑤

D. ①④⑤, ②③⑥

4. 从所给的四个选项中, 选择最合适的一个, 使之呈现一定的规律性:



5. 把下面六个图形分为两类, 使每一类图形都有各自的共同特征或规律, 分类正确的一项是:



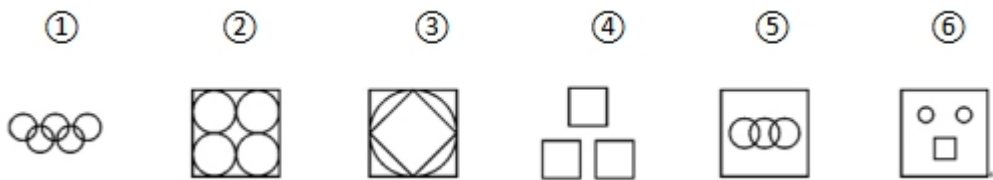
A. ①③④, ②⑤⑥

B. ①②⑤, ③④⑥

C. ①④⑤, ②③⑥

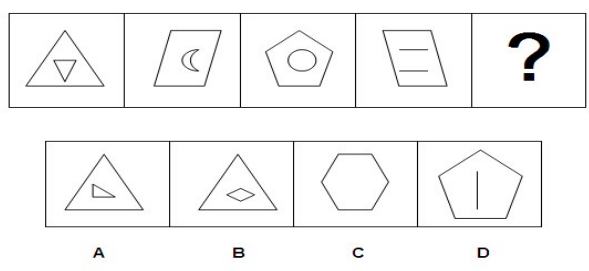
D. ①②④, ③⑤⑥

6. 把下面的六个图形分为两类，使每一类图形都有各自的共同特征或规律，分类正确的一项是：



- A. ①③④, ②⑤⑥    B. ①⑤⑥, ②③④  
 C. ①③⑤, ②④⑥    D. ①④⑥, ②③⑤

7. 从所给的四个选项中，选择最合适的一个，使之呈现一定的规律性：

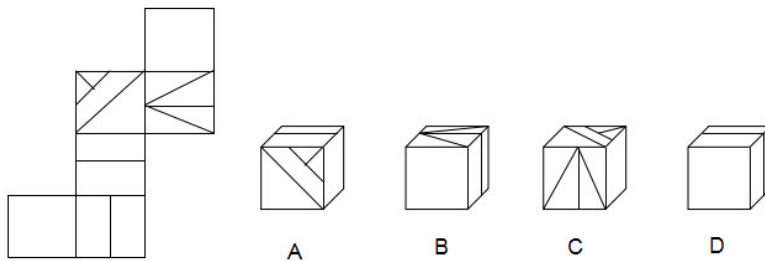


8. 从所给的四个选项中，选择最合适的一个，使之呈现一定的规律性：

忠	国	明
围	旱	?
理	点	图

时	过	圆	多
A	B	C	D

9. 左边给定的是纸盒的外表面，下列哪一项能由它折叠而成？



10. 从所给的四个选项中，选择最合适的一个，使之呈现一定的规律性：

L	e	n	o	v	?
c	k	o	s		
A	B	C	D		

11. 社会保障制度是指在政府的管理之下，按照一定的法律和规定，通过国民收入的再分配，以社会保障基金为依托，为保障人民生活提供物质帮助和服务的社会安全制度。

下列属于社会保障制度范围内的一项是（ ）。

A. 下岗工人在街道办事处帮助下申请了优惠贷款，开办了自己的工厂，为许多下岗职工提供了再就业的机会

B. 市领导在春节前夕探望了本市的孤寡老人，并为他们送去了食品、衣物及彩电等物资，希望他们能度过一个温暖祥和的节日

C. 退休职工李大爷前不久查出了肺癌，手术及其他治疗共花费了十几万元，其中大部分的医疗费用由医疗保险机构报销

D. “希望工程读书室”项目的开展使得边远山区的学校也有了自己的图书馆，那里的孩子们也能读到自己喜爱的书了

12. 亚健康是对生物有机体生理机能状态的一种描述，一般指生理机能处于健康与疾病之间的状态。由健康过渡到疾病需要一个从量变到质变的过程，而在质变发生之前的这个特殊阶段即是亚健康。

下列现象中属于亚健康的一项是（ ）。

A. 老王退休后连续多次在医院体检发现血压很高，但是他从没有感到身体有什么不适

B. 小刘在上周六出去购物时遭遇抢劫，在搏斗中被歹徒用匕首捅伤，现在已脱离生命危险，正在医院进行最后的康复调理

C. 小兵正在读初三，面临升学的压力，他经常熬夜学习，最近感到眼睛看东西有一层雾气，医学专家说这可能是假性近视

D. 小刚的爸爸在单位体检时，发现腹内有肿瘤包块，医生说可能是长期劳累所致，劝其保养，可是他因没有任何外在征兆而并不在意

13. 核心技术能力是企业通过特有的技术要素和技能或各种要素和技能的独特的组合来创造具有自身特性的技术，以产生稀缺的、不可模仿的技术资源（包括技术和知识等）的企业能力。

根据上述定义，下列不属于企业核心技术能力的是（ ）。

- A. Google 公司掌握网络搜索的关键技术
- B. 微软公司掌握操作系统的开发技术
- C. 原 IBM 公司掌握大型超级计算机的制造技术
- D. 联想公司掌握个人计算机的制造技术

14. 脑科学的研究表明，在人脑的发育中存在“关键期”，即人在发展过程中，某一方面在某一阶段发展得最快，比如：3 岁以前是动作发展的“关键期”，1—3 岁是语言发展的“关键期”，4 岁左右是感知图形的“关键期”。在这一时期，脑在结构和功能上都具有很强的适应和重组的能力，易于受到环境的影响。关键期内适宜的刺激和经验是运动、感觉、语言及其他脑功能正常发展的重要前提。

下列利用了“关键期”理论的是（ ）。

- A. 狼孩 10 岁时回归社会，学会了简单的语言
- B. 先天失聪的聋儿在 2 岁时接受语言康复训练，最终学会了说话
- C. 母亲在怀孕期间给腹中的胎儿听音乐
- D. 某体操冠军在 3 岁时就已经被认为具有体操天赋

15. 耕作是指作物种植以前，或在作物生长期间，为了改善植物生长条件而对土壤进行的机械操作，耕作的基本目的有三个：（1）改良土壤结构；（2）把作物残茬和有机肥料掩埋并掺和到土壤中去；（3）清除杂草或其他不需要的植株。

根据上述定义，以下属于耕作的是（ ）。

- A. 在果园里挖排水沟
- B. 喷洒除草剂以清除杂草

- C. 将雨后板结的表土破碎
- D. 冬季在农田里种植绿肥作物

1. 【答案】A

【解析】此题考查属性类，考察图形的对称性。①图形为横轴对称；②图形为横轴和数轴对称，也为中心对称；③图形为斜轴对称；④图形为横轴和数轴对称，也为中心对称；⑤图形为中心对称；⑥图形为数轴对称。因此①③⑥为一组均为轴对称图形，②④⑤为一组均为中心对称图形。因此，选择A。

2. 【答案】C

【解析】考查曲直性规律，①④⑤圆圈内部为直线图形，②③⑥圆圈内部为曲线图。因此，选择C。

3. 【答案】C

【解析】此题考查数量类，数图形素的个数，图形相连部分为一个素。①图形中包含1个素；②图形包含2个素；③图形包含1个素；④图形包含3个素；⑤图形包含2个素；⑥图形包含1个素。因此①③⑥为一组，②④⑤为一组。因此，选择C。

4. 【答案】D

【解析】本题考查数量类中点的数量，题目中九宫格每一横行第一幅图中交点的个数加上第二幅图交点的个数等于第三幅图交点的个数， $0+1=1$ ； $3+3=6$ ； $1+4=5$ ，所以答案选择D。

5. 【答案】D

【解析】本题考查数量类。图形都非常凌乱，可以从数量类的规律考虑分类，数面并未发现规律，可以考虑容易忽略的一笔画题目，发现①②④是一笔画，③⑤⑥是三笔画。因此，选择D。

6. 【答案】D

【解析】①④⑥竖轴对称，②③⑤中心对称。因此，选择D。

7. 【答案】A

【解析】本题考查的是线的数量，但需要将内部线和外部线合起来数，每一幅图中内部线和外部线的数量相加都是6，构成常数数列，因此答案首先排除B。接着考虑内部线的数量分别是3、2、1、2、？，根据对称的数字，最后内部线应该为3，答案选A。

8 【答案】A

【解析】九宫格的图形，观察第一行发现三个字呈现上下结构，左右结构和全包围结构三种形式，第三行三个图形也是呈现这样的结构，只是排列组合的顺序不一样，属于样式类的遍历，观察第二行缺少左右结构的汉字，观察选项，答案是A。

9. 【答案】C

【解析】空间重构题，首先观察相对面，发现无法排除选项。此时考虑相邻面特性，在平面图形向立体图形的转换过程中，相邻面的相对位置保持不变，根据点定位的确定，有公共点确定公共边，可以知道正确答案是C选项。



10. 【答案】C

【解析】本题考查封闭性。其实是联想品牌的字母，封闭性间隔出现，所以应该选择一个封闭的图形，答案选择C。

11. 【答案】C

【解析】社会保障制度的关键点是：（1）以社会保障基金为依托，提供物质帮助和服务；（2）社会安全制度。选项A中“优惠贷款”属于银行贷款，不属于社会保障基金，不符合（2），故排除；选项B市领导的活动属于一次性，没有长效机制，不属于社会安全制度；选项C中，李大爷医疗费大部分由医疗保险机构报销，医疗保险机构属于社会保障基金，符合社会安全制度，符合题意；D选项中，“希望工程读书室”是由希望工程组织的，而不是以社会保障基金为依托，不符合（1）。因此，本题答案为C选项。

12. 【答案】A

【解析】亚健康的关键点是：处于健康和疾病之间的状态；选项A中老王体检发现血压高，但没有发生疾病，符合题干定义；选项B，小刘是被外人可以伤害导致身体受伤，并非疾病，不符合题意；选项C中，小兵已经得了假性近视，并没有处于健康和疾病之间的状态，不符合定义；D选项中，小刚爸爸已经得了疾病，不符合定义。因此，本题答案为A选项。

13. 【答案】D

【解析】本题题干的关键点是“创造具有自身特性的技术”，“产生稀缺、不可模仿的技术资源”。A项中“网络搜索的关键技术”是属于Google公司自身的特性技术，B项的开发技术和C项的制造技术同样都是其对应公司本身的特性技术，均是不可模仿的资源；而D项中的个人计算机制造技术是可能模仿的，不符合题干中对核心技术能力的定义。因此，本题答案为D选项。

14. 【答案】B

【解析】本题题干关键期强调的是某一方面在某一阶段发展最快，3岁前是动作发展，1-3岁是语言发展，4岁是感知图形。A项10岁狼孩已经超出了1-3岁的语言发展关键期，因此没有利用该理论；B项2岁的失聪聋儿接受训练后，最终学会了说话，符合1-3岁是语言发展关键期理论；C项的怀孕期间是在小孩出生之前，不属于关键期的任一阶段，所以不符合题干要求；D项“体操冠军在3岁就已经被认为具有体操天赋”中的天赋是人天生具有的，不是靠后天发展形成的，不符合题干给定的“人在发展过程中存在关键期”这一条件。因此，本题答案为B选项。

15. 【答案】C

【解析】本题题干中耕作强调的是作物种植以前或生长期中，对土壤进行的机械操作，且基本目的有三个。A项挖水沟属于对土壤的机械操作，但其目的不是耕作目的中的任何一个，所以A项不属于耕作；B项喷洒除草剂不是对土壤的机械操作，因此也不属于耕作。C项破碎板结表土是属于对土壤的机械操作，且也满足耕作“改变土壤结构”这一基本目的，因此它属于耕作；D项冬季在农田里种植绿肥作物，不是对土壤进行机械操作，不符合耕作的基本定义。因此，本题答案为C选项。



关注“天津华图”微信公众号：tjhuatu

后台回复“时政”可获取最新时政信息

