

依据2020年公考新大纲编写



国考模拟2套卷



SINCE 2001

华图教育
HUATU.COM



《行政职业能力测验》 标准预测试卷

华图公务员考试研究院 审定

说 明

这项测验共有五个部分,总时限为 120 分钟。各部分不分别计时,但都给出了参考时限,供你参考以分配时间。

请在机读答题卡上严格按照要求填写好自己的姓名、报考部门,涂写准考证号。

请仔细阅读下面的注意事项,这对你获得成功非常重要:

1. 题目应在答题卡上作答,不要在题本上作任何记号。
2. 监考人员宣布考试开始时,你才可以开始答题。
3. 监考人员宣布考试结束时,你应立即放下铅笔,将试题本、答题卡和草稿纸都留在桌上,然后离开。

如果你违反了以上任何一项要求,都将影响你的成绩。

4. 在这项测验中,可能有一些试题较难,因此你不要在一道题上思考时间太久,遇到不会答的题目,可先跳过去,如果有时间再去思考。否则,你可能没有时间完成后面的题目。

5. 试题答错不倒扣分。

6. 特别提醒你注意,涂写答案时一定要认准题号。严禁折叠答题卡!

**停! 请不要往下翻! 听候监考老师的指示。
否则,会影响你的成绩。**

第一部分 常识判断

(共 20 题,参考时限 10 分钟)

根据题目要求,在四个选项中选出一个最恰当的答案。

请开始答题:

1. 下列关于中国共产党历史上的重要会议、召开地点、中心议题搭配正确的是()。
①中共一大——长沙——正式建立中国共产党
②中共二大——上海——进一步讨论和确定党在民主革命时期的纲领问题
③中共三大——广州——讨论全体共产党员加入国民党,建立国共合作统一战线的问题
④中共四大——上海——无产阶级在民主革命中的领导权问题
A. ①②
B. ②④
C. ②③
D. ①③
2. 中国共产党人的初心和使命,就是为中国人民(),为中华民族()。
A. 谋幸福 谋未来
B. 谋幸福 谋复兴
C. 谋未来 谋复兴
D. 谋生活 谋未来
3. 十九届三中全会强调,深化党和国家机构改革要以()为导向。
A. 加强党的全面领导
B. 人民为中心
C. 国家治理体系和治理能力现代化
D. 加强全面依法治国
4. 上海合作组织成员国元首理事会第十八次会议 6 月 10 日在青岛国际会议中心举行。上海合作组织始终保持旺盛生命力、强劲合作动力,根本原因在于它创造性地提出并始终践行“上海精神”,即主张()、尊重多样文明、谋求共同发展。
A. 互信、互利、平等、协商
B. 创新、协调、开放、共享
C. 互信、互利、平等、开放
D. 创新、协调、绿色、开放
5. 以下名句揭示的哲学道理不同的是()。
A. “一分耕耘,一分收获”与“灯不拨不亮,理不辩不明”
B. “世异则事异,事异则备变”与“旧时王谢堂前燕,飞入寻常百姓家”
C. “垃圾是放错了地方的资源”与“耐得寂寞,才能不寂寞;耐不得寂寞,偏偏寂寞”
D. “劈柴不照纹,累死劈柴人”与“橘生淮南则为橘,橘生淮北则为枳”
6. 为遏制房价过快上涨,政府可运用下列()经济手段进行调控。
①调整个人转让住房营业税政策,对个人购买住房不足 5 年转手交易的,统一按其销售收入全额征税

②加大对囤地不建、捂盘惜售、哄抬房价等违法违规行为的查处力度

③落实资金投入和税费优惠等政策,加快保障性住房建设和棚户区改造

④提高第二套住房贷款的首付款比例和利率

A. ①②③

B. ①③④

C. ②③④

D. ①②④

7. 以下不属于宏观经济指标的是()。

A. CPI

B. PPI

C. IMF

D. GDP

8. 下列农谚按其所描写季节的先后顺序,排列正确的是()。

①瑞雪兆丰年

②寒露无青稻,霜降一齐倒

③春打六九头,耕牛满地走

④头伏萝卜二伏菜

A. ③④②①

B. ③②④①

C. ②③④①

D. ④③②①

9. 地球是太阳系的第三颗行星,也是太阳系中直径、质量和密度最大的类地行星。地球内部三个圈层由外到里分别是()。

A. 地核、地壳、地幔

B. 地幔、地壳、地核

C. 地核、地幔、地壳

D. 地壳、地幔、地核

10. 酷暑来临,家住北京的小曼打算去外地度假避暑。下列选项中,适合小曼选为旅行地的是()。

A. 希腊

B. 鹿特丹

C. 青岛

D. 威尼斯

11. “法律如果推不开特权的门,也一定跨不进人民的心。”下列选项与该句体现的含义最接近的是()。

A. 法律不能使人人平等,但是在法律面前人人是平等的

B. 让我们维护公平,那么我们将会得到更多的自由

C. 公正的法律限制不了好人的自由,因为好人不会去做法律不允许的事情

D. 我不同意你说的话,但是我愿意誓死捍卫你说话的权利

12. 下列戏曲与其发源地对应正确的一项是()。

A. 评剧——河北

B. 越剧——江苏

C. 昆曲——上海

D. 秦腔——山西

13. 对下列诗词蕴含的生物学原理解释不正确的是()。

A. 落红不是无情物,化作春泥更护花——生态系统中的物质循环

B. 停车坐爱枫林晚,霜叶红于二月花——枫叶中的糖分转变为花青素

C. 花褪残红青杏小,燕子回时,绿水人家绕——植物的无性繁殖

D. 种豆南山下,草盛豆苗稀——杂草与农作物的种间竞争

14. 下列历史事件之间没有直接联系的一项是()。

A. 独立战争——莱克星顿枪声

B. 法国大革命——热月政变

C. 明治维新——大化改新

D. 英国资产阶级革命——光荣革命

15. 下列我国古代的机构,最早出现的是()。

A. 宣政院

B. 理藩院

C. 军机处

D. 翰林院

16. 下列说法不正确的是()。

A. 抽油烟机的工作原理是将电能转化为机械能,利用空气对流进行空气交换

B. 菜刀柄、锅铲柄、电水壶把手有凸凹花纹是为了使接触面粗糙,增大摩擦

C. 同样的条件下,生鸡蛋一般比熟鸡蛋旋转得快

D. 用砂锅煮肉或烧汤时,当汤水沸腾后从炉子上拿下来,汤水仍会继续沸腾一段时间

17. 下列关于医学疾病的说法不正确的是()。

A. 糖尿病是一种以高血糖为特征的代谢性疾病,需用外源性胰岛素治疗

B. 缺铁性贫血是指机体对铁的需求与供给失衡,导致体内贮存铁耗尽,继之红细胞内铁缺乏引起的

C. 高血压是慢性病,它是心脑血管病最主要的危险因素,“控制高血压”被确定为2016年世界卫生日的主题

D. 肥胖是体内脂肪,尤其是甘油三酯积聚过多而导致的一种状态

18. 下列表述正确的是()。

A. 成年人甲状腺激素分泌过多,会出现地方性甲状腺肿

B. 胰岛素分泌不足容易导致高血糖

C. 幼年生长激素分泌过多容易导致肢端肥大症

D. 鱼肝油可被消化道直接吸收

19. 关于中国人民解放军火箭军,下列说法错误的是()。

A. 火箭军属于陆军军种

B. 火箭军的前身是“第二炮兵”

C. 火箭军是我国战略威慑的核心力量

D. 火箭军首任司令员是魏凤和

20. 随着人们生活水平的不断提高,越来越多的人开始外出旅游。如果在户外无定位的专门仪器,可借助地物来判定方向。下列是判断方位的方法,其中描述不正确的是()。

A. 独立的大树通常南面枝叶茂盛,树皮光滑;北面树叶稀疏,树皮粗糙

B. 森林中空地的北部边缘,青草较稀疏

C. 树桩断面的年轮纹,一般是南面间隔大,北面间隔小

D. 在我国北方草原、沙漠地区附近常形成许多雪龙、沙龙,其头部大尾部小,头部所指的方向是西北

第一部分结束,请继续做第二部分!

欧洲诸国濒临崩溃的经济“起死回生”。然而,无论“垮掉的一代”还是“麦田里的守望者”,战争带来的苦闷、彷徨与孤寂却久久难散。同时,精神的建设又不能寄望于物质的_____ ,有时货币资本的疾进反倒会沦为道德迷惘的推手。

依次填入画横线部分最恰当的一项是()。

- A. 一蹴而就 增加
B. 一挥而就 厚增
C. 一挥而就 增加
D. 一蹴而就 厚增

27. 这种“优美的心灵”对于人生的真正有价值的道德方面的旨趣是漠不关心的,他只_____,像蜘蛛吐丝一样,从自己的肚子织出他的主观的宗教和道德的幻想,一点微不足道的事情就可以使这种人的心情陷于极端绝望的境界。这就产生了永无止境的忧伤抑郁,_____,悲观失望。

依次填入画横线部分最恰当的一项是()。

- A. 关怀备至 心平气和
B. 沉思默想 愤愤不平
C. 置若罔闻 平心静气
D. 痴心妄想 怒火中烧

28. 基本的语文写作能力和文字鉴赏能力,曾经是国人童蒙开训时就反复演习的基础技能,也是知识分子的最基本素养。可如今,年轻人中语言文字使用不规范的事例_____,即便是博士生,拙于文字表达的也_____。年轻一代语文素养的缺失令人痛心。

依次填入画横线部分最恰当的一项是()。

- A. 比比皆是 漏洞百出
B. 司空见惯 参差不齐
C. 多如牛毛 信手拈来
D. 俯拾皆是 屡见不鲜

29. 人们通常认为,幸运的人总是幸运连连处处遇贵人,而倒霉的人常常屋漏偏逢连夜雨,但真相却是,拥有“晴天大脑”的人常常在自己意识不到的情况下便对事情自动加以_____解读,而拥有“雨天大脑”的人则会更多感觉到被前者下意识_____掉的负面信息。日积月累,便会对一个人的生活造成决定性的影响。

依次填入画横线部分最恰当的一项是()。

- A. 侧面 遮蔽
B. 正面 屏蔽
C. 错误 抛弃
D. 正确 舍弃

30. 人类历史的进程是十分缓慢的,即使在今天,人类对自然世界的_____也只能说是九牛一毛。在自然世界面前,人类是十分幼稚和无知的,况且人类有一个很大的弱点——_____。如双轮车辆是公元前 3500 年发明的,距今 5000 多年了。我们小的时候,我们这里的农村仍然在使用这样的车辆。在漫长的 5000 年间,世界上曾生存过多少人,没有人改变这种双轮车,汽车的_____只是近代的事。

依次填入画横线部分最恰当的一项是()。

- A. 认识 贪婪 研究
B. 了解 停滞 运用
C. 认知 惰性 发明
D. 探索 自满 使用

31. 作为一个现代文学研究者,我曾拜读过不少现代作家的传记,惜乎大多都_____着推崇备至的感情、慷慨雄辩的论说和_____传奇的叙事,反让人难以亲近、甚至不免心生疑义,而真正平实且平情的撰作,乃稀见如_____。

依次填入画横线部分最恰当的一项是()。

- A. 弥漫 刻意 凤毛麟角
B. 散布 造作 蚍蜉撼树

C. 散发 随性 寥若晨星

D. 洋溢 散漫 吉光片羽

32. 这也不是说现代社会情感_____,一切都物质化了。联系到近年来一有重大灾难、事故,往往举国关注、八方支援的现实,就可以看出,情怀犹在,而且,陌生人之间彼此关照的范围更大了。网络时代,我们当然有必要坚信有情怀是一件好事,但是情怀只是情感,信任则更需要规则的_____、制度和技术的_____。

依次填入画横线部分最恰当的一项是()。

A. 沦丧 约束 保障

B. 缺位 束缚 保护

C. 沦落 限制 保全

D. 丢失 制约 庇护

33. 中医的诸多理论看似很_____,许多医理药方让人感到费解又神秘,难以捉摸。现代医学以其_____的科学论证不断地质疑中医的科学性,最无可辩驳的一点就是,中医没有进行过大样本随机双盲对照试验。因此关于中医的科学性,迄今为止似乎并没有_____。

依次填入画横线部分最恰当的一项是()。

A. 玄妙 严密 水落石出

B. 奇妙 严谨 昭然若揭

C. 独特 精密 跃然纸上

D. 抽象 严苛 盖棺定论

34. 国学大师周国平说过:“何必用舞台上的_____来掩盖生活中的_____!”确实,命运多舛,世事无常,而真味是淡。一如当烟云褪尽,尘埃落定,邈远静谧处一颗心脏噗噗跳动,那轻微而有力的声音,便是生命最纯净而真挚的呼告。我们只须,俯下身,_____生命浅唱。

依次填入画横线部分最恰当的一项是()。

A. 璀璨夺目 暗淡无光 倾听

B. 流光溢彩 刹那芳华 聆听

C. 绘声绘色 无声无息 谛听

D. 美轮美奂 平淡无奇 轻吟

35. 应该说,“公开”一词,已成_____。从新世纪初开始,这一概念就慢慢_____了中国的政治运行中。2003年的非典,无论对公众还是政府,都是一次大范围“启蒙”。10余年过去,从政府信息公开条例到新闻发言人制度,从政府信息网站到政务微博、微信,公开的理念、方式都在_____。

依次填入画横线部分最恰当的一项是()。

A. 共识 植入 升级

B. 共鸣 融入 更新

C. 默契 进入 改变

D. 定局 步入 革新

36. 钟摆还是太巨大了,并且受地心影响很大,不能倾斜,所以无法携带。这时候,游丝取代了原始的钟摆,这样就形成了以发条为动力、以游丝为调速机构的小型钟。发条技术发明了,时钟的体积大为缩小。1510年,德国的锁匠首次制出了怀表。直到19世纪后半叶,在一些女性手上出现了手镯表,但那时人们只是把它看成是一件首饰。转折点发生在一战爆发后,军方发现怀表已经不能适应作战军人的需要,腕表的生产成为大势所趋。至此,腕表也成为了真正意义上的计时工具。

根据这段文字,下列说法错误的是()。

A. 游丝是小型钟形成的重要因素之一

B. 手镯表并不是真正意义上的计时工具

C. 战争的爆发促使了腕表时代的来临

D. 怀表由于不能满足作战需求而逐渐被淘汰

37. 容貌也是竞争力,如果有人愿意为了那点竞争力承受整容的风险,这也无可厚非。但是如果不良的社会风气、不负责任的媒体将容貌的竞争力强化和夸大,让更多的人走进整容医院,这就不正常了。

文段意在说明的是()。

- A. 人们为了提高自己在社会中的竞争力可以去整容
- B. 人们应该有承受整容风险的心理准备
- C. 不良社会风气和不负责任的媒体宣传误导了人们对整容的认识
- D. 人们应该理性对待整容

38. 中西文化的基本差异之一就是,在人与自然的关系问题上,中国文化比较重视人与自然的和谐统一,而西方文化则强调,人要征服自然、改造自然才能求得自己的生存和发展。中国文化的这种特色,有时通过“天人合一”的命题表述出来。中国古代思想家一般都反对把天与人割裂开来、对立起来,而主张天人协调、天人合一。天人合一问题,就其理论实质而言,是关于人与自然的统一问题,或者说是自然界和精神的统一问题。应当承认,中国传统文化中的天人合一思想,内容十分复杂,其中既有正确的观点,也有错误的观点,我们必须实事求是地予以分析。

根据原文提供的信息,下列推断不正确的一项是()。

- A. 对人与自然关系的认识,中国古代天人合一思想有优于西方文化的地方
- B. 现代人重视和研究天人合一思想,是基于对现实及发展问题的思考
- C. 肯定天人合一思想的合理性,并不意味着对其思想内容的全盘接受
- D. 以天人合一思想为指导,可解决当今世界因工业化带来的各种社会问题

39. 灵感——这位贵宾,他的莅临是没有准时间的,是不可预期的。说不定在白天,也许在深夜,或者在“清醒的世界和睡眠的世界接境的地方”,这都没准儿。他到了的时节,就是在深更半夜,你也会不自主地赶忙从床上翻起身子,用痉挛的手点亮小灯,抓过一条破铅笔来(来不及去找更合适的笔),仿佛“扶乩(一种迷信)”人的手,在随手掣来的一篇破纸上飞速地“记录”着,因为稍一停滞,这位诗神说不定会悠然过去,你便再也无法追回你那无可补偿的损失了。

下列说法与原文相符的是()。

- A. 灵感稍纵即逝,要及时把握住才能创作出优秀的作品
- B. 灵感是创作的核心,无可替代
- C. 灵感总能让人激动不安
- D. 寻求灵感就像“扶乩”

40. 福喜被曝光,公众不得不质疑:为什么这些问题总要等媒体曝光之后监管部门才去查处?难道没有日常的监管吗?业内人士认为,由于企业造假手法非常隐秘,甚至会为了逃避监管制作两本账,在没有内部爆料的情况下,日常监管很难发现,固定证据非常难,需要加强举报和投诉渠道的建设,并实现第一时间回应。但是,虽然企业造假通常都是隐秘的,监管部门也不能以“取证艰难”作为借口推卸责任,而应反思日常抽查等工作机制的有效性。这段文字意在强调()。

- A. 企业造假手法隐秘使得日常监管形同虚设

- B. 很多公众对监管部门的日常监管疑虑重重
- C. 需要加强举报和投诉不法企业渠道的建设
- D. 监管部门应该承担责任改进对企业的监管

41. 一些官员或媒体的言论,民众不爱听,未必是他所讲的全无道理,只是“语言乏味、面目可憎”,让人没有耐心倾听的欲望。之所以如此,很可能是发言者没有深入群众生活,一不知道群众活生生的语言是什么神韵,二不知道群众当前最关注的话题是什么。在传播渠道互动性日益凸显的媒体环境下,发言者如果还只停留于“我说你听”,全然不顾对方的关注点和兴趣点,效果可想而知。

这段文字意在强调()。

- A. 没有实践就没有发言权
- B. 官员或媒体应少讲官话、套话
- C. 官员讲话时要注意与受众增强互动
- D. 官员要深入群众了解其关注点和兴趣点

42. 纵观暑期学生“整形热”的缘由,无论是大四毕业或即将走向大四的学生,为了能在求职中拥有高“颜值”而走进整形医院,亦或是高中毕业生,为应对“艺考”和选择理想专业而前往整形,其实质都是自信心缺失的表现。这里既有在某些人“看脸”选才潜规则下的从众跟风,更有由功利思维导致的审美观扭曲。须知真正的美不在光鲜亮丽的外表,而在顺其自然、与生俱来的天然之美,在于健康活泼、纯洁隽秀的气质之美。

根据这段文字,暑期学生“整形热”的根本原因是()。

- A. 功利思维导致审美观扭曲
- B. 社会不良风气的影响
- C. 对自身缺乏自信心
- D. 自身条件存在缺陷

43. 改革不会让所有人一夜之间都分到足够大的“蛋糕”,但凝聚社会共识的改革,必定将郑重回应人们对于“玻璃屋子”里切“蛋糕”的热切企盼。“民不服吾能,而服吾公”,在努力把发展的“蛋糕”做大做好乃至做美的同时,执起闪耀着公平正义光辉的改革“餐刀”,才能让每一个为发展倾注了心血与汗水的人们,面带笑容地端起自己应得的一份,真正品尝到劳动的甘美与生活的甜蜜。

这段文字意在强调()。

- A. 改革必须凝聚社会共识才能进行
- B. 秉持公平正义才能使改革真正惠及民生
- C. 改革的最终目的是让所有人都分到足够大的“蛋糕”
- D. 既要把发展的“蛋糕”做大,又要把“蛋糕”分匀

44. “枯藤老树昏鸦,小桥流水人家。古道西风瘦马,夕阳西下,断肠人在天涯”,人行千里,心中仍然记挂着故乡,古今多少游子抒发了思乡之情。“叶落归根”的中国情结,让人生前最大的心愿就是能够在故乡安度晚年,让身体和心灵都有一个最温暖的归宿。但事实上却有许多人因为各种因素客死他乡,不能安眠于故土,留下了毕生的遗憾,也留下了感人的故事。

作者接下来最有可能叙述的是()。

- A. 异乡游子的思乡故事
- B. 异乡游子的寻根诗篇
- C. 异乡游子“落叶归根”的愿望
- D. 异乡游子客死他乡的原因

45. 高考已经成为测试社会公平的最敏感的“试纸”，高考考场上出现的任何瑕疵，都可能在公众心中引起最大的不安和不公平感。因此，整饬考场纪律、维护考场秩序和考试公平，保证高考的程序公正是今后相当长时间内都不会过时的任务。

作者接下来最有可能论述的是()。

- A. 高考公平与社会公平的关系
- B. 高考考场秩序“失守”的弊端
- C. 维护高考程序公正的重要性
- D. 如何保证高考的程序公正

46. ①但无论其行凶时有无犯精神病，他时隔 20 多年为一颗牙的残暴做法，都是极端个案
②像陈伟忠这个极端个案而言，据报道，作案患者被指此前有精神病史
③某种程度上，这起个案，可能承载不起海量反思的重量，其个案性也消解了那种抽象的“按图索骥”——如那种高屋建瓴的对医疗体制讨论，抑或是溯源式去试图厘清医患间复杂的纠葛
④但脱离事实依据的舆论互撕，除了恶化医患关系，或许别无益处
⑤如果最终能确证凶手事发时是犯病，那反思或许也该被导向，对有攻击性的重度精神病人的安全防范问题
⑥争论是很多事件进入公共舆论场后的必然链式反应

将以上 6 个句子重新排列，语序正确的是()。

- A. ④⑥①②⑤③
- B. ⑥④②①③⑤
- C. ③⑥②④⑤①
- D. ⑥④①②③⑤

47. ①立下愚公志，弘扬愚公移山精神，我们就能排除万难，协调推进“四个全面”战略布局，顺利实现“两个一百年”奋斗目标
②一个人没有精神容易垮掉，一个国家没有精神经不起风浪
③“丹青难写是精神”，精神是如此弥足珍贵，一个人、一个国家总是要有一点精神的
④精神的力量不可或缺
⑤从这个意义上说，无论是个人还是国家，都需要时时补足“精神之钙”
⑥当前，我国发展进入关键期，如何以更大勇气破思想观念之束缚、利益固化之藩篱，协调推进“四个全面”战略布局

将以上 6 个句子重新排列，语序正确的是()。

- A. ⑥③②①⑤④
- B. ③②⑤⑥④①
- C. ⑤②③⑥①④
- D. ⑤④①②③⑥

48. 对于依赖消费者选择而生存于市场中的企业来说，在新的消费时代中，应当更加重视企业战略调整，履行企业社会责任，塑造并维护企业声誉，适应新的市场选择需求。企业声誉产生于企业的良好形象及顾客对企业的好感，这种好感可能起源于企业所拥有的优越的地理位置、良好的口碑、有利的商业地位、良好的劳资关系、独占特权和管理有方等，即_____。

填入画横线部分最恰当的一句是()。

- A. 企业声誉可以增强其产品的市场号召力
- B. 企业声誉主要受到消费者情感导向的左右
- C. 只有赢得顾客，才能占领市场
- D. 声誉受损越大，企业受到的惩罚也就越大

- A. 问君能有几多愁,恰似一江春水向东流
 B. 感时花溅泪,恨别鸟惊心
 C. 鸡声茅店月,人迹板桥霜
 D. 远上寒山石径斜,白云生处有人家
52. 对“戏曲的布景在演员的身上”一句理解正确的一项是()。
- A. 戏曲舞台上的环境布景,为演员“逼真地”表达出人物的内心情感和行动,营造了一个典型环境
 B. 演员集中精神用程式手法、舞蹈行动,“逼真地”表达出人物的内心情感和行动,就会使人忘掉对剧中环境布景的要求
 C. 中国戏曲舞台不设置逼真的布景,因为逼真的环境布置会阻碍表演的集中和灵活
 D. 中国戏曲演员是经过化妆的,所以不需要环境布景,便于剧中人物与观众交流,深入艺术创作的最深意境
53. “中国舞台表演方式是有独创性的,我们愈来愈见到它的优越性。而这种艺术表演方式又是和中国独特的绘画艺术相通的,甚至也和中国诗中的意境相通。”请指出下面哪一种艺术表现手法不符合上述观点()。
- A. “深山藏古寺”这句诗的绘画表现:画中一个小和尚在深涧边挑水,画面中白云缭绕,只在画面的一角露出一座寺庙的檐角
 B. 京剧表演中,演员手拿马鞭在舞台上小步快跑几圈,表示的是舞台人物翻越千山万水,策马南征北战
 C. “踏花归来马蹄香”这句诗的绘画表现:画面上一匹骏马在前行,有一只蝴蝶在围着马蹄翻飞,画中只有少量的野花
 D. 骆宾王的诗《咏鹅》:“鹅、鹅、鹅,曲项向天歌,白毛浮绿水,红掌拨青波。”
54. 文中说,“中国舞台表演方式是有独创性的”,下列各项“独创性”理解错误的是()。
- A. 一般不设置逼真的布景(仅用少量的道具桌椅等)
 B. 演员用程式手法、舞蹈行动,表达人物的内心情感和行动
 C. 实景消而空景现
 D. 真境逼而神境生
55. 下列表述和文意相符的一项是()。
- A. 中国舞台艺术的表演方式、中国画里的空间处理方法和中国诗中的意境是相通的
 B. 中国舞台上不设置逼真的布景,仅有少量的道具桌椅等
 C. 演员集中精神用程式手法和舞蹈行动来推动剧情的发展
 D. “实景消而空景观”的目的是让演员和观众进行精神交流,深入艺术创作的最深境界

根据所给材料,回答 56—60 题:

浩瀚无垠的海洋似乎是永远也不会干涸的。大海中的水是怎么来的呢?

有学者认为,这些水是地球本身固有的。在地球形成之初,地球水就以蒸气的形式存在于炽热的地心中,或者以结构水、结晶水等形式存于地下岩石中。那时,地表的温度较高,大气层中以气体形式存在的水分也较多。地球在最初的 5 亿年,火山众多且活动频繁,大量的水蒸气通过火山口喷发出来,冷却之后便渐渐形成河流、湖泊和海洋,即所谓的“初生水”。

为了探寻地球水的渊源,人们还把目光投向了宇宙。科学家托维利提出假说:地球上的水是太阳风的杰作。太阳风即太阳刮起的风,但它不是流动的空气,而是一种微粒流或带电质子流。根据托维利的计算,从地球形成至今,地球已从太阳风中吸收了 17 亿亿吨的氢,若把这些氢和地球上的氧结合,就可产生 153 亿亿吨水。

科学家路易斯·弗兰克也提出了一个新理论:地球上的水有可能来自迄今为止还未观测到的由冰组成的小彗星。他在分析卫星图片时发现了一些黑色小斑点,而这些黑斑是高层大气中大量分子[]而形成的气体水云。他认为,小黑斑现象是许多小彗星不断地把水从高层注入大气,形成彗星云团,而后化作雨降至地面。不久,在 600 多千米的上空,他又发现了带状发光物,即含水破碎物留下的“尾流”。而这一高度恰好是此类彗星可能徘徊的地带。1990 年,一块冰体从天而降,落在中国无锡梅村乡。我国专家潜心研究后认为,此冰块就是来自彗星。弗兰克理论还为一些未解之谜提供了解释。例如可能就是有大量的小彗星倾泻而下,造成地球气候剧变,才使恐龙及其他一些物种灭绝。1998 年美国科学家打开了一块来自彗星的陨石,结果竟在里面发现了少量的盐水水泡!不久又发现另一块陨石里布满了奇怪的紫色晶体,这些晶体里竟然有水!

对于小彗星是否为地球带来过大量降水,科学家们正在不断地观察,不断地试验。

56. 对“初生水”的含义理解正确的一项是()。

- A. 存在于炽热的地心中的水蒸气
- B. 存于地下岩石中的结构水、结晶水
- C. 大气层中以气体形式存在的水分
- D. 由火山喷发的水蒸气冷却后形成的水

57. 下列选项中,不能支持弗兰克理论的是()。

- A. 地球上的水有可能来自自由冰组成的小彗星
- B. 在彗星可能徘徊的地带发现了含水破碎物留下的“尾流”
- C. 经我国专家研究,落在中国无锡梅村乡的冰块来自彗星
- D. 有的陨石里含有盐水水泡或含水的紫色晶体

58. 根据原文提供的信息,下列推断不正确的一项是()。

- A. 根据托维利假说,人类有可能利用太阳风获取更多的水
- B. 根据弗兰克理论,人类有可能借助彗星云团进行人工降雨
- C. 对地球水源的研究,有助于预见地球气候还将发生剧变
- D. 对地球水源的研究,有助于了解其他行星是否有水存在

59. 下列说法不符合原文意思的一项是()。

- A. 太阳风是一种微粒流或带电质子流
- B. 在地球形成之初,地球水主要存在于炽热的地心、地下岩石和大气层中
- C. 小彗星是由冰组成的
- D. 地球上的水到底来自哪里,目前科学界尚未定论

60. 填入文中[]最恰当的词语是()。

- A. 凝结
- B. 聚集
- C. 凝聚
- D. 聚拢

第二部分结束,请继续做第三部分!

第三部分 数量关系

(共 15 题,参考时限 15 分钟)

在这部分试题中,每道题呈现一段表述数字关系的文字,要求你迅速、准确地计算出答案。

请开始答题:

61. 2011 年某商品的进货价格是 45 元/件,2012 年该商品的进货量增加了 $\frac{1}{2}$,进货金额增加了 $\frac{1}{3}$,则 2012 年该商品的进货价格为()元/件。
A. 30 B. 36 C. 40 D. 42
62. 将参加某竞赛的四位选手的最终得分(均为整数)两两相加得到 6 个不同的数,已知其中 5 个数为 99、113、118、130、144,则四人中得分第二高者和第三高者的分数之和为()。
A. 113 B. 118 C. 121 D. 125
63. 有一个三位数,如果把百位数字与个位数字对调,得到的新数字比原数字大 495,如果把十位数字与个位数字对调,得到的新数字比原数字大 9,如果把百位数字与十位数字对调,得到的新数字比原数字大 360,则原来的三位数是多少?()
A. 321 B. 165 C. 156 D. 256
64. 有一碗浓度为 64% 的食盐水,现在将其倒出 $\frac{1}{4}$,用清水将其加满,然后再倒出 $\frac{1}{4}$,再用清水将其加满,依次重复进行,当食盐浓度为 27% 时,重复倒了多少次清水?()
A. 5 B. 3 C. 4 D. 2
65. 新兵连战士张某、王某、杨某三人正练习打靶。已知杨某每 3 发平均中 2 发,张某每 4 发平均中 3 发,王某每 5 发平均中 4 发。已知,三人射击次数相同,中靶总数合计 266 发。问三人合计射击多少发?()
A. 228 B. 324 C. 266 D. 360
66. 某商场摆出一批生鲜制品进行促销,并定时定量进行供货,所有货物 10 人抢购完需 1.5 小时,15 人抢购完需 40 分钟,若要在 20 分钟内促销完毕,需多少人来抢购?()
A. 30 B. 28 C. 24 D. 18
67. $\frac{1}{6} + \frac{5}{18} + \frac{17}{54} + \frac{53}{162} + \frac{161}{486} = ()$ 。
A. $1\frac{1}{2}$ B. $2\frac{1}{3}$ C. $2\frac{1}{4}$ D. $1\frac{203}{486}$
68. 某单位早上 9 点上班,上午 9:30 之前召开紧急会议,会议刚开始时小王看了下手表,发现分针与时针的夹角为 145 度。会议期间分针与时针第一次垂直是()。(本题中的夹角均指度数较小的那个角)
A. 9 时 $32\frac{8}{11}$ 分 B. 9 时 30 分

C. 9 时 45 分

D. 9 时 $22\frac{8}{11}$ 分

69. 某市复兴路要在路的两边用新购进的路灯更换旧的路灯,假如每隔 10 米安装一盏路灯,可以覆盖整个路段,但会余下 10 盏路灯;假如每隔 8 米安装一盏路灯也可以覆盖整个路段,但是最后安装的两盏路灯间距为 6 米。问新购进的路灯有多少? ()
- A. 50 B. 60 C. 70 D. 80
70. 小李要参加本市组织的端午龙舟比赛,练习时他均在无风天气进行(即水流速度为 0),但比赛当天,风较大,水流速度为 3 千米/小时,顺水时他所用时间为练习时的 $\frac{4}{5}$,则逆水时小李所需时间为比练习时多()。
- A. $\frac{1}{3}$ B. $\frac{1}{4}$ C. $\frac{1}{5}$ D. $\frac{1}{6}$
71. 为了帮学生们备战中考,某个星期的星期一,王老师开始给学生编 500 道中考数学练习题,因为编题耗费脑力较多,第一天能编 50 道,之后每天少编 2 道,星期六和星期日休息暂停编题,那么,王老师至少要多少天后才完成这项任务? ()
- A. 10 B. 14 C. 16 D. 18
72. 由 1,2,3,4,5 这 5 个数字组成的没有重复数字的五位数中,有多少个大于 34152? ()
- A. 50 B. 54 C. 58 D. 60
73. 一个水池,底部安有一个常开的排水管,上部安有若干个同样粗细的进水管,当打开 5 个进水管时需要 5 小时才能注满水池;当打开 3 个进水管时,需要 10 小时才能注满水池;现在需要在 2 小时内将水池注满,那么至少要打开多少个进水管? ()
- A. 9 B. 10 C. 11 D. 12
74. 某村由于房地产开发,需将一口水井抽完水后填埋。现调用 A、B 两台抽水机进行抽水,已知在不渗水的情况下,A 抽水机 10 小时可将水抽完,B 抽水机 6 小时可将水抽完。为赶工期,村主任决定用 A、B 两台抽水机同时抽水,可是由于渗水,结果用了 5 小时才将水井里的水抽完。假设在渗水的情况下,用 B 抽水机单独抽水,多少小时能抽完? ()
- A. 9 小时 B. 10 小时
C. 11 小时 D. 12 小时
75. 一车间生产一批零配件,已知每生产一个合格产品获利 0.8 元,生产一个不合格产品损失 1.2 元。若某天生产的合格率为 90%,且获利 1200 元,则这天生产了多少件不合格产品? ()
- A. 200 B. 150 C. 250 D. 125

第三部分结束,请继续做第四部分!

第四部分 判断推理

(共 40 题,参考时限 35 分钟)

一、图形推理。请按每道题的答题要求作答。


请开始答题:

76. 把下面的六个图形分为两类,使每一类图形都有各自的共同特征或规律,分类正确的一项是:

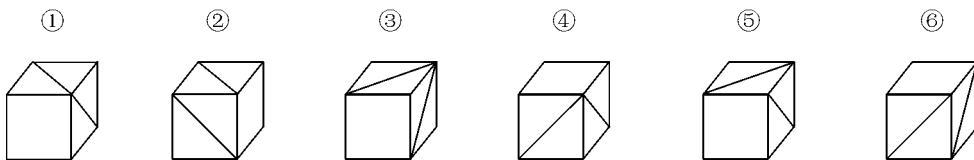


- A. ①②③,④⑤⑥
B. ①⑤⑥,②③④
C. ①④⑥,②③⑤
D. ①②④,③⑤⑥

77. 从所给的四个选项中,选择最合适的一个填入问号处,使之呈现一定的规律性:

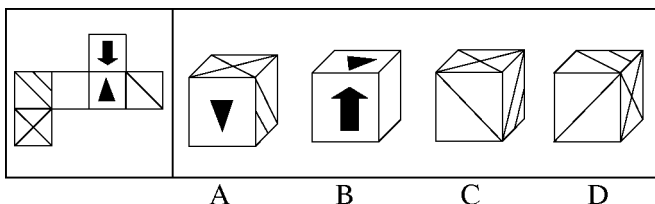


78. 把下面的六个图形分为两类,使每一类图形都有各自的共同特征或规律,分类正确的一项是:



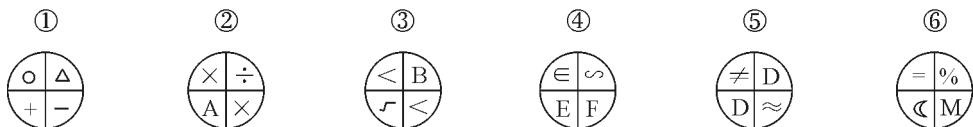
- A. ①②⑥,③④⑤
B. ①③⑥,②④⑤
C. ①④⑤,②③⑥
D. ①③④,②⑤⑥

79. 左边给定的是纸盒的外表面,下面哪一项能由它折叠而成?



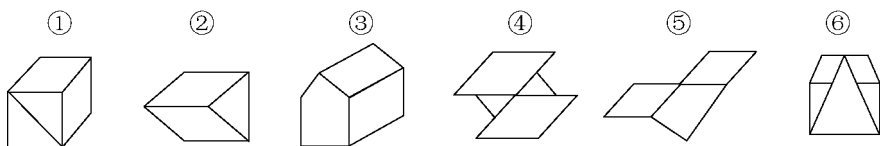
- A B C D

80. 把下面的六个图形分为两类,使每一类图形都有各自的共同特征或规律,分类正确的一项是:



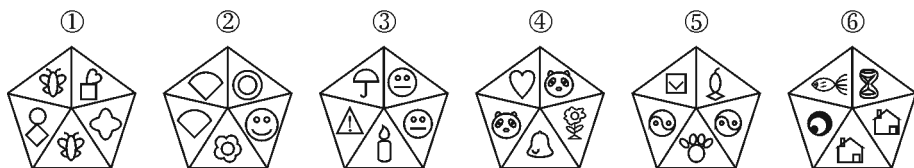
- A. ①⑤⑥, ②③④
 B. ①③⑤, ②④⑥
 C. ①④⑥, ②③⑤
 D. ①③⑥, ②④⑤

81. 把下面的六个图形分为两类,使每一类图形都有各自的共同特征或规律,分类正确的一项是:



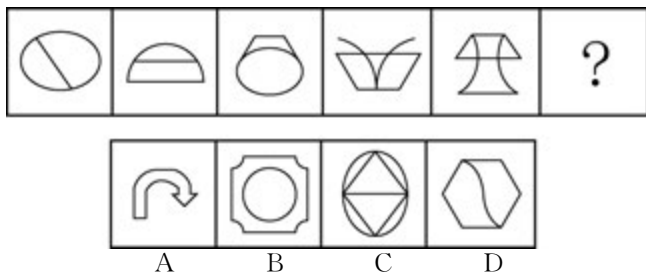
- A. ①③⑥, ②④⑤
 B. ①④⑥, ②③⑤
 C. ①②③, ④⑤⑥
 D. ①②④, ③⑤⑥

82. 把下面的六个图形分为两类,使每一类图形都有各自的共同特征或规律,分类正确的一项是:



- A. ①④⑥, ②③⑤
 B. ①④⑤, ②③⑥
 C. ②④⑤, ①③⑥
 D. ①③⑤, ②④⑥

83. 从所给的四个选项中,选择最合适的一个填入问号处,使之呈现一定的规律性:




84. 把下面的六个图形分为两类,使每一类图形都有各自的共同特征或规律,分类正确的一项是:



- A. ①②③, ④⑤⑥
 B. ①⑤⑥, ②③④
 C. ①④⑥, ②③⑤
 D. ①③⑤, ②④⑥

85. 从所给的四个选项中,选择最合适的一个填入问号处,使之呈现一定的规律性:



二、定义判断。每道题先给出定义,然后列出四种情况,要求你严格依据定义,从中选出一个最符合或最不符合该定义的答案。注意:假设这个定义是正确的,不容置疑的。

请开始答题:

86. 功能性音乐不同于只供欣赏的纯艺术性音乐,它具有社会实践效益(生理或心理),是由使用者的动机、目的、场合或发生的作用决定的。

根据上述定义,下列不属于功能性音乐的是()。

- A. 心理医生选用经过特殊编排的、节奏明快的乐曲辅助治疗自闭症儿童
- B. 为了能在国际比赛中获奖,范容刻苦练习小提琴曲《天鹅湖》
- C. 许多科学家实验表明,古典音乐有利于刺激胎儿的听觉功能发育
- D. 《泰坦尼克号》电影配乐随着剧情发展营造出哀婉悲伤的氛围,影迷沉浸其中

87. 类比思维是指依据事物(包括天地人、万物)的外部特征或内在属性进行比照与联系的思维方式。类比思维包括两方面的含义:联想,即由新信息引起的对已有知识的回忆;类比,在新旧信息间找相似和相异的地方,即异中求同或同中求异。

根据上述定义,下列使用到类比思维的是()。

- A. 指鹿为马
- B. 揠苗助长
- C. 指皂为白
- D. 鱼目混珠

88. 友情化管理模式,是指以朋友的友情化为原则来处理企业中各种关系的企业管理模式。在这种管理模式下,大家都是哥们儿,在一起办一个企业,有福同享,有难同担,因为哥们儿之间就是那种为朋友可以两肋插刀的关系。

下列属于友情化管理模式的是()。

- A. 小李和哥哥大李开设了广告公司,小李负责技术,大李负责招商
- B. 小王毕业后开办了一个动漫公司,积极邀请志趣相投的同学加入进来
- C. 马某打算开一个物流公司,遂动员其有两辆卡车的表哥罗某加盟
- D. 小赵和老夏合作开服装公司,制定了完备的制度来管理员工

89. 幽闭恐惧症是对封闭空间的一种焦虑症,患者害怕密闭或者拥挤的场所,对这些场所可能会出现未知事件充满恐惧,严重的甚至会出现焦虑和强迫症状,一旦离开这些环境,患者的生理和行为都会迅速恢复正常。

根据上述定义,下列符合幽闭恐惧症的是()。

- A. 小强乘坐的公交车发生了车祸,下车许久后小强依然觉得心惊肉跳
- B. 小黄每次坐地铁都担心会发生事故,精神焦虑,呼吸困难
- C. 小刘在日常生活中非常腼腆,每次参加聚会他都非常不自在
- D. 小孙一坐到考场就紧张,担心自己考不好,考试结束才能放松下来

90. 职业教育是指让受教育者获得某种职业或生产劳动所需要的职业知识、技能和职业道德,从而满足从事一定社会生产劳动的需要而开展的一种教育活动。

根据上述定义,下列哪项中的行为属于职业教育?()

- A. 甲工厂在职工正式进入工作岗位前都会进行岗前培训,让员工了解相关的工作常识
- B. 乙大学在学生毕业前都会提供就业咨询服务,以帮助学生更清晰地了解自身的工作兴趣
- C. 丙在从事翻译工作之余对法律很感兴趣,经常去大学听相关的法学讲座
- D. 丁为了考上研究生,报名参加了研究生考试培训班,每天由老师一对一进行辅导

91. 白色农业是指改变农业以太阳光为直接能源,利用绿色植物通过光合作用生产人类食物、动物饲料的传统方式,应用高科技进行开发,依靠人工能源不受气象和季节的限制,可常年在工厂进行大规模生产,节土、节水、不污染环境,资源可循环利用的微生物工业型的农业。

下列选项不属于白色农业的是()。

- A. 将各种农业废料制成蛋白饲料、秸秆饲料等应用于农业中
- B. 农业中研究应用固氮菌肥料类、光合细菌肥料、复合微生物肥料类等用作生物肥料
- C. 在农业中大量生产香菇、木耳等食用菌类的微生物食品
- D. 南方“猪—沼—果”的农业生产模式

92. 政治抒情诗是指“诗人”以“阶级”(或“人民”)的代言者的身份表达对当时重要政治事件、社会思潮的评述和情感反应。这种评述和反应,一般来说不可能出现多种视角和声音,因为其精神上的“资源”,来自当时对现实历史所作的统一叙述。在诗体形态上,表现为强烈的情感宣泄和政论式的观念叙说的结合。

根据上述定义,下列属于政治抒情诗的是()。

- A. 等你,在雨中,在造虹的雨中/蝉声沉落,蛙声升起/一池的红莲如红焰,在雨中
- B. 昨夜夜半的星/清洁真如明丽的网/疏而不失/春花秋月也都是的/子非鱼安知鱼
- C. 公民们! 你们在祖国的热烘烘的胸脯上长大/会不会在困难面前低头/不会的,我信任你们甚至超过我自己
- D. 轻轻的我走了/正如我轻轻的来/我轻轻地招手/作别西天的云彩

93. 外部效应是指在实际经济活动中,生产者或消费者的活动为其他生产者或消费者带来的非市场性影响。通常指厂商或个人在正常交易以外为其他厂商或个人提供的便利或施加的成本。

根据上述定义,下列选项体现外部效应的是()。

- A. 果园里请来了农技人员,产量有明显的增加,园主的收益也得到大幅提升
 B. 小钱在做饭时,由于疏忽大意,误将有毒的蘑菇做成菜肴,导致全家人中毒
 C. 国外各种品牌的名酒进入中国市场,激烈的竞争导致国产酒的销量下降
 D. 某化肥加工厂污染了水源,对河流下游的渔民和河中的鱼造成了损害
94. 法律制裁是指由特定的国家机关对违法者(或违约者)依其所应承担的法律责任而实施的强制性惩罚措施。法律制裁包括刑事制裁、民事制裁、行政制裁和违宪制裁。
 根据上述定义,下列属于法律制裁的是()。
- A. 公务员甲因违法失职受到撤职处分
 B. 驾驶员乙开车时不小心将一行人撞成轻微伤,乙主动赔偿了该行人 300 元钱
 C. 公民丙犯盗窃罪,但因有立功表现,法院判处其有期徒刑五年,并处罚金人民币 2 万元
 D. 党员丁因违反党纪受到党内严重警告处分
95. 词义转移是指演变后的词义所表示的概念内涵与原来的词义所表示的不同,原来指甲事物,现在指乙事物;还包括感情色彩的变化,从褒义变为贬义,或从贬义变为褒义。
 根据上述定义,下列不属于词义转移的是()。
- A. “涕”原指眼泪,现指鼻涕
 B. “兵”原指兵器,现指军人、军队
 C. “爪牙”原指辅佐国家的武将,现指坏人的打手、帮凶
 D. “哭”原指悲痛出声,现包括“泣”和“嚎”

三、类比推理。每道题先给出一组相关的词,要求你在备选答案中找出一组与之在逻辑关系上最为贴近、相似或匹配的词。

请开始答题:

96. 黄梅戏:评剧
- A. 小调:小曲
 B. 青花瓷:油纸伞
 C. 京剧:花脸
 D. 宫:商
97. 秦国 对于 () 相当于 () 对于 合纵
- A. 楚国 齐国
 B. 连横 楚国
 C. 战国 连横
 D. 张仪 苏秦
98. 密码:私密:信息
- A. 汽车:行驶:摩托车
 B. 父亲:男性:长辈
 C. 爱情:初恋:感情
 D. 歌词:文字:歌曲
99. 三教:儒佛道
- A. 岁寒三友:竹兰梅
 B. 小三牲:马牛羊
 C. 三才:天地人
 D. 五谷:稻黍稷麦麻
100. 风险:损失
- A. 雾霾:视野
 B. 创新:盈利
 C. 食物:饥饿
 D. 医生:感冒
101. 小提琴:黑管:军鼓

- A. 二胡：洞箫：琵琶
C. 马头琴：吉他：长笛

- B. 唢呐：古筝：三弦
D. 吉他：小号：三角铁

102. 面包：饥肠辘辘

- A. 棉服：唇亡齿寒
C. 冷漠：爱莫能助

- B. 悲痛：琴瑟和鸣
D. 电灯：黑天摸地

103. 蚕：蚕丝

- A. 奶牛：牛奶
C. 梅花鹿：鹿茸

- B. 鲨鱼：鱼翅
D. 牛：黄喉

104. 日出：草原

- A. 老舍：骆驼祥子
C. 白鹿原：陈忠实

- B. 秦腔：社戏
D. 红树林：白棉花

105. 学习：书本：知识

- A. 审查：会计：账目
C. 认真：教室：听讲

- B. 观看：电脑：视频
D. 降落：飞机：机场

四、逻辑判断。每道题给出一段陈述，这段陈述被假设是正确的，不容置疑的。要求你根据这段陈述，选择一个答案。

请开始答题：

106. 根据研究，距离越远，人们越会从更抽象的角度去思考问题，这包括事物是否是真实的。

以下哪项为真，最能支持上述结论？（ ）

- A. 在计划购买手机时，如果打算一年后购买，思考时更容易考虑的是手机的核心属性，比如手机质量、通话效果等。而如果打算立即购买，则会更关注一些可能无关紧要的细节，比如铃声、颜色等
- B. 人们在欣赏自然美、社会美和艺术美等的审美过程中，必须保持特定的、适当的距离，如时间距离、空间距离和心理距离，否则就会影响和削弱审美主体的审美效果，所谓“距离产生美”
- C. 一些伟大的军事家“运筹帷幄之中，决胜千里之外”，不用上战场也可以作出正确的部署
- D. 在人际交往中，人们之间的空间距离越近，往往说明他们之间的心理距离越近

107. 根据某位国际问题专家的调查统计可知：有的国家希望与某些国家结盟，有三个以上的国家不希望与某些国家结盟，有的国家不希望与任一国家结盟；至少有两个国家希望与每个国家建交。

根据上述统计可以得出以下哪项？（ ）

- A. 有些国家之间希望建交但是不希望结盟
- B. 至少有一个国家，既有国家希望与之结盟，也有国家不希望与之结盟
- C. 至少有一个国家，既有国家希望与之建交，也有国家不希望与之建交
- D. 每个国家都有一些国家希望与之建交

108. 考古人员对一处 5000 年前的沿河遗址进行挖掘，发现了较多的鸟禽类、猪、鹿等动物骨

骼,而且在红烧土中发现了碳化的稻壳。这说明 5000 年前,生活在此处的先民已发展了种植、养殖、打猎等经济形式。但令考古人员感到疑惑的是,遗址地处河岸,却没有发现鱼类骨骼。有人猜测,5000 年前生活在此处的先民不会捕捞。

以下哪项如果为真,最能质疑上述猜测? ()

- A. 考古中同时发现了大量又尖又细的矛状石制工具,类似于现代社会热带地区居民的扎鱼工具
- B. 某专业人士解释,鱼类骨骼相对其他动物骨骼而言,不易长久保存
- C. 据史料记载,早在 7400 年前,生活在近海地区的居民就掌握了一种名叫“石沪”的捕鱼方法
- D. 考古人员走访得知,生活在遗址附近的人都喜欢将鱼骨晒干后磨成粉入药或用水冲服

109. 一家餐厅计划在秋季的 7 周内推出 7 个主题套餐促销活动,它们是 F、G、J、K、O、R、S。每周推广一个套餐,为推广该套餐,餐厅会有一定的优惠活动。主题套餐的安排必须满足以下条件:

- (1) G 因食材原因必须在第三周推出。
- (2) O 和 S 因为口味相近不能连续推出。
- (3) K 必须安排在 J 和 S 之前推出。
- (4) F 和 J 必须安排在连续的两周中推出。

由此可以推出()。

- A. F 被安排在 K 之后的某一周
- B. G 恰好被安排在 O 之前的那一周
- C. J 被安排在第一周
- D. R 被安排在第二周或第七周

110. 小华对妹妹说:“只要不下冰雹,我们的火车就能出发。”

以下哪项正确地表达了小华的断定? ()

- I. 如果火车按时出发,则一定没有下冰雹
- II. 如果火车不按时出发,则一定下冰雹
- III. 除非下冰雹,否则火车按时出发

- A. 只有 I
- B. 只有 II
- C. 只有 III
- D. II 和 III

111. 一项研究发现,女性每天喝一杯番茄汁有助于预防乳腺癌。一杯番茄汁带来的番茄红素,可以令女性体内的脂联素分泌提高 9%。脂联素是一种有助于身体调节脂肪水平的激素,瘦人体内的这种激素含量通常较高,而过度肥胖则会提高乳腺癌患病的风险。番茄红素不但能够预防乳腺癌,还可以阻止癌细胞生长和扩散。除了番茄,番石榴、西瓜、杏、木瓜和粉红葡萄柚也含有一定量的番茄红素。

由此可以推出()。

- A. 相对于健康人而言,乳腺癌患者的番茄汁饮用量较小
- B. 日常饮食中如果富含番茄红素,对女性体内保持健康体重所需的激素有重要的影响
- C. 如果乳腺癌患者坚持每天摄入适量番茄红素,一段时间后癌细胞会逐渐死亡
- D. 食用番茄比食用其他含有番茄红素的瓜果更有助于预防乳腺癌

112. 小李的身体状况恐怕不适合继续担任董事长秘书的职务。因为近一年来,只要小李给董事长写信,内容只有一个:不是这里不舒服,就是那里有毛病。

为使上述论证成立,以下哪项是必须假设的? ()

I. 近一年来,小李经常给董事长写信。

II. 小李给董事长写的信的内容基本上都是真实的。

III. 胜任董事长秘书的职务,需要有良好的身体条件。

A. 只有 I

B. 只有 III

C. I 和 II

D. I、II 和 III

113. 近日,记者从市植保站获悉,目前,大豆蚜虫已在全市大豆田点片出现。而今年大豆蚜虫的出现较往年早了 3 至 4 天。为此,相关专家解释说,这一现象的产生是由于今年春季气温回升较快。

以下哪项如果为真,最能削弱上述观点? ()

A. 今年大豆的苗小,抗虫能力较弱,加重了蚜虫危害

B. 农户要尽早深入田间查田治虫以达防治指标

C. 今年春季降水少,而干燥的豆田有利于大豆蚜虫的繁殖

D. 多在全市种植绿色植物可以有效控制温室效应引起的气温升高

114. 一对夫妻带着他们的一个孩子在路上碰到一个朋友。朋友问孩子:“你是男孩还是女孩?”朋友没听清孩子的回答。孩子的父母中某一个说,我孩子回答的是“我是男孩”,另一个接着说:“这孩子撒谎。她是女孩。”这家人中男性从不说谎,而女性从来不间断说两句真话,也不连续说两句假话。

如果上述陈述为真,那么以下哪项一定为真? ()

I. 父母俩第一个说话的是母亲

II. 父母俩第一个说话的是父亲

III. 孩子是男孩

A. 只有 I

B. 只有 II

C. 只有 I 和 III

D. 只有 II 和 III

115. 在以色列贝尔谢巴地区,西风来自地中海,海风潮湿且清洁,而东风则会将死海周围沙漠中的沙尘卷起带入城市。这意味着在西风吹起的时候,贝尔谢巴空气相对会比较洁净,反之在东风吹起的时刻,贝尔谢巴将会被气流带来的颗粒悬浮物袭扰。研究人员发现,在无风的状态下,该地区 PM10 粒子的浓度大约为每立方厘米 100—3500 单位,而在起风的条件下,这一数字最高可达到每立方米 25000 单位。据此,研究人员统计了 2001—2002 年不同时间自杀案例发生的次数,结果显示东风肆虐的时段,自杀概率显著上升;在西风吹起的时段自杀率保持恒定或稍有下滑。由此可见,雾霾会导致该地区自杀率上升。

以下哪项如果为真,最能质疑上述结论? ()

A. 在阳光灿烂的天气感到心情舒畅做事精力充沛,而在阴雨天则会觉得心情低落没有精力做事,这是一种叫做“季节性情绪失调”的心理疾病

B. 调查显示,该地区大多数自杀案例都发生在东部的化工工业区

C. 统计结果显示,发生过自杀行为的人 80% 以上都是抑郁症患者,这些患者的病情在雾霾天气会加重

D. 研究人员同时对该城市精神分裂症的发作概率与风向之间的关系进行了统计,得到了类似的结果

第四部分结束,请继续做第五部分!

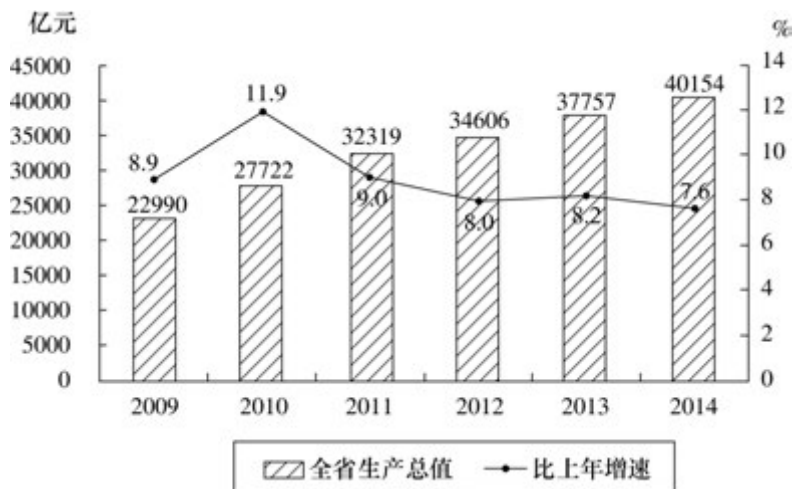
第五部分 资料分析

(共 20 题,参考时限 20 分钟)

所给出的图、表、文字或综合性资料均有若干个问题要你回答。你应根据资料提供的信息进行分析、比较、计算和判断处理。

请开始答题:

一、根据以下资料,回答 116—120 题。



注:图中 GDP 为名义 GDP,增速为扣除价格因素的实际增速。

图 1 2009—2014 年 Z 省生产总值(GDP)及其同比增速

总印张 634.5 亿印张,同比增长 4.7%;定价总金额 1063.1 亿元,同比增长 13.6%。图书出版实现营业收入 664.4 亿元,同比增长 19.8%;增加值 225.3 亿元,同比增长 4.8%;利润总额 94.2 亿元,同比增长 22.2%。

2011 年,全国共出版期刊 9849 种,较 2010 年降低 0.4%;总印数 32.9 亿册,增长 2.2%;总印张 192.7 亿印张,增长 6.4%;定价总金额 238.4 亿元,增长 9.5%。期刊出版实现营业收入 162.6 亿元,比上一年增长 45.4 亿元;增加值 152.4 亿元,增长 114.2%;利润总额 22.9 亿元,增长 23.8%。

2011 年,全国共出版报纸 1928 种,较 2010 年降低 0.6%;总印数 467.4 亿份,增长 3.4%;总印张 2272.0 亿印张,增长 5.8%;定价总金额 400.4 亿元,增长 8.9%。报纸出版实现营业收入 818.9 亿元,增长 12.3%;增加值 320.2 亿元,增长 1.0%;利润总额 98.6 亿元,降低 2.2%。

121.2010 年,全国出版、印刷和发行服务实现营业收入约为()亿元。

- A. 82308 B. 17702 C. 12378 D. 2579

122.2010 年,新版图书占全国图书的比重为()。

- A. 79.8% B. 76.8% C. 57.8% D. 56.2%

123.2011 年,期刊出版实现营业收入的同比增速为()。

- A. 42.6% B. 38.7% C. 24.1% D. 7.8%

124.2011 年,每种报纸的月平均营业收入同比增长()元。

- A. 3539505 B. 3139223 C. 2313600 D. 406586

125.关于新闻出版产业的分析,下列说法不正确的是()。

- A. 2011 年,报纸印张总量大,期刊印张增长快
 B. 2011 年,新版图书与重版、重印图书品种之比约为 1.3 : 1
 C. 2010 年,图书出版利润约占总体利润的 8.2%
 D. 2010 年,增加值由高到低的是报纸出版、图书出版、期刊出版

三、根据以下资料,回答 126—130 题。

2013 年 1—6 月份,全国固定资产投资 181318 亿元,同比增长 20.1%,增速比 1—5 月份回落 0.3 个百分点。从环比看,6 月份固定资产投资增长 1.51%。

分地区看,1—6 月份,东部地区投资 86741 亿元,同比增长 18.7%,增速比 1—5 月份回落 0.3 个百分点;中部地区投资 49509 亿元,增长 23.6%,增速回落 0.3 个百分点;西部地区投资 44170 亿元,增长 22.7%,增速与上月持平。

2013 年 1—6 月份固定资产投资主要数据

| 指标 | 1—6 月份 | |
|------------|--------|----------|
| | 绝对量 | 同比增长 (%) |
| 固定资产投资(亿元) | 181318 | 20.1 |
| 其中:国有及国有控股 | 57342 | 17.5 |
| 分产业 | | |
| 第一产业 | 3884 | 33.5 |
| 第二产业 | 78052 | 15.6 |

续表

| 指标 | 1—6 月份 | |
|-------------------|--------|----------|
| | 绝对量 | 同比增长 (%) |
| 第三产业 | 99382 | 23.5 |
| 分行业 | | |
| 农林牧渔业 | 4877 | 33.5 |
| 采矿业 | 5454 | 8.8 |
| 制造业 | 63257 | 17.1 |
| 电力、热力、燃气及水的生产和供应业 | 7861 | 14.5 |
| 建筑业 | 1779 | -4.9 |
| 交通运输、仓储和邮政业 | 13456 | 21.5 |
| 水利、环境和公共设施管理业 | 14882 | 31.3 |
| 教育 | 2324 | 23.0 |
| 卫生和社会工作 | 1321 | 23.1 |
| 文化、体育和娱乐业 | 2182 | 32.7 |
| 公共管理、社会保障和社会组织 | 2326 | -10.6 |
| 分注册类型 | | |
| 其中:内资企业 | 170604 | 21.3 |
| 港澳台商投资企业 | 4923 | 7.5 |
| 外商投资企业 | 4961 | 3.9 |
| 固定资产投资到位资金 | 217401 | 20.1 |
| 其中:国家预算资金 | 9665 | 18.9 |
| 国内贷款 | 27465 | 13.0 |
| 利用外资 | 2087 | -8.4 |
| 自筹资金 | 146393 | 18.6 |
| 其他资金 | 31791 | 39.5 |

126. 2012 年 1—6 月, 中部地区固定资产投资约为多少亿元? ()
- A. 73075 B. 40056 C. 37824 D. 35998
127. 2013 年 1—6 月, 各行业中固定资产投资占全国固定资产投资比重小于上年同期的有多少个? ()
- A. 5 B. 6 C. 7 D. 8
128. 2013 年 1—6 月, 下列各行业中, 完成固定资产投资同比增加额最小的行业是()。
- A. 采矿业 B. 教育
C. 卫生和社会工作 D. 文化、体育和娱乐业
129. 2012 年 1—6 月, 第二产业投资占全国固定资产投资总额的比重约为()。
- A. 41.43% B. 44.72% C. 53.30% D. 54.81%
130. 根据资料, 下列各项中说法正确的一项是()。
- A. 2013 年 6 月, 全国固定资产投资额小于 1—5 月的平均值
B. 2012 年 1—6 月, 港澳台商投资企业完成投资额大于外商投资企业
C. 2012 年 1—6 月, 固定资产投资到位资金中, 自筹资金所占的比重低于六成

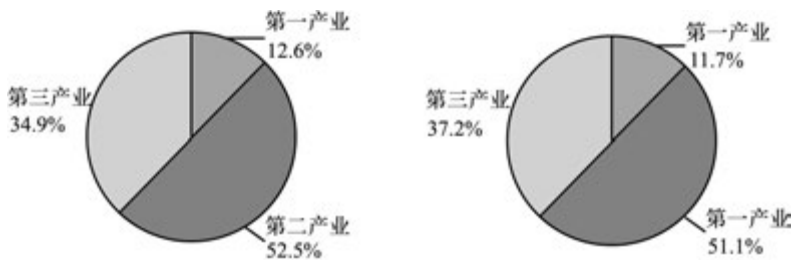
D. 2013 年 1—5 月,西部地区投资同比增速比东部地区快 3.7 个百分点

四、根据以下资料,回答 131—135 题。

某省 2014 年经济报告显示,该省 2014 年全省生产总值实现 29421.2 亿元,比上年增长 6.5%。其中,第一产业增加值 3447.5 亿元,增长 3.7%;第二产业增加值 15020.2 亿元,增长 5.0%;第三产业增加值 10953.5 亿元,增长 9.7%。第一产业增加值占全省生产总值的比重为 11.7%,第二产业增加值比重为 51.1%,第三产业增加值比重为 37.2%。

2014 年,全部财政收入 3764.6 亿元,比上年增长 3.4%,其中公共财政预算收入 2446.6 亿元,增长 6.6%。税收收入 1865.1 亿元,增长 8.1%。公共财政预算支出 4638.1 亿元,增长 6.5%。

民营企业经济增加值实现 19894.4 亿元,比上年增长 7.5%。实缴税金 2713.4 亿元,增长 6.2%,占全部财政收入的比重为 72.1%,提高 1.9 个百分点;完成出口 303.9 亿美元,占全省出口总值的 85.1%;就业人员 2131.9 万人,增长 3.0%。



2010 年和 2014 年三次产业增加值比重

2014 年居民消费价格比上年涨跌幅度表

单位: %

| 指 标 | 比上年增长 |
|-------------|-------|
| 居民消费价格 | 1.7 |
| 其中:城市 | 1.7 |
| 农村 | 1.8 |
| 其中:食品 | 2.3 |
| 烟酒 | -1.2 |
| 衣着 | 4.1 |
| 家庭设备用品及维修服务 | 1.2 |
| 医疗保健及个人用品 | 1.5 |
| 交通和通信 | 0.0 |
| 娱乐教育文化用品及服务 | 1.9 |
| 居住 | 1.1 |

131. 该省 2013 年全省生产总值为()亿元。

- A. 22325.2
- B. 23291.5
- C. 24743.7
- D. 27625.5

- 132.与 2013 年相比,2014 年各产业增加值的增长量由高到低排序正确的是()。
- A. 第一产业、第二产业、第三产业
 - B. 第二产业、第三产业、第一产业
 - C. 第三产业、第二产业、第一产业
 - D. 第二产业、第一产业、第三产业
- 133.2013 年,该省平均每月财政收入约为()亿元。
- A. 242.3
 - B. 303.4
 - C. 332.1
 - D. 341.0
- 134.2014 年,该省全省出口总值为()亿美元。
- A. 357.1
 - B. 368.2
 - C. 384.2
 - D. 392.6
- 135.能够从上述资料中推出的是()。
- A. 与 2010 年相比,2014 年该省经济增加值中,第三产业比重上升,第二产业比重下降
 - B. 该省 2014 年居民消费各项产品价格均有所上涨
 - C. 与 2013 年相比,2014 年民营企业经济增加值占全省经济增加值比重下降
 - D. 2010—2014 年,该省第三产业增加值占全省增加值的比重持续上升

全部测验到此结束!

参考答案及解析

第一部分 常识判断

1. C 【解析】中国共产党第一次全国代表大会于1921年7月23日至31日在上海法租界贝勒路树德里3号(后称望志路106号,现改兴业路76号)召开。大会的中心议题是正式建立中国共产党。①会议地点错误,故排除A、D两项。中国共产党第二次全国代表大会于1922年7月16日至23日在上海英租界南成都路辅德里625号(现成都北路7弄30号)举行。这次大会的中心议题是进一步讨论和确定党在民主革命时期的纲领问题。②搭配正确。中国共产党第三次全国代表大会于1923年6月12日至20日在广州恤孤院后街31号召开。这次大会的中心议题是讨论全体共产党员加入国民党,建立国共合作统一战线的问题。③搭配正确,故排除B项。中国共产党第四次全国代表大会于1925年1月11日至22日在上海举行。这次大会的中心议题是研究和讨论中国共产党如何加强对日益高涨的革命运动的领导、工人阶级如何参加民族革命运动以及党在组织上和群众工作上如何进行准备的问题。这次大会对党在当时要解决的一些基本问题作了阐述和回答,而最具历史意义的是明确提出了无产阶级在民主革命中的领导权问题。大会的另一个重要贡献是提出了工农联盟问题。④中心议题不正确。因此,本题搭配正确的是②③,故本题答案为C项。

2. B 【解析】习近平在中国共产党第十九次全国代表大会上的报告中指出,中国共产党人的初心和使命,就是为中国人民谋幸福,为中华民族谋复兴。这个初心和使命是激励中国共产党人不断前进的根本动力。故本题选B。

3. C 【解析】中国共产党第十九届中央委员会第三次全体会议,于2018年2月26日至28日在北京举行。会议强调,深化党和国家机构改革,要坚持稳中求进工作总基调,坚持正确改革方向,坚持以人民为中心,坚持全面依法治国,以加强党的全面领导为统领,以国家治理体系和治理能力现代化为导向,以推进党和国家机构职能优化协同高效为着力点,改革机构设置,优化职能配置,深化转职能、转方式、转作风,提高效率效能,为决胜全面建成小康社会、开启全面建设社会主义现代化国家新征程、实现中华民族伟大复兴的中国梦提供有力制度保障。故本题选C。

4. A 【解析】“互信、互利、平等、协商、尊重多样文明、谋求共同发展”构成了“上海精神”核心内涵。它不仅是“上海五国机制”的基础,也是“上海合作组织”的灵魂。故本题选A。

5. D 【解析】本题考查哲学常识。A项都是揭示因果联系。B项揭示的是世界上一切事物都是运动变化和发展的,要用发展的观点看问题。C项揭示的是矛盾双方在一定条件下可以相互转化。D项中,“劈柴不照纹,累死劈柴人”揭示的是发挥主观能动性必须尊重客观规律,违背客观规律必将受到惩罚。而“橘生淮南则为橘,橘生淮北则为枳”揭示的是事物是普遍联系的,外因是事物发展的条件,对不同的事物要因地制宜。因此,本题选择D选项。

6. B 【解析】②属于政府宏观调控的法律手段,①③④均属于政府遏制房价过快上涨可采用的经济手段。故本题选B。

7. C 【解析】宏观经济指标是体现一国或地区经济情况的一种方式,主要指标包括国民生产总值(GNP)、国内生产总值(GDP),通货膨胀与紧缩,投资、消费、金融、财政等指标。A选项,消费者物价指数(CPI)反映与居民生活有关的商品及劳务价格统计出的物价变动指标,通常是观察通货膨胀水平的重要指标;B选项,生产者物价指数(PPI)是衡量工业企业产品出厂价格变动趋势和变动程度的指数,是反映某一时期生产领域价格变动情况的重要经济指标;D选项,国内生产总值(GDP)是重要的宏观经济指标。C选项,IMF是国际货币基金组织,与宏观经济指标无关。因此,本题选择C选项。

8. A 【解析】由①句“瑞雪”可知,对应的是冬季;由②句“霜降”可知,对应的季节是秋季;③句对应的季节是春季;由④句中的“头伏”“二伏”可知对应的季节为夏季。按中国的日历法来说,头伏是真正暑天的开始,头伏固定为十天,从夏至日后第三个庚日始(称入伏)。二伏也叫中伏,指紧接着头伏的第二个十天。因此,本题选A。

9. D 【解析】地球圈层分为地球外圈和地球内圈两大部分。地球外圈可进一步划分为四个基本圈层,即大气圈、水圈、生物圈和岩石圈;地球内圈可进一步划分为三个基本圈层,即地壳圈、地幔圈和地核圈。故本题选D。

10. B 【解析】鹿特丹属于温带海洋性气候,全年温和湿润。最冷月平均气温在 0°C 以上,最暖月又低于 22°C ,适合避暑。属于这一气候的有西北欧、加拿大大西洋沿岸、智利南部、南非及澳大利亚的东南一小部分。A项希腊与D项威尼斯都是地中海气候,夏季高温少雨,C项青岛属于温带季风气候,夏季高温多雨,均不适合避暑。因此,本题正确答案为B。

11. A 【解析】“法律如果推不开特权的门,也一定跨不进人民的心”体现了法律面前人人平等的原则,A项含义与其最为接近。B项与C项体现了法律的公平性与自由的关系,D项体现了法律捍卫公民的言论自由权利。因此本题正确答案为A。

12. A 【解析】评剧发源于河北唐山一带,故A项对应正确。B项,越剧发源于浙江嵊州,发祥于上海。C项,昆曲发源于苏州昆山,苏州位于江苏省。D项,秦腔发源于陕西省宝鸡市的岐山与凤翔。B、C、D三项对应均错误。故本题答案为A。

13. C 【解析】落花中的有机物通过细菌、真菌的分解作用,产生各种无机营养成分又被根吸收。同时分解产生的 CO_2 释放到大气中,又为植物的光合作用提供了原料,由此可见,物质在生态系统中是不断循环的。故A项正确。枫树在低温时叶片中的糖分可转变成花青素,这时花青素是红色的,含量又多,所以叶片变红,且红得鲜艳,故有“霜叶红于二月花”。B项正确。被子植物一般先开花后结果,当“花褪残红”时,果实刚开始发育,故“青杏小”,这属于有性繁殖。C项错误。在农田生态系统中,杂草与农作物之间的关系是种间竞争。一般农作物竞争不过杂草,如果疏于管理,就会出现“草盛豆苗稀”的景象。D项正确。本题选C。

14. C 【解析】大化改新又称大化革新,是公元645年6月日本古代的一次政治、经济改革,其主要内容是废除大贵族垄断政权的体制,向中国隋唐政治经济体制学习,成立古代中央集权国家。明治维新,指19世纪60年代日本在受到西方资本主义工业文明冲击下所进行的,由上而下、具有资本主义性质的全面西化与现代化改革运动。故二者之间没有直接联系,C项当选。A项,美国独立战争始于1775年4月的莱克星顿枪声。B项,在我国,普遍的观点认为1794年的热月政变为法国大革命终结的标志。D项,光荣革命标志着英国资产阶级革命完成。故本题答案为C。

15. D 【解析】宣政院出现在元朝,理藩院和军机处出现在清朝,翰林院出现在唐朝,故

答案为 D。

16. C 【解析】生鸡蛋比熟鸡蛋旋转得慢。因为生鸡蛋里面的蛋黄和蛋白是液体,当我们转动鸡蛋后,蛋壳开始旋转,而鸡蛋里面的液体由于惯性的作用,要保持原来的静止状态;且生鸡蛋内部是液态,旋转力会分散。熟鸡蛋里面的蛋黄和蛋白是固体,而且和鸡蛋壳已结为一个整体,当我们转动鸡蛋后,各部分一同旋转,力被集中。答案为 C。

17. C 【解析】世界卫生组织确定 2016 年 4 月 7 日世界卫生日的主题是“打败糖尿病”,2013 年世界卫生日的主题为“控制高血压”,呼吁国际社会和各国政府重视高血压问题。其他三个选项均正确。故本题答案为 C。

18. B 【解析】本题考查生物常识。A 选项错误,成年人甲状腺激素分泌过多,会引起甲亢,地方性甲状腺肿引起的原因是食物缺碘;C 选项错误,幼年生长激素分泌过多容易导致巨人症,肢端肥大症是成年人生长激素分泌过多所引起的疾病;D 选项错误,鱼肝油是脂肪,脂肪要经过消化转化成甘油和脂肪酸才能被小肠吸收。因此,本题选择 B 选项。

19. A 【解析】中国人民解放军包括陆军、海军、空军、火箭军、战略支援部队五大军种,即火箭军与陆军是并列关系,而非 A 项的从属关系,A 项说法错误。2015 年 12 月 31 日,中央军委举行仪式,将第二炮兵正式命名为“中国人民解放军火箭军”部队,中共中央总书记、国家主席、中央军委主席习近平将八一军旗亲手授予中央军委委员、火箭军司令员魏凤和,火箭军政治委员王家胜。第二炮兵也由原来的战略性独立兵种,上升为独立军种。B、D 两项说法正确。习近平强调,火箭军是我国战略威慑的核心力量,是我国大国地位的战略支撑,是维护国家安全的重要基石。C 项说法正确。故本题选 A。

20. B 【解析】森林中空地的北部边缘,青草较茂密。因为空地北部接受到的太阳光相对南部较多,所以北部的青草生长应该茂密。故 B 项说法错误。其他三项说法正确。

第二部分 言语理解与表达

21. C 【解析】“栩栩如生”指艺术形象非常逼真,如同活的一样。“蔚为大观”形容事物美好繁多,给人一种盛大的印象。“惟妙惟肖”形容描写或模仿的非常逼真。“穷形尽相”原指描写刻画细致生动,现在指丑态毕露。填入横线处的词语要表达的意思是,“世界上最远的距离,是我在你面前,而你在低头看手机”这句网友的笑谈将“手机奴”形容得生动逼真,故“惟妙惟肖”符合文意要求。本题正确答案为 C。

22. C 【解析】A 项,层出不穷:接连不断地出现,没有穷尽。A 项强调的是没有穷尽,由题干无法看出这一点,排除。根深蒂固:比喻基础深厚,不容易动摇。由文段可知,这些问题是洛阳市未来将要面对的,是“双申遗”产生的新问题,故“根深蒂固”形容不当,排除 D 项。比较 B、C 两项,B 项重在强调“事情复杂,不易解决”,而 C 项重在强调“头绪繁多,情况复杂”。由前文可知,洛阳是我国唯一参与“双申遗”的城市,那么其面临的问题应该是多且复杂的,C 项用于此处恰当。故本题选 C。

23. B 【解析】第一空,根据后文“也是难堪的”可知,此处形容官员不能遵纪守法。“按部就班”指按照一定的条理,遵循一定的程序,“墨守成规”形容因循守旧,不肯改进,均与文意不符,排除 A、C 项。第二空,根据文意可知,分号前后两句话为并列关系,横线上所填词语应与“公然违反”语义相近,“特立独行”指有操守、有见识,不随波逐流,与文意不符,排除 D 项。

故本题选 B。

24. D 【解析】从文意来看,第一空所填成语应与“泥沙俱下”语义相近。“泥沙俱下”比喻好的和坏的混杂在一起,而 A 项“鱼目混珠”指以假的冒充真的,故 A、C 项都不符合语义,可首先排除。B、D 项根据第一空不好判断,可从第二空入手。文段强调的是微博在促进、维护公民权利方面的功劳,B 项“推波助澜”含有贬义,不符合语境,排除,故本题选 D。

25. B 【解析】第一空,“声讨”是指公开谴责,与文意不符,排除 C 项。第二空,对转基因的关注成为站队表态,公共辩论变成相互攻击,这是富含“戏剧性”的结局,而不是“喜剧化”或者“悲剧性”的。本题答案为 B。

26. D 【解析】第一空,“一蹴而就”比喻事情一下子就成功,是轻而易举完成的。在这里指心灵的荡涤不是轻而易举完成的,一下子就完成的;“一挥而就”指一动笔就写成了,形容写字、写文章、画画快,与语境不符。排除 B、C。第二个空,与后边货币资本的疾进对应,指物质的增多,“增加”与“厚增”都有增多的意思,但是“厚增”的“厚”与“疾进”的“疾”更能对应,所以本题选 D。

27. B 【解析】先看第二个空,根据“永无止境的忧伤抑郁”“悲观失望”可知,填入的成语应该与前、后所要表达的意思一致,故排除 A、C 两项。再看第一个空,“沉思默想”形容深入地思考,不做声,与后面的蜘蛛吐丝的状态对应。“痴心妄想”指一门心思想着无法实现的事情,不符合文意。故选 B 项。

28. D 【解析】第一空与第二空之间有关联词“即便”,由此可知填入的两个词语之间应该是近义词,且第二个词应该词义稍重。直接看第二空,填入“漏洞百出”“参差不齐”“信手拈来”与文段意思不符,文段强调语言文字使用不规范的现象较为常见,排除 A、B、C 三项。D 项“俯拾皆是”指只要低下头来捡取,到处都是,形容多而易得。“屡见不鲜”意指常常看见,并不新奇,多含贬义。二者填入文段,符合语境。故选 D。

29. B 【解析】句子所要表达的意思是:乐观者总能看到事情好的一面,而悲观者却总是看到事情消极的一面。因此,拥有“晴天大脑”的人,也即乐观者,他们对事情的解读自然是积极的、向好的,可以排除 A、C 两项。再根据第二空后面的“负面信息”,可以发现第一空填“正面”比“正确”更符合题意,也更能凸显前后的对应性,故排除 D 项。所以本题正确答案为 B。

30. C 【解析】先看第一空,人类对自然的“探索”不能用“九牛一毛”来形容,排除 D 项。再看第二空,文中说“人类有一个很大的弱点”,之后就举例双轮车发展成汽车的漫长历史,故填入“贪婪”不准确,应排除 A 项;“停滞”是一个动词,不能作为人类的弱点,故 B 项也应排除。正确答案为 C。

31. A 【解析】第二个空,因为题干中形容现代作家的传记用到了“推崇备至的感情”和“慷慨雄辩的论说”,所以“随性”这个词不适合形容这些传记,排除 C 项。同样,“散漫”表示随随便便,分散、不集中,用在此处不合文意,D 项排除。再看第三个空,此处要表示一种稀少的状态。“蚍蜉撼树”指其力量很小,而妄想动摇强大的事物,不自量力。与文意不相符,故排除 B 项。“凤毛麟角”比喻珍贵而稀少的人或物。符合题干语境,故本题选 A。“寥若晨星”稀少得好像早晨的星星,指为数极少。“吉光片羽”比喻残存的珍贵文物。

32. A 【解析】第一空要和“社会情感”搭配,而“沦落”一般和“人”搭配,据此可排除 C 选项。最后一空,语境是信任需要“技术的_____”,可见感情色彩是褒义的,而“庇护”偏贬义,则据此排除 D 选项。再看第二空,“约束”表示“限制使不出范围”,而“束缚”表示“使受到

约束限制;使停留在狭窄的范围里”,结合语境“约束”更合适。故答案为 A 选项。

33. A 【解析】“水落石出”比喻真相大白;“昭然若揭”形容真相全部暴露,一切都明明白白;“跃然纸上”形容刻画、描写非常生动、逼真;“盖棺定论”指一个人的是非功过到死后就会出现客观的定论。先看第三空,文段表示关于中医的科学性尚不能下结论,因此“跃然纸上”显然不符合文意;“昭然若揭”指“真相暴露”,含有一定的贬义色彩,不符合文段笔调。排除 B、C 两项。再看第二空,形容科学论证,则“严密”较为合适,“严苛”表示严厉苛刻,语义程度过重,不适合用来形容科学论证,排除 D 项。故本题选 A。

34. C 【解析】根据第一句话可以判断出前两空应填一对具有相反意思的成语。“流光溢彩”形容色彩绚丽,是视觉上的美感;而“刹那芳华”形容美好的事物转瞬即逝,是时间上的短暂,前者不能掩盖后者,故排除 B。文段第二、三句是对第一句的解释,根据后文“心脏噗噗跳动……的声音,便是生命……的呼告”,文段是从听觉上着手的,第二空“无声无息”最为合适。再看第三空,“生命浅唱”的动词应为听,排除 D。“谛听”比“倾听”“聆听”更强调用心听,经常与生命等抽象词语搭配。本题选 C。

35. A 【解析】第一空,“定局”一般与某件事情搭配,“默契”多用来形容人,都不能和“公开”一词搭配,所以排除 C、D 两项。第二空,相较于“融入”而言,“植入”更强调出了“公开”在中国政治运行中一点点生根发芽,与题意契合。第三空所填内容应该是对之前的理念、方式的加强,并有新的突破。“升级”指升到比原来高的等级,“更新”则有革新,除旧布新。综合而言,A 项更合适。本题答案为 A。

36. D 【解析】根据文段倒数第二句可知,由于怀表不能适应作战需要,所以腕表的生产成为大势所趋。但并不能由此推出怀表逐渐被淘汰,D 项属于过度推断,其他三项的说法均正确。本题选 D。

37. C 【解析】通读全段可知,文段的重点是“但是”后面的内容,主要强调的是不良的社会风气、不负责任的媒体对整容的误导。观察四个选项,C 项为文段意在说明的内容。D 项属于过度引申。故选 C。

38. D 【解析】D 项“可解决当今世界因工业化带来的各种社会问题”的表述过于绝对,夸大了天人合一思想的作用,说法不正确。答案为 D。

39. A 【解析】文段介绍了灵感的不确定性,稍纵即逝,要及时把握灵感。A 项符合文意。B 项,关于灵感是否是创作的核心,文段并未明确提及;C 项过度引申,文段并未明确提出灵感总是使人激动不安;D 项将灵感与“扶乩”强行建立了联系,文段只是用“扶乩”表达灵感来临时人的反应之迅速,并不是说寻求灵感就像“扶乩”。故本题选 A。

40. D 【解析】文段首先说明了公众对监管的质疑和造假手段隐秘导致监管的困难,转折词“但是”后是作者强调的内容,即监管部门需要承担责任和改进监管工作,故选 D。A、B 两项都不是文段要强调的内容,而 C 项是查处企业造假的措施之一,并不是文段所强调的改进措施。

41. D 【解析】文段第一句话说“语言乏味”“没有倾听欲望”,第二句话说“没有深入群众生活”,第三句话又提到“关注点和兴趣点”,那么通过对这些关键词句的总结不难得出,官员发言时要注意讲群众关注的和有兴趣的,这样群众才爱听,官民才能进行良好的沟通和交流。因此,该文段要强调的是 D 项,即“官员要深入群众了解其关注点和兴趣点”。

42. C 【解析】由文段中的“纵观暑期学生‘整形热’的缘由……其实质都是自信心缺失

的表现”可知,C项是暑期学生“整形热”的根本原因。

43. B 【解析】文段中以“才能”做关联词引导的句子是主旨句,即“执起闪耀着公平正义光辉的改革‘餐刀’,才能……真正品尝到劳动的甘美与生活的甜蜜”,因为强调的是“品尝到劳动的甘美与生活的甜蜜”,因此,只有秉持公平正义,才能让改革的成果惠及民生,所以B项比D项表述更加准确,应选B。

44. A 【解析】文段主要描述异乡游子的思乡之情,最后一句“许多人因为各种因素客死他乡,不能安眠于故土,留下了毕生的遗憾,也留下了感人的故事”暗示下文将举例叙述游子思乡的感人故事。故本题选A。

45. D 【解析】这是一道结语推断题。文段首句谈到高考已经成为测试社会公平的“试纸”,考场上出现的任何瑕疵都可能引起公众心中的不安和不公平感,即维护高考的考场秩序和考试公平十分重要而迫切。尾句用“因此”引导,提出“保证高考的程序公正是今后相当长时间内都不会过时的任务”。整个文段首先论述了高考公平的重要性,接着提出要保证高考的程序公正是一项任务,根据行文逻辑,可以推出作者接下来要论述的是怎么保证高考的程序公正。故本题选D。

46. B 【解析】结合四个选项可知,首句为句④、句⑥、句③中的一句,句④中有转折词“但”,不适合做首句,排除A项;句③有指示代词“这”,不适合做首句,排除C项。B项和D项的区别在于句②和句①,句②中提到作案患者具有精神病史,句①则强调精神的正常与否不能否认这是其极端个案,根据逻辑顺序,可知句②在句①之前。故本题选择B。

47. B 【解析】首先看C、D两项,二者均以⑤句作为首句,而由“从这个意义上说”可知⑤句是一个结论性表述,故可首先排除C、D项。接下来验证A项,⑥句提出问题,③句则引出“精神”这一话题,前后句在衔接上显然有问题,故可排除。本题选B。

48. B 【解析】根据横线前的“即……”可知填入部分是对前文作出的总结。前文所述的顾客对企业的种种好感即“消费者情感导向”,而企业声誉产生于顾客对企业的好感即“企业声誉主要受到消费者情感导向的左右”,故B项最符合文意。A项,文段并未说明企业声誉的效果,而是企业声誉的来源;C项并不是对前文的总结;D项属于无关项,文段并未提及企业会受到惩罚。综上,本题应选择B项。

49. C 【解析】首先根据选项判断③和⑤哪个更适合做第二句。④说的是故乡的位置,③继续介绍故乡村庄的规模和位置,而⑤则介绍的是河湖的景象,明显③与④衔接更紧密,更适合做第二句,排除B、D项。接下来比较②和⑤的顺序,②中的“它们”应该指的是⑤中的“各种水生植物”,故⑤在②前面,排除A选项。本题选C。

50. B 【解析】根据文意可知,横线前后两句话表意相反,故横线处填入的语句应带有转折含义,具有承上启下的作用,“而且”“并且”均表示并列关系,与文段的逻辑关系不符,排除A、C两项。根据主题一致原则,横线部分所填语句应与横线后的“积久形成的官僚主义和官僚习气,很难说消失就消失”语义保持一致,只有B项符合文意。故本题选B。

51. D 【解析】题干中所指的中国舞台艺术的表演方式是虚实结合。A项化虚为实,把“愁”物化为“东流的一江春水”;B项化实为虚,通过春天的花鸟、景物,表达了作者在战乱年代的惊恐心理和恨别愁绪;C项化实为虚,两句诗中的六种景物是按“晨起”“客行”的特定时空感组合而成的,从而透出了客行的辛苦;D项实写,无虚写。故选D。

52. B 【解析】A项,根据原文中的“中国舞台上一般不设置逼真的布景”,A项错误。C

项,原文中说“环境布景阻碍不了表演的集中和灵活”,C项错误;D项的内容原文中没有涉及。画线句子是强调演员表演的重要性,故选B。

53. D 【解析】D项是单纯的对“鹅”的外貌和行动的实写,并没有采取虚实结合的手法。故选D。

54. B 【解析】B项是演员在舞台上的具体表演方式。故选B。

55. A 【解析】B项太过绝对,原文是“中国舞台上一般不设置逼真的布景”;C项,演员用程式手法、舞蹈行动来表演剧情,而不是推动剧情;D项,“实景消而空景观”的目的是让演员充分表现剧情,让剧中人物和观众精神交流,而不是演员。故选A。

56. D 【解析】从第二段最后一句话即可得出本题的正确选项,所谓“初生水”地球内部存在的“水蒸气通过火山口喷发出来,冷却之后便渐渐形成”的水。选项D正确。而A、B、C三项都在说明水存在于何处,与本题要求不相符。

57. A 【解析】通过分析题干可看出,本题是要求寻找不能支持弗兰克观点的论据。该题的空位区间在第四段,第1句是整个段落的中心句,是弗兰克理论的核心观点,从第2句至结尾是用事实论据作具体分析论证。A项恰恰是弗兰克提出的理论观点,而题干却要求回答:不能支持弗兰克理论观点的“论据”,A项显然属答非所问。故选A。

58. C 【解析】根据原文提供的信息来看,依据现代的科技发展速度,A、B两项今后很有可能实现。D项,人类目前类似的研究很多,自不必赘述。C项错误不在于“地球气候还将发生剧变”,而在于“对地球水源的研究”能帮助“预见”地球气候还将发生剧变,在文中没有暗示信息。事实上,从文中可知,“地球气候剧变”是由于“大量的小彗星倾泻而下”造成的。故选C。

59. C 【解析】选项C中提到的小彗星并不完全指代文中提到的小彗星,彗星是一团冰冻物质和尘埃,并不是仅仅由冰组成的,因此该项错误。故选C。

60. B 【解析】凝结:由气体变成液体。聚集:集合,凑在一起。凝聚:气体变浓或变成液体。聚拢:会聚合拢起来。此处“聚集”最符合题意。故选B。

第三部分 数量关系

61. C 【解析】假定2011年的进货量为100件,则2011年的进货金额为 $45 \times 100 = 4500$ 元,而2012年的进货量则为 $100 + 100 \times \frac{1}{2} = 150$ 件,进货金额为 $4500 + 4500 \times \frac{1}{3} = 6000$ 元,因此2012年该商品的进货价格为 $6000 \div 150 = 40$ 元/件。故答案选C项。

62. B 【解析】设四位选手的最终得分分别为A、B、C、D, $A < B < C < D$,则可得 $(A+B)+(C+D)=(A+C)+(B+D)=(A+D)+(B+C)$,而已知其中的5个数中, $99+144=113+130=243$,所以未知的那个数与118的和应为243,则那个数应为125。由于 $A < B < C < D$,所以可以确定 $A+B < A+C < (A+D)/(B+C) < B+D < C+D$,即 $A+B=99$, $A+C=113$, $B+D=130$, $C+D=144$,而 $B+C$ 可能为118,也可能为125。由 $(A+C)-(A+B)=113-99$,可得 $C-B=14$ 为偶数,则 $(B+C)$ 也应该为偶数,所以 $B+C=118$ 。答案为B。

63. C 【解析】本题考查多位数问题,可采用代入排除法。由题干已知,百位数字与个位

数字对调后,新数字比原数字大 495,说明原数字的个位数字比百位数字大,且个位数比百位数大 5,观察选项,只有 C 项符合。故答案选择 C 选项。

64. B 【解析】假设食盐水的质量为 1,则根据公式 $C = \left(\frac{M-M_0}{M}\right)^n C_0$ (其中 C 为稀释后的浓度, C_0 为溶液原来的浓度, M 为已有溶液的量, M_0 为倒出溶液的量),可得出 $27\% = \left(\frac{3}{4}\right)^n \times 64\%$,解得 $n=3$,所以本题选择 B。

65. D 【解析】由题干可知,张某的命中率为 $\frac{3}{4}$,王某的命中率为 $\frac{4}{5}$,杨某的命中率为 $\frac{2}{3}$ 。则三人命中率之比为 $\frac{3}{4} : \frac{4}{5} : \frac{2}{3} = 45 : 48 : 40$ 。45+48+40=133,则张某中了 $266 \times \frac{45}{133} = 90$ (发),王某中了 $266 \times \frac{48}{133} = 96$ (发),杨某中了 $266 \times \frac{40}{133} = 80$ (发)。因为三人射击次数相同,故所求 $= 3 \times \frac{80}{2} = 360$ (发)。故选 D。

66. C 【解析】设每人每小时抢购 1 份,每小时供货 x 份,摊位原有 a 份,由题意则有 $a + 1.5x = 10 \times 1.5$, $a + \frac{2}{3}x = 15 \times \frac{2}{3}$,解得 $a = x = 6$ 。若要在 20 分钟内促销完毕需 $(6 + \frac{1}{3} \times 6) \div \frac{1}{3} = 24$ 人来抢购。所以本题选择 C。

67. D 【解析】本题需要将数列进行变形,然后再计算原式

$$\begin{aligned} \frac{1}{6} + \frac{5}{18} + \frac{17}{54} + \frac{53}{162} + \frac{161}{486} &= \left(\frac{1}{3} - \frac{1}{6}\right) + \left(\frac{1}{3} - \frac{1}{18}\right) + \left(\frac{1}{3} - \frac{1}{54}\right) + \left(\frac{1}{3} - \frac{1}{162}\right) + \left(\frac{1}{3} - \frac{1}{486}\right) \\ &= 2 - \left(\frac{1}{3} + \frac{1}{6} + \frac{1}{18} + \frac{1}{54} + \frac{1}{162} + \frac{1}{486}\right) \\ &= 2 - \frac{283}{486} \\ &= 1 \frac{203}{486} \end{aligned}$$

所以本题选择 D。

68. A 【解析】解法一:分针的速度是每分钟 $360 \div 60 = 6$ (度),时针的速度是每分钟 $360 \div 12 \div 60 = 0.5$ (度),分针每分钟比时针多走 5.5 度。根据题意可知,开会时时针与分针的夹角为 145 度,而 9 点整时,时针与分针的夹角为 90 度,则开会时的时间有可能为 9 点过 $\frac{145-90}{5.5} = 10$ 分钟。这时,需要计算下一次分针与时针成 145 度夹角时,是否在 9 时 30 分之前。下一次成 145 度角时,应该是分针与时针的距离再次拉近所形成的,此时分针距 9 时 10 分时比时针多走了 $360 - 145 - 145 = 70$ (度),所需时间为 $70 \div 5.5 = 12 \frac{8}{11}$ (分),此时是 9 时 $22 \frac{8}{11}$ 分。这时只要分针再与时针拉近 55 度,即可形成 90 度,故所需时间为 $55 \div 5.5 =$

10(分),即垂直时的时间是9时 $32\frac{8}{11}$ 分。故本题选A。

解法二:观察选项,全部是在9点到10点之间,已知9点整时,分针与时针垂直,下一次垂直时,分针应比时针多走180度,所用时间为 $180\div 5.5=32\frac{8}{11}$ (分)。故下一次垂直时是9时 $32\frac{8}{11}$ 分。本题选A。

69. A 【解析】设新购进的路灯数为 x 盏,复兴路的路长为 y 米,根据题意列方程组:

$$\begin{cases} (\frac{y}{10}+1)\times 2=x-10 \\ (\frac{y+2}{8}+1)\times 2=x \end{cases}, \text{解得 } x=50, y=190. \text{ 故选 A.}$$

70. A 【解析】假设练习时需要用的时间为1,小李划龙舟的速度为 v ,由路程不变可得: $1\times v=\frac{4}{5}\times(v+3)$,解得 $v=12$,所以路程为12。逆流时,实际速度为9,所需时间为 $12\div 9=\frac{4}{3}$,比原来多 $\frac{1}{3}$ 。故本题答案为A。

71. D 【解析】本题考查的是等差数列和方程求解,但因数字不是很复杂,代入计算更便捷。若10天后完成,实际工作了8天,编题 $\frac{[50+50-(8-1)\times 2]\times 8}{2}=344$ (道),排除A。若14天后完成,实际工作了10天,编题 $\frac{[50+50-(10-1)\times 2]\times 10}{2}=410$ (道),排除B。若16天后完成,实际工作了12天,编题 $\frac{[50+50-(12-1)\times 2]\times 12}{2}=468$ (道),排除C项。答案为D。可进行验证,若18天后完成,实际工作了14天,编题 $\frac{[50+50-(14-1)\times 2]\times 14}{2}=518$ (道)。故本题答案为D。

72. C 【解析】由题知,满足题意的五位数分为以下几种情况:

(1)万位数是5的五位数共有 $4\times 3\times 2\times 1=24$ (个);

(2)万位数是4的五位数共有 $4\times 3\times 2\times 1=24$ (个);

(3)万位数是3,则千位数只能是5或4。千位数是5时共有 $3\times 2\times 1=6$ (个)五位数满足题意;千位数是4的满足题意的五位数共有如下4个:34215,34251,34512,34521。

所以,共有 $24+24+6+4=58$ (个)数大于34152。本题正确答案为C。

73. C 【解析】设每个进水管每小时进水量为 a ,每个出水管每小时出水量为 B ,则根据题意可得 $(5a-B)\times 5=(3a-B)\times 10$,解得 $a=B$ 。设当需要在2小时内将水池注满时,至少要打开的进水管个数为 x ,则 $(xa-B)\times 2=(5a-B)\times 5$,解得 $x=11$,故本题答案为C。

74. B 【解析】假设工程总量为30,则A抽水机的效率为3,B抽水机的效率为5,再假设透水效率为 n ,根据题意可得: $30=(3+5-n)\times 5$,解得 $n=2$ 。所以,用B抽水机单独抽水时,需花时间 $30\div(5-2)=10$ (小时)。故本题答案为B。

75. A 【解析】由合格率为90%,可设这天生产不合格产品 x 个,则合格产品 $9x$ 个。由题意得, $0.8\times 9x-1.2x=1200$,解得 $x=200$ 。故选A。

第四部分 判断推理

一、图形推理

76. D 【解析】 本题考查空间重构。①②④为同一个正方体的展开图,③⑤⑥为同一个正方体的展开图。故本题选D。

77. D 【解析】 第一个图形的笔画数加上第二个图形的笔画数为第三个图形的笔画数,第二个图形的笔画数加上第三个图形的笔画数为第四个图形的笔画数。由此可知第五个图形的笔画数应为11,D项正确。

78. D 【解析】 ①③④中,正方体侧面的两对角线均相交,②⑤⑥正方体侧面的两对角线均不相交。故本题选D。

79. B 【解析】 由展开图可知,含有黑色三角形的面和有两条平行斜线的面是相对面,那么在立体图形中,必然只能看到其中一个面,排除A项;B项可以由左边的图形折叠而成;在展开图中,有一条对角线的面可以平移至有两条平行斜线的面左侧,那么以有两条交叉对角线的面为起点,经过有两条平行斜线的面,向有一条对角线的面画时针,为逆时针方向,而在C项中,这一路径为顺时针方向,排除;D项,立体图可见的3个面在展开图中,公共顶点只有两条线相交,而在立体图中有3条线,排除。因此答案选择B。

80. C 【解析】 ①④⑥图形内部都包含4种元素,②③⑤图形内部都包含3种元素。故正确答案为C。

81. C 【解析】 ①②③中的2个平行四边形之间有公共边,属于线相连;④⑤⑥中的2个平行四边形之间有公共点,属于点相连。因此,本题选C。

82. B 【解析】 本题考查图形的分类。题干中的六个图形都包含有5个元素,并且每个图形都含有2个相同的元素,其中,①④⑤中相同元素都不相邻,②③⑥中相同元素都相邻。因此本题正确答案为B。

83. D 【解析】 本题考查数量规律。观察题目中的图形可发现,所有图形均由直线和曲线构成,四个选项中的图形都符合这个规律,无法判断出正确答案。再从线条的数量入手,题目中所给图形的直线数分别为1、2、3、4、5,故应该选择含有6条直线的图形。正确答案为D。

84. B 【解析】 本题解题点在于图形的封闭性。①⑤⑥都是开放图形,且图形的各部分相互独立;②③④都是封闭图形,且图形均为一个整体。故正确答案为B。

85. B 【解析】 第一行的三个图形均可三笔画成,第二行的三个图形均可两笔画成,第三行的三个图形均可一笔画成。因此,本题选B。

二、定义判断

86. B 【解析】 功能性音乐的特点是“具有社会实践效益(生理或心理)”,A、C、D三项均符合该定义。B项,练习音乐其目的是“在国际比赛中获奖”,不符合定义。故选B。

87. D 【解析】 由题干可知,类比思维包括“联想”和“类比”。A项,“指鹿为马”指故意指着鹿说是马,并不是联想,并不是因为看到鹿跟马很像才认错。B项,“揠苗助长”指把苗拔起,帮助其生长。自以为苗被拔得高一点就说明其长高了,是主观意识,没有使用类比思维。同理,C项“指皂为白”指混淆黑白,颠倒是非,也是一种主观意识,没有使用类比思维。D项,“鱼目混珠”指把鱼眼珠杂混在珍珠中,显然运用了鱼目与珍珠的相似,使用了类比推理。

故本题选 D。

88. B 【解析】友情化管理模式的关键词是“以朋友的友情化为原则”，A、C 项提到的各主体是亲戚关系，为亲情化管理。D 项按“制度”管理，不符合定义。B 项，小王邀请同学加入公司，属于依靠友情，正确。

89. B 【解析】幽闭恐惧症的关键点在于“害怕密闭或者拥挤的场所”“对这些场所可能会出现未知事件充满恐惧”“一旦离开这些环境，患者的生理和行为都会迅速恢复正常”。选项 A，小强遭遇车祸导致的心惊肉跳属于身心受到刺激后的正常行为；选项 B，小黄因担心地铁可能会发生未知事故而产生焦虑，符合定义；选项 C，小刘平日就很腼腆，与聚会地点无关；选项 D，小孙的恐惧来源于考试成绩所带来的后果，而非对考场可能发生的未知事故的恐惧。故本题选 B。

90. A 【解析】“职业教育”定义的关键信息是“某种职业或生产劳动所需”“职业知识、技能和职业道德”。B 项的就业咨询服务并不属于“职业教育”所需的“职业知识、技能和职业道德”，排除。C 项只是一种兴趣爱好，并非“某种职业或生产劳动所需”，排除。同理，D 项也不是为了“某种职业或生产劳动所需”，排除。A 项符合定义，本题选 A。

91. D 【解析】概括定义的题干可知，白色农业是资源可循环利用的微生物工业型的农业，A、B、C 三项都是将微生物技术应用于农业中，属于微生物工业型的农业，D 项是将养殖、种植综合了起来，实现了物质的循环利用，仍是以太阳光为直接能源的，不属于白色农业范畴。故本题答案为 D。

92. C 【解析】政治抒情诗的主要特征是“表达对当时重要政治事件、社会思潮的评述和情感反应”。A、B、D 项是诗人的情感抒发，未表现出对重要政治事件、社会思潮的评述，不符合定义；C 项，诗人指出公民们应该昂首迎接困难，表达了对当时社会思潮的评述，符合定义。

93. D 【解析】A 项，只体现了定义中的主体“生产者或者消费者的活动”，而缺少客体“其他生产者或消费者”，因此排除；B 项，“小钱做饭”不属于经济活动，不符合定义中的“在实际经济活动中”这一要件，排除；C 项，“竞争”导致的最终结果为国产酒的销量下降，而“国产酒的销量下降”实际上属于“市场性影响”，与定义中的“带来的非市场性影响”这一要件不符，排除。故本题答案为 D。

94. C 【解析】题干的关键在于主体是“国家机关”，手段是“强制性惩罚措施”。其中 A 选项属于行政处分，B 选项没有体现“国家机关”这一主体，D 选项属于党纪处分，C 选项满足题意，所以选择 C 选项。

95. D 【解析】题干所给定义的关键信息是“原来指甲事物，现在指乙事物”“从褒义变为贬义，或从贬义变为褒义”，A、B 两项属于从甲事物变成乙事物的情况，C 项属于从褒义变为贬义的情况。D 项不符合词义转移定义的关键信息。因此，本题选 D。

三、类比推理

96. D 【解析】题干中，黄梅戏和评剧属于五大戏曲剧种，二者是并列关系。与之相对应的是 D 项，宫和商均属于中国古代的五音，二者也是并列关系。A 项，小调又称小曲，二者是同一关系。B 项，青花瓷和油纸伞都是工艺品，虽然也为并列关系，但二者并不是同一类的，类比程度不如 D 项。C 项，花脸又称“净”，是京剧中的一个行当。故选 D。

97. B 【解析】“合纵连横”是战国时期国家间采取的对外策略。合纵的主导国家是楚国，连横的主导国家是秦国。词组的内在关系是策略主导国与采取策略之间的关系，所以答案

为 B 项。

98. B 【解析】私密是密码的属性,而密码是信息的一类;男性是父亲的属性,而父亲是长辈的一种,B 项与题干逻辑关系最为相似。A 项,汽车与摩托车属于并列关系,排除;C 项,初恋不是爱情的属性,排除;D 项,歌词与歌曲不是种属关系,排除。故本题选 B。

99. C 【解析】所谓三教,指的是儒、佛、道三家,题干前后两项是等同关系。岁寒三友,指松、竹、梅三种植物,A 项错误。三牲,一说大三牲包括猪、牛、羊,小三牲包括鸡、鸭、鱼,都没有包含马,B 项错误。《三字经》说:“三才者,天地人;三光者,日月星。”三才是天才、地才、人才,三光是日光、月光、星光。C 项说法正确。“五谷”在古代有多种不同说法,一种指稻、黍、稷、麦、菽,另一种指麻、黍、稷、麦、菽,D 项对应不准确。答案选 C。

100. B 【解析】本题考查对应关系,可用造句法。风险“可能带来”损失,并且“损失”是“风险”的一种结果。A 项,雾霾“阻碍”视野。B 项,创新“可能带来”盈利。C 项,食物“可以抑制”饥饿。D 项,医生“可以医治”感冒。故正确选项为 B。

101. D 【解析】本题考查并列关系。小提琴是西洋乐器中的弦乐器,黑管是西洋乐器中的管乐器,军鼓是西洋乐器中的打击乐器。A、B 两项中,琵琶、古筝、三弦均属于民族乐器中的弹拨乐器,二胡属于民族乐器中的弓弦乐器,而洞箫和唢呐属于民族乐器中的吹奏乐器,均与题目不对应,故排除;C 项,马头琴是蒙古族特有的民族乐器,吉他属于西洋乐器中的弦乐器,故排除;D 项,吉他是西洋乐器中的弦乐器,小号是西洋乐器中的管乐器,三角铁是西洋乐器中的打击乐器,符合题意,故本题选 D。

102. D 【解析】题干的对应关系是面包能解决饥肠辘辘的问题。“唇亡齿寒”指嘴唇没有了,牙齿就会感到寒冷,比喻关系密切,利害相关,不是寒冷的意思。“琴瑟和鸣”比喻夫妇感情美好。“爱莫能助”指虽然心中关切同情,却没有力量帮助。故 A、B、C 项错误。D 项,“黑天摸地”形容天黑得什么也看不见。电灯能解决黑天摸地的问题,故选 D。

103. A 【解析】蚕可以吐丝,奶牛可以挤出牛奶。B、C、D 项中,后者是前者身体的一部分,类比程度不如 A 项。本题选 A。

104. D 【解析】题干中的日出与草原均为曹禺的作品,属于并列关系;D 项的红树林与白棉花均为莫言的作品,也同为并列关系。A、C 项均为作品与作者的关系,排除;B 项的秦腔为贾平凹作品,社戏为鲁迅的作品。故本题选 D。

105. B 【解析】通过书本学习知识,学习知识构成动宾搭配,B 项通过电脑观看视频,观看视频为动宾搭配。“书本”“电脑”都属于物质媒介。故选 B 项。

四、逻辑判断

106. A 【解析】题干的结论是“距离越远,人们越会从更抽象的角度去思考问题”。A 项中,如果打算一年后购买手机,则更容易考虑手机的核心属性;如果打算立即购买,则更加关注细节,这与题干中的结论相符。B 项中,审美必须保持特定距离,并没有说明从抽象的角度去审美;C 项中,军事家身在军营便能准确判断战场形势,并没有说明“距离能使人从抽象的角度思考问题”;D 项中,人际交往中,空间距离和心理距离所呈现的正比例关系,并不能支持题干的结论。故本题正确答案为 A。

107. D 【解析】根据题干中的最后一个条件“至少有两个国家希望与每个国家建交”可知,每个国家都有一些国家希望与之建交,D 项可以得出。A、B、C 三项均不能由题干中条件得出。正确答案为 D。

108.B 【解析】题干的猜测是:5000年前生活在遗址处的先民不会捕捞;论据是:挖掘遗址发现了大量其他动物骨骼,却没有发现鱼类骨骼。B项指出,没有发现鱼类骨骼是因为它不易长久保存,即并非先民不会捕捞,质疑了题干的猜测。A项,考古发现类似于现代扎鱼工具的石制工具,但并不能确定这些石制工具的本来用途是什么,不能质疑题干猜测,排除;C项,生活在近海地区的居民掌握了捕鱼方法,并不代表生活在河边的先民也会捕捞,不能质疑题干猜测,排除;D项指出了一种可能,即没有发现鱼骨是因为鱼骨被磨成了粉,但这只是考古人员走访现代人得出的一种可能性,并不意味着先民也会这么做,不能质疑题干猜测,排除。故本题选B。

109.A 【解析】根据条件(3)知,K安排在J之前,又根据条件(4)知,F和J是连续的,故K肯定安排在F之前,A项正确。根据条件(3)可知,J和S不可能安排在前两周,C项错误,排除。B、D项根据题干条件不能确定推出,排除。故本题选A。

110.D 【解析】题干相当于“如果不下冰雹,那么火车就能出发”,其中,“不下冰雹”是“火车能出发”的充分条件,“下冰雹”是“火车不能出发”的必要条件。I表示是“火车出发”是“不下冰雹”的必要条件,与题干所表示的条件关系不同,因此排除A项。II表示的是“火车不出发”是“下冰雹”的充分条件,即“下冰雹”是“火车不能出发”的必要条件,与题干的含义相同。III可以整理为“只有下冰雹,火车才不能出发”,与题干的含义相同。故本题选D。

111.B 【解析】A项,题干中主要讨论番茄汁有预防乳腺癌的作用,并没有将健康人与乳腺癌患者饮用番茄汁量进行比较,排除。B项,由题干第二、三句可以推出。C项,题干中虽然提到了番茄红素“可以阻止癌细胞生长和扩散”,但是否能使得癌细胞死亡从题干中无法得到确切结论,排除。D项,题干最后提到其他一些瓜果中也含有一定量的番茄红素,但并没有比较它们与番茄在预防乳腺癌方面的功效差异,排除。故本题选B。

112.D 【解析】根据小李经常请假,推断他不适合继续担任董事长秘书的职务,则III是必须的假设;若II不成立,则无法因身体情况推出不适合继续担任董事长秘书一职;I项是必须假设的,否则,如果事实上近一年来小李很少给董事长写信,那么,即使信件的上述内容是真实的,也难以推断出小李的身体确实不好。因此,为使题干的论证成立,I、II和III项都是必须假设的。故本题选D。

113.C 【解析】上述文段的结论:今年大豆蚜虫的出现较往年早了3至4天,是由于今年春季气温回升较快。A项强调的是蚜虫危害的严重性,与结论中强调的危害发生早不同。B、D两项属于无关选项。C项属于他因削弱,指出今年大豆蚜虫出现较早是由于今年降水少。因此,本题正确答案为C。

114.A 【解析】本题属于真假推理,主要考查矛盾的判定。第二个人说“这孩子撒谎,她是女孩”,两个分句间可以利用矛盾识别。假设孩子是男孩,那么孩子没撒谎,而且不是女孩,两句都是假话;假设孩子是女孩,那么孩子撒谎了,而且确实是女孩,两句都是真话。根据假设可以知道第二个说话的人不是母亲,那么第一个说话的是母亲。第二个说话的是父亲,父亲从来不说谎,那么孩子是女孩。所以选择A选项。

115.B 【解析】本题结论是,雾霾会导致该地区自杀率上升。A项介绍了一种叫做“季节性情绪失调”的心理疾病,与结论无关;B项质疑自杀案例与化工工业有关,质疑力度较强;C、D项是加强项。故本题应选B项。

第五部分 资料分析

116.B 【解析】由图 1 可知,2014 年 Z 省生产总值为 40154 亿元;由图 2 可知,2014 年 Z 省第三产业增加值占全省生产总值的 47.9%。所以 2014 年 Z 省第三产业增加值为 $40154 \times 47.9\% \approx 40000 \times 48\% = 19200$ (亿元),估算结果比真实值略小,只有 B 项最为接近。故本题答案为 B。

117.A 【解析】由图 1 可知,2014 年 Z 省生产总值为 40154 亿元;由图 2 可知,2014 年 Z 省第二产业增加值占全省生产总值的 47.7%。所以 2013 年 Z 省第二产业增加值为 $\frac{40154 \times 47.7\%}{1+7.1\%} \approx 40000 \times 48\% \times (1-7.1\%) \approx 19200 \times (1-7\%) = 19200 - 1344 = 17856$ (亿元),与 A 项最为接近。故本题答案为 A。

118.D 【解析】由图 1 简单估算可知,Z 省生产总值在 2012 年、2013 年、2014 年的名义增长均不超过 4000 亿元,2011 年的名义增长为 $32319 - 27722 = 4500^+$ (亿元),2010 年的名义增长为 $27722 - 22990 = 4700^+$ (亿元),故名义增长最多的是 2010 年。故本题答案为 D。

119.C 【解析】由图 1 可知,Z 省生产总值 2014 年同比增长 7.6%,2013 年同比增长 8.2%,则与 2012 年相比,2014 年 Z 省生产总值的增长率约为 $7.6\% + 8.2\% + 7.6\% \times 8.2\% \approx 15.8\% + 7.5\% \times 8\% = 15.8\% + 0.6\% = 16.4\%$ 。故本题答案为 C。

120.A 【解析】A 选项,由图 1 可知,Z 省生产总值 2009 年为 22990 亿元,2014 年为 40154 亿元,则 2009—2014 年平均每年名义增长 $\frac{40154 - 22990}{5} \approx \frac{40000 - 23000}{5} = \frac{17000}{5} = 3400$ (亿元),A 项说法正确;B 选项,由图 2 可知,第三产业增加值中,房地产业占 11.5%,金融业占 15.3%,二者之和为 $11.5\% + 15.3\% = 26.8\%$,不足三成,B 项说法错误;C 选项,由图 1 可知,2009—2014 年 Z 省生产总值同比增速 2010 年上升,2011 年、2012 年下降,2013 年又有所上升,C 项说法错误;D 选项,由图 2 可知,第三产业增加值中,住宿和餐饮业占 4.3%,但其他服务业中也可能存在占比小于 4.3% 的行业,D 项无法推出。故本题答案为 A。

121.C 【解析】2010 年,全国出版、印刷和发行服务实现营业收入为 $\frac{14568.6}{1+17.7\%} \approx \frac{14000}{1+\frac{1}{6}} = 14000 \times \frac{6}{7} = 12000$ (亿元)。C 项数值最为接近,故本题答案为 C。

122.C 【解析】2010 年,新版图书占全国图书的比重为 $\frac{20.8}{1+9.6\%} \div \frac{37}{1+12.5\%} = \frac{20.8}{37} \times \frac{1+12.5\%}{1+9.6\%}$,因为 $\frac{1+12.5\%}{1+9.6\%}$ 略大于 1,所以最终答案应略大于 $\frac{20.8}{37} \approx 56.2\%$ 。只有 C 项符合。故本题答案为 C。

123.B 【解析】2011 年,期刊出版实现营业收入的同比增速为 $\frac{45.4}{162.6 - 45.4} \times 100\% \approx 38.7\%$ 。故本题答案为 B。

124.D 【解析】2011年,每种报纸的月平均营业收入同比增长 $\frac{818.9 \times 10^8}{1928 \times 12} -$

$$\frac{818.9 \times 10^8}{1 + 12.3\%} \approx \frac{820 \times 10^8}{1930 \times 12} \times \frac{12.9\%}{1 + 12.3\%} \approx \frac{820 \times 10^8 \times 13}{1930 \times 12 \times 110} \approx \frac{800 \times 10^8}{2000 \times 100} = 400 \times 10^3 = 40(\text{万元}).$$
$$\frac{1928}{1 - 0.6\%} \times 12$$

故本题答案为D。

125.C 【解析】2011年,报纸的总印张为2272.0亿,增速为5.8%;期刊总印张为192.7亿,增速为6.4%,图书总印张为634.5亿,增速为4.7%,因此,报纸印张总量最大;期刊印张增速位居第一,A项说法正确;2011年,新版图书与重版、重印图书品种之比为20.8:16.2 \approx

$$1.3:1, \text{B项说法正确}; 2010\text{年,图书出版利润占总体利润的比重为 } \frac{94.2}{\frac{1 + 22.2\%}{1128}} \times 100\% \approx$$

7.2%,C项说法错误;2010年,图书出版的增加值为 $\frac{225.3}{1 + 4.8\%} \approx 215$ (亿元),期刊出版的增加值

为 $\frac{152.4}{1 + 114.2\%} \approx 71$ (亿元),报纸出版的增加值为 $\frac{320.2}{1 + 1.0\%} \approx 317$ (亿元),因此,2010年增加值由高到低的是报纸出版、图书出版、期刊出版,D项说法正确。故本题答案为C。

126.B 【解析】本题考查基期量的计算,2012年1—6月,中部地区固定资产投资额约为 $\frac{49509}{1 + 23.6\%} \approx \frac{50000}{1.25} = 40000$ 亿元。因此,本题选择B选项。

127.A 【解析】本题考查比重变化分析。要使2013年行业投资所占比重小于上年同期,需要该行业的增长率小于全国固定资产投资的增长率20.1%,各行业中有采矿业,制造业,电力、热力、燃气及水的生产和供应业,建筑业和公共管理、社会保障和社会组织共5个行业满足。因此,本题选择A选项。

128.C 【解析】本题考查增长量的大小比较。卫生和社会工作完成投资额及增长率均小于文化、体育和娱乐业,则其增长量也应小于文化、体育和娱乐业,排除D项。与教育行业相比,卫生和社会工作的增长率基本一致,但投资额远小于教育业,则其增长量也应小于教育业,排除B项。采矿业的投资额是卫生和社会工作的4倍多,而卫生和社会工作的同比增长率不到采矿业的3倍,则增长量肯定也是卫生和社会工作小于采矿业,排除A项。因此,本题选择C选项。

129.B 【解析】2012年1—6月,第二产业投资额为 $\frac{78052}{1 + 15.6\%}$ 亿元,全国固定资产投资额为 $\frac{181318}{1 + 20.1\%}$ 亿元,前者占后者的比重约为 $\frac{78052}{181318} \times \frac{1.201}{1.156} \approx \frac{78000}{180000} \times \frac{1.2}{1.156} = \frac{26}{50} \times \frac{1}{1.156} = \frac{26}{57.8} \approx 45\%$,与B项最接近。因此,本题选择B选项。

130.D 【解析】A项,材料中并没有告诉2013年6月份的固定资产投资情况,A项无法推出。

B项,2013年1—6月,港澳台商投资企业完成投资额小于外商投资企业,且其增长率高

于外商投资企业,则其基期量也应小于外商投资企业,B项说法错误。

C项,2012年1—6月,固定资产投资到位资金中,自筹资金所占的比重约为 $\frac{146393}{217401} \times$

$\frac{1.201}{1.186} > \frac{146393}{217401} > \frac{146000}{219000} = \frac{2}{3}$,肯定超过六成,C项错误。

D项,2013年1—5月,西部地区投资同比增速为22.7%,东部地区同比增速为18.7%+0.3%=19%,前者比后者高22.7-19=3.7个百分点,D项说法正确。

因此,本题选择D选项。

131.D 【解析】根据资料“该省2014年全省生产总值实现29421.2亿元,比上年增长6.5%”可知,2013年全省生产总值为 $\frac{29421.2}{1+6.5\%} \approx \frac{29420}{1.065}$,运用直除法,首两位为27,故本题选择

D项。

132.C 【解析】与2013年相比,2014年各产业增加值的增长量分别为:

第一产业: $3447.5 - \frac{3447.5}{1+3.7\%} \approx 3447.5 - 3324.5 = 123$ (亿元),

第二产业: $15020.2 - \frac{15020.2}{1+5.0\%} \approx 15020.2 - 14305.0 = 715.2$ (亿元),

第三产业: $10953.5 - \frac{10953.5}{1+9.7\%} \approx 10953.5 - 9985.0 = 968.5$ (亿元),

由此可知,第三产业增加值的增长量最高。故本题选择C项。

本题计算量较大,可先做其他题目,将该题放到最后来做。

133.B 【解析】根据资料“2014年,全部财政收入3764.6亿元,比上年增长3.4%”,可知,2013年平均每月财政收入约为 $\frac{3764.6}{1+3.4\%} = \frac{3764.6}{12 \times 1.034} \approx \frac{3765}{12 \times 1.035} = \frac{3765}{12.42}$,直除首两位为

30。故本题选择B项。

134.A 【解析】根据资料“完成出口303.9亿美元,占全省出口总值的85.1%”,可知,该省全省出口总值为 $\frac{303.9}{85.1\%} \approx \frac{300}{0.85} \approx 353.0$ (亿美元),A项最为接近。故本题选择A项。

135.A 【解析】根据资料中的2010年和2014年三次产业增加值比重图,可以看出A项正确。根据表格资料可知,烟酒的价格有所下降,B项错误。根据资料“该省2014年全省生产总值实现29421.2亿元,比上年增长6.5%……民营企业经济增加值实现19894.4亿元,比上年增长7.5%”可知,部分增长速度高于整体增长速度,比重应有所上升,C项错误。D项,从资料中无法推出“持续上升”,错误。故本题选择A项。



申论 标准预测试卷

华图公务员考试研究院 审定

网络暴力

满分:100分 时限:180分钟

一、注意事项

1. 本题本由给定资料与作答要求两部分组成,考试时限为180分钟。其中,阅读给定资料参考时限为50分钟,作答参考时限为130分钟。

2. 请在题本、答题卡指定位置上用黑色字迹的钢笔或签字笔填写自己的姓名和准考证号,并用2B铅笔在准考证号对应的数字上填涂。

3. 请用黑色字迹的钢笔或签字笔在答题卡上指定的区域内作答,超出答题区域的作答无效!

4. 待监考人员宣布考试开始后,你才可以开始答题。

5. 所有题目一律使用现代汉语作答,未按要求作答的,不得分。

6. 监考人员宣布考试结束时,考生应立即停止作答,将题本、答案卡和草稿纸都翻过来留在桌上,待监考人员确认数量无误、允许离开后,方可离开。

严禁折叠答题卡!

二、给定资料

1. 从14次大满贯一轮游到澳网七连胜,从一个曾经的澳网球童摇身一变成为澳网女单八强,2016年的澳网无疑是网球运动员张帅职业生涯最高光的时刻。但在2016年10月10日这一天,就是这样一个坦诚、直率的姑娘,面对激进、带有歧视性的言论,她几乎删掉所有微博,仅留的几条状态也关闭了评论。

引发张帅不满的是球迷激进的评论。张帅微博的评论内容中充满了大量负能量、带有侮辱性的言论,比如有人就骂她是“黑土鳖”。张帅在她的粉丝群里这样说:“网络上的一些人比较极端,我觉得我还没有内心强大到看了之后不难受。我觉得每个人都应该彼此尊重,但是在微博里,不可能要求每个人都有这个觉悟和素质。我觉得这种低素质、出言不逊的人,微博管理人员应该将他们的微博关闭,但微博管理员说很难做到。既然是这样,社会没有秩序,游戏没有规则,那我退出游戏,我不想跟那些肮脏的人在一个空间里。所以,从现在开始,我的微博结束了。谢谢大家的支持! 后会有期!”

其实像张帅这样的事例不在少数,在微博上,人人都能发表意见,大部分不需负责,这导致网络暴力事件频频出现,诸多公众人物更是见怪不怪。

7月28日,王中磊的爱女王文也遭遇到了极为恶劣的网络暴力行径。一男子注册多个微博账号,在王文也的个人微博评论里频繁刷屏,该男子频繁更换多个账号,且每个账号的名字都是直指王文也的猥亵词语。

9月12日,出演《甄嬛传》反派之一“安陵容”的演员陶昕然一直因戏内角色受到网友非议。陶昕然在微博晒出女儿照片,之后却遭到网友抨击“感觉你女儿不会有好下场”。

9月16日晚,演员、歌手乔任梁在上海意外身亡,年仅28岁,时至2015年,在高强度的工作压力和网络暴力的连环打击之下,乔任梁的病情明显加重,抑郁症开始严重地影响他的工作和生活:被频繁投诉、换角、乔任梁甚至还一度险被行业封杀。

9月23日,井柏然在微博晒出一张带有“微博再见”的图片,疑似退出微博,评论功能也被关闭。随后,有网友发现,井柏然删除了INS上的所有动态,对这一举动,网友表示一头雾水,井柏然粉丝也纷纷留言。

10月12日,韩庚工作室发表声明,希望相关媒体撤除关于韩庚的负面报道。韩庚工作室称,有部分媒体对韩庚接受访问时的内容做了不实解读和恶意诽谤。

如今,以往的吃瓜群众的“围观”已经渐渐变成了道德绑架,有网友认为,任何人在个人平台都有选择表达或不表达的权利和自由。“他们因为极其难过和失落才不想再说什么而已。”“伤心不伤心别人自己知道就行,为什么要按照大众要求的套路走?”“伤心不是做给别人看的。”还有网友直言网络发声不应变成网络攻击,“请收起言语中的刀”。“文明用网络,积点口德,不喜欢别关注就好,别动不动说别人不是。没有网络攻击,世界一片光明与美好。”还有网友反思,如今自己的生活被网络左右太多。“我们的生活真的不只有网络。真真实实地生活,踏踏实实过日子,才是人生。”

2.“1998年,我失去了全部名誉和尊严,失去了自我,甚至几乎失去了生命……十七年前,这种现象还没有专属名词,但现在我们把它称作‘网络欺凌’或‘网上骚扰’。”在公众面前沉默了十年的前白宫性丑闻事件当事人莱温斯基近日在一家非盈利机构的大会上发表演讲,呼吁公众抵制“羞辱文化”,关爱受网络欺凌人群。

“羞辱文化”“网络暴力”“人肉搜索”……这些名词令人不寒而栗。成千上万的网民凭借它成为“福尔摩斯”,在一次次围剿事件中更是成了网络道德的“审判官”,却伤害着事件中心的“被关注”群体。中国及许多其他国家挥起铁拳,从各路出击打击,以期将网络语言暴力事件的伤害降至最低。1995年,当时年仅22岁的莱温斯基开始在白宫工作,之后与时任美国总统的克林顿发生婚外情。两年后她与克林顿的绯闻曝光,从此,莱温斯基遭遇“毁灭性的后果”。她表示,自己成为“第一个瞬间被全世界羞辱”的“零号病人”。

2014年5月,莱温斯基在《名利场》杂志发表了题为《羞耻与生存》的文章,谈及她同克林顿的丑闻时说,“随着社交媒体的出现,我受到的屈辱更具有毁灭性。在‘推特’、YouTube、‘脸谱’,以及各大社交媒体上,人们对我的指责就像病毒蔓延一样铺天盖地。”如今,网络已经成为传播尴尬事件的主渠道,其内容堪比大杂烩。美国纽约州布隆维尔市萨拉劳伦斯学院的米尔斯说,我们的网络世界如今有很大一部分用在了阴暗的东西上,比如说快速传播他人的尴尬、夸大他人的缺陷等。

“互联网时代,没人能逃脱别人的八卦,那些传言半真半假,谎言生根发芽。”莱温斯基借用历史学家尼古拉斯·米尔斯的话说,我们建立了一种“羞耻文化”。在这种文化中,幸灾乐祸受到鼓励,而网站则利用人们的这一心理从中牟利。

在接受广州日报记者采访时，香港中文大学（深圳）副教授、哈佛大学心理学系博士后张介英认为，网络暴力会让无辜遭遇狂喷的人产生很大的负能量，他建议对于网络暴力“不用想太多”、“最好的方式是无视他们，或关掉评论”。

张介英认为，如今网络发言是匿名的，这种方式就像一种盔甲，“人在匿名的时候常常赋予自己很高的价值观和道德观，他们会有机会行使现实中无法行使的道德批判——或许他们本人都做不到的，但他们会要求别人达到某种道德规范。可以说，匿名的方式给予了不少人任意乱喷的方式和抒发的管道，也给了他们一个用语言暴力来对付所谓名人的机会，而且不需要承担任何后果”。

作为受攻击方，或许会产生“真不知道他们为什么这样骂我”的迷茫，但同时应该清醒意识到，网络上的喷子也做不到他们所要求的道德至高标准，既然明星们本人并没有违背法律和道德的要求，就不用太苛责自己，“过自己的生活，不用想太多”。同时，张介英提出，“不妨调整心态，把遭遇网络暴力作为一次学习、取得经验的过程，下次应对公众事件或镜头可以更加小心”，“换个方式去想，可以渐渐消除因网络暴力带来的负能量”。

3. 习近平总书记在 2016 年 4 月 19 日召开的网络安全和信息化工作座谈会上的讲话中指出，网络空间是亿万民众共同的精神家园。网络空间天朗气清、生态良好，符合人民利益。网络空间乌烟瘴气、生态恶化，不符合人民利益。谁都不愿生活在一个充斥着虚假、诈骗、攻击、谩骂、恐怖、色情、暴力的空间。互联网不是法外之地。利用网络鼓吹推翻国家政权，煽动宗教极端主义，宣扬民族分裂思想，教唆暴力恐怖活动，等等，这样的行为要坚决制止和打击，决不能任其大行其道。利用网络进行欺诈活动，散布色情材料，进行人身攻击，兜售非法物品，等等，这样的言行也要坚决管控，决不能任其大行其道。没有哪个国家会允许这样的行为泛滥开来。我们要本着对社会负责、对人民负责的态度，依法加强网络空间治理，加强网络内容建设，做强网上正面宣传，培育积极健康、向上向善的网络文化，用社会主义核心价值观和人类优秀文明成果滋养人心、滋养社会，做到正能量充沛、主旋律高昂，为广大网民特别是青少年营造一个风清气正的网络空间。

形成良好网上舆论氛围，不是说只能有一个声音、一个调子，而是说不能搬弄是非、颠倒黑白、造谣生事、违法犯罪，不能超越了宪法法律界限。我多次强调，要把权力关进制度的笼子里，一个重要手段就是发挥舆论监督包括互联网监督作用。这一条，各级党政机关和领导干部特别要注意，首先要做好。对网上那些出于善意的批评，对互联网监督，不论是对党和政府工作提的还是对领导干部个人提的，不论是和风细雨的还是忠言逆耳的，我们不仅要欢迎，而且要认真研究和吸取。

随着社会经济的发展。中国也已成为一个网络大国，在网络给我们的生活带来越来越多的便利的同时，网络安全威胁也随之加大，网民的很多合法权益难以得到保障。像是网络侵权行为、网络暴力行为、违法信息的传播，给我们的生活带来了不少的麻烦和困扰，因此迫切需要建立和完善网络安全的法律制度，提高网络安全的保护水平，净化网络环境。

2016 年 11 月 7 日，十二届全国人大常委会第二十四次会议表决通过《中华人民共和国网络安全法》，2017 年 6 月 1 日开始实行，在很多方面做出了明确的规定，像是保护个人信息、治

理网络诈骗、网络实名制等等问题中,《网络安全法》制定的主要目的其实就是为了建立良好的网络秩序,保护公民和各个组织的合法权益,这样看来,《网络法》的制定,包含着“保护”,也包含着“管制”。

其中,引起网友们特别重视的就是以法律形式明确“网络实名制”。网络暴力一直是一个不容忽视的问题,众多的“键盘侠”们躲在虚拟 ID 背后一言不合就开骂,唯恐天下不乱,因为网络暴力而引发了很多现实悲剧,种种网络世界的乱象开始延续到现实生活。这次的安全法以法律形式对“网络实名制”做出了相关规定,相关网络运营者和用户都必须提供相关的真实身份信息,也希望“网络实名制”能对各种肆无忌惮的网络暴力者等等进行有效的管制,使得网络世界重回清净。

4.据美国媒体报道,从 2010 年 6 月起,美国国土安全部分布在各地的指挥中心已开始执行“社交网络/媒体能力”项目,对网上公共论坛、博客、留言板等进行常规监控,多个知名社交媒体及众多热门博客均在监控名单中。美国政府一直通过社交网络搜集各种信息。2011 年,推特同意将用户发布的全部微博(约为每天 2.5 亿条)交给美国国会图书馆收作电子档案。美国国土安全部设立了“社交网络监控中心”,专门在脸谱、推特、聚友等社交网站、政治博客及其他网站中搜寻相关信息,以保护总统安全。

英国的警察和情报部门能够在特定情况下获取通信数据,以调查严重犯罪和恐怖主义,保护公众安全;允许互联网服务供应商及电信公司安装硬件,储存通信数据长达一年。新立法还要求社交网站保留用户相关信息记录,以备查询。随着英国网络问题日益增多,仅仅通过行业自律有时难以达到治理效果。特别是 2011 年 8 月伦敦等地出现的严重骚乱,更是给英国政府敲响了警钟。在这次骚乱中,网络和社交媒体被骚乱分子用来互通声气、推波助澜,多个社交媒体被广泛用于组织骚乱。前英国首相卡梅伦当时就表态要对网络加强监管,制止把社交媒体用于暴力的行为。

德国总理默克尔 2014 年 2 月提议,在欧洲建立一个独立的通讯网络,避免欧洲国家之间的电子邮件和数据绕道美国。网络专家认为,默克尔提出建设欧洲通讯网的倡议,可视为是继续推动欧盟一体化建设和加强欧洲通讯网络安全性的一项重要举措,意在组建一个可不经美国传输电邮,并传输、储存数据的欧洲自主可控的通讯网络。

俄联邦安全总局主要负责对互联网上所有不良信息,特别是涉及俄国家安全的信息进行监控;媒体与文化管理局主要负责对传媒、信息和通信技术进行监管;俄内务部特种技术措施局具体负责网络安全,接受网民关于不良网络信息及程序的举报;俄内务部网络监控中心主要负责监控“推特”、“脸谱”等新兴媒体。从 2014 年 8 月 1 日起,俄罗斯关于博客的新法规正式生效。根据规定,根据网站访问量统计,凡是日均访问量超过 3000 人次的博客作者被认定为知名博主,须被列入俄通信、信息技术与大众传媒监督局的监督名单。另外,凡被认定为知名博主的博客作者,部分等同于媒体记者,须遵守俄法律对大众媒体的相关规定。

新加坡在网络管理方面非常严厉。新加坡的《互联网操作规则》对网站“禁止内容”提供了明确而具体的判断标准。《管理法》规定,在新加坡的网络服务供应商(ISP)和拥有网址的政党、宗教团体以及以新加坡为对象的电子媒体,均须在新加坡广播局注册并接受管理,受管制

的内容涉及“反政府和影响民众信心”“煽动种族和宗教仇恨、歧视”“危害公共安全和国防”等。新加坡还将上百个政治性网站列入禁访者清单，不遵守规定的 ISP 将被吊销执照或罚款，私下访问者也会受到刑罚。政府还鼓励服务供应商开发推广“家庭上网系统”，协助用户过滤掉不适宜看到的内容。

马来西亚《资讯及多媒体法》规定，利用互联网散播谣言或发布不正确消息者，除罚款外还可判处最高 3 年徒刑。

在日本，在信息发送者发送违法信息的情况下，登载该信息的网站管理者负有连带民事责任，有义务视情况删除相关信息。从现有案例看，日本执法和情报机关 24 小时监视、收集和分析网上信息，包括电子邮件。根据现有法律，日本警方在发现可疑信息后，有权要求 ISP 和网管提供相关信息或查封网页。在日本，多数网上论坛采取会员制，会员有义务向 ISP 和版主提供详细、真实的个人信息。为避免不负责任的言论引发法律纠纷并节省人力，日本各大新闻机构和报社不在其网络新闻中开设“评论栏”，一般网民只有到专门的 BBS 和网络论坛中才能随意发表匿名评论，客观上将网络评论和匿名信息的社会影响程度降到最低。

在韩国，各个网站都要求申请网站邮箱或聊天账号等的用户填写详细的客户资料，填报真实姓名、住址、身份证号、职业等详细信息。为杜绝虚假信息，网站对每个申请人的姓名和身份证号核实无误后，才提供邮箱或账号。通过这种方式，可以对上网聊天和发送电子邮件的用户真实资料进行备案，防止不法之徒利用虚假信息从事网络犯罪。

5.江西省公安厅新闻通报会上通报，江西省公安机关依法加大对利用互联网造谣、传谣等违法行为的打击力度，查处了多起通过贴吧、微博、QQ 群和微信群造谣传谣案件，依法处罚了吴某某、段某某、祝某某等 9 名恶意造谣传谣人员。

据了解，在通报的四起典型案例中，有通过捏造、篡改灾害信息、疫情信息，将其扩大化、妖魔化，引起公众恐慌，扰乱社会秩序，影响人们的生产生活。如：九江 SB250 病毒谣言。2016 年 2 月 15 日，工作人员发现，有网民在网上散布“一孕妇感染 SB250 病毒死亡，年龄 31 岁，参与抢救的医生已经被隔离，据悉孕妇是在市场买草鱼回家做酸菜鱼吃后发觉呕吐头晕送医院，暂时别吃鱼肉、酸菜，特别是草鱼、酸菜鱼、水煮鱼，收到后马上发给你关心的人，预防永远胜过治疗”的谣言信息。经公安机关调查，网民吴某某为戏谑取乐擅自将网上谣言信息事发地篡改，引发当地群众恐慌情绪。修水县公安机关根据《中华人民共和国治安管理处罚法》第 25 条之规定，依法给予吴某某行政拘留 5 天的处罚。

另外，还有通过虚构恐怖信息或危害公众安全事件信息，威胁社会安全稳定。如：扬言要烧毁赣州南康区一家具厂的谣言。为达到自身目的，通过歪曲事实真相，意图引发网民“围观”，给政府机关制造舆论压力，增加其向政府机关“讨价还价”的筹码。如：歪曲公安特警暴力执法的谣言。

据悉，我国法律早已对造谣行为进行了相关处罚规定，主要的执法依据是《中华人民共和国治安管理处罚法》第 25 条。规定有下列行为之一的，处 5 日以上 10 日以下拘留，可以并处五百元以下罚款；情节较轻的，处 5 日以下拘留或者五百元以下罚款：一是散布谣言，谎报险情、疫情、警情或者以其他方法故意扰乱公共秩序的；二是投放虚假的爆炸性、毒害性、放射性、

腐蚀性物质或者传染病病原体等危险物质扰乱公共秩序的；三是扬言实施放火、爆炸、投放危险物质扰乱公共秩序的。此外，倘若在网络上散布谣言后果严重，使得公众生产、生活受到严重影响的，可构成刑法中的“扰乱公共秩序罪”。

在公安机关依法严厉打击各类网络谣言行为的同时，江西省公安厅告诫广大网民要做一个有社会责任感的公民，增强自律意识、法律意识，规范网络言行，遵守各项法律法规，做到不造谣、不信谣、不传谣，为社会营造一个和谐、文明、清朗的网络环境。

6.在网络这个凭借数字与多媒体技术所构建的虚拟世界，为何会演化出现实生活中才会发生的暴力？社会进步的同时，“羞辱文化”的不断酝酿与升级触目惊心，是什么造就了这样的氛围？“人性并没有改变”，洛杉矶危机管理顾问乔纳森·伯恩斯坦说，“总有这样一种人，存在的目的就是给他人带来痛苦。如果他们看到别人的尴尬之事，就想搞得尽人皆知，并以此为乐。没有互联网的时候，他们只能跟邻居窃窃私语；而现在，他们可以跟全世界的人八卦一下。”

另一种观点认为，科技进步让人们变得更加玩世不恭。“这是一种伤人的消遣，”在洛杉矶经营一家危机管理公司的芬克说，“似乎每个人都拿着手机，随时准备拍下一些给他人带来不利影响的照片”。同时，网络的隐匿性降低了网民参与网络讨论的风险，使得屏幕背后的网民拥有了“法不责众”的心理保护。中国人民大学心理学系雷雳教授说，网络的匿名性和虚拟性，都使人们的自我约束能力被“缴械”，现实中不敢或不能表达的思想，都会显现出来。

有人曾说，网络暴力就如同“看不见的拳头”，给众多受害者带去伤害的同时，攻击者却逍遥法外。“网络社会也应是法治社会，而非‘法外之地’，通过加强立法，依法规范和治理网络行为，遏制网络暴力，是依法治国的必然要求。”武汉大学教授、博士生导师周叶中解释说，最高法出台信息网络侵权司法解释，对个人信息圈定“保护网”，包括“人肉搜索”等网络行为都要承担侵权责任。

国家所倡导的做文明网民，以“网络同胞休戚与共”、“善待别人就是善待自己”、“减少网络暴力，控制不文明言论”、“提升自我，清除内心阴暗”等为口号，向全社会发出声音，希望网民都能够理性、阳光、文明，积极向上的营造一个美丽的网络环境，至今网络谣言和暴力明显减少，但是依然未曾杜绝，时有发生。在信息化社会，信息的传播通过网络媒体达到了极限，而各种社交工具的广泛使用加剧了这一效应，一人的信息以次方的几何数广播出去，很快的时间便会成为“洪灾”，此时万事晚矣，只能善后。但对人民和社会来说，网络这个平台应该是可控的，可以规避危害的。网络是社会的新窗口，文明的表现，所以我们网民就具有净化网络环境、维护网络文明、推进网络健康发展的义务。

三、作答要求

(一)阅读给定资料，归纳和概括网络暴力这种现象产生的主要原因并提出相应的解决措施。(15分)

要求：全面、准确、简明。不超过300字。

(二)“给定资料 6”中说“网络暴力就如同‘看不见的拳头’”,请根据“给定资料 6”,指出这句话的含义。(10 分)

要求:全面、准确,不超过 150 字。

(三)假如你是某市文明办的工作人员,为提高社区群众文明上网的意识,请根据“给定资料 6”写一篇倡议书。(20 分)

要求:(1)内容具体,符合实际;

(2)对象明确,切合主题;

(3)语言生动,有感染力;

(4)不超过 500 字。

(四)为了倡导“拒绝网络暴力,营造文明网络环境”,某报特邀市网络安全办公室工作人员为该报“时评”栏目撰文。假如你是这位工作人员,请根据给定资料,为该报写一篇题为“拒绝网络暴力,从我做起”的短文。(20 分)

要求:(1)观点明确,简洁有力;

(2)紧扣材料,层次分明;

(3)语言流畅,有逻辑性;

(4)不超过 500 字。

(五)“给定资料 2”提到:“那些传言半真半假,谎言生根发芽”。根据你对这句话的理解,结合给定资料,联系社会实际和自身体会,自拟题目,自选角度,写一篇议论文。(35 分)

要求:(1)自选角度,立意明确,有思想性;

(2)参考“给定资料”,但不拘泥于“给定资料”;

(3)语言流畅,内容充实,结构完整;

(4)总字数 800~1000 字。

参考答案及解析

(一)答案提示

主要原因:①网络民主的负面效应,人人都可以自由发表评论;②网络匿名使网民的道德和责任意识弱化;③网络平台发展迅速,相关规章制度不能同步完善;④网民素质有待提高,众“键盘侠”唯恐天下不乱;⑤网络服务者的利益推动以及媒体内部监管不严,不实报道不加审核即公之于众。

解决措施:①实施网络实名制。相关的网络运营者的用户都应提供真实身份信息;②健全相关的管理制度。各网络平台制定相应的审核、监管制度,防止不法之徒利用网络从事违法行为;③强化网民的道德意识,增强网民的责任感;④各媒体在发布消息前要严加审核,防止不实报道进入公众视线,严禁为博眼球而故意发布虚假信息。

【赋分说明】

卷面分2分,主要原因每点1分,解决措施每点2分,共15分。

主要原因关键词为:网络自由性大;匿名让责任弱化;相关制度不完善;网民素质有待提高;媒体内部监管不到位。解决措施关键词为:网络实名制;健全制度;强化网民道德意识和责任感;各媒体加强审核。

同义表述得分,言之有理适当给分。

(二)答案提示

一方面,指受害者受到的伤害是无形的,攻击性、污蔑性的语言会对人内心造成巨大的、不可修复的伤害,更有甚者会伤人生命;

另一方面,造成这种伤害的罪魁祸首是无形的,攻击者是不确定的某一群人,他们没有得到应有的处罚,承担本应该承担的责任。

【赋分说明】

形式分1分,卷面分1分,每点4分,共10分。

关键词:受害者内心受到的伤害;攻击者不能得到处罚。

同义表述得分,言之有理适当给分。

(三)答案提示

倡议书

各位社区居民:

随着互联网技术的飞速发展,互联网在给我们带来便利的同时,有一些不良行为也给我们造成了一定的负面影响。网络是我们的第二家园,维护好我们的家园是我们的共同责任。为营造文明的网络环境,特发出如下倡议:

一、文明上网,不使用低俗、污秽用语;

二、不造谣,不诽谤,不发布、不转发未经证实的有可能会给社会或他人造成伤害的信息;

三、坚持实事求是原则,尊重事实,不肆意夸大,不隐瞒真相,不歪曲事实原貌;

四、加强行业自律,不为不正当言论提供温床和土壤,加强个人自我约束,谨慎发言,不发

表冲动和不负责任的言论；

五、履行社会责任，积极传递正能量，坚持正确导向，积极传播、弘扬优秀文化和文明，营造积极良好的网络氛围；

六、不发布、不转载有害身心健康文字、图片、影音资料及各类淫秽、低俗信息；

七、不发布引起公众恐慌、败坏社会风气、诱发犯罪、扰乱正常生活秩序、危害公共安全的言论。

朋友们，我们每一个人都是文明的建设者和捍卫者，让我们既受益于网络，也奉献网络，把网络家园建设成为向世界传播正义和文明的窗口。

市文明办

××××年×月×日

【赋分说明】

有标题 2 分，有落款和日期 1 分，引言 3 分，具体倡议 9 分，结尾 3 分，卷面分 2 分，共 20 分。

关键词：不文明行为带来负面影响；网络环境需要建设；不使用低俗、污秽用语；不造谣，不诽谤；不肆意夸大，不隐瞒真相；不发表冲动和不负责任的言论；不发布、不转载有害信息；不发布危害公共安全的言论。

同义表述得分，言之有理适当给分。

(四)答案提示

拒绝网络暴力，从我做起

网络作为新媒体迅猛发展，微信、微博等社交平台相继崛起，但由于网民素质参差不齐，相关机构监管不力等因素，网络成了一把双刃剑，在享有低成本的话语自由权时，随之而来的是一种滥用权利、不和谐的网络语言暴力。

在大肆宣扬民主的今天，无数的网民自以为站在道德的制高点，网络似乎使他们变得强大而美好，他们借着正义之名，以为可以拿起语言的武器去捍卫弱者的权利，却忽略了事件背后的真相。人云亦云，看似伸张公平正义的背后隐藏的却是自私的泄愤，人们似乎很乐于窥探他人的不堪秘密，并公之于众，在真相还未水落石出的时候，“键盘侠”们已经开始对被打入深渊的当事人拳脚相向，这只能使得真相更加扑朔迷离，更为严重的后果是，当事人在今后很长一段时间，甚至一辈子都难以走出阴霾。

网络传播速度之快、之远，远非我们所能预料的，同时由于匿名性等因素导致网民们不需要对自己的言论负责，因此网络上的口诛笔伐更是甚嚣尘上，过度放纵自身言论的网民并没有意识到这是在滥用权利。

停止吧，停止网络暴力。守护网络净土，我们应该用清醒的理智、公平客观的评论，对自己的言论负责，履行好自己的道德义务，对他人负责，也对自己负责，拒绝网络暴力，也是在保护自己不被网络暴力所伤害。

【赋分说明】

有标题 1 分，形式分 1 分，卷面分 1 分。

对网络现状的描述 3 分，关键意思：网络是把双刃剑。

对网民在网络上的不文明行为的描述 6 分，关键意思：借正义之名自私地泄愤；乐于窥探

他人的不堪秘密。

不文明现象的原因描述 5 分,关键意思:网络传播速度快,匿名评论导致无需负责,网民滥用权利。

发出倡议 3 分。关键意思:停止网络暴力,守护网络净土。

同义表述得分,言之有理适当给分。

(五)参考范文

拒绝网络暴力 传递正能量

互联网的普惠、便捷、共享特性已经渗透到了公共服务领域,也为加快提升公共服务水平、有效促进民生改善与社会和谐提供了有力保障。树欲静而风不止,随着微博、微信等终端的广泛普及,网络谣言和“负能量”也在网络空间持续传播,并形成市场,造成一定社会影响。

当下,网络让更多的人拥有了向大众发声的机会,或者传播思想和理念,或者表达意见和不满。“君子道人以言而禁人以行,故言必虑其所终,而行必稽其所蔽,则民谨于言而慎于行”。中华五千年的文明不仅应该体现在现实社会的各种场合,同样也应该体现在网络上。现实中说一句脏话,引来口角纷争甚至群殴械斗的例子不胜枚举。在网络上以脏话痛骂别人仿佛很过瘾,很能表达自己的情绪,殊不知自己以为在充当正义,其实却是变相对别人施以暴力。

随着互联网的快速发展,目前的法律不能完全适应新的形势。不断出现的新情况让互联网的监管面临严峻的形势,依法监管绝不能缺位。加强网络法律法规建设、健全网络法律法规体系刻不容缓。因此,要进一步完善已有的法律法规,使之适应互联网的新发展;制定出台新的规章制度,填补当前的监管漏洞。

政府相关部门要真正做到有法必依,执法必严,违法必究。树立法律的权威、显示法律的震慑力,使人们在虚拟的网络世界中也能够时刻注意自己的一言一行,遵循法律法规的约束,从而避免网络暴力。

网络媒体及从业人员应坚持行业道德。不受利益的诱惑和驱使,对虚假的信息坚决不采用、不报道,同时加强对公众人物、网络大 V 的审核,防止虚假信息通过一些不良的公众人物而快速传播。

杜绝网络暴力最终还要靠广大网民自律。对于网络事件有自己的判断,不随意发泄自己的不良情绪,不人云亦云,不做“乌合之众”。网民们对于非主流媒体的一些小道消息不轻信,对于不良、虚假的信息坚决抵制,不回复、不传播,共同来净化网络环境。

习近平主席在网络安全和信息化工作座谈会上的讲话中指出,“网络空间是亿万民众共同的精神家园”。网络空间是虚拟的,但运用网络空间的主体是现实的,大家都应该遵守法律,明确各方权利义务,共同营造文明和谐的网络空间这一精神家园。

【赋分说明】

本题 35 分,按档给分。

一类文(31~35 分):立意明确,思想深刻,能够联系实际进行分析论证;条理清楚,结构完整;语言流畅,富于变化。

二类文(21~30 分):观点较鲜明,思想较深刻,能够运用举例进行分析论证;结构较完整,语言流畅。

三类文(11~20 分):观点不够鲜明;内容不够充实,叙述过多,论证不足,论证逻辑不清;

结构不合理或不完整,语言不流畅。

四类文(0~10分):文章与材料无关,完全跑题;体裁错误;大段抄材料;立场错误;观点不明;思路混乱;结构严重不完整;语言表达差。

另外:

1.照抄原材料过多者,依下列情况给分:

(1)抄袭超过50%者,判为四类;

(2)抄袭较多者(30%~50%),判为三类下(11~13分);

(3)有条理、有选择地抄袭较多者(30%~50%),判为三类中(14~16分)。

2.主要减分项目:

(1)无标题扣3分;

(2)字数少于800字者,每少50字扣1分,最多扣3分;

(3)每3个错别字扣1分,重复错的字不另扣分,最多扣3分。