

版权所有
复制必究

2019 年度国企行测模拟卷

《行政职业能力测验》模拟试卷（二）

重要提示：

为维护您的个人权益，确保公务员考试的公平公正，请您协助我们监督考试实施工作。

本场考试规定：监考老师要向本考场全体考生展示题本密封情况，并邀请 2 名考生代表验封签字后，方能开启试卷袋。

仅限华图教育内部教学使用！

二〇一八年

条
形
码

请将此条形码揭下，
贴在答题卡指定位置。

准考证号

姓名

注意事项

一、此项测验分为五个部分，100 道题，总时限 100 分钟。各部分不分别计时，但都给出了参考时限，供答题时合理分配时间。

二、请按照要求在答题卡上填写好自己的姓名，涂写好准考证号，严禁折叠答题卡。

三、必须在答题卡上答题，在题本上答题，一律无效。

四、监考人员宣布考试开始时，方可答题，宣布考试结束时，应立即停止答题。

题本、答题卡、草稿纸一律留在桌上，待监考人员确认数量无误，允许离开后，方可离开考场。如果你违反了以上任何一项要求，都将影响你的成绩。

五、在这项测验中，可能有些试题较难，因此你不要在一道题上思考时间太久，遇到不会答的题目可先跳过去，如果有时间再去思考，否则，你可能没有时间完成后面的题目。

六、试题答错不倒扣分。

停！请不要往下翻！听候监考老师的指示。
否则，会影响你的成绩。

第一部分 常识判断

(共 15 题, 参考时限 15 分钟)

根据题目要求, 在四个选项中选出一个最恰当的答案。

请开始答题:

1. 下列关于 2018 年宪法修改的内容, 说法**错误**的是:

- A. 全国人民代表大会选举国家监察委员会主任和副主任
- B. 国家工作人员就职时应当依照法律规定公开进行宪法宣誓
- C. 将“科学发展观、习近平新时代中国特色社会主义思想”载入宪法
- D. 国家主席、副主席不再有连续任职不得超过两届的限制

2. 某地有四个工厂分别发生了一些类似事件, 但被判罪名不同, 以下判定**错误**的是:

- A. 甲在生产、作业中违反有关安全管理的规定, 导致矿床坍塌, 随行的 10 名矿工被埋, 救出后重伤久治未愈, 甲被判重大责任事故罪
- B. 工头乙在生产、作业中怕担责强令张三违章冒险作业, 使得张三受重伤死亡, 乙被判重大责任事故罪
- C. 丙发现一年久失修的矿洞还有大部分没有被开发, 便雇佣当地村民下矿, 发生重大伤亡事故, 丙构成重大劳动安全事故罪
- D. 负责人丁在修整当地一国有企业下的矿洞时将支撑的钢架偷偷替换成了价格较低的铁架, 修补后矿工第一次作业时便发生矿难, 查清事实后, 丁被判工程重大安全事故罪

3. 下列历史典故与人物对应正确的是:

- A. 闻鸡起舞——班超
- B. 约法三章——项羽
- C. 苟富贵, 勿相忘——陈胜
- D. 烽火戏诸侯——周厉王

4. 下列场景符合历史事实的是:

- A. 僧一行在家里研读《授时历》, 学习天文历法知识
- B. 隋文帝接见日本遣唐使阿倍仲麻吕, 并赐名为晁衡
- C. 李时珍在家接待亲友时, 以葡萄招待客人
- D. 司马光评价《聊斋志异》“写鬼写妖高人一等”

5. 以下关于古代文物说法**错误**的是:

- A. 《千里江山图》是唐朝王希孟创作的绢本画卷
- B. 虎符是古代朝廷用于传达命令、调动军队的一种特殊凭证
- C. 辽宁省博物馆展出的《洛神赋图》作者是东晋的顾恺之
- D. 曾侯乙编钟的出土意味着中国是制造和使用乐钟最早的国家

6. 《红楼梦》被称之为中国小说的巅峰之作，下列语句描述与人物对应**错误**的是：

- A. “一双丹凤三角眼，两弯柳叶吊梢眉”描写的是王熙凤
- B. “闲静时如姣花照水，行动处似弱柳扶风”描写的是林黛玉
- C. “面若中秋之月，色如春晓之花”描写的是秦可卿
- D. “罕言寡语，人谓藏愚；安分随时，自云守拙”描写的是薛宝钗

7. 下列故事与其出处对应**错误**的是：

- A. 愚公移山——《列子》
- B. 塞翁失马——《淮南子》
- C. 大禹治水——《山海经》
- D. 守株待兔——《吕氏春秋》

8. 关于中国古代科技，下列说法正确的是：

- A. 西汉时期的张衡发明地动仪，是世界上最早测量地震方位的仪器
- B. 北魏时期的郦道元著《水经注》，是一部综合性地理著作
- C. 《梦溪笔谈》是我国 17 世纪的工艺百科全书
- D. 《天工开物》被誉为“中国科学史的里程碑”

9. 下列哪一句诗与季风气候**无关**？

- A. 春风摇荡自东来，折尽樱桃绽尽梅
- B. 人间四月芳菲尽，山寺桃花始盛开
- C. 三月东风吹雪消，湖南山色翠如浇
- D. 羌笛何须怨杨柳，春风不度玉门关

10. 下列选项对我国近三年来科技成就描述**错误**的是：

- A. 中国首款按照最新国际适航标准研制的干线民用飞机 C919 首飞成功
- B. 世界最大的射电望远镜 FAST 在我国正式投入使用
- C. 神威·太湖之光是目前世界上运行速度最快的超级计算机
- D. 中国首颗微重力科学实验卫星实践十号返回式科学实验卫星成功发射

11. 下列关于生活常识的说法**错误**的是：

- A. 高压钠灯能够发出透雾性极强的淡紫色光
- B. 用汽油可以除去衣服上油污
- C. 肥皂遇到硬水容易起浮渣
- D. 干冰可以用于食品保鲜

12. 下列与物理相关说法**错误**的是：

- A. 把耳朵贴在地上侦察是因为声音在土地的传播速度比空气快
- B. 打雷时捂住耳朵可以减弱雷声对鼓膜的影响
- C. 吉他上的弦绷紧时发生的音调比松弛时高
- D. 用望远镜观察月球时，成缩小倒立的虚像

13. 下列关于飞行器的相关说法**错误**的是：

-
- A. 热气球是利用加热的气体密度低于气球外的空气密度，以产生浮力飞行
- B. 直升机靠机翼旋转产生升力，螺旋桨转速影响直升机的升力，直升机因此实现了垂直起飞及降落
- C. 现代飞机的机翼上下两侧的形状不同，上侧的要平一些，下侧的要凸一些，便于机翼上下形成空气压力差
- D. 黑匣子是判断飞行事故原因最重要及最直接的证据，其颜色是醒目的橙色
14. 下列关于化学的说法正确的是：
- A. 含有食品添加剂的食物对人体健康均有害
- B. 酸性条件能加速漂白粉的杀菌消毒速率
- C. 聚乙烯、聚氯乙烯均可作为包装材料，且不会造成环境污染
- D. 日常生活中，卤水点豆腐、花生中提取花生油属于化学变化
15. 下列发明创造与仿生原理对应正确的是：
- A. 苍蝇与宇宙飞船：科学家根据苍蝇嗅觉器官的功能，研制出小型气体分析仪，安装在宇宙飞船的座舱里，用来检测舱内气体的成分
- B. 萤火虫与日光灯：萤火虫发出的暖光不仅具有很高的发光效率，而且一般都很柔和，很适合人类的眼睛，据此发明日光灯
- C. 蝴蝶与卫星控温系统：因为蝴蝶翅膀有不同的颜色，不同的颜色对温度的吸收能力不一样，据此人们发明了卫星控温系统
- D. 蝙蝠与雷达：蝙蝠利用次声波定位，给了人类发明雷达的启示

※※※ 第一部分结束，请继续做第二部分！ ※※※

第二部分 言语理解与表达

(共 35 题, 参考时限 35 分钟)

本部分包括表达与理解两方面的内容。请根据题目要求, 在四个选项中选出一个最恰当的答案。

请开始答题:

16. 国家防总组织开展了大清河洪水调度和抗洪抢险演练, 利用现代化手段模拟了大清河防御大洪水的全过程。当前我省已进入汛期, 雄安新区各部门_____, 加强预警预测, 科学统筹调度, 全面掌握防汛工作总体情况, 确保各项措施落到实处。

填入划横线部分最恰当的一项是:

- A. 严阵以待
- B. 全民皆兵
- C. 严防死守
- D. 全线狙击

17. 冯骥才表示, 经过 15 年马不停蹄的奔波, 众多文化学者_____, 共同完成了大量艰苦而繁复的工作。“我们不仅摸清了传统木版年画的家底, 而且一些年画产地又开始兴旺起来, 一些已经没有活态传承的年画又‘活’了起来, 这些都是让人倍感_____的”。

依次填入划横线部分最恰当的一项是:

- A. 戮力同心 欣慰
- B. 审时度势 欣喜
- C. 义愤填膺 宽慰
- D. 砥砺前行 释怀

18. 事要去做才能成就事业, 路要去走才能开辟通途。构建人类命运共同体是一个历史过程, 不可能_____, 也不可能_____, 需要付出长期艰苦的努力。为了构建人类命运共同体, 我们应该锲而不舍、驰而不息进行努力, 不能因现实复杂而放弃梦想, 也不能因理想遥远而放弃追求。

依次填入划横线处最恰当的一项是:

- A. 一朝一夕 一成不变
- B. 一挥而就 一路顺风
- C. 一往无前 一波三折
- D. 一蹴而就 一帆风顺

19. 体育英雄最初由传媒与民众共同_____, 并在名流文化影响下, 转化为更具号召力与形象感的体育名流, 在因传媒推动作用拔高的同时也因传媒的窥私揭露而降至谷底。作为一种文化现象, 体育英雄的堕落似乎已经_____、不足为奇了。

依次填入划横线部分最恰当的一项是:

- A. 打造 无独有偶 B. 塑造 司空见惯
C. 营造 熟视无睹 D. 制造 屡见不鲜

20. 旧有的正确字音，曾几何时还被老师在课堂上耳提面命，现如今却已无必要独树一帜，成了_____。这无疑会令它们的使用者感到失落。这样的失落，未必是类似孔乙己“回字有四种写法”的_____，而是出于对文化传统的珍视。

依次填入划横线部分最恰当的一项是：

- A. 古调不弹 博学 B. 明日黄花 迂腐
C. 雨后春笋 保守 D. 老调重弹 刻板

21. 对众筹来说，_____的永远是那些唯利是图者，监管大锤的循环猛击是营造行业良好生态的关键，现在的众筹，看似尸横遍野，实则暗藏生机。当上帝洗牌的手停下时，一众勤练看家本领的平台会脱颖而出，物权众筹和产品众筹将首先看到第一缕清晰的_____，因为他们更接地气。

依次填入划横线部分最恰当的一项是：

- A. 欣喜 晨光 B. 哀嚎 曙光
C. 得利 希望 D. 痛击 生机

22. 以牺牲老用户的利益来获得新用户的好感，_____新用户，是大部分“杀熟”企业的出发点。但是当新用户转变成老用户，“杀熟”的刀子也会迎面割来，而消费者则沦为了一茬又一茬待收割的韭菜。长远来看，无异于_____。

依次填入划横线部分最恰当的一项是：

- A. 激励 刻舟求剑 B. 吸引 杀鸡取卵
C. 刺激 缘木求鱼 D. 引诱 饮鸩止渴

23. 40多年过去了，今天，整个社会的开放、多元、自由程度与当年早已不可_____。年轻人拥有的成长途径、上升通道也远比过去丰富。同时，高考制度也在发生改变，高考招录方式越来越多元、高校自主招生权限_____，职业教育发展迅速、高等教育国际化提速。

依次填入划横线部分最恰当的一项是：

- A. 等量齐观 增大 B. 相提并论 变大
C. 同日而语 扩大 D. 混为一谈 扩充

24. 一顿普通的西餐，价格大多在数十元人民币，贵不过一百元，其中包括米其林一星和米其林候选餐厅。餐厅消费成了波兰人生活的新领域，因此_____了与食品相关设

计节。“不太贵而人人都用得起”是一个主要理念，全国_____有意思的关于这个主题的产品。

依次填入划横线部分最恰当的一项是：

- A. 导致 筛选 B. 诱发 挑选
C. 引发 遴选 D. 催生 甄选

25. 中共中央总书记习近平在会上发表重要讲话，全面总结党的十八大以来我国对外工作取得的历史性成就，在会场内外引起_____反响。党的十八大以来，以习近平同志为核心的党中央深刻_____新时代中国和世界发展大势，为开创中国特色大国外交新局面_____了前进方向。

依次填入划横线部分最恰当的一项是：

- A. 隆重 抓住 引领 B. 热烈 把握 明确
C. 激烈 操控 指引 D. 强烈 掌握 指明

26. 打开电视，我们的选秀节目令人_____，还有各类粗制滥造的“神剧”，都在为提高收视率“争分夺秒”。走心，才能让我们的文艺消费回归真与美，才能让我们在这个_____的时代，少些_____的浮躁，多些有分量的思考以及对真与美的共鸣。

依次填入划横线部分最恰当的一项是：

- A. 目不暇接 喧闹 故弄玄虚 B. 自顾不暇 喧哗 言过其实
C. 眼花缭乱 喧嚣 哗众取宠 D. 琳琅满目 喧腾 夸大其词

27. 又到毕业季，毕业论文再次令人_____，有人觉得，现在的毕业论文_____“假冒伪劣”，现在本科毕业论文沦为“抄写艺术”的确尴尬，但取消本科毕业论文的建议颇有_____的味道。

依次填入划横线部分最恰当的一项是：

- A. 侧目 充溢 亡羊补牢 B. 瞩目 充斥 因噎废食
C. 关注 充满 不思进取 D. 瞠目 充盈 矫枉过正

28. 进入新时代，广大干部应有新担当、新作为。完成_____，思想意识是关键。没有“干”字当先的意识，务实作风不会_____；没有为民担当的认知，行动不可能有担当的存在。远离无为，规避乱为，实现有为，干部的责任、担当、为民的意识缺一不可。缺少任何一点，有为都将沦为_____的佐证。

依次填入划横线部分最恰当的一项是：

- A. 变化 一言九鼎 名存实亡 B. 蜕变 落地有声 名不副实

- C. 改变 铿锵有力 有名无实 D. 蜕化 掷地有声 表里不一

29. 一轮振兴乡村的投资热潮正在兴起。投资资本的逐利_____不会为了农业、农村、农民的利益而放弃自身“本色”。避免资本“跑路”，规避资本破坏产业生态，损害农民利益，实现_____，地方政府引资入农、入乡不能只图一时不管长远，不能只管“短平快”GDP效应不顾乡村可持续发展，更不能出卖农村、农民的利益与资本_____“不平等条约”。

依次填入划横线部分最恰当的一项是：

- A. 本性 双赢 签署 B. 事实 互利 签订
C. 本质 共荣 签字 D. 实质 共享 部署

30. 形成强烈的人才意识，不仅要_____人才求贤若渴、发现人才如获至宝，也要举荐人才_____、使用人才各尽其能。知道引才，懂得用才，学会惜才，才能在发展中育才，在竞争中牢牢_____主动权。

依次填入划横线部分最恰当的一项是：

- A. 邂逅 不落俗套 操纵 B. 寻觅 不拘一格 把握
C. 挖掘 别具一格 支配 D. 寻找 五花八门 控制

31. “玩命的中学、快乐的大学”的教育现象一直备受争议。中学“玩命”学，应对高考，大学则更多生活在“解放”式“快乐”里，“虚度”青春年华，如此教育值得存疑。从幼儿教育到大学教育逐渐“增负”而非相反的逻辑似乎更符合人生理、成长的规律。任何忽视教育规律、不符合人成长逻辑的教育都会在人的成长、成才中扮演负面角色。不洞察教育初心、本质，违背教育逻辑、人的成长规律，以人为本的育人育才理念最终都会淹没在一腔情愿里。

这段文字意在说明：

- A. 违背教育逻辑的育人理念终将失败
B. 违背成长逻辑的教育将有负面影响
C. 人才培养的教育逻辑应该重新梳理
D. 从幼儿到大学的教育逻辑值得存疑

32. 真正的无人驾驶何时驶入现实？从产业界和现有技术储备看，三五年内上路，实现真正意义上的无人驾驶还不太可能。除了技术因素外，社会配套体系掣肘也是主要原因。现在国内无人驾驶汽车的整体水平大致相当于大专院校，尽管技术持续提升，但整车

技术水平与国际水平相比仍有差距，大多还处在研发、验证阶段。此外，法律法规缺失也是阻碍无人驾驶商业化应用的一只“拦路虎”。

下列说法与原文相符的一项是：

- A. 未来三到五年，我国将有望实现真正意义上的无人驾驶
- B. 社会配套体系掣肘是目前无人驾驶驶入现实的最大障碍
- C. 我国无人驾驶汽车的整车水平与国际水平相比仍有差距
- D. 法律法规的缺失是阻碍无人驾驶实现的一只“拦路虎”

33. “养廉银”是清雍正朝确立的一项为促进官吏廉洁的制度。雍正朝后，清代官员除常俸，饭食银外另可获得一笔养廉银，据萧一山《清代通史》所记，这笔银子远远高于官员常俸，其用意在“高薪养廉”。养廉银设立之目的不仅是为了促进官员廉洁。康熙末年吏治败坏不仅是贪腐盛行，且由于康熙帝本人在政治上“不生事”的守成倾向，官员碌碌无为，不任事的风气大兴，这对国家危害甚于贪腐。这个“养廉”字不仅针对腐败，也是针对懒政。

作者接下来最有可能论述的内容是：

- A. “养廉银”制度设立的历史渊源
- B. “养廉银”如何对懒政起作用的
- C. 确立“养廉银”制度的重要意义
- D. “养廉银”对现代政治体制的借鉴意义

34. 身体不适的时候，足不出户只需通过 APP 下单预约，护士即可到家进行打针、输液等医护服务……最近一段时间，“共享护士”越来越受关注。“共享护士”上门服务，给病患带来了许多方便，但目前行业标准缺乏、责任认定缺位，一旦出现问题，后果不堪设想。要想让“共享护士”在规范中发展，离不开各方的合力：在政策层面，“共享护士”亟待制定相关规范，平台方面也应健全管理，严格审核订单，加强对“共享护士”服务行为的监管。

这段文字意在说明：

- A. “共享护士”在近期受到了广泛的关注
- B. “共享护士”出现了行业标准缺乏等问题
- C. 急需制定相关政策规范“共享护士”服务
- D. 我国应该限制“共享护士”的大力发展

35. 阴虚体质的人平时要注意什么呢？据人民健康网介绍，阴虚体质需静养。要养阴，首先要睡好觉。晚上早休息，让身体自然放松，这时，身体的各个气道也是放松的，气息在体内运行得就非常好。人体很多受损的、不足的地方，就容易修复。因此，睡觉是最好的养五脏之阴的方法。同时，阴虚的人体内阳气偏多，总会想动，而静能制动。因此，阴虚的人要少运动，要学会静养，如打坐、瑜伽、深呼吸等，每天十几分钟到半个小时即可。

这段文字重在说明：

- A. 晚上早休息，能够让人身体自然放松
- B. 充足的睡眠是养五脏之阴的最好方法
- C. 阴虚体质要静养，做到“阴阳平衡”
- D. 阴虚体质要经常打坐、瑜伽、深呼吸

36. 阿雷西博望远镜曾是世界上最大的单口径射电望远镜，它建成于上世纪 60 年代，口径达 305 米，刚建成之时，它得到了世界人民的赞颂，1974 年，科学家使用阿雷西博望远镜发现了第一例双脉冲星，利用它第一次间接验证了引力波的存在，并因此获得 1993 年诺贝尔物理学奖。不过，随着中国天眼的建成，阿雷西博望远镜的第一地位已经不再，中国天眼是我国历时 22 年建成的口径达 500 米的射电望远镜，是目前世界上口径最大的射电望远镜，它是我国自主知识产权、世界最大单口径、最灵敏的射电望远镜。

以下说法与原文相符的一项是：

- A. 中国天眼由我国在 22 年前开始建设、自主研发
- B. 阿雷西博望远镜是世界上最大的单口径望远镜
- C. 中国天眼是目前世界上最大的单口径射电望远镜
- D. 科学家第一次使用阿雷西博望远镜时发现了双脉冲星

37. 设立丰收节的呼声由来已久，能在今年落地有声却有些讲究。一方面，我国农业连年丰收、农民持续增收，粮食生产能力已经连续 5 年稳定在 12000 亿斤水平，收成有了坚实基础；另一方面，回归原生态、享受农家乐目前已成常态，参与农事体验、品味田园情调的消费需求，催生了广阔的市场空间，节庆不缺超高人气。在脱贫攻坚的关键时期、全面建成小康社会的决胜阶段、实施乡村振兴战略的开局之年，通过设立节日的方式，有利于调动起亿万农民的积极性、生动性、创造性，提升亿万农民的荣誉感、幸福感、获得感。

这段文字重在强调：

- A. 丰收节今年贯彻落地的缘由
- B. 丰收节有助于提升农民获得感
- C. 设立丰收节的呼声由来已久
- D. 丰收节助力乡村振兴脱贫

38. ①在烟草传入欧洲之初，基督教文化将吸烟与魔鬼联系在一起

②但烟草的魔力还是让吸烟之风仅用了二十余年便盛行中国

③人类对吸烟经历了一个从排斥到接受，再到理性认识的过程

④烟草在传入中国之初也曾遭明令禁止

⑤在瘟疫和疾病肆虐欧洲的时候，人们又盲目地赋予其“药草”的神奇功能

⑥最初印第安人咀嚼烟草只为提神解乏，尔后又认为吸烟可却邪而将其奉为“神草”，

由此渐成癖好

将以上 6 个句子重新排列，语序正确的是：

- A. ①④⑥⑤②③
- B. ③⑥①④⑤②
- C. ③⑥①⑤④②
- D. ①⑥④②⑤③

39. 澳大利亚外长毕晓普最近慷慨地表示，澳大利亚政府将向南太岛国增拨援助经费。澳大利亚目前已经将对外援助经费的一半用于岛国，占岛国受援总额的三分之一，相信这对岛国社会经济发展和民生改善会有所裨益。但是，帮助南太地区广大发展中国家“脱贫”是联合国千年计划的重要内容，需要包括中国在内的世界各国的共同努力。这不是澳大利亚一国，也不是西方几个大国能够“包办”的。澳大利亚和其他西方大国对太平洋岛国的百年殖民史，造成岛国普遍贫困和基础设施极其落后，就已经无可辩驳地说明了这一点。

对这段文字意思概括最准确的一项是：

- A. 澳大利亚政府将向南太岛国提供经济援助
- B. 南太地区发展中国家脱贫需要世界各国共同努力
- C. 帮助发展中国家脱贫是联合国千年计划的重要内容
- D. 西方大国对太平洋岛国的殖民统治致使岛国普遍贫穷

40. ①在传统的网络中，所有的信息都在一个中央服务器上，而在对等网络中，所有的用户之间都可以共享信息

②对于 Bittorrent 来说，这意味着一旦你下载了一部电影或一首歌曲，你可将其与网络的其他部分分享

③每当一个站点或网络的某个成员被关闭时，就会有超过 10 个的 POP 点（即网络服务提供点）出现

④Bittorent 是一款对非法下载电影、电视剧、歌曲，提供一站式支持的程序

⑤这就像神话里的九头蛇，当你砍下一个头的时候，它就会在原来的地方长出来

⑥Bittorent 是一个对等网络，这意味着每个用户都是网络的一部分

将以上 6 个句子重新排列，语序正确的是：

A. ④⑥②⑤①③

B. ④⑥①②⑤③

C. ⑥④①⑤③②

D. ⑥④②③⑤①

41. 2018 俄罗斯世界杯小组赛两轮战罢，就目前形势而言，有些球队着实令人惊讶。德国、阿根廷等传统列强的统治力不复以往。正所谓乱世之中出“英雄”，俄罗斯、克罗地亚等球队的异军突起，给世界杯赛场带来诸多惊喜。东道主俄罗斯，在世界杯开赛前并不被看好，国际足联第 70 位的排名，甚至让他们被冠以“最弱”东道主的称呼。但两场小组赛过后，犹如芭蕾舞演员一般，俄罗斯队在世界杯的舞台上完成了华丽转身。揭幕战 5 比 0 大胜沙特，第二场比赛战胜埃及，两战全胜的俄罗斯时隔 32 年再度晋级世界杯淘汰赛。

最适合这段文字标题的是：

A. 世界杯小组赛众多球队带来意外之喜

B. 2018 年俄罗斯世界杯小组赛战况

C. 2018 年俄罗斯的华丽转身

D. 俄罗斯晋级世界杯淘汰赛

42. 自 20 世纪末以来，有关当代作家“经典化”的论争一直存在。无论对“经典”的内涵认定有何分歧，“经典化”始终都是文学接受和研究过程中必要的一环。否则，文学历史化的进程将无法有效完成。既往论争提醒我们，与其苦恼于为作家定性、定位，不如以“整体研究”的思维去有效把握作家的丰富性、复杂性和独特性。如作家汪曾祺就说过：“我不大赞成用‘系年’的方法研究一个作者。我活了一辈子，我是一条整鱼（还是活的），不要把我切成头、尾、中段。”

这段文字主要想说明：

A. 当代作家“经典化”的论争问题亟待有效解决

B. 要把“经典化”当作研究文学过程中的必要环节

C. 应以“整体研究”的思维有效把握作家独有的特性

D. 我国应该着力完善文学，推进文学历史化的进程

43. 育儿是很多人生命历程中的重要一环。谁来养、怎么养，不同的主体、不同的方式，对孩子会起到不同的作用。尤其是当两代人面对育儿问题时，稍有不当，就容易引发各种家庭问题，给孩子的成长带来负面影响。比如，有的老人溺爱孩子，纵容孩子养成坏脾气；有的年轻父母没有经验，照顾孩子缺乏耐心。其实，老人要理解年轻人奋斗的不易，多一份包容；年轻人要懂得老人的付出，学会感恩。只有加强养儿育女中的双向互动，传递爱家庭、敬父母、疼儿女的共识，才能营造出和谐舒畅的幸福生活。

这段文字主要强调：

- A. 育儿问题要有新思路、新见解
- B. 应该重视频频出现的育儿问题
- C. 和谐舒畅的幸福生活是育儿关键
- D. 育儿中老人与年轻人应加强互动

44. 日本人“痴迷”厕所背后，代表了日本民族特有的洁癖特性。在日本传统的信仰神道思想中，避“秽”思想观念根深蒂固。如今日本人干净整洁的清洁观，其实深受传统神道“秽”一词的深刻影响。过去，日本人认为“秽”（包括精神感受到的不清洁感）都会招致灾难，由此不断演绎结果是：日本人天然地认定只有将和脏物有关的厕所彻底打理干净，才能排除“秽”招来不幸的可能。正是出于对沾染到“秽”的恐惧，日本人一直追求清洁层面的极致，由此把干净整洁观念融入了个人素质、民族基因、国家特性。

文段旨在强调：

- A. 日本民族的洁癖特性由来已久且根深蒂固
- B. 日本人的洁癖特性受到了日本文化的影响
- C. 日本人认为只有排除“秽”才能避免不幸
- D. 日本人认为“秽”包括精神和文化两方面

45. 国庆期间，中国游客在日本爆买“汉方药”的消息再度引起关注。顾名思义，“汉方药”的方子，大多来自汉代张仲景的《伤寒杂病论》等中医典籍。得到认定的经典名方，在日本由药企直接生产。而在中国，类似情况却需按照新药标准审批，2013年中药新药获批37个、2014年11个、2015年7个。我们是“捧着金碗讨饭吃”，“老祖宗的宝贝”却成为人家的摇钱树，让经典名方“豁免”临床的呼声越来越高。近期，国家利好政策的发布，有望缓解这种尴尬。

文中“有望缓解这种尴尬”中的“尴尬”指的是：

- A. 日本药企直接生产我国的经典名方

-
- B. 国家针对经典名方发布的利好政策
 - C. 中国游客在日本爆买“汉方药”
 - D. 我国中医经典名方成为日本摇钱树

46. 在当今社会，总有一些既想舒心获得，又不愿苦心付出的“自在”者。有的只想吃香喝辣而不想吃苦受累，让梦想成了梦幻；有的想出彩而不想出力，让愿景成了泡影；有的想升迁而不想作为，让机遇成了“危机”。殊不知，天下没有坐享其成的好事。实现梦想的道路是艰难曲折的，但有吃苦开拓精神，必如习近平总书记所言：“山再高，往上攀，总能登顶；路再长，走下去，定能到达”。

这段文字想要告诉我们的是：

- A. 当今没有坐享其成的好事
- B. 不要三天打鱼，两天晒网
- C. 只有肯吃苦方能获得成功
- D. 现如今懒惰成为人的共性

47. 在人类文字发展的历史长河中，与世界上其他文字对比，汉字独树一帜，具有独特的魅力。古巴比伦的楔形文字，古埃及的象形文字，古印度的哈拉本文字，虽然我们今天从博物馆和遗址中能够欣赏到这些古老文字的残片遗迹，但它们都是已经死去了的文字。而汉字作为人类四大古代文明中唯一延续下来、不曾中断的文字，至今仍在继续使用，这一现象本身即足以说明汉字的独特性与生命力。

这段文字旨在说明：

- A. 汉字在人类文字发展史上最具有价值
- B. 古巴比伦的楔形文字已经失去了生命力
- C. 汉字在文字发展的历史长河中独树一帜
- D. 应该不断弘扬中国文化，展示汉字魅力

48. 中国是一个制造大国，但还不是制造强国。我们虽一度是“世界工厂”，但在很多领域并不掌握核心技术；我们有着巨大的产品产量，但粗制滥造、档次低下的产品也不少；我们有一些一辈子做一件事的能工巧匠，但在世俗评价里，他们的社会地位却并不高……说到底，我们真正欠缺的不是工匠，甚至不是工匠精神，而是一种支撑工匠精神的“匠心文化”。打破固有的偏见，在全社会营造和确立一种践行工匠精神的“匠心文化”，才可能有更多人干一行、爱一行、专一行、精一行。

这段文字意在说明：

-
- A. 我们欠缺支撑工匠精神的“匠心文化”
 - B. 应发扬“工匠精神”，努力成为制造强国
 - C. 我国应在全社会营造和建立“匠心文化”
 - D. 营造“匠心文化”氛围需打破固有的偏见

49. 改革开放 40 年来，我国旅游业发展取得了巨大成就，接待能力、产品品质和服务水平均有大幅度提升，但_____。近年来，各地旅游景点纷纷涨价，涨价的理由似乎都很充分，就是控制游客流量，更好地保护文物。其实，以涨价控制景区游客，低收入者参观风景名胜的权利因此受到限制，而那些高收入者却可以无限次参观，这严重违背了风景名胜的公共属性，有违旅游业高质量发展的本意。

填入划横线部分最恰当的一项是：

- A. 各地旅游景点的经营理念还是有问题的
- B. 我国旅游景点的环境遭到了严重的破坏
- C. 这将促进我国经济高效快速地向发展
- D. 门票经济日渐制约旅游业高质量的发展

50. 因在普通旅客列车上遭遇二手烟，大学生将哈尔滨铁路局告上法庭。25 日，北京铁路运输法院作出判决，要求铁路局在相关列车上拆除烟具，取消吸烟区。有媒体记者在某一普列上持霾表现场实测，吸烟区有人吸烟时，车厢内的 PM2.5 浓度为 269.03，已超过室外重度污染天气的标准。这种情况下，铁路部门仍认为设吸烟区是合理的，强调“吸烟权利”，只能说在价值取向上有问题。旅客状告普列设吸烟区胜诉，在法律上是一事一议。但是作为公共服务部门的中国铁路总公司，则应举一反三看待这一问题，应积极考虑、尽早实行普速列车全面禁烟。如果是旅客起诉一次、起诉哪个车次，铁路部门才会取消涉事列车的吸烟区，而不去全面禁烟，恐怕在公共责任意识上不好解释。

这段文字重在强调：

- A. 若有人在普列的吸烟区抽烟，会让车厢处于重度雾霾中
- B. 大学生状告哈尔滨铁路局胜诉值得中国铁路总公司反思
- C. 中国铁路总公司作为公共服务部门应该担负起公共责任
- D. 中铁总局应该尽快取消普列吸烟区，实行普列全面禁烟

※※※ 第二部分结束，请继续做第三部分！ ※※※

第三部分 数量关系

(共5题, 参考时限5分钟)

在这部分试题中, 每道试题呈现一段表述数字关系的文字, 要求你迅速、准确地计算出答案。

请开始答题:

51. 现有一项工程交给甲、乙、丙三个工程队, 已知完成该工程, 甲、乙两个工程队合作比乙、丙两个工程队合作要少花 20% 的时间, 甲、丙两个工程队合作需要 10 天能完成该工程。若甲、丙的工作效率比为 7 : 5, 则这项工程若交给这三个工程队, 需要多少天才能完成?

- A. 6
B. 9
C. 8
D. 10

52. 某公司组织单位职工报名参加集团体育比赛, 报名跑步的有 14 人, 报名自行车慢骑的有 10 人, 报名拔河有 17 人, 至少报名两项的占单位总人数的 $\frac{1}{3}$, 报名三项有 2 人, 未报名的有 13 人, 问该单位总共有多少人报名参加了集团体育比赛?

- A. 26
B. 39
C. 30
D. 35

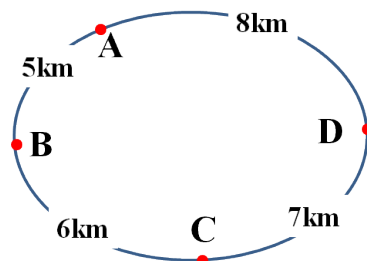
53. 老张和老李有两箱梨, 其单价比是 5 : 4, 重量比为 2 : 3, 现把它们混在一起, 成为 50 千克的混合梨, 混合后平均单价定为 4.4 元, 则老张的梨和老李的梨单价相差多少元?

- A. 0.25
B. 0.5
C. 0.75
D. 1

54. 一次考试共有 5 道试题, 做对第 1、2、3、4、5 题的分别占比为 91%、87%、75%、88%、60%。如果做对 3 道题及以上算及格, 那么这次考试的及格率至少是多少?

- A. 55%
B. 63%
C. 67%
D. 73%

55. 有四个仓库分别位于某环形道路上 (如图所示), 已知 A、B、C、D 仓库分别有货物 80kg、110kg、90kg、70kg, 仓库间距离如图所示, 现要沿环形道路将货物集中, 问将货物集中到哪个仓库最省钱? (单位质量货物每公里的运输费用相同)



A. A

B. B

C. C

D. D

※※※ 第三部分结束，请继续做第四部分！ ※※※

北京外国语大学

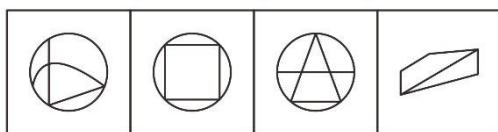
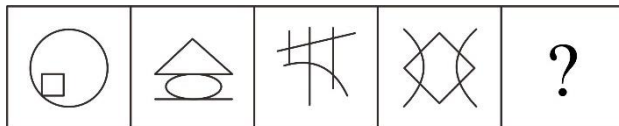
第四部分 判断推理

(共 35 题, 参考时限 35 分钟)

一、图形推理。请按照每道题的答题要求作答。



请开始答题:

56. 从所给四个选项中, 选择最合适的一个填入问号处, 使之呈现一定规律性:



A B C D

57. 从所给四个选项中, 选择最合适的一个填入问号处, 使之呈现一定规律性:



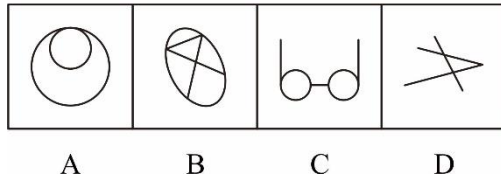

A B C D

58. 从所给四个选项中, 选择最合适的一个填入问号处, 使之呈现一定规律性:

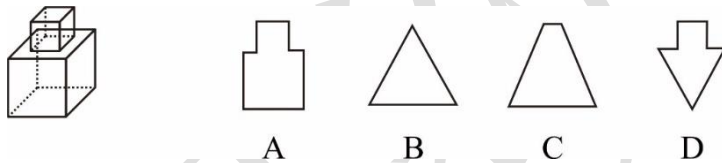


A B C D

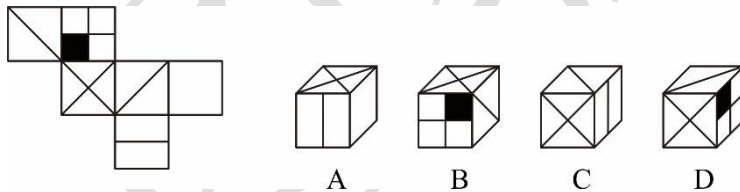
59. 从所给四个选项中, 选择最合适的一个填入问号处, 使之呈现一定规律性:



60. 一大一小两立方体（大立方体的边长是小立方体边长的2倍），如图所示叠加在一起（相交面的中心点重合），然后从任一面剖开，下面哪一项**不可能**是该立体图形的截面？



61. 左边给定的是纸盒的外表面，右边哪一项能由它折叠而成？



62. 把下面的六个图形分成两类，使每一类图形都有各自的共同特征或规律，分类正确的一项是：

① ② ③ ④ ⑤ ⑥



- A. ①②③；④⑤⑥ B. ①③④；②⑤⑥
 C. ①③⑥；②⑤④ D. ①④⑥；②③⑤

63. 把下面的六个图形分成两类，使每一类图形都有各自的共同特征或规律，分类正确的一项是：

① ② ③ ④ ⑤ ⑥

three apple book either usual smash

A. ①③⑥, ②④⑤

B. ①②③, ④⑤⑥

C. ①③④, ②⑤⑥

D. ①②⑤, ③④⑥

二、定义判断。每道题先给出一个定义，然后列出四种情况，要求你严格依据定义，从四个备选项中选出一个最符合或最不符合该定义的答案。注意：假设这个定义是正确的，不容置疑的。

请开始答题：

64. 替代关系是指两种商品具有可以互相代替来满足同一种欲望的关系。当一种商品价格上升时，对另一种商品的需求就增加。反之，当一种商品价格下降时，对另一种商品的需求就减少。两种替代商品之间价格与需求成同方向变动。

根据上述定义，下列属于替代关系的是：

A. 牛肉和羊肉

B. 西装和领带

C. 录音机和磁带

D. 烧水壶和茶叶

65. 无行为能力人为不满十周岁的未成年人或已满十周岁但患有精神病、完全不能辨别自己行为的性质和后果的未成年人。无行为能力人对自己行为的性质和后果都无法判断，只能由其法定代理人代为进行各种民事活动。但是，在实践中，并不是所有的民事活动都需要由其法定代理人代理。

根据上述定义，下列行为主体属于无行为能力人的是：

A. 小张失手将小李的玉镯摔碎，并以自己不是故意损坏为由拒绝赔偿

B. 小明大学的时候因为不满小红不给自己抄作业，将小红打伤进医院

C. 小亮在 9 岁生日的时候为了买喜欢的玩具偷了同学的 100 块零花钱

D. 老王在退休后经常买彩票，偶然中了大奖，因过度兴奋而精神错乱

66. 授权性规则是指示人们可以作为、不作为或要求别人作为、不作为的规则。授权性规则的特点是为权利主体提供一定的选择自由，对于权利主体来说不具有强制性，它既不强令权利人作为，也不强令权利人不作为。相反，它为行为人的作为、不作为提供了一个自由选择的空间。

根据上述定义，下列**不符合**授权性规则的是：

A. 消费者享有知悉其购买、使用的商品或者接受的服务的真实情况的权利

B. 中国公民结婚的年龄规定是：男子必须年满 22 周岁，女子必须年满 20 周岁

C. 公民享有姓名权，有权决定、使用和依照规定改变自己的姓名，禁止他人干涉、盗用、假冒

D. 民族自治地方的人民代表大会有权结合当地民族婚姻家庭的具体情况，制定变通规定

67. 认同是指个体向比自己地位或成就高的人或群体认同，以消除个体在现实生活中因无法获得成功或满足时，而产生的挫折所带来的焦虑。认同可借由心理上分享他人的成功，以此来为个人带来不易得到的满足或增强个人的自信。

根据上述定义，下列**没有涉及**认同的是：

- A. 小刚是当年的高考状元，后来他的弟弟在高考中取得了全省理科第三名的好成绩，他逢人就夸他弟弟
- B. 一位物理系学生留了胡子，是因为他十分仰慕系中的一位知名教授，而该教授最明显的外貌标志就是大胡子
- C. 小明自幼不擅长理科，后来加入他们学校的科协，经常向人夸耀该科协取得的成就，但这些成就其实都是他加入之前取得的
- D. 小红的姐姐获得了国家一等奖学金，小红在向别人介绍后总是加上一句“那是我的姐姐”

68. 无因管理之债是指没有法定的或约定的义务，为避免他人利益受损失而进行的管理或者服务的事实行为，该事实行为所产生的债务，即因发生无因管理事实而在管理人与本人之间形成的债关系。其中管理人负有将管理事实和情况告知本人，并将管理事务所得利益交付本人的债务，而本人则负有偿付管理人支出的必要管理费用，赔偿管理人损失的债务。

根据上述定义，下列**不属于**无因管理之债的是：

- A. 李某外出期间，家中失火，邻居张某呼叫其他邻居一起救火，在救火过程中，张某不慎烧伤，治疗花费 300 元医药费
- B. 甲以放牧为生，某天傍晚赶牛群回家时发现多了一头牛，周围也没有人询问找牛，故甲将此牛据为己有，数天甲将该头牛卖掉获利 1000 元
- C. 刘某外出，台风将至，邻居王某担心刘某年久失修的房屋被刮倒，祸及自家，遂花钱雇人将几根木料支撑住刘某房屋，但房屋仍被风刮倒，王某家养的鹅被压死
- D. 贾某外出长期未归，其饲养的宠物狗嗷嗷待哺，邻居马某见状，不得不破门而入，将小狗带回自家饲养，狗粮共花费 200 元

69. 家庭结构是指家庭中成员的构成及其相互作用、相互影响的状态，以及由这种状态形成的相对稳定的联系模式。按家庭的代际层次和亲属关系划分，可将家庭分为以下几种：①核心家庭，指两代人组成的家庭，成员是夫妻两人及其未婚孩子；②主干家庭，指由两代或两代以上夫妻组成，每代最多不超过一对夫妻，且中间无断代的家庭；③联合家庭是指有血缘关系的两个或多个性别相同的人及其配偶和子女所组成的家庭，或者两个以上同辈兄弟姐妹结婚后所组成的家庭。

根据上述定义，下列各项中**没有涉及**到上述三种家庭的是：

- A. 王某夫妇与两个结婚生子的儿子和妻子生活在一起，一家人其乐融融
- B. 李某夫妇工作力不从心，正在读高中的儿子也不省心，以致经常吵架

- C. 张某和他的妹妹在各自结婚后仍然与他们身体硬朗的父母在一起生活
- D. 赵某和他的父母、爷爷奶奶三代人住在一起，在他结婚后仍然是这样

70. 个人所得税是调整征税机关与自然人（居民、非居民人）之间在个人所得税的征纳与管理过程中所发生的社会关系的法律规范的总称。我国个人所得税的纳税义务人是在中国境内居住有所得的人，以及不在中国境内居住而从中国境内取得所得的个人，包括中国国内公民，在华取得所得的外籍人员和港、澳、台同胞。

根据上述定义，下列选项**不属于**我国个人所得税的纳税义务人的是：

- A. 张某在北京郊区自家的村庄开设旅游度假酒店，几年来生意兴隆，收获颇丰
- B. 王某在上海城郊承包了一片果园，后又将其转租给刘某，他获取了一些收益
- C. 美国人本泽马十年前在深圳购买了一套房产，今年卖给了当地的刘某而获益
- D. 上海人乔某在美国居住并取得了美国国籍，多年来在美国开店获得丰厚利润

71. 在市场经济中，每个理性经济人都会有自利的一面，其个人行为会按自利的规则行为行动；如果能有一种制度安排，使行为人追求个人利益的行为，正好与企业实现集体价值最大化的目标相吻合，这一制度安排，就是“激励相容”。

根据上述定义，下列属于激励相容的是：

- A. 某连锁火锅店企业让各个火锅店店长及店员自愿购买企业的股份作为鼓励
- B. 某大型家电企业每个月都会比其他同类型的家电企业多发 10% 的工资给员工
- C. 某大型培训机构业绩比去年提高了 100%，公司高管每人得到一百万的奖金
- D. 某地政府机关组织各个单位的工作人员下乡对口扶贫，取得了良好的效果

72. 原始合作是指两种生物共居在一起，对双方都有一定程度的利益，但彼此分开后，各自又都能独立生存。

根据上述定义，下列属于原始合作关系的是：

- A. 地衣是真菌和藻类植物的共生体，把地衣中的真菌和藻类植物分开，真菌和藻类植物数量均显著下降
- B. 把大草履虫和双核小草履虫混合饲养，十多天后，数量均有下降，但双核小草履虫数量明显优于大草履虫
- C. 同窝的幼年松鼠在外相遇时，往往会表现出友好的行为，如彼此修整皮毛或抓痒，被修整的那只表现出很舒服的样子
- D. 海葵会依附在寄居蟹的螺壳外，海葵可借助寄居蟹提供栖所和携带残余食物，寄居蟹则依靠海葵获得安全庇护

三、类比推理。每道题先给出一组相关的词，要求你在四个备选项中找出一组与之在逻辑关系上最为贴近、相似或匹配的词。

请开始答题：

73. 勇敢：搏斗
- A. 安全：生产
B. 快乐：高兴
C. 美丽：风景
D. 唱歌：大声
74. 势如破竹：坚不可摧
- A. 如沐春风：醍醐灌顶
B. 望其项背：望尘莫及
C. 雪中送炭：锦上添花
D. 好高骛远：急功近利
75. 手机：通讯
- A. 电视机：广告
B. 移动电源：充电
C. 冰箱：制冷剂
D. 保温：保温杯
76. 爬行动物：两栖动物：脊椎动物
- A. 水果：苹果：香蕉
B. 鱼类：鲤鱼：鲢鱼
C. 黑色：白色：颜色
D. 母亲：家母：家慈
77. 考场：考生：考试
- A. 园博园：游客：游览
B. 招聘会：面试：求职者
C. 安排：领导：工作
D. 机场：飞机：停靠
78. 不惑：花甲：耄耋
- A. 日元：美元：货币
B. 尉官：校官：将官
C. 榜眼：探花：司马
D. 武汉：长沙：南昌
79. 卧冰求鲤 对于 () 相当于 () 对于 刻苦
- A. 上进；卧薪尝胆
B. 勤奋；悬梁刺股
C. 孝顺；凿壁偷光
D. 饥饿；程门立雪
80. 愚公移山 对于 () 相当于 () 对于 口是心非
- A. 自不量力；班门弄斧
B. 坚持不懈；叶公好龙
C. 除旧布新；郑人买履
D. 掩耳盗铃；亡羊补牢
81. 水 对于 () 相当于 空气 对于 ()
- A. 农业；人类
B. 污染；雾霾
C. 洪水；蓝天
D. 生命；真空

四、逻辑判断。每道题给出一段陈述，这段陈述被假设是正确的，不容置疑的。要求你根据这段陈述，选择一个答案。注意：正确的答案应与所给的陈述相符合，不需要任何附加说明即可以从陈述中直接推出。

请开始答题：

82. 有一家智能手机企业叫作 OPPO，近两年来公司正在迅速崛起，很可能会成为今年中国最炙手可热的智能手机品牌，甚至超过三星和苹果。根据有关机构提供的数据显示，2018 年第二季度，OPPO 在中国的市场份额已经增至 20%，超过了三星和苹果。因此，有分析人士预测 2018 年 OPPO 手机在中国的市场份额会全面超越三星和苹果。

如果以下各项为真，最能**质疑**分析人士结论的是：

- A. 苹果今年发布了新一代产品，不出所料地引起了中国市场新一轮的抢购潮
- B. OPPO 在亚洲之外的市场很一般，难以撼动苹果在海外手机市场的霸主地位
- C. 中国智能手机市场同比萎缩 5%，且市场竞争激烈，但 OPPO 却在逆势增长
- D. 该结论是仅根据第二季度的市场份额推算的，而苹果销售旺季主要在下半年

83. 肿瘤细胞要想在人体内生存，就必须把 DNA 作为图纸、RNA 作为加工厂，生产出蛋白质来满足肿瘤细胞的营养和功能要求。RNAi 技术是在这种蛋白质的生产过程当中进行干扰，使得这些蛋白质不能生成，从而使肿瘤细胞失去生存的必需条件。因此，有人认为应用 RNAi 技术可以根治肿瘤。

以下哪项如果为真，最能**质疑**上述观点？

- A. 肿瘤细胞能够很快找到应对 RNAi 技术的方法，继续合成蛋白质
- B. 一些简单的生物本身就具有 RNAi 功能，使得物体免受病毒侵袭
- C. 该技术能够抑制肿瘤细胞分裂的蛋白质，能使肿瘤细胞不再疯长
- D. 为了保证药物准确到达肿瘤细胞，需要用脂质膜把药物包裹起来

84. 《自然》杂志首次在线发表中科院暗物质粒子探测卫星“悟空”（DAMPE）的探测成果：“悟空”卫星的科研人员成功获得了目前世界上最精确的高能电子宇宙线能谱。宇宙空间中存在着“质量为 1.4 万亿电子伏左右的新物理粒子”。科学家推测，它可能就是人们长期以来寻找的暗物质。

以下各项如果为真，哪项**最不能**支持该结论？

- A. 中国人第一次用自己的卫星发现了暗物质，这与理论上对暗物质的特征描述是完全相符的
- B. 暗物质粒子可能相互碰撞并湮灭，转换为高能电子，探测高能电子能谱，就可以发现暗物质存在的蛛丝马迹
- C. 这种异常来自于宇宙中“质量为 1.4 万亿电子伏左右的新物理粒子”，它可能就是长期以来寻找的暗物质
- D. “悟空号”工作在 500 公里的太阳同步轨道，在能量、方向、电荷，包括粒子鉴别方面，都达到世界最高水平

85. 某次聚会大家一起玩“谁是卧底”，在最后的甲、乙、丙、丁四个人中，可以断定至少有一个人是“卧底”，四个人分别为自己进行申辩：

甲：“如果丙是卧底，我不是卧底。”

乙：“甲和丙不都是卧底。”

丙：“我是卧底，甲也是卧底。”

丁：“丙不是卧底。”

后来事实表明，他们四人中只有两人说了真话。

根据以上陈述，以下哪项一定为真？

- A. 甲说的是真话
- B. 乙说的是假话
- C. 丙不是“卧底”
- D. 丁说的是真话

根据所给材料，回答 86~90 题。

某建筑公司有三名工程师王工、李工和丁工 3 名工作人员在年终考核中脱颖而出，获得最佳敬业奖、先进个人奖、风雨同舟奖、劳动模范奖和团结协作奖。关于获奖情况，满足下列条件：

- ① 每人均至少获得其中的一项奖，一项奖只能由一人获得；
- ② 风雨同舟奖和劳动模范奖都不是由王工获得的；
- ③ 如果风雨同舟奖由丁工获得，那么先进个人奖由李工获得；
- ④ 获得团结协作奖的人至少还获得了其他一项奖。

86. 以下哪项的奖项安排符合上述条件？

- A. 王工：团结协作、先进个人；李工：劳动模范、风雨同舟；丁工：敬业奖
- B. 王工：敬业奖；李工：劳动模范、风雨同舟、先进个人；丁工：团结协作
- C. 王工：劳动模范、敬业奖；李工：团结协作、风雨同舟；丁工：先进个人
- D. 王工：敬业奖；李工：团结协作、劳动模范；丁工：风雨同舟、先进个人

87. 如果李工只获得了一项奖，那么包括该奖项的所有可能性是以下哪项？

- A. 先进个人
- B. 风雨同舟、劳动模范、先进个人
- C. 风雨同舟、敬业奖
- D. 风雨同舟、先进个人

88. 以下哪项中的奖项**不可能**均由李工获得？

- A. 团结协作、风雨同舟、先进个人
- B. 团结协作、风雨同舟、敬业奖
- C. 团结协作、劳动模范、敬业奖
- D. 团结协作、劳动模范、先进个人

89. 以下哪项中的奖项**不可能**均由丁工获得？

- A. 敬业奖、风雨同舟
- B. 先进个人、劳动模范
- C. 风雨同舟、劳动模范

D. 团结协作、劳动模范

90. 如果劳动模范奖和敬业奖是由同一个人获得，则以下哪项是可能的？

A. 先进个人是由丁工获得的

B. 劳动模范是由李工获得的

C. 团结协作是由李工获得的

D. 风雨同舟是由丁工获得的

※※※ 第四部分结束，请继续做第五部分！ ※※※

第五部分 资料分析

(共10题, 参考时限10分钟)

所给出的图、表、文字或综合性资料均有若干问题要你回答。你应根据资料提供的信息进行分析、比较、计算和判断处理。

请开始答题:

一、根据以下资料, 回答91~95题。

2018年5月份, 原煤产量同比增长3.5%, 比上月回落0.6个百分点。1~5月份, 原煤产量14.0亿吨, 同比增长4.0%。

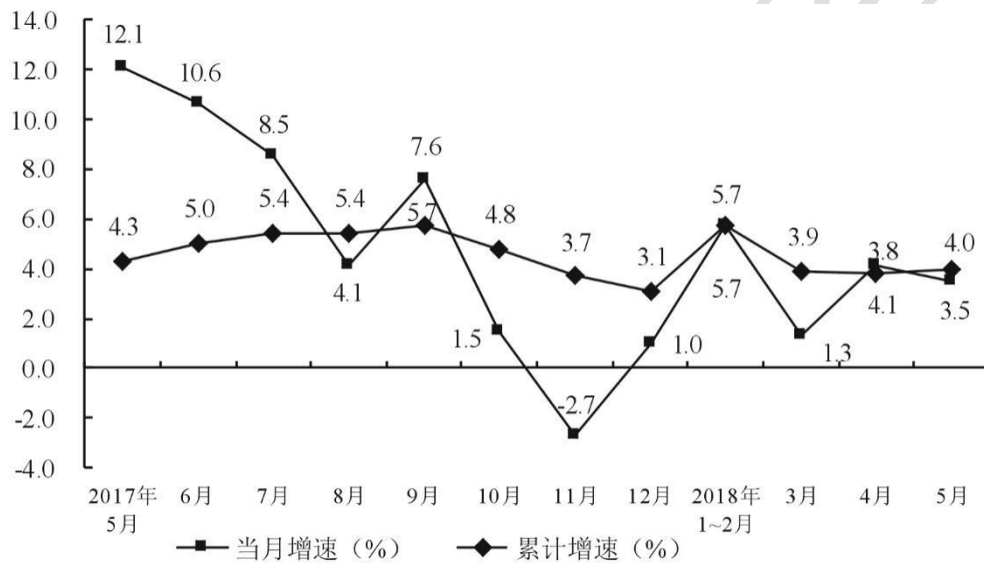


图1 规模以上工业原煤产量月度走势图

2018年5月份, 煤炭进口同比增长0.6%, 进口2233万吨, 与上月基本持平。1~5月份, 进口煤炭1.2亿吨, 同比增长8.2%。

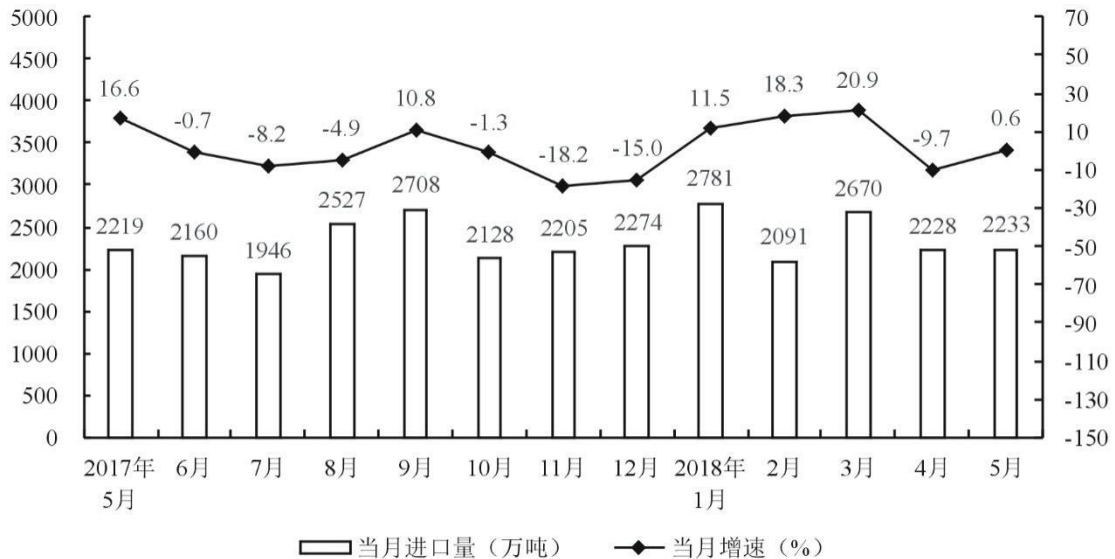


图2 煤炭进口月度走势图

91. 与2017年同期相比, 2018年1~5月原煤增产多少万吨?
- A. 5224
B. 5425
92. 材料所列2017年月份中, 规模以上工业原煤产量当月同比增速超过5%的月份有:
- A. 6个
B. 5个
C. 4个
D. 3个
93. 2018年5月份煤炭进口量占1~5月份总煤炭进口量的比重与上年相比:
- A. 上升1.4个百分点
B. 下降1.4个百分点
C. 上升7.6个百分点
D. 下降7.6个百分点
94. 2017年6月~2018年5月, 煤炭当月进口量以及当月进口量同比增速都高于上月水平的有几个月份?
- A. 7个
B. 6个
C. 5个
D. 4个
95. 能够从上述资料中推出的是:
- A. 2018年3月, 原煤产量的同比增速高于5月
B. 2017年下半年煤炭进口量低于1.3亿吨
C. 2018年2月煤炭进口环比增速高于1月
D. 2017年1~5月份进口煤炭累计约为1.1亿吨

二、根据以下资料, 回答96~100题。

2017年我国吸收外商直接投资(不含银行、证券、保险)新设立企业35652家, 比上年增长27.8%。实际使用外商直接投资金额8776亿元(折1310亿美元), 增长7.9%, 增速比上年加快3.8个百分点。其中“一带一路”沿线国家对华直接投资新设立企业3857家, 增长32.8%; 对华直接投资金额374亿元(折56亿美元)。全年高技术制造业实际使用外资666亿元, 增长

11.3%。

表1 2017年外商直接投资（不含银行、证券、保险）(亿元)及其增长速度(%)

行业	企业数 (家)	增速	实际使用金额 (亿元)	增速
总计	35652	27.8	8776	7.9
其中：农、林、牧、渔业	706	26.5	72	-41.6
制造业	4986	24.3	2259	-1.9
电力、燃气及水生产和供应业	372	19.6	235	68.1
交通运输、仓储和邮政业	517	21.7	374	13.6
信息传输、计算机服务和软件业	3169	116.6	1389	157.1
批发和零售业	12283	30.7	770	-23.9
房地产业	737	95.0	1133	-10.4
租赁和商务服务业	5087	9.9	1125	7.5
居民服务和其他服务业	349	42.5	38	16.0

全年对外直接投资额（不含银行、证券、保险）8108亿元，按美元计价为1201亿美元，比上年下降29.4%。其中，对“一带一路”沿线国家直接投资额144亿美元。

表2 2017年对外直接投资额（不含银行、证券、保险）及其增长速度

行业	对外直接投资金额 (亿美元)	比上年增长(%)
总计	1201	-29.4
其中：农、林、牧、渔业	22	-25.3
采矿业	83	-4.4
制造业	191	-38.4
电力、热力、燃气及水生产和供应业	32	26.5
建筑业	73	37.5
批发和零售业	249	-9.6
交通运输、仓储和邮政业	30	-16.9
信息传输、软件和信息技术服务业	103	-49.3
房地产业	22	-79.6
租赁和商务服务业	349	-17.3

全年对外承包工程业务完成营业额11383亿元，按美元计价为1686亿美元，比上年增长5.8%。其中，对“一带一路”沿线国家完成营业额855亿美元，增长12.6%，占对外承包工程业务完成营业额比重为50.7%。对外劳务合作派出各类劳务人员52万人，增长5.7%。

96. 2015年实际使用外商直接投资金额约为（ ）亿元。

- A. 7813
- B. 8134
- C. 27897
- D. 7889

97. 2017年，房地产业平均每家企业的实际使用金额约是租赁和商务服务业的（ ）

倍。

- A. 5
C. 7
- B. 6
D. 8

98. 2016年，租赁和商务服务业外商直接投资企业数占全部外商直接投资企业数的比重为：

- A. 17.8%
C. 16.6%
- B. 17.5%
D. 18.1%

99. 2017年，各行业中外直接投资额同比变化量最大的是：

- A. 制造业
C. 信息传输、软件和信息技术服务业
- B. 批发和零售业
D. 租赁和商务服务业

100. 能够从上述资料中推出的是：

A. 与上年同期相比，2017年“一带一路”沿线国家完成营业额占对外承包工程业务完成营业额比重上升了不到3个百分点

B. 2017年，只有制造业、信息传输、软件和信息技术服务业和房地产业的对外直接投资金额占总体的比重低于上年同期水平

C. 2017年，电力、热力、燃气及水生产和供应业的对外直接投资金额同比增长不足6亿美元

D. 2016年，对外直接投资总金额为928.13亿美元

※※※

全部测验到此结束！

※※※