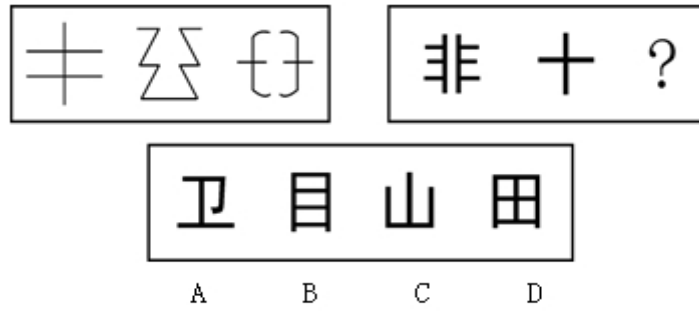
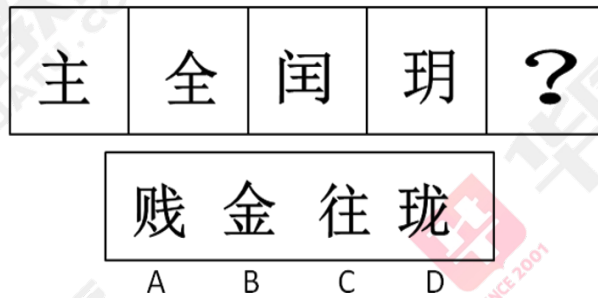


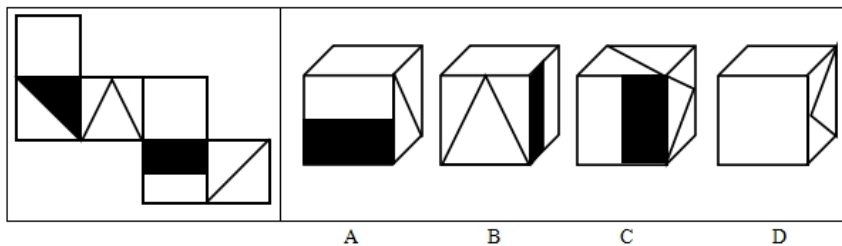
1. 从所给的四个选项中，选择最合适的一个填入问号处，使之呈现一定的规律性：



2. 从所给的四个选项中，选择最合适的一个填入问号处，使之呈现一定的规律性：



3. 左边给定的是纸盒的外表面，下列哪一项能由它折叠而成？



4. 一次文献，又称原始文献，指以作者本人的工作经验、观察或者实际研究成果为依据而创作的具有一定发明创造和一定新见解的原始文献。二次文献是对一次文献进行加工整理后的产物，即对无序的一次文献的外部特征如题名、作者、出处等进行著录，或将其内容提炼压缩成提要或文摘，并按照一定的学科或专业加以有序化而形成的文献形式。

根据上述定义，下列属于二次文献的是：

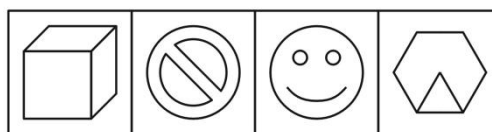
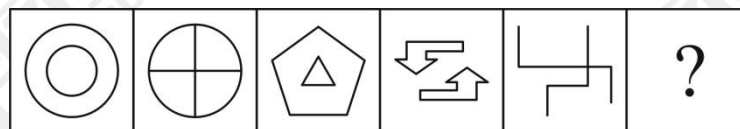
- A. 小刘摘抄优美词句的“好词好句”手册
- B. 小李整理实验记录、处理数据后写出的文章
- C. 小郭从出版社拿到的经济类新书目录和简介
- D. 小赵购买的急救手册

5. 避风港原则是指网络服务提供者服务对象提供搜索或者链接服务时，在接到权利人的通知书后，根据《信息网络传播权保护条例》的规定断开与侵权的作品、表演、录音录像制品的链接的，不承担赔偿责任。

根据避风港原则，下列事件可以**不承担**赔偿责任的是：

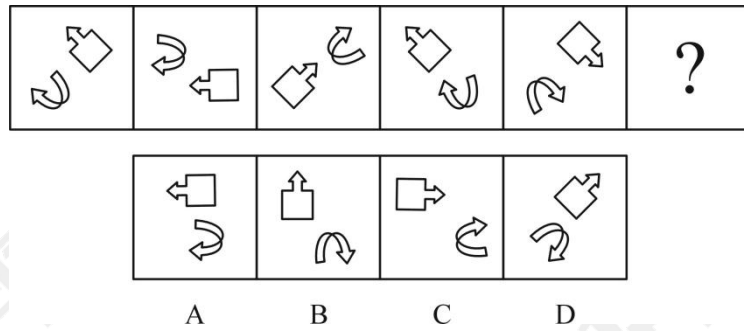
- A. 某网站在线播放电视剧，点击播放视频先出广告，然后开始播放剧集，每集后面注明网站来源
- B. 某动画片分享网站为用户提供上传存储空间，供人免费在线观看，在网站首页显示宣传图片、播客名称、播放次数等信息，在接到动画片所有权人的通知后已及时删除
- C. 某网站未经许可，擅自提供了某电视剧的在线播放服务，网站在收到诉状后及时删除了涉嫌侵权视频，并已设立了专门接收版权投诉和侵权通知的邮箱
- D. 某电影由网友上传到某网站提供的存储空间将该电影分成四段在网站播放，在受到网站管理员警告后，该网友删除了影片

6. 从所给四个选项中，选择最合适的一个填入问号处，使之呈现一定规律性：

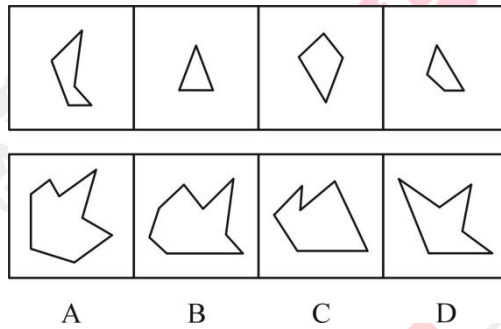


- A
- B
- C
- D

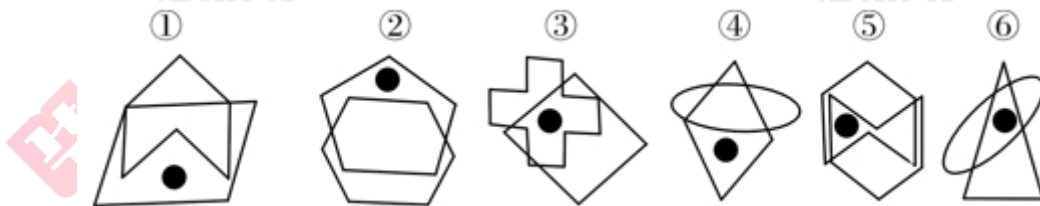
7. 从所给四个选项中，选择最合适的一个填入问号处，使之呈现一定规律性：



8. 下边四个图形中，只有一个是上边的四个图形拼合（只能通过上、下、左、右平移）而成的，请把它找出来。



9. 把下面的六个图形分为两类，使每一类图形都有各自的共同特征或规律，分类正确的一项是：




A. ①④⑤, ②③⑥

B. ①④⑥, ②③⑤

C. ①②④, ③⑤⑥

D. ①⑤⑥, ②③④

10. 从所给四个选项中, 选择最合适的一个填入问号处, 使之呈现一定规律性:



11. 诉诸群众指的是为赢得众人同意一项主张时, 不诉诸相关的事实和理由, 而通过激起众人的情感和热情以达到目的。不是服人以理, 而是动人以情。这是宣传家、政客和广告商最常用的辩论方式。

根据上述定义, 下列哪项属于诉诸群众?

A. 某宣传家说: “在座的都要支持我的主张, 因为我的主张是合理的!”

B. 某政客说: “大家投我一票, 选择我就是选择未来!”

C. 某广告说: “好吃的包子叫龙凤, 因为它采用了宫廷秘方。”

D. 某刑事被告人说: “我是家里的顶梁柱, 希望法官量刑时综合考虑。”

12. 竞争性决策指的是在有竞争对手存在的情况下，不是根据客观的自然状态，而是根据竞争对手的策略而作出的决策。

根据以上定义，以下哪项属于竞争性决策? ()

- A. 由于同类竞争，小李将库存商品一律三折出售
- B. 为打击新开张的对门商家，小刘将所有商品一律低于批发价出售 3 天
- C. 甲公司董事会一致决定高薪聘请与其有竞争关系的乙公司的副总经理为公司总经理
- D. 为吸引优质生源，甲校的奖学金金额总是比乙校高 10%

13. 巴纳姆效应指的是人们常常认为一种笼统的、一般性的人格描述十分准确地揭示了自己的特点。这种心理倾向的出现是因为每个人的思维都有选择性，会优先选择和自己相符的信息，或者选择一些自己能够接受的信息。

根据上述定义，下列现象符合巴纳姆效应的是 ()。

- A. 小方听到同学跟别人说“这个人人品有问题”，小方认为同学很可能在说自己
- B. 王先生外出不慎摔伤，后来看到黄历上写着那天“不宜出门”，觉得黄历真的很准确
- C. 小张看到网上的性格分析说“金牛座的男人个性实际、勤勉”，认为很符合自己
- D. 老师在毕业鉴定上给小黄同学的评价是“尊敬师长、待人诚恳”，小黄看到后非常高兴

14. 潜伏需求是指相当一部分消费者对某种商品或服务有强烈的需求，而现有产品或服务又无法使之满足的一种需求状况。根据上述定义，以下最能体现“潜伏需求”的是 ()。

- A. 某市所售楼盘多为三居室大户型，让想在这里安家的工薪阶层望而却步
- B. 某药厂推出的中药降糖保健品在部分程度上可以取代药品，常供不应求

- C. 目前市场上的防辐射孕妇装抵制电子产品辐射的有效率是多少尚不明确
- D. 新型的电动游戏机带有护眼功能，想必可以说服一些学生家长前来购买

15. 拟态，是指某些生物在进化过程中具有与另一种生物或周围自然界物体的相似形态，这种相似性很高，几乎难以分辨，可以保护某一物种或两个物种。

根据上述定义，下列选项属于拟态的是：

- A. 海豚、企鹅和带鱼虽然分别属于鲸类、鸟类和鱼类，但为了适应海洋生活，都进化出了流线形的身体
- B. 北极熊生活在白雪皑皑的北极，为了掩护自己捕食时不被猎物过早发现，皮毛逐渐变成与周围环境相似的白色
- C. 大鲵，俗名娃娃鱼，已在地球上生活了数亿年，其受到刺激时的叫声酷似人类婴儿哭声，让人听到不忍心伤害，对一些猎食动物也有威慑作用
- D. 杜鹃会将与宿主卵酷似的卵产在宿主巢内，其雏鸟在孵出后不久就会将宿主雏鸟挤出巢外，独享体型只有自己一半大小的宿主父母的喂食

1. 【答案】C

【解析】封闭性+对称性，第二段既是开放图形，又是轴对称图形，只有C符合。

2. 【答案】D

【解析】笔画数分别是5、6、7、8，排除BC，同时都有“王”。

3. 【答案】D

【解析】黑色长方形应该跟白面相邻，排除A；三角的右侧是白面，排除B；利用相对面排除C。

4. 【答案】C

【解析】定义“二次文献”的关键要素为“对无序的一次文献的外部特征的著录”“将其内容提炼压缩成提要或文摘”。C选项中的新书目录和简介将内容提炼压缩成提要或文摘，符合定义，所以答案选择C。

5. 【答案】B

【解析】定义中强调“提供搜索或者链接服务”等。A项中网站上提供的在线播放服务，C项中网站上提供的浏览、下载服务，D项中网站提供的影视作品服务均是网站自身直接提供的服务，不属于“提供搜索或者链接服务”，不符合定义。B项中提供视频的是网友，而网站只提供链接服务，符合定义。

6. 【答案】A

【解题思路】

第一步，观察特征。

组成元素不同，优先考虑数量。

第二步，一条式，从左到右找规律。

题干图形构图均偏简单，所以优先考虑数量类考点笔画数，发现题干五幅图形均能 2 笔画出来。四个选项中能够两笔画出来的只有 A 选项。

因此，选择 A 选项。

7. 【答案】C

【解题思路】

第一步，观察特征。

组成元素相同，优先考虑位置类，并且题干图形均含有功能元素箭头，还应考虑功能元素。

第二步，一条式，从左到右找规律。

题中每幅图形里两个元素的箭头方向都指向同一方向，并且两个元素都处于对角线的位置关系。四个选项中符合上述规律的只有 C 项。

因此，选择 C 选项。

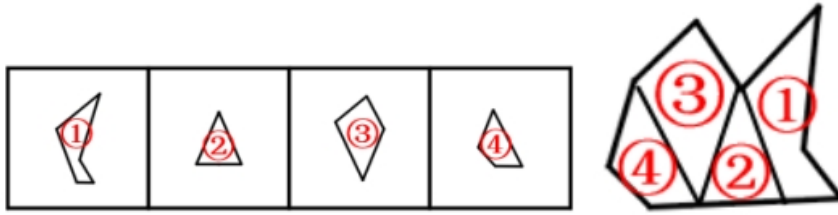
8. 【答案】B

【解题思路】

第一步，明确设问内容。

题目中要求各图平移后拼合。

第二步，观察图形特征，寻找等长的平行边，将其拼合后得到如下图所示：



因此，选择 B 选项。

9. 【答案】C

【解题思路】功能信息。观察图形特征，图形均有小黑点，考虑功能类。第二步，图①②④中小黑点在相交图形的局部区间，图③⑤⑥中小黑点在相交图形的公共区间。因此，选择 C 选项。

10. 【答案】C

【解题思路】

第一步，观察特征。组织元素不同，优先考虑数量或属性。

第二步，九宫格，横向规律较为常见，优先考虑。

每一行，第一个图形仅是轴对称图形，第二个图形仅是中心对称图形，第三个图形仅是轴对称图形。而 B 项，图形既是轴对称也是中心对称，不符合规律。

因此，选择 C 选项。

11. 【答案】B

【解题思路】A 项：“因为我的主张是合理的”实在诉诸相关理由，不符合“不诉诸相关的事实和理由”，排除；B 项：“大家投我一票，选择我就是选择未来”，是通过“激起众

人的情感和热情，以达到目的”，符合定义；C项：“因为它采用了宫廷秘方”是在诉诸相关理由，不符合“不诉诸相关的事实和理由”，排除；D项：“我是家里的顶梁柱”是在诉诸相关的事实和理由，不符合“不诉诸相关的事实和理由”，排除；因此，选择B。

12. 【答案】D

【解题思路】竞争性决策是在竞争对手存在的情况下，不是客观的自然状态，而是根据每个竞争对手的策略做出相应的改变。D选项竞争对手的策略就是奖学金，所以符合定义。A选项没有竞争对手的策略，所以排除；B选项没有提及竞争者的策略，所以排除；C选项提到竞争对手，但是没有提及竞争对手的策略，所以排除。因此，本题答案为D选项。

13. 【答案】C

【解题思路】巴纳姆效应的特点是笼统的，一般性的对人格的描述，并且认同这种描述。A选项是觉得说的是小方，但是没有是否认同，排除。B选项不是对人格的描述，排除。C选项是对人格的描述，并且小张也是认同的。D选项是对小黄的性格的具体性的描述，不是一般性的描述，排除。答案选择C。

14. 【答案】A

【解题思路】潜伏需求就是想要而又不能满足需求的状态。A是想要安家，但是没有合适的户型。符合题干中的“现有产品或服务又无法使之满足的一种需求状况”。B即使供不应求也不符合题干中的“现有产品或服务又无法使之满足的一种需求状况”这一定义要求。C项是尚不明确，因此不能确定是否能够满足需求。D没有体现出强烈的需求。

15. 【答案】D

【解题思路】A项，海豚、企鹅和带鱼都进化出的“流线形的身体”，一方面，与周围自然界物体（即海洋环境）并不具备极大的相似性，很容易分辨；另一方面，三种动物虽然都具有“流线形身体”，但这不是三种动物在进化过程中对彼此的模仿，而是由于处于相同的环境中形成的相似形态，这不符合定义；B项，北极熊白色的皮毛，与白雪具有相同的颜色，北极熊只有颜色的变化，外形没有变化，属于保护色，而不是拟态，不符合定义；C项，娃娃鱼的哭声酷似人类婴儿哭声，不是与另一种生物具有相似的形态，即声音不是形态，不符合定义；D项，杜鹃的卵酷似寄主的卵，说明相似性很高；雏鸟独享宿主父母的喂食，说明雏鸟可以生存下来，符合“可以保护某一物种或两个物种”符合定义。因此，选择D。

