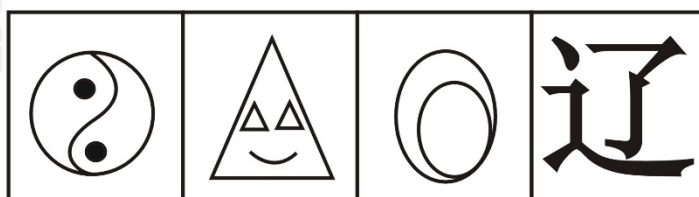
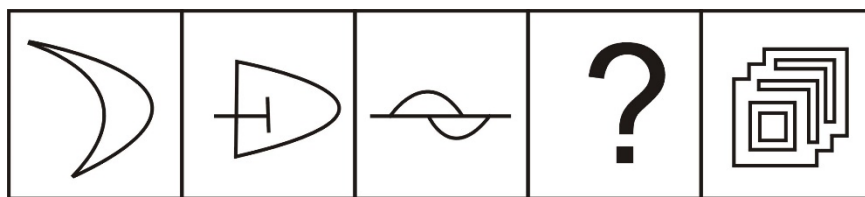


1. 从所给的四个选项中，选择最合适的一个填入问号处，使之呈现一定的规律性 ()。



A **B** **C** **D**

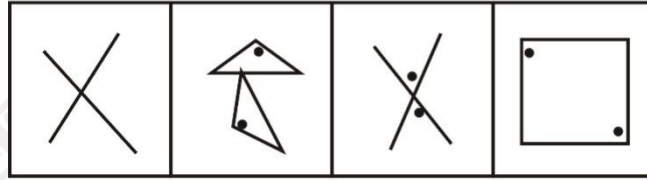
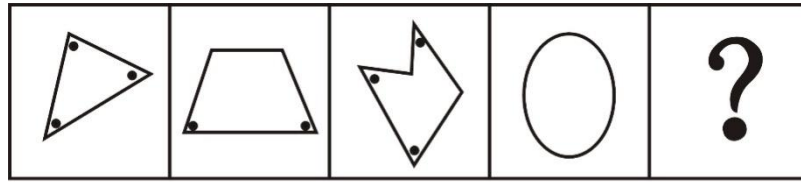
2. 从所给的四个选项中，选择最合适的一个填入问号处，使之呈现一定的规律性 ()。



A **B** **C** **D**

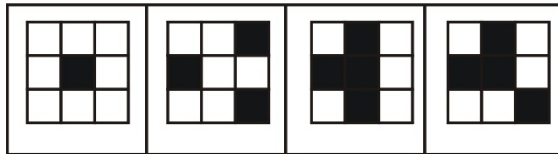

3. 从所给的四个选项中，选择最合适的一个填入问号处，使之呈现一定的规律性

()。



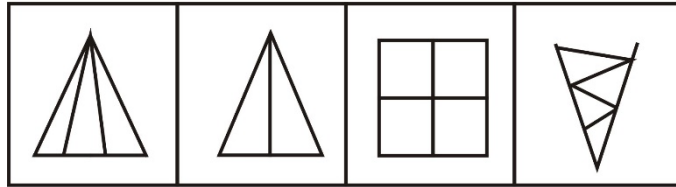

A B C D

4. 从所给的四个选项中，选择最合适的一个填入问号处，使之呈现一定的规律性（ ）。



A B C D

5. 从所给的四个选项中，选择最合适的一个填入问号处，使之呈现一定的规律性（ ）。



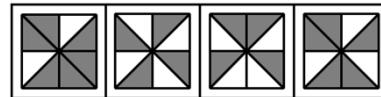

A

B

C

D

6. 从所给的四个选项中，选择最合适的一个填入问号处，使之呈现一定的规律性：



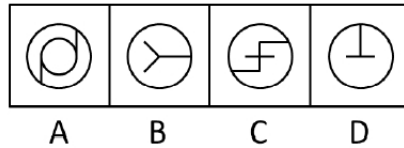

A

B

C

D

7. 从所给的四个选项中，选择最合适的一个填入问号处，使之呈现一定的规律性：



8. 疑罪是指司法机关对被告人是否犯罪或罪行轻重难以确证的情况。疑罪从无原则是现代刑法“有利被告”思想的体现，是无罪推定原则的具体内容之一。即在既不能证明被告人有罪又不能证明被告人无罪的情况下，推定被告人无罪。

根据上述定义，下列采用了疑罪从无原则的是：

- A. 赵六因盗窃他人网络密码被起诉，但由于赵六被证明从来不使用网络，法院判其无罪
 - B. 史某和汤某打架，两人都受了伤，因无法确定谁先动手，法庭建议庭外和解
 - C. 钱某因涉嫌投毒被起诉，后因证据不足，法院判决钱某无罪
 - D. 张三起诉李四侵权，但因拿不出任何证据，结果败诉
9. 游说是指个人或组织有目的地利用语言、文字或其他传播媒介对特定信息进行讲解、说明，以鼓励受众按照自己的意图行事的一种劝服性传播。

根据上述定义，下列属于游说的是：

- A. 宣传栏中展示了定期少量献血并不会给身体带来危害，反而有利健康的资料
- B. 张教授以图文并茂的方式介绍了自己的研究，学生们都觉得受益匪浅
- C. 社区开展了一系列“防害灭害”活动，给每家每户都发放了蟑螂药
- D. 妈妈答应小明，如果他今天中午能多吃一碗饭，周末就带他去公园

10. 水：农业

- A. 消费：经济 B. 婚姻：人生
- C. 文字：文化 D. 娱乐：生活

11. 取款机：银行职员

- A. 收音机：播音员 B. 售货机：营业员
- C. 学习机：辅导员 D. 读卡机：售票员

12. 负荆请罪：廉颇

- A. 围魏救赵：孙武 B. 纸上谈兵：赵奢
- C. 风声鹤唳：房玄龄 D. 退避三舍：重耳

13. 甲、乙、丙三人是同一家公司的员工，他们的未婚妻 A、B、C 也都是这家公司的职员。

知情者介绍说：“A 的未婚夫是乙的好友，并在三个男子中最年轻；丙的年龄比 C 的未婚夫大。”

依据该知情者提供的情况，我们可以推出三对组合分别是：

A. 甲-A，乙-B，丙-C

B. 甲-B，乙-A，丙-C

C. 甲-C，乙-B，丙-A

D. 甲-A，乙-C，丙-B

14. 海豚是体型较小的鲸类，共有 62 种，分布于世界各大洋，海豚一般体长 1.2~10 米，体重 45~9000 千克，主要以小鱼、乌贼、虾、蟹为食。他们喜欢过“集体”生活，少则几条，多则几百条，海豚是一种本领超群、聪明伶俐的海中哺乳动物。

根据以上陈述，可以得出以下哪项结论？

A. 海豚是一种体型较小的哺乳动物

B. 有些聪明的哺乳动物生活海里

C. 海洋中的哺乳动物至少有 62 类

D. 海豚善解人意，能模仿人的动作

15. 一项研究中，研究人员想对比蜂蜜和止咳药物对呼吸道感染儿童的治疗效果。结果显示蜂蜜不仅具有止咳作用，还有助于睡眠，因此研究者认为对于患呼吸道感染的儿童来说，蜂蜜比止咳药更有效。

以下哪项如果为真，最能削弱上述结论？

- A. 据了解，目前许多药店中治疗咳嗽的药物大都为成人提供，并不适合6岁以下的儿童
- B. 实验表明，一部分儿童的咳嗽是因肺热引起，一周后就可自行痊愈，并不需要用药
- C. 研究发现，蜂蜜止咳效果更佳的原因可能是它可以放松受刺激的喉部，并非真正地治疗感染
- D. 一些1周岁以内的幼儿不宜食用蜂蜜，因为蜂蜜可能对幼儿的肠道产生刺激作用，引发小儿腹泻

1. B. 【解析】 本题属于数量类的数笔画数。题干中的图形最少笔画数分别为1、2、3、?、5，显然问号处应选择4笔。根据数奇点的方法，A项有3笔，B项有4笔，C项有1笔，D项有3笔。所以选B选项。
2. A. 【解析】 本题属于样式类的整体对称性与汉字结构的综合考查。“王”字左右的图案形成整体对称，图2和图4都是上下结构，都有心字旁；图1和图5都是左右结构，应该都有人字旁。所以选A选项。
3. C. 【解析】 本题属于位置类中的标记类题目，点表位置。题干中的小黑点所在的位置均为锐角，所以选C选项。
4. D. 【解析】 本题属于样式类的黑白叠加运算。根据第一组图中的叠加规律可知，黑+黑=白，白+白=黑，黑+白=白，白+黑=白。所以选D选项。
5. D. 【解析】 本题属于数量类的数三角形个数。题干中三角形的个数分别3、4、5、6、?，组成自然数列，问号处应为7个三角形。A项有6个，B项有3个，C项有0个，D项有7个，所以选D选项。

6. 【答案】 A

【参考解析】 黑白叠加。观察图形，元素组成相似，外部轮廓相同，但内部黑白颜色不同，考虑黑白运算。第一行：白+白=白、白+黑=黑、黑+黑=白、黑+白=黑；第二行验证此规律成立；第三行应用此规律，左上角：黑+白=黑，排除C项；第三行右下角：黑+白=黑，排除D项；第三行右上角，白+白=白，排除B项。因此，选择A。

7. 【答案】B

【参考解析】对称轴的方向。每一横行图形的对称轴方向均顺时针旋转了45度，因此？处图形的对称轴方向应当是横轴方向。因此，选择B。

8. 【答案】C

【考点】条件

【参考解析】定义中的关键信息“条件”是“既不能证明被告人有罪又不能证明被告人无罪”。A项，赵六从不使用网络说明赵六不可能盗窃网络密码，本身就属于无罪；B项，虽然法庭建议和解，但并没有推定无罪；D项，张三没有任何证据，可以证明李四无罪。C项证据不足说明不能证明有罪，有一些证据又说明不能证明无罪，在此情况下推定无罪，坚持了疑罪从无原则。因此，选择C。

9. 【答案】A

【考点】本质

【参考解析】定义中的关键信息有：（主体）个人或组织；（方式）利用语言、文字或其他传播媒介对特定信息进行解释、说明；（目的）鼓励受众按照自己的意图行事；（本质）劝服性传播。A项符合定义中的关键信息；B项没有提到张教授非要学生按自己意图行事，排除；C项发放蟑螂药不符合语言、文字等方式，排除；D项虽然主体、

方式、目的均符合定义，但本质上不是一种传播活动，可以说是一种劝说，迷惑性较大，排除。因此，选择 A。

10. 【答案】A

【参考解析】条件关系——必要条件。在农业中，水是必不可少的，所以，水是农业发展的必要条件，A 项消费是经济发展的必要条件。因此，选择 A。

11. 【答案】B

【参考解析】自助设备与职业的对应。取款机是一种自助设备，其功能与银行职员具有一定的重叠。同样，售货机是一种自助设备，其功能与营业员有一定的重叠。因此，选择 B。

12. 【答案】D

【参考解析】常识对应。退避三舍的主人公是重耳（晋文公）。退避三舍，比喻对人让步，不与相争。故事出自《左传·僖公二十二年》，晋公子重耳（晋文公）逃亡在楚国时，楚王容纳了他，楚王问他将来怎样报答自己。重耳说，如果将来晋楚交兵，“退避三舍”。后来晋楚在城濮交战，晋文公遵守诺言，把军队撤九十里。因此，选择 D。

13. 【答案】D

【参考解析】排除法。根据题干中“A的未婚夫是乙的好友”，则A和乙不是夫妻，“丙的年龄比C的未婚夫大”，C和丙不是夫妻，排除A、B选项；再根据未婚夫的年纪，丙年纪大，而A的未婚夫最年轻，所以A和丙不是夫妻，排除C选项；所以唯一符合题意的是D选项。因此，选择D。

14. 【答案】B

【参考解析】偷换概念。A项，题干中说海豚是一种体型较小的“鲸类”，不是体型较小的“哺乳动物”，偷换概念，排除；B项，可以从题干最后一句直接推出；C项，题干中提到海豚共有62种，并非62类，偷换概念，排除；D项，题干中并没有提到海豚可以模仿人的动作，无由猜测，排除。因此，选择B。

15. 【答案】C

【参考解析】削弱论点。论点为研究者认为对于患呼吸道感染的儿童来说，蜂蜜比止咳药更有效。论据为通过做实验，得出结论蜂蜜不仅具有镇咳作用，还有助于睡眠。C项，“研究发现，蜂蜜止咳效果更佳的原因可能是它可以放松受刺激的喉部，并非真正地治疗感染”，这里告诉我们蜂蜜的作用是缓解，而不是治疗，直接否定了论点。因此，选择C。



关注“天津华图”微信公众号：[tjhuatu](https://www.tjhuatu.com)

后台回复“时政”可获取最新时政信息