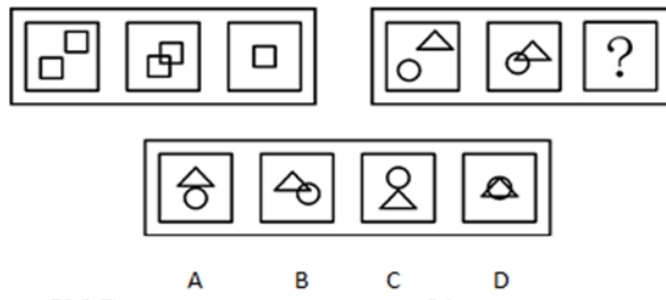
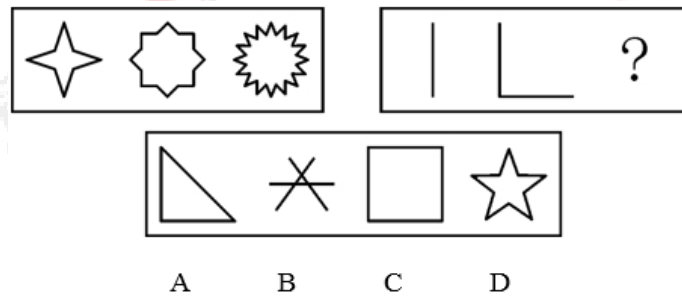


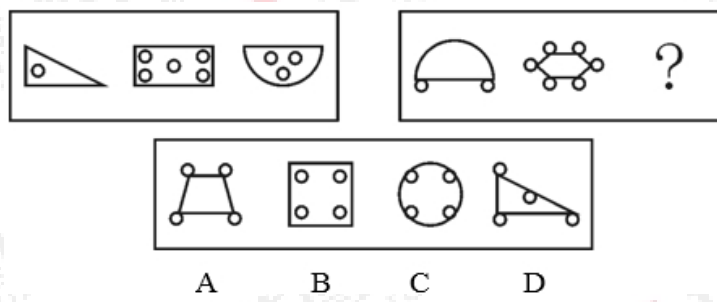
1、



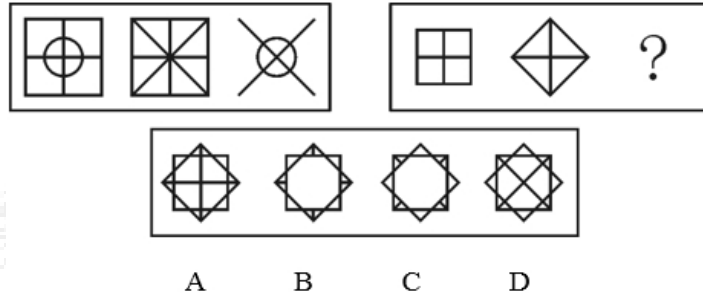
2、



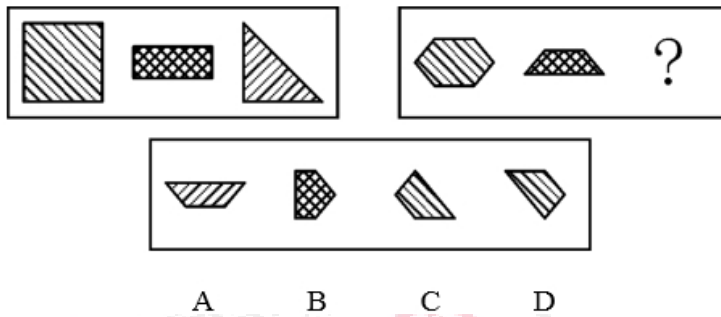
3、



4、



5、



6、如果公司拿到项目 A，则 B 产品就可以按期投放市场；只有 B 产品按期投放市场，公司资金才能正常周转；若公司资金不能正常周转，则 C 产品的研发就不能如期进行。而事实是 C 产品的研发正如期进行。由此可见（ ）。

- A. 公司拿到了项目 A 并且 B 产品按期投放市场
- B. 公司既没有拿到项目 A，B 产品也没能按期投放市场
- C. B 产品按期投放市场并且公司资金周转正常
- D. B 产品既没有按期投放市场，公司资金周转也极不正常

7、() 对于汽车相当于 () 对于人体

- A. 发动机 心脏
- B. 车轮 关节
- C. 汽油 肌肉
- D. 方向盘 眼睛

8、秘书对张强说：“你的方案很好，我认为董事们都会赞同。”过一会儿，她又说：“没有哪一个董事不会不赞同的。”可以看出 ()。

- A. 秘书赞同张强的方案
- B. 董事们赞同张强的方案
- C. 董事们反对张强的方案
- D. 秘书的话前后矛盾

9、《婚姻法》规定：凡是男女双方自愿离婚的，准予离婚。而在某婚姻案件中，只有一方是自愿离婚的。所以，法院的判决结果应为 ()。

- A. 不能判决离婚
- B. 不一定能判决离婚
- C. 经双方协商一致后再判决
- D. 应判决离婚

10、泥：璟

A. 嫁：休

B. 众：沸

C. 弦：枝

D. 武：踪

11、系统误差是指由于测量系统或测量器的不完善、测量技术受限、试验方法不完善或没有保证正确的试验条件等原因产生的测量值与真实值之间的差别。根据上述定义，下列情况属于系统误差的是（ ）。

A. 百米运动员两次参加比赛的成绩相差 0.1 秒

B. 分别在松花江上游和下游采集的水样密度不同

C. 伏安法测电阻的时候没有考虑电表内阻对实验结果的影响

D. 晚餐饮酒过量对第二天体检血液相关指标检查结果的影响

12、“萧贺或者是教师，或者是公务员。”上述判断是以下哪种情况？（ ）

A. 无所谓真假

B. 真的

C. 假的

D. 或者是真的，或者是假的

13、芒种：成熟：节气

- A. 音响：立体：设备
- B. 流星：闪光：天体
- C. 冠礼：婚嫁：礼仪
- D. 古稀：高寿：称谓

14、我不在犯罪现场。如果我在，那么，我没有犯罪。如果我犯了罪，那么，一定是我神志不清。以下哪项与上述论断最相似？（ ）

- A. 我只吃鸡或鱼或鸭。如果我没吃鸡，那么，一定吃鱼或鸭。如果我没吃鸭，那么，一定吃鱼
- B. 我从不说谎。如果我说了谎，那么，一定是被迫的。如果我被迫说了谎，那么，责任不在我
- C. 我没借你的书。如果我借了，我不会把书弄破。如果我把书弄破了，那是我不小心
- D. 她每天按时完成作业。如果她没完成作业，那么，她不会睡觉。如果她睡觉了，那一定是她完成了作业

15、在一次对全市中学假期加课情况的检查后，甲乙丙三人有如下结论：甲：有学校存在加课问题。乙：有学校不存在加课问题。丙：一中和二中没有暑期加课情况。如果上述三个结论中只有一个正确，则以下哪项一定为真？（ ）

- A. 一中和二中都存在暑期加课情况
- B. 一中和二中都不存在暑期加课情况
- C. 一中存在加课情况，但二中不存在
- D. 一中不存在加课情况，但二中存在

1. 【答案】D

【解析】本题考察位置类，前面半段两图形位置关系依次为相离、相交、重合，后半段延续同样的规律，因此答案选D。

2. 【答案】C

【解析】本题属于数量类，第1组图的线段数为8，16，32，构成等比数列，第二组图也遵循此规律，线段数目为1，2，4，所以答案为C。

3. 【答案】A

【解析】第1组图的小圆均在框内，第2组图的小圆均在框外，所以答案为A。

4. 【答案】B

【解析】每组图的第1个小图与第2小图去同存异后形成第3个小图。所以答案为B。

5. 【答案】A

【解析】本题考察元素内部图案遍历，左边一段分别是左斜线，叉线，右斜线，右边一段遵循此规律，所以答案为A。

6. 【答案】C

【解析】

题干中如果公司拿到项目A，则B产品就可以按期投放市场，翻译为：拿A→B按期投放。

只有B产品按期投放市场，公司资金才能正常周转，翻译为：资金正常周转→B按期投

放。若公司资金不能正常周转，则 C 产品的研发就不能如期进行，翻译为：一资金周转正常→-C 研发如期。而题干中告诉我们的是 C 研发如期，由一资金周转正常→-C 研发如期，否后必否前，可知资金周转正常。已知资金周转正常，由资金正常周转→B 按期投放所以，肯前必肯后，可知 B 按期投放。所以，C 选项是正确答案。

7. 【答案】A

【解析】

发动机之于汽车相当于心脏之于人体，发动机和心脏是提供动力的“工具”，汽车和人体是受力的“机体”。因此，本题的正确答案为 A 选项。

【纠错】

B 选项车轮和汽车是一种组成关系，关节和人体也是一种组成关系，而并非题干中的对应关系，排除，C 选项汽油和肌肉相比均无类似功能；D 选项方向盘控制方向，眼睛辨别方向，控制方向的前提是辨别方向

8. 【答案】D

【解析】

秘书的后一句话是三重否定，即董事们都不会赞成。所以秘书们后句话是不赞同张强的方案的。所以与她的前一句话是矛盾的，所以选择 D。

9. 【答案】B

【解析】

“双方都愿离婚”可以看作“离婚”的充分不必要条件。显然“一方提出离婚’属于必要不充分条件，由它不一定能推出结论，因此法院不一定判决离婚。故选 B。

【纠错】

充分必要条件即肯前必肯后、否后必否前，但是否前肯后不能推出确定结论，排除选项 A、D。选项 C 与题干无关。

10. **【答案】C**

【解析】

此题考查的是汉字的结构。题干两个字都是左右结构，且是左形右声的形声字，符合此特点的只有 C 选项。因此，本题答案为 C 选项。

【纠错】

A 选项中“休”不是形声字，排除；B 选项中“众”不是形声字，排除；D 选项中“武”不是形声字，排除。

11. **【答案】C**

【解析】

定义的关键要件为：由于测量系统或测量器的不完善、测量技术受限、试验方法不完善或没有保证正确的试验条件。在 C 项中，是属于系统误差中的方法误差，这是由于测量所依据的是理论公式，而实验条件不能达到理论公式所规定的要求，符合定义的关键要件。因此，本题答案为 C 选项。

12. **【答案】D**

【解析】

本题属于形式推理的翻译推理题型。题干中或者是教师，或者是公务员。“或者…或者…”表示的含义是两个之中选择一个即可，即萧贺是教师或者公务员之一，该命题为真，如果

都不是，则该命题为假，或者是真的或者是假的。因此，本题答案为 D 选项。

【纠错】

题干中未直接指明萧贺的职业，无法确定是不是教师或者公务员，即无法判断命题的真假，排除 B 项与 C 项；而命题不是真的就是假的，不可能存在 A 项这种情况，可以排除。

【拓展】

形式推理又被称之为必然性推理，翻译推理是其中非常重要的一种题型，翻译的依据主要是充分条件、必要条件、联言命题和选言命题；推理的主要依据是逆否等价定理，对于翻译出来的逻辑关系“ $P(Q)$ ”，可以推出的是“非 Q(非 P)”即否后必否前，否定前面（非 P）与肯定后面（Q）无法推出肯定结论。

13. **【答案】** D

【解析】

芒种是一种节气，代表的是农作物的成熟，芒种与成熟是对应关系。古稀是一种称谓，代表的是人类的高寿，古稀与高寿是对应关系。因此，本题答案为 D 选项。

【纠错】

A，音响虽然是一种设备，但与立体不是对应关系，排除；B 流行是一种天体，但与闪光不是对应关系，排除；C，冠礼是一种礼仪，但代表的是成年，与婚嫁不是对应关系，排除。

14. **【答案】** C

【解析】

根据题干条件可知，我不在犯罪现场；在犯罪现场(没有犯罪；犯罪(神志不清；C 项中的描述为我没借你的书；借了(不会弄破；书弄破(不小心。论证方式完全一致。因此，本题答案为 C 选项。

【纠错】

A项中多次出现“或”，考察内容为选言命题，与题干论证不符，排除；B项中第三个推理的前半部分为被迫说谎，与第二个推理的后半部分一致，论证方式与题干不符，排除；D项中第三个推理的后半部分，与第一句话含义相同，与题干描述方式不一致，排除。

【拓展】

形式推理又被称之为必然性推理，翻译推理是其中非常重要的一种题型，翻译的依据主要是充分条件、必要条件、联言命题和选言命题；推理的主要依据是逆否等价定理，对于翻译出来的逻辑关系“ $P \rightarrow Q$ ”，可以推出的是“非 $Q \rightarrow$ 非 P ”即否后必否前，否定前面（非 P ）与肯定后面（ Q ）无法推出肯定结论。

15. **【答案】**A

【解析】

甲乙为反对关系，两个有的必有一真，所以丙说的为假话。丙说的是“一中和二中都不存在”，当它为假，其矛盾命题为真，即：一中存在或二中存在，但只要有1个存在，就叫有的存在，所以甲说的为真。题干中说只有一句为真，所以乙说的为假，“有的不的”矛盾为“所有都”，即所有的学校都补课。故答案为A。



关注“天津华图”微信公众号：tjhuatu

后台回复“时政”可获取最新时政信息