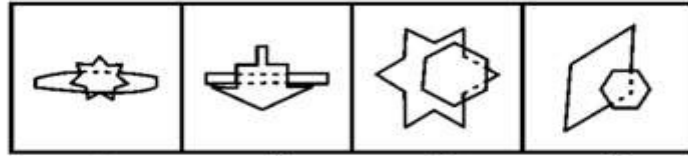
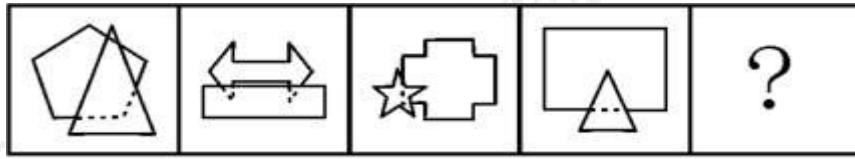


1. 从所给的四个选项中，选择最合适的一个填入问号处，使之呈现一定的规律性：



A

B

C

D

2. 从所给的四个选项中，选择最合适的一个填入问号处，使之呈现一定的规律性：

项	呈	圆
国	松	?
态	图	投

林	员	同	叉
---	---	---	---

A

B

C

D

3. 把下面的六个图形分为两类，使每一类图形都有各自的共同特征或规律，分类正确的一项是：

①

②

③

④

⑤

⑥



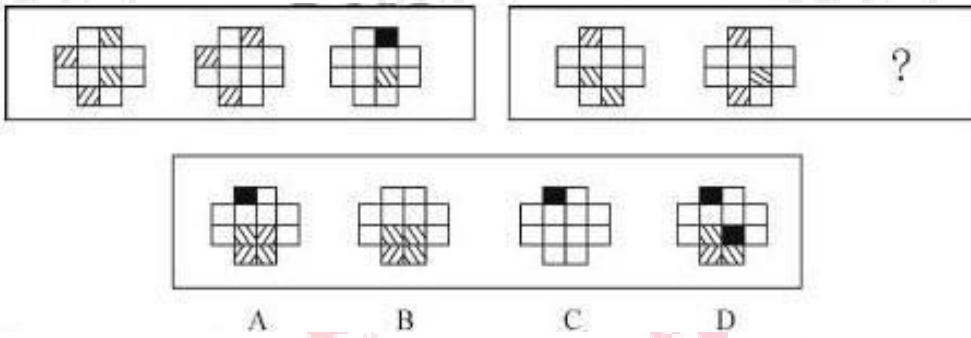
A. ①③⑤, ②④⑥

B. ①④⑥, ②③⑤


C. ①③④, ②⑤⑥

D. ①②⑤, ③④⑥

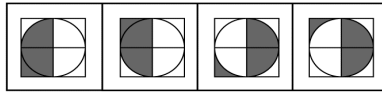
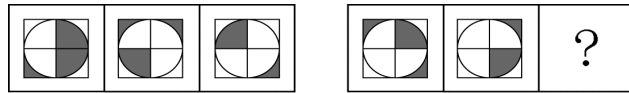
4. 请从所给的四个选项中, 选择最合适的一个填入问号处, 使之呈现一定的规律:



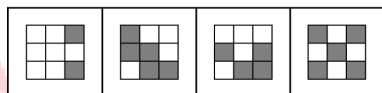

5. 从所给四个选项中, 选择最合适的一个填入问号处, 使之呈现一定规律性:



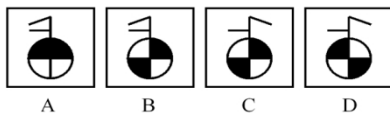
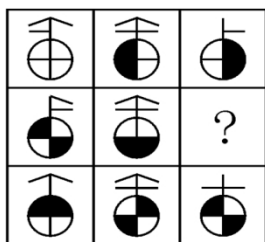
6. 从所给四个选项中, 选择最合适的一个填入问号处, 使之呈现一定规律性:



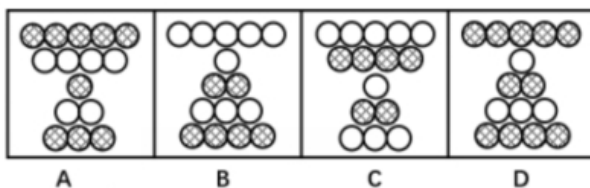
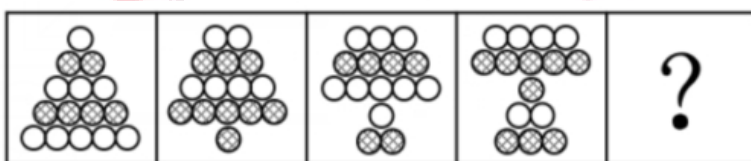
7. 从所给四个选项中，选择最合适的一个填入问号处，使之呈现一定规律性：



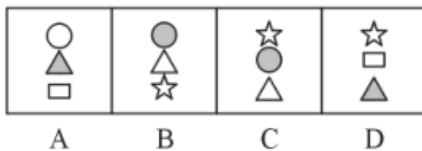
8. 从所给四个选项中，选择最合适的一个填入问号处，使之呈现一定规律性：



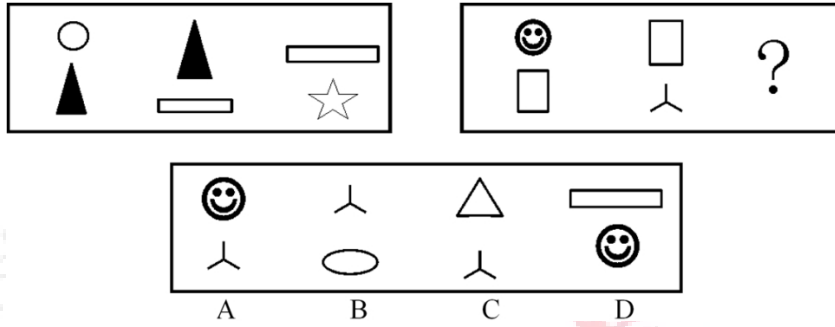
9. 请从所给的四个选项中，选择最合适的一个填入问号处，使之呈现一定的规律性：



10. 从所给四个选项中，选择最合适的一个填入问号处，使之呈现一定规律性：



11. 从所给四个选项中，选择最合适的一个填入问号处，使之呈现一定规律性：

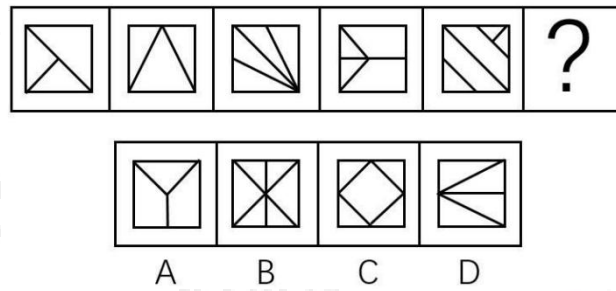


12. 把下面的 6 个图形分为两类，使每一类图形都有各自的共同规律，分类正确的是：

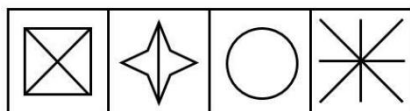



- A. ①④⑥, ②③⑤
- B. ①②⑤, ③④⑥
- C. ①⑤⑥, ②③④
- D. ①③⑤, ②④⑥

13. 问号处应该填入的是？

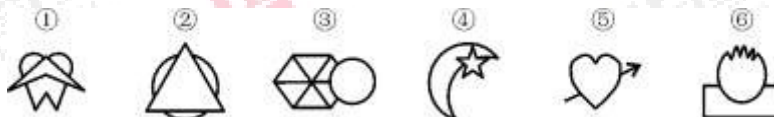


14. 从所给的四个选项中，选择最合适的一个填入问号处，使之呈现一定的规律性：



A B C D

15. 从所给的四个选项中，选择最合适的一个填入问号处，使之呈现一定的规律性：



A. ①②⑤, ③④⑥

B. ①②④, ③⑤⑥

C. ①④⑤, ②③⑥

D. ①④⑥, ②③⑤

参考答案:

1. 【答案】C

【参考解析】本题考查静态位置。整体观察，图形均是一个图形叠加在另一个图形上，位置在上的图形线条数小于位置在下的图形，因此，本题正确答案选C。

2. 【答案】B

【参考解析】每行汉字的结构都是上下结构、左右结构、包围结构，选择B。

3. 【答案】C

【参考解析】②⑤⑥中的相同元素相邻，①③④中的相同元素不相邻。

4. 【答案】B

【参考解析】第一步，观察图形。组成元素相似，方块有黑有白，优先考虑黑白叠加规律。第二步，两段式，第一段找规律，相同位置叠加后，其规律为：白+白=白，右斜线+左斜线=黑，左斜线+左斜线=白，右斜线+白=右斜线。第二行用规律，可得B项。因此，选择B选项。

5. 【答案】B

【参考解析】第一步，观察图形。组成元素相似，方块有黑有白，优先考虑黑白叠加规律。第二步，九宫格，横向规律较为常见，优先考虑。横向观察第一行，相同位置叠加后，其规律为：黑+白=黑，白+黑=黑，白+白=白，黑+黑=白。第二行验证规律正确，第三行运用此规律，可得B项。因此，选择B选项。

6. 【答案】A

【参考解析】第一步，观察特征。元素组成相似，外部轮廓相同，内部颜色有黑有白，优先考虑定义相加。第二步，两段式，第一段找规律，第二段运用规律。第一段中，相同位置相加后，其规律为：“白+黑=白、白+白=黑、黑+白=白”，第二段运用此规律，可得A项。因此，选择A选项。

7. 【答案】A

【参考解析】第一步，观察特征。元素组成相似，并且所有图形外部轮廓都是九宫格，内部颜色有黑有白，优先考虑定义相加。第二步，九宫格，横向规律较为常见，优先考虑。

第一行中定义相加规律为：黑+白=黑，黑+黑=白，白+白=白，白+黑=黑，验证第二行符合此规律，第三行运用该规律可得A项。因此，选择A选项。

8. 【答案】A

【参考解析】第一步，观察特征。组成元素相似，优先考虑样式。第二步，九宫格，横向规律较为常见，优先考虑。第一行与第三行图形相应位置定义相加规律为：白+黑=白，白+白=黑，黑+黑=白，黑+白=黑，第二行应用该规律可得A项。因此，选择A选项。

9. 【答案】B

【参考解析】第一步，观察特征。组成元素相似，优先考虑样式类。第二步，从左到右找规律。题干图形分为五行，最上面的一行依次挪到最下面一行，排除A、C项，再结合黑白颜色，每一行（具有相同数量圆圈的为同一行）的颜色依次发现黑白颜色变化，排除D项。因此，选择B选项。

10. 【答案】A

【参考解析】第一步，观察特征。组成元素相似，优先考虑样式。第二步，两段式，第一段找规律，第二段应用规律。第一段图形中，三幅图的组成元素均相同。第二段中第一幅图、第二幅图组成元素相同，延续这一规律，那么问号处的图形应该由长方形、圆、三角形三种元素构成，只有A符合。因此，选择A选项。

11. 【答案】B

【参考解析】第一步，观察特征。组成元素相似，优先考虑样式。第二步，两段式，第一段找规律，第二段应用规律。第一段相邻图形中均存在相同元素，且相同元素分别出现在前一幅图的下方和后一幅图的上方，第二段应用上述规律，只有B项符合规律。因此，选择B选项。

12. 【答案】A

【参考解析】第一步，观察特征。图形均由外部轮廓和内部线条组成，优先考虑线条数量。第二步，根据规律进行分类。线条数量无法分类，进一步观察图形共性特征，①④⑥三幅图内部只有曲线，②③⑤三幅图内部即有直线又曲线。因此，选择A选项。

13. 【答案】A

【参考解析】对称轴的旋转，有且仅有一条对称轴，故答案选择A选项。

14. 【答案】B

【参考解析】横向观察，对称性依次为竖轴对称，横轴对称，及有两条对称轴（一横一竖），故答案选择B选项。

15. 【答案】B

【参考解析】观察题干，发现最明显的特征为一个图形压着另外一个图形，结果发现①②④为直线压着曲线，③⑤⑥为曲线压着直线。因此，本题正确答案为B选项。



关注“天津华图”微信公众号：tjhuatu

后台回复“时政”可获取最新时政信息