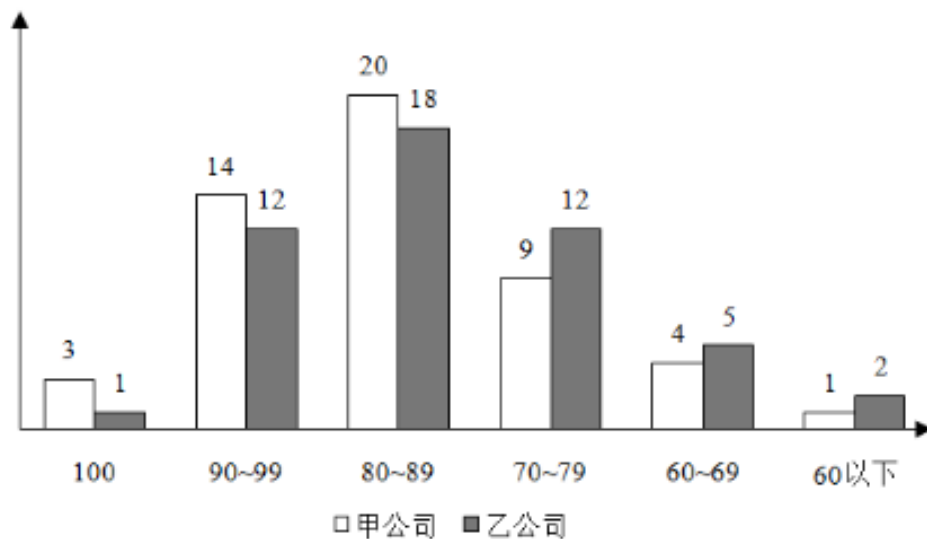


国考行测必做 1000 题

模块五：资料分析（801 题~1000 题）

（复合题）



甲乙两个公司的水平测试情况（单位：人）

801、（单选题）甲、乙两个公司共有多少人？

- A. 101
- B. 97
- C. 91
- D. 96

扫码关注公众号回复“810”获取答案



802、（单选题）如果 90 分及以上为优秀，甲公司的优秀率是多少？

A. 30%

B. 34%

C. 26%

D. 28%

803、（单选题）乙公司的及格率是多少？

A. 95%

B. 90%

C. 96%

D. 98%

804、（单选题）下列哪项叙述是正确的？

A. 乙公司的优秀率比甲公司高

B. 乙公司的及格率比甲公司低

C. 甲公司人数比乙公司少

D. 乙公司人数比甲公司多

扫码关注公众号回复“810”获取答案



805、（单选题）甲公司 80 分以上的比例比乙公司多百分之几？

- A. 11%
- B. 14%
- C. 15%
- D. 13%

（复合题）

表 金砖国家 2005 年至 2010 年 GDP（现价）数据 （单位：亿美元）

	2005 年	2006 年	2007 年	2008 年	2009 年	2010 年
巴西	8820	10890	13670	16480	16250	21430
俄罗斯	7640	9900	13000	16610	12230	14870
印度	7660	8730	11390	11500	12930	16030
中国	22580	27130	34960	45220	49910	59310
南非	2470	2610	2850	2740	2840	3640

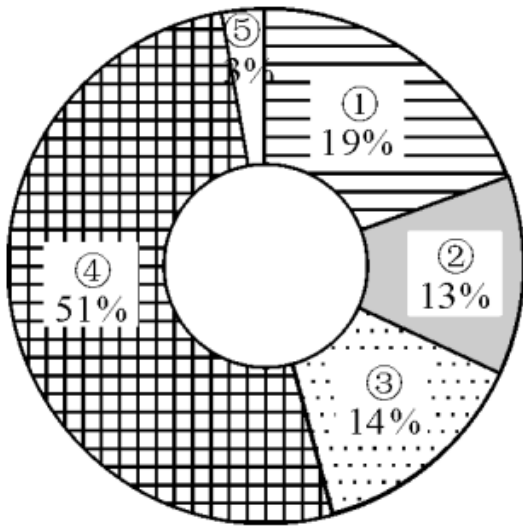
806、（单选题）以现价计算，2005 年至 2010 年期间，下列国家中 GDP 从未出现下滑的是（ ）。

- A. 南非
- B. 巴西
- C. 俄罗斯
- D. 中国

扫码关注公众号回复“810”获取答案



807、（单选题）下图为 2010 年金砖国家 GDP 的比重构成图，
环形部分②与⑤分别对应的国家是（ ）

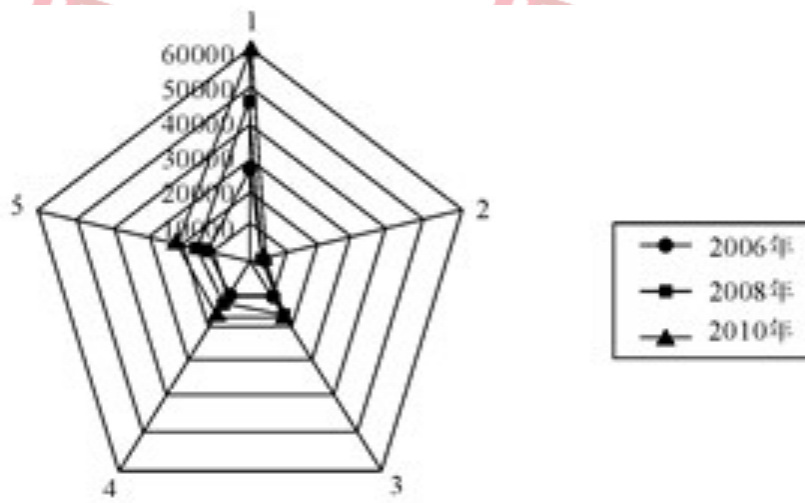


- A. 俄罗斯、巴西
- B. 南非、巴西
- C. 俄罗斯、南非
- D. 中国、俄罗斯

扫码关注公众号回复“810”获取答案



808、（单选题） 下图表示 2006、2008、2010 三年金砖国家的 GDP 情况，5 个顶点 1、2、3、4、5 代表的国家依次是



- A. 中国、南非、俄罗斯、印度、巴西
- B. 中国、俄罗斯、南非、巴西、印度
- C. 巴西、俄罗斯、印度、中国、南非
- D. 中国、巴西、南非、俄罗斯、印度

809、（单选题） 根据表中数据，2005 年至 2010 年 GDP 增长额最大的国家是（ ）。

- A. 中国
- B. 印度
- C. 俄罗斯
- D. 巴西

扫码关注公众号回复“810”获取答案



810、（单选题）以现价计算，2006年至2007年，印度与俄罗斯的GDP增长率分别为（ ）。

A. 28.86%，25.53%

B. 28.53%，31.62%

C. 23.35%，23.84%

D. 30.47%，31.31%

（复合题）

“十一五”时期某地区专业技术人员和财政科技拨款统计

年份		2006	2007	2008	2009	2010
专业技术人员（万人）	工程技术	565.5	555.1	531.6	528.9	499.3
	农业技术	65.4	67.0	67.5	66.7	68.3
	卫生技术	330.0	337.2	339.0	340.2	344.1
	科学研究	28.4	27.5	26.6	26.3	27.5
	总计	992.3	986.8	964.7	962.1	939.2
财政科技拨款（亿元）	科技三项费	272.8	277.2	359.5	398.6	416.6
	科学事业费	168.1	189.0	223.1	269.8	300.8
	科研基建费	52.9	61.5	63.4	70.0	111.1
	其他费用	50.1	47.9	57.2	77.8	147.0
	总计	543.9	575.6	703.2	816.2	975.5
	占财政总支出的比重（%）	4.1	3.6	3.7	3.7	4.0

811、（单选题）若用 V_e 、 V_a 、 V_h 、 V_s 分别表示 2007—2010 年该地区工程技术、农业技术、卫生技术、科学研究人员数平均变动值，则（ ）。

扫码关注公众号回复“810”获取答案



A. $V_s < V_a < V_e < V_h$

B. $V_a < V_s < V_e < V_h$

C. $V_s < V_a < V_h < V_e$

D. $V_a < V_s < V_h < V_e$

812、（单选题）2007—2010年该地区财政科技拨款增长呈逐年递增态势的是（ ）。

A. 科技三项费

B. 科学事业费

C. 科研基建费

D. 其他费用

813、（单选题）下列判断正确的有（ ）。

(1) “十一五”期间该地区每年“科研基建费”均多于“其他费用”

(2) “十一五”期间该地区专业技术人员人均财政科技拨款逐年增加

(3) “十一五”期间该地区财政科技拨款总和不到3500亿元

A. 0个

扫码关注公众号回复“810”获取答案



B. 1 个

C. 2 个

D. 3 个

814、（单选题）2007—2010 年该地区财政科技拨款年增长率最高的年份是（ ）。

A. 2007 年

B. 2008 年

C. 2009 年

D. 2010 年

815、（单选题）“十一五”时期后两年该地区财政科技拨款占财政总支出的平均比重是（ ）。

A. 3.858%

B. 3.856%

C. 3.854%

D. 3.850%

扫码关注公众号回复“810”获取答案



(复合题)

某市国外主要客源国游客人数统计表

客源国名称	2005年招待人次	所占国外总游客比例%	2004年招待人次	所占国外总游客比例%
日本	26159	31.78	20938	30
美国	9021	10.96	10650	15.26
新加坡	4247	5.16	2631	3.77
英国	3589	4.36	2150	3.08
马来西亚	3564	4.33	2031	2.91
加拿大	2774	3.37	1703	2.44
德国	2362	2.87	2010	2.88
俄罗斯	2041	2.48	1277	1.83
韩国	1729	2.1	1368	1.96
澳大利亚	1622	1.97	1298	1.86
法国	1523	1.85	1389	1.99
瑞士	1432	1.74	1577	2.26
合计	60063	72.97	49022	70.24

816、(单选题) 2005年与2004年相比, 该市的国外游客总人次比2004年增加了()人次。

- A. 11041
- B. 12520
- C. 15703

扫码关注公众号回复“810”获取答案



D. 18520

817、（单选题）下列选项中说法正确的一项是：

- A. 2005 年与 2004 年相比，各国到该市旅游人数均有所上升
- B. 2005 年与 2004 年相比，各国游客在国外总游客中所占比例均有所上升
- C. 2005 年与 2004 年相比，该市主要客源国中亚洲的游客比例有所增加
- D. 2005 年与 2004 年相比，该市国内游客所占比例有所增加

818、（单选题）到该市旅游的主要客源国中，2005 年游客人次增长幅度最大的是：

- A. 马来西亚
- B. 英国
- C. 俄罗斯
- D. 日本

819、（单选题）2005 年与 2004 年相比，该市主要客源国游客人数上升了：

- A. 2.73%

扫码关注公众号回复“810”获取答案



B. 18.4%

C. 22.5%

D. 81.6%

820、（单选题）下列选项中，说法不正确的一项是：

A. 亚洲国家游客是该市国外游客的主要来源

B. 主要客源国中，四个国家的游客人次增长幅度小于该市国外游客总人次的增长幅度

C. 在主要客源国中，除出现游客负增长的国家外，新加坡游客增长幅度最小

D. 若各国游客的增长幅度不变，则 2006 年德国游客人数将少于俄罗斯游客人数

（复合题）

扫码关注公众号回复“810”获取答案



表 2014~2015 年全国医院病人门诊和住院费用情况

项目	医院		公立医院					
	2014 年	2015 年	2014 年	2015 年	三级医院		二级医院	
					2014 年	2015 年	2014 年	2015 年
次均门诊费用(元)	220.0	233.9	221.6	235.2	269.8	283.7	176.0	184.1
按当年价格上涨(%)	6.6	6.3	6.6	6.1	5.1	5.2	5.9	4.6
按可比价格上涨(%)	1.5	4.9	4.5	4.7	3.0	3.7	3.8	3.2
人均住院费用(元)	7832.3	8268.1	8290.5	8833.0	12100.2	12599.3	5114.6	5358.2
按当年价格上涨(%)	5.2	5.6	5.5	6.5	3.2	4.1	2.9	4.8
按可比价格上涨(%)	3.2	4.1	3.4	5.1	1.2	2.7	0.9	3.3
日均住院费用(元)	811.9	861.8	843.8	903.1	1132.4	1024.6	581.5	605.4
按当年价格上涨(%)	7.4	6.1	7.8	7.0	6.7	6.4	5.2	4.1
按可比价格上涨(%)	5.3	4.7	5.7	5.6	4.6	4.9	3.2	2.7

注：①

费用均值按当年价计算；②次均门诊费用指门诊病人次均医药费用，人均住院费用指出院病人住院期间人均医药费用，日均住院费用指出院病人住院期间日均医药费用。

821、（单选题）2014 年全国医院次均门诊费用按当年价格计算比 2013 年多：

- A. 13.6 元
- B. 14.5 元
- C. 16.6 元
- D. 18.1 元

扫码关注公众号回复“810”获取答案



2822、（单选题）2015年全国公立医院三级医院人均住院费用比公立二级医院多：

- A. 1.1 倍
- B. 1.4 倍
- C. 1.7 倍
- D. 2.0 倍

823、（单选题）2014~2015年全国医院次均门诊费用，“按当年价格上涨”不同于“按可比价格上涨”的幅度，主要影响因素是：

- A. 就诊人数
- B. 统计误差
- C. 计算方法
- D. 通货膨胀

824、（单选题）2015年全国公立二级医院出院病人人均住院天数是：

- A. 7 天

扫码关注公众号回复“810”获取答案



B. 9 天

C. 11 天

D. 13 天

825、（单选题）下列判断正确的是：

A. 2015 年全国公立二级医院日均住院费用不足公立三级医院的一半

B. 2014~2015 年全国医院次均门诊费用、人均住院费用和日均住院费用按可比价格计算年增幅均未超过 5%

C. 2015 年全国公立医院、公立三级医院、公立二级医院日均住院费用按当年价格计算增幅均低于 2014 年

D. 无论按当年价格还是可比价格计算，2015 年全国公立三级医院次均门诊费用、人均住院费用和日均住院费用增幅均高于 2014 年

扫码关注公众号回复“810”获取答案



(复合题)

苏、浙、粤、闽、鲁五省主要农产品产量统计表(单位:万吨)

	浙江	江苏	广东	福建	山东
粮食	1072.7	2942.1	1600.1	817.3	3720.6
棉花	3.2	46.1	0	—	78.1
油料	58.2	232.5	80.9	26.1	377.3
糖料	106	32	1213	95.5	0.1
蔬菜	1634.1	3562.4	2377.6	1161	7556.4
茶叶	12.1	1.2	4.2	13.4	0.3
水果	250.6	195.3	686.2	401.2	971.4
肉类	136.1	343.1	333.3	140	595.4
奶类	17.6	36	10.4	11.4	90.4
禽蛋	40.6	180.1	33.1	40.1	379
蚕茧	11	10.1	4.5	—	7
水产品	472.9	320.9	609.7	542.5	686.1

826、(单选题) 哪省的粮食产量最多?

- A. 广东省
- B. 江苏省
- C. 福建省
- D. 山东省

827、(单选题) 福建的糖料产量在这五省中居第几?

- A. 3
- B. 4
- C. 5

扫码关注公众号回复“810”获取答案



D. 6

828、（单选题）蔬菜产量最多的省份与蔬菜产量最少的省份的蔬菜产量之比是多少？

A. 6.5

B. 4.6

C. 3.2

D. 5.6

829、（单选题）广东有几项农产品在这五个省中排在第一？

A. 1

B. 2

C. 3

D. 4

830、（单选题）广东省不出产什么农产品？

A. 粮食

B. 油料

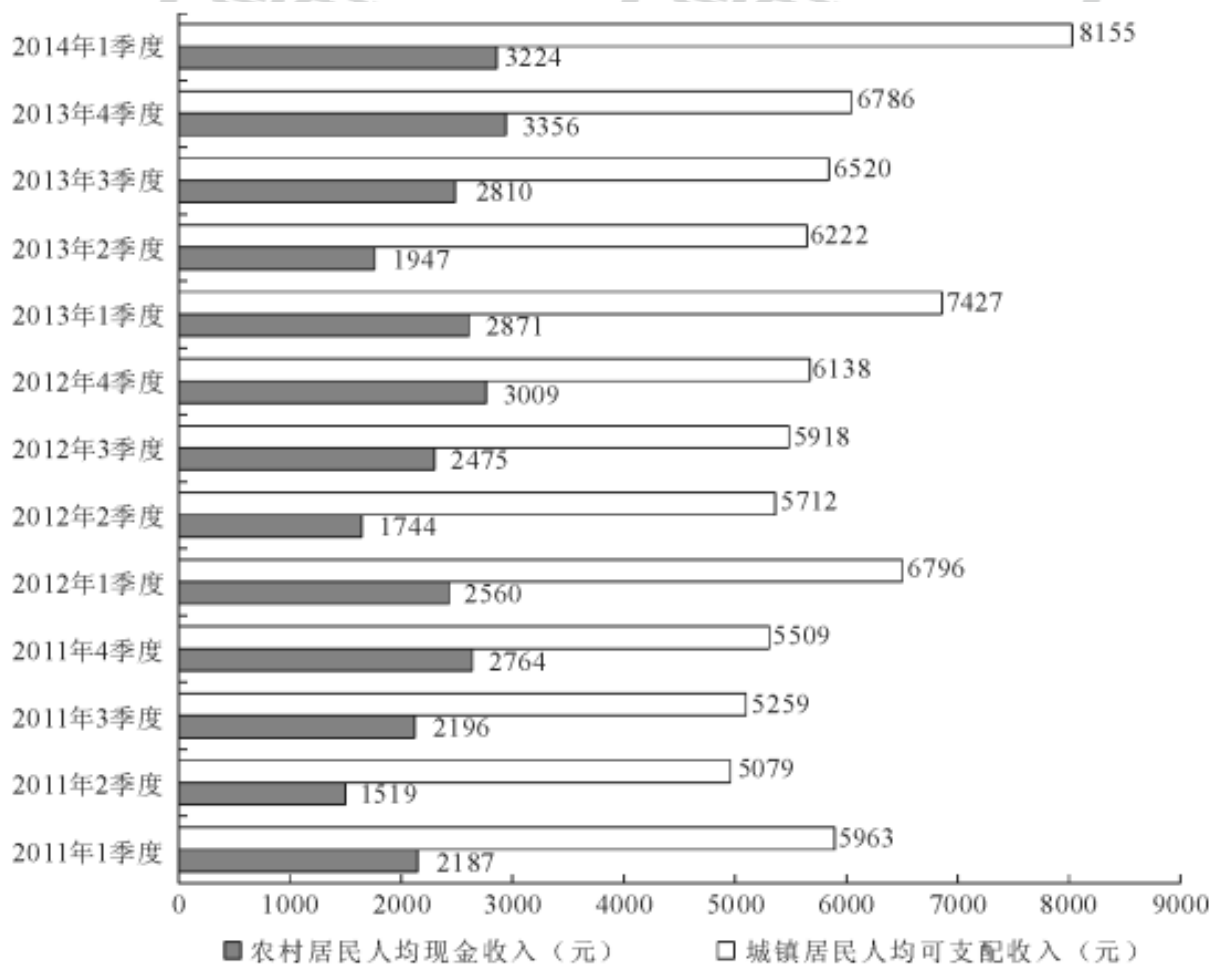
C. 棉花

扫码关注公众号回复“810”获取答案



D. 糖料

(复合题)



2011年1季度~2014年1季度全国农村居民与城镇居民收入情况

831. (单选题) 与2011年同期相比, 2014年1季度农村居民人均现金收入约增长了:

A. 25.9%

扫码关注公众号回复“810”获取答案



B. 36.8%

C. 47.4%

D. 52.5%

832. (单选题) 2013 年城镇居民人均可支配收入同比增加了:

A. 4 千多元

B. 3 千多元

C. 2 千多元

D. 1 千多元

833. (单选题) 综合 2011—2013 年的数据, 农村居民人均现金收入和城镇居民人均可支配收入最高的季度分别是:

A. 1 季度和 1 季度

B. 1 季度和 4 季度

C. 4 季度和 4 季度

D. 4 季度和 1 季度

834. (单选题) 2011—2013 年, 农村居民年人均现金收入超过 1 万元的年份有几个?

扫码关注公众号回复“810”获取答案



A. 0

B. 1

C. 2

D. 3

835、（单选题）能够从上述资料中推出的是：

A. 2013 年各季度农村居民人均现金收入均同比增加

B. 2013 年 4 季度城镇人均可支配收入同比增速低于环比增速

C. 2014 年 1 季度城镇居民人均可支配收入环比增长了三成多

D. 2013 年下半年农村居民人均现金收入比上半年多约 2000 元

（复合题）

阅读下列材料，回答下面的题目。

据 2006 年人口变动抽样调查，年末浙江省常住人口为 4980 万人，比上年增长 1.67%。其中，男性人口 2511.4 万人，女性人口 2468.6 万人，分别占总人口的 50.43% 和 49.57%。全年出生人口 50.78 万人，出生率为 10.29‰；死亡人口 26.75 万人，死亡率为 5.42‰。

据对全省城乡住户抽样调查，全省城镇居民人均可支配收入

扫码关注公众号回复“810”获取答案



18265 元，农村居民人均纯收入 7335 元，分别比上年实际增长 10.9% 和 9.3%。城镇居民人均住房使用面积 26.4 平方米，比上年末增加 0.3 平方米；农村居民人均居住面积 55.6 平方米，比上年末增加 0.6 平方米。

全年全省参加企业养老保险人数 964.4 万人，比上年末增加 87.6 万人；企业实际缴费人数 722 万人，企业养老保险基金收入 318.2 亿元，支出 192.3 亿元，累计结余 453.7 亿元，比上年末增加 125.9 亿元，基金支付能力稳定上升，支付能力达 26 个月。参加失业保险人数 504.4 万人，比上年末增长 13.4%；基本医疗保险参保人数 730.6 万人，比上年末增长 14.2%；工伤保险参保人数 604 万人，比上年末增长 33.3%。

新型社会救助体系进一步深化完善。全省已有城乡低保对象 62.9 万人，其中城镇 8.9 万人，月均补助 145.5 元/人；农村 54 万人，月均补助 72.3 元/人。年末全省各种收养性社会福利单位拥有床位 10.69 万张，收养人员 7.56 万人。农村五保集中供养率 92%，城镇“三无”集中供养率 98%。现有 1500 多个乡镇（街道）和 2.7 万个社区（村）建立了社会救助综合管理服务机构，分别占总数的 98.6% 和 73.4%，社会救助工作人员 3.8 万名。

扫码关注公众号回复“810”获取答案



836、（单选题）2006年浙江省自然增长人口：

- A. 24.03 万人
- B. 27.46 万人
- C. 29.51 万人
- D. 32.73 万人

837、（单选题）2006年全省城镇居民人均可支配收入约比上年增加了：

- A. 9.3%
- B. 12.2%
- C. 1991 元
- D. 1795 元

838、（单选题）与上年末相比，2006年末，以下四个项目人数增加最多的是：

- A. 参加企业养老保险人数
- B. 参加失业保险人数
- C. 基本医疗保险参保人数
- D. 工伤保险参保人数

扫码关注公众号回复“810”获取答案



839、（单选题）根据以上资料，2006 年全省用于农村低保对象的补助支出约为：

- A. 0.39 亿元
- B. 4.69 亿元
- C. 0.13 亿元
- D. 1.55 亿元

840、（单选题）已知 2005 年女性人口约占全省常住人口总数的 49.3%，则 2005 年全省的女性人口约为：

- A. 2367 万人
- B. 2391 万人
- C. 2415 万人
- D. 2432 万人

扫码关注公众号回复“810”获取答案



(复合题)

网民婚姻状况调查统计表

	已婚网民			未婚网民			合计	
	人 数 (万人)	同比增 长率	占网民 总数比 例	人 数 (万人)	同比增 长率	占网民 总数比 例	人 数 (万人)	同比增 长率
2001.06	1100	—	41.5%	1550	—	58.5%	2650	—
2002.06	1882	71.1%	41.1%	2698	74.1%	58.9%	4580	72.8%
2003.06	2740	45.6%	40.3%	4060	50.5%	59.7%	6800	48.5%
2004.06	3471	26.7%	39.9%	5229	28.8%	60.1%	8700	27.9%
2005.06	4223	21.7%	41.0%	6077	16.2%	59.0%	10300	18.4%
2006.06	5523	30.8%	44.9%	6777	11.5%	55.1%	12300	19.4%

841、(单选题) 已婚和未婚网民在全体网民中所占比例最接近的年份是:

- A. 2001 年
- B. 2003 年
- C. 2004 年
- D. 2006 年

842、(单选题) 不同婚姻状况的网民同比增长率最为接近的年份是:

- A. 2002 年

扫码关注公众号回复“810”获取答案



B. 2003 年

C. 2004 年

D. 2005 年

843、（单选题）已婚网民同比增长速度低于全体网民同比增长速度的年份共有几年？

A. 2 年

B. 3 年

C. 4 年

D. 5 年

844、（单选题）2006 年新增已婚网民比该年新增未婚网民多出多少人？

A. 500 万

B. 600 万

C. 700 万

D. 800 万

845、（单选题）下列说法与资料相符的是：

扫码关注公众号回复“810”获取答案



- A. 全体网民同比增长速度呈逐年下降趋势
- B. 就婚姻状况来看，网民结构已发生根本改变
- C. 与上一年相比，全体网民绝对人数增长最多的是 2003 年
- D. 从 2001 年到 2006 年，未婚网民增长幅度超过已婚网民

(复合题)

2014 年末全国就业人员 77253 万人，比上年末增加 276 万人。

其中，城镇就业人员 39310 万人，比上年末增加 1070 万人。

2010—2014 年末全国劳动就业状况

年份	2010	2011	2012	2013	2014
城镇新增就业人数(万人)	1168	1221	1266	1310	1322
城镇失业人员再就业人数(万人)	547	553	552	566	551
城镇登记失业人数(万人)	908	922	917	926	952
城镇登记失业率(%)	4.14	4.09	4.09	4.05	4.09
第一产业就业人员占比(%)	36.7	34.8	33.6	31.4	29.5
第二产业就业人员占比(%)	28.7	29.5	30.3	30.1	29.9
第三产业就业人员占比(%)	34.6	35.7	36.1	38.5	40.6

846、(单选题) 2014 年末全国城镇新增就业人数比 2013 年末增长()。

- A. 0.7%
- B. 0.9%
- C. 1.2%

扫码关注公众号回复“810”获取答案



D. 1.6%

847、（单选题）2013年末全国就业人员中从事第三产业的人数为（ ）。

A. 23170 万

B. 24171 万

C. 29636 万

D. 31365 万

848、（单选题）和2010年末相比，2014年末全国第一产业就业人员占比提高了（ ）。

A. -7.2 个百分点

B. 1.2 个百分点

C. 6.0 个百分点

D. 7.2 个百分点

849、（单选题）2011—2014年，全国城镇失业人员再就业人数占上年末全国城镇登记失业人数比重的最大值是（ ）。

A. 59.5%

扫码关注公众号回复“810”获取答案



B. 59.9%

C. 60.9%

D. 61.7%

850、（单选题）下列判断正确的是（ ）。

A. 2014 年末全国第二产业就业人数比上年末有所增加

B. 2014 年末全国城镇就业人员比上年末增加 1322 万人

C. 2011—2014 年末，全国第三产业就业人员占比逐年增加

D. 2011—2014 年末，全国城镇登记失业率和城镇登记失业人数的变化趋势相同

扫码关注公众号回复“810”获取答案



(复合题)

一、根据以下资料，回答 86-90 题。

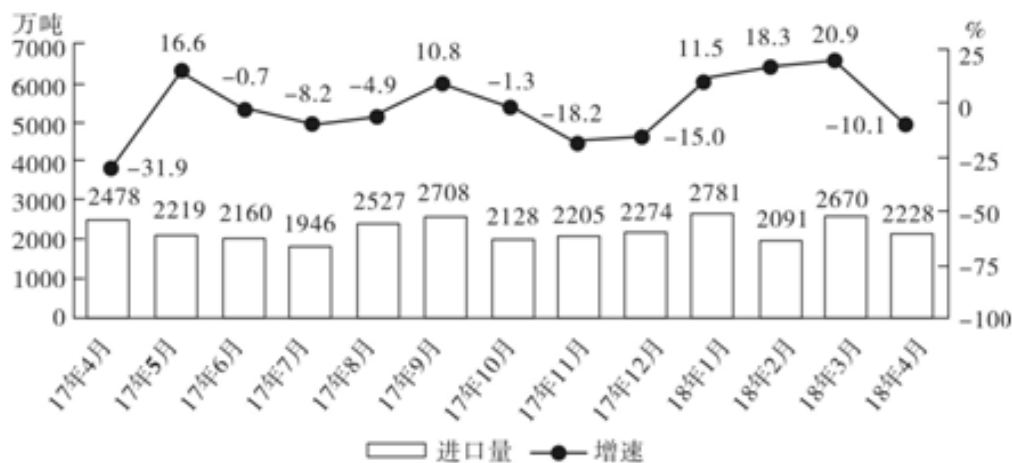


图1 2017年4月~2018年4月我国煤炭进口量及同比增速

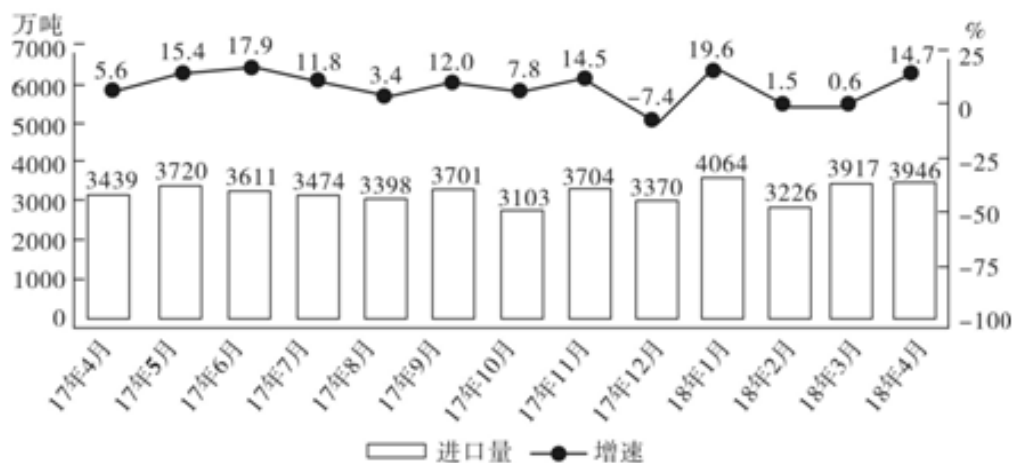


图2 2017年4月~2018年4月我国原油进口量及同比增速

851、(单选题) 2017年下半年煤炭进口量同比增速最高的月份, 当月煤炭进口量比上月约:

A. 下降 10%

扫码关注公众号回复“810”获取答案



B. 下降 25%

C. 上升 7%

D. 上升 28%

852、（单选题）2017 年下半年，我国平均每月进口原油：

A. 不到 3300 万吨

B. 在 3300-3400 万吨之间

C. 在 3400-3500 万吨之间

D. 超过 3500 万吨

853、（单选题）2017 年 9 月和 10 月，我国原油进口金额分别为 136 亿和 121.4 亿美元，10 月平均每吨原油的进口价格较 9 月：

A. 上升了不到 50 美元

B. 上升了 50 美元以上

C. 下降了不到 50 美元

D. 下降了 50 美元以上

854、（单选题）2017 年 4 月-2018 年 4 月间，原油进口量同比增速超过煤炭进口量同比增速的月份有多少个？

扫码关注公众号回复“810”获取答案



- A. 3
- B. 5
- C. 8
- D. 10

855、（单选题）能够从上述资料中推出的是：

- A. 2017年4月，我国原油进口量低于上月水平
- B. 2017年4季度，我国煤炭进口量高于上季度水平
- C. 2018年1月，我国原油进口量同比增长700万吨以上
- D. 2017年2-4季度我国煤炭进口量最高的月份，进口量同比增速也最高

（复合题）

2014年我国实施“单独两孩”生育政策，出生人口1687万人，比上年增加47万人。2016年实施“全面两孩”生育政策，出生人口1786万人，比上年增加131万人；出生率与“十二五”时期年平均出生率相比，提高了0.84个百分点。2017年我国出生人口1723万人，虽然比上年减少63万人，但比“十二五”时期年平均出生人口多出79万人；出生率为12.43%，比上一年降低

扫码关注公众号回复“810”获取答案



0.52 个千分点。2017 年二孩数量进一步上升至 883 万人，二孩占全部出生人口的比重达到 51.2%，比 2016 年的占比提高了 11 个百分点。

2017 年出生人口最多的省份是山东，出生人口为 174.98 万人，但是比 2016 年减少 2.08 万人，广东和河南出生人口也超过百万，其中广东出生人口 151.63 万人，同比增加 22.18 万人；河南出生人口 140.13 万人，较上年减少 2.48 万人。此外，出生人口排名前十的省份依次还有河北、四川、湖南、安徽、广西、江苏、湖北。其中，河北、四川、湖南出生人口超 90 万人，湖北最少，为 74.26 万人。

从人口增量来看，2017 年广东出生人口增量最大，出生人口较 2016 年增加 22.18 万人。安徽、四川、河北出生人口增量超过 5 万。此外，江苏、湖南、山东、河南出生人口较 2016 年有所减少。其中，河南减少最多，出生人口减少 2.48 万人。

856、（单选题）2016 年我国二孩出生人口约为：

- A. 883 万人
- B. 742 万人
- C. 718 万人

扫码关注公众号回复“810”获取答案



D. 693 万人

857、（单选题）“十二五”时期我国年平均出生率约为：

A. 11.59‰

B. 12.11‰

C. 12.43‰

858、（单选题）2015 年我国出生人口同比约：

A. 增长 3.2%

B. 降低 3.2%

C. 增长 1.9%

D. 降低 1.9%

859、（单选题）2016 年山东、广东和河南三省出生人口之和占当年全国出生人口的比重约为：

A. 21%

B. 25%

C. 28%

D. 31%

扫码关注公众号回复“810”获取答案



860、（单选题）能够从上述资料中推出的是：

- A. 2016、2017 两年山东出生人口数量均超过当年全国出生人口数量的 10%
- B. 2016 年广东出生人口数量超过 2017 年湖北出生人口数量的 2 倍
- C. 2017 年出生人口增量超过 5 万的省份只有 3 个
- D. 2017 年出生人口比 2013 年增长超过 5%

（复合题）

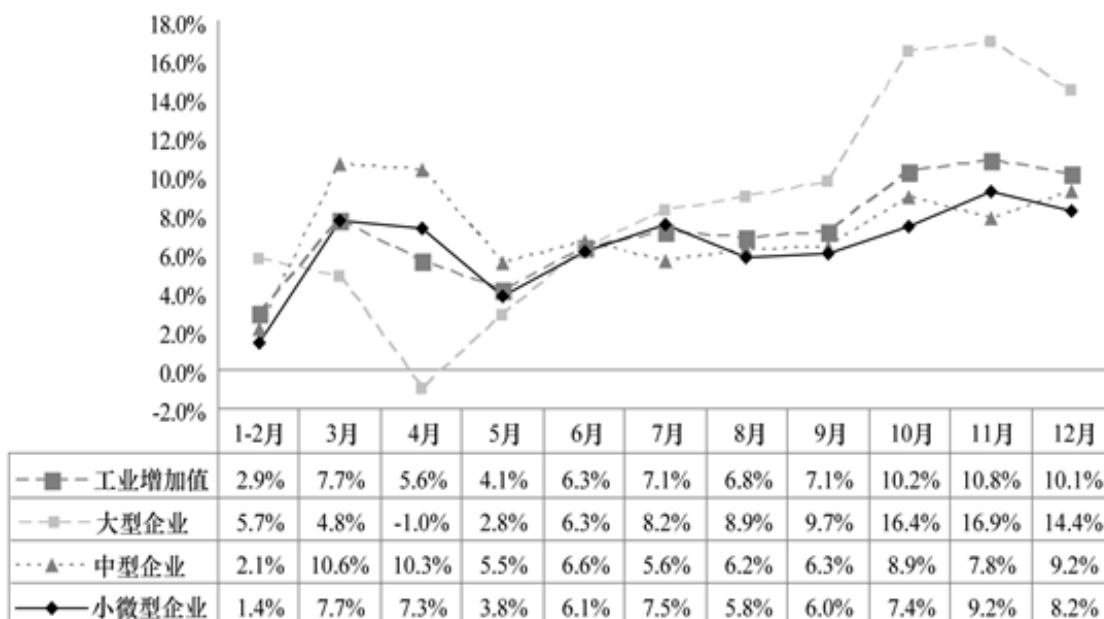
2012 年，某省规模以上工业增加值 10875 亿元，比上年增长 7.1%，月度增速从 1~2 月的 2.9% 回升到 10~12 月的 10% 以上。大型、中型和小微型企业增加值分别为 3074、3217 和 4584 亿元，比上年分别增长 8.2%、6.8% 和 6.7%。

2012 年，该省规模以上工业企业主营业务收入 56730 亿元，比上年增长 3.5%，增速比全国低 7.5 个百分点；利润总额 2900

扫码关注公众号回复“810”获取答案



亿元，比上年下降 6.1%。



2012年某省规模以上工业增加值同比增速情况

861、（单选题）与 2011 年相比，2012 年全国规模以上工业企业主营业务收入：

- A. 下降了 4%
- B. 上升了 4%
- C. 上升了 7.5%
- D. 上升了 11%

862、（单选题）与 2011 年相比，2012 年该省规模以上工业增加值约增加了多少亿元？

- A. 600

扫码关注公众号回复“810”获取答案



B. 720

C. 840

D. 960

863、（单选题）2012年3—10月间，中型企业增加值增速和规模以上工业增加值总体增速差异最大的月份是：

A. 4月

B. 6月

C. 8月

D. 11月

864、（单选题）以下关于该省2012年规模以上工业发展状况的描述与资料相符的是：

A. 小微型企业对10—12月的月度同比增速回升拉动作用最大

B. 全年小微型企业增加值同比增量低于中型企业

C. 规模以上工业企业主营业务利润率高于上年水平

D. 第三季度大型企业工业增加值同比增速高于其他两类企业

865、（单选题）2012年3—10月间，在中型企业增加值增速和规模以上工业增加值总体增速差异最大的月份中，增加值增速

扫码关注公众号回复“810”获取答案



最快的企业类型的增速比增加值增速最慢的企业类型的增速高多少个百分点？

A. 7.4

B. 8.3

C. 11.3

D. 12.4

866、（单选题）2012年3—10月间，三类企业工业增加值同比增速均超过5%的月份有几个？

A. 5

B. 6

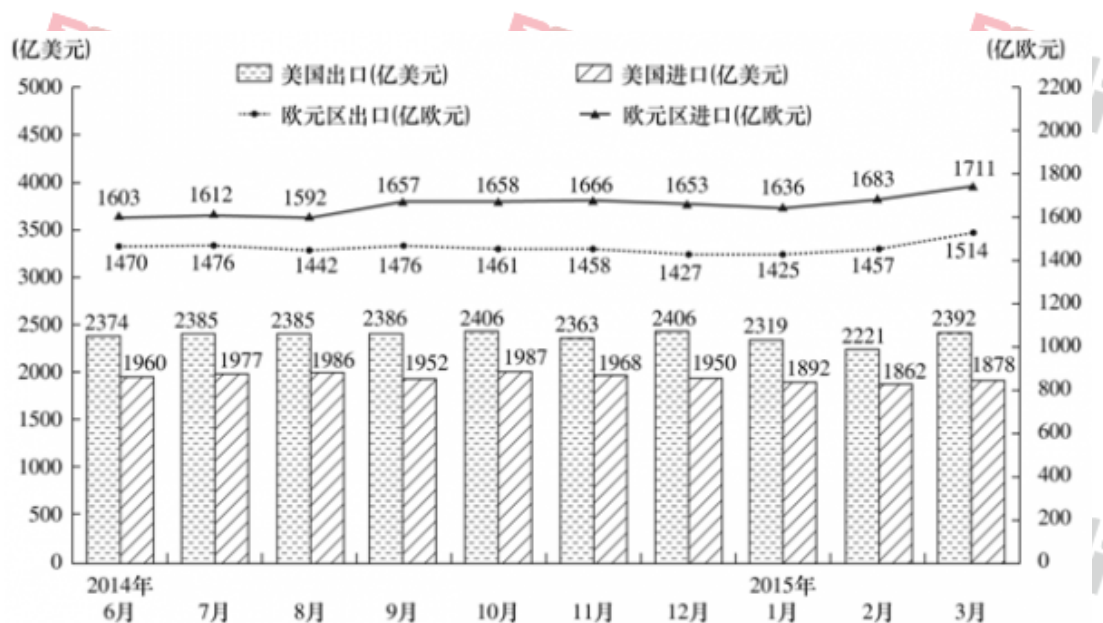
C. 7

D. 8

扫码关注公众号回复“810”获取答案



(复合题)



2014年6月—2015年3月美国与欧元区进、出口额

867、(单选题) 2014年7月至2015年3月美国出口额月平均增量是()。

- A. 0.8 亿美元
- B. 0.9 亿美元
- C. 1.8 亿美元
- D. 2.0 亿美元

868、(单选题) 2014年7月至2015年3月欧元区进口额与出口额变动方向相反的月份个数有()。

扫码关注公众号回复“810”获取答案



A. 2 个

B. 3 个

C. 4 个

D. 5 个

869、（单选题）2014 年 6 月至 2015 年 3 月美国贸易顺差最大的月份是（ ）。

A. 2014 年 12 月

B. 2015 年 1 月

C. 2015 年 2 月

D. 2015 年 3 月

870、（单选题）2014 年 7 月至 2015 年 3 月美国与欧元区进、出口额月平均增速最快的是（ ）。

A. 欧元区出口额

B. 欧元区进口额

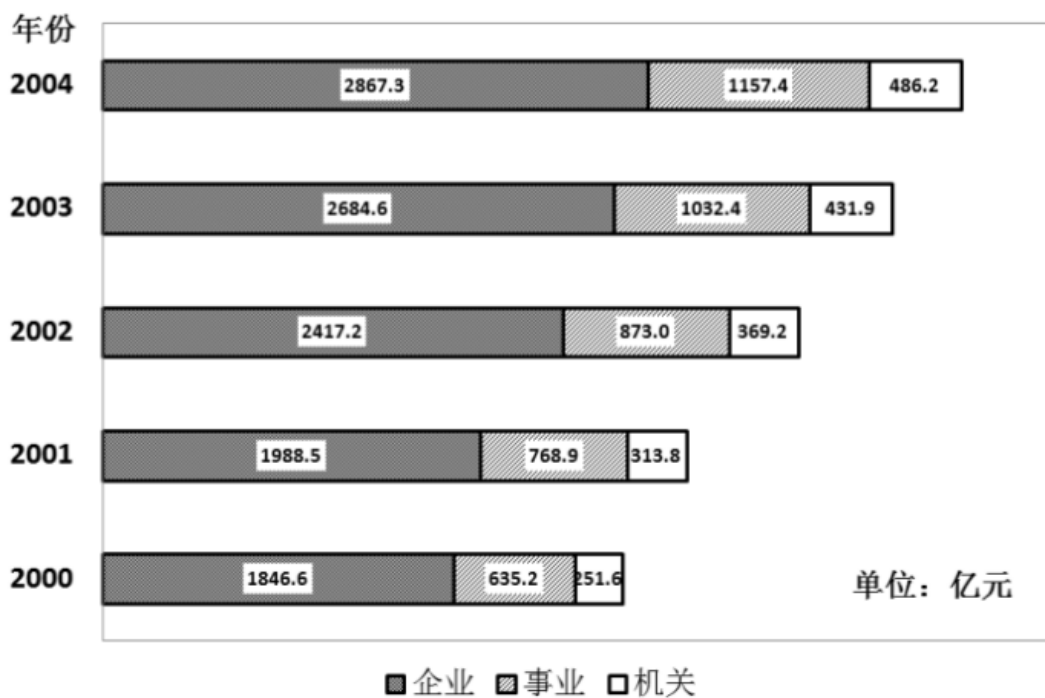
C. 美国出口额

D. 美国进口额

扫码关注公众号回复“810”获取答案



(复合题)



2000—2004 年我国企业、事业、机关单位退休、离职、退职费用一览

871、(单选题) 事业单位退休、离职、退职费用首次超过 1000 亿(2000—2004 年期间)的是:

- A. 2001 年
- B. 2002 年
- C. 2003 年
- D. 2004 年

扫码关注公众号回复“810”获取答案



872、（单选题）2000年，企业费用占总费用的多少？

A. 60.4%

B. 63.2%

C. 67.6%

D. 70.2%

873、（单选题）2003年比2002年总费用多：

A. 489.5亿元

B. 499.5亿元

C. 569.5亿元

D. 578.9亿元

874、（单选题）2002—2004年间，总费用年平均增长率为：

A. 9%

B. 11%

C. 15%

D. 20%

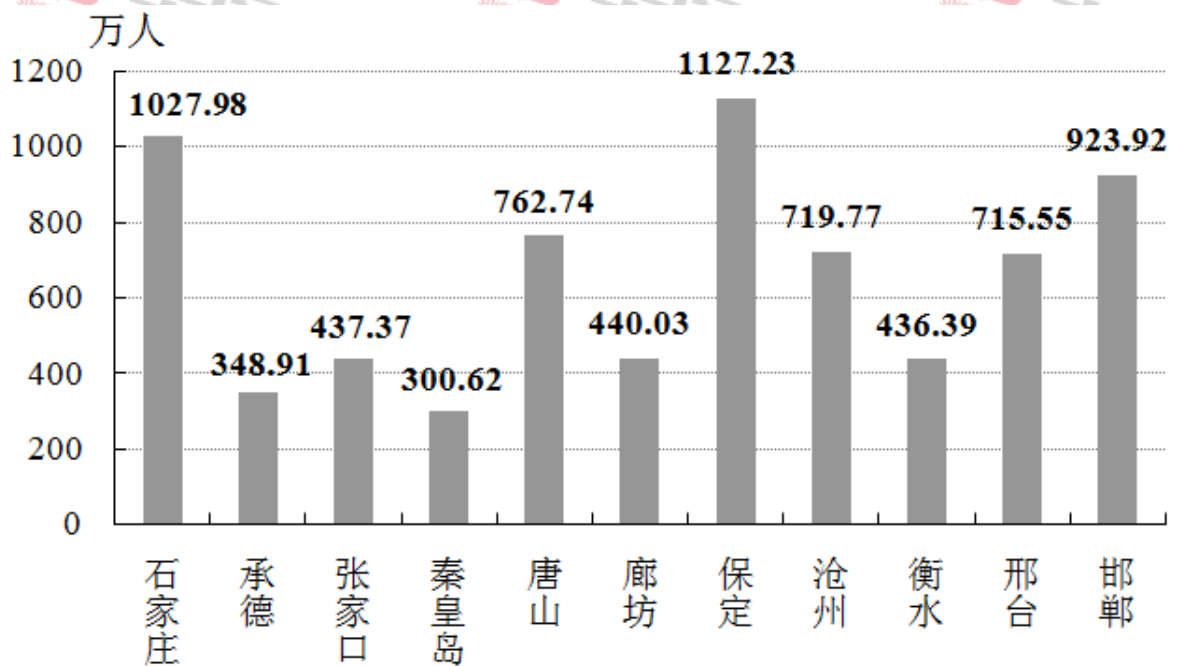
扫码关注公众号回复“810”获取答案



875、（单选题）2001—2004年间机关总费用比上年增长率高的是：

- A. 2001
- B. 2002
- C. 2003
- D. 2004

（复合题）



2011年河北省各市人口分布图

扫码关注公众号回复“810”获取答案



2011年河北省各市文化、卫生情况统计表

城市	公共图书馆 (个)	公共图书馆图书藏 量(千册)	医院和卫 生院(个)	医院和卫 生院床位 数(张)	医生数 (人)	注册护士数 (人)
石家庄	8	3522	93	18640	12550	11079
承德	3	315	32	4470	2266	2254
张家口	2	754	40	5860	2817	2568
秦皇岛	2	605	55	6014	3642	3169
唐山	5	1235	144	17550	9309	10057
廊坊	2	1358	45	3813	2567	1953
保定	1	750	41	10385	4731	5131
沧州	1	270	14	5974	3281	3374
衡水	1	133	35	3575	2483	1623
邢台	1	365	52	6537	3387	3215
邯郸	4	615	92	12395	5759	5502

876、（单选题）2011年，石家庄平均每人拥有公共图书馆图书多少册？

- A. 0.3426
- B. 3.426
- C. 34.26
- D. 342.6

7、（单选题）2011年，河北省各市的公共图书馆、注册护士、医院和卫生院数量均排在前五位的市有几个？

- A. 1

扫码关注公众号回复“810”获取答案



B. 2

C. 3

D. 4

878、（单选题）2011年，公共图书馆平均图书藏量大于50万册的城市有几个？

A. 1

B. 2

C. 9

D. 11

879、（单选题）2011年，每千人口医院和卫生院床位数最高的市是：

A. 石家庄市

B. 秦皇岛市

C. 张家口市

D. 唐山市

扫码关注公众号回复“810”获取答案



880、（单选题）2011年河北省平均每个医院和卫生院医生数量约为：

A. 64人

B. 77人

C. 82人

D. 148人

（复合题）

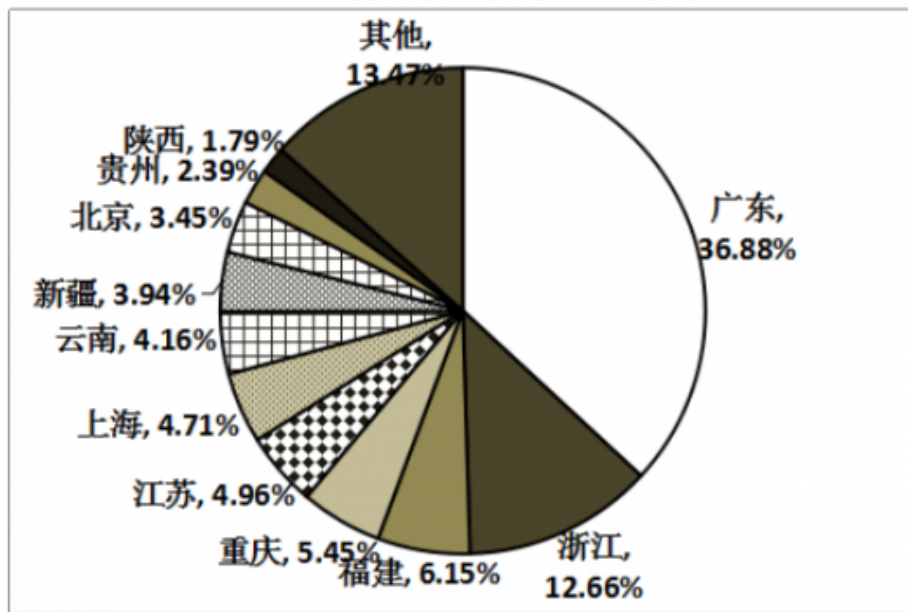
二、根据所给材料，回答91-95题。

2010年人口普查，某省外出人口达2091.4万人，占全省人口总数约26%，其中，外出省内1040.8万人，外出省外1050.6万人，分别占外出人口总数的49.8%和50.2%。在省内外来人口中，有82.8%的人口由乡村到城镇，其中，由乡村进入大中城市、小城镇的人口分别占省内外来人口的48.8%、34%。在外出省外人口中，92.89%的人口来源于乡村、7.11%的人口来源于城镇。

扫码关注公众号回复“810”获取答案



2010年某省外出省外人口地区分布



近年来，由于东部地区劳动力、土地等基本生产要素成本上升等因素影响。该省劳务输出出现人口回流。2013年省外务工人员回流166.4万人，实现就业133.38万人，其中，第二产业46.40万人，第三产业49.44万人。2014年省外务工人员回流152.47万人，实现就业123.39万人，其中，第二产业46.45万人，第三产业48.47万人。2015年截至第三季度，省外务工人员回流135.95万人，实现就业121.27万人，其中，第二产业41.47万人，第三产业48.53万人。

打开资料

881、（单选题）2010年，该省外出到江、浙、沪三省市中的人口总数约为（ ）万人。

扫码关注公众号回复“810”获取答案



A. 158

B. 235

C. 314

D. 467

882、（单选题）2010年，该省由乡村进入省内大中城市的人口占全省人口的比重约为：

A. 6%

B. 13%

C. 19%

D. 24%

883、（单选题）2010年该省外出到本省人数约是外出到北京市人数的（ ）倍。

A. 低于10倍

B. 在10—20倍之间

C. 在20—30倍之间

D. 高于30倍

扫码关注公众号回复“810”获取答案



884、（单选题）2015年截至第三季度，该省回流的省外务工人员中，在二、三产业实现就业的人数占总体比重约为：

- A. 五成多
- B. 六成多
- C. 七成多
- D. 八成多

885、（单选题）能够从上述材料中推出的是：

- A. 2010年该省外出到福建的人口数是外出到贵州的人口数的三倍多
- B. 2010年该省有100多万人口从城镇外出到其他省份
- C. 2010年该省由乡村进入本省小城镇的人口多于全省外出进入广东省的人口
- D. 2014年回流的省外务工人员中，进入第三产业就业的比重高于上年

（复合题）

2015年年末全国公路总里程457.73万公里，其中技术等级公路里程404.63万公里，占公路总里程的比重比上一年提高1.0

扫码关注公众号回复“810”获取答案



个百分点。

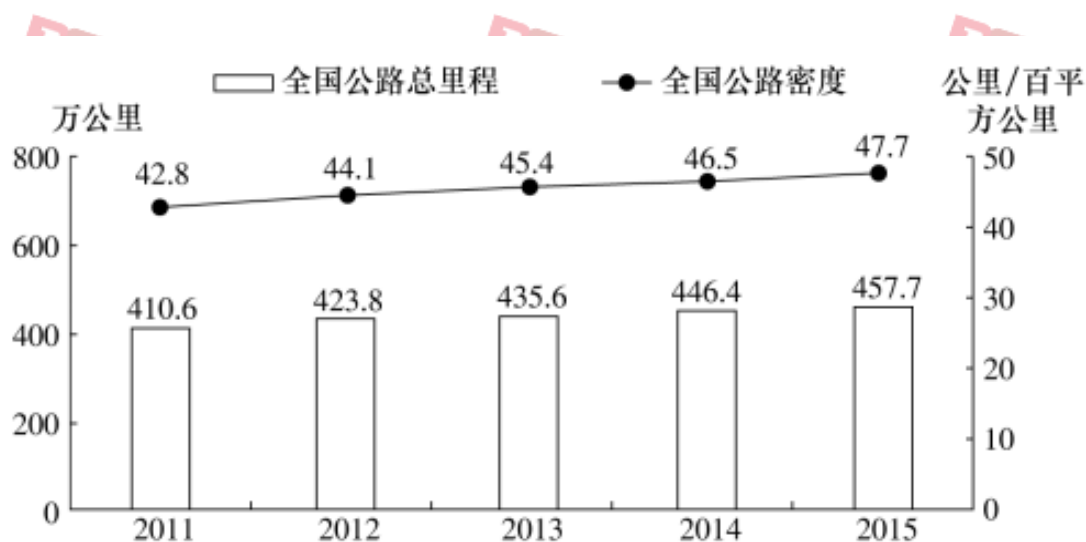


图 1 2011—2015 年全国公路总里程及公路密度

表 1 2015 年全国各技术等级公路里程构成 (单位: 万公里)

高速	一级	二级	三级	四级	等级外
12.35	9.10	36.04	41.82	305.32	53.1

各行政等级公路里程分别为：国道 18.53 万公里、省道 32.97 万公里、县道 55.43 万公里、乡道 111.32 万公里、专用公路 8.17 万公里，比上年末分别增加 0.61 万公里、0.69 万公里、0.23 万公里、0.81 万公里和 0.14 万公里。

扫码关注公众号回复“810”获取答案



全国高速公路里程 12.35 万公里，比上年末增加 1.16 万公里。其中，国家高速公路 7.96 万公里，增加 0.65 万公里。全国高速公路车道里程 54.84 万公里，增加 5.28 万公里。

886、（单选题）2012~2015 年，全国公路密度同比增量最低的年份是：

- A. 2012
- B. 2013
- C. 2014
- D. 2015

887、（单选题）2015 年全国公路总里程比 2014 年增长：

- A. 不到 3%
- B. 3%~5%之间
- C. 5%~8%之间
- D. 超过 8%

888、（单选题）2015 年三级及以上技术等级公路里程占公路总里程的比重为：

扫码关注公众号回复“810”获取答案



A. 两成以下

B. 两成多

C. 三成多

D. 四成多

889、（单选题）2015年各行政等级公路里程同比增量由低到高排序正确的是：

A. 专用公路、县道、省道、国道、乡道

B. 专用公路、县道、国道、乡道、省道

C. 县道、专用公路、国道、省道、乡道

D. 专用公路、县道、国道、省道、乡道

890、（单选题）关于2015年全国公路状况，能够从上述材料中推出的是：

A. 国家高速公路里程增加了10%以上

B. 全国高速公路平均车道数在5~6之间

C. 等级外公路里程占公路总里程的一成以下

D. 国道里程增速快于省道里程增速

扫码关注公众号回复“810”获取答案



（复合题）

2008 年我国全年建设占用耕地 19.16 万公顷，灾毁耕地 2.48 万公顷。生态退耕 0.76 万公顷，因农业结构调整减少耕地 2.49 万公顷。土地整理复垦开发补充耕地 22.96 万公顷。

全年水资源总量 27127 亿立方米，比上年增加 7.4%；人均水资源 2048 立方米，增加 6.9%，全年平均降水量 659 毫米，增加 8.0%，年末全国大型水库蓄水总量 1962 亿立方米，比上年末多蓄水 93 亿立方米，全年总用水量 5840 亿立方米，比上年增长 0.4%。其中，生活用水增长 0.6%，工业用水增长 1.8%，农业用水减少 0.2%。生态补水减少 0.7%，万元国内生产总值用水量 231.8 立方米，比上年下降 7.9%，万元工业增加值用水量 130.3 立方米，下降 7.0%，人均用水量 440.9 立方米，下降 0.1%。

全年完成造林面积 477 万公顷，其中人工造林 329 万公顷，林业重点工程完成造林面积 312 万公顷，占全部造林面积的 65.4%，全民义务植树 23.1 亿株，截至 2008 年底，自然保护区达到 2538 个，其中国家级自然保护区 303 个，新增综合治理水土流失面积 4.7 万平方公里，新增实施水土流失地区封育保护面积 2.6 万平方公里。

初步测算，全年能源消费总量 28.5 亿吨标准煤，比上年增长

扫码关注公众号回复“810”获取答案



4.0%，煤炭消费量 27.4 亿吨，增长 3.0%；原油消费量 3.6 亿吨，增长 5.1%；天然气消费量 807 亿立方米，增长 10.1%；电力消费量 34502 亿千瓦时，增长 5.6%，全国万元国内生产总值能耗下降 4.59%。主要原材料消费中，钢材消费量 5.4 亿吨，增长 4.2%，精炼钢消费量 538 万吨，增长 6.9%，电解铝消费量 1260 万吨，增长 4.3%；乙烯消费量 998 万吨，下降 2.9%；水泥消费量 13.7 亿吨，增长 3.5%。

891、（单选题）2007 年全年我国水资源总量约为：

- A. 24780 亿立方米
- B. 25260 亿立方米
- C. 25630 亿立方米
- D. 26120 亿立方米

892、（单选题）2007 年全年我国万元国内生产总值用水量约是万元工业增加值用水量的：

- A. 1.5 倍
- B. 1.6 倍
- C. 1.7 倍

扫码关注公众号回复“810”获取答案



D. 1.8 倍

893、（单选题）2008 年全国人工造林面积约占造林总面积的：

A. 63%

B. 65%

C. 69%

D. 74%

894、（单选题）与 2007 年相比，2008 年我国的水泥消费增加量和以下哪项最接近：

A. 8000 万吨

B. 5000 万吨

C. 800 万吨

D. 500 万吨

895、（单选题）根据以上资料，下列说法不正确的是：

A. 我国原有耕地在 2008 年减少了 24.89 万公顷

B. 2007 年年末全国大型水库蓄水量 1869 亿立方米

扫码关注公众号回复“810”获取答案



C. 截至 2008 年底,我国国家级自然保护区占自然保护区的比重超过 13%

D. 2007 年全国乙烯消费量超过 1000 万吨

(复合题)

2011 年底,全国共有乡镇综合文化站 34139 个,平均每站面积由 2006 年的 277.01 平方米,增长到 2011 年的 516.38 平方米,平均每站文化活动用房面积由 2006 年的 175.49 平方米增长到 2011 年的 391.00 平方米。

2006~2011 年,每年乡镇综合文化站从业人员和专职人员增长比例均保持在 5%左右,2011 年底,全国乡镇综合文化站从业人员 78148 人,专职人员 52718 人。

2011 年,全国各级财政对乡镇综合文化站的财政拨款达到 42.76 亿元,比 2006 年增加 31.84 亿元,增幅高达 291.6%,年均增长 28.6%。各级财政对乡镇综合文化站的投入占全国文化事业总投入的 10.9%,占群众文化投入的 41.1%,分别比 2006 年提高 4.0 个百分点和 7.3 个百分点。

2011 年,全国乡镇综合文化站共组织文艺活动 32.64 万次,比 2006 年增长 20.0%;举办训练班 15 万次,比 2006 年增长 26.8%;

扫码关注公众号回复“810”获取答案



培训人次 1232 万人次，比 2006 年增长 230%。

2011 年底，全国乡镇综合文化站共指导群众业余文艺团队 154799 支，辖区内社区（村）文化活动室 360649 个。

打开资料

896、（单选题）2011 年底，全国乡镇综合文化站总面积约为多少万平方米？

A. 1763

B. 1335

C. 946

D. 599

897、（单选题）2011 年全国群众文化投入约为多少亿元？

A. 77

B. 96

C. 104

898、（单选题）2011 年全国文化事业总投入约是 2006 年的多少倍？

A. 1.6 倍

扫码关注公众号回复“810”获取答案



B. 2.5 倍

C. 3.9 倍

D. 5.3 倍

899、（单选题）2011年，平均每个乡镇综合文化站从业人员约组织文艺活动多少次？

A. 2

B. 4

C. 6

D. 8

900、（单选题）能够从资料中推出的是：

A. 2011年文化活动用房面积占乡镇综合文化站总面积的63%

B. 2011年乡镇综合文化站举办的训练班平均每次有超过90人接受培训

C. 2011年平均每个乡镇综合文化站指导群众业余文艺团队约4.5支

D. 2011年各级财政对乡镇综合文化站的财政拨款是2006年的2.9倍

扫码关注公众号回复“810”获取答案



(复合题)

2011年至2017年我国服务进出口统计(金额单位:亿元人民币)

时间	进出口额		出口额		进口额	
	金额	同比(%)	金额	同比(%)	金额	同比(%)
2017年	46991	6.9	15407	10.7	31584	5.17
2016年	43947	7.9	13918	2.2	30030	10.7
2015年	40745	1.7	13617	1.2	27127	2.0
2014年	40053	18.3	13461	3.4	26591	27.9
2013年	33814	11.2	13020	2.5	20794	17.3
2012年	30422	2.2	12699	-4.5	17722	8.0
2011年	28875	15.4	12936	7.7	15939	22.5

2017年我国服务分类进出口统计(金额单位:亿元人民币)

服务类别	进出口		出口		进口	
	金额	同比(%)	金额	同比(%)	金额	同比(%)
加工服务	1235.0	-1.0	1223.0	-1.0	12.0	14.2
维护和维修服务	554.0	18.1	401.0	20.0	153.0	14.3
运输	8784.0	15.6	2506.0	12.0	6278.0	17.3
旅行	19826.0	-2.2	2615.0	-11.0	17210.0	-0.8
建筑	2197.0	57.8	1618.0	92.0	579.0	5.4
保险和养老金服务	976.0	-13.9	273.0	-1.0	703.0	-18.0
金融服务	359.0	3.0	250.0	17.0	109.0	-19.1
知识产权使用费	2252.0	34.7	322.0	315.0	1930.0	21.2
电信、计算机和信息服务	3171.0	22.1	1876.0	6.0	1295.0	55.0
其他商业服务	7051.0	4.8	4157.0	8.0	2895.0	0.4
个人、文化和娱乐服务	237.0	23.9	51.0	4.0	186.0	30.8
别处未提及的政府服务	348.0	28.5	115.0	43.0	233.0	22.3

(注:顺差是指在国际收支上,一定时期内收入大于支出的差额;逆差指的是在国际收支上,一定时期内支出大于收入的差额;表中同比数据为正的 represent 同比增长,同比数据为负的 represent 同比下降)

扫码关注公众号回复“810”获取答案



901、（单选题）2011年至2017年，我国服务进出口逆差最大的年份是：

- A. 2017年
- B. 2016年
- C. 2015年
- D. 2014年

902、（单选题）2016年我国保险和养老金服务进出口额约为：

- A. 857亿元人民币
- B. 1112亿元人民币
- C. 1134亿元人民币
- D. 1158亿元人民币

903、（单选题）2016年个人、文化和娱乐服务进口额占同期服务进口总额的比重约为：

- A. 0.1个百分点
- B. 0.3个百分点
- C. 0.5个百分点

扫码关注公众号回复“810”获取答案



D.0.7 个百分点

904、（单选题）下列关于 2016 年进口额大小排序错误的是：

- A. 旅行 > 运输 > 其他商业服务
- B. 知识产权使用费 > 建筑 > 运输
- C. 运输 > 金融服务 > 加工服务
- D. 建筑 > 金融服务 > 加工服务

905、（单选题）能够从上述资料中推出的是：

- A. 2011 年至 2017 年，我国进出口总是实现逆差
- B. 2016 年我国建筑服务进出口实现顺差 1039 亿元人民币
- C. 2017 年我国服务进出口中，其他商业服务进出口实现的顺差最多
- D. 2017 年我国服务进出口中，别处未提及的政府服务进出口占比最小

906、（单选题）按照 2017 年的同比增速，2018 年知识产权使用费出口额约为：

- A. 992 亿元人民币

扫码关注公众号回复“810”获取答案



B. 1014 亿元人民币

C. 1336 亿元人民币

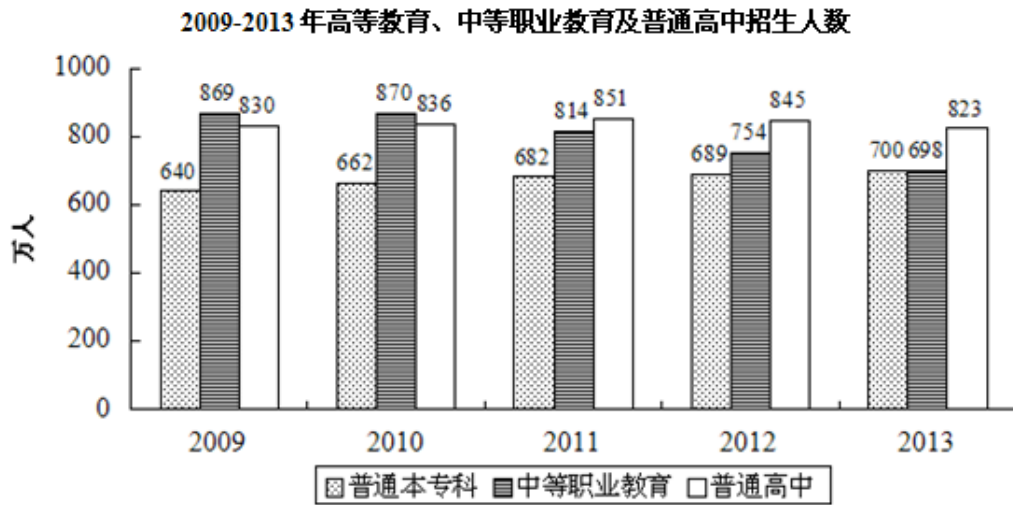
D. 1588 亿元人民币

(复合题)

2013 年我国教育科技文化事业持续发展。全年研究生招生 61.1 万人，在校研究生 179.4 万人，毕业生 51.4 万人。普通本专科招生 699.8 万人，在校生 2468.1 万人，毕业生 638.7 万人。中等职业教育招生 698.3 万人，在校生 1960.2 万人，毕业生 678.1 万人。普通高中招生 822.7 万人，在校生 2435.9 万人，毕业生 799.0 万人。初中招生 1496.1 万人，在校生 4440.1 万人，毕业生 1561.5 万人。普通小学招生 1695.4 万人，在校生 9360.5 万人，毕业生 1581.1 万人。特殊教育招生 6.6 万人，在校生 36.8 万人，毕业生 5.1 万人。幼儿园在园幼儿 3894.7 万人。

扫码关注公众号回复“810”获取答案





打开资料

907、（单选题）图中数据显示，2013年普通高中招生人数比2012年：

- A. 增加 22 万人
- B. 增加 23 万人
- C. 减少 22 万人
- D. 减少 23 万人

908、（单选题）资料显示，2013年本专科毕业生占在校本专科的比重为：

- A. 25.9%
- B. 26.9%
- C. 27.9%

扫码关注公众号回复“810”获取答案



D. 28.9%

909、（单选题）图中数据显示，2009—2013 年间，招生人数逐年增加的是：

- A. 普通高中
- B. 普通本专科
- C. 中等职业教育
- D. 各类教育

910、（单选题）2013 年，特殊教育招生人数与毕业生人数的比例为：

- A. 1 : 125
- B. 1 : 129
- C. 1.25 : 1
- D. 1.29 : 1

（复合题）

扫码关注公众号回复“810”获取答案

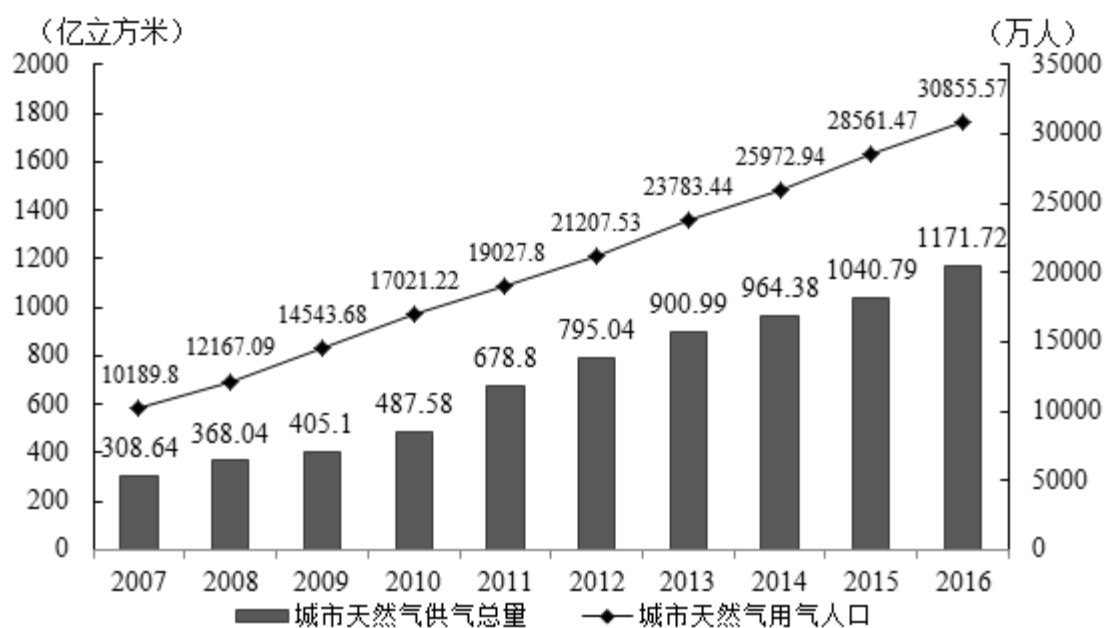


2017年1月17日国家能源局公布《能源发展“十三五”规划》

《天然气“十三五”规划》，首次明确“发挥市场配置资源的决定性作用”，到2020年天然气综合保供能力应达到3600亿立方米以上，天然气消费占一次能源消费比例达到8.3%—10%。

2017年，我国天然气消费总量2373亿立方米，同比增长15.3%；

全年天然气进口量920亿立方米，同比增长27.6%。



2007—2016年我国城市天然气供气情况

打开资料

911、（单选题）我国2016年天然气消费总量约为（ ）亿立方米。

A. 1172

B. 2058

扫码关注公众号回复“810”获取答案



C. 2373

D. 30856

912、（单选题）2010—2015年，我国城市天然气供气总量年均约增长（ ）亿立方米。

A. 68

B. 92

C. 111

D. 191

913、（单选题）假设2020年全国天然气消费总量达到3600亿立方米，且2017—2020年天然气进口量同比增速相同，则2020年天然气进口量将达到消费总量的（ ）。

A. 不到两成

B. 三成多

C. 五成多

D. 八成以上

扫码关注公众号回复“810”获取答案



914、（单选题）2016年我国城市天然气用气人口中，平均每人每月使用天然气约（ ）立方米。

A. 32

B. 65

C. 167

D. 380

915、（单选题）下列选项中，与资料不符的是（ ）。

A. 2016年我国城市天然气供气总量比2015年增长10%以上

B. 从2007年到2016年，我国城市天然气用气人口逐渐增长

C. 2016年我国城市天然气用气人数是2007年的3倍多

D. 2007—2011年，我国城市天然气供气总量超过2500亿立方米

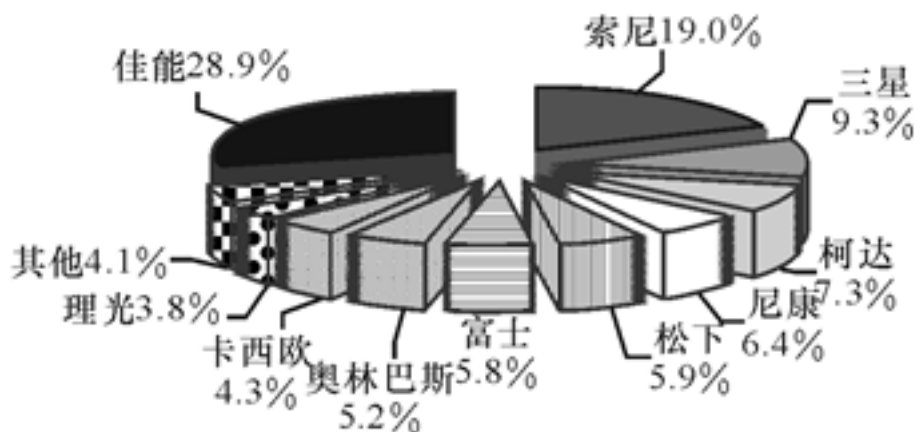
（复合题）

扫码关注公众号回复“810”获取答案



阅读下列材料，回答下面的题目。

2006 年最受用户关注的十大消费类数码相机品牌



916、（单选题）2006 年最受关注的品牌是：

- A. 卡西欧
- B. 三星
- C. 索尼
- D. 佳能

917、（单选题）2006 年最受关注的两大品牌合计占有所有品牌的比重为：

- A. 19.0%
- B. 47.9%
- C. 28.9%
- D. 50.8%

扫码关注公众号回复“810”获取答案



918、（单选题）根据上图，消费者关注的十大品牌合计占有所有品牌的比重为：

A. 97.4%

B. 95.9%

C. 67.8%

D. 56.9%

919、（单选题）下列说法正确的是：

A. 2006年富士和松下两个品牌合计受关注程度要高于索尼品牌

B. 2006年理光和卡西欧两个品牌合计受关注程度要高于三星品牌

C. 2006年尼康和柯达两个品牌合计受关注程度要高于索尼品牌

D. 以上选项都不正确

920、（单选题）下列说法正确的是：

A. 2006年索尼和三星两个品牌的受关注程度要高于佳能品牌

B. 2006年三星和柯达合计占有所有品牌比重为 16.6%

C. 2006年富士和奥林巴斯合计占有所有品牌的比重为 12.6%

扫码关注公众号回复“810”获取答案



D. 2006 年理光和卡西欧合计占有所有品牌的比重为 10.2%

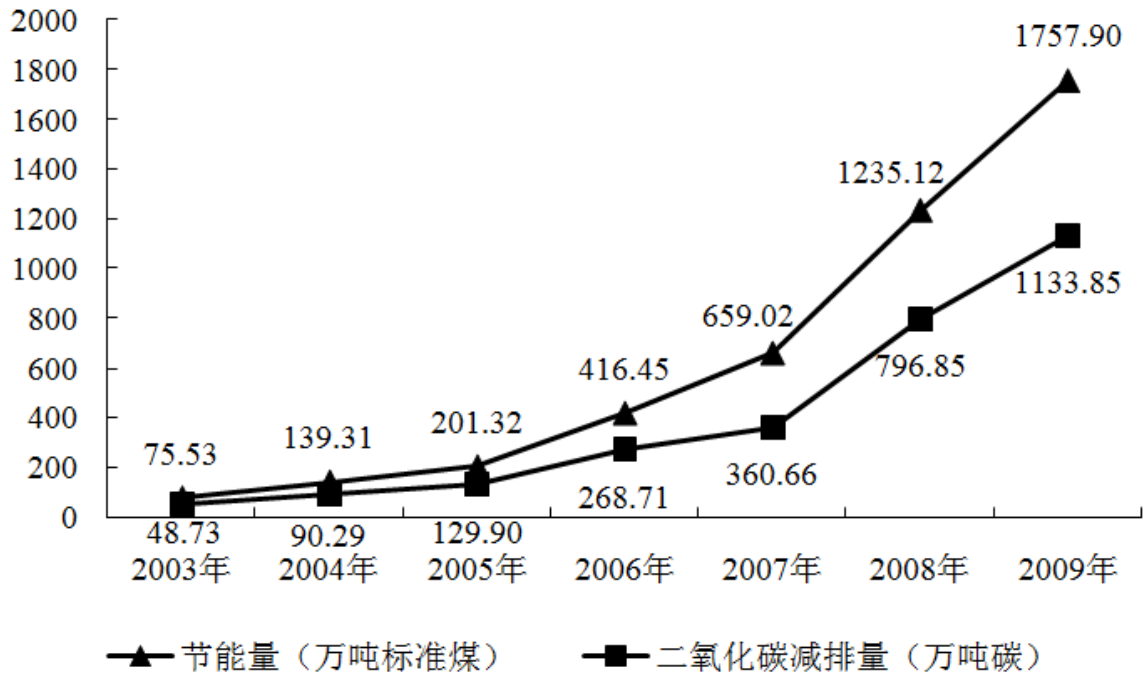
复合题)

2009 年中国合同能源管理 (EPC) 项目投资从 2008 年的 116.70 亿元增长到 195.32 亿元, 增长 67.37%。2009 年中国节能服务产业总产值从 2008 年的 417.30 亿元增长到 587.68 亿元, 增长 40.83%。综合节能投资从 2008 年的 253.20 亿元增长到 360.37 亿元, 增长 42.33%。按综合节能投资计算, 形成年节能能力 1757.90 万吨标准煤, 减排二氧化碳 1133.85 万吨碳。一系列数据显示, 2009 年中国在节能减排领域取得了巨大成就。

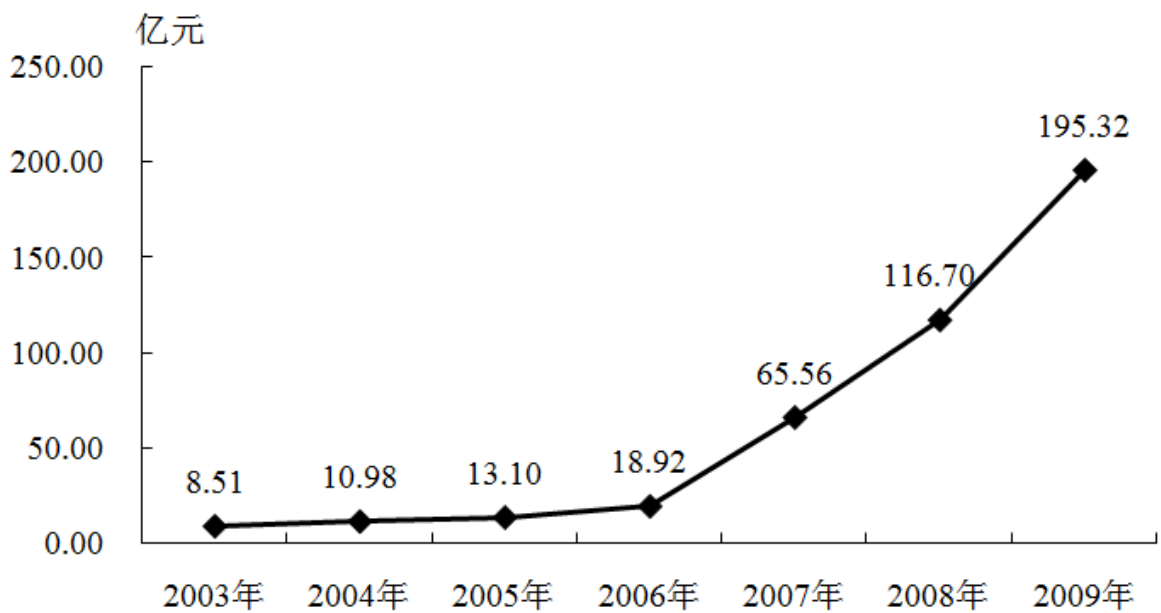
2003~2009 年按综合节能投资计算的节能减排量以及 EPC 项目投资变化情况见下图:

扫码关注公众号回复“810”获取答案





2003~2009 年按综合节能投资计算的节能减排量



扫码关注公众号回复“810”获取答案



2003~2009 年 EPC 项目投资变化情况

打开资料

921、（单选题）下列分析不正确的是：

- A. 2003~2009 年我国按综合节能投资计算的节能量与二氧化碳减排量走势基本一致
- B. 2009 年我国 EPC 项目投资是 2004 年的近 18 倍
- C. 2009 年我国节能服务产业总产值比 2008 年增加了近 170 亿元
- D. 按综合节能投资计算, 2009 年我国节能量增长幅度小于 2008 年

922、（单选题）2009 年我国 EPC 项目投资占 2008~2009 年 EPC 项目投资之和的百分比是：

- A. 45.5%
- B. 58.9%
- C. 62.6%
- D. 73.8%

扫码关注公众号回复“810”获取答案



923、（单选题）按综合节能投资计算，2009 年我国二氧化碳减排量比 2003 年多：

- A. 1682.37 万吨碳
- B. 1333.85 万吨碳
- C. 1085.12 万吨碳
- D. 667.84 万吨碳

924、（单选题）2004~2009 年我国 EPC 项目投资增长率超过 50%的共有：

- A. 2 年
- B. 3 年
- C. 4 年
- D. 5 年

925、（单选题）对下列分析的正误判断正确的是：（1）2004~2009 年我国 EPC 项目投资增长率逐年增大。（2）2004~2009 年我国按综合投资计算的二氧化碳减排量增长率逐年增大。

- A. （1）（2）都正确
- B. （1）正确，（2）错误

扫码关注公众号回复“810”获取答案

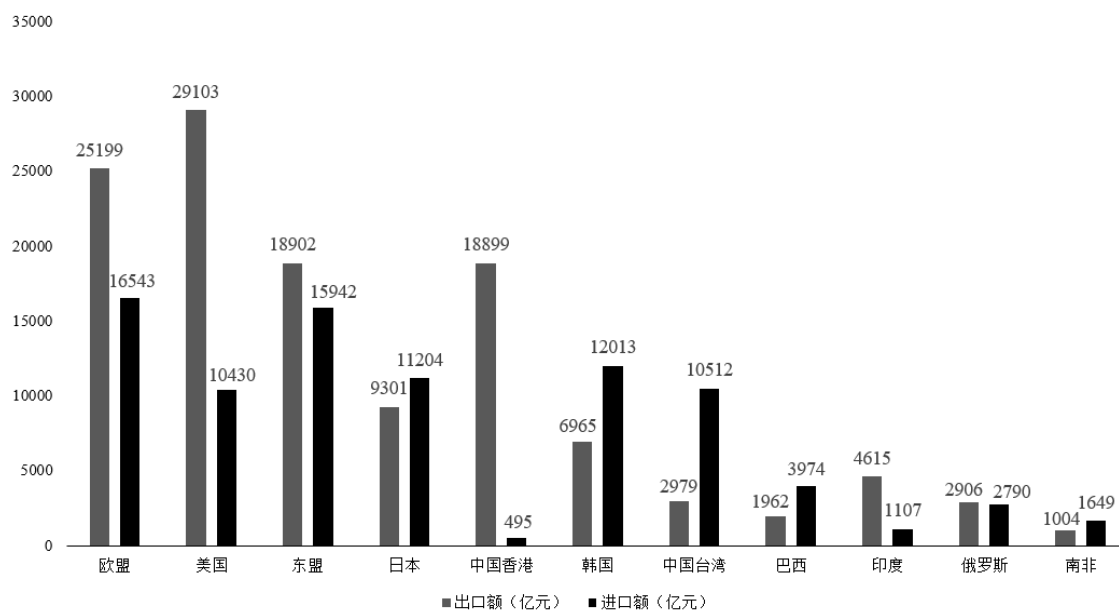


C. (1) 错误, (2) 正确

D. (1) (2) 都错误

(复合题)

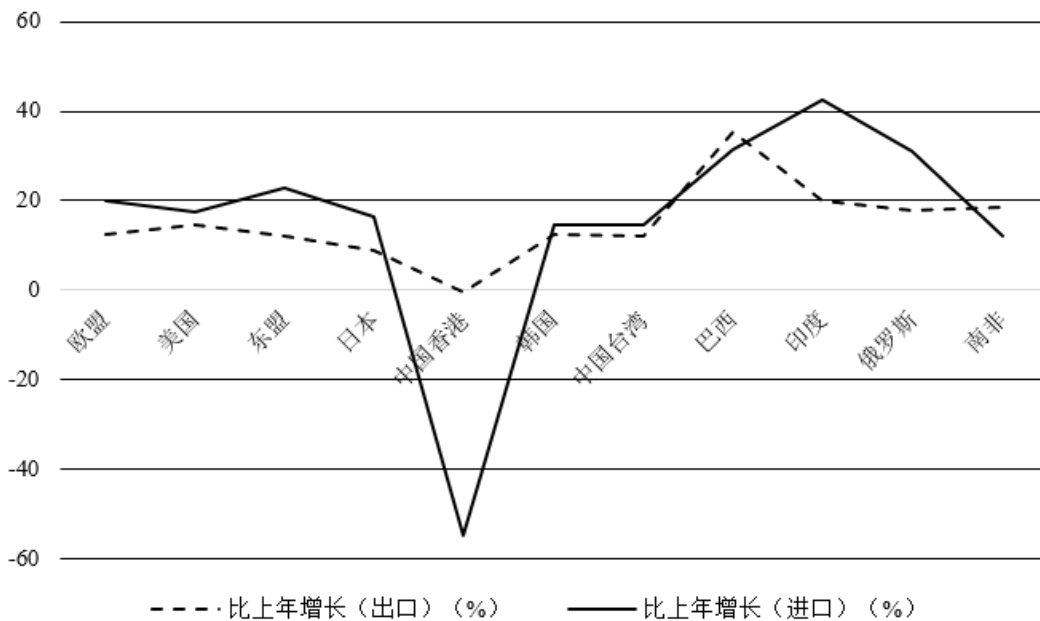
2017年对主要国家和地区货物进出口额



扫码关注公众号回复“810”获取答案



2017年对主要国家和地区货物进出口增长速度



打开资料

926、（单选题）2017年进口额排前三的国家或地区进口额之和是：

- A. 44498 亿元
- B. 43689 亿元
- C. 43889 亿元
- D. 45689 亿元

927、（单选题）2017年进口额比上年增长和出口额比上年增长最快的国家或地区分别为：

扫码关注公众号回复“810”获取答案



-
- A. 东盟和巴西
 - B. 印度和巴西
 - C. 巴西和印度
 - D. 俄罗斯和巴西

928、（单选题）2017年对我国的进出口总额最多的国家或地区为：

- A. 欧盟
- B. 美国
- C. 东盟
- D. 中国香港

929、（单选题）2017年我国进口额和出口额最多的国家或地区分别为：

- A. 欧盟和东盟
- B. 美国和东盟
- C. 欧盟和美国
- D. 美国和欧盟

扫码关注公众号回复“810”获取答案



930、（单选题）2017年进口额比上年增长明显超过20%的国家或地区有几个？

A. 2

B. 3

C. 4

D. 5

（复合题）

2017年1-4月份，全国社会消费品网上零售额19180亿元，同比增长32.0%。其中，实物商品网上零售额14617亿元，增长25.9%。在实物商品网上零售额中，吃、穿和用类商品零售额分别增长19.3%，18.4%和29.5%。

扫码关注公众号回复“810”获取答案



2017年4月份社会消费品零售总额及同比增速

	4月		1-4月	
	金额 (亿元)	增速 (%)	金额 (亿元)	增速 (%)
社会消费品零售总额	27278	10.7	113102	10.2
其中：限额以上单位消费品零售额	12253	9.2	49765	8.2
按经营地分				
城镇	23483	10.4	96881	9.9
乡村	3795	12.6	16221	12.1
按消费类型分				
餐饮收入	2886	11.1	12082	10.9
其中：限额以上单位餐饮收入	721	8.0	2932	7.5
商品零售	24392	10.6	101020	10.1
其中：限额以上单位商品零售	11532	9.3	46832	8.3
其中：粮油、食品类	1174	12.6	5119	10.9
饮料类	175	14.2	708	13.0
烟酒类	310	8.9	1507	9.6
服装鞋帽、针纺织品	1126	10.0	4779	7.1
化妆品	176	7.7	784	9.4
金银珠宝	229	7.5	1028	7.8
日用品	414	8.0	1736	8.4
家用电器和音像器材	729	10.2	2758	8.6
中西药品	742	12.6	2894	11.2
文化办公用品	240	3.8	1006	12.0
家具	229	13.9	850	12.9
通讯器材	316	6.1	1322	9.8
石油及制品	1610	12.1	6330	12.8
汽车	3136	6.8	12402	3.4
建筑及装潢材料	265	13.4	957	14.4

扫码关注公众号回复“810”获取答案



931、（单选题）2017年1—4月份，实物商品网上零售额占社会消费品零售总额的比重约为：

- A. 12.9%
- B. 29.4%
- C. 53.6%
- D. 76.2%

932、（单选题）2017年4月份，城镇消费品零售额约是乡村消费品零售额的多少倍？

- A. 1.2倍
- B. 5.2倍
- C. 5.9倍
- D. 6.2倍

933、（单选题）2017年4月份，表中各类商品限额以上单位零售额同比增量最多的是：

- A. 服装鞋帽、针纺织品
- B. 石油及制品
- C. 汽车

扫码关注公众号回复“810”获取答案



D. 家用电器和音像器材

934、（单选题）2016年1—3月份，限额以上单位消费品零售额的绝对量约为多少万亿元？

A. 3.0

B. 3.5

C. 4.0

D. 4.5

935、（单选题）能够从上述资料中推出的是：

A. 2017年1—4月份，限额以上单位餐饮收入同比增速快于限额以下单位餐饮收入

B. 2017年1—4月份，非实物类社会消费品网上零售额为5000多亿元

C. 2017年4月份，粮油、食品类限额以上单位商品零售额占限额以上单位商品零售总额的一成多

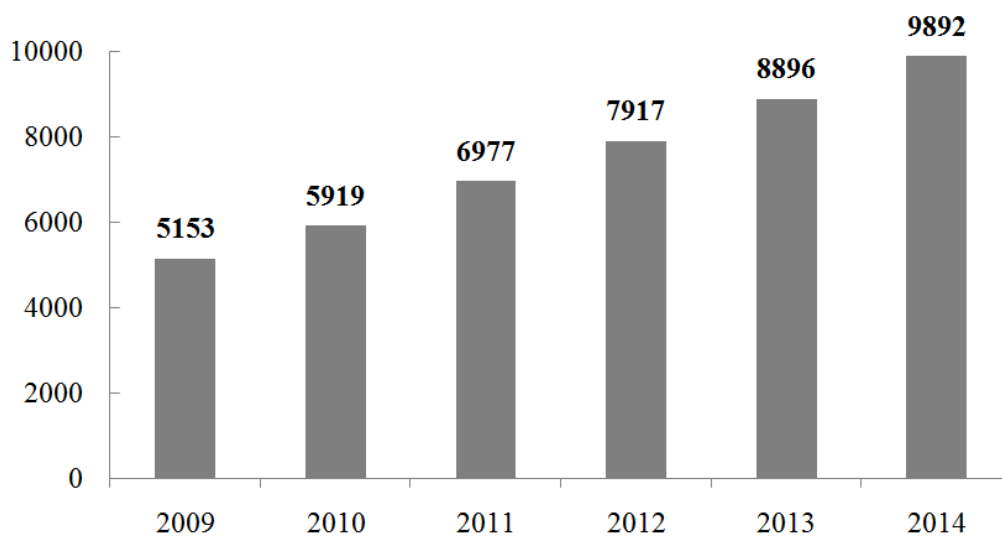
D. 2017年第一季度烟酒类限额以上单位商品零售额同比增速不超过9.6%

扫码关注公众号回复“810”获取答案



(复合题)

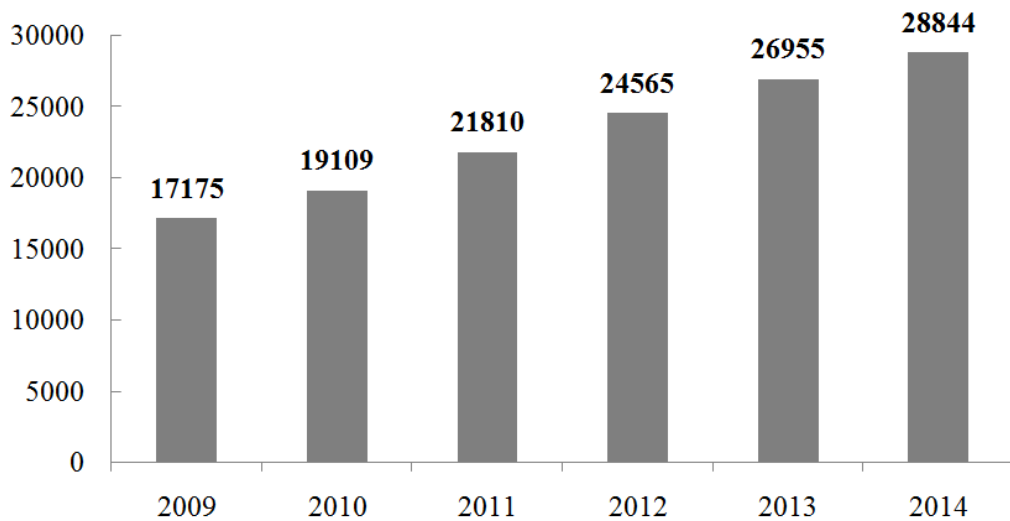
根据下面提供的信息回答 116~120 题



2009~2014 年我国农村居民人均纯收入 (单位: 元)

扫码关注公众号回复“810”获取答案





2009~2014年我国城镇居民人均纯收入（单位：元）

打开资料

936、（单选题）城镇居民人均可支配收入增长最少的年份是：

- A. 2011年
- B. 2012年
- C. 2013年
- D. 2014年

937、（单选题）2011—2014年，城乡居民收入差距最少的年份差额是：

- A. 10023元
- B. 12022元

扫码关注公众号回复“810”获取答案



C. 14833 元

D. 16648 元

938、（单选题）农村居民人均纯收入增长最多的年份增长了：

A. 1934 元

B. 1058 元

C. 1889 元

D. 996 元

939、（单选题）2013 年城镇居民人均可支配收入比同年农村居民人均纯收入高：

A. 92%

B. 192%

C. 203%

D. 292%

940、（单选题）根据以上材料可以得出的结论是：

A. 2009—2014 年城乡居民收入差距逐年降低

B. 2009—2014 年农村居民人均纯收入呈现上升态势

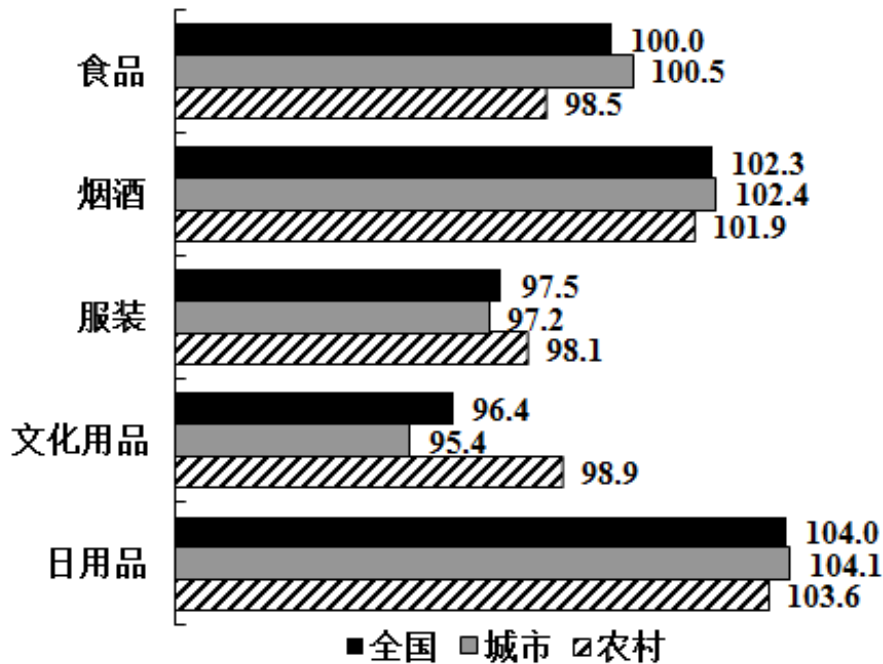
扫码关注公众号回复“810”获取答案



C. 与 2012 年相比，2013 年城乡居民收入之比扩大

D. 2015 年城乡居民收入差距将进一步缩小

(复合题)



2009 年 4 月全国商品零售价格分类指数图 (上年同期=100)

打开资料

941、(单选题) 2009 年 4 月我国城乡零售价格同比上涨最多的商品是:

A. 烟酒

B. 日用品

扫码关注公众号回复“810”获取答案



- C. 食品
- D. 不确定

942、（单选题）2009年4月我国城乡零售价格同比变化差距最大的商品是：

- A. 食品
- B. 烟酒
- C. 服装
- D. 文化用品

943、（单选题）2009年4月我国城市零售价格涨幅超过全国平均水平最多的商品是：

- A. 食品
- B. 烟酒
- C. 服装
- D. 文化用品

944、（单选题）与2008年同期相比，2009年4月农村服装价格比城市服装价格的下降幅度少了多少？

扫码关注公众号回复“810”获取答案



A. 0.9 个百分点

B. 0.9%

C. 9 个百分点

D. 9%

945、（单选题）如果某种酒 2008 年 4 月在石家庄售价 168 元/瓶，那么 2009 年 4 月价格为多少？

A. 165 元/瓶

B. 170 元/瓶

C. 172 元/瓶

D. 176 元/瓶

（复合题）

2015 年 1~7 月，我国机电产品出口额 44359.4 亿元，同比增长 1.2%，占出口总额的 57.2%，其中，电器及电子产品出口 19373.1 亿元，同比增长 4.1%，机械设备出口 12865.6 亿元，同比下降 6.6%，同期，服装出口 5709.9 亿元，同比下降 6.4%，纺织品出口 3825.5 亿元，同比下降 1.7%，鞋类出口 1901.7 亿元，同比下降 1.9%，家具出口 1883.7 亿元，同比增长 7.6%，塑料制品出口

扫码关注公众号回复“810”获取答案



553.7 万吨，出口额 1293.3 亿元，出口量同比增长 2.9%，出口额同比增长 2.3%；箱包及类似容器出口 166.9 万吨，出口额 998.9 亿元，出口量同比下降 3.8%，出口额同比增长 8.0%；玩具出口 465.0 亿元，同比增长 11.0%。

上述 7 大类劳动密集型出口额合计同比下降 1.3%，此外，肥料出口 1957.3 万吨，出口额 366.1 亿元，出口量同比增长 54.7%，出口额同比增长 62.7%；钢材出口 6213.2 万吨，出口额 2319.5 亿元，出口量同比增长 26.6%，出口额同比下降 2.6%；汽车出口 44.5 万辆，出口额 411.0 亿元，出口量同比下降 13.6%，出口额同比下降 4.5%。

946、（单选题）2015 年 1~7 月，我国出口总额为：

- A. 63534.0 亿元
- B. 77551.4 亿元
- C. 82907.1 亿元
- D. 95772.7 亿元

947、（单选题）2015 年 1~7 月，我国下列商品出口额同比下降最多的是：

扫码关注公众号回复“810”获取答案



A. 机械设备

B. 服装

C. 钢材

D. 汽车

948、（单选题）2015年1~7月，我国下列出口商品平均价格同比上涨最多的是：

A. 塑料制品

B. 箱包及类似容器

C. 肥料

D. 汽车

949、（单选题）2015年1~7月，我国服装、纺织品、鞋类、家具、塑料制品、箱包及类似容器、玩具出口额合计为：

A. 13576.1 亿元

B. 14087.2 亿元

C. 16078.0 亿元

D. 18079.3 亿元

扫码关注公众号回复“810”获取答案

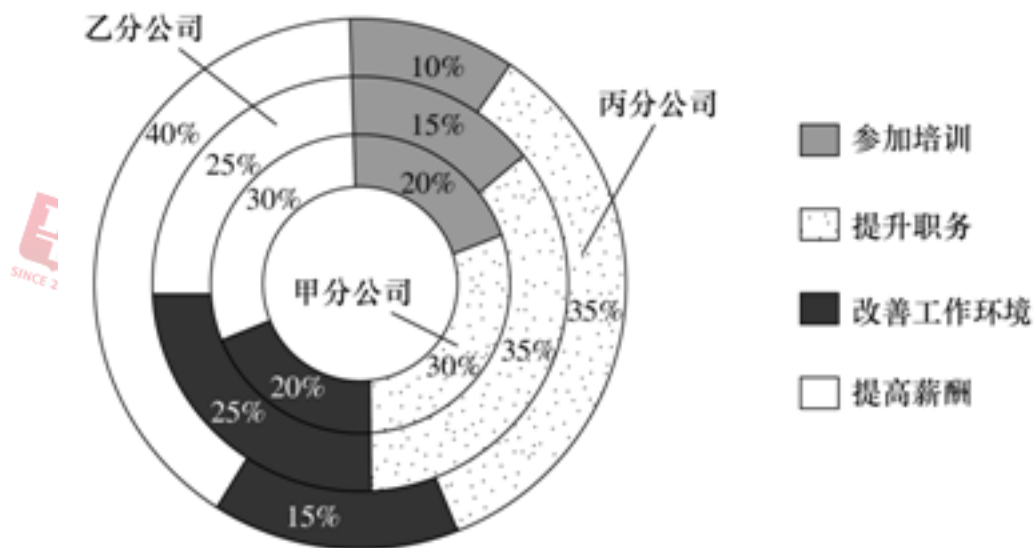


950、（单选题）下列判断不正确的是：

- A. 2014年1~7月，我国玩具出口额少于422亿元
- B. 2015年1~7月，我国肥料出口量和出口额同比增长均超过50%
- C. 2015年1~7月，我国7大类劳动密集型产品中，多数出口额同比有所增长
- D. 2015年1~7月，我国电器及电子产品和机械类设备出口额同比平均增长-1.3%

（复合题）

统计图：根据下面的统计图。回答它后面的5道题目。



某总公司下属3个分公司职工意愿调查结构图

扫码关注公众号回复“810”获取答案



951、（单选题）假设甲分公司有意愿提升职务的职工有 150 人，那么该分公司有意愿提高薪酬的职工人数比有意愿参加培训的职工人数：

- A. 少 100 人
- B. 少 50 人
- C. 多 50 人
- D. 多 100 人

952、（单选题）甲、乙、丙 3 个分公司中，有意愿提高薪酬的职工人数最多的是：

- A. 甲分公司
- B. 乙分公司
- C. 丙分公司
- D. 无法确定

953、（单选题）根据该总公司所属 3 个分公司职工意愿调查结构的情况，下列说法正确的是：

- A. 乙分公司中有意愿提高薪酬的职工占比最高

扫码关注公众号回复“810”获取答案



B. 乙分公司中有意愿参加培训的职工比有意愿提升职务的职工少 20%

C. 甲分公司中有意愿参加培训的职工比有意愿提升职务的职工少 33.3%

D. 甲分公司中有意愿提高薪酬的职工人数多于有其他意愿的职工人数

954、(单选题) 根据该总公司所属 3 个分公司职工意愿调查结构的情况, 下列说法一定正确的有 () 个。

(1) 如果该总公司人数共 1500 人, 则乙分公司有意愿改善工作环境的职工有 125 人

(2) 丙分公司中, 有意愿提高薪酬的职工人数最多

(3) 在该总公司职工中, 有意愿提高薪酬的职工在职工总人数中占比最大

A. 3

B. 2

C. 1

D. 0

扫码关注公众号回复“810”获取答案



955、（单选题）假设甲、乙、丙 3 个分公司的职工人数相同，总公司某年度计划对 3 个分公司中有意愿提升职务的职工进行职务提升，晋升比例为每 5 位有意愿的职工中提升 1 位，那么：

- A. 甲分公司获得职务提升的职工人数不一定比乙、丙的少
- B. 乙分公司获得职务提升的职工人数不可能多于甲分公司
- C. 甲、乙、丙 3 个分公司获得职务提升的职工人数之和将超过甲分公司职工总人数
- D. 乙、丙分公司获得职务提升的职工人数不一定相同

（复合题）

2001 年~2007 年中国普通中小学办学条件比较表

年份	2001	2002	2003	2004	2005	2006	2007
中小学校舍建筑面积（百万平方米）	1088.01	1132.99	1185.51	1232.84	1274.88	1331.10	1353.20
小学							
体育运动场馆面积达标率（%）	47.40	48.79	50.20	51.38	53.04	53.49	55.24
音乐器械配备达标率（%）	36.62	37.70	38.66	40.08	41.80	42.43	44.68
美术器械配备达标率（%）	34.51	35.69	36.69	38.17	39.91	40.74	43.12
数学自然实验仪器配备达标率（%）	48.55	49.37	49.80	50.91	52.29	52.75	54.27
普通初中							
体育运动场馆面积达标率（%）	69.46	64.43	65.68	66.38	67.61	67.76	69.23
音乐器械配备达标率（%）	50.42	52.46	53.95	55.20	56.58	56.99	59.34
美术器械配备达标率（%）	48.84	50.86	52.43	53.72	55.20	55.59	58.04
数学自然实验仪器配备达标率（%）	68.35	69.45	70.17	70.57	71.84	72.23	73.54

扫码关注公众号回复“810”获取答案



打开资料

956、（单选题）2007年比2001年中小学校舍建筑面积增加了（ ）。

A. 27%

B. 24%

C. 22%

D. 18%

957、（单选题）2007年与2001年相比，小学四项达标率增幅最小的是（ ）。

A. 体育运动场馆面积

B. 音乐器械配备

C. 美术器械配备

D. 数学自然实验仪器配备

958、（单选题）2001年以来，普通初中四项达标率年均增速最快的是（ ）。

扫码关注公众号回复“810”获取答案



-
- A. 体育运动场馆面积
 - B. 音乐器械配备
 - C. 美术器械配备
 - D. 数学自然实验仪器配备

959、（单选题）2007年，普通初中的四项平均达标率比小学高出近（ ）。

- A. 10个百分点
- B. 12个百分点
- C. 14个百分点
- D. 16个百分点

960、（单选题）按2001年~2007年的发展速度，以下判断正确的是（ ）。

- A. 到2010年，小学的办学条件将会进一步改善，但仍差于中学的办学条件
- B. 到2010年，小学的美术器械配备达标率将高于音乐器械配备达标率
- C. 到2010年，中小学校舍建筑面积将会大幅增加

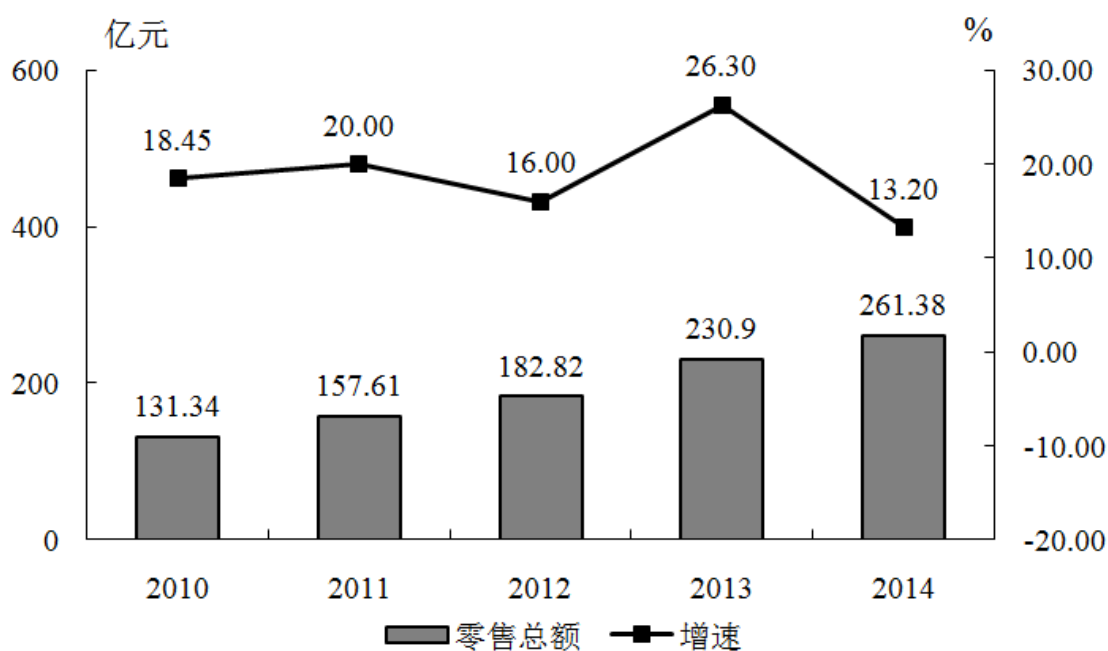
扫码关注公众号回复“810”获取答案



D. 到 2010 年, 中小学的体育场馆面积将占到总校舍建筑面积的三分之一

(复合题)

2014 年, 某市全年实现社会消费品零售总额 261.38 亿元, 比上年增长 13.2%。按经营地统计, 城镇消费品零售总额为 178.6 亿元, 比上年增长 13.5%; 乡村消费品零售总额 82.78 亿元, 比上年增长 12.5%。按消费形态统计, 批发业增长 17.6%, 零售业增长 22.1%。



扫码关注公众号回复“810”获取答案



2010—2014 年某市社会消费品零售总额及增速

全年居民消费价格总水平比上年上涨 1.3%。其中家庭设备用品及维修服务类累计下降 1.4%；食品类、烟酒类、衣着类、医疗保健及个人用品类、交通与通信类、娱乐教育文化用品及服务类、居住类累计分别上升 0.6%、0.6%、4.4%、1.5%、1.5%、1.8%、1.5%。

961、（单选题）2013 年，该市城镇消费品零售总额约为多少亿元？

- A. 120.5
- B. 157.4
- C. 178.6
- D. 206.5

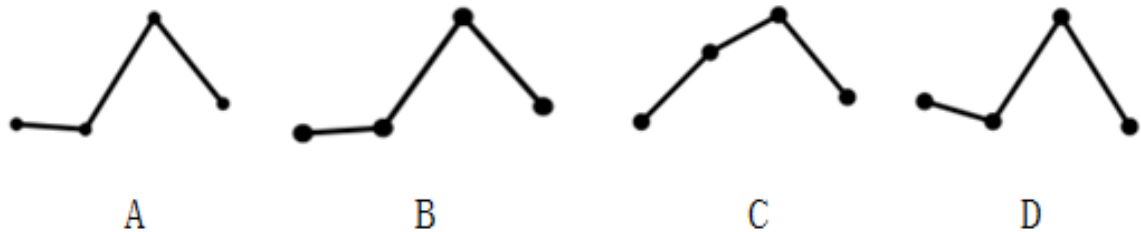
962、（单选题）与 2009 年相比，2014 年该市社会消费品零售总额增量最接近（ ）亿元。

- A. 130
- B. 140
- C. 150
- D. 160

扫码关注公众号回复“810”获取答案



963、（单选题）能准确反映 2011 至 2014 年间该市社会消费品零售总额同比增长量的变化趋势的折线图是：



- A. 如上图所示
- B. 如上图所示
- C. 如上图所示
- D. 如上图所示

964、（单选题）将不同的消费类型按该市 2014 年消费价格水平上涨幅度从高到低排列，以下正确的是：

- A. 居住类、衣着类、食品类、家庭设备用品及维修服务类
- B. 衣着类、居住类、家庭设备用品及维修服务类、食品类
- C. 居住类、衣着类、家庭设备用品及维修服务类、食品类
- D. 衣着类、居住类、食品类、家庭设备用品及维修服务类

扫码关注公众号回复“810”获取答案



965、（单选题）关于该市社会消费品零售状况，能够从上述资料中推出的是：

- A. 2014 年批发业销售额占社会消费品零售总额比重低于上年水平
- B. 2010—2014 年间，社会消费品零售总额增速慢于 20% 的年份有 4 个
- C. 2013 年和 2014 年社会消费品零售总额之和高于前 3 年之和
- D. 2014 年烟酒类消费价格增速快于居民消费价格总水平增速

（复合题）

2005 年我国滨海旅游业继续保持强劲的增长态势，全年滨海旅游收入 5052 亿元；增加值 2031 亿元，比上年增长 32.4%。全国滨海国内旅游收入 3887 亿元，比上年增加 1391 亿元。

海洋交通运输业继续保持良好的发展态势，2005 年营运收入达 2940 亿元，占全国主要海洋产业总产值的 12.6%，增加值 1145 亿元，比上年增长 5.0%，完成港口吞吐量 49 亿吨。

2005 年我国海洋电力生产逐步形成规模，全年总产值 1090 亿元，占全国主要海洋产业总产值的 6.4%，增加值 606 亿元，比上年增长 6.7%。

扫码关注公众号回复“810”获取答案



2005 年海洋造船完工量首次突破 1000 万综合吨，海洋船舶工业总产值 817 亿元，海洋船舶工业增加值 176 亿元，比上年增长 11.8%。

2005 年，海洋原油产量 3000 万吨，比上年增长 11.5%；海洋天然气产量达 627721 万立方米，比上年增长 2.3%。海洋油气业总产值 739 亿元，增加值 467 亿元，比上年增长 17.9%。

打开资料

966、（单选题）2004 年，全年滨海国内旅游收入：

- A. 1421 亿元
- B. 3367 亿元
- C. 3256 亿元
- D. 2496 亿元

967、（单选题）2004 年，海洋交通运输业增加值约为：

- A. 1255.66 亿元
- B. 1348.65 亿元
- C. 1090.48 亿元
- D. 1146.89 亿元

扫码关注公众号回复“810”获取答案



968、（单选题）2004年，我国海洋电力业增加值约为：

A. 687.28 亿元

B. 567.95 亿元

C. 427.45 亿元

D. 656.55 亿元

969、（单选题）2004年，我国海洋原油产量约为：

A. 1256.54 万吨

B. 2690.58 万吨

C. 3691.68 万吨

D. 4112.54 万吨

970、（单选题）下列说法正确的是：

A. 2005年全年滨海国内旅游收入占全年滨海旅游收入的比重超过60%

B. 2005年海洋船舶工业增加值是海洋电力增加值的二分之一

C. 2005年海洋交通运输业增加值是海洋电力业增加值的二倍

D. 以上选项都不正确

扫码关注公众号回复“810”获取答案



(复合题)

某高校男(女)博士比率调查数据(百分数)

年份	2010	2011	2012	2013	2014	2015	2016	2017
男博士比率	8.0	9.0	8.8	8.5	9.0	10.0	11.5	15.9
女博士比率	6.9	7.5	7.0	7.6	7.6	8.0	8.3	9.2

注:男(女)博士比率=男(女)性博士人数/男(女)性职工总人数

打开资料

971、(单选题)假设该高校在2015年的教职工总数为2500人,其中女性46%,则该校男博士人数为:

A. 120

B. 125

C. 130

D. 135

972、(单选题)2015年该高校的博士比率为:

A. 8%

B. 9%

C. 18%

D. 不能确定

973、(单选题)男女博士比率最接近的是哪一年?

扫码关注公众号回复“810”获取答案



A. 2011

B. 2012

C. 2013

D. 2014

974、（单选题）2011—2015年女博士比率相比上一年有所增加的有几年？

A. 1

B. 2

C. 3

D. 4

975、（单选题）下列不正确的是：

A. 男博士比率下降的有2年

B. 女博士比率下降的有2年

C. 男博士比率和女博士比率增加最快的都是2017年

D. 男博士比率和女博士比率同时下降的都是2011年

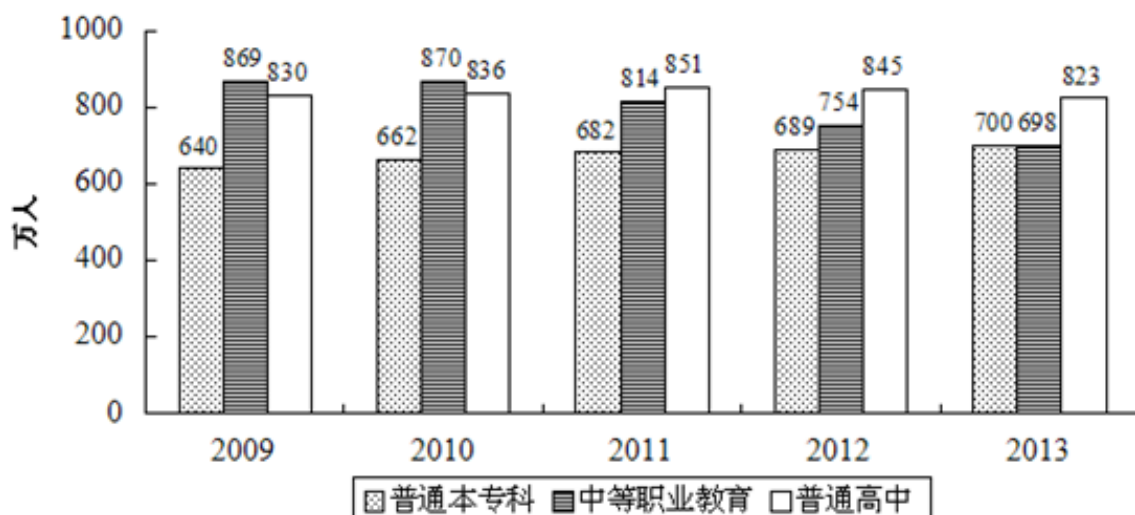
（复合题）

扫码关注公众号回复“810”获取答案



2013 年我国教育科技文化事业持续发展。全年研究生招生 61.1 万人，在校研究生 179.4 万人，毕业生 51.4 万人。普通本专科招生 699.8 万人，在校生 2468.1 万人，毕业生 638.7 万人。中等职业教育招生 698.3 万人，在校生 1960.2 万人，毕业生 678.1 万人。普通高中招生 822.7 万人，在校生 2435.9 万人，毕业生 799.0 万人。初中招生 1496.1 万人，在校生 4440.1 万人，毕业生 1561.5 万人。普通小学招生 1695.4 万人，在校生 9360.5 万人，毕业生 1581.1 万人。特殊教育招生 6.6 万人，在校生 36.8 万人，毕业生 5.1 万人。幼儿园在园幼儿 3894.7 万人。

2009-2013 年高等教育、中等职业教育及普通高中招生人数



打开资料

扫码关注公众号回复“810”获取答案



976、（单选题）图中数据显示，2013年普通高中招生人数比2012年：

- A. 增加 22 万人
- B. 增加 23 万人
- C. 减少 22 万人
- D. 减少 23 万人

977（单选题）资料显示，2013年本专科毕业生占在校本专科的比重为：

- A. 25.9%
- B. 26.9%
- C. 27.9%
- D. 28.9%

978、（单选题）图中数据显示，2009—2013年间，招生人数逐年增加的是：

- A. 普通高中
- B. 普通本专科
- C. 中等职业教育
- D. 各类教育

扫码关注公众号回复“810”获取答案



979、（单选题）2013年，特殊教育招生人数与毕业生人数的比例为：

A. 1 : 125

B. 1 : 129

C. 1.25 : 1

D. 1.29 : 1

980、（单选题）以下说法正确的是：

A. 2013年在校学生人数最少的是幼儿园在园幼儿

B. 2013年在校学生人数最多的是普通小学在校生

C. 2009—2013年间，普通高中招生人数逐年减少

D. 2009—2013年间，中等职业教育招生人数逐年增加

（复合题）

根据海关统计，2011年1~9月，某省实现进出口总额293.8亿美元，比上年同期增长59.4%，增速比上年同期提升5.5个百分点，高出全国进出口增速34.8个百分点。其中，出口150.5亿美元，增长28.8%，高出全国出口增速6.1个百分点。进口143.3

扫码关注公众号回复“810”获取答案



亿美元，增长 1.1 倍，高出全国进口增速 85.8 个百分点。

1~9 月，全省超亿美元贸易伙伴达 36 个，比上年同期增加 6 个，其中，德国、印度等国后来居上，超过日本、韩国成为全省主要贸易伙伴。对美国实现进出口 30.3 亿美元，增长 93.1%，位居次席。对韩国、马来西亚和日本分别实现进出口 7.0 亿美元，6.0 亿美元和 5.4 亿美元，分别增长 41.5%，2.9%和 7.4%，分列五、六、七位。

受上年基数较大影响，全省对东盟双边贸易进出口呈现下降趋势。1~9 月，全省对东盟实现进出口 15.1 亿美元，下降 24.9%。

981、（单选题）2009 年 1—9 月，该省进出口总额约为多少亿美元？

- A. 100
- B. 120
- C. 150
- D. 180

982、（单选题）2010 年 1—9 月，该省对美国进出口贸易额是对韩国进出口贸易额的多少倍？

扫码关注公众号回复“810”获取答案



A. 4.3

B. 3.8

C. 3.2

D. 2.5

983、（单选题）2011年1—9月，该省进出口贸易状况为：

A. 顺差 7.2 亿美元

B. 逆差 7.2 亿美元

C. 顺差 8.2 亿美元

D. 逆差 8.2 亿美元

984、（单选题）将2011年1—9月间该省贸易伙伴按进出口总额从高到低排序不正确的是：

A. 韩国，日本

B. 美国，东盟

C. 东盟，韩国

D. 马来西亚，德国

985、（单选题）能够从上述资料中推出的是：

扫码关注公众号回复“810”获取答案



- A. 2011 年 1—9 月，该省对日贸易占全省对外贸易比重同比上升
- B. 2011 年 1—9 月，该省进口额占同期全国进口额比重同比上升
- C. 2011 年 1—9 月，全国进出口贸易同比增速超过三成
- D. 2010 年 1—9 月，该省对东盟贸易额不足 20 亿美元

(复合题)

阅读下列材料，回答下面的题目。

四个国家 1998 年能源消费情况

国家	能源消费总量 (亿吨标准煤)	单位 GDP 能源 (吨标准煤/万元)	能源消费构成 (%)			
			煤炭	石油	天然气	水电和核电
中国	13.2	14.22	69.6	21.5	2.2	6.7
美国	30.7	3.73	24.9	39.7	25.7	9.7
日本	7.1	1.89	17.7	51.1	12.5	18.7
俄罗斯	8.5	30.7	17.3	20.6	55.3	6.8

打开资料

986、(单选题) 从列表数据表明:

- A. 中国的能源消费以煤为主，且核电消费最大
- B. 美国矿物能源消费构成较均衡，且石油消费量最大
- C. 日本以石油为主，且石油消费量在四国中居首位
- D. 俄罗斯以天然气为主，且天然气消费量在四国中居首位

扫码关注公众号回复“810”获取答案



987、（单选题）美国 1998 年消费煤炭总量为（ ）万吨。

A. 85723

B. 91503

C. 76443

D. 101163

988、（单选题）1998 年，下列四个国家中，哪个国家水电和核电消费量最小？

A. 中国

B. 美国

C. 日本

D. 俄罗斯

989、（单选题）1998 年，下列四个国家中，哪个国家石油消费量最小？

A. 中国

B. 美国

C. 日本

D. 俄罗斯

扫码关注公众号回复“810”获取答案



990、（单选题）1998年，下列四个国家天然气消费总量为（ ）亿吨。

A. 12.7391

B. 13.7683

C. 15.6492

D. 13.8247

（复合题）

扫码关注公众号回复“810”获取答案



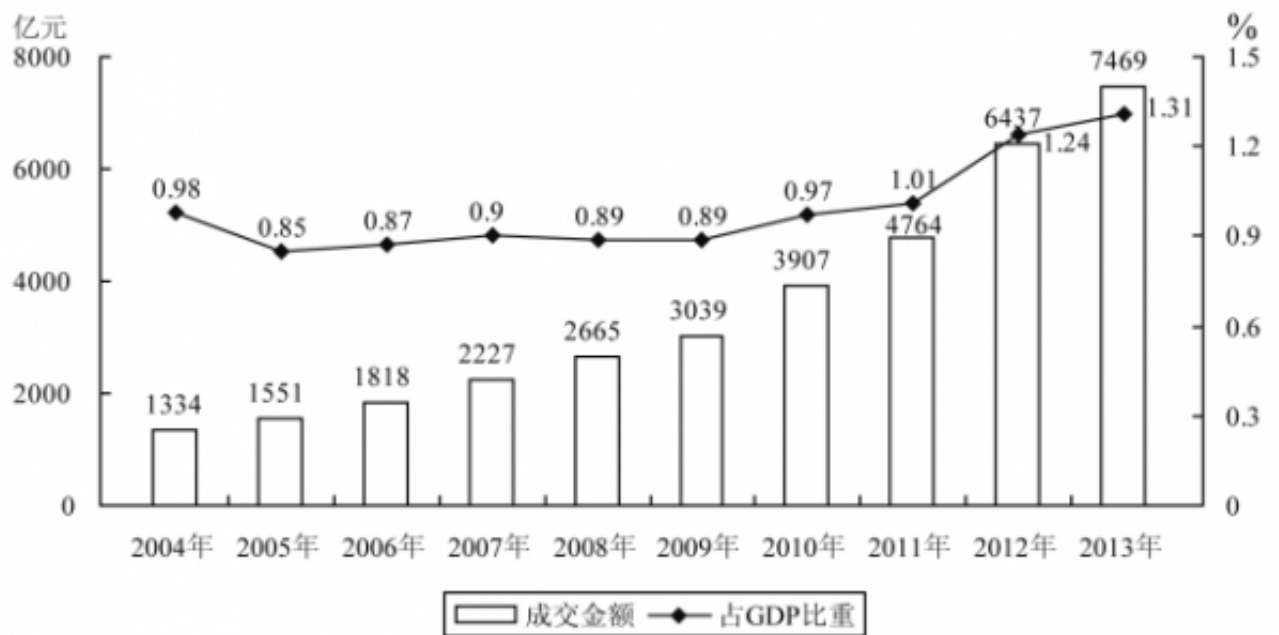


图1 2004—2013年全国技术合同成交金额及其占GDP的比重

扫码关注公众号回复“810”获取答案



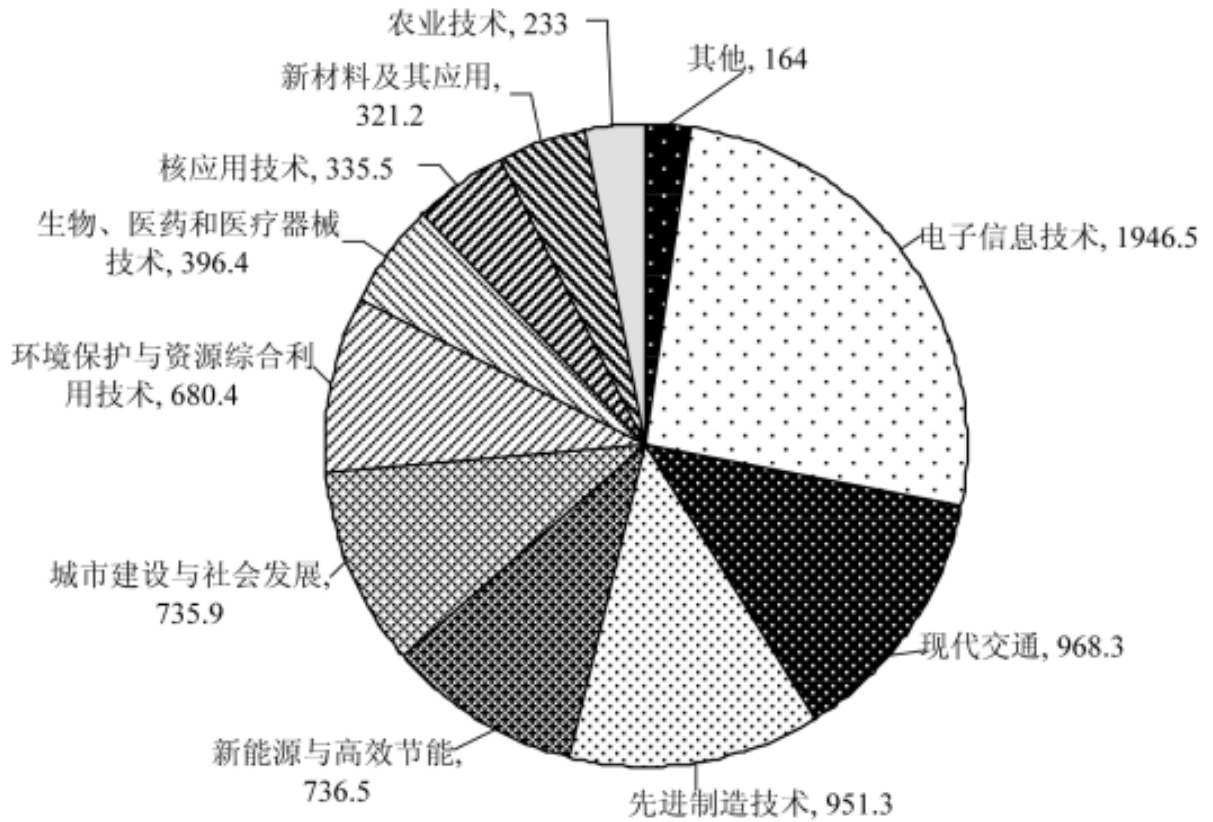


图2 2013年全国技术合同成交金额按技术领域分布(亿元)

991、(单选题) “十一五”期间(2006—2010年), 全国技术合同成交总金额()。

- A. 低于1万亿元
- B. 在1—1.5万亿元之间
- C. 在1.5—2万亿元之间
- D. 高于2万亿元

992、(单选题) 2013年新能源与高效节能技术合同成交金额约占当年GDP的()。

扫码关注公众号回复“810”获取答案



A. 0.02%

B. 0.06%

C. 0.13%

D. 0.20%

993、（单选题）能够从上述资料中推出的是（ ）。

A. 2005—2013 年，技术合同成交金额同比增量最大的是 2013 年

B. 2004—2013 年，技术合同成交金额占 GDP 比重最高和最低的年份相差 4 年

C. 有 5 个技术领域 2013 年的技术合同成交金额不足当年电子信息合同成交金额的两成

D. 2013 年现代交通技术合同成交金额占当年技术合同成交总金额的比重不到 15%

994、（单选题）2005—2013 年，全国技术合同成交金额增速超过 GDP 增速的年份有（ ）个。

A. 3

B. 4

C. 5

D. 6

扫码关注公众号回复“810”获取答案



995、（单选题）2013年有（ ）个技术领域的技术合同成交金额高于2012年技术合同成交总金额的10%。

A. 6

B. 4

C. 3

D. 2

（复合题）

2011年某省接待过夜游客总量再次实现突破，达到3001.34万人次，同比增长16.0%，实现旅游收入324.04亿元，同比增长25.8%。12月份宾馆平均开房率为74.02%，同比增长0.06%；全年累计宾馆平均开房率为62.37%。同比增长2.0%。

扫码关注公众号回复“810”获取答案



表1 该省2011年12月及全年接待过夜旅客人数

项目	12月份(万人次)	同比增长(%)	全年(万人次)	同比增长(%)
接待过夜旅游者总计	333.50	24.3	3001.34	16.0
(一) 过夜境内旅游者	322.96	23.5	2919.88	15.8
1. 旅游饭店接待过夜人次	235.27	18.32	2123.51	14.33
2. 社会旅馆接待过夜人次	87.69	39.8	796.37	20.0
(二) 过夜入境旅游者	10.54	56.1	81.46	22.8
1. 外国人	7.00	32.6	56.17	18.6
2. 香港同胞	1.40	60.9	13.62	20.2
3. 澳门同胞	0.13	160.0	1.13	43.0
4. 台湾同胞	2.01	265.5	10.54	54.8

表2 该省2011年12月及全年接待过夜游客的旅游收入情况

项目	12月份(亿元)	同比增长(%)	全年(亿元)	同比增长(%)
接待过夜游客旅游总收入	33.94	37.6	324.04	25.8
1. 接待境内旅游者收入	30.83	36.5	299.47	27.1
2. 接待入境旅游者收入	3.11	49.5	24.57	11.6

996、(单选题) 2010年该省接待过夜游客的旅游总收入约为:

- A. 25 亿元
- B. 258 亿元
- C. 298 亿元
- D. 408 亿元

997、(单选题) 下列2011年1~11月该省旅游统计数据中, 同比增长速度大于全年的是:

扫码关注公众号回复“810”获取答案



-
- A. 接待过夜境内旅游者收入
 - B. 宾馆平均开房率
 - C. 旅游饭店接待过夜的境内游客人数
 - D. 接待过夜入境旅游者人数

998、（单选题）2011年12月该省入境外国旅游者占全年入境外国旅游者的比重，较上年约增加：

- A. 1.3%
- B. 14.2%
- C. 25.6%
- D. 32.6%

999、（单选题）2011年12月该省接待过夜游客中，境外游客每人的平均消费约为境内游客的：

- A. 1倍
- B. 2倍
- C. 3倍
- D. 4倍

扫码关注公众号回复“810”获取答案



1000、（单选题）能够从上述资料中推出的是：

- A. 2011 年该省旅游饭店接待过夜游客人次超过社会旅馆的 3 倍
- B. 2010 年 12 月该省过夜入境游客中台湾同胞人次多于香港同胞
- C. 2011 年 12 月台湾同胞到该省过夜旅游人次高于前 11 个月的平均值
- D. 2011 年到该省消费的游客中，境外游客消费增长速度高于境内游客

扫码关注公众号回复“810”获取答案

