

---

1、一个人只有努力奋斗拼搏，才能获得事业的成功；只有获得事业的成功，才能获得人生的幸福。但是，如果努力奋斗拼搏，就要勇于承受痛苦与艰难。遗憾的是，世上有些人十分畏惧痛苦与艰难，并不愿意承受它们。

根据以上信息，可以推出以下哪项？（ ）

- A. 如果勇于承受痛苦与艰难，就能获得事业的成功
- B. 如果勇于承受痛苦与艰难，就能获得人生的幸福
- C. 世上有些人能够获得事业的成功和人生的幸福
- D. 世上有些人不能获得事业的成功和人生的幸福

2、对某受害人的五位朋友进行侦查分析后，四个警员各自做出了如下推测：

甲说：“这五个人都有嫌疑。”

乙说：“老陈不能逃脱干系，他有嫌疑。”

丙说：“这五个人不都是有嫌疑的。”

丁说：“五人中肯定有人作案。”

如果四个人中只有一个人推测正确，那么以下哪项为真？（ ）

- A. 甲推测正确，老陈最有嫌疑
- B. 丙推测正确，老陈没有嫌疑
- C. 丙推测正确，但老陈可能作案
- D. 丁推测正确，老陈有嫌疑

3、想从事媒体工作的学生都报考新闻与传播专业。李金报考了新闻与传播专业，他一定想从事媒体工作。

---

下述哪项为真，最能支持上述论断？（ ）

- A. 所有报考新闻与传播专业的学生都想从事媒体工作
- B. 有些媒体的记者是大学新闻与传播专业的毕业生
- C. 想从事媒体工作的学生有些报考了新闻与传播专业
- D. 只有新闻与传播专业毕业的学生，才有资格从事媒体工作

4、“阿基米德将被永远铭记，而剧作家埃斯库罗斯将会被遗忘，因为语言会消亡而数学理念不会消亡。”这一论证可能隐含了哪些前提，除了（ ）。

- A. 阿基米德的贡献在于数学理念
- B. 埃斯库罗斯不是一个好作家
- C. 使用会消亡的东西的人会被遗忘
- D. 数学理念不是语言

5、随处可见的榨菜，在中国经济舞台上正扮演越来越重要的角色。从2007年到2011年，涪陵榨菜在华南地区的市场份额从49%一路跌破30%，与此对应的是珠三角地区劳动密集型企业转移，2012年，在中西部地区务工的农民工数量增长较快。与此同时，该地区涪陵榨菜销售额创造了接近50%的增长。有专家就此指出，榨菜销售量与农民工的流动趋势存在巨大的相关性，政府可根据“榨菜指数”变化情况提前制定政策，从容应对人口骤增后带来的就业、治安、教育、社保等公共服务问题。

以下哪项如果为真，最能支持上述专家的言论？（ ）

- A. 榨菜是大众喜爱的食品，四川、重庆人尤其酷爱榨菜，而四川、重庆两地又都是农民工输出地
- B. 榨菜美味可口、价格低廉，购买、携带均很方便，在外地务工的农民工是榨菜的

---

主要消费群体

C. 据传，国家某权威部门根据“榨菜指数”变化情况将全国分为“人口流入区”和“人口流出区”，但近期该部门对此传闻予以明确否认

D. 浙江、福建等地生产的榨菜可能与涪陵榨菜的销量情况相似，其销量的区域变化也能体现农民工的流动趋势

6、为保护凤凰山上红枫林免受山顶季节性狂风的肆虐而不被刮倒，凤凰山国家风景管理局在山顶上设置了巨大的防风屏障。这些屏障的建立虽然挡住了狂风的侵袭，但就风景的整体性而言，有两个副作用，一是近乎将红枫林圈围起来了，二是红枫林山顶在狂风季节的“风”景，也因此屏障而大为逊色，另外也使本来就不太大的山顶显得更狭小了。

上述信息最支持的一项论断是（ ）。

A. 通过建筑防风屏障来保护红枫林，从长远来看，其作用可能是适得其反的

B. 由于季风的猛烈程度不断加深，必须在红枫林周围建立起更多更有效的防风屏障

C. 为人类留下宝贵的红枫林资源，应该是红枫林风景管理的首要目标

D. 防风屏障永远不被风暴破坏，也不需要昂贵的维修和更新

7、六朝时期的清代名家刘惔话很多，但他也欣赏不说话的人。他见江权不常开口，非常欢喜，说：“江权不会说话，而能够不说，真叫人佩服。”江权知道自己不善言谈，但他懂得藏拙。不是每个人都知道自己的缺点在什么地方，好为人师夸夸其谈者不计其数。能说话而爱说，情有可原；很多人明明不大会说话，偏偏说个不停，自暴其短，往往令人生厌。因此可以说，江权这样做，其实是一种极难得的聪明。

以下哪项如果为真，最能支持上述结论（ ）

A. 能言而能不言是一种极难得的聪明

B. 不能言而能不言是一种自知的聪明

C. 不能言而言其实是一种浮夸之举

D. 不能言而不言其实是一种无奈之举

8、购买彩票时，很多人往往愿意自己选号，不愿交由电脑随机选号。因为他们相信，中奖号码从长远看是随机产生的，但在短期内却有规律，比如前面连续多期出现的数字，这期出现的可能性就要小一些；或者某些数字对于自己意味深长，或者干脆就是自己的幸运数字，选择他们应该更可能中奖。

以下哪项如果为真，最能质疑上述这些人的想法？（ ）

A. 很多人研究彩票的中奖规律，但他们的中奖率并没有因此而显著提高

B. 每一期中奖号码都是独立随机产生的，彼此间没有任何内在的关联

C. 对于中奖号码的产生究竟有无规律，跟多人持“信则有，不信则无”的观念

D. 电脑选号是随机的，而自己选号有特定的意向，在这一点上人比电脑更聪明

9、王教授是某大学人气极旺的教师，他非常喜欢微博，自然对喜欢开微博的人也很欣赏。他的一位学生粉丝认为，不开微博者没有资格来听王老师的课，于是自作主张，就在王教授上课的教室门口竖起了一块牌子，上面写着“不开微博者不得入内”。牌子竖起后，就来了一位想听课的学生小芳，据查她确实是个“微博控”。

如果牌子上的话得到准确理解和执行，那么正确的选项是（ ）。

A. 小芳可能不会被允许听课

B. 王教授一定不会允许小芳听课

C. 王教授的那位粉丝学生不可能会允许小芳听课

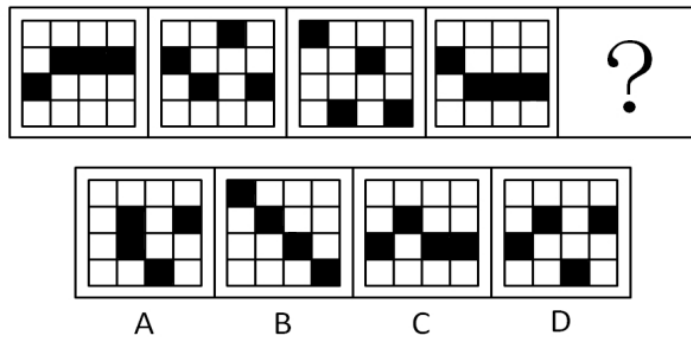
D. 小芳一定会被允许听课

10、城市病指的是人口涌入大城市，导致其公共服务功能被过度消费，最终造成交通拥挤，住房紧张，空气污染等问题。有专家认为，当城市病严重到一定程度时，大城市的吸引力就会下降，人们不会再像从前一样向大城市集聚，城市病将会减轻，从而焕发新的活力。

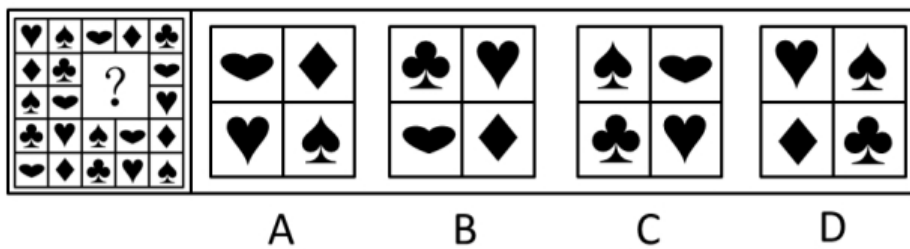
如果以下各项为真，能够削弱上述观点的是（ ）

- A. 政府应该将更多财力用于发展中小城市、乡镇、农村
- B. 大城市能够提供的公共服务是中小城市所无法替代的
- C. 中小城市活力足，发展潜力大，对人们吸引力会很强
- D. 我国已经进入城市病的爆发期，居民生活已受到影响

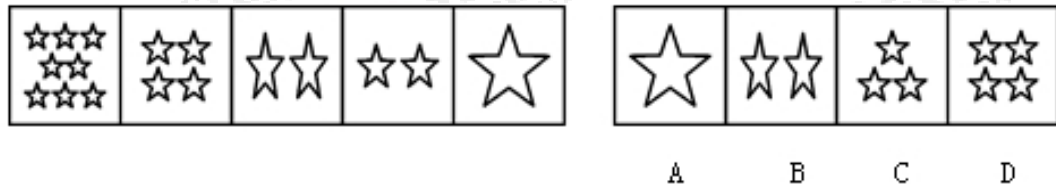
11、从所给的四个选项中，选择最合适的一个填入问号处，使之呈现一定的规律性（ ）。



12、从所给的四个选项中，选择最合适的一个填入问号处，使之呈现一定的规律性（ ）。



13、从所给的四个选项中，选择最合适的一个填入问号处，使之呈现一定的规律性（ ）。



14、知觉的整体性是指在直接作用于感觉器官的外界刺激不完备的情况下，人们根据自己的经验，对刺激进行加工处理，使知觉保持完备的一种性质。根据上述定义，下列选项中不属于“知觉的整体性”的是（ ）。

A. 在浓雾中，人们看不清前方的物体，但通过对轮廓的大致观察，知道那是一辆自行车

B. 人们在观看有缺口的圆环时，通常会在心里将缺少的部分补足，形成一个整体圆环的形象

C. 小王听到了切瓜果的声音，同时又闻到了香瓜的香味，他觉得隔壁的同事正在切香瓜

D. 一张红纸一半有阳光照射，一半没有阳光照射，从远处看颜色差异很大，人们仍然可以判断出这是一张红纸

15、双避冲突又称负负冲突，是动机冲突的一种，指同时有两个可能对个体具有威胁性、不利的事发生，两种都想躲避，但受条件限制，只能避开一种，接受一种，个体在作抉择时内心产生矛盾和痛苦。根据上述定义，下列面临的情境中属于双避冲突的是（ ）。

A. 高不成，低不就

B. 狡兔死，良犬烹

C. 士可杀，不可辱

D. 前有狼，后有虎

参考答案：

1. 【答案】D

【解析】 本题属于翻译推理，将题干中的描述写成逻辑命题，获得幸福→获得成功→努力拼搏→承受痛苦与艰难，根据逆否等价可知，只有D项是对的。故本题选择D选项。

2. 【答案】B

【解析】 真假推理。甲和丙属于矛盾命题，即“甲=都有嫌疑；丙=有的人没有嫌疑”；因为只有一个人的推测是正确的，则乙和丁都是错的，根据乙所述“老陈不能逃脱干系，他有嫌疑”可知，老陈没有嫌疑，即可知有的人没有嫌疑，即可知丙的推测是正确的，且老陈没有嫌疑。所以选择B选项。

3. 【答案】A

【解析】 三段论。B、C、D选项不能在报考新闻与传播专业和从事媒体工作之间建立联系，因此无法支持题干论断。A项中所有报考新闻与传播专业的学生都想从事媒体工作，李金报考了新闻与传播专业，所以能够得出李金一定想从事媒体工作。所以选择A选项。

4. 【答案】B

【解析】 前提假设。由题干可知，如果A、D选项不成立，则无法得出阿基米德将被永远铭记。如果C选项不成立，则无法得出剧作家埃斯库罗斯将会被遗忘。B选项，埃斯库罗斯是否是一个好作家与他会不会被遗忘没有必然联系。所以选择B选项。

5. 【答案】B

【解析】 本题属于加强论证，论点为：政府可根据“榨菜指数”变化情况制定政策，应对人口骤增后带来的公共服务问题。论据为：榨菜销售量与农民工的流动趋势存在巨大的相关性。A项四川和重庆两地样本较小，样本不典型，支持力度较弱；B项是建立联系，将农民



工情况与榨菜联系起来，可以支持；C项起到削弱的作用；D项是提供新论据，支持力度不如B项的建立联系强，而且D项是“可能”，力度较弱，故本题选择B选项。

6. 【答案】A

【解析】B项中的“必须”和D项中的“永远不被”都过于绝对，首先排除。对比A和C项，文中主要指出了防风屏障的一个正面作用和两个负面作用，所以重点是谈起负面作用，即A项所言，防风屏障的“作用可能是适得其反的”。故选A项。

7. 【答案】B

【解析】本题考查论证的加强支持。题干中“江汉不会说话，而能够不说，真叫人佩服”和“不是每个人都知道自己的缺点在什么地方”，可知题干的论点是“自知自己不善言谈而不多谈是一种极难得的聪明”，因此答案选择B。

8. 【答案】B

【解析】本题属于削弱论证，论点为：购买彩票时，很多人往往愿意自己选号，不愿交由电脑随机选号。论据为：中奖号码从长远看是随机产生的，但在短期内却有规律。B项说每一期中奖号码都是独立随机产生的，即没有规律，直接否定论点。故本题选择B选项。

9. 【答案】A

【解析】将“不开微博者不得入内”翻译为逻辑语言如下：入内→开微博。已知小芳是个微博控，只是肯定了后件，无法得出确定结论，即小芳被允许进入和不被允许进入都是有可能的。所以选A。

10. 【答案】B

【解析】题干中论点：城市病到一定程度，人们不会像从前一样集聚于大城市；论据：

人口多导致公共服务功能被过度消费，进而出现城市病，关键词即人口、城市病、公共服务；B项大城市提供的公共服务是小城市无法替代的，也就是说大城市即使出现城市病，但公共服务依然强，进而人口依然会集聚大城市，从而否定了论点。A项政府财力倾向中小城市，进而中小城市容易集聚人口，属加强项；C项中小城市优势，进而可以吸引人口，故属加强项；D项城市病很严重，居民生活受影响，与人口是否集聚无关，属无关项。故本题正确答案为B。

11. 【答案】D

【解析】位置类，平移，第一列和第三列黑块每次向上移动一格，第二列和第四列黑块每次向下移动一格，移动方式为往返，故本题答案为 D 选项。

12. 【答案】D

【解析】遍历，横着看或者竖着看，每行元素种类和数量相同，根据缺少的元素，用排除法即可得到D。

13. 【答案】B

【解析】前一图星星的个数除以下一图星星的个数，得出第三个图星星的个数，图片星星数量依次为8，4，2，2，1，由此可得 B 选项。

14. 【答案】D

【解析】A项：看不清物体符合外界刺激不完备，通过轮廓观察判断是自行车符合对刺激进行加工处理，使知觉保持完备；B项：看有缺口的圆环符合外界刺激不完备，将少部分补足，形成整体圆环的形象属于对刺激进行加工处理，使知觉保持完备；C项：听到了声音闻到了香味属于直接刺激，在并没有看到的情况之下觉得隔壁在切西瓜符合对刺激进行加

工处理，使知觉保持完备；D项：一半有阳光照射一半没有，造成颜色差异大，并不是看不到整张纸，不能说明外界刺激不完备，不符合定义。故正确答案为 D。

15. 【答案】D

【解析】双避冲突的特点是对同一个体有两种不利的事情，只能躲避一种，A选项并不是两种威胁性的事情。排除。B选项不是对同一个体而言的，排除。C选项中的士可杀，不可辱，是明显的有倾向的选择，排除。D项说明前后都有威胁性的事情，但只能避开一个，接受另一个，符合定义，所以答案选择 D。



关注“天津华图”微信公众号：tjhuatu

后台回复“时政”可获取最新时政信息