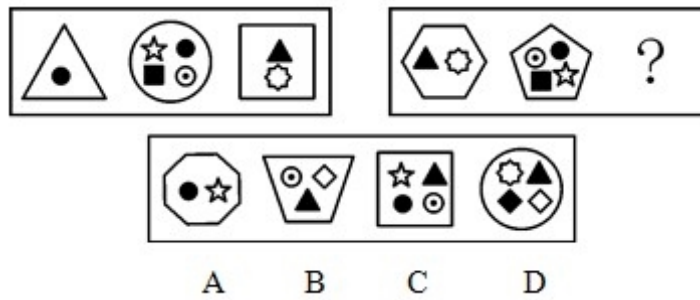
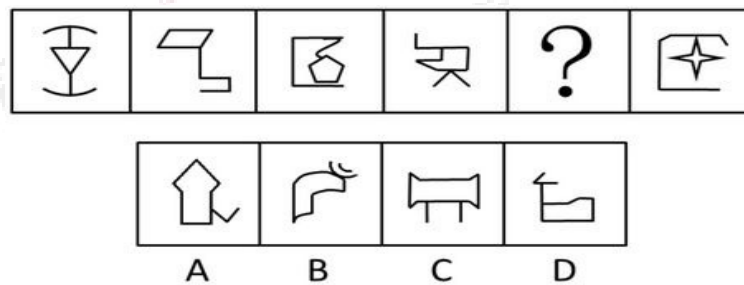


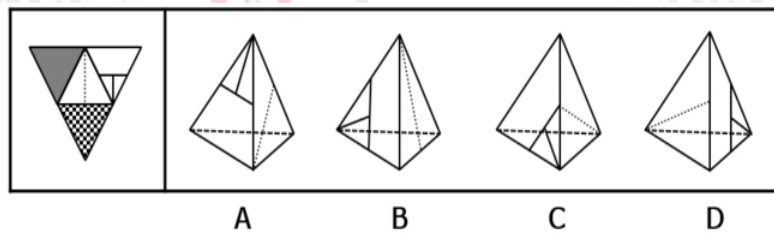
1. 左边给定的是纸盒的外表面，不能由左侧立体纸盒拆成的是？



2. 从所给的四个选项中，选择最合适的一个填入问号处，使之呈现一定的规律性：



3. 从所给的四个选项中，选择最合适的一个填入问号处，使之呈现一定的规律性：



4. 静态博弈，是指参与者们同时选择策略，或者虽然有先后，但是后作出策略的参与者并不知道其他参与者策略的博弈。动态博弈，是指参与者的行动有先后顺序，并且后者是在了解前者策略的前提下制定自己策略的博弈。

根据上述定义，下列属于静态博弈的是：

A. 象棋游戏

B. 投标竞争

C. 田忌赛马

D. 黔驴技穷中的驴虎之争

5. 行政赔偿是指行政机关及其工作人员违法行使职权，侵犯了公民、法人或其他组织的合法权益并造成损害，由国家承担赔偿责任的制度。

根据上述定义，下列各项要求中属于行政赔偿范围的是：

A. 交通警察孙某与出租车司机李某素有嫌隙，孙某诬陷李某违反交通规则，并吊销其驾照，李某要求交通管理部门赔偿其损失

B. 某区政府工作人员王某驾驶区政府车辆外出办事途中顺路回家探亲，因超速行驶撞伤村民张某，张某要求该区政府进行损害赔偿

C. 公安局销毁了一片非法种植的罂粟，种植者刘某认为他种植罂粟的目的是为母亲治病，公安机关不应销毁，要求公安部门赔偿其损失

D. 某市工商局发现某公司涉嫌销售假冒伪劣产品而将其产品扣押以备查实。该公司以其有合格证、工商局扣押其财产给该公司造成损失为由要求赔偿

6. 信息化战争是一种战争形态，是指在信息时代核威慑条件下，交战双方以信息化军队为主要作战力量，在陆、海、空、天、电等全维空间展开的多军兵种一体化的战争，大量的运用具有信息技术，新材料技术，新能源技术，生物技术，航天技术，海洋技术等当代高新技术水平的常规的武器装备，并采取相应的作战方法，在局部地区进行的，目的手段规模均较有限的战争。简单地说，它是敌我双方在信息领域中争夺信息控制权的战争。其作战对象主要不是人，而是对方的各种信息系统以及与之有关的各项设施，其任务是获取、管理、使用和控制各种信息，同时防止对方获取和有效地使用各种信息。

下列哪一项不属于信息化战争（ ）

A. 甲乙两国交战初期，甲国的“军事黑客”就侵入了乙国的信息系统，并成功植入病毒，导致对方信息指挥系统的瘫痪。

B. 军事演习中，某侦查连成功突破敌方防线，完整获知了敌方阵地的火力配置，并将火力配置信息发回指挥部，帮助部队成功夺取了敌方阵地。

C. 海湾战争期间，美国多次派无人侦察机到海湾地区进行巡航，获取了大量的地面军事设施分布情况的信息。

D. 总攻之前，A 集团军开启所有的军事雷达，不间断的向 B 集团军发送干扰信号，致使 B 集团军信息传输中断。

7. 米格-25 效应：前苏联研制的米格-25 喷气式战斗机的许多零部件与美国的相比都落后，但因设计者考虑了整体性能，故能在升降、速度、应急反应等方面成为当时世界一流。即所谓最佳整体，乃是个体的最佳组合。

下列哪一项属于米格-25 效应（ ）

A. NBA 中很多豪门球队都不惜重金追逐巨星，并围绕巨星进行球队的组建。

B. 历史上有名的田忌赛马的故事中，孙膑采取“下驷战上驷，上驷战中驷，中驷战下驷”的策略，对劣势资源进行合理组合而赢得最终胜利。

C. 现代公司越来越注重部门的专业化，但这带来的后果是公司组织臃肿。

D. 小明作为校辩论队队长，率队在全国大学生辩论赛中一举夺得冠军，为学校争得了荣誉。

8. 具体行政行为，是指国家行政机关和行政机关工作人员、法律法规授权的组织、行政机关委托的组织、或者个人在行政管理活动中行使行政职权，针对特定的公民、法人或者其他组织，就特定的具体事项，作出的有关该公民、法人或者其他组织权利义务的单方行为。简而言之，即指行政机关行使行政权力，对特定的公民、法人和其他组织作出的有关其权利

义务的单方行为。

下列哪一项属于具体行政行为（ ）

A. 国家号召大力发展生态农工业。

B. 近日北京市交管部门出台规定，对行人闯红灯处罚开始正式执行，行人闯红灯一次当场处罚 10 元。

C. 市民政局与某家具企业签订购买办公家具的合同。

D. 市公安局决定，给予见义勇为模范个人小李 10 万元奖励。

9. 监护：指依照法律规定，对未成年人、无民事行为能力或限制民事行为能力的精神病人的人身、财产及其他合法权益进行监督和保护的法律制度。其目的是为了保护无行为能力和限制行为能力人的一切合法权利，保护正常的社会经济秩序。

下列不属于监护的是（ ）

A. 小王的父母死后把遗产分给小王和精神失常的姐姐，小王先替姐姐保管其财产，并负责其吃穿住行。

B. 彤彤是一个多才多艺的孩子，在他们小县城很出名，未经彤彤家长的同意，有些商家利用彤彤的照片做广告代言，彤彤父母知道后将这些商家告上了法庭。

C. 欣欣今年 10 岁，因交通事故撞伤了双腿，其父母向肇事司机索赔医药费。

D. 上小学的仔仔，在学校被人欺负，他爸爸找到学校，把欺负儿子的人打了一顿。

10. 非条件反射是指人生来就有的先天性反射。条件反射是人出生以后在生活过程中逐渐形成的后天性反射，是在非条件反射的基础上，经过一定的过程，在大脑皮层参与下完成的，是一种高级的神经活动，是高级神经活动的基本方式。

下列属于条件反射的是（ ）

A. 婴儿一出生就会吮乳。

B. 叩击人的膝盖，小腿就会弹起。

C. 吃了山楂后，就会分泌唾液。

D. 当年曹操的士兵没有吃过梅子，但是听说梅子是酸的，并且前方有梅林，都流下了口水。

11. 分布式能源系统是指各种集成或单独使用、靠近小型用户、容量范围在几千瓦到 50 兆瓦的模块化发电装置，其与能源管理和储存系统相结合，用于改善输电系统的运行。

根据上述定义，下列**不属于**分布式能源系统的是：

A. 在医院附近设立模块化发电设备，保证医院供电稳定

B. 在工业园区附近设置发电装置，以防电网崩溃影响生产

C. 在社区附近设立发电装置，以防用电高峰时电力不足而跳闸

D. 在便利店里面放置千瓦以内的小型发电机，以便在停电时应急

12. 七寸 对于 () 相当于 () 对于 头绪

A. 尺度；线索 B. 要害；眉目

C. 七步；头脑 D. 关键；脉络

13. 潮：涨：落

A. 花：蕊：瓣 B. 草：荣：枯

C. 心：悲：喜 D. 水：沸：冰

14. 研究人员认为, 如果母亲在怀孕期间的头几个月接触杀虫剂较多, 那么出生的婴儿在智力上可能较差。他们认为, 妇女怀孕后不久胚胎大脑便开始发育, 因此怀孕前期是婴儿大脑发育的关键时期, 接触杀虫剂较多可能改变孕妇体内正在发育的胚胎大脑周围的环境。

以下哪项如果为真, 最能支持研究人员的观点?

- A. 由于母亲接触杀虫剂较多, 导致许多婴儿提前出生
- B. 杀虫剂对人们的健康是一个潜在的威胁, 它还会导致帕金森症、癌症和心理疾病等很多疾病
- C. 此前的研究已经发现, 较多地接触杀虫剂会导致孕妇的甲状腺出现问题, 而孕妇的甲状腺状况会影响胎儿的智力发育
- D. 研究人员对 1500 个孕妇进行了跟踪调查, 发现较多地接触杀虫剂的孕妇所生育的孩子在数学和语言学科上表现显著较差

15. 作为一种食用糖类, 果糖已广泛运用到食品加工产业中。果糖在进入人体细胞后停留在血液中, 它在人体中的代谢途径与胰岛素无关, 人体摄入不会引起血糖及胰岛素水平的波动。所以, 果糖对糖尿病病人血糖影响较葡萄糖小, 糖尿病患者摄入果糖后血糖升高不多。因此, 果糖是一种对健康有益的糖类。

如果以下各项为真, **不能削弱**上述结论的是:

- A. 在果糖摄入量高的人群中, 肥胖以及与肥胖相关疾病的发生率明显高于平均水平
- B. 果糖进入体内, 比葡萄糖更容易转化成甘油三酯, 最终产生更多的脂肪, 并在内脏中囤积
- C. 果糖由淀粉水解而来, 淀粉先分解成葡萄糖, 然后会转变成果糖和葡萄糖的混合物, 所以果糖并不来自水果
- D. 长期摄入大量果糖会导致胰岛素抗性的增加, 这意味着这胰岛素对血糖变化的敏感性下降, 严重的话会导致糖尿病

参考答案：

1. 【答案】A

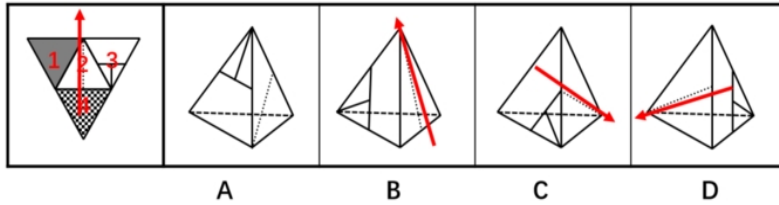
【参考解析】本题考查数量类中图形的线条数以及元素的数量。前一组图中第一个图内的元素个数加上外围的图形的线条数为4，第二个图内的元素个数加上外围的图形的线条数为5，第三个图内的元素个数加上外围的图形的线条数为6，依次成等差数列4、5、6。按照相同的规律，后一组图形应满足8、9、10。因此，本题答案为A选项。

2. 【答案】A

【参考解析】组成封闭面的线条数等差：3、4、5、6、7、8，因此选A。

3. 【答案】A

【参考解析】



A项：与题干一致，为正确答案；B项：如上图所示，分别对题干和选项的面2画箭头，题干箭头的左边是面1，选项箭头的左边是面3，B选项错误，排除；C项：如上图所示，对选项的面2画箭头，题干箭头的下边是面4，选项中箭头的下边是面3，C选项错误，排除；D项：如上图所示，对选项的面2画箭头，题干箭头的下边是面4，选项箭头的下边是面3，D选项错误，排除。

4. 【答案】B

【参考解析】本题属于多定义判断，考察静态博弈。强调参与者同时选择策略，即使有先后，也并不知道其他参与者策略。B项，投标是邀请众多投标人参加投标，之后按照原先规定程序，从中选择合适者作为交易对象，参与投标的竞争者同时竞争，并不知道其他参与者的策略，符合定义。A项，象棋后走棋者能看出先走棋者的策略；C项，田忌知道齐王的策略；D项，黔驴技穷中老虎知道驴的本事后，将其杀死，也是知道了前者的策略，属于动态博弈。因此，选择B。

5. 【答案】A

【参考解析】行政赔偿的定义要件为：（1）行政机关及其工作人员违法行使职权；（2）侵犯了公民、法人或其他组织的合法权益并造成损害；（3）由国家承担赔偿责任的制度。A项，孙某是交警，是行政机关工作人员，诬陷李某并吊销其执照，是违法行使职权，李某要求交通管理部门赔偿，应由国家承担赔偿责任，完全符合定义；B项，王某超速行驶并不是行使职权，与要件（1）不匹配，不符合定义；C项，公安局销毁非法罂粟，是合法行使职权，与要件（1）不匹配，不符合定义；D项，工商局对假冒伪劣产品的扣押属于正常行使职权，与要件（1）不匹配，不符合定义。因此，选择A。

6. 【答案】B

【解析】解题的关键在于信息化战争中交战双方以信息化军队为主要作战力量，在信息领域中争夺信息控制权的战争。A项甲国的“军事黑客”是信息部队的典型代表，其摧毁对方信息指挥系统是信息领域的战斗，符合定义；B项侦查连并不是信息部队，不符合定义；C项无人侦查机侦查地面军事信息符合定义；D项雷达部队是信息部队，进行电子干扰是信息战。正确答案是B。

7. 【答案】B

【解析】解题的关键在于米格-25效应强调最佳整体，乃是个体的最佳组合。A项强调的是巨星的重要，即个人的重要而不是整体的重要；B项田忌赛马正是强调了整体的重要性，符合定义；C项无关项；D项小明是个体，其取得的成绩说明了个体的重要性。正确答案是B。

8. 【答案】D

【解析】解题的关键是具体行政行为是国家行政机关和行政机关工作人员、法律法规授权的组织、行政机关委托的组织、或者个人，对特定的主体的权利义务，就特定事项作出的单方行为。A项国家只是在号召，并无特定对象和特定事项；B项具体处罚谁并不确定，即无特定对象；C项民政局只是作为一民事主体，并无行使行政职权；D项公安局作为行政主体，对见义勇为模范小李，决定奖励10万元，符合具体行政行为定义。正确答案为D。

9. 【答案】D

【解析】保护对象是“未成年人”、“无民事行为能力人”、“限制民事行为能力的精神病人”，保护的是人身、财产及其他合法权益。A选项是保护的是精神病人的财产，B选项保护的是未成年人的肖像权。C选项保护的是未成年人的合法权益。D选项目的不对，不符合保

护正常的社会经济秩序，所以选 D 选项。

10. 【答案】D

【解析】A、B、C 的反射都是先天就有的，不需要学习就会的，属于非条件反射。而 D 选项中的反射不是先天就有的，首先士兵先知道酸是什么味道，才会流口水，属于条件反射。

11. 【答案】D

【参考解析】定义中的关键信息：分布式能源系统是指①各种集成或单独使用②靠近小型用户③容量范围在几千瓦到 50 兆瓦的模块化发电装置④与其能源管理和储存系统相结合，用于改善输电系统的运行。D 项中在便利店里放置千瓦以内的小型发电机，以便在停电时应急不符合③，故答案为 D。

12. 【答案】B

【参考解析】象征义。要害是七寸的象征意义，头绪是眉目的象征义。因此，选择 B。

13. 【答案】B

【参考解析】主谓关系和反义关系。潮涨、潮落，都是主谓关系且两个词是反义关系，草荣、草枯都是主谓关系且两个词也是反义关系。因此，选择 B。

14. 【答案】C

【参考解析】论点：怀孕母亲在头几个月接触杀虫剂较多，则婴儿智力上可能较差。论据：怀孕前期是婴儿大脑发育的关键时期，接触杀虫剂较多可能改变胚胎大脑周围环境。C 项指出了杀虫剂会导致孕妇甲状腺出问题，从而影响胎儿的智力，和论点表达的是一个意思，

当选。D项看似能削弱，但是数学和语言学科上表现较差，也并不一定是智力差的表现，存在逻辑漏洞，故排除。A项婴儿提前出生不一定是智力差的表现，无关选项，排除。B项是杀虫剂对人们健康的影响，而题干中说的是婴儿，属于偷换概念，且得帕金森症、癌症和心理疾病等疾病，并不一定是智力差的表现，无关排除。因此，选择C。

15. 【答案】C

【参考解析】论点：果糖是一种对健康有益的糖类。论据：糖尿病人摄入后血糖升高不多。A项，削弱论据；B项，果糖比葡萄糖更容易产生甘油三酯，说明果糖不比葡糖好，削弱论据；C项，果糖来自于水果是无关项。D项，摄入果糖过多会导致很多疾病，削弱论点。因此，选择C。



关注“天津华图”微信公众号：tjhuatu

后台回复“时政”可获取最新时政信息