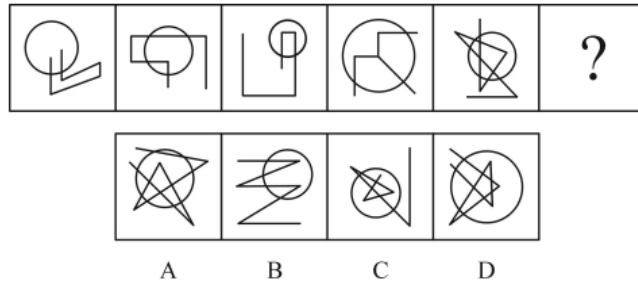
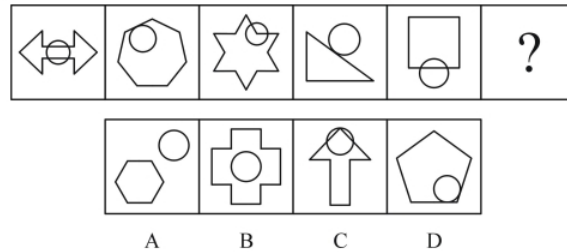


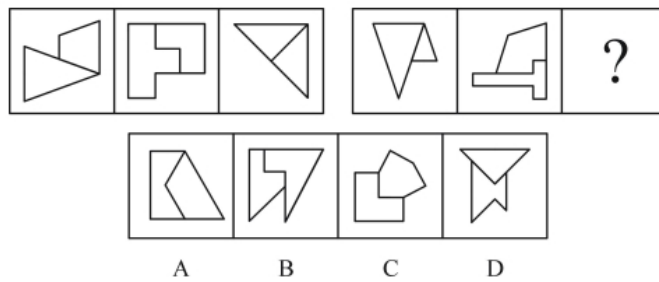
1.从所给四个选项中，选出最合适的一个填入问号处，使之呈现一定规律性：



2.从所给四个选项中，选出最合适的一个填入问号处，使之呈现一定规律性：



3.从所给四个选项中，选出最合适的一个填入问号处，使之呈现一定规律性：



4.某品牌的新型插座产品中包含防雷击部件，在电路遭到雷击后能保证所连接电器不受损害。有人提出，应将这种部件作为标准配件安装到该品牌所有的插座产品中；另有人认为这么做会提高产品成本，降低其在行业内的价格竞争优势，且国内行业标准并没有强制要求产品加入防雷部件，故没有必要加装防雷击部件。

以下哪项如果为真，最能削弱上述反对意见？

-
- A.越来越多的其他品牌的插座也开始加入了防雷部件
 - B.调查显示大多数消费者对其电路遭受雷击并不感到担忧
 - C.在家电遭受雷击的已知案例中，使用了该新型插座的家电都没有受损
 - D.在即将发布的国家标准中，强制要求所有插座产品都包含防雷击部件

5.研究人员对平均年龄为 66 岁的 648 名痴呆症患者进行研究，发现掌握两种语言的患者罹患痴呆的时间比只掌握一种语言的患者晚大约四年半。研究人员因此认为掌握两种语言可以延缓痴呆的发生。

以下哪项如果为真，最能质疑上述结论？

- A.很多人患上痴呆之后大脑的言语功能均出现显著下降
- B.大脑认知功能好的人才会说双语，认知功能好可延缓痴呆
- C.相当多的人只掌握一种语言，但一生都未出现痴呆的症状
- D.掌握三种或以上语言的人，痴呆发生时间比掌握两种语言的稍晚

6.系统脱敏法是一种心理治疗法，当患者面前出现引起焦虑和恐惧的刺激物时，引导患者放松，使患者逐渐消除焦虑与恐惧，不再对该刺激物产生病理性反应。它包括快速脱敏法和接触脱敏法等。前者是治疗者陪伴病人置身于令病人感到恐惧的情景，直到病人不再紧张为止。后者是通过示范，让病人逐渐与所惧怕的对象接触，最终达到克服恐惧的目的。根据上述定义，如果要治疗一名特别害怕蛇的孩子，下列治疗方法中属于接触脱敏法的是：

- A.带孩子去室内蛇类养殖场，看各种不同种类的蛇，看多了自然就不再害怕了
- B.给孩子讲有关蛇的有趣的童话故事，引发孩子开心的情绪，逐渐减少对蛇的恐惧
- C.录下孩子看见蛇后恐惧害怕的表情和动作，然后一遍又一遍地把这些视频放给孩子看

D.让孩子旁观别人触摸、拿起和放下蛇的过程后，再慢慢让孩子逐渐接近和触摸蛇

7. 如果阿根廷参加联盟，则巴西和智利将抵制联盟。如果巴西和智利有一国抵制联盟，那么联盟就会名存实亡。而联盟没有名存实亡。

从这段文字可以推出：

- A. 巴西没有参加联盟
- B. 巴西参加联盟
- C. 智利或巴西至少有一国没有参加联盟
- D. 阿根廷没有参加联盟

8. 关于某商务宾馆前台的 15 名服务员，有如下三个判断：

- I. 有人会熟练地说英语；
- II. 有人不会熟练地说英语；
- III. 新来的小刘不会熟练地说英语。

若这三个判断中只有一句为真，以下哪项也一定为真？

- A. 15 名服务员都会熟练地说英语
- B. 15 名服务员都不会熟练地说英语
- C. 仅有一人会熟练地说英语
- D. 仅有一人不会熟练地说英语

9. 某届“纪录片金镜头奖”评选结束后，甲厂的《黄河》获得最佳纪录片奖，乙厂的《武夷山》获得最佳摄影奖，丙厂的《南海》获得最佳音乐奖。新闻学院请三家厂长到校介绍经验。在休息室里，甲厂的导演说：“真有趣得很，我们三个人的姓分别是片名的第一个字。”“但是，我们每个人的姓同自己所拍片子的第一个字又不一样。”这时，一个姓武的导演补充说：“真是这样！”甲厂导演表示赞同。

如果上述的陈述都是真的，那么下列哪项是正确的？

- A. 甲厂导演姓南，乙厂导演姓武，丙厂导演姓黄
- B. 甲厂导演姓黄，乙厂导演姓武，丙厂导演姓南
- C. 甲厂导演姓南，乙厂导演姓黄，丙厂导演姓武
- D. 甲厂导演姓武，乙厂导演姓黄，丙厂导演姓南

10. 钢笔：墨水

- A. 牙刷：牙膏
- B. 手机：电脑
- C. 词典：报纸
- D. 壁画：台灯

11. 降价：促销

- A. 编程：语言
- B. 复习：考试
- C. 实验：研究
- D. 实践：真理

12. 节能：环保

A. 贪污：腐败

B. 文明：文化

C. 秋天：节气

D. 运动：休闲

13. 摄影：绘画

A. 复印：扫描

B. 书法：刺绣

C. 雕刻：打磨

D. 歌唱：弹奏

14. 军队：命令

A. 乐队：指挥

B. 游客：向导

C. 志愿者：号召

D. 学生：教导

15. 攻击：发动

A. 注释：文档

B. 前进：勇敢

C. 披荆：斩棘

D. 工作：开展

参考答案：

1. 【答案】C

【解析】第一步，观察特征。

组成元素凌乱，优先考虑数量或属性。线条特征明显，优先考虑线条或者交点。

第二步，一条式，从左到右找规律。图中圆圈内部交点数量为0、1、2、3、4，呈等差数列，故问号处图形圆圈内部交点数量应为5，只有C项符合。

因此，选择C选项。

2. 【答案】D

【解析】第一步，观察特征。

题干图形均由两个图形组合而成，其静态位置特征明显。

第二步，一条式，从左到右找规律。图形相对位置关系依次为相交和相切交替出现，故问号处应为相切的图形，只有D项符合。

因此，选择D选项。

3. 【答案】D

【解析】第一步，观察特征。

组成元素凌乱，优先考虑数量或属性。图形均由两个对称图形构成，考虑对称性。

第二步，两段式，第一段找规律，第二段应用规律。

第一段，三个图形中，两个对称图形的对称轴间分别成 0° 、 45° 、 90° ；第二段，前两个图与第一段的前两个图对应，故问号处两个对称图形的对称轴间成 90° ，只有D项符合。

因此，选择D选项。

4. 【答案】D

【解析】第一步，确定题型。

根据提问方式中的“削弱”，确定为削弱论证。

第二步，找论点和论据。

论点：该品牌插座产品没有必要全部加装防雷击部件。

论据：加装防雷部件会提高产品成本，降低其在行业内的价格竞争优势，且国内行业标准并没有强制要求产品加入防雷部件。

第三步，辨析选项。

A项，无关选项。其它品牌的插座加入了防雷部件与该品牌插座是否需要加装防雷部件

无关，论题不一致，排除；

B项，无关选项。题干中未说明插座加装防雷部件与消费者担忧相关，排除；

C项，不明确选项。举例说明新型插座确实具有防雷作用，但不能说明该品牌所有插座

都有加装防雷部件的必要性，排除；

D 项，否定原有论据。新的国家标准中强制要求所有插座产品都包含防雷击部件，否定国家未强制要求产品加入防雷部件，具有削弱作用。

因此，选择 D 选项。

5. 【答案】B

【解析】第一步，确定题型。

根据提问方式中的“质疑”，确定为削弱论证。

第二步，找论点和论据。

论点：掌握两种语言可以延缓痴呆的发生。

论据：掌握两种语言的患者罹患痴呆的时间比只掌握一种语言的患者晚大约四年半。

第三步，辨析选项。

A 项，无关选项。该项说明的是患痴呆症后的状况，与论点中掌握两种语言是否可以延缓痴呆的发生无关，论题不一致，排除；

B 项，削弱论点。该项说明的是认知功能好可延缓痴呆的发生，而非“掌握两种语言可以延缓痴呆的发生”，否定论点，具有削弱作用；

C 项，不确定选项。该项说明的是很多人仅掌握一种语言但未患病的情况，不能否定掌握两种语言是否可延缓痴呆症的发生，无法确定其是否具有削弱作用，排除；

D 项，无关选项。该项是掌握多种语言与两种语言的人患病时间的比较，与论点中“掌握两种语言可以延缓痴呆的发生”论题不一致，排除。

因此，选择 B 选项。

6. 【答案】D

【解析】第一步，看提问方式，本题属于选是题。

第二步，找关键信息。

多定义，考查“接触脱敏法”，其关键信息如下：

1. 通过示范，让病人逐渐与所惧怕的对象接触；
2. 最终达到克服恐惧的目的。

第三步，辨析选项。

A项，“带孩子去室内蛇类养殖场”，属于直接而不是逐渐让病人接触所惧怕的对象，并且不是“通过示范”的方法，不符合定义；

B项，“讲有关蛇的童话故事”，没有体现示范与蛇的接触，不符合定义；

C项，“录下孩子看见蛇之后的表情等，并播放给他看”，给孩子看的是视频而不是真的蛇，没有体现通过示范，让孩子与蛇接触，不符合定义；

D项，“先让孩子旁观别人接触蛇的过程”，属于通过别人的“示范”，“再慢慢让孩子逐渐接近和触摸蛇”符合让病人“逐渐”接触惧怕的对象，符合定义。

因此，选择D选项。

7. 【答案】D

【讲授说明】本题考查的是翻译推理中的充分条件。题干的推理形式是：①阿根廷参加联盟→巴西和智利将抵制联盟；②巴西和智利有一国抵制联盟→联盟就会名存实亡。因为联盟没有名存实亡，是对②后项的否定，否后必否前，推出巴西和智利都没有抵制联盟，所以阿根廷没参加联盟。因此，选择D。

8. 【答案】A

【讲授说明】根据题干可知：①有的人会说英语；②有的人不会说英语；③小刘不会说英语。根据两个有的“可以同真不能同假”可知，①②中至少有一个为真，即可以判断③为假，由此可以判断“小刘会说英语”为真，即可知“有人会说英语”为真，即①为真②为假，则②的矛盾命题“所有人都会说英语”为真。因此，选择A。

9. 【答案】C

【讲授说明】排除法。根据题干已知信息可知，甲厂的导演不姓黄，乙厂的导演不姓武，丙厂的导演不姓南，可以排除A、B、D项。因此，选择C。

10. 【答案】A

【解析】第一步，确定题干逻辑关系。

“钢笔”与“墨水”是配套使用关系。

第二步，辨析选项。

A项，“牙刷”与“牙膏”为配套使用关系，与题干逻辑关系一致；

B项，“手机”与“电脑”都是电子产品，为并列关系，不是配套使用关系，排除；

C项，“词典”是供人检查参考的工具书，“报纸”是以刊载新闻和时事评论为主的定期向公众发行的印刷出版物，二者是两种获取信息的途径，不是配套使用关系，排除；

D项，“壁画”与“台灯”之间没有必然的逻辑关系，排除。

因此，选择A选项。

11. 【答案】C

【解析】第一步，确定题干逻辑关系。

降价是促销的一种方式，属于种属关系。

第二步，辨析选项。

A 项，编程语言是用来定义计算机程序的形式语言，编程与语言不属于种属关系，排除

B 项，复习不是考试的一种方式，不属于种属关系，排除；

C 项，实验是研究的一种方式，属于种属关系，与题干逻辑关系一致；

D 项，实践是检验真理的唯一标准，属于对应关系，不属于种属关系，排除。

因此，选择 C 选项。

12. 【答案】A

【解析】第一步，确定题干逻辑关系。

节能是环保的一种措施，属于种属关系。

第二步，辨析选项。

A 项，贪污是腐败的一种表现，属于种属关系，与题干逻辑关系一致；

B 项，文明是文化的内在价值，文化是文明的外在形式，两词为对应关系，排除；

C 项，秋天为季节的描述，节气是指二十四时节和气候，两者不属于种属关系，排除；

D 项，运动与休闲，可以构成偏正关系的短语“休闲运动”，两词不是种属关系，排除。

因此，选择 A 选项。

13. 【答案】B

【解析】第一步，确定题干逻辑关系。

题干中摄影和绘画是两种艺术表现形式，属于并列关系，都是借助于外在媒介，反映人内心对于外界事物的美的感受，并且都是利用人的视觉的感官系统。

第二步，辨析选项。

A 项，复印和扫描也是并列关系，但只是机械复制，并且复印过程中包含扫描的环节，与题干逻辑关系不一致，排除；

B 项，书法和刺绣都是艺术表现形式，属于并列关系，都是借助于外在媒介，反映人对于外界事物的美的感受，并且都利用人的视觉的感官系统，与题干逻辑关系一致。

C项，雕刻和打磨是两种加工过程，属于并列关系，但不是对于同一对象的两种表现形式，与题干逻辑关系不符，排除；

D项，歌唱和弹奏是两种艺术表现形式，并且是与听觉感官相关，与题干逻辑关系不符，排除。

因此，选择B选项。

14. 【答案】A

【讲授说明】主宾关系。军队服从命令，乐队服从指挥，并且军队和乐队都是集体概念。因此，选择A。

15. 【答案】D

【讲授说明】动宾关系。发动攻击，开展工作。因此，选择D。



关注“天津华图”微信公众号：tjhuatu

后台回复“时政”可获取最新时政信息

【2019 国考估分密卷】

华图教育 华图新公考

2019年国家公务员考试

估分密卷

(无批改无预测冲刺课版)

4套行测
4套申论
配套解析

考前冲刺价
29.9
~~39.90~~



2019国考 估分密卷 (试卷+视频解析) 距离国考只有16天, 11月21日停售! 已连续两次押中考题! 考前抢...



扫描或长按识别二维码