

2019 年津南区事业单位考试 《职业能力测试》模拟试卷

重要提示：

为维护您的个人权益，确保事业单位考试的公平公正，请您协助我们监督考试实施工作。

本场考试规定：监考老师要向本考场全体考生展示题本密封情况，并邀请 2 名考生代表验封签字后，方能开启试卷袋。

仅限华图教育内部教学使用！

二〇一九年

准考证号

姓名

条
形
码

请将此条形码揭下，
贴在答题卡指定位置。

注意事项

- 一、此项测验分为四个部分，110 道题，总时限 120 分钟。各部分不分别计时，但都给出了参考时限，供答题时合理分配时间。
- 二、请按照要求在答题卡上填写好自己的姓名，涂写好准考证号，严禁折叠答题卡。
- 三、必须在答题卡上答题；在题本上答题，一律无效。
- 四、监考人员宣布考试开始时，方可答题，宣布考试结束时，应立即停止答题。题本、答题卡，草稿纸一律留在桌上，待监考人员确认数量无误，允许离开后，方可离开考场。如果你违反了以上任何一项要求，都将影响你的成绩。
- 五、在这项测验中，可能有些试题较难，因此你不要在一道题上思考时间太久，遇到不会答的题目可先跳过去，如果有时间再去思考，否则，你可能没有时间完成后面的题目。
- 六、试题答错不倒扣分

停！请不要往下翻！听候监考老师的指示。
否则，会影响你的成绩。

第一部分 数量关系

一、数字推理（共 5 题）给出一个数列，但其中缺少一项，要求你仔细观察数列的排列规律，然后从四个供选择的选项中选出你认为最合理的一项，来填补空缺项。

1. 0.5, 1, 2, 5, 17, 107, ()

A.1947

B.1945

C.1943

D.1941

2. 145, 120, 101, 80, 65, ()

A.48

B.49

C.50

D.51

3. 2, 4, 3, 7, 16, 107, ()

A.1457

B.1594

C.1684

D.1707

4. $\frac{3}{2}$, $\sqrt{5}$, π , 4.8, 2.3^2 , ()

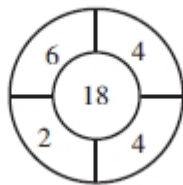
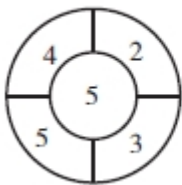
A.5.9

B.1.83

C.6.5

D.7.8

5.



A.2

B.8

C.9

D.10

二、数学运算（共 15 题）主要考查解决算术问题的能力，考生可以在草稿纸上运算。

6. 某公司面试员工，其中五分之二的应聘者获得了职位。最终录取者的平均分比录取分数线高 7 分，落选

者的平均分比录取分数线低 13 分，所有应聘者的平均分为 58 分，则该公司的招聘录取分数线是（ ）。

- A. 60
- B. 63
- C. 58
- D. 69

7. 某钢铁厂生产一种特种钢材，由于原材料价格上涨，今年这种特种钢材的成本比去年上升了 20%。为了推销该种钢材，钢铁厂仍然以去年的价格出售，这种钢材每吨的盈利下降 40%，不过销售量比去年增加了 80%，今年生产该种钢材的总盈利比去年增加了（ ）。

- A. 8%
- B. 16%
- C. 20%
- D. 54%

8. 为了国防需要，A 基地需要运载 1480 吨的战备物资到 1100 千米外的 B 基地。现在 A 基地只有一架“运 9”大型运输机和一列“货运列车”，“运 9”速度为 550 千米每小时，载重能力为 20 吨，“货运列车”速度为 100 千米每小时，运输能力为 600 吨，这批战备物资到达 B 基地的最短时间为（ ）。

- A. 52 小时
- B. 53 小时
- C. 54 小时
- D. 55 小时

9. 一菱形土地的面积为 $\sqrt{3}$ 平方千米，菱形的最小角为 60 度，如果要将这一菱形土地向外扩张变成一正方形土地，正方形土地边长最小为（ ）公里。

- A. $\sqrt{2}$
- B. $\sqrt{3}$
- C. $\sqrt{6}$
- D. $2\sqrt{3}$

10. 李先生在水果店买车厘子、草莓和香蕉三种水果共花了 120 元。其中买车厘子比草莓多花的钱和买草莓比香蕉多花的钱相等，并且买车厘子用的钱是香蕉的 3 倍，则李先生买香蕉一共花了（ ）元

- A. 20
- B. 18
- C. 24
- D. 22

11. 从装满 100 克浓度为 80% 的糖水杯中倒出四十克糖水，再倒入清水将杯倒满，这样反复三次后，杯中糖水的浓度是多少？（ ）

- A. 48%
- B. 28.8%
- C. 11.52%
- D. 17.28%

12. 每年三月某单位都要组织员工去 A、B 两地参加植树活动。已知去 A 地每人往返车费 20 元，人均植树 5 棵，去 B 地每人往返车费 30 元，人均植树 3 棵，设到 A 地员工有 x 人，A、B 两地共植树 y 棵，y 与 x 之间满足 $y=8x-15$ ，若往返车费总和不超过 3000 元，最多可植树（ ）棵。

- A. 489
- B. 400

C.498

D.513

13. 王先生出生于 20 世纪 80 年代，他在某年发现这一年的年份正好是自己年龄的平方，那么再过（ ）年，王先生 60 岁。（出生年龄为 0）

A.15

B.16

C.18

D.20

14. 某企业原有职工 110 员，其中技术人员是非技术人员的十倍，今年招聘后两类人员的人数之比未变，而且现有职工中技术人员比非技术人员多 153 人，问今年新招非技术人员多少名？（ ）

A. 7

B. 8

C. 9

D. 10

15. 甲乙丙三人参加一项测试，三人的平均分为八十。甲乙两人的平均分为 75，乙丙两人的平均分为 80，那么甲丙两人的平均分为（ ）

A. 70

B. 75

C. 80

D. 85

16. 铁工程在某 1000 米路段地下施工，两头并进，一侧地铁盾沟机施工，每天掘进 3 米，工作 5 天，休息一天进行检修；另一侧工人轮岗不休，每天掘进 1 米，多少天此段可以打通？（ ）

A.286

B.285

C.282

D.288

17. 一支有 100 多人的旅行团乘坐汽车，如果每辆车都乘坐 29 人，结果剩下 4 人；如果增加一辆车，则所有游客正好平均分到各辆车上，问此时每辆车乘坐了多少人（ ）

A. 28

B. 26

C. 24

D. 23

18. 某施工队共有 750 人，其中一级技工 350 人，二级 250 人，三级 150 人，为进一步了解该队伍的技术水平，用等比例分层抽样的方法从中抽样的方法从中抽取样本，若样本中一级技工 7 人，则样本总量（ ）

A. 15

B. 20

C. 25

D. 35

19. 小王从编号 1 到 10 的苹果中随机挑出 4 个，则这 4 个苹果的编号相邻的概率是（ ）

A. 2/5

B. 1/20

C. 1/30

D. 1/35

20. 有一片牧草，如果饲养 32 头羊，3 天可以把草吃完，如果饲养 16 头羊，9 天可以把草吃完。如果饲养 20 头羊，多少天可以把草吃完？（ ）

A.4

B.5

C.6

D.7

※※※ 第一部分结束，请继续做第二部分！※※※

第二部分 言语理解与表达

一、选词填空，（共 10 题）在括号中填入恰当的选项，从而使句子的意思表达最准确。

21. 咬文嚼字有时是一个坏习惯，_____这个成语的含义通常不很好。但是在文学，无论阅读或写作，我们_____有一字不肯放松的谨严。

依次填入划横线部分最恰当的一项是（ ）

- A. 所以 必须 B. 虽然 必需
C. 虽然 必须 D. 所以 必需

22. 那天夜晚，他抱着吉他即兴演唱了几支歌，脸上是_____的表情，像孩子那样快乐，像农夫那样淳朴。我_____一次感受，好的男子汉本质上都是农夫，朴实，宁静，沉湎于自己的园地，_____那是音乐、绘画_____书籍。

依次填入划横线部分最恰当的一项是（ ）

- A. 迷醉 不止 不管 还是 B. 陶醉 不只 不管 还是
C. 迷醉 不只 如果 或者 D. 陶醉 不止 如果 或者

23. 如果孩子只能在美术课上画画，往往会变得很_____：他们总是用同一系列颜色表现同一类主题，画中充斥着令人担忧的“现实主义”，毫无_____可言。

依次填入划横线部分最恰当的一项是（ ）

- A. 固执 灵气 B. 刻板 新意
C. 保守 创新 D. 单调 理想

24. 徐霞客的山水之志来源于父亲的榜样，游记书籍的熏陶和母亲的支持。大概因为读书有偏好，霞客十来

岁时童子试不成，索性改志投奔山水之间，到此时，霞客的所为并不_____，古代这样的人很多，但他从此以后_____，纯粹一生，别无他顾，这就难得了。

依次填入划横线部分最恰当的一项是（ ）

- A. 出格 专心致志 B. 独特 坚韧不拔
- C. 新鲜 矢志不渝 D. 另类 持之以恒

25. 回到故乡时，发现故乡的传统生活方式正在消亡，村里的人们曾经拥有一个_____而完整的精神世界，但是外面的世界改变了这一切，这个村庄正在_____而又急速的转型，只有生活在其中的人_____。

依次填入划横线部分最恰当的一项是（ ）

- A. 美好 不着痕迹 似信非信 B. 淳朴 潜移默化 漠然无知
- C. 单一 默不作声 懵懵懂懂 D. 封闭 悄无声息 漠然不觉

26. 中国有句老话叫“人言可畏”，有时候原本不带恶意的_____也是可以害人的。虽然这件事已经过去很多年了，但是，现在想起来，他内心深处还感到_____。

依次填入划横线部分最恰当的一项是（ ）

- A. 流言 内疚 B. 流言 歉疚
- C. 谎言 歉疚 D. 谎言 内疚

27. 持之以恒的精神固然可贵，但如果我们所坚持，所固守的是_____甚至错误的，那坚持到底的结果只能是一错再错，人生允许_____，敢于放弃不切实际的理想，也是一种生存智慧。

依次填入划横线部分最恰当的是一项是（ ）

- A. 消极 无功而返 B. 盲目 知错就改
- C. 反面 偃旗息鼓 D. 偏颇 改弦易张

28. “不负众望”与“不孚众望”，仅一字之差，但其义_____，作为公益型国企的石油石化、电网、通信服务等，一定要心系国家利益和人民利益，并把国家利益和人民利益放在首位，做到“_____”，切忌“_____”。

依次填入划横线部分最恰当的一项是（ ）

- A. 泾渭分明 不孚众望 不负众望 B. 大相径庭 不孚众望 不负众望
- C. 迥然不同 不负众望 不孚众望 D. 天差地别 不负众望 不孚众望

29. 真正的信息公开，当然要求政府要在第一时间发布信息，但更重要的是，不能_____信息的发布渠道，而必须尊重媒体多渠道地报道、展现事实，在多元的信息和声音的“竞争”中由公众判断事实在哪里。政府调查的能力有限，可能被假象所_____，所以需要媒体调查的跟进，这对政府的调查是一个有益的信息补充；更重要的是，政府在利益的绑架下，可能会习惯性地瞒报虚报、掩盖事实，这就需要媒体的报道与政府的调查相互_____，

从而在信息的竞争和交叉中逼出真相。

填入划横线部分最恰当的一项是（ ）

- A. 垄断 蒙蔽 印证
- B. 主导 迷惑 证明
- C. 操纵 瞒骗 检验
- D. 控制 遮掩 验证

30. 人工智能促进了社会的巨大发展，但不少人仍对人工智能（ ），这多半来自于其高速发展所带来的未知性，与生物技术、核技术相比，目前对人工智能的监管近乎空白，如何（ ），保证人工智能良性有序发展并使人类社会尽快适应，已经被提上议事日程。

- A. 忧心忡忡 先发制人
- B. 谈虎色变 防患未然
- C. 心存芥蒂 未雨绸缪
- D. 半信半疑 力挽狂澜

二、语句表达：（共5题）请从语法、语气、语义等方面对有关语句做出判断。

31. 下列语句中，没有语病的一项是（ ）

- A. 为减少对耕地的占用，京沪高铁这一中国最先进的铁路线全程4个多小时，被普遍应用。
- B. 政府是公共服务的提供者，政府补贴铁路客运的低廉票价，是世界许多国家的通行做法。
- C. 铁路部门考虑不仅在京沪高铁上开发多元化的客运产品，而且增设卧铺。
- D. 正在建设的国家重点交通基础设施项目京沪高速铁路，将使有着百年铁路史的镇江进入全新的高速火车时代。

32. 下面有语病的是（ ）

- A. 许多城市兴办了“米袋子”“菜篮子”工程。
- B. 合理冲撞在足球比赛中是允许的。
- C. 世界公园集中了世界各地的微缩景观。
- D. 依法合理开发矿产资源是山区农民脱贫致富的有效途径。

33. 以下有歧义的一项是（ ）

- A. 数字电视是源自数字技术而制成的电视。
- B. 他有一个女儿，在医院工作。
- C. 智能手机将给我们的生活带来革命性变化。
- D. 世界上有许多大学，正用信息技术频繁地开展学术交流和国际合作。

34. 下列各句中，下划线的词语使用恰当的一句是（ ）

- A. 二恶英成了当今词汇以后，各种媒体对它的“包装”可谓五花八门。有的写成“二恶英”，有的写成“二恶因”，有的写作“二巫英”。

- B. 刚刚兴起跳交际舞的时候，我和妻极看不惯。不但自己不入“舞流”，而且还颇有微言。
- C. 自从中国颁布实施外商投资法规以来，不少外商蠢蠢欲动，纷纷来中国投资。
- D. 据专家测算，在首都市内的空气污染中，汽车尾气的排放可算首当其冲，竟占了污染总量的45%。

35. 下列句子中，画横线的成语使用恰当的一项是（ ）

- A. 面对金融危机，某市政府为当地的出口企业制定了许多扶持政策，大量企业在国际竞争中脱颖而出。
- B. 如果你没亲身参加过蹦极运动，那么它给人带来的巨大刺激你是无法感同身受。
- C. 易中天《品三国》一书出版后，受到许多读者的热烈欢迎，一时洛阳纸贵。
- D. 考虑问题时没有大局意识，目无全牛，顾此失彼，这就是他决策失误的重要原因。

三、阅读理解：（共25题）每组（道）题包含一段短文，短文后面是一个或几个不完整的陈述，要求你从四个选项中选出一个来完成这一陈述。

36. 瘦金体是国王被俘受折磨而死的宋徽宗创造的书法字体，亦称“瘦金书”或“瘦筋体”，也有“鹤体”的雅称，楷书的一种。瘦金体的运笔飘忽快捷，笔迹瘦劲，至瘦而不失其肉，转折处可明显见到藏锋、露锋等运转提顿的痕迹，是一种风格相当独特的字体。此书体以象形论，本应为“瘦筋体”，以“金”易“筋”，是对御书的尊重。现代美术字体中的“仿宋体”即模仿瘦金体神韵而创。

这段文字主要谈论的是（ ）

- A. 瘦金体的特点
- B. 宋徽宗国亡被俘受折磨而死，却创立了对现代美术字体中的“仿宋体”影响极大的瘦金体
- C. 瘦金体亦称“瘦金书”或“瘦筋体”，也有“鹤体”的雅称
- D. 瘦金体笔迹瘦劲，虽是楷书的一种，却是“仿宋体”的鼻祖

37. 近年来，我国房地产业“售多租少”，其间固然有“买房恒产”的情愫，但租赁市场机制不健全、不完善才是人们不愿租房的根本原因所在。这种不健全、不完善的突出表现，就是“信息不对称”。作为出租方，即“卖方”，往往有房源欠真实、质量欠真实、价格欠真实的情况；作为承租方，即“买方”，往往有住房用途信息欠真实、支付能力欠真实的问题；双方之间的中介方，往往又是“忽悠了卖方再忽悠买方”，诸多“失真”，矛盾多多，纠纷多多，加重了买卖双方的精神负担和经济负担，制约着房屋。

根据这段文字，接下来最可能讲的是（ ）

- A. 中介方惯常使用的“忽悠”伎俩。
- B. 推动房屋租赁市场发展的新思路
- C. 如何打破租赁市场信息不对称的局面
- D. 我国应该如何对症下药，整治租赁市场

38. 语言不仅是从历史继承而来的财富，而且保持着与时代最为紧密的互动。在网络时代，语言成为社会发展的忠实记录仪和显微镜。近年来，一个个“热词”聚焦社会热点，体现时代变化，蕴含着人们对自身生活、社

会变革与人类发展的理性思考。人们从“八项规定”“两学一做”中看到了我们党实现自我净化的努力，从“一带一路”“天宫二号”中看到了国家的发展进步，从“洪荒之力”“厉害了我的哥”中看到了流行文化的变化，也从“获得感”“撸起袖子加油干”中感到了百姓的期待……语言既折射时代变迁，又在与时代的互动中，不断丰富着自身。读懂一个时代，应该从读懂它的语言开始。

阅读这段文字，以下说法正确的是（ ）

- A. 流行文化最先表现为热词的快速更新
- B. 学好语言是读懂一个时代的前提条件
- C. 网络热词的兴起是人类理性思考的结果
- D. 语言通过与时代互动记录社会的发展变化

39. 产业与艺术之间的不均衡并不意味着二者是对立的关系，发达的文化市场并不会直接威胁影视美学的探索，若能在法规政策上给予适当的支持、鼓励和管理，市场化反而可为文化产品多样性提供肥沃的土壤，反过来也只有产业得到充分发展，才能为影视精品的创作提供坚实的物质基础。按照“十三五”规划，在2020年左右，文化产业应当成为我国国民经济的支柱性产业，这不仅意味着其在GDP总量中比重进一步提升，还要求发挥市场和资本的积极作用，有效配置文化产品的生产要素，培育更多具有市场竞争力和国际影响力的企业和品牌。

这段文字意在说明（ ）

- A. 政策环境对产业与艺术的均衡发展有重要影响
- B. 文化产业和艺术发展之间的密切关系
- C. 文化产业发展的作用和重要意义
- D. 市场对文化产品多样性的推动作用

40. 在人类寻求安定的社会秩序的过程中，法律始终只是一种实现路径。并不是所有的社会关系都能依靠法律来有效调整，也并不是所有的立法都能解决现实中的复杂问题。轻视立法固然不可取，但把眼界过于集中在立法的书面行动上，动辄呼吁加强规则制定，也未必是一种追求法治的理性态度。

根据这段文字，作者批判的观点或态度是（ ）

- A. 重立法而轻执法
- B. 重法治而轻道德
- C. 社会问题应当通过立法解决
- D. 完善的法律体系是法治的前提

41. 当今世界，城市化的步伐越来越快。交通拥堵如何化解？垃圾怎样处置？空气、水怎样才能更清洁？住宅如何更节能环保？这些都是大都市所面临的问题。

这段文字所表达的主要意思是（ ）

- A. 当今世界的城市化越来越快
- B. 我们应该寻找合适的城市化道路
- C. 城市化给大都市带来了许多问题
- D. 大都市面临许多问题等待解决

42. 有一些人坚持考研是经过了理性的选择，对于理想的追求和坚持是他们一考再考的重要原因，如果考生对自己已有充分的规划，并且很了解目前的现状，信心十足，那么多考几次也无妨，毕竟成功属于那些能够坚持到最后的人。沾染了“理想色彩”的考研很多时候是一个人的战争，只要自己战胜自己，即使无人喝彩，最终也会有所收获。

作者最有可能是在反驳哪一个观点？（ ）

- A. 考研只是解决就业的暂时方法，研究生毕业后还得自主择业
- B. 大学生没有勇气面对社会竞争，通过考研而逃避，屡败屡战
- C. 那些年复一年坚持考研不放弃的人，对未来没有任何的想法
- D. 考研是个寂寞的历程，即使考上了，也不一定实现个人理想

43. 有句话说，婚前瞪大两只眼，婚后睁一只眼闭一只眼。可以这么说，婚后不幸的根源大多源自婚前，只有极个别的是单纯地因为婚后某些重大的变化使人的性情发生改变的。应该说，人还是江山易改本性难移的，性情人品这都是一个人相对稳定的因素，不太容易改变。有人举反例说，男人有钱就会变坏。那我只能说，这个变坏的男人本性就有不良的方面，只是没钱的时候没有变坏的条件，而有钱了促成他变坏。

这段话主要表达的是（ ）

- A. 婚姻的幸福取决于两个人的本性，和相处时间无关
- B. 婚前幸福、婚后不幸的家庭，大多是经济因素所致
- C. 婚姻的不幸并非全部因为男人，女人也有一定责任
- D. 婚姻对个人性情的影响有差异，尤其男女表现不一

44. 教育，无论是传统的还是现代的，最终都是为了促进人的全面发展，帮助下一代提高生存能力。批评惩戒和赏识鼓励乃并不相悖的两种方式，有些时候，“当头棒喝”甚至比温言软语更有效果。北宋丞相丁谓曾在看望授业先生时坦陈，“小年狭劣，荷先生教诲，痛加梗楚，使某得成立者，皆先生之赐也”。即便素来以赏识教育著称的西方，也相当重视教师的批评惩戒权。“严厉”并非是要回到“戒尺在手，学生俯首”的旧时代，而是呼吁回归教育的本质。有赏识的助力，亦有批评的雕琢，我们的孩子才能从顽皮无知的蒙童成长为堪当大任的栋梁。

最适合这段文字标题的是（ ）

- A. 教育需要一点严厉
- B. 中国式批评和美国式表扬
- C. 鼓励教育与挫折教育再引思考
- D. 禁止教师说“禁语”，也应鼓励惩戒教育

45. 什么叫大学？什么是大学的精神？许多身在其中的学子并不全懂。他们在大学校园中懵懵懂懂读完四年或七年或十年的课程，毕业后找到一个好工作，便心满意足聊以自慰了。蔡元培先生在北京大学 1918 年的开学典礼演讲词中说：“大学为纯粹研究学问之机关，不可视为养成资格之所，亦不可视为贩卖知识之所”。蔡元培先生还曾指出：“大学者，囊括大典，网罗众家之学府也”。大学，是理想主义者的火炉，是浪漫主义者的绿地，是社会光明的象征，是批判和怀疑的中心，是追求真理的孤独心灵的温暖怀抱，是一个令人神往和怀念的好地方。

这段文字文意主要表达的是（ ）

- A. 现在的大学生不明白大学为纯粹研究学问之机关，不可视为养成资格之所

- B. 蔡元培先生关于大学的论述是非常值得学子们深思的
- C. 大学是追求真理的孤独心灵的温暖怀抱
- D. 大学者，囊括大典，网罗众家之学府也

46. 腾讯发起的“守护者计划”，仅两年时间，已经从腾讯的一个反欺诈公益平台，逐步发展成为推动整个产业链开放、共同打击网络犯罪的社会公共平台。在各大主管部门的支持和呵护下，“守护者计划”不但成为网络综合体系的一部分，也正在成为构建“网络安全共同体”的重要力量。可以说，今天的“守护者计划”，已不再属于腾讯，而是属于每一位钢铁卫士。

下列说法与原文相符的是（ ）

- A. 腾讯为打击网络犯罪作出了积极贡献
- B. 其他企业对于网络犯罪的作用不大
- C. “守护者计划”不再属于腾讯，也不属于公益平台
- D. 腾讯在打击网络犯罪上处于世界领先水平

47. 在公共汽车上，一个人张大嘴打了个哈欠，他周围会有几个人也忍不住打起了哈欠。有些人不打哈欠是因为他们受暗示性不强。哪些人受暗示性强呢？可以通过一个简单的测试检查出来。让一个人水平伸出双手，掌心朝上，闭上双眼。告诉他现在他的左手上系了一个氢气球，并且不断向上飘；他的右手上绑了一块大石头，向下坠。三分钟后，看他双手之间的差距，距离越大，则暗示性越强。

这段文字说明的主要是（ ）

- A. 人常常迷失在自我当中，形成一定程度的从众心理
- B. 人很容易受到来自外界信息的暗示，从而出现自我知觉的偏差
- C. 人很容易相信一个笼统的、一般性的人格描述特别适合他
- D. 在日常生活中，人不可能总把自己放在局外人的地位来观察自己

48. 在古代，典籍藏于私家，即便是皇家藏书，也是属于统治者家族的私藏，因此分散于四面八方。如今，绝大多数古籍集中收藏在公共图书馆、大学图书馆等场所，这给普查带来了极大便利。然而，一些图书馆专业人才不足，古籍整理编目进展迟缓，更有些图书馆，压根没有熟悉古籍的专业馆员，导致馆藏珍贵古籍长期藏在深闺无人识，因为“心中没数”，部分古籍长期在恶劣的环境中存藏，保护修复等措施更是无从谈起，面对如废纸一样堆积在书库中的古籍，不少有识之士为之扼腕叹息。

这段文字意在强调（ ）

- A. 古籍的保护和修复，亟需更多专业人才
- B. 古籍普查与保护应得到政府的重视
- C. 加强图书馆专业人才培养队伍刻不容缓
- D. 拯救馆藏珍贵古籍需社会各方齐心协力

49. “真实”是指事实、真理，它可以用于客观事物：自然、社会、个人；它的反面是虚假，是不真。“真诚”也是真，但是指主观意识领域里的真，它仅涉及人，而且是主体的个人，它强调的是向内反省，要求的是忠实于自己，是不欺己、不欺心，这就好像内心有一个法官在检查所有的意识和念头，看它们是真的发自内心，还

是一些浮在表层的托词和借口。初底的真诚要求一个人能鉴别和杜绝一切有意无意哄骗自己的念头，在行为上就反映为：言其真心所欲言，行其真心所欲行。

这段文字意在说明（ ）

- A. “真实”与“真诚”的区别
- B. “真诚”的本质含义及外部表现
- C. “真诚”行为属于主观表现因而难以鉴别
- D. 如何使“真实”与“真诚”实现内在统一

50. 转变发展理念，切实增强协调发展的自觉性和坚定性。我们党提出协调这一发展理念，旨在补齐发展短板，解决发展不平衡问题。尽管我国经济社会发展取得巨大成就，但也出现了发展不平衡、不协调、不可持续问题，迫切需要转变发展理念，特别是增强发展的整体性、协调性。在当前全面建成小康社会的决胜时期，我们必须转变观念，把思想和行动统一到新发展理念上来，正确处理发展中的重大关系，在协调发展中拓宽发展空间，在补齐短板中增强发展后劲，在增强国家硬实力的同时提升国家软实力，使物质文明和精神文明协调发展，同步提升。

这段文字意在强调我们要（ ）

- A. 转变发展理念，解决发展不平衡问题
- B. 推动物质文明与精神文明协调发展
- C. 增强协调发展的自觉性与坚定性
- D. 转变发展理念，提升国家软实力

51. 习近平总书记强调，“调查研究是我们党的传家宝，是做好各项工作的基本功”，同时要求“要拜人民为师，向人民学习，放下架子、扑下身子，接地气、通下情”，“身入”更要“心至”。当前，面对新目标新形势，党员干部要甘当群众的“学生”。党员干部只有“扑下身子”，才能了解群众需要什么、盼望什么，群众才会愿意、敢于讲真话、说实情、谈想法。如此，调查研究才能抓住老百姓最急最忧最怨的问题，准确掌握真实情况，避免“走马观花”“蜻蜓点水”。

这段文字主要讲了（ ）

- A. 调查研究是各项工作的基础
- B. 调查研究要讲究方式方法
- C. 调查研究的意义及方法
- D. 如何了解群众真实情况

52. 19 世纪，爱默生和其他一些作家向读者传授一种称为“自助论”的理论，在这些人看来，一个有个性的人必须要有一颗充实的大脑，在这种思想的指导下，为了得到他人的尊重，有必要在闲暇时广涉猎文化史上的杰出著作。同时，也有必要熟悉哲学、神学和世界范围内的重大政治事件。这种风气在一个多世纪的时间里塑造了美国新闻业。在那几十年里，杂志致力于推广古典歌剧、高雅艺术和宗教神学而不是电影或大众健康常识。

这段文字意在说明（ ）

- A. 广泛阅读可以充实我们的大脑
- B. 主流媒体有引导大众品位的责任
- C. 新闻媒体是主流文化观的集中体现
- D. 自助论为美国新闻业的发展提供了方向

根据以下文章，回答 53-56 题。

一声巨响、凄厉的尖叫……被吓得呆若木鸡，一动不动的体验，你有吗？再次听到类似声音，即使时隔多年，恐惧也会被重新勾起。大脑是如何存储恐惧记忆的？

动物对于恐惧的记忆，一部分是先天的，比如老鼠闻到猫的气味就会害怕，另一部分则是习得的，与巴甫洛夫著名的条件反射实验差不多，当一种声音与恐惧联系在一起，只要再次听到这种声音，动物就会重新陷入惊恐之中。

很多恐惧记忆的形成，与大脑中附着在海马末端的杏仁核息息相关。这是一个产生、识别和调节情绪，并控制学习和记忆的脑部组织。原先，科学家认为，在小鼠中，听觉恐惧的信息会从大脑的听觉感觉区流向杏仁核的侧杏仁核，再通往下游直接控制运动的区域，由此产生恐惧反应，而从杏仁核回到感觉皮层的投射，只有在猕猴等灵长类动物中存在。可是上海有位年轻的女研究人员最近在浏览小鼠大脑联接图谱的时候，突然发现，小鼠听觉皮层也有来自侧杏仁核的投射，于是她就和另一位女博士一起“追踪”了下去。

这一追，收获巨大。她们研究发现，从侧杏仁核投射回大脑初级听觉皮层的这个神经回路一旦被抑制，小鼠就不那么害怕原先非常恐惧的声音。这说明，假如我们可以在人脑中找到对应的通路，那么我们就可能通过调节这个通路，减轻焦虑症和创伤后应激障碍等疾病。这一基础研究的发现，将为未来脑疾病的治疗提供新的线索，目前药物治疗脑疾病效果并不理想，而生理、物理刺激和干预，可能取得更好的效果。

不过，更有意义的是，这两位年轻的女科学家发现了成年大脑存储恐惧记忆的模式——这是科学家从来没有发现过的。

与电脑有一个像集中存储数据的硬盘不同，大脑是将信息存储在以突触为基本单元的神经网络中。突触是神经元之间的连接点，大脑中有数以千亿计的神经元，每个神经元都与上千个同伴相连接，它们之间传递信号，就是通过突触完成的。而突触会不断变化，形态、数目，以及连接方式，都会随着学习和记忆改变。通过荧光标记，她们发现，侧杏仁核——听觉皮层的突触在经过恐惧训练后，明显增多了。通过观察发现，98%以上的新形成的突触都遵循“部分新增”的规律。也就是说，这些新突触往往由旧有突触“改造”而来，这种形成新突触的方法，不仅可以节省空间、细胞能量，还可节省“建材”——结构蛋白的数量。她们在所有与学习有关或无关的突触变化中，都看到了这个现象，所以这可能是成年动物大脑中突触形成的普遍规律。

目前，这项极具价值的研究，通过脑科学卓越中心的合作机制，已有北京的人工智能科学家基于这一发现，开始研发新的人工智能存储网络。

53. 下列说法不符合原文意思的是（ ）

- A. 附着在海马末端的杏仁核是一个生产、识别和调节情绪，并控制学习和记忆的脑部组织，具有传递恐惧信息的作用
- B. 老鼠闻到猫的气味就会害怕，说明动物对于恐惧的记忆是先天的

C. 当一种声音让人产生恐惧，再次听到这种声音，就会重新陷入惊恐，这种现象可以用巴甫洛夫的条件反射学说来解释

D. 在听觉恐惧记忆中起重要作用的侧杏仁——听觉皮层投射通路，不仅仅在猕猴等灵长类动物中存在

54. 下加选项中，适合做上文标题的是（ ）

A. 大脑是如何存储恐惧记忆的

B. 研究恐惧记忆存储规律，为脑疾病治疗提供新线索

C. 科学家的最新发现——大脑存储恐惧记忆的重要神经通路

D. 科学家发现成年大脑记忆存储基本规律

55. 下列对两位年轻的女科学家的研究成果解说错误的是（ ）

A. 虽然突触会不断变化，但其形态、数目以及连接方式，都不会随着学习和记忆改变

B. 侧杏仁核——听觉皮层的突触在经过恐惧训练后明显增多

C. 新突触往往由旧有突触“改造”而来，这不仅可以节约空间、细胞能量，还可节省结构蛋白的数量

D. 新突触连接主要通过已在已存在的突触上添加新的突触结构的方式形成，提示了成年动物大脑皮层中新突触形成的普遍规律

56. 根据上文，下列推断不正确的是（ ）

A. 可以通过切除杏仁核减少恐惧，从而减轻焦虑症

B. 脑疾病的治疗中，对“侧杏仁核——听觉皮层”这个神经回路进行生理、物理刺激和干预，可能比药物治疗效果更好

C. 与恐惧记忆相关的杏仁核——感觉皮层突触特异性变化的研究成果对条件恐惧学习的神经环路研究是重要的补充

D. 成年动物大脑皮层中新增突触形成基本规律的发现将有助于人工智能存储网络的研发

根据以下文章，回答 57-60 题。

一般人常常以为，对任何问题不求甚解都是不好的。其实也不尽然。我们虽然不必提倡不求甚解的态度，但是，盲目地反对不求甚解的态度同样没有充分的理由。不求甚解这句话最早是陶渊明说的。他在《五柳先生传》这篇短文中写道：“好读书，不求甚解；每有会意，便欣然忘食。”人们往往只抓住他说的前一句话，而丢了他说的后一句话，因此，就很不满意陶渊明的读书态度。

应该承认，好读书这个习惯的养成是很重要的。而读书的要诀在于会意，对于这一点，陶渊明尤其有独到的见解，而真正的会意又很不容易，所以陶渊明只好说“不求甚解”了。可见这“不求甚解”四字的含义，有两层含义：一是劝诫学者不要骄傲自负，以为什么书一读就懂，实际上不一定真正体会得了书中的真意，因此还是老老实实承认自己只是不求甚解为好。二是劝诫者不要太固执咬文嚼字，而要前后贯通，了解大意。这两层意思都

很重要，值得我们好好体会。

在这一方面，古人的确有许多成功的经验。诸葛亮就是这样读书的。据王粲的《英雄记钞》说，诸葛亮与徐庶、石广元、孟公威等人一道游学读书，“三人务于精熟，而亮独观其大略”。看来诸葛亮比徐庶等人确实要高明得多，_____观其大略者往往知识更广泛，了解问题更全面。

当然，这也不是说读书可以马马虎虎，观其大略同样需要认真读书，只是不死抠一字一句，不因小失大，不为某一局部而放弃了整体。宋代理学家陆象山的语录中说：“读书且平平读，未晓处且放过，不必太滞。”这也是不因小失大的意思。所谓“未晓处且放过”，不是说未读懂的地方就放过不理睬了，而是暂时放过，最后仍然会了解它的意思。

57. 根据本文，人们通常把“好读书，不求甚解”理解为（ ）

- A. 不能够就所读书籍提出自己的理解
- B. 读书应该广泛涉猎从而扩大知识面
- C. 应多读书但无需完全理解书籍内容
- D. 遇到不明白的问题不会向他人请教

58. 根据本文，“观其大略”地读书有利于（ ）

- A. 获得更广泛的知识
- B. 更快掌握文章精髓
- C. 培养内容概括能力
- D. 提高阅读鉴赏能力

59. 填入文中划线处最恰当的一项是（ ）

- A. 所以
- B. 因为
- C. 但是
- D. 诚然

60. 这篇文章意在（ ）

- A. 论证会意是解决“不求甚解”的主要途径
- B. 介绍对“不求甚解”产生误解的历史背景
- C. 说明对“不求甚解”产生误解的根本原因
- D. 阐释读书过程中“不求甚解”的真正含义

*** 第二部分结束，请继续做第三部分! ***

第三部分 判断推理

一、事件排序：(共 10 题)每道题给出 5 个事件，每个事件均以简短语句表述，接着给出事件假定发生顺序的 4 个数字序列，请你选择其中最合乎逻辑的一种事件顺序。

61. ①拍摄资金不足

②改编成电影剧本

③影片获奖

④小说获奖

⑤企业资助

A. ④②①⑤③

B. ④①③⑤②

C. ①③④②⑤

D. ③④⑤②①

62. ①殷商的甲骨文

②春秋战国的木简

③钟鼎上的钟鼎文

④互联网无纸化办公

⑤东汉蔡伦改进造纸术

A. ①③②⑤④

B. ①②③⑤④

C. ①③②④⑤

D. ①③⑤②

63. ①收集书籍

②购买材料

③打造书架

④雇用木工

⑤排列书籍

A. ①④②③⑤

B. ④①②③⑤

C. ⑤④②③①

D. ②③④①⑤

64. ①撰写文稿

②压缩文档

③突发灵感

④发送电子邮件

⑤开启电脑

A. ③⑤①②④

B. ②⑤③①④

C. ①②⑤④③

D. ③②①⑤④

65. ①狐狸濒临绝种

②人类的生活环境更加恶劣

③野兔几近灭绝

④草场遭到严重破坏

⑤狼的生存受到严峻挑战

A. ④①③②⑤

B. ④①③⑤②

C. ④③①⑤②

D. ④③①②⑤

66. ①路中央有个大坑

②被送往医院治疗

③连人带车掉进坑里

④有人帮忙拨打急救电话

⑤下班后骑车往家赶

A. ④②⑤①③

B. ⑤④①②③

C. ⑤①③④②

D. ⑤③①④②

67. ①无论一个人在哪儿，只要他在一扇关着的门的后面，他就能使自己不受拘束。

②没有门的屋子不是屋子，而是走廊。

③在关着的门内，头脑的工作最为有效。

④人不是在一起放牧的马群。

⑤门是隐秘、回避的象征，是心灵躲进极乐的静谧或悲伤的秘密搏斗的象征。

A. ②①③④⑤

B. ④①③②⑤

C. ①③④⑤②

D. ⑤②①③④

68. ①法庭判决

②单方违约

③提起诉讼

④支付违约金

⑤订合同

A. ⑤④①③② B. ⑤④①②③

C. ⑤②③①④ D. ⑤②①③④

69. ①发展公共交通

②交通拥堵

③市民乘坐公共交通工具

④交通压力得到缓解

⑤私家车大量增加

A. ②①③④⑤ B. ①③②④⑤

C. ⑤②①③④ D. ③④①⑤②

70. ①乱捅马蜂窝

②依法赔偿

③家属告上法院

④调查取证

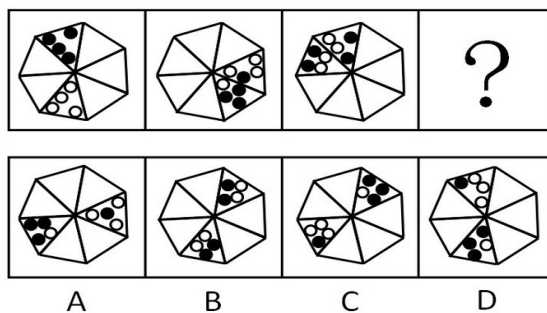
⑤马蜂蜇死人

A. ①⑤③④② B. ⑤①③④②

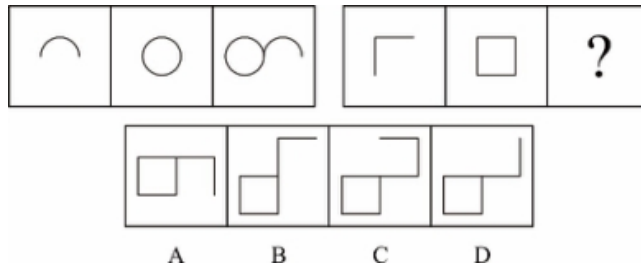
C. ①③⑤④② D. ⑤③①④②

二、图形推理：(共 5 题) 试题包括几种类型的图形。

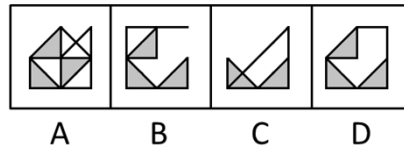
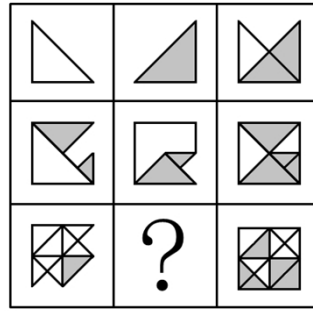
71. 题目中的图形呈现一定的规律性。根据这种规律, 最有可能出现在?处的图形是 ()



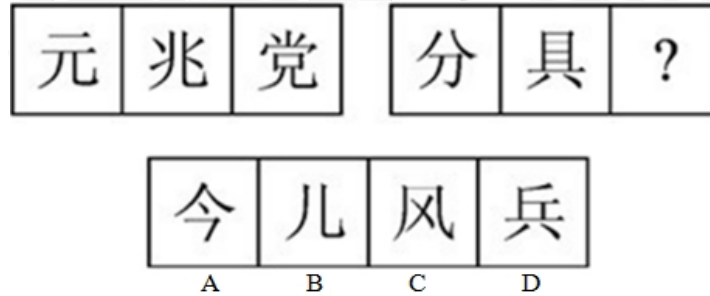
72. 题目中的图形呈现一定的规律性。根据这种规律, 最有可能出现在?处的图形是 ()



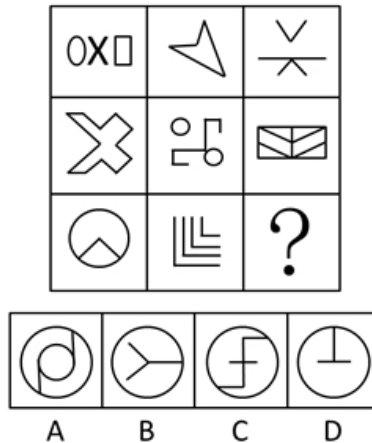
73. 题目中的图形呈现一定的规律性。根据这种规律,最有可能出现在?处的图形是 ()



74. 题目中的图形呈现一定的规律性。根据这种规律,最有可能出现在?处的图形是 ()



75. 题目中的图形呈现一定的规律性。根据这种规律,最有可能出现在?处的图形是 ()



三、演绎推理：(共 20 题) 每题给出一段陈述，这段陈述被假设是正确的，不容置疑的，要求根据这段陈述选择一个答案。

76. 某水果店只有进货低于正常价格时，才能以低于市场的价格卖水果而获利，除非该水果店的销售量很大，否则，不能从果农那里购得低于正常价格的水果；要想有大的销售量，该水果店就要拥有特定品种水果的独家销售权。因为种种原因，该水果店没有得到特定品种水果的独家销售权。

由此可以推出 ()

- A. 该水果店的销售量很大
- B. 该水果店的进货价低于正常价格
- C. 该水果店不能以低于市场的价格卖水果而获利
- D. 该水果店获利很少

77. 如果父母双方或有一方患精神分裂症，其孩子患该病的几率是那些父母没有精神分裂症的孩子的七倍，因此可以认为精神分裂症具有遗传倾向。

以下哪项如果为真，最能支持该结论 ()

- A. 亲生父母没有精神分裂症，被患该病的养父母养大的孩子比被亲生父母养大的孩子更容易患该病
- B. 亲生父母有精神分裂症，被没有该病的养父母养大的孩子比其他孩子更容易患该病
- C. 父母患精神分裂症之后，孩子的成长环境明显恶化，更容易患上相关的精神疾病
- D. 父母没有精神分裂症的孩子在出现相关症状时确诊率很低

78. 很多人以为只有抽烟的老人才会得肺癌，但某国一项最新的统计显示：近年来该国肺癌导致的女性死亡人数比乳腺癌、子宫内膜癌和卵巢癌三种癌症加起来还多，而绝大多数的妇女们根本没有意识到这一点。

由此无法推出的是 ()

- A. 肺癌是导致该国人口死亡的首要原因，应当得到极大的重视
- B. 普遍认为男性比女性更容易患肺癌的观点，可能是片面的
- C. 烟草并不是肺癌的惟一致病源，还有很多因素也参与到肺癌的发病过程中
- D. 肺癌未引起广大女性的重视，是因为她们认为自己不抽烟，不可能得肺癌

79. 若 GDP 增长率大于 3%，那么城市居民和农民的人均收入一定都增长了。

假设以上推论是正确的，那么下列哪项一定正确？ ()

- A. 城市居民和农民的人均收入都增长了，那么 GDP 增长率一定大于 3%
- B. 城市居民的人均收入增长了，而农民的人均收入却减少了，那么 GDP 增长率一定小于或等于 3%
- C. 如果 GDP 增长率小于或等于 3%，城市居民的人均收入一定减少了
- D. 即使城市居民和农民的人均收入都减少了，GDP 增长率也可能大于 3%

80. 老师把双手伸进围棋匣子，然后双手握拳各执一子，让同学猜哪只手里有黑子。假设老师说了四句话，其中三句是真的，一句是假的。

- ①右手肯定不是黑子。
- ②或者左手是黑子，或者右手是黑子。
- ③如果左手是黑子，则右手就不是黑子。
- ④左手、右手都是黑子。

则（ ）是假话。

- A. ①
- B. ②
- C. ③
- D. ④

81. 要使一个团队能跻身世界强队之列，至少必须解决两个关键问题：一是提高队员基本技能，二是讲究科学训练。不切实解决这两点，即使临战时拼搏精神发挥得再好，也不可能取得突破性的成绩。

以下哪一项推理没有表达上述议论的观点？（ ）

- A. 除非提高队员的基本技能和讲究科学训练，否则不能取得突破性成绩
- B. 只要提高了队员的基本技能和讲究了科学训练，就一定能取得突破性成绩
- C. 如果取得了突破性成绩，说明一定提高了队员的基本技能并且讲究了科学训练
- D. 如果不能提高队员的基本技能，即使讲究了科学训练，也不可能取得突破性成绩

82. “万夫一力，天下无敌”说的就是团结。团结出凝聚力，出生产力，出战斗力，团结可以战胜艰难险阻，创造人间奇迹。一个组织的成员只有团结一致，这个组织才能高效率的运作；一个组织的成员如果能团结一致，也就一定能产生超出各个体之和的整体效益。

由此可以推出（ ）。

- A. 只有团结一致，才能战胜各种艰难险阻
- B. 一个高效率运作的组织其成员之间一定是团结一致的
- C. 一个组织的成员若不团结一致，就会相互内耗，影响整体效益
- D. 一个组织只有高效率的运作，才能产生超出各个体之和的整体效益

83. 只有在湿度高且光线昏暗的山林里才会有野生灵芝生长。紫金山林区没有野生灵芝生长。

若以上判断为真，可推出以下哪项结论（ ）。

- I、紫金山林区湿度不高并且光线不昏暗。
- II、如果紫金山林区光线昏暗，则肯定湿度不高。
- III、如果紫金山林区湿度高，则肯定光线不昏暗。

- A. 仅 I
- B. 仅 II

- C. 仅 II 和 III D. I、II 和 III 都推不出

84. 某学校要从甲、乙、丙、丁、戊、己、庚七名学生中挑选四人组成一个辩论队，去参加全市的辩论比赛。

根据平时的训练情况，挑选必须满足下列条件：

- (1) 如果戊参加，则丙也要参加；
- (2) 除非乙参加，否则庚不参加；
- (3) 甲和乙中至少有一人参加，但不能都参加；
- (4) 戊和己中至少有一人参加，但不能都参加。

根据以上陈述，以下哪些学生一定会参加辩论比赛（ ）。

- A. 乙或庚，或者二人都参加 B. 戊或庚，或者二人都参加
C. 丙或丁，或者二人都参加 D. 丙或戊，或者二人都参加

85. 近年来，人们对网络高等教育的品质信任度越来越高。据一项民意调查显示，某国 37% 的公民称他们同意网络高等教育能提供高质量的教育。相比 2012 年的 33% 和 2011 年的 30%，这个数字有所提高。这表明，攻读大学学位的方式将出现一波新的重大变化。

以下哪项如果为真，最能反驳上述结论？（ ）

- A. 该国近一半的商界领袖说他们会雇佣在网络高等教育获得学位的人到自己的公司工作
- B. 私营企业对网络高等教育的毕业生的信任度越来越高
- C. 目前，网络高等教育注册人数的增长速度比以往有所放缓
- D. 该国 77% 的公民称传统高等教育能提供最高质量的教育

86. 近日来，由于南方持续降雨，导致很多人工养鱼池被淹。因此，有几位养鱼专家就鲫鱼和鲤鱼的价格走势进行预测：

李强说：只有鲫鱼价格上涨，鲤鱼价格才会上涨；

孙振说：鲫鱼和鲤鱼的价格至少有一种会上涨；

王刚说：只有鲤鱼价格不上涨，鲫鱼价格才不上涨；并且如果鲤鱼价格不上涨，则鲫鱼价格不上涨。

假如事实证明三位专家的预测均为真，则以下哪项必须为真？（ ）

- A. 鲫鱼价格上涨，鲤鱼价格不上涨 B. 鲫鱼价格不上涨，鲤鱼价格上涨
C. 鲫鱼和鲤鱼的价格都上涨 D. 鲫鱼和鲤鱼的价格都不上涨

87. 某市举办民间文化艺术展演活动，小李、小张、大王 and 老许将作为剪纸、苏绣、白局和昆曲的传承人进行现场展演，每人各展演一项，展演按序一一进行。主办方还有如下安排：

- (1) 老许的展演要排在剪纸和苏绣的后面；
- (2) 白局、昆曲展演时，小李只能观看；

(3) 大王的展演要排在剪纸前面；

(4) 小张的展演要排在昆曲和老许展演前面。

根据上述安排，可以得出以下哪项？（ ）

- A. 小李展演剪纸，排在第 1 位
- B. 大王展演苏绣，排在第 2 位
- C. 小张展演昆曲，排在第 3 位
- D. 老许展演白局，排在第 4 位

88. 所有向日葵都是向阳的，这棵植物是向阴的，所以这棵植物不是向日葵。

上述推理的形式结构与以下哪项最为类似？（ ）

- A. 所有职业短跑运动员都穿钉鞋，小李不是职业短跑运动员，所以小李不穿钉鞋
- B. 所有纳税人都有存款，这位姑娘有存款，所以这位姑娘是纳税人
- C. 所有法警都在法院工作，小王在法院工作，所以小王是法警
- D. 所有铅笔的外壳都是木头做的，这支笔是铝做的，所以这支笔不是铅笔

89. 实验发现，少量口服某种类型的安定药物，可使人们在测谎器的测验中撒谎而不被发现。测谎器所产生的心理压力能够被这类安定药物有效地抑制，同时没有显著的副作用。因此，这类药物可同样有效地减少日常生活的心理压力而无显著的副作用。

以下哪项最可能是题干的论证所假设的？（ ）

- A. 任何类型的安定药物都有抑制心理压力的效果
- B. 如果禁止测试者服用任何医药，测谎器就可以得到完全准确的测试结果
- C. 测谎器所产生的心理压力与日常生活人们面临的心理压力类似
- D. 大多数药物都有副作用

90. 田里的韭菜、蒜都有绿叶，但在暗房里培养出来的韭黄、蒜黄是黄的。把一株生长在户外有绿叶的植物移入暗室，叶子的绿色会渐渐退去，把它移出户外，则绿色逐渐恢复。户外的野草是绿的，但在石头下生长的草却不是绿色的。

由此可知（ ）。

- A. 植物的叶子有绿色的，也有黄色的
- B. 植物的叶子的颜色是随时变化的
- C. 阳光照射下植物才会长得好
- D. 阳光照射是植物叶子变绿的条件

91. 某中学甲班学生中，所有喜欢奥数的同学也都喜欢下围棋。

若以上陈述为真，再加上以下哪项?则可以合乎逻辑地推出：有些喜欢看话剧的同学不喜欢奥数。（ ）

- A. 有些喜欢看话剧的同学也喜欢下围棋
- B. 有些喜欢奥数的同学不喜欢看话剧
- C. 有些不喜欢下围棋的同学喜欢看话剧
- D. 有些不喜欢看话剧的同学喜欢下围棋

92. 许多大城市的中小学校门口，在每天早晚交通高峰期，都能看到接送孩子的车队长龙。有人认为，开车

接送孩子上学是导致交通严重拥堵的原因。

以下哪项如果为真，最能削弱上述观点？（ ）

- A. 由于中小学校车的使用率很低，大量家长都选择驾车接送孩子上学
- B. 寒暑假期间早高峰的交通拥堵程度降低 20%，并且空气污染程度也降低
- C. 大城市的中小学校多位于城市的核心区，车流量和人流量本身就很大
- D. 国家出台了划分学区的政策后，许多孩子可以就近上学

93. 张娘去商店买上衣，售货员问她要哪种颜色的。张娘说：“我不像讨厌黄色那样讨厌红色，我不像讨厌白色那样讨厌蓝色，我不像喜欢粉色那样喜欢红色，我对蓝色不如对黄色那样喜欢。”

张娘选择的颜色是（ ）

- A. 黄色
- B. 蓝色
- C. 红色
- D. 粉色

94. 随着气候变化，肥料和供水导致了极大的能源和环境成本，如何让作物更好地吸收营养和水就显得极其重要。因此不少人认为只要增加植物根毛的长度，就可以更有效地吸收水和养分，从而提高作物产量。

下列哪项如果为真，最能削弱上述结论？（ ）

- A. 实践证明，合理控制光照时间，并保证同一块田地间隔播种作物能极大地提高产量
- B. 根毛的生命很短，仅能存活 2~3 周便自行脱落，由于更新很快，植物的根部总能保持一个数量相对稳定的根毛区
- C. 如果植株过于密集而养料不足，即使增加了根毛长度，也无法保证植物的营养供应
- D. 根毛的长度与植物生长激素密切相关，当植物生长激素分泌旺盛时，根毛也变长；而生长激素分泌减少时，根毛也逐渐萎缩

95. 睡眠监测软件靠谱吗?一款监测睡眠的手机 APP，下载后将手机塞在枕头下，早晨醒来，软件就会自动统计数据，全面反馈使用者一夜的睡眠情况。但结果显示，这款睡眠监测软件是没法实现睡眠的准确监测和判断的。

以下哪项如果为真，最不能解释上述矛盾现象？（ ）

- A. 对于 90% 以上的原发性失眠患者而言，调整睡眠的核心应在于心理
- B. 使用睡眠软件时会不自觉地用手机上网聊天，导致过度兴奋睡不着
- C. 使用睡眠软件会把正常睡眠中的定时翻身计入浅睡眠或者觉醒时间
- D. 手机的光亮会刺激眼睛，影响软件使用者大脑内褪黑素的分泌情况

※※※第三部分结束,请继续做第四部分!※※※

第四部分 资料分析

此部分共有 15 题，请根据给出的资料进行分析、比较、计算，处理。

(一) 根据下列资料，回答第 96—100 题

某高校各专业毕业人数及在校人数统计表

专业	2015 年		2016 年	
	毕业人数	在校人数	毕业人数	在校人数
哲学	9	54	10	66
经济学	573	3599	659	4664
法学	615	3879	800	4748
教育学	526	3745	798	4703
文学	1578	10593	1985	13683
历史学	102	534	98	556
理学	1158	7163	1315	8522
工学	3491	24912	4598	30850
农学	285	1860	363	2160
医学	626	5294	795	6566
管理学	1399	10275	1932	13817

96. 2016 年该市高校学生在校人数最多的专业是 ()

A. 经济学

B. 教育学

- C. 文学 D. 工学
97. 2015 年的毕业生中，文学专业所占的比例大概是（ ）
- A. 10% B. 12%
C. 15% D. 18%
98. 下列说法正确的是（ ）
- A. 与 2015 年相比，2016 年各专业毕业人数都有不同程度的上升
B. 2015 年在校人数较多的三个专业占当年总在校人数大半
C. 与 2015 年相比，2016 年理学专业毕业生的增长率比法学的高
D. 与 2015 年相比，2016 年文学专业在校人数的增长率比管理学的高
99. 2016 年与 2015 年相比，在校生增长率超过 25% 的专业有（ ）个
- A. 3 B. 4
C. 5 D. 6
100. 与 2015 相比，2016 年毕业人数增长率最高的专业是（ ）
- A. 经济学 B. 管理学
C. 教育学 D. 历史学

（二）根据下列材料，回答第 101-105 题。

国家工商总局公布的数据显示，2009 年第一季度，全国工商行政管理机关共查处各类违法违章案件 68202 件，同比下降 29.98%；其中立案查处案件 49654 件，同比下降 32.26%，案件总值 33.57 亿元，同比下降 21.26%，罚没金额 3.33 亿元，同比下降 39.49%。

从违法法规看，违反企业登记管理法规案件 9216 件，同比下降 38.54%；违反产品质量法规案件 6760 件，同比下降 27.51%；违反反不正当竞争法规案件 4944 件，同比增长 6.51%；违反商标法规案件 4119 件，同比下降 21.93%；违反广告法规案件 2141 件，同比下降 24.27%；违反消费者权益保护法规案件 1644 件，下降 13.66%；违反合同法规案件 156 件，同比下降 57.02%。

从违法主体看，在立案查处的案件中，个体工商户案件 22142 件，同比下降 22.73%；自然人案件 12472 件，同比下降 49.04%；公司案件 6521 件，同比下降 21.73%；私营企业案件 3975 件，同比下降 22.27%；集体企业案件 728 件，同比下降 45.26%。

101. 若保持同比下降率不变，预计 2010 年第一季度全国立案查处案件数将（ ）。
- A. 接近 4.8 万 B. 接近 3.4 万
C. 接近 1.6 万 D. 接近 2.1 万

102. 2009 年第一季度，违反产品质量法规案件减少量是违反商标法规案件减少量的几倍？（ ）

- A. 1.25
- B. 1.56
- C. 1.77
- D. 2.22

103. 2009 年第一季度，各类违法主体占立案查处案件比重的最高值与最低值相差多少？（ ）

- A. 43.13%
- B. 36.62%
- C. 31.40%
- D. 26.67%

104. 下列说法与资料相符的有几个？（ ）

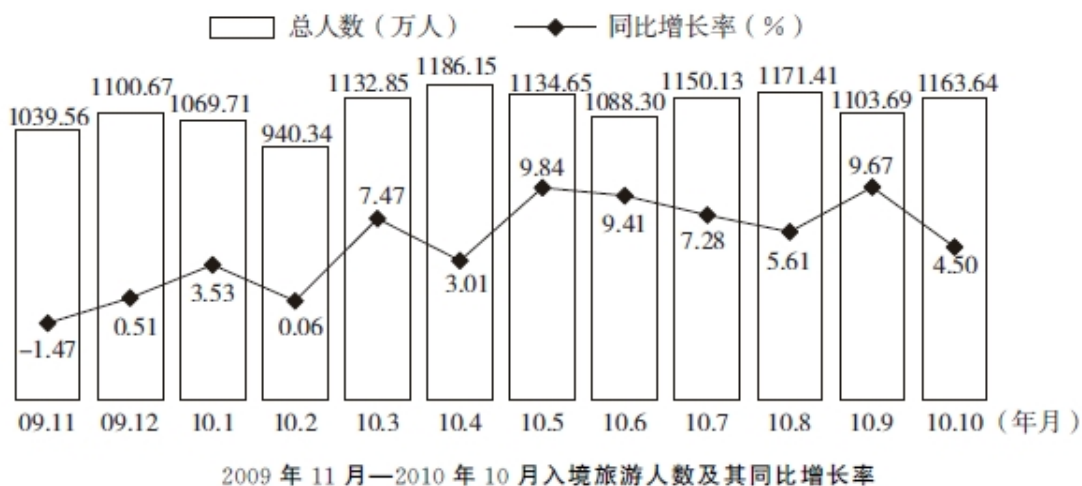
- (1) 2009 年第一季度，罚没金额同比下降率大于案件总值同比下降率
- (2) 2008 年第一季度，违反合同法规案件为 353 件
- (3) 2009 年第一季度，公司案件数大于私营企业案件与集体企业案件数之和

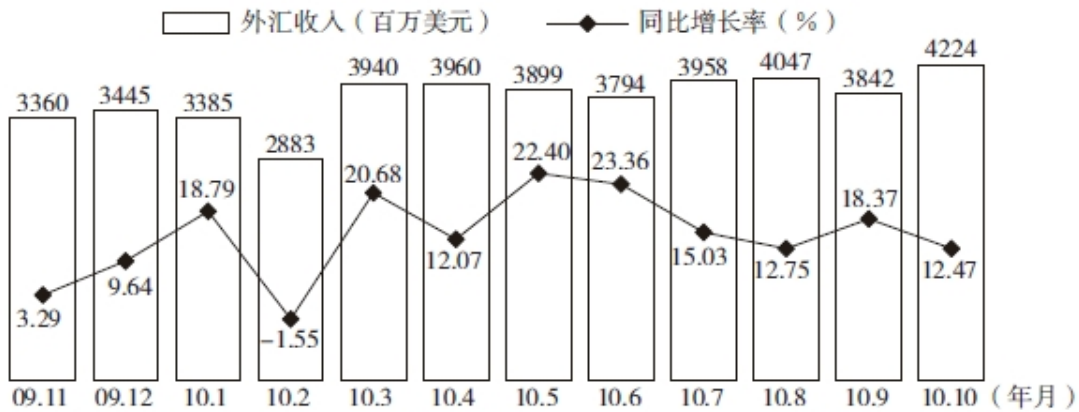
- A. 0
- B. 1
- C. 2
- D. 3

105. 根据上述资料，以下描述不正确的是（ ）。

- A. 2009 年第一季度，自然人案件与集体企业案件同比下降均超过 40%
- B. 2009 年第一季度，违反广告法规案件占各类违法违章案件的比重约为 3.14%
- C. 2009 年第一季度，违反各类法规案件与去年同期相比均有下降
- D. 2009 年第一季度，违反反不正当竞争法规案件数量大约是违反消费者权益保护法规案件数量的 3 倍

(三) 根据下列材料，回答第 106-110 题





2009年11月—2010年10月入境旅游外汇收入及其同比增长率

106. 2010年10月入境旅游总人数比2009年10月多()。

- A. 61.29万人
- B. 52.36万人
- C. 50.11万人
- D. 42.77万人

107. 2009年11月-2010年10月入境旅游人均消费支出最高的月份是()。

- A. 2009年12月
- B. 2010年6月
- C. 2010年9月
- D. 2010年10月

108. 2009年12月-2010年10月入境旅游外汇收入月增长额最多的是()。

- A. 20.68亿元
- B. 10.57亿元
- C. 8.12亿元
- D. 5.13亿元

109. 2010年10月入境旅游人均消费支出同比增长()。

- A. 7.63%
- B. 9.12%
- C. 10.87%
- D. 12.47%

110. 下列说法正确的有()。

- ①2月份是2009年11月-2010年10月入境旅游最淡的月份
- ②2010年前三季度入境旅游外汇收入同比增长率高于12%
- ③2009年11月-2010年10月，只有一个月的入境旅游人均消费支出同比增长率为负数

- A. 0个
- B. 1个
- C. 2个
- D. 3个