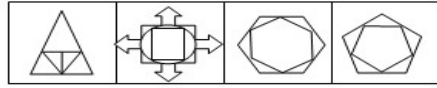
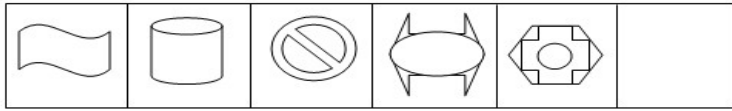


1.从所给的四个选项中，选择最合适的一个填入问号处，使之呈现一定的规律性

( )



A B C D

2.从所给的四个选项中，选择最合适的一个填入问号处，使之呈现一定的规律性

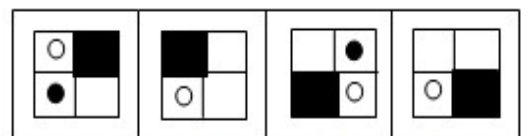
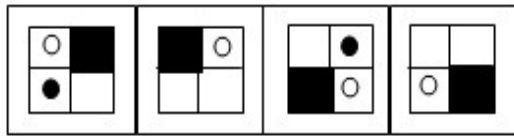
( )



A B C D

3.从所给的四个选项中，选择最合适的一个填入问号处，使之呈现一定的规律性

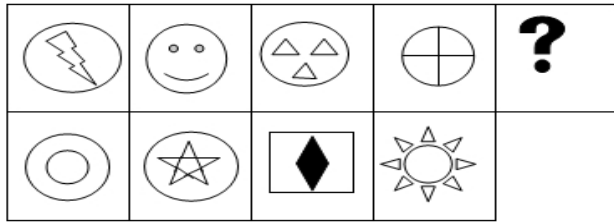
( )



A B C D

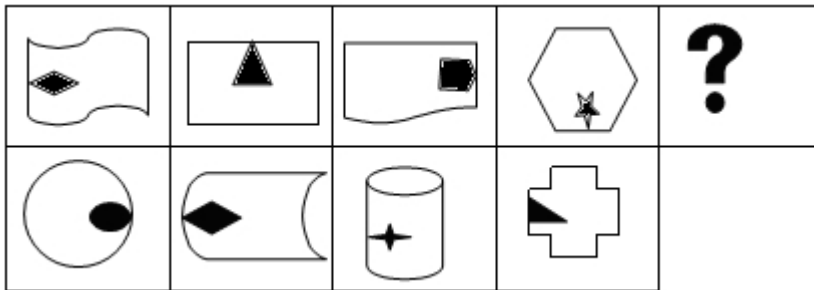
4.从所给的四个选项中，选择最合适的一个填入问号处，使之呈现一定的规律性

( )



A      B      C      D

5. 从所给的四个选项中，选择最合适的一个填入问号处，使之呈现一定的规律性 ( )



6. 信息化战争是一种战争形态，是指在信息时代核威慑条件下，交战双方以信息化军队为主要作战力量，在陆、海、空、天、电等全维空间展开的多军兵种一体化的战争，大量的运用具有信息技术，新材料技术，新能源技术，生物技术，航天技术，海洋技术等当代高新技术水平的常规的武器装备，并采取相应的作战方法，在局部地区进行的，目的手段规模均较有限的战争。简单地说，它是敌我双方在信息领域中争夺信息控制权的战争。其作战对象主要不是人，而是对方的各种信息系统以及与之有关的各项设施，其任务是获取、管理、使用和控制各种信息，同时防止对方获取和有效地使用各种信息。

下列哪一项不属于信息化战争 ( )

A. 甲乙两国交战初期，甲国的“军事黑客”就侵入了乙国的信息系统，并成功植入病毒，导致对方信息指挥系统的瘫痪。

B.军事演习中，某侦查连成功突破敌方防线，完整获知了敌方阵地的火力配置，并将火力配置信息发回指挥部，帮助部队成功夺取了敌方阵地。

C.海湾战争期间，美国多次派无人侦察机到海湾地区进行巡航，获取了大量的地面军事设施分布情况的信息。

D.总攻之前，A集团军开启所有的军事雷达，不间断的向B集团军发送干扰信号，致使B集团军信息传输中断。

7. 米格-25 效应：前苏联研制的米格-25 喷气式战斗机的许多零部件与美国的相比都落后，但因设计者考虑了整体性能，故能在升降、速度、应急反应等方面成为当时世界一流。即所谓最佳整体，乃是个体的最佳组合。

下列哪一项属于米格-25 效应（ ）

A.NBA 中很多豪门球队都不惜重金追逐巨星，并围绕巨星进行球队的组建。

B.历史上有名的田忌赛马的故事中，孙膑采取“下驷战上驷，上驷战中驷，中驷战下驷”的策略，对劣势资源进行合理组合而赢得最终胜利。

C.现代公司越来越注重部门的专业化，但这带来的后果是公司组织臃肿。

D.小明作为校辩论队队长，率队在全国大学生辩论赛中一举夺得冠军，为学校争得了荣誉。

8. 具体行政行为，是指国家行政机关和行政机关工作人员、法律法规授权的组织、行政机关委托的组织、或者个人在行政管理活动中行使行政职权，针对特定的公民、法人或者其他组织，就特定的具体事项，作出的有关该公民、法人或者其他组织权利义务的单方行为。简而言之，即指行政机关行使行政权力，对特定的公民、法人和其他组织作出的有关其权利义务的单方行为。

下列哪一项属于具体行政行为（ ）

A.国家号召大力发展生态农工业。

B.近日北京市交管部门出台规定，对行人闯红灯处罚开始正式执行，行人闯红灯一次当场处罚 10 元。

C.市民政局与某家具企业签订购买办公家具的合同。

D.市公安局决定，给予见义勇为模范个人小李 10 万元奖励。

9. 监护：指依照法律规定，对未成年人、无民事行为能力或限制民事行为能力的人的精神病人的人身、财产及其他合法权益进行监督和保护的法律制度。其目的是为了保护无行为能力人和限制行为能力人的一切合法权利，保护正常的社会经济秩序。

下列不属于监护的是（ ）

A.小王的父母死后把遗产分给小王和精神失常的姐姐，小王先替姐姐保管其财产，并负责其吃穿住行。

B.彤彤是一个多才多艺的孩子，在他们小县城很出名，未经彤彤家长的同意，有些商家利用彤彤的照片做广告代言，彤彤父母知道后将这些商家告上了法庭。

C.欣欣今年 10 岁，因交通事故撞伤了双腿，其父母向肇事司机索赔医药费。

D.上小学的仔仔，在学校被人欺负，他爸爸找到学校，把欺负儿子的人打了一顿。

10. 非条件反射是指人生来就有的先天性反射。条件反射是人出生以后在生活过程中逐渐形成的后天性反射，是在非条件反射的基础上，经过一定的过程，在大脑皮层参与下完成的，是一种高级的神经活动，是高级神经活动的基本方式。

下列属于条件反射的是（ ）

A.婴儿一出生就会吮乳。

B.叩击人的膝盖，小腿就会弹起。

C.吃了山楂后，就会分泌唾液。

D.当年曹操的士兵没有吃过梅子，但是听说梅子是酸的，并且前方有梅林，都流下了口水。

11. 所有人都有心脏病突然发作的可能，防范心脏病的突然发作不应是那些拥有心脏病史的人的“专利”。只有在心脏病第一次突然发作时挺过来的人，才能够“幸运”地拥有自己的心脏病史。据此，可以推出：

A. 如果一个人能够“幸运”地拥有自己的心脏病史，那么他一定是在心脏病第一次突然发作时挺过来的人

B. 如果一个人能够“幸运”地拥有自己的心脏病史，那么他一定在自己心脏病第一次突然发作时没有挺过来

C. 没有心脏病史的人不需防范心脏病的突然发作

D. 只有时刻防范心脏病的突然发作，才能在心脏病突然发作时挺过来

12. 《天天快报》报社组织拓展训练，最后一天对所有参加拓展的员工进行考核。如果考核结果达到3分或3分以上，记为优秀。在考核之前，有几个人就成绩讨论起来。

陈东说：“小军、小霞身体素质都不错，他们俩至少有一个优秀。”

牛力说：“训练的时间太短，大家练习都不够，这次没有人能得优秀。”

马方说：“怎么可能呢？有人以前就参加过训练，他们一定能得优秀。”

假设这三个人只有一个人的猜测得到了验证，那么一定可以推出以下哪项结论？

A. 牛力说的对，参加拓展的报社成员没有人得优秀

B. 没法确定对错，但所有训练成员都得到优秀

- C. 马方说的对，有人获得了优秀，但也有人优秀
- D. 陈东说的不对，小霞没有得到优秀

13. 某校食堂发生一起严重的食物中毒事故，关于事故的原因，有如下四种说法：

甲：事故是由食物过期引起的

乙：如果事故是由食物过期引起的，那么食堂管理方面一定存在着监管不到位的现象

丙：事故确实是由食物过期引起的，但食堂管理方面并不存在监管不到位的现象

丁：事故不是由食物过期引起的，但食堂管理方面存在监管不到位的现象

如果上述四种说法中只有一种是真的，由此可以推出（ ）。

- A. 乙为真，且食堂存在监管不到位的现象
- B. 乙为真，但食堂没有存在监管不到位的现象
- C. 甲为真
- D. 丙为真

14. 某研究机构调查分析了 208 名有心痛和心律不齐等症状的病人，在开始接受手术治疗时，通过问卷报告了自己对病情的看法，其中约 20% 的人非常担忧病情会恶化，有的人甚至还害怕因此死亡，其他人就没有那么多担忧。后来随后调查表明，那些手术前有严重担忧情绪的人术后半年复发率高于其他人。研究人员认为担忧情绪不利于心脏病的康复。

以下哪项如果为真，最能支持上述结论？

- A. 有研究表明担忧情绪会抑制大脑前额叶皮层活动，使人更抑郁

- B. 研究人员发现那些有严重担忧情绪的人更关注自己的健康状况
- C. 那些有严重担忧情绪的人血液中含有加重心脏病风险的化学物质
- D. 担忧情绪对健康是一个潜在威胁，会导致癌症，糖尿病等多种疾病

15. 土家狗是一种仅仅在美国南部生活的无毛小型野兽。在人类定居美国南部之前，土家狗的天敌都不强大，因此土家狗在美国南部繁衍旺盛。当人类开始猎取它们之后，土家狗灭绝了。因此，肯定是人们对它们的猎取导致了其灭绝。

下面哪项如果为真，最严重地削弱了上文中的推理？

- A. 人类在美国南部定居的同时，也带来了新的可能是土家狗天敌的物种
- B. 在第一批人类定居美国南部以来，土家狗在美国南部的某些地区仍旧存在了约300年
- C. 土家狗的一些品种跑得比豹类还快
- D. 在美国南部人们猎取了另一种容易被天敌捕食但从来没有灭绝的哺乳动物

1. 【答案】B.

【解析】本题属于数量类。题干中每幅图中包含的封闭空间的数量分别为 1、2、

3、5、8，即从第三幅图开始，每幅图包含的封闭空间数等于前两幅图中封闭空间的数量之和，所以第6幅图应包含13个封闭空间。所以选择B选项。

2. 【答案】D.

【解析】本题属于数量类。题干中，第一段中三幅图的最少笔画数分别是1、2、1整体对称；第二段中前两幅图的最少笔画数是1、2，所以第3幅图的最少笔画数应为1。所以选择D选项。

3. 【答案】A.

【解析】本题属于位置类。题干中给出的图形从左到右是黑色阴影按逆时针方向、黑白小圆点按顺时针方向旋转，每次移动一个格。所以选择A选项。

4. 【答案】B

【解析】本题属于数量、样式类，第一幅图中相同元素是一，第二幅图有两个相同的元素，第三幅图有三个相同的元素，第四幅图有四个相同的元素，那么第五幅图有五个相同的元素，所以选B选项。

5. 【答案】C

【解析】本题属于位置类，每一幅图都由两个元素构成，同时第一幅图小元素位于大元素的左边，第二幅图位于上边，第三幅图位于右边，第四幅图位于下边，那么第5幅图应该位于左边，可以排除A。同时每幅图的接触点都是直线，那么把B选项排除，再者接触的位置都是点接触，把D选项排除，所以选C选项。

6. 【答案】B



【解析】解题的关键在于信息化战争中交战双方以信息化军队为主要作战力量，在信息领域中争夺信息控制权的战争。A项甲国的“军事黑客”是信息部队的典型代表，其摧毁对方信息指挥系统是信息领域的战斗，符合定义；B项侦查连并不是信息部队；C项无人侦查机侦查地面军事信息符合定义；D项雷达部队是信息部队，进行电子干扰是信息战。正确答案是B。

7. 【答案】B

【解析】解题的关键在于米格-25效应强调最佳整体，乃是个体的最佳组合。A项强调的是巨星的重要，即个人的重要而不是整体的重要；B项田忌赛马正是强调了整体的重要性，符合定义；C项无关项；D项小明是个体，其取得的成绩说明了个体的重要性。正确答案是B。

8. 【答案】D

【解析】解题的关键是具体行政行为是国家行政机关和行政机关工作人员、法律法规授权的组织、行政机关委托的组织、或者个人，对特定的主体的权利义务，就特定事项作出的单方行为。A项国家只是在号召，并无特定对象和特定事项；B项具体处罚谁并不确定，即无特定对象；C项民政局只是作为一民事主体，并无行使行政职权；D项公安局作为行政主体，对见义勇为模范小李，决定奖励10万元，符合具体行政行为定义。正确答案为D。

9. 【答案】D

【解析】保护对象是“未成年人”、“无民事行为能力人”、“限制民事行为能力的精神病人”，保护的是人身、财产及其他合法权益。A选项是保护的是精神病人的财产，B选项保护的是未成年人的肖像权。C选项保护的是未成年人的合法权益。D选项不对，不符合保护正常的社会经济秩序，所以选D选项。

10. 【答案 D

【解析】A、B、C 的反射都是先天就有的，不需要学习就会的，属于非条件反射。而 D 选项中的反射不是先天就有的，首先士兵先知道酸是什么味道，才会流口水，属于条件反射。

11. 【答案】A

【解析】第一步，确定题型。根据题干关联词“只有……才……”，确定为翻译推理。第二步，翻译题干。①心脏病史→挺过来。第三步，进行推理。A 项，心脏病史→挺过来，该项肯定了①的前件，根据“肯前必肯后”，可以得到“挺过来”，可以推出；B 项，心脏病史→-挺过来，该项肯定了①的前件，但否定了①的后件，违背了“肯前必肯后”的推理规则，排除；C 项，-心脏病史→-防范，根据题干“防范心脏病的突然发作不应是那些拥有心脏病史的人的‘专利’”，可知没有心脏病史的人也应该防范心脏病的突然发作，排除；D 项，挺过来→时刻防范，题干未提及“挺过来”与“时刻防范”的关系，排除。因此，选择 A 选项。

12. 【答案】D

【解析】第一步，确定题型。题干有若干论断和真假限定，确定为真假推理。第二步，找关系，牛力和马方的话为矛盾关系。第三步，看其余。根据矛盾关系的特性“必定一真一假”，可知牛力与马方的话“必定一真一假”，又知只有一个人的猜测为真，则陈东的猜测为假，所以小军和小霞都没得优秀。因此，选择 D 选项

13. 【答案】B

【解析】第一步，本题考查真假推理。第二步，逻辑运算型。乙说的话意味着食物过期→监管不到位，乙的话为假意味着食物过期且不存在监管不到位，即丙的观点，所

以乙、丙的命题矛盾，不能同真，也不能同假，甲、丁的说法必定是假的，所以否定了食物过期这个理由，且食堂监管方面不存在不到位的现象，因此乙为真。本题选 B。

14. 【答案】C

【解析】本题考查加强论证。论点：担忧情绪不利于心脏病的康复。论据：术前严重担忧情绪的人术后半年复发率高于其他人。A 项中，只是说情绪与抑郁之间的关系，没有提到心脏病，无关项，无法加强；B 项中，有担忧情绪的人关注自己的健康状况，并没有说与心脏病的关系，无关项，无法加强；C 项中，有严重担忧情绪的人血液中含有加重心脏病风险的化学物质，进而为论点和论据进行了搭桥，起到了加强的作用，可以加强；D 项中，担忧情绪会导致癌症、糖尿病等疾病，没有提及心脏病，无法加强。

15. 【答案】A

【解析】题干中的论点是：人类猎取导致土家狗的灭绝是一个因果关系的论点，那么观察选项会发现，A 选项说的是人类在美国南部定居的同时，也带来了新的可能是土家狗天敌的物种，这句话的意思是并不是人类的猎取导致的土家狗的灭绝，而是土家狗的天敌导致土家狗的灭绝，这属于我们削弱论证里面的另有他因进行削弱，这其实就是增加了一个反论据，所以选 A 因此，本题答案为 A 选项。



关注“天津华图”微信公众号：[tjhuatu](https://www.tjhuatu.com)

后台回复“**时政**”可获取最新时政信息

# 2020 国考暑期登陆计划

仅售29.9元 原价1999元



61场直播课充实你的暑假 直播配纸质版讲义

日期	直播课主题	课程类别	日期	直播课主题	课程类别
6月11日	国考笔试考情考情	考情课	7月2日	8小时备考计划	申论课
6月23日-4日	2019国考申论真题逐题精讲	申论课	7月3日	申论作文立意多少	申论课
6月7日	申论申论大纲解读	申论课	7月4日	申论作文立意多少	申论课
6月8日	申论申论大纲解读	申论课	7月5日	申论作文立意多少	申论课
6月9日	申论申论大纲解读	申论课	7月6日	申论作文立意多少	申论课
6月10日	申论申论大纲解读	申论课	7月7日	申论作文立意多少	申论课
6月11日	申论申论大纲解读	申论课	7月8日	申论作文立意多少	申论课
6月12日	申论申论大纲解读	申论课	7月9日	申论作文立意多少	申论课
6月13日	申论申论大纲解读	申论课	7月10日	申论作文立意多少	申论课
6月14日	申论申论大纲解读	申论课	7月11日	申论作文立意多少	申论课
6月15日	申论申论大纲解读	申论课	7月12日	申论作文立意多少	申论课
6月16日	申论申论大纲解读	申论课	7月13日	申论作文立意多少	申论课
6月17日	申论申论大纲解读	申论课	7月14日	申论作文立意多少	申论课
6月18日	申论申论大纲解读	申论课	7月15日	申论作文立意多少	申论课
6月19日	申论申论大纲解读	申论课	7月16日	申论作文立意多少	申论课
6月20日	申论申论大纲解读	申论课	7月17日	申论作文立意多少	申论课
6月21日	申论申论大纲解读	申论课	7月18日	申论作文立意多少	申论课
6月22日	申论申论大纲解读	申论课	7月19日	申论作文立意多少	申论课
6月23日	申论申论大纲解读	申论课	7月20日	申论作文立意多少	申论课
6月24日	申论申论大纲解读	申论课	7月21日	申论作文立意多少	申论课
6月25日	申论申论大纲解读	申论课	7月22日	申论作文立意多少	申论课
6月26日	申论申论大纲解读	申论课	7月23日	申论作文立意多少	申论课
6月27日	申论申论大纲解读	申论课	7月24日	申论作文立意多少	申论课
6月28日	申论申论大纲解读	申论课	7月25日	申论作文立意多少	申论课
6月29日	申论申论大纲解读	申论课	7月26日	申论作文立意多少	申论课
6月30日	申论申论大纲解读	申论课	7月27日	申论作文立意多少	申论课
7月1日	申论申论大纲解读	申论课	7月28日	申论作文立意多少	申论课
7月2日	申论申论大纲解读	申论课	7月29日	申论作文立意多少	申论课
7月3日	申论申论大纲解读	申论课	7月30日	申论作文立意多少	申论课
7月4日	申论申论大纲解读	申论课	7月31日	申论作文立意多少	申论课



精美讲义  
包邮到家

设置专属微信群，为你的备考保驾护航  
(凭订单截图联系小图拉你进群)



扫码购买