

2022 年军队文职招录考试

入职手册

华图教育部队事业部 编著

目 录

第一章 军队文职简介.....	1
第二章 军队文职报考条件.....	5
第三章 军队文职考情考务.....	8
第四章 军队文职笔试备考指导.....	13
第五章 军队文职面试备考指导.....	44



第一章 军队文职简介

1.军队文职人员身份属性是怎么规定的？

2017年国务院、中央军委颁布实施新《中国人民解放军文职人员条例》，这是贯彻习近平强军思想，健全完善军事人力资源政策制度的重大创新成果，是建立统一的文职人员制度的重要基础法规，对军队现代化建设和长远发展具有十分重要的意义。

根据改革后文职人员的职能定位和国家有关法律法规，新《条例》从两个方面对文职人员身份作了明确。在国家层面，文职人员依法享有国家工作人员相应的权利，履行相应的义务。在军队层面，文职人员是在军队编制岗位从事管理工作和专业技术工作的非现役人员，是军队人员的组成部分。

(例如：军队医院的医护人员、军队院校的非军事科目教员、军事研究所的科研人员，等等)。

2.文职人员的职能使命是什么？

根据改革后对文职人员提出的使命要求，参照国际通行做法，文职人员平时履行相应岗位职责，根据需要参加军事训练和非战争军事行动，承担相应的作战支援保障任务，依法服现役。

3.军队文职人员岗位的类型和等级是如何设置的？

军队文职人员岗位分为管理和专业技术两类。其中，管理岗位是指担负领导职责或者管理任务的工作岗位，岗位等级由高到低设置9个等级，即部级副职、局级正职、局级副职、处级正职、处级副职、科级正职、科级副职、科员、办事员；专业技术岗位是指从事专业技术和专业技术工作，具有相应专业技术、专业技能水平和能力要求的工作岗位，分为高级、中级、初级岗位，由高到低设一级至十三级。

4.军队文职人员职业发展方面是如何规定的？

军队文职人员职业稳定，发展路径顺畅，发展空间广阔。

一是培训体系。为提高军队文职人员可持续职业能力，确保军队文职人员素质始终适应工作需要，军队文职人员培训纳入军队人员培训体系，并接受军事职业教育，区分岗前培训、在岗培训、专业培训和任务培训四种类型分级分类组织实施。军队可以利用国家和社会资源对军队文职人员进行教育培训。

二是考评机制。军队文职人员考核评价突出思想品德、业务水平和工作实绩，坚持靠素质立身、凭实绩发展的政策导向。军队文职人员的考核类型分为平时考核、年度考核、聘期考核，以及试用期考核、晋升领导职务的任职前考核等。

三是任用交流。军队文职人员实行委任制和聘用制相结合的任用方式。军队文职人员可以在用人单位内部交流，工作特别需要的也可以在本专业领域跨用人单位交流。

四是等级调整。军队文职人员晋升岗位等级，在现等级岗位任职的最低年限：管理岗位局级正职、局级副职分别为 5 年，处级正职至科级正职分别为 4 年，科级副职以下分别为 3 年；专业技术高级、中级、初级岗位，分别为 4 年、4 年、3 年。军队文职人员的岗位等级，一般应当逐级晋升。表现特别优秀的可以提前晋升，表现特别优秀、工作特别需要的可以越级晋升。

五是退出政策。军队文职人员符合国家和军队规定退休条件的，应当退休。工作特别需要的，可以适当延长退休年龄，但是不得超过规定年龄 5 周岁。军队文职人员退休年龄统一按国家和军队规定执行；军队文职人员退出军队后享受国家和军队规定的相应待遇，转移接续各种社会保障关系。实行委任制的军队文职人员辞职，或者被用人单位辞退的，按照军队有关规定办理；实行聘用制的军队文职人员解除、终止聘用合同，或者用人单位解除、终止聘用合同的，按照军队有关规定办理。

5.军队文职人员教育管理有哪些规定？

根据军队特殊要求和军队文职人员身份特点，按照与现役军人有统有分的原则，对军队文职人员进行教育管理。其中，在思想政治教育、党团组织管理、安全保密、因公出境、档案管理等方面，与现役军人一样要求。在入职宣誓、因私出境、人事争议处理等方面，实行军队文职人员特有的、与国家工作人员相衔接的管理制度。

在工作时间上，按照国家机关、事业单位工作人员工作时间有关规定执行，通常不参加早操。

在休假探亲上，参照国家机关、事业单位工作人员有关规定执行；执行军委下达的专项任务累计时间超过6个月的，任务期休息日和节假日未休息天数可累加计入本人当年假。

在因私出境上，军队文职人员可以利用休假探亲时间出境旅游，每年不超过两次。

同时，军队文职人员按军队统一规定着制式服装，佩戴相应标志服饰。对作出突出贡献的军队文职人员，按照国家和军队有关规定给予表彰和奖励，授予相应荣誉；对违反军队纪律的军队文职人员按照军队有关规定给予处分。

6.军队文职人员待遇保障主要有哪些方面？

军队文职人员待遇保障政策按照高于地方同类人员、具有比较优势的思路设计，主要体现在四个方面：

一是工资待遇。以现役军官为参照系，军队建立统一的军队文职人员工资制度，工资待遇综合比公务员高出35%左右。

二是住房保障。实行社会化、货币化保障政策，军队文职人员可以租住用人单位的宿舍，符合条件的可以租住公寓住房；军队文职人员的住房公积金、住房补贴和房租补贴参照现役军官政策确定的标准执行，符合规定条件的人员，军队可以增发住房补助。

三是社会保险。用人单位及其军队文职人员参照国家公务员和事业单位工作人员办法，

参加所在地社会保险。军队根据国家有关规定，为军队文职人员建立补充保险。平时看病享受社保待遇，军队给予医疗补助；执行军事任务期间免费医疗。

四是福利抚恤。健康体检、子女入托等普惠性福利待遇，军队文职人员与现役军官同等享受。平时抚恤执行国家工作人员有关规定，参加军事任务伤亡的抚恤优待执行现役军人政策。

军队文职人员工资（试用期）		
学历	高校毕业生（元）	社会人才（元）
博士	8500	9000
硕士	7600	8000
本科	7200	7600
专科	7000	7400

(试用期工资为转正后的 80%，以上数据是大概平均值，岗位职级不同有相应差异)

第二章 军队文职报考条件

1. 招考对象为哪些人员？

军队文职人员的招考对象为普通高等学校毕业生或者社会人才。其中：普通高等学校毕业生包括应届毕业生和非应届毕业生，应届毕业生是指在报考当年规定日期前取得相应毕业证和学位证的毕业生；非应届毕业生是指在两年择业期内未落实工作单位，其户口、档案、组织关系仍保留在原毕业学校，或者保留在各级毕业生就业主管部门（毕业生就业指导服务中心）、各级人才交流服务机构和各级公共就业服务机构的毕业生。

定向招考对象为军队烈士、因公牺牲军人的配偶子女以及现役军人配偶。

2. 报考人员应当具备哪些条件？

(1) 政治条件。符合《军队聘用军队文职人员政治考核工作规定》明确的政治条件。

(2) 学历条件。报考人员应当具有普通高等学校全日制本科以上学历。报考在艰苦边远地区、岛屿的岗位，以及特殊岗位可不作全日制要求。驻艰苦边远地区、岛屿的单位定向招考军队烈士、因公牺牲军人的配偶子女以及现役军人配偶，除教学、科研、工程、医疗专业技术岗位外，报考学历要求可以放宽至大学专科。报考护理、艺术、体育岗位的，可为大学专科以上学历。

(3) 资格条件。报考人员应当具有招考岗位要求的专业技术资格和职业资格。除法律法规明确规定的外，报考初级专业技术岗位，以及博士研究生报考中级专业技术岗位的，不作资格条件要求。

(4) 身体条件。报考人员应当符合军队招录聘用文职人员体格检查的标准条件。

(5) 年龄条件。报考科级副职以下管理岗位或者初级专业技术岗位的，年龄不超过 35 周岁；报考科级正职管理岗位或者中级专业技术岗位的，年龄不超过 45 周岁。

(6) 其他条件。在符合以上基本条件的前提下，具体报考条件由用人单位根据招考岗位需要确定。

3.哪些人员不能报考?

根据军队军队文职人员政治考核有关规定，有下列情形的不得报考军队文职人员：编造或传播有政治性问题言论；参加、支持民族分裂、暴力恐怖、宗教极端等非法组织和活动；与国（境）外政治背景复杂的组织或人员有联系，被有关部门记录在案；曾受到刑事处罚、行政拘留等；有涉及淫秽、色情、暴力和非法组织标志等文身；被开除公职、责令辞职、开除党籍、开除学籍、开除团籍或受到严重纪律处分；家庭成员、主要社会关系成员因危害国家安全受到刑事处罚或为非法组织成员，等等。

4.已与国家、地方和军队用人单位建立劳动人事关系的社会人才能否报考?

征得所在用人单位同意后，可以报考。面试时，本人需提供所在用人单位出具的同意报考的证明（加盖公章）；被确定为拟录用对象的，在签订军队文职人员聘用合同前须与原用人单位解除劳动人事关系。

5.留学回国人员能否报考，有哪些要求?

可以报考。本人在参加面试时需提供国家教育部有关机构出具的学历认证书和我国驻外使（领）馆出具的留学回国人员证明（或者驻香港、澳门特别行政区联络办公室出具的港澳地区学习证明）。

6.非普通高等学历教育的其他国民教育形式的毕业生是否可以报考?

报考在艰苦边远地区、岛屿的岗位，以及特殊岗位可不作全日制要求。

驻艰苦边远地区、岛屿的单位定向招考军队烈士、因公牺牲军人的配偶子女以及现役军人配偶，除教学、科研、工程、医疗专业技术岗位外，报考学历要求可以放宽至大学专科。

报考护理、艺术、体育岗位的，可为大学专科以上学历。

7. 报考人员学历高于招考岗位学历要求的，能否报考？

报考人员应当符合招考岗位要求的学历层次，其中高学历的可以报考低学历要求的岗位，但报考人员应当具有招考岗位要求的学历对应的所学专业。比如，招考岗位中要求限本科学历、所学专业为化学的，硕士和博士研究生报考该岗位的，本科所学专业必须是化学。

8. 专业技术资格以考代评和参加职业资格考试的人员，已通过相关考试但暂未取得相应资格证书的，如何报考？

此类人员网上报名时，专业技术资格和职业资格证书编号一栏，可以用资格考试成绩单编号或者准考证号替代填写。面试时，本人须出具相应专业技术资格和职业资格证书原件或者通过相关考试的成绩单等证明材料，否则不得参加面试。

第三章 军队文职考情考务

1.军队面向社会公开招考军队文职人员按照什么程序进行？

军队面向社会公开招考文职人员，一般按照制定计划、发布信息、资格审查、统一考试、面试体检、政治考核、结果公示、审批备案的程序进行。考试工作由全军统一组织实施。

年份	公告时间	报名时间	报名资格初审	准考证打印	笔试时间	面试/体检
2018	7月10日	7月12-22日	7月12日-22日	8月6-26日	8月26日	10月18日起
2019	3月12日	3月13-20日	3月13-20日	4月10-27日	4月28日	7月5日起
2020	6月15日	7月1-10日	7月12日	8月12-23日	8月23日	10月26日起
2021	4月3日	4月7-13日	4月15日	5月13-23日	5月23日	7月29日起

2.全军统一考试科目是如何设置的，主要考核哪些方面？

全军统一考试内容包括公共科目和1门相应专业科目，主要考核报考人员的综合素质和专业基础。

3.全军统一考试大纲包括哪些科目，如何获取？

全军统一考试大纲分为公共科目和专业科目，其中管理岗位和专业技术岗位共用公共科目考试大纲；专业科目考试大纲区分管理岗位和专业技术岗位两类，按各专业领域和学科门类设置。

专业科目考试大纲分为哲学、经济学、法学、教育学、文学、外国语言文学、历史学、理工学、农学、医学、图书档案学、艺术学、管理学等13类4个专业报考人员可登录军队人才网浏览下载考试大纲。

对专业科目考试大纲没有覆盖的小语种和少数民族语言专业岗位，专业科目笔试按照相

应语种语言本科教育教学大纲命题。



4. 如何选择全军统一考试地点?

全军统一考试地点由报考人员在系统提供的考试城市中自行选择,准考证上将予以标明。

5. 全军统一考试入围人员名单如何确定?

中央军委政治工作部按照 90%考生上线的比例，划定公共科目合格分数线；根据招考岗位入围比例，对达到公共科目合格分数线的，再按照全军统一考试成绩由高到低确定考试入围人员名单，并在军队人才网公布名单。

公共科目或者专业科目单科考试成绩为零分或者缺考的，不列入考试入围人员名单。

对通过报名资格条件审核且取得全军统一考试有效成绩的军烈属等人员，实行加分优待政策。其中，军队烈士、因公牺牲军人的配偶子女，以及未婚军队烈士的兄弟姐妹，公共科目考试成绩加 10 分；现役军人、当年（2021 年）退役军人、在职病故军人和现役干部转改文职人员的配偶子女，以及在军队工作年限满 5 年以上的未纳编原社会招聘文职人员、社会聘用人员和服役年限满 5 年以上且被评为优秀士兵或者获得嘉奖以上奖励的退役优秀大学生士兵，公共科目考试成绩加 5 分。

军队派遣执行一线新冠肺炎疫情防控救治任务的未纳编原社会招聘文职人员、非现役公勤人员、社会聘用人员和退役大学生士兵，在符合上述规定加分条件的基础上，公共科目考试成绩可以再加 5 分。其中，属于军队烈士、因公牺牲军人的配偶子女，以及未婚军队烈士的兄弟姐妹的，累计加分不超过 15 分；属于现役军人、当年（2021 年）退役军人、在职病故军人和现役干部转改文职人员的配偶子女的，累计加分不超过 10 分。

6.如何确定参加面试人员名单？

用人单位对考试入围人员的基本情况、学历学位、专业资质、工作经历、准考证等原件或者证明材料进行审查，依据报考人员参加面试意向、资格条件审查等情况确定面试人员名单，名单由军委机关各部门、各大单位政治工作部门汇总审核。

7.面试主要考核哪些内容，采取什么方式进行？

面试由用人单位或者其上级单位组织实施，主要考核报考人员的业务知识和专业技能，一般采用现场答辩、授课试讲、器械操作、能力测验等方式进行，时间 20 分钟左右，也可

根据实际需要适当延长。

8.报考人员如何获知面试成绩?

面试成绩确定后，由用人单位现场告知报考人员面试成绩。

9.全军统一考试和面试的总成绩如何计算?

全军统一考试的公共科目、专业科目和面试成绩满分均为 100 分，总成绩按百分制折算。其中，公共科目、专业科目、面试成绩分别占 30%、30%、40%。各科目成绩和总成绩可保留到小数点后两位。

10.如何确定预选对象，怎么告知本人?

用人单位按照计划招考人数 1: 1.2 的比例，根据报考人员总成绩由高到低确定预选对象。其中，面试成绩低于 60 分的，不得作为预选对象；总成绩相同的，依次按照面试成绩、专业科目成绩确定排名。用人单位确定预选对象后，将及时告知报考人员是否被确定为预选对象。

11.政治考核和综合考察由谁组织，主要考察什么?

由用人单位组织对预选对象进行政治考核和综合考察。政治考核主要考察政治面貌、宗教信仰、遵纪守法以及主要社会关系等情况，组织涉外安全审查；主要考察现实表现、综合素质和业务能力。

12.如何确定拟录用对象?

对政审考察合格的预选对象，用人单位按照总成绩排名确定拟录用对象名单。

13.拟录用对象如何公示?

拟录用对象名单经军委机关各部门、各大单位政治工作部门统一审核后在本单位军地门户网站和军队人才网同步对外公示。公示内容包括拟录用对象姓名、性别、准考证号、招考岗位和录用分数线，同时公布监督受理电话和电子邮箱，接受社会监督，公示期为 5 天。

14. 报考人员自愿放弃预选对象或者拟录用对象资格的，用人单位能否递补？

报考人员被确定为预选对象或者拟录用对象后，本人自愿放弃录用资格或者经核查不符合录用条件的，用人单位可以按照报考人员总成绩由高到低，从面试合格的对象中递补，并按规定进行政审考察、体格检查和网上公示。

15. 新录用人员签订聘用合同有哪些规定，试用期多长？

全军面向社会公开招考新录用人员，聘用合同期限起算时间按照军队文职人员聘用合同管理有关规定执行。新录用人员实行试用期，时间为6个月。新录用人员名单，报中央军委政治工作部备案。

16. 新录用人员在试用期内，须通过哪些培训和考核？

进行新录用人员在试用期内，需要进行岗前培训和试用期考核。岗前培训和试用期考核不合格的，取消录用资格。

第四章 军队文职笔试备考指导

一、2020 年军队文职笔试考情分析——公共科目

科目	题型	题量	分值	占比
基本知识	单选题	50	$50 \times 0.5 = 25$	40%
	多项选择题	4	$4 \times 1.5 = 6$	
	系列单项选择题	6	$6 \times 1.5 = 9$	
岗位能力	言语理解与表达	15	$15 \times 1 = 15$	60%
	数量关系	10	$10 \times 1.5 = 15$	
	判断推理	10	$10 \times 1.5 = 15$	
	资料分析	15	$15 \times 1 = 15$	
总计		110	100	100%

公共科目笔试的考试科目一般分为基本知识和岗位能力两部分。

(一) 基本知识主要考察 6 个方面内容：

1. 政治

主要测查应试者对政治基本理论：马克思主义基本理论、毛泽东思想、中国特色社会主义理论体系、公民道德修养的掌握程度。

2. 经济

主要测查应试者对马克思主义政治经济学、社会主义市场经济的掌握情况，以及理论与现实问题相结合的能力。

3. 法律

主要测查应试者对相关法律基础知识的了解掌握程度和运用能力。主要涉及法学理论、宪法、民法、刑法等。

4. 人文与社会

主要测查应试者对文化常识、历史常识、国情社情、国内国际时事等人文常识与社会常识的了解程度。

5.科学技术

主要测查应试者对科学技术基础知识、科学常识以及现代高新技术知识的了解和掌握程度。

6.国防和军队知识

主要测查应试者对国防知识、军队文职人员制度、军队安全保密等国防和军队基本知识的了解和掌握情况。

(二) 岗位能力主要考察 4 个方面内容：

1.言语理解与表达

主要测查报考者运用语言文字进行思考和交流、迅速准确地理解和把握文字材料内涵的能力。

2.数量关系

主要是考查对数量关系的理解计算、判断和推理的能力。数量关系主要有两种题型：数字推理和数字运算。

3.判断推理

主要测查对各种事物关系的分析推理。常见的题型有图形推理、定义判断、类比推理、逻辑判断等。

4.资料分析

主要测查应试者对文字、图表等资料综合理解与分析处理能力。增长率、倍数、百分点等概念考查频率较高。

(三) 备考提示

军队文职考试和公务员考试相比，既有公共科目和专业科目的某些共通之处，更具有自身强烈的军队特色。考生们在笔试这个环节知识储备应该都相差无几，所以要拉开档次就要从军队特色的考试内容中下手，只有把握了军队文职考试的这些重点环节，才有可能在文职考试中脱颖而出。

军队特色的考试内容包括“国防和军队”中的“国防常识”和“军队常识”两个部分，虽然这部分占的分值不大，但是能不能取得好成绩，它发挥着至关重要的作用。所以复习这部分的时候，对于一般内容基本掌握就可以了，而对于一些具体的知识和政策，一定要了然于心，多下一番功夫去复习。所以考生们备考的时候，一定要抽出一点时间复习这方面的知识。

二、2021 年军队文职笔试考情分析专业科目

军队文职招录考试，专业科目考试大纲分为 13 类 44 个专业。

专业科目试题类型以客观性试题为主，只有部分专业涉及主观性试题。

(一) 既有客观性试题又有主观性试题的专业：

- 1.文学类 3 个专业（汉语言文学、新闻、出版）；
- 2.外国语言文学类 5 个专业（英语、俄语、日语、德语、法语）
- 3.管理学类。

(二) 客观性试题

客观性试题：给试题提供正确和错误答案，由考生从中选择自己认为正确的答案。

客观性试题评分标准统一、客观、准确，不受评卷人主观因素的影响，易于采用计算机阅卷，提高评价速度，降低考试成本。

但客观性试题无法考查学生的组织能力、表达能力以及写作能力。客观性试题常用的有选择题、判断题等形式。

(三) 主观性试题

主观性试题：多是“发挥性题目”，一般带有主观性，虽然有评分标准，但没有唯一标准答案，如写作、文字材料分析等。

此类试题对于考查考生的语言表达能力、思维创新能力等方面有独到的作用，但评分容易受到评卷人的主观因素影响。

三、2021 年军队文职笔试公共科目真题呈现

2021年军队文职人员招聘考试公共科目试卷

第一部分 基础知识

一、单项选择题（请根据题目要求，在四个选项中选出一个最恰当的答案。共50题，每题0.5分，共25分。）

1. 国家根据国防动员需要，可以依法征收、征用组织和个人的设备设施、交通工具、场所和其他财产。县级以上人民政府对被征收、征用者因征收、征用所造成的直接经济损失，按照国家有关规定给予（ ）的补偿。

- A. 适当
- B. 相应
- C. 合理、合法
- D. 公平、合理

2. 中华人民共和国公民必须遵守宪法和法律，（ ），爱护公共财产，遵守劳动纪律，遵守公共秩序，尊重社会公德。

- A. 保守国家秘密
- B. 保护个人隐私
- C. 行使自由和权利
- D. 男女同工同酬

3. 下列不属于当代资本主义生产关系方面新变化的是（ ）。

- A. 在所有制方面，出现了资本社会化、股权分散化趋势
- B. 在生产管理方面，出现了一系列运用人工智能等新技术的管理手段和工具
- C. 在劳资关系方面，建立了劳资共决、职工参与管理和持股、终身雇佣等制度

- D. 在收入分配方面，推行社会福利政策，通过再分配手段缓和社会矛盾
4. 拉丁美洲诞生的第一个黑人独立国家是（ ）。
- A. 海地
B. 巴西
C. 秘鲁
D. 墨西哥
5. 中国人民解放军的宗旨是（ ）。
- A. 听党指挥
B. 拥政爱民
C. 全心全意为人民服务
D. 保卫祖国
6. 我国经济体制改革的中心环节是（ ）。
- A. 价格体制改革
B. 完善市场体系
C. 加强宏观经济调控
D. 国有企业改革
7. 我国社会主义市场经济与资本主义市场经济的根本区别在于（ ）。
- A. 市场在资源配置中的作用不同
B. 国家对经济运行宏观调控的方式不同
C. 社会基本经济制度不同
D. 国家在经济发展中的作用不同
8. 关于中国梦的叙述，不正确的是（ ）。
- A. 中国梦是一个口号，必须紧紧依靠人民来实现
B. 中国梦是国家情怀、民族情怀、人民情怀相统一的梦
C. 中国梦归根到底是人民的梦
D. 中国梦是国家的梦、民族的梦，也是每一个中国人的梦
9. 坚持和加强党的全面领导，发挥好中国共产党最高政治领导力量的作用，最根本的是坚决做到（ ）。
- A. “四个自信”

- B. “两个维护”
- C. “八个明确”
- D. “十四个坚持”

10. 中国古代国防与各朝代的政治、经济、军事状况密切相关，（ ）是一种具有代表性的国防建设思想。

- A. 寓兵于农
- B. 崇尚武德
- C. 屯兵于地
- D. 不战而胜

11. 我国政府采取低息贷款、减免税收、开展就业培训等多种措施，稳步推进扶贫开发工作。这说明了社会主义市场经济的根本目标是（ ）。

- A. 实现共同富裕
- B. 消除贫困
- C. 坚持公有制的主体地位
- D. 实行强有力的宏观调控

12. 对于广大发展中国家来说，经济全球化无异于一把“双刃剑”，这里“双刃剑”指的是（ ）。

- A. 既是风险，也是挑战
- B. 既有联系，也有合作
- C. 既是机遇，也是挑战
- D. 既有联系，也有竞争

13. 田教授举办学术讲座时，在学术报告厅外张贴公告，告知其一部新著的书名、价格、有意购买者在报告厅门口签字簿签名。前来听讲座的欧阳同学没有留意该公告，以为签字簿是为签到准备的，遂在上面签名。关于对欧阳同学行为的认定，下列选项正确的是（ ）。

- A. 田教授行为属于要约，欧阳同学行为属于附条件承诺
- B. 欧阳同学的行为构成重大误解
- C. 欧阳同学的行为可以推定为购买田教授新著的表示
- D. 欧阳同学的行为并非意思表示，在欧阳同学与田教授之间并未成立买卖合同

14. 关于国防与国家关系，下列说法不正确的是（ ）。

- A. 国防是伴随着国家的产生而出现的
- B. 国防是为国家利益服务的
- C. 国防是国家综合国力的体现
- D. 国防与国家的性质和根本制度无关

15. 兵者，以武为植，以文为种。武为表，文为里。论述了（ ）。

- A. 军队与政治的关系
- B. 战争与文化的关系
- C. 战争与政治的关系
- D. 军队与文化的关系

C项正确，当选。因此，选择C选项。

16. 马克思主义政治经济学遵循（ ）的分析方法。

- A. 实体正义
- B. 整体主义
- C. 形式主义
- D. 个体主义

17. 《中华人民共和国国防法》规定，（ ）、中国人民武装警察部队在规定岗位实行文职人员制度。

- A. 现役部队
- B. 预备役部队
- C. 中国人民解放军
- D. 民兵

18. 在“十四五”时期经济社会发展六大“新”目标中，居首的是（ ）。

- A. 改革开放迈出新步伐
- B. 社会文明程度得到新提高
- C. 生态文明建设实现新进步
- D. 经济发展取得新成就

19. 全民国防教育的基础是（ ）的国防教育。

- A. 企业事业组织
- B. 学校

- C. 党政机关
- D. 社会组织

20. 坚持党对军队绝对领导是有一整套制度作保证的。中央军事委员会实行（ ）。

- A. 主席负责制
- B. 政治机关制
- C. 政治委员制
- D. 党委统一的集体领导下的首长分工负责制

21. 下列不属于我国社会保障制度内容的是（ ）。

- A. 社会捐赠
- B. 社会保险
- C. 社会福利
- D. 社会救济

22. 法定情形下解除劳动合同时，用人单位应当向劳动者支付经济补偿。支付标准是：按劳动者在本单位工作的年限，每满一年支付（ ）工资的标准向劳动者支付。六个月以上不满一年的，按（ ）计算；不满六个月的，向劳动者支付（ ）工资的经济补偿。

- A. 两个月、一年、一个月
- B. 两个月、半年、一个月
- C. 一个月、一年、半个月
- D. 一个月、半年、半个月

23. 根据《中华人民共和国商标法》的规定，注册商标包括商品商标、服务商标和集体商标、（ ）。

- A. 驰名商标
- B. 证明商标
- C. 图形商标
- D. 地理标志

24. 由于李某所在公司的经营范围有变化，李某的工作岗位也作了调整，经公司与李某双方协商一致，决定变更原来订立的劳动合同的内容。在这种情况下，应当采用（ ）形式变更合同。

- A. 公证
 - B. 书面
 - C. 书面或者口头
 - D. 口头
25. 全面深化改革的总目标是完善和发展中国特色社会主义制度，推进（ ）。
- A. 社会主义现代化
 - B. 国家治理体系和治理能力现代化
 - C. 建设社会主义现代化国家
 - D. “五位一体”总布局
26. 资本主义工资的本质是（ ）。
- A. 劳动力的价值或价格的转化形式
 - B. 工人的劳动报酬
 - C. 可变资本
 - D. 劳动的价值或价格
27. 2020年，中国成为全球唯一实现正增长的主要经济体，实现逆势增长2.3%，GDP总量（ ）。
- A. 超过14万亿美元，约相当于美国GDP的65%以上
 - B. 超过15万亿美元，约相当于美国GDP的70%以上
 - C. 超过14万亿美元，约相当于美国GDP的70%以上
 - D. 超过15万亿美元，约相当于美国GDP的65%以上
28. 复制军事秘密载体，不需要履行（ ）手续。
- A. 审批
 - B. 登记
 - C. 通报
 - D. 签字
29. 事物矛盾运动的根本规律是（ ）。
- A. 对立统一规律
 - B. 历史规律
 - C. 联系和发展的规律

D. 自然规律

30. 旗帜鲜明讲政治，保证（ ）是党的生命，也是我们党能成为百年大党，创造世纪伟业的关键所在。

A. 党的全国领导

B. 为人民服务

C. 民主集中制

D. 党的团结和集中统一

31. 中国共产党明确把毛泽东思想作为党的指导思想写进党章的会议是（ ）。

A. 中共七大

B. 中共五大

C. 中共六大

D. 中共八大

32. 根据《中华人民共和国民法典》的规定，处理民事纠纷，应当依照法律；法律没有规定的，可以（ ）。

A. 适用社会公德，但不得损害社会公共利益

B. 适用判例

C. 适用习惯，但是不得违背公序良俗

D. 适用国家政策

33. 社会主义市场经济的特征有（ ）。

①以国有经济为主导、公有经济包括国有经济和劳动者集体所有制经济为主体，个体、私营和外资经济同时并存的国民经济所有制结构。

②以按劳分配为主体，多种分配形式并存的收入分配体系。

③坚持宏观计划主导下把计划与市场两种手段有机地结合起来，优势互补。

④有完善的商品、要素市场体系，以及相应的财政金融体制和价格体系，以保证充分发挥在宏观计划主导下市场机制的积极作用。

⑤国有企业由国家经营，盈亏由国家负担。

A. ①②③⑤

B. ②③④⑤

C. ①②④⑤

D. ①②③④

34. 我军政治工作萌芽于（ ），创立于建军之初。

- A. 大革命时期
- B. 八七会议
- C. 党的五大
- D. 南昌起义

35. 新时代中国国防的发展路径是（ ）。

- A. 走世界军事强国的发展道路
- B. 走马克思列宁主义的建军道路
- C. 坚持走中国特色强军之路
- D. 独立自主、自力更生

36. （ ）召开后不久，党中央突出强调，“小康不小康，关键看老乡，关键在贫困的老乡能不能脱贫”，承诺“决不能落下一个贫困地区、一个贫困群众”，拉开了新时代脱贫攻坚的序幕。

- A. 党中央召开扶贫工作会议
- B. 党的十八届四中全会
- C. 党的十九大
- D. 党的十八大

37. 创造了人和人类社会的是（ ）。

- A. 生产力
- B. 劳动
- C. 自然界的客观演进
- D. 人的进化

38. 下列行为属于狭义上“法的执行”的是（ ）。

- A. 甲市司法局依法吊销违法律师高某的执业证书
- B. 甲区基层人民法院依法对李某提起的财产纠纷案件作出判决
- C. 甲市人民检察院依法对犯罪嫌疑人丁某提起公诉
- D. 甲县公安局依法对钱某故意伤害案进行侦查

39. 秦朝统一后的（ ）措施推动了以华夏族为主体的中华民族的形成。

A. 以法为教，以吏为师

B. 书同文，推行标准字体

C. 焚书坑儒，加强思想控制

D. 在中央设三公九卿

40. 一种判断是不是真理，要看它（ ）。

A. 能否与事物及其规律本身相符合

B. 能否付诸实践

C. 能否满足人们的需要

D. 能否被多数人认可

41. 中华人民共和国的主权、统一、领土完整、安全和发展利益遭受威胁时，（ ）

依照宪法和法律规定，进行全国总动员或者局部动员。

A. 中国共产党

B. 国家

C. 中央军事委员会

D. 国务院

42. 根据《中华人民共和国国防法》的规定，国防教育贯彻全民参与、长期坚持、（ ）

的方针。

A. 经常教育

B. 普及教育

C. 讲求实效

D. 提高技能

43. 近代中国半殖民地半封建社会的社会性质，决定了中国革命的一个主要形式是（ ）。

A. 争取民主

B. 农民运动

C. 工人运动

D. 武装斗争

44. 伟大斗争、伟大工程、伟大事业、伟大梦想是一个紧密联系、相互贯通、相互作用、有机统一的整体，统一于新时代坚持和发展中国特色社会主义伟大实践。其中，起决定性作

用的是（ ）。

- A. 伟大工程
- B. 伟大斗争
- C. 伟大事业
- D. 伟大梦想

45. 在指导中国革命的历史进程中，我们党提出了战胜敌人的三个主要法宝，下列不属于主要法宝的是（ ）。

- A. 统一战线
- B. 群众路线
- C. 武装斗争
- D. 党的建设

46. 马克思主义中国化的本质是（ ）。

- A. 直接照搬马克思主义的现成理论
- B. 一个以中国国情为基础的全新社会主义理论
- C. 用马克思主义基本理论指导中国革命和建设，并在这一过程中发展马克思主义
- D. 用现成的马克思主义理论直接解答和解决中国的现实问题

47. 下列不属于市场机制的是（ ）。

- A. 价格机制
- B. 供求机制
- C. 仲裁机制
- D. 竞争机制

48. 2020年12月，国务院新闻办公室发布（ ）白皮书显示，中国在建和在役公路桥梁、隧道总规模居世界第一。

- A. 《中国交通的可持续发展》
- B. 《中国交通未来五年发展》
- C. 《中国交通强国战略规划》
- D. 《中国交通的新发展》

49. 关于社会主义市场经济宏观调控的说法，不正确的是（ ）。

- A. 宏观调控在市场调节的基础上进行

- B. 宏观调控手段主要包括：经济政策、经济计划、法律手段、行政手段
- C. 宏观调控以经济手段为主，法律和行政手段为辅
- D. 对经济运行实施间接调节

50. 根据《中华人民共和国英雄烈士保护法》的规定，对侵害英雄烈士姓名、肖像、名誉、荣誉的行为，英雄烈士的近亲属可以依法向人民法院提起诉讼。英雄烈士没有近亲属或者近亲属不提起诉讼的，（ ）依法对侵害英雄烈士的姓名、肖像、名誉、荣誉，损害社会公共利益的行为向人民法院提起诉讼。

- A. 检察机关
- B. 有关组织和个人
- C. 所有组织和个人
- D. 行政机关

二、多项选择题（请根据题目要求，在五个选项中选出两个或两个以上恰当的答案，错选或多选均不得分，少选且选择正确的每个选项得0.3分，共4题，每题1.5分，共6分。）

51. 第十三届全国人民代表大会第四次会议通过的《全国人民代表大会关于完善香港特别行政区选举制度的决定》规定，香港特别行政区设立一个具有广泛代表性、符合香港特别行政区实际情况、体现社会整体利益的选举委员会，选举委员会由（ ）等界别共 1500 名委员组成。

- A. 工商、金融界
- B. 专业界
- C. 基层、劳工和宗教等界
- D. 立法会议员、地区组织代表等界
- E. 香港特别行政区全国人大代表、香港特别行政区全国政协委员和有关全国性团体香港

成员的代表界

52. 影响居民消费结构变动的有（ ）等因素。

- A. 居民收入水平
- B. 价格
- C. 商品
- D. 社会总需求
- E. 社会对消费行为的引导

53. 在同新冠疫情的殊死较量中，中国共产党领导中国人民以大无畏的气概，敢于斗争、敢于胜利，铸就了生命至上、（ ）的伟大抗疫精神。

- A. 百折不挠
- B. 举国同心
- C. 舍生忘死
- D. 尊重科学
- E. 命运与共

54. 我国依据国家职能的划分，一般把财政支出划分为（ ）。

- A. 经济建设费
- B. 社会文教费
- C. 国防费
- D. 行政管理费
- E. 地质勘探费

三、系列单项选择题（请根据题目要求，在四个选项中选出一个最恰当的答案。共6题，每题1.5分，共9分。）

材料一：俗话说，“兵可以千日不用，国不可一日无防”。作为一个国家、一个民族，最重要的无非两件大事：一个是安全问题，一个是发展问题。国防是国家生存与发展的安全保障，是关系到国家和民族生死存亡的根本大计。

55. 我国奉行防御性国防政策，独立自主、自力更生地建设和巩固国防，实行（ ），坚持全民国防。

- A. 消极防御
- B. 积极防御
- C. 主动防御
- D. 被动防御

56. 我国国防活动的指导思想是马克思列宁主义、毛泽东思想，邓小平理论、“三个代表”重要思想、科学发展观、（ ）。

- A. 习近平强军思想
- B. 习近平新时代中国特色社会主义思想
- C. 习近平法治思想

D. 国家总体安全观

材料二：中国是社会主义国家，实行和平外交政策，走和平发展道路，有着“和为贵”的优秀文化传统，这就从根本上决定了我们始终奉行防御性国防政策。

57. 现役部队是国家的常备军，主要担负（ ）任务，按照规定执行非战争军事行动任务。

- A. 反恐维稳
- B. 海上维权执法
- C. 处置社会突发事件
- D. 防卫作战

58. 新时代中国国防的鲜明特征不包括（ ）。

- A. 坚持不称霸
- B. 坚持不向海外派兵
- C. 坚持不扩张
- D. 坚持不谋求势力范围

材料三：《联合国宪章》是联合国的基本大法，它既确立了联合国的宗旨、原则和组织机构设置，又规定了成员国的责任、权利和义务，以及处理国际关系、维护世界和平与安全的基本原则和方法。

59. 《联合国宪章》规定，兹设联合国之主要机关如下：大会、安全理事会、经济及社会理事会、托管理事会、国际法院及秘书处。其中，安全理事会以联合国（ ）个理事国组织之。

- A. 五
- B. 十
- C. 二十
- D. 十五

60. 《联合国宪章》规定，各会员国应以（ ）方法解决其国际争端，避免危及国际和平、安全及正义。

- A. 和平
- B. 法律
- C. 谈判与协商

D. 斡旋与调停

第二部分 岗位能力

一、言语理解（请根据题目要求，在四个选项中选出一个最恰当的答案。共15题。每题1分，共15分。）

61. 诗句“钟山风雨起苍黄，百万雄师过大江”出自（ ）。

- A. 岑参的《送李副使赴碛西官军》
- B. 辛弃疾的《破阵子·为陈同甫赋壮词以寄之》
- C. 陆游的《书愤》
- D. 毛泽东的《人民解放军占领南京》

62. 依次在下列横线中填入词语，最恰当的一组是（ ）。

- ①今年春节期间，某省发生了一起_____的假酒案。
- ②端午节，民间有在身上挂香荷包的习俗，据说，这样可以_____疾病。
- ③见到这一情景，她那满腔怨恨，似乎一下子都_____了。

- A. 耸人听闻 驱除 融解
- B. 骇人听闻 祛除 融解
- C. 耸人听闻 祛除 溶解
- D. 骇人听闻 驱除 溶解

63. 中国人对知识与思想、文风与人品、政治与学术，向来很难划开一道理性的界限，把本来只是经验和感觉的判断，常常当成评价一切的铁律。其实，元好问早就说“心画心声总失真，文章宁复见为人”，刘因也曾说“若将字字论心术，恐有无边受屈人”。

以下观点与原文意思最相符的是（ ）。

- A. “文如其人”式的说法过于武断
- B. 凭感觉去评价人是不可靠的
- C. 知人知面不知心
- D. 识人的标准应多元化

64. 在抗美援朝战争中，志愿军将士面对强大而凶狠的作战对手，身处恶劣而残酷的战场环境，抛头颅、洒热血，以“钢少气多”力克“钢多气少”，充分展示了敢打必胜的铮铮铁骨。新时代传承发扬伟大抗美援朝精神，就要深入学习宣传中国人民志愿军的英雄事迹和革命精神，引导广大官兵学好党史、新中国史、改革开放史、社会主义发展史，不断激发广

大官兵的忧患意识和爱国情怀，让“一不怕苦、二不怕死”成为官兵的精神魂魄，更好展现强军胜战的新气象新作为。

这段文字意在说明（ ）。

- A. 传承发扬伟大抗美援朝精神，锻造舍生忘死、向死而生的民族血性
- B. 传承发扬伟大抗美援朝精神，砥砺不畏强暴、反抗强权的民族风骨
- C. 传承发扬伟大抗美援朝精神，汇聚万众一心、勠力同心的民族力量
- D. 传承发扬伟大抗美援朝精神，激发守正创新、奋勇向前的民族智慧

65. 依次在下列各句横线处填入词语，最恰当的一组是（ ）。

①专案组经过调查研究，_____查到了狡黠的嫌疑人的犯罪证据。

②中国外交以人为本，外交官们处理遇难事件的高效工作，_____是对同胞的关心和爱护，让当地华人倍感来自祖国的温暖。

③这几条主干道，平时都经常堵车，不是很畅通，_____是“国庆黄金周”这样的出行高峰呢？

- A. 从而 甚至 况且
- B. 从而 甚至 何况
- C. 进而 尤其 何况
- D. 进而 尤其 况且

66. 根据以下诗歌内容，按描述春、夏、秋、冬的顺序排列，正确的是（ ）。

①墙角数枝梅，凌寒独自开。遥知不是雪，为有暗香来。

②独在异乡为异客，每逢佳节倍思亲。遥知兄弟登高处，遍插茱萸少一人。

③夜热依然午热同，开门小立月明中。竹深树密虫鸣处，时有微凉不是风。

④无花无酒过清明，兴味萧然似野僧。昨夜邻家乞新火，晓窗分与读书灯。

- A. ①②③④
- B. ①③②④
- C. ②③①④
- D. ④③②①

67. 下面四句诗排列顺序正确的是（ ）。

①雨暗苍江晚未晴②月在浮云浅处明③井梧翻叶动秋声④楼头夜半风吹断

- A. ①③④②

- B. ②①④③
- C. ④②①③
- D. ④①②③

68. 根据下文判断，文章意在指出，中国人要在现在世界上挣得自己的地位，最重要的是（ ）。

现在许多人有大恐惧，我也有大恐惧。许多人所怕的是“中国人”这名目要消灭；我所怕的是中国人要从“世界人”中挤出。

我认为“中国人”这名目，绝不会消灭。只要人种还在，总是中国人。譬如埃及犹太人，无论他们还有“国粹”没有，现在总叫埃及犹太人，未尝改了称呼。可见保存名目，全不必劳心费力。

但是想在现今的世界上，协同生长，挣一地位，即须有相当的进步的智识，道德，品格，思想，才能够站得住脚。这事极须劳心费力。而“国粹”多的国民，尤其劳心费力，他的“粹”太多了。粹太多，便太特别。太特别，便难于种种人协同生长，挣得地位。有人说：“我们要特别生长，不然，何以为中国人！”于是乎要从“世界人”中挤出，于是乎中国人失了世界，却暂时仍要在这世界上住！——这便是我的大恐惧。

- A. 如何在根本上保存国粹
- B. 始终保持恐惧心理、忧患意识
- C. 大胆追求特别
- D. 要有进步意识

69. 在下面一段文字的横线处填入一句话，与上文衔接最好的一句话是（ ）。

自五四运动以来，翻译介绍先进国家的文化成果就成了中国文化界的追求之一。

_____。

- A. 这些翻译作品促进了中国学术文化的发展，同时也影响了中国的书面语言
- B. 翻译作品日见其多，一方面这些作品促进了中国学术文化的发展，同时也影响了中国的书面语言
- C. 这些翻译作品提高了中国学术文化的素养，同时促进了中国书面语言的发展
- D. 翻译作品日见其多，一方面这些作品提高了中国学术文化的素养，另一方面也促进了中国书面语言的发展

70. 我们行驶在世界第一长跨海大桥——港珠澳大桥上，_____那光洁高耸的钢梁架

在落日余晖中_____，不由惊叹人类伟大的创造力！

依次在横线中填入词语，最恰当的一组是：

- A. 远望 挺立
- B. 凝望 伫立
- C. 仰望 矗立
- D. 眺望 肃立

71. 阅读下列段落和选项，其中符合作者观点的是（ ）。

如果说“家电下乡”给了家电企业开拓农村消费市场的机遇，那么，“进城”则更能为企业创造更好的销售业绩。因为在城市里，居民更容易接受新的生活和消费方式。假如“家电进城”也得到政府的相关政策支持和补贴的话，企业应当有理由在城镇市场上发掘出新的消费潜力，客观上让城市低收入和失业居民也得到家电产品消费的实惠。

- A. 和农村市场比较，城镇消费市场同样具有挖掘的潜力
- B. “家电下乡”不可能给企业带来良好的销售业绩
- C. 城市低收入和失业居民更需要政策支持和补贴
- D. 政府应该支持企业的“家电进城”，大力推广新产品

72. 明月当空，花间的李白无亲自怜，便起舞清影，举杯邀月；大江上的曹操有雄兵百万，就横槊赋诗，酹酒江心。今舞者，正是从人们平常不自觉的动作中，抽出最美的、规律性的东西，以衣具饰之，以音乐和之，酿成一股酒香，反过来荡摇人的感情。

通过这段文字我们可以知道，古人起舞的原因是（ ）。

- A. 以舞姿来荡摇人的感情
- B. 因人内心情感的摇荡而不由得手舞足蹈
- C. 与音乐和之，抽出最美的东西
- D. 因礼节而起舞，表现自己

73. 下列没有语病的是（ ）。

A. 自从汉字成了汉语的书面符号，一直是中华民族文化最重要的载体。从甲骨文所记录的商周编年史到清代的《四库全书》，浩瀚的典籍集聚了一代又一代文化精英的思维逻辑和艺术创造

B. 由于熊猫从它们所吃的竹子里获得的营养非常少，所以它们必须尽可能地保存能量，它们的甲状腺就是缓解能量消耗的一系列特征之一

C. 考虑到90%以上的交通事故的造成都是由人类的错误导致的，所以人工智能未来有很大的可能接过人类的驾驶权

D. 汉代西域都护府设立后，中原王朝对西域实施了有效的管辖和治理，使者往来、朝贡、丝路贸易、移民、求法等活动，使中原和西域间政治、经济、军事、文化等联系密切

74. 下列各句标点符号使用正确的是（ ）。

A. 《孟子》里提及的各种圣人，表现各不相同。但有一点相同，即“行一不义，杀一不辜而得天下，皆不为也”。

B. 中国养殖业的发展要结合市场需求，更要结合国情。国外的养殖方式：大规模、产业化自然是好处很多，但也不能照搬。

C. 中国古典四大名著《红楼梦》、《西游记》、《三国演义》、《水浒传》的读者在逐渐减少。

D. 我不知道这一实验到底能不能得出最终的结论？但我一定要坚持下去，直到把问题搞个水落石出。

75. 王磊大学毕业后，给曾经帮助过他的李老师发了一条短信表示感谢，内容为：“李老师好！在大学阶段，您能帮助我学习，深感荣幸。我能有今天，是您悉心教导的结果。您的教学造诣是那样深厚，同学们非常敬重您。我将永远铭记你的教导，努力工作，不辜负您的期望！”

以下修改不当的选项是（ ）。

A. “您能帮助我学习”改为“我在您的帮助下学习”

B. “同学们非常敬重您”改为“令同学们刮目相看”

C. “教学造诣是那样深厚”改为“教学水平非常高”

D. “你的教导”改为“您的教导”

二、数量关系（请根据题目要求，在四个选项中选出一个最恰当的答案。共10题。每题1.5分，共15分。）

76. 选择最合理的一项来填充所给数列的空缺项，使之符合原数列的排列规律（ ）。

1, 2, 3, 8, 27, 220, ()。

A. 4595

B. 5495

C. 5945

D. 4955

77. 一辆汽车第一天行驶了7个小时，第二天行驶了600公里，第三天比第一天少行驶200公里，三天共行驶了18个小时。已知第一天的平均速度与三天全程的平均速度相同，问三天共行驶了（ ）公里。

- A. 1800
- B. 1200
- C. 1400
- D. 1600

78. 选择最合理的一项来填充所给数列的空缺项，使之符合原数列的排列规律：

2, 3, 4, 6, 6, 9, 8, 12, 10, ()。

- A. 13
- B. 14
- C. 16
- D. 15

79. 一个盒子里放有红色钢笔100支，蓝色钢笔90支，黑色钢笔80支，棕色钢笔60支。它们的外形和质量都一样，闭着眼睛用手去摸，要保证摸出的钢笔中有15对同色钢笔，至少应摸出（ ）支钢笔。

- A. 31
- B. 61
- C. 33
- D. 63

80. 已知 $43^x = 47^y = 2021$ ，则 $\frac{1}{x} + \frac{1}{y} =$ ()。

- A. $\frac{43}{47}$
- B. $\frac{47}{43}$
- C. 0
- D. 1

81. 某学校在统计学生数据时发现，五年级小学生的出生日期均在2009年9月1日至2010年8月31日之间，其中，生于2010年的学生与生于2009年的学生比例为5:2，生于2009年的男生与生于2010年的女生比例为1:3。已知该学校五年级学生总数是下列选项之

一，则该学校五年级学生总数为（ ）。

- A. 450
- B. 455
- C. 460
- D. 465

82. 定义 $Z = \{z | z = x - y, x \in X, y \in Y\}$ 。已知 $X = \{1, 2, 4\}$, $Y = \{2, 3\}$, 则 $Z =$ ()。

- A. $\{-2, -1, -1, 0, 1, 2\}$
- B. $\{-2, -1, 0, 1, 2\}$
- C. $\{1, 2, 3, 4\}$
- D. $\{1, 2, 2, 3, 4\}$

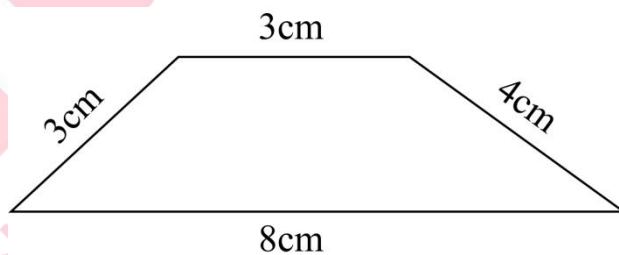
83. 某单位的会议室有 8 排共 64 个座位，每排座位数相同。小李和小王随机入座，则他们坐在同一排的概率约为（ ）。

- A. 10.94%
- B. 11.11%
- C. 12.50%
- D. 12.70%

84. 把 6 本书放在书架上，将其中指定的 3 本放在一起的排列有（ ）种。

- A. 120
- B. 360
- C. 144
- D. 720

85. 如下图所示，梯形的上底和下底分别为 3 厘米、8 厘米，两条腰分别为 3 厘米、4 厘米，则该梯形的面积为（ ）平方厘米。



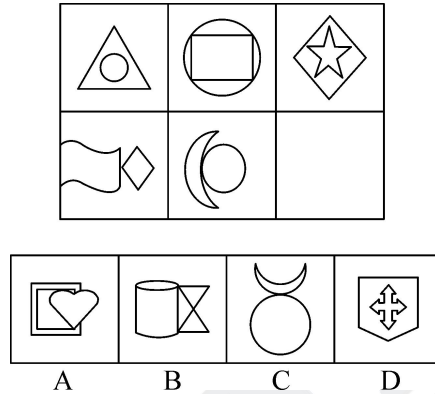
- A. 12
- B. 16

C. 13. 2

D. 17. 4

三、判断推理（请根据题目要求，在四个选项中选出一个最恰当的答案。共10题。每题1.5分，共15分。）

86. 为了使图像具有规律性，下图空缺处应该是（ ）。



A. 如上图所示

B. 如上图所示

C. 如上图所示

D. 如上图所示

87. 某学校设有多个体育社团。据统计，参加篮球社的学生都参加了健身俱乐部；参加健身俱乐部的学生都没有参加乒乓球社；参加足球社的学生都没有参加健身俱乐部。张三参加了足球社或者乒乓球社，则可以确定的是（ ）。

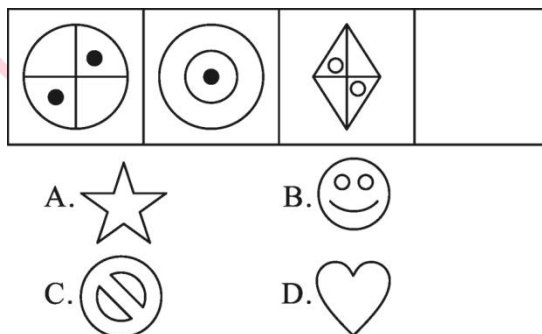
A. 张三参加了足球社

B. 张三没有参加健身俱乐部

C. 张三参加了篮球社

D. 张三没有参加乒乓球社

88. 从所给的四个选项中，选择最合适的一个填入空缺处，使之呈现一定的规律性的是（ ）。



A. 如上图所示

B. 如上图所示

C. 如上图所示

D. 如上图所示

89. 非法侵入住宅罪是指违背住宅内成员的意愿或者无法律依据，故意进入公民住宅，或者进入公民住宅后经要求退出而拒不退出的行为。根据上述定义，下列构成非法侵入住宅罪的是（ ）。

A. 小王家附近开了个小茶馆，他进去后什么都不点，老板怎么说他都不肯走，一直坐到打烊

B. 小张发现邻居家冒出了浓烟，一脚踹开邻居大门就冲了进去，结果发现原来是邻居在做化学实验

C. 小吴为了找工作，在朋友家里一住就是半年，朋友不胜其烦，整天都在想怎样才能让他搬出去

D. 房东小李担心租出去的房子会有什么损坏，隔一段时间就会拿着备用钥匙进去检查一下

90. 下列最合乎逻辑顺序的选项是（ ）。

①畜牧业发展

②水草丰美

③草场退化

④野生动物数量减少

⑤野生动物数量增加

⑥控制养殖规模

A. ②—①—⑤—③—④—⑥

B. ④—①—⑤—③—⑥—②

C. ①—④—③—⑥—②—⑤

D. ②—①—③—④—⑥—⑤

91. 有价证券是指标有票面金额，证明持有人有权按期取得一定收入并可自由转让和买卖的所有权或债权凭证。有价证券是虚拟资本的一种形式，它本身没价值，但有价格。根据上述定义，下列属于有价证券的是（ ）。

A. 借据

B. 收据

C. 国债

D. 增值税专用发票

92. 从所提供选项中选择（ ）填入问号处，使之呈现一定的规律性。

桌	兼	借	剥	?
---	---	---	---	---

- A. 填
- B. 街
- C. 能
- D. 进

93. 历史对于（ ）相当于（ ）对于积累。

- A. 发展 经验
- B. 飞跃 学习
- C. 阶段 知识
- D. 积淀 阅历

94. 下列与所给词组“遗忘：永记于心”在逻辑关系上最为贴近、相似或匹配的词组是（ ）。

- A. 美丽：惊天动地
- B. 幸运：甘之如饴
- C. 燥热：阴雨绵绵
- D. 高兴：悲痛万分

95. 下列最合乎逻辑顺序的选项是（ ）。

- ①搜集资料
- ②整理材料
- ③起草文件
- ④汇报工作
- ⑤撰写提纲

- A. ①—②—⑤—③—④
- B. ①—②—③—⑤—④
- C. ⑤—①—②—③—④
- D. ⑤—③—①—②—④

四、资料分析（请根据题目要求，在四个选项中选出一个最恰当的答案。共15题，每题1分，共15分。）

材料一：据央视网新闻联播消息，改革开放 40 年来，我国实施大规模扶贫开发，从解决温饱到全面实施精准扶贫、精准脱贫方略，到 2017 年底，我国一共减少了 7.4 亿贫困人口，相当于 2017 年底整个欧洲国家的人口数和。2013 年到 2017 年 5 月年间，累计减少贫困人口近 7000 万，历年减贫人口占比分别为 14.9%、20.6%、22.2%和 29.7%。到 2017 年末，贫困人口只剩下 3.1%。而在 1978 年的时候，仅有约 3%的人不是贫困人口。40 年来，实现了两个 3%的对调，我国从世界上最贫困的国家之一，向整体消除绝对贫困迈进。

96. 2013 年 2017 年间，减贫人口占比（ ）。

- A. 逐年递减
- B. 逐年递增
- C. 保持均衡
- D. 翻倍递增

97. 如果我国 1978 年底总人口数为 9.6 亿，2017 年底总人口数量达到 13.9 亿，则我国改革开放 40 年间非贫人口增加约有（ ）亿。

- A. 4.3
- B. 13.2
- C. 7.4
- D. 13.5

98. 我国改革开放 40 年，日均减少了约（ ）万贫困人口。

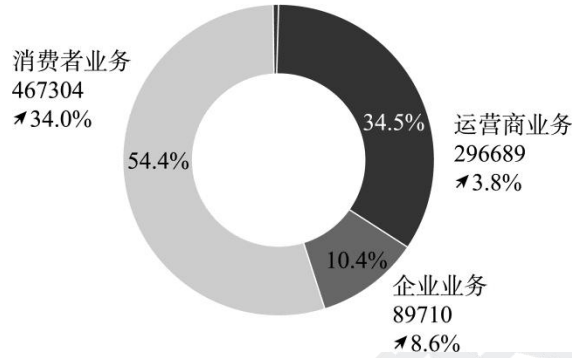
- A. 5
- B. 7.4
- C. 1850
- D. 40

99. 如果 2017 年底我国总人口数量达到 13.9 亿，那么我国贫困人口约有（ ）亿。

- A. 3.1
- B. 4.3
- C. 0.19
- D. 0.43

材料二：2019 年全球经济增长放缓，整体呈疲弱态势。受益于 5G 网络建设的开展，华为消费者业务手机销量持续增长、渠道下沉，以及企业业务抓住数字化与智能化转型机遇、

提升场景化的解决方案能力，坚持为客户创造价值，提升消费者体验，改善经营质量，全年实现销售收入人民币 858833 百万元，同比增长 19.1%。销售收入分消费者业务、运营业务、企业业务和其他业务四部分，如下图所示（销售收入单位：（人民币）百万元）。



100. 2019 年，华为（ ）增长率最高。

- A. 运营业务
- B. 企业业务
- C. 消费者业务
- D. 其他业务

101. 2018 年，运营业务营业额约为（ ）百万元。

- A. 467304
- B. 285828
- C. 296689
- D. 285828

102. 2019 年，其他业务营业额为（ ）百万元。

- A. 3487
- B. 5130
- C. 3934
- D. 7211

材料三：2020 年 3 月~2020 年 6 月手机网民各类手机互联网应用用户规模和使用率

应用	2020 年 6 月		2020 年 3 月		增长率
	用户规模 (万)	手机网民 使用率	用户规模 (万)	手机网民 使用率	
手机即时通信	93037	99.8%	89012	99.2%	4.5%

手机搜索引擎	76078	81.6%	74535	83.1%	2.15%
手机网络新闻	71999	77.2%	7642	81.0%	-0.9%
手机网络购物	74696	80.1%	70749	78.9%	5.6%
手机网络外卖	40720	43.7%	39653	44.2%	2.7%
手机网络支付	80172	86.0%	76508	85.3%	4.8%
手机网络游戏	53592	57.5%	52893	59.0%	1.3%
手机网络音乐	63598	68.2%	63274	70.5%	0.5%
手机网络文学	46515	49.9%	45255	50.5%	2.8%
手机在线教育	37668	40.4%	42023	46.9%	-10.4%

103. 2020年6月，()应用用户数量排名第二。

- A. 手机即时通信
- B. 手机搜索引擎
- C. 手机网络支付
- D. 手机网络新闻

104. 从2020年3月到2020年6月，手机网络购物网民数增长率为5.6%，手机网络支付网民数增长率为4.8%，()。

- A. 手机网络购物网民增长数比手机网络支付网民增长数多
- B. 2020年3月手机网络购物网民数比手机网络支付网民数多
- C. 2020年6月手机网络购物网民数比手机网络支付网民数多
- D. 手机网络支付网民数增长率比手机网络购物网民数增长率高

105. 2020年6月与2020年3月相比，手机网络购物用户数量增加值为()万人。

- A. 4025
- B. 1067
- C. 3947
- D. 3664

106. 根据手机即时通信数据可知，2020年6月手机网民数量约为()万人。

- A. 93037
- B. 89012

C. 89729

D. 93223

材料四：经核算，2019年全国专利密集型产业增加值为11463.08亿元，比上年增长7.0%（未扣除价格因素，下同），占国内生产总值（GDP）的比重为11.6%，与上年持平。

从内部结构看，专利密集型产业中制造业相关行业规模大，增加值占比达到72.9%。其中，首先是新装备制造业增加值34052.8亿元，占专利密集型产业增加值的比重最高，为29.7%；其次是信息通信技术制造业，增加值为22971.9亿元，占比为20.0%；再后，新材料制造业、医药医疗产业、环保产业占比分别为12.2%、8.7%和2.3%。

从增长速度看，专利密集型产业中服务业相关行业发展较快。信息通信技术服务业增长17.2%，研发、设计和技术服务业增长14.0%，明显高于制造业。

2019年全国专利密集型产业增加值

分类名称	增加值（亿元）	增速（%）	构成（%）
专利密集型产业	114630.8	7.0	100.0
信息通信技术制造业	22971.9	6.8	20.0
新装备制造业	34052.8	3.6	29.7
新材料制造业	13983.4	-1.0	12.2
医药医疗产业	9974.3	5.4	8.7
环保产业	2599.6	7.2	2.3
信息通信技术服务业	22822.9	17.2	19.9
研发、设计和技术服务业	8225.9	14.0	7.2

107. 由上述材料分析可知，上年全国专利密集型产业增加值约为（ ）亿元。

A. 105412

B. 106541

C. 107132

D. 108412

108. 下列说法错误的是（ ）。

A. 从增长速度看信息通信技术服务业发展速度最快

B. 从内部结构看新装备制造业占比最高

- C. 专利密集型产业中占比最少的是环保产业
- D. 2019 年全国专利密集型产业增加值比上年增长 7%，所以占 GDP 比例也比上年高
109. 下列产业中，增速最快的是（ ）。
- A. 研发、设计和技术服务业
- B. 新材料产业
- C. 环保产业
- D. 医药医疗产业
110. 下列产业中（ ）出现了负增长。
- A. 环保
- B. 新材料制造业
- C. 医药医疗产业
- D. 新装备制造业

第五章 军队文职面试备考指导

一、军队文职人员面试形式介绍

从历年军队文职人员面试情况来看，面试形式侧重在半结构化面试，外加专业知识测试（包含专业技能实践操作），考查形式多样，涵盖内容全面。

二、军队文职人员面试题型剖析

从测评要素的角度出发，军队文职结构化面试的题型主要包括以下几种：

1. 自我认知

出题思路：通过心理投射或迫选的方式提出问题，考查应聘人员的真实意愿。

真题示例：请你谈谈选择到部队工作时都考虑了哪些因素？你是如何看待待遇和工作条件的？

2. 工作关系处理

出题思路：通过描述一个与工作职位高度相关的涉及到人际关系处理的假设情境，考查应聘人员对该情境事件的处理能力。

真题示例：在工作和学习过程中，你可能会遇到这种情况：你与一位同事需要共同完成一项工作任务，由于某种原因他有些情绪，表现出工作积极性不高。请问你会怎样对待这种情况？请举例说明。

3. 规划事件处理

出题思路：通过描述一个与工作职位高度相关的事件规划、组织的假设情境，考查应聘人员的组织计划、团队协作能力。

真题示例：某县要开展国防教育活动，邀请外地专家进行讲座，你怎么组织？

4. 突发事件处理

出题思路：通过描述一个与工作职位高度相关的突发事件处理的假设情境，考查应聘人员的灵活应变能力、团队协作能力、人际交往能力。

真题示例：在一次重要的会议上，领导做报告时将一个重要的数字念错了，如不纠正会影响工作。这时你会怎么办？

5.现象认知与职业认知

出题思路：通过应聘人员对社会热点或某一现象的分析阐述，观察应聘人员的分析能力、思维层次。

真题示例：吸烟有害健康，但烟草业对国家的税收有很大的贡献，你如何看待政府采取的禁烟措施？

6.专业知识

出题思路：了解应聘人员对专业知识的掌握情况。

真题示例：你认为软件开发的重点是什么？

7.专业实践操作

实操：口述一项你实际工作中的会计业务。

三、军队文职人员面试特殊性分析

相比公职类考试面试，军队文职人员面试更加复杂，包括结构化面试+追问（半结构化），以及专业知识测试，所有岗位几乎都包含有专业知识测试环节。在整个面试中，结构化面试部分内容占比少于专业知识测试，当然不同的单位会选择结构化不同的题型，但是共同点基本包括自我介绍，以及自我认知与职位匹配的相关问题，部分单位会考查人际沟通，综合分析，应急应变和组织管理测查较少。

四、军队文职人员面试流程介绍

1.面试考前准备

面试组织方组织应聘人员提前 30 分钟到达面试候考室，查验准考证和身份证件等（具体证件在面试通知单中会详细说明），宣布考场纪律，明确注意事项，并组织应聘人员抽签确定面试顺序。

2.随机抽取考题

考务组长将考题分发至各面试主考室，由主考官签收应聘人员当场随机抽取考题，提交主考官拆封。每份试题均由大小两个信封分装，其中，大信封分装试卷包括题目、答题要点和评分参考，这些都是供考官使用的，每个考官人手一份；小信封中只有题目，供应聘人员使用。

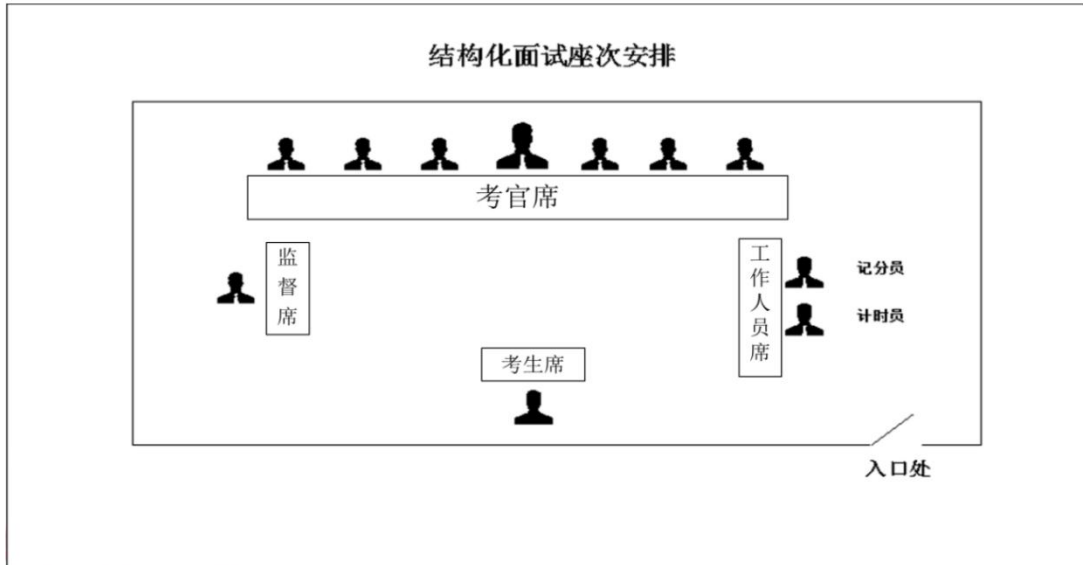
部分单位也会采取现场电脑抽题的方式。

需要注意的是，大部分考场已经采用考生根据专业和岗位分类情况，在《面试系统》中随机抽取的方式确定考题，这样就会大大简化面试考务工作，也更方便做好面试工作的痕迹管理。

3.组织答辩操作

主考官根据应聘人员抽选的考题进行提问，其他考官在应聘人员回答后视情况追问，由应聘人员现场回答。面试时间一般不超过 20 分钟。

在考场内，一般会有考官、计分员、记时员、监督员以及考生，考场内的席位空间位置，如下图所示：



面试考场，主考官负责宣读面试指导语，提醒应聘人员应该注意的事项，宣读问题等。

计分员负责现场统分数。记时员负责记录时间，并提醒考试距离答题结束的时间应聘人员应在规定时限内回答给定的问题，切记不可超时。

考生入场后，直接走到考生席，站定后向各位考官问好，并报自己的考试序号。特别注意，应聘人员不能自报姓名，如在考场内自报姓名会被当场取消面试资格。应聘人员落座后，主考官向其宣读面试规则，面试开始。

面试指导语（示例）

你好！欢迎参加今天的面试。面试时间为 20 分钟，你需要通过面试系统选取一套考题，其中包括 * 个问题，准备时间为 * 分钟，答题时间为 * 分钟，另有 * 分钟考官随机提问.....

在有些考场，思考时间与答题时间是分开的，先把全部问题都思考完毕之后，再一起答，

思考时间与答题时间分别做限定；而在有些考场，则是考官读一道题，考生思考+回答一道题，计时员对总用时进行控制。

考官根据考生答辩操作情况进行初步打分。有些考场用纸质打分表进行打分，有些考场

则通过《面试系统》打分。考官评分客观公正不得相互商量或者暗示。

4.考官综合评议

同一组应聘人员面试结束后，考务组长组织考官对应聘人员的面试情况进行综合评议。

主考官主持评议时应充分听取每个考官的意见，并做好评议总结。

5.考官评定成绩

每一位考官根据应聘人员答辩操作、回答追问以及合评议的情况，按照下发的面试评分表给每位考生以无记名方式进行逐项评分，调整初评分数。评分结束后交由计分员和监督员核算分数并统计。采取电子评分器进行评分的考场，由考官直接提交分数即可，系统会直接核算分数。

6.确定面试成绩

在监督员的监督下，计分员将每个考官的评分填入面试成绩表，计算出考官评分的算术平均分，就是每位考生的最终面试成绩。填写到《军队文职人员招聘面试成绩名单》，由计分员、监督员以及主考官签名确认该分数。