

准考证号

姓名



2019 年宁德下半年事业单位公开招聘考试
《综合基础知识》试卷



SINCE 2001

华图教育
HUATU.COM

华图福建事业单位考试研究院 审定

说明

这项测验共有五个部分，115 道题，总分时限为 120 分钟。

请在机读答题卡上严格按照要求填写好自己的姓名、涂写准考证号。

请仔细阅读下面的注意事项，这对你获得成功非常重要：

- 1、题目应在答题卡上作答，不要在题本上作任何记号。
- 2、监考人员宣布考试开始时，你才可以开始答题。
- 3、监考人员宣布考试结束时，你应立即放下铅笔，考试题本、答题卡 and 草稿纸都留在桌上，然后离开。

如果你违反了以上任何一项要求，都将影响你的成绩。

- 1、在这项测验中，可能有一些试题较难，因此你不要在一道题上思考时间太久，遇到不会答的题目，可先跳过去，如果有时间再去思考。否则，你可能没有时间完成后面的题目。
- 2、试题答错不倒扣分。
- 3、特别提醒你注意，涂写答案时一定要认准题号。严禁折叠答题卡！

停！请不要往下翻！听候监考老师的指示。

否则，会影响你的成绩。

*本试卷所选真题，均来源于网络或根据考生回忆整理。

第一部分 言语理解与表达

(共 30 题, 参考时限 30 分钟)

每小题 0.9 分, 共 30 题。每道题包含一段话或一个句子, 后面是一个不完整的陈述, 要求你从四个选项中选出一个来完成陈述。注意: 答案可能是完成对所给文字主要意思的提要, 也可能是满足陈述中其他方面的要求, 你的选择应与所提要求最相符合。

1、曾有调查显示, 高达 37% 的青少年吸烟是受影视剧所影响。这一数据或有变动, 但不争的事实是, 青少年容易产生盲目追星心理, 影视作品中明星吸烟镜头极易误导青少年效仿。而不少影视剧中的吸烟镜头, 故意__暴力“美学”, 刻意营造一种吸烟很帅的__, 让青少年在不知不觉中认为, 吞云吐雾代表着潇洒, 展现着派头, 还可标榜霸气, 从而染上烟瘾

- A.
B. 诠释 氛围

【答案】B

【解析】因题目不全, 暂无解析。

2、时光如流水淙淙, 一些东西却如河中的卵石, ____, 笃定而坚强。变化之间, 内心深处, 你依然是那个曾经的你——努力擦亮眼睛、道出是非曲直, 在时代的大海中寻找最美最晶莹的浪花。

- 继往开来 C. 历久弥新

【答案】C

【解析】因题目不全，暂无解析。

3、进入 20 世纪，大众旅游日渐兴起。走马观花、拍照打卡、血拼购物式的出行方式持续升温，以“跟团游”为标签的传统旅行社一时_____。

A. 日新月异 B. 姗姗而来 C. 风头无两

【答案】C

【解析】因题目不全，暂无解析。

4、相关部门明确“博眼球”、“打擦边球”的行为边界是十分有必要的。如果不加甄别进行打击，一些明显背离社会公德，突破了人们接受底线的营销方式固然会得到惩处，但许多商家也会因此变得“噤若寒蝉”，生怕自己的营销手段触动了法律的“红线”，这对经济发展无疑是不利的。

A. 一旦 虽然 因此

C. 如果 固然 但是

【答案】C

【解析】因题目不全，暂无解析。

5、“中国机长”的美名、中国民航的形象、诸多乘客的安全，需要每一位机长、每一位空乘人员用专业、敬业、操守和努力去共同呵护。而任何一点大意和违规操作，哪怕没有造成严重后果，都可能让整个民航业、民航人_____。

羞辱 B. 害羞 C. 蒙羞 D. 屈辱

【答案】C

【解析】因题目不全，暂无解析。

6. 新中国成立后特别是改革开放以来，我们党坚持将马克思主义基本原理同中国具体实际相结合，运用马克思主义的立场、观点和方法解决各种重大理论和实践问题，不断推进马克思主义中国化，形成了中国特色社会主义理论体系，开创了 21 世纪马克思主义发展的新境界。

【答案】无

【解析】因题目不全，暂无解析。

7. 经济全球化是人类社会发展必由之路，是推动世界经济增长的引擎。历史潮流不可逆转，必将浩荡前行。

- A. 引擎 回旋 进步
- C. 引擎 逆转 前行

【答案】C

【解析】因题目不全，暂无解析。

8. 人脸识别技术方便了各行各业，因安全风险而对其避而远之，实乃因噎废食。

- A. 避而远之 星罗棋布
- B. 避而远之 因噎废食

【答案】B

【解析】因题目不全，暂无解析。

9. 面对街头暴力，止暴制乱是世界各国政府的通行做法，合理性_____。

近期，西班牙、英国、智利当局对待暴力示威者一致依法拘捕、果断打击。西班牙看守政府首相佩德罗·桑切斯等政界人士对暴力行为公开表示_____。

A. 毋庸置疑 绝不姑息

【答案】A

【解析】因题目不全，暂无解析。

10. 文明很脆弱，又很有韧性，哪怕长期隐没在历史尘烟中，只要一个偶然的_____，它就会重新回到人们的视野中，甲骨文就是如此。120年前，国子监祭酒王懿荣首次确认中药“龙骨”上的“划痕”是上古文字，一锤定音惊天下。从“甲骨四堂”到“甲骨五老”，一代代学者_____，挖掘与研究已持续两甲子，取得丰硕_____。

A. 远渡重洋 果实

C. 薪火相传 成果

【答案】C

【解析】因题目不全，暂无解析。

11. 鸡蛋煮太久会破坏其营养素。鸡蛋煮的时间太久，不仅会导致其中的B族维生素、维生素E等营养素被破坏，还会致使其中的脂肪酸、胆固醇发生氧化。鸡蛋中含有的不饱和脂肪酸，如亚油酸、花生四烯酸和DHA等，本就容易被氧化，在加热的过程中，随着温度上升，氧化反应的速率加快，氧化后的不饱和脂肪酸如同一位“良民”变为“妖魔”一样，它们进入人体会增加自由基产生，甚至会破坏DHA和细胞结构等。

这段文字主要介绍()

- A. 鸡蛋煮太长时间会使其流失营养成分
- B. 鸡蛋中含有的不饱和脂肪酸很容易氧化
- C. 氧化后的不饱和脂肪酸如同妖
- D. 鸡蛋煮太久会使胆固醇发生氧化

【答案】A

【解析】文段开头先提出一个观点“鸡蛋煮太久会破坏其营养素”，之后展开具体的解释说明。文段是总分结构选 A。

12. 《健康时报》报道过这样一则新闻，寒冷天气，陈小姐一直穿着丝袜和短裙，追求“美丽冻人”。随后发现其腿部皮肤突然呈现青红色，并出现皮下结节和斑块，还略有疼痛感。经南京市第二医院皮肤科诊断后，确认其患上了寒冷性脂膜炎。南京市第二医院皮肤科医生于晓云介绍，寒冷性脂膜炎是一种由于寒冷、血运不良直接作用而导致的脂肪组织损伤，多见于冬季，接触冰块、冰水或暴露于冰冷空气中后发生，冻疮者尤其好发。受冷后 2 至 3 天，在暴露部位发生疼痛性或无痛性境界清楚的皮下结节或斑块，表面皮肤青红色或发绀色，局部温度降低，多发于大腿、臀部、面颊和下腹部。

这段文字主要介绍了（ ）。

- A. 寒冷性脂膜炎是一种脂肪组织损伤
- B. 在低温环境中，脂组织可能会出现问题
- C. 冻疮患者容易引发脂肪组织损伤
- D. 脂肪组织损伤就是在暴露部位发生疼痛性或无痛性境界清楚的斑

块

【答案】A

【解析】文段开头通过一则新闻引出寒冷性脂膜炎，之后引用专家的话引出观点，最后进一步进行解释说明。所以文段的主体是寒冷性脂膜炎，根据主体排除法选 A

13. 千里姻缘一线牵，本是一桩美事，但目前依托互联网而产生的婚恋平台却布满了精心设计的套路。在《法制日报》记者的调查中，诸如“注册后邀请去线下门店，交了钱之后态度敷衍”、“关在屋里两三个小时的洗脑，要求交几万元的会员费”“注册后，各种不同的号码打来骚扰电话”等问题也频频出现。据业内人士透露，一些婚恋平台往往在签订的合同中不会写明约见对象、负责红娘等详细信息，因此在之后法律纠纷中，消费者难以举证维权。按照婚介服务国家标准和行业准则，婚介工作人员应该持有婚介师等从业资格证书，但大部分红并不具备专业资格，而是充当销售的角色。

下列说法符合文意的一项是()

- A. 虚假相亲成为婚恋平台的诈骗手段
- B. 互联网婚恋平台全都充满消费陷阱和套路
- C. 大多数婚恋平台都会夸大服务效果且退款难
- D. 许多婚介工作人员并不具备专业资格

【答案】D

【解析】A 项虚假相亲文段未提及，B “全都” 过于绝对。C 文段是“一些” 选项是“大多数” 偷换数量，并且退款难未提及

14. 在中国政治思想史上，老子的政治谋略自成一家，其中心内容，就是倡导“无为而治”。作为政治谋略，不仅有利于提醒统治者在治民实

践中，避免干扰老百姓的正常生活，注重给民众以“休养生息”的机会；而且有利于弥补儒、墨、法诸家实施“有为之治”的某些缺陷，并矫正其失误。强调无为之治，从本质上说，就是要求统治者清虚自守，卑弱自持。这表现了“知风化之本，见政理之源”（李世民语）的特色。在中国政治思想史上可谓独树一帜，自成一家。

对这段文字概括最准确的是（ ）

- A. 老子的“无为而治”，对中国和世界建立辩证思维体系产生了深远的影响
- B. 老子“无为而治”的政治哲学，对完善传统治道观贡献巨大
- C. 老子的“无为而治”，奠定了中国古代一元本体论哲学的理论基础
- D. 老子的“无为而治”，对后世确立追求真理的价值取向影响至深

【答案】B

【解析】文段首句引出“无为而治”的话题，之后通过递进强调“无为而治”可以弥补一些治道观的缺陷。最后再进一步解释说明，所以选B

15. 研究人员曾采用急性经口毒性试验和遗传毒性试验，对葡萄促干剂食用安全进行毒理学评价。结果显示，葡萄促干剂为无毒、无遗传毒性的食品添加剂，鲜葡萄在促干剂水乳中短时浸泡后，果农会对葡萄进行清洗，附着于葡萄表皮的强碱溶液很容易被水洗掉，故葡萄干上的促干剂残留量很低。研究人员曾对市场上随机抽取的3种葡萄干进行酸碱度测试，将这些葡萄干分别浸泡后，其水溶液pH值均显示为中性，因此无需担心使用过促干剂的葡萄干会有碱超标等潜在风险。食用从正规渠道购买的葡萄干产品，就无需担心促干剂残留超标烧伤肠胃或造成其他健康隐患。

上述文字主要讲述的是()。

- A. 葡萄促干剂对人的身体健康是否有影响
- B. 葡萄促干剂的起源和发展
- C. 葡萄促干剂为什么能使葡萄脱水
- D. 葡萄促干剂对新鲜葡萄有什么影响

【答案】A

【解析】文段通过实验研究，对葡萄促干剂使用安全进行毒理学评价。最后通过“因此”得出结论，葡萄促干剂对人体并无健康隐患。选A

16. 近日，一条福建省福州市教育局公开回复家长疑问的帖文，在网上引发关注和讨论。家长发帖问：学校为何放着电话、微信等通讯便捷的方式不用，反而安排入户家访，并直指入户家访“耗时”、“没必要”，()。对此，福州市教育局公开回复称，入户家访并未过时，入户家访是老师和家长之间最直接、最有温度的沟通方式，并非形式主义。

填入括号部分最恰当的是()。

- A. 在学校围墙里，有些教师其实并不了解社会，并不了解教育的意义
- B. 并不能让家长发现教育的意义和价值
- C. 会生出不该有的傲慢和偏见，让家访偏离了方向
- D. 质疑这是一种形式主义

【答案】D

【解析】横线处衔接上文家长对家访的观点，选D

17. 我们应该如何保持一个好的睡眠?养成良好的作息习惯，确定一

个就寝时间和一个起床时间。最好晚上 11 点前就能入睡，并保证第二天早晨不睡懒觉。如果你习惯睡午睡，不要超 45 分钟。定期锻炼，但在睡觉前，体质越是敏感的人，越运动越睡不着。晚上最好的运动方式是散步。睡前 4 小时避免过量饮酒，不要吸烟。避免食用辛辣、过甜等重口味食物，睡前 6 小时避免使用咖啡因，包括咖啡，茶和巧克力。用热水泡泡脚，听听舒缓的音乐，关闭电子产品，减少光线，尽力创造一个黑暗的入睡环境。

根据这段文字，下列说法错误的是()。

- A. 作息规律很重要
- B. 手机等电子产品不利于人们的身体健康
- C. 好的睡眠需要多方面共同培养
- D. 锻炼不是保持好睡眠的唯一要求

【答案】B

【解析】B 手机等电子产品不利于人们的身体健康，文段当中并没有明确提及

18. 和公彩不同的是，私彩是私人坐庄，除了中奖结果是依据公彩外，整体运作相当封闭。售彩的代理商可能不知道庄家是谁，这也不像公彩那样，会抽取公益金反哺公益慈善事业。且其赔率都是经过精心设定，由于没有法律和行政机关背书，中大奖了庄家也可能跑路。明知没有赢面，却依然重金下注，私彩助长的投机心理，造成的悲剧不在少数。

本段文字意在说明()。

- A. 类似妄想一夜暴富却只能半生几无收获的彩民多不胜数
- B. 不能因为私彩已渗透当地人的生活，就降低打击力度，放任自由
- C. 寄希望买私彩“维生”乃至“暴富”，根本不切合实际

D. 公彩和私彩都意味着博彩将全面合法化

【答案】B

【解析】文段开头先将私彩和公彩进行比较，提到私彩是私人组织的一种博彩。之后谈及私彩的危害。所以文段的重点是私彩导致的消极后果，意图判断优选对策，即要打击这种私彩活动，选 B

19. 国内马拉松热了多年，目前已从一二线城市逐衡深入到三四线城市，发展速度太快，我们既要看到马拉松赛事带来的经济增量和赛事消费额的飘升，更要对频频发生的各种因为赛事准备不足和服务欠缺而出现的种种事故引起足够重视

作者接下来最有可能描写的是（ ）

A. 目前国内对于马拉松这项运动的认识还不足，在赛事管理的水平与能力上还存在较大差距

B. 马拉松赛事自带流量，已成为不少城市推广城市品牌的理要抓手

C. 跑者们除了享受运动快乐之外，还可以通过明图分享、加入跑群等，让跑步更有趣

D. 我国马拉松赛事井喷式发展的原因

【答案】A

【解析】文段最后通过一个递进关联词将话题落脚在了要对马拉松赛事准备不足和服务欠缺而出现种种事故引起重视上，尾句话题偏消极，根据话题一致感情倾向选 A。

20. 从报道情况看，该公司的工作人员将李华带到一家整形美容医院“整容”，在合同还未签订之前，用个人身份信息办理了分期贷款的手续。

这就意味着。从法律上看，李华的整容和贷款，都是个人的行为面与该公司无关。尽管报李华表示，有关工作人员曾有过“如果没钱也不要紧，公司可以用我个人名义办理贷款，钱从美容津中出，不需要你花钱”的承诺，而这样的口头承诺，然不可能写进合同中，也很难进行查证，这就增加了当事人雄权的难度，不过，越是看似“天衣无缝”、无懈可击的“整容贷”，反倒越容易露出“马脚”来。

作者接下来最有可能描写的是()

- A. 当事人要如何维权
- B. “整容贷”常来的可怕后果
- C. 如何看出“整容贷”的破绽
- D. “整容贷”发展的原因

【答案】C

【解析】文段通过李华的整容贷经历，将话题通过“不过”落在了“整容贷”容易露出“马脚”来。所以围绕该话题的新内容即

21. 家里的冰箱，在某些情况下的确可以起到延长食物保质期的作用，但是，冰箱让食物的保质期延长并不代表就可以将食物的细菌也杀灭，它只是通过低温的形式抑制了部分有害菌的繁殖，如我们通常把冷藏室设置在4℃，冷冻室设置在-18℃，但并不是所有的细菌都会在这两种温度下得到抑制。所以，每种食物特点的不同，其感染细菌的条件也都各不相同，冰箱也只能起到辅助保鲜的作用，超期储存仍然会滋生细菌，影响食物的健康成分。

依据上述文字，下列说法错误的是()

- A. 即使食物放在冰箱，也有可能滋生细菌
- B. 冰箱可通过低温的形式制所有细菌的繁殖

- C. 每种食物感染细菌的条件都不尽相同
- D. 冰箱只是在一定的情况下可以延长食物的保质期

【答案】B

【解析】细节判断题。B选项的“所有细菌”错误，原文中表明低温的形式抑制的是部分有害菌的繁殖，故选B。

22. 心理学家指出，聊八卦是促进群体团结的一种方法，有利于拉近人际距离。聊聊八卦，互相分字消息，说明大家在同一个“圈子”里，促使大家成为朋友。八卦消息的表动效应和吸引眼球的效果，可以令八卦炒作者短时间内迅速成为众人关注的焦点，能满足炒作者的虚荣心。人们喜欢聊八卦，因为八卦不仅制造了巨大的娱乐效应，还能起到润滑人际关系的效果，促进建立某种趣味相投的亲密关系。聊八卦体现一种社会智商，善于聊八卦是情商高的体现。小道消息多是人们不愿暴露的“隐私”，能打听到这些，很能证明八卦者的人缘和沟通能力，给个人魅力加分。

根据上述文字，聊八卦的作用不包括()

- A. 促进人际交往
- B. 促进社会经济的发展
- C. 成为众人关注的焦点
- D. 满足人的虚荣心

【答案】B

【解析】细节查找题。文段只讲述的是聊八卦对于个人和人际关系的作用，并没有讲到对社会经济的发展有任何作用，故选B。

23. 褪黑素是由乳动物和人类的松果体产生的一种胺类激素，其确实能起到改善睡眠的作用，但副作用也不可忽视，长期大剂量服用褪黑素，

会成低体温、释放过多乳激素导致不孕、降低男性生理欲望等副作用。另外，由于褪黑素是经过肝脏代谢的，所以肝病患者不宜服用褪黑素，否则容易给肝脏造成负担，加重病情。

这段文字旨在强调()

- A. 日常生活中我们应该如何防治失眠
- B. 褪黑素可以改善睡眠
- C. 吃褪黑素会有哪些副作用
- D. 失眠患者最好不要吃褪黑素

【答案】C

【解析】主旨概括题。文段整体是由转折词引导的逻辑关系，转折前讲述的是褪黑素对改善睡眠的作用，转折后讲述的是褪黑素的副作用，重点在转折之后，A选项缺乏主体，排除；B选项讲的是转折前的内容，非重点，排除；D选项是引申对策项，排除。故选C。

24. 咽喉反流性疾病长期不做纠正会造成严重危害。首先，会导致癌前病变，咽喉反流可能是喉癌前病变和喉癌发生的危险因素之一。其次，咽喉反流极大影响生活质量，严重者可危及生命。第三，咽喉反流增加喉癌风险，反流性疾病患者发生喉癌的风险至少是对照人群的2倍。另外，胃酸的慢性重复性的化学刺激导致咽喉黏膜的损伤和改变。

这段文字的主旨是()

- A. 咽喉反流性疾病的危害
- B. 反流性咽疾的本质
- C. 如何预防咽喉反流性疾病
- D. 喉反流性疾产生的原因

【答案】A

【解析】主旨概括题。文段是总分结构，第一句话是核心观点，讲的是咽喉反流行疾病有严重危害，之后详细讲了四点具体的危害，为解释说明的内容。A选项是主旨句的同义替换，B选项的“本质”，C选项的“如何预防”，D选项的“原因”都不是文段重点，排除。故选A。

25. 曾有媒体报道，江苏某小学教师正常批评学生，但家长认为是教师辱骂、殴打学生，拉横幅围堵校门，过度维权。还有河南一学校学生欺凌殴打同学后突然猝死，家长不依不饶，哭闹“维权”要求学校赔偿。在时有发生这些“校闹”事件中，在“大闹大赔”、“小闹小赔”的无限责任下，学校和教师已然成为了最弱势群体，必要的惩戒不敢实施，合理的活动不敢组织，甚至影响正常的教学秩序。

根据文意，作者意在强调（ ）。

- A. 部分家长法治意识淡薄
- B. 学校应无原则息事宁人
- C. 不能再对“校闹”花钱买平安
- D. 要明确“校闹”边界

【答案】D

【解析】意图判断题。文段首先讲的是两则“校闹”的报道，最后一句话对问题进行总结，“校闹”产生的根源是“无限责任”，因此对问题提出解决方案就是把“无限”变成“有限”，也就是D选项中提到的明确“校闹”边界。故选D。

26. 今天，科学家们正从文本、声音与视觉三个角度，去尝试为人工智能赋予创作能力，并通过种变通的图灵测试来检验它的效果。需要说

明的是，人工智能的艺术创作，其重点并不在于创作者本身的表达，而在于这种表达能否激发观众的体悟，我们对许多不断诞生的突破性进展感到欣喜例如通过建模，我们有机会为许多人类艺术家保留他们创作峰时期的能力，并辅助他们延长创作时期的长度：通过对历史上著名艺术家的学习，我们有机会让数百年前的艺术家“复活”，去创作具有当代命题意义的新作：我们甚至有望通过融合不同艺术家的技法。去创造全新的艺术创作能力。

最适合做这段文字标题的是（）

- A. 将想象变为现实
- B. 人工智能：新创作主体带来新艺术可能
- C. 艺术，果真是人类独有的天赋吗
- D. 人类艺术是人工智能的全部意义

【答案】B

【解析】标题选择题。文段重点讲的是赋予人工智能在创作方面的能力，将人工智能的艺术创作不断诞生的突破性进展，所以，文段的主体是“人工智能”和“艺术创作”，与文段主体保持一致的是B选项。AC中没有提到“人工智能”，D选项讲“全部意义”不正确，故选B。

27. 人在呼吸的时候，气体从鼻孔进来以后，沿着鼻腔、鼻咽部、口咽部、喉部，经过气管进入肺部。“呼噜”是由于气体通过一个比较狭窄的地方时，产生强烈的气液变化振动导致的声音，也就是说从鼻孔到肺部的这段结构，任何一个地方发生狭窄，都会产生打呼的情况

下列最合适上述文字的小标题的是（）。

- A. 什么样的人容易打呼噜

- B. 打呼如何预防和治疗
- C. 打呼会对身体产生什么危害
- D. “呼噜”到底是怎么产生的

【答案】D

【解析】标题选择题。文段整体是讲气体从进入人体到呼出人体的过程，最后提到“任何一个地方发生狭窄，都会产生打呼噜的情况”，所以，文段讲的是呼噜的产生过程。D选项的表述符合文段内容，故选D。

28. ①小枣最初也就米粒大小，再过几天，就渐似绿色的珍珠翡翠，挂满枝头，随风摇曳，很是迷人
- ②然而，枣树结果却不因花小香淡而含糊
- ③只有再仔细观察，才能发现枣花也开得十分认真，每朵花都由五个小花瓣组成。像是一个个五角星
- ④几天过后，满树的枣花就变成了翠绿的小枣
- ⑤枣花开时不妖不艳，花与叶几乎同色，且花朵很小，不仔细看，甚至不会用花来称呼它

将以上5句子重新排列，语序正确的是

- A. ⑤③②④①
- B. ⑤④③②①
- C. ⑤③②①④
- D. ⑤①③②④

【答案】A

【解析】语句排序题。首先看⑤应与哪一句关联，⑤描述的是“枣花”，①④句中都涉及到“小枣”，③依然讲“枣花”，根据话题一致，排除BD

选项，对比 AC 选项，关键在与①④的先后顺序，第四句讲枣花变成小枣，第一句讲小枣慢慢长大，根据事例关系可知，第一句应放在最后，故选 A。

29. ①根据乾陵建筑对称布局的特点，“无字碑”与“述圣记碑”显然是在高宗去世时由武则天同时主持竖立的，而这块“无字碑”，自然是武则天预先为自己准备的“功德碑”

②无字碑上为何无字，人们对此有种种说法，有无数的人在猜测在探究这千古之谜

③墓前立有两块高大雄浑的石碑，西面是“述圣记碑”，上面 8000 余字的碑文是歌颂唐高宗功绩的

④东面就是武则天的“无字碑”，碑由一块巨大的整石雕成，碑头雕有 8 条互相缠绕的螭首，饰以天云龙纹

⑤乾陵是唐高宗李治与女皇武则天的合葬陵墓，为我国历代帝王陵园中唯一的夫妇两帝合葬墓

⑥数年前，我曾到陕西乾县的梁山走访乾陵，曾在无字碑旁久久默立，思绪成千

将以上 6 个句子重新排列，语序正确的是

A. ⑥②③①⑤④

B. ②③⑤⑥④①

C. ②⑥④①⑤③

D. ⑥⑤③④①②

【答案】D

【解析】语句排序题。判断首句，②在探究无字碑为何无字，⑥先引出与“无字碑”相关的话题，更适合做首句，排除 BC 选项，⑥中讲到

“走访乾陵”，⑤是介绍“乾陵”，这两句话话题一致，且符合事理关系，所以应该关联在一起，排除 A。故此题选 D。

30. ①这时，得把之前蒸熟的精米倒入锅中，加入适量的黄糖，然后用农家特制的大铁锅铲将糯米和粘稠米浆充分搅匀

②说起蒸黄粑，这可不是简单的事情，在老家，这是过年必备的

③一翻搅拌后，糯米和米浆已经变成了微黄的一团

④回到家里，把米浆倒入锅中，然后添上柴火加热，米浆在柴火中逐渐变熟，变成粘稠状

⑤年夜饭过后，母亲将一小盆事先浸泡了两天的米粒拿到邻居陈大婶家磨成米浆

⑥早在几天前，大人们在准备汤圆面的时候，就会多做点米面出来，为年夜里的蒸黄粑做好准备

将以上 6 个句子重新排列，语序正确的是（）。

A. ②⑥①⑤③④

B. ⑤①②⑥③④

C. ②⑥⑤④①③

D. ⑤④①③②⑥

【答案】C

【解析】语句排序题。②句先引出“正黄粑”这个话题，⑤句已经在讲述正黄粑的制作过程，应该先引出话题，排除 BD 选项，⑤句讲到“母亲到邻居家磨米浆”，④句中讲到“回到家里，把米浆倒入锅中”，这两句话话题一致且有先后顺序，所以⑤应与④关联，且⑤在前，④在后，满足条件的是 C 选项，故选 C。

第二部分 数量关系

(共 20 题, 参考时限 20 分钟)

本部分包括两种类型的试题:

一、数字推理: 每小时 0.9 分, 共 10 题。给你一个数列, 但其中缺少一项, 要求你仔细观察数列的排列规律, 然后从四个选项中选出最符合规律的一项来填补空缺项。

31. 1, 3, 7, 13, ()

A. 18 B. 19 C. 21 D. 23

【答案】C

【解析】做差分别为 2, 4, 6; 所求项=13+8=21。

32. $1/3, 1, 4, 20, ()$

A. 105

B. 120

C. 140

D. 150

【答案】B

【解析】相邻两项倍数关系分别为 3, 4, 5; 所求项 $20 \times 6 = 120$

33. 4, 9, 16, 25, ()

A. 36

B. 42

C. 48

D. 56

【答案】A

【解析】幂次数列，分别是 2^2 ， 3^2 ， 4^2 ， 5^2 ；所求项 $6^2=36$

34. 2, 4, 4, 8, 16, ()

A. 36

B. 48

C. 56

D. 64

【答案】D

【解析】做商分别为 2, 1, 2, 2; $2 \times 1=2$, $1 \times 2=2$, $2 \times 4=4$; 所求项 $16 \times 4=64$ 。

35. 6, 11, 17, 24, 32, ()

A. 38

B. 41

C. 48

D. 52

【答案】B

【解析】做差 5, 6, 7, 8; 所求项 $32+9=41$

36. $2/3$, $5/8$, $13/21$, $34/55$, ()

A. $45/127$

B. $54/134$

C. $89/144$

D. 76/145

【答案】C

【解析】分子都由前一项的分子和分母相加得来，所以 $34+55=89$ 。

37, 2, 3, 4, 6, 9, ()

A. 11

B. 13

C. 14

D. 15

【答案】C

【解析】 $2+3-1=4$, $3+4-1=6$, $4+6-1=9$; 所求项 $6+9-1=14$ 。

38, 15° , 30° , 60° , 90° , ()

A. 120°

B. 140°

C. 160°

D. 180°

【答案】A

【解析】其他的数跟 15 的关系，分别是 2, 4, 6 倍，所以下一项 8 倍。

39, 2, 3, 5, 10, 20, 40, ()

A. 60

B. 70

C. 80

D. 100

【答案】C

【解析】每一个数等于前面所有数相加。

40. 2, 6, 12, 20, ()

A. 28

B. 30

C. 36

D. 40

【答案】B

【解析】做差分别是 4, 6, 8; 所以 $20+10=30$

二、数学运算：每小题 1.1 分，共 10 题。每道试题呈现一道算术式，或表述数字关系的一段文字，要求你迅速、准确地记算或论证出答案。

41. 现有 26 颗糖果，要分给 5 位小朋友，假设要使得每位小朋友分到的糖果数量各不同，那么分的糖果数量最多的小朋友至少可以分到多少颗糖果？（ ）

A. 5

B. 6

C. 7

D. 8

【答案】D

【解析】设最多的至少 X 颗， $X+X-1+X-2+X-3+X-4=26$ ， $X=7^+$ ，所以选择 8。

42. 有一批零件，甲和乙合作需要 15 天完成。若甲和乙合作 10 天后，。

乙再独自工作 6 天，最后这批零件还有总任务的 $\frac{1}{10}$ 没完成，问甲单独做这批零件需要（ ）天

- A. 30 B. 36 C. 38 D. 40

【答案】B

【解析】 $15 \times (\text{甲} + \text{乙}) \times 0.9 = 10(\text{甲} + \text{乙}) + 6 \times \text{乙}$ ， $\frac{\text{甲}}{\text{乙}} = \frac{5}{7}$ ，总量 $15 \times 12 = 180$ ， $180 \div 5 = 36$ 。

43. 某活动设有 5 个等级奖金，其奖金依次成等比数列关系，已知五等奖的奖金为 3000 元，三等奖的奖金为 3600 元。问一等奖的奖金比三等奖要多（ ）元。

- A. 650 B. 700 C. 720 D. 750

【答案】C

【解析】 $3600 \times q^2 = 3000$ ； $q^2 = 5/6$ ； $3600 \div 5/6 = 4320$ ； $4320 - 3600 = 720$

44. 某零件加工厂来了 7 位新人，但加工厂只有 2 个师傅，如果安排 1 个师傅教 4 位新人学习加工零件，问不同的安排方案共有（ ）种。

- A. 60 B. 70 C. 80 D. 110

【答案】B

【解析】 $C_7^4 \cdot C_2^1 = 70$

45. 某老人旅游团准备坐船游玩，船的数量一定。已知如果每艘船坐 22 人，最后会有 5 人没有位置。如果每艘船坐 26 人，则会空出 15 个位置。问若每艘船坐 25 人，会空出多少个位置？（ ）

- A. 4 个 B. 6 个 C. 8 个 D. 10 个

【答案】D

【解析】设 X 艘船， $22x+5=26x-15$ ， $x=5$ ，总人数： $22x5+5=115$ ；总位置-总人数= $25x5-115=10$ 。

46. 去文具店购买文具用品，已知买 7 盒水彩笔、3 瓶墨水、1 个笔记本共需要 50 元，买 10 盒水彩笔、4 瓶墨水、1 本笔记本共需要 69 元。间若买 2 盒水彩笔、2 瓶墨水、2 本笔记本共需要多少钱？（ ）

- A. 24 元 B. 26 元 C. 28 元 D. 30 元

【答案】A

【解析】分别设水彩笔 X 元，墨水 Y 元，笔记本 Z 元， $7X+3Y+Z=50$ ， $10X+4Y+Z=69$ ，配出 $21X+9Y+3Z=150$ ① $20X+8Y+2Z=138$ ②；①-②得 $X+Y+Z=12$ ；所以 $12 \times 2=24$ 。

47. 实验室有一桶浓度为 40% 的氯化钠溶液，已知往其中加入 4 千克的水后，该氯化钠溶液的溶度变为 30%。倘若要使得该溶液的浓度变为 50%，那么应向氯化钠溶液中加入多少千克的氯化钠固体？（ ）

- A. 5.4 千克 B. 6.4 千克
 C. 6.8 千克 D. 7.2 千克

【答案】B

【解析】设氯化钠溶液 X 克，

$30\% = \frac{40\%X}{X+4}$ ， $X=12$ ，原有溶质 $12 \times 40\% = 4.8$ 。设加氯化钠 Y 克， $50\% = \frac{4.8+Y}{12+4+Y}$ ， $Y=6.4$

48. 某制衣厂有一批衣物要加工完成，假设每个工人每天的效率样，则计划派 180 名工人工作 12 天则可完成。在工作 4 天后，由于特殊原因需要提前 2 天完成衣物的加工。问需要增加多少名工人？（ ）

- A. 40 名 B. 50 名 C. 60 名 D. 70 名

【答案】C

【解析】设每人效率 1. 总量=180x12=2160, $2160-4x180=1440$, $1440 \div (12-4-2)=240$ 人, $240-180=60$ 人。

49. 某校共有 90 名志愿者服务某次体育比赛, 已知有 53 名志愿者去了球类比赛。82 名志愿者去了田径比赛, 有 6 名志愿者既没有去球类比赛, 也没有去田径比赛。问该代表团既去了球类比赛又去了田径比赛的志愿者有 () 名。

A. 46 B. 48 C. 51 D. 56

【答案】C

【解析】 $53+82-x=90-6$, $x=51$

50. 某家电商场售有一种微波炉, 现在进行促销活动, 若按原销售价打九折出售, 则每台可盈利 215 元, 若按原售价打八折出售, 则每台会亏损 125 元, 问这种微波炉每台原销售价是多少元? ()

A. 2845 元 B. 3060 元 C. 3400 元 D. 3680 元

【答案】C

【解析】设原销售价 X, 成本为 Y。 $0.9X-Y=215$, $0.8X-Y=-125$, 解得 $X=3400$ 。

第三部分 判断推理

(共 25 题, 参考时限 25 分钟)

本部分包含四种类型的试题:

一、图形推理: 每小题 1 分, 共 5 题。请从所给的四个选项中, 选择最合适的一个, 使之呈现一定的规律性。

51. 从所给的四个选项中，选择最合适的一个填入问号处，使之呈现一定的规律性。()



A

B

C

D

【答案】D

【解析】本题考查汉字笔画。题目中汉字笔画从左往右依次为：2、3、4、(5)，故需要找 5 笔画的图形，D 选项笔画为 5 笔，故当选。故本题答案为 D。


52. 请从所给的四个选项中，选择最合适的一个填入问号处，使之呈现一定的规律性。()



【答案】B

【解析】本题考查字母顺序，从左往右字母之间间隔两个字母：J(KL)M(NO)P(QR)S(TU)V(WX)Y，故问号处要为Y，故答案为B。

53. 请从所给的四个选项中，选择最合适的一个填入问号处，使之呈现一定的规律性。()

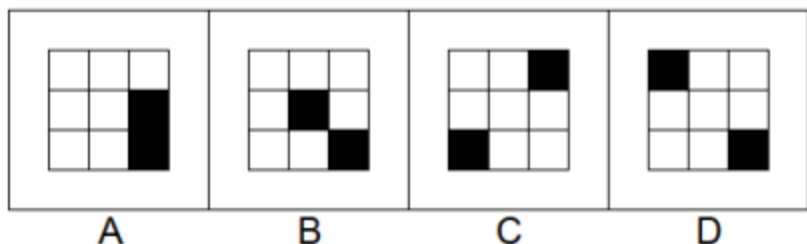


【答案】C

【解析】本题考查曲线数量。题目中曲线数从左往右分别为：2、2、2、2、2、(2)，故选项中应找曲线数为2的。

故本题答案选C。

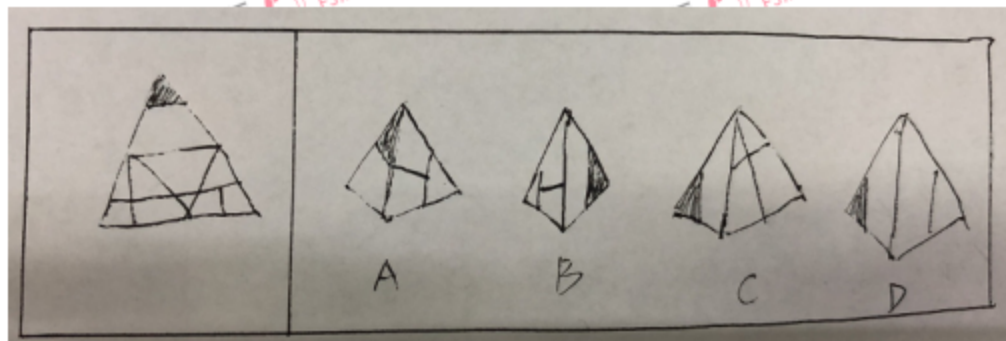
54. 请从所给的四个选项中，选择最合适的一个填入问号处，使之呈现一定的规律性。()



【答案】D

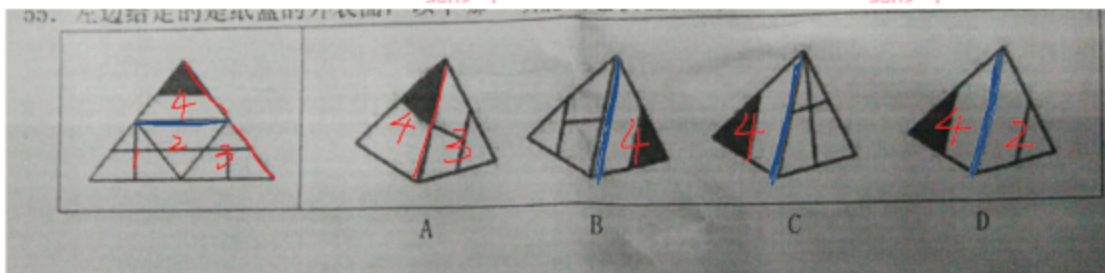
【解析】九宫格命题形式，纵向找规律。每一列从上往下，黑色块往下移动一格，且为循环跑，故答案选D选项。

55. 左边给定的是纸盒的外表面，以下哪一项能由它折叠而成? ()



【答案】D

【解析】如图所示：



A 选项中 4、3 两个面的公共棱位置错误，故排除；

B 选项，展开图 4 的底下边应挨着 2，但是在 B 选项中却挨着 3，故排除；

C 选项，展开图 4 的底下边应挨着 2，但是在 B 选项中挨着 1，故排除；

D 选项涉及 4、2 两个面的位置关系，立体与展开图一致，故正确。

二、定义判断：每小题 0.8 分，共 5 题。每道题先给出一个概念的定义，然后分别列出四种行为，要求你严格依据定义从中选出一个最符合或最不符合定义的答案。注意：假设这个定义是正确的，不容置疑的。

56. 训练，指有计划、有步骤地通过学习和辅导掌握某种技能。有意识地使受训者发生生理反应，从而改变受训者素质、能力的活动。

根据上述定义，下列选项不属于训练的是

A. 某足球运动员经常要发界外球，因此教练特意对其加强大力手抛球的练习

B. 小张经过三个月的长跑运动训练，长跑距离由 5 公里增加到了 10 公里

C. 某患者手指协调性不足，医生建议其进行长时间的手转健身球活动

D. 小明某次数学考试错误较多，老师在放学后单独留下小明为其讲解试题

【答案】D

【解析】本题为选非题。定义要点：①有计划、有步骤地通过学习和辅导掌握某种技能，②发生生理反应。

A 选项，特意对其加强大力手握求练习符合①②要点，符合定义，排除；

B 选项，长跑训练符合①②，符合定义，排除；

C 选项，长时间手转健身球活动，符合①②要点，符合定义，排除；

D 选项，讲解试题，并非是“有计划、有步骤的”不符合①，且未体现生理反映，故不符合定义。

故本题答案选 D 选项。

57 因果型预测方法是指依据事物运动变化的因果关系，由已知原因的“脉络”估测未来结果的种预测方法。

根据上述定义，下列选项中运用了因果型预测方法的是()

A. 小倪每次考试都名列前茅，一定是班上的“三好学生”

B. 运动员小李没有获得奖牌，一定是平时训练不刻苦

C. 小彭利用职务之便，大量侵吞国有财产，总有一天会被绳之以法

D. 小杨花钱大手大脚，她一定没有存款

【答案】C

【解析】定义要点：已知原因预测未来结果。

A 选项，“一定是班里的三学生”，不是对未来结果的预测，而是当前情况的判断，故不符定义，排除；

B 选项，“平时训练不刻苦”是对过去行为的判断，而非对未来的预测，故不符定义，排除；

C选项，“总有一天会被绳之于法”，体现了对未来的预测，符合定义；
D选项，“她一定没有存款”是对她当前情况的判断，不符合定义，排除。

故本题答案为C选项。

58 本来是一种通道的刺激能引起该通道的感觉，现在还是这种刺激却同时引起了另一种通道的感

觉，这种现象叫联觉。通俗意义上来说联觉就是各种器官能奇妙地混合在一起，大脑里通常互不相干的几个感觉区域之间产生沟通

根据上述定义，下列不属于联觉的情形的是()

A. 一个儿童看到红色会觉得酸，看到蓝色会觉得苦

B. 王某吃西瓜觉得很甜，多吃了几块，结果拉肚子。

C. 每当小天在琴前，手指碰触琴键的时候，一股强烈的色彩感就会冲击全身，就好像遭受了一次电击一样痛苦。

D. 李某听到一条稿件的内容后，会立即看到颜色，闻到气味，并产生其他连带反应

【答案】C

【解析】本题为选非题。定义要点为：①还是这种刺激；②引起另一种通道的感觉

A选项，红色和蓝色是属于同一类刺激，且引起的酸与甜都是属于不同通道的感觉，故符合定义；

B选项，前后都是吃西瓜一种刺激，分别引起了味觉以及肚子的感觉，符合引起另一种通道的刺激，符合定义，排除；

C选项，“手指触碰键盘的时候……好像遭受了一次点击”，因此点击的疼痛并不是人真实的感觉，而是一种比喻的手法，故不符合要点②，不

符合定义；

D 选项，前后都是一个稿件内容的刺激，引起了颜色和气味不同通道的感觉，符合定义，排除；

本题为选非题，故答案为 C 选项。

59. 超限效应是指刺激过多、过强或作用时间过久，从而引起心理极不耐烦或逆反的心理现象。

根据上述定义，下列不符合超限效应的是()

A. 甲学习成绩很差，父母经常批评他，久而久之他感觉很厌烦

B. 乙在会上讲话，开讲 30 分钟大家觉得他讲的很好，后来由于他讲的时间过久，大家感觉很无聊甚至厌烦

C. 丙连续加班一周，感到非常疲惫，对公司的忍耐已经到了极限，提出了辞职

D. 丁是一个老师，她因为儿子意外身亡，上课时无法集中注意力

【答案】D

【解析】本题为选非题。定义要点：①刺激过多、过强或时间过久；②引起不耐烦或逆反心理。

ABC 选项均符合要点①②；

D 选项，符合要点②，但是无法集中注意力，不符合要点②，故不符定义。

本题为选非题，故答案选 D 选项。

60. 根据能力的运用范围，可以把能力分为一般能力与特殊能力，一般能力是在很多基本活动中表现出来的能力，它适用于广泛的活动范围。在西方心理学中把一般能力称为“智力”。特殊能力是表现在某些专业活动中的能力，它只适用于某种狭窄的活动范围

根据上述定义，以下哪项体现了特殊能力?()

- A. 小东记忆力特别好，看什么都过目不忘
- B. 小南语言表达特别清晰，一直担任学校辩论队的主力
- C. 小西观察能力特别强，无论多细微的区别都能分辨出来
- D. 小北对音准特别敏感，节奏感很强，最终成为了一名优秀的钢琴演奏家

【答案】D

【解析】定义要点：①一般能力是很多基本活动中体现的能力；②特殊能力是某些专业活动中的能力。

ABC 中的记忆力、语言表达能力、观察能力都是很多基本活动中表现的能力，属于一般能力；

D 选项中的对音准的敏感性，属于在音乐这以专业领域中的能力，故属于特殊能力。

故本题答案为 D 选项。

三、类比推理。本类题共 10 小题，每小题 0.7 分，共 7 分。每道题先给出一组相关的词，要求你在备选答案中找出一组与之在逻辑关系上最为贴近、相似或匹配的词。

61. 淘宝：购物（）

- A. 键盘：打字
- B. 微信：聊天
- C. 讲台：上课
- D. 工地：施工

【答案】B

【解析】功能对应。淘宝具有网购的功能，且从二级辨析来看属于网络工具。

A 选项，键盘有打字的功能，但是不属于网络工具，故与题目不接近，排除；

B 选项，微信有聊天的功能，且也属于网络工具，与题接近，故当选。；

C 选项，讲台是老师上课时使用的工具，但不属于网络工具，排除；

D 选项，土地可以用于施工，但不是网络工具，故排除；

个本题答案选 B 选项。

62. 二胡:乐器 ()

A. 咖啡:饮料

B. 牡丹:富贵

C. 物理:理科

D. 鲸鱼:鱼类

【答案】A

【解析】属种关系。二胡是一种乐器，且从二级辨析来看二胡是生活休闲爱好。

A 选项，咖啡是一种饮料，且是生活休闲爱好；

B 选项，牡丹象征富贵，是象征关系，排除；

C 选项，物理是理科，但是并非是休闲娱乐，故排除；

D 选项，鲸鱼不是鱼类，而是属于哺乳动物，故排除。

故本题答案为 A 选项。

63. 鲁迅:《朝花夕拾》

A. 沈从文:《边城》

B. 朱自清:《呐喊》

C. 孙悟空:《西游记》

D. 曹雪芹:《水传》

【答案】A

【解析】作者与作品对应。

A 选项,《边城》作者为沈从文,跟题目一致;

B 选项,《呐喊》的作者为鲁迅,不是朱自清,排除;

C 选项,《西游记》作者为吴承恩,不是孙悟空,排除;

D 选项,《水浒传》作者为施耐庵,不是曹雪芹,排除。

故本题答案选 A 选项。

64. 美国:加拿大 ()

A. 英国:法国

伊朗:芬兰

C. 波兰:缅甸

D. 南非:新加坡

【答案】A

【解析】美国和加拿大是并列关系,且都是属于北美洲的两个发达国家。

A 选项,英国和法国都是属于欧洲的发达国家,与题目一致;

B 选项伊朗是亚洲国家,芬兰是欧洲国家,排除;

C 选项波兰是欧洲国家,缅甸是亚洲国家,排除;

D 选项,南非是非洲国家,新加坡是亚洲国家,排除;

故本题答案选 A 选项。

65. 米饭:面条 ()

A. 豆浆:牛奶

- B. 馒头:米粉
- C. 菠萝:橘子
- D. 牛肉:土豆

【答案】B

【解析】题目中米饭和面条都是食物，是并列关系，且都是由五谷杂粮中的大米和小麦加工而成。

- A 选项，豆浆和牛奶是并列关系，但是并非都有五谷杂粮加工而成，排除；
B 选项，馒头和米粉是并列关系，且都由五谷杂粮中的大米和小麦加工而成，与题目逻辑一致；
C 选项，菠萝和橘子是并列关系，都是水果，与题目不一致；
D 选项，牛肉和土豆不属于同一类型，是全异关系。
故本题答案为 D 选项。

66. 大学生:党员()

- A. 医生:天使
- B. 垃圾:干垃圾
- C. 作家:画家
- D. 男人:英俊

【答案】C

【解析】大学生和党员是交叉关系。

- A 选项，天使可以用来形容医生与护士，而非交叉关系，排除；
B 选项，干垃圾是垃圾的一种，是种属关系，排除；
C 选项，作家和画家是交叉关系，与题目逻辑一致；
D 选项，英俊可以用来形容男性，属于偏正关系，排除；

故本题答案为 C 选项。

67. 爱情:甜蜜 ()

- A. 生活:苦涩
B. 团圆:幸福
C. 哈欠:睡觉
D. 荆棘:困难

【答案】A

【解析】本题为偏正关系：甜蜜的爱情。

- A 选项，苦涩的生活，构成了偏正关系，与题目逻辑一致；
B 选项，幸福和团员都是形容词，不存在偏正关系；
C 选项，哈欠意味着需要睡觉，两者并非偏正关系，排除；
D 选项，荆棘象征困难，属于象征关系，排除。

故本题答案选 A 选项。

68. 闭月羞花:玉树临风 ()

- A 空谷幽兰:春华秋实
B. 出水芙蓉:花好月圆
C. 金枝玉叶:双瞳剪水
D. 小家碧玉:风流倜傥

【答案】D

【解析】纵向对比。题目中第一个词闭月羞花形容女子长相貌美，玉树临风形容男子长相潇洒。D 选项小家碧玉也是形容女子外表，风流倜傥也是形容男性，故与题目逻辑一致，当选。

故本题答案选 D 选项。

69. 作家:创作:小说 ()

- A. 歌手:演唱:演员
B. 演员:表演:电影
C. 警察:罚款:法律

D. 工人:劳动:工厂

【答案】B

【解析】造句子：作家创作，形成作品小说。

D 选项演员表演，可以形成一个作品电影，逻辑与题目一致，当选；
故本题答案为 B。

70. 移动通讯:手机:网络 ()

A. 信息技术:电脑:键盘

B. 电子购物:支付宝:付款

C. 体育竞技:足球:运动员

D. 交通运输:汽车:公路

【答案】D

【解析】手机是一种移动通信设备，且必须用到网络，网络为名词。

A 选项，键盘是组成，排除；

B 选项，支付宝是支付方式，排除；

C 选项，运动员是参与者，不是必要的前提没有运动员足球也可以存在，
也有业余爱好者，排除；

D 选项，汽车是一种交通运输工具，且必须使用到公路，故当选。

故本题答案为 D 选项。

四、演绎《逻辑》推理：每小题 1 分，共 5 题。每题给出一段陈述，这段陈述被假设是正确的，不容置疑的。要求根据这段陈述，选择一个答案。注意，正确的答案应与所给的陈述相符合，不需要任何附加说明即可从陈述中直接推出。

71. 小林、小旭、小齐、小凡、小兵 5 个人参加比享，比赛成绩各不相同，他们成绩之间的关系是：小齐没有小旭高，小兵没有小凡高，小林

高子小馆，而小凡不如小齐高。则成绩最低的是（ ）

- A. 小兵 B. 小旭 C. 小产 D. 小凡

【答案】A

【解析】本题为分析推理题。使用直接排除法：①小齐没有小旭高，意味着小旭不会最低，排除B；②小兵没有小凡高，意味着小凡不会最低，排除D；③小凡不如小齐高，意味着小齐不会最低，排除C。故本题答案选A选项。

72. 某公司需要选派几名员工前往分公司，但由于某种特殊关系，人员分配需满足以下规律：

- (1) 若选甲，则乙也要选；
(2) 只有不选甲，才能不选丙；
(3) 要么不选丙，要么乙和戊中有人不被选中；
(4) 除非不选丙，否则选丁。

若不选乙，则下列选派正确的是（ ）。

- A. 同时选甲、丙、丁 B. 丙不选，丁、戊都选
C. 甲不选，丙、丁都选 D. 甲，丁、戊都不选

【答案】C

【解析】本题翻译推理题。

题干翻译为

- (1) 甲 \rightarrow 乙；
(2) \neg 丙 \rightarrow 甲；
(3) 要么 \neg 丙、要么 $(\neg$ 乙 \vee \neg 戊)；
(4) 丁 \vee 乙。

已知：乙不选，根据(1)否后推否前，得到甲不选，因此排除 A、D 选项。又根据(3)，乙不选，则推出(一乙 \vee 一戊)为真，要么...要么...，必有一真一假，因此丙上场为真，因此，选 C 选项。

73. 相比那些不参加冲浪运动的人，经常参加冲浪运动的人一般都健康些可见，冲浪运动能锻炼身体，增进身体健康。

以下哪项最有力地对上述论证提出了质疑？ ()

- A. 无论什么人参加冲浪运动都是为了锻炼身体，增进健康
- B. 锻炼身体、增进健康有许多方式，例如，参加长跑，球类活动、游泳等都能锻炼身体，增进健康
- C. 冲浪是一项十分危险的运动，每年都有一些人在冲浪运动中受伤，甚至有些人的伤势还很严重
- D. 身体健康状况不好的人大多都不会参加具有一定危险性的冲浪运动

【答案】D

【解析】本题为论证削弱题。论点：冲浪运动能锻炼身体，增进身体健康；论据：相比那些不冲浪的人，经常冲浪的人的身体普遍健康些。本题论点与论据间存在因果关系，所以需削弱论点。

A 中冲浪是出于锻炼，B 锻炼身体的方式多样化，C 中冲浪的危险性，均与冲浪能锻炼身体无关，属无关选项；

D 中说明先有身体好，后有参加运动，所以是因果倒置，通过对推出结论的前提是否有效削弱论点；

故本题答案为 D 选项。

74. 李华到甲级体育联赛永恒者队报道的第一天，就看到几个队员的球技非常差。于是李华断定：甲级体育联赛是一个水平很低的联赛，这个

联赛里的球员的球技都非常差。

以下哪项如果为真，最能削弱上述论证？（ ）

- A. 永恒者队只是甲级体育联赛 30 支球队中的一支，而且甲级体育联赛的球员人数超过 500 人
- B. 李华对运动员的生活还不太适应
- C. 永恒者队教练的水平很低
- D. 甲级体育联赛在上一季度被评为当地最受欢迎的联赛

【答案】A

【解析】本题为论证削弱题。论点：甲级体育联赛是一个水平很低的联赛，这个联赛里的球员球技都非常差。论据：永恒者队的球员球技很差。

A 选项，点明了论据中的永恒者队不具有代表性，可以削弱；

B 李华对运动员的生活不适应、C 永恒者队的教练水平低、D 甲级体育联赛受欢迎，与题目中论点甲级体育联赛水平没有关系，论题不一致，排除。

故本答案为 A 选项。

75. 振华中学的高三教师中，刘某获得了由校方颁发的优秀教师奖。

如果上述断定为真，则以下哪项断定不能确定真假？（ ）

- I. 振华中学的高三教师都获得了优秀教师奖
- II. 振华中学的高三教师都没有获得优秀教师奖
- III. 振华中学的高三教师中，有人获得了优秀教师奖
- IV. 振华中学的高三教师中，有人没获得优秀教师奖

- A. 仅 I
- B. 仅 III 和 IV
- C. 仅 II 和 III
- D. 仅 I 和 IV

【答案】D

【解析】题目中给定的信息为：“某个获得了优秀奖”

据此可以判断②所有……都没，为假；③有人……获得，为真；其余的①④真假无法判断，故本答案为 D。

第四部分 常识判断

(共 30 题，参考时限 30 分钟)

每小题 0.7 分，共 30 题，根据题意，从四个选项中选出最符合题意的一项。

76. 根据《中华人民共和国统计法》和《全国人口普查条例》规定，国务院决定于 2020 年开展()全国人口普查。

A. 第五次

B. 第七次

B. 第六次

D. 第八次

【答案】C

【所属考试模块】公共基础知识

【知识点】时事政治

【难度】较易

【作者】福建公基研究院

【解析】根据《中华人民共和国统计法》和《全国人口普查条例》规定，国务院决定于 2020 年开展第七次全国人口普查。

本题正确答案 C。

【信息源】无

77. 习近平总书记近日对 2019 年 10 月 18 日至 27 日在湖北省武汉市举行的第七届世界军人运动会的成功举办作出重要指示。下列相关的说法中，不正确的是()。

- A. 第七届世界军人运动会的成功举办，体现了中国气派、军人特色
- B. 向世界展示了新时代的中国形象，宣示了中国和平发展主张
- C. 广大市民以主人翁姿态热情参与、积极奉献，为军运会圆满成功作出了重要贡献
- D. 位居金牌榜和奖牌榜第四，实现中国队在世界军人运动会赛场比赛成绩历史性突破

【答案】D

【所属考试模块】公共基础知识

【知识点】时事政治

【难度】较易

【作者】福建公基研究院

【解析】第七届世界军人运动会 2019 年 10 月 27 日在武汉正式落幕，中国以 133 金 64 银 42 铜名列金牌榜榜首和奖牌榜榜首，俄罗斯、巴西分列奖牌榜二、三位。

本题正确答案 D。

【信息源】无

78. 2019 年 11 月 7 日，国家卫生健康委等八部门联合发出《关于进一步加强青少年控烟工作的通知》(以下简称《通知》)，《通知》中强调，“把做好青少年控烟作为当前控烟工作重点”作为实现“() 年 15

岁以上人群吸烟率降低到 20%”控烟目标的重要举措。

A. 2020

B. 2025

C. 2030

D. 2035

【答案】C

【所属考试模块】公共基础知识

【知识点】时事政治

【难度】较易

【作者】福建公基研究院

【解析】《“健康中国 2030”规划纲要》强调要“全面推进控烟履约，加大控烟力度”，提出“到 2030 年，15 岁以上人群吸烟率降低到 20%”控烟目标。

本题正确答案 C。

【信息源】无

79. 2019 年 10 月 31 日，联合国教科文组织公布，66 座城市成为全球创意城市网络新成员，其中（）分别以其在文学和美食文化领域的成就，入选全球创意城市网络。

A. 昆明和北京

B. 南京和扬州

C. 上海和南昌

D. 长沙和成都

【答案】B

【所属考试模块】公共基础知识

【知识点】时事政治

【难度】较易

【作者】福建公基研究院

【解析】在“世界城市日”(10月31日)到来之际,联合国教科文组织批准66座城市加入教科文组织创意城市网络,网络成员数量达到246个。其中,南京和扬州分别被评为“文学之都”和“美食之都”。
本题正确答案B。

【信息源】无

80. 2019年10月,我国自主研发建造的全海深载人潜水器球壳建造完成并通过总体集成单位验收。这是世界上最大的()载人舱。

A. 百米级

B. 千米级

C. 万米级

D. 百万米级

【答案】C

【所属考试模块】公共基础知识

【知识点】时事政治

【难度】较易

【作者】福建公基研究院

【解析】由我国自主研发的全海深载人潜水器万米级载人舱成功建造完成,可搭乘3人下潜。这是目前世界上空间最大、搭载人数最多的万米级载人舱,已通过全海深静水外压试验考核和总体集成单位验收。

本题正确答案C。

【信息源】无

81. 在习近平总书记所作的十九大报告中指出,()是激励全党全国各族人民奋勇前进的强大精神力量。

A. 贯彻新发展理念

- B. 中国特色社会主义文化
- C. 实施乡村振兴战略
- D. 加快完善社会主义市场经济体制

【答案】B

【所属考试模块】公共基础知识

【知识点】时事政治

【难度】较易

【作者】福建公基研究院

【解析】习近平总书记在十九大报告中提出“中国特色社会主义文化是激励全党全国各族人民奋勇前进的强大精神力量”“要坚持中国特色社会主义文化发展道路”。

本题正确答案 B。

【信息源】无

82. “打铁必须自身硬”这句话主要强调的是()
- A. 内因是事物变化的根据
 - B. 矛盾只能通过一方克服另一方来解决
 - C. 假象无法反映事物的本质
 - D. 必然要通过偶然表现出来, 并为自己开辟道路

【答案】A

【所属考试模块】公共基础知识

【知识点】哲学

【难度】较易

【作者】福建公基研究院

【解析】习近平总书记在党的十九大提出了“打铁必须自身硬”的要求。

我们党对“自身硬”的要求,体现了内因是事物发展根据的哲学原理。
本题正确答案 A。

【信息源】无

83. 社会文明发展水平的根本标志是()。

- A. 精神文明建设
B. 国民整体素质提高
C. 自然环境改善
D. 生产力发展

【答案】D

【所属考试模块】公共基础知识

【知识点】哲学

【难度】较易

【作者】福建公基研究院

【解析】生产力的发展是衡量社会进步与否的根本标准。这是因为生产力发展是社会发展的根本内容;生产力发展是实现社会发展目标的根本条件;生产力发展是社会发展的集中体现,是社会文明发展水平的根本标志。

本题正确答案 D。

【信息源】无

84. 下列选项中,属于货币履行其价值尺度职能的是()。

- A. 小董在超市市场现购食材 1000 元
B. 小陈每月把 3000 元工资存入银行
C. 小朱每月需缴纳房屋契税 4000 元
D. 小邹购买艺术画,合同约定价格 10 万元

【答案】D

【所属考试模块】公共基础知识

【知识点】经济

【难度】较易

【作者】福建公基研究院

【解析】价值尺度是指货币表现其他一切商品是否具有价值和衡量其价值量大小的职能。D符合题意，合同约定价格10万元是货币价值尺度的职能。

本题正确答案D。

【信息源】无

85. 李某在上班途中,因掉头时反应速度过慢未及时踩刹车,将正在过马路的行人撞伤,造成行人脚踝骨折,李某随即送受伤行人前往附近医院就诊。李某的行为属于()。

A. 一般的交通肇事行为

C. 故意犯罪

B. 交通肇事罪

D. 危害国家安全罪

【答案】A

【所属考试模块】公共基础知识

【知识点】法律

【难度】较易

【作者】福建公基研究院

【解析】李某行为属于过失,可直接排除C。一般的交通肇事行为,只是一般过失责任事故,是普通行政违法行为。而交通肇事罪,是指违反道路交通管理法规,发生重大交通事故,致人重伤、死亡或者使公私财产

遭受重大损失，依法被追究刑事责任的犯罪行为。故 A 更符合题意。

本题正确答案 A。

【信息源】无

86. 下列关于法律的相关说法中，正确的是（ ）。

A. 76 岁的张某用老鼠药将儿媳毒死，构成犯罪，但可以从轻或减轻处罚

B. 15 岁的王某将三名同学锁入家中地下室，被人发现时三名同学已死亡，王某被法院判处死刑

C. 10 岁的周某因不满母亲没有将喜爱的玩具买给他，持刀将母亲刺死，周某构成故意杀人罪

D. 20 岁的郑某与室友切磋摔跤技艺，切磋过程中无意将室友摔倒在地，室友的头部被击打在了地上的钉子上，在送入医院途中因失血过多死亡，郑某不构成犯罪

【答案】A

【所属考试模块】公共基础知识

【知识点】法律

【难度】较易

【作者】福建公基研究院

【解析】已满 75 周岁的人故意犯罪的，可以从轻或者减轻处罚；过失犯罪的，应当从轻或者减轻处罚。A 选项正确。

本题正确答案 A。

【信息源】无

87. 中国古代历史上最后一个由汉族建立的中原王朝是（ ）。

- A. 唐朝
B. 明朝
C. 宋朝
D. 清朝

【答案】B

【所属考试模块】公共基础知识

【知识点】历史

【难度】较易

【作者】福建公基研究院

【解析】明朝是继唐宋以后，中国历史上最后一个由汉族建立的中原王朝。

本题正确答案 B。

【信息源】无

88. 李白是唐代伟大的浪漫主义诗人之一，下列选项中，不属于其代表作的是（ ）。

- A. 《石壕吏》
B. 《梦游天姥吟留别》
C. 《静夜思》
D. 《望庐山瀑布》

【答案】A

【所属考试模块】公共基础知识

【知识点】历史

【难度】较易

【作者】福建公基研究院

【解析】《石壕吏》是唐代诗人杜甫著名的“三吏三别”之一。（三吏三别即《新安吏》《石壕吏》《潼关吏》《新婚别》《无家别》《垂老别》）

本题正确答案 A。

【信息源】无

89. 福建省位于中国东南沿海,地势呈“依山傍海”态势,夏季高温多雨,冬季温和少雨,其气候类型为()。

- A. 热带雨林气候
B. 温带海洋性气候
C. 亚热带季风气候
D. 高原山地气候

【答案】C

【所属考试模块】公共基础知识

【知识点】地理

【难度】较易

【作者】福建公基研究院

【解析】福建靠近北回归线,受季风环流和地形的影响,形成暖热湿润的亚热带季风气候。

本题正确答案 C。

【信息源】无

90. 垃圾分类一般都是根据垃圾的成分构成、产生量来进行分类,所谓的“湿垃圾”指的是()。

- A. 可回收垃圾
B. 厨余垃圾
C. 有害垃圾
D. 其他垃圾

【答案】B

【所属考试模块】公共基础知识

【知识点】科技

【难度】较易

【作者】福建公基研究院

【解析】垃圾种类分为可回收物、干垃圾（其它垃圾）、湿垃圾（厨余垃圾）、有害垃圾。

本题正确答案 B。

【信息源】无

91. 阴天在野外迷路时, 可以靠树木或石头上的苔藓的生长状态来获知方位, 以树木而言, 树叶生长茂盛的方向即是 ()。

- A. 东方
- B. 西方
- C. 南方
- D. 北方

【答案】C

【所属考试模块】公共基础知识

【知识点】地理

【难度】较易

【作者】福建公基研究院

这是就北半球而言, 在北半球, 太阳最北的移动不会超过北回归线, 阳光会一直向北照射, 而植物会朝着有充足阳光的方向生长, 使树叶朝南的一面较密。而在南半球树叶北边会较密, 在赤道树叶会均匀生长。这些上了高中会有深入的学习。故本题正确答案为 C。

【信息源】无

92. 中国的航天科技是一颗耀眼的明星, 我国的 () 载人飞船以举步量天的形式展现出雄浑的国家实力。

- A. 天宫系列
- B. 长征系列
- C. 神舟系列
- D. 嫦娥系列

【答案】C

【所属考试模块】公共基础知识

【知识点】科技

【难度】较易

【作者】福建公基研究院

【解析】A项“天宫”是我国的空间实验室，是空间站的前期，相当于太空基地。我国目前还没有空间站。空间站是一种可供多名航天员巡访、长期居住和工作的航天器。我国目前只有“天宫一号”和“天宫二号”。B项“长征”指长征系列运载火箭，由我国自行研制的航天运载工具，就是把“神舟”载人飞船、“天宫”空间站、“嫦娥”探月探测器、“天舟”货运飞船、“东方红”卫星等各种航空航天设备送到太空的一种运输工具。因为卫星、飞船本身不能去太空，需要长征系列火箭运输。C项，“神舟飞船”是中国自行研制，具有完全自主知识产权的载人飞船，是航天员天地往返的载人工具。迄今为止，神舟系列载人飞船由专门为其研制的长征二号F火箭发射升空，发射基地是酒泉卫星发射中心。D项嫦娥工程”是2004年我国正式开展月球探测工程。迄今为止，我国“嫦娥”系列均在四川西昌发射升空。2007年10月24日，第一颗绕月卫星“嫦娥一号”成功发射升空。2010年10月1日“嫦娥二号”顺利发射。故本题正确答案为C项。

【信息源】无

93. () 是“中国五大戏曲剧种”之一，其是由山歌、秧歌、茶歌、采茶灯、花鼓调，先于农村，后入城市，逐步形成发展起来的一个剧种，代表作有《天仙配》《女驸马》等。

- | | |
|--------|-------|
| A. 京剧 | B. 评剧 |
| C. 黄梅戏 | D. 越剧 |

【答案】C

【所属考试模块】公共基础知识

【知识点】戏曲

【难度】较易

【作者】福建公基研究院

【解析】中国五大戏曲剧种分别为京剧、越剧、黄梅戏、评剧、豫剧。

1、京剧，代表作：《宇宙锋》《玉堂春》《长坂坡》《群英会》《打渔杀家》《五人义》

2、豫剧，代表作：《春秋配》《梵王宫》《三上轿》《黄鹤楼》《三拂袖》

3、越剧，代表作：《赖婚记》《珍珠塔》《双金花》《懒惰嫂》

4、黄梅戏，代表作：《天仙配》《女驸马》《罗帕记》《赵桂英》《慈母泪》

故正确答案为C项。

94. 二十四节气是日常生活中人们预知冷暖雪雨的指南针。在二十四节气中，代表一年中最冷的时候的节气是（ ）。

A. 大雪

B. 大寒

C. 立冬

D. 冬至

【答案】B

【所属考试模块】公共基础知识

【知识点】地理

【难度】较易

【作者】福建公基研究院

【解析】大寒是24节气中最后一个。每年1月20日前后太阳到达黄经

300° 时为大寒。这时寒潮南下频繁，是中国大部分地区一年中的最冷时期，过了大寒，又迎来新一年的节气轮回。

说完了最冷的节气，下面我们就来看看最热的节气。俗话说“冬练三九，夏练三伏”，最热的节气就是大暑。一般在每年的7月23日前后，太阳到达黄经120°。这时正值“中伏”前后，是一年中最为炎热的时期，气温最高，农作物生长最快。

故本题正确答案为B项。

【信息源】无

95. 百节年为首，春节是中华民族最隆重的传统佳节。下列选项中，不属于春节的常见习俗的是（ ）。

- A. 辞青
- C. 舞狮

- B. 守岁
- D. 贴年红

【答案】A

【所属考试模块】公共基础知识

【知识点】地理

【难度】较易

【作者】福建公基研究院

【解析】春节是中国民间最隆重盛大的传统节日，是集祈福消灾、欢庆娱乐和饮食为一体的民俗大节。春节历史悠久，由上古时代岁首祈年祭祀演变而来，在传承发展中承载了丰厚的历史文化底蕴。新春贺岁围绕祭祀祈年为中心，以除旧布新、迎禧接福、拜神祭祖、祈求丰年等活动形式展开，内容丰富多彩，热闹喜庆，年味浓郁，凝聚着中华文明的传统文化精华。在春节期间，全国各地均有举行各种贺岁活动，各地因地域文化不同而又存在着习俗内容或细节上的差异，带有浓郁的各地域特色。

A 项辞青属于重阳节，故本题选择 A 项。

【信息源】无

96. 《水浒传》一书中，有“花和尚”称号的是（ ）。

- A. 鲁智深
- B. 李逵
- C. 宋江
- D. 花荣

【答案】A

【所属考试模块】公共基础知识

【知识点】文史

【难度】中等

【作者】福建公基研究院

【解析】《水浒传》是第一部描写农民起义的小说，全书围绕“官逼民反”这一线索展开情节，表现了一群不堪暴政欺压的“好汉”揭杆而起，聚义水泊梁山，直至接受招安致使起义失败的全过程。A 项花和尚的称号是鲁智深，正确；B 项李逵的称号是黑旋风；C 项宋江的称号是及时雨。故本题正确答案为 A 项。

【信息源】无

97. 天气预报中所说的“白天”指的是当地标准时间（ ）。

- A. 7 点至 19 点
- B. 8 点至 20 点
- C. 7 点至 17 点
- D. 8 点至 17 点

【答案】B

【所属考试模块】公共基础知识

【知识点】地理

【难度】较易

【作者】福建公基研究院

【解析】天气预报中所说的白天，指当地标准时间 8 点至 20 点，其中 17 点至 20 点叫做傍晚；20 点以后到第二天的 8 点叫做夜间。晴是指全天内天空中云量低于 3 成(即 30%)；多云是天空中有 4-7 成的中、低云或 6-10 成的高云时的天空状况；少云是天空中有 1-3 成的中、低云或 4-5 成的高云时的天空状况；阴是天空阴暗，密布云层，或天空虽有云隙而仍感到阴暗(总云量 8 成以上)，偶尔从云缝中可见到微弱阳光的天气现象。故本题正确答案为 B 项。

【信息源】无

98. 铅中毒能引起贫血、头痛、记忆减退和消化系统疾病，城市大气铅污染的主要来源是（ ）。

- A、汽车尾气 B、工业废气物 C、水域污染 D、噪声污染

【答案】A

【所属考试模块】公共基础知识

【知识点】生活常识

【难度】较易

【作者】福建公基研究院

【解析】铅对环境的污染，一是由冶炼、制造和使用铅制品的工矿企业，尤其是来自有色金属冶炼过程中所排出的含铅废水、废气和废渣造成的。二是由汽车排出的含铅废气造成的，汽油中用四乙基铅作为抗爆剂（每公斤汽油用 1~3 克），在汽油燃烧过程中，铅便随汽车排出的废气进入大气。世界上已有两亿多辆汽车，每年排出的总铅量达 40 万吨，成为大气的主要铅污染源。故本题正确答案为 A 项。

【信息源】

99. 下列选项中，不属于省电的做法的是（ ）。

A、不用的电器即刻拔掉插头

B、合理规划冰箱内空间，留有一定余地

C、夏季的空调温度调至 26 度或以上

D、把新、旧电池合在一起使用

【答案】D

【所属考试模块】公共基础知识

【知识点】物理

【难度】较难

【作者】福建公基研究院

【解析】A 项电器不及时拔掉插头，会产生热能导致电的浪费；B 项，满满的空间使冰箱需要更多的电量抑制食物水分的蒸发。C 项空调合理的调节同样会省电。D 项因为旧电池能量低，电量少，而新电池则能量高，电量多，当它们混用时，旧电池会影响新电池的使用时间，通常使新电池使用的时间缩短，另外，新电池还会使旧电池过度放电而造成漏液，损坏电器，所以不能将二者混合使用。故本题正确答案为 D 项。

【信息源】

100. 以长卷形式，采用散点透视构图法，生动记录了中国十二世纪北宋汴京的城市面貌和当时社会各阶层人民的生活状况的名画是（ ）。

A、《富春山居图》 B、《清明上河图》 C、《洛神赋图》 D、《步辇图》

【答案】B

【所属考试模块】公共基础知识

【知识点】文史

【难度】较易

【作者】福建公基研究院

【解析】清明上河图宽 24.8 厘米、长 528.7 厘米 [1]，绢本设色。作品以长卷形式，采用散点透视构图法，生动记录了中国十二世纪北宋都城东京（又称汴京，今河南开封）的城市面貌和当时社会各阶层人民的生活状况，是北宋时期都城汴京当年繁荣的见证，也是北宋城市经济情况的写照。故本题正确答案为 B 项。

【信息源】无

101 前段时间，根据真实事件改编的《中国机长》成为国庆档的热门电影之一，关于乘坐飞机的一些安全知识也成为荧屏话题的焦点。在航空事故中，遇到飞机座舱失压时，乘客应在第一时间（ ）。

- A. 戴好氧气面罩
- B. 床上救生衣
- C. 把头弯到尽可能低的位置，屏住呼吸
- D. 飞速解开安全带，全力朝自认为安全的地方逃跑

【答案】A

【所属考试模块】公共基础知识

【知识点】经济

【难度】容易

【作者】福建公基研究院

【解析】失压就是失去压力，在民航飞机上主要指飞机在高空中因某种原因失去客舱压力。它的类型为缓慢失压和急速失压。缓慢失压指的是

逐渐失去客舱压力，它可能是因机门或应急窗的密封泄露或因增压系统发生故障引起的。故本题选 A。

【信息源】无

102. 田径项目一直是运动会上不可或缺的重要组成部分，田径项目中参赛者的名次决定于其（ ）抵达终点内侧之垂直线为止时的顺序。

- A. 足部 B. 头部
C. 腿部 D. 身体躯干(有别于头、颈、臂、腿、手或足)

【答案】D

【所属考试模块】公共基础知识

【知识点】科技

【难度】容易

【作者】福建公基研究院

【解析】《国际田径比赛规则》第五章技术规则第三节径赛项目第 164 条中规定：“在田径比赛中，判定运动员的比赛名次应以其身体躯干（不包括头、颈、臂、腿、手或足）任何部分抵达终点内侧之垂直线为止时的顺序为准。故本题选择 D 项。

【信息源】无

103 汽车旁的观后镜、交叉路口的观察镜用的都是（ ），可以开阔驾驶员的视野。

- A. 凸面镜 B. 凸透镜 C. 凹面镜 D. 凹透镜

【答案】A

【所属考试模块】公共基础知识

【知识点】物理

【难度】容易

【作者】福建公基研究院

【解析】凸面镜也叫广角镜、反光镜、转弯镜。主要用于各种弯道、路口、汽车后视镜等。可以扩大司机视野，及早发现弯道对面车辆，以减少交通事故的发生，也用于超市防盗，监视死角。本题选择 A 项。

104. 夜盲症是在光线昏暗的环境下或夜晚视物不清或完全看不见东西、行动困难的症状，其成因是缺乏（ ）。

- A. 维生素 A
- B. 维生素 B1
- C. 维生素 C
- D. 维生素 D

【答案】A

【所属考试模块】公共基础知识

【知识点】生物

【难度】容易

【作者】福建公基研究院

【解析】夜盲症俗称“雀蒙眼”，是医学术语，指在光线昏暗环境下或夜晚视物不清或完全看不见东西、行动困难的症状。该症状一般都是由于缺乏维生素 A。故正确答案为 A 项。

【信息源】无

105. 下列农作物中，不能用来酿酒的是（ ）。

- A. 谷子
- B. 玉米
- C. 黄豆
- D. 高粱

【答案】C

【所属考试模块】公共基础知识

【知识点】物理

【难度】容易

【作者】福建公基研究院

【解析】用粮食酿酒主要是用含淀粉量高的玉米、稻米、小麦等为原料，原料中淀粉含量越高，产酒就越多。黄豆主要成分为：含蛋白质 30-45%，脂肪 15-25%，碳水化合物 21-31%，一般榨油、做豆腐、酱类。黄豆淀粉含量不高不适宜酿酒。故正确答案为 C 项。

【信息源】无

第五部分 资料分析

(共 10 题，参考时限 15 分钟)

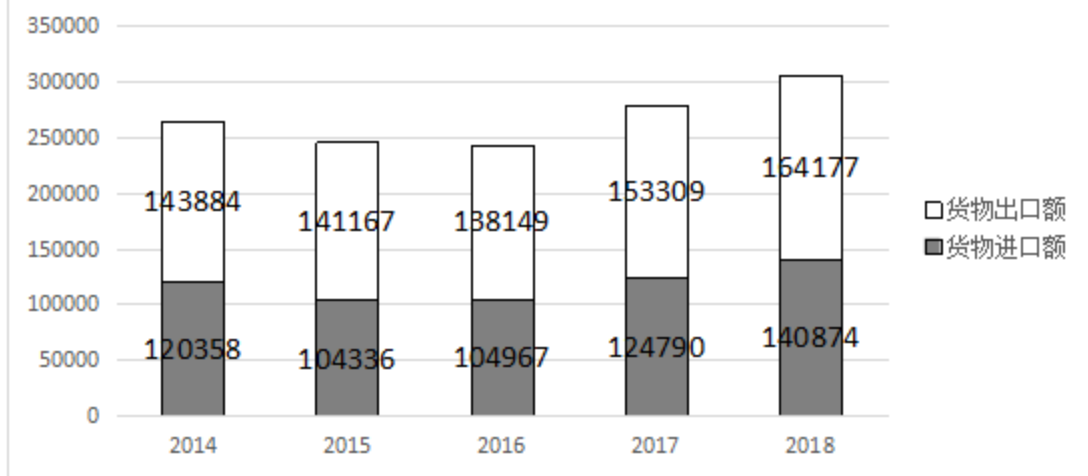
每小题 1.1 分。根据资料提供的信息进行分析、比较、计算和判断处理。

根据下列资料细答 106-110 题：

所给出的图、表、文字或综合性资料均有若干个问题要你回答。你应根据资料提供的信息进行分析、比较、计算和判断推理。

根据以下资料，回答 106-110 题。2018 年我国全年货物进出口总额 305050 亿元，其中出口 164177 亿元，增长了 7.1%；进口 140874 亿元，增长 12.9%。

2014-2018年货物进出口总额



2018年我国对主要国家和地区货物进出口金额、增长速度及其比重

国家和地区	出口额 (亿元)	比上年增长 (%)	占全部出口比重 (%)	进口额 (亿元)	比上年增长 (%)	占全部进口比重 (%)
欧盟	26974	7.0	16.4	18067	9.2	12.8
美国	31603	8.6	19.2	10195	-2.3	7.2
东盟	21066	11.3	12.8	17722	11.0	12.6
日本	9709	4.4	5.9	11906	6.2	8.5
韩国	7174	3.1	4.4	13495	12.3	9.6
中国香港	19966	5.7	12.2	564	13.8	0.4
中国台湾	3212	7.9	2.0	11714	11.0	8.3
巴西	2214	12.9	1.3	5119	28.2	3.6
俄罗斯	3167	9.1	1.9	3909	39.4	2.8
印度	5054	9.5	3.1	1242	12.2	0.9
南非	1072	6.9	0.7	1799	8.9	1.3

106. 2018年我国贸易进出口差额为 () 亿元。

- A. 21034 B. 23303 C. 24506 D. 25143

【答案】B

【解析】2018年我国贸易进出口差额为 $164177 - 140874 = 23303$ 。选B

107. 2017年我国全年货物进出口总额为 () 亿元。

- A. 278099 B. 268405 C. 256780 D. 240369

【答案】A

【解析】2017年我国全年货物进出口总额为 $\frac{164177}{1+7.1\%} + \frac{140874}{1+12.9\%} = 278099$ ，

选 A

108. 较上一年相比，2018年我国对主要国家和地区货物进出口额增长超过9%的国家和地区有几个？（ ）

A. 2个 B. 3个 C. 4个 D. 5个

【答案】C

【解析】较上一年相比，2018年我国对主要国家和地区货物进出口额增长超过9%的国家和地区包括东盟，巴西，俄罗斯，印度共4个，选 C

109. 2018年我国对韩国货物出口额要比对日本（ ）。

A. 多 2535 亿元 B. 多 2355 亿元

B. 少 2355 亿元 D. 少 2535 亿元

【答案】D

【解析】2018年我国对韩国货物出口额为 7174，对日本为 9709，故韩国比日本少 2535，选 D

110. 根据所给资料分析，下列说法错误的是（ ）。

A. 2014 你那我国全年货物进出口总额要比 2015 年的多

B. 2018 年我国全年货物进出口总额较上一年增长 9.7%

C. 2018 年我国对美国货物进出口总额为 31603 亿元

D. 2017 年我国对俄罗斯货物出口额为 2903 亿元

【答案】C

【解析】

A. 根据图表 2014 年我国全年货物进出口总额要比 2015 年的多，故 A 正确

B. 根据材料“出口 164177 亿元，增长了 7.1%；进口 140874 亿元，增长 12.9%。

”故 2018 年我国全年货物进出口总额的增速应介于出口与进口增速的正中间且略偏向出口，故增速为 9.7%，B 正确

C. 2018 年我国对美国货物出口总额为 31603 亿元，而不是进出口为 31603，C 错误

D. 2017 年我国对俄罗斯货物出口额， $3167 \div (1+9.1\%) = 2903$ 亿元，故 D 正确。

根据以下资料，回答 111-115 题

2018 年我国国内旅游人数 55.39 亿人次，比上年同期增长 10.8%。其中，城镇居民 41.19 亿人次，增长 12.0%；农村居民 14.20 亿人次，增长 7.3%。国内旅游收入 5.13 万亿元，上年同期增长 12.3%。其中，城镇居民花费 4.26 万亿元，增长 13.1%；农村居民花费 0.87 万亿元，增长 8.8%。

2018 年入境旅游人数 14120 万人次，比上年同期增长 1.2%。其中：外国人 3054 万人次，增长 4.7%；香港同胞 7937 万人次，下降 0.5%；澳门同胞 2515 万人次，增长 2.0%；台湾同胞 614 万人次，增长 4.5%。入境旅游人数按照入境方式分，船舶占 3.3%，飞机占 17.3%，火车占 1.4%，汽车占 22.3%，徒步占 55.7%。

2018年入境过夜旅游人数6290万人次，比上年同期增长3.6%。其中：外国人2364万人次，增长5.2%；香港同胞2820万人次，增长1.6%；澳门同胞553万人次，增长5.9%；台湾同胞553万人次，增长4.5%。

2018年入境外国游客人数4795万人次(含相邻国家边民旅华人次)，亚洲占76.3%，美洲占7.9%，欧洲占12.5%，大洋洲占1.9%，非洲占1.4%。其中：按年龄分，14岁以下人数占3.4%，15-24岁占13.7%，25-44岁占49.9%，45-64岁占28.4%，65岁以上占4.6%；按性别分，男占59.6%，女占40.4%；按目的分，会议商务占12.8%，观光休闲占33.5%，探亲访友占2.8%，服务员工占15.5%，其他占35.3%。

111. 2017年我国国内旅游人数为()亿人次。

- A. 45.38 B. 49.99 C. 51.23 D. 52.34

【答案】B

【解析】2017年我国国内旅游人数为 $55.39 \div (1+10.8\%) = 49.99$ ，故选B

112. 2018年我国农村居民国内旅游人数占全国国内旅游人数的()。

- A. 25.6% B. 28.3% C. 29.4% D. 30.5%

【答案】A

【解析】2018年我国农村居民国内旅游人数占全国国内旅游人数为 $14.2 \div 55.39 = 25.6\%$ ，故选A

113. 2018年乘坐飞机入境旅游的人数为()万人次。

- A. 2123 B. 2202 C. 2443 D. 2608

【答案】C

【解析】2018 乘坐飞机入境旅游的人数为 $14120 \times 17.3\% = 2443$ ，故选 C

114. 2018 年入境外国游客人数中，那个地区的人数最多（ ）。

- A. 亚洲 B. 美洲 C. 欧洲 D. 非洲

【答案】A

【解析】2018 年入境外国游客人数中，亚洲地区的占比为 76.3%，故人数最多，选 A

115. 根据所给资料分析，下列说法错误的是（ ）。

- A. 2017 年我国国内旅游收入达 4.57 万亿元
B. 2018 年徒步入境旅游的方式最受欢迎
C. 2018 年全国入境旅游人中，香港同胞约是澳门同胞的 3 倍
D. 2018 年入境外国游客人数中，男性有 3126 万人次

【答案】D

【解析】

- A. 2017 年我国国内旅游收入为 $5.13 \div (1+12.3\%) = 4.57$ 万亿元，A 正确
B. 2018 年徒步入境旅游的方式占比为 55.7%，故它最受欢迎，B 正确
C. 2018 年全国入境旅游人中，香港同胞 \div 澳门同胞 = $7937 \div 2515 = 3$ 倍多，表述为约是 3 倍，故 C 正确
D. 2018 年入境外国游客人数中，男性有 $4795 \times 59.6\% = 2858$ 不等于 3126 万人次

※※※全部测试到此结束※※※