

准考证号

姓名



2019 年宁德下半年事业单位公开招聘考试  
《综合基础知识》试卷



SINCE 2001

华图教育  
HUATU.COM

华图福建事业单位考试研究院 审定

## 说明

这项测验共有五个部分，115 道题，总分时限为 120 分钟。

请在机读答题卡上严格按照要求填写好自己的姓名、涂写准考证号。

请仔细阅读下面的注意事项，这对你获得成功非常重要：

- 1、题目应在答题卡上作答，不要在题本上作任何记号。
- 2、监考人员宣布考试开始时，你才可以开始答题。
- 3、监考人员宣布考试结束时，你应立即放下铅笔，考试题本、答题卡  
卡和草稿纸都留在桌上，然后离开。

如果你违反了以上任何一项要求，都将影响你的成绩。

1、在这项测验中，可能有一些试题较难，因此你不要在一道题上思考时间太久，遇到不会答的题目，可先跳过去，如果有时间再去思考。否则，你可能没有时间完成后面的题目。

2、试题答错不倒扣分。

3、特别提醒你注意，涂写答案时一定要认准题号。严禁折叠答题卡！

停！请不要往下翻！听候监考老师的指示。

否则，会影响你的成绩。

\*本试卷所选真题，均来源于网络或根据考生回忆整理。

## 第一部分 言语理解与表达

(共 30 题, 参考时限 30 分钟)

每小题 0.9 分, 共 30 题。每道题包含一段话或一个句子, 后面是一个不完整的陈述, 要求你从四个选项中选出一个来完成陈述。注意: 答案可能是完成对所给文字主要意思的提要, 也可能是满足陈述中其他方面的要求, 你的选择应与所提要求最相符合。

1、曾有调查显示, 高达 37% 的青少年吸烟是受影视剧所影响。这一数据或有变动, 但不争的事实是, 青少年容易产生盲目追星心理, 影视作品中明星吸烟镜头极易误导青少年效仿。而不少影视剧中的吸烟镜头, 故意\_\_\_\_暴力“美学”, 刻意营造一种吸烟很帅的\_\_\_\_, 让青少年在不知不觉中认为, 吞云吐雾代表着潇洒, 展现着派头, 还可标榜霸气, 从而染上烟瘾

A.

B. 诠释 氛围

2、时光如流水淙淙, 一些东西却如河中的卵石, \_\_\_\_\_, 笃定而坚强。变化之间, 内心深处, 你依然是那个曾经的你——努力擦亮眼睛、道出是非曲直, 在时代的大海中寻找最美最晶莹的浪花。

继往开来 C. 历久弥新

3、进入 20 世纪, 大众旅游日渐兴起。走马观花、拍照打卡、血拼购物式的出行方式持续升温, 以“跟团游”为标签的传统旅行社一时\_\_\_\_\_。

A. 日新月异 B. 姗姗而来 C. 风头无两

4、相关部门明确“博眼球”、“打擦边球”的行为边界是十分有必要的。如果不加甄别进行打击,一些明显背离社会公德,突破了人们接受底线的营销方式固然会得到惩处,但许多商家也会因此变得“噤若寒蝉”,生怕自己的营销手段触动了法律的“红线”,这对经济发展无疑是不利的。

- A. 一旦 虽然 因此  
C. 如果 固然 但是

5、“中国机长”的美名、中国民航的形象、诸多乘客的安全,需要每一位机长、每一位空乘人员用专业、敬业、操守和努力去共同呵护。而任何一点大意和违规操作,哪怕没有造成严重后果,都可能让整个民航业、民航人\_\_\_\_\_。

- A. 羞辱 B. 害羞 C. 蒙羞 D. 屈辱

6. 新中国成立后特别是改革开放以来,我们党坚持将马克思主义基本原理同中国具体实际相结合,运用马克思主义的立场、观点和方法解决各种重大理论和实践问题,不断推进马克思主义中国化,形成了中国特色社会主义理论体系,开创了 21 世纪马克思主义发展的新境界。

7. 经济全球化是人类社会发展必由之路,是推动世界经济增长的引擎。历史潮流不可逆转,必将浩荡前行。

- A. 引擎 回旋 进步  
C. 引擎 逆转 前行

8. 人脸识别技术方便了各行各业，因安全风险而对其避而远之，实乃因噎废食。

A. 避而远之 星罗棋布

B. 避而远之 因噎废食

9. 面对街头暴力，止暴制乱是世界各国政府的通行做法，合理性\_\_\_\_。近期，西班牙、英国、智利当局对待暴力示威者一致依法拘捕、果断打击。西班牙看守政府首相佩德罗·桑切斯等政界人士对暴力行为公开表示\_\_\_\_。

A. 毋庸置疑 绝不姑息

10. 文明很脆弱，又很有韧性，哪怕长期隐没在历史尘烟中，只要一个偶然的契机，它就会重新回到人们的视野中，甲骨文就是如此。120年前，国子监祭酒王懿荣首次确认中药“龙骨”上的“划痕”是上古文字，一锤定音惊天下。从“甲骨四堂”到“甲骨五老”，一代代学者\_\_\_\_，挖掘与研究已持续两甲子，取得丰硕\_\_\_\_。

A. 远渡重洋 果实

C. 薪火相传 成果

11. 鸡蛋煮太久会破坏其营养素。鸡蛋煮的时间太久，不仅会导致其中的B族维生素、维生素E等营养素被破坏，还会致使其中的脂肪酸、胆固醇发生氧化。鸡蛋中含有的不饱和脂肪酸，如亚油酸、花生四烯酸和DHA等，本就容易氧化，在加热的过程中，随着温度上升，氧化反

应的速率加快，氧化后的不饱和脂肪酸如同一位“良民”变为“妖魔”一样，它们进入人体会增加自由基产生，甚至会破坏 DNA 和细胞结构等。

这段文字主要介绍( )

- A. 鸡蛋煮太长时间会使其流失营养成分
- B. 鸡蛋中含有的不饱和脂肪酸很容易氧化
- C. 氧化后的不饱和脂肪酸如同妖魔
- D. 鸡蛋煮太久会使胆固醇发生氧化

12. 《健康时报》报道过这样一则新闻，寒冷天气，陈小姐一直穿着丝袜和短裙，追求“美丽冻人”。随后发现其腿部皮肤突然呈现青红色，并出现皮下结节和斑块，还略有疼痛感。经南京市第二医院皮肤科诊断后，确认其患上了寒冷性脂膜炎。南京市第二医院皮肤科医生于晓云介绍，寒冷性脂膜炎是一种由于寒冷、血运不良直接作用而导致的脂肪组织损伤，多见于冬季，接触冰块、冰水或暴露于冰冷空气中后发生，冻疮者尤其好发。受冷后 2 至 3 天，在暴露部位发生疼痛性或无痛性境界清楚的皮下结节或斑块，表面皮肤青红色或发绀色，局部温度降低，多发于大腿、臀部、面颊和下腹部。

这段文字主要介绍了( )。

- A. 寒冷性脂膜炎是一种脂肪组织损伤
- B. 在低温环境中，脂肪组织可能会出现问题
- C. 冻疮患者容易引发脂肪组织损伤
- D. 脂肪组织损伤就是在暴露部位发生疼痛性或无痛性境界清楚的斑块

13. 千里姻缘一线牵，本是一桩美事，但目前依托互联网而产生的婚恋平台却布满了精心设计的套路。在《法制日报》记者的调查中，诸如“注册后邀请去线下门店，交了钱之后态度敷衍”、“关在屋里两三个小时的洗脑，要求交几万元的会员费”“注册后，各种不同的号码打来骚扰电话”等问题也频频出现。据业内人士透露，一些婚恋平台往往在签订的合同中不会写明约见对象、负责红娘等详细信息，因此在之后法律纠纷中，消费者难以举证维权。按照婚介服务国家标准和行业准则，婚介工作人员应该持有婚介师等从业资格证书，但大部分红并不具备专业资格，而是充当销售的角色。

下列说法符合文意的一项是( )

- A. 虚假相亲成为婚恋平台的诈骗手段
- B. 互联网婚恋平台全都充满消费陷阱和套路
- C. 大多数婚恋平台都会夸大服务效果且退款难
- D. 许多婚介工作人员并不具备专业资格

14. 在中国政治思想史上，老子的政治谋略自成一家，其中心内容，就是倡导“无为而治”。作为政治谋略，不仅有利于提醒统治者在治民实践中，避免干扰老百姓的正常生活，注重给民众以“休养生息”的机会；而且有利于弥补儒、墨、法诸家实施“有为之治”的某些缺陷，并矫正其失误。强调无为而治，从本质上说，就是要求统治者清虚自守，卑弱自持。这表现了“知风化之本，见政理之源”（李世民语）的特色。在中国政治思想史上可谓独树一帜，自成一家。

对这段文字概括最准确的是( )

- A. 老子的“无为而治”，对中国和世界建立辩证思维体系产生了深

远的影响

- B. 老子“无为而治”的政治哲学，对完善传统治道观贡献巨大
- C. 老子的“无为而治”，奠定了中国古代一元本体论哲学的理论基础
- D. 老子的“无为而治”，对后世确立追求真理的价值取向影响至深

15. 研究人员曾采用急性经口毒性试验和遗传毒性试验，对葡萄促干剂食用安全进行毒理学评价。结果显示，葡萄促干剂为无毒、无遗传毒性的食品添加剂，鲜葡萄在促干剂水乳中短时浸泡后，果农会对葡萄进行清洗，附着于葡萄表皮的强碱溶液很容易被水洗掉，故葡萄干上的促干剂残留量很低。研究人员曾对市场随机抽取的7种葡萄干进行酸碱度测试，将这些葡萄干分别浸泡后，其水溶液pH值均显示为中性，因此无需担心使用过促干剂的葡萄干会有碱超标等潜在风险。食用从正规渠道购买的葡萄干产品，就无需担心促干剂残留超标烧伤肠胃或造成其他健康隐患。

上述文字主要讲述的是( )。

- A. 葡萄促干剂对人的身体健康是否有影响
- B. 葡萄促干剂的起源和发展
- C. 葡萄促干剂为什么能使葡萄脱水
- D. 葡萄促干剂对新鲜葡萄有什么影响

16. 近日，一条福建省福州市教育局公开回复家长疑问的帖文，在网上引发关注和讨论。家长发帖问：学校为何放着电话、微信等通讯便捷的方式不用，反而安排入户家访，并直指入户家访“耗时”、“没必要”，



( )。对此，福州市教育局公开回复称，入户家访并未过时，入户家访是老师和家长之间最直接、最有温度的沟通方式，并非形式主义。

填入括号部分最恰当的是( )。

- A. 在学校围墙里，有些教师其实并不了解社会，并不了解教育的意义
- B. 并不能让家长发现教育的意义和价值
- C. 会生出不该有的傲慢和偏见，让家访偏离了方向
- D. 质疑这是一种形式主义

17. 我们应该如何保持一个好的睡眠?养成良好的作息习惯，确定一个就寝时间和一个起床时间。最好晚上 11 点前就能入睡，并保证第二天早晨不睡懒觉。如果你习惯睡午睡，不要超 45 分钟。定期锻炼，但不是睡觉前，体质越是敏感的人，越运动越睡不着。晚上最好的运动方式是散步。睡前 4 小时避免过量饮酒，不要吸烟。避免食用辛辣、过甜等重口味食物，睡前 6 小时避免使用咖啡因，包括咖啡，茶和巧克力。用热水泡泡脚，听听舒缓的音乐，关闭电子产品，减少光线，尽力创造一个黑暗的入睡环境。

根据这段文字，下列说法错误的是( )。

- A. 作息规律很重要
- B. 手机等电子产品不利于人们的身体健康
- C. 好的睡眠需要多方面共同培养
- D. 锻炼不是保持好睡眠的唯一要求

18. 和公彩不同的是，私彩是私人坐庄，除了中奖结果是依据公彩外，

整体运作相当封闭。售彩的代理商可能不知道庄家是谁，这也不像公彩那样，会抽取公益金反哺公益慈善事业。且其赔率都是经过精心设定，由于没有法律和行政机关背书，中大奖了庄家也可能跑路。明知没有赢面，却依然重金下注，私彩助长的投机心理，造成的悲剧不在少数。

本段文字意在说明( )。

- A. 类似妄想一夜暴富却只能半生几无收获的彩民多不胜数
- B. 不能因为私彩已渗透当地人的生活，就降低打击力度，放任自由
- C. 寄希望买私彩“维生”乃至“暴富”，根本不切合实际
- D. 公彩和私彩都意味着博彩将全面合法化

19. 国内马拉松热了多年，目前已从一二线城市逐层深入到三四线城市，发展速度太快，我们既要看到马拉松赛事带来的经济增量和赛事消费额的飙升，更要对频频发生的各种因为赛事准备不足和服务欠缺而出现的种种事故引起足够重视

作者接下来最有可能描写的是( )

- A. 目前国内对于马拉松这项运动的认识还不足，在赛事管理的水平与能力上还存在较大差距
- B. 马拉松赛事自带流量，已成为不少城市推广城市品牌的理要抓手
- C. 跑者们除了享受运动快乐之外，还可以通过美图分享、加入跑群等，让跑步更有趣
- D. 我国马拉松赛事井喷式发展的原因

20. 从报道情况看，该公司的工作人员将李华带到一家整形美容医院“整容”，在合同还未签订之前，用个人身份信息办理了分期贷款的手续。这就意味着。从法律上看，李华的整容和贷款，都是个人的行为面

与该公司无关。尽管报李华表示，有关工作人员曾有过“如果没钱也不要紧，公司可以用我个人名义办理贷款，钱从美容津中出，不需要你花钱”的承诺，而这样的口头承诺，然不可能写进合同中，也很难进行查证，这就增加了当事人维权的难度，不过，越是看似“天衣无缝”、无懈可击的“整容贷”，反倒越容易露出“马脚”来。

作者接下来最有可能描写的是()

- A. 当事人要如何维权
- B. “整容贷”常来的可怕后果
- C. 如何看出“整容贷”的破绽
- D. “整容贷”发展的原因

21. 家里的冰箱，在某些情况下的确可以起到延长食物保质期的作用，但是，冰箱让食物的保质期延长并不代表就可以将食物的细菌也杀灭，它只是通过低温的形式抑制了部分有害菌的繁殖，如我们通常把冷藏室设置在 $4^{\circ}\text{C}$ ，冷冻室设置在 $-18^{\circ}\text{C}$ ，但并不是所有的细菌都会在这两种温度下得到抑制。所以，每种食物特点的不同，其感染细菌的条件也都各不相同，冰箱也只能起到辅助保鲜的作用，超期储存仍然会滋生细菌，影响食物的健康成分。

依据上述文字，下列说法错误的是()

- A. 即使食物放在冰箱，也有可能滋生细菌
- B. 冰箱可通过低温的形式制所有细菌的繁殖
- C. 每种食物感染细菌的条件都不尽相同
- D. 冰箱只是在一定的情况下可以延长食物的保质期

22. 心理学家指出，聊八卦是促进群体团结的一种方法，有利于拉近人际距离。聊聊八卦，互相分字消息，说明大家在同一个“圈子”里，促使大家成为朋友。八卦消息的表动效应和吸引眼球的效果，可以令八卦炒作者短时间内迅速成为众人关注的焦点，能满足炒作者的虚荣心。人们喜欢聊八卦，因为八卦不仅制造了巨大的娱乐效应，还能起到润滑人际关系的效果，促进建立某种趣味相投的亲密关系。聊八卦体现一种社会智商，善于聊八卦是情商高的体现。小道消息多是人们不愿暴露的“隐私”，能打听到这些，很能证明八卦者的人缘和沟通能力，给个人魅力加分。

根据上述文字，聊八卦的作用不包括()

- A. 促进人际交往
- B. 促进社会经济的发展
- C. 成为众人关注的焦点
- D. 满足人的虚荣心

23. 褪黑素是由乳动物和人类的松果体产生的一种胺类激素，其确实能起到改善睡眠的作用，但副作用也不可忽视，长期大剂量服用褪黑素，会成低体温、释放过多乳激素导致不孕、降低男性生理欲望等副作用。另外，由于褪黑素是经过肝脏代谢的，所以肝病患者不宜服用褪黑素，否则容易给肝脏造成负担，加重病情。

这段文字旨在强调()

- A. 日常生活中我们应该如何防治失眠
- B. 褪黑素可以改善睡眠
- C. 吃褪黑素会有哪些副作用

D. 失眠患者最好不要吃褪黑素

24. 咽喉反流性疾病长期不做纠正会造成严重危害。首先，会导致癌前病变，咽喉反流可能是喉癌前病变和喉癌发生的危险因素之一。其次，咽喉反流极大影响生活质量，严重者可危及生命。第三，咽喉反流增加喉癌风险，反流性疾病患者发生喉癌的风险至少是对照人群的 2 倍。另外，胃酸的慢性重复性的化学刺激导致咽喉黏膜的损伤和改变。

这段文字的主旨是()

- A. 咽喉反流性疾病的危害
- B. 反流性咽疾的本质
- C. 如何预防咽喉反流性疾病
- D. 喉反流性疾产生的原因

25. 曾有媒体报道，江苏某小学教师正常批评学生，但家长认为是教师辱骂、殴打学生，拉横幅围堵校门，过度维权。还有河南一学校学生欺凌殴打同学后突然猝死，家长不依不饶，哭闹“维权”要求学校赔偿。在时有发生这些“校闹”事件中，在“大闹大赔”、“小闹小赔”的无限责任下，学校和教师已然成为了最弱势群体，必要的惩戒不敢实施，合理的活动不敢组织，甚至影响正常的教学秩序。

根据文意，作者意在强调()。

- A. 部分家长法治意识淡薄
- B. 学校应无原则息事宁人
- C. 不能再对“校闹”花钱买平安
- D. 要明确“校闹”边界

26. 今天，科学家们正从文本、声音与视觉三个角度，去尝试为人工

智能赋予创作能力，并通过种变通的图灵测试来检验它的效果。需要说明的是，人工智能的艺术创作，其重点并不在于创作者本身的表达，而在于这种表达能否激发观众的体悟，我们对许多不断诞生的突破性进展感到欣喜例如通过建模，我们有机会为许多人类艺术家保留他们创作峰时期的能力，并辅助他们延长创作时期的长度：通过对历史上著名艺术家的学习，我们有机会让数百年前的艺术家“复活”，去创作具有当代命题意义的新作：我们甚至有望通过融合不同艺术家的技法。去创造全新的艺术创作能力。

最适合做这段文字标题的是（）

- A. 将想象变为现实
- B. 人工智能：新创作主体带来新艺术可能
- C. 艺术，果真是人类独有的天赋吗
- D. 人类艺术是人工智能的全部意义

27. 人在呼吸的时候，气体从鼻孔进来以后，沿着鼻腔、鼻咽部、口腔咽部、喉部，经过气管进入肺部。“呼噜”是由于气体通过一个比较狭窄的地方时，产生强烈的气液变化振动导致的声音，也就是说从鼻孔到肺部的这段结构，任何一个地方发生狭窄，都会产生打呼的情况

下列最合适上述文字的小标题的是（）。

- A. 什么样的人容易打呼噜
- B. 打呼如何预防和治疗
- C. 打呼会对身体产生什么危害
- D. “呼噜”到底是怎么产生的

28. ①小枣最初也就米粒大小，再过几天，就渐似绿色的珍珠翡翠，挂满枝头，随风摇曳，很是迷人

②然而，枣树结果却不因花小香淡而含糊

③只有再仔细观察，才能发现枣花也开得十分认真，每朵花都由五个小花瓣组成。像是一个个五角星

④几天过后，满树的枣花就变成了翠绿的小枣

⑤枣花开时不妖不艳，花与叶几乎同色，且花朵很小，不仔细看，甚至不会用花来称呼它

将以上 5 句子重新排列，语序正确的是

A. ⑤③②④①

B. ⑤④③②①

C. ⑤③②①④

D. ⑤①③②④

29. ①根据乾陵建筑对称布局的特点，“无字碑”与“述圣记碑”显然是在高宗去世时由武则天同时主持竖立的，而这块“无字碑”，自然是武则天预先为自己准备的“功德碑”

②无字碑上为何无字，人们对此有种种说法，有无数的人在猜测在探究这千古之谜

③墓前立有两块高大雄浑的石碑，西面是“述圣记碑”，上面 8000 余字的碑文是歌颂唐高宗功绩的

④东面就是武则天的“无字碑”，碑由一块巨大的整石雕成，碑头雕有 8 条互相缠绕的螭首，饰以天云龙纹

⑤乾陵是唐高宗李治与女皇武则天的合葬陵墓，为我国历代帝王陵园中唯一的夫妇两帝合葬墓

⑥数年前，我曾到陕西乾县的梁山走访乾陵，曾在无字碑旁久久默立，思绪成千

将以上 6 个句子重新排列，语序正确的是

A. ⑥②③①⑤④

B. ②③⑤⑥④①

C. ②⑥④①⑤③

D. ⑥⑤③④①②

30. ①这时，得把之前蒸熟的精米倒入锅中，加入适量的黄糖，然后用农家特制的大铁锅铲将糯米和粘稠米浆充分搅匀

②说起蒸黄粿，这可不是简单的事情，在老家，这是过年必备的

③一翻搅拌后，糯米和米浆已经变成了微黄的一团

④回到家里，把米浆倒入锅中，然后添上柴火加热，米浆在柴火中逐渐变熟，变成粘稠状

⑤年夜饭过后，母亲将一小盆事先浸泡了两天的米粒拿到邻居陈大婶家磨成米浆

⑥早在几天前，大人们在准备汤圆面的时候，就会多做点米面出来，为年夜里的蒸黄粿做好准备

将以上 6 个句子重新排列，语序正确的是（ ）。

A. ②⑥①⑤③④

B. ⑤①②⑥③④

C. ②⑥⑤④①③

D. ⑤④①③②⑥



## 第二部分 数量关系

(共 20 题, 参考时限 20 分钟)

本部分包括两种类型的试题:

一、数字推理: 每小时 0.9 分, 共 10 题。给你一个数列, 但其中缺少一项, 要求你仔细观察数列的排列规律, 然后从四个选项中选出最符合规律的一项来填补空缺项。

31. 1, 3, 7, 13, ( )

A. 18    B. 19    C. 21    D. 23

32.  $1/3, 1, 4, 20, ( )$

A. 105

B. 120

C. 140

D. 150

33. 4, 9, 16, 25, ( )

A. 36

B. 42

C. 48

D. 56

34. 2, 4, 4, 8, 16, ( )

A. 36

B. 48

C. 56

D. 64

35. 6, 11, 17, 24, 32, ( )

A. 38

B. 41

C. 48

D. 52

36.  $2/3, 5/8, 13/21, 34/55, ()$

A.  $45/127$

B.  $54/134$

C.  $89/144$

D.  $76/145$

37. 2, 3, 4, 6, 9, ()

A. 11

B. 13

C. 14

D. 15

38.  $15^\circ, 30^\circ, 60^\circ, 90^\circ, ()$

A.  $120^\circ$

B.  $140^\circ$

C.  $160^\circ$

D.  $180^\circ$

39. 2, 3, 5, 10, 20, 40, ()

A. 60

B. 70

C. 80

D. 100

40. 2, 6, 12, 20, ( )

A. 26

B. 30

C. 36

D. 40

二、数学运算：每小题 1.1 分，共 10 题。每道试题呈现一道算术式，或表述数字关系的一段文字，要求你迅速、准确地记算或论证出答案。

41. 现有 26 颗糖果，要分给 5 位小朋友，假设要使得每位小朋友分到的糖果数量各不同，那么分的糖果数量最多的小朋友至少可以分到多少颗糖果？( )

A. 5

B. 6

C. 7

D. 8

42. 有一批零件，甲和乙合作需要 15 天完成。若甲和乙合作 10 天后，乙再独自工作 6 天，最后这批零件还有总任务的  $\frac{1}{10}$  没完成，问甲单独做这批零件需要 ( ) 天

A. 30

B. 36

C. 38

D. 40

43. 某活动设有 5 个等级奖金，其奖金依次成等比数列关系，已知五等奖的奖金为 3000 元，三等奖的奖金为 3600 元。问一等奖的奖金比三等奖要多 ( ) 元。

A. 650

B. 700

C. 720

D. 750

44. 某零件加工厂来了 7 位新人，但加工厂只有 2 个师傅，如果安

排 1 个师傅教 4 位新人学习加工零件，问不同的安排方案共有（ ）种。

- A. 60      B. 70      C. 80      D. 110

45. 某老人旅游团准备坐船游玩，船的数量一定。已知如果每艘船坐 22 人，最后会有 5 人没有位置。如果每艘船坐 26 人，则会空出 15 个位置。问若每艘船坐 25 人，会空出多少个位置？（ ）

- A. 4 个      B. 6 个      C. 8 个      D. 10 个

46. 去文具店购买文具用品，已知买 7 盒水彩笔、3 瓶墨水、1 个笔记本共需要 50 元，买 10 盒水彩笔、4 瓶墨水、1 本笔记本共需要 69 元。问若买 2 盒水彩笔、2 瓶墨水、2 本笔记本共需要多少钱？（ ）

- A. 24 元      B. 26 元      C. 28 元      D. 30 元

47. 实验室有一桶浓度为 40% 的氯化钠溶液，已知往其中加入 4 千克的水后，该氯化钠溶液的浓度变为 30%。倘若要使得该溶液的浓度变为 50%，那么应向氯化钠溶液中加入多少千克的氯化钠固体？（ ）

- A. 5.4 千克      B. 6.4 千克  
C. 6.8 千克      D. 7.2 千克

48. 某制衣厂有一批衣物要加工完成，假设每个工人每天的效率样，则计划派 180 名工人工作 12 天则可完成。在工作 4 天后，由于特殊原因需要提前 2 天完成衣物的加工。问需要增加多少名工人？（ ）

- A. 40 名      B. 50 名      C. 60 名      D. 70 名

49. 某校共有 90 名志愿者服务某次体育比赛，已知有 53 名志愿者去了球类比赛。82 名志愿者去了田径比赛，有 6 名志愿者既没有去球类比赛，也没有去田径比赛。问该代表团既去了球类比赛又去了田径比赛的志愿者有（ ）名。

- A. 46      B. 48      C. 51      D. 56

50. 某家电商场售有一种微波炉，现在进行促销活动，若按原销售价打九折出售，则每台可盈利 215 元，若按原售价打八折出售，则每台会亏损 125 元，问这种微波炉每台原销售价是多少元？（ ）

- A. 2845 元      B. 3060 元      C. 3400 元      D. 3680 元

### 第三部分 判断推理

（共 25 题，参考时限 25 分钟）

本部分包含四种类型的试题：

一、图形推理：每小题 1 分，共 5 题。请从所给的四个选项中，选择最合适的一个，使之呈现一定的规律性。

51. 从所给的四个选项中，选择最合适的一个填入问号处，使之呈现一定的规律性。（ ）

二	子	亢	?
---	---	---	---

乡	刘	朱	四
---	---	---	---

A

B

C


D

52. 请从所给的四个选项中，选择最合适的一个填入问号处，使之呈

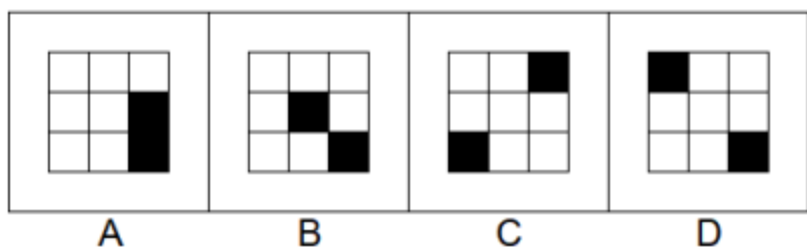
现一定的规律性。( )



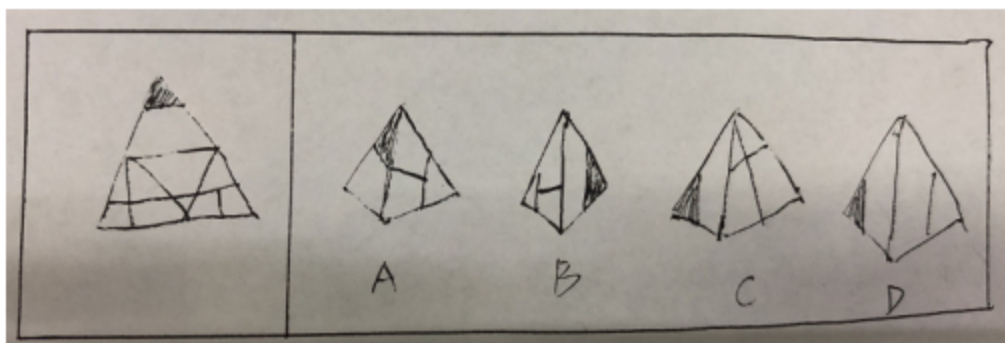
53. 请从所给的四个选项中, 选择最合适的一个填入问号处, 使之呈现一定的规律性。( )



54. 请从所给的四个选项中, 选择最合适的一个填入问号处, 使之呈现一定的规律性。( )



55. 左边给定的是纸盒的外表面，以下哪一项能由它折叠而成？（ ）



二、定义判断：每小题 0.8 分，共 5 题。每道题先给出一个概念的定义，然后分别列出四种行为，要求你严格依据定义从中选出一个最符合或最不符合定义的答案。注意：假设这个定义是正确的，不容置疑的。

56. 训练，指有计划、有步骤地通过学习和辅导掌握某种技能。有意识地使受训者发生生理反应，从而改变受训者素质、能力的活动。

根据上述定义，下列选项不属于训练的是

A. 某足球运动员经常要发界外球，因此教练特意对其加强大力手抛球的练习

B. 小张经过三个月的长跑运动训练，长跑距离由 5 公里增加到了 10 公里

C. 某患者手指协调性不足，医生建议其进行长时间的手转健身球活动

D. 小明某次数学考试错误较多，老师在放学后单独留下小明为其讲解试题

57. 因果型预测方法是指依据事物运动变化的因果关系，由已知原因的“脉络”估测未来结果的种预测方法。

根据上述定义，下列选项中运用了因果型预测方法的是()

- A. 小倪每次考试都名列前茅，一定是班上的“三好学生”
- B. 运动员小李没有获得奖牌，一定是平时训练不刻苦
- C. 小彭利用职务之便，大量侵吞国有财产，总有一天会被绳之以法
- D. 小杨花钱大手大脚，她一定没有存款

58. 本来是一种通道的刺激能引起该通道的感觉，现在还是这种刺激却同时引起了另一种通道的感

觉，这种现象叫联觉。通俗意义上来说联觉就是各种器官能奇妙地混合在一起，大脑里通常互不相干的几个感觉区域之间产生沟通

根据上述定义，下列不属于联觉的情形的是()

- A. 一个儿童看到红色会觉得酸，看到蓝色会觉得苦
- B. 王某吃西瓜觉得很甜，多吃了几块，结果拉肚子。
- C. 每当小天在琴前，手指碰触琴键的时候，一股强烈的色彩感就会冲击全身，就好像遭受了一次电击一样痛苦。
- D. 李某听到一条稿件的内容后，会立即看到颜色，闻到气味，并产生其他连带反应

59. 超限效应是指刺激过多、过强或作用时间过久，从而引起心理极



不耐顺或逆反的心理现象。

根据上述定义，下列不符合超限效应的是()

- A. 甲学习成绩很差，父母经常批评他，久而久之他感觉很厌烦
- B. 乙在会上讲话，开讲 30 分钟大家觉得他讲的很好，后来由于他讲的时间过久，大家感觉很无聊甚至厌烦
- C. 丙连续加班一周，感到非常疲惫，对公司的忍耐已经到了极限，提出了辞职
- D. 丁是一个老师，她因为儿子意外身亡，上课时无法集中注意力

60. 根据能力的运用范围，可以把能力分为一般能力与特殊能力，一般能力是在很多基本活动中表现出来的能力，它适用于广泛的活动范围。在西方心理学中把一般能力称为“智力”。特殊能力是表现在某些专业活动中的能力，它只适用于某种狭窄的活动范围

根据上述定义，以下哪项体现了特殊能力?()

- A. 小东记忆力特别好，看什么都过目不忘
- B. 小南语言表达特别清晰，一直担任学校辩论队的主力
- C. 小西观察能力特别强，无论多细微的区别都能分辨出来
- D. 小北对音准特别敏感，节奏感很强，最终成为了一名优秀的钢琴演奏家

三、类比推理。本类题共 10 小题，每小题 0.7 分，共 7 分。每道题先给出一组相关的词，要求你在备选答案中找出一组与之在逻辑关系上最为贴近、相似或匹配的词。

61. 淘宝:购物 ()

- A. 键盘:打字

B. 微信:聊天

C. 讲台:上课

D. 工地:施工

62. 二胡:乐器 ( )

A. 咖啡:饮料

B. 牡丹:富贵

C. 物理:理科

D. 鲸鱼:鱼类

63. 鲁迅:《朝花夕拾》

A. 沈从文:《边城》

B. 朱自清:《呐喊》

C. 孙悟空:《西游记》

D. 曹雪芹:《水传》

64. 美国:加拿大 ( )

A. 英国:法国

伊朗:芬兰

C. 波兰:缅甸

D. 南非:新加坡

65. 米饭:面条 ( )

A. 豆浆:牛奶

B. 馒头:米粉

C. 菠萝:橘子

D. 牛肉:土豆

66. 大学生:党员 ( )

A. 医生:天使

B. 垃圾:干垃圾

C. 作家:画家

D. 男人:英俊

67. 爱情:甜蜜

A. 生活:苦涩

B. 团圆:幸福

C. 哈欠:睡觉

D. 荆棘:困难

68. 闭月羞花:玉树临风 ( )

A. 空谷幽兰:春华秋实

B. 出水芙蓉:花好月圆

C. 金枝玉叶:双瞳剪水

D. 小家碧玉:风流倜傥

69. 作家:创作:小说 ( )

A. 歌手:演唱:演员

B. 演员:表演:电影

C. 警察:罚款:法律

D. 工人:劳动:工厂

70. 移动通讯:手机:网络 ( )

A. 信息技术:电脑:键盘

B. 电子购物:支付宝:付款

C. 体育竞技:足球:运动员

D. 交通运输:汽车:公路

**四、演绎《逻辑》推理：每小题1分，共5题。每题给出一段陈述，这段陈述被假设是正确的，不容置疑的。要求根据这段陈述，选择一个答案。注意，正确的答案应与所给的陈述相符合，不需要任何附加说明即可从陈述中直接推出。**

71. 小林、小旭、小齐、小凡、小兵 5 个人参加比享，比赛成绩各不相同，他们成绩之间的关系是：小齐没有小旭高，小兵没有小凡高，小林高子小馆，而小凡不如小齐高。则成绩最低的是（ ）

- A. 小兵 B. 小旭 C. 小产 D. 小凡

72. 某公司需要选派几名员工前往分公司，但由于某种特殊关系，人员分配需满足以下规律：

- (1) 若选甲，则乙也要选；  
(2) 只有不选甲，才能不选丙；  
(3) 要么不选丙，要么乙和戊中有人不被选中；  
(4) 除非不选丙，否则选丁。

若不选乙，则下列选派正确的是（ ）。

- A. 同时选甲、丙、丁 B. 丙不选，丁、戊都选  
C. 甲不选，丙、丁都选 D. 甲，丁、戊都不选

73. 相比那些不参加冲浪运动的人，经常梦加带浪运动的人一般都健康些可见，冲浪运动能被炼身体，增进身体健康。

以下哪项最有力地对上述论证提出了质疑？（ ）

- A. 无论什么人参加冲浪运动都是为了锻炼身体，增进健康  
B. 锻炼身体、增进健康有许多方式，例如，参加长跑，球类活动、游泳等都能锻炼身体，增进健康  
C. 冲浪是一项十分危险的运动，每年都有一些人在冲浪运动中受伤，甚至有些人的伤势还很严重  
D. 身体健康状况不好的人大多都不会参加具有一定危险性的冲浪运动

74. 李华到甲级体育联赛永恒者队报道的第一天，就看到几个队员的

球技非常差。于是李华断定:甲级体育联赛是一个水平很低的联赛,这个联赛里的球员的球技都非常差。

以下哪项如果为真,最能削弱上述论证? ( )

A. 永恒者队只是甲级体育联赛 30 支球队中的一支,而且甲级体育联赛的球员人数超过 500 人

B. 李华对运动员的生活还不太适应

C. 永恒者队教练的水平很低

D. 甲级体育联赛在上一季度被评为当地最受欢迎的联赛

75. 振华中学的高三教师中,刘某获得了由校方颁发的优秀教师奖。

如果上述断定为真,则以下哪项断定不能确定真假? ( )

I. 振华中学的高三教师都获得了优秀教师奖

II. 振华中学的高三教师都没有获得优秀教师奖

III. 振华中学的高三教师中,有人获得了优秀教师奖

IV. 振华中学的高三教师中,有人没获得优秀教师奖

A. 仅 I

B. 仅 III 和 IV

C. 仅 II 和 III

D. 仅 I 和 IV

## 第四部分 常识判断

(共 30 题,参考时限 30 分钟)

每小题 0.7 分,共 30 题,根据题意,从四个选项中选出最符合题意的一项。

76. 根据《中华人民共和国统计法》和《全国人口普查条例》规定,

国务院决定于 2020 年开展( )全国人口普查。

- A. 第五次  
B. 第六次  
C. 第七次  
D. 第八次

77. 习近平总书记近日对 2019 年 10 月 18 日至 27 日在湖北省武汉市举行的第七届世界军人活动会的成功举办作出重要指示。下列相关的说法中, 不正确的是( )。

- A. 第七届世界军人运动会的成功举办, 体现了中国气派、军人特色  
B. 向世界展示了新时代的中国形象, 宣示了中国和平发展主张  
C. 广大市民以主人翁姿态热情参与、积极奉献, 为军运会圆满成功作出了重要贡献  
D. 位居金牌榜和奖牌榜第四, 实现中国队在世界军人运动会赛场比赛成绩历史性突破

78. 2019 年 11 月 7 日, 国家卫生健康委等八部门联合发出《关于进一步加强青少年控烟工作的通知》(以下简称《通知》), 《通知》中强调, “把做好青少年控烟作为当前控烟工作重点”作为实现“( ) 年 15 岁以上人群吸烟率降低到 20%”控烟目标的重要举措。

- A. 2020  
B. 2025  
C. 2030  
D. 2035

79. 2019 年 10 月 31 日, 联合国教科文组织公布, 66 座城市成为全球创意城市网络新成员, 其中( )分别以其在文学和美食文化领域的成就, 入选全球创意城市网络。

- A. 昆明和北京  
B. 南京和扬州  
C. 上海和南昌  
D. 长沙和成都

80. 2019 年 10 月, 我国自主研发建造的全海深载人潜水器球壳建造

完成并通过总体集成单位验收。这是世界上最大的( )载人舱。

- A. 百米级
- B. 千米级
- C. 万米级
- D. 百万米级

81. 在习近平总书记所作的十九大报告中指出, ( )是激励全党全国各族人民奋勇前进的强大精神力量。

- A. 贯彻新发展理念
- B. 中国特色社会主义文化
- C. 实施乡村振兴战略
- D. 加快完善社会主义市场经济体制

82. “打铁必须自身硬”这句话主要强调的是( )。

- A. 内因是事物变化的根据
- B. 矛盾只能通过一方克服另一方来解决
- C. 假象无法反映事物的本质
- D. 必然要通过偶然表现出来, 并为自己开辟道路

83. 社会文明发展水平的根本标志是( )。

- A. 精神文明建设
- B. 国民整体素质提高
- C. 自然环境改善
- D. 生产力发展

84. 下列选项中, 属于货币履行其价值尺度职能的是( )。

- A. 小董在超市市场现购食材 1000 元
- B. 小陈每月把 3000 元工资存入银行
- C. 小朱每月需缴纳房屋契税 4000 元
- D. 小邹购买艺术画, 合同约定价格 10 万元

85. 李某在上班途中, 因掉头时反应速度过慢未及时踩刹车, 将正在过马路的行人撞伤, 造成行人脚踝骨折, 李某随即送受伤行人前往附近医

院就诊。李某的行为属于( )。

- A. 一般的交通肇事行为  
B. 交通肇事罪  
C. 故意犯罪  
D. 危害国家安全罪

86. 下列关于法律的相关说法中, 正确的是( )。

- A. 76 岁的张某用老鼠药将儿媳毒死, 构成犯罪, 但可以从轻或减轻处罚  
B. 15 岁的王某将三名同学锁入家中地下室, 被人发现时三名同学已死亡, 王某被法院判处死刑  
C. 10 岁的周某因不满母亲没有将喜爱的玩具买给他, 持刀将母亲刺死, 周某构成故意杀人罪  
D. 20 岁的郑某与室友切磋摔跤技艺, 切磋过程中无意将室友摔倒在地, 室友的头部被击打在了地上的钉子上, 在送入医院途中因失血过多死亡, 郑某不构成犯罪

第 15 页 (共 19 页)

87. 中国古代历史上最后一个由汉族建立的中原王朝是( )。

- A. 唐朝  
B. 明朝  
C. 宋朝  
D. 清朝

88. 李白是唐代伟大的浪漫主义诗人之一, 下列选项中, 不属于其代表作的是( )。

- A. 《石壕吏》  
B. 《梦游天姥吟留别》  
C. 《静夜思》  
D. 《望庐山瀑布》

89. 福建省位于中国东南沿海, 地势呈“依山傍海”态势, 夏季高温多雨, 冬季温和少雨, 其气候类型为( )。

- A. 热带雨林气候  
B. 温带海洋性气候



- C. 亚热带季风气候                      D. 高原山地气候

90. 垃圾分类一般都是根据垃圾的成分构成、产生量来进行分类, 所谓的“湿垃圾”指的是 ( )。

- A. 可回收垃圾                      B. 厨余垃圾  
C. 有害垃圾                      D. 其他垃圾

91. 阴天在野外迷路时, 可以靠树木或石头上的苔藓的生长状态来获知方位, 以树木而言, 树叶生长茂盛的方向即是 ( )。

- A. 东方                      B. 西方  
C. 南方                      D. 北方

92. 中国的航天科技是一颗耀眼的明星, 我国的 ( ) 载人飞船以举步量天的形式展现出雄浑的国家实力。

- A. 天宫系列                      B. 长征系列  
C. 神舟系列                      D. 嫦娥系列

93. ( ) 是“中国五大戏曲剧种”之一, 其是由山歌、秧歌、茶歌、采茶灯、花鼓调, 先于农村, 后入城市, 逐步形成发展起来的一个剧种, 代表作有《天仙配》、《女驸马》等。

- A. 京剧                      B. 评剧  
C. 黄梅戏                      D. 越剧

94. 二十四节气是日常生活中人们预知冷暖雪雨的指南针。在二十四节气中, 代表一年中最冷的时候的节气是 ( )。

- A. 大雪                      B. 大寒  
C. 立冬                      D. 冬至

95. 百节年为首, 春节是中华民族最隆重的传统佳节。下列选项中, 不属于春节的常见习俗的是 ( )。

- A. 辞青  
B. 守岁  
C. 舞狮  
D. 贴年红

96. 《水浒传》一书中,有“花和尚”称号的是( )。

- A. 鲁智深  
B. 李逵  
C. 宋江  
D. 花荣

97. 天气预报中所说的“白天”指的是当地标准时间( )。

- A. 7点至19点  
B. 8点至20点  
C. 7点至17点  
D. 8点至17点

98. 铅中毒能引起贫血、头痛、记忆减退和消化系统疾病,城市大气铅污染的主要来源是( )。

- A、汽车尾气    B、工业废气物    C、水域污染    D、噪声污染

99. 下列选项中,不属于省电的做法的是( )。

- A、不用的电器即刻拔掉插头  
B、合理规划冰箱内空间,留有一定余地  
C、夏季的空调温度调至26度或以上  
D、把新、旧电池合在一起使用

100. 以长卷形式,采用散点透视构图法,生动记录了中国十二世纪北宋汴京的城市面貌和当时社会各阶层人民的生活状况的名画是( )。

- A、《富春山居图》    B、《清明上河图》    C、《洛神赋图》    D、《步辇图》

101 前段时间,根据真实事件改编的《中国机长》成为国庆档的热门电影之一,关于乘坐飞机的一些安全知识也成为荧屏话题的焦点。在航空事故中,遇到飞机座舱失压时,乘客应在第一时间( )。

- A. 戴好氧气面罩
- B. 床上救生衣
- C. 把头弯到尽可能低的位置,屏住呼吸
- D. 飞速解开安全带,全力朝自认为安全的地方逃跑

102. 田径项目一直是运动会上不可或缺的组成部分,田径项目中参赛者的名次决定于其( ) 抵达终点内侧之垂直线为止时的顺序。

- A. 足部
- B. 头部
- C. 腿部
- D. 身体躯干(有别于头、颈、臂、腿、手或足)

103 汽车旁的观后镜、交叉路口的观察镜用的都是( ),可以开阔驾驶员的视野。

- A. 凸面镜
- B. 凸透镜
- C. 凹面镜
- D. 凹透镜

104. 夜盲症是在光线昏暗的环境下或夜晚视物不清或完全看不见东西、行动困难的症状,其成因是缺乏( )。

- A. 维生素 A
- B. 维生素 B1
- C. 维生素 C
- D. 维生素 D

105. 下列农作物中，不能用来酿酒的是（ ）。

- A. 谷子    B. 玉米    C. 黄豆    D. 高粱

## 第五部分 资料分析

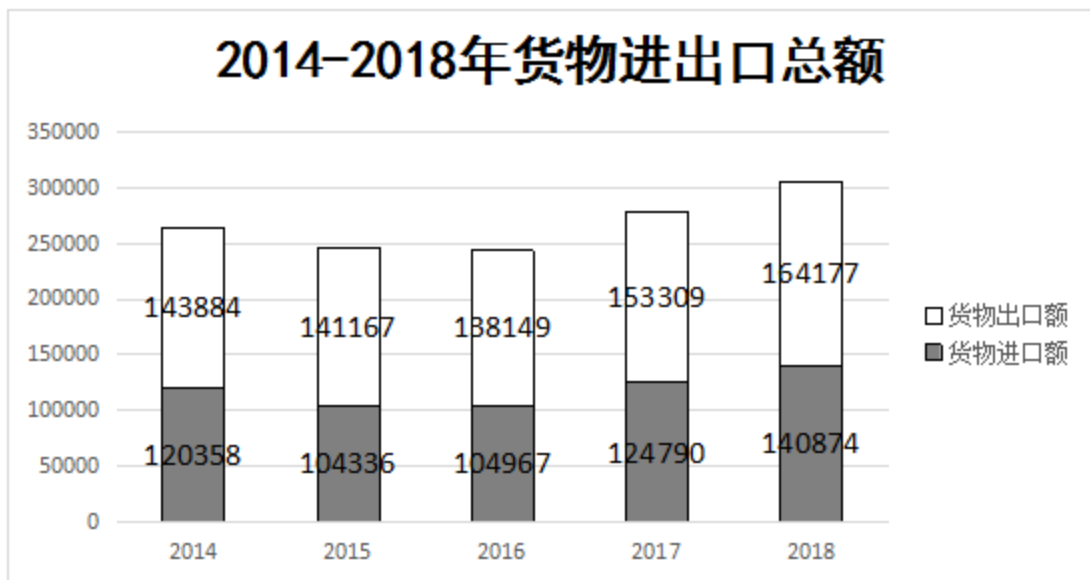
(共 10 题，参考时限 15 分钟)

每小题 1.1 分。根据资料提供的信息进行分析、比较、计算和判断处理。

根据下列资料细答 106-110 题：

所给出的图、表、文字或综合性资料均有若干个问题要你回答。你应根据资料提供的信息进行分析、比较、计算和判断推理。

根据以下资料，回答 106-110 题。2018 年我国全年货物进出口总额 305050 亿元，其中出口 164177 亿元，增长了 7.1%；进口 140874 亿元，增长 12.9%。



2018年我国对主要国家和地区货物进出口金额、增长速度及其比重

国家和地区	出口额 (亿元)	比上年增长 (%)	占全部出口比重 (%)	进口额 (亿元)	比上年增长 (%)	占全部进口比重 (%)
欧盟	26974	7.0	16.4	18067	9.2	12.8
美国	31603	8.6	19.2	10195	-2.3	7.2
东盟	21066	11.3	12.8	17722	11.0	12.6
日本	9709	4.4	5.9	11906	6.2	8.5
韩国	7174	3.1	4.4	13495	12.3	9.6
中国香港	19966	5.7	12.2	564	13.8	0.4
中国台湾	3212	7.9	2.0	11714	11.0	8.3
巴西	2214	12.9	1.3	5119	28.2	3.6
俄罗斯	3167	9.1	1.9	3909	39.4	2.8
印度	5054	9.5	3.1	1242	12.2	0.9
南非	1072	6.9	0.7	1799	8.9	1.3

106. 2018年我国贸易进出口差额为 ( ) 亿元。

- A. 21034      B. 23303      C. 24506      D. 25143

107. 2017年我国全年货物进出口总额为 ( ) 亿元。

- A. 278099      B. 268405      C. 256780      D. 240369

108. 较上一年相比, 2018年我国对主要国家和地区货物进出口额增

长超过 9%的国家和地区有几个？（ ）

A. 2 个 B. 3 个 C. 4 个 D. 5 个

109. 2018 年我国对韩国货物出口额要比对日本（ ）。

A. 多 2535 亿元 B. 多 2355 亿元

C. 少 2355 亿元 D. 少 2535 亿元

110. 根据所给资料分析，下列说法错误的是（ ）。

A. 2014 年我国全年货物进出口总额要比 2015 年的多

B. 2018 年我国全年货物进出口总额较上一年增长 9.7%

C. 2018 年我国对美国货物进出口总额为 31603 亿元

D. 2017 年我国对俄罗斯货物出口额为 2903 亿元

根据以下资料，回答 111-115 题

2018 年我国国内旅游人数 55.39 亿人次，比上年同期增长 10.8%。其中，城镇居民 41.19 亿人次，增长 12.0%；农村居民 14.20 亿人次，增长 7.3%。国内旅游收入 5.13 万亿元，上年同期增长 12.3%。其中，城镇居民花费 4.26 万亿元，增长 13.1%；农村居民花费 0.87 万亿元，增长 8.8%。

2018 年入境旅游人数 14120 万人次，比上年同期增长 1.2%。其中：外国人 3054 万人次，增长 4.7%；香港同胞 7937 万人次，下降 0.5%；澳门同胞 2515 万人次，增长 2.0%；台湾同胞 614 万人次，增长 4.5%。入境旅游人数按照入境方式分，船舶占 3.3%，飞机占 17.3%，火车占 1.4%，汽车占 22.3%，徒步占 55.7%。

2018 年入境过夜旅游人数 6290 万人次，比上年同期增长 3.6%。其

中：外国人 2364 万人次，增长 5.2%；香港同胞 2820 万人次，增长 1.6%；澳门同胞 553 万人次，增长 5.9%；台湾同胞 553 万人次，增长 4.5%。

2018 年入境外国游客人数 4795 万人次（含相邻国家边民旅华人次），亚洲占 76.3%，美洲占 7.9%，欧洲占 12.5%，大洋洲占 1.9%，非洲占 1.4%。其中：按年龄分，14 岁以下人数占 3.4%，15-24 岁占 13.7%，25-44 岁占 49.9%，45-64 岁占 28.4%，65 岁以上占 4.6%；按性别分，男占 59.6%，女占 40.4%；按目的分，会议商务占 12.8%，观光休闲占 33.5%，探亲访友占 2.8%，服务员工占 15.5%，其他占 35.3%。

111. 2017 年我国国内旅游人数为（ ）亿人次。

- A. 45.38    B. 49.99    C. 51.23    D. 52.34

112. 2018 年我国农村居民国内旅游人数占全国国内旅游人数的（ ）。

- A. 25.6%    B. 28.3%    C. 29.4%    D. 30.5%

113. 2018 乘坐飞机入境旅游的人数为（ ）万人次。

- A. 2123    B. 2202    C. 2443    D. 2608

114. 2018 年入境外国游客人数中，那个地区的人数最多（ ）。

- A. 亚洲    B. 美洲    C. 欧洲    D. 非洲

115. 根据所给资料分析，下列说法错误的是（ ）。

- A. 2017 年我国国内旅游收入达 4.57 万亿元  
B. 2018 年徒步入境旅游的方式最受欢迎

- C. 2018 年全国入境旅游人中，香港同胞约是澳门同胞的 3 倍
- D. 2018 年入境外国游客人数中，男性有 3126 万人次

※※※全部测试到此结束※※※